



**TÜRKİYE HALK BANKASI A.Ş
UZMAN YARDIMCILIĞI GİRİŞ SINAVI
MART 2012**

**GENEL KÜLTÜR
GENEL YETENEK
TÜM SORULAR**

**NOT: KIRMIZI OLARAK İŞARETLENEN SEÇENEKLER
SORULARIN DOĞRU CEVABIDIR.**

GENEL KÜLTÜR

1.

- I. Boğazların askeri kontrolünün tamamen Türkiye'nin sorumluluğunda olması
- II. İmroz, Bozcaada ile Tavşan Adalarının Türkiye'ye verilmesi
- III. Gümrük vergilerinin beş yıl Türk hükümetince artırılmaması

Yukarıdaki hükümlerden hangisi/hangileri Lozan Barış Antlaşması'nın kapsamında değildir?

- A) Yalnız I
- B) Yalnız II
- C) Yalnız III
- D) I-III
- E) I-II-III

2. **Amasya Genelgesi'nde, "Milletin bağımsızlığını yine milletin azim ve kararı kurtaracaktır" maddesinin yer alması, Kurtuluş Savaşı ile ilgili hangi değerlendirmeyi yapmamızı sağlar?**

- A) Sivas'ta milli bir kongrenin toplanacağı kararına varılmıştır.
- B) Merkezi bir yapıya sahip olunması istenmiştir.
- C) Askeri ve milli örgütlenmenin dağıtılmayacağı belirtilmiştir.
- D) **Kurtuluş Savaşı'nın yöntemi tespit edilmiştir.**
- E) Heyet-i Temsiliye'nin temelleri atılmıştır.

3. Mustafa Kemal Paşa, Sivas Kongresi'nden bir hafta sonra Amerikan Generali Harbord'la yaptığı konuşmada: "*Herşeye rağmen, yurdumuzu kurtarmak, özgür ve uygar bir Türk Devleti kurmak, insan gibi yaşayabilmek için yapacağım bunu.*" diyerek yeni bir devlet kurma fikrini açıkça belirtmiştir.

Mustafa Kemal'in bu sözlerini aşağıdaki gelişmelerden hangisi desteklemez?

- A) TBMM'nin açılması
- B) Düzenli ordunun kurulması
- C) **Kapitülasyonların genişletilmesi**
- D) Cumhuriyet'in ilan edilmesi
- E) Sakarya Meydan Muharebesi'nin yapılması

4. Son Osmanlı Mebuslar Meclisi 28 Ocak 1920 tarihinde Misak-ı Milli kararlarını kabul etmiştir. Böylece Kurtuluş Savaşı'nın kesin programı tespit edilmiştir. Ancak bu gelişme İstanbul Hükümeti ve İtilaf Devletlerince tepkiyle karşılanmıştır.

Bu durumun;

- I. İstanbul'un resmen işgal edilmesi
- II. Damat Ferit Paşa Hükümeti'nin istifa etmesi
- III. Ali Rıza Paşa Hükümeti'nin istifa etmesi

gelişmelerinden hangisinin/hangilerinin ortaya çıkmasında etkili olduğu söylenebilir?

- A) Yalnız I
- B) Yalnız II
- C) I-II
- D) **I-III**
- E) II-III

5. Kurtuluş Savaşı döneminde;

- Çerkez Ethem
- Demirci Mehmet Efe
- Yörük Ali Efe

gibi Kuva-yı Milliye taraftarı olanların, TBMM'nin açılmasından sonra ayaklanmasının temel nedeni aşağıdakilerden hangisidir?

- A) Asker sayılarının fazla olması
- B) Silah ve cephane yetersizliği
- C) **Düzenli orduya katılmak istememeleri**
- D) Fransız ve İtalyanların kışkırtmaları
- E) İstanbul Hükümeti'nin zararlı faaliyetleri

6. 1929 yılında bütün dünyayı sarsan "Büyük Buhran"ın ortaya çıkması üzerine Türkiye Cumhuriyeti Devleti, bir çeşit "ekonomik seferberlik" ilan etmek ve ülke ekonomisinin işleyişini denetim altına almak zorunda kalmıştır. Böylece Atatürk ve arkadaşları, başarıyla tamamlayıp yürürlüğe koydukları siyasal ve sosyo-kültürel inkılaplar yanında, bu kez ekonomik alanda yapısal reformlara girişmişlerdir.

Buna göre, aşağıdakilerden hangisi Atatürk döneminde alınan ekonomik önlemlerden biri değildir?

- A) İhracatın azaltılması
- B) Dış ticaret açığının kapatılması
- C) **Varlık Vergisi Kanununun kabul edilmesi**
- D) Milli İktisat ve Tasarruf Cemiyeti'nin kurulması
- E) Devletçilik ilkesinin benimsenmesi

7.

- Rakamlarda değişiklik yapılması
- Dil Encümeni'nin kurulması
- Millet Mektepleri'nin açılması

Yukarıda verilenler, aşağıdaki gelişmelerden hangisinin gerçekleştirilme süreci ile ilgilidir?

- A) Türk Dil Kurumu'nun açılması
- B) Türk Tarih Kurumu'nun açılması
- C) Halkevleri'nin açılması
- D) **Harf inkılâbının yapılması**
- E) Güneş-Dil Teorisi'nin uygulanması

8. İzmir İktisat Kongresi'nin kararları arasında yer alan;

- I. El işçiliğinden ve küçük imalattan fabrika üretimine geçmelidir.
- II. Özel sektör tarafından kurulamayan teşebbüsler devletçe ele alınmalıdır.
- III. Demiryolu yapımı, inşaat programına bağlanmalıdır.
- IV. Toprak Reformu yapılmalıdır.
- V. Sanayinin teşviki ve milli bankaların kurulması sağlanmalıdır.

maddelerinden hangisi Atatürk döneminde en az uygulanabilmiştir?

- A) I
- B) II
- C) III
- D) **IV**
- E) V

9. Cumhuriyet döneminde;

- I. Türk Ticaret Kanununun kabulü
- II. Halifeliğin kaldırılması
- III. Teşkilat-ı Esasiye Kanunu'nun kabulü
- IV. Tevhid-i Tedrisat Kanunu'nun kabulü

gelişmelerinden hangisi/hangileri laiklik aşamalarından biri değildir?

- A) Yalnız IV
- B) I-II
- C) I-III**
- D) II-III
- E) I-II-IV

- 10.** *“Efendiler, yetişecek çocuklarımıza, gençlerimize, görecekları tahsilin hududu ne olursa olsun evvela Türkiye'nin istiklâlîne, kendi benliğine düşman olan bütün unsurlarla mücadele etme lüzumu öğretilmelidir. Genel dünya durumuna göre, böyle bir mücadelenin gerektirdiği ruh gücüne sahip olmayan kişilerden kurulu toplumlar için hayat ve istiklâl yoktur.”*

Bu sözle Atatürk'ün;

- I. Laiklik
- II. Milliyetçilik
- III. Devletçilik

ilkelerinden hangisini/hangilerini vurguladığı savunulabilir?

- A) Yalnız I
- B) Yalnız II**
- C) Yalnız III
- D) I-II
- E) II-III

11. Cumhuriyet döneminde meydana gelen;

- I. İngiltere ile Ankara Antlaşması'nın imzalanması
- II. Hatay'ın anavatana katılması
- III. Montrö Boğazlar Sözleşmesi'nin imzalanması

gelişmelerinden hangisi/hangileri, Atatürk'ün “milli dış politika” hedeflerine varılmasında etkili olmuştur?

- A) Yalnız I
- B) Yalnız II
- C) I-II
- D) I-III
- E) II-III**

12.

- Şeyh Sait isyanı 1925 yılında gerçekleşti.
- Menemen olayı 1930 yılında gerçekleşti.

Yukarıdaki iki olayın ortak yönü;

- I. Özerk bir yönetim kurmak
- II. Rejimi ortadan kaldırmak
- III. Laikliğe karşı çıkmak

gibi durumlardan hangisi/hangileridir?

- A) Yalnız I
- B) Yalnız II
- C) Yalnız III
- D) II-III**
- E) I-II-III

13. Serbest Cumhuriyet Fırkası'nın programında yer alan;

- I. Milliyetçi, laik ve cumhuriyetçi yönetimin sürdürülmesi
- II. Vergilerin halkın ödeme gücünü aşmayacak düzeye çekilmesi
- III. Ekonomik hayata devletin müdahalesinin azaltılması
- IV. Tek dereceli seçimler yapılması ve kadınlara seçilme hakkı verilmesi

maddelerinden hangileri mevcut ekonomik uygulamaların değişmesine yönelik hedefleri yansıtır?

- A) I-II
- B) II-III**
- C) III-IV
- D) II-III-IV
- E) I-II-III-IV

14. 1926 yılında Bozkurt isimli Türk gemisi ile Lotus isimli Fransız yolcu gemisinin Ege Denizinde Sığırı açıklarında çarpışması sonucu Bozkurt gemisi batmış ve sekiz Türk denizcisi ölmüştür. Bunun üzerine Fransız kaptan Türk yargısı tarafından tutuklanmış ve konu Fransız ve Türk Hükümetlerinin ortak kararı ile Lahey Adalet Divanına götürülmüştür. Lahey'de alınan karar Türkiye lehine olmuştur.

Bu olay, aşağıdaki kanunlardan hangisinin çıkarılmasını hızlandırmıştır?

- A) Firariler Kanunu
- B) Türk Ceza Kanunu
- C) Türk Medeni Kanunu
- D) Borçlar Kanunu
- E) Kabotaj Kanunu**

15. Türkiye, 1930 yılından itibaren aktif bir dış politika uygulayarak, kendi bölgesinde barışın ve güvenliğin korunması yolunda önemli adımlar atmış ve yaklaşan İkinci Dünya Savaşı tehlikesine yönelik bazı önlemler almıştır.

Aşağıdakilerden hangisi Türkiye'nin bu tür politikalarına örnek olamaz?

- A) Milletler Cemiyetine üye olunması
- B) Balkan Antantına üye olunması
- C) Sadabat Paktına üye olunması
- D) Yabancı Okullar meselesinin çözülmesi**
- E) Montrö Boğazlar Sözleşmesinin imzalanması

16. 1982 Anayasasına göre, Türk Vatandaşlığı ile ilgili aşağıdaki ifadelerden hangisi yanlıştır?

- A) Türk Devletine vatandaşlık bağı ile bağlı olan herkes Türk'tür.
- B) Türk babanın veya Türk ananın çocuğu Türk'tür.
- C) Vatandaşlık, kanunun gösterdiği şartlarla kazanılır ve ancak kanunda belirtilen hallerde kaybedilir.
- D) Hiçbir Türk, vatana bağlılıkla bağdaşmayan bir eylemde bulunmadıkça vatandaşlıktan çıkarılamaz.
- E) Vatandaşlıktan çıkarma ile ilgili karar ve işlemlere karşı yargı yoluna başvurulamaz.**

17. Tarafların bir hukuki işlemde kullandıkları, ancak ne anlama geldiğini açıklamadıkları hususlara ilişkin bir hüküm kanunlarda öngörülümüşse bu hükümler aşağıdakilerden hangisi ile ifade edilir?

- A) Tamamlayıcı hukuk kuralları
- B) Tanımlayıcı hukuk kuralları
- C) Yedek hukuk kuralları
- D) Yorumlayıcı hukuk kuralları
- E) Emredici hukuk kuralları

18. Bakanlar kurulu tarafından, kanunun uygulanmasını göstermek veya emrettiği işleri belirtmek üzere, kanunlara aykırı olmamak ve Danıştay'ın incelemesinden geçirilmek şartıyla çıkartılan yazılı hukuk metinlerine ne denir?

- A) Yönetmelik
- B) Tüzük
- C) Kanun
- D) KHK
- E) İhtüzük

19. Aşağıdakilerden hangisi, idari eylem ve işlemlerden dolayı kişisel hakları doğrudan zarar görenler tarafından açılan davadır?

- A) Tam yargı davası
- B) İptal davası
- C) Tespit davası
- D) Men davası
- E) Butlan davası

20. Aşağıdakilerden hangisi 1982 Anayasasının değiştirilemez, değiştirilmesi teklif dahi edilemez hükümleri arasında değildir?

- A) Türkiye Devleti bir Cumhuriyettir.
- B) Türkiye Cumhuriyeti, demokratik, lâik ve sosyal bir hukuk Devletidir.
- C) Devletin dili Türkçedir.
- D) Devletin Millî marşı "İstiklal Marşı"dır.
- E) Yasama yetkisi Türk Milleti adına Türkiye Büyük Millet Meclisinindir.

21. Aşağıdakilerden hangisi Türkiye mülki idare bölünüşünde yer alan birimlerden biri değildir?

- A) İlçe
- B) Köy
- C) Belde
- D) Mezra
- E) Büyükşehir

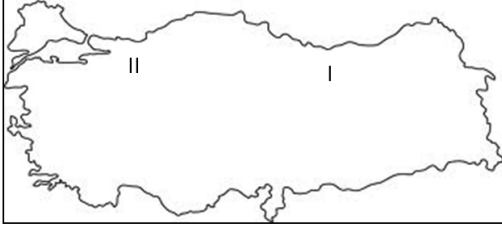
22. Aşağıdakilerden hangisinde doğal ve tarihi turistik değer ile bulunduğu yerler doğru olarak eşleştirilmemiştir?

- A) Ayder Yaylası - Rize
- B) İshakpaşa Sarayı - Ağrı
- C) Efes Harabeleri - Aydın
- D) Nemrut Harabeleri - Adıyaman
- E) Manavgat Şelalesi - Antalya

23. Verilenlerden hangisi Türkiye’de daha yaygın olarak görülen yer şekillerindedir?

- A) Buzul gölü
- B) Lagün gölü
- C) Peri bacası
- D) Mantar kaya
- E) **Birikinti konisi**

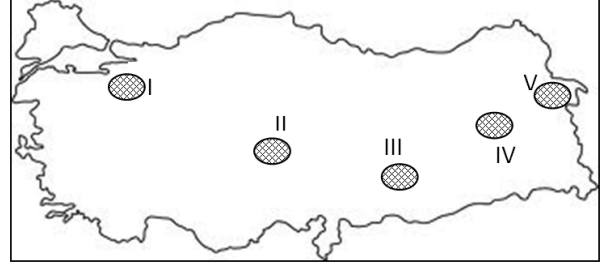
24.



Haritada rakamla gösterilen yerlerde meydana gelen doğal afetler hangi seçenekte doğru olarak verilmiştir?

- A) **I- Heyelan** **II- Deprem**
- B) I- Heyelan II- Çığ
- C) I- Sel ve Su Baskını II- Heyelan
- D) I- Çığ II- Deprem
- E) I- Orman yangını II- Sel ve Su Baskını

25.



Verilen Türkiye haritasında hangi dağ yanlış işaretlenmiştir?

- A) **I- Ilgaz**
- B) II- Erciyes
- C) III- Karacadağ
- D) IV- Nemrut
- E) V- Ağrı

26. Aşağıdakilerden hangisi İMKB DİBS (Devlet İç Borçlanma Senedi) piyasalarında hesaplanan portföy performans endekslerinden biridir?

- A) GT30
- B) **EA180+**
- C) İMKB 100
- D) İMKB 10 Banka
- E) İMKB Temettü 25

27. Türkiye Halk Bankası A.Ş. 2013 yılında kuruluşunun kaçınıcı yılını kutlayacaktır?

- A) **80**
- B) 85
- C) 90
- D) 95
- E) 100

28. G8 ülkeleri dünya ekonomisinin büyük bir bölümünü oluşturan ülkelerin bir araya gelerek oluşturdukları bir topluluktur. Üye ülkelerin hükümet başkanlarının katılımı ile yıllık zirve toplantıları düzenlenir.

Aşağıdaki ülkelerden hangisi G8 ülkeleri arasında yer almaz?

- A) Çin
- B) İtalya
- C) Rusya
- D) Kanada
- E) Almanya

29. 1 Ocak 2005 tarihinde 6 sınıfın atılmasından sonra “Yeni Türk Lirası” olarak tedavüle çıkan Türk Lirasının önündeki “Yeni” ibaresi hangi tarihte kaldırılarak, üzerinde “Türk Lirası” ibaresi bulunan paralar tedavüle çıkmıştır?

- A) 1 Ocak 2006
- B) 1 Ocak 2007
- C) 1 Ocak 2008
- D) 1 Ocak 2009
- E) 1 Ocak 2010

30. “Galaksiye Notumuz Var” projesi çerçevesinde Kırklareli'nin Pınarhisar ilçesinde çizimi gerçekleştirilen ve yaklaşık iki futbol sahası büyüklüğünde olan karikatürü ile Guinness Dünya Rekorları listesinde yerini alan karikatüristimiz aşağıdakilerden hangisidir?

- A) Hakan Bilgihan
- B) Ersin Karabulut
- C) Erdil Yaşaroğlu
- D) Salih Memecan
- E) Semih Balcıoğlu

GENEL YETENEK

31. (I) Gençlik yıllarımızda acı tatlı pek çok olay yaşadık. (II) Bugünse bunlar yarım yamalak hatırlanıyor. (III) Böyle olunca da başımızdan geçen onca şey, anılarımız sanki başkasının yaşadıklarıymış gibi geliyor. (IV) Yani insan yaşlandıkça gençlikte ne varsa hepsi birer birer yok oluyor. (V) Yazmak, insanların önemsiz bulduğu; ama aslında insanların en iyi dostudur. (VI) Mesela ona gençliğimizde anılarımızı verseydik; asla unutmaz, bize daima canlı bir şekilde olanları hatırlatırdı.

Bu parça iki paragrafa ayrılmak istenirse, ikinci paragrafın numaralandırılmış cümlelerden hangisi ile başlaması gerekir?

- A) II B) III C) IV
D) V E) VI

32. (I) Günler uzamaya, havalar ısınmaya başlamış; ancak henüz bahar gelmemişti. (II) Buna rağmen bülbüller ötmeye, ağaçlar yapraklarını yeşertmeye başlamıştı. (III) Aslında inatçı soğuk da gitmemek için direniyor, bazen ben buradayım dercesine iliklerimizi donduruyordu. (IV) Yine de bütün kışlar gibi bu kışın da yerini bahara bırakacağını biliyorduk. (V) Böyle düşünmesek yüreklerimizde hiçbir zaman umut ışığı olmazdı.

Bu parçada numaralandırılmış cümlelerin hangisinde koşul söz konusudur?

- A) I B) II C) III
D) IV E) V

33. (I) Bir gün işten döndüğümde sıcakkanlı, sevecen üç yaşındaki oğlum beni karşıladı. (II) Ona hemen yemek yiyip yemediğini sordum. (III) Gözlerimin içine bakarak yemeğini yediğini söyledi. (IV) Sanırım yemek yediği için oyun oynamaya hazırlanıyordu. (V) Ben ise yorgun argın bir de ona yemek yedirmek zorunda kalmayacağım için rahatlamıştım.

Bu parçada numaralandırılmış cümleler için aşağıdakilerden hangisi söylenemez?

- A) I.cümlede betimlemeler için sıfatlar kullanılmaktadır.
B) II.cümlede neden-sonuç ilişkisi bulunmaktadır.
C) III.cümlede belirtili isim tamlaması kullanılmaktadır.
D) IV.cümlede bir tahmin söz konusudur.
E) V.cümlede ikilemeden yararlanılmaktadır.

34. Andre Gide, Kalpazanlar'ı neden yazdığını sorulara şu cevabı vermektedir: "Onu yazmam gerektiği için. Sosyal hayatın tüm bu sorunlarını içimde taşısaydım, rahat ölemezdim."

Bu parçada sözü edilen yazar için aşağıdakilerden hangisi doğrudur?

- A) Tartışmalardan keyif almaktadır.
B) Ayrıntılara önem vermektedir.
C) Toplumsal olayları aktarmaktadır.
D) Genellemeler yapmaktadır.
E) Mecazlı anlatımları sevmektedir.

35. Birçok insanın geçtiği yola bir halı sermişler. Akşam olduğunda o yeni, temiz ve güzel halının, serildiği yol gibi toz toprak içinde kaldığı görülmüş. Ne zaman kendimi çaresiz hissetsem bu halı gelir aklıma. İşte, gerekliler gibi gereksizlerin de seni üzmesine izin verirsen, sen de tozlanıp yıpranmaya mahkûm kalırsın, derim kendi kendime.

Bu parçada asıl vurgulanmak istenen düşünce aşağıdakilerden hangisidir?

- A) İnsanlar yalnız kaldıklarında hatalarını gözden geçirmelidir.
- B) Çevresinde olup biten olaylara insanlar kayıtsız kalmamalıdır.
- C) İnsanlar, önemsiz şeylerin kendisini üzmesine izin vermemelidir.
- D) İnsanlar duydukları hikâyelerden ders çıkarmalıdır.
- E) Kendisini çaresiz hisseden insanlarla konuşulmalıdır.

36. (I) “Bugün, dünle beslenerek yarına varır!” der ünlü Brecht. (II) Brecht, bu cümleyi yaşamının son yıllarında söylemiştir. (III) Bu cümlede onun geçmiş, şimdi ve gelecek sürekliliğini vurguladığını görürsünüz. (IV) Geçmiş, bugünün koşullarına uyarlanabildiği ölçüde önemli bir kaynaktır. (V) Gelecek ise elbette bugünden beslenecektir.

Bu parçada numaralandırılmış cümlelerin hangisinde nesnel bir anlatım söz konusudur?

- A) I
- B) II
- C) III
- D) IV
- E) V

37. Geçenlerde şiirin özel kuruluşunu anlatırken, öğrencilerime küçük bir alıştırma yaptırdım. Bir dörtlükteki kelimeleri düzensiz olarak tahtaya yazdım. Öğrencilerimden bu karışık kelimelerden bir dörtlük oluşturmalarını istedim. Hepsini çok güzel dörtlükler yazdılar; ama hiçbirisi asıl dörtlüğün aynısını yazamadı. Benim öğrencilere göstermek istediğim de tam olarak buydu:.....

Bu parçanın sonuna anlatımın akışına göre aşağıdaki cümlelerden hangisi getirilmelidir?

- A) Şiir yazmak herkesin yapabileceği kolay bir iş değildir.
- B) Öğrenciler, kendilerini birer şair olarak görmemelidir.
- C) Kelimeleri doğru kullanmayan şairler, başarısız olmaya mahkûmdur.
- D) Dörtlüklerle şiir yazmak, şairlere göre serbest şiir yazmaktan daha zordur.
- E) Şairler kelimelere kendi yorumunu katarak şiirin özel yapısını oluştururlar.

38. Oscar Wilde bu konuda şöyle demektedir () () Edebiyat hayatı taklit etmez () hayatı yansıtır () ()

Bu cümlede parantez ile gösterilen yerlere sırasıyla aşağıdaki noktalama işaretlerinden hangisi getirilmelidir?

- A) (:) (“) (.) (.) (”)
- B) (:) (.) (,) (’) (.)
- C) (;) (.) (;) (,) (.)
- D) (;) (“) (;) (”)
- E) (:) (“) (,) (.) (”)

39. Alışkanlık, insan hayatına yön veren tutum, durum ve olaylardır. Günlük hayatımızda alışkanlıklarımızın büyük rolü vardır. Montaigne'nin denemesinde bahsedildiği gibi, danayı kucklamaya alışan kadın, dana ne kadar büyüse, ağırlaşsa da onu kucklamaktan vazgeçemez. Bize yük olsa da alışkanlıklarımızı taşımaya devam ederiz. Ya da Sokrates'in söylediği gibi ondan kaçmak istesek de kaçıığımız yere alışkanlıklarımızla birlikte gideriz.

Bu parça için aşağıdakilerden hangisi söylenemez?

- A) Anlatımın daha açık ve anlaşılır olması için örneklerden yararlanılmaktadır.
- B) Alışkanlıkların insan hayatındaki etkileri, yeri üzerinde durulmaktadır.
- C) İnsanların alışkanlıkları olmadan başarılı olamayacakları vurgulanmaktadır.
- D) Yazar, anlatmak istediklerini okuyucuyla sohbet ediyormuş gibi aktarmaktadır.
- E) Alışkanlık kavramının tanımı parçada verilmektedir.

40. Aşağıdaki cümlelerin hangisi biçimce olumsuz anlamca olumlu bir cümledir?

- A) Bu insanlarla gitmek istiyorsan, git!
- B) Yapılan bu hakareti kabul edecek değilim.
- C) Seni ne bekledim ne de buradan gittim.
- D) Soruna cevap vermeyecek değilim.
- E) Başka bir açıklamam yoktur.

41. Kalktığımda yağmur dinmişti. Yağmurun gece, evimizin teneke damına hızlı hızlı düşmesi beni epey korkutmuştu, gece uyuyamamıştım. Üç dört gün evden dışarı çıkamayacağımı sanmıştım; ama durmuştu işte. Sıcak bir rüzgar esiyordu. Okul İstanbul'dan gelecek iki öğretmeni beklediği için bir hafta kapatılmıştı; yani tüm gün benimdi.

Bu parçada kullanılan anlatım türleri aşağıdakilerden hangisidir?

- A) Öyküleyici-Betimleyici
- B) Betimleyici-Açıklayıcı
- C) Öyküleyici-Karşılaştırmalı
- D) Açıklayıcı-Karşılaştırmalı
- E) Öyküleyici-Açıklayıcı

42. Ahmet Hamdi Tanpınar, Şinasi için "fikir kımıldatıcısı" derdi. Şinasi aslına bakarsanız; ne büyük bir şairdir ne de yazar. Ama edebiyatta birçok ilk, onunla başlar.

Bu cümlede altı çizili sözle anlatılmak istenen aşağıdakilerden hangisidir?

- A) Batı-Doğu sentezini yapabilen
- B) Süslü ve sanatlı bir dil kullanan
- C) Yeni düşünceleri uygulayıp cesaretlendiren
- D) Sanat dünyasında eserleri tartışılan
- E) Fikirlerini başkalarıyla paylaşmayan

43. Aşağıdaki cümlelerin hangisinde büyük harflerin yazımından kaynaklı bir yanlışlık yapılmıştır?

- A) Ağustos ayının ilk günlerinde tatile gideceğiz.
- B) 27 Mart'ta tüm tiyatrolar ücretsiz oynanacak.
- C) Beklediğimiz haber Ocak'ta bize iletilecek.
- D) Bu sene sınav, 29 Temmuz Pazar günü yapılacak.
- E) 29 Ekim 2012 Pazartesi yeni bir gösteri planlanacak.

44. Aşağıdaki cümlelerin hangisinde gereksiz sözcük kullanımından kaynaklı bir anlatım bozukluğu yapılmamıştır?

- A) Aşağı yukarı, yaklaşık beş kilometre boyunca yürüdük.
- B) Yumruk kadar küçük çocuktan ne istiyorsun?
- C) Öfkeli kalabalığı iyi giyimli, kibar birkaç görevli yatıştırdı.
- D) Her çıkılan yokuşun bir de aşağıya inişi vardır.
- E) Benim de tanıdık birçok dostum var.

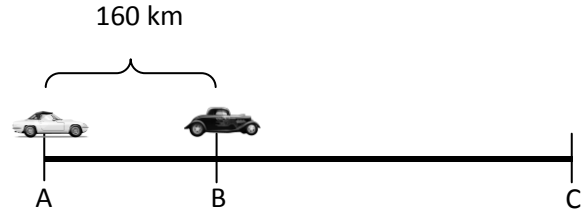
45. Aşağıdaki cümlelerin hangisinde altı çizili sözcük cümlenin öznesi görevinde değildir?

- A) Bu günler, seni benden alıp gittiler.
- B) Bizlerin tarih sahnesinde kalmasını bu günler sağlayacak.
- C) Bu günler gittikten sonra bir daha geri gelmeyecek.
- D) Bu günleri görmeden aramızdan ayrıldı.
- E) Aklımı başımdan aldı benim bu günler.

46. Bir parkta 2 ve 3 kişilik 28 tane bank bulunmaktadır. Bu banklara toplam 73 kişi oturabildiğine göre 2 kişilik kaç tane bank vardır?

- A) 9
- B) 10
- C) 11
- D) 12
- E) 13

47.



İki araç A ve B şehirlerinden sırasıyla 90 km/saat ve 70 km/saat hızla aynı anda aynı yöne hareket ediyor. $|AB|=160$ km ve A'dan hareket eden B'den hareket edene C şehrinde yetiştiğine göre $|BC|$ kaç km dir?

- A) 540
- B) 560
- C) 600
- D) 640
- E) 680

48. A, B, C boş kümeden farklı kümeler
 $A \cup B = \{1,2,3,4,5,6\}$ ve
 $A \cup C = \{4,5,7,8,9\}$ olduğuna göre
 $A \cup (B \cap C)$ kümesi aşağıdakilerden
hangisidir?

- A) $\{1,2,3,7,8,9\}$
B) $\{1,2,3,4,5\}$
C) $\{3,4,5,6\}$
D) $\{4,5,7,8\}$
E) $\{4,5\}$

49.

1	2	4	1	3
2	8	4	3	
16	32	12		
x	y			

Yukarıdaki şekilde sayılar yukarıdan
aşağıya doğru belli bir kurala göre
yazılmıştır. Buna göre $x+y$ toplamı
kaçtır?

- A) 576
B) 746
C) 782
D) 834
E) 896

50.

	4	
2	24	6
	3	

Şekil I

	3	
4	48	6
	8	

Şekil II

	2	
4	32	4
	8	

Şekil III

	4	
5	A	8
	B	

Şekil IV

Yukarıdaki şekillerdeki sayılar belli bir
kurala göre yazılmıştır. Buna göre Şekil
IV'teki A ve B'nin toplamı kaçtır?

- A) 100
B) 90
C) 80
D) 70
E) 60

51. Ardışık 13 tek doğal sayının toplamı
533 olduğuna göre bu sayıların en
büyüğü kaçtır?

- A) 53
B) 55
C) 57
D) 59
E) 61

52.

Not	Öğrenci Sayısı
20	4
40	10
60	14
80	12
100	8

Bir sınıftaki öğrencilerin matematik dersinden aldığı notların dağılımı yukarıdaki tabloda verilmiştir. Bu tablo dairesel grafikte gösterildiğinde notların dağılımını gösteren dilimlerin merkez açıları için aşağıdakilerden hangisi yanlıştır?

- A) 20 puan alan öğrenciler 30° lik dilimle gösterilir.
B) 40 puan alan öğrenciler 75° lik dilimle gösterilir.
C) 60 puan alan öğrenciler 100° lik dilimle gösterilir.
D) 80 puan alan öğrenciler 90° lik dilimle gösterilir.
E) 100 puan alan öğrenciler 60° lik dilimle gösterilir.

53. Yüzde 30'luk 200 gr sulu çözeltinin kaç gramı sudur?

- A) 30
B) 60
C) 70
D) 140
E) 170

54. $\frac{\left(\frac{1}{2}-\frac{1}{3}\right)-\left(\frac{1}{4}-\frac{1}{3}\right)}{\left(\frac{1}{5}-\frac{1}{2}\right)-\left(\frac{1}{5}-\frac{1}{3}\right)}$ işleminin sonucu

aşağıdakilerden hangisidir?

- A) $-\frac{1}{2}$
B) $-\frac{3}{2}$ (DOĞRU CEVAP)
C) 0
D) $\frac{1}{3}$
E) $\frac{2}{3}$

55. $9!$ sayısı aşağıdakilerden hangisi ile tam bölünemez?

- A) 6
B) 10
C) 42
D) 44
E) 72

56. Şekildeki sayı treninin değeri vagonları arasındaki işlemler yapılarak bulunuyor. Son işlemlerin sonucuna göre trenin değeri 2'dir.

10	+	12	x	5	:	11	-	8
----	---	----	---	---	---	----	---	---

$$10+12=22$$

$$22 \times 5 = 110$$

$$110 : 11 = 10$$

$$10 - 8 = 2$$

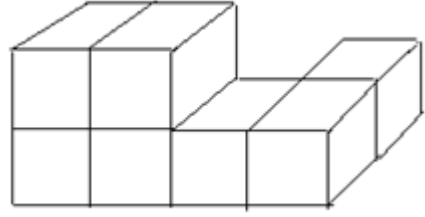
İşlemler yapıldığında aşağıdaki sayı treninin değeri 33 olarak bulunuyor.

128	-	4	?	4	?	1	+	3
-----	---	---	---	---	---	---	---	---

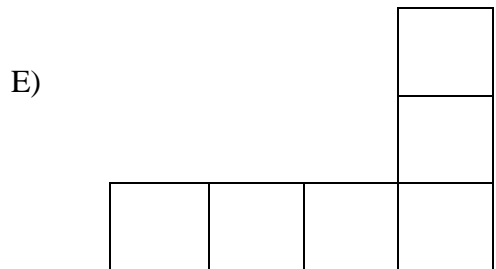
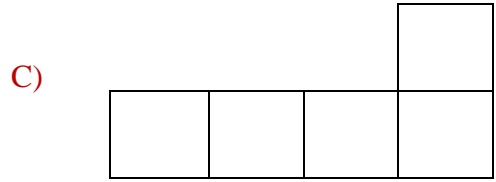

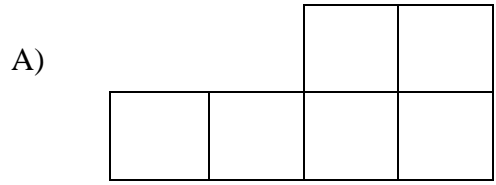
Buna göre trendeki soru işaretli işlemler sırasıyla aşağıdakilerden hangisinde doğru olarak verilmiştir?

- A) + x
- B) x :
- C) :-
- D) : x
- E) - +

57.



Yukarıda birim küplerden oluşturulmuş şeklin üstten görünüşü aşağıdakilerden hangisidir?



58.-59. soruları tabloda verilen bilgilere göre cevaplayınız.

58. Aşağıdaki tabloda bir markete uğrayan müşteri sayıları verilmiştir.

Aylar	Müşteri Sayısı
Ocak	8600
Şubat	6400
Mart	5000
Nisan	2000
Mayıs	4000
Haziran	7500
Temmuz	9000
Ağustos	8200
Eylül	5000
Ekim	4900
Kasım	6200
Aralık	3000

Tabloya göre ilk üç aydaki toplam müşteri sayısı ikinci üç ayda yüzde kaç azalmıştır?

- A) 30,4
- B) 32,5
- C) 34,0
- D) 67,5
- E) 70,0

59. Yukarıdaki tabloya göre hangi ayda müşteri oranı bir önceki aya göre en fazla artmıştır?

- A) Nisan
- B) Mayıs
- C) Haziran
- D) Ekim
- E) Kasım

60. Tanesi x liradan eşit sayıda elma ve ayva alınmıştır. Ayvaların $\frac{1}{4}$ 'ü bozulup atılıyor ve kalan ayvalar y TL'den satılıyor. Elmaların da $\frac{1}{3}$ 'ü çürüyor ve kalanlar z TL'den satılıyor.

Elma ve ayvaların toplam satışından kar ve zarar edilmediyse x, y ve z arasındaki bağıntı aşağıdakilerden hangisidir?

- A) $9z+8y=24x$
- B) $8x-9y=24z$
- C) $8z-9x=24y$
- D) $9x+8z=24y$
- E) $9y+8z=24x$