



**TÜRKİYE HALK BANKASI A.Ş.
SERVİS GÖREVLİSİ SINAVI
HAZİRAN 2012**

A

ADAYIN

ADI :

SOYADI :

T.C.KİMLİK NO :

SINAV SALON NO : SIRA NO:

*Yukarıdaki Bilgileri Doldurmayı Unutmayınız.

| <u>Soru Grubu</u> | <u>Soru No</u> |
|-------------------|----------------|
| ALAN BİLGİSİ | 1-48 |
| GENEL KÜLTÜR | 49-72 |
| GENEL YETENEK | 73-108 |
| ALMANCA | 109-120 |

Genel Açıklama

1. Bu kitapçıkta **120 soru vardır**. Cevaplamaya istediğiniz sorudan başlayabilirsiniz.
2. Sınav süresi **180 dakikadır**.
3. İşaretlemelerinizi yumuşak uçlu kurşun kalem ile işaretleme yapacağınız alanı taşırmadan yapınız.
4. Değiştirmek istediğiniz bir cevabı, cevap kâğıdını yıpratmadan siliniz.
5. Değerlendirme optik okuyucu ile yapılacağı için cevap kâğıdını katlamayınız, buruşturmayınız ve gereksiz işaret koymayınız.
6. Testte her soru için tek bir doğru cevap şıkkı işaretlenecektir. Birden fazla işaretleme yapmanız durumunda o soruya verdiğiniz cevap yanlış sayılacaktır.
7. Değerlendirmede yanlış cevaplar doğru cevaplardan düşülmeyecektir. Bu yüzden size en doğru gelen cevabı işaretleme yararınıza olabilir.
8. Boş yerleri müsvetde olarak kullanabilirsiniz.
9. Sınavda **hesap makinesi ve sözlük kullanılamaz**.

ALAN BİLGİSİ SORULARI

1. **Klasik Okul, Neo-Klasik Okul ve Keynesyen Okul'un temel ilgi alanları, sırasıyla aşağıdakilerden hangisidir?**

- A) İstihdam, Bölüşüm, Talebin belirleyicileri
 B) Say Kanunu, Çarpan mekanizması, Fiyat katılıkları
 C) **Kaynak dağılımı, İstihdam, Bölüşüm**
 D) İşsizlik, Marjinal analiz, Bölüşüm
 E) Fiyat esneklikleri, Arzın belirleyicileri, Say Kanunu

2. Üretim olanakları eğrisi üzerinde iken X malı üretimi 75 ve Y malı üretimi 60 birimdir. X malı üretimi bir birim artırıldığında Y malı üretimi 55 birime düşmektedir.

Buna göre X malının Y malı cinsinden alternatif maliyeti kaçtır?

- A) 0 B) 10 C) 15
 D) **20** E) 25

3. **Tekel piyasasında fiyat farklılaştırması yapabilmenin koşulu aşağıdakilerden hangisidir?**

- A) Malın homojen olması
 B) Piyasada rekabetin söz konusu olması
 C) Oligopolcü firmaların piyasaya girmemesi
 D) Malın düşük fiyatla satıldığı yerden alınıp, yüksek fiyatlı olduğu yerde satılabilmesi
 E) **Farklı talep esnekliklerine sahip alt piyasaların var olması**

4. Bir tüketici X ve Y gibi iki farklı mal tüketiyor. Tüketicinin elde ettiği fayda X ve Y malları için MU_x ve MU_y , malların fiyatları da P_x ve P_y dir.

Buna göre, tüketici denge koşulu aşağıdakilerden hangisidir?

A) $\frac{MU_x}{MU_y} = \frac{P_x}{P_y}$

B) $\frac{MU_y}{MU_x} = \frac{P_x}{P_y}$

C) $\frac{MU_x}{MU_y} = \frac{P_y}{P_x}$

D) $-\frac{dy}{dx} = \frac{MU_y}{MU_x}$

E) $-\frac{dx}{dy} = \frac{MU_x}{MU_y}$

5. Tam rekabet piyasasında toplam maliyet fonksiyonları birbirinin aynı olan firmalar, toplam ($Q_s = 90$ birim) mal üretmektedir. Bu firmaların her birinin uzun dönem toplam maliyet fonksiyonu $TC=q^3-6q^2+24q$ biçimindedir.

Uzun dönem piyasa denge durumunda, bu piyasada kaç firma bulunmaktadır?

- A) 3 B) 10 C) 15
 D) **30** E) 90

6. Tekelci bir firmanın malına yönelik talep fonksiyonu $Q=25-P$, bu tekelinin toplam maliyet fonksiyonu ise $TC=5Q^2+Q+24$ biçimindedir.

Tekelci firmanın kârını maksimize edecek biçimde üretim yaptığında elde edeceği kâr aşağıdakilerden hangisidir?

- A) 0 B) 5 C) 23
D) 25 E) 46

7. Aşağıdakilerden hangisi oligopol piyasalarının özelliklerinden biridir?

- A) Çok sayıda firmanın bulunması
B) Her bir firmanın üretim kararlarında, rakiplerinde büyük ölçüde etkileniyor olması
C) Her bir firmanın sattığı malın fiyatını kendisinin belirlemesi
D) Denge üretim düzeyinde fiyatın marjinal maliyete eşit olması
E) Oligopol piyasasında genel kabul görmüş bir denge modelinin olması

8. $q=A.K^{0.6}.L^{0.3}$ şeklinde bir üretim fonksiyonunun geçerli olduğu firma ile ilgili aşağıdaki ifadelerden hangisi doğrudur?

- A) İşgücünün üretimdeki payı 0,6'dır.
B) Sermayenin üretimdeki payı 0,3'tür.
C) Ölçeğe göre artan getiri vardır.
D) Ölçeğe göre azalan getiri vardır.
E) A'nın olması bu fonksiyonu üretim fonksiyonu yapmaz.

9. Aşağıdakilerden hangisi LM eğrisinin kaymasına yol açmaz?

- A) Para arzının iki kat artması
B) Fiyatlar genel düzeyinin yükselmesi
C) Reeskont oranlarının düşürülmesi
D) Halkın elindeki tahvillerin satın alınması
E) Munzam karşılık oranlarının artırılması

10. Keynesyen ekonomide marjinal tüketim eğilimi $c=0,8$ ise çarpan aşağıdakilerden hangisidir?

- A) 2 B) 3 C) 4
D) 5 E) 6

11. Talep enflasyonu söz konusu olduğunda, aşağıdakilerden hangisi ortaya çıkar?

- A) Phillips eğrisi tümü ile sağ yukarıya kayar.
B) Phillips eğrisi tümü ile sol aşağıya kayar.
C) Phillips eğrisi üzerinde aşağıya doğru bir hareket söz konusudur.
D) Phillips eğrisi üzerinde herhangi bir etki yaratmaz.
E) Phillips eğrisi üzerinde yukarıya doğru bir hareket söz konusudur.

12. Aşağıdaki durumların hangisinde dışlama etkisi (crowding-out) daha büyük olur?

- A) Denge GSYİH düzeyinin potansiyel düzeyin altında olması
- B) Yatırım harcamalarının faiz esnekliğinin düşük olması
- C) Yatırım harcamalarının faiz esnekliğinin yüksek olması
- D) Tüketim harcamalarının faiz esnekliğinin düşük olması
- E) Ekonomideki işsizliğin büyük olması

13. Reel milli gelirde bir artış olduğunda, para talebi ile faiz oranı nasıl değişir?

- A) Para talebi artar, faiz oranı düşer.
- B) Para talebi azalır, faiz oranı düşer.
- C) Para talebi artar, faiz oranı artar.
- D) Para talebi azalır, faiz oranı değişmez.
- E) Para talebi ve faiz oranı değişmez.

14. Nominal faiz oranı arttığında, reel para talebi nasıl değişir?

- A) Bireyler gelirlerinin daha büyük bir kısmını ödünç vermek isteyecekleri için artar.
- B) Reel para talebinin enflasyona göre düzeltilmiş fırsat maliyeti azalacağı için artar.
- C) Gelirin nominal değeri düşeceği için azalır.
- D) Para arzı azalacağı için azalır.
- E) Nakit tutmanın fırsat maliyeti artacağı için azalır.

15. Büyüme oranı ile işsizlik oranı arasındaki ters yönlü ilişkiyi aşağıdakilerden hangisi ifade eder?

- A) Okun yasası
- B) Phillips eğrisi
- C) Pigou etkisi
- D) Lucas arz fonksiyonu
- E) Ricardocu eşdeğerlik teoremi

16. Esnek döviz kuru sisteminde para ve maliye politikalarının etkinliği ile ilgili olarak aşağıdakilerden hangisi doğrudur?

- A) Maliye politikası etkin, para politikası etkin değildir.
- B) Maliye politikası etkin değil, para politikası etkindir.
- C) Para ve maliye politikalarının ikisi de tam etkindir.
- D) Para ve maliye politikalarının hiçbiri etkin değildir.
- E) Para ve maliye politikaları eşit etkinliktedir.

17. Keynesyen teoriye göre, işlem güdüsüyle para talebinin artmasında aşağıdakilerden hangisinin bir etkisi vardır?

- A) Faiz oranındaki artışın
- B) Gelirin elde edilişle harcamalar arasındaki sürenin uzamasının
- C) Reel gelir düzeyinin yükselmesinin
- D) Fiyatlar genel düzeyinin yükselmesinin
- E) Fiyatlar genel düzeyinin düşmesinin

18. Emisyon, Merkez Bankası bilançosunun hangi kısmında yer alır?

- A) Aktiflerin iç varlıklar kısmında
- B) Aktiflerin diğer kalemlerinde
- C) Pasiflerin açık piyasa işlemlerinde
- D) Pasiflerin iç yükümlülüğünde
- E) **Pasiflerin Merkez Bankası parasının rezerv para kısmında**

19. Ödemeler bilançosunu oluşturan ana hesap grupları aşağıdakilerin hangisinde birlikte verilmiştir?

- A) **Cari hesap, sermaye hesabı ve resmi rezervler hesabı**
- B) Cari hesap, resmi rezervler hesabı ve ticari hesap
- C) Cari hesap ve resmi rezervler hesabı
- D) Ticari hesap ve sermaye hesabı
- E) Sermaye hesabı ve dış ticaret hesabı

20. Aşağıdakilerden hangisi bir ülkenin ticaret hadlerinin bozulduğunu gösterir?

- A) Ülkenin ihraç malı fiyatlarının ithal malı fiyatlarına göre daha hızlı yükselmesi
- B) Ülkenin ithal malı fiyatlarının düşmesi, ihraç malı fiyatlarının değişmemesi
- C) Ülkenin ihraç malı fiyatlarının artması, ithal malı fiyatlarının değişmemesi
- D) Ülkenin hem ihraç hem de ithal malı fiyatlarının hızlı bir şekilde düşmesi
- E) **Ülkenin ithal malı fiyatlarının ihraç malı fiyatlarına göre daha hızlı yükselmesi**

21. Genel ekonomi içinde kamu kesiminin nisbi büyüklüğünü belirleyen oran aşağıdakilerden hangisidir?

- A) Borç / GSYH
- B) Milli gelir / GSYH
- C) **Kamu harcamaları / GSYH**
- D) Vergiler / Kamu harcamaları
- E) Genel Yönetim Bütçesi / Kamu harcamaları

22. Tanzi etkisine göre, enflasyon ile vergi gelirleri arasındaki ilişki aşağıdaki ifadelerden hangisinde doğru olarak verilmiştir?

- A) Vergi gelirleri enflasyon nedeniyle artar
- B) Vergilerin çok fazla ve çok çeşitli olması nedeniyle fiyatlar genel seviyesinin yükselmesi sonucu devletin vergi gelirleri azalır
- C) Vergi sistemi düz oranlı olursa, enflasyonist bir ortamda devlet artan gelirden daha fazla vergi geliri elde eder
- D) Enflasyon vergisi nedeniyle artan vergi gelirleri bireylerin psikolojik yapısını değiştireceğinden devlet net bir vergi kaybına uğrar
- E) **Enflasyon döneminde monetizasyon sonucu gelir elde eden devlet, enflasyonun vergi gelirlerini eritmesi nedeniyle vergi gelirlerinde bir kayba uğrar**

23. Aşağıdakilerden hangisi parafiskal kurumların özellikleri arasında değildir?

- A) Hizmetlerinden herkes yararlanabilir
- B) Hizmetlerini kendi bütçeleri ile karşılarlar
- C) Gelirleri kendi bütçesi içinde yer alır
- D) Gelirleri vergi benzeri gelir olarak adlandırılır
- E) Genel yönetim bütçesi içinde yer alırlar

24. Aşağıdakilerden hangisi kamu harcamalarının fonksiyonel sınıflandırmasının amaçları arasında yer almaz?

- A) Kamu hizmetlerinin maliyetinin belirlenmesi
- B) Devletin görev olarak ne kadar harcama yaptığının belirlenmesi
- C) Harcamaları yapan kuruluşun önemli olmaması
- D) Harcamalarının ekonomik etkilerinin belirlenmesi
- E) Harcamalarda verimlilik ve etkinliğin sağlanması

25. Milli Eğitim Bakanlığı'nın öğrencilere ücretsiz dağıtacağı elektronik kitap uygulaması aşağıdaki harcamalardan hangisinin içinde yer alır?

- A) Cari harcama
- B) Yatırım harcaması
- C) Transfer harcaması
- D) Kalkınma carisi harcama
- E) Sermaye carisi harcama

26. Siyasi partilere ilişkin aşağıdaki ifadelerden hangisi yanlıştır?

- A) Siyasî partiler, demokratik siyasî hayatın vazgeçilmez unsurlarıdır.
- B) Siyasî partiler önceden izin almadan kurulurlar.
- C) Yükseköğretim öğrencileri siyasî partilere üye olamazlar.
- D) Siyasî partiler, ticarî faaliyetlere girişemezler.
- E) Siyasî partilerin gelir ve giderlerinin amaçlarına uygun olması gereklidir.

27. 1982 Anayasası'na göre Cumhurbaşkanının, aşağıdakilerden hangisini bir daha görüşülmek üzere Türkiye Büyük Millet Meclisine geri gönderme yetkisi yoktur?

- A) Af kanunları
- B) Bütçe kanunları
- C) Vergi kanunları
- D) Temel kanunlar
- E) Anayasa değişikliğine ilişkin kanunlar

28. Aşağıdakilerden hangisi, yetkisiz temsilcinin düzenlediği senetten dolayı bizzat sorumlu olabilmesi için gerekli şartlardan biri değildir?

- A) Temsil olunanın onay vermiş olması
- B) Senet düzenleme yetkisinin bulunmaması veya yetkinin sınırlarının aşılması
- C) Yetkisiz temsilcinin fiil ehliyetine sahip olması
- D) Yetkisiz temsilcinin senedi imzalamış olması
- E) Senet alacaklısının iyiniyetli olması

29. Aşağıdaki kusursuz sorumluluk hallerinden hangisi, hakkaniyet sorumluluğu olarak ifade edilir?

- A) Temyiz kudreti bulunmayan sorumluluğu
- B) Adam çalıştırmanın sorumluluğu
- C) Hayvan idare edenin sorumluluğu
- D) Yapı eseri malikinin sorumluluğu
- E) Çevreyi kirletenlerin sorumluluğu

30. Aşağıdakilerden hangisi, kişilik hakları saldırıya uğrayan kişinin açabileceği davalardan biri değildir?

- A) Tazminat davası
- B) Eski hale getirme davası
- C) Saldırıya son verilmesi davası
- D) Hukuka aykırılığın tespiti davası
- E) Saldırı tehlikesinin önlenmesi davası

31. Aşağıdakilerden hangisi emtia üzerindeki bir hakkı temsil eden senetlerden biridir?

- A) Kambiyo senedi
- B) Borç senedi
- C) İrad senedi
- D) Tahvil
- E) Konişmento

32. Aşağıdakilerden hangisi vasi olarak atanamaz?

- A) Üzerinde vasilik görevi olanlar
- B) Altmış yaşını doldurmuş olanlar
- C) İlgili vesayet daireleri hâkimleri
- D) Dörtten çok çocuğun velisi olanlar
- E) Bedensel özürleri veya sürekli hastalıkları sebebiyle bu görevi güçlükle yapabilecek olanlar

33. Maddi duran varlıklarına azalan bakiyeler yöntemi ile amortisman hesaplayan bir işletme, izleyen dönemde normal amortisman yöntemine geçmeye karar vermiştir.

Bu değişiklikle ilgili bilgilerin finansal tabloların dipnotlarında açıklanması, hangi muhasebe temel kavramının gereğidir?

- A) Dönemsellik
- B) Tutarlılık
- C) Önemlilik
- D) İhtiyatlılık
- E) İşletmenin sürekliliği

34. Sürekli envanter yöntemini uygulayan bir işletmede, 2011 yılında Ticari Mallar hesabının borcuna yapılan kayıtların toplamı 150.000 TL'dir. İşletmede alış giderleri 5.000 TL, dönem sonu mal mevcudu 30.000 TL ve dönem başı mal mevcudu 20.000 TL'dir. Alıştan iade ve alış iskontosu yoktur. Dönem içinde (2011 yılı içinde) 144.000 TL'lik brüt satış yapılmış, 115.000 TL tutarında ticari mal alınmıştır. İşletme, satışlarını %20 karla yapmaktadır.

Bu işletmede 31.12.2011'de düzenlenecek gelir tablosunda satışların maliyeti kaç TL olacaktır?

- A) 150.000
- B) 132.000
- C) 120.000
- D) 115.000
- E) 110.000

35. İşletmenin kasa hesabının borç toplamı 79.500 TL, alacak toplamı ise 62.000 TL'dir. Yapılan sayım sonucu kasada 12.500 TL olduğu tespit edilmiş ve nedeni aynı gün içinde belirlenememiştir.

Bu olayla ilgili muhasebe kaydı aşağıdakilerden hangisidir?

| | | | |
|----|--|-------|-------|
| A) | ----- / ----- KASA SAYIM VE TESELLÜM FAZLALARI ----- / ----- | 5.000 | 5.000 |
| B) | ----- / ----- SAYIM VE TESELLÜM FAZLALARI KASA ----- / ----- | 5.000 | 5.000 |
| C) | ----- / ----- KARŞILIK GİDERLERİ SAYIM VE TESELLÜM NOKSANLARI ----- / ----- | 5.000 | 5.000 |
| D) | ----- / ----- SAYIM VE TESELLÜM NOKSANLARI KASA ----- / ----- | 5.000 | 5.000 |
| E) | ----- / ----- SAYIM VE TESELLÜM NOKSANLARI DİĞER DÖNEN VARLIKLAR KARŞILIĞI ----- / ----- | 5.000 | 5.000 |

36. Alacak Senetleri Hesabının işleyişi ile ilgili olarak aşağıdaki ifadelerden hangisi yanlıştır?

- A) Senet ciro edildiğinde hesabın alacağına kayıt yapılır.
B) Senet tahsil edildiğinde hesabın alacağına kayıt yapılır.
C) Senet alındığında hesabın borcuna kayıt yapılır.
D) Senedin tahsili şüpheli hale geldiğinde hesabın alacağına kayıt yapılır.
E) Senet için hesaplanan reeskont tutarı hesabın alacağına kaydedilir.

37. İşletme bankaya 10.000 TL yatırmış ve aşağıdaki kaydı yapmıştır:

| | | |
|--|--------|--------|
| ----- / ----- KASA BANKALAR ----- / ----- | 10.000 | 10.000 |
|--|--------|--------|

Verilen kayıt, aşağıdakilerden hangisi yapılırsa düzeltilmiş olur?

- A) Bankalar hesabının borcuna 10.000 TL, Kasa hesabının alacağına 10.000 TL
B) Bankalar hesabının borcuna 20.000 TL, Kasa hesabının alacağına 20.000 TL
C) Kasa hesabının borcuna 20.000 TL, Bankalar hesabının alacağına 20.000 TL
D) Kasa hesabının borcuna 10.000 TL, Bankalar hesabının borcuna 10.000 TL, Banka Kredileri hesabının alacağına 20.000 TL
E) Bankalar hesabının borcuna 20.000 TL, Kasa hesabının alacağına 10.000 TL, Banka Kredileri hesabının alacağına 10.000 TL

38. BC işletmesinin 2011 yılına ilişkin bazı tutarları şöyledir: Hazır Değerler 5.000 TL, Kısa Vadeli Yabancı Kaynaklar 50.000 TL, Ticari Alacaklar 10.000 TL, Maddi Duran Varlıklar 12.000 TL, Stoklar 15.000 TL, Menkul Kıymetler 20.000 TL ve Ticari Borçlar 10.000 TL'dir.

Bu işletmenin 2011 yılı asit-test oranı kaçtır?

- A) 1,00
B) 0,875
C) 0,70
D) 0,58
E) 0,40

39. CD işletmesinin 31.12.2011'de düzenlediği finansal tablolarından alınan bazı bilgileri aşağıdaki gibidir;

| | 2011 (TL) |
|----------------------------|-----------|
| Brüt Satış Karı | 160.000 |
| Dönem Net Karı | 30.000 |
| Satışlar | 300.000 |
| Uzun Vadeli Yabancı Kaynak | 120.000 |
| Aktif Toplamı | 500.000 |
| Kısa Vadeli Yabancı Kaynak | 180.000 |

Verilen bilgilere göre, CD işletmesinin özkaynak karlılık oranı aşağıdakilerden hangisinde doğru olarak verilmiştir?

- A) 0,80
B) 0,38
C) 0,30
D) 0,15
E) 0,10

40. Kamil BAŞ bankadan 100.000 TL tutarında konut kredisi çekmiş olup, kredinin faiz oranı aylık %1,00'dır. Kredi 6 yılda aylık eşit taksitlerle geri ödenecektir.

$1,01^{72}=2,0471$ olduğuna göre Kamil Baş'ın kredi geri ödemesinde aylık taksit tutarı kaç TL olur?

- A) 955
B) 1.000
C) 1.547
D) 1.955
E) 2.047

41. Mehmet ALP, 30.000 TL'sini ARVES hisse senedine; 20.000 TL'sini yıllık %10 piyasa faiz oranlı vadesine 1 yıl kalmış devlet tahviline; kalan 50.000 TL'sini de altına yatırmıştır. Yılsonunda hisse senetlerine 2.000 TL nakit kar payı almış ve hisse senetlerini 34.000 TL'den satmıştır. Altın yatırımından ise yıllık %5 getiri sağlamıştır.

Mehmet ALP'in oluşturduğu portföyün yıllık getiri oranı % kaçtır?

- A) 8,50
B) 10,50
C) 11,66
D) 13,50
E) 35,00

42. Finans AŞ'nin ele aldığı bazı yatırım projelerinin net nakit akımları aşağıda belirtilmiştir:

| Dönem | Alfa | Beta | Delta | Gamma | Zeta |
|-------|------|------|-------|-------|------|
| 0 | -100 | -120 | -80 | -150 | -140 |
| 1 | 50 | 50 | 50 | 70 | 60 |
| 2 | 50 | 60 | 40 | 70 | 70 |
| 3 | 50 | 80 | 30 | 70 | 200 |

Bu bilgilere göre Finans AŞ, proje değerleme yöntemlerinden "Geri Ödeme Süresi Yöntemi"ne göre hangi projeyi tercih etmesi gerekir?

- A) **Delta**
 B) Beta
 C) Alfa
 D) Gamma
 E) Zeta

43. Enkaz AŞ, yatırımlarının %60'ını faizli borçlarla finanse etmiştir. İşletmenin hiç üretim yapmasa da katlandığı sabit giderler bulunmaktadır. İşletme şu anki faaliyetleri ile elde ettiği karı sıfırdan büyüktür. Bu işletmeyle ilgili olarak aşağıdaki bulgulara ulaşılmıştır.

- I. İşletmenin faaliyet kaldıraç derecesi 1'e eşittir.
 II. İşletmenin finansal kaldıraç derecesi 1'den büyüktür.
 III. İşletmenin birleşik kaldıraç derecesi 1'den küçüktür.

Bu işletme ile ilgili yukarıda yer alan bulgulardan hangisi yanlıştır?

- A) Yalnız II
 B) I ve II
 C) **I ve III**
 D) II ve III
 E) I, II ve III

44. Sipariş üzerine standart tek tip masa üretimi gerçekleştiren MASA AŞ'nin yıllık sabit maliyetleri 250.000 TL, birim değişken maliyeti ise 100 TL'dir. İşletmenin ürettiği masaların tamamını dönemde tanesini 150 TL'ye satmıştır.

Bu bilgilere göre işletmenin başabaş noktasındaki üretim/satış miktarı kaç adettir?

- A) 1000
 B) 1667
 C) 2500
 D) 4000
 E) **5000**

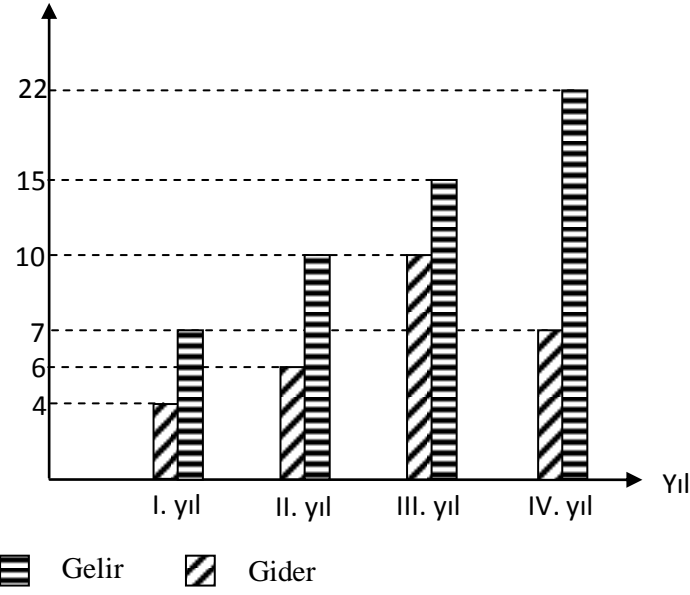
45. Bir mal $3x - 120$ liraya satılırsa maliyet üzerinden %20 zarar, $4x + 20$ liraya satılırsa maliyet üzerinden %20 kar elde ediliyor.

Buna göre bu malın maliyeti kaç liradır?

- A) 1800
 B) 1620
 C) **1350**
 D) 1080
 E) 960

46.

Gelir – Gider (milyon lira)



Yukarıdaki grafik bir şirketin yıllara göre gelir-gider değişimini göstermektedir. Buna göre şirketin gelir ve gideri hakkında aşağıdakilerden hangisi yanlıştır?

- A) Dört yıllık gider, dört yıllık gelirin %50'sidir.
- B) İlk iki yıllık gelir, ilk iki yıllık giderden %70 fazladır.
- C) Dört yıllık gelir, dört yıllık giderden %80 fazladır.
- D) İlk üç yıllık gelir, ilk üç yıllık giderden %60 fazladır.
- E) Dört yılsonunda yıllık ortalama gelir 13,5 milyon liradır.

47. Bir dikdörtgenler prizmasının eni ve boyu %20 arttırılıp yüksekliği %25 azaltılırsa hacmindeki değişim % kaç olur?

- A) %8 artar
- B) %15 artar
- C) %10 azalır
- D) %6 azalır
- E) Değişmez

48. Nominal değeri 1.000 TL ve vadesine kalan süre 182 gün olan bir hazine bonosunun piyasadaki yıllık (basit) faiz oranı %10,0'dur.

Bu bilgilere göre, hazine bonosunun bugünkü piyasa değeri kaç TL olur?

- A) 900,00
- B) 909,09
- C) 952,51
- D) 981,20
- E) 1.050,00

GENEL KÜLTÜR SORULARI

49. Mondros Ateşkes Antlaşması aşağıdakilerden hangisine yönelik bir hüküm ıçermez?

- A) Kapitülasyonların kaldırılması
- B) Anadolu topraklarının işgal edilmesi
- C) Osmanlı Devleti'nin savunmasız bırakılması
- D) Osmanlı Devleti'nin egemenlik alanının daralması
- E) İstanbul'un güvenliğinin tehlikeye girmesi

50.

- I. Temsil Heyeti Başkanlığı
- II. Başkomutanlık
- III. Erzurum milletvekilliği
- IV. 9. Ordu Müfettişliği
- V. Cumhurbaşkanlığı

Mustafa Kemal Atatürk'ün Kurtuluş Savaşı döneminde ve sonrasında yapmış olduğu görevler, aşağıdakilerin hangisinde kronolojik olarak doğru sıralanmıştır?

- A) I-III-V-IV-II
- B) II-I-III-V-IV
- C) III-II-IV-I-V
- D) **IV-I-III-II-V**
- E) V-IV-I-III-II

51. Urfa, Antep, Maraş ve Adana illeri aşağıdaki devletlerden hangisiyle yapılan mücadeleden sonra kurtarılmıştır?

- A) Ermenistan
- B) Rusya
- C) İtalya
- D) **Fransa**
- E) İngiltere

52. Cumhuriyet döneminde;

- Medeni Kanunun çıkarılması
- Bazı lakap ve unvanların kaldırılması
- Kadınların seçme, seçilme hakkına kavuşması

gibi gelişmeler, aşağıdaki ilkelerden hangisinin uygulanması ile ilgilidir?

- A) Laiklik
- B) **Halkçılık**
- C) Devletçilik
- D) İnkılapçılık
- E) Cumhuriyetçilik

53. Kurtuluş Savaşı biter bitmez Atatürk, ülkesinin bağımsızlığından ve onurundan ödün vermeden eşitliğe dayalı bir barış sistemi arzu etmiştir. Bu nedenle O, "Yurtta barış, dünyada barış" ideali ile hareket etmiş ve Türkiye'yi bazı uluslararası paktlara dâhil etmiştir.

Atatürk'ün bu tutumuna dayanarak Türkiye'nin 1923-1938 yılları arasında katıldığı

- I. Kellogg-Briand
- II. Akdeniz
- III. Balkan
- IV. Bağdat

Paktlarından hangileri, aşağıdaki seçeneklerde birlikte doğru olarak verilmiştir?

- A) I ve IV
- B) II ve IV
- C) **I, II ve III**
- D) II, III ve IV
- E) I, II, III ve IV

54.

| | <u>Birinci grup</u> | <u>İkinci grup</u> |
|------|---------------------------------|------------------------|
| I. | İlk halkevinin açılması | 1932 |
| II. | İlk yüksekokulun açılması | Gazi Eğitim Enstitüsü |
| III. | İlk nüfus sayımının yapılması | 28 Ekim 1927 |
| IV. | İlk özel bankanın açılması | Emlak ve Eytam Bankası |
| V. | İlk Meclis Başkanının seçilmesi | Kazım Karabekir |

Cumhuriyet dönemine ait yukarıda Birinci grupta verilen ilklerden hangileri İkinci grupta verilen bilgilerle doğru olarak eşleştirilmiştir?

- A) I ve II
- B) I ve III**
- C) II ve V
- D) III ve IV
- E) IV ve V

55. Mustafa Kemal Atatürk, çok partili hayata geçmek, dürüst ve etkili bir muhalefet ile meclis çalışmalarını hızlandırmak, farklı görüşleri mecliste temsil yetkisi vermek, demokrasinin tüm kurumları ile işlemlerini sağlamak amacıyla Paris Büyükelçiliğinde bulunan Fethi Okyar'a bir parti kurdurmuştur.

Söz konusu siyasi parti aşağıdakilerden hangisidir?

- A) Rumeli Müdafaa-i Hukuk Cemiyeti
- B) Terakkiperver Cumhuriyet Fırkası
- C) Serbest Cumhuriyet Fırkası**
- D) Cumhuriyet Halk Fırkası
- E) Demokrat Parti

56.

| Seçildiği tarih | Seçime katılan üye sayısı | Kaç oyla seçildiği |
|-----------------|---------------------------|--------------------|
| 29.10.1923 | 158 | 158 |
| 01.11.1927 | 288 | 288 |
| 04.05.1931 | 289 | 289 |
| 01.03.1935 | 386 | 386 |

Yukarıdaki tabloda Mustafa Kemal Atatürk'ün cumhurbaşkanı seçildiği tarihler ve seçimlere ait oy miktarları verilmiştir.

Bu bilgilere göre,

- I. Atatürk, Cumhuriyet döneminin ilk cumhurbaşkanı olmuştur.
- II. Atatürk, her defasında TBMM üye tam sayısının oylarını alarak Cumhurbaşkanı olmuştur.
- III. Atatürk, ilk TBMM'nin başkanlığını yapmıştır.
- IV. Cumhuriyet döneminin ilk uygulaması yeni bir genel seçim yapmak olmuştur.

Yargıları, aşağıdaki seçeneklerden hangisinde tam olarak doğru verilmiştir?

- A) Yalnız I**
- B) Yalnız II
- C) I ve IV
- D) I-II-III
- E) II-III-IV

57. Aşağıdakilerden hangisi Kurtuluş Savaşı dönemindeki gelişmelere ait neden-sonuç ilişkilerinden biri değildir?

- A) Sakarya Meydan Muharebesinin kazanılması – Rusya ile Moskova Antlaşması'nın imzalanması
- B) Birinci İnönü Muharebesinin kazanılması – Londra Konferansı'nın toplanması
- C) İkinci İnönü Muharebesinin kazanılması – İtalyanların Anadolu'yu terk etmeye başlaması
- D) Eskişehir – Kütahya Muharebelerinin kaybedilmesi – Mustafa Kemal'in Başkomutan olması
- E) Büyük Taarruz'un kazanılması – Mudanya Ateşkes Antlaşması'nın yapılması

58.

- I. Pratik, açık ve anlaşılır olması
- II. İsviçre'den alınan İcra ve İflas Kanunu'nun başarılı olması
- III. Laik ve çağdaş olması, akla ve bilime dayanması
- IV. Avrupa'da en son yapılan medeni kanun olması
- V. Türk toplumunun yapısına daha uygun olması

Yukarıdakilerden hangisi/hangileri, 1926 yılında kabul edilen Medeni Kanun'un İsviçre'den alınmasının nedenleri arasında değildir?

- A) Yalnız I
- B) **Yalnız II**
- C) Yalnız III
- D) III ve IV
- E) I, II ve III

59. Aşağıdakilerden hangisi zamanaşımını kesen hallerden biri değildir?

- A) Alacaklının dava açması
- B) Alacaklının hakeme başvurusu
- C) Alacaklının icra takibinde bulunması
- D) Alacaklının iflas masasına başvurusu
- E) **Alacaklının, Türk mahkemelerinde dava açma imkânının bulunmaması**

60. Aşağıdakilerden hangisi Devlet Denetleme Kurulunun görev alanı dışındadır?

- A) Sermayesinin yarısından fazlası devlete ait olan kuruluşlar
- B) Kamu kurumu niteliğinde olan meslek kuruluşları
- C) İşçi ve işveren meslek kuruluşları
- D) Kamuya yararlı dernekler
- E) **Silahlı kuvvetler**

61. Aşağıdakilerden hangisi özel hukuk tüzel kişilerinden biri değildir?

- A) Dernek
- B) Vakıf
- C) Kooperatif
- D) Anonim şirket
- E) **İl özel idaresi**

62. Aşağıdakilerden hangisi hacir altına alınma (kısıtlılık) nedenlerinden biri değildir?

- A) **Yaş küçüklüğü**
- B) Akıl zayıflığı
- C) Savurganlık
- D) Kötü yaşama tarzı
- E) Kötü yönetim

63. Genelkurmay Başkanı, Kara, Deniz ve Hava Kuvvetleri Komutanları ile Jandarma Genel Komutanını görevleriyle ilgili suçlardan dolayı yüce divan sıfatıyla yargılama yapma yetkisi aşağıdakilerden hangisine aittir?

- A) Yargıtay
- B) Danıştay
- C) Anayasa mahkemesi
- D) Uyuşmazlık mahkemesi
- E) Askerî Yüksek İdare Mahkemesi

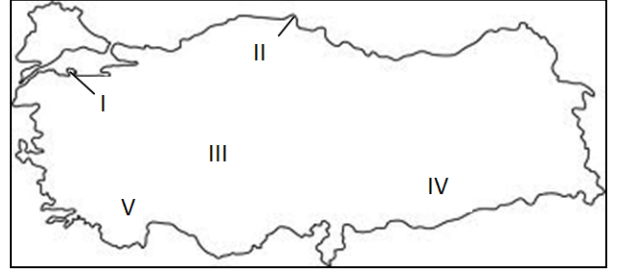
64. Kanun hükmünde kararnamele ilgili aşağıdakilerden hangisi doğru değildir?

- A) Türkiye Büyük Millet Meclisi, Bakanlar Kuruluna kanun hükmünde kararname çıkarma yetkisi verebilir.
- B) Sıkıyönetim ve olağanüstü haller saklı kalmak üzere, siyasî haklar ve ödevler kanun hükmünde kararnamelerle düzenlenemez.
- C) Bakanlar Kurulunun istifası, düşürülmesi veya yasama döneminin bitmesi ile belli süre için verilmiş olan kanun hükmünde kararname çıkarma yetkisi kendiliğinden sona erer.
- D) Yetki kanunları ve bunlara dayanan kanun hükmünde kararnameler, Türkiye Büyük Millet Meclisi komisyonları ve Genel Kurulunda öncelikle ve ivedilikle görüşülür.
- E) Kanun hükmünde kararnameler, Resmî Gazetede yayımlandıkları gün Türkiye Büyük Millet Meclisine sunulur.

65. Aşağıdaki sorumluluk türlerinden hangisi günümüz modern hukuk sistemlerinde uygulanmamaktadır?

- A) Mal ile sorumluluk
- B) Sınırlı sorumluluk
- C) Sınırsız sorumluluk
- D) Şahsi sorumluluk
- E) Şahıs ile sorumluluk

66. Aşağıdaki Türkiye haritasında verilen yer şekillerinden hangisi yanlıştır?

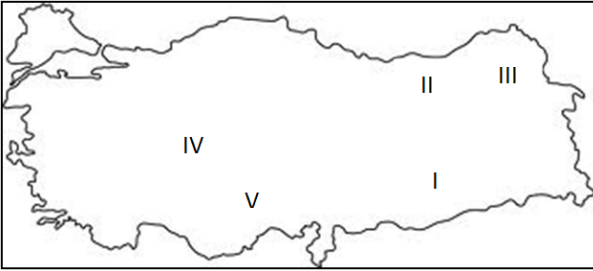


- A) I- Kapıdağ yarımadası
- B) II- Sinop yarımadası
- C) III- Obruk platosu
- D) IV- Harran ovası
- E) V- Taşeli platosu

67. Aşağıda belirtilenlerden hangisi Türkiye’de iç göçlerle ilgili olarak ifade edilemez?

- A) Göçe katılanlarda yaşlı nüfus oranı fazladır.
- B) Göçler genellikle kırlardan şehirlere doğrudur.
- C) Erkek nüfus oranı göçlerde daha fazladır.
- D) Son yıllarda mevsimlik göçler artmıştır.
- E) Kıyı kesimleri önemli ölçüde göç alır.

68. Meteoroloji istasyonu olmayan bir alanla ilgili olarak şu bilgiler yöre halkından elde edilmiştir.
- I- Her mevsim yağışlıdır.
 - II- Uzunca bir yaz kuraklığı vardır.
 - III- Genellikle şiddetli don olayları görülür.
 - IV- Sıcaklıklar yazın ortalama 0 °C civarındadır.
 - V- En soğuk ay ortalaması – 10 °C kadardır.



Buna göre numaralandırılmış bilgiler ile Türkiye haritasında numaralandırılmış alanlar için hangi bilgi-alan eşleşmesi doğrudur?

- A) I B) II C) III
D) IV E) V

69. Türkiye’de yaz saati uygulaması için saatler bir saat ileri alındığında, aşağıdaki illerin hangisinde yerel saat ile ulusal saat arasındaki fark en az olur?
- A) Hatay
 - B) Sinop
 - C) İzmir
 - D) **Iğdır**
 - E) Edirne

70. Halkbank 2011 yılı Faaliyet Raporuna göre bankanın ödenmiş sermaye tutarı kaç TL’dir?

- A) 500.000.000
- B) 750.000.000
- C) 1.000.000.000
- D) **1.250.000.000**
- E) 1.500.000.000

71. Bay Hasan Parasayar, Halk Bankası Gazi Üniversitesi Kampüsü Şubesine 25 Mayıs 2012 Cuma günü 150.000 TL yatırarak 31 gün vadeli mevduat hesabı açtırmıştır.

Bu işleme ilişkin valör tarihi aşağıdakilerden hangisidir?

- A) 25 Mayıs 2012 Cuma
- B) 26 Mayıs 2012 Cumartesi
- C) **28 Mayıs 2012 Pazartesi**
- D) 25 Haziran 2012 Pazartesi
- E) 26 Haziran 2012 Salı

72. “UNESCO, 2012 yılını Uluslararası Yılı olarak ilan etmiştir.” İfadesinin doğru olması için boşluğun yerine aşağıdakilerden hangisi gelmelidir?

- A) **Itrî**
- B) Mevlana
- C) Piri Reis
- D) Evliya Çelebi
- E) Hacı Bektaşî Veli

GENEL YETENEK SORULARI

73.

$$\frac{0,1}{0,001} + \frac{0,02}{0,002} + \frac{3}{0,03}$$

işleminin sonucu aşağıdakilerden hangisidir?

- A) 111 B) 120 C) 210
D) 300 E) 321

74. a , b ve c birbirinden farklı rakamlar olmak üzere üç basamaklı abc doğal sayısı 9 ile tam bölünmektedir. Buna göre, $a+b+c$ kaç farklı değer alır?

- A) 1 B) 2 C) 3
D) 4 E) 5

75. Bir otobüs 3 günde bir sefere çıkıyor. İlk seferine perşembe günü çıktığına göre, 2. defa Perşembe günü sefere çıktığında kaçınıcı seferine çıkmış olacaktır?

- A) 11 B) 10 C) 9
D) 8 E) 7

76. Bir sepetteki güller altışar, sekizer, dokuzar demetlendiğinde her seferinde 3 gül artıyor.

Bu sepette en az kaç gül vardır?

- A) 23 B) 24 C) 45
D) 75 E) 87

77-79. soruları verilen bilgilere göre cevaplandırınız.

a b : c d

Şekilde 24'lük saat dilimine göre çalışan bir saatin haneleri gösterilmektedir.

a b sayısı saat kısmını, c d sayısı dakika kısmını göstermektedir. Bu saatin c hanesi bozuk olduğu için 3 rakamını göstermemekte, 2'den sonra 4 rakamına atlamaktadır.

77. Bu saat bir günde kaç dakika daha az göstermektedir?

- A) 120 B) 180 C) 240
D) 360 E) 480


78. Saati 02:00'de doğru zamana ayarlayıp uyuyan bir öğrenci 08:05 de uyanmak istiyorsa saati kaçta kurmalıdır?

- A) 08:40 B) 08:45 C) 09:00
D) 09:05 E) 09:25

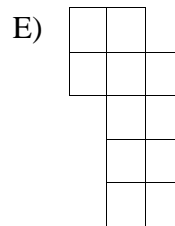
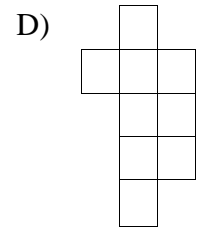
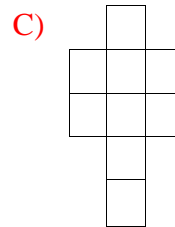
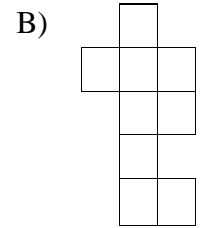
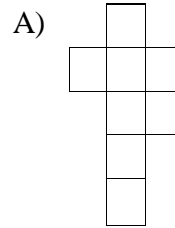
79. Bu saati doğru zamana ayarlayıp saat 13:00'te otobüse binen bir kişinin yolculuğu 20:00'de sona ermiştir. Bu kişinin yolculuğu toplam kaç dakika sürmüştür?

- A) 150 B) 200 C) 240
D) 300 E) 350

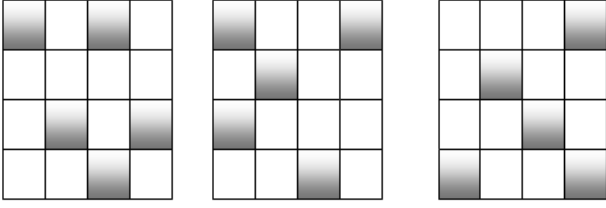
80.



Yandaki şeklin içinde aşağıdakilerden hangisi yoktur?




81.




Şekildeki levhalarda beyaz kareler şeffaftır, siyah kareler ise ışığı geçirmemektedir. Levhalar çakıştırıldığında üst üste gelen karelerin hepsi beyaz ise beyaz, en az biri siyah ise siyah görülmektedir.

Bu üç levha döndürülmeden çakıştırıldığında aşağıdakilerden hangisi elde edilir?


A)




B)




C)



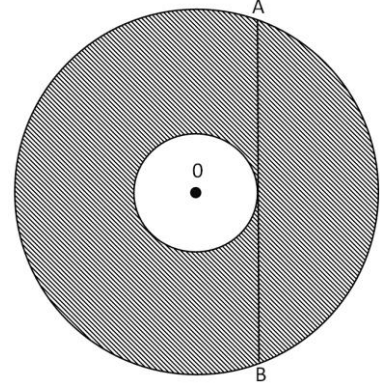
D)



E)



82.



Yukarıdaki şekilde iki çemberin de merkezi O noktasıdır. Büyük çemberin kirişi küçük çemberin teğeti olan AB doğru parçasının uzunluğu 8 cm'dir.

Buna göre iki çemberin arasındaki kalan taralı bölgenin alanı kaç cm^2 dir?

A) 4π B) 9π C) 16π D) 25π E) 36π

83. Doğal sayılar kümesi üzerinde $a \Delta b$ işlemi, a sayısından başlayan (a dahil) ardışık b-1 tane doğal sayının toplamı olarak tanımlanıyor.

Örnekler:

$$2 \Delta 6 = 2 + 3 + 4 + 5 + 6 = 20$$

$$1 \Delta 3 = 1 + 2 = 3$$

$(9 \Delta 2) \Delta 3 = ?$ işleminin sonucu kaçtır?

A) 19

B) 29

C) 39

D) 49

E) 59

84. Bir giyim mağazası sattığı ürünlerin etiket fiyatı üzerinden önce %40 indirim yapıyor. Ayrıca peşin alışverişlerde indirimli fiyatın üzerinden %20 indirim daha yapıyor.

Bu mağazadan peşin alışveriş yapan bir müşteri 192 TL ödediğine göre aldığı ürünlerin etiket fiyatı nedir?

- A) 240 B) 320 **C) 400**
D) 480 E) 520

85. $a=2+4+6+\dots+50$ olduğuna göre $1+3+5+7+\dots+51$ toplamının a türünden değeri aşağıdakilerden hangisidir?

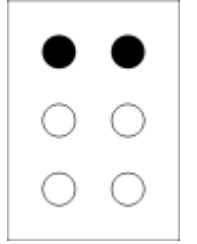
- A) $a-25$ **B) $a+26$** C) $a+25$
D) $a+50$ E) $2a+26$

86. $2^{30} + 2^{30} + 2^{30} + 2^{30}$ İşleminin sonucu aşağıdakilerden hangisidir?

- A) 2^{32} B) 2^{60} C) 2^{64}
D) 2^{120} E) 2^{128}

- 87.

Braille alfabesi görme engelli insanların okuyup yazması için kullanılan bir alfabe yöntemidir. İki kolon taşıyan dikdörtgen düzen üzerine dizilmiş altı noktanın kabartılmasıyla oluşur. Her iki kolonda üçer nokta bulunur. Yandaki şekilde B harfi ifade edilmiştir.



Braille alfabesinde sadece iki nokta kabartarak en fazla kaç sembol ifade edilebilir?

- A) 8 B) 12 **C) 15**
D) 18 E) 36

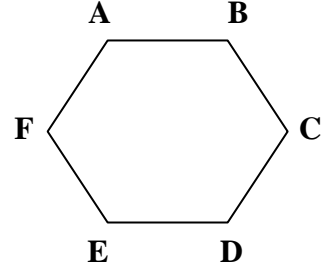
88. 1 ile 200 arasında 8 ile bölünebilen fakat 6 ile bölünemeyen kaç doğal sayı vardır?

- A) 16 B) 17 C) 24
D) 25 E) 34

89. $n(n+1)(n+2)=6!$ eşitliğini sağlayan n pozitif tamsayısı aşağıdakilerden hangisidir?

- A) 6 B) 7 C) 8
D) 9 E) 10

90.



Yukarıdaki ABCDEF altıgeni her defasında saat yönünde merkezi etrafında 60° döndürüldüğünde kaçınıcı dönüşte başlangıçtaki şeklini alır?

- A) 6 B) 5 C) 4
D) 3 E) 2

91. Aşağıdaki cümlelerin hangisinde “daha” sözcüğü diğerlerinden farklı bir anlamda kullanılmıştır?

- A) Daha güzel bir gelecek için çocuklarımızı iyi yetiştirmeliyiz.
B) Türk edebiyatında daha çok yeni edebiyat göze çarpar.
C) Daha az çalışarak fazla para kazanmak istiyoruz.
D) Söylenmemiş sözler varken daha, şiirin bitmesi düşünülemez.
E) Bugün diğer günlere göre iş yeri daha yoğundu.

92. (I) Her şairin kendine özgü bir şiir çalışması vardır. (II) Şair, aradığı biçimi buluncaya dek, şiir birçok aşamalardan, karalamalardan geçer. (III). Şair için şiir aslında bir doğuş, bazen yeniden var olur. (IV) Şairin karnında çoğu kez dokuz aydan daha fazla büyür ve ortaya çıkmak için onun canını acıtır. (V) Biz şiirin son halini gördüğümüz için her şey bir ilham sonucu oldu sanırız.

Bu parçada numaralandırılmış cümlelerin hangisinde neden-sonuç ilişkisi bulunmaktadır?

- A) I B) II C) III
D) IV E) V

93. Aşağıdaki cümlelerin hangisinde bir koşul söz konusudur?

- A) Seni görmek için kalktım da nerelerden geldim.
B) Çalışırsa dönem sonundaki sınavda başarılı olacak.
C) Eve geç kaldığı için işlerini yetiştiremeyeceğini düşünüyor.
D) Artıyor hayat içindeki yalnızlıklarımız.
E) Bizim için her şeyden önemlisi iyi bir insan olman.

94. Çehov'un kısa hikaye için söylediği bir söz vardır: "Bir hikayenin başında bir tüfekten bahsedilmişse, hikayenin sonunda o tüfek mutlaka patlamalıdır." Bu doğrultuda Çehov'un hikayelerde aradığı özelliğin olduğu görülmektedir.

Bu parçada boş bırakılan yere aşağıdakilerden hangisinin getirilmesi en uygundur?

- A) özgünlük
B) sadelik
C) akıcılık
D) içtenlik
E) işlevsellik

95. Kuzey yarımkürede her gün binlerce ton yiyecek çöpe atılıyor. Oysa dünya nüfusunun neredeyse yarısı aç. Çünkü insanlar üç maymunu oynamaktan hiç rahatsız olmuyor.

Bu parçada altı çizili sözle anlatılmak istenen aşağıdakilerin hangisinde de vardır?

- A) Toplumun önde gelen insanları halka yol göstermelidir.
B) Yazarların toplumsal olaylara sırtını dönmesini anlayamıyorum.
C) Beklediğimiz haberin geç gelmesi bizi çok üzdü.
D) Hayatımızın birçok anında insanların gözlerinin içine bakmışızdır.
E) Bütün olanlardan beni sorumlu tutması canımı çok sıktı.

96. Aşağıdaki cümlelerin hangisinde bir yazım yanlışlığı yapılmamıştır?

- A) MEB'na bağlı birimlerin düzenlemesi gerçekleştirildi.
- B) Bu akşamki yemeğe de gelmesini beklemeyin artık.
- C) Bu kadar çalışmadan sonra başarıyı hakettiğini düşünüyorum.
- D) Karısını ve çocuğunu terkedip Almanya'ya yerleşti.
- E) Ankaralı Ayşeler geçen Haziranda ev almışlar.

97. "İçeri giren, yeni insanlarla tanışıyordu."

Bu cümledeki virgülün (,) kullanım görevine eş bir kullanım, aşağıdakilerin hangisinde de vardır?

- A) Arkadaşım kötü günümde beni düşünen, arayan insan olmalıdır.
- B) Bugün en güzel günlerimden birini gördüm, yaşadım.
- C) Bir nesnenin, bir kavramın bir adı olur, gerekirse onu kullanırız.
- D) Eski zamanlar, hiç unutulmayan o anlar, insanların içinde saklıdır.
- E) Müdür, odasını göstererek içeriye girmemizi istedi.

98. Aşağıdaki cümlelerin hangisinde bir anlatım bozukluğu yapılmıştır?

- A) Karşına çıkıp da sana öğüt veren her insana körü körüne bağlanmaktan artık vazgeçmelisin.
- B) Bu başlık altında, "karşı" ve "karşın" sözcüklerinin anlam ayrıcalığı örneklerle belirtilmiş.
- C) Önerilen ücreti azımsadığın için senin işi kabul etmekten vazgeçtiğini hepimiz biliyoruz.
- D) İnsan önce kendi kusurlarını görmeli, sonra başkalarını eleştirmeye yeltenmelidir.
- E) Sanatta biçim mi içerik mi daha önemli tartışması bir türlü bitmedi, biteceğe de benzemiyor.

99. (I) Kerem, İsfahan şahının biricik oğludur. (II) Kerem'den devamlı kaçırılan Aslı, bir Ermeni keşişinin kızıdır. (III) Bir seferinde Kerem, Kayseri şehrinde keşişin izini bulur. (IV) Aslı'ya daha fazla görmek isteyen Kerem, bütün dişlerini çektirir. (V) Hikayenin sonundaysa Aslı'ya kavuşmadan ölür.

Bu parçada numaralandırılmış cümlelerin hangileri sadece özne ve yüklemden oluşmaktadır?

- A) I-II
- B) I-III
- C) II-IV
- D) III-V
- E) IV-V

100. İnsanların çoğunluğunun üzüldüğü, sıkıntı yaşadığı bir dönemde bana göre sakin olmaktan veya mutlu olmaktan söz edilemez. Aslında bu, azgın dalgalara karşı ölüm kalım savaşı veren denizciyi, kıyından zevkle izlemek gibi bir şeydir. Ben olaylara karşı huzursuzluğumdan hiçbir zaman yakınmadım. Hatta içimde azıcık sıkıntı duyarsam, kendimi birazcık da mutlu hissederim. Çünkü bu benim, olaylar karşısında duyarlı ve sorumlu biri olduğumu gösterir.

Bu parçanın yazarı için aşağıdakilerden hangisi söylenemez?

- A) Toplumsal olaylara karşı sorumluluk hissetmektedir.
- B) Sosyal duyarlılığının yüksek olmasından mutluluk duymaktadır.
- C) İnsanların acılarıyla mutlu olanlardan yakınmaktadır.
- D) İnsanların mutlu yaşamasının mümkün olmadığını söylemektedir.
- E) Başka insanların sıkıntılarını içinde hissettiği için mutlu olmaktadır.

101. Bize göre tarihin beyaz perdesinde hep erkekler başrol oynamıştır. Kadınlara düşen rol, her zaman “en iyi yardımcı oyuncu” rolü oynamak ya da o bildik tabirle sadece “her başarılı erkeğin ardında” görünmeden, bilinmeden, elinden gelen gayreti göstermek, kendi hayatını reddetmek olmuştur. Halbuki, tarih sayfalarında öyle kadınlar vardır ki onların gölgesinde bile erkekler terlemeden edemezler.

Bu parçanın anlatımı için aşağıdakilerden hangisi söylenemez?

- A) Karşılaştırmalardan yararlanılmaktadır.
- B) Kişiselleştirmeler kullanılmaktadır.
- C) İsim tamlamaları yer almaktadır.
- D) Özel bir anlatıma başvurulmaktadır.
- E) Birleşik kelimeler bulunmaktadır.

102. Geçmişin ve geleceğin muhasebesini yapmak bana göre aynı kolaylıkta değildir. Çünkü insan geçmişini en ince ayrıntısına kadar bilse de geleceği ancak tahmin edebilir. İçinden çıktığımız kapının ardında ne olduğunu biliriz de henüz açmadığımız kapının arkasını göremeyiz. Bu nedenle geçmişle yüzleşmek, gelecekle ilgili hesap yapmaktan çok daha kolaydır.

Bu parçada aşağıdaki anlatım türlerinden hangisi kullanılmıştır?

- A) Açıklayıcı-Örnekleyci
- B) Açıklayıcı- Karşılaştırmalı
- C) Örnekleyci-Betimleyici
- D) Karşılaştırmalı- Öyküleyici
- E) Öyküleyici- Betimleyici

103. (I) Okumak için her zaman vakit bulurum. (II) Bu nedenle iyi ya da kötü bir kitabı okurken vaktimin boşa gittiğini asla düşünmem. (III) Çünkü her türden kitabı okumanın gerekli olduğuna inanırım. (IV) Benim okuma zevkimi oluşturan ve geliştiren de budur. (V) Bir kitabın okumaya değer bir kitap olup olmadığı daha ilk satırdan anlaşılır. (VI) Bunun farkına varabilmek içinse iyi bir kitap okuyucusu, seçici bir okur olmak gerekir.

Bu parça iki paragrafa bölünmek istenirse ikinci paragraf numaralandırılmış cümlelerin hangisi ile başlamalıdır?

- A) II B) III C) IV
D) V E) VI

104. “Hayattaki en büyük övünç kaynağı çalışkanlığıydı.”

Bu cümle yüklemin türüne göre aşağıdaki cümlelerin hangisiyle özdeştir?

- A) Sevgi, yalnızca büyük yüreklere sığabilir.
B) Vapur düdüğü kalkışta da varışta da beni duygulandırır.
C) Evdeki çiçekleriyle, çocukları gibi ilgilenir.
D) **Bütün sıkıntıların nedeni, yüreklerin sevgiden yoksun kalmasıdır.**
E) Kim ne derse desin yalın ve anlaşılır olmalıdır sanatın dili.

105. Mizah, yaşam çatışmasının bir ürünüdür. Bu çatışmada, güçlü olan güçsüzü ezer; ama onunla alay edemez. Güçlü, yenik düşürdüğü kişiyle bir de alay ederse bu mizah olmaz. Yenik düşürdüğü kişilerle alay eden güçlüye gülünmez; ancak kızılır. Alay etmek, yenilmişlerin vazgeçilmez, dayanılmaz vasfıdır. Örneğin merdivenlerden düşen bir kişiye gülemezsiniz; bu doğru olmaz; ama düşen kişi kendi kendine gülerse bu gerçekten onun meziyetidir.

Bu parçanın anlatımı için aşağıdakilerden hangisi söylenemez?

- A) Karşılaştırmalardan yararlanılmıştır.
B) Kişisel yargılara yer verilmiştir.
C) Anlatımı somutlaştırmak için örnekleme yapılmıştır.
D) **Olaylar nedenleriyle birlikte açıklanmıştır.**
E) Konuşma havası içinde düşünceler aktarılmıştır.

106. Bir istasyonun bekleme odasını temizleyen görevli, arkasına bakınca bir yolcunun, yeni temizlediği yeri kirlettiğini görmüştü. Fakat o, görevinin gerektirdiği gibi, hiç kızmadan ve söylenmeden bekleme odasını temizlemeyi sürdürmüştü. Biz de aynı şeyi yapmalıyız...

Bu parçanın akışına göre anlatımın sonuna aşağıdakilerden hangisi getirilmelidir?

- A) Yolumuzdaki kötü duyguları bir süpürgeyle süpürür gibi sabırla temizlemeliyiz.
- B) Hayatımızdaki fazlalıklardan birer birer kurtulmalıyız.
- C) Yaşamımızda bizi yoran kişilere arkamızı dönmeliyiz.
- D) Bekleme odasında fazla kalmamaya özen göstermeliyiz.
- E) İnsanların sabırlarını ölçmek için denemeler yapmalıyız.

107. (I) Sait Faik, hikaye ya da romanın değil, ısrarla şiirin üzerinde durulması gerektiğini söyler. (II) Sait Faik Abasıyanık'a göre eserler kendine özgü bir coşkuyla dile getirilmelidir. (III) Bütün yazılar kendi melodisini seslendirmeli, insanlarda bambaşka duygular uyandırmalıdır. (IV) Öyle ki türü ne olursa olsun tüm yazılanlar bir şekilde insanın içine işlemeli, yıllarca unutulmamalıdır. (V) Sait Faik'e göre sanat eserinin gerçek başarısı işte budur!

Bu parçada numaralandırılmış cümlelerden hangisi anlatımın akışını bozmaktadır?

- A) I
- B) II
- C) III
- D) IV
- E) V

108. Ele aldıkları konuyu işleyiş bakımından ne kadar farklı olurlarsa olsunlar komedi ve dram aynı amaca hizmet eder. Bu amaç da Aristo'nun dediği gibi, insan ruhunu temizlemekten, onu iyi insan yapmaktan başka bir şey değildir. Bunu birisi gülme ve kahkaha ile yaparsa, diğeri de hıçkırık ve gözyaşı ile yapar.

Bu parçada anlatılmak istenen temel düşünce aşağıdakilerden hangisidir?

- A) Tiyatronun türlere ayrılması gereksizdir.
- B) Tiyatro, türü ne olursa olsun, insanları eğitmek için vardır.
- C) Aynı amaca hizmet eden tiyatro türlerinin konuları işleyişi farklıdır.
- D) İnsanlar ağladıkları olayları güldüklerinden daha çok hatırlarlar.
- E) Tiyatro türündeki çeşitlilik insanlarda farklı duygular uyandırır.

ALMANCA SORULARI

109.-112. sorularda boş bırakılan yerlere uygun düşen ifadeyi bulunuz.

109. _____ Erhöhung des Brutto-sozialproduktes hatten mehrere Institutionen Massnahmen zu treffen.

- A) An
- B) Statt
- C) Damit
- D) Gegen
- E) **Zur**

110. Viele Länder gaben _____ Kredite an Entwicklungsländer, die an Armut litten.

- A) mit
- B) kurze
- C) voraus
- D) **langfristige**
- E) früheren

111. Ich habe eigentlich keine Lust an diesem Projekt zu arbeiten. Dir _____ kann ich doch mitmachen.

- A) **zuliebe**
- B) zugehörig
- C) dank
- D) undankbar
- E) vornehmlich

112. _____ seit geraumer Zeit kein Geburtenrückgang in Deutschen gewesen, so _____ jetzt mehr Deutsche gelebt.

- A) hätte /hätten
- B) **wäre /hätten**
- C) wären /hätten
- D) sei /wären
- E) hätten /wären

113. **Personalchef:** Haben Sie das Formular unterschrieben?

Bewerber: Nein, noch nicht; wo denn?

Personalchef: Dort unten rechts. Ohne Unterschrift ist Ihr Antrag ungültig.

Bewerber: _____.

Personalchef: Die gehen einfach davon aus, dass die Leute selbst so schlau sind.

Verilen diyalogda boş bırakılan yere uygun düşen ifade aşağıdakilerden hangisidir?

- A) Woher wissen Sie das?
- B) Wie konnte ich das nur vergessen!
- C) **Aber so etwas muss einem doch gesagt werden!**
- D) Was soll ich nur ohne dich machen?
- E) Das heisst, ich werde nicht zur Prüfung zugelassen?

114. ve 115. sorularda verilen cümleye anlamca en yakın ifadeyi bulunuz.

114. Die Ergebnisse der langjährigen Forschung werden innerhalb eines Monats seitens der Forscher auf einer Pressekonferenz bekannt gegeben.

- A) Die Ergebnisse der langjährigen Forschung werden auf einer Pressekonferenz bekanntgegeben.
- B) **Die Forscher geben die Ergebnisse der langjährigen Forschung binnen eines Monats auf einer Pressekonferenz bekannt.**
- C) Die Forscher werden die Ergebnisse der Untersuchung nicht veröffentlichen.
- D) Der Forscher will seine Forschung nächstes Jahr beenden, danach will er sie auf einer Pressekonferenz bekanntgeben.
- E) Die Forscher werden die Ergebnisse der Untersuchung nicht veröffentlichen.

115. Angesichts der Unterschlag des Geldes in seiner Firma durch seinen zuverlässigsten Mitarbeiter bekam der Direktor einen Herzinfarkt.

- A) Der Freund bekam einen Herzinfarkt, weil der zuverlässige Direktor Geld von der Firma untergeschlagen hatte.
- B) Angesichts der Unterschlagung des Geldes in der Firma bekam der Mitarbeiter einen Herzinfarkt.
- C) Aufgrund der Unterschlagung des Firmengeldes durch seinen zuverlässigsten Freund bekam der Mitarbeiter einen Herzinfarkt.
- D) Der Direktor bekam einen Herzinfarkt, weil sein Mitarbeiter Geld unterschlagen hatte.
- E) Der Direktor bekam einen Herzinfarkt, weil sein zuverlässigster Mitarbeiter Geld von seiner Firma unterschlagen hatte.

116. “Bizim müdür her şeye boş verdiğinden büro öyle bir hale geldi ki, ne giren belli ne çıkan.” cümlesinin Almanca dengi aşağıdakilerden hangisidir?

- A) Da unserem Direktor alles so gleichgültig ist, geht es in unserem Büro wie ein Taubenschlag.
- B) Wenn unser Direktor gegen alles so gleichgültig ist, ist das Büro wie ein Taubenschlag.
- C) Als unser Direktor gegen alles so gleichgültig war, wurde das Büro wie ein Taubenschlag.
- D) Zumal unser Direktor gegen alles so gleichgültig war, war das Büro wie ein Taubenschlag.
- E) Als unser Direktor gegen alles so gleichgültig war, war das Büro wie ein Taubenschlag.

117. “Nur wer die Nacht als Zeit der Ruhe und der Regeneration voll ausnutzen kann, startet fit in den neuen Tag und ist belastbar für die Anforderungen des Alltags.” cümlesinin Türkçe dengi aşağıdakilerden hangisidir?

- A) Yeni güne dinç başlamak ve günün zorluklarına hazır olmak için geceyi dinlenme ve yenilenme zamanı olarak tam değerlendirmek gereklidir.
- B) Geceyi dinlenme ve günün zorluklarına tam olarak hazır olmak için iyi değerlendirmek ve dinç olmak gereklidir.
- C) Geceyi sadece dinlenme ve yenilenme zamanı olarak tam değerlendirebilen, yeni güne dinç başlar ve günün zorluklarına hazırdır.
- D) Kim geceyi dinlenme ve yenilenme zamanı olarak iyi değerlendirirse güne dinç başlar ve günün zorluklarına hazırdır.
- E) Yeni güne dinç başlamak ve günün zorluklarına tam olarak hazır olmak için geceyi dinlenme ve yenilenme zamanı olarak iyi değerlendirmeliyiz.

118.-120. soruları aşağıdaki metne göre cevaplandırınız.

Die Katastrophe, das ist das langsame Ansteigen sogenannter Spurengase in der Atmosphäre und die daraus resultierende, unaufhaltsame Erwärmung der Welt. Die Folgen sollen dramatisch werden: Die Polkappen schmelzen, die Meere steigen, Küstennähe Städte und tiefliegende Länder wie Bangladesch versinken in den Fluten. Die Sonne wird erbarmungslos auf uns niederbrennen, die Wüsten wachsen – und was nicht durch Dürre und Flut vernichtet wird, fällt Wirbelstürmen von ungekannter Heftigkeit zum Opfer. Genaues weiss aber anscheinend niemand. Und wer sich für Einzelheiten interessiert, den erwartet anstatt der Klima – erstmal eine Verständniskatastrophe.

118. Die Spurengase in der Atmosphäre verursachen eine Erwärmung auf der Welt und dadurch _____ .

- A) ist die Wüste durch Fluten vernichtet.
- B) interessieren sich manche für Einzelheiten.
- C) liegt Bangladesch an der Küste.
- D) schmelzen tiefliegende Länder.
- E) **kommen viele Katastrophen vor.**

119. Durch die Erwärmung der Welt _____ .

- A) wird die Sonne harmlos.
- B) **versinken tiefliegende Länder und Städte.**
- C) interessieren sich Menschen für Wüsten.
- D) werden Wirbelstürme zum Opfer.
- E) fliegen Spurengase in die Atmosphäre.

120. Die Folgen _____ .

- A) schmelzen die Sonne.
- B) wachsen in der Wüste.
- C) sind in Bangladesch spürbar.
- D) **werden durch Dürre und Flut vernichtet.**
- E) verschmelzen die Polkappen und der Meeresspiegel steigt.

**TEST BİTTİ CEVAPLARINIZI
KONTROL EDİNİZ.**

SINAVDA UYGULANACAK KURALLAR

1. Sınav süresince görevlilerle konuşmak ve soru sormak yasaktır. Aynı şekilde görevlilerin de adaylarla yakından ve alçak sesle konuşmaları yasaktır.
2. Yanınızda ve sıranızda dersle ilgili kitap, not vb. bulundurmanız yasaktır. Sınav sırasında kopya yapan, yapmaya teşebbüs eden, kopya veren, kopya yapılmasına yardım edenlerin kimlikleri, sınav görevlilerince BİREYSEL SINAV İPTAL TUTANAĞINA yazılacak ve bu adayların sınavları geçersiz sayılacaktır. Görevliler kopya yapmaya veya vermeye kalkışanları uyarmak zorunda değildir; sorumluluk size aittir.
3. Adaylar sınav sırasında görevlilerin her türlü uyarılarına uymak zorundadır. Gerektiğinde görevliler oturduğunuz yerleri değiştirebilir. Sınavınızın geçerli sayılması, her şeyden önce sınav kurallarına uymanıza bağlıdır.
4. Sınav sırasında herhangi bir nedenle dışarı çıkmak yasaktır. Sınavın başlamasını izleyen ilk 30 dakikası içerisinde ve sınav süresinin son 5 dakikasında, sınavlarını tamamlasalar dahi, öğrencilerin salondan çıkmasına izin verilmez. Sınavın başlamasını izleyen ilk 15 dakika geçtikten sonra hiçbir aday sınava alınmaz.
5. Cevaplamaya geçmeden önce size verilecek soru kitapçığının üzerinde ayrılan yerlere adınız ve soyadınız ile aday, salon ve sıra numaralarınızı mutlaka yazınız. Sınav sonunda soru kitapçıkları toplanacak ve sınav merkezinde tek tek incelenecektir. Soru kitapçığının bir tek sayfası dahi eksik çıkarsa o oturumdaki sınavınız geçersiz sayılacaktır.
6. Cevap kâğıdına yazılacak her türlü yazı, rakam ve yapılacak işaretlemeler için koyu siyah kurşun kalem kullanılacaktır. Tükenmez kalem veya dolmakalem kesinlikle kullanılmayacaktır. CEVAPLARIN TÜMÜ CEVAP KÂĞIDINA İŞARETLENECEKTİR. Soru Kitapçıkları üzerine yapılan işaretlemeler kesinlikle değerlendirilmez.
7. Soru kitapçığının sayfalarındaki boş yerleri müsvedde yapmak için kullanabilirsiniz. Başka bir kâğıdı müsvedde olarak kullanmak yasaktır.
8. Adayların soruları ve/veya sorulara verdikleri yanıtları herhangi bir yere yazmaları ve bunu sınav salonundan dışarıya çıkarmaları yasaktır.
9. Sınav sırasında adayların birbirinden kalem, silgi vb. şeyleri istemesi kesinlikle yasaktır.
10. Adaylar sınava gelirken telsiz, cep telefonu, çağrı cihazı vb. iletişim araçları ile görüntü kaydetmeye yarayan fotoğraf makinesi, kamera vb. araçları getirmemeleri gerekmektedir. Yanlarında bu tür cihazları bulunanların, bunları sınav sonrasında almak üzere salon başkanına teslim etmeleri gerekir.
11. Sınavınız bittiğinde, cevap kâğıdınızı ve soru kitapçığınızı salon görevlilerine şahsen teslim ediniz. Teslim etmediğiniz evrak nedeniyle o oturumdaki sınavınız geçersiz sayılacak ve hakkınızda yasal işlem yapılacaktır.

SINAVINIZDA BAŞARILAR DİLERİZ.