

Bu testte 30 soru vardır.

1. Bazı şeyleri büyüyünce anlıyor insan. Tecrübe edinince, yaşanmışlıklar karşısına dikilince... Ve belki de evlenince anlıyor insan evliliğin büyük bir denge işi olduğunu. Ve bu dengeyi sağlamak için terazinin bir kefesine daima dilimizi koymamız gerektiğini.

Bu parçada geçen "terazinin bir kefesine daima dili koymak" sözüyle anlatılmak istenen aşağıdakilerden hangisidir?

- A) Herkese karşı açık yürekli olma
B) Konuşurken anlayışlı olma
C) Sözü etkili kullanma
D) Sözü ölçüp biçtikten sonra kullanma
E) Duyguları baskın çıkarmama

2. Bütün yazılarını tekrar okuduğumda, yazılarının ayrıntılarına indiğimde yazar hakkında şu sonuca vardım: "O, her iyi sanatçı gibi vardığı noktayı sabit bir yaza durağı saymamıştır." Onun için yazarın eserlerini toplu okumayı sizlere öneriyorum.

Bu parçadaki altı çizili sözle anlatılmak istenen aşağıdakilerden hangisidir?

- A) Yazdığı yazıları beğenmekte güçlük yaşama
B) Kendini sürekli geliştirmeye çalışma
C) Belli bir türde yoğunlaşmama
D) Farklı sözcükleri yazılarına kazandırma
E) Sanatını başkalarının etkisiyle yapmama

3. (I) İlk romanı "Kıyıda"dan sonra ikinci bir romanla suskunluğunu bozan Doğan Yarıcı, eserleri arasına koyduğu uzun aralıklarla bilinir. (II) Çok yazan ama nitelikli yazan bir yazardır o. (III) Dilde sadeliğe ve yeniliğe önem veren yazar dili eğip bükerek yeniden kurar. (IV) Son romanı "O Boşluk"ta tam bir dil işçiliği gerçekleştirilmedi de okurlar etkileyici bir anlatıma tanık oluyor. (V) Eser hem etkileyici hem de zorlu bir roman olmasıyla okurlar tarafından beğenildi.

Bu parçadaki numaralanmış cümlelerin hangisinde hem olumlu hem de olumsuz bir eleştiri söz konusudur?

- A) I B) II C) III D) IV E) V

4. (I) Göl suyu cam gibi berraktır. (II) Hava rüzgarsızsa zemin görülebilir. (III) En başta dikkati çeken bir unsur da suda da karadaki gibi çok hareketli ve hızlı olan su aygırlarıdır. (IV) Su aygırları her yıl, balık bakımından zengin olan gölde yeterli besini bulan timsahlardan daha fazla sayıda insanı öldürmektedir. (V) Ancak yine de göl kıyılarında balık tutmak isteyen insanları görmek hiç de zor değil.

Bu parçadaki numaralanmış cümlelerle ilgili olarak aşağıda verilenlerden hangisi yanlıştır?

- A) I. cümlede benzetme yapılmıştır.
B) II. cümlede koşula bağlı bir olasılık dile getirilmiştir.
C) III. cümlede canlılarla ilgili bir olumsuzluğa değinilmiştir.
D) IV. cümlede karşılaştırma yapılmıştır.
E) V. cümlede sıkça rastlanan bir durumdan söz edilmiştir.

5. (I) Ataları ağaçlarda yaşayan babunlar, günümüzde yerde yaşayan ve dört ayak üstünde yürüyen hayvanlara dönüşmüştür. (II) Babunlara savanalarda, çöllerde ve Afrika'nın güneyinde kalan seyrek ağaçlı orman bölgelerinde rastlanır. (III) Babunlar toprakta buldukları tohum, yumrukök, ot ve böceklerle beslendiklerinden kendilerini avlamak isteyen hayvanlarla her an karşılaşma tehlikesi içindedir. (IV) Bu yüzden babun sürüleri genellikle impalar gibi toynaklı memelilerden destek alır, düşman gelirken ayaklarını yere vurarak onların uyarıda bulunmalarından yararlanır. (V) Dişileri genellikle kahverengi, erkekleriyse boz olan babunlar 25-30 sayılık sürüler halinde, son derece örgütlü bir topluluk düzeninde yaşar.

Babunların anlatıldığı bu parçadaki numaralanmış cümlelerle ilgili olarak aşağıda verilenlerden hangisi yanlıştır?

- A) I. cümlede yaşamlarındaki değişim anlatılmıştır.
B) II. cümlede yaşam alanları sayılmıştır.
C) III. cümlede bir durum nedeniyle verilmiştir.
D) IV. cümlede bir iş birliğinden bahsedilmiştir.
E) V. cümlede diğer hayvanlarla ortak yönleri belirtilmiştir.

6. (I) 1980'li yılların şiiri üzerine yazı yazarların ortak paydası birbirinden farklı çok sayıda eğilimi ortaya çıkarmalarıdır. (II) Hatta bazı şairler, Batı'da o gün varlığını sürdüren Batı geleneğinin takipçileri olmuştur. (III) Konuya bu kadar genel başlamamızın nedeni yazımızın konusu olan Mehmet Müfit şiirinin bu geniş eğilimlere boyun eğmeyen nadir şiirlerden biri olmasındandır. (IV) Gerçi, Müfit'in şiirini farklı nesneliklerden dolayı bazı şairlerin şiirleriyle yakın akraba sananlar oldu. (V) Bu şairler de metropol kültürünün dışlanmış kesimleriyle ilgili şiirler yazmıştı.

Bu parçada numaralanmış cümlelerin hangisinde anlatım bozukluğu vardır?

- A) I B) II C) III D) IV E) V

7. Fikirlerin doğruluğu, tutarlı oluşu önemlidir. Ancak bir fikir ne kadar doğru ve tutarlı olursa olsun zaman onu eskitecektir. Birçok düşünürün kitabı bugün hâlâ okunmaktadır. O kitaplar birçok insana örnek ve kaynak olmaktadır. Çünkü o kitaplarda anlatılanlar doğruluk ve tutarlılıklarından değil, anlatım biçimlerindeki güzelliklerinden okunmaktadır.

Bu parçada asıl anlatılmak istenen aşağıdakilerden hangisidir?

- A) Birçok yazar günümüzde bile beğenilerek okunmaktadır.
B) Beğenilirliğini yitirmiş olan düşünceler insanlığa fayda sağlamaz.
C) Toplumun durumunu yıllar öncesinden görebilen sanatçı kalıcı olur.
D) Düşüncelerin kalıcı olması onların üslubuyla ilgilidir.
E) Düşüncenin eski olması, onun insanları etkilemeyeceği anlamına gelmez.

8. Zaman acımasız bir kavramdır. İnsanları her geçen dakika biraz daha eskitir. İnsanların ömrünü yavaş yavaş azalttığı gibi insanların büyük zorluklarla meydana getirdiği meslekleri de eskitir. Örneğin kalaycılık. Eskiden her yerde görebileceğimiz kalaycıları şimdi mumla arıyoruz. Bunu yapmak zamanın doğasında var.

Bu parçadan aşağıdakilerden hangisinden söz edilmemiştir?

- A) Zamanla bazı mesleklerin öneminin kaybolduğundan
B) İnsanları ve onların ürünlerini zamanın eskitemesinin doğal olduğundan
C) Bazı mesleklerin yeniliklere ayak uyduramadığından
D) Zamanın insan ömrünü yavaş yavaş bitirdiğinden
E) Zamanın insanlara acımayan bir olgu olduğundan

9. Eğitim sistemimiz ne yazık ki çocuklarımıza okuma alışkanlığı kazandıramadı. Öğrenciler bırakın dünya sorunlarıyla ilgilenmeyi bizzat kendi sorunlarıyla bile ilgilenmiyor. Sorumsuzluk son noktaya gelmiş durumda. Niteliksiz, bencil ve her an tüketime hazır olan bir gençlik ülkemiz için ciddi bir tehlike. Durum bu iken eğitim sistemimizin yeniden sorgulanması ve gözden geçirilmesi şart.

Bu parçadan aşağıdakilerden hangisi çıkarılamaz?

- A) Eğitim sistemimizde bazı sıkıntıların olduğu
B) Öğrencilerin çoğu şeye ilgisiz kaldığı
C) Başka kültürlerin etkisiyle gençliğimizin kendi kültürünü tanıyamadığı
D) Bencil ve sürekli tüketen bir gençliğin gelecek için tehlikeli bir durum oluşturduğu
E) Eğitim sistemindeki eksikliklerin tespit edilmesi ve bunların üzerine gidilmesi gerektiği

10. Şairin şiiri ile hayatı arasında bir uyum olmalıdır. Bu uyumu ben göremediğim zaman şaire olan güvenim sarsılıyor. Söyledikleriyle yaptıkları arasında uyum olmayan şairlerin tutarlı bir sanat oluşturabileceklerine inanmıyorum. Bazı eleştirmenler ise ----

Bu parçada boş bırakılan yere parçanın anlam akışına göre aşağıdakilerden hangisi getirilmelidir?

- A) insanların onurlu bir yaşam sürmesi gerektiğini düşünürler.
B) sanatçının sanatıyla yaşamının birbirinden ayrı tutulması gerektiğine inanırlar.
C) her edebi eserde yazarın çocukluğuna ait izler ararlar.
D) toplumun değer yargılarının yaşamı etkilediğini düşünüyorlar.
E) sanat kalitesinin artması için gerekenlerin yapılmadığından şikâyetçiler.

11. (I) Şair, şiir konusuna çok hassas yaklaşmıştır. (II) Şiirin çok değerli olduğunu, sıradan bir tür olmadığını düşünmüştür. (III) Şiirin toplumu eğitime gibi bir sorumluluğu vardır. (IV) Yazdığı bütün dizeleri bir kuyumcu titizliğiyle işlemiştir. (V) Bu çabası uzun süreli, bazen aylar süren çalışmaları beraberinde getirmiştir.

Bu parçada numaralanmış cümlelerden hangisi düşüncenin akışını bozmaktadır?

- A) I B) II C) III D) IV E) V

12. Hayır, doğrusu hayalim bu değil. Eski usül dergicilik bana heyecan verici gelmiyor artık. Şimdi bir televizyon programı hayal ediyorum. Henüz bir girişimim olmadı ama nefes alabildiğim ilk arada bunun için bir şeyler yapmayı deneyeceğim.

Bu parça aşağıdaki sorulardan hangisine yanıt olarak söylenmiştir?

- A) Sanatçı olarak neleri anlatmayı seversiniz?
 B) Eserlerinizin özellikle eğildiği bir konu var mı?
 C) Neden bu zamana kadar dergi çıkarmadınız?
 D) İlk eserinizi hangi duygular içerisinde yazdınız?
 E) Basılı olarak okur karşısına çıkmayı düşünüyor musunuz?

13. Bir aralık günü, kış ellerini uzatmış geldiğini haber verirken adımlarım kendine özgü ve kalabalıkta duyulmayan sesiyle yavaş çekim yol alıyor. Louis Salvator'un yazdığı kadar varmış. Arabahmet Camisi Lefkoşa'nın en güzel camilerinden biri. O zamanlar Arabahmet Bölgesi Türklerin yoğun olarak yaşadığı bir yerd, özellikle de yönetimde, toplumda önemli yeri olan kişilerin. Caminin avlusunda ince uzun işlemeli taşlar, lahitler ve yüz yılı aşkın süredir bu beyaz taşların altında yatan paşalar, efendiler, hanımlar...

Bu parçanın anlatımıyla ilgili aşağıda söylenenlerden hangisi yanlıştır?

- A) Tanık göstermeye başvurulmuştur.
 B) Karşılaştırma yapılmıştır.
 C) Kişileştirme yapılmıştır.
 D) Eksiltili cümle kullanılmıştır.
 E) Niteleyici ifadelere yer verilmiştir.

14. - 15. soruları aşağıdaki bilgilere göre cevaplayınız.

Bir alışveriş mağazasının otoparkında bir bölümde dokuz araçlık numaralanmış park yeri vardır. Numaralanmış park yerlerinde üçü mavi, üçü beyaz, üçü siyah araç park etmiştir. Araçların renkleriyle ilgili aşağıdaki bilgiler verilmiştir.

- Siyah araçların hepsi tek sayıların yazıldığı yerlerdedir.
- 3 numaralı park yerinde beyaz araç durmaktadır.
- 1 ve 6 numaralı park yerlerinde aynı renkte araçlar durmaktadır.

14. Bu bilgilere göre numaralı park yerlerindeki kaç aracın rengi **kesin olarak** bilinmektedir?

- A) 3 B) 4 C) 5 D) 6 E) 7

15. Bu bilgilere göre aşağıdakilerin hangisi **kesinlikle** doğrudur?

- A) 1 ve 8 numaralı park yerindeki araçlar aynı renktedir.
 B) 2 numaralı park yerindeki araç mavidir.
 C) 4 ve 6 numaralı yerlerdeki araçlar farklı renktedir.
 D) 5 numaralı park yerindeki aracın rengi siyahtır.
 E) 4 ve 8 numaralı park yerindeki araçlar aynı renktedir.

16. $\frac{3,5}{1,75} + \frac{0,68}{0,17} \cdot \frac{9}{0,18}$

işleminin sonucu kaçtır?

- A) 300 B) 222 C) 202
 D) 112 E) 56

17. $\left[\left(\frac{a^2}{b} - b \right) : \left(\frac{b}{a} + 1 \right) \right] \cdot \frac{b}{a}$

ifadesinin en sade şekli aşağıdakilerden hangisidir?

- A) a - b B) a + b C) b - a
 D) -a - b E) -1

18. $\frac{x+1}{y} = \frac{z-1}{x}$
 $\frac{x}{z-5} = \frac{y+7}{x+1}$

olduğuna göre, $7z - 4y$ ifadesinin değeri kaçtır?

- A) 42 B) 35 C) 32 D) 28 E) 21

19. a, b, c sayıları sırası ile 2, 3 ve 5 ile orantılıdır.

$2a + c - b = 24$ olduğuna göre a + b + c toplamı kaçtır?

- A) 70 B) 60 C) 50 D) 40 E) 30

20. a ve b birer tam sayı olmak üzere,

$$2a + 5b = 35$$

eşitliğini sağlayan a ve b sayıları için,

- I. a çift sayıdır.
 II. b tek sayıdır.
 III. b sayısı a'dan büyüktür.
 IV. a ve b pozitifdir.

ifadelerinden hangisi daima doğrudur?

- A) Yalnız I B) Yalnız II C) I ve III
 D) II ve IV E) II, III ve IV

21. $|2x - 15| = 15 - 2x$

eşitliğini sağlayan doğal sayıların toplamı kaçtır?

- A) 18 B) 21 C) 24 D) 26 E) 28

22. Bir su deposunun $\frac{8}{15}$ 'i su ile doludur. Depoya 26 litre su kalsa idi deponun $\frac{3}{4}$ 'ü dolmuş olacaktı.

Buna göre, deponun tamamı kaç litre su alır?

- A) 120 B) 130 C) 140
 D) 150 E) 160

23. Ersan bir işi 8 günde, Caner aynı işi 16 günde yapmaktadır. İkisi işe başladıktan 4 gün sonra Ersan işten ayrılıyor.

Kalan işi Caner'in 1 günde yapabilmesi için çalışma hızını kaç katına çıkarması gerekir?

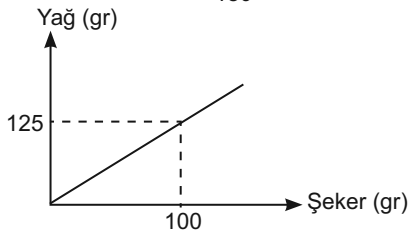
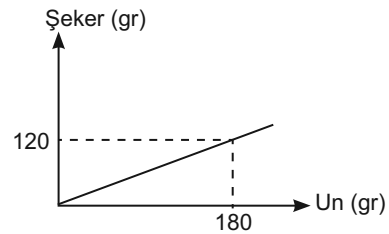
- A) 3 B) $\frac{7}{2}$ C) 4 D) $\frac{9}{2}$ E) 5

24. Bir dalgıcın dalış tüpünde su içinde 65 dakika kalmasını sağlayacak oksijen vardır. Dalgıç su dibine dakikada 20 metre ile dalabilmekte, su yüzeyine dakikada 32 metre ile çıkabilmektedir.

Buna göre, dalgıcın tehlike yaşamadan dalabileceği mesafe en çok kaç metredir?

- A) 820 B) 800 C) 780
 D) 750 E) 720

25. Aşağıdaki doğrusal grafiklerde helva yapımı için kullanılan un, yağ ve şeker miktarları gösterilmiştir.



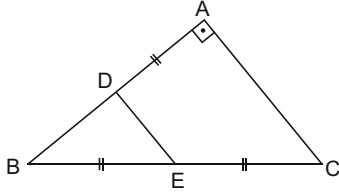
Buna göre 1,5 kg yağ kullanılarak yapılan helvada kaç kg un kullanılır?

- A) 1,6 B) 1,8 C) 2 D) 2,1 E) 2,2

26. Bir boyacı biri 4 katlı, biri 2 katlı iki binayı, 6 farklı renkle her katı farklı renkte olacak şekilde kaç biçimde boyayabilir?

A) 560 B) 600 C) 640
D) 680 E) 720

27.

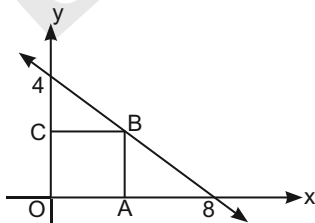


ABC bir üçgen
[BA] \perp [CA]
|AD| = |BE| = |EC|
 $m(\widehat{EDA}) = 78^\circ$

Yukarıdaki verilene göre, $m(\widehat{ACB})$ kaç derecedir?

A) 70 B) 68 C) 66 D) 64 E) 62

28.



Dik koordinat düzleminde OABC bir karedir.

Buna göre, OABC karesinin alanı kaç birim karedir?

A) $\frac{16}{9}$ B) $\frac{25}{9}$ C) $\frac{36}{9}$ D) $\frac{49}{9}$ E) $\frac{64}{9}$


29. Bir pastanede oturan Öykü, Kaan ve Şeyma'nın; sütlaç, kazandibi, keşkül tatlılarından hangisini yediği ile ilgili aşağıdakiler bilinmektedir.

- Her bir kişi bu tatlılardan yalnızca birini yemiştir.
- Öykü sütlaç yememiştir.
- Kaan ne sütlaç ne de kazandibi yemiştir.

Buna göre, Öykü, Kaan ve Şeyma'nın yediği tatlılar aşağıdakilerden hangisinde doğru olarak verilmiştir?

Öykü	Kaan	Şeyma
A) Kazandibi	Keşkül	Sütlaç
B) Kazandibi	Sütlaç	Keşkül
C) Keşkül	Sütlaç	Kazandibi
D) Keşkül	Kazandibi	Sütlaç
E) Sütlaç	Keşkül	Kazandibi

30.



Yukarıda aynı yol üzerinde verilen K, L, M, N şehirlerinin sıralanışı, aşağıdaki tabloda ise bu şehirler arasındaki uzaklıklar verilmiştir.

K			
	L		
90		M	
	72	40	N

Örneğin;

K ile M'nin kesişimi 90 olduğundan aralarındaki mesafe 90 km'dir.

Buna göre, tablonun boş kısımları aşağıdakilerden hangisi gibi olmalıdır?

A)	58			
		40		
	130			
B)	58			
		32		
	130			
C)	40			
		32		
	120			
D)	40			
		38		
	120			
E)	58			
		40		
	130			

Bu testte 30 soru vardır.

1. Aşağıdakilerden hangisi İslamiyet Öncesi Türk devletlerinin hukuk sistemiyle ilgili doğru bir bilgi değildir?

- A) Siyasi ve sosyal hayatı düzenleyen hukuk kurallarının bütününe töre denilmiştir.
- B) Yöneten ve yönetilen herkes töreye uymak zorundaydı.
- C) Türk hukuku ilk kez Uygurlar tarafından yazılı hâle getirilmiştir.
- D) Yarı göçebe yaşam tarzı hapis cezalarının kısa süreli olmasında etkili olmuştur.
- E) Örfî davalara Emir-i Dad bakardı.

2. Anadolu Selçuklu Devleti ve Beylikler Dönemi'yle ilgili verilen aşağıdaki yazar - eser eşleştirmelerinden hangisi yanlıştır?

Yazar	Eser
A) Yunus Emre	Risaletü'n Nushiye
B) Mevlana	İskendername
C) Germiyanlı Ahmedî	Cemşid ü Hurşid
D) Aşık Paşa	Garipname
E) Hoca Dehhânî	Selçuklu Şehnamesi

3. Osmanlı Devleti'yle ilgili aşağıdaki bilgilerden hangisi doğru değildir?

- A) Osmanlı Devleti'nin Anadolu'ya egemen olmaya çalışmasına karşı en çok direnen beylik Karmanoğullarıdır.
- B) Osmanlı Devleti'nde II. Mehmet Dönemi'nde Venediklilere imtiyaz verilmiştir.
- C) Osmanlı Devleti'nin yıkılma tehlikesi geçirmesine ve Anadolu'da Türk birliğinin tekrar bozulmasına yol açan savaş Köseadağ Savaşı'dır.
- D) Osmanlı Devleti, Ferhat Paşa Antlaşması'yla doğuda; Bucaş Antlaşması'yla da batıda en geniş sınırlarına ulaşmıştır.
- E) Osmanlılar Oğuzların Bozok kolunun Kayı boyuna mensuplardır.

4. Osmanlı Devleti'nde;

- I. arpalık,
- II. çiftbozan,
- III. liva

kavramlarından hangileri vergi türüdür?

- A) Yalnız I
- B) Yalnız II
- C) Yalnız III
- D) I ve II
- E) I ve III

5. Paris Barış Konferansı'nda İzmir'in Yunanlılar tarafından işgal edilmesi kararı alınmıştır. Yunanlılar 15 Mayıs 1919'da İzmir'i işgal etmiştir.

İzmir'in Yunanlılar tarafından işgaline başlanması üzerine Yunanlılara karşı ilk kurşunu atan Hasan Tahsin (Osman Recep Nevres) aşağıdaki gazetelerden hangisinin baş yazarlığını yapmıştır?

- A) Köylü
- B) İradeimilliye
- C) Hakimiyetimilliye
- D) Minber
- E) Hukukubeşer

6. Millî Mücadele Hazırlık Dönemi'nde aşağıdakilerden hangisinde azınlıklarla ilgili bir madde yer almamıştır?

- A) Amasya Görüşmeleri
- B) Amasya Genelgesi
- C) Erzurum Kongresi
- D) Sivas Kongresi
- E) Misakımillî

7. Kurtuluş Savaşı Dönemi'nde imzalanan;

- I. Gümrü,
- II. Moskova,
- III. Mudanya

anlaşmalarından hangileri cephe savaşlarını bitirici özellik taşır?

- A) Yalnız I
- B) Yalnız III
- C) I ve III
- D) II ve III
- E) I, II ve III

8.

- I. Hatay'ın anavatana katılması
- II. Türkiye-İrak sınırının çizilmesi
- III. Kapitülasyonların kaldırılması

Yukarıdakilerden hangileri 24 Temmuz 1923'te imzalanan Lozan Antlaşması'nın kapsamındadır?

- A) Yalnız I
- B) Yalnız II
- C) Yalnız III
- D) II ve III
- E) I, II ve III

9. **Aşağıdakilerden hangisi Cumhuriyet Dönemi'nde millî iradeyi pekiştirici bir özellik taşımaz?**

- A) Halifeliğin kaldırılması
- B) Öğretim Birliği Kanunu'nun çıkarılması
- C) Kadınlara siyasi hakların verilmesi
- D) 1924 Anayasası'nın kabul edilmesi
- E) Seçmen yaşının düşürülmesi

10. **Kurtuluş Savaşı Dönemi'nde;**

- I. General Harbord,
- II. Amiral Bristol,
- III. General Milne

kişilerinden hangileri Türk ve Yunan askerî güçleri arasında bir hat çizilmesini önermiştir?

- A) Yalnız I
- B) Yalnız II
- C) Yalnız III
- D) II ve III
- E) I, II ve III

11. **Aşağıdakilerden hangisi doğru bir bilgi değildir?**

- A) 19 Nisan 1925'te 29 Ekim'in Cumhuriyet Bayramı olarak kutlanması kabul edilmiştir.
- B) 24 Kasım 1981'den itibaren 24 Kasım'ın Öğretmenler Günü olarak kutlanması kabul edilmiştir.
- C) Çift dereceli seçim sisteminden tek dereceli seçim sistemine geçilmesi Atatürk Dönemi'ndedir.
- D) Ahali Cumhuriyet Partisi Atatürk Dönemi'nde kurulmuştur.
- E) II. Beş Yıllık Sanayi Planı II. Dünya Savaşı sebebiyle uygulanamamıştır.

12. **Sosyal alanda yaşanan ikiliklerin giderilmesi amacıyla;**

- I. metre ve kilogramın kabulü,
- II. saltanatın kaldırılması,
- III. miladi takvimin kabulü

inkılaplarından hangileri gerçekleştirilmiştir?

- A) Yalnız I
- B) Yalnız II
- C) Yalnız III
- D) I ve III
- E) II ve III

13. **Aşağıdakilerden hangisi 1950-1960 yılları arasındaki Türkiye'si için doğru bir bilgi değildir?**

- A) Kore'ye asker yollamıştır.
- B) NATO'ya üye olmuştur.
- C) Bağdat Paktına katılmıştır.
- D) Balkan Paktına katılmıştır.
- E) Varşova Paktına katılmıştır.

14. **Türkiye'nin matematik konumunun aşağıda verilenlerden hangisi üzerinde etkili olduğu söylenemez?**

- A) Batıdan doğuya doğru gidildikçe yerel saatin ileri olması
- B) Güneyden kuzeye doğru gidildikçe ışın tutulmasının artması
- C) Kuzeyden güneye doğru gidildikçe gölge boyunun kısalması
- D) Batıdan doğuya doğru gidildikçe sıcaklık ortalamalarının azalması
- E) Güneyden kuzeye doğru gidildikçe alacakaranlık süresinin uzaması

15. Üç tarafı denizlerle çevrili olan Anadolu'nun kıyı şekilleri farklılık gösterir. Batı Anadolu'da kıyı girinti çıkıntısı fazla iken Karadeniz ve Akdeniz kıyılarında girinti çıkıntı azdır.

Aşağıda verilenlerden hangisi bu farklılık üzerinde öncelikli etkiye sahiptir?

- A) Kıyı gerisindeki dağların oluşum şekli
- B) Denizlerimizdeki dalga ve akıntılarının farklılığı
- C) Denizlerimize dökülen akarsu sayılarının farklı olması
- D) Dağların kıyı çizgisine uzanışının farklı olması
- E) Kıyılarda görülen iklim koşullarının farklı olması

16. Aşağıda ülkemizde yer alan bazı göllerin isimleri gruplandırılarak gösterilmiştir.

- Eber, Akşehir, Tuz Gölü
- Salda, Suğla, Avlan Gölü
- Altınkaya, Hirfanlı, Berke Gölü
- Mogan, Bafa, Marmara Gölü

Aşağıda verilen göl oluşumlarından hangisine ait örnek grubu yukarıda verilmemiştir?

- A) Yapay set
- B) Karstik
- C) Alüvyal set
- D) Tektonik
- E) Heyelan set

17. Türkiye'nin ekonomisi gelişen bir ülke olduğunu aşağıda verilenlerden hangisi kanıtlamaz?

- A) Dış ticaret açığının azalması
- B) Sanayi malları ihracatının artması
- C) Ham madde ithalatının artması
- D) Nüfus yoğunluğunun artması
- E) Enerji tüketiminin artması

18. Türkiye'de elektrik enerjisi üretiminde hidrolik üretimi ile en fazla katkı sağlayan akarsu aşağıdakilerden hangisidir?

- A) Kızılırmak
- B) Çoruh
- C) Fırat
- D) Sakarya
- E) Ceyhan

19. Medeni Kanun'a göre kişinin hak ehliyeti ne zaman başlamaktadır?

- A) Fiil ehliyetinin başlangıcıyla birlikte
- B) Reşit olmakla birlikte
- C) Mahkeme kararı ile birlikte
- D) Tam ve sağ doğmak koşulu ile cenin halinden itibaren
- E) Tam ve sağ doğum ile birlikte

20. Bir kimsenin bir hukuk kuralına aykırı davranması sonucunda ortaya çıkan zararın ödenmesi yükümlülüğüne ne ad verilmektedir?

- A) Butlan
- B) Ceza
- C) Tek taraflı bağlamazlık
- D) Cebri icra
- E) Tazminat

21. Aşağıdakilerden hangisi 1982 Anayasası'nın 4. maddesine göre değiştirilemez ve değiştirilmesi teklif edilemez kısımları içerisinde yer almamıştır?

- A) Devlet'in dilinin Türkçe olması
- B) Devlet'in Cumhuriyet olması
- C) Başkentini Ankara olması
- D) Bayrağın şeklinin yanında belirtilen beyaz ay yıldızlı bayrak olması
- E) Latin harflerinden oluşan Türk alfabesinin kullanılacağı

22. Genelkurmay Başkanı aşağıdakilerden hangisinin teklifi üzerine atanmaktadır?

- A) Başbakan
- B) Cumhurbaşkanı
- C) TBMM
- D) Bakanlar Kurulu
- E) Millî Güvenlik Kurulu

23. 1982 Anayasası'na göre gensoru ile ilgili aşağıdaki bilgilerden hangisi yanlış bir bilgidir?

- A) Gensoru önergesi, bir siyasi parti grubu adına veya en az yirmi milletvekilinin imzasıyla verilir.
- B) Bakanlar Kurulunun veya bir bakanın düşürülebilmesi, üye tamsayısının en az üçte ikisinin oy çoğunluğuyla olur.
- C) Oylamada yalnız güvensizlik oyları sayılır.
- D) Hükümetin siyasi sorumluluğu ile ilgilidir.
- E) 1924, 1961, 1982 Anayasalarında yer almıştır.

24. Anayasa Mahkemesi aşağıdakilerden hangisini Yüce Divan sıfatı ile yarılayamaz?

- A) Başbakan
- B) Cumhurbaşkanı
- C) Milletvekilleri
- D) Adalet Bakanlığı Müsteşarı
- E) Genelkurmay Başkanı

25. Mart ayı TÜİK verilerine göre en çok ihracat yapılan ülke aşağıdakilerden hangisi olmuştur?

- A) Rusya
- B) Çin
- C) Almanya
- D) ABD
- E) Irak

26. Avrupa İmar ve Kalkınma Bankasının yıllık toplantısı 2013'te aşağıdaki şehirlerin hangisinde gerçekleşmiştir?

- A) Londra
- B) İstanbul
- C) Zürih
- D) Amsterdam
- E) Köln

27. İstanbul Menkul Kıymetler Borsasının yeni adı aşağıdakilerden hangisi olmuştur?

- A) Borsa İstanbul
- B) Vadeli İşlemler ve Opsiyon Borsası
- C) Türkiye Borsası
- D) İstanbul Borsası
- E) Altın Borsası

28. Avrupa Güreş Şampiyonası serbest stil 120 kiloda altın madalyayı kazanan güreşçimiz aşağıdakilerden hangisidir?

- A) Taha Akgül
- B) Yakup Gör
- C) Rıza Kayaalp
- D) Şeref Tüfenk
- E) Halil Yılmaz

29. Türkiye'nin de taraf olduğu Avrupa İnsan Hakları Sözleşmesi aşağıdaki uluslararası kuruluşların hangisinin bünyesinde düzenlenmiştir?

- A) Avrupa Birliği
- B) Birleşmiş Milletler
- C) NATO
- D) OECD
- E) Avrupa Konseyi

30. Avrupa Birliği'ne üye ülkelerden işsizlik oranının en yüksek olduğu ülke aşağıdakilerden hangisidir?

- A) İspanya
- B) Portekiz
- C) İtalya
- D) Yunanistan
- E) Fransa

SINAVDA UYULACAK KURALLAR

1. **Cep telefonu ile sınava girmek kesinlikle yasaktır.** Çağrı cihazı, telsiz, fotoğraf makinesi, cep bilgisayar vb. cihazla; silah ve benzeri teçhizatla; müsvedde kâğıdı, defter, kitap, sözlük, sözlük işlevi olan elektronik aygıt, hesap cetveli, hesap makinesi, pergel, açıölçer, cetvel vb. araçlarla sınava girmek kesinlikle yasaktır. Sınava çanta, kalem, silgi, kalemtırtaş, saat vb., küpe, bilezik, broş vb. takı ile de girmek yasaktır. Bu şekilde sınava girmiş adayların kimlik bilgileri mutlaka Salon Sınav Tutanağına yazılacak, bu adayların sınavları geçersiz sayılacaktır.
2. Sınav başladıktan sonra sınav süresinin $\frac{3}{4}$ 'ü **tamamlanmadan önce ve sınavın son 15 dakikas** içinde adayın sınavdan çıkmasına izin verilmeyecektir. Bu süreler dışında sınav süresi bitmeden cevaplamayı tamamlayan adaylar, cevap kâğıdını ve soru kitapçığını salon görevlilerine teslim ederek sınav salonundan ayrılabilirler.
3. Sınav evrakını teslim ederek sınav salonundan çıkan adaylar veya hangi nedenle olursa olsun sınav binasından ayrılan adaylar tekrar sınav salonuna alınmayacaktır.
4. Sınav süresince görevlilerle konuşmak, görevlilere soru sormak yasaktır. Aynı şekilde görevlilerin de adaylarla yakından ve alçak sesle konuşmaları, adayların birbirinden kalem, silgi vb. şeyleri istemeleri kesinlikle yasaktır.
5. Sınav sırasında, görevlilerin her türlü uyarısına uymak zorundasınız. Sınavınızın geçerli sayılması, her şeyden önce sınav kurallarına uymanıza bağlıdır. Kurallara aykırı davranışta bulunanların ve yapılacak uyarılara uymayanların kimlik bilgileri tutanağa yazılacak ve sınavları geçersiz sayılacaktır. Sınav süresince kimlik belgelerinizi sıranın üzerinde bırakınız.
6. Sınav sırasında kopya çeken, çekmeye kalkışan, kopya veren, kopya çekilmesine yardım edenlerin kimlik bilgileri Salon Sınav Tutanağına yazılacak ve bu adayların sınavları geçersiz sayılacaktır. Görevliler kopya çekmeye ya da vermeye kalkışanları uyararak zorunda değildir, sorumluluk size aittir. Adayların test sorularına verdikleri cevapların dağılımları bilgi işlem yöntemleriyle incelenecek, bu incelemelerden elde edilen bulgular bireysel ya da toplu olarak kopya çekildiğini gösterirse kopya eylemine katılan adayın/adayların cevaplarının bir kısmı ya da tamamı iptal edilecektir. Sınav görevlileri bir salondaki sınavın, kurallara uygun biçimde yapılmadığını, toplu kopya girişiminde bulunulduğunu raporlarında bildirdikleri takdirde, ÖSYM takdir hakkını kullanarak bu salonda sınava giren tüm adayların sınavını geçersiz sayabilir.
7. Sınavda soru kitapçığı ve cevap kâğıdı birlikte, kapalı bir poşette açılmadan size verilecektir. Poşeti açınız, açmakta güçlük çektiğinizde salon görevlilerinden yardım isteyiniz. Size verilen cevap kâğıdının adınıza olup olmadığını kontrol ediniz. Başka bir aday adına düzenlenmiş sınav evrakını kesinlikle kullanmayınız.
8. Soru kitapçığının sayfalarının eksik olup olmadığını, kitapçıkta basım hatalarının bulunup bulunmadığını kontrol ediniz. Soru kitapçığının sayfası eksik ya da basımı hatalıysa değiştirilmesi için Salon Başkanına başvurunuz.
9. Soru kitapçığında ve cevap kâğıdında doldurmanız gereken alanlar bulunmaktadır. Bu alanları doldurunuz. Cevap kâğıdına yazılacak her türlü yazıda ve yapılacak bütün işaretlemelerde kurşun kalem kullanılacaktır. Tükenmez kalem ve dolma kalem kesinlikle kullanılmayacaktır. Cevapların cevap kâğıdına işaretlenmiş olması gerekir. Soru kitapçığına işaretlenen cevaplar geçerli değildir.
10. Sınav sonunda soru kitapçıkları toplanacak ve ÖSYM'de tek tek incelenecektir. Soru kitapçığının bir sayfası bile eksik çıkarsa sınavınız geçersiz sayılacaktır.
11. Soru kitapçığının sayfalarındaki boş yerleri müsvedde için kullanabilirsiniz.
12. Soruları ve/veya bu sorulara verdiğiniz cevapları ayrı bir kâğıda yazıp bu kâğıdı dışarı çıkarmanız kesinlikle yasaktır.
13. Sınav süresinin bittiği ilan edildiğinde soru kitapçıkları ve cevap kâğıtları salon görevlileri tarafından toplanıncaya kadar yerlerinizde kalınız.
14. Sınav salonundan ayrılmadan önce soru kitapçığınızı ve cevap kâğıdınızı salon görevlilerine teslim etmeyi unutmayınız.
15. Her testin cevaplarını cevap kâğıdında o test için ayrılmış alana işaretlemeye dikkat ediniz. İlgili testin cevaplarını cevap kâğıdında doğru alana işaretlemediğiniz takdirde oluşacak değerlendirme sonuçlarından sorumlu olduğunuzu unutmayınız.

Bu testlerin her hakkı saklıdır. Hangi amaçla olursa olsun, testlerin tamamının veya bir kısmının Merkezimizin yazılı izni olmadan kopya edilmesi, fotoğrafının çekilmesi, herhangi bir yolla çoğaltılması, yayımlanması ya da kullanılması yasaktır. Bu yasağa uymayanlar gerekli cezai sorumluluğu ve testlerin hazırlanmasındaki mali külfeti peşinen kabullenmiş sayılır.