



“Türkiye Sizi Kazanacak”  
**KAMU PERSONEL SEÇME SINAVI**  
**(KPSS)**

**GENEL YETENEK TESTİ - GENEL KÜLTÜR TESTİ**  
**(ÖNLİSANS)**  
**DENEME SINAVI - 3**

**DİKKAT**

**SINAVA BAŞLAMADAN ÖNCE AŞAĞIDAKİ UYARILARI MUTLAKA OKUYUNUZ**

1. Adınızı, soyadınızı, TC Kimlik Numaranızı ve dersane numaranızı aşağıya yazınız.

ADI	:	.....
SOYADI	:	.....
TC KİMLİK NO	:	.....
DERSANE NO	:	.....

2. Cevap kâğıdınızdaki 2 numaralı yere TC Kimlik Numaranızı yazarak kodlayınız.
3. Genel Yetenek Testi ve Genel Kültür Testi için verilen toplam cevaplama süresi 120 dakikadır. (2 saat).
4. Cevaplamaya istediğiniz testten ve sorudan başlayabilirsiniz. Her soru ile ilgili cevabınızı, cevap kâğıdında o soru için ayrılmış olan yere işaretlemeyi unutmayınız.
5. **Testler puanlanırken her testteki doğru cevaplarınızın sayısından yanlış cevaplarınızın sayısının dörtte biri düşülecek ve kalan sayı o testle ilgili ham puanınız olacaktır. Bu nedenle hakkında hiçbir fikrinizin olmadığı soruları boş bırakınız. Ancak, soruda verilen seçeneklerden birkaçını eleyebiliyorsanız kalanlar arasında doğru cevabı kestirmeye çalışmanız yararınıza olabilir.**

Bu testin her hakkı saklıdır. Hangi amaçla olursa olsun, testlerin tamamının veya bir kısmının Dersanemizin yazılı izni olmadan kopya edilmesi, fotoğrafının çekilmesi, herhangi bir yolla çoğaltılması yayımlanması ya da kullanılması yasaktır. Bu yasağa uymayanlar gerekli cezai sorumluluğu ve testlerin hazırlanmasındaki mali külfeti peşinen kabullenmiş sayılır.



## GENEL YETENEK TESTİ

1. Artık kumaşlardan dikmeye çalıştığı elbiseyi akşama bitireceğini söyledi.

**Altı çizili sözcüğün bu cümleye kattığı anlam aşağıdakilerden hangisinde vardır?**

- A) Onunla artık eskisi gibi dost değiliz.  
B) Artık bu mevsimde yağmur yağmaz.  
C) Artık Ankara'da da gezilebilecek pek çok yer var.  
D) Yemek artıklarını özenle paketlenip hayvan barınağına gönderdi.  
E) Bu iş yerinde artık sana ihtiyacımız yok.

2. Can Yücel'in sözcüklerle oynaması onları eğip, büküp, bozup yeni biçimlere koyması dillere destandır. Can Yücel en uzun şiirlerinde de sözcük ekonomisini en iyi sağlayanlardandır.

**Bu parçada altı çizili sözle anlatılmak istenen, aşağıdakilerden hangisidir?**

- A) Anlatımı gereksiz sözcüklerden arındırmak  
B) Anlatımda söz sanatlarına fazlaca yer vererek süslü, sanatlı bir dil kullanmak  
C) Sözcükleri temel anlamlarıyla kullanmak  
D) Bir sözcüğe birden çok anlam yüklemek  
E) Anlatımda söz oyunlarına başvurmak

3. I. Roman, insanın olduğu her yerde vardır; bu nedenle tarih, coğrafya, sosyoloji gibi birçok bilime kaynaklık eder.  
II. Romanın asıl malzemesi insandır; roman insanın iyilik ve kötülüklerini yansıtır.  
III. Romancı gerçek bir durumu da ele alabilirken gerçekleşmemiş ya da gerçekleşme olasılığı olan durumları da romanına alabilir.  
IV. Romancı, romanında dönemin insanını anlatırken dönemin tarihi olaylarından da yararlanır.

**Yukarıda numaralanmış cümlelerden hangileri, anlamca birbirine en yakındır?**

- A) I. ve II.      B) III. ve IV.      C) I. ve III.  
D) I. ve IV.      E) II. ve III.

4. Şiiri ne zaman okursan oku her okuduğunda seni hayretlere düşürecek yeni çağrışımlarla karşılaşırın.

**Bu cümleden hareketle aşağıdakilerden hangisi söylenebilir?**

- A) Bir şiir her okunduğunda bir önceki hissedilen duyguyu kaybettirir.  
B) Ancak ünlü şairlerin şiirleri bize haz verir.  
C) Şiir anlam derinliği olan bir türdür, bu nedenle her insan anlayamaz.  
D) Şair şiirini yazarken diğer şairlerden de beslenmelidir.  
E) Şiir her ruh hâlinde okuyucusuna kendisini beğendirmiş bir türdür.

5. Aşağıdaki cümlelerin hangisinde neden sonuç ilişkisi vardır?

- A) Maçı izlemek için erkenden yola çıktı.
- B) Yemek yemeye eve gitti.
- C) Hızlı ve özenmeden yazdığı için yazısı bir türlü okunmuyor.
- D) Yapılacak deneme sınavı için soru yazmam gerekiyor.
- E) Bu sınava girebilmem için not ortalamamın yüksek olması gerek.

7. Aşağıdaki cümlelerden hangisi biçimce olumlu anlamca olumsuz bir cümledir?

- A) Bu çocuk da kimseyi sevmiyor.
- B) Ben çalışkan değil miyim sanki!
- C) Gel de sen bunun anlattıklarına inan.
- D) Sanki bu işlerin hiçbirini ben yapmadım.
- E) Hakkımda neler söylendi?

8. Aslında sen yoktun

Yalnızca bir duayı sevdim ben

Varlığın yalanımdı

Aşktım, aşktın, aşktı.

**Bu dizelerde aşağıdaki ses olaylarından hangisi yoktur?**

- A) Kaynaştırma harfi
- B) Ünlü düşmesi
- C) Ünsüz yumuşaması
- D) Ünsüz benzeşmesi
- E) Ünsüz düşmesi

6. (I) Son beş yıldır öykü dünyamızda umut verici bir hareketlilik yaşanıyor. (II) Ne yazık ki nitelikçe bir sıçrama yok henüz. (III) Dergilerde zaman zaman çok yetkin öyküler okuyorum. (IV) Donanımlı oldukları hemen belli oluyor bu genç yazarların. (V) Onları ilgiyle takip ediyorum.

**Bu parçadaki numaralanmış cümlelerle ilgili olarak aşağıda verilenlerden hangisi yanlıştır?**

- A) I. cümlede sayısal verilerden yararlanılmıştır.
- B) II. cümlede üzüntü verici bir durumdan söz edilmiştir.
- C) III. cümlede nitelik bildiren bir durumdan söz edilmiştir.
- D) IV. cümlede aşamalı bir durum söz konusudur.
- E) V. cümlede öznel bir düşünceye yer verilmiştir.

9. Aşağıdaki cümlelerin hangisinde yazım yanlışı vardır?

- A) Geçmiş zamanlar olur ki hayali cihan değer.
- B) Türk dili, dillerin en zenginlerindedir; yeterki bu dil, şuurla işlensin.
- C) Duvardaki çatlak her geçen gün genişliyor.
- D) Yurtta sulh, cihanda sulh.
- E) Bir mektup yazmaya başladı mı yazar da yazardı.

10. Aşağıdaki cümlelerin hangisinde eylemin gerçekleştirilme şekli belirtilmemiştir?

- A) Okula yetişmek için koşarak geldim.
- B) Sorularınızı hocalarımızla birlikte çözmelisiniz.
- C) Hastayı acil olarak ameliyata aldılar.
- D) Sınıfta olanları kimseye söyleme.
- E) Yaşananlar kesitler hâlinde izleyicilere sunuldu.

11. Küçük bir dokunuş ( ) Damlaların yere dökülüşü ( ) İşte bahar yapraklarında bunu seviyorum ben ( ) Yağmurun ardından gelen serinliği ( ) ıslaklığı ve güzelliği ( )

**Bu parçada ayraçlarla belirtilen yerlere aşağıda verilen noktalama işaretlerinden hangileri getirilmelidir?**

- A) (...) (...) (;) (,) (...)
- B) (,) (...) (;) (,) (.)
- C) (...) (,) (;) (,) (...)
- D) (,) (;) (;) (,) (...)
- E) (...) (...) (;) (,) (.)

12. I. yüz ifadeleri  
II. hislerimizi etkileyen  
III. üzerinde yapılan çalışmalar  
IV. pek fazla gülmediğimizi ortaya çıkarmıştır  
V. iyi durumdayken bile  
**Yukarıdaki sözler kurallı ve anlamlı bir cümle oluşturacak biçimde sıralandığında hangisi baştan üçüncü olur?**

- A) I. B) II. C) III. D) IV. E) V.

13. (I) Her dilde, aynı ses birleşiminden oluşmuş, başka başka kavramları yansıtan sözcüklere rastlanır. (II) Bunlara sesteş ya da eş anlamlı sözcükler denir. (III) Sesteş sözcüklerin çok anlamlı öğelerden önemli bir ayrımı vardır. (IV) Türkçede dolu, boşun karşıtı ve dolu yağın buz taneleri; yüz, sayı ve yüz, surat gibi sözcükler buna örnektir. (V) Sesteş sözcükler arasında anlam açısından hiçbir ilişki bulunmazken çok anlamlılıkta mutlaka bir ilişki vardır.

**Bu parçadaki numaralanmış cümlelerden hangi ikisinin yeri değiştirilirse parçada anlam bütünlüğü sağlanmış olur?**

- A) I. ve III. B) I. ve IV. C) II. ve III.
- D) IV. ve V. E) III. ve IV.

14. (I) Kartpostallar bir iletişim aracından çok, fotoğraflardan daha çabuk eskiyen toplumsal anılarımızın gizli hazineleridir. (II) Bir iletişim aracı olarak ortaya çıkan kartpostallar, zaman içerisinde belgesel değeri olan bir belge hâline geldi. (III) Arkasına bir şey yazılmasa da bir yerden birilerine gönderilmese de pulsuz da olsa bu böyle devam etti. (IV) Kartpostalın doğuşu ve yaygın olarak kullanımı 1877'de başlar. (V) 1891'e kadar kartpostalların ön yüzünde bir desen ya da reklam bulunur. (VI) 2000'li yıllarda ise bu gelişim ve değişim zirveye ulaşır.

**Bu parça, iki paragrafa ayrılmak istense, ikinci paragraf kaçınıcı cümleyle başlar?**

- A) II. B) III. C) IV. D) V. E) VI.

15. Aşağıdaki cümlelerin hangisinde anlatım bozukluğu vardır?

- A) Küçüklüğümden beri dar yollardan sıkılır, adeta feryat ederek kaçırdım.
- B) Yazarın ölümüne, rakipleri dahi üzüldü.
- C) Türkiye'nin teknik yönden gelişmesi, Batı'yı telaşlandırıyor.
- D) Dünya'nın son yıllarda farklı bir çizgiye kaydığını görüyoruz.
- E) Araçların zincirsiz yola çıkması yasaktır.

16. Yeni eve gelmiştim ki hırsız balkondan atlayarak

I II III IV V

kaçmaya çalışıyordu.

**Bu cümledeki anlatım bozukluğu, numaralandırılmış sözcüklerden hangilerinin yerleri değiştirilirse giderilir?**

- A) I. ve II. B) III. ve IV. C) I. ve V.  
D) IV. ve V. E) I. ve III.

17. Kültür, sağlam yapılı ve muhteşem görünüşlü bir bina gibidir. Bu binanın omurgasını dilin yapısı, sağlamlığı oluşturur. Binaya şekil kazandıran birer tuğla görevindeki her kelime özenle seçilir ve uygun biçimlerde cümle cümle örülür. Ortaya çıkan kültür binası nesilden nesile miras olarak kalabilecek içerik ve yapıdadır artık.

**Bu parçadan hareketle aşağıdaki yargılardan hangisine ulaşılabilir?**

- A) Dil ve kültür ayrı ayrı değerlendirilecek değerlerdir.  
B) Kültürle ilgili her şey dil aracılığı ile aktarılır.  
C) Günümüzde dil, kültürel gelişimi engelleyen bir unsurdur.  
D) Her edebî eser kültüre kaynaklık etmez.  
E) Kültür her nesilde farklı bir içerik kazanır.

18. (I) Dil bir ağaçsa kültür de o ağacın köküdür. (II) Kökü olmayan ağaç bırakın ürün vermeyi, kendisini kurumaktan kurtaramaz, yok olur gider. (III) Kökün ağacı canlı tuttuğu gibi kültür de dili canlı tutar. (IV) Dil de kültürden aldıklarıyla çiçek açar, tadına doyumaz ürünler verir. (V) Bu ürünler günümüz popüler edebiyatının gelişmesine büyük katkı sağlar. (VI) Konusunu tarihten, sosyal yaşamdan olan edebî nitelikli hikâyeler, romanlar bu ürünlerin akla ilk gelen örnekleridir.

**Bu parçadaki numaralanmış cümlelerden hangisi düşüncenin akışını bozmaktadır?**

- A) II. B) III. C) IV. D) V. E) VI.

19. Her yıl, Ağrı Dağı'nda bahar gözünü açıp dağın etekleri keskin kokulu çiçeklerle dolduğunda Ağrı Dağı'nın güzel, kederli, kara gözlü, iri yapı- lı, ince parmaklı çobanları da kavallarını alıp göle gelirler. Kırmızı kayalıkların dibine bakır toprağın, bin yıllık baharın üstüne kepeneklerini alıp gölün kıyısına otururlar. Daha gün doğmadan Ağrı Dağı'nın yanan yıldızları altında kaval- larını çalmaya hazırlanırlar.

**Bu parçayla ilgili olarak aşağıdakilerden hangisi söylenemez?**

- A) Duyular arası aktarma yapılmıştır.  
B) Koklama duyusuna yer verilmiştir.  
C) Kişileştirme yapılmıştır.  
D) İşitme duyusuna yer verilmiştir.  
E) Nitelik bildiren sözlerden yararlanılmıştır.

20. Dilde yabancılaşma olgusu son zamanlarda diğer boyutlarından daha çok iş yeri ve ürün adlarında göze batıyor. Buna bağlı olarak kamuoyunda giderek artan bir tepki oluşmaya başladı. Sayıları gün geçtikçe artan kişiler, topluluklar, dernekler, vakıflar bu alanlardan bolca örnek vererek Türkçenin geleceği konusunda endişelerini dile getiriyor, kampanyalar düzenli- yor. Kitle iletişim araçlarında, sosyal paylaşım sitelerinde ise yine başta iş yeri ve ürün adların- daki olmak üzere yabancı sözlere yönelik birey- sel tepkiler de daha sık görülür oldu. Bu tepki- lerin yöneldiği bir grubu da kamuya dönük alan- lar da yabancı sözler kullanan kurum ve kuruluş- lar oluşturuyor.

**Bu parça ile ilgili olarak aşağıdakilerden han- gisi söylenemez?**

- A) Bireysel tepkinin yanı sıra kitle iletişim ara- çları ve sosyal paylaşım sitelerinde dilin yabancılaşmasına tepki gösterilmektedir.  
B) Dilde yabancılaşma Türkçenin geleceğini tehdit etmektedir.  
C) Kitle iletişim araçlarında kullanılan dilin çeşitliliği okur sayısının artmasında etkilidir.  
D) Türkçenin geleceği konusunda endişelenili- yor.  
E) Kamuoyunda dahi yabancı sözler kullanan kurum ve kuruluşlar vardır.

21. (I) Romanları, hikâyeleri okutup özet çıkartmak bir zamanlar liselerde edebiyat fakültelerinde mecburi idi. (II) Şimdi öğrencilerden böyle bir şey istendiğinde öğrenci bunları genel ağ dediğimiz "İnternet"te hazır buluyor, oradan kopya edip hocasına sunuyor ve okuma zahmetinden kurtuluyor. (III) Toplum genel olarak yazmadan ve okumadan soğumuş. (IV) Mektup yazmanın yerini birkaç cümleyle ifade edilen telefon konuşması veya bir ileti almıştır. (V) Kitap basma, basılan kitapları satın alma, okuma oranı ülkemizde en düşük düzeydedir ve insanlar kendi kültür değerlerini öğrenmeye hevesli değildir. (VI) Okunacak kitap seçiminde ise tereddütler var.

**Bu parça iki paragrafa ayrılmak istense ikinci paragraf hangi cümleyle başlar?**

A) II. B) III. C) IV. D) V. E) VI.

22. Şimdi yazım kuralları bilinmiyor. Yazımla ilgili konu açıldığında düzeltme işaretleriyle ilgili olarak sorulan ilk soru, "şapkalar veya külahlar kalkmadı mı?" biçiminde oluyor. "Düzeltilme işareti"nin adı şapka oldu. Yalnız öğrenciler değil kimileri de gelişmeleri takip etmede, Yazım Kılavuzu'nun sürekli değişmesinden yakınıyor. Böyle bir ortamda...

**Bu parçanın sonuna düşüncenin akışına göre aşağıdakilerden hangisi getirilebilir?**

- A) Türk Dil Kurumunun çalışmalarını daha dikkatli yapması gerekmektedir.
- B) Öğretmenin de öğrencinin de yazarın da yazımla ilgili gelişmeleri takip etmesi gerekir.
- C) Gazete ve dergilerin; kurum, kuruluş ve bireyleri bu konuda bilgilendirici yazılar yayımlaması gerekmektedir.
- D) Öğretmenlerin öğrencilere güncel konuları aktarması gerekmektedir.
- E) Düzeltme işareti ve şapkanın aynı olduğunun öğretilmesi gerekmektedir.

23. Sorumluluk, farklı tanımlanabilen herkes için farklı anlamlar taşıyan bir kavramdır. Sorumluluk bireyin yaptığı işlerin sonuçlarını kabullenebilmesidir. Bir birey ancak kişiliğinin gelişimine izin verildiği oranda sorumluluk sahibi olacaktır. Kişilik; söz sahibi olmak, kendi başına karar verebilmek, istemediği bir teklifle karşılaşmışta "hayır" diyebilmektir. Kişilik tanımında yer alan söz sahibi olmak, kendi başına karar verebilmek; sorumluluk gelişiminde de etkilidir. Yapılan araştırmalar göstermektedir ki söz hakkı tanınmayan, seçme özgürlüğü olmayan çocukların üzerlerine sorumluluk verilmediği, söylediği veya yaptığı şeylerin sonuçlarıyla birinci dereceden yükümlü olmadığı için sorumluluk duygusu da gelişmemektedir. Anne babaların tavırları, çocuğa yaklaşımları, çocuğun bağımsız davranışlar sergilemesine izin vermeleri önemlidir.

**Bu parçadan hareketle aşağıdaki yargılardan hangisi çıkarılamaz?**

- A) Çocuğun birey olduğunu hissetmesinde aile önemli bir etkidir.
- B) Çocuklara küçük yaşlarda verilen sorumluluklar, çocuğun gelişiminde geri dönüşü olmayan olumsuz etkilere yol açabilir.
- C) Gerektiğinde hayır demesini bilecek çocuklar yetiştirmek için çocuklara sorumluluk vermekten kaçınmamalıyız.
- D) Seçme özgürlüğü olmayan çocukların sorumluluk duygularının gelişmediği yapılan araştırmalarda ortaya çıkmıştır.
- E) Birey ancak kişiliğinin gelişimine izin verildiği oranda sorumluluk sahibi olur.

24. Aşağıdakilerden hangisi bir paragrafın giriş cümlesi **olamaz**?

- A) Çocuk edebiyatının gerekliliği öteden beri tartışılan bir konudur.
- B) Sanatçının amacı; ulusal, kişisel ve sanatsal inançlarından sapmadan özgürce ve dürüstçe eser vermek olmalıdır.
- C) Yaşama; ailemiz, inancımız veya hiç bitmeyen giderlerimiz sayesinde tutunduğumuzuz zannederiz.
- D) Bir de hayatın bu yönüne insanın mutsuz olma hastalığını eklediniz mi işte karşınızda çekilmez bir hayat!
- E) Günümüzde, sinema endüstrisi alanına büyük harcamalar yapıldığından oyunculara büyük sorumluluk yükleniyor.

**25. VE 26. SORULARI AŞAĞIDAKİ PARÇAYA GÖRE CEVAPLAYINIZ.**

(I) Kozmetik ürünler ve cilt bakım ürünleri, birçok insanın günlük yaşamında önemli bir yer tutuyor. (II) Bedenimizi temizleme, hoş kokmak, cildimizi dış etkilerden korumak için her gün çok sayıda kozmetik ürünü kullanıyoruz. (III) Araştırmalarda, yetişkin bir insanın günde ortalama yedi farklı kozmetik ve cilt bakım ürünü kullandığı belirlenmiş. (IV) Kişisel bakım ürünlerine düşkünlüğümüz, çok eskilere, tarih öncesi dönemlere dayanıyor. (V) Üstelik ekonomik koşullardan, savaşlardan neredeyse hiç etkilenmeyen bir tüketim olgusu olarak karşımıza çıkıyor. (VI) 20. yüzyılın ikinci yarısından sonra hem kozmetik ve kişisel bakım ürünlerini hem de bu ürünlerin yapımında kullanılan maddelerin çeşitliliği giderek arttı. (VII) Günümüzde bu çeşitlilik, çoğu kez ürünler arasında bir seçim yapmayı güçleştiriyor.

**25. Bu parçadan aşağıdakilerden hangisi çıkarılamaz?**

- A) Birçok insanın kişisel bakım ürünleriyle ilgilendiğine
- B) Tüketimde önemli bir yere sahip olduğuna
- C) Ürün çeşitliliğinin seçme zorluğu yarattığına
- D) Kozmetik endüstrisinin son yıllardaki durumuna
- E) Bu ürünlere düşkünlüğümüzün çok eskilere dayandığına

**26. Parçada numaralandırılmış cümlelerin hangisinde aşamalı bir durum söz konusudur?**

- A) III B) IV C) V D) VI E) VII

**27. Yazarın yorumu ile yetinmemek gerekir. Çoğu zaman iyi bir sanat eserinde sanatçının farkında olmadan koyduğu anlam boşlukları bulunur. Eserin anlam katmanları sanatçının düşündüğünden daha fazla olabilir. Eleştiri bunları ortaya çıkarabilir. Yeni anlamlara işaret edebilir.....**

**Düşüncenin akışına göre, bu parçanın sonuna aşağıdakilerden hangisi getirilemez?**

- A) Nitekim büyük sanat eserleri çağlar boyunca incelenmiştir.
- B) İyi bir okuyucu, yalnızca eseri okumakla yetinmemeli; eser hakkındaki eleştirileri de okumalıdır.
- C) Böylece eleştirmenler, sanatçıların kendilerine bıraktığı yorumlama görevini yerine getirirler.
- D) Her eleştirmen esere farklı bir yorum getirebilir.
- E) Büyük sanat eserlerinin oluşumunda eleştirmenlerin katkısı yadsınmaz.

**28. – 30. SORULARI AŞAĞIDAKİ BİLGİLERE GÖRE CEVAPLAYINIZ.**

**DİKKAT ! SORULARI BİRBİRİNDEN BAĞIMSIZ OLARAK CEVAPLAYINIZ.**

Bir sinema binasının 5 salonu vardır. Cumartesi ve pazar günü bu sinema binasında 2 macera filmi, 2 belgesel film, 2 çocuk filmi, 2 komedi filmi ve 2 gerilim filmi olmak üzere beş tür film gösterilmiştir. Bunların ikisi çocuk filmi, ikisi gerilim filmi ve biri komedi filmi olmakla birlikte bunlar Türk yapımı, ötekiler yabancı yapımdır. Her salonda biri cumartesi, öteki pazar olmak üzere iki film gösterilmiştir. Bu filmlerin gösteriliş programıyla ilgili olarak şunlar bilinmektedir:

- Her film bir gün ve gün boyunca aynı salonda gösterilmiştir.
- Aynı tür filmler farklı günlerde gösterilmiştir.
- Aynı salonda gösterilen filmlerin yapımı ve türü farklıdır.
- Belgeseller cumartesi günü 3. salonda pazar günü 4. salonda gösterilmiştir.
- Çocuk filmleri cumartesi günü 1. salonda, pazar günü 5. salonda gösterilmiştir.
- Pazar günü gösterilen yabancı yapım film sayısı cumartesi günü gösterilenden fazladır.

**28. Bu bilgilere göre, aşağıdakilerden hangisi kesinlikle doğrudur?**

- A) Cumartesi 5. salonda gösterilen film yabancı yapımdır.
- B) Pazar 1. salonda gösterilen film Türk yapımıdır.
- C) Cumartesi 2. salonda komedi filmi gösterilmiştir.
- D) Pazar 3. salonda gösterilen film yabancı yapımdır.
- E) Cumartesi 4. salonda macera filmi gösterilmiştir.



29. Bu bilgilere göre, aşağıdakilerin hangisinde gerilim filmi gösterildiği kesindir?

- A) Cumartesi 2. salon
- B) Cumartesi 1. salon
- C) Cumartesi 5. salon
- D) Pazar 2. salon
- E) Pazar 3. salon

30. Cumartesi 2. salonda komedi filmi gösterilmişse aşağıdakilerden hangisi kesinlikle yanlıştır?

- A) Cumartesi çocuk filminin gösterildiği salonda pazar macera filmi gösterilmiştir.
- B) Pazar çocuk filmi gösterildiği salonda, cumartesi macera filmi gösterilmiştir.
- C) Cumartesi belgesel filmin gösterildiği salonda, pazar gerilim filmi gösterilmiştir.
- D) Yabancı yapım olan komedi filmi pazar gösterilmiştir.
- E) Pazar 2. salonda gösterilen film yabancı yapımdır.

31. A, B, C sıfırdan ve birbirinden farklı rakamlardır.

$$X = 9A + 9B + 10C$$

$$A + B + C = 16$$

olduğuna göre X'in alabileceği en büyük değer kaçtır?

- A) 134
- B) 144
- C) 153
- D) 157
- E) 158

32. Aşağıdakilerden hangisi -3 sayısına en yakındır?

- A)  $-\frac{7}{2}$
- B)  $-\frac{13}{4}$
- C)  $-\frac{19}{6}$
- D)  $-\frac{37}{12}$
- E)  $-\frac{46}{15}$

33. x, y, z arasındaki sıralama aşağıdakilerden hangisidir?

$$\left. \begin{array}{l} x = 5\frac{2}{3} \\ y = 3\frac{1}{4} \\ z = 7\frac{1}{6} \end{array} \right\}$$

- A)  $y < z < x$
- B)  $z < y < x$
- C)  $x < y < z$
- D)  $x < z < y$
- E)  $y < x < z$

34.  $\sqrt{x^2 - 6x + 9} = 3 - x$   
eşitliğini sağlayan  $x$  doğal sayılarının toplamı kaçtır?  
A) 3 B) 4 C) 5 D) 6 E) 10

35.  $x$ ,  $y$  ve  $z$  doğal sayı olmak üzere  $x.y.z=6$  ise  
 $3x - 2y + 4z$  toplamının en büyük değeri kaçtır?  
A) 25 B) 18 C) 16 D) 12 E) 10

36.  $x$  ve  $y$  doğal sayı olmak üzere  
 $x! = 132.y!$  ise  $y$ 'nin alabileceği  
değerler toplamı kaçtır?  
A) 5 B) 10 C) 11 D) 141 E) 143

37.  $\sqrt{a^2} = a$  ve  $a.b > a$  ise  
 $|a + 1| + |b - 1|$  ifadesinin eşiti nedir?  
A)  $a - b$  B)  $a - b + 2$  C)  $b - a$   
D)  $a + b + 2$  E)  $a + b$

38.  $\frac{x^3 - 8}{x^2 - 4} \cdot \frac{x^3 + 2x^2 + 4x}{x^2 + 2x}$   
ifadesinin sadeleşmiş biçimi aşağıdakilerden hangisidir?  
A)  $-1$  B)  $1$  C)  $x - 2$   
D)  $x$  E)  $x + 2$

39. Toplamları 238 olan iki pozitif sayıdan büyüğü  
küçüğe bölündüğünde bölüm 10, kalan 7'dir.  
Buna göre, büyük sayı kaçtır?  
A) 21 B) 22 C) 211 D) 217 E) 227

40. a ve b sıfırdan farklı reel sayılar;

$$\frac{a^4}{b^{-3}} < 0 \text{ ve } a \cdot b^{-11} < 0$$

olduğuna göre a – b farkı için

- I. pozitiftir.
- II. negatiftir.
- III. sıfır olabilir.

**ifadelerinden hangisi ya da hangileri doğrudur?**

- A) Yalnız I      B) Yalnız III      C) I ve III  
D) II ve III      E) I, II ve III

41.  $2.\overline{379}$  sayısının ondalık yazımında virgülden sonraki 77. basamak kaçtır?

- A) 2      B) 3      C) 7      D) 8      E) 9

42. 5 Matematik, 5 Tarih kitabı arasından 2 kitap seçiliyor.

**Seçilen kitaplardan en çok birinin Matematik kitabı olma olasılığı kaçtır?**

- A)  $\frac{1}{9}$       B)  $\frac{2}{9}$       C)  $\frac{3}{9}$       D)  $\frac{5}{7}$       E)  $\frac{7}{9}$

43.  $\sqrt[3]{x^3 \sqrt[3]{x^3 \sqrt{x \dots}}} - \sqrt[5]{x^5 \sqrt{x^5 \sqrt{x \dots}}} = 12$

ise x kaçtır?

- A) 4      B) 9      C) 16      D) 81      E) 256

44. – 46. SORULARI AŞAĞIDAKİ BİLGİLERE GÖRE CEVAPLAYINIZ.

1'den 9'a kadar olan rakamlar, her rakamın sayısal değeri kadar tekrarlanıp, sırasıyla soldan sağa doğru yan yana yazılarak,  
 $x=1223334444.....9999999999$   
şeklinde bir sayı oluşturuluyor.

44. x sayısı kaç basamaklıdır?

- A) 40 B) 45 C) 50 D) 80 E) 90

45. x sayısının soldan 37. rakamı kaçtır?

- A) 5 B) 6 C) 7 D) 8 E) 9

46. x sayısı 9'a bölündüğünde kalan kaçtır?

- A) 8 B) 7 C) 6 D) 5 E) 4

47. – 49. SORULARI AŞAĞIDAKİ BİLGİLERE GÖRE CEVAPLAYINIZ.

İki basamaklı doğal sayılar kümesinden tüm sayılar kümesine tanımlı bir f fonksiyonu  
 $f(XY) = XY + X.Y$   
şeklinde tanımlanıyor.  
 $f(17) = 17 + 1.7 = 17 + 7 = 24$  olur.

47.  $f(23) + f(35)$  ifadesinin değeri kaçtır?

- A) 58 B) 75 C) 79 D) 81 E) 116

48.  $f(7Y) = 126$

olduğuna göre Y kaçtır?

- A) 2 B) 3 C) 4 D) 5 E) 7

49.  $f(XY) = 98$  ise  $X + Y$  kaçtır?

- A) 6 B) 8 C) 10 D) 12 E) 14

50. – 52. SORULARI AŞAĞIDAKİ TABLOYA GÖRE CEVAPLAYINIZ.

	2		4
	3	t	
		2	z
1	x	y	

1, 2, 3, 4 rakamları kullanılarak satır ve sütun toplamları 10 olacak şekilde her rakam bir kez kullanılarak oluşturulacaktır.

50. Tabloya göre  $x + y$  kaçtır?

- A) 4 B) 5 C) 6 D) 7 E) 8

51. Tabloya göre  $y.z.t$  çarpımı kaçtır?

- A) 6 B) 9 C) 10 D) 12 E) 36

52. Tabloya göre  $(x + z)^3 - (y + t)^3$  kaçtır?

- A) -343 B) -49 C) 0 D) 49 E) 343

53. – 55. SORULARI AŞAĞIDAKİ BİLGİLERE GÖRE CEVAPLAYINIZ.

Bir bahçede kırmızı beyaz, sarı ve pembe güller vardır.

- Kırmızı güller, sarının 3 katından 2 eksiktir.
- Sarı ile beyaz gül sayısı eşittir.
- Pembe gül sayısı, beyaz güllerin yarısına eşittir.

53. Bu bahçedeki toplam gül sayısı aşağıdakilerden hangisi olabilir?

- A) 28 B) 36 C) 44 D) 64 E) 70

54. Bahçedeki tüm güller eşit sayıda olursa sarı güllerin sayısı yüzde kaç artmıştır?

- A) 25 B) 30 C) 33,3 D) 37,2 E) 50

55. 2 tane kırmızı gül dikildiğinde kırmızı güllerin, tüm güllere oranı nedir?

- A)  $\frac{2}{11}$  B)  $\frac{3}{11}$  C)  $\frac{6}{11}$  D)  $\frac{11}{2}$  E)  $\frac{11}{6}$

56. VE 57. SORULARI AŞAĞIDAKİ BİLGİYE GÖRE CEVAPLAYINIZ.

	Fındık	Badem	Fıstık
Yalçın	600 gr	250 gr	150 gr
Murat	250 gr	250 gr	500 gr
Tolga			

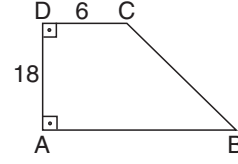
Bir kuruyemişçiden aldıkları kuruyemiş miktarları yukarıdaki gibidir.

Fındığın kilosu 20 TL, bademin kilosu 40 TL, antep fıstığının kilosu 50 TL.

56. O gün bademde 60 lira ciro yapıldığına göre Tolga kaç gram badem almıştır?  
A) 500 B) 1000 C) 1250 D) 1500 E) 2000

57. Tolga 450 gr fındık, yarım kilo badem, 600 gr fıstık aldığına göre Yalçın'ın ödediği paranın, Tolga'nın ödediği paraya oranı kaçtır?  
A)  $\frac{1}{2}$  B)  $\frac{1}{3}$  C)  $\frac{1}{4}$  D)  $\frac{1}{5}$  E) 1

58.



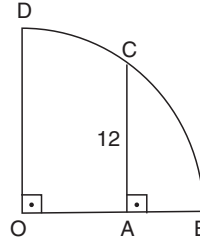
ABCD dik yamuk

$$IDCI = 6 \text{ cm} \quad IAD = 18 \text{ cm}$$

$A(ABCD) = 144 \text{ cm}^2$  ise **IBCI kaç cm dir?**

- A)  $10\sqrt{3}$  B)  $2\sqrt{85}$  C)  $6\sqrt{10}$   
D)  $6\sqrt{15}$  E)  $3\sqrt{95}$

59.



$$|CA| = 12$$

O merkezli

[OB] yarıçaplı çeyrek çember için

$$2|OA| = 3|AB|$$

olduğuna göre **çemberin yarıçapı kaç cm dir?**

- A) 15 B) 18 C) 20 D) 22 E) 24

60.  $2x - y = 1$  ve  $x + y = 5$

doğrularının kesim noktasından geçen ve  $y = 3x - 2$  doğrusuna paralel olan doğrunun denklemi aşağıdakilerden hangisidir?

- A)  $3x - y + 2 = 0$   
B)  $y = 3x - 5 = 0$   
C)  $y - 3x + 3 = 0$   
D)  $3x + y - 3 = 0$   
E)  $3x - y + 1 = 0$

## GENEL KÜLTÜR TESTİ

1. Asya Hun Devleti ve Göktürklerde yazılı hukuk sistemi yoktu. Devletler töre adı verilen yazısız hukuk kurallarına göre yönetildi.

**Buna göre, aşağıdakilerden hangisi ilk Türk devletlerinde uygulanan hukuk sistemi ile ilgili doğru bir yargıdır?**

- A) Türk hukuk sistemi hakkında çok az bilgiye sahip olunması  
B) Kanunların zaman içerisinde çok az değişikliğe uğraması  
C) Uzun süreli hapis cezalarının verilmesi  
D) Kanun koyucuların halk tarafından seçilmesi  
E) Türk hukuk sisteminin diğer ülkeler tarafından örnek alınması

2. Selçuklu Meliklerinin iyi bir devlet adamı ve asker olarak yetiştirilmelerinde etkili olan görevli aşağıdakilerden hangisidir?

- A) Emir-i Alem  
B) Emir-i Candar  
C) Atabey  
D) Hacib  
E) Lala

3. Mısır'da kurulup ve Kudüs'ü Haçlılardan geri almış olan Türk Devleti aşağıdakilerden hangisidir?

- A) Büyük Selçuklular  
B) Eyyubiler  
C) Harzemşahlar  
D) Karahanlılar  
E) Gazneliler

4. I. Osmanlı Devleti  
II Göktürkler  
III. Hunlar

**Yukarıdaki Türk devletlerinden hangisi güçlü bir merkezi sisteme sahiptir?**

- A) Yalnız I  
B) Yalnız II  
C) Yalnız III  
D) I ve II  
E) I, II ve III

5. Yıldırım Beyazıt'e Abbasi halifesi tarafından "Sultan-ı İklim-i Rum" unvanı aşağıdaki hangi olayın sonucunda verilmiştir?

- A) Sazlıdere Savaşı  
B) II. Kosova Savaşı  
C) Maltepe Savaşı  
D) Koyunhisar Savaşı  
E) Niğbolu Savaşı

6. Aşağıdakilerden hangisi, Osmanlı Devleti'nde sağlık işlerinin yürütülmesi amacıyla açılan kurumlardan biridir?

- A) Külliye  
B) Medrese  
C) İmaret  
D) Türbe  
E) Darüşşifa

7. I. Meşrutiyet Dönemi'nde ilan edilen Kanuni Esasi'nin;

- I. kanun teklifini hükümet hazırlayacaktır,  
II. padişah mahkeme emri olmadan istediğini sürgüne gönderebilecektir,  
III. hükümet meclise karşı değil padişaha karşı sorumlu olacaktır

**maddelerinden hangileri devlet yönetiminde padişahın daha yetkili olduğunun kanıtı olarak gösterilebilir?**

- A) Yalnız I  
B) Yalnız II  
C) Yalnız III  
D) II ve III  
E) I, II ve III

8. I. Bank-ı Osmani  
II. Bank-ı Dersaadet  
III. Ziraat Bankası

**Yukarıda verilen bankalardan hangileri Tanzimat Dönemi'nde kurulmuştur?**

- A) Yalnız I  
B) I ve II  
C) I ve III  
D) II ve III  
E) I, II ve III

9. "Batı Trakya Türkleri Sorununun" aşağıdaki gelişmelerden hangisinden sonra ortaya çıktığı savunulabilir?

- A) Berlin Antlaşması
- B) Trablusgarp Savaşı
- C) I. Dünya Savaşı
- D) Lozan Barış Antlaşması
- E) Balkan Savaşları

10. Erzurum Kongresi;

- I. Doğu Anadolu Müdafai Hukuk,
- II. Trabzon Muhafaza-i Hukuk-ı Milliye,
- III. Trakya Paşaeli Müdafai Hukuk

**cemiyetlerinden hangilerinin çalışmaları sonucunda toplanmıştır?**

- A) Yalnız I
- B) I ve II
- C) Yalnız III
- D) II ve III
- E) I, II ve III

11. Kuvayımilliye birlikleri ve halk Güney Cephesi'nde aşağıdaki devletlerden hangisiyle savaşmıştır?

- A) İngiltere
- B) Yunanistan
- C) Rusya
- D) Fransa
- E) İtalya

12. Türk Ordusu'nun saldırı gücüne henüz ulaşmadığını gösteren ve İsmet Paşa'nın Batı Cephesi'nin tek komutanı olmasına yol açan savaş aşağıdakilerden hangisidir?

- A) Gediz Muharebesi
- B) I. İnönü Muharebesi
- C) II. İnönü Muharebesi
- D) Aslıhanlar - Dumlupınar Muharebesi
- E) Kütahya - Eskişehir Muharebeleri

13. I. Türk Ordusu'na Sakarya Nehri'nin doğusuna çekilme emri verilmesi

- II. Meclisin Kayseri'ye taşınmasının önerilmesi
- III. Mustafa Kemal'in, Başkomutanlığa getirilmesi

**gelişmelerinden hangileri Kütahya - Eskişehir Muharebeleri'nin sonuçları arasında gösterilebilir?**

- A) Yalnız I
- B) Yalnız II
- C) I ve III
- D) II ve III
- E) I, II ve III

14. İtilaf Devletleri'nin Lozan Konferansı'nda ikilik çıkarma planları aşağıda verilen gelişmelerden hangisi ile bozulmuştur?

- A) Halifeliğinin kaldırılması
- B) Cumhuriyetin ilan edilmesi
- C) Saltanat'ın kaldırılması
- D) Çok partili hayata geçilmesi
- E) Tevhid-i Tedrisat'ın kabul edilmesi

15. Cumhuriyet döneminin ilk anayasası olan 1924 Anayasası'nda, Teşkilat-ı Esasiye'nin;

- I. Ulusal egemenlik
- II. TBMM'nin üstünlüğü
- III. Yerinden yönetim

**hükümlerinden hangileri kabul edilmiştir?**

- A) Yalnız I
- B) Yalnız II
- C) I ve II
- D) II ve III
- E) I, II ve III

16. Türk kadını, milletvekili seçme ve seçilme hakkını aşağıdakilerden hangisiyle kazanmıştır?

- A) Takrir-i Sükun Kanunu'nun kabulüyle
- B) Kanun-ı Esasi'nin ilan edilmesiyle
- C) 1934 yılında çıkarılan yasayla
- D) Teşkilatı Esasi'ye Kanunu'yla
- E) Medeni Kanun'un kabulüyle



**17. Medeni Kanun'un kabul edilmesi ile;**

- I. evlenme işlerinin devlet denetimine alınması,
- II. ailelere soyadı alma zorunluluğu getirilmesi,
- III. kadınlara istediği mesleği seçme hakkının verilmesi

**gelişmelerinden hangilerinin sağlandığı savunulabilir?**

- A) Yalnız I      B) Yalnız II      C) Yalnız III  
D) I ve III      E) I, II ve III

**18. Aşağıdakilerden hangisi Atatürk Dönemi'nde açılan kurumlardan biri değildir?**

- A) Hıfzıssıhha Enstitüsü  
B) Gazi Eğitim Enstitüsü  
C) Vakıflar Bankası  
D) Halkevleri  
E) Millet Mektepleri

**19. 1928 yılında İstanbul'da Güzel Sanatlar Akademisi, 1933 yılında ise Ankara, İstanbul ve İzmir'de devlet konservatuarları açılmıştır.**

**Bu çalışmalar ile ilgili;**

- I. sanat çalışmalarının büyük şehirlerde başlatıldığı,
- II. opera, bale ve tiyatro sanatçılarının yetiştirilmeye çalışıldığı,
- III. dünya çapında önemli sanatçılar yetiştirildiği

**yargılarından hangilerine ulaşılabilir?**

- A) Yalnız I      B) Yalnız II      C) Yalnız III  
D) I ve II      E) I ve III

**20. Atatürk'ün "Her birey istediğini düşünmek, kendine özgü siyasal bir fikre sahip olmak, seçtiği dinin gereklerini yapmak veya yapmamak hak ve özgürlüğüne sahiptir. Kimsenin fikrine ve vicdanına sahip olunamaz." sözü aşağıdaki ilkelere **daha çok** hangisiyle ilişkilidir?**

- A) Cumhuriyetçilik      B) Laiklik  
C) Halkçılık      D) Devletçilik  
E) Milliyetçilik

**21. – Kadınlara siyasi haklar tanınması**

- Ordunun siyasetten ayrılması  
– Siyasi partilerin kurulması

**gelişmelerinin aşağıdaki Atatürk ilkelerinden hangisiyle ilgisi olduğu savunulabilir?**

- A) Cumhuriyetçilik      B) Milliyetçilik  
C) Laiklik      D) Halkçılık  
E) İnkılapçılık

**22. 5 Haziran 1926'da imzalanan Ankara Antlaşması'nda,**

- I. Musul,
- II. Kerkük,
- III. Hatay

**konularından hangilerinin yer aldığı söylenebilir?**

- A) Yalnız I      B) I ve II      C) I ve III  
D) II ve III      E) I, II ve III

**23. İtalya'nın Habeşistan'ı işgaliyle başlayan süreç sonucunda bazı devletler ittifak yapma yoluna giderek Sadabat Paktı'nı imzalamışlardır.**

**Aşağıda verilen devletlerden hangisi Sadabat Paktı'na katılmamıştır?**

- A) Türkiye  
B) Suriye  
C) İran  
D) Irak  
E) Afganistan

24. Atatürk Dönemi'nde Türkiye Cumhuriyeti'nin dış siyasetinde aşağıdakilerden hangisi önemli bir sorun olmamıştır?

- A) Milletler Cemiyetine üye olunması
- B) Suriye ile Hatay Sorunu'nun yaşanması
- C) Irak sınırının belirlenmesi
- D) Nüfus değişiminin yapılması
- E) Boğazlar Komisyonunun kaldırılması

25. Meiji Restorasyonu aşağıdaki hangi ülke tarafından gerçekleştirilmiştir?

- A) Fransa
- B) ABD
- C) Çin
- D) İngiltere
- E) Japonya

26. I. İtalya  
II. Almanya  
III. İngiltere

Yukarıdakilerden hangisi II. Dünya Savaşı'ndaki müttefik devletlerden biri değildir?

- A) Yalnız I
- B) Yalnız II
- C) Yalnız III
- D) I ve II
- E) II ve III

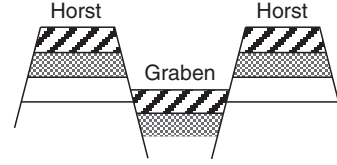
27. Türkiye'de 1950 – 1960 yılları arasında iktidar olan siyasi parti aşağıdakilerden hangisidir?

- A) CHP
- B) ANAP
- C) DYP
- D) DP
- E) AP

28. Aşağıdakilerden hangisi Türkiye'nin matematik konumuyla açıklanır?

- A) Denizli – Afyon – Aydın çevresinde jeotermal kaynakların bol olması
- B) Kuzey Anadolu Dağlarının kuzey yamaçlarının daha sıcak olması
- C) Karadeniz Bölgesi'nde gece- gündüz süre farkının fazla olması
- D) Doğu Anadolu Bölgesi'nde maden çeşit ve rezervinin fazla olması
- E) Rize'de turuncgil ve zeytin üretilmesi

29.



Tabakaların yanlardan aldığı basınçla esnek olmadığı için kırılması kırıklı dağların oluşmasını sağlar.

Aşağıdakilerden hangisi Türkiye'deki kırıklı dağ oluşumuyla ilgili doğru bir bilgi değildir?

- A) En yaygın Ege Bölgesi'nde görülür.
- B) Karstik arazilerde yaygındır.
- C) Depremsellik tehlikesi yüksektir.
- D) Alçakta kalan graben alanlar ova olarak kullanılır.
- E) Sıcak su kaynakları bakımından zengindir.

30. Aşağıdakilerden hangisi Türkiye akarsularının genel özellikleri arasında yer almaz?

- A) Denge profiline oldukça yakındırlar.
- B) Aşındırma ve taşıma güçleri fazladır.
- C) Enerji üretimi, içme- kullanma suyu elde etme, sulama ve turizmde yararlanılır.
- D) Boyları kısadır.
- E) Hidroelektrik potansiyelleri yüksektir.

31.

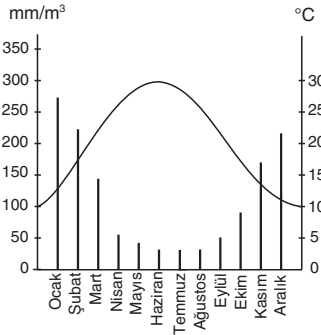


Yukarıdaki haritada taranarak bazı platolar gösterilmiştir.

**Aşağıdakilerden hangisi bu platoların ortak özelliğidir?**

- A) Karstik arazide bulunmaları
- B) Bol yağış almaları
- C) Seyrek nüfuslu olmaları
- D) Büyükbaş mera hayvancılığı yapılması
- E) Yükseltilerinin fazla olması

32.



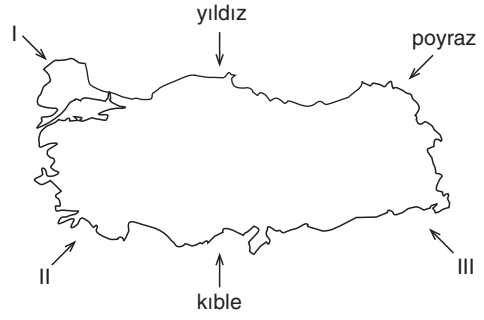
Yukarıda sıcaklık ve yağış grafiği verilen yöreyle ilgili olarak;

- I. Kar yağışı ve don olayı nadir görülür.
- II. Kış ılıklığına ihtiyaç duyan ürünler yetiştirilebilir.
- III. Geven, yavşan otu, sığır kuyruğu gibi türlerin bulunduğu step bitki örtüsüne sahiptir.

**yargılarından hangileri söylenebilir?**

- A) Yalnız I
- B) Yalnız II
- C) Yalnız III
- D) I ve II
- E) I, II ve III

33.



Türkiye'de etkili olan yerel rüzgarlar geldikleri yerin sıcaklık özelliklerini ulaştığı alanlara taşırlar. Yukarıdaki Türkiye haritasında kuzey ve güneyden eserek Türkiye'yi etkileyen yerel rüzgarlar verilmiştir.

**Aşağıdakilerden hangisinde boş bırakılan rüzgar yönü- adıyla doğru eşleştirilmiştir?**

	I	II	III
A) Samyeli		Karayel	Günbatısı
B) Fön		Lodos	Karayel
C) Lodos		Föhn	Samyeli
D) Karayel		Kible	Günbatısı
E) Karayel		Lodos	Samyeli

**34. Doğu Anadolu Bölgesi'nde arpa üretiminin yaygın olması;**

- I. Hayvan yemi olarak kullanılması
- II. Soğuğa karşı daha dayanıklı olması
- III. Erken olgunlaşması

**özelliklerinden hangileriyle açıklanabilir?**

- A) Yalnız I
- B) Yalnız III
- C) I ve II
- D) II ve III
- E) I, II ve III

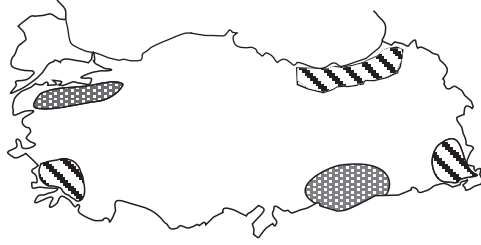
**35. Aşağıdakilerden hangisi Türkiye'de tarım alanlarında sulamanın artmasıyla ortaya çıkan sonuçlar arasında gösterilemez?**

- A) Ürün veriminde artış olması
- B) Nadasa ayrılan alanların azalması
- C) Kuru tarım ürünleri ekim alanlarının azalması
- D) Ürün çeşitliliğinin artması
- E) Mera hayvancılığının artması

36. Türkiye üç tarafı denizlerle çevrili bir yarımada-  
dır. Aynı zamanda sık bir akarsu ağı siste-  
mi olması balıkçılık potansiyelinin oldukça  
yüksek olmasına imkan tanır. Buna rağmen;

- I. Kıyı balıkçılığın yapılması  
II. Modern tekne ve araçların yaygın olması  
III. Yanlış avlanma tekniklerinin kullanılması  
**durumlarından hangileri Türkiye’de balıkçılı-  
ğın yeterince gelişmemesinin nedenleri ara-  
sında gösterilebilir?**
- A) Yalnız I      B) Yalnız II      C) Yalnız III  
D) II ve III      E) I, II ve III

37.



**Yukarıdaki haritada yoğun yapılan hayvancılı-  
k türleri hangisinde doğru verilmiştir?**



- A) Koyun      Büyükbaş hayvancılık  
B) İpekböcekçiliği      Arıcılık  
C) Tiftik keçisi      Koyun  
D) Arıcılık      Arıcılık  
E) Kümes hayvancılığı      Kıl keçisi

38. I. Elektrik üretiminin yarısının karşılandığı böl-  
gedir.  
II. Linyit rezervlerinin en fazla olduğu bölgedir.  
III. Güneş enerjisi potansiyelinin en fazla oldu-  
ğu bölgedir.  
IV. Jeotermal santrallerle elektrik üretiminin en  
fazla olduğu bölgedir.  
V. Taşkömürü ile elektrik üreten tek termik  
santralin bulunduğu bölgedir.

**Yukarıda özellikleri verilen bölgeler eşleştiri-  
ldiğinde hangi bölge dışarıda kalır?**

- A) İç Anadolu Bölgesi  
B) Karadeniz Bölgesi  
C) Doğu Anadolu Bölgesi  
D) Güney Doğu Anadolu Bölgesi  
E) Ege Bölgesi

39. **Aşağıdakilerden hangisi Türkiye’deki maden  
çeşit ve rezervi ile ilgili doğru bir bilgi değili-  
dir?**

- A) Demir- Çelik fabrikaları hammadde üzerin-  
de kurulu değildir. Demir çıkarımın yarısın-  
dan fazlası Doğu Anadolu Bölgesinden  
yapılır.  
B) Türkiye’nin en önemli ihraç madeni krom en  
fazla Doğu Anadolu ve Akdeniz Bölgesi’nde  
çıkarılmaktadır.  
C) Fosfat çıkarımı yoğun olduğundan ihraç  
değeri yüksektir.  
D) Maden çeşit ve rezervinin en fazla olduğu  
bölüm Yukarı Fırat Bölümü’dür.  
E) Marmara Bölgesi doğalgaz- volfram ve mer-  
mer çıkarımında ilk sırada yer alır.

40. **Aşağıdaki elektrik santrallerinden hangisi  
çevreye daha az kirlilik yaratmaktadır?**

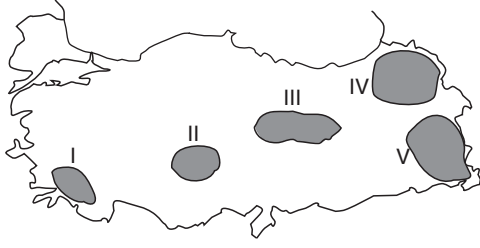
- A) Ambarlı Santrali  
B) Yatağan Santrali  
C) Sarayköy Santrali  
D) Çatalağzı Santrali  
E) Ovaakça Santrali

41. Kırsal alanlarda konutlarda yapı malzemesi gelir  
seviyesinde az olması nedeniyle daha çok  
doğal çevreden karşılanır.

**Aşağıdakilerden hangisinde il ve kırsal ala-  
nında kullanılan yapı malzemesi doğru  
eşleştirilmiştir?**

- A) Urfa – Kerpiç  
B) Giresun – Taş  
C) Hakkari – Ahşap  
D) Sivas – Ahşap  
E) Antalya – Kerpiç

42.



Yukarıdaki Türkiye haritasında taranarak gösterilen alanlardan hangisinde nüfusun seyrek olmasında diğerlerinden farklı bir neden etkili olmuştur?

- A) I B) II C) III D) IV E) V

43. I. Doğum oranlarının yüksek olması  
II. Kentsel nüfus oranının fazla olması  
III. İş imkanlarının kısıtlı olması

durumlarından hangileri göç veren illerin ortak özelliğidir?

- A) Yalnız I B) Yalnız II C) I ve II  
D) I ve III E) I, II ve III

44. Aşağıdakilerden hangisi Türkiye'deki sanayi kuruluşları ve dağılımı ile ilgili doğru bir bilgi değildir?

- A) Otomotiv sanayisi ihracat gelirlerine en çok katkı yapan koldur.  
B) İlaç fabrikaları gelişmiş büyük kentlerde bulunur.  
C) Halıcılık koyun besleyiciliğinin ve sermaye birikiminin olduğu yerlerde gelişmiştir.  
D) Kimya sanayisi iç bölgelerde daha çok gelişmiştir.  
E) Çimento sanayisi Türkiye'deki en yaygın sanayi kollarından biridir.

45. I. Petrol – Doğalgaz – Taşkömürü  
II. Savunma sanayisi ürünleri  
III. Bilişim – Teknoloji – İletişim araç ve gereçleri  
IV. Dokuma sanayisi – Tekstil  
V. Savunma sanayii ürünleri

Yukarıda verilen sanayi ürünlerinden hangileri ithal edilen ürünler arasında yer almaz?

- A) I B) II C) III D) IV E) V

46. Devlet Denetleme Kurulu aşağıdakilerden hangisine bağlı olarak faaliyet gösterir?

- A) Maliye Bakanlığı  
B) Dışişleri Bakanlığı  
C) Cumhurbaşkanlığı  
D) TBMM  
E) Yargıtay

47. Aşağıdakilerden hangisi sosyal ve ekonomik haklardan biri değildir?

- A) Eğitim ve öğretim hakkı  
B) Grev hakkı  
C) İspat hakkı  
D) Lokavt hakkı  
E) Çalışma hakkı

48. Mali hukuk ile ilgili olarak aşağıdakilerden hangisi yanlıştır?

- A) Devletin gelir elde etmesi ve harcaması ile ilgili konuları düzenleyen kamu hukuku dalıdır.  
B) Devlet kamu harcamalarını finanse etmek için vatandaşlardan mali güçlerine göre vergi alır.  
C) Vergi gelir, servet harcama üzerinden alınır.  
D) Gelir vergisi, sadece şirketlerin kazancından alınan bir vergi türüdür.  
E) Gerçek kişinin gelirinden alınan vergiye gelir vergisi denir.

49. Yargı organları ile ilgili olarak aşağıdakilerden hangisi yanlıştır?

- A) Adli, idari ve askeri yargı olarak sınıflandırılır.  
B) Adli yargıda yerel Adli Mahkemeler ve Yargıtay bulunur.  
C) İdari yargıda İdare Mahkemeleri ve Danıştay yer alır.  
D) Askeri yargıda Askeri Mahkemeler, Yüksek Askeri İdare Mahkemesi yer alır.  
E) Sulh Ceza, Asliye Ceza ve ağır Ceza Mahkemeleri askeri yargı kapsamında yer alır.

50. Aşağıdakilerden hangisi devletin yasama, yürütme ve yargı iktidarlarını farklı devlet organlarına vermiş olmasını ifade etmektedir?

- A) Meclis hükümeti
- B) Rasyonelleştirilmiş Parlamentarizm
- C) Kuvvetler ayrılığı
- D) Depolitizasyon
- E) Çoğulcu Demokrasi

51. Aşağıdakilerden hangisi anayasada yer alan değiştirilmesi yasak olan maddelerden değildir?

- A) Türkiye Devleti bir cumhuriyettir.
- B) Türkiye Cumhuriyeti, toplumun huzuru, milli dayanışma ve adalet anlayışı içinde, insan haklarına saygılı, objektif milliyetçiliğine bağlı bir devlettir
- C) Türkiye Devleti, ülkesi ve milletiyle bölünmez bir bütündür. Dili Türkçedir.
- D) Bayrağı, şekli kanununda belirtilen, beyaz ay yıldızlı al bayraktır.
- E) Milli marşı "İstiklal Marşı"dır.

52. Aşağıdakilerden hangisi, yapılan bir seçimde seçmenlerin temsilcilerini doğrudan doğruya seçmelerini ifade eder?

- A) Eşit oylu seçim
- B) Genel oylu seçim
- C) Seçimlerin serbestliği
- D) İki dereceli seçim
- E) Tek dereceli seçim

53. Aşağıdakilerden hangisi TBMM'nin görevlerinden biri değildir?

- A) Kanun koymak, değiştirmek ve kaldırmak
- B) Bakanlar Kurulu ve bakanları denetlemek
- C) Başbakanı ve bakanları atamak
- D) Bakanlar Kuruluna belli konularda kanun hükmünde kararname çıkarma yetkisi vermek
- E) Bütçe ve kesin hesap kanun tasarılarını görüşmek ve kabul etmek.

54. Yasama yetkisinin devredilmezliği ile ilgili olarak aşağıdakiler hangisi yanlıştır?

- A) Yasama yetkisi Türk Milleti adına Türkiye Büyük Millet Meclisindedir.
- B) TBMM kendisine tanınmış olan bu yetkiyi devredemez.
- C) Yasama yetkisinin devredilemeyeceği yolunda bir kural olmasaydı bile, yasama yetkisi devredilemezdi.
- D) Kamu hukukunda hiçbir devlet organı, anayasa ve kanunlardan aldığı bir yetkiyi, bu metinlerde açık bir izin olmaksızın bir başka devlet organına devredemez.
- E) Anayasa, yasama yetkisini Türkiye Büyük Millet Meclisi ve Cumhurbaşkanı arasında bölüştürmüştür.

55. 2014'de düzenlenecek Oscar film Festivaline Türkiye'den hangi film en iyi yabancı film dalında aday gösterildi?

- A) Babam ve Oğlum
- B) Kelebeğin Rüyası
- C) Güz Sancısı
- D) Eyvah Eyvah
- E) Dügün Dernek

56. İslam İşbirliği Teşkilatı yeni sekreteri kimdir?

- A) İyad Medeni
- B) Kemal Unakıtan
- C) Ekmeleddin İhsanoğlu
- D) Abdullah bin Ziyad
- E) Pervez Müşerref

59. Ay'a ABD ve Rusya'dan sonra keşif uçağı gönderen 3'üncü ülke hangisidir?

- A) İngiltere
- B) Çin
- C) Japonya
- D) Kanada
- E) Fransa

57. 38. Cumhurbaşkanlığı Kültür ve Sanat ödüllerinin müzik dalında ödül alan sanatçı kimdir?

- A) Ebru Gündeş
- B) Ahmet Kaya
- C) Barış Manço
- D) Kubat
- E) Erkin Koray

60. Kasım 2013 yılında yapılan İklim Değişikliği Konferansı hangi ülkede yapıldı?

- A) Avustralya
- B) Rusya
- C) Meksika
- D) Polonya
- E) Şili

58. 1 Ocak 2014 yılı itibari ile AB dönem başkanlığı 6 aylık süre ile devir alan ülke hangisidir?

- A) Hırvatistan
- B) Bulgaristan
- C) Romanya
- D) Yunanistan
- E) Fransa

Memur, Öğretmen ve Kariyer Meslek Adayları  
KPSS-ALES ve DGS'de KARACAN 13 YILDIR ZİRVEDE TEK BAŞINA

# 2013 KPSS

ŞAMPİYONLARI  
YİNE  
KARACAN'DAN



**KPSS-A**

TÜRKİYE  
BİRİNCİLİĞİ

2003-2004-2005  
2006-2007-2008  
2009-2010-2011  
2012- 2013  
YILLARI

**KPSS-B**

TÜRKİYE  
BİRİNCİLİĞİ

2004  
2006  
2008  
YILLARI

**DGS**

TÜRKİYE  
BİRİNCİLİĞİ

(2008)  
TÜRKİYE  
İKİNCİLİĞİ  
(2011)  
YILLARI

**ALES**

TÜRKİYE  
BİRİNCİLİĞİ

(2008)  
YILI

**KAYITLAR  
DEVAM  
EDİYOR**

“Türkiye Sizi Kazanacak”

ÇÜNKÜ BURASI  
30 yıllık tecrübesiyle  
İLERİ DÜZEY SINAVA HAZIRLAMA MERKEZİ

ANKARA / Kızılay: (0.312) 435 96 00 • Sincan: (0.312) 271 25 25  
İSTANBUL / Kadıköy: (0.216) 349 46 46 • Bakırköy: (0.212) 542 50 50 • Mecidiyeköy: (0.212) 347 91 91  
Pendik: (0.216) 483 24 24 • Beşiktaş: (0.212) 236 99 99 • Ümraniye: (0.216) 335 48 48  
Gaziosmanpaşa: (0.212) 615 74 74  
İZMİR / Çankaya: (0.232) 441 38 38 • Karşıyaka: (0.232) 369 81 44 • Buca: (0.232) 420 91 91  
Bornova: (0.232) 343 33 99 • Şirinyer: (0.232) 452 32 32



1983

karacanakademi.com