



KPSS

GENEL YETENEK



Bu testte toplam **60** soru vardır. *Başarılar dileriz...*

1. Onun en önemli özelliği, kendisinden öncekilere hiçbirine benzememesiydi. Alışılmışı aşma özelliği herkesten çok onda vardı. Daha doğrusu, yaradılışı gereği bu yaklaşımdan başkasını bilmiyordu. Düz rayda gitmekten sıkılıyor, anlatımda sözcükleri rayından çıkardığı zaman da mizahın en güzelini üretiyordu.

Bu parçadaki “anlatımda sözcükleri rayından çıkarmak” sözüyle anlatılmak istenen aşağıdakilerden hangisi olamaz?

- A) Sözcükleri gerçek anlamlarının dışında kullanmak
B) Sözcükleri bilinen anlamlarının ötesinde kullanmak
C) Sözcüklerin anlam sınırını zorlayarak anlatımı bozmak
D) Sözcüklere yeni mecaz anlamlar kazandırmak
E) Yeni anlam ve çağrışımlara yer vermek

2. DİE sonuçlarına göre, 2013'te ülkemizde kadınların nüfus artış oranı erkeklerden % 5 daha fazla olmuştur.

Bu cümleden kesin olarak çıkarılabilecek yargı aşağıdakilerden hangisidir?

- A) Ülkemizde 2013 yılında erkek nüfusunda artış olmamıştır.
B) Ülkemizde kadın nüfusu erkeklerden daha fazladır.
C) Ülkemizde son yıllarda doğum oranında düşüş görülmektedir.
D) 2013'te erkeklerin nüfus artışı kadınlardan az olmuştur.
E) 2013'te kadınların nüfus artış oranı rekor seviyededir.

3. (I) Kitap, elden düşürülemeyecek kadar çekici geldiği zaman kişiye yarar sağlar. (II) Bu çekicilik, her kitap okuyuşta yeni kitaplar okuma isteği doğurur. (III) İstemeye istemeye, uyuklaya uyuklaya okunan kitaplar bir yarar getirmez. (IV) Okumayı hayatının vazgeçilmezi kılmak isteyen, kolaydan zora bir yol izlemeli. (V) Böylece okuma isteği, kişinin hayatında etkisini basamak basamak hissettirecektir.

Bu parçadaki numaralanmış cümlelerin hangisinde “öneri” söz konusudur?

- A) I. B) II. C) III. D) IV. E) V.

4. (I) İlk öykü kitabı “Bu Gece Pera’da” ile adını duyuran Jale Sancar, sonraki kitaplarında da başarı çizgisini yükselterek sürdürdü. (II) Öne çıkan günümüz öykücülerinden biri olmasına rağmen, hak ettiği ölçüde değerlendirildiğini söyleyemeyiz. (III) Bunun nedeni, Sancar’ın yazma çabasını sessiz, ödünsüz sürdürmesidir sanırım. (IV) Yazarın 2002’de yayımlanan son öykü kitabı “Surdibinde” yetkin bir ürün. (V) Kitap; yoğunluğu, dili, kurgulanışı ile olduğu kadar; küçük, sıradan insanların duygularına ayna tutmasıyla da etkileyici.

Bu parçadaki numaralanmış cümlelerin hangisinde “yakınma” anlamı söz konusudur?

- A) I. B) II. C) III. D) IV. E) V.

5. (I) Ölümünün yirmi beşinci yılı şerefine Orhan Veli'nin "Bütün Eserleri" yeniden yayımlanıyor. (II) Kenarda köşede kalmış ne varsa hepsi toplan- sa bile gene de büyük bir birikim olmayacak. (III) Yaşamının kısıtlığı, yeterince çalışıp üretmesi- ne olanak vermediği için. (IV) İnsanın yetişmesi o kadar uzun ve otuz altı yaşında göçüp gitmek bir şair için öyle kısa bir ömür ki! (V) Buna karşın umutsuz ortamlarda kendini harcayan nice Türk sanatçısı, ölüme bir an önce gitmenin yolunu arar gibi yaşadı.

Bu parçadaki numaralandırılmış cümlelerle ilgili olarak aşağıdakilerden hangisi yanlıştır?

- A) I. cümlede, yargı gerekçesiyle verilmiştir.
B) II. cümlede, koşul gerçekleşse de sonuca ula- şılamayacağı anlamı vardır.
C) III. cümlede, kendinden önceki yargının nedeni belirtilmiştir.
D) IV. cümlede, kanıya yer verilmiştir.
E) V. cümlede, karşılaştırma söz konusudur.

6. (I) Okulda başarı düzeyimizi artırabilmemiz için velilere ulaşım öğrencilerin başarısızlıklarının ne- denlerini konuşmamız gerekiyor. (II) Bu amaçla bel- irli aralıklarla veli toplantıları yapmayı düşünüyö- rum. (III) Bu toplantılar, geçmişte de velilerle ara- mızda iyi bir diyalogun kurulmasını sağladı. (IV) Düşündüğüm gibi olursa bu toplantıları geleneksel hâle getireceğim. (V) Bu tür etkinlikler, öğretmen – öğrenci samimiyetinin artmasına ve öğrencilerin sorunlarının daha iyi anlaşılmasına katkıda bulu- nacaktır.

Bu parçadaki numaralanmış cümlelerin hangi- sinde "öngörü" anlamı vardır?

- A) I. B) II. C) III. D) IV. E) V.

7. Kimi yazarlar bilgilendirme ve ---- amacının yanı sıra okurun yerleşik kanılarını, inanç ve dav- ranışlarını ---- , bunların yerine yenilerini yerleş- tirmek ister; bunun için okurlarını kendi çizgisine çekmeyi, ---- gibi duymaya, düşünmeye, dav- ranmaya ---- amaçlar.

Bu cümlede boş bırakılan yerlere sırasıyla aşağıdakilerden hangisinde verilenler getirilme- lidir?

- A) yönlendirme – benimsetmek – birisi taşımayı
B) yönlendirme – benimsetmek – kendileri – ça- lışmayı
C) öğrenme – değiştirmek – bazıları – güdülen-meyi
D) öğretme – değiştirmek – başkaları – yönetmeyi
E) öğretme – değiştirmek – kendisi – yönlendir-meyi

Y
A
R
G
I
Y
A
Y
I
N
E
V
İ

8. I. Kurtuluş Savaşı'mızla ilgili birçok roman yazıl- mıştı.
II. İnsanlar da buldukları ortam ve konulara göre değil genel yapıya göre yorumlanıyor, yargılanıyor, değerlendiriliyordu.
III Kurtuluş Savaşı'nın tarafsız anlatılması gerek- tiğini düşündüğüm için de Küçük Ağa'yı yaz- dım.
IV. Oysa ben bir yazarın bir bilim insanı gibi taraf- sız olması gerektiğine inanıyorum.
V. Ben de bunların çoğunu okumuş ve hemen hemen hepsinde de önemli bir yanılığ bulmuş- tum: Konu, bilinen ve artık değiştirilemez sonu- ca göre ele alınıyordu.

Yukarıdaki numaralanmış cümleler anlamlı bir bütün oluşturacak biçimde sıralandığında han- gisi baştan üçüncü olur?

- A) I. B) II. C) III. D) IV. E) V.

9. I. İstanbul, büyük uygarlıkların ve dinlerin yansımalarıyla şenlenen güzel bir mozaiktir.
II. Farklı kültürlerden ve dinlerden oluşan toplumların yılın belli dönemlerinde gerçekleştirdikleri dinî kutlamalarıyla bu mozaik daha da renklenir.
III. Aralık ayında Hristiyan Ortodokslarının ve Katoliklerinin Noel kutlamaları olur ki Rum ve Ermeni kiliselerinde yapılan çok özel kutlamalardır bunlar.
IV. Katolikler için kutsal kabul edilen ayazmalar ise Tünel'deki Santa Maria Kilisesi'nde teşhire sunulur.
V. Fener Rum Ortodoks Patrikhanesi, Fener'de yapacağı kutlamalarda Vatikan'dan özel olarak getirdiği suyu halka dağıtır, şerbetler sunar.

Yukarıdaki numaralanmış cümlelerin anlamlı bir bütün oluşturabilmesi için hangileri yer değiştirmelidir?

- A) I. ve II. B) II. ile III. C) II. ile V.
D) III. ile V. E) IV. ile V.

10. Şimdi sen uykudasın

Ay başın alıp gitmiş
Yıldızlar oynaşta mavilikle
Gecenin şüphesi bitmiş

Bu dizelerde aşağıdakilerden hangisi yoktur?

- A) Ünlü düşmesi
B) Ulama
C) Kaynaşma
D) Ünlü türemesi
E) Ünsüz benzeşmesi

11. Aşağıdaki dizelerin hangisinde belirtili ad tamlaması yoktur?

- A) Dağların üstünde
Ay uneledi bütün gece
B) Gecenin tadı yok farkında mısın
Saçların bambaşka karanlıklarda
C) Elif'in uğru nakışlı
Yavru balaban bakışlı
D) Bir garip rüya rengiyle
Rüzgârdaki yaprak bile
E) Akşam, sanki boşluk içime dolar
Dağların cilası gittikçe solar

12. Zamanla nasıl değişiyor insan!

Hangi resmime baksam ben değilim.

Nerede o günler, o şevk, o heyecan

Bu güler yüzlü adam ben değilim.

Bu dörtlükte aşağıdakilerden hangisi yoktur?

- A) Addan türemiş eylem
B) Soru sıfatı
C) Birleşik sıfat
D) Soru zamiri
E) Kişi zamiri

13. Gündelik hayatta yaşanan sıkıntılarınızı fazla abart-

mayın. Aynısının farklı modelinden bir başkasında

da var. Hepimiz kendi masalımızın cücesiyiz.

Fazlası değil.

Bu parçadaki numaralanmış sözlerle ilgili olarak aşağıdakilerden hangisi yanlıştır?

- A) I. söz, sıfat-fiil eki almıştır.
B) II. söz, belgisiz sıfattır.
C) III. söz, niteleme sıfatıdır.
D) IV. söz, belgisiz zamirdir.
E) V. söz, iyelik eki almış addır.

14. Geçtiğimiz yıl kapılarını sinema severlere ilk kez

açan ve engeli olan ya da olmayan tüm izleyicilerin

bir arada film izlemesine olanak sağlayan Ankara

Engelsiz Filmler Festivali, bu sene 20-25 Mayıs

2014 tarihleri arasında gerçekleşecek.

Bu parçadaki numaralanmış sözlerden hangisinin yazımı yanlıştır?

- A) I B) II C) III D) IV E) V

15. Moda'da aylak aylak yürürken gözüm küçük bir sahafın vitrinine takıldı. (I) Üç kitap yan yana uzanmış, gülümsüyorlardı bana. (II) Hayır, bu gülümseme değildi, bir çağrıydı. (III) Onlarla tanışmak, dokunmak, sevmek için araladım kapısını küçük dükkânın. (IV) Şişko bir kedi gözlerini yummuş; sobadan taşan sığağa yakın bir rafa yayılmıştı keyifle. (V) Bir diğeri, sarı çizgili olan, ağırdan dolanıyordu kitapların arasında.

Bu parçadaki numaralandırılmış cümlelerin hangisinde bir noktalama yanlışı vardır?

- A) I B) II C) III D) IV E) V

16. Aşağıdakilerin hangisinde bir anlatım bozukluğu vardır?

- A) Deneme, çağımızda gittikçe ilgi ve beğeni kazanan, sanatla bilimin kucaklaştığı bir tür olmuştur.
B) Hatıra yazmaktan maksat, sadece gelecek kuşakları aydınlatmak değildir.
C) Balzac'ı hemen herkes gibi ben de Fransızca okumaya başladığım zaman tanıdım.
D) Alerjik nezlede ilaç tedavisine mutlaka doktor önerisiyle başlanmalıdır.
E) İnsan, önce içindeki sıkıntıyı dağıtmazsa şehir değiştirmek daha fazla bunaltır onu.

17. (I) Karadeniz'in doğusunda nisan ayının geliş heyecanla beklenir. (II) Bu heyecan baharın gelişinden çok, guguk kuşunun gelişinden kaynaklanır. (III) Guguk kuşuna Çayeli'nde kukudî, Arhavi'de guguli adı verilir. (IV) Bu günlerde anne ve babalar çocuklarına erken kalkmalarını ve kahvaltılarını bir an önce yapmalarını öğütler. (V) Çünkü bu yöredeki inanişâ göre, guguk kuşu öttüğünde kahvaltısını yapmayan çocuk doğanın gücüne yenilip zayıflayarak hastalanabilir.

Bu parçada numaralanmış cümlelerden hangisi düşüncenin akışını bozmaktadır?

- A) I. B) II. C) III. D) IV. E) V.

18. Vapurun yardığı sular, iki yanından, güya neşelerinden köpüre köpüre Üsküdar'a gidişler, daima eğlenceliydi. Fakat o zamanlarda Üsküdar İskeleyi'nin etrafı, insan sefaletlerinin bir sergisi gibi öyle kalabalık, sıkışık, karanlık, kirlî ve kasvetliydi ki bana korkuya benzer bir his verirdi. Gönlümde taşıdığım hülyaları ve ümitleri korumak kaygısıyla, buradan geçinceye kadar, etrafımı görmemeye gayret ederek annemin elini sımsıkı tutardım. Ancak biraz ötede, bindiğimiz arabayla, kalabalığı, köpekleri, sinekleri ve kirleri bırakıp kalabalık yollardan geçerek Bülbül Deresi'nde, sağda Karacaahmet'in serpintilerinden olan ve muntazam Hristiyan mezarlıklarını andıran, hep düz ve dik taşlı mezarlığa karşı, büyük bir fıstık ağacı önündeki evimize geldik.

Bu parçanın anlatımında aşağıdakilerin hangisinde verilenler ağır basmaktadır?

- A) Açıklama – öyküleme
B) Öyküleme – betimleme
C) Betimleme – açıklama
D) Açıklama – karşılaştırma
E) Açıklama – tartışma

19. Zihinde tasarlanan varlıklara hayal diyoruz. Her insanın bir hayal dünyası vardır. Medeniyet tarihindeki buluşlar, önce zihinde tasarlanmış, sonra hayata geçirilmiştir. Fransızlar "Hayal gerçeğin barutudur." derler. Hayal dünyası türlü kaynaklardan beslenir. Çevre, yaşanan olaylar, görülen varlıklar, okunan kitaplar, dinlenen konuşmalar, izlenen filmler, oyunlar, sanat ve kültür etkinlikleri hayal dünyamızı besleyen kaynaklardır. İnsan hayali, bu kaynaklardan hareket ederek yaşanmayı, görünmeyi ortaya koymaya çalışır. Konuşma ve yazma sırasında da işte bu hayal dünyamızın oluşturduğu kaynaklardan yararlanırız.

Bu parçada aşağıdakilerden hangisine değinilmemiştir?

- A) İnsanların hayallerini gerçekleştirme adına, sandığı kadar çok şey yapmadıklarına
B) Hayatımızdaki konuşma ve yazmaların hayal dünyamızın oluşturduğu özden beslendiğine
C) İnsanlığı medeniyete ulaştıran birçok buluşun gerçekleşmeden önce bir hayal olduğuna
D) İnsanların hayalleriyle birçok yaşanılmayı ve görülmeyeni tasavvur ettiklerine
E) Fransızların hayali gerçeğin ateşleyicisi olarak görüp önemsediklerine

20. Akupunkturcular, bilim insanlarına bedeninin enerji sistemi üzerindeki "meridyen" diye adlandırılan noktalardan geçiş yaparak tedaviyi gerçekleştirdiklerini açıklamaya çalışıyor. Ama Batılı bilim insanları, açıklamanın insan bedeninin işleyişi hakkında kendi geliştirdikleri modellerin dışındaki modellerle de açıklanabileceğini düşünemiyorlar. Bu bilim insanları, kendi ön yargılarının kurbanıdır. Kendi modellerinin tek gerçek olduğunu, hatta gerçeğin ta kendisi olduğunu sanıyorlar.

Bu parçada eleştirilen, aşağıdakilerden hangisidir?

- A) Batılı bilim insanlarının akupunktur yöntemini ciddiye almak zorunda kalacakları
- B) Batılı bilim insanlarının tek gerçek sandıkları kendi modellerinin dışında hiçbir şeyi kabule yanaşmadıkları
- C) Akupunkturcuların meridyen denen noktalarından girerek tedaviyi geliştirme yöntemleri
- D) Batılı bilim insanlarının akupunktur yöntemini kendi yöntemlerine uydurmak istemeleri
- E) Akupunkturcularla Batılı bilim insanlarının birbirlerinin bilgi ve deneyimlerine açık olmamaları

21. Mega sözcüğü, son birkaç yıldır hem konuşma hem yazı dilimize taht kurdu. İletişim ortamında gözde oldu. Her konuşmaya girdi, sözü böldü. Büyüklük ifadesi için vazgeçilmez bir sıfat oldu. Sıfat diyoruz. Oysa "mega" Batı dillerinde sıfat değil ön ektir. Bu ek, megafon, megaton, megavat gibi sözcüklerde sessiz sakin yaşayıp gidiyordu. Türkçede ön ek olmadığı için dar bir alanda sıkışmış kalmıştı. Artık büyük diyemiyoruz, şahane, harika, muhteşem, dev, görkemli, gösterişli diyemiyoruz. O kadar sıkıştık ki belirli kelimeler arasında! Dilimizi böyle garip ifadelerle daraltarak kime yarar sağlarız ki? Maymuncuk gibi kelimeler dile zarar veriyor, ifadeyi zayıflatıyor, düşünceyi sığlaştırıyor.

Bu parçada vurgulanmak istenen düşünce aşağıdakilerden hangisidir?

- A) Türkçede Batı dillerinde yaygın olan ön ekler yoktur.
- B) Batı dillerinde aslında ön ek olan "mega" kelimesi bizde sıfat olarak kullanılmaktadır.
- C) Mega kelimesi, son birkaç yılda hem konuşma hem de yazı dilinde baş köşeye oturdu.
- D) Dilimize yabancı dillerden giren kelimelerin sıkça kullanılması dilimizi kısırlaştırıp zayıflatmaktadır.
- E) Batı kaynaklı olan mega sözcüğü, megafon, megaton, megavat sözcüklerinden gelen bir ön ektir.

22. ---- Elbette sizi de zorlayan olmadı. Bir gün, daha okula giden bir çocuktunuz yahut yeni bitirmiştiniz okulu. Bir kitapta, bir dergide şiirler okudunuz, beğendiniz onları. Sonra şiir yazarların alkışlandığını, övüldüğünü gördünüz. "Ben de deneşem." dediniz. Kalem aldınız elinize ... Belki de öyle olmadı. Yolda giderken ya da yatağınızda uykunuz kaçmış bir şeyler düşünürken aklınıza bir söz, bir mısra geldi; şimdiye kadar söylenmemiş bir sözdü bu. Sizin duygularınızı, benliğinizi ne kadar iyi anlatıyordu! Sevdiğiniz o sözü "Başkaları da duysun, duyarsa beğenirler." dediniz belki de. Kim bilir neydi o söz? Acaba içeriğini mi güzel buldunuz yoksa biçimini mi? Şimdi onu da hatırlayamazsınız. Ama siz o gün yahut o gece, şair olma isteği duyduunuz.

Bu parçanın başına düşüncenin akışına göre aşağıdakilerden hangisi getirilmelidir?

- A) Yaratıcı eserlerde zorlama olmaz.
- B) Ben size neden şair olduğunuzu söyleyebilirim.
- C) Her şairi yazmaya iten bir neden vardır.
- D) Neden romancı değil de şair oldunuz?
- E) Güdümlü yazmak yaratıcılığı önemli ölçüde engeller.

23. Rahatlıkla geçip feraha ulaşacağımız birçok kapıyı, kendi inançlarımız, korkularımız, endişelerimizle daraltıp kendimizi kendimize tutsak ettiğimizi çok geç fark ederiz. Yaptıklarımızdan çok yapamadıklarımızdan daha çok pişman olmamızın gizli nedeni de budur zaten. Yaptıklarımızın sonuçları kötü çıksa da çıkan sonuçlardan bizimle birlikte başkaları da sorumludur. Başkalarının iradesi daha işin içine girmiştir. Pişmanlığımızı ve öfkemizi başkalarının üstüne yıkabilir, pişmanlıktan kendi payımıza düşeni azaltabiliriz. Ama yapmadıklarımızdan duyduğumuz pişmanlıkların bizden başka sorumlusu yoktur. Bizden başka suçlu bulamadığımız için de o pişmanlığı tek başına sahiplenmek zorunda kalırız.

Bu parçadan aşağıdaki yargılardan hangisi çıkarılamaz?

- A) Yapmadığımız şeylerden duyduğumuz pişmanlığı tek başımıza sahiplenmek zorundayız.
- B) Pişmanlıklarımızı ve öfkemizi başkalarının üstüne yıktığımız anlar vardır.
- C) Rahata kavuşacağımız kapıları, inançlarımız ve endişelerimizle daraltarak kendi kendimizi hapsederiz.
- D) Yaptığımız şeylerin sonu iyi de kötü de olsa onlardan pişmanlık duymamız gerekir.
- E) Yaptıklarımızdan ziyade yapamadıklarımızdan pişman olmamızın nedeni kendi korku ve endişelerimizdir.

24. ve 25. soruları aşağıdaki parçaya göre cevaplayınız.

(I) Çocuk, her toplum için gelecek demektir. (II) O hâlde çocuğa yapılan yatırım geleceğe yapılmış yatırım anlamına gelir. (III) Gelecek önemli olduğuna göre çocuğu buna hazırlayacak eserlerin özgün, kaliteli ve güzel hazırlanması kaçınılmazdır. (IV) Bu da genel olarak çocuğun gelişimsel olarak iyi tanınmasıyla mümkün olabilir. (V) Kısaca, çocuklar ruhsal ve bedensel yönleriyle iyi okunmalıdır. (VI) "Okuyabilirsiniz her insan bir kitaptır." diyor William Ellery Channing.

24. Bu parçadaki numaralanmış cümlelerle ilgili olarak aşağıda verilenlerden hangisi yanlıştır?

- A) II. cümlede, I. cümleye bağlı olarak bir yorum yapılmıştır.
B) III. cümlede, kesinlik bildiren bir yargıya yer verilmiştir.
C) IV. cümlede, olasılık bildiren bir yargıya yer verilmiştir.
D) V. cümlede, gereklilik söz konusudur.
E) VI. cümlede, başkasının görüşüne katılma söz konusudur.

25. Bu parçanın anlatımıyla ilgili olarak aşağıdakilerden hangisi yanlıştır?

- A) Değişik cümle türleri kullanılmıştır.
B) Tanık göstermeden yararlanılmıştır.
C) "Çocuk" sözcüğü cümleler arası bağlayıcı ögedir.
D) Betimleyici ögelerden yararlanılmıştır.
E) Özne yargılara yer verilmiştir.

26. - 27. soruları aşağıdaki parçaya göre cevaplayınız.

(I) 11 Mart 2011 günü Japonya, 9 şiddetindeki deprem, ardından da yaşanan tsunami felaketi ve Fukuşima Nükleer Santrali'ndeki sızıntı ile sarsıldı. (II) Bu felaketlerin toplam bilançosu milyarlarca dolar zarar, yıllar sürecektir çevre felaketi ve en önemlisi yüzlerce can kaybı oldu. (III) Felaketin büyüklüğünü gözünüzde canlandırmanızı istiyorum. (IV) Şimdi bahsetmek istediğim durum tam da felaketin yaşandığı o günlerden. (V) O dönemde, TV'deki bir görüntüden kareleri elimden geldiğince tasvir etmeye çalışayım. (VI) Deprem ve sonrasında yaşanan felaket nedeniyle elektrik, su ve telefon hatlarının kesilmesi üzerine dış dünya ile iletişimi kesilen bir kasabaya devlet seyyar tuvaletler, mutfaklar ve telefon kulüpleri kurdu. (VII) Benim için çarpıcı olan tablo ise şu oldu: Günlerdir yakınlarından haber alamayan veya yakınlarını kaybeden, evlerini yurtlarını kaybetmiş, yarı aç yarı tok çocukları kucaklarında onlarca Japon, metrelerce uzanan telefon kuyruğunda bekliyor hem de başları önlerinde, sessiz ve tek sıra.

26. Bu parçada yazarın asıl vurgulamak istediği aşağıdakilerden hangisidir?

- A) Yaşanan her felaketten, bireylerin ve yönetimlerin ders alması gerektiği
B) Medya kuruluşlarının herhangi bir doğal afetten sonra üzerine düşeni yapması gerektiği
C) İnsanların şartları ve durumları ne olursa olsun diğer insanların haklarına saygıyla yaklaşması gerektiği
D) Felaketlerin büyüklüğünün toplumu olumsuz etkilememesi, insanların mücadele etmesi gerektiği
E) Felaketlerden ders alınması ve önlemlerin artırılması gerektiği

27. Bu parçada numaralanmış cümlelerin hangisinde övücü sözler kullanılmadığı hâlde övgü anlamı vardır?

- A) III B) IV C) V D) VI E) VII

28. - 30. soruları aşağıdaki parçaya göre cevaplayınız.

Bir satranç turnuvasında Merkez Ortaokulundan Ali, Burak, Can, Davut, Emre isimli oyuncular ile Cumhuriyet Ortaokulundan Ferhat, Giray, Harun, İlyas, Jale isimli oyuncularla 1 den 5 e kadar olan sayılarla numaralandırılmış masalarda eşleşeceklerdir. Bütün oyuncular oynayacaklar ve hiç kimse kendi okulundan birisiyle eşleşmeyeceklerdir. Masalardaki eşleşmeler aşağıdaki şartlara uygun olacaktır.

- Burak'ın oynayacağı masanın numarası Davut'un oynayacağı masanın numarasından 2 sayı fazladır.
- Harun'un oynayacağı masanın numarası Jale'nin oynayacağı masanın numarasından 2 sayı daha azdır.
- Eğer Can'ın oynayacağı masa numarası, Ali'nin masa numarasından 1 eksik değilse, Giray'ın oynayacağı masa numarası İlyas'ın oynayacağı masa numarasından 1 eksiktir.
- Burak, Harun veya Jale ile oynamaz.
- Davut, Harun veya Jale ile oynamaz.

28. Eğer Can, 4 numaralı masada oynarsa aşağıdakilerden hangisi kesinlikle doğrudur?

- A) Emre, 2 numaralı masada oynar.
- B) İlyas, 3 numaralı masada oynar
- C) Giray, 5 numaralı masada oynar.
- D) Ali, 3 numaralı masada oynar.
- E) Yukarıdakilerin hiç biri

29. Giray hangi masada oynayamaz?

- A) 1 B) 2 C) 3 D) 4 E) 5

30. Eğer Harun, 2 numaralı masada oynarsa, turnuvadaki oyuncular arasında kaç farklı eşleşme olabilir?

- A) 6 B) 8 C) 10 D) 12 E) 14

31. $3 - 3(1 + 2 \cdot 10^{-1})$ **işleminin sonucu kaçtır?**

- A) - 6 B) -2 C) - 0,6 D) 0,6 E) 6

32. $\frac{5 \cdot 6! - 2 \cdot 4!}{9 \cdot 4! + 3!}$ **işleminin sonucu kaçtır?**

- A) 4 B) 8 C) 12 D) 16 E) 20

33. $\frac{x}{7}$ ile $\frac{3}{11}$ kesirleri arasında 44 tane sayı yerleştirilebildiğine göre x pozitif tam sayısı en az kaçtır?

A) 2 B) 3 C) 4 D) 5 E) 6

34. $\frac{\sqrt{28}-\sqrt{8}}{\sqrt{7}-\sqrt{2}} + \frac{1}{\sqrt{3}-2}$

işleminin sonucu kaçtır?

A) $-\sqrt{3}$ B) $\sqrt{3}$ C) $2-\sqrt{3}$
D) 2 E) $4+\sqrt{3}$

35. $\frac{x+2}{y} = \frac{z}{x}$
 $\frac{x}{z+3} = \frac{y-3}{x+2}$

olduğuna göre y - z ifadesinin değeri kaçtır?

A) -9 B) -3 C) 3 D) 6 E) 9

36. a^n sayısı a tabanında yazıldığında n + 1 basamaklı bir sayı elde edilir.

Buna göre 16^{15} sayısı 8 tabanında yazılırsa kaç basamaklı bir sayı elde edilir?

A) 20 B) 21 C) 30 D) 31 E) 61

Y
A
R
G
I
Y
A
Y
I
N
E
V
İ

37. Reel sayılarda tanımlı "Δ" işlemi

$$x \Delta y = -3xy - 5 \quad (y \Delta x)$$

biçiminde tanımlanıyor.

Δ işleminin değişme özelliği olduğuna göre $2 \Delta 5$ işleminin sonucu kaçtır?

A) -5 B) -3 C) -2 D) 3 E) 5

38. $|x - 5| + 4 = 2x$

eşitliğinin çözüm kümesi aşağıdakilerden hangisidir?

A) $\{-1, 3\}$ B) $\{-1\}$ C) $\{3\}$
D) \emptyset E) \mathbb{R}

39. $\frac{0,24 \cdot 10^{-6} + 2,2 \cdot 10^{-7}}{0,003 \cdot 10^{-6} + 0,2 \cdot 10^{-7}}$

işleminin sonucu kaçtır?

- A) 0,2 B) 0,5 C) 2 D) 12 E) 20

40. $x^3 + 5 = 0$ olmak üzere $\frac{4}{x^2 - x + 1}$ ifadesinin x

türünden eşiti aşağıdakilerden hangisidir?

- A) $x + 1$ B) $2x + 2$ C) $-x - 1$
D) $-2x - 1$ E) $-x + 1$

41. - 43. soruları aşağıdaki bilgilere göre cevaplayınız.

1 den 6 ya kadar (6 dahil) rakamların kullanıldığı bir sayı yazma oyununda sayının değerini hesaplama işlemi aşağıdaki şekildedir.

- En büyük basamaktaki sayı, sayı değeri en büyük olan sayının bir eksiği ile çarpılır.
- Çıkan sonuç, kullanılan en son sayının bir sonraki basamağındaki sayı ile toplanır.
- Elde edilen yeni sonuç, en büyük basamaktaki sayının çarpıldığı sayı ile çarpılır.
- Sayıların tümü kullanılına kadar bu işlem aynı sırayla devam eder.

Örneğin; 27 sayısının hesaplama işlemi

- Sayının en büyük basamağı yani onlar basamağı, sayı değeri en büyük olan sayı yani 7 nin bir eksiği ile çarpılır.

$$\boxed{2} \cdot (7 - 1) = 12$$

- Çıkan sonuç, bir sonraki basamaktaki sayı ile yani 7 ile toplanır.

$$12 + \boxed{7} = 19 \text{ olur.}$$

Sayının basamaklarındaki tüm sayılar kullanıldığı için 27 sayısının değeri 19 dur.

41. Üç basamaklı en büyük sayının değeri kaçtır?

- A) 657 B) 647 C) 324 D) 186 E) 169

42. $13x6$ sayısının değeri 221 olduğuna göre x kaçtır?

- A) 2 B) 3 C) 4 D) 5 E) 6

Y
A
R
G
I
Y
A
Y
I
N
E
V
İ

43. İki basamaklı xy sayısının değeri 22 olduğuna göre x 'in alabileceği değerler kaç tanedir?

- A) 1 B) 2 C) 3 D) 4 E) 5

44. - 46. soruları aşağıdaki bilgilere göre cevaplayınız.

Aşağıdaki tabloda, Murat Market'in sattığı buğday ve soya fasulyesinin 1 kilogramının alış ve satış fiyatları verilmiştir.

	Buğday	Soya Fasulyesi
Alış (₺)	0,6	1,2
Satış (₺)	1,1	1,5

Aşağıdaki tabloda 1 kilogram buğday ve soya fasulyesinin depolanma ücretleri gün aralıklarına göre verilmiştir.

	Buğday	Soya Fasulyesi
1 – 3 gün	0,2 ₺	0,3 ₺
4 – 7 gün	0,3 ₺	0,6 ₺
8 ve üzeri	0,5 ₺	0,4 ₺

44. Murat Market buğday ve soya fasulyesinden toplam 48 ₺'lik alıp hiç depolamadan satarak 23,2 ₺ kâr etmektedir.
Buna göre, market kaç kg buğday satmıştır?
A) 20 B) 32 C) 38 D) 40 E) 48

45. Murat Market 30 kg buğdayı 2 gün, 20 kg soya fasulyesini 10 gün depoladıktan sonra satıyor.
Market bu satıştan kaç ₺ kâr etmiştir?
A) 5 B) 6 C) 7 D) 8 E) 10

46. Murat Market 40 kg buğdayı x gün, 40 kg soya fasulyesini de x gün depoladıktan sonra satıyor.
Bu satıştan 12 ₺ kâr edildiğine göre, x aşağıdakilerden hangisi olabilir?
A) 2 B) 4 C) 5 D) 7 E) 8

47. 6 erkek ve 5 kız öğrencinin arasından 3 kişilik temsilci grubu seçilecektir.

Seçilen bu üç temsilciden ikisinin erkek, birinin kız olma olasılığı kaçtır?

- A) $\frac{3}{5}$ B) $\frac{3}{7}$ C) $\frac{1}{11}$ D) $\frac{5}{11}$ E) $\frac{7}{11}$

48. - 50. soruları aşağıdaki bilgilere göre cevaplayınız.

DİKKAT!

Soruları birbirinden bağımsız cevaplayınız.

n kişinin oynadığı sayı söylemece oyunuyla ilgili bilgiler aşağıda verilmiştir.

- Hakem ilk sayıyı söyleyince oyun başlar.
- 1. kişi hakemin söylediği sayıya kendi sıra numarasını ekler ve karesini alıp söyler.
- 2. kişi hakemin söylediği sayıya kendi sıra numarasını ekler ve karesini alıp söyler.
- İşlem sırasıyla bu şekilde n. kişiye kadar devam eder.
- n. kişi sayıyı söylediğinde oyun biter.
- 1'den x'e kadar olan sayıların kareleri toplamı

$$\frac{x \cdot (x + 1) \cdot (2x + 1)}{6} \text{ ile bulunur.}$$

48. **Hakemin söylediği sayı 6 ve oyunda söylenen sayıların toplamı 728 olduğuna göre oyunda kaç kişi vardır?**

- A) 4 B) 5 C) 6 D) 7 E) 8

49. **Hakemin söylediği sayı 0 ve oyunda 24 kişi olduğuna göre oyun bittiğinde söylenen sayıların toplamı kaçtır?**

- A) 5525 B) 4900 C) 3795 D) 2870 E) 2109

50. 15. kişi ile 8. kişinin söylediği sayılar arasındaki fark 399 olduğuna göre 3. kişinin söylediği sayı kaçtır?
A) 529 B) 400 C) 225 D) 169 E) 100

51. Boyutları 18 cm ve 24 cm olan eş dikdörtgenlerden 8 tanesi yan yana konularak kısa kenarları aralarında hiç boşluk kalmayacak şekilde birbirine yapıştırılıyor.
Köşelere ve kenarlara eşit aralıklarla çiviler çakılmak suretiyle oluşan yeni dikdörtgene en az kaç çivi çakılabilir?
A) 7 B) 14 C) 35 D) 54 E) 70

52. n basamaklı bir t sayısının karesi alınıp oluşan sayının sağındaki n basamak ile solundaki n basamak toplanınca yine aynı sayıyı veriyorsa bu sayıya kaprekar sayısı denir.
Buna göre aşağıdakilerden hangisi bir kaprekar sayısıdır?
A) 69 B) 73 C) 84 D) 99 E) 332

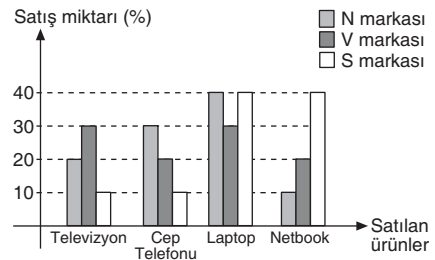
53. $x = 3 + \sqrt{11}$
 $y = \sqrt{5} + \sqrt{15}$
 $z = 2\sqrt{3} + 2\sqrt{2}$

- olduğuna göre aşağıdaki sıralamalardan hangisi doğrudur?
A) $z < y < x$ B) $y < z < x$
C) $y < x < z$ D) $x < z < y$
E) $x < y < z$

54. Bir yarışmada 16 etap ve her etapta geçilmesi gereken 2 aşama bulunmaktadır. Her aşamayı $\frac{n+1}{3}$ dakikada geçen biri 16 etabı toplam 7 saat 28 dakikada geçtiğine göre her etabı kaç dakikada geçmiştir?
A) 14 B) 16 C) 20 D) 24 E) 28

55. - 57. soruları aşağıdaki bilgilere göre cevaplayınız.

N, V ve S markalarına ait satılan 400 üründen oluşmuş teknoloji pazarında ürünler televizyon, cep telefonu, laptop ve netbook olmak üzere dört çeşittir.



- Ürünlerin satış miktarı yüzde olarak verilmiştir.
- Aynı markaya ait ürünler birlikte değerlendirilecektir.
- Teknoloji pazarında satılan N markalı laptop sayısı, satılan V markalı netbook sayısının iki katına, satılan S markalı televizyon sayısının yarısına eşittir.

55. Teknoloji pazarında satılan cep telefonu sayısı kaçtır?

- A) 12 B) 17 C) 20 D) 32 E) 52

56. Teknoloji pazarında S markasına ait satılan netbook sayısı, N markasına ait satılan televizyon sayısından yüzde kaç fazladır?

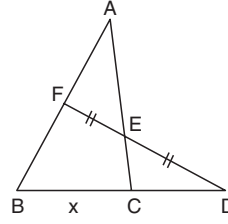
- A) 800 B) 100 C) 1200 D) 1500 E) 1600

57. I. N markasına ait satılan laptop sayısının 2 katı, S markasına ait satılan televizyon sayısına eşittir.
II. V markasına ait satılan televizyon sayısı, S markasına ait satılan cep telefonu sayısına eşittir.
III. S markasına ait satılan netbook sayısı, N noktasına ait satılan cep telefonu sayısının 10,5 katıdır.

Yukarıda verilen ifadelerden hangisi veya hangileri doğrudur?

- A) Yalnız I B) Yalnız III C) I ve II
D) I ve III E) I, II ve III

58.



- A) 8 B) 9 C) 10 D) 11 E) 12

ABC üçgeninde

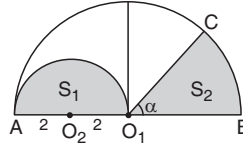
$$|FB| = 2|AF|$$

$$|FE| = |ED|$$

$$|CD| = 3 \text{ cm}$$

|BC| = x kaç cm dir?

59.



O_1 ve O_2 yarım dairelerin merkezleridir.

$$m(\widehat{BO_1C}) = \alpha$$

$$|AO_2| = 2 \text{ cm}$$

S_2 alanı S_1 alanının yarısı olduğuna göre $m(\widehat{BO_1C}) = \alpha$ kaç derecedir?

- A) $22,5^\circ$ B) 45° C) $67,5^\circ$ D) 90° E) 120°

60. $A(-1, 3)$ ve $B(1, 2)$ noktalarından geçen doğrunun x eksenini kestiği noktanın apsisi kaçtır?

- A) 2 B) $\frac{2}{3}$ C) 3 D) $\frac{4}{3}$ E) 5



KPSS

GENEL KÜLTÜR



Bu testte toplam **60** soru vardır. *Başarılar dileriz...*

1. Aşağıdakilerden hangisi Göktürklerin Türk tarihi açısından önemi arasında gösterilemez?

- A) Türk kelimesini siyasal yaşamda ilk kez kullanmışlardır.
- B) İstiklal mücadelesi vererek Türklerde millet bilincinin oluşmasına katkı sağlamışlardır.
- C) Orhun alfabesini kullanmışlardır.
- D) Kavimler Göçü neticesinde Avrupa'da devlet kurmuşlardır.
- E) Bizans ile diplomatik ilişki kurmuşlardır.

2. Kıpçak Türkleri ile Oğuzların mücadelesini anlatan Dede Korkut Hikâyeleri hangi devlet döneminde yazıya geçirilmiştir?

- A) Büyük Selçuklular
- B) Harzemşahlar
- C) Timurlar
- D) Osmanlılar
- E) Akkoyunlular

3. Timur Devleti Dönemi'nde yaşayan, Türkçenin Farsçadan daha zengin olduğunu göstermek amacıyla Muhakemet'ül Lügateyn adlı eseri kaleme alan ve Çağatay Türkçesinin en büyük şairi kabul edilen Türk-İslam bilgini aşağıdakilerden hangisidir?

- A) Uluğ Bey
- B) Ali Şir Nevai
- C) Kaşgarlı Mahmut
- D) İbn-i Rüşd
- E) Zemaşşeri

4. Osmanlı Devleti'nin ikinci kurucusu olarak bilinen Osmanlı sultanı aşağıdakilerden hangisidir?

- A) Osman Bey
- B) Orhan Bey
- C) I. Murat
- D) I. Bayezid
- E) I. Mehmet

5. Osmanlı Devleti'nde divan kararlarının işlendiği defterlere verilen isim aşağıdakilerden hangisidir?

- A) Tahrir
- B) Mühimme
- C) Kadı Sicilleri
- D) Temettüat
- E) Ahkam

6. Osmanlı Devleti'nde üç farklı eyalet sistemi uygulanmıştır.

Aşağıda verilen eyaletlerin hangisinde merkezi otoriteyi artırmak için farklı bir sistem uygulanmıştır?

- A) Anadolu
- B) Rumeli
- C) Karaman
- D) Mısır
- E) Diyarbakır

7. Osmanlı Devleti'nde sancaklarda güvenliği sağlayan görevli aşağıdakilerden hangisidir?

- A) Beylerbeyi
- B) Sancakbeyi
- C) Subaşı
- D) Kadı
- E) Köy Kethüdası

8. I. İktâ Sistemi
II. Gulam Sistemi
III. Ahi Teşkilatı
Selçuklu Dönemi'nde uygulanan yukarıdaki sistemlerden hangileri Osmanlı Devleti'nde uygulananlara kaynaklık ettiği savunulabilir?
A) Yalnız I B) Yalnız II C) Yalnız III
D) I ve II E) I, II ve III

9. **Kanuni Sultan Süleyman Dönemi'nin ünlü denizcisi ve bilim insanı olan, haritacılık çalışmaları ve Kitab-ı Bahriye adlı eseri ile tanınan düşünür aşağıdakilerden hangisidir?**
A) Piri Reis
B) Takuyiddin Mehmet
C) Seydi Ali Reis
D) Neşri
E) Molla Fenari

10. **Kırım'ın Rusya'ya ilhakı sürecinde;**
I. Prut
II. Küçük Kaynarca
III. Aynalıkavak
anlaşmalarından hangileri etkili olmuştur?
A) Yalnız I B) Yalnız II C) Yalnız III
D) II ve III E) I, II ve III

11. **II. Mahmut Dönemi'nde Divanühümayun'un kaldırılmasıyla Hazine-i Amire makamı hangi nazırlığa dönüştürülmüştür?**
A) Başvekalet B) Hariciye
C) Maliye D) Bab-ı Meşihat
E) Dahiliye

12. **Ziya Gökalp, Mehmet Emin Yurdakul ve Yusuf Akçura'nın temsilciliğini yaptığı ve daha çok XX. yüzyılda etkili olan fikir akımı aşağıdakilerden hangisidir?**
A) Osmanlıcılık B) Türkçülük
C) Batıcılık D) İslamcılık
E) Adem-i Merkeziyetçilik

13. **Millî Mücadele Hazırlık Dönemi'nde;**
I. Amasya Genelgesi
II. Havza Genelgesi
III. Amasya Protokolleri
belgelerinden hangilerinde genel seçimlerin yapılmasına yönelik karar alındığı söylenebilir?
A) Yalnız I B) Yalnız II C) Yalnız III
D) I ve III E) II ve III

14. I. Ahmet Anzavur
II. Ali Batı
III. Menemen
Yukarıdaki isyanlardan hangilerinin Cumhuriyet Dönemi inkılaplarına tepki gösterenler tarafından çıkarıldığı savunulabilir?
A) Yalnız I B) Yalnız II C) Yalnız III
D) I ve II E) I, II ve III

15. **Terakkiperver Cumhuriyet Fırkası,**
I. yerinden yönetim
II. iktisadi serbestlik
III. tek dereceli seçim usulü
anlayışlarından hangilerini Cumhuriyet Halk Fırkasına muhalefet etmek amacıyla parti programına dâhil etmiştir?
A) Yalnız I B) Yalnız II C) Yalnız III
D) I ve III E) I, II ve III

16. – Türk Dil ve Tarih kurumlarının kurulması
– Tüm yabancı ve azınlık okullarının Millî Eğitim Bakanlığına bağlanması
Bu inkılapların aşağıdaki Atatürk ilkelerinden daha çok hangisi doğrultusunda gerçekleştirildiği savunulabilir?
A) Cumhuriyetçilik B) Devletçilik
C) İnkılapçılık D) Milliyetçilik
E) Laiklik

17. 1924 Anayasası Türkiye Cumhuriyeti'nin en uzun süre yürürlükte kalan anayasasıdır.

1924 Anayasası'nda yapılan aşağıdaki değişikliklerden hangisi Atatürk Dönemi'nde gerçekleştirilmemiştir?

- A) Altı temel ilkenin anayasaya girmesi
B) Tek dereceli seçim sistemine geçilmesi
C) "Devletin dini İslamdır." maddesinin anayasadan çıkarılması
D) Seçmen yaşının 18'den 22'ye çıkarılması
E) Kadınların milletvekili seçilmeleri

18. I. Ziraat
II. Merkez
III. İtibar-ı Milliyeye

Yukarıdaki bankalardan hangileri Cumhuriyet Dönemi'nde kurulmuştur?

- A) Yalnız I B) Yalnız II C) I ve II
D) II ve III E) I, II ve III

19. Türk Dil Kurumunun açılması ile Türkçenin dünya dilleri arasında yer alması ve Türkçeyi kendi kaynaklarından türetilen terimlerle bilim dili hâline getirmek amaçlanmıştır. Bu amaçlar doğrultusunda ise Dil Kurultayı toplanmıştır.

I. Türk Dil Kurultayı aşağıdaki yıllardan hangisinde toplanmıştır?

- A) 1930 B) 1931 C) 1932 D) 1933 E) 1934

20. – Kişisel egemenlik sona ermiştir.
– Laiklik ile ilgili atılmış ilk adımdır.

Yukarıdaki özelliklerin ilişkili olduğu inkılap hareketi aşağıdakilerden hangisidir?

- A) Hilafetin ilgası
B) Saltanatın kaldırılması
C) Şeriye ve Evkaf Nezaretinin kaldırılması
D) Millî Savunma Bakanlığının kurulması
E) Öğretimin Birliğine İlişkin Kanun'un kabul edilmesi

21. I. Kazım Karabekir
II. İsmet İnönü
III. Fevzi Çakmak

Yukarıda verilen Atatürk Dönemi'ndeki asker ve devlet adamlarından hangilerinin müşir (mareşal) rütbesine sahip olduğu söylenebilir?

- A) Yalnız I B) Yalnız II C) Yalnız III
D) I ve III E) II ve III

22. İstiklal Mahkemeleri Millî Mücadele ve Cumhuriyet dönemlerinde görev alan ve kararları temyiz edilemeyen mahkemelerdir

Aşağıdaki gelişmelerin hangisinde İstiklal Mahkemeleri görev almamıştır?

- A) Tekalif-i Milliye Emirlerinin uygulanmasında
B) TBMM'ye karşı çıkan isyanlarda
C) Şeyh Said İsyanı'na destek verenlerde
D) Atatürk'e suikast girişiminde bulunanlarda
E) Menemen Olayının ortaya çıkmasında

23. **Aşağıdaki inkılaplardan hangisi Atatürk Dönemi'nde gerçekleştirilmemiştir?**

- A) Metrik sisteme geçilmesi
B) Uluslararası rakamların kabulü
C) Hafta tatilinin Pazar'a alınması
D) Türk Ocaklarının kurulması
E) Anneye çocuğun velayetini alma hakkının verilmesi

24. **I. dönem Türk dış politikasında Fransa ile sorun olan Osmanlı Borçları hangi belgeye dayanılarak çözümlenebilmiştir?**

- A) Lozan Antlaşması
B) Ahali Antlaşması
C) Hoover Moratoryumu
D) Briand – Kellog Pakti
E) Sandler Raporu

25. Aşağıdakilerden hangisi Demokrat Parti Dönemi gelişmeleri arasında gösterilemez?

- A) Marshall yardımlarının alınması
- B) Osmanlı borçlarının bitirilmesi
- C) 1961 Anayasası'nın hazırlanması
- D) 6 – 7 Eylül olaylarının meydana gelmesi
- E) Köy Enstitülerinin kapatılarak Öğretmen Okullarına dönüştürülmesi

26. Süveyş Kanalı'nı millileştiren ve bu nedenle Batılı devletleri karşısına alan Mısırlı asker ve devlet adamı aşağıdakilerden hangisidir?

- A) Muhammet Mursi
- B) Cemal Abdülnasır
- C) Yaser Arafat
- D) Enver Sedat
- E) Muhammed Necib

27. 1963'te Kıbrıs Hükümeti'nde çoğunluğa sahip Rumların, kabinedeki Türkleri saf dışı bırakarak Kıbrıs'ı Yunanistan'a ilhak etme amacı güden plan aşağıdakilerden hangisidir?

- A) Annan
- B) Akritas
- C) Mc. Millan
- D) Camp David
- E) Nixon

28. Türkiye'nin coğrafi konumundan kaynaklanan özellikler parantez içinde nedenleri ile birlikte verilmiştir.

Bu eşleştirmelerden hangisinin doğru olduğu söylenemez?

- A) Akdeniz iklim kuşağında kalması (Orta Kuşak'ta bulunması)
- B) İç bölgelerde sıcaklık farklarının daha yüksek olması (Denizden uzaklık)
- C) Kısa mesafelerde iklim çeşitliğinin fazla olması (Yer şekilleri)
- D) İç Anadolu'da buğdayın Doğu Anadolu'dan erken olgunlaşması (Kuzey Yarım Küre'de bulunması)
- E) Güneşin daima Başlangıç Meridyeni'nden önce doğması (Dünya'nın batıdan doğuya doğru dönmesi)

29. Türkiye'nin tüm ova ve platoları ile ilgili aşağıdakilerden hangisinin ortak olduğu söylenebilir?

- A) Fiziki haritada gösterildikleri renk
- B) Buldukları yükselti basamağı
- C) Tarımda makine kullanımı kolaylığı
- D) Yetiştirilen tarım ürünleri
- E) Buldukları coğrafi bölüm

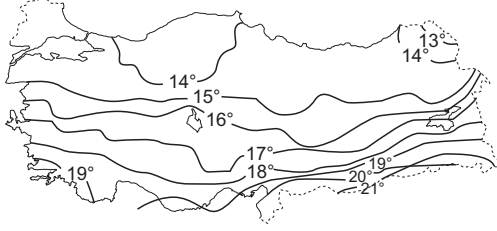
30. Doğu Karadeniz'in kuzeye bakan yamaçlarında yaygın olarak bulunan bir toprağın özellikleri arasında aşağıdakilerden hangisinin bulunduğu söylenemez?

- A) Yıkanmanın fazla olması nedeniyle toprak üzerinde bulunan tuz ve kireç alt katlara sızmıştır.
- B) Toprak üzerinde humus birikimi oldukça fazladır.
- C) Toprağın oluşumunda kimyasal çözülmenin payı fazladır.
- D) Toprak asitçe zenginleşmiştir.
- E) Toprak katmanları belirgindir.

31. Aşağıdakilerden hangisi beşeri yapının doğal koşullara olan bağımlılığının azaldığına kanıt olarak gösterilemez?

- A) Ordu – Giresun arasında denizin doldurulmasıyla hava alanı yapılması
- B) Marmara'daki ahır – besi hayvancılığında süt veriminde yıllar arasında dalgalanma olmaması
- C) Karadeniz'de kereste üretimi amacıyla işletmelerin bulunması
- D) Marmaray Projesi ile Marmara Denizi altında ulaşım yapılabilmesi
- E) GAP (Güneydoğu Anadolu Projesi) ile birlikte bölgede tarımsal verimin artması

32. Aşağıda Türkiye'nin yıllık ortalama indirgenmiş izoterm haritası verilmiştir.



Haritadaki bilgilerden faydalanılarak,

- I. Türkiye'nin en sıcak yerleri Güneydoğu Anadolu'nun güneyindedir.
- II. Zonguldak çevresinin sıcaklığı 14°C'tan düşüktür.
- III. Sıcaklığın dağılışında yükseltinin etkisi gözlenmektedir.
- IV. İzoterm (Eş sıcaklık eğrileri) enlem ile birebir uygunluk göstermektedir.

Bilgilerinden hangilerinin doğru olduğu söylenebilir?

- A) I ve II B) II ve III C) II ve IV
D) I ve IV E) III ve IV

33. Aşağıdaki Türkiye haritasında beş yer numaralarla gösterilmiştir.



Haritada numaralı yerlerde bulunan bitkilerden hangisinin kuraklık şartlarına daha uyumlu olduğu söylenebilir?

- A) I B) II C) III D) IV E) V

34. Karadeniz eğim ve engebenin en fazla olduğu bölgedir.

Aşağıdakilerden hangisi bölgenin eğim ve engebe özelliğine bağlanamaz?

- A) Akarsuların akış hızının fazla olması
- B) Tarım alanlarının dar ve parçalı olması
- C) Kısa mesafede iklim çeşitliğinin yaşanması
- D) Kırsal kesimdeki meskenlerin yapımında ahşabın kullanılması
- E) Tarımda makineleşmenin yaygın olmaması

35. Türkiye'de göçe katılan nüfusun özellikleri ile ilgili;

- I. Gençler yaşlılara göre daha fazla göç etmektedir.
- II. Erkekler kadınlara göre daha fazla göç etmektedir.
- III. Eğitim seviyesi yüksek kişilerin oranı fazladır.
- IV. Beyin göçüne katılanların oranı diğerlerinden fazladır.

İfadelerinden hangisi ya da hangilerinin doğru olduğu söylenemez?

- A) Yalnız I B) I ve II C) II ve III
D) II ve IV E) III ve IV

36. Türkiye'deki köy altı yerleşmeleri kalıcı ve geçici olmak üzere ikiye ayrılmaktadır. Köy altı yerleşmelerinin kurulmasında hayvanların otlatılma ihtiyacı, tarlaların köylerden uzak olması, köy içindeki anlaşmazlıklar ve hazine arazilerine yerleşme isteği gibi faktörler etkili olmuştur. Bu amaçla kurulan bazı yerleşmeler günümüzde asli fonksiyonları dışına çıkmaya başlamıştır.

Aşağıdaki köy altı yerleşmelerinden hangisi son yıllarda asli fonksiyonlarını yitirmeye başlamıştır?

- A) Mezra B) Yayla C) Divan
D) Ağıl E) Kom

37. Cumhuriyet Dönemi boyunca Türkiye'nin nüfus yapısı ile ilgili aşağıda verilen bilgilerden hangisinin doğru olduğu **söylenemez**?

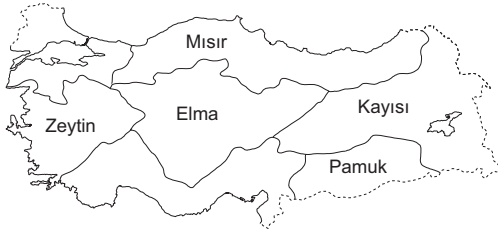
- A) Nüfus artış hızının en az olduğu dönem 1940 – 1945 yılları arasındadır.
- B) 1960'lı yıllarda doğumların azalmasında aile planlamalarının payı fazladır.
- C) 1980'lerden sonra nüfus artış hızının düşmesinde kentleşmenin payı fazladır.
- D) Günümüzde nüfus artış hızını artırmaya yönelik politika uygulanmaktadır.
- E) Nüfus artış hızının düştüğü dönemlerde nüfus sayısı da azalmıştır.

38. Tarımda makine kullanımının yaygın olduğu yörelerin en temel özelliği yer şekillerinin sade olmasıdır. Ancak Türkiye'de yer şekillerinin sade olduğu iki yörede tarımda makine kullanımı bakımından farklılıklar bulunmaktadır.

Buna göre, Türkiye'de yer şekillerinin sade olduğu iki yörede makine kullanım yaygınlığının farklı olması yörelerin aşağıdaki özelliklerden hangisi bakımından farklı olduğunu gösterir?

- A) Tarım alanlarının genişliği
- B) Yıllık yağış miktarı
- C) Çiftçilerin gelir düzeyi
- D) Devlet teşvik miktarı
- E) Ulaşım imkânları

39. Aşağıdaki Türkiye haritasında coğrafi bölgeler ve bazı bölgelerde yetiştirilen tarım ürünleri verilmiştir.



Haritada verilen tarım ürünlerinden hangisi bulunduğu bölgedeki üretimi ile Türkiye üretiminde birinci sırada **değildir?**

- A) Mısır
- B) Zeytin
- C) Elma
- D) Pamuk
- E) Kayısı

40. Türkiye'de bu hayvancılıktan elde edilen verim oldukça yüksektir. Özellikle dağlık engebeli alanların varlığı, yağışın fazla olması ve bitki tür ve çeşitliliğinin fazla olması bu türün gelişmesini sağlamıştır. Verimin yüksek olmasının en önemli nedeni ise gezici... .. şeklinde yapılmasıdır.

Yukarıdaki paragrafta verilen bilgiler dikkate alındığında boş bırakılan yere aşağıdaki hayvancılık türlerinden hangisinin getirilmesi gerektiği söylenebilir?

- A) Ahır ve besi hayvancılığı
- B) Arıcılık
- C) İpek böcekçiliği
- D) Kümes hayvancılığı
- E) Küçükbaş mera hayvancılığı

Y
A
R
G
I
Y
A
Y
I
N
E
V
I

41. Türkiye'de nükleer enerjiye geçiş çalışmaları devam etmektedir. Bu kapsamda Mersin ve Sinop'ta iki adet nükleer santral kurulması planlanmaktadır.

Nükleer santrallerin kurulum yer seçiminde;

- I. Su kaynağına yakın olması
- II. Ham maddeye yakın olması
- III. Deprem riskinin az olması
- IV. Nüfus yoğunluğunun az olması

faktörlerinden hangilerine dikkat edildiği söylenebilir?

- A) Yalnız I
- B) I ve II
- C) I ve III
- D) II ve IV
- E) III ve IV

- 42. I. Çanakkale – Tuzla
- II. Ankara – Çayırhan
- III. İzmir – Alaçatı
- IV. Diyarbakır – Karakaya
- V. Zonguldak – Çatalağzı

Yukarıda verilen enerji üretim merkezlerinden hangisinde jeotermal enerji kullanılmaktadır?

- A) I
- B) II
- C) III
- D) IV
- E) V

43. Türkiye’de güneş enerjisine bağlı elektrik üretimi yapmak isteyen bir yatırımcı aşağıdaki illerden hangisine bu yatırımı yaparsa verimlilik en düşük olur?

- A) Konya B) Şanlıurfa C) Antalya
D) Trabzon E) Manisa

44. İran Transit Ticaret Yolu, Gürbulak sınır kapısı ile Trabzon Limanı arasındadır.

Buna göre, aşağıdaki geçitlerden hangisi bu yol üzerinde bulunmaktadır?

- A) Gülek B) Zigana C) Çubuk
D) Ilgaz E) Belen

45. Türkiye’de son yıllarda ulaşım alanında yapılan tüneller, köprüler, viyadükler ve duble yollar ile gelişme sağlanmıştır.

Buna bağlı olarak aşağıdakilerden hangisinin yaşandığı söylenemez?

- A) Ulaşım süresi kısalmıştır.
B) Kaza riski azalmıştır.
C) Enerji tasarrufu sağlanmıştır.
D) Karbondioksit salınımı azalmıştır.
E) Araç sayısı artmıştır.

46. Aşağıdakilerden hangisi hukuk kurallarının görevlerinden biri değildir?

- A) Toplumsal adaleti sağlamak
B) Toplumdaki gelişmelere cevap vermek
C) Toplumsal barışı sağlamak
D) Toplumda hukuki güvenliği sağlamak
E) Vicdani değerlere cevap vermek

47. Tarafların bir hukuki işlemde kullandıkları ve ne anlama geldiğini açıklamadıkları hususlara ilişkin kanunda öngörülen düzenlemeler hukuk kurallarının hangi çeşidini oluşturur?

- A) Emredici hukuk kuralları
B) Yorumlayıcı hukuk kuralları
C) Tanımlayıcı hukuk kuralları
D) Tamamlayıcı hukuk kuralları
E) Men edici hukuk kuralları

48. Bir sözleşmenin feshedilmesi nedeniyle uğranılan zarara ne ad verilir?

- A) Menfi zarar
B) Müspet zarar
C) Manevi zarar
D) Haksız zarar
E) Asli zarar

Y
A
R
G
I
Y
A
Y
I
N
E
V
İ

49. 1982 Anayasası’na göre, milletlerarası antlaşmalarla ilgili aşağıdakilerden hangisi yanlıştır?

- A) Milletlerarası antlaşmaların onaylanmasını bir kanunla uygun bulma yetkisi Meclise aittir.
B) Türk kanunlarında değişiklik yapan milletlerarası antlaşmalar kısa süreli olsa dahi kanunla uygun bulunmak zorundadır.
C) Milletlerarası antlaşmaları onaylama ve yayımlama yetkisi Cumhurbaşkanına aittir.
D) Milletlerarası antlaşmalardan doğacak sorumluluk Bakanlar Kurulu ile birlikte Cumhurbaşkanına aittir.
E) Temel hak ve hürriyetlerle ilgili konularda milletlerarası antlaşma hükümleri öncelikle uygulanır.

50. 1982 Anayasası’na göre, bir önceki yılın bütçesinin görüşülüp karara bağlanması aşağıdaki kanunlardan hangisi ile gerçekleşir?

- A) Yetki kanunu
B) Af kanunu
C) Bütçe kanunu
D) Kesin hesap kanunu
E) Para basılmasına karar veren kanun

51. 1982 Anayasası'na göre, yürütme erki ile ilgili aşağıdakilerden hangisi yanlıştır?

- A) Yürütme erki Cumhurbaşkanı ve Bakanlar Kurulundan oluşur.
- B) Cumhurbaşkanı Meclis içinden ya da dışından gösterilen adaylar arasından halk tarafından seçilir.
- C) Başbakan en çok oyu alan partinin milletvekilleri arasından Cumhurbaşkanı tarafından atanır.
- D) Bakanlar Meclis içinden ya da dışından Başbakanın teklifi üzerine Cumhurbaşkanı tarafından atanır.
- E) Meclis dışından atanan bakanlar da yasama sorumsuzluğu ve dokunulmazlığına sahiptir.

52. Aşağıdaki Türk Anayasalarından hangisi çerçeve anayasa niteliğindedir?

- A) 1876 Kanuni Esasi
- B) 1921 Teşkilatı Esasiye Kanunu
- C) 1924 Anayasası
- D) 1961 Anayasası
- E) 1982 Anayasası

53. 657 sayılı Devlet Memurları Kanunu'na göre, aşağıdakilerden hangisi memurlara uygulanan yasaklardan biri değildir?

- A) Kazanç getirici faaliyetlerde bulunma yasağı
- B) Siyasi partilere ve sendikalara üye olma yasağı
- C) Sanat ve ticaretle uğraşma yasağı
- D) Hediye ve menfaat sağlama yasağı
- E) Gizli bilgileri açıklama yasağı

54. Memurlukta staj süresi (adaylık) en çok kaç yıldır?

- A) 1
- B) 2
- C) 3
- D) 4
- E) 5

55. Avrupa Film Akademisi tarafından bu yıl 26'ncısı verilen Avrupa Film Ödülleri töreni nerede düzenlenmiştir?

- A) Almanya
- B) Fransa
- C) İngiltere
- D) İsviçre
- E) Türkiye

56. Nisan 2014'de düzenlenen Avrupa Güreş Şampiyonası aşağıdaki ülkelerden hangisinde düzenlenmiştir?

- A) Rusya
- B) Norveç
- C) İsveç
- D) Finlandiya
- E) İsviçre

57. 9 bin yıllık olduğu tahmin edilen dünyanın kendirden dokunmuş ilk keten kumaşı 2014 yılında yapılan kazılar sonucu nerede bulunmuştur?

- A) Acemhöyük
- B) Aşıklı Höyük
- C) Çayönü
- D) Çatalhöyük
- E) Panionion

58. Doğalgaz ve kömür kullanılmayıp jeotermal enerjide kendi kendine yeten Türkiye'deki ilk kent olma özelliği taşıyan şehrimiz aşağıdakilerden hangisidir?

- A) Uşak
- B) Manisa
- C) Bursa
- D) Aydın
- E) Afyon

59. Türkiye'nin en az ilçesi olan ili aşağıdakilerden hangisidir?

- A) Batman
- B) Bayburt
- C) Aydın
- D) İstanbul
- E) Adıyaman

60. 1 Ocak 2014 itibariyle Avrupa Birliği dönem başkanlığı aşağıdaki ülkelerden hangisine geçmiştir?

- A) Yunanistan
- B) İtalya
- C) Hırvatistan
- D) Fransa
- E) Almanya