

KPSS

KAMU PERSONELİ SEÇME SINAVI

ORTAÖĞRETİM

ÖNLİSANS

1

DENEME SINAVI

1

D
E
N
E
M
E

DİKKAT!
SINAVA BAŞLAMADAN ÖNCE AŞAĞIDAKİ UYARILARI MUTLAKA OKUYUNUZ.

- Adınızı, soyadınızı, T.C. Kimlik Numaranızı ve kurum kodunu optik forma mutlaka işaretleyiniz. Kurum kodu ve T.C kimlik numarası karnenizin oluşturulabilmesi için özellikle gereklidir.
- Genel Yetenek - Genel Kültür Testi için verilen toplam cevaplama süresi 120 dakikadır (2 saat).
- Bu testte 120 soru vardır.
- Cevaplamaya istediğiniz sorudan başlayabilirsiniz. Her soru ile ilgili cevabınızı, cevap kâğıdında o soru için ayrılmış olan yere işaretlemeyi unutmayınız.
- Sınav sonucunuzu www.yaklasimkariyer.com adresinden TC kimlik numaranızı girerek öğrenebilirsiniz.
- Türkiye Geneli Deneme sınavına ait **cevap anahtarı ve soruların çözümleri** sınavın uygulandığı son gün www.yaklasimkitap.com adresinde yayınlanacaktır.
- Bu test puanlanırken testteki doğru cevaplarınızın sayısından yanlış cevaplarınızın sayısının dörtte biri düşülecek ve kalan sayı testle ilgili ham puanınız olacaktır. Bu nedenle, hakkında hiçbir fikriniz olmadığı soruları boş bırakınız. Ancak, soruda verilen seçeneklerden birkaçını eleyebiliyorsanız kalanlar arasından doğru cevabı kestirmeye çalışmanız yararınıza olabilir.

Bu testlerin her hakkı saklıdır. Hangi amaçla olursa olsun, testlerin tamamının veya bir kısmının yayınevimizin yazılı izni olmadan kopya edilmesi, herhangi bir yolla çoğaltılması, yayımlanması ya da kullanılması yasaktır. Bu yasağa uymayanlar gerekli cezai sorumluluğu ve testlerin hazırlanmasındaki mali külfeti peşinen kabullenmiş sayılır.

Yaklaşım Kariyer Yayıncılık ve Dağıtım Ltd.Şti

GMK Bulvarı No: 19 Kızılay-ANKARA

Tel: (0312) 229 84 94

Web: www.yaklasimkitap.com - www.yaklasimkitabevi.com

e-posta: bilgi@yaklasimkitap.com

DİKKAT: BU BÖLÜMDE YANITLAYACAĞINIZ SORU SAYISI 60'TIR.

1-30 SORU : "Türkçeyi Kullanma Gücü"

30-60 SORU : "Matematiksel İlişkilerden Yararlanma Gücü" ile ilgilidir.

Bu bölümdeki sorularla ilgili cevaplarınızı, cevap kağıdınızdaki "**GENEL YETENEK**" bölümüne işaretleyiniz.

1. Yusuf Has Hacib, Kutadgu Bilig'i 1069 yılında yazmış ve Kaşgar'da Buğra Han'a sunmuş. (I) Dünyanın gerçeğini mi görmüş, yoksa o gün de insanlar hayatlarından memnun değil miymiş bilinmez. (II) Güzel bir Türkçeyle akıcı bir şekilde mutlu olmanın sırlarını açıklama-ya çalışmış. (III) Kişi, toplum ve devlet hayatının uyumlu ve dengeli bir bütünlük sağlayabilmesi için gerekenleri sıralamış. (IV) Akıllı, bilgili ve erdemli olmanın faydalarını anlatmış. (V) Sonuçta aradan bin yıl geçtikten sonra bile eskimeyecek, içindeki fikir ve yorumlar gerçekliğini yitirmeyecek mükemmel bir kitap meydana getirmiş.

Bu parçada numaralandırılmış cümlelerden hangisi üslupla ilgilidir?

- A) I. B) II. C) III. D) IV. E) V.

2. Yıllar önce yazılmış kitapları bugün kim okuyor? (I) Günümüz okurunun hemen hemen hepsi yeni kitapları okuyor. (II) Onlar okudukları eserde kendilerini, kendi zamanları görmek istiyorlar. (III) Eski kitapları da alıyorlar ama onları bir rafa koyup unutuyorlar. (IV) Oysa her yazarın amacı gelecekte okunmak, hiç ölmemektir. (V) Bunu başaranların sayısı oldukça az maalesef.

Bu parçada numaralanmış cümlelerin hangisi kendinden önceki cümlelerin gerekçesi durumundadır?

- A) I. B) II. C) III. D) IV. E) V.

3. (I) Gezi kitaplarının bilgi vermekle birlikte yaşanmışlıklarının da olması ve bir anlamda tecrübe aktarması gerektiğine inanıyorum. (II) Ben bu anlamda şanslı bir seyahat yazarıyım. (III) Profesyonel rehber olarak sık sık seyahat ediyorum ve kitaplarımda kendi gözlemlerimi paylaşıyorum. (IV) Söz konusu şehir ya da ülkeye gidildiğinde mutlaka görülmesi gerekenleri belirtip bu yerler hakkında tecrübelerime dayalı kısa ve pratik bilgiler vermeye çalışıyorum. (V) Restoranlara, otellere ve yazacağım her yere turist olarak gidiyorum, seyahat yazarı olduğunuzu söylerseniz size farklı bir muamele yapıp mekanları farklı gösterir ya da onların istedikleri doğrultuda yazmanızı isterler.

Bu parçada numaralanmış cümlelerle ilgili olarak aşağıdakilerden hangisi yanlıştır?

- A) I. cümlede, gezi kitaplarında deneyimlerin de yer alması gerektiği belirtilmiştir.
B) II. cümlede, I. cümleye bağlı olarak öznel bir görüş ortaya konulmuştur.
C) III. cümlede, rehber oluşunun gezi yazarı olmasında önemli bir etken olduğu belirtilmiştir.
D) IV. cümlede, yazarın eser yazarken izlediği yoldan söz edilmiştir.
E) V. cümlede, gezi yazarı olduğunu söylediğinde sanatçının farklı davranışlarla karşılaştığı söylenmiştir.

4. (I) Tanzimat edebiyatının öncüsü Şinasi'dir. (II) Batı etkisindeki edebiyatımız onunla başlar. (III) Güçlü bir edebi kişiliği olmamasına karşın Batı'ya dönük edebiyatımızda ilk olan ne varsa onunla ortaya çıkar. (IV) İlk tiyatro, ilk gazete, ilk makale onundur. (V) Yazınımızda noktalama işaretlerini ilk kullanan ve düzyazının nasıl yazılması gerektiğini öğreten de Şinasi'dir.

Bu parçada, numaralanmış cümlelerin hangisinde Şinasi'nin olumsuz bir yönünden söz edilmiştir?

- A) I. B) II. C) III. D) IV. E) V.

5. Aşağıdakilerin hangisinde öge ayırmada bir yanlışlık yapılmıştır?

- A) Ben / her zaman / arkadaşlarımla / ellerini / sınıksız / tutarım.
 B) Sevinç / bazen / insanın yüzüne / yansımaz.
 C) Derste çok konuştuğu için / kötü not / aldı.
 D) Okulun önünde / bekleyen adamları / kimse / tanı-
 mıyormuş.
 E) Kazanmak için / çok / çalışmalısın.

6. Aşağıdaki cümlelerin hangisinde “ki”nin yazımıyla ilgili bir yanlışlık yapılmıştır?

- A) Her zaman çalışıyor ki kendine bu kadar güveniyor.
 B) Tut ki hiç kimse buraya gelmeni istemiyor.
 C) Arkadaşlarımız da biliyor ki çalışmayan başarılı olamaz.
 D) Mademki bana inanmıyorsun konuş onunla.
 E) İyi ki seni de getirmişim yanımda, yoksa çok sıkı-
 lırdım.

7. Asırlara kök salmış edebiyatımızda İstanbul () ilk kez () Sis () adlı eserle nefret edilen () lanetlenen bir şehir olarak sunulmuş okuyucuya ()

Bu cümlede ayrıca boş bırakılan yerlere aşağıdaki noktalama işaretlerinden hangileri getirilmelidir?

- A) (;) (,) (.) (:) (,) (.) B) (:) (-) (-) (,) (...)
 C) (,) (,) (') (:) (,) D) (;) (") (") (:) (...)
 E) (,) (") (") (,) (.)

8. Gecenin derin sessizliğinde lastiklerden çıkan havanın tıslamasını bir caz konseri gibi dinleyerek, arabanın arka camındaki tozun üstüne, araba yazdığını anlıyormuş gibi, “seni seviyorum” yazdı.

Bu cümleyle ilgili aşağıdakilerden hangisi yanlıştır?

- A) İsim tamlaması kullanılmıştır.
 B) Bağlaca yer verilmiştir.
 C) Ara söz kullanılmıştır.
 D) Niteleme sıfatına yer verilmiştir.
 E) Fiilimsiyeye yer verilmiştir.

9. Aşağıdaki cümlelerin hangisinde ünlü daralması yoktur?

- A) Her sabah işe giderken yiyecek bir şeyler almış-
 larım.
 B) Bu araba altı aydır çalışmıyor diye odasında söy-
 leniyordu.
 C) Hem elindeki kağıtları karıştırıyor hem de planlar
 kuruyordu.
 D) Her akşam uzun uzun dertleşebileceği birini arı-
 yordu.
 E) Niçin böyle davrandığını kimseye açıklayamıyor-
 muş.

10. Ege Üniversitesi Tiyatro Topluluğu'nun bir çizgi romanından uyarladıkları en keyifli oyun Persepolis. "Seni seviyorum"ların korkusuyla, yüreklerin yoklandığı tuhaf zamanlarda aşk, devrik yol direklerinin yanında kırbaçlanıyor. Şiirin ve şarkının kürek kürek yakıldığı tuhaf zamanlarda kasaplar, ellerinde, kanlı satır ve sopalarla köşe başlarını tutuyor. Gülüşler dudaklara dikiliyor, şarkılar ağızlardan kazılıyor. Yaseminlerin, nilüferlerin ateşinde; kuğuların, güvercinlerin közlendiği tuhaf zamanlarda... İnadına, aşkı, şiiri, şarkıyı, neşeyi ve umudu zulalıyoruz. Son şarkısını söyleyen bir kuğu misali son şarkımızı söyleyeceğimiz ana kadar...

Bu parçayla ilgili aşağıda verilenlerden hangisi yanlıştır?

- A) Eksiltili cümleler kullanılmıştır.
- B) Öznel ifadelere yer verilmiştir.
- C) Neden-sonuç ilgili cümlelere yer verilmiştir.
- D) Karşılaştırma yer verilmiştir.
- E) Benzetmeye başvurulmuştur.

11. I. Ahmed'in, Roma Hipodromu'nun yanına mimar Sedefkâr Mehmed Ağa'ya yaptırdığı cami; medrese, darulkurra, sıbyan mektebi, arasta, türbe, dükkanlar, hamam, darüşşifa, imaret ve sebillerden oluşan külliye'nin en süslü yapısıdır. Rengi hakikaten zor bulunur o mavi çiniler, beni enginden engine sürükler. Zaten, Avrupalılar da bu nedenle ona "Mavi Cami" demez mi? Caminin karşısında, Kanuni'nin sadrazamı İbrahim Paşa'nın sarayı var. 16. yüzyılda yapılan özel ve zengin saraylardan günümüze kalan tek yapıdır. Şimdi İslam Eserleri Müzesi'dir. Sırtımı verip bir kez daha bakıyorum meydana. Günümüzde de etrafındaki yapıların ve boşlukların karakteristiğinde etkili olduğunu düşünüyor bana.

Bu parçayla ilgili aşağıdakilerden hangisi söylenemez?

- A) Örnekleme yapılmıştır.
- B) Sohbet havasında yazılmıştır.
- C) Devrik cümlelere yer verilmiştir.
- D) İsim cümlelerine yer verilmiştir.
- E) Yazar, kendi yorumuna yer vermiştir.

12. "Bir kez gerçeği yazmalıyım. Bir haberci özeniyle anlatmalıyım tüm gerçekliği. Çizgilerini sınırlarını netleştirmeliyim." Bunlara benzer onlarca düşünceyle oturduğum masadan kalktığımda ardımda sadece kendi yüzümün suretini bıraktığımı gördüm. Aynadaki görüntüme karşılaştırdım, aynı.

Bu parçadan çıkarılabilecek sonuç aşağıdakilerden hangisidir?

- A) Yazarlar hiçbir zaman gerçeği eserlerine yansıtmazlar.
- B) Eser, yazar istemese bile, yazarının izlerini taşır.
- C) Bir yazarın her eseri birbirine benzer.
- D) Hayali yazmak gerçeği yazmaktan daha kolaydır.
- E) Başarılı yazar, gerçeği eserine yansıtabilen yazardır.

13. Savaş, yıllardır edebiyata konu olmuştur. Gerçi, her zaman sanatın uyarıcı görevine dikkat çekeriz ama ne yazık ki sanatçının görüşlerine kimse itibar etmez. Oysa sanatın her zaman hayali yansıtmadığının farkına, silahlar sustuktan sonra varılır.

Bu parçada asıl anlatılmak istenen düşünce aşağıdakilerden hangisidir?

- A) Sanatçıların savaşı destekledikleri
- B) Sanatın, savaş olmadan gelişemediği
- C) Savaşın sanat sayesinde yayıldığı
- D) Sanatın her zaman güçsüz toplumlarda geliştiği
- E) Sanatın, savaşlara karşı alarm özelliği taşıdığı

14. Sadeleşme akımı bugün toplumumuzu özlü ve temiz bir dile kavuşturmuştur. Dilde ölçü, gerçekçiliktir. Yani halkın konuştuğu dile yazmaktır. Sanatçının dilinin halkın dili olmasıdır. Sanat için, sanatçı için, halk için fazlasına gerek yoktur.

Bunları söyleyen sanatçının asıl vurgulamak istediği düşünce aşağıdakilerden hangisidir?

- A) İyi sanatçı, dili edebi sanatlarla gösterişli hale getirerek kullanmalıdır.
- B) Dilin hiçbir kuralı olmamalıdır.
- C) Halkın sorunlarını ele alan sanatçı başarılıdır.
- D) Sadeleşme çabalarının sanata hiçbir faydası olmamıştır.
- E) Her sanatçı, sokaktaki insanların bile yabancı olmadığı sözcükleri kullanmalıdır.

15. Yazdığınız romanın ya da öykünün kötü oluşu, istediğiniz kıvamda olmayışı moralinizi bozmasın. Yazmaya devam edin. Elbette ki iyiye ulaşmak zaman alacaktır. Önemli olan kendinize olan güveninizi kaybetmemenizdir. Büyük sanatçıların, büyük eserlerin bir anlık olaylarla ortaya çıkmadığını unutmamak gerekir.

Bu parçada anlatılmak istenen aşağıdakilerden hangisidir?

- A) Her insan öykü ya da roman yazamaz.
- B) Sanatta başarılı olmak sabır ister ve uzun zaman alır.
- C) Kendine güvenen her insan edebiyatta "en iyi" olacaktır.
- D) Başarılı olmak için, işinde başarılı olmuş insanları örnek almak gerekir.
- E) İyi eser yazmak, iyi sanatçıların izinden gitmeye bağlıdır.

16. Toplum hayatının zaman içinde farklılaşmasında on beş yirmi hatta elli yüz senenin fazla bir önemi yoktur. Özellikle köklü değişim ve dönüşümler çetin bir süreçte ortaya çıkmaktadır. Hemen her alanda harmanlamayı zorunlu kılan bu süreç doğal olarak son derece sancılı ve sıkıntılı geçmekte ve her kesimi etkilemektedir.

Bu parçada vurgulanmak istenen düşünce aşağıdakilerden hangisidir?

- A) Toplumların yaşantısındaki değişiklikler uzun bir zaman diliminde gerçekleşir.
- B) Edebiyat alanındaki değişiklikler toplum hayatının değişmesinde önemli rol oynar.
- C) Günlük yaşantımızdaki değişiklikler bir anda ortaya çıkar ve tüm insanları etkiler.
- D) Toplumların hayatı zamanla daha sıkıntılı bir hal alır.
- E) Toplumdaki köklü değişiklikler hayatın her alanında büyük sıkıntılara neden olur.

17. Bu sanatçıyı tanımak için onunla bizzat tanışmana gerek yok; ona kendisine ait küçük bir hikayede, güzel bir sözde rastlayabilirsin.

Bu cümlede bahsedilen sanatçıyla ilgili anlatılan düşünce aşağıdakilerden hangisidir?

- A) Eserlerine kişiliğini, yoğun olarak yansıtmıştır.
- B) Kendini herkesten üstün görmüştür.
- C) Eserlerinin kahramanları seçkin insanlardır.
- D) Çok sayıda eser vermiştir.
- E) Gerçeğe dayalı hikaye yazmakta çok başarılıdır.

18. Cumhuriyet Dönemi Türk şiirinin kurucularından ve İkinci Yeni'nin en önemli şairlerinden biri olan Cemal Süreya (1931-1990) diğer türlere değinse de şiire ağırlık veren eleştirmenlik yanıyla güçlü bir biçimde öne çıkmaktadır. Deneme kitaplarında ve gazetelere yazdığı yazılarda, Divan şiirinden çağdaş şiirimize kadar Türk şiirinin evrim sürecini, şiirler arası etkileşimleri ve dönemsel etkileri de dikkate alarak, içerik ile kullanılan dil bakımından ayrıntılı olarak değerlendirmiştir.

Bu parçadan Cemal Süreya ile ilgili aşağıdakilerden hangisine değinilmemiştir?

- A) Deneme kitapları da yazdığına
- B) Türk şiirinin süreçlerini içerik ve dil bakımından ayrıntılı olarak incelediğine
- C) Daha çok şiir eleştirisi yazdığına
- D) Çoğunlukla nesnel bir yaklaşıma sahip olduğuna
- E) Yazılarının gazetelerde yayınladığına

19. Osmanlı İmparatorluğu döneminde başlayan, daha sonra Türkiye Cumhuriyeti tarafından devralınarak devam ettirilen kazılar sonucunda İstanbul Arkeoloji Müzesi benzersiz bir koleksiyona sahip oldu. Sergilenen eserler arasında tarihin ilk antlaşması olan Kadeş Antlaşması ve İskender Lahdi de var. Bu müzelerin bu eserlere daha iyi ev sahipliği yapabilmesi için bakım, onarım çalışmaları ve çağdaş sergileme planları da devam etmektedir.

Bu parçadan aşağıdakilerden hangisi çıkarılamaz?

- A) Müzelerde çok önemli eserleri sergilenmektedir.
- B) Kazı çalışmaları ilk defa Osmanlı Dönemi'nde başlamıştır.
- C) Arkeoloji müzesinde modernleştirme çalışmaları devam etmektedir.
- D) Osmanlı'nın başlattığı kazılar Cumhuriyet'ten sonra durdurulmamıştır.
- E) Müzedeki en ilgi çekici eserler, İskender Lahdi ve Kadeş Antlaşması'dır.

20. Gerçek bir akım, ihtiyaçtan, zorunluluktan doğan bir akım, bizim edebiyatımızda hiçbir zaman olmadı. Akımlar doğal sürelerini hiçbir zaman yaşamadı bizde. Bir ozanımızın yabancı bir sanatçıya karşı duyduğu coşku bizde bir akım başlatmıştır. Batı'nın üç dört yüzyılda yaşadığı bir şiir serüvenini biz bir yüzyıldan daha kısa bir süre içinde yaşamışız. Geliştirmeden iyice sındirmeden yaşamış; tüketmeden bırakmışız.

Bu parçadan aşağıdakilerden hangisi çıkarılamaz?

- A) Edebiyatımızdaki akımlar beğeniler sonucu ortaya çıkmıştır.
- B) Akımların edebiyatımıza hiçbir faydası olmamıştır.
- C) Edebiyatımız, akımları tam anlamıyla yaşamamıştır.
- D) Batılılar akımları bizden daha uzun süre kullanmıştır.
- E) Gerçek akımlar toplumların ihtiyaçlarından ortaya çıkmıştır.

21. Bu eseri okuyup bitirdiğinizde, yazarı merak edip hayatını araştırıyor ve bütün eserlerini birbirine bağlayan bir "dil sorunu" olduğunu, yazı yazmanın ve dilin onun varlık sebebi olduğunu öğreniyorsunuz. 1948'de Fransa'da doğduğunu görünce kitabın ikinci bölümünde anlattıklarının çoğunun otobiyografik olduğunu keşfediyorsunuz. Müzisyen bir aileden gelen müzik ve resim eğitimi alması beklenirken felsefe ve klasik diller eğitimi alan yazarın, dil konusunu neden hayati gördüğünü anlıyorsunuz.

Bu parçadan aşağıdakilerden hangisine değinilmemiştir?

- A) Yazarın, müzik eğitim almadığına
- B) Yazarın tüm eserlerinde kendi hayatını anlattığına
- C) Eserin, otobiyografik özellikler taşıdığına
- D) Yazarın, tüm eserlerinde dil sorununa değindiğine
- E) Yazarın bütün eserlerinin bir açıdan birbirine bağlı olduğuna

22. Aşağıdakilerden hangisi bir paragrafın giriş cümlesi olamaz?

- A) Atatürk'ün hayatını anlatan her kitabı okurum.
- B) Bize, açacağımız davada yardım edeceğine söz vermişti.
- C) Her eğitim yılı, bir öncekinden daha güzel olur umudu ile başlar.
- D) Edebiyat, her dönemde toplumun yaralarını sarmaya çalışır.
- E) Bu sözlere hak vermese de kendine yeni bir yol çizmeliydi.

23. I. Geçtiğimiz hafta çocuk giyiminde yeni sezon açıldı.
 II. Markalar çocukların ilgi alanlarına göre şekillenen koleksiyonlar hazırladı.
 III. Kadın ve erkekte olduğu gibi çocuk giyiminde de bu yazın en popüler rengi beyaz.
 IV. Hazırlanan koleksiyonlar, yepyeni tasarımlar çocukların hem ilgi alanlarına hem de en sevdiği renklere göre özel şekil aldı.
 V. Ama kız çocukların tutkusu pembe renk ve şeker kız görünümü popülerliğini koruyor.
 VI. Erkek çocukların favorisi yine basketbol, sörf, futbol gibi spor temalarını yansıtan giysiler.

Yukarıdaki numaralanmış cümlelerin anlamlı bir bütün oluşturulabilmesi için hangileri yer değiştirmelidir?

- A) I ve II
- B) II ve IV
- C) III ve IV
- D) IV ve V
- E) V ve VI

24. İstanbul'un en dinamik, günün her saatinde, her koşulda insanların yapacak bir şeyler de bulabildikleri hatta bu özelliği ile yurt dışından da birçok insanı kendine çeken ve yirmi dört saat uyanık olan yerlerden biri Taksim. (I) Dolayısıyla ulaşım açısından da önemli bir merkez ve İstanbul'un diğer meydanları gibi araçların işgali altında. (II) Taksim Meydanı ulusal bayramlarda gerçekleştirilecek törenler için tasarlanmıştır. (III) İtalyan heykeltıraş Pietro Canonica'ya yaptırılan ve bu törenlerin bir parçası olan natı, 8 Ağustos 1928'de açıldı. (IV) Her Cumhuriyet Bayramı'nda on binlerce kişiyi ağırlayan Taksim Meydanı bu yılki Van depremi nedeniyle törenler iptal edilince sakin günlerinden birini geçiriyor bugün. (V) Sakin ama hüzünlü bir duruşu var bu görkemli alanın. (VI) Hemen hemen hiçbirimizin görmediği ve belki de bundan sonraki yıllarda da görme-yeyeceği bir duruş bu.

Bu parça iki paragrafa ayrılmak istenirse ikinci paragraf numaralanmış cümlelerin hangisiyle başlar?

- A) I.
- B) II.
- C) III.
- D) IV.
- E) V.

25. ----. Bilim adamlarının, 1950 - 2003 yılları arasında dünyadaki tüm balık ve omurgasızlarla ilgili verileri inceleyerek yaptığı araştırma, deniz tarağından kılıçbalığına kadar tüm türlerin yok olma tehlikesiyle karşı karşıya olduğunu ortaya çıkardı. Bu durumdan fok balıkları ve katil balina gibi memeliler de etkilenmektedir.

Verilen parçanın başına aşağıdakilerden hangisi getirilebilir?

- A) Okyanuslarda yaşayan balıklar ve diğer canlılar mevcut çevre kirliliği sürerse 2048 yılına kadar tükenecek
- B) Dünyadaki balık tüketiminin bir anda artması doğanın dengesini bozmuştur
- C) Denizlerimizde yaşayan balık türlerinin yüzde yirmi dokuzu yok olma noktasındadır
- D) Katil balina ve fok balıklarının bilinçsizce avlanması diğer balıkların sayısında aşırı artış olmasına neden olmaktadır
- E) Katil balinaların yok olma nedenlerinin tespit edilebilmesi için, yıllardır devam eden, ayrıntılı bir araştırma yapılmaktadır

26. VE 27. SORULARI AŞAĞIDAKİ
BİLGİLERE GÖRE CEVAPLAYINIZ.

Kafeye bir zamanlar sadece kahve ve çay içmek için giderdik, şimdi oralarda kahvaltı da ediyoruz, yemek de yiyoruz. Bu değişimde, dünyanın dört bir yanından gelmiş kahveleri aynı dekorda satan kafe zincirlerinin bir bir açılmasının büyük etkisi oldu. Ama zincirlerin yanı sıra kendi düzenlemeleriyle ortaya çıkan kafeler de kısa sürede tanındı ve onların müdavimleri oluşturdu.

26. Bu parçada aşağıdakilerden hangisine cevap olarak söylenmiştir?

- A) Zengin dekorlu kafe zincirlerinin yayılmasını neye bağlıyorsunuz?
- B) İnsanları kafelere çeken onların dekorları mıydı sizce?
- C) Günümüzde kafelerde daha çok vakit geçirilmesinin sebebi nedir?
- D) Bugün bir kafe açmak isterseniz en çok nelere dikkat edersiniz?
- E) Kafeleri, eskisinden daha faydasız görmeyenizin nedeni nelerdir?

27. Bu parçayla ilgili aşağıda verilenlerden hangisi yanlıştır?

- A) Öznellik ağır basmaktadır.
- B) Fiil cümlelerine yer verilmiştir.
- C) İkileme kullanılmıştır.
- D) Devrik cümlelerle anlatıma doğallık kazandırılmıştır.
- E) Değişik yapıda cümlelere yer verilmiştir.

26. VE 27. SORULARI AŞAĞIDAKİ
BİLGİLERE GÖRE CEVAPLAYINIZ.

Olca, Hatice, Cesur, Ebru ve Bülent'in kilo ve boy sıralamaları ile ilgili aşağıdaki bilgiler bilinmektedir.

- Olca, Cesur'dan uzun Ebru'dan ağırdır.
- Hatice, Olca'dan uzun, Cesur'dan ağırdır.
- Ebru, Cesur'dan kısa, Hatice ve Bülent'ten ağırdır.

28. Bülent ile ilgili aşağıdakilerden hangisi kesinlikle yanlıştır?

- A) Olca'dan uzundur
- B) En hafif kişidir
- C) Ebru'dan kısadır
- D) En uzun kişidir
- E) Boyu Cesur ile Olca arasındadır

29. Aşağıdakilerden hangisi kesinlikle doğrudur?

- A) Bülent, Cesur'dan ağırdır
- B) Hatice, Bülent'ten hafiftir
- C) Ebru en kısa boylu olandır
- D) Bülent'in boyu Hatice'den uzun Olca'dan kısadır
- E) Hatice, bu gruptaki en uzun kişidir

30. Grubun en kısa boylusu ve en ağır sırayla hangi seçenekte verilmiştir?

- A) Ebru – Olca
- B) Hatice – Bülent
- C) Ebru – Bülent
- D) Hatice – Olca
- E) Cesur – Ebru

31. $\frac{1,4 + 2,4}{2,9 \cdot 10^{-1} + 9 \cdot 10^{-2}}$

işleminin sonucu kaçtır?

- A) 0,01 B) 0,1 C) 1
D) 10 E) 100

32. $27^{10} + 9^{16} = a \cdot 9^{15}$

olduğuna göre, a kaçtır?

- A) 8 B) 9 C) 10 D) 11 E) 12

33. $a = \sqrt{2} - 1$

$b = 1 - \sqrt{5}$

olduğuna göre, $|a| + |a + b| + |b|$ işleminin sonucu kaçtır?

- A) $\sqrt{5} + \sqrt{2}$ B) $\sqrt{5} + \sqrt{2}$ C) $2 - \sqrt{5}$
D) $2\sqrt{5} - 2$ E) $2\sqrt{2} - 2$

34. $x - \sqrt[4]{8} = x + \sqrt[6]{32}$

olduğuna göre, x kaçtır?

- A) 15 B) 16 C) 17 D) 18 E) 19

35. Ardışık beş tam sayının en küçük üç tanesinin toplamı, en büyük iki tanesinin toplamının 4 fazlasına eşittir.

Buna göre, bu sayıların toplamı kaçtır?

- A) 35 B) 40 C) 45 D) 50 E) 55

36. a ve b pozitif tam sayılar ve

$3^{-a} \cdot 6^b = 24$

olduğuna göre, a + b toplamı kaçtır?

- A) 4 B) 5 C) 6 D) 7 E) 8

37. x , y ve z gerçel sayılar için

$$x^2 \cdot y < 0$$

$$x - y < 0$$

$$x \cdot y \cdot z > 0$$

olduğuna göre, aşağıdakilerden hangisi doğrudur?

- A) $x < y < 0 < z$ B) $x < 0 < y < z$
 C) $x < y < z < 0$ D) $x < z < 0 < y$
 E) $x < z < y < 0$

38. $3^{x+1} = 6^x$

olduğuna göre, $3^{\frac{1}{x}} + 4^x$ işleminin sonucu kaçtır?

- A) 11 B) 10 C) 9 D) 8 E) 7

39. Pozitif gerçel sayılar kümesi üzerinde " \star " ve " Δ " işlemleri

$$x \star y = 2x^2 - y$$

$$x \Delta y = \frac{3x + y}{2}$$

biçiminde tanımlanıyor.

Buna göre, $a \star (1 \Delta 9) = 26$ ise a kaçtır?

- A) 1 B) 2 C) 3 D) 4 E) 5

40. A ve B , E kümesinin alt kümeleridir.

Buna göre, $(A^c \cup B)^c \cup (A \cap B)^c$ ifadesinin eşiti aşağıdakilerden hangisidir?

- A) A B) B C) A^c D) B^c E) E

41.
$$\frac{a^2 + 3a - 4}{\left(\frac{1}{a} - 1\right)\left(1 + \frac{4}{a}\right)}$$

ifadesinin sadeleştirilmiş biçimi aşağıdakilerden hangisidir?

- A) $-a^2$ B) $-2a^2$ C) a^2
 D) $2a^2$ E) $3a^2$

42. Hilesiz bir zar 2 kez atılıyor.

Üst yüze gelen sayılar çarpımının çift sayı olma olasılığı kaçtır?

- A) $\frac{1}{3}$ B) $\frac{1}{2}$ C) $\frac{7}{12}$ D) $\frac{25}{36}$ E) $\frac{3}{4}$

43. a katının a fazlası, b katının b fazlasına eşit olan sayı x dir.
a ≠ b olduğuna göre, x kaçtır?
A) - 2 B) - 1 C) 0 D) 1 E) 2
44. AB iki basamaklı sayısı ile AC iki basamaklı sayısının toplamı 137 olduğuna göre, A + B + C toplamı kaçtır?
A) 24 B) 23 C) 22 D) 21 E) 20
45. Olcay, Cem ve Erman'ın almak istedikleri oyuncak, Olcay'ın parasından 20 TL, Cem'in parasından 16 TL, Erman'ın parasından 25 TL fazladır.
Üçü paralarını birleştirdiklerinde bu oyuncaktan iki tane alabiliyorlar ve 5 TL paraları artıyor ise Olcay'ın kaç TL parası vardır?
A) 44 B) 46 C) 48 D) 50 E) 52
46. Bir satıcının satışları geçen seneye göre adet olarak % 25 daha fazladır fakat eline geçen para geçen seneye göre % 10 daha azdır.
Buna göre, satıcının sattığı malın fiyatı geçen seneye göre % kaç azalmıştır?
A) 32 B) 30 C) 28 D) 26 E) 20
47. Bir satıcı bir malı liste fiyatının % 40 eksikğine almış ve aldığı bu fiyat üzerinden % 30 kâr ederek satmıştır.
Satıcının bu maldan elde ettiği kâr 54 TL ise malın liste fiyatı kaç TL'dir?
A) 300 B) 320 C) 360
D) 380 E) 400
48. Bir satıcı elinde bulunan 30 adet malı ikişer paketleyip satarsa % 25, beşer paketleyip satarsa %20 kâr elde etmektedir.
Bu satıcının sattığı beşerli paketlerin satış fiyatı, 2 şerli paketlerin satış fiyatından kaç TL fazladır?
A) 45 B) 40 C) 35 D) 30 E) 25

49. İki saatten birincisi doğru çalışmakta, ikincisi ise her saat 15 dakika geri kalmaktadır. Her iki saatte saat 15.00'da çalışmaya başlıyor.

Birinci saat ilk kez 20.00'ı gösterdiğinde ikinci saat kaçı gösterir?

- A) 18.15 B) 18.30 C) 18.45
D) 19.00 E) 19.15

50. Eş güçte bir grup işçi bir işi 6 günde bitirebiliyorlar.

İşçi sayısı % 60 artırılır, günlük çalışma süresi % 50 azaltılır ve iş miktarı 4 katına çıkartılırsa aynı iş kaç günde biter?

- A) 24 B) 26 C) 28 D) 30 E) 32

51. Bir öğrenci yurdunda 10 tane tek kişilik, 15 tane çift kişilik, 20 tane 3 kişilik olmak üzere toplam 45 oda bulunmaktadır. Tam kapasite dolu olan bu yurtla ilgili olarak aşağıdakiler bilinmektedir.

- Kız öğrenciler tek ya da çift kişilik odalarda kalmaktadır.
- Erkek öğrenciler tek ya da 3 kişilik odalarda kalmaktadır.
- Yurdun 21 odasında kız öğrenciler kalmaktadır.

Buna göre, yurttaki toplam kaç erkek öğrenci kalmaktadır?

- A) 56 B) 58 C) 60 D) 62 E) 64

52. Bir torbada 130 adet bilye bulunmaktadır. Bu torbadan bir sınıfta bulunan erkekler 3'er adet, kızlar 4'er adet bilye alıyor ve geriye 40 adet bilye kalıyor.

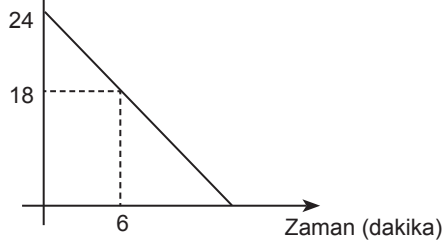
Erkeklerin sayısı x , kızların sayısı y olmak üzere

- I. $x = y$ olabilir.
II. x kesinlikle çift sayıdır.
III. y kesinlikle çift sayıdır.

İfadelerinden hangileri daima doğrudur?

- A) Yalnız I B) Yalnız II C) Yalnız III
D) I ve II E) II ve III

53. Depoda bulunan su (litre)

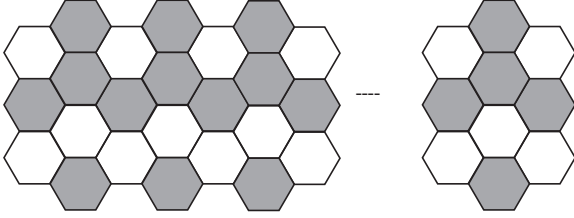


Yukarıdaki doğrusal grafikte bir su deposunda bulunan 24 lt suyun zamanla miktarındaki değişim gösterilmiştir.

Buna göre, depo dolu iken su azalmaya başladıktan kaç dk sonra tamamen boşalır?

- A) 18 B) 20 C) 22 D) 24 E) 30

54. VE 55. SORULARI AŞAĞIDAKİ BİLGİLERE GÖRE CEVAPLANDIRINIZ.



Yukarıda belli sayıda altıgen bulunmaktadır ve belli bir kurala göre bazıları taranmıştır.

54. Buna göre, bu şekilde toplam 121 taneli altıgen varsa toplam kaç adet beyaz altıgen vardır?

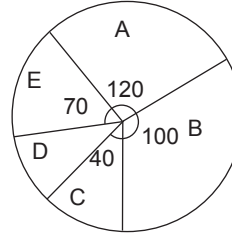
- A) 92 B) 94 C) 96 D) 98 E) 100

55. Buna göre, bu şekilde toplam 73 altıgen varsa kaç tanesi beyazdır?

- A) 38 B) 36 C) 34 D) 32 E) 30

56. VE 57. SORULARI AŞAĞIDAKİ BİLGİLERE GÖRE CEVAPLANDIRINIZ.

Aşağıdaki grafikte, bir karışımı oluşturan A, B, C, D ve E maddelerinin ağırlık olarak dağılımı gösterilmiştir.



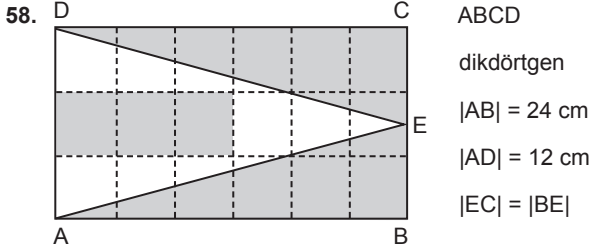
Bu karışımında bulunan B ve E maddelerinin toplam miktarı 510 gr'dır.

56. Buna göre, bu karışımında D maddesinden kaç gr bulunmaktadır?

- A) 80 B) 90 C) 100 D) 120 E) 150

57. Buna göre, bu karışıma A maddesinden kaç gr eklenmeli ki A maddesi tüm karışımın %40'ı kadar olsun?

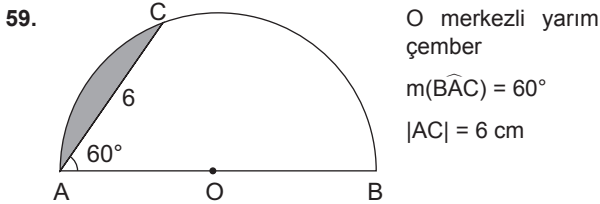
- A) 120 B) 140 C) 160 D) 180 E) 240



ABCD dikdörtgeni birbirine eş 18 birim kareye ayrılmıştır.

Buna göre, taralı alanlar toplamı kaç birim karedir?

- A) 120 B) 130 C) 140 D) 150 E) 160



Yukarıdaki verilere göre, taralı bölgenin alanı kaç cm^2 dir?

- A) $3\pi - 6\sqrt{3}$ B) $6\pi - 9\sqrt{3}$ C) $12\pi - 4\sqrt{3}$
D) $12\pi - 6\sqrt{3}$ E) $12\pi - 9\sqrt{3}$

60. Dik koordinat düzleminde

$$d_1: x + 4 = 0$$

$$d_2: x + 2y = 8$$

doğrularının kesim noktasının orjine olan uzaklığı kaç birimdir?

- A) $\sqrt{11}$ B) $\sqrt{13}$ C) $2\sqrt{13}$ D) $3\sqrt{13}$ E) $4\sqrt{13}$

DİKKAT: BU BÖLÜMDE YANITLAYACAĞINIZ SORU SAYISI 60'TIR.

1-27 SORU : "Atatürk İlkeleri ve İnkılap Tarihi" ile "Türk Kültür ve Medeniyetleri"

28-45 SORU : "Türkiye Coğrafyası"

46-60 SORU : "Temel Yurttaşlık Bilgisi ve Güncel Konular" ile ilgilidir.

Bu bölümdeki sorularla ilgili cevaplarınızı, cevap kağıdınızdaki "**GENEL KÜLTÜR**" bölümüne işaretleyiniz.

1. Hristiyanlar tarafından "Tanrının kılıcı" olarak adlandırılan ve adına opera bestelenen Türk Hakanı aşağıdakilerden hangisidir?

- A) Bumin Kağan B) Mete
C) Attila D) Bilge Kağan
E) Alper Tunga

2. İlk Türkçe siyasetname olan Kutadgu Bilig'in yazarı aşağıdakilerden hangisidir?

- A) Kaşgarlı Mahmut B) Yusuf Has Hacip
C) Tonyukuk D) Ahmet Yesevi
E) Edip Ahmet Yükneki

3. • Konya ve çevresinde kurulmuşlardır.
• Resmi dilleri Türkçedir.
• Kendilerini Anadolu Selçuklu Devleti'nin mirasçısı olarak görmüşlerdir.

Yukarıda özellikleri verilen Türk Beyliği aşağıdakilerden hangisidir?

- A) Karamanoğulları B) Danişmentliler
C) Karesioğulları D) Akkoyunlular
E) Eretna Devleti

4. Aşağıdakilerden hangisi Coğrafi Keşifleri başlatan ya da keşiflere katkısı olan kişilerden biri değildir?

- A) Kristof Kolomb B) Amerigo Vespucci
C) Vasco De Gama D) Bartelmi Diaz
E) Martin Luther

5. I. Defterdar
II. Kaptan-ı Derya
III. Nişancı

Yukarıdaki devlet görevlilerinden hangileri XVI. yüzyıldan Divan'a üye olmuştur?

- A) Yalnız I B) Yalnız II C) Yalnız III
D) I ve II E) II ve III

6. Osmanlı ordusunda silah yapan, silahların onarım ve bakımı ile ilgilenen ve savaşta ordunun silah ve cephanesini temin eden sınıf aşağıdakilerden hangisidir?

- A) Humbaracılar B) Topçular
C) Lağımcılar D) Cebeciler
E) Yeniçeriler

7. XVII. yüzyılda devlet kurumlarındaki bozulma nedenlerini rapor olarak IV. Murad'a sunan devlet adamı aşağıdakilerden hangisidir?

- A) Kuyucu Murad Paşa
B) Tarhuncu Ahmet Paşa
C) Koçi Bey
D) Köprülü Mehmet Paşa
E) Merzifonlu Kara Mustafa

8. Aşağıdaki antlaşmalardan hangisi ile Kırım Hanlığı'nın yalnızca dini açıdan Osmanlı Devletine bağlı kalacağı kararı alınmıştır?

- A) Belgrat B) İstanbul
C) Zıştovi D) Yaş
E) Küçük Kaynarca

9. Aşağıdakilerden hangisi 1839 Tanzimat Fermanı'nın özellikleri arasında yer almaz?
- A) Vergi toplamada yeni düzenlemeler yapılacaktır.
B) Divan örgütü kaldırılarak yerine nazırlıklar kurulacaktır.
C) Müslüman gayrimüslim tüm tebaanın güvenliği sağlanacaktır.
D) Askere almada yerin düzenlemeler getirilmiştir.
E) Yasa üstünlüğü esas alınmıştır.
10. Aşağıdaki antlaşmalardan hangisi ile Boğazlar sorunu ilk kez uluslararası bir sorun haline gelmiştir?
- A) Kale-i Sultaniye Antlaşması
B) Londra Boğazlar Sözleşmesi
C) Berlin Antlaşması
D) Ayastafenos Antlaşması
E) Hünkar İskelesi Antlaşması
11. I. İngiltere ve Rusya arasında yapılan Reval Görüşmeleri
II. İttihat ve Terakki Cemiyetinin faaliyetleri
III. İtalya'nın Trablusgarp'ı işgal etmesi
Yukarıdakilerden hangileri II. Meşrutiyetin ilanı sürecini etkileyen bir dış gelişmedir?
- A) Yalnız I B) Yalnız II C) Yalnız III
D) I ve II E) II ve III
12. Osmanlı tarihinde önemli rol oynayan İttihat ve Terakki partisinin yönetimi ele geçirmesinde etken olan olay aşağıdakilerden hangisidir?
- A) 31 Mart Olayı B) II. Meşrutiyetin İlanı
C) I. Balkan Savaşı D) Trablusgarp Savaşı
E) I. Dünya Savaşı
13. I. Dünya Savaşında Osmanlı Devleti'nin ilk taarruz cephesi aşağıdakilerden hangisidir?
- A) Çanakkale Cephesi B) Hicaz Cephesi
C) Kanal Cephesi D) Suriye Cephesi
E) Kafkas Cephesi
14. İstanbul Hükümeti'nin de desteklediği manda ve himayeyi savunan milli mücadeleye zararlı cemiyet aşağıdakilerden hangisidir?
- A) Wilson Prensipleri Cemiyeti
B) Teal-i İslam Cemiyeti
C) Redd-i İlhak Cemiyeti
D) İngiliz Muhipleri Cemiyetleri
E) Sulh ve Selameti Osmaniye Cemiyeti
15. "Hamidiye Kahramanı" olarak anılan Mondros Ateşkesinde de imzası olan ve "Cehennem Değirmeni" isimli kitapla hatıratını anlatan komutan ve devlet adamı aşağıdakilerden hangisidir?
- A) Ali Fethi Okyar B) Hüseyin Rauf Orbay
C) Kazım Karabekir D) Ali Fuat Cebesoy
E) Hasan Rıza Soyak
16. Aşağıdakilerden hangisi ile Anadolu Hareketi İstanbul Hükümeti tarafından resmen tanınmıştır?
- A) Amasya Genelgesi
B) Sivas Kongresi
C) Amasya Görüşmesi
D) İstanbul'un resmen işgali
E) Havza Genelgesi

17. I. Kapitülasyonlar
II. Azınlıklar
III. Nüfus Mübadelesi

Yukarıdakilerden hangileri Misak-ı Milli kararları içinde yer almaz?

- A) Yalnız I B) Yalnız II C) Yalnız III
D) I ve II E) II ve III

18. Aşağıdakilerden hangisi I. TBMM tarafından gerçekleştirilmemiştir?

- A) Saltanatın kaldırılması
B) Takrir-i Sükun Yasası'nın çıkarılması
C) Hıyanet-i Vataniye Kanunu'nun çıkarılması
D) 1921 Ankara Antlaşması'nın imzalanması
E) Men-i İsrifat Yasası'nın çıkarılması

19. 20 Ekim 1921'de Ankara Antlaşması ile özel bir yönetim tanınan ve halkın çoğunluğu Türk olduğu için kültürel serbestlik verilen yer aşağıdakilerden hangisidir?

- A) Urfa B) Maraş C) Adana
D) Antep E) Hatay

20. Aşağıdakilerden hangisi Atatürk Dönemi'nde gerçekleştirilen olaylardan biri değildir?

- A) Birleşmiş Milletlere üye olunması
B) Ezanın Türkçe okunması
C) Sadabat Paktına üye olunması
D) Bozkurt-Lotus olayı
E) Akdeniz Paktının yapılması

21. • 31 Mart Ayaklanması
• Şeyh Said İsyanı
• Menemen İsyanı

Yukarıdaki olayların ortak özelliği aşağıdakilerden hangisidir?

- A) Toplumun herkesiminden insanın katılması
B) Hükümet değişikliğe neden olmaları
C) Dışgüçler tarafından desteklenmeleri
D) Mevcut rejime karşı olmaları
E) Kişilere yönelik olmaları

22. "Ulusal Egemenlik ile Akılcılık ve Bilimsellik" kavramları sırası ile Atatürk ilkelerinden hangileri ile ilgilidir?

- A) Cumhuriyetçilik - Laiklik
B) Milliyetçilik - Halkçılık
C) Bağımsızlık - Cumhuriyetçilik
D) Cumhuriyetçilik - Devletçilik
E) Milliyetçilik - Devletçilik

23. II. Dünya Savaşı öncesinde İngiltere ve Fransa Türkiye'nin tarafsızlığını sağlama amacındadır.

Bu durum Türkiye'nin,

- I. Boğazlar Sorunu,
II. Musul Sorunu,
III. Hatay Sorunu

konularından hangilerini kendi lehine çözümlemesine uygun bir ortam yaratmıştır?

- A) Yalnız I B) Yalnız II C) Yalnız III
D) I ve III E) I, II ve III

24. Türkiye Cumhuriyeti'nde çift dereceli seçimden, tek dereceli seçime hangi yıl geçilmiştir?

- A) 1923 B) 1930 C) 1946
D) 1950 E) 1961

25. I. İsrail kuruldu.

- II. Faşizm ve Nazizm akımları tasviye edildi.
III. Mandater sistemler kuruldu.

Yukarıdakilerden hangileri II. Dünya Savaşı'ndan sonra gerçekleşmiştir?

- A) Yalnız I B) Yalnız II C) Yalnız III
D) I ve II E) I, II ve III

26. Aşağıdakilerden hangisi Demokrat Parti döneminde gerçekleşen olaylardan biri değildir?

- A) ODTÜ kurulmuştur.
B) Millî Korunma Kanunu çıkarılmıştır.
C) Atatürk'ü koruma kanunu çıkarılmıştır.
D) Ezan ve Anayasa dili eski haline getirilmiştir.
E) Köy Enstitüleri kapatılmıştır.

27. Ermeni diasporası tarafından kurulan ve genellikle Türk diplomatlara yönelik suikastlerle adını duyurmaya çalışan Ermeni terör örgütü aşağıdakilerden hangisidir?

- A) ASALA B) EOKA
C) ENOSİS D) BAAS
E) KASSAM TUGAYI

28.



Yukarıdaki Türkiye haritasında yaklaşık aynı meridyen üzerinde bulunan yerleşim merkezlerinden hangisi dünya dönerken daha fazla mesafe katetmektedir?

- A) İzmit B) Bilecik C) Kütahya
D) Burdur E) Antalya

29. 29° Doğu boylamında yer alan İstanbul'da yerel saat 10.20'dir.

Aynı anda Hakkari'de yerel saat 11.20 olduğuna göre Hakkari hangi boylam üzerinde yer almaktadır?

- A) 33° Doğu B) 37° Doğu
C) 40° Doğu D) 42° Doğu
E) 44° Doğu

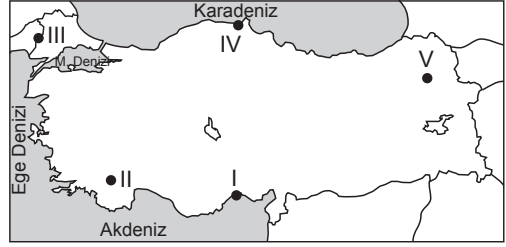
30. Aşağıdakilerden hangisi, Türkiye'de erozyonun sonuçlarından değildir?

- A) Delta ovalarının oluşması
B) Barajların ömrünün kısalması
C) Toprakta verimin azalması
D) Hayvan türlerinde azalma olması
E) Toprağın doygun hale gelmesi

31. Aşağıdaki eşleştirmeden hangisi sırasıyla volkanizma ve buzullar tarafından oluşturulan şekillere aittir?

- A) Lagün – Menderes
- B) Mantar kaya – Moren
- C) Krater – Sirk çukuru
- D) Peri bacaları – Barkan
- E) Dev kazanı – Tombolo

34. Maksimum nem sıcaklıkla doğru, yükseltiyle ters orantılıdır.



Buna göre, haritada numaralarla gösterilen yerlerin hangisinde kış mevsiminde maksimum nemin **daha fazla** olduğu söylenebilir?

- A) I
- B) II
- C) III
- D) IV
- E) V

32. Aşağıdaki merkezlerin hangisinde gerçek sıcaklık ile indirgenmiş sıcaklık arasındaki fark diğerlerinden **daha fazladır**?

- A) Van
- B) Konya
- C) Bursa
- D) Antalya
- E) Afyonkarahisar

35. Aşağıdakilerden hangisi Türkiye’de yaşanan hızlı nüfus artışı ile paralellik **göstermez**?

- A) Kalkınma hızının yavaşlaması
- B) Büyükşehirlere olan göçlerin artması
- C) Kent merkezlerindeki ovalarda tarımsal üretimin artması
- D) İç ticaret hacminin artması
- E) Eğitim, sağlık kuruluşlarına ihtiyacın artması

33. Bir coğrafi bölümün çeşitli yöreleri arasında iklim ve bitki örtüsü bakımından farklılık görülebilir.

Aşağıdaki bölümlerin hangisinde bu farklılık diğerlerine oranla **daha belirgindir**?

- A) Güney Marmara
- B) Erzurum - Kars
- C) Doğu Karadeniz
- D) Konya
- E) Dicle

36. Kentlerin fonksiyonlarına göre sınıflandırılmasında; kentte ön plana çıkan ekonomik, kültürel ve idari faaliyetler dikkate alınır.

Buna göre, aşağıdaki kentlerden hangisi fonksiyonuna göre diğerlerinden farklılık gösterir?

- A) Batman
- B) Zonguldak Ereğli
- C) Kırıkkale
- D) Rize
- E) İskendurun

37. Türkiye'de iç göçlerle ilgili olarak aşağıdaki yargılardan hangisi yanlıştır?

- A) Genellikle doğudan batıya doğru yapılmaktadır.
- B) Doğal nüfus artışının fazla olduğu yörelere doğru yapılmaktadır.
- C) Sürekli ya da mevsimlik göç şeklinde olabilmektedir.
- D) Kentten kente olan göçlerin oranı artmaktadır.
- E) Ülkemizin toplam nüfus miktarını etkilememektedir.

38. Aşağıdakilerden hangisi, Türkiye'de pamuk tarımı yapılan yerlerin ortak özellikleri arasında gösterilebilir?

- A) Üretilen pamuğun sadece ihracatının yapılması
- B) Üretim oranlarının birbirine yakın olması
- C) Kış mevsiminde don olaylarının sıklıkla görülmesi
- D) Yazların sıcak ve kurak geçmesi
- E) Sonbahar mevsiminde yağış miktarının fazla olması

39. Türkiye'de arazi kullanım özellikleri göz önüne alındığında, aşağıdaki yerlerin hangisinde karşısında verilen ekonomik etkinlik gelişmemiştir?

- A) Çarşamba Ovası – Tarım
- B) Ardahan Platosu – Turizm
- C) Küre Dağları – Madencilik
- D) Davraz Dağı – Turizm
- E) Şanlıurfa platosu – Hayvancılık

40. Aşağıda verilen madenler ve çıkarıldıkları yerlere ilişkin eşleştirmelerden hangisi yanlıştır?

- A) Susurluk – Bor
- B) Murgul – Bakır
- C) Bergama – Altın
- D) Çan – Boksit
- E) Sivrihisar – Toryum

41. Türkiye elektrik üretiminde aşağıdaki kaynaklardan hangisinin payı diğerlerine göre daha fazladır?

- A) Güneş
- B) Su gücü
- C) Rüzgar
- D) Jeotermal
- E) Bio enerji

42. I. Konserve
II. Savunma
III. Suni Gübre
IV. Makarna
V. Çimento

Türkiye, yukarıdaki endüstri dallarından hangilerinin ham maddesinin büyük bir kısmını dışarıdan almaktadır?

- A) I ve II
- B) I ve IV
- C) II ve III
- D) II ve V
- E) III ve IV

43. Türkiye'nin ihracat ve ithalatında önemli yer tutan ve 2013 sonu itibariyle Türkiye'nin dış ticaretinde birinci sırada yer alan ülkeler aşağıdakilerin hangisinde bir arada verilmiştir?

<u>Ihracat</u>	<u>İthalat</u>
A) İtalya	Çin
B) Almanya	Rusya Federasyonu
C) İsviçre	Çin
D) Irak	ABD
E) Rusya Federasyonu	Almanya

44. Aşağıdaki turistik yerlerden hangisi Doğu Anadolu Bölgesi'nde yer almaz?

- A) Zeugma Antik Kenti
- B) İshak Paşa Sarayı
- C) Ani Harabeleri
- D) Akdamar Kilisesi
- E) Sarıkamış Kayak Tesisleri

45. Ülkemizin en uzun ikinci su tüneli olan Mavi Tünel, Bağbaşı Barajı ile Mavi Boğaz arasında yer almaktadır. Bu önemli yatırım ile Akdeniz'e akıp giden suların bir kısmının su transferi yoluyla tarım arazilerine aktarılması ve bu proje kapsamında yer alan illere uzun vadede içme ve kullanma suyu temini hedeflenmiştir.

2012 yılında hayata geçirilen bu önemli proje, aşağıda verilen kalkınma projelerinden hangisi kapsamında yer almaktadır?

- A) DOKAP (Doğu Karadeniz Projesi)
- B) YHGP (Yeşilirmak Havzası Gelişim Projesi)
- C) GAP (Güneydoğu Anadolu Projesi)
- D) ZBK (Zonguldak, Bartın, Karabük Projesi)
- E) KOP (Konya Ovası Projesi)

46. 1215 tarihli Magna Carta Libertium aşağıdaki devletlerden hangisine aittir?

- A) İngiltere
- B) ABD
- C) Almanya
- D) Roma İmparatorluğu
- E) Fransa

47. Ceyda'nın amcası Mehmet'in oğlu Kaan'ın kızı olan Eylül'le hısımlığın türü ve derecesi aşağıdakilerden hangisinde doğru olarak verilmiştir?

- A) Tamkan - altsoy - 4. derece
- B) Yarımkan - yanson - 3. derece
- C) Kanbağı - yansoy - 5. derece
- D) Kanbağı - yansoy - 4. derece
- E) Yarımkan - altsoy - 4. derece

48. Aşağıdakilerden hangisi Aktif Statü Hakları (Siyasi)ndan değildir?

- A) Mal bildirim
- B) Askerlik ödevi
- C) Siyasi parti kurma, siyasi partilere üye olma
- D) Kişisel verilerin korunması
- E) Bilgi edinme hakkı

49. Aşağıdakilerden hangisi milletvekillerinin milletvekilliğinin kendiliğinden sona ermesini sağlayan durumlardan birisi değildir?

- A) Milletvekilinin Cumhurbaşkanı seçilmesi
- B) Milletvekilinin suçüstü yakalanması
- C) Milletvekilinin istifa etmesi
- D) Milletvekilinin ölümü
- E) YSK'nın milletvekilinin mazbatasını iptal etmesi

50. I. TBMM içtüzüğü'nün hazırlanması
II. Milletvekili dokunulmazlığının kaldırılması
III. Bütçe kanununun kabul edilmesi
IV. Erken genel seçim kararı alınması
V. Genel Af kanununun çıkarılması
Yukarıda verilenlerden hangileri TBMM'nin "Parlamento Kararı" adıyla gerçekleştirildiği işlemlerden değildir?

A) I ve V B) IV ve V C) I, III ve IV
D) III ve V E) Yalnız III

51. Aşağıdakilerden hangisi Bakanlar Kurulu'nun görevlerinden değildir?

A) Genelkurmay Başkanını Cumhurbaşkanına teklif etmek
B) Kanun teklifi hazırlamak, TBMM'ye sunmak
C) Tüzük çıkarmak
D) Merkez Bankası Başkanını seçmek
E) Bütçe Kanun Tasarısı'nı hazırlamak

52. Aşağıdakilerden hangisi Anayasa Mahkemesi'nde yüce divanda görev suçundan dolayı "Yasama"dan yargılanabilecek kişidir?

A) Başbakan
B) Milletvekilleri
C) Anayasa Mahkemesi üyeleri
D) Cumhurbaşkanı
E) TBMM Başkanı

53. Sayıştay başkan ve üyelerinin seçimi aşağıdakilerden hangisi tarafından yapılır?

A) Yargıtay
B) Danıştay
C) Anayasa Mahkemesi
D) Uyuşmazlık Mahkemesi
E) Türkiye Büyük Millet Meclisi

54. Radyo Televizyon Üst Kurulu (RTÜK) kaç üyeden oluşur?

A) 5 B) 8 C) 7 D) 9 E) 11

55. Birleşmiş Milletler Eğitim, Bilim ve Kültür Örgütü UNESCO'nun merkezi neresidir?

A) İngiltere - Londra
B) Portekiz - Lizbon
C) İspanya - Madrid
D) Bulgaristan - Sofya
E) Fransa - Paris

56. 1986-2000 yılları arasında dağıtılan "Atatürk Uluslararası Barış Ödülü'ne" 1986'da ilk olarak aşağıdaki kişilerden hangisi layık görülmüştür?
- A) Kenan Evren
B) Josep Luns
C) Nelson Mandela
D) Haydar Aliyev
E) Rauf Denktaş
57. İlk kez Ay'ın haritasını çizdiği için Mayıs 2013'te NASA tarafından Ay'ın bir bölgesine ismi verilen Türk-İslam bilim adamı aşağıdakilerden hangisidir?
- A) Ömer Hayyam
B) İbn-i Sina
C) Farabi
D) Biruni
E) Ali Kuşçu
58. Mayıs 2014'te Avrupa İnsan Hakları Mahkemesi'nin Türkiye'yi 90 milyon euro tazminata mahkum etmesine sebep olarak gösterilen olay, aşağıdakilerden hangisidir?
- A) Kardak Krizi
B) Montrö Sözleşmesi
C) Kıbrıs Barış Harekatı
D) Askeri darbeler
E) Kore'ye asker gönderilmesi
59. Mayıs 2014 itibarıyla UNICEF'in Türkiye "İyi Niyet Elçiliği"ne seçilen kişi aşağıdakilerden hangisidir?
- A) Tuğba Büyüküstün
B) Muazzez Abacı
C) Ünal Aysal
D) Kadir İnanır
E) Ajda Pekkan
60. Rusya Devlet Başkanı Vladimir Putin önderliğinde Mayıs 2014'te kurulan uluslararası örgüt aşağıdakilerden hangisidir?
- A) Dünya Kalkınma Örgütü
B) Karadeniz İşbirliği Teşkilatı
C) Avrasya Ekonomik Birliği
D) Asya Kalkınma Protokolü
E) Demir Ülkeler Birliği

TEST BİTTİ.

LÜTFEN CEVAPLARINIZI KONTROL EDİNİZ.