

GENEL YETENEK



1. Erkan Fırat, fotoğraflarında zihnindeki bir görüntüyü yakalamaya çalışıyor. Gerçeği belgelemek gibi bir derdi yok. Fotoğraf çekmesinin temelinde de manevi tatmin ve ego yatıyor, sanat sonra geliyor.

Bu parçada geçen "zihnindeki bir görüntüyü yakalamaya çalışıyor" sözüyle anlatılmak istenen aşağıdakilerden hangisidir?

- A) Düşüncelerini fotoğraflarına yansıtmak
- B) Bildiklerinin dışına çıkmamak
- C) Farklı özellikleri bir arada toplamak
- D) Var olanı değiştirmeye çalışmak
- E) Fotoğraflarında duygularının esiri olmak

2. I. Bir yolculuğa çıkmalıyız.
II. Bu, onun özgün sanat eseri ortaya koyabilmesinin en önemli yoludur.
III. Çünkü edebiyatçı, önce kendisini yaşatan ve sonsuza kadar var edecek olan kültürü tanımalıdır.
IV. Bu yolculuk, başka iklimlere doğru değil, yaşadığımız toplumun geçmişine doğru olmalıdır.
V. Zira bir sanat eserinin kökleri, onu ortaya koyan yazarın ruhsal ve zihinsel yapısından olduğu kadar, içinden çıktığı toplumun kültüründen de beslenir, gelişir.

Yukarıda numaralandırılmış cümlelerin anlamlı bir bütün oluşturabilmesi için hangileri yer değiştirmelidir?

- A) I. ile II. B) II. ile III. C) II. ile IV
- D) III. ile V. E) IV. ile V.

3. I. Biz çocukken çok mutluyduk.
II. Çünkü şehirdeyken bile doğadan henüz kopmamıştık.
III. Televizyonlar, bilgisayarlar, cep telefonları... Ne oldu?
IV. Daha mı mutluyuz, sanmıyorum.
V. Bahçelerde oynar, ağaçlara tırmanırdık; oysa şimdi öyle mi?

Yukarıdaki numaralanmış cümleler anlamlı bir bütün oluşturacak biçimde sıralandığında hangisi baştan üçüncü olur?

- A) I B) II C) III D) IV E) V

4. (I) Dünya Su Forumu, 16-22 Mart 2009'da İstanbul'da gerçekleşti. (II) Forumu en az 20 bin kişinin katıldığı tahmin ediliyor. (III) Forumun adını duyunca pek çoğumuz binlerce insanın dünyanın susuzluk sorununa çözüm üretmek için buluştuğunu düşünebiliriz. (IV) Ancak toplantılara girip çıktıkça ve stantları gezdikçe forumun pek de ulvi bir buluşma olmadığını derhal anlıyorsunuz. (V) Forumun ağırlıklı konuları barajlar ve suyun satılması.

Bu parçadaki numaralı cümlelerle ilgili olarak aşağıda verilenlerden hangisi yanlıştır?

- A) I. cümlede gerçekleşen bir etkinlikten söz edilmiştir.
- B) II. cümlede kesin olmayan bir bilgi verilmiştir.
- C) III. cümlede bir amaç dile getirilmiştir.
- D) IV. cümlede alıntı yapılmıştır.
- E) V. cümlede adı geçen forumun içeriğine değinilmiştir.

5. (I) İlkel kabilelere ilişkin yapılan arkeolojik ve antropolojik çalışmalar ilk çağlardaki astronomik çalışmalara dayanır. (II) O çağlarda gök olaylarından nasıl faydalanılacağı henüz bilinmiyordu. (III) İlk insanlar gökyüzündeki bazı çevrimsel olayları izliyor ve bu olayların kayıtlarını yapıyorlardı. (IV) Örneğin, mağaralara, kemiklerin üzerine Ay'ın evrelerini çiziyorlardı. (V) MÖ 10 bin - 3000 arasında gökyüzündeki çevrimsel olayların anlaşılmasına başlanmasıyla tarımda muhteşem ilerlemeler oluyor, çevrimsel olaylar kayıtlara daha iyi geçiriliyordu.

Bu parçadaki numaralı cümlelerin hangisinde kişinin yorumu vardır?

- A) I B) II C) III D) IV E) V

6. (I) O yıllarda severek okuduğum yazarların başında Orhan Kemal ve Sait Faik geliyordu. (II) Ama onların kitapları bende böyle bir etki yaratmamış, böylesine yoğun biçimde yazma arzusuna yol açmamıştı. (III) Şimdi düşünüyorum da, bu iki büyük yazarın yazdıklarını okurken, anlattıkları yaşantılarla kendiminkini ister istemez karşılaştırdığımda, "hayatımın roman olduğu" hükmüne varmıyor olmalıydım. (IV) Ne Orhan Kemal'in kahramanları gibi işçiler arasında geçiyordu günlerim, ne de Sait Faik'in hikâye anlatıcısı gibi başıboş... (V) Sıradan bir lise öğrencisiydim.

Bu parçadaki numaralı cümlelerin hangisinde "tahmin" anlamı vardır?

- A) I B) II C) III D) IV E) V

7. **Aşağıdaki cümlelerin hangisinde öğeler yanlış ayrılmıştır?**

- A) Yılın belli aylarında buraya gelen göçebeler/ iki ay/ burada/ kalır.
 B) Zaman içinde /pek çok aile/ memleketin farklı bölgelerine/ taşındı.
 C) Sanat adamlarından beklediğimiz./ halkın önünü açacak eserler/ yaratmalarıdır.
 D) Dünyanın tanıdığı birçok ünlü/ bu festivalde filmlerini tanıtmaya imkanı/ buldu.
 E) Sahneye çıkan ilk kişi/ mikrofonu eline alıp konuşmaya/ başladı.

8. **Aşağıdaki cümlelerin hangisinde ismi niteleyen bir söz kullanılmamıştır?**

- A) Tüm teknik ekip büyük bir özveriyle eserin büyüklüğüne uygun bir film ortaya koymak için hummalı bir çalışma yürütmüş.
 B) İyi bir sanatçı, halkı eğitmek, halkı sanattan anlar duruma getirmek gibi bir görev üstlenebilir.
 C) Kitabın içinde yazarın hayatı ayrıntılı olarak ele alınmış.
 D) Antoloji, bir şairin, bir yazarın, bir dönemin bir türün tipik metinlerinin seçilip bir araya toplanmasıdır.
 E) Sanatçı son yapıtında, döneminde aydınlara uygulanan baskıları şiirsel bir dille gözler önüne seriyor.

9. Birleşmiş Milletler'in amaçlarından biri de tüm

I II

uluslar da cinsiyet ayrımı yapmadan erkeklere

III

tanınan yetkiyi kadınlara da vermektir. Bu amaçla

IV

çeşitli projeler gerçekleştirilmiştir.

V

Bu parçadaki altı çizili sözcüklerden hangisinin yazımı yanlıştır?

A) I B) II C) III D) IV E) V

10. Farklı seslere , farklı ezgilere döktüler duygularını ;

I II

hayatın türküsünü öyle söylediler . Mal mülk sahi-

III

bi olmaktan ziyade hayatın hakkını vermek için didi-
nip durdular . Toprağı işleye işleye güzelleştirdiler....

IV

V

Bu parçadaki altı çizili noktalama işaretlerinden hangisi yanlış kullanılmıştır?

A) I B) II C) III D) IV E) V

11. Fotoğrafın olmadığı dönemlerde sanatçının, ya görenlerin anlattıklarına ya da izlenimine dayanıp düş gücünü kullanarak bir şehrin, bir nesnenin resmini yapmasıyla ortaya çıkardı duvar resimleri.

Bu cümleyle ilgili aşağıdakilerden hangisi söylenemez?

- A) Birleşik yapılı, devrik, eylem cümlesidir.
B) İsim tamlaması kullanılmıştır.
C) Farklı türde fiilimsiler kullanılmıştır.
D) Birden fazla zamir vardır.
E) Edat ve bağlaç vardır.

12. Bu taraflara gelip de Bandırma yolu üzerindeki an-

I

tik kentin kalıntılarını gezmek olmaz. Ziyaretçi-

II

lerini vakur bir hüznle selamlar kent. Gördükleri, kaderin cilvesiyle yaşanan değişimler üzerinde

III

uzun uzun düşündürüyor insanı. Ne yazık ki çağı-

IV

nın görkemli kentinden, bir tapınağın merdivenli zemini ve çok sayıda parlak, beyaz mermer dışın-

V

da bugün neredeyse hiçbir şey kalmamış.

Bu parçada altı çizili sözlerden hangileri isim tamlaması değildir?

- A) I ve II B) I ve III C) II ve IV
D) III ve V E) IV ve V

13. Aşağıdaki cümlelerin hangisinde anlatım bozukluğu vardır?

- A) Gerek televizyonlar gerekse gazeteler bu konuya ağırlık vermeli.
B) Teknik heyet son karşılaşmanın hem güç hem de zor olacağını söylüyor.
C) Kuraklık nedeniyle bu yıl da su kesintileri olacakmış.
D) Bir süre daha ülkede kalıp burayı tanımaya çalışacak.
E) Kitaptaki bütün makalelerde aynı konudan söz ediliyor.

14. Nil ile birlikte dünyanın en büyük nehri olan Amazon

I

Nehri'nde son günlerde su seviyesinde tarihi bir ar-

II

tış kaydedildi. Fransız bilim adamları, 22 Nisan'da

III

kaydedilen bu istisnai su seviyesinin 814 santimet-

IV

reye yükseldiğini ve bu yükselmenin nedeninin küresel ısınmayla bağlantısı olabileceğini belirtti.

V

Bu parçadaki altı çizili sözlerden hangisinde isim tamlaması yoktur?

A) I B) II C) III D) IV E) V

15. Ben kafamdakini fotoğrafa yakalamak için çok emek harcıyorum. Bilgisayarla müdahalenin sınırlarını zorlamama rağmen, kurallarım var. "Sis makinesine ne gerek var ya da niye boyalar için saatler harcıyorum" demedim hiç. Yani kırçılı bir fon istediğim zaman bir torba çimento alıp onu kararım.

Bu parça aşağıdaki sorulardan hangisine verilmiş bir yanıttır?

- A) Fotoğraflarına bilgisayarla ne kadar müdahale ediyorsun?
 B) Ne zamandan beri fotoğraflarla içli dışlısınız?
 C) Fotoğraflarda en çok ne üzerinde duruyorsunuz?
 D) Sanat alanındaki en önemli çalışman hangisiydi?
 E) Fotoğraflar sana ne anlam ifade ediyor?

16. (I) İslâmiyet'ten önce ve sonra olmak üzere iki ana devreye ayrılan Türk edebiyatı, İslâmî devir içinde, gerek coğrafya gerekse bazı medeniyetlere katılma bakımından, başka şekillerde de sınıflandırılmıştır. (II) Fakat asıl sınıflandırma, İslâmî devrin içinde Türk edebiyatının, Batı medeniyetine yönelmesiyle başlar. (III) Her edebiyatın kendine ait bir düşünce ve duygu yapısı vardır. (IV) Bu dönemde batıdan alınan gazete , tiyatro şiir gibi türlerin katkısıyla sınıflandırma farklı boyutlarda olmuştur.(V) Bu farklılık da Türk edebiyatının daha da çeşitlenmesini sağlamıştır.

Bu parçadaki numaralanmış cümlelerden hangisi parçanın anlam bütünlüğünü bozmaktadır?

A) I B) II C) III D) IV E) V

17. Bir ülkede bilimin gelişmesini istiyorsanız onu daha anakolundan itibaren çocuklara sevdirmek ve öğretmek zorundasınız. 7 yaşına kadar bilimle iç içe olan çocukların bilime olan merakı da daha fazla olmaktadır. Araştırmacı ruhunu edinen çocuklar çevresini ve yaşamı daha iyi sorgular olmakla beraber sorumluluk da kazanıyorlar. İyi bir eğitim öğretim içinde yetişen gençlerden oluşan bilim insanları sayesinde ülkenin kültür düzeyi de yükselmektedir.

Bu parçaya göre bir ülkede bilimin gelişmesi aşağıdakilerden hangisiyle mümkündür?

- A) Bilimsel çalışmaların devlet kontrolüyle yapılmasıyla
 B) Bilimin küçük yaştan itibaren çocukların ilgi alanına girmesiyle
 C) Kültürel alanda yeniliklere açık olunmasıyla
 D) Toplumun bilimsel çalışmalarda desteklenmesiyle
 E) Ailelerin bilinçlendirilmesiyle

18. En çok beslendiğim kaynaklardan biridir öğrencilerle beraber olmak. Her yeni nesil karşıma çıktığında başka bir tavır ve davranış biçimi görüyorum. Anadolu'nun her yerinden gelen o mozaikte tanıyorum onları. Çok şey alıyorum onlardan ve sürekli onlara ne vermem gerektiğini etüd ediyorum. Her biri bir saz onların. Ben de kendi malzemelerinden en iyiyi çıkarmaları için çalışıyorum.

Bu parçadaki konuşmacı için aşağıdakilerden hangisi söylenemez?

- A) Öğrencilere yardımcı olmak istediği
- B) Bilgisini başkalarıyla paylaşmak istediği
- C) Yeni nesilden etkilendiği
- D) Kendini her konuda donanımlı gördüğü
- E) Öğrencilerden yararlandığı

19. Yıllardır başarılı sonuçlar almaya alıştığımız 'ata sporu' güreş beklenen ilgiyi görmüyor, gün geçtikçe de eriyip gidiyor. Bir zamanlar aldığımız gümüş madalyalar bizi mutlu etmezken, şimdi ise ikincilikler hatta bronz madalyaya sevinir olduk. Peki neden bu duruma geldik? Acaba zamanında Dünya ve Avrupa şampiyonalarında aldığımız sayısız başarı beklenen ilgiyi görmüyor muydu? Bu yüzden de bu yöndeki yatırımlar yetersiz mi kaldı? Nedeni her neyse güreş, alçalan bir ivme içinde ve bu düşüş kendini her şampiyonada gösteriyor. Eğer yetkililer bunları gözönüne alarak gerekli yaptırımlara gitmezse artık madalya almak bizim için bir hayalden öteye gidemeyecek.

Bu parçadan ata sporumuzla ilgili aşağıdakilerden hangisi çıkarılamaz?

- A) Geçmiş başarılarından uzakta olduğu
- B) Başarısız sonuçların devam ettiği
- C) Yetkililerin üzerine düşeni yapması gerektiği
- D) Sporculara gereken desteğin verilmediği
- E) Başarısızlığın nedeninin tam olarak bilinmediği

20. Baharın gelişi kimilerine enerji ve canlanma duygusu verirken; kimilerinde ise halsizlik, yorgunluk hissi, eklem ağrıları, uykuya eğilim, mutsuzluk, dikkat dağılımı ve sindirim sorunları gibi sıkıntılara sebep olabiliyor. İnsan vücudundaki hormonlar üzerinde değişimlere sebep olan mevsim geçişleri, bazı kişilerde zihni ve bedeni çalkantılara yol açabiliyor. Oysa beslenme düzeninde ve bedeni aktivitelerde yapılacak bazı değişikliklerle bahar yorgunluğuna karşı koymak ve yazı sağlıklı bir başlangıç yapmak mümkün.

Bu parçaya göre aşağıdakilerden hangisi mevsim geçişlerinin neden olduğu olumsuzluklardan biri değildir?

- A) Uyuma isteği
- B) Unutkanlık
- C) Yorgunluk ve halsizlik
- D) Dikkat dağılımı
- E) Mutsuz olma

21. Okuyup da etkilendiğimiz kitaplar, ama öyle böyle değil, allak bullak olduğumuz, paradigmamızı ya da hayatımızı değiştiren kitaplar çoklukla genç yaşlarda okuduğumuz kitaplardır. Takıntılı biçimde yeryüzünde var olmanın nasıl bir şey olduğunu anlamaya çalıştığımız bu yaşlarda okuduklarımızın etkisi daha sonraları okuyup da etkileneceklerimizden daha sert, daha ani olur. Sanırım bu gibi allak bullak olmaları edebiyattan ziyade felsefe ya da siyaset kitaplarıyla yaşarız.

Bu parçaya göre gençlik döneminde kitaplardan daha çok etkilenmemizin nedeni aşağıdakilerden hangisidir?

- A) Varlık sebebimizi bilme istediği
- B) Karmaşık dünyamızın yenilenmesi
- C) Hedeflerimizin uç noktalarda olması
- D) Bilgiye daha aç olmamız
- E) Felsefe kitaplarına ağırlık vermemiz

22. (I) Müziğin ruh hali ve zeka üzerinde güçlü etkileri olduğunu hep bilirdik. (II) Hafif müzik sakinleştirir, anne karnında Mozart veya Beethoven dinleyen bebekler zeki olur. (III) Selçuklu ve Osmanlıların bazı ruhsal ve bedeni rahatsızlıkları, belirli müzikler dinleterek tedavi ettikleri de malumumuz. (IV) İnsanlığın ortaya çıktığı ilk günden beri müzik var oldu. (V) Bazen doğadaki bir kuş sesi bazen çağlayanın gürültüsü insanlara ilham verdi. (VI) Zaman geçtikçe de insanlar kendi müzik aletlerini geliştirmeye başladı.

Bu parçadaki numaralı cümlelerin hangisiyle farklı bir konuya geçilmiştir?

- A) II B) III C) IV D) V E) VI

23. Yaşamımızda vazgeçilmez bir yer kazanan yazı birdenbire ortaya çıkmamış, binlerce yıllık bir gelişme sürecinde sistemleşmiş, bugünkü halini almıştır. Bugün kullanılan yazıların bulunmasına kadar çeşitli yazılar kullanılmış sonunda hep kolay okunup yazılabilen yazılara varılmıştır. Yazı sözcüğü, sözü çizgilerle gösterme sistemi anlamında düşünülürse en eski yazı örnekleri insanla birlikte başlar.

Bu parçadan yazıyla ilgili aşağıdakilerden hangisi çıkarılamaz?

- A) Farklı türlerinin olduğu
B) Sözden eski olduğu
C) İnsanla birlikte başladığı
D) Bugünkü halini zamanla aldığı
E) Sözü çizgilerle gösterilmiş hali olduğu

24. – 25. soruları aşağıdaki parçaya göre cevaplayınız.

(I) Bitkiler belli bir yüksekliğe ulaştıklarında aşamalı olarak budanmalıdırlar. (II) İlk öğrenmeniz gereken budamanın nasıl yapılacağıdır; çünkü bu bitkiden bitkiye değişim gösterir. (III) Bazıları aşğıdan kesilirken, bazıları yeniden dikilir, bazıları ise gövdenin ortasından kesilir ve buradan tekrar filizlenmesi beklenir. (IV) Budama yaptığınızda bitkinin sadece istediğiniz şekle ve boya gelmesini değil, gelişimi için yeterli alanı bırakmayı da düşünmelisiniz. (V) Bunun için en azından istediğiniz yükseklikten 5-6 cm daha aşğıdan budama yapmalısınız.

24. Bu parçada budama ile ilgili aşağıdakilerden hangisine değnilmemiştir?

- A) Bitkiden bitkiye değışebildiğine
B) Deneyimli kişilerce yapılması gerektiğine
C) Bitkiye göre kesiminin farklı olduğuna
D) Kademeli olarak budanması gerektiğine
E) Belli kurallarının olduğuna

25. Bu parçada numaralanmış cümlelerle ilgili aşağıdakilerden hangisi yanlıştır?

- A) I. cümlede koşul vardır.
B) II. cümlede neden vardır.
C) III. cümlede varsayım vardır.
D) IV. cümlede öneri vardır.
E) V. cümlede gereklilik vardır.

26. – 27. soruları aşağıdaki parçaya göre cevaplayınız.

Sanat, bir insanın muktedir olduğu en iyi şeyi, yani umudu, inancı, aşkı, güzelliği ya da istediği ve umduğu en iyi şeyi güçlendirir. Yüzme bilmeyen bir insan suya atıldığında vücudu - kendisi değil - kendini kurtaracak içgüdüsel hareketler yapmaya başlar. İşte sanat da suya atılmış bir insan bedeni gibidir ; insanlığın manen boğulmasını engelleyecek bir içgüdüdür. Sanatçı, insanlığın manevi içgüdüünün bir temsilcisidir.

26. Bu parçanın anlatımıyla ilgili aşağıdakilerden hangisi **yanlıştır**?

- A) Tasvirlerle başvurulmuştur.
- B) Karşılaştırma yapılmıştır.
- C) Mecaz anlamlı sözcükler kullanılmıştır.
- D) Bir konuya ilişkin görüş bildirilmiştir.
- E) Öznel bir anlatım vardır.

27. Bu parçada sanatla ilgili aşağıdakilerden hangisi üzerinde durulmaktadır?

- A) İnsanların değiştirilebildiği
- B) Amacının ne olduğu
- C) Etki alanının ne olduğu
- D) Nasıl bir dili olduğu
- E) Türlerinin ne olduğu

28. – 30. soruları aşağıdaki bilgilere göre cevaplayınız.

Aylin, Bora, Ceren, Demet, Elif, Faruk ve Gizem bir tatil gününde K, L, M, N, P filmlerini izlemek üzere sinemaya gitmişlerdir. Kimlerin hangi filmi izlediğiyle ilgili aşağıdaki bilgiler verilmiştir.

- Herkes bir film izlemiştir.
- K ve M filmi ikişer kişi, diğerleri birer kişi izlemiştir.
- Ceren L filmi, Faruk ise N filmi izlemiştir.
- Demet ve Elif Aynı filmi izlemiştir.
- Aylin ve Bora farklı filmler izlemiştir.

28. Gizem K filmi izlemiş ise Elif hangi filmi izlemiştir?

- A) K B) L C) M D) N E) P

29. I. M filmi,
II. P filmi,
III. K filmi

Aylin'in izlemiş olabileceği filmler yukarıdakilerden hangileridir?

- A) Yalnız I B) Yalnız II C) I ve III
D) II ve III E) I, II ve III

30. Aşağıdakilerden hangisi **kesinlikle** doğrudur?

- A) Bora M filmi izlemiştir.
- B) Aylin ile Gizem farklı filmler izlemiştir.
- C) Demet M filmi izlemiştir.
- D) Aylin ile Ceren farklı filmler izlemiştir.
- E) Demet ile Faruk aynı filmi izlemiştir.

31. x sayma sayısı olmak üzere,

$$\begin{array}{r} A \quad | \quad 4x - 1 \\ - \quad | \quad x + 3 \\ \hline 7 \end{array}$$

olduğuna göre, A en az kaçtır?

- A) 73 B) 75 C) 77 D) 79 E) 81

32. XYZ ve ZYX üç basamaklı doğal sayılardır.

Y, 4 ün katı olan bir rakamdır.

$$XYZ - ZYX = 495$$

olduğuna göre, bu koşula uyan kaç farklı XYZ sayısı yazılabilir?

- A) 9 B) 10 C) 12 D) 15 E) 18

33. 1 den 73 e kadar olan tam sayılar soldan sağa doğru yanyana yazılarak,

$$x = 1234 \dots 7273$$

şeklinde 137 basamaklı bir sayı oluşturuluyor.

Buna göre, x in soldan 50. rakamı kaçtır?

- A) 1 B) 2 C) 3 D) 6 E) 9

34. $22^2 + 44^2 + 66^2$ toplamının asal olmayan kaç tane pozitif tam sayı böleni vardır?

- A) 17 B) 19 C) 21 D) 23 E) 25

35. x, y ve z pozitif tam sayılardır.

$$5x - 4y + 49 = 6z$$

olduğuna göre, aşağıdakilerden hangisi kesinlikle doğrudur?

- A) $7x + 8$ tektir.
B) y tek ise x çifttir.
C) y tek ise z tektir.
D) $z + 56$ tektir.
E) z tek ise y çifttir.

36. 243 ten küçük sayma sayılarından kaç tanesi 4 ve 6 ile tam bölünür?

- A) 18 B) 20 C) 21 D) 22 E) 24

37. $OKEK(48, A, 72) = 720$

$$OBEB(48, A, 72) = 12$$

olduğuna göre, bu koşula uyan A sayısı en az kaçtır?

- A) 120 B) 105 C) 90 D) 75 E) 60

38. $\frac{1}{\frac{4}{3}}$ sayısı $\frac{1}{\frac{4}{3}}$ sayısının kaç katıdır?

- A) $\frac{1}{9}$ B) 1 C) 3 D) 6 E) 12

39. $\frac{x}{y} = 5$ ve $\left(\frac{y}{x}\right)^n = 625$

olduğuna göre, n kaçtır?

- A) $-\frac{1}{8}$ B) $-\frac{1}{4}$ C) 1 D) 4 E) 8

40. $x = 9^a - 9$

$$y = 3 - 3^a$$

olduğuna göre, x in y cinsinden değeri aşağıdakilerden hangisidir?

- A) $y^2 - 6y + 9$ B) $y^2 - 3y$ C) $y^2 - 6y$
D) $y^2 - 3y + 9$ E) $3 - y$

41. $(\sqrt{3} - \sqrt{7})^2 + 2\sqrt{21} + 5$

işleminin sonucu kaçtır?

- A) $\sqrt{21}$ B) $2\sqrt{7}$ C) $7\sqrt{2}$
D) 21 E) 15

42. Zencefilin 400 gramı x lira, yarım kilosu $(2x - 600)$ lira olduğuna göre, x kaçtır?

- A) 350 B) 450 C) 500 D) 750 E) 800

43. A kovasının hacmi, B kovasının hacminden 3 litre küçüktür. A kovası ile 32 kova su alan bir depo, B kovası ile 28 kova su almaktadır.

Buna göre A kovasının hacmi kaç litredir?

- A) 21 B) 22 C) 23 D) 24 E) 25

44. Bir su deposunun $\frac{5}{8}$ i su ile doludur. Depoya 45 lt

su eklenince deponun hacminin $\frac{3}{4}$ ü kadar su taşıyor.

Buna göre deponun tamamı kaç litre su alır?

- A) 64 B) 60 C) 56 D) 52 E) 40

45. Biri diğ erinin 3 katı hızla çalışan iki işçi beraber bir işi 12 saatte yapabiliyor.

Hızlı çalışan işçi hızını 3 kat arttırırsa aynı işi kaç saatte yapar?

- A) 3 B) 4 C) 5 D) 6 E) 8

46. Bugün yaşları 12 ve 16 ile orantılı olan iki arkadaşın 12 yıl sonraki yaşları 4 ve 5 ile orantılı olacaktır.

Bu iki arkadaşın büyük olanın bugünkü yaşı kaçtır?

- A) 52 B) 48 C) 40 D) 36 E) 32

47. Bir satıcı 6 tanesine 150 lira ödeyerek aldığı ürünün 8 tanesi 280 liraya satıyor.

Satıcının kârı yüzde kaçtır?

- A) 20 B) 25 C) 30 D) 35 E) 40

48. Tunahan'ın elinde 126 tane matematik sorusu, 162 tane geometri sorusu, 216 tane fen sorusu vardır. Soruların tümünü kullanmak koşulu ile ve her testte eşit sayıda soru olmak üzere her branşın testi ayrı olacak biçimde test kitabı hazırlanıyor.

Bu kitapta en az kaç test vardır?

- A) 24 B) 25 C) 28 D) 30 E) 36

49. $A = \{a, b, c, d, e, f, g\}$ kümesinin 5 elemanlı alt kümelerinin kaçında e ve f bulunur?

- A) 32 B) 16 C) 10 D) 8 E) 4

50. $A = \{3, 4, 5, 6, 7, 8\}$ kümesinde Δ işlemi;

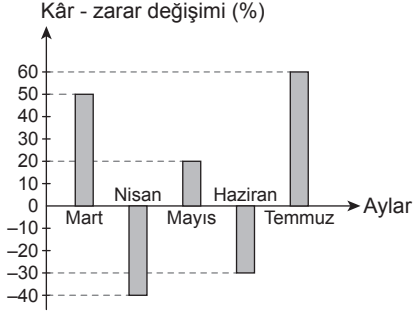
$x \Delta y = \{x \text{ ve } y \text{ den büyük olmayanı}\}$ şeklinde tanımlıdır.

$$(5 \Delta x) \Delta (6 \Delta 4) = x$$

olduğ una göre x kaçtır?

- A) 3 B) 4 C) 5 D) 6 E) 7

51 - 53. soruları aşağıdaki bilgilere göre cevaplayınız.



Gruptaki, + değerler kârı, - değerler zararı göstermektedir. Bu malın 5 ay boyunca maliyet fiyatı değişmemiştir. Malın satış fiyatı ay içinde sabit kalmaktadır. Maldan her ay farklı adetlerde satılmaktadır. Malın Mart ayındaki satış fiyatı 9 TL dir.

51. Bu malın bir birimi Nisan ayında kaç TL'den satılmıştır?

- A) 32 B) 34 C) 36 D) 40 E) 42

52. Temmuz ayında bu maldan 40 birim satıldığına göre kaç TL kâr elde edilmiştir?

- A) 1320 B) 1380 C) 1400
D) 1420 E) 1440

53. Bu malın Mayıs ayında yapılan satışından elde edilen toplam kâr Haziran ayındaki satışlardan yapılan toplam zarara eşittir.

Buna göre Mayıs ayında satılan mal, Haziran ayında satılanın kaç katıdır?

- A) $\frac{3}{2}$ B) $\frac{2}{3}$ C) $\frac{4}{3}$ D) $\frac{3}{4}$ E) $\frac{7}{12}$

54 - 56. soruları aşağıdaki bilgilere göre cevaplayınız.

A, n elemanlı bir küme olmak üzere, $n \in A$ ise A'ya bir bencil küme denir.

Örneğin $\{1, 3, 5\}$ bencil küme değildir.

54. Aşağıdakilerden hangisi bir bencil küme değildir?

- A) $\{1, 3, 4, 6\}$ B) $\{2, 5\}$
C) $\{2, 3, 5, 6, 7\}$ D) $\{1, 3\}$
E) $\{1, 2, 3, 4, 5, 6\}$

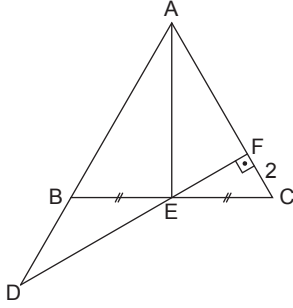
55. $\{1, 2, 3, 4, 5, 6, 7, 8\}$ kümesinin 4 elemanlı bencil alt kümelerinin sayısı kaçtır?

- A) 14 B) 21 C) 35 D) 42 E) 70

56. $\{1, 2, 3, 4, 5, 6, 7\}$ kümesinin 3 elemanlı bencil olmayan alt kümelerinin sayısı kaçtır?

- A) 20 B) 24 C) 25 D) 30 E) 40

57.



Şekilde ABC eşkenar üçgen,

$$|BE| = |EC|$$

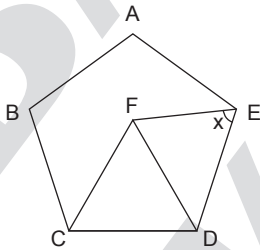
$$m(\widehat{F}) = 90^\circ$$

$$|FC| = 2 \text{ cm}$$

olduğuna göre, $|DE|$ kaç cm dir?

- A) 8 B) $4\sqrt{3}$ C) $2\sqrt{7}$
 D) $2\sqrt{3}$ E) 2

58.



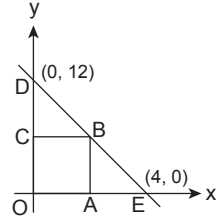
Şekilde ABCDE düzgün beşgen, FCD eşkenar üçgendir.

$$m(\widehat{FED}) = x$$

olduğuna göre, x kaç derecedir?

- A) 52 B) 56 C) 60 D) 64 E) 66

59.

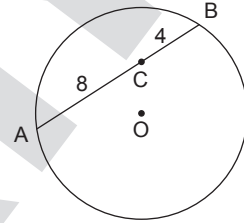


Şekilde $D(0, 12)$ ve $E(4, 0)$ dir.

OABC bir kare olduğuna göre, B noktasının orijine olan uzaklığı kaçtır?

- A) $\sqrt{2}$ B) $3\sqrt{2}$ C) $5\sqrt{3}$
 D) 8 E) $6\sqrt{3}$

60.



Şekilde C noktası, O merkezli çemberin [AB] kirişi üzerindedir.

Buna göre, C'den geçen en kısa kirişin uzunluğu kaç cm'dir?

- A) $2\sqrt{2}$ B) $4\sqrt{2}$ C) $8\sqrt{2}$
 D) 10 E) 12

GENEL YETENEK TESTİ BİTTİ.
 GENEL KÜLTÜR TESTİNE GEÇİNİZ.

GENEL KÜLTÜR

1

1. – Şaman
– Baskı
– Kam

Yukarıda verilen kavramların ortak noktası aşağıdakilerden hangisidir?

- A) Devletin mali işleriyle ilgilenir.
B) Din adamlarına verilen isim.
C) Vezirlere verilen isim.
D) Devletin vergi işlerini yürütür.
E) Devlet işlerinin görüldüğü meclistir.

2. Osmanlı Devleti'nde Divan kararlarının;

- I. padişah onayı,
II. sadrazam onayı,
III. kararların oybirliği ile alınması

yürürlüğe girmesi için uygulamalardan hangileri şarttır?

- A) Yalnız I B) Yalnız II C) Yalnız III
D) I ve II E) I, II ve III

3. Aşağıdakilerden hangisi Osmanlı Devleti'nin elde ettiği gelirler arasında yer almaz?

- A) Müsadere uygulamasıyla elde edilen gelirler
B) Bağlı beyliklerden alınan vergiler
C) Savaşlarda elde edilen gelirler
D) Müslüman halkın verdiği cizye vergileri
E) Gümrük, maden ve orman gelirleri

4. Aşağıdakilerden hangisi Osmanlı Devleti'nde miri arazinin bölümlerinden biri değildir?

- A) Has B) Zeamet C) Ağnam
D) Mukaata E) Tımar

5. Osmanlı Devleti'nde XVII. yy'da gerçek anlamda geleceği dönük bir bütçe hazırlayan devlet adamı aşağıdakilerden hangisidir?

- A) Tarhuncu Ahmet Paşa
B) Genç Osman
C) I. Mahmut
D) Koçi Bey
E) Alemdar Mustafa Paşa

6. 1921 Anayasasında

- I. Saltanatın kaldırılması,
- II. Cumhuriyetin ilanı,
- III. Halk Partisi'nin kurulması

gelişmelerden hangileri değişiklik yaşanmasına neden olmuştur?

- A) Yalnız I
- B) Yalnız II
- C) Yalnız III
- D) I ve II
- E) I, II ve III

7. Türkiye'de cumhuriyetin ilanından sonra kurulan siyasi partiler arasında aşağıdakilerden hangisi gösterilemez?

- A) Halk Fırkası
- B) Terakkiperver Cumhuriyet Fırkası
- C) Serbest Cumhuriyet Fırkası
- D) Demokrat Parti
- E) Ahali Cumhuriyet Fırkası

8. Türkiye Cumhuriyeti'nde kadınlara aşağıdaki haklardan hangisi diğerlerinden daha önce verilmiştir?

- A) Milletvekili seçilebilme
- B) Evlilikte ve boşanmada erkekle eşit derecede söz sahibi olma
- C) Belediye seçimlerine katılma hakkı
- D) Başbakan olabilme
- E) Evlilikten sonrada kendi soyadını kullanabilme

9. Takrir-i Sükun Kanunu aşağıdaki hangi olay sonucunda çıkmıştır?

- A) Menemen Olayı
- B) Baba İshak İsyanı
- C) 27 Mayıs İhtilali
- D) Şeyh Sait İsyanı
- E) 31 Mart Olayı

10. Türkiye'nin dış politikasıyla ilgili olarak aşağıdakilerden hangisi 1931-1939 döneminde meydana gelmemiştir?

- A) Balkan Antantı'nın kurulması
- B) Milletler Cemiyeti'ne girilmesi
- C) Yabancı okullar sorunu
- D) Boğazlar Komisyonu'nun kaldırılması
- E) Sadabat Pakti'nin kurulması

11. Türkiye'nin bugünkü sınırının belirlenmesinde;

- I. Lozan Antlaşması,
- II. Balkan Antantı,
- III. Gümrü Antlaşması

antlaşmalardan hangilerinin rolü olmamıştır?

- A) Yalnız I
- B) Yalnız II
- C) Yalnız III
- D) I ve III
- E) II ve III

12. Sadabat Paktına üye devletler arasında aşağıdakilerden hangisi yoktur?

- A) Türkiye
- B) Irak
- C) Suriye
- D) İran
- E) Afganistan

13. I. Vergiler herkesin gelirine göre toplanacak
II. Mahkemeler açık olarak yapılacaktır
III. Herkes kanun önünde eşit olacak
IV. Askerlik vatan görevi haline getirilecek
V. Herkes mal ve mülküne sahip çıkacak, miras bırakabilecek.

Yukarıdaki Tanzimat Fermanı maddelerinden hangileri kişilere mülkiyet hakkının tanındığına kanıt olabilir?

- A) Yalnız III
- B) I ve II
- C) II ve IV
- D) Yalnız V
- E) IV ve V

14. Aşağıdakilerden hangisi doğrudan milli iradeyi yok etmeyi amaçlamıştır?

- A) İstanbul'un İngilizler tarafından işgali
- B) Anadolu'nun önemli merkezleri İtilaf devletlerinin eline geçmesi
- C) Mebusan Meclisi'nin dağıtılması
- D) Haberleşme sisteminin Osmanlı'nın elinden çıkması
- E) Osmanlı ordusunun terhis edilmesi

15. I. Ayrıcalık ifade eden unvanların kaldırılması

II. Tekke, türbe ve zaviyelerin kapatılması

III. Yabancıları elinde bulunan işletmelerin ulusallaştırılması

Yukarıda verilen gelişmeler sırasıyla aşağıdaki Atatürk ilkelerinden hangileriyle ilişkilendirilebilir?

I	II	III
A) Milliyetçilik	Laiklik	Halkçılık
B) Halkçılık	Laiklik	Milliyetçilik
C) Halkçılık	Devletçilik	Laiklik
D) Milliyetçilik	Laiklik	Devletçilik
E) Halkçılık	İnkılapçılık	Laiklik

16. Avrupa ülkelerinde Sanayi İnkılabı sonrasında büyük fabrikalar kuruldu ve üretim arttı. Avrupa devletleri ucuza üretilen fabrika mallarını satabilmek için yeni pazarlar aramaya ve birbiriyle rekabet etmeye başladılar.

Buna göre, aşağıdakilerden hangisi Osmanlı Devletinin açık pazar haline gelmesine yol açtığı söylenemez?

- A) Osmanlı tüccarlarının Avrupa tüccarlarıyla rekabet edememesi
- B) Osmanlı ülkelerindeki vakıfların önemini kaybetmesi
- C) Ham madde ihracatının artması
- D) Osmanlı pazarlarını Avrupa mallarının ele geçirmesi
- E) El tezgahlarının önemini kaybetmesi

17. Aşağıdakilerden hangisinin laik toplum yapısının oluşturulmasında doğrudan etkili olduğu söylenemez?

- A) Tekke ve zaviyelerin kapatılması
- B) Medreselerin kapatılması
- C) Türbelerin kapatılması
- D) Millet mekteplerinin açılması
- E) Şapka Kanununun çıkarılması

18. Lozan Antlaşması'nda Yunanistan ile aramızda "nüfus mübadelesi" sorunu vardı. Buna göre, İstanbul'daki Rumlar ve Batı Trakya'daki Türkler dışında, Türkiye'deki Rumlarla Yunanistan'daki Türkler değiştirilecekti.

Bu uygulama ile hangi sorunun çözümlenmesi amaçlanmıştır?

- A) Ekonomik
- B) Siyasi
- C) Dini
- D) Kültürel
- E) Azınlık

19. Türkiye Cumhuriyeti 1924 yılında yabancı okulları sınırlama ve düzenleme getirdi. Buna göre Türkçe, Tarih ve Coğrafya derslerine Türk öğretmenler girecek, ders kitaplarında Türklük aleyhinde yazılar bulunmayacaktı. Yine bu okullarda ayin salonları kaldırıldı ve öğretmenlerin dini kıyafet giymeleri yasaklandı.

Bu uygulamalara bakarak Türk Devleti'nin Atatürk'ün hangi ilkeleri doğrultusunda hareket ettiği söylenebilir?

- A) Cumhuriyetçilik – Laiklik
- B) Devletçilik – İnkılapçılık
- C) Milliyetçilik – Laiklik
- D) Cumhuriyetçilik – Milliyetçilik
- E) Devletçilik – Milliyetçilik

20. 9 Şubat 1934'te kurulan Balkan Antantı'na göre, Balkan Devletleri birbirlerinin toprak bütünlüğüne saygı gösterecek, içişlerine karışmayacaktı. Üye ülkeler ekonomik konularda işbirliği yapacaklardı.

Bu Antantı imzalayan devletler aşağıdakilerden hangisini amaçlamış olamazlar?

- A) Ekonomilerini geliştirmeyi
- B) Balkanlarda barışı pekiştirmeyi
- C) Mevcut sınırları korumayı
- D) Birbirlerinin içi işlerine karışmamayı
- E) Panislavizm politikasını canlandırmayı

21. İngilizler I. Dünya Savaşı'nda Hint deniz yolunun güvenliğini sağlamak, Musul ve Kerkük petrollerini ele geçirmek için hangi cepheyi açmışlardır?

- A) Kanal B) Irak C) Filistin
D) Arabistan E) Yemen

22. – Eğitim ve öğretim kurumlarının birleştirilmesi
– Medreselerin Milli Eğitim Bakanlığına bağlanması

Yukarıdaki gelişmeler aşağıda verilen hangi kanunla gerçekleşmiştir?

- A) Teşvik-i Sanayi
B) Takriri Sükun
C) Hıyaneti Vataniye
D) Tevhidi Tedrisat
E) Tekalifi Milliye

23. Erzurum kongresinde alınan "Hristiyan azınlıklara siyasal egemenliğimizi ve sosyal dengemizi bozucu ayrıcalıklar verilemez." kararı aşağıdakilerden hangisine yönelik bir tepkidir?

- A) Islahat Fermanı
B) Kanun-i Esasiye
C) Mebuslar Meclisine
D) Türk Halkına
E) Kuvayı Milliye

24. Atatürk döneminde kurulan;

- I. Serbest Cumhuriyet Fırkası,
II. Ahali Cumhuriyet Fırkası,
III. İttihat ve Terakki Fırkası

siyasi partiler arasında hangileri vardır?

- A) Yalnız I B) Yalnız II C) Yalnız III
D) I ve II E) I, II ve III

25. "Osmanlı Devleti'nin Meşrutiyet döneminde 31 Mart Ayaklanması, Cumhuriyet döneminde ise Şeyh Sait İsyanı ve Menemen Olayı olmuştur."

Aşağıdakilerden hangisi, bu olayların ortak özelliklerinden biridir?

- A) Kişilere yönelik olmaları
B) Dış güçler tarafından desteklenmeleri
C) Mevcut yönetime karşı olmaları
D) Toplumun her kesiminden insanların katılması
E) Laiklik alanındaki yeniliklere karşı olması

26. I. Hatay

II. Musul

III. Boğazlar

IV. Yabancı okullar

Yukarıdaki sorunlardan hangileri 1939 yılında Türkiye Cumhuriyeti lehine çözülmüştür?

- A) Yalnız I B) II ve III C) I ve III
D) Yalnız IV E) III ve IV

27. I. Briand – Kellogg Pakti

II. Locarno Antlaşması

III. Küçük Antant

IV. Birleşmiş Milletler Teşkilatı

V. Milletler Cemiyeti

Yukarıdakilerden hangileri Birinci Dünya Savaşı'ndan sonra kurulan barış düzenini korumaya yönelik değildir?

- A) I B) II C) III D) IV E) V

28. Aşağıdakilerden hangisi Türkiye'nin özel konumunun sonucu değildir?

- A) Çeşitli tarım ürünlerinin yetiştirilmesi
B) Tarım üst sınırının Akdeniz Bölgesi'nde Karadeniz Bölgesi'nden daha yüksek olması
C) Sıcaklığın batıdan doğuya doğru azalması
D) Kıyı ile iç bölge iklimlerinin farklı olması
E) Stratejik ve askeri bakımdan önem taşıması

29. Engebeli alanlarda makineleşme, göçün bir nedeni olamaz.

Buna göre, tarımda makineleşme aşağıdaki kentlerin hangisinde, köyden kente olan göçün nedeni değildir?

- A) Konya B) Karaman
C) Bingöl D) Diyarbakır
E) Gaziantep

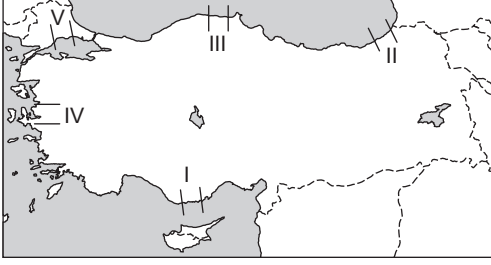
30. Aşağıda 2000 yılı sayımına göre Türkiye'deki üç bölgenin toplam nüfusları ile nüfus yoğunlukları yaklaşık olarak verilmiştir.

	Toplam Nüfus	Nüfus Yoğunluğu
I. Bölge	4.409.000	205
II. Bölge	9.277.000	78
III. Bölge	9.052.000	104

Buna göre, bu bölgelerin yüzölçümü açısından küçükten büyüğe doğru sıralanışı aşağıdakilerden hangisinde doğru olarak verilmiştir?

- A) I, II ve III B) I, III ve II
C) II, I ve III D) II, III ve I
E) III, II ve I

31.



Yukarıdaki haritada numaralandırılan yerlerden hangisinde koy ve körfezlerin önünün kıyı kordonu ile kaplanması sonucu lagün (deniz kulağı) gölleri oluşmuştur?

- A) V B) IV C) III D) II E) I

32. Akdeniz Bölgesi ile İç Anadolu Bölgesi arasında ulaşım geçitlerle sağlanır.

Bu bölgeler arasında ulaşımın geçitlerle sağlanmasının temel nedeni aşağıdakilerden hangisidir?

- A) Dağların yükseltisinin fazla olması
B) Kış yağışlarının fazla olması
C) Dağların doğu - batı yönünde uzanması
D) Karasal iklimin etkisi
E) Heyelan olayının çok yaşanması

33. Türkiye'nin kırsal nüfus oranının en az olduğu bölgeler ile ilgili aşağıda verilen bilgilerden hangisi söylenemez?

- A) Toplu yerleşmeler yaygındır.
B) Nüfusun dağılışı her bölümde dengelidir.
C) Şehirleşme oranı fazladır.
D) Ulaşım gelişmiştir.
E) Çok göç alır.

34. Platolar, akarsular tarafından derince parçalanmış yüksek düzlüklerdir.

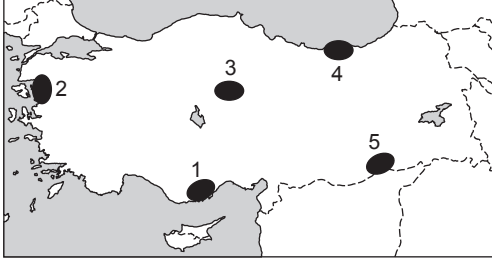
Aşağıda verilen platolardan hangisi İç Anadolu Bölgesi'nde yer almaz?

- A) Haymana B) Cihanbeyli C) Taşeli
D) Obruk E) Bozok

35. Ülkemizde deniz turizminin Akdeniz Bölgesi'nde Karadeniz Bölgesi'ne oranla daha fazla gelişmesi aşağıdakilerden hangisi bakımından farklılık göstermelerinin sonucudur?

- A) Konaklama olanakları
B) Yer şekilleri
C) İklim özellikleri
D) Tarımsal faaliyetler
E) Nüfus yoğunluğu

36. Topraktaki kireç oranını yıkanma miktarı belirler. Fazlaca yıkanmış topraklarda kireç oranı azalır.



Buna göre, yukarıdaki haritada numaralanmış yerlerden hangisinde, topraktaki kireç oranı **daha azdır**?

- A) 1 B) 2 C) 3 D) 4 E) 5

37. Doğu Anadolu Bölgesi'ni diğer bölgelerden ayıran **en önemli özelliği** aşağıdakilerden hangisidir?

- A) Karasal iklimin görülmesi
B) Yer şekillerinin dağlık, engebeli ve yüksek olması
C) Kış turizmine elverişli olması
D) Kadın nüfusun fazla olması
E) Ulaşım koşullarının elverişsizliği

38. I. Kıyılarda girinti ve çıkıntı fazladır.
II. Linyitin en çok çıkarıldığı bölgedir.
III. Kıyılarda falezlere rastlanmaz.
IV. Makinin üst sınırı güneyden kuzeye doğru alçalır.

Yukarıda Ege Bölgesi'ne ait bazı özellikler verilmiştir.

Bu özelliklerden hangisi yalnızca matematik konum ile açıklanabilir?

- A) Yalnız I B) Yalnız IV C) I ve II
D) I ve III E) I ve IV

39. Akdeniz Bölgesi güneşli gün sayısının en fazla olduğu bölgedir.

Bu durum aşağıdakilerden hangisi ile açıklanır?

- A) Dağların denize paralel uzanması
B) Alçak enlemlerde yer alması
C) Kıyı uzunluğunun fazla olması
D) Karstik arazinin fazla olması
E) Yağışın kıyıda fazla olması

40. Aşağıda verilen sanayi tesislerden hangisi hammadde kaynağına yakın alanlara kurulmalıdır?

- A) Demir - çelik B) Petrokimya
C) Makine D) Konserve
E) Otomotiv

41. Bir yerde hayvan sayısı ve cinsleri değişmediği halde et ve süt üretimleri yıllara göre farklılıklar gösteriyorsa bu bölge için aşağıdakilerden hangisini söylemek en doğru olur?

- A) Mera hayvancılığı yaygın olarak yapılmaktadır.
- B) Et fiyatlarında yıllara göre dalgalanmalar olmuştur.
- C) Et işleme tesisleri yetersizdir.
- D) Ahır hayvancılığına önem verilmiştir.
- E) Hayvan dış satımı yıllara göre farklılıklar göstermiştir.

42. Aşağıdaki grafikte bir coğrafi bölgenin başlıca tarım ürünlerinin Türkiye üretimindeki payları gösterilmiştir.

Ürün	Oran
İncir	% 84
Tütün	% 60
Zeytin	% 48
Pamuk	% 40

Tablodaki verilere göre, bu ürünlerin yetiştirildiği coğrafi bölgemiz aşağıdakilerden hangisidir?

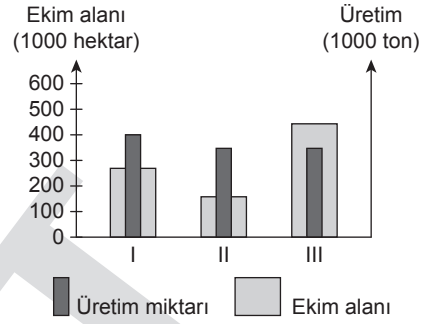
- A) Marmara
- B) Karadeniz
- C) Ege
- D) Akdeniz
- E) Güneydoğu Anadolu

43. Karadeniz Bölgesi yer şekilleri bakımından dağlık ve engebeli bir bölgedir. Aynı zamanda dağlar kıyıya paralel uzanır. Bundan dolayı kıyı ile iç kesimler arasındaki ulaşım geçitlerle sağlanmaktadır.

Aşağıdakilerden hangisi bu bölgede yer alan geçitlerden birisidir?

- A) Çubuk
- B) Zigana
- C) Belen
- D) Sertavul
- E) Gülek

44.



Yukarıdaki grafikte üç ayrı tarım ürününün ekim alanları ile üretim miktarları verilmiştir.

Grafikteki bilgilere göre aşağıdaki yargılardan hangisine varılamaz?

- A) Üretim miktarı en fazla olan I numaralı tarım ürünüdür.
- B) II ve III numaralı tarım ürünlerinin üretim miktarları birbirine yakındır.
- C) Üç tarım ürününün de verimliliği farklıdır.
- D) Verimlilik en fazla III numaralı tarım ürünüde olmuştur.
- E) Ekim alanı en geniş olan III numaralı tarım ürünüdür.

45. Son yıllarda hayvancılık faaliyetlerinde mera hayvancılığından ahır hayvancılığına doğru bir geçiş söz konusudur.

Bunun nedeni aşağıdakilerden hangisi olamaz?

- A) Otlak ve mera alanlarının daralması
- B) Hayvansal ürünlere duyulan ihtiyacın artması
- C) Ahır hayvancılığının daha karlı olması
- D) Mera hayvancılığının zahmetli ve verimin düşük olması
- E) Mera hayvancılığı için gerekli sermayenin olmayışı

46. I. Yurt dışında ikamet eden Türk vatandaşları
 II. Askerî öğrenciler
 III. Türkiye’de ikamet eden yabancılar
 IV. Tutuklular
 V. Subaylar

1982 Anayasası’na göre, yukarıdakilerden hangileri seçimlerde oy kullanma hakkına sahiptir?

- A) I, II ve IV B) I, III ve V C) I, IV ve V
 D) II, III ve IV E) III, IV ve V

47. 1982 Anayasası’na göre, Kamu Denetçiliği Kurumu aşağıdakilerden hangisine bağlıdır?

- A) Türkiye Büyük Millet Meclisi
 B) Cumhurbaşkanı
 C) Devlet Denetleme Kurulu
 D) Başbakanlık
 E) Anayasa Mahkemesi

48. Aşağıdakilerden hangisi Türkiye’deki hükümet sisteminin öğelerinden değildir?

- A) Kuvvetler ayrılığı ilkesi benimsenmiştir.
 B) Başbakan halk tarafından seçilir.
 C) Yürütme organı iki kanatlıdır.
 D) Cumhurbaşkanı halk tarafından seçilir.
 E) TBMM halk tarafından seçilir.

49. Aşağıdakilerden hangisinin kamu tüzel kişiliği yoktur?

- A) Milli Eğitim Bakanlığı
 B) Türkiye Odalar ve Borsalar Birliği
 C) Ankara Büyükşehir Belediyesi
 D) Kamu İhale Kurumu
 E) İstanbul Teknik Üniversitesi

50. 1982 Anayasası’na göre, kanun hükmünde kararname çıkarma yetkisi aşağıdakilerden hangisine aittir?

- A) TBMM
 B) Cumhurbaşkanı
 C) Cumhurbaşkanı başkanlığında toplanan Bakanlar Kurulu
 D) Bakanlar Kurulu
 E) Başbakan

51. 1982 Anayasası'na göre, aşağıdakilerden hangisi yetki genişliği ilkesine göre yönetilir?

- A) Belediye idaresi
- B) Büyükşehir belediyesi idaresi
- C) Köy idaresi
- D) İl idaresi
- E) Bölge idaresi

52. Aşağıdakilerden hangisi mutlak haklardan biri değildir?

- A) Mülkiyet hakkı
- B) İntifa
- C) Rehin hakkı
- D) Alacak hakkı
- E) Fikri haklar

53. Aşağıdakilerden hangisi emredici hukuk kurallarının belirleyici özelliğidir?

- A) Yorumlayıcı olma
- B) Dinamik olma
- C) Statik olma
- D) Telafi edici olma
- E) Mecburi olma

54. Genel ve özel kanunların uygulanma hallerine ilişkin aşağıdaki bilgilerden hangisi yanlıştır?

- A) Aynı konuyu düzenleyen iki özel kanunundan sonraki tarihli olan uygulanır.
- B) Aynı konuyu düzenleyen iki genel kanunundan sonraki tarihli olan uygulanır.
- C) Genel kanun önceki tarihte, özel kanun sonraki tarihte yürürlüğe girmişse genel kanun uygulanır.
- D) Özel kanun, genel kanundan sonra yürürlüğe girmişse özel kanun uygulanır.
- E) Özel kanun önce, genel kanun sonraki tarihte yürürlüğe girmişse genel kanunun amacına bakılarak uygulanacak kanun belirlenir.

55. Avrupa'dan Çin'e kesintisiz yük taşımacılığını amaçlayan Demir İpek Yolu Projesi kapsamında aşağıdaki ülkelerden hangisinde demir yolu inşası yapılacaktır?

- A) Türkiye - Bulgaristan - Almanya
- B) Azerbaycan - Gürcistan - Türkiye
- C) Çin - Rusya - Türkiye
- D) İran - Suriye - Azerbaycan
- E) Kazakistan - Ermenistan - Rusya

56. Birleşmiş Milletlerden sonra dünyanın en çok üyesi olan ikinci global örgüt aşağıdakilerden hangisidir?

- A) WHO
- B) UNICEF
- C) FED
- D) INTERPOL
- E) IMF

57. 2017'de yapımına başlanacak 2022'de kullanıma hazır hale getirilecek, yapımını Mitsubishi ve büyük Fransız enerji firması ArevaSa'nın üstlendiği Türkiye'nin ikinci nükleer santrali hangi ilimize yapılacaktır?

- A) Antalya
- B) Zonguldak
- C) İzmit
- D) Sinop
- E) Diyarbakır

58. Türkiye tarafından, Karadeniz ve Akdeniz'de mevcut petrol kaynaklarının tespiti için Norveç'ten satın alınan ilk sismik arama gemisinin adı aşağıdakilerden hangisidir?

- A) Piri Reis
- B) Fatih
- C) Barbaros Hayrettin Paşa
- D) Turgut Reis
- E) Kaptan

59. TÜBİTAK desteğiyle planetaryum, gözlemevi ve sergi bölümlerinden oluşan Türkiye'nin ilk bilim merkezi hangi ilimizde açılmıştır?

- A) İstanbul
- B) Ankara
- C) Konya
- D) Çanakkale
- E) Eskişehir

60. 1 Temmuz 2013 itibarıyla Avrupa birliğine üyeliği resmen kabul edilen, birliğin yirmi sekizinci üyesi olan ülke aşağıdakilerden hangisidir?

- A) Hırvatistan
- B) Polonya
- C) Türkiye
- D) Yunanistan
- E) Rusya

TEST BİTTİ.
CEVAPLARINIZI KONTROL EDİNİZ.