



# KPSS

## GENEL YETENEK



Bu testte toplam **60** soru vardır. *Başarılar dileriz...*

1. Şiirler, öyküler değil mi ki hayatın yavanlığını giderir, varoluşumuza mana yükler. Kierkegaard'ın dediği gibi "İnsan sadece başkaları için değil, kendisi için de gizemdir." Kendisine bakar, kendisini inceler, kahvesini içer, kolladığı vakti yakalayınca da oturur yazar. Kim kimin derinliğini görebiliyor; hem, hangi gözle? Kimi okuyor; kendini mi, başkalarını mı?

**Bu parçadaki altı çizili sözle anlatılmak istenen aşağıdakilerden hangisidir?**

- A) Edebî eserlerin, insanın bilinmeyen dünyasını anlatıyor olması  
B) Edebî yapıtlarda yaşamın gerçeklerinin yansıtıyor olması  
C) Edebî ürünlerin, insan yaşamını canlı ve anlamlı kılıyor olması  
D) Her sanatçının eserine kendi benliğinin temel oluşturuyor olması  
E) Edebî eser oluşturmanın her an gerçekleşmeyeceği

2. Salgıladıkları bazı proteinlerle ortamda su olduğu durumlarda bile çok güçlü olan bazı canlılar, sentetik yapıştırıcılarda karşılaşılan en önemli ---- biri olan sulu ortamlarda ---- probleminin çözümünde bilim insanlarına ----.

**Bu parçadaki boşluğu anlam bakımından en uygun biçimde tamamlayan seçenek aşağıdakilerden hangisidir?**

- A) engellerden – tutunamama – engel oluyor  
B) durumlardan – kalamama – yardımcı oluyor  
C) zorluklardan – yapışamama – zorluk çıkarıyor  
D) sorunlardan – kullanılamama – ilham veriyor  
E) özelliklerden – bağlanmama – kolaylık sağlıyor

3. Kuşların, dinazorların soy ağacının bir kolundan evrimleştiği bilinmesine rağmen, uçabilme adaptasyonu evrim biyologlarını düşündürmeye devam ediyor.

**Bu cümleden kesin olarak çıkarılabilecek yargı aşağıdakilerden hangisidir?**

- A) Kuşların kökeni konusundaki bazı bilgiler tam olarak açıklığa kavuşturulamamıştır.  
B) Dinazorlardan bazıları uçma özelliğine sahiptir.  
C) Evrim teorilerinin yanlışlığı kanıtlanmıştır.  
D) Dinazorlarla kuşlar aynı biçimsel özelliklere sahiptir.  
E) Evrim biyolojisi alanında yeni çalışmalar başlatılmıştır.

Y  
A  
R  
G  
I  
Y  
A  
Y  
I  
N  
E  
V  
İ

4. I. yarattığından nasıl ve neden doğduklarını  
II. romanları ve şiirleri insanlar  
III. bu kadar kalıcı olduklarını  
IV. amaçlarının ne olduğunu ve neden  
V. sormakta bir sakınca yoktur

**Bu sözler anlamlı ve kurallı bir cümle oluşturacak biçimde sıralandığında hangisi baştan üçüncü olur?**

- A) I B) II C) III D) IV E) V

5.

- I. Blaundus'a ulaşmak için şehir merkezinden itibaren 30 km'yi arımda bırakıyorum.
- II. Bazı yerler vardır ya mutlaka görülmesi gerekir; Blaundus da onlardan biri.
- III. Daha sonra kemerli büyük kapıya doğru ilerliyorum.
- IV. Araçtan inince ilk olarak bir zamanlar üzerinden su kanallarının geçtiği bir su kemeri ile karşılaşıyorum.
- V. Kapının her iki yanındaki kuleler, girişin kemerli üst yapısına kadar yıkılmış durumda.

**Yukarıda numaralanmış cümlelerin anlamlı bir bütün oluşturacak biçimde sıralanışı aşağıdakilerin hangisinde doğru olarak verilmiştir?**

- A) I – III – IV – II – V                      B) II – I – V – III – IV  
C) II – I – IV – III – V                      D) IV – III – I – V – II  
E) V – IV – II – I – III

6.

- (I) Türkçe ve Türkçenin en eski yadigârları dendiğinde hemen herkesin aklına ilk Göktürk Kitabeleri gelir. (II) Bu abidelerle ifade edilmek istenen, Göktürk Kağanlığı diye bilinen İkinci (Doğu) Türk Kağanlığı'ndan kalma Kültigin ve Bilge Kağan yazıtlarıdır. (III) Bu yazıtlar günümüzden yaklaşık 1300 yıl geriye gider. (IV) Ancak konuyla ilgili uzmanların ve meraklıların bildiği gibi, Moğolistan'da çözülebilen ve çözülemeyen Türk yazıtları bunlardan daha fazladır. (V) Özellikle Birinci Türk Kağanlığı'na ait yazıtlar çok az, neredeyse hiç bilinmemektedir. (VI) Birinci döneme ait yazıtlar ötekilerden 70-90 yıl sonra ortaya çıkarılmıştır.

**Bu parçadaki numaralanmış cümlelerden hangisi kendinden önceki cümlenin gerekçesini bildirmektedir?**

- A) II      B) III      C) IV      D) V      E) VI

7.

- (I) Bu ay size müzik tarihinden seçkin bir albüm tanıtacağız. (II) Bunu yapmasaydık gökyüzündeki komşularımızın seslendirdiği ve 1992'den beri piyasada olan bu sıra dışı albümü müzik raflarında bulamayabilir ve içindeki ilginç parçalardan yoksun kalabilirdiniz. (III) Albümü dinleyince gezegenleri biraz gürültücü bulabilirsiniz. (IV) Bu nedenle bu albümleri almadan önce, içinde nasıl "şarkılar" varmış diye bir bakın. (V) Bu albüm için "koltuğa oturup baştan sona keyifle dinlenecek bir albüm" demeye dilimiz varmıyor ama hayal dünyanızı harekete geçirecek, sizi gerçekten uzay boşluğunda gibi hissettirecek sesler duyacağınız kesin.

**Bu parçadaki numaralanmış cümlelerle ilgili olarak aşağıdakilerden hangisi yanlıştır?**

- A) I.de, nesnel bir yargıya yer verilmiştir.  
B) II.de, koşul öne sürülmüştür.  
C) III.de, olasılık anlamı vardır.  
D) IV.de, öneride bulunulmuştur.  
E) V.de, ön yargı söz konusudur.

Y  
A  
R  
G  
I  
Y  
A  
Y  
I  
N  
E  
V  
i

8.

- Bilim okuryazarlığı bireylere ve topluma birçok <sup>I</sup>şey kazandırır. Bireyler bilimin, günlük yaşamın içinde olduğunu fark ederek bu alandaki kazanımlarını yaşama uygulayabilir. Olaylara bilimsel bir bakış <sup>II</sup> açısından yaklaşarak bilimsel bilgiye dayalı kararlar verir. Bilim, toplumun yararı için yapıldığına göre, bilimsel araştırmaların ve bunlardan elde edilen kazanımların topluma anlaşılır bir şekilde sunulması gerekir. Bilim dünyasıyla toplumu buluşturan <sup>III</sup> bir köprü görevi üstlenen bilim iletişiminin en etkili araçlarından biri popüler bilim dergileridir. <sup>IV</sup> <sup>V</sup>

**Bu parçadaki numaralanmış sözcüklerden hangisi niteleyicisiyle verilmiştir?**

- A) I      B) II      C) III      D) IV      E) V

9. Aşağıdaki cümlelerin hangisinde eylem zaman bakımından diğerlerinden farklıdır?

- A) Dergimizin her sayısına birçok uzaman tarafından çeşitli yazılar gönderiliyor.
- B) Yapılan bu ödemeler birçok eksikimizi giderdi.
- C) Eskiden tüm masraflarımızı babam karşıladı.
- D) Tezin tamamlanması konusunda bana da yardım edecek.
- E) Siparişini verdiğimiz eşyalar az önce gelmiş.

11. Aşağıdaki cümlelerden hangisi yapı bakımından diğerlerinden farklıdır?

- A) Uzun bir aradan sonra onunla yine karşılaştık.
- B) Zamanın durup hiç akmadığı anlar biliyorum.
- C) Ağaçlar bu yıl sonbahara hazırlıksız yakalandı.
- D) Çocuğun zaman zaman ağrıları oluyordu.
- E) Yardımlarımızı kargo yoluyla ulaştırmıştık.

Y  
A  
R  
G  
I  
Y  
A  
Y  
I  
N  
E  
V  
İ

10. Dün olduğum verde durdum  
I II

Denize baktım baktım baktım  
III

Bir göçmen kuş duygusuyla  
IV V

Ormana dönüp gittim

Yukarıda verilen dizelerde numaralanmış sözcüklerle ilgili olarak aşağıdakilerden hangisi yanlıştır?

- A) I'inci, tür bakımından zarftır.
- B) II'nci, bulunma hâl ekini almıştır.
- C) III'üncü, yapı bakımından türemiştir.
- D) IV'üncü, niteleme sıfatıdır.
- E) V'inci, isim çekim almıştır.

12. Tarihi haritasız okumak, anlamak, öğretmek ve izah etmek zordur. Hele ki bozkırın tarihini, Eski Dünya kıtasının dört bir yanında at koşturmuş; seferler, akınlar, göçler ve savaşlar yapmış, devletler kurmuş Türklerin tarihini haritasız ele almak neredeyse imkânsızdır.

Bu parçada aşağıdakilerden hangisi yoktur?

- A) Fiilimsi
- B) Belirtisiz isim tamlaması
- C) Belirtme sıfatı
- D) Bağlaç
- E) Birleşik sözcük

13. Aşağıdaki cümlelerin hangisinde bir anlatım bozukluğu yapılmıştır?

- A) Sabahın erken saatlerinde korkunç bir gürültüye uyandım.
- B) Fotoğraf makinesi 19. yüzyılın sonlarında icat edilmiştir.
- C) Uzun istasyonlarının kurulması çalışmalarında çeşitli sorunlar oluştu.
- D) 1974 tarihinin Ekim ayında kurulan birlik, bazı uygulamalara karşı çıkmıştır.
- E) Yapılan girişimler sonucunda insanlar bir araya gelmiş, sorunlar çözülmüştür.

15. Nepal'in \_\_Yukarı Mustang Bölgesi'nde Chhode

<sup>I</sup>  
Manastırı'nın rahipleri her yıl Mayıs ayında

<sup>II</sup>  
kötülüğü uzaklaştırmak \_\_şeytanı kovalamak ve

<sup>III</sup>  
barışı hâkim kılmak için üç gün boyunca dans

ediyor. Festivalin adı da dünya barışı için dua

eden anlamına gelen *Tempa Chhirim*'in

kısaltması: Tiji   
<sup>IV</sup> <sup>V</sup>

**Bu parçadaki numaralanmış noktalama işaretlerinden hangisi yanlış kullanılmıştır?**

- A) I B) II C) III D) IV E) V

Y  
A  
R  
G  
I  
Y  
A  
Y  
I  
N  
E  
V  
İ

14. Aşağıdaki cümlelerin hangisinde bir yazım yanlışı vardır?

- A) Ana yurt kavramıyla hangi bölgelerin kastedildiğini bize açıklamasını istedik.
- B) İslamiyet'i kabul etmeden önce Türklerle Müslümanlar arasında mücadeleler yaşanmıştır.
- C) Çin hâkimiyetine giren Türk boylarının sayısı oldukça azdır.
- D) İtil Bulgarları, Almış Han Dönemi'nde ticari faaliyetlerde bulunmuşlardır.
- E) Hazar Denizi'ne ve çevresine bu adı Hazarların verdiği bilinmektedir.

16. Soyut gülümseyişin tınısı arkadaki çağlayanın sesiyle kulak zarında titreşti, özlenenin sesinin tınısıyla bütünleşti. Bir anda içinde yer alındığı farz edilen mekânın bütün boyutları onun sesiyle, görünüşüyle, gövdesiyle doldu. İçine aniden bir şiir tütsüsü doldu. O şiir, o gülümsemeyi taşıyan gövdeye, o gövdenin omuzları üstündeki başa ve o başın güzel yüzüne adanarak terennüm edildi. Kısıtlanmışlık bir boyutlu değildi. O şiir, ancak belli harfler kullanılarak inşa edilecekti; o şiir, belli vuruşlarla sınırlı olarak inşa edilecekti. Bu kısıtlanmışlığa rağmen özleyenin fikrini, düş dünyasını, duygulanımını da yansıtacaktı, öyle mi? Böyle bir şey mümkün müydü ki?

**Bu parçanın anlatımıyla ilgili olarak aşağıdakilerden hangisi söylenemez?**

- A) Düşsel öğelerden yararlanılmıştır.
- B) Farklı cümle türlerine yer verilmiştir.
- C) Niteleyici sözlerden yararlanılmıştır.
- D) Sözde soru cümlelerinden faydalanılmıştır.
- E) Açıklayıcı anlatım biçimi kullanılmıştır.

17. (I) Dalgıçlardan ve arkeologlardan oluşan uluslararası bir ekibin, bundan 2000 yıl önce Yunanistan açıklarındaki Antikythera Adası'nda batmış antik bir Yunan gemisinden çıkardığı yeni buluntular heyecan veriyor. (II) Buluntular arasında mutfak eşyaları, gemi kalıntıları ve gerçek boyutlu bir savaşçı heykeline ait olması muhtemel bir bronz mızrak var. (III) Antikythera batığı ilk defa 1900 yılında sünger avcıları tarafından keşfedilmişti. (IV) Araştırmacılar ayrıca bronz ve mermer heykellerden, mücevherlerden, mobilyalardan, cam süs eşyalarından ve şaşırtıcı derecede karmaşık Antikythera düzeneğinden oluşan antik bir hazine açığa çıkardılar. (V) Uzun zamandan beri arkeologlar, hazinenin denizin dibinde yatan geri kalanında ne olduğu üzerine büyük bir merak içindeydi.

**Bu parçadaki numaralanmış cümlelerden hangisi parçanın anlam bütünlüğünü bozmaktadır?**

- A) I      B) II      C) III      D) IV      E) V

18. (1) Türk atasözü ve deyimlerinin içeriklerine bakıldığında bazen birbiriyle zıtlaştığı ya da çeliştiği yolunda değerlendirmelerin yapılmasına zemin hazırlayabilecek unsurlar dikkat çekmektedir. (2) Ayrıca, çeşitli durumlar için önerilen çözüm yollarının da birbirinden farklı olabileceği görüşü, bu farklı algılamaların atasözlerimize birtakım karşıt fikirler hâlinde yansıdığını göstermektedir. (3) Bununla birlikte, bu gibi sözler hakkında yorumlamalar yaparken bu örneklerin bazen bir alay, sitem, taşlama, uyarma bazen de bir yerme ve öfke anlatımı olduğunu da gözlerden uzak tutmamak gerekir.

- I. İnsan yaşamında farklı deneyimlerin farklı algılamalara yol açtığı ve toplumsal yaşam içinde, bir durumda yapılması en uygun bulunan davranışın, başka bir olayda pek o kadar beğenilmemesi karşısında ortaya çıkan düşünceler, çelişki veya zıtlık algılamasının bir nedeni olabilir.
- II. Aynı şekilde, bazı atasözlerini, insanları yanlış biçimde yönlendirdiği ya da yönlendirebildiği şeklinde yorumlayabilmek, bunları olumsuz yargılı atasözü veya deyimler olarak değerlendirebilmek de mümkündür.
- III. Atasözü ve deyimler ana dilin kalıplaşmış, milletin ortak hafızasına işlenmiş söz varlıkları olarak duygu ve düşüncelerimizi açıklamak veya güçlendirmek amacıyla sık sık başvurduğumuz dil yapı taşlarıdır.

**Bu parçanın, anlamlı bir bütün oluşturabilmesi için parçada 1, 2 ve 3 ile belirtilen yerlere I, II ve III numaralı cümleler aşağıdakilerin hangisinde verilen sırayla getirilmelidir?**

- |        | <b>1</b> | <b>2</b> | <b>3</b> |
|--------|----------|----------|----------|
| A) I   | II       | III      |          |
| B) III | II       | I        |          |
| C) II  | I        | III      |          |
| D) I   | III      | II       |          |
| E) III | I        | II       |          |

19. (I) Kuantum bilgisayarlar alanındaki düzenli gelişmelerin, bilimsel bir mucize olmasının yanında problemlerin nasıl katlandığı gibi teknolojinin çözmeye çalıştığı bazı problemler konusunda da olumlu sonuçlar sağlaması bekleniyor. (II) Fakat insanlar, kuantum bilgisayarlara hazır değilse, bunun ne gibi zararları olacağı konusunda farklı bakış açıları mevcut. (III) Kuantum bilgisayarları teoride, *internet* üzerindeki neredeyse tüm iletişimde koruma sağlayan açık anahtar şifreleme sistemlerini (public key encryption) kırabilme yeteneğine sahip. (IV) Bu sistemde biri kullanıcıya özel, diğeri genel olan iki asal sayıdan türemiş anahtar kullanılıyor. (V) Bu şifreleme yönteminin gücü, 323 gibi bir sayının hangi iki asal çarpandan oluştuğunu (17×19) ortaya çıkarmanın zorluğuna dayanıyor. (VI) Açık anahtar şifreleme sisteminde, hesaplayıp ortaya çıkarması Güneş sisteminin ömründen daha uzun sürebilecek, genel asal sayıdan çok daha uzun özel asal sayılar kullanılıyor. (VII) Fakat kuantum bilgisayarları aynı hesaplamaları milyonlarca kez daha hızlı bir şekilde yapabilme yeteneğine sahip çünkü doğru cevaba aktif bir şekilde doğrudan sıçırıyorlar.

**Bu parça iki paragrafa ayrılmak istense ikinci paragraf numaralanmış cümlelerin hangisiyle başlar?**

- A) II      B) III      C) IV      D) V      E) VI

20. Panik atak, başta panik bozukluk olmak üzere birçok psikiyatrik bozuklukta ve bazı fiziksel hastalıklarda görülen yoğun korku, kaygı, yoğun endişe karışımı bir nöbetir. Günümüzün değişken yaşam ortamlarında, yaşam kaygılarının artması, maddi ve manevi kaos ile belirsizlik durumunun yarattığı "hiçlik duygusu"nun çoğalmasıyla paralellik gösteren panik atak, tüm dünyada toplum sağlığını tehdit eder boyuta gelmiş durumdadır. Uzmanlar tarafından "psikolojik bir sendrom" olarak tarif edilmesine karşın hasta, çoğunlukla yaşadıklarının gerçekten fiziksel kaynaklı sorunlar olduğunu ama kimsenin, hastalığının gerçek sebebini bulamadığını düşünmektedir. Doktorların hastanın durumuna "psikolojik" tanısı koymasının ardından, bu sefer de bilinçsiz hasta yakınlarının tavrı hastaya zarar vermektedir. Panik atağın önemsiz bir sorun olduğunun düşünülmesi ve kişiye "*hastalık hastası*" yakıştırmasının yapılması panik ataklı hastanın durumunu zorlaştırmaktadır. Kendisini yalnız ve çaresiz hisseden hasta ise kısır döngü içine girmektedir.

**Bu parçada aşağıdakilerden hangisinin yanıtı yoktur?**

- A) "Panik atak"ın artma nedenleri nelerdir?  
B) "Panik atak" nedir?  
C) Uzmanların "panik atak" konusundaki görüşü nedir?  
D) "Panik atak"ın tedavi yöntemleri nelerdir?  
E) Hastaların "panik atak" sürecinde karşılaştıkları güçlükler nelerdir?

Y  
A  
R  
G  
I  
Y  
A  
Y  
I  
N  
E  
V  
I

21. Pergamon, günümüzde İzmir iline bağlı Bergama ilçesinin merkezinin yerinde kurulu antik kentin adıdır. Pergamon, eski çağlarda Misya bölgesinin önemli merkezlerinden biriydi. MÖ 282-133 arasında da Pergamon Krallığı'nın başkentiydi. Pergamon adı, bir söylence kahramanı olan Pergamos'tan gelir. Pergamos'un, Teuthrania kralını öldürdükten sonra kenti ele geçirdiği ve kendi adını verdiği sanılır. Başka bir söylenceye göre de Teuthrania Kralı Grynos savaşta Pergamos'tan yardım istemiş, zaferden sonra iki kent kurdurarak birine onun onuruna Pergamon, ötekine de Gryneion adını vermiştir. Yazılı belgelerde Pergamon'dan ilk kez MÖ 4. yüzyılın başlarında söz edilir. Kent daha sonra Pergamon Krallığı'nın başkenti oldu. Bu dönemde saray, tapınak, tiyatro gibi yapılarla yapıldı, kent kule ve surlarla çevrildi. Pergamon, krallığın Roma'ya bağlanmasından sonra da Batı Anadolu'nun sayılı kentlerinden biri olarak kaldı. Eski kentin kalıntılarını, 1870'lerde Batı Anadolu'da demir yolu döşenmesinde çalışan Alman Carl Humann buldu. Pergamon'da ilk araştırma ve kazı çalışmalarına da 1878'de başlandı. Kazılar ve onarım çalışmaları günümüzde de sürmektedir.

**Pergamon'la ilgili olarak bu parçada;**

- I. İsmi nereden aldığı
- II. Nerede bulunduğu
- III. İsmi ilk olarak hangi belgede geçtiği

**bilgilerinden hangilerine ulaşamaz?**

- A) Yalnız I      B) Yalnız III      C) I ve III  
D) II ve III      E) I, II ve III

22. Obezite ve psikiyatrik hastalıklar ilişkisi, yapılan yeni araştırmalarla anlaşılmaya başlandı. Bu konudaki en önemli soru ise şu: Kişi ne için yer? Psikiyatrik hastanın klinik muayenesinde "görsel değerlendirme" önemli bir yer tutmaktadır. Hasta ile psikiyatristin ilk karşılaştığı an tedavinin başladığı andır. Psikiyatrist henüz konuşmaya başlamadan hastasının yürüyüşünü, el kol hareketlerini, adımlarını, kafasını hareket ettirmesini, hastanın giysilerini, kişisel temizliğini, fiziksel görünümünü gözden geçirir. Bunlardaki herhangi bir anormallik daha ilk anda bir hastalık için çağrışım yapabilir. Görsel değerlendirmede en önemli verilerden biri de hastanın görünümü ve genel sağlık durumudur. Dış görünüme yansıyan hastalıklardan biri de obezitedir. Obezite psikolojik faktörler ve psikiyatrik hastalıklarla ilişkili olabilir. Bu sebeple psikiyatrik hastalık teşhisinde "obezite" önemli bir ipucu vermektedir.

**Bu parçaya göre aşağıdakilerden hangisi söylenebilir?**

- A) Obezitenin kesin çözümünde yeni yöntemlere ihtiyaç vardır.  
B) Kişinin ruhsal rahatsızlıkları davranışlarına yansiyabilir.  
C) Psikolojik rahatsızlıkların temelinde obezite yatmaktadır.  
D) Yeme bozuklukları olan bireylerin kilo almaları kaçınılmazdır.  
E) Çok yeme alışkanlığı olan bireylerin hepsinde psikolojik rahatsızlıklar da gözlemlenmektedir.

23. Bilim ve sanat alanında *intihal*, yani "aşırma" yaygın bir şekilde karşımıza çıkmakta, bilim ve sanat hayatının gittikçe kirlenmesine yol açmaktadır. İşin daha vahim tarafı, üniversiteler de dâhil olmak üzere, ilgili kurum ve kuruluşların, yayın organlarının, yetkili kişilerin konuya duyarsız kalması, intihale karşı gerekli tedbiri almaktan uzak bulunmasıdır. Böyle bir ortamda intihalin ileri seviyede artış göstermesi kaçınılmaz olmaktadır.

**Bu parçada yazarın yakındığı asıl durum aşağıdakilerden hangisidir?**

- A) Bilimsel çalışmaların kısırlığı  
B) Üniversitelerin niteliksiz bir hâlde olması  
C) Sanat alanındaki gelişmelerin yavaş olması  
D) Bilim ve sanat kurumlarının yetersizliği  
E) Usulsüz alıntılara karşı sessiz kalınması

24. – 25. soruları aşağıdaki parçaya göre cevaplayınız.

(I) Amerikan Ulusal Havacılık ve Uzay Dairesi NASA'nın Mars'taki uzay aracı "Merak" yeni bir buluşa imza attı. (II) Uzay aracı, iniş yaptığı *Gale kraterinde*, milyarlarca yıl önce 154 kilometre genişliğinde bir göl olduğunu ortaya çıkardı. (III) "Merak"ın yaptığı araştırmada kraterin tabanında göle ait çökelti kalıntılarına rastlandı. (IV) Bilim insanları bu keşfin, Mars'ın, Güneş sistemindeki gezegenler arasında Dünya'ya en çok benzeyen gezegen olduğunun kanıtı olduğunu belirtiyor. (V) "Merak", 2012 yılında Dünya dışı yaşamın izlerini sürmek için Dünya'dan ayrılarak Mars görevine başlamıştı. (VI) Uzay aracı, gezegene indikten kısa süre sonra mikrobiyolojik yaşamın kanıtı olabilecek kimyasal bileşikler bulmuştu.

24. Bu parçadaki numaralanmış cümlelerin hangisinde "çıkarım" anlamı vardır?

- A) I      B) II      C) IV      D) V      E) VI

25. Bu parça iki paragrafa ayrılmak istense ikinci paragraf numaralanmış cümlelerin hangisiyle başlar?

- A) II      B) III      C) IV      D) V      E) VI



**26. – 27. soruları aşağıdaki parçaya göre cevaplayınız.**

(I) İnsanlar genelde yalnızlığı sevmeyenler, genlerimiz de bizden çok farklı değil. (II) Genlerin anne ve babadan gelen ve birbirine ihtiyacı olan iki çeşidi sayesinde, yani genlerin bir arada olmasıyla daha dayanıklı bir hâledeyiz. (III) Almanya'dan bilim insanları, yüzlerce insanın genetik yapısını analiz etti ve her iki kromozomun ayrı ayrı genetik bilgisini çözdü. (IV) Araştırmacılar sadece inceledikleri görece küçük grupta dahi milyonlarca farklı gen formu tespit etti. (V) Bulgular ebeveynlerden gelen iki kromozomda oluşan genetik mutasyonların rastgele olmadığını gösteriyor.

**26. Bu parçada aşağıdakilerden hangisine değinilmiştir?**

- A) İnsanların güçlü durmalarının gerekçesine
- B) Genetik biliminin ilgilendiği konuların ne olduğuna
- C) Genle üzerine yapılan çalışmaların en çok nerede gerçekleştirildiğine
- D) Genetik mutasyonların nasıl meydana geldiğine
- E) Kişilerin yalnızlığı sevmeme nedenlerine

**27. Bu parçadaki numaralanmış cümlelerin hangilerinde "karşılaştırma" anlamı yoktur?**

- A) I ve II
- B) II ve III
- C) II ve IV
- D) III ve V
- E) IV ve V

**28 – 30. soruları aşağıdaki parçaya göre cevaplayınız.**

Her katında bir kişinin oturduğu beş katlı bir apartmanda Ahmet, Berk, Canan, Dursun ve Esin oturmaktadır. Köpek, kedi, kanarya ve bülbül besleyen bu kişilerle ilgili aşağıdakiler bilinmektedir:

- Apartmanın en üst katında oturan erkek, en alt katında oturan bayandır.
- Apartmanda iki kişi köpek, diğerleri farklı hayvanlar beslemektedir.
- Kuşlardan birini erkek, diğerini bayan beslemektedir.
- Kedi besleyen, bir erkektir.
- Apartmanın en üst katında oturan, kanarya beslemektedir.

**28. Verilen bilgilere göre aşağıdakilerden hangisi kesinlikle doğrudur?**

- A) Esin, 1. katta oturmaktadır.
- B) Bayanlardan biri, köpek beslemektedir.
- C) Köpek besleyenlerin ikisi de erkektir.
- D) 1.katta oturan, bülbül beslemektedir
- E) Ahmet, 5.katta oturmaktadır.

**29. Esin'in köpek beslediği biliniyorsa aşağıdakilerden hangisi kesinlikle doğrudur?**

- A) Dursun, köpek beslemektedir.
- B) Berk, kanarya beslemektedir.
- C) Canan, bülbül beslemektedir.
- D) Ahmet, köpek beslemektedir.
- E) Dursun, kedi beslemektedir.

**30. "En üst katta oturan kimdir?"**

"Köpek besleyen erkek kimdir?"

**Bu sorulardan hiçbirinin yanıtının Berk olmadığı bilirse aşağıdakilerden hangisi anlaşılır?**

- A) Canan'ın köpek beslediği
- B) Ahmet'in köpek beslediği
- C) Dursun'un kanarya beslediği
- D) Berk'in kedi beslediği
- E) Esin'in bülbül beslediği

31.  $1 + \frac{3}{1 + \frac{1}{2}} + \frac{2}{3} \cdot \left(1 - \frac{1}{2}\right)$

İşleminin sonucu kaçtır?

- A)  $\frac{11}{3}$    B)  $\frac{10}{3}$    C) 3   D)  $\frac{7}{2}$    E)  $\frac{5}{2}$

32.  $x = 4,\overline{678}$   
 $y = 4,6\overline{78}$   
 $z = 4,\overline{678}$

olduğuna göre, aşağıdaki sıralamalardan hangisi doğrudur?

- A)  $x < y < z$    B)  $z < y < x$    C)  $x < z < y$   
D)  $y < z < x$    E)  $y < x < z$

33. a, b ve c pozitif tam sayılar ve  $a \cdot b + a \cdot c = 15$  olduğuna göre,

- I.  $a + b - c$   
II.  $a \cdot b \cdot c$   
III.  $(a \cdot c) + b$

İşlemlerinden hangilerinin sonucu çift sayıdır?

- A) Yalnız I   B) Yalnız II   C) Yalnız III  
D) I ve II   E) II ve III

Y  
A  
R  
G  
I  
Y  
A  
Y  
I  
N  
E  
V  
İ

34. AA iki basamaklı bir doğal sayı ve k bir pozitif tam sayı olmak üzere,

$$AA = 3k + 1$$

Eşitliğini sağlayan A rakamlarının toplamı kaçtır?

- A) 45   B) 32   C) 21   D) 18   E) 15

35. 9! sayısı aşağıdaki sayılardan hangisi ile çarpılırsa sonuç bir tam sayının karesine eşit olur?

- A) 70   B) 35   C) 14   D) 10   E) 7

36.  $6 \leq x < 9$

olduğuna göre,  $x \cdot y = 18$  ifadesinde  $x$  azalan değerler alırken  $y$  nasıl değişir?

- A) Azalarak 3 olur.  
B) Artarak 9 olur.  
C) Artarak 2 olur.  
D) Artarak 6 olur.  
E) Artarak 3 olur.

37.  $x$  ve  $y$  sıfırdan farklı gerçel sayılar olmak üzere,

$$|x - 3y|$$

ifadesinin alabileceği en küçük değer için,  $\frac{3x - 3y}{x - y}$  oranı kaçtır?

- A) 1      B) 2      C) 3      D) 4      E) 5

38.  $\left(\frac{3^x}{3^4}\right)^x - \frac{1}{81} = 0$

olduğuna göre,  $x$  kaçtır?

- A) 5      B) 4      C) 3      D) 2      E) 1

39.  $\sqrt{\sqrt{1 + \frac{9}{16}} - 1}$

işleminin sonucu kaçtır?

- A)  $\frac{\sqrt{3}}{2}$       B)  $\frac{3}{4}$       C)  $\frac{\sqrt{2}}{2}$       D)  $\frac{3}{4}$       E)  $\frac{1}{2}$

Y  
A  
R  
G  
I  
Y  
A  
Y  
I  
N  
E  
V  
İ

40. Verilen  $x$  ve  $y$  sayılarının aritmetik ortalaması

$$a(x, y) = \frac{x + y}{2}$$
 biçiminde tanımlanmıştır.

Verilen  $x$  ve  $y$  pozitif sayılarının geometrik ortalaması  $g(x, y) = \sqrt{x \cdot y}$  biçiminde tanımlanmıştır.

$a(x, 5) = 4$  ve  $g(3, y^2) = \sqrt{15}$  olduğuna göre  $g(x + y, 2)$  kaçtır?

- A)  $\sqrt{5} + 1$       B)  $\sqrt{5} - 1$       C)  $\sqrt{5} + 3$   
D)  $\sqrt{5} + 2$       E)  $\sqrt{5} - 2$

41. Aşağıdaki tabloda, İngilizce ve Almanca dillerini bilenlerin bulunduğu bir sınıfta bulunan öğrencilerin sayısı cebirsel olarak verilmiştir.

	Öğrenci sayısı
İngilizce Bilen	$3x + 3$
Almanca Bilen	$4x$

Bu sınıfta bulunan toplam 54 kişinin  $2x - 1$  tanesi her iki dili de bilmektedir.

**Buna göre, x kaçtır?**

- A) 6      B) 7      C) 8      D) 9      E) 10

43. Gerçek sayılar kümesi üzerinde bir f fonksiyonu

$$f\left(\frac{x}{2} + 1\right) = 3x + 2a$$

biçiminde tanımlanıyor.

**f(3) = 16 olduğuna göre, a kaçtır?**

- A) -1      B) 1      C) 2      D) 3      E) 4

Y  
A  
R  
G  
I  
Y  
A  
Y  
I  
N  
E  
V  
İ

44. Bir torbada 4 beyaz ve 5 siyah top vardır.

**Bu torbadan aynı anda rastgele çekilen iki toptan en az birinin beyaz olma olasılığı kaçtır?**

- A)  $\frac{2}{9}$       B)  $\frac{5}{13}$       C)  $\frac{1}{20}$       D)  $\frac{1}{10}$       E)  $\frac{13}{18}$

42. Tam sayılar kümesi üzerinde tanımlı  $\blacktriangle$  işlemi, her x ve y tam sayısı için

$$x \blacktriangle y = x^2 + 2x - y^2 - 2y$$

biçiminde tanımlanıyor.

**Buna göre,  $51 \blacktriangle 47$  işleminin sonucu kaçtır?**

- A) 500      B) 400      C) 300  
D) 200      E) 100

45. Yusuf okuldaki merdivenlerin basamaklarını ikişer ikişer çıkıp üçer üçer iniyor. Çıkarken attığı adım sayısı, inerken attığı adım sayısından 8 fazladır.

**Buna göre, Yusuf'un attığı toplam adım sayısı kaçtır?**

- A) 48      B) 44      C) 40      D) 24      E) 16

**46 ve 47. soruları aşağıdaki bilgilere göre cevaplayınız.**

Bir firma ürettiği her bir şişeye, bu şişeleri paketlediği her bir kutuya ve bu kutuların konulduğu her bir koliye birer adet firma amblemi basmaktadır.

Bu firma, her 10 şişeyi bir kutuya ve her 12 kutuyu da bir koliye koyarak paketleme yapıyor ve siparişleri gönderiyor.

**46. 480 şişelik bir siparişte toplam kaç amblem basılır?**

- A) 532                      B) 524                      C) 484  
D) 480                      E) 44

**47. Toplam 665 amblemin basılı olduğu bir siparişteki kutu sayısı kaçtır?**

- A) 75      B) 70      C) 65      D) 60      E) 5

**48. Üç kişi 80 bin ₺, 120 bin ₺ ve 160 bin ₺ sermaye koyarak kurdukları bir şirketten her yılın sonunda, koydukları sermaye oranında kâr payı almaktadır.**

**Şirketin 420 bin ₺ kâr ettiği bir yılın sonunda 120 bin ₺ sermaye koyan kişinin aldığı kâr payı kaç bin ₺ dir?**

- A) 140      B) 130      C) 120      D) 110      E) 100

Y  
A  
R  
G  
I  
Y  
A  
Y  
I  
N  
E  
V  
İ

**49. Bir koşu parkurunda tur atan bir koşucu, her turunu bir önceki turdan %20 daha uzun sürede tamamlamaktadır.**

**Bu koşucu ilk turunu 20 dakikada tamamladığına göre, başlangıçtan itibaren 107. dakikada kaçınıcı turunu koşmaktadır?**

- A) 3      B) 4      C) 5      D) 6      E) 7

50. K kenti ile L kenti arasındaki yolun uzunluğu 720 kilometredir. İki araçtan A bu yolu t saatte, B ise t+1 saatte almıştır.

**Buna göre, araçların ortalama hızları aşağıdaki-lerden hangisinde verilenler olamaz?**

	A aracının Hızı (km/saat)	B aracının Hızı (km/saat)
A)	240	180
B)	180	144
C)	144	120
D)	120	90
E)	80	72

51. Bir işi Baran 18 saatte, Burak ise 45 saatte bitirmektedir. Baran işin  $\frac{1}{3}$  ünü Burak ise işin kalanını aynı anda çalışmaya başlayarak bitirmişlerdir.

**Buna göre, Burak kendi işini Baran'dan kaç saat sonra bitirir?**

- A) 30 B) 24 C) 20 D) 14 E) 6

**52 – 54. soruları aşağıdaki bilgilere göre cevaplayınız.**

35 kişilik bir sınıfta;

- Erkek öğrencilerin sayısı 19 dur.
- Gözlük takan öğrencilerin sayısı 11 dir.
- Erkek öğrencilerden en az 2 tanesinin, kız öğrencilerden en az 3 tanesinin gözlük taktığı bilinmektedir.

**52. Gözlük takmayan erkek öğrenci sayısı en çok kaç olabilir?**

- A) 13 B) 14 C) 15 D) 16 E) 17

Y  
A  
R  
G  
I  
Y  
A  
Y  
I  
N  
E  
V  
İ

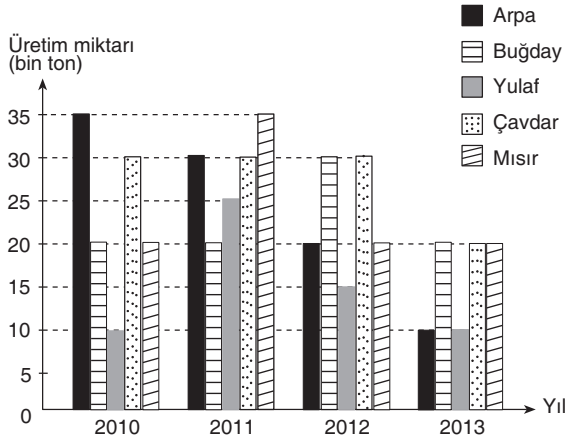
**53. Gözlük takan erkek öğrenci sayısı en çok kaç olabilir?**

- A) 6 B) 7 C) 8 D) 9 E) 11

**54. Gözlük takmayan kız öğrenci sayısı en az kaç olabilir?**

- A) 5 B) 7 C) 8 D) 9 E) 13

**55 – 57. soruları aşağıdaki bilgilere göre cevaplayınız.**

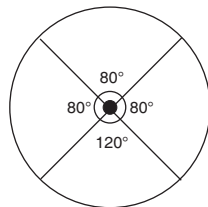


Yukarıdaki grafikte, bir ülkede 2010 – 2013 yıllarındaki arpa, buğday, yulaf, çavdar ve mısır üretimi gösterilmiştir.

**55. 2013 yılındaki mısır üretimi, aynı yıldaki beş ürünün toplam üretiminin yüzde kaçındır?**

- A) 10    B) 15    C) 20    D) 25    E) 40

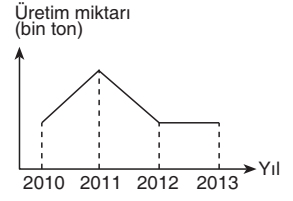
**56.** Yandaki grafik, beş ürünün birinin 2010-2013 yıllarındaki toplam üretiminin yıllara göre dağılımını göstermektedir.



**Bu ürün hangisidir?**

- A) Arpa    B) Buğday    C) Yulaf  
D) Çavdar    E) Mısır

**57.** Yandaki grafik, beş ürünün birinin üretim miktarının yıllara göre değişimini göstermektedir.

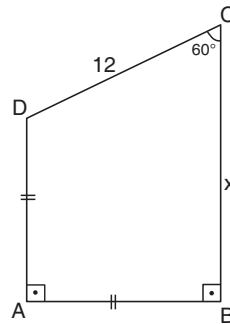


**Bu ürün hangisidir?**

- A) Mısır    B) Çavdar    C) Yulaf  
D) Buğday    E) Arpa

Y  
A  
R  
G  
I  
Y  
A  
Y  
I  
N  
E  
V  
İ

**58.**

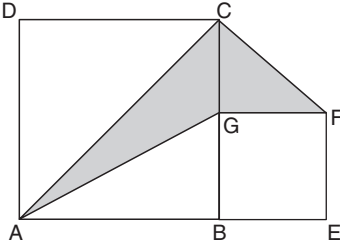


- $[AB] \perp [AD]$   
 $[AB] \perp [BC]$   
 $|AD| = |AB|$   
 $m(\widehat{BCD}) = 60^\circ$   
 $|DC| = 12 \text{ cm}$   
 $|BC| = x \text{ cm}$

**Yukarıdaki verilere göre, x kaç cm'dir?**

- A)  $3\sqrt{3} + 3$     B)  $3\sqrt{3} + 6$     C)  $6\sqrt{3} + 3$   
D)  $6\sqrt{3} + 6$     E)  $6\sqrt{2} + 6$

59.



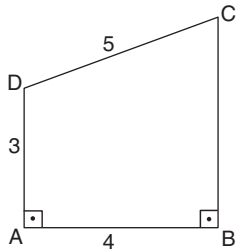
ABCD ve  
BEFG  
birer kare  
 $|AB| = 6 \text{ cm}$   
 $|BE| = 2 \text{ cm}$

Yukarıdaki verilere göre, taralı alanların toplamı kaç  $\text{cm}^2$  dir?

- A) 12    B) 14    C) 16    D) 18    E) 20

Y  
A  
R  
G  
I  
Y  
A  
Y  
I  
N  
E  
V  
İ

60.



$[DA] \perp [AB]$   
 $[AB] \perp [BC]$   
 $|AB| = 4 \text{ cm}$   
 $|CD| = 5 \text{ cm}$   
 $|DA| = 3 \text{ cm}$

Yukarıdaki şekil, AD kenarı etrafından  $360^\circ$  döndürülüyor.

Bu dönme işlemi sonucunda elde edilen cismin hacmi kaç  $\text{cm}^3$  tür?

- A)  $80\pi$     B)  $84\pi$     C)  $86\pi$     D)  $90\pi$     E)  $96\pi$





# KPSS

## GENEL KÜLTÜR

DENEME SINAVI

2

Bu testte toplam **60** soru vardır. *Başarılar dileriz...*

1. Türk adı çeşitli kaynaklarda farklı anlamlarda kullanılmıştır.

**Buna göre Türk adı eski Çin kaynaklarında aşağıdaki hangi anlamda kullanılmıştır?**

- A) Miğfer      B) Kuvvet      C) Törelî  
D) Olgunluk çağı      E) Güzel insan

2. Türklerin İslamiyet'i kabulüyle Türk şehirleri, Türk-İslam çizgisine kaymış ve yeniden şekillenmiştir. Özellikle ....., gözde bir şehir merkezi olmuş ve Timur'la birlikte "**Şehirlerin Şahı**" unvanını almıştır.

**Buna göre yukarıdaki boşluğa gelecek şekilde bahsedilen önemli Türk-İslam şehri aşağıdakilerden hangisidir?**

- A) Füsfat      B) Gazne      C) Bağdat  
D) Buhara      E) Semerkant

3. I. Taht kavgasında başarılı olunması  
II. Danışma meclislerinin belirlenmesi  
III. Ekber ve Erşet sistemine göre yeterlilik şartlarının taşınması

**Yukarıdakilerden hangileri Türk hükümdarların yönetici olarak belirlenmesinde etkili olmuştur?**

- A) Yalnız I      B) Yalnız II      C) I ve II  
D) II ve III      E) I, II ve III

4. İlk beylikler döneminde yaşayan ve haberleşme, kontrol, denge kurma, ayarlama ilmi siber-  
netiğin kurucusu olan bilim adamı aşağıdakilerden hangisidir?

- A) Uluğ Bey      B) Biruni  
C) El Cezerî      D) Ali Kuşçu  
E) Farabi

5. I. II. Murat  
II. I. Osman  
III. II. Mehmet

**Yukarıdaki Osmanlı padişahlarından hangileri hem kuruluş hem yükselme dönemlerinde yöneticilik yapmamıştır?**

- A) Yalnız I      B) Yalnız II      C) I ve II  
D) II ve III      E) I, II ve III

6. Dünya hemşireler gününün belirlenmesinde etkili olan ve hemşireliğin kurucusu kabul edilen Florence Nightingale aşağıdaki hangi savaş sırasında Osmanlı yaralılarını tedavi etmek amacıyla İstanbul'a gelmiştir?

- A) Ankara Savaşı  
B) Mohaç Meydan Savaşı  
C) I. Balkan Savaşı  
D) Kırım Savaşı  
E) 93 Harbi

7. Osmanlı Devleti'nde beylerbeyi sefere çıktığı zamanlarda yerine vekalet edecek birisini bırakmıştır.

**Buna göre beylerbeyi sefere çıktığında aşağıdaki görevlilerden hangisi ona vekalet etmiştir?**

- A) Yeniçeri Ağası  
B) Mütesellim  
C) Naip  
D) Muhtesip  
E) Subaşı

8. XVIII. yüzyılda Osmanlı Devleti'nde kötü gidişatın durdurulması amacıyla Avrupa'dan bir çok uzman getirilmiştir.

**Buna göre Osmanlı Devleti'nin kötü gidişatını durdurmak amacıyla Avrupa'dan getirilen ilk uzman aşağıdakilerden hangisidir?**

- A) Kont de Boneval  
B) Baron dö Tott  
C) Donizetti Paşa  
D) Halil Hamit Paşa  
E) Koca Mustafa Paşa

9. Aşağıdaki Osmanlı saray ve özellik eşleştirmelerinden hangisi yanlıştır?

	Saray	Özellik
A)	Topkapı Sarayı	Fatih Sultan Mehmet döneminde yapılan Osmanlı'nın en büyük sarayıdır.
B)	Dolmabahçe Sarayı	Atatürk'ün "Milletin Sarayı" olarak nitelediği ve burada vefat ettiği sarayıdır.
C)	Çırağan Sarayı	Mebusan Meclisi toplantılarının yapıldığı sarayıdır.
D)	Beylerbeyi Sarayı	Avrupa etkisinin görülmediği Klasik dönem Osmanlı sarayıdır.
E)	İshak Paşa Sarayı	Başkent dışında bulunan ve değişik öğelerin harmanlandığı sarayıdır.

10. Osmanlı Devleti'nde "Garp Ocakları" olarak bilinen eyaletlerde yeni doğan yeniçeri ve sipahi çocuklarına verilen unvan aşağıdakilerden hangisidir?

- A) Sipahioğlu  
B) Dadaloğlu  
C) Koroğlu  
D) Daloğlu  
E) Kuloğlu

11. Ortodoks ve Slav ırkıdan olan ulusların Rusya'nın egemenliği altında birleşmesini hedef alan XIX. yüzyılın ilk yarısında ortaya çıkan ve özellikle Osmanlı Devleti üzerinde uygulanan siyasi hareket aşağıdakilerden hangisidir?

- A) Pantürkizm  
B) Panislamizm  
C) Panslavizm  
D) Pangermenizm  
E) Panyahudizm

12. II. Mahmut döneminde devlet memurları ile ilgili önemli değişiklikler yapılmıştır.

**Buna göre;**

- I. Memurlara aylık maaş ödenmesi  
II. Memur tayin ve terfilerinin belli kurallara bağlanması  
III. Memurların fes, ceket, pantolon giymelerinin zorunlu kılınması

**gibi değişikliklerden hangileri devlet işlerinde belli bir düzenin sağlanmasına yöneliktir?**

- A) Yalnız I  
B) Yalnız II  
C) I ve II  
D) II ve III  
E) I, II ve III

13. Avrupa'nın Osmanlı içişlerine karışmasını engellemek amacıyla çıkarılan aşağıdaki belgelerden hangisiyle haraç ve cizye vergileri kaldırılmıştır?

- A) Tanzimat Fermanı
- B) Islahat Fermanı
- C) Sened-i İttifak
- D) I. Meşrutiyet
- E) Kanun-i Esasi

14. Osmanlı tarihinde çok partili hayat II. Meşrutiyet döneminde başlamıştır. Bu dönemde bir çok parti kurulmuştur.

**Buna göre;**

- I. İttihat – Terakki Fırkası
- II. Amele ve Çiftçi Fırkası
- III. Ahrar Fırkası

**gibi partilerden hangileri II. Meşrutiyet döneminde kurulmamıştır?**

- A) Yalnız I
- B) Yalnız II
- C) I ve II
- D) II ve III
- E) I, II ve III

15. Aşağıdakilerden hangisi Sanayi İnkılabı'nın Osmanlı Devleti'ne etkileri arasında gösterilemez?

- A) Dış ticaret dengesinin bozulması
- B) İşsizlik oranının gittikçe artması
- C) Esnaflar arasındaki işbirliğinin artması
- D) Hammaddenin dışarıya satılması
- E) Osmanlı pazarlarının Avrupa mallarının istilasına uğraması

16. I. Çanakkale cephesi  
II. Suriye cephesi  
III. Kafkas cephesi

**I. Dünya Savaşı sırasında önemli bir yere sahip olan yukarıdaki cephelerin ortak özelliği aşağıdakilerden hangisidir?**

- A) Taarruz cepheleri olması
- B) Osmanlı'nın başarılı olması
- C) Almanya'nın isteği doğrultusunda açılmaları
- D) Mustafa Kemal'in görev alması
- E) Sevr Antlaşmasından sonra açılmaları

17. 30 Ekim 1918'de Mondros Limanı'nda imzalanan Mondros Ateşkes Antlaşması ile biten bir savaşın ardından başlayan yeni bir dönemi, ateşkes öncesinde ve sonrasında Mustafa Kemal'i anlatan Falih Rifki Atay'a ait eser aşağıdakilerden hangisidir?

- A) Mustafa Kemal'in Mütareke Defteri
- B) Kurtuluş
- C) Atatürk Ne İdi?
- D) Atatürk'ün Bana Anlattıkları
- E) Ateş ve Güneş

18. Aşağıdakilerden hangisi Kuvay-ı Milliye'nin kuruluş nedenleri arasında gösterilemez?

- A) Anadolu'nun yer yer işgal edilmesi
- B) Ordunun terhis edilmesi
- C) Osmanlı'nın I. Dünya Savaşı'ndan yenik ayrılması
- D) İstanbul Hükümeti'nin teslimiyetçi politika izlemesi
- E) Ulusal bağımsızlığı sağlamak istemesi

19. I. Ermenistan – Gümrü Antlaşması  
II. Rusya – Moskova Antlaşması  
III. Afganistan – Dostluk Antlaşması

**Yukarıdaki devlet – antlaşma eşleştirmelerinden hangileriyle I. TBMM tanınmış ve Sevr Antlaşması geçersiz sayılmıştır?**

- A) Yalnız I      B) Yalnız II      C) I ve II  
D) II ve III      E) I, II ve III

20. Aşağıdakilerden hangisi II. İnönü Savaşı'nın sonuçları arasında **gösterilemez**?

- A) İngiltere'nin Malta'daki esirleri serbest bırakması  
B) İstiklal Marşı'nın kabul edilmesi  
C) Zonguldak ve çevresinin Fransa tarafından boşaltılması  
D) İtalya'nın Anadolu'yu boşaltmaya başlaması  
E) Fransa'nın TBMM'ye barış teklifinde bulunması

21. I. Liberalizm  
II. Adem-i Merkezîyetçilik  
III. Sosyalizm

**Yukarıdakilerden hangileri Türkiye'nin ilk muhalefet partisi Terakkiperver Halk Fırkası tarafından savunulan düşüncelerdendir?**

- A) Yalnız I      B) Yalnız II      C) I ve II  
D) II ve III      E) I, II ve III

22. Aşağıdakilerden hangisi 17 Şubat 1926'da kabul edilen Türk Medeni Kanunu'nun getirdiği yenilikler arasında **gösterilemez**?

- A) Hukuk birliğinin ve düzeninin sağlanması  
B) Patrikhanenin din işleri dışındaki yetkilerinin kaldırılması  
C) Kadınlara boşanma hakkının tanınması  
D) Konsoloslukların mahkeme kurma hakkının alınması  
E) Hukukta din, mezhep, ırk birliğinin sağlanması

23. Balkan Savaşlarında bulunan, Türkiye'nin ilk milli savunma bakanı, Türkiye Cumhuriyeti'nin ilk genel kurmay başkanı ve Atatürk'ün mücadele arkadaşı olan önemli kişi aşağıdakilerden hangisidir?

- A) Fevzi Çakmak  
B) Kazım Karabekir  
C) Refet Bele  
D) Rauf Orbay  
E) İsmet İnönü

24. Atatürk Dönemi Türk dış politikasının "Yurtta Barış, Dünyada Barış" ilkesi doğrultusundaki esaslar arasında aşağıdakilerden hangisi **gösterilemez**?

- A) Tam bağımsızlık  
B) İttifaklar yapmak  
C) Yayılmacılık  
D) Barışçı olmak  
E) Akılcılık

25. I. Yugoslavya  
II. Mısır  
III. Hindistan

**Barış içinde bir arada yaşama amacı ile kurulan Bağlantısızlar Hareketi'nin liderleri arasında yukarıdaki devletlerden hangileri gösterilebilir?**

- A) Yalnız I      B) Yalnız II      C) I ve II  
D) II ve III      E) I, II ve III

26. "Hocalı Katliamı" aşağıdaki devletlerden hangileri arasında günümüze kadar kalıcı bir barışın oluşmasını engellemiştir?

- A) Azerbaycan – Ermenistan  
B) Kırgızistan – Gürcistan  
C) Ermenistan – Kırgızistan  
D) Azerbaycan – Gürcistan  
E) Türkmenistan – Kazakistan

27. Türkiye'de Yüce Divan sıfatıyla Anayasa Mahkemesi'nde yargılanan ilk-tek başbakan aşağıdakilerden hangisidir?

- A) Süleyman Demirel  
B) Bülent Ecevit  
C) Tansu Çiller  
D) Mesut Yılmaz  
E) Necmettin Erbakan

28. • 12 Ağustos günü yaşanan gündüz süresi daha uzundur.  
• Yıl boyunca güneş ışınlarını daha büyük açı ile alır.  
• Güneşin yıl boyunca daha geç batar.  
• Başlangıç Boylamı'na daha uzaktır.

**Yukarıda verilen bilgiler ile seçeneklerde verilen kentler eşleştirildiğinde hangisine ait bilgiye yer verilmediği söylenebilir?**

- A) Ağrı      B) Samsun      C) İzmir  
D) Mersin      E) Aksaray

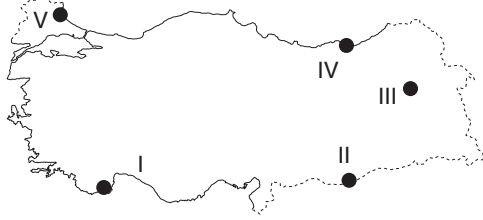
Y  
A  
R  
G  
I  
Y  
A  
Y  
I  
N  
E  
V  
i

29. Dış kuvvetlerin etkisi ile yer şekilleri meydana gelir. Bunlardan bazıları aşındırma veya erime, bazıları ise biriktirme veya çökelme süreçlerinin etkisinde oluşur.

**Aşağıda verilen yer şekillerinden hangisinin oluşumunda aşındırma süreçlerinin etkili olduğu söylenemez?**

- A) Amasra falezleri  
B) Bozok Platosu  
C) Düden dev kazanı  
D) Aladağlar sirkleri  
E) Kapıdağ Yarımadası

30. Türkiye'deki günümüz iklim koşulları %90'lık bir alanda orman oluşabilmesine müsaittir. Ancak ormanların kendiliğinden oluşabildiği tek bölge Karadeniz'dir. Ormanlaştırma çalışmaları ise kıyı bölgelerinde daha kısa sürede istenilen düzeye erişmektedir.



Buna göre, yukarıdaki Türkiye haritasında numaralı alanlardan hangilerinde ormanların kendini yenileme süresinin daha uzun olduğu söylenebilir?

- A) I ve II      B) II ve III      C) III ve IV  
D) III ve V      E) IV ve V

31. Türkiye akarsularının akış hızlarının genel olarak fazla olması;

- I. Enerji üretimi  
II. Turizm  
III. Ulaşım  
IV. Tarım

Alanlarından hangileri üzerinde olumlu etki yaratmıştır?

- A) I ve II      B) I ve III      C) II ve III  
D) II ve IV      E) IV ve V

32. Türkiye'de görülen bazı iklimler birbirlerine benzerlik gösterir.

**Akdeniz iklimi ile Karadeniz iklimi arasında aşağıdakilerden hangisi bakımından farklılık olduğu söylenebilir?**

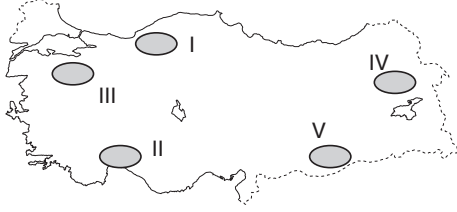
- A) Kış ılıklığının yaşanması  
B) Kış aylarında yağış görülmesi  
C) Orografik yağışların görülmesi  
D) Yaz kuraklığının belirgin olması  
E) Nemliliğin fazla olması

Y  
A  
R  
G  
I  
Y  
A  
Y  
I  
N  
E  
V  
İ

33. Türkiye'deki delta ovalarının gelişim hızının günümüze daha yakın bir zamanda artması üzerinde aşağıdakilerden hangisi en fazla etkili olmuştur?

- A) Tarım arazilerinin nadasa bırakılması  
B) Doğal bitki örtüsünün tahrip edilmesi  
C) Tarlaların eğime paralel sürülmesi  
D) İklimde değişimlerin yaşanması  
E) Akarsuların yatak eğiminin fazla olması

34.



**Yukarıdaki Türkiye haritasında numaralanmış alanlarda bulunan göllerin oluşumları ile ilgili seçeneklerde verilen eşleştirmelerden hangisinin doğru olduğu söylenemez?**

- A) I – Heyelan set
- B) II – Karstik
- C) III – Tektonik
- D) IV – Volkanik set
- E) V – Alüvyal set

36. Türkiye’de 442 sayılı köy kanununa göre nüfusu 2000’den az olan yerleşmelere köy adı verilir. Büyükşehir belediye kanunu ile 30 ilde köyler büyükşehir merkez ve diğer ilçelerine mahalle olarak bağlanmıştır.

**Aşağıdaki illerden hangisinde köylerin statüsünün korunduğu söylenebilir?**

- A) Diyarbakır
- B) Samsun
- C) Ordu
- D) Şanlıurfa
- E) Kırşehir

Y  
A  
R  
G  
I  
Y  
A  
Y  
I  
N  
E  
V  
İ

35. Bir alanda medyana gelen doğumlardan ölümlerin düşülmesi ile doğal nüfus artışı hesaplanır. Bu alanlarda nüfusun artmasının başlıca nedeni doğumların ölümlerden oldukça fazla olmasıdır.

**Aşağıda verilen illerin özellikleri düşünüldüğünde hangisinde doğal nüfus artışının daha yüksek olduğu söylenebilir?**

- A) Van
- B) Ankara
- C) Antalya
- D) Kocaeli
- E) Bursa

37. **Aşağıda verilen kentlerden hangisinde endüstrileşmeye bağlı liman fonksiyonu daha fazla gelişmiştir?**

- A) Trabzon
- B) Sinop
- C) Çanakkale
- D) İskenderun
- E) Tekirdağ

38. Türkiye iklimine uyum sağlamış tarım ürünlerinden biri de üzümdür. Üzüm hemen hemen her yörede yetişen bir tarım ürünüdür.



Üzümün yetiştirme koşulları dikkate alındığında harita üzerindeki numaralanmış yerlerden hangisinde kalitenin **daha düşük** olduğu söylenebilir?

- A) I B) II C) III D) IV E) V

40. Türkiye’de kısa mesafelerde yer şekillerinin çeşitlilik göstermesi iklim çeşitliliğine neden olmuştur. Bu nedenle bitki tür ve çeşidi oldukça fazladır.

**Buna göre, aşağıdaki hayvancılık türlerinden hangisinin bu duruma bağlı olarak geliştiği söylenebilir?**

- A) Balıkçılık  
B) Büyükbaş ahır-besi hayvancılığı  
C) Kümes hayvancılığı  
D) Arıcılık  
E) İpek böcekçiliği

Y  
A  
R  
G  
I  
Y  
A  
Y  
I  
N  
E  
V  
İ

39. Aşağıdaki haritada bazı tarım ürünlerinin Türkiye’de en çok yetiştirildiği yöreler verilmiştir.



Haritada verilen ürünlerden hangilerinin en çok yetiştirildiği yer **doğru değildir?**

- A) Ayçiçeği – şeker pancarı  
B) Muz – zeytin  
C) Muz - Pamuk  
D) Pamuk– pirinç  
E) Zeytin – pamuk

41. Tarımda makine kullanımının yaygın olduğu yerlerin ortak özelliği tarım parsellerinin büyüklüğüdür.

**Buna göre, aşağıdaki illerden hangisinde tarım parsellerinin daha küçük olması nedeniyle makine kullanımı **daha sınırlıdır?****

- A) Konya B) Adana C) İzmir  
D) Artvin E) Gaziantep

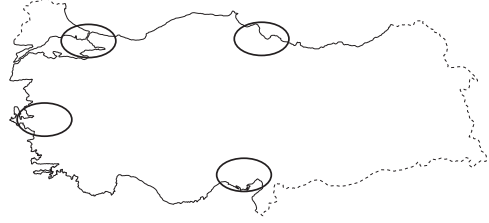


42. Türkiye'de bölgeler arası geçişte dağların uzanışı ve yer şekillerinin engebeliliği nedeniyle tüneller ve köprülere gerek duyulur.

**Aşağıda verilen bölgelerden hangileri arasındaki ulaşımında tüneller ve köprülere en az ihtiyaç duyulur?**

- A) Karadeniz – İç Anadolu  
B) Doğu Anadolu – Karadeniz  
C) Akdeniz – İç Anadolu  
D) Marmara – İç Anadolu  
E) İç Anadolu - Ege

44.



**Yukarıdaki Türkiye haritasında taralı alanlar ile ilgili;**

- I. Tarım bölgesi  
II. Sanayi bölgesi  
III. Turizm bölgesi  
IV. Ticaret bölgesi

**eşleştirmelerinden hangilerinin ortak olarak uygun olduğu söylenebilir?**

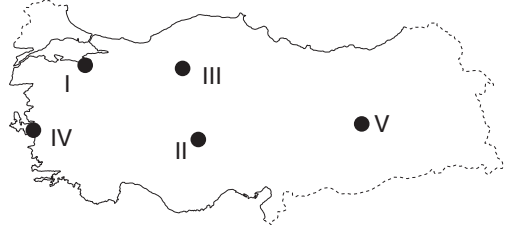
- A) Yalnız I      B) I ve II      C) II ve III  
D) II ve IV      E) III ve IV

Y  
A  
R  
G  
I  
Y  
A  
Y  
I  
N  
E  
V  
İ

43. Aşağıdaki seçeneklerde verilen il ve gelişen madene dayalı sanayi kolu eşleştirmelerinden hangisinin doğru olduğu söylenemez?

- A) Konya – Alüminyum  
B) İzmir – Petro kimya  
C) Aydın – Demir çelik  
D) Antalya – Krom  
E) Samsun – Bakır

45. Türkiye'de ağırlıklı olarak iç turizme yönelik gelişme gösteren turizm etkinliklerinden biri de kaplıca ve ılıca turizmidir.



**Yukarıdaki Türkiye haritasında numaralanmış yerlerden hangisinde kaplıca ve ılıca turizminin geliştirilebileceği söylenemez?**

- A) I      B) II      C) III      D) IV      E) V

46. Türk Medeni Kanunu'na göre kadın ve erkekte en erken evlenme erginliği yaşı kaçtır?

- A) 15 B) 16 C) 17 D) 18 E) 19

47. Kişinin kendisini veya başkasını derhal ortaya çıkabilecek tehlikeden kurtarmak için başkasına veya başkasının malına zarar vermesine ne ad verilir?

- A) Meşru müdafaa  
B) Zaruret hali  
C) Haklı savunma  
D) Kuvvet kullanma  
E) Saldırıya son verme

48. Kazanç paylaşma amacı gütmeyen ve kişi topluluğu niteliği taşıyan özel hukuk tüzel kişisi aşağıdakilerden hangisidir?

- A) Dernek B) Vakıf  
C) Anonim şirket D) Kolektif şirket  
E) Kooperatif

49. Aşağıdakilerden hangisi 1982 Anayasası'nın 3. Maddesi'nde yer almaz?

- A) Milli marş B) Bayrak  
C) Devletin şekli D) Başkent  
E) Resmi dil

50. 1982 Anayasası'na göre aşağıdakilerden hangisi kişinin hak ve ödevleri arasında düzenlenmiştir?

- A) Toprak mülkiyeti  
B) Sosyal güvenlik hakkı  
C) Dernek kurma  
D) Sendika hakkı  
E) Kamu hizmetine girme

51. Siyasi partilerin mali denetimini yapan mercii aşağıdakilerden hangisidir?

- A) Sayıştay  
B) Anayasa Mahkemesi  
C) Yüksek Seçim Kurulu  
D) TBMM  
E) Hazine

52. 1982 Anayasasına göre tüzük çıkarma yetkisi aşağıdakilerden hangisine aittir?

- A) Bakanlar Kurulu
- B) Başbakanlık
- C) Bakanlıklar
- D) Kamu tüzel kişileri
- E) Yargı organları

53. Aşağıdakilerden hangisi genel idari kolluk makamları arasında yer almaz?

- A) Bakanlar Kurulu
- B) İçişleri Bakanı
- C) Vali
- D) Kaymakam
- E) Belediye Başkanı

54. Vali ve kaymakam ile ilgili aşağıdaki ifadelerden hangisi yanlıştır?

- A) Valilik, istisnai bir memurluktur.
- B) Kaymakam ilçe idaresinin başıdır.
- C) Vali hem il genel idaresinin hem de il özel idaresinin başıdır.
- D) Kaymakam genel emirler çıkarabilir.
- E) Vali, yetki genişliği ilkesine sahiptir.

55. Aşağıdakilerden hangisi Bankacılık Düzenleme ve Denetleme Kurulu'nun görevleri arasında yer almaz?

- A) Hükümetle birlikte Türk lirasının iç dış değerlerini korumak için gerekli tedbirleri almak
- B) Türkiye'de bir bankanın kurulmasına veya yurt dışında kurulmuş bir bankanın Türkiye'deki ilk şubesinin açılmasına izin vermek
- C) Tasarruf sahiplerinin haklarını korumak
- D) Bankaların düzenli ve emin bir şekilde çalışmasını tehlikeye sokabilecek ve ekonomide önemli zararlar doğurabilecek her türlü işlem ve uygulamaları önlemek
- E) Finansal hizmetler sektörünün geliştirilmesine yönelik stratejiler belirlemek

Y  
A  
R  
G  
I  
Y  
A  
Y  
I  
N  
E  
V  
İ

56. Teleskop kullanarak evreni gözlemleyen ilk gök bilimci aşağıdakilerden hangisidir?

- A) Galileo Galilei
- B) Gregor Johann Mendel
- C) Isaac Newton
- D) Johannes Kepler
- E) Alfred Wegener

57. 1 Ocak 2016 tarihinde CERN'in Genel Direktörlüğünü üstlenecek ilk kadın aşağıdakilerden hangisidir?

- A) Sabine Bergmann-Pohl
- B) Maria Estela Peron
- C) Fabiola Gianotti
- D) Margaret Thatcher
- E) Agatha Barbara

59. "Atatürk- Modern Türkiye'nin Kurucusu" adlı biyografi kitabıyla tanınan ve Temmuz 2014'te hayatını kaybeden yazar aşağıdakilerden hangisidir?

- A) Andrew Mango
- B) Jojo Moyes
- C) *James Dashner*
- D) *Adam Fawer*
- E) *Gabriel Garcia Marquez*

Y  
A  
R  
G  
I  
Y  
A  
Y  
I  
N  
E  
V  
İ

58. Mevlana'nın Çelebi Hüsameddin'in isteği üzerine yazmış olduğu tasavvufi fikir ve düşüncelerini bir birine ulanmış hikâyeler halinde anlatmış olduğu eser aşağıdakilerden hangisidir?

- A) Divan-ı Kebir
- B) Mesnevi
- C) Mektubat
- D) Fîhi Mâ Fîh
- E) Mecalis-i Seba'a

60. Türk sinemasının yüzüncü yılı şerefine Kültür ve Turizm Bakanlığı tarafından gerçekleştirilen "En iyi 100 Türk Filmi" oylaması sonucunda birinciliği elde eden yapım aşağıdakilerden hangisidir?

- A) Hababam Sınıfı
- B) Babam ve Oğlum
- C) Susuz Yaz
- D) Eşkiya
- E) Canım Kardeşim