

KPSS

KAMU PERSONELİ SEÇME SINAVI

GENEL YETENEK

GENEL KÜLTÜR

DENEME SINAVI

D
E
N
E
M
E

DİKKAT!

SINAVA BAŞLAMADAN ÖNCE AŞAĞIDAKİ UYARILARI MUTLAKA OKUYUNUZ.

- Adınızı, soyadınızı, T.C. Kimlik Numaranızı ve kurum kodunu optik forma mutlaka işaretleyiniz. Kurum kodu ve T.C kimlik numarası karnenizin oluşturulabilmesi için özellikle gereklidir.
- Genel Yetenek - Genel Kültür Testi için verilen toplam cevaplama süresi 120 dakikadır (2 saat).
- Bu testte 120 soru vardır.
- Cevaplamaya istediğiniz sorudan başlayabilirsiniz. Her soru ile ilgili cevabınızı, cevap kâğıdında o soru için ayrılmış olan yere işaretlemeyi unutmayınız.
- Sınav sonucunuzu www.yaklasimkariyer.com adresinden TC kimlik numaranızı girerek öğrenebilirsiniz.
- Türkiye Geneli Deneme sınavına ait **cevap anahtarı ve soruların çözümleri** sınavın uygulandığı son gün www.yaklasimkitap.com adresinde yayınlanacaktır.
- Bu test puanlanırken testteki doğru cevaplarınızın sayısından yanlış cevaplarınızın sayısının dörtte biri düşülecek ve kalan sayı testle ilgili ham puanınız olacaktır. Bu nedenle, hakkında hiçbir fikrinizin olmadığı soruları boş bırakınız. Ancak, soruda verilen seçeneklerden birkaçını eleyebiliyorsanız kalanlar arasından doğru cevabı kestirmeye çalışmanız yararınıza olabilir.

Bu testlerin her hakkı saklıdır. Hangi amaçla olursa olsun, testlerin tamamının veya bir kısmının yayınevimizin yazılı izni olmadan kopya edilmesi, herhangi bir yolla çoğaltılması, yayımlanması ya da kullanılması yasaktır. Bu yasağa uymayanlar gerekli cezai sorumluluğu ve testlerin hazırlanmasındaki mali külfeti peşinen kabullenmiş sayılır.

Yaklaşım Kariyer Yayıncılık ve Dağıtım Ltd.Şti

GMK Bulvarı No: 19 Kızılay-ANKARA

Tel: (0312) 229 84 94

Web: www.yaklasimkitap.com - www.yaklasimkitabevi.com

e-posta: bilgi@yaklasimkitap.com

DİKKAT: BU BÖLÜMDE YANITLAYACAĞINIZ SORU SAYISI 60'TIR.

1-30 SORU : "Türkçeyi Kullanma Gücü"

30-60 SORU : "Matematiksel İlişkilerden Yararlanma Gücü" ile ilgilidir.

Bu bölümdeki sorularla ilgili cevaplarınızı, cevap kağıdınızdaki "GENEL YETENEK" bölümüne işaretleyiniz.

1. (I) Yamaç paraşütü, 1980'li yılların başında heyecanı ve adrenalini seven birkaç genç tarafından keşfedilmiş ekstrem (aşırı-uç) bir spor türüdür. (II) Yamaç paraşütü kalkışı ve iniş için özel bir pist istemeyen çok hafif bir hava aracıdır. (III) Hava şartları da uygunsa istediğiniz kadar havada kalabilir, yükselebilir ve kilometrelerce yol gidebilirsiniz. (IV) Dünyada en fazla tercih edilen sporlardan biri halinde gelen yamaç paraşütünü belli sağlık koşullarına sahip herkes yapabilir. (V) Bu hava şartlarında can güvenliği ve uçuş emniyeti uçan kişinin kendi sorumluluğundadır.

Bu parçada numaralanmış cümlelerle ilgili olarak aşağıdakilerin hangisi yanlıştır?

- A) I. cümlede, yamaç paraşütü sporunu adrenalin sevdalısı gençlerin bulunduğu ifade edilmiştir.
B) II. cümlede, paraşütün hafif olduğu belirtilmiştir.
C) III. cümlede, paraşütün, ilerlemesinin hava şartlarına bağlı olduğu söylenmiştir.
D) IV. cümlede yamaç paraşütü sporunu yapacakların bazı sağlık şartlarına uygun olması gerektiği belirtilmiştir.
E) V. cümlede yamaç paraşütünde can güvenliğinin olmadığı ifade edilmiştir.

2. (I) Kent merkezinde yayalaştırılmış bir cadde, insanları mıknaş gibi kendine çekiyor. (II) Tamamen kafe, restoranlara ayrılmış bu cadde, adını İskodralı ünlü ressam, fotoğrafçı, mimar ve heykeltıraş Kale Idromeno'dan alıyor. (III) Arnavut kaldırımlı caddenin her iki yanı, iki katlı yirminci yüzyıl başına ait göz okşayıcı yapılarla süslü. (IV) Gençler caddedeki asil kalabalığı oluşturuyor ancak akşam gezintisine çıkan aileler de bu cadde saatler geçiyor. (V) Yakın zamana kadar ülkenin en büyük şehri burasıydı fakat Tiran'ın başkent oluşuyla bu liderliği yitirdi.

Bu parçada numaralanmış cümlelerle ilgili olarak aşağıda verilenlerden hangisi yanlıştır?

- A) I. cümlede, benzetme yapılmıştır.
B) II. cümlede, caddenin isminin nereden geldiği belirtilmiştir.
C) III. cümlede, betimleyici unsurlara yer verilmiştir.
D) IV. cümlede, caddenin sadece gençler tarafından kullanıldığı belirtilmiştir.
E) V. cümlede, eskiden ülkenin en büyük şehri olduğu söylenmiştir.

3. (I) Girne denince ilk akla gelen yerlerden biri Girne Kalesi'dir. (II) Girne Limanı'nın doğusunda bulunan kale Ortaçağ'dan günümüze kadar gelmiş muhteşem görüntüsüyle boy göstermektedir. (III) Kalenin yapılışı ile ilgili kesin bir tarih bulunmamaktadır. (IV) Bazı kaynaklara göre ilk olarak, 1191 Üçüncü Haçlı Seferi sırasında yapılmıştır. (V) Kaleden ilk defa İngiliz Kralı Aslan Yürekli Richard'ın, Kıbrıs Kralı İsak Kommen'i yenilgiye uğratıp adayı alması ile bahsedilmektedir.

Bu parçada numaralanmış cümlelerle ilgili olarak aşağıdakilerden hangisi yanlıştır?

- A) I. cümlede, Girne Kalesi'nin adanın en değerli eseri olduğu belirtilmiştir.
B) II. cümlede, Kale'nin yeri ifade edilmiştir.
C) III. cümlede, Kale'nin yapıldığı zamanın kesin olarak bilinmediği söylenmiştir.
D) IV. cümlede Kale'nin 1191 yılında yapıldığını iddia eden kaynaklar olduğu belirtilmiştir.
E) V. cümlede Girne Kalesi'nin adanın geçtiği ilk olaydan söz edilmiştir.

4. (I) Günümüzde turistik her yer, gezilip görülecek yerlerine ilaveten kendine özgü lezzetleri ve ürünlerini ziyaretçilerin beğenisine sunmak için oldukça özen göstermektedir. (II) Kimi zaman ziyaretçiler sırf bu lezzetler uğruna dünyanın bir ucuna seyahat edebilmektedir. (III) Hatta bu lezzetlerin varlığı o yerin marka haline gelmesindeki en önemli unsurlar arasındadır. (IV) Ceviz macunundan hellime, zeytin yağından Kıbrıs kahvesine, pekmezden peksemete ve çitlemetli biddaya, baldan limonataya kadar birçok Kıbrıs tadı yolcuların beğenisine sunuldu. (V) Ülkemizden ayrılacak yolcuların bavullarını bagaja teslim etmeden Kıbrıs'ın Tadı mağazasını ziyaret etmelerini özellikle tavsiye ediyoruz.

Bu parçada numaralanmış cümlelerle ilgili olarak aşağıda verilenlerden hangisi yanlıştır?

- A) I. cümle amaç bildirmektedir.
B) II. cümle varsayım anlamı taşımaktadır.
C) III. cümle karşılaştırma cümlesidir.
D) IV. cümlede örnekleme yapılmıştır.
E) V. cümlede öneri anlamı vardır.

5. Aşağıdaki cümlelerin hangisinde deyim kullanılmıştır?

- A) Ondan intikam almayı yıllar önce kafama koymuştum.
- B) Annesinin hasta olduğunu öğrenince eli ayağı birbirine dolaşmış.
- C) Mahalledeki tüm tanıdıkları burnunda tütüyor onun da.
- D) Yediği yumruk burnunu sızlatmış, gözünden yaş gelmesine neden olmuştu.
- E) Mustafa'nın arkadaşları onun sözünü tutmayacağını düşünerek günahını almıştı.

6. Olaylara belli açıdan bakan ve bu bakış açısına sanatsal bir ifade biçimi veren yazar ancak kırk yılda bir çirakar ortaya.

Bu cümlede anlatılmak istenen aşağıdakilerden hangisidir?

- A) Hayal gücünü okuyucuya farklı şekilde sunan sanatçı sayısı çok azdır.
- B) Bir olaya tek açıdan bakan iyi yazarların yetişmesi çok zordur.
- C) Yaşananları eserlerine değişik üslupla yansıtabilen yazarlar çok nadir yetişir.
- D) Tüm görüşlerini aynı potada eritebilen ve onları okuyucuya kabul ettirebilenler iyi sanatçılardır.
- E) Ortaya koyduğu eseri umutlarıyla süsleyebilen yazarlar gerçek sanatçılardır.

7. (I) Lale, ana vatanı Orta Asya'dan dünyaya yayılmış, şiirlere ve bir döneme ilham olmuş çok özel bir çiçek türü olarak, Kıbrıs'ta medoş lalesi adıyla anılıyor. (II) Lalenin oluşumunda Mitolojiye göre yaprağın üstündeki bir çiğ tanesine yıldırım düşer, çiğ tanesi ve yaprak alev alır, sonrasında yaprak ve çiğ tanesi donarak laleyi meydana getirir. (III) Lale çiçeğinin ortasındaki koyu rengin bu yanma sonucu oluştuğu rivayet edilir. (IV) Kıbrıs'ın kendi florası içinde yer alan önemli türlerden biri olan medoş lalesi de tüm güzelliğiyle yaşamını sürdürüyor. (V) Kıbrıs lalesi (Tulipa cypria), zambakgiller (Iiaceae) familyasından Kıbrıs adasına özgü endemik bir lale türü olan soğanlı ve çok yıllık otsu bir bitkidir.

Bu parçada numaralanmış cümlelerin hangisinde yazım yanlışı vardır?

- A) I. B) II. C) III. D) IV. E) V.

8. Şunu kabul etmeliyiz ki bir şairi, yazarı ölümünden sonra bir paragrafta sıkıştırmak çok büyük bir acımasızlıktır.

Bu cümlede altı çizili sözle anlatılmak istenen aşağıdaki cümlelerin hangisinde vardır?

- A) Sanatçılarla ilgili yazılarda sanatçının tüm eserlerine yer verilmemesi doğal bir yaklaşımdır.
- B) Bir sanatçının ölümünden sonra onun hayatının birkaç cümleyle anlatılması ona yapılan bir hak-sızlıktır.
- C) Sanatın ve sanatçının değerini bilen eleştirmenler hayatta olmayan bir sanatçının eserleri hakkında olumsuz yorumlar yapmamalıdır.
- D) Doğru adımları atmaya cesaret edebilen sanatçılar hiçbir zaman edebi hayattan silinmeyeceklerdir.
- E) Yanlış yaklaşımlar nedeniyle birçok eleştirmen, sanatçılarımızı acımasızca eleştirmiş ve halkın gününde çok zor bir durumda bırakmıştır.

9. Kaynağını nereden alırsa alsın şiir insan yaşamının iz düşümüdür.

Bu cümlede altı çizili sözle anlatılmak istenen aşağıdakilerin hangisidir?

- A) Hayallerin gerçeğe dönüşmesi
- B) Etkileyiciliği olan
- C) Hayatın yansımaları
- D) Güncel olan
- E) Gerçekleri yansıtmayan

10. Bir dili konuşan kimse ihtiyaç duyduğu aracı yapamıyorsa, başkalarından alıyorsa onun adını da bulamıyor. Bir aracı kullanan kişi, onu yabancı bir ele gerek duymadan yapıyorsa ona kendi dilinde ad bulmakta da güçlük çekmez. Bir dille konuşup yazmak o dili bilmek değildir, önemli olan o dille düşünmek, üretmek, düşünsel bir alan yaratabilmektir. Soyut varlıklar üretemeyen bir topluluğun dilinde soyut kavram yoktur. Günlük yaşama katkısı olacak bir ürün, araç üretemeyen toplumda dil eksiktir.

Bu parçada vurgulanmak istenen düşünce aşağıdakilerden hangisidir?

- A) Bir dili tam anlamıyla bilmek; konuşmak ya da yazmak değil onu farklı alanlarda kullanmaktır.
- B) Her alanda terim üretemeyen bir dilin evrenselleşmesi söz konusu olamaz.
- C) Bilim dili olarak gelişen dilin herhangi bir toplumu birleştirmesi mümkün değildir.
- D) Yabancı dillerden terimler alan dilin kullanıcıları özgür düşünce ortamını oluşturamamış demektir.
- E) Soyut kavramlardan yoksun olan diller kalıcılığa ulaşamayacaktır.

11. Bazı sanatçılar var ki ciddiyeti bir tavır haline getirmişler. Bunu da bir sözcük parçalama hastalığına kapılarak ortaya koymak istemişlerdir. Bir eserin ciddi sayılabilmesi için anlaşılmasız bir dille yazılmasını şart koşmuşlar. Bir fikri barındırmasın ama cafcacflı bir dille yazılsın yeter, halkın diliyle fikir ortaya koyuyorsanız eseriniz beş para etmez.

Bu parçada vurgulanmak istenen düşünce aşağıdakilerden hangisidir?

- A) Ciddi görünmek bahanesiyle bazı sanatçılar, fikir boşluğu olan eserler ortaya koymaktadır.
- B) Nasıl olursa olsun ciddi görünmeyen yazılar bilimsel değer taşıyamaz.
- C) Bir yazıda ciddiyeti ortaya koyan sanatçı değil, sanatçının kullandığı dildir.
- D) Ciddi yazılar yazmak için kullanılacak tek tür makaledir.
- E) Herhangi bir fikri temsil etmeyen yazılar okur tarafindan değer verilen yazılardır.

12. Hiç deniz görmediği halde çok güzel deniz şiiri yazan şairler var. Ömründe muz yememiş olanlar muzdan, köpek görmeyenler kuduzdan bahsetmiştir. Ancak deniz deyince aklımıza o şairlerin değil, Halikarnas Balıkçısı'nın sahici denizi geliyor, bir de Melville'in Mobydic'i. Edebiyatı yakından takip edenler olarak biz, hayalden meyalden bıkmış sahiciye susamışız.

Bu parçada anlatılmak istenen aşağıdakilerden hangisidir?

- A) En güzel şiirleri yazanlar, geniş hayal gücüne sahip insanlardır.
- B) İnsanların beğeneceği şiirler gerçekliğe dayalı olanlardır.
- C) Edebiyat severler, şiirleri sadece güzel oldukları için değil gerçek oldukları için sevmektedir.
- D) Şiir; toplumu derinden sarsan, gerçek olaylar hakkında söylenmelidir.
- E) Şiir için dikkat edilmesi gereken unsur, söyleyiş güzelliğinin konudan önemli tutulmasıdır.

13. Köşe yazarı umutlu da olsa umutsuz da olsa yazacak. Yazıya olan güvenini yitirse de kamuoyundan bir cevap alamadığını görse de yazmayı bırakamaz. Yazmayı bırakmak hayatını devam ettirmek için yeni bir yol bulmasını gerektirecektir. Bunun için umutsuzluğa düştüğü dönemleri daha kolay atlatır.

Bu parçadan çıkarılabilecek en genel yargı aşağıdakilerden hangisidir?

- A) Köşe yazarları hiçbir zaman umutsuzluğa kapılmaz.
- B) Yazmak, köşe yazarının işi olduğu için her durumda yazmaya devam eder.
- C) Yazıya olan inancını kaybedenler yazarlığa devam edemez.
- D) Yazmak, köşe yazarının severek yaptığı bir iştir her zaman.
- E) Yaratıcılığını kaybeden yazar, köşe yazarlığını bırakmak zorunda kalır.

14. Küçük çocuklar, anne babalarına görünmez bir göbek bağıyla bağlıdır. Bir çocuğun sevgisi temelde bencil ve tek yanlıdır. ---- . Sevilmenin olduğu kadar sevmenin de sihirli ödülünü tatmaya başlarlar.

Bu parçada boş bırakılan yere anlam akışına göre aşağıdakilerden hangisi getirilmelidir?

- A) Ancak sosyalleşme sürecinde çocuklar yavaş yavaş diğer insanları önemsemeyi öğrenir
B) Anne ve babalar onlara içlerindeki sevgiyi nasıl kontrol edeceklerini öğretmelidir
C) Bu davranış çocukların eğitimsizliğinden ve büyüklerin umursamazlığından kaynaklanmaktadır
D) Bu bağdan dolayı çocuklar büyüdüleri zaman da tamamen özgür bireyler haline gelemmezler
E) Pek çok insan çocuklarının yaşadığı sıkıntıların farkına bile varamaz

15. (I) Anadolu'nun ortasında deniz yok ama "denizköpüğü" var. (II) Eskişehirli binlerce yıldır yer altından çıkarttıkları lületaşına denizköpüğü adını vermişler. (III) Öyle ki dünya rezervinin yüzde 70'i ve en kaliteli bölümü Eskişehir'de. (IV) Lületaşının bilinen geçmişi Demirci Höyük kazısında çıkarılmış buluntulara dayanıyor. (V) Türkiye dışında kalan yüzde 30'luk dünya rezervi ise Somali, Tanzanya, Kenya ve Meksika arasında paylaşıyor. (VI) Bu rezerv dağılımı sayesinde belki de ilk kez bir sıralamada birinci geldiğimizi söyleyebiliriz.

Bu parçada numaralanmış cümlelerden hangisi anlatım akışını bozmaktadır?

- A) II. B) III. C) IV. D) V. E) VI.

16. Türkçenin sadeliğini kaybetmesiyle ilgili olarak Ziya Paşa : "Osmanlı Devleti ' ni kurarken başlangıçta İran

I II
din bilgilerinin getirmek zorunda kaldık . Onların verdiği

III
eğitim nedeniyle de kendi dilimizi bırakıp , onların dilini

IV
öğretmeye ve öğrenmeye öyle daldık ki ..."

V
Bu parçada numaralanmış noktalama işaretlerinden hangisi gereksiz kullanılmıştır?

- A) I. B) II. C) III. D) IV. E) V.

17. Türk sinemasında, yarattığı özgün deneme ve ifade biçimleriyle unutulmaz bir etki bıraktı Atif Yılmaz. Hem değişen koşullara ayak uydurmakta gösterdiği başarıyla hem de bütün gelişmeleri kendi sinema dilinin filtresinden süzen incelikli bakışlarıyla kalıcı bir iz bıraktı. Kendi sinema dilinin oluşumu boyunca hemen her etkiye açık olan bu kaynakları harmanlayarak kendine has bir üslup geliştirdi usta yönetmen. Yılmaz'ın sinemasını hem analitik bir bakışla hem de kişisel katkıların dostane ve insani çerçevesi içinde ele alan çalışma, yönetmenin ardında bıraktığı silinmeyecek izler ve dostluklar üzerinden yol alan bir armağan kitap olarak karşımıza çıkıyor.

Bu parçada aşağıdakilerden hangisine değinilmemiştir?

- A) O güne kadar, sinemada hiç denenmemiş şeyleri Atif Yılmaz'ın denediğine
B) Atif Yılmaz'ın, kendine özgü bir tarz oluşturduğuna
C) Yönetmenin olayları sinemanın süzgecinden geçirdiğine
D) Kitabın Türk sinemasında unutulmaz bir etki bıraktığına
E) Yönetmenin yeniliklere uyum sağlamakta zorlanmadığına

18. Burası geçmişten günümüze bir tarım ülkesi olmuştur. Tarımda eski zamanlardan bu yana önemli ilerlemeler kaydedilmiş olmasına rağmen feodal tarım sistemi nedeniyle tarımsal üretim büyük ölçüde geri kalmıştır. Bunun üzerine ----.

Bu parçanın sonuna anlam akışına göre aşağıdakilerden hangisi getirilebilir?

- A) ülkedeki tüm tarım alanlarında kâr ettirecek ürünler yetiştirilmeye başlandı
B) hükümet kırsal alanlarda kapsamlı bir reform gerçekleştirdi
C) çiftçiler daha kaliteli tohum kullanmaya başladı
D) tarım yerin sanayiye yönelmişler ve bu yatırımları yapmışlar
E) tarım alanlarının daralmasını engellemek için sanayi kuruluşları kapatıldı

19. Bu büyük antik kentte birçok tarihi güzellik var. Tiyatronun güneyinde yer alan Roma Villası; sütunlu giriş, iç avlu ve geniş bir oturma odasından oluşur. Güneyde yer alan girişteki döşeme üzerinde anlaşıldığı kadarıyla, Roma Gimnazium (spor alanı)'unun bulunduğu yerde Helenistik Dönem'e tarihlenen bir alan bulunmaktadır. Kuzey yüzme havuzunun etrafındaki heykeller 2. yy'a aittir.

Bu parçada aşağıdakilerden hangisi kullanılmıştır?

- A) Tanımlama B) Tanık gösterme
C) Örnekleme D) İlişik kurma
E) Kişileştirme

20. Aşağıdaki cümlelerin hangisinde ünsüz sertleşmesi vardır?

- A) Bayramda torun torba herkes aynı çatıda toplandık.
B) Saçma sapan bahanelerle bizi günlerce oyaladılar.
C) Çocukların abur cuburu fazla kaçırması sağlık açısından çok zararlıymış.
D) Taşınırken eski eşyaları hiç düşünmeden çöpe attı.
E) İyi kötü hepimiz bu küçük şehri sevmeyi başladık.

21. Aşağıdaki cümlelerin hangisinde eylemin yapılaş şeklini gösteren bir sözcük kullanılmıştır?

- A) Geçen hafta sonu bu soruların hepsini benim için çözmüştüm.
B) Kapıdan uzaklaşmak istemediği için yere düşen anahtarı da almıyordu.
C) Sokağın ağzında ellerini ovuşturarak en büyük düşmanının gelmesini bekliyordu.
D) Berna, içindeki öfkeyi dışarıya atmanın sıkıntısını yaşıyordu.
E) Son dönemin en etkili ve beğenilen eserlerinden birini yazdı.

22. Bu yaşananlar, bizim yüzümüzden, utanç duymanızı

sağladıysa herkesin huzurunda sizden özür dileriz.

Bu parçadaki anlatım bozukluğunu gidermek için, numaralanmış sözcüklerden hangisini değiştirmek gerekir?

- A) I. B) II. C) III. D) IV. E) V.

23. Sizin çevrenizdekilerin böyle büyük hatalar yapmış

olması nedeniyle buradaki kimse dışarı çıkamayacak

bu küçük evden.

Bu cümlede numaralanmış sözcüklerin hangisi zamirdir?

- A) I. B) II. C) III. D) IV. E) V.

24. I. O zamanlar yapılan her sayımın altından mutlaka bir çapanoğul çıkıyor ya vergi konuyor ya da askerlik için yeni yükümlülükler saptanıyordu.

II. Cumhuriyet'in ilanından ve devrimlerden sonra Cumhurbaşkanı Mustafa Kemal, Türkiye'nin nüfusu ile ilgili bazı yabancı devlet adamlarının yaptığı olumsuz açıklamaları etkisizleştirmek ve ülkenin askeri, sosyal, ekonomik sorunlarına cevap bulabilmek amacıyla nüfus sayımı yapılmasını istemişti.

III. Osmanlı zamanında yapılan sayımlardan bu kuşku halka miras kalmıştı.

IV. Bu da bazı bölgelerde sayımdan kaçma, saklanma gibi yöntemlere başvurulmasına yol açmıştı.

V. Ancak nüfus sayımı yapılacağı haberi toplumda kuşku ve tedirginlik yarattı.

Yukarıdaki numaralanmış cümleler anlamlı bir bütün oluşturacak biçimde sıralandığında hangisi sonuncu cümle olur?

- A) I. B) II. C) III. D) IV. E) V.

25. Zülfî Livaneli, yeni romanında tüm bunları okuru sürekli şaşırtan, okurun zekasını sınavan bir kurgu ile yapmıştır.

Bu cümlede aşağıdaki sorularından hangisinin cevabı yoktur?

- A) Nerede
B) Kim
C) Ne
D) Neyi
E) Nasıl

26. Aşağıdaki cümlelerde altı çizili sözcüklerin hangisinin yazımı yanlıştır?

- A) İstanbul Boğazi ilk defa bana bu kadar anlamlı görünüyordu.
B) İki ay önce şirketin Genel Müdürü, bizi bu toplantıya davet etti.
C) Onlar 1 Ağustos günü bu alanda bir eğlence düzenlemişti.
D) En çok sevdiği yemişin Antep fıstığı olduğundan söz etmişti.
E) Bütün güzel anılarını Ankara Kalesi'nin surlarının arkasında bıraktı.

27. Sakarya'nın Akyazı ilçesindeki Sülüklü Göl, bugün tabiatı koruma alanı. Yaklaşık üç yüzyıl önceki büyük heyelanın kopardığı toprak kütesinin Hongurdak Deresi'nin önünü tıkaması sonucu oluştu. Su altında kalan ağaçlar felaketin tanığı. Heyelanın yeri ise daha dün olmuş gibi kendini gösteriyor. Göl, adını bir zamanlar barındırdığı, tedavi amaçlı kullanılan sülüklerden alıyor. Sonradan yetiştirilen alabalıklar nedeniyle göl, özelliğini kaybetmek üzere.

Bu parçada Sülüklü Göl ile ilgili aşağıdaki sorulardan hangisinin cevabı yoktur?

- A) Ne zaman oluşmuştur?
B) Adını nereden almıştır?
C) Çevresindeki ağaçları nasıl etkilemiştir?
D) Nasıl oluşmuştur?
E) Nerededir?

28. – 30. SORULARI AŞAĞIDAKİ BİLGİLERE GÖRE BİRBİRİNDEN BAĞIMSIZ OLARAK CEVAPLAYINIZ.

SOL

| | | | |
|---|---|---|---|
| 1 | 2 | 3 | 4 |
|---|---|---|---|

 SAĞ

Esra, Fethi, Gamze ve Hakan adlı yazarlar tarafından 1960, 1970, 1980 ve 1990 yıllarında yazılmış olan A, B, C, D kitaplarıyla ilgili şunlar bilinmektedir.

- Bu dört kitap numaralanarak şekildeki gibi yan yana dizilmiştir.
- 1990 yılında yazılan kitap Esra'nındır.
- 3 numaralı kitabın yazarı Gamze'dir.
- 1960 yılında yazılan kitap C'dir.
- Esra'nın kitabı 1980 yılında yazılan kitabın hemen sağında, D'nin hemen solundadır.

28. Bu bilgilere göre, aşağıdaki ifadelerden hangisi kesinlikle yanlıştır?

- A) 1 numaralı kitap 1980 yılında yazılmıştır.
B) Gamze'nin yazdığı kitap D'dir.
C) 2 numaralı kitap C dir.
D) Fethi'nin yazdığı kitap A'dır.
E) 1960 tarihli kitabı Hakan yazmıştır.

29. Verilen bilgiler aşağıdakilerden hangisinin kesin olarak bilinmesi için yeterlidir?

- A) Fethi'nin kaç numaralı kitabı yazdığı
B) A'nın hangi yıl yazıldığı
C) B'yi kimin yazdığı
D) Hakan'ın hangi kitabı yazdığı
E) 2 numaralı kitabı kimin yazdığı

30. 1980 yılında yazılan kitabı kimin yazdığının kesinleşmesi için

- I. D kitabının hangi yıl yazıldığı
II. 4 numaralı kitabı kimin yazdığı
III. 1980'de yazılan kitabın numarasının kaç olduğu

bulgilerinden hangilerinin verilmesi gerekir?

- A) Yalnız I
B) Yalnız II
C) I ve II
D) I ve III
E) II ve III

$$31. \frac{(0,2)^2}{0,1} - \frac{(0,3)^2}{0,2}$$

işlemin sonucu kaçtır?

- A) $\frac{1}{5}$ B) $\frac{2}{3}$ C) $\frac{3}{5}$ D) $-\frac{1}{20}$ E) $-\frac{1}{15}$

$$32. \frac{2^{-3} + 2^{-4} + 2^{-5}}{2^3 + 2^4 + 2^5}$$

işleminin sonucu kaçtır?

- A) 2^{-7} B) 2^{-8} C) 2^{-4} D) 2^{-2} E) 2^{-1}

$$33. 2\sqrt{2} \cdot (\sqrt{2^{-3}} + \sqrt{2^{-5}})$$

işleminin sonucu kaçtır?

- A) $\frac{1}{2}$ B) $\frac{3}{2}$ C) $\frac{4}{3}$ D) $\frac{5}{3}$ E) $\frac{9}{4}$

34. x ve y gerçel sayılar olmak üzere;

- I. $x = y$ ise $x \cdot y \geq 0$ 'dir.
 II. $x \cdot y = 0$ ise $x + y = 0$ 'dir.
 III. $x + y = 0$ ise $x \geq 0$ veya $y \geq 0$ 'dir.

ifadelerinden hangileri her zaman doğrudur?

- A) Yalnız I B) Yalnız II C) Yalnız III
 D) I ve II E) I ve III

35. Bir a doğal sayısı için

$a + (a-1) + (a-2) + \dots + 2+1=253$ olduğuna göre,
 a'nın rakamları toplamı kaçtır?

- A) 4 B) 5 C) 6 D) 7 E) 9

36. x bir pozitif gerçel sayı olmak üzere;

$$\left(1 - \frac{1}{x}\right) \cdot \left(1 + \frac{1}{x}\right) \cdot \left(1 + \frac{1}{x^2}\right) = -80$$

olduğuna göre, x kaçtır?

- A) $\frac{1}{2}$ B) $\frac{1}{3}$ C) $\frac{1}{4}$ D) $\frac{1}{5}$ E) $\frac{3}{5}$

37. Bir A sayısı ardışık iki pozitif tek sayının çarpımına eşittir. Bu A sayısı bu iki ardışık tek sayının her birine ayrı ayrı bölünüp çıkan bölümler toplanınca 32 bulunmaktadır.

Buna göre, A sayısı kaç eşittir?

- A) 155 B) 175 C) 195 D) 235 E) 255

38. $a < 0 < b < c$ olmak üzere;

$$\sqrt{a^2 b^2} - \sqrt{c^2} + |a \cdot b - c|$$

ifadesi aşağıdakilerden hangisine eşittir?

- A) $-2ab$ B) $-2c$ C) 0
 D) $2ab$ E) $2c$

39. x, y ve z pozitif tam sayılarının en büyük ortak bölenleri (EBOB) ile ilgili olarak aşağıdakiler veriliyor.

$$EBOB(x,y) = 3$$

$$EBOB(x,z) = 5$$

$$EBOB(y,z) = 7$$

Buna göre, $x + y + z$ toplamının alabileceği en küçük değer kaçtır?

- A) 59 B) 61 C) 63 D) 71 E) 83

40. n pozitif tam sayı olmak üzere;

$$\frac{(n+1)!}{(n+1)! + (n!) + (n-1)!} = \frac{7}{8}$$

eşitliğini sağlayan n sayısı kaçtır?

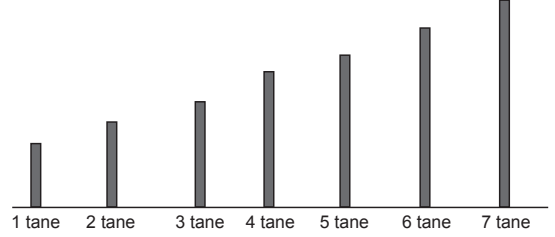
- A) 6 B) 7 C) 8 D) 9 E) 10

41. $\frac{x^3 + y^3}{x^2 - y^2} : \left(x - \frac{x^2 + y^2}{y} \right) + \frac{x}{x-y}$

ifadesi aşağıdakilerden hangisine eşittir?

- A) 1 B) $\frac{x}{y}$ C) $\frac{x-y}{2}$
D) $\frac{y}{x+y}$ E) $\frac{y}{x}$

42. VE 43. SORULARI AŞAĞIDAKİ BİLGİLERE GÖRE BİRBİRİNDEN BAĞIMSIZ OLARAK CEVAPLAYINIZ.



- Lunaparkta şekildeki gibi çubuklara daire şeklinde halkalar geçirilmeye çalışılıyor.
- Her çubuğa altında yazılı sayı kadar halka geçirilmesi isteniyor.
- 30 atış hakkı için 15 TL ücret alınıyor ve atışlara kalınan yerden devam ediliyor.
- Eğer tüm çubuklara istenilen kadar halka geçirilirse 50 TL ödül kazanılacaktır ve direkler boşaltılıp kalan atış hakları kullanılabilir.
- Çubuklara geçirilemeyen veya çubuğun altında yazılı sayıdan fazla olarak geçirilmiş halkalar iska olarak tanımlanmaktadır.

42. Buna göre, bu oyunda 15 TL ile 50 TL kazanmak için kaç iska hakkı tanınmıştır?

- A) 1 B) 2 C) 3 D) 4 E) 5

43. Kemal'in 30 TL si vardır.

İlk 30 atışta en çok kaç iska atış yaparsa ikinci 30 atış hakkını aldığıında 100 TL ödül kazanabilecektir?

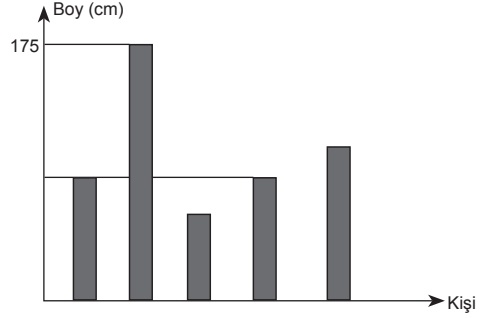
- A) 4 B) 6 C) 8 D) 10 E) 12

44. İçinde bilyeler bulunan iki kutu alınıyor. İkinci kutudan birinci kutuya, birincide bulunan bilye sayısının yarısı kadar bilye aktarılıyor, daha sonra; birinci kutudan ikinci kutuya, ikincide kalan bilye sayısının yarısı kadar bilye aktarılıyor. Son durumda kutulardaki bilye sayıları eşit oluyor.

Başlangıçta ikinci kutuda bulunan bilye sayısı birincidekinden 12 fazla olduğuna göre, bu iki kutuda toplam kaç bilye vardır?

- A) 98 B) 102 C) 106 D) 108 E) 112

46. Aşağıdaki grafikte, beş kişinin boyları ile ilgili bazı bilgiler verilmiştir.



Bu kişilerle ilgili aşağıdakiler bilinmektedir.

- Erdal ile Esra aynı boydadır.
- En uzun olan Sena, en kısa olan Toprak'tır.
- Emre; Esra'dan 3 cm, Toprak'tan ise 5 cm uzundur.
- Erdal, Sena'dan 4 cm kısadır.

Buna göre, Toprak'ın boyu kaç cm dir?

- A) 152 B) 160 C) 160
D) 169 E) 171

45. Gerçek sayılar kümesi üzerinde \oplus ve $*$ işlemleri her a ve b gerçel sayısı için;

$$a \oplus b = 2a - 3b + a \cdot b$$

$$a * b = \frac{a}{4} \oplus \frac{b}{2}$$

biçiminde tanımlanıyor.

Buna göre, $4 * \left(\frac{1}{3} \oplus \frac{1}{2} \right)$ işleminin sonucu kaçtır?

- A) $-\frac{2}{3}$ B) $\frac{3}{2}$ C) $\frac{5}{3}$ D) $\frac{8}{3}$ E) $\frac{7}{2}$

47. Herkesin eşit güçte olduğu bir işçi grubuna 30 günlük iş verilmiştir. İşçilerin 5'i daha iş başlamadan ayrılıyor. Kalan işçiler, işi bu yüzden 45 günde bitirdiklerine göre, başlangıçta grup kaç kişiydi?

- A) 12 B) 13 C) 15 D) 16 E) 18

48. VE 49. SORULARI AŞAĞIDAKİ BİLGİLERE GÖRE BİRBİRİNDEN BAĞIMSIZ OLARAK CEVAPLAYINIZ.

Aynı yol üzerinde bulunan A, B, C, D, E kentleri arasındaki yolların uzunlukları km türünden gösteren bir tablo hazırlanmıştır. Aşağıda bu uzunlukların bazıları verilmiştir.

| | | | | |
|-----|-----|-----|-----|---|
| A | B | C | D | |
| 600 | 800 | | | E |
| | | 380 | 220 | A |
| | | | | B |
| | | | | C |

Tablonun satır ve sütun kesişiminde verilen sayılar bu-
lundukları satır ve sütunun belirttiği iki kent arasındaki
yolun uzunluğudur. Örneğin, D ile A kentleri arasındaki
yolun uzunluğu 220 km dir.

48. Kentlerin yol üzerindeki sıralanışı B, E, D, A, C şek-
lindeyse B ile C kentleri arasındaki yolun uzunlu-
ğu kaç km dir?

- A) 1440 B) 1580 C) 1780
D) 1800 E) 1820

49. Kentlerin yol üzerindeki sıralanışı E, C, D, A, B şek-
lindeyse D ile B kentleri arasındaki yolun uzunlu-
ğu, E ile C kentleri arasındaki yolun uzunluğundan
kaç km fazladır?

- A) 120 B) 200 C) 210 D) 220 E) 260

50. Bir seminere katılanların %30'u gözlük takmaktadır.
Gözlük takan erkeklerin sayısı, gözlük takmayan ka-
dınların sayısına eşittir. Gözlük takmayan erkeklerin
sayısı ise gözlük takan kadınların sayısından 20 faz-
ladır.

Buna göre, seminere kaç kişi katılmıştır?

- A) 30 B) 35 C) 40 D) 50 E) 55

51. Beş katlı bir alışveriş merkezinin zemin katında bulu-
nan asansöre belli sayıda kişi binmiştir. Tek numara-
lı katlarda o anda asansörde bulunan kişilerin $\frac{2}{3}$ ü in-
miş, çift numaralı katlarda ise o anda asansörde bulu-
nan kişilerin yarısı kadar kişi binmiştir.

**Buna göre, 3. kattan 4. kata çıkan asansörde 4 kişi
varsa zemin katta asansöre kaç kişi binmiştir?**

- A) 12 B) 18 C) 20 D) 22 E) 24

52. ve 53. SORULARI AŞAĞIDAKİ BİLGİLERE GÖRE BİRBİRİNDEN BAĞIMSIZ OLARAK CEVAPLAYINIZ.

Aşağıdaki tabloda bir tüccarın sattığı iki çeşit fındığın
alış ve satış fiyatları verilmiştir.

| | Samsun Palazı | Ordu Yağlı Fındığı |
|-------------------|------------------|-----------------------|
| Alış Fiyatı (TL) | 1,20 | 1,60 |
| Satış Fiyatı (TL) | 1,50 | 2,40 |

Bu tüccarın 1 kg fındığı bir hafta depolama maliye-
ti 10 kuruştur.

52. Bu tüccar iki çeşit fındıktan 100 TL lik alıp fındıkları de-
polamadan satarak 35 TL kar elde ediyor.

Tüccar, kaç kg Samsun palazı almıştır?

- A) 30 B) 40 C) 50 D) 65 E) 70

53. Bu tüccar 50 kg ordu yağlı fıındığını 2 hafta depoladıktan sonra satıyor.

Tüccar, bu satıştan kaç TL kâr elde etmiştir?

- A) 16 B) 20 C) 24 D) 30 E) 35

54. Bu şirket, 2010 yılında çalışanlarına kaç bin TL giyecek yardımı yapmıştır?

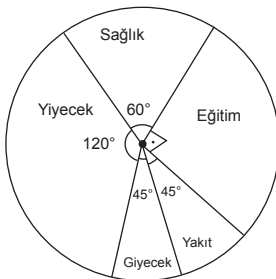
- A) 3 B) 4 C) 5 D) 6 E) 7

54. ve 55. SORULARI AŞAĞIDAKİ BİLGİLERE GÖRE BİRBİRİNDEN BAĞIMSIZ OLARAK CEVAPLAYINIZ.

Aşağıdaki tabloda VAR Eğitim Şirketinin 5 yıl boyunca elde ettiği yıllık kar miktarları gösterilmiştir.

| Yıl | Kar (bin TL) |
|------|--------------|
| 2008 | 440 |
| 2009 | 350 |
| 2010 | 480 |
| 2011 | 420 |
| 2012 | 300 |

Bu şirket, her yılın sonunda karının belli bir oranını çalışanlarının sağlık, eğitim, yakıt, giyecek ve yiyecek ihtiyaçlarını karşılamak üzere aşağıdaki daire grafikte gösterilen biçimde çalışanlarına dağıtmaktadır.



Şirketin karı 400 bin TL'nin altında ise karının %4'ünü, 400 bin TL ve üzerinde ise %5'ni dağıtmaktadır.

55. Bu şirket 2012 yılında çalışanlarına kaç bin TL yakıt yardımı yapmıştır?

- A) 1 B) 1,5 C) 2 D) 3 E) 3,5

56. Bu şirket, 2008 ve 2009 yıllarında çalışanlarına toplam kaç bin TL yiyecek yardımı yapmıştır?

- A) 8 B) 9 C) 10 D) 11 E) 12

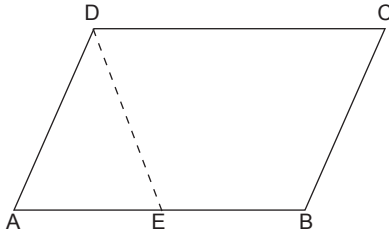
57. Bir hastane iki haftalık süre içinde yeni doğan bebekler arasında seçilecek bir bebeğe, bebek odası takımı hediye edecektir. Bu sürede doğan bebek sayısı ve cinsiyetleri yandaki tabloda gösterilmiştir.

| Günler | Cinsiyet | | |
|-----------|----------|-------|---|
| | Kız | Erkek | |
| I. HAFTA | Pzt | 2 | – |
| | Salı | 1 | 1 |
| | Çar | – | 2 |
| | Per | 3 | – |
| | Cum | – | – |
| | Cmt | – | 1 |
| | Paz | 2 | 1 |
| II. HAFTA | Pzt | 1 | – |
| | Salı | 2 | 1 |
| | Çar | 1 | – |
| | Per | – | 3 |
| | Cum | 1 | – |
| | Cmt | – | 2 |
| | Paz | 1 | 1 |

Buna göre, seçilen bebeğin kız veya hafta sonu doğmuş olma olasılığı kaçtır?

- A) $\frac{11}{26}$ B) $\frac{15}{26}$ C) $\frac{17}{26}$ D) $\frac{19}{26}$ E) $\frac{23}{26}$

58.




ABCD bir paralel kenar
|BC| = 4 cm
|CD| = 6 cm

Yukarıdaki ABCD paralelkenarı biçimindeki bir karton, A köşesinden DE doğrusu boyunca, DC kenarı üzerine gelecek şekilde katlanıyor.

Katlama sonucunda oluşan BCDE yamuğunun alanının, ABCD paralelkenarının alanına oranı kaçtır?

- A) $\frac{2}{3}$ B) $\frac{3}{4}$ C) $\frac{5}{8}$ D) $\frac{5}{12}$ E) $\frac{8}{13}$

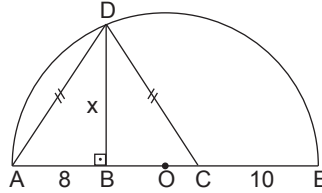
59. Dikdörtgen biçimindeki bir kumaş parçasının üzerine aşağıdaki gibi özdeş karelerden oluşan bir desen çizilmiştir.



Siyah renkli özdeş karelerin alanları toplamı 120 cm^2 olduğuna göre, kumaş parçasının çevresi kaç cm dir?

- A) 42 B) 56 C) 82 D) 88 E) 96

60.



O merkezli yarım çember
[DB] \perp [AC]
|DA| = |DC|
|CE| = 10 cm
|AB| = 8 cm

Yukarıdaki verilere göre, |DB| = x kaç cm dir?

- A) 8 B) 9 C) 12 D) 13 E) 14

GENEL YETENEK TESTİ BİTTİ.
GENEL KÜLTÜR TESTİNE GEÇİNİZ.

DİKKAT: BU BÖLÜMDE YANITLAYACAĞINIZ SORU SAYISI 60'TIR.

1-27 SORU : "Atatürk İlkeleri ve İnkılap Tarihi" ile "Türk Kültür ve Medeniyetleri"

28-45 SORU : "Türkiye Coğrafyası"

46-60 SORU : "Temel Yurttaşlık Bilgisi ve Güncel Konular" ile ilgilidir.

Bu bölümdeki sorularla ilgili cevaplarınızı, cevap kağıdınızdaki "**GENEL KÜLTÜR**" bölümüne işaretleyiniz.

1. Eski Türklere ait kurganlarda yapılan kazılarda demirden yapılmış kılıç, süngü, bıçak ve balta gibi silahların çıkması,

- I. savunma veya saldırı amaçlı araçlara sahip olduğunun,
- II. maden işleme sanatının geliştiğinin
- III. ahiret inancının olduğunun

hangilerinin göstergeleri arasındadır?

- A) Yalnız I B) Yalnız II C) Yalnız III
D) II ve III E) I, II ve III

2. Anadolu Selçuklu Devleti'nde ahilik teşkilatının faaliyetleri arasında,

- I. rekabeti artırıcı önlemler almak,
- II. mesleki eğitim vermek,
- III. tüketiciyi koruyucu önlemler almak

durumlarından hangileri gösterilebilir?

- A) Yalnız I B) Yalnız II C) Yalnız III
D) I ve II E) II ve III

3. Anadolu Selçuklu Devleti'nin yollarında ticaretin güvenli yapılmasında,

- I. gümrük vergilerinin düşük tutulması,
- II. belli aralıklarla kervansaraylar yapılması,
- III. ahilik teşkilatının kurulması

gelişmelerinden hangileri etkili olmuştur?

- A) Yalnız I B) Yalnız II C) Yalnız III
D) I ve II E) I, II ve III

4. Osmanlı Devleti'nde,

- I. geliri doğrudan hazineye aktarılan,
- II. geliri kamu yararına ayrılan,
- III. geliri sınırların güvenliğinin sağlanması için ayrılan,

topraklar aşağıdakilerden hangisinde doğru olarak verilmiştir?

| | I | II | III |
|----|----------|-----------|---------|
| A) | Mukataa | Paşmaklık | Ocaklık |
| B) | Has | Zeamet | Tımar |
| C) | Yurtluk | Vakıf | Dirlik |
| D) | Mukataa | Vakıf | Yurtluk |
| E) | Malikane | Yurtluk | Vakıf |

5. Osmanlı Devleti'nde sadrazamın,

- I. kadıları atama,
- II. gerektiğinde orduya komuta etme,
- III. gerektiğinde divana başkanlık yapma

görevlerinden hangilerine sahip olduğu savunulabilir?

- A) Yalnız I B) Yalnız II C) Yalnız III
D) I ve II E) II ve III

6. Osmanlı Devleti'nde tımar sisteminin bozulmasıyla köylünün toprağını bırakarak şehirlere göç etmesi,

- I. ülke ekonomisinin bozulması,
- II. çiftbozan vergisi ödeyenlerin sayısının artması,
- III. taşrada asayişin bozulması

sonuçlarından hangilerini doğurmuştur?

- A) Yalnız I B) Yalnız II C) I ve II
D) II ve III E) I, II ve III

7. Osmanlı Devleti'nde XVII. yüzyılda Duraklama Dönemine girilmesi,

- I. hazine gelirleri,
- II. ordunun savaş gücü,
- III. iç ayaklanmalar

durumlarından hangilerinde azalmalara neden olmuştur?

- A) Yalnız I B) Yalnız II C) I ve II
D) II ve III E) I, II ve III

8. Osmanlı Devleti'nde II. Mahmud'un yayımladığı bir fermanla kişinin malına devletçe el konulması geleceğine son verilmesi,

- I. yabancılara verilen ayrıcalıkların kaldırılması,
- II. mülkiyet hakkının güvence altına alınması,
- III. gelir dağılımındaki dengesizliklerin giderilmesi

amaçlarından hangilerine yöneliktir?

- A) Yalnız I B) Yalnız II C) Yalnız III
D) I ve III E) II ve III

9. Aşağıdakilerden hangisi Tanzimat Dönemi gelişmeleri arasındadır?

- A) İlk resmi gazetenin yayınlanması
- B) Hendesehane'nin açılması
- C) Nizamiye Mahkemelerinin kurulması
- D) Çok partili hayata geçilmesi
- E) Yeniçeri Ocağı'nın kaldırılması

10. I. Arnavutluk'un bağımsızlığını ilan etmesi
II. 31 Mart Olayı'nın çıkması
III. İkinci Meşrutiyet'in ilan edilmesi

Yukarıdakilerden hangileri Birinci Balkan Savaşı sırasında yaşanan gelişmeler arasındadır?

- A) Yalnız I B) Yalnız II C) Yalnız III
D) I ve II E) I, II ve III

11. Mondros Ateşkes Antlaşması'nın imzalanmasından sonra başlayan işgallere karşı kurulan cemiyetlerin,

- I. buldukları bölgeyi savunmak,
- II. bölge halkının desteğini sağlamak,
- III. saltanat yönetimine son vermek

amaçlarından hangilerine sahip olduğu savunulabilir?

- A) Yalnız I B) Yalnız II C) Yalnız III
D) I ve II E) II ve III

12. İstanbul Hükümeti temsilcisi Bahriye Nazırı Salih Paşa, Amasya Görüşmesi'nde, Mebuslar Meclisi'nin Anadolu'da toplanmasını kabul etmesine rağmen İstanbul Hükümeti bunu kabul etmemiştir.

Buna göre, İstanbul Hükümeti'yle ilgili olarak,

- I. üyeleri arasında görüş ayrılığı olduğu,
- II. Temsilciler Kurulu'nun isteklerine uygun hareket ettiği,
- III. seçim sonuçlarına göre hareket ettiğinin

yargılarından hangilerine ulaşılabilir?

- A) Yalnız I B) Yalnız II C) I ve II
D) II ve III E) I, II ve III

13. Milli Mücadele yıllarında yapılan,

- I. Gümrü,
- II. Moskova,
- III. Ankara

antlaşmalardan hangilerinde Misak-ı Milli'den taviz verilmiştir?

- A) Yalnız I B) Yalnız II C) Yalnız III
D) I ve II E) II ve III

14. Moskova Antlaşması'nda yer alan "milletin kendi geleceğine serbestçe karar verebilmesi" maddesinin,

- I. bağımsızlığa saygı duyma,
- II. ticari ilişkilerde bulunma,
- III. Milletler Cemiyeti gözetiminde yönetilme

Yukarıdaki anlayışlarından hangilerini kapsamaz?

- A) Yalnız I B) Yalnız II C) Yalnız III
D) I ve II E) II ve III

15. Aşağıdakilerden hangisi Saltanat'ın kaldırılmasının nedenleri arasında yer almaz?

- A) Ulusal egemenlik anlayışının TBMM'de benimsenmiş olması
- B) Bir ülkede iki hükümetin yaşayamayacağıının anlaşılması
- C) Osmanlı yönetiminin ayaklanmalar ve fetvalar ile Kurtuluş Savaşı'nın engellemeye çalışmış olması
- D) İstanbul Hükümeti'nin Kurtuluş Savaşı'nın kazanılmasından sonra bu başarıya ortak olmak istemesi
- E) TBMM'deki muhalefetin ortadan kaldırılmak istenmesi

16. Anadolu'nun Batılı devletlerinin hammadde kaynağı ve pazarı olma durumundan kurtarılmasında,

- I. kapitülasyonların kaldırılması,
- II. gümrük vergilerinin yükseltilmesi,
- III. Duyun-u Umumiye İdaresinin varlığına son verilmesi

gelişmelerinden hangilerinin etkili olduğu savunulabilir?

- A) Yalnız I B) Yalnız II C) Yalnız III
D) II ve III E) I, II ve III

17. Milli Mücadele yıllarında Yeni Türk Devleti'nin savaş giderlerini karşılamak amacıyla,

- I. Ulusal Yükümlülük Emirlerinin yayınlanması,
- II. ekonomide devletçiliğin benimsenmesi,
- III. İzmir İktisat Kongresi'nin toplanması

uygulamalarından hangilerini gerçekleştirdiği söylenebilir?

- A) Yalnız I B) Yalnız II C) Yalnız III
D) I ve II E) II ve III

18. Lozan Barış görüşmelerinde,

- I. kapitülasyonlar,
- II. devlet borçları,
- III. nüfus mübadelesi

konularından hangileri Türkiye ile Fransa arasında görüşme konusu olmamıştır?

- A) Yalnız I B) Yalnız II C) Yalnız III
D) I ve II E) II ve III

19. Yeni Türk Devleti'nin ilk yıllarından itibaren kamu yararını doğrudan ilgilendiren işletmelerin millileştirilmesi aşağıdakilerden hangisine karşı bir tutumu yansıtmaktadır?

- A) Ulusal ekonomide yabancı sermayeye ve işletmelerin etkinliğini azaltmaya
- B) Kapitülasyonların kaldırılmasına
- C) Büyük sanayi yatırımlarının devlet eliyle gerçekleştirilmesine
- D) Özel girişimcinin desteklenmesine
- E) Yabancı işletmecilerin satın alınmasına

20. Serbest Cumhuriyet Fırkası'nın kapanmasında,

- I. rejim karşıtlarının partiye üye olması,
- II. partinin ekonomik hayatta serbest piyasa ekonomisini savunması,
- III. Şeyh Said Ayaklanması'nın çıkması

gelişmelerinden hangileri etkili olmuştur?

- A) Yalnız I B) Yalnız II C) Yalnız III
D) I ve III E) I, II ve III

21. Aşağıdakilerden hangisini öğretim birliği ile ilgili yasanın uygulanmasının sonuçları arasında yer almaz?

- A) Medreselerin kapatılması
- B) Yabancı ve azınlık okullarının Milli Eğitim Bakanlığı'na bağlanması,
- C) Eğitime çağdaş ve laik nitelikler kazandırılması
- D) Yabancı ve azınlık okullarındaki misyonerlik faaliyetlerine son verilmesi
- E) Okuma – yazma kolaylığının sağlanması

22. 1924 Anayasası'nda yapılan 1928 değişikliği ile,

- I. devletin herhangi bir din karşısında tarafsızlığının sağlanması,
- II. kadınlara siyasi haklar verilmesi,
- III. milletvekillerinin göreve başlarken yaptıkları yeminin şeklinin değiştirilmesi,

konularından hangileriyle düzenlemeler yapılmıştır?

- A) Yalnız I B) Yalnız II C) I ve II
D) I ve III E) II ve III

23. 1929 Dünya Ekonomik Krizi'nin yaşanması aşağıdakilerden hangisinden istenilen sonucun alınmamasına neden olmuştur?

- A) Teşvik-i Sanayi Kanunu
- B) I. Beş Yıllık Sanayi Planı
- C) Kabotaj Kanunu
- D) Tevhid-i Tedrisat Kanunu
- E) Medeni Kanun

24. Aşağıdakilerden hangisi Atatürk döneminde yaşanan gelişmeler arasında yer almaz?

- A) Türk parasının değerinin korunması için önlemler alınması
- B) Planlı ekonomi anlayışının benimsenmesi
- C) Bölgesel barış ve güvenliği sağlayacak önlemler alınması
- D) Meclis işlerinin denetlenmesi için Anayasa Mahkemesi'nin kurulması
- E) Farklı siyasi görüşlerin yönetime yansımaları için denemeler yapılması

25. Atatürk'ün halkçılık ilkesinin,

- I. vatandaşlar arasında iş bölümü ve dayanışmayı sağlamak,
- II. sınıflar arasındaki farklılıklardan yararlanmak,
- III. yasalar karşısında herkesi eşit kılmak

amaçlarından hangilerine sahip olduğu savunulamaz?

- A) Yalnız I B) Yalnız II C) Yalnız III
D) I ve III E) I, II ve III

26. 1974 yılında gerçekleştirilen Kıbrıs Barış Harekati sonrasında Türkiye'ye silah ambargosu uygulayan ülke aşağıdakilerden hangisidir?

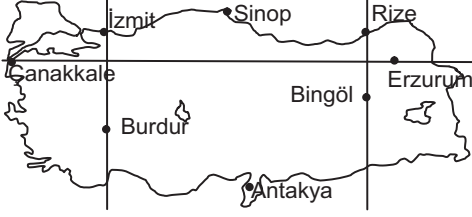
- A) İsrail
- B) Suriye
- C) Almanya
- D) ABD
- E) SSCB

27. I. Almanya
II. Kore
III. Vietnam

Yukarıdaki devletlerden hangileri II. Dünya Savaşı'ndan sonra ortaya çıkan güç dengeleri arasında yaşanan bir gerginliğin sonucu olarak bir süre içinde olsa ikiye ayrılmıştır?

- A) Yalnız I B) Yalnız II C) Yalnız III
D) I ve III E) I, II ve III

28. Aşağıdaki Türkiye haritasında ülkemizdeki bazı merkezlerin yaklaşık olarak coğrafi konumları gösterilmiştir.



Buna göre yukarıdaki Türkiye haritasında, konumları gösterilmiş yörelerle ilgili olarak aşağıdakilerden hangisi söylenirse doğru olur?

- A) Sinop'ta güneş 21 Haziran tarihinde Antakya'ya göre daha geç doğar.
 B) Rize ve Bingöl'de yıl boyunca güneşin doğma ve batma anları aynıdır.
 C) İzmit ve Burdur'un baş meridyene olan uzaklığı aynıdır.
 D) Çanakkale'de yer çekimi Erzurum'dan daha fazladır.
 E) 21 Aralık tarihinde eşit boydaki cisimlerden en uzun gölge boyu Antakya'da ölçülür

30. Aşağıdaki seçeneklerde Türkiye'nin yer şekilleri ile ilgili olarak verilen bilgilerden hangisinin doğru olduğu söylenemez?

- A) Türkiye'nin her bölgesinde volkanik araziler yer almaktadır
 B) Ülkemiz büyük oranda 3. jeolojik dönemde oluşmuştur.
 C) Türkiye'nin her bölgesinde büyük ya da küçük birçok plato yer almaktadır
 D) Rüzgarın oluşturduğu yer şekilleri buzulların oluşturduğu yer şekillerine göre daha azdır
 E) Ülkemizde dağların büyük bir kısmının doğu-batı yönlü uzanmasında doğu ve batıdaki levhaların sıkıştırmaları etkili olmuştur.

31. Ülkemizde I. Jeolojik dönemde oluşmuş olan arazilere genelde masif araziler denilmektedir.

Buna göre aşağıdakilerden hangisinde masif araziler geniş alanlar kaplamaz?

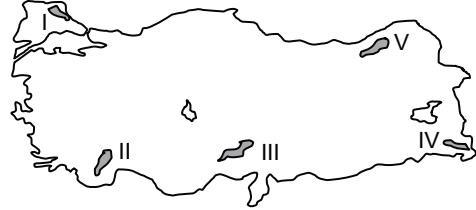
- A) Yıldız Dağları
 B) Kastamonu ve çevresi
 C) Kırşehir Yöresi
 D) Saruhan-Menteşe yöresi
 E) Yukarı Murat yöresi

29. Bir Türkiye haritasında iz düşüm alanları aynı olan iki alandan birincisinde kullanılan renk ve tonu fazla iken ikincisinde ise tek rengin bir tonu kullanılmıştır.

Buna göre aşağıdakilerden hangisi bu alanlarla ilgili olarak kesinlikle söylenebilecek doğru bir yargı değildir?

- A) Birinci alanda engebe fazladır.
 B) İkinci alanda yer şekilleri sadedir.
 C) Birinci alan yüksek, ikinci alan alçak bir alandır.
 D) Birinci alanda yükselti farkı fazla iken ikinci alanda daha azdır.
 E) Birinci alanda gerçek alan ile izdüşümü alan arasında fark fazla iken ikinci alanda daha azdır.

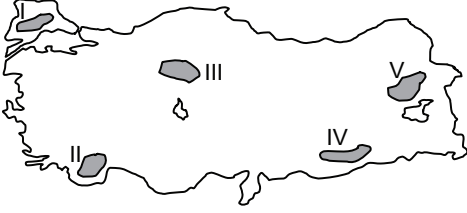
- 32.



Yukarıdaki Türkiye haritasında gösterilen alanlar içerisinde hangisinde buzul etkisinin diğerlerinden daha az olduğu söylenebilir?

- A) I
 B) II
 C) III
 D) IV
 E) V

33. Bir araştırma grubu gezi ve inceleme yaptığı bir alanda lapa, dolin, uvala, polye, obruk ve mağara gibi yer şekillerine oldukça fazla rastlamıştır.



Buna göre yukarıdaki bu araştırma grubu Türkiye haritasında gösterilen alanlar dan hangisinde araştırma ve inceleme yapıyor olabilir?

- A) I B) II C) III D) IV E) V

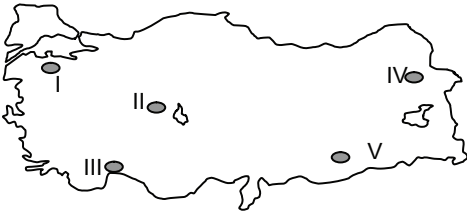
34. Bir merkezde gerçek sıcaklık ile indirgenmiş sıcaklık arasındaki fark yükselti ile doğru orantılıdır.



Buna göre yukarıdaki grafiklerde gerçek ve indirgenmiş sıcaklığı verilen şehir merkezleri aşağıdakilerden hangisi olabilir?

- | A | B |
|--------------|---------|
| A) İzmir | Erzurum |
| B) Muğla | Van |
| C) Kastamonu | Denizli |
| D) Rize | Antalya |
| E) Ankara | Muş |

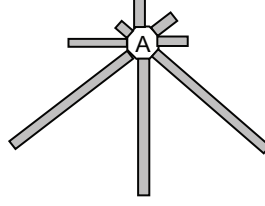
35. Bağıl nem maksimum nem ile ters mutlak nem ile doğru orantılıdır.



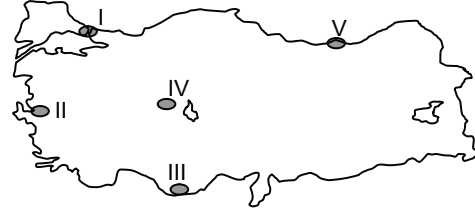
Buna göre yukarıdaki Türkiye haritasında Ocak ayında mutlak nemleri aynı olan alanlardan hangisinde bağıl nemin diğerlerinden daha fazla olacağı söylenebilir?

- A) I B) II C) III D) IV E) V

- 36.

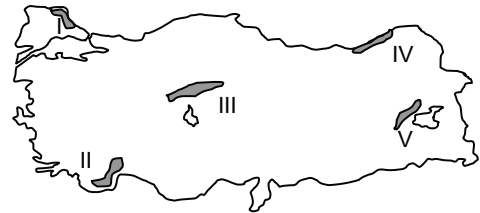


Yukarıdaki rüzgar yönleri grafiği verilen merkez aşağıdaki haritada gösterilenlerden hangisi olabilir?



- A) I B) II C) III D) IV E) V

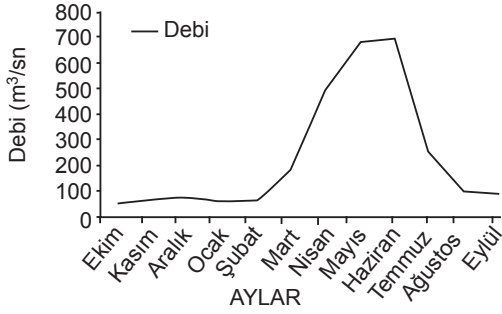
37. Bir bitki coğrafyası araştırma grubu gittikleri ortamda yaygın olarak ladin, kayın, sarıçam, köknar ve gürgen ağaçlarına rastlamaktadırlar.



Buna göre yukarıdaki bu araştırma grubu Türkiye haritasında gösterilen alanlardan hangisine gitmiş olabilir?

- A) I B) II C) III D) IV E) V

38. Aşağıdaki grafikte Çoruh Nehrinin ülke sınırlarımızı terk ettiği kesimdeki debi değişimi gösterilmiştir.



Çoruh Nehri'nin milli sınırlarımızı terk ettiği bölgedeki debi değişimi (Anon, 1996)

Buna göre aşağıdakilerden hangisi Çoruh Nehri ile ilgili olarak kesinlikle söylenebilecek doğru bir yargı değildir?

- A) Çoruh nehrinin tüm yatağındaki akım hızı her yerde fazladır.
 B) Nehrin yılın yaklaşık yarısındaki akımı 100 m³/sn den azdır.
 C) En yüksek akım değerleri ilkbahar sonu yaz başlarındadır.
 D) Yıllık akım farkı 500 m³/sn den fazla olabilmektedir.
 E) Nehrin debisinde kar erimelerinin etkisi büyüktür.

39. Bir ülkede nüfus yapısı, o ülkede yaşayan insanların sosyoekonomik özelliklerini kapsar.

Bu özelliğe göre, aşağıdakilerden hangisi Türkiye nüfusunun yapısal özellikleri içinde yer almaz?

- A) Nüfusun iş kollarına göre dağılımı
 B) Nüfusun eğitim seviyesine göre dağılımı
 C) Nüfusun cinsiyet durumuna göre dağılımı
 D) Yaş gruplarına göre nüfusun dağılımı
 E) Aritmetik nüfus yoğunluğu değerleri

40. Nüfus projeksiyonları geleceğe yönelik politika üretme noktasında büyük önem arz etmektedir. Mevcut nüfus eğilimlerinin tespit edilmesi ve bu eğilimlerin devamı halinde gelecekteki nüfus yapısı hakkında kestirimlerde bulunulması daha sağlıklı politikalar üretilmesini sağlamak için hazırlanır.

Buna göre, aşağıdakilerden hangisi Türkiye nüfus projeksiyonuna bağlı olarak gelecekte olması öngörülen bilgilerden biri değildir?

- A) Türkiye nüfusu 2023 yılına kadar artmaya devam edecektir.
 B) Türkiye nüfusu 2050 yılından itibaren azalmaya başlayacaktır.
 C) Türkiye'de yaşlı nüfus oranı artacaktır.
 D) Türkiye'de ortanca yaş düşecektir.
 E) Türkiye'nin dünya nüfusu sıralamasındaki yeri düşecektir.

41. Uluslararası su hukuku henüz oluşturulmamakla birlikte su konusunda bugüne kadar kabul edilen uluslararası sözleşmeler daha ziyade sınır aşan su kaynaklarının yönetimi ve korunmasına odaklanmıştır. Bu bağlamda sınır aşan suların bulunduğu ülkeler arasında suyun kullanımı ile ilgili bazı sorunlar ortaya çıkabilmektedir.

Buna göre aşağıdaki akarsulardan hangisinin Türkiye tarafından kullanım durumunda komşu ülkelere biriyile fazla sorun yaşanacağı söylenemez?

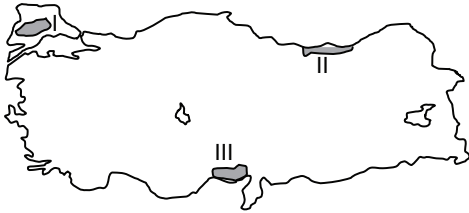
- A) Aras
 B) Fırat
 C) Çoruh
 D) Dicle
 E) Kura

42. Türkiye'deki tarım işletmelerinin yapısı küçük, parçalı ve dağınık arazileri şeklindedir. Bu yapının modern tarım işletmeciliğine göre yeniden düzenlenerek daha az zaman, işgücü ve sermaye kullanımının sağlanması gerekmektedir. Ayrıca üretim faktörlerinden en iyi biçimde yararlanarak tarımsal üretimi ve tarım işletmelerinin verimliliğini artırmak ve kırsal kesimdeki nüfusun hayat standartlarını yükseltmek amaçlandığı için tarım alanlarında arazi toplulaştırma projesi yürütülmektedir.

Buna göre aşağıdakilerden hangisi arazi toplulaştırması projesinin hedeflerinden biri değildir?

- A) İşlenebilir arazi miktarını artırmak
- B) Kullanılmayan küçük parçalı arazileri tarıma kazandırmak
- C) Her parseli yol veya sulama ağı ile irtibatlandırmak
- D) Ulaşımdan dolayı meydana gelen kayıpları önlemek ve yakıt tasarrufu sağlamak
- E) Türkiye'deki tarımsal arazilerde ürün çeşidini belirlemek

43.



Yukarıdaki Türkiye haritasında yoğun olarak üretimi gerçekleştirilen ürünler aşağıdakilerden hangisi olabilir?

- | I | II | III |
|-------------|---------|-----------|
| A) Arpa | Çay | Muz |
| B) Buğday | Fındık | Pamuk |
| C) Pirinç | Mısır | Gül |
| D) Ayçiçeği | Fındık | Mısır |
| E) Sebze | Kenevir | Turunçgil |

44. **Aşağıdaki seçeneklerden hangisinde bir maden ve yoğun olarak çıkarıldığı yer eşleştirmesi doğru ve değildir?**

- A) Bakır → Artvin
- B) Boksit → Balıkesir
- C) Civa → İzmir
- D) Demir → Malatya
- E) Taşkömürü → Zonguldak

45. Türkiye'de iç ticaret son yıllarda oldukça gelişmiştir.

Buna göre aşağıdaki hangi iki il arasındaki iç ticaret hacminin diğerlerine göre daha düşük olacağı söylenebilir?

- A) Aydın → İzmir
- B) Bayburt → Gümüşhane
- C) Gaziantep → Zonguldak
- D) Ankara → İstanbul
- E) Konya → Kırşehir

46. I. Resmi dil Türkçe'dir.
 II. Devletin dini İslam'dır.
 III. Değişmez maddeler
 IV. Başlangıçtan itibaren laik olması
 V. Bağımsız Mahkemeler

Yukarıda verilen özelliklerden hangileri 1876 Kanunnamesi ve 1924 Anayasası'nda yer alan ortak özelliklerdir?

- A) I ve III
- B) I, III ve IV
- C) III, IV ve V
- D) I, II ve III
- E) I, II ve V

47. Kişi hakkında gaiplik kararının alınması aşağıdakilerden hangisinin yetkisi dahilindedir?

- A) Mahkemeler
- B) Nüfus Müdürlükleri
- C) Kaymakamlık
- D) Valilik
- E) Bölge İdare Mahkemeleri

48. Türk Medeni Kanunu'na göre aşağıdakilerden hangisi ayırt etme gücünü etkileyen sebeplerden değildir?

- A) Yaş küçüklüğü
- B) Hükümlülük durumu
- C) Akıl hastalığı
- D) Sarhoşluk
- E) Akıl zayıflığı

49. I. Özürlüler
II. Kadınlar
III. Yaşlılar
IV. Emekliler
V. Çocuklar

1982 Anayasası'nda 2010 değişikliğine göre yukarıda verilenlerden hangileri için alınacak tedbirler eşitlik ilkesini bozmaz?

- A) I, III VE IV
- B) I, II, III, IV ve V
- C) II ve V
- D) III, IV ve V
- E) I, III ve V

50. 1982 Anayasası'na göre Anayasa Mahkemesi tarafından aşağıda verilenlerden hangisi için yalnızca şekil açısından denetim yapılabilir?

- A) TBMM İçtüzüğü
- B) Anayasa Değişikliği
- C) Kanun
- D) Kanun Hükmünde Kararname
- E) Yetki Kanunu

51. Kamu davası açma görev ve yetkisi aşağıdakilerden hangisine aittir?

- A) Ağır Ceza Mahkemeleri
- B) Emniyet Müdürlükleri
- C) Cumhuriyet Savcılığı
- D) Kamu Denetçileri
- E) İl İdare Kurulları

52. Aşağıdakilerden hangisi kanun, kanun hükmünde kararname, TBMM İçtüzüğü'nün anayasa aykırılığı iddiası ile Anayasa Mahkemesi'ne dava açma yetkisine sahip değildir?

- A) Ana Muhalefet Partisi
- B) Cumhurbaşkanı
- C) Koalisyon hükümetlerinde iktidarın büyük ortağı
- D) TBMM üye tamsayısının 1/5'i
- E) Yargıtay Cumhuriyet Başsavcısı

53. Aşağıda verilen kurumlardan hangisine Cumhurbaşkanlığı tarafından üye seçilmesi söz konusu değildir?
- A) Anayasa Mahkemesi
B) Danıştay
C) Askeri Yüksek İdare Mahkemesi
D) Yüksek Seçim Kurulu
E) Devlet Denetleme Kurulu
54. I. Valilik
II. Kaymakamlık
III. Mahalle Muhtarlıkları
IV. Bakanlıklar
V. Köy Muhtarlıkları
- Yukarıda verilen idari birimlerden hangisi yada hangilerinin merkezi idare teşkilatı içerisinde yer aldığı söylenemez?**
- A) Yalnız III
B) III ve IV
C) I, II ve IV
D) Yalnız V
E) Yalnız IV
55. Aşağıdakilerden hangisi Birleşmiş Milletler Teşkilatı'nı oluşturan organlardan birisi değildir?
- A) Adalet Divanı
B) Güvenlik Konseyi
C) Genel Sekreterlik
D) Uluslararası Para Fonu
E) Vesayet Konseyi
56. G-20 ülkelerinin 2013 yılı dönem başkanlığını aşağıdaki ülkelerden hangisi yürütmektedir?
- A) Japonya
B) Kanada
C) Hindistan
D) Meksika
E) Rusya
57. 2013 Antalya 50. Altın Portakal Festivalinde en iyi film ödülüne layık görülen filmler aşağıdakilerden hangisidir?
- A) Sen Aydınlatırsın Geceyi
B) Babamın Sesi – Bir Zamanlar Anadolu'da
C) Cennetten Kovulmak – Kusursuzlar
D) Çoğunluk – Güzel Günler Göreceğiz
E) Entelköy Efeköy'e Karşı
58. 2012 yılında TBMM tarafından seçilen ve halen görevini devam ettirmekte olan Türkiye Cumhuriyeti'nin ilk ombudsmanı olarak Kamu Başdenetçiliği görevini aşağıda verilen kişilerden hangisi yürütmektedir?
- A) Sadi Güven
B) Mehmet Nihat Ömeroğlu
C) Ali Alkan
D) Haşim Kılıç
E) Cemil Çiçek
59. Türkiye'de tasarlanarak, Türkiye'de tamamı üretilen ve Aralık 2012'de uzaya fırlatılan yerli yapımı uydular aşağıdakilerden hangisidir?
- A) Türksat 1B
B) Heybeliada
C) Göktürk
D) RASAT
E) Türksat 1C
60. 21. Dünya Futbol Şampiyonası (2018) aşağıdaki ülkelerden hangisinde düzenlenecektir?
- A) Rusya
B) Katar
C) Brezilya
D) Birleşik Arap Emirlikleri
E) Uruguay

TEST BİTTİ.

LÜTFEN CEVAPLARINIZI KONTROL EDİNİZ.