

# KPSS

KAMU PERSONELİ SEÇME SINAVI

LİSANS

GENEL YETENEK

GENEL KÜLTÜR

## DENEME SINAVI

1

1

D  
E  
N  
E  
M  
E

**DİKKAT!**  
SINAVA BAŞLAMADAN ÖNCE AŞAĞIDAKİ UYARILARI MUTLAKA OKUYUNUZ.

- Adınızı, soyadınızı, T.C. Kimlik Numaranızı ve kurum kodunu optik forma mutlaka işaretleyiniz. Kurum kodu ve T.C kimlik numarası karnenizin oluşturulabilmesi için özellikle gereklidir.
- Genel Yetenek - Genel Kültür Testi için verilen toplam cevaplama süresi 120 dakikadır (2 saat).
- Bu testte 120 soru vardır.
- Cevaplamaya istediğiniz sorudan başlayabilirsiniz. Her soru ile ilgili cevabınızı, cevap kâğıdında o soru için ayrılmış olan yere işaretlemeyi unutmayınız.
- Sınav sonucunuzu [www.yaklasimkariyer.com](http://www.yaklasimkariyer.com) adresinden TC kimlik numaranızı girerek öğrenebilirsiniz.
- Türkiye Geneli Deneme sınavına ait **cevap anahtarı ve soruların çözümleri** sınavın uygulandığı son gün [www.yaklasimkitap.com](http://www.yaklasimkitap.com) adresinde yayınlanacaktır.
- Bu test puanlanırken testteki doğru cevaplarınızın sayısından yanlış cevaplarınızın sayısının dörtte biri düşülecek ve kalan sayı testle ilgili ham puanınız olacaktır. Bu nedenle, hakkında hiçbir fikriniz olmadığı soruları boş bırakınız. Ancak, soruda verilen seçeneklerden birkaçını eleyebiliyorsanız kalanlar arasından doğru cevabı kestirmeye çalışmanız yararınıza olabilir.

*Bu testlerin her hakkı saklıdır. Hangi amaçla olursa olsun, testlerin tamamının veya bir kısmının yayınevimizin yazılı izni olmadan kopya edilmesi, herhangi bir yolla çoğaltılması, yayımlanması ya da kullanılması yasaktır. Bu yasağa uymayanlar gerekli cezai sorumluluğu ve testlerin hazırlanmasındaki mali külfeti peşinen kabullenmiş sayılır.*

---

**Yaklaşım Kariyer Yayıncılık ve Dağıtım Ltd.Şti**  
GMK Bulvarı Fevzi Çakmak 2 Sk. No: 30/10 Kızılay-ANKARA  
**Tel:** (0312) 229 84 94  
**Web:** [www.yaklasimkitap.com](http://www.yaklasimkitap.com)  
**e-posta:** [bilgi@yaklasimkitap.com](mailto:bilgi@yaklasimkitap.com)

---

**DİKKAT: BU BÖLÜMDE YANITLAYACAĞINIZ SORU SAYISI 60'TIR.**

1-30 SORU : "Türkçeyi Kullanma Gücü"

30-60 SORU : "Matematiksel İlişkilerden Yararlanma Gücü" ile ilgilidir.

Bu bölümdeki sorularla ilgili cevaplarınızı, cevap kağıdınızdaki "**GENEL YETENEK**" bölümüne işaretleyiniz.

1. Yıllarca televizyonda boy göstermiş, halkın biricigi olmuş bir şov insanıydı o. Hatta bazılarının onun programlarını ipte çektiğine bile şahit olmuşum. Ama bir gün bir şey oldu ve zülfü yâre dokundu. Sonrası tabii ki puf...

**Bu parçada geçen "zülfü yâre dokunmak" sözüyle anlatılmak istenen aşağıdakilerden hangisidir?**

- A) Duygularına engel olamadığı için çevresine zarar vermek  
B) Kırılması doğru olmayan kişileri gücendirecek söz söylemek  
C) Tasvip edilmeyen davranışların doğruluğunu iddia etmek  
D) Gerçekleri değiştirerek halka sunmaya çalışmak  
E) Kurduğu güzel cümlelerle çevresindekilerin gönlünü almak

3. I. Almanya'nın Bavyera eyaletinin batısında bulunan Solnhofen bölgesinde günümüzden yaklaşık 155 milyon yıl önce oluşmuş kireçtaşı kayalıkları bulunuyor.  
II. Öyle ki kimi fosillerin ait olduğu canlıların hemen her ayrıntısı kolaylıkla görülebiliyor.  
III. Bunlar, günümüze kadar bulunmuş fosiller arasında en iyi korunmuş olanlar.  
IV. Bu kayalıklarda böceklerden balıklara ve bitkilere kadar çok sayıda canlıya ait fosiller var.  
V. Bu durum bilim insanlarının geçmişte yaşamış canlılara ilişkin birçok bilgi edinmesini sağlıyor.

**Yukarıdaki numaralanmış cümlelerle anlamlı bir bütün oluşturulmak istendiğinde hangilerinin yer değiştirmesi gerekir?**

- A) I. ve II.                      B) II. ve III.                      C) II. ve IV.  
D) III. ve V.                      E) IV. ve V.

www.yaklasimkitap.com

2. Bir söyleşisinde "Yurt içinde ve dışında üniversite hocası olarak ---- gençlerle birlikte yaşadım ve hâlâ da yaşıyorum. Onlarla sürekli diyalog içinde olmam, çalışmalarımı ----." diyen Zehra İpşiroğlu "*Gençlerle Diyalog*"da da okuru "kendini keşfetmesine yol açabilir" umudunu yitirmeksizin "düşünsel bir yolculuğa" ----.

**Bu parçada boş bırakılan yerlere sırasıyla aşağıdakilerden hangileri getirilmelidir?**

- A) özellikle - zorlaştırdı - heveslendiriyor  
B) yıllarca - yönlendirdi - çıkarıyor  
C) bilerek - biçimlendirdi - iletiyor  
D) fark etmeden - hızlandırdı - hazırlıyor  
E) gönüllü olarak - anlamlandırdı - götürüyor

4. I. Evsel, endüstriyel, tarımsal aktivitelerden kaynaklanan kirlenmeler ilk olarak akarsulara karışmakta ve yine akarsular yoluyla göllere ve denizlere ulaşmaktadır.  
II. Akarsulara boşaltılan bu atıklar öncelikle akarsuda yaşamını sürdüren canlıları olumsuz yönde etkilemekte, bu olumsuz etki besin zinciri yolu ile insana kadar ulaşmaktadır.  
III. Doğal kaynakların sürekli izlenmesi ve gerekli önlemlerin alınabilmesi için sürekli olarak çalışmaların yapılması bu nedenle çok önemlidir.  
IV. Baraj gölleri sürekli alıcı ortam özelliği gösterirler.  
V. Bir başka deyişle çevre kirliliğinden birinci derecede etkilenirler.

**Yukarıdaki numaralanmış cümleler anlamlı bir bütün oluşturacak biçimde sıralandığında, hangisi baştan üçüncü olur?**

- A) I.                      B) II.                      C) III.                      D) IV.                      E) V.

5. Bodrum'un bugünlere gelmesinde büyük emeği olan Cevat Şakir Kabaağaçlı yani Halikarnas Balıkcısı'nın müzesi yakın zamanda kapatılmış ancak müzede sergilenen özel eşyalar, giysiler ve el yazması mektuplar bugün Bodrum Deniz Müzesi içindeki Cevat Şakir Kabaağaçlı Koleksiyonu bölümünde sergilenmeye devam etmektedir.

**Bu cümleden kesin olarak ulaşılabilecek olan yargı aşağıdakilerden hangisidir?**

- A) Cevat Şakir Kabaağaçlı Bodrum'da yaşamış bir edebiyatçıdır.
- B) Cevat Şakir Kabaağaçlı, Halikarnas Balıkcısı olarak da bilinir.
- C) Bodrum Deniz Müzesinde farklı yazarların özel eşyaları vardır.
- D) Cevat Şakir Kabaağaçlı'nın değeri daha sonraları anlaşılmıştır.
- E) Bodrum'da kapatılan tek müze Cevat Şakir Kabaağaçlı'nın müzesidir.

6. (I) İkinci Yeniciler, şiirin en önemli öğelerinden biri olarak imgeyi görmüşler ve Garipçilerin şiirden kovduğu imgeye kapılarını sonuna kadar açmışlardır. (II) En önemli sanatçıları olarak bilinen Ece Ayhan, Turgut Uyar ve Cemal Süreya dönemine damga vuran ve klasikleşen eserler kaleme almışlardır. (III) Şiirlerinin en belirgin özelliklerinden biri olan kapalı anlatım ve soyutlamayı, büyük oranda imgenin yardımıyla gerçekleştirmişlerdir. (IV) Garipçilerin ve Toplumcu Gerçekçilerin tersine, şiirin bir şey anlatmak için yazılmadığını savunmuşlar ve şiiri bir imge sanatı olarak kabul etmişlerdir. (V) Onlara göre anlamdan uzaklaşan şiir, ondan beklenen "çoşkuyu ve etkiyi" imgeyle sağlayacaktır.

**Bu parçadaki numaralanmış cümlelerden hangisi düşüncenin akışını bozmaktadır?**

- A) I.      B) II.      C) III.      D) IV.      E) V.

7. (I) İngiltere ve İrlanda'da yayımlanan kitaplar arasında beş kategoride seçilen birer kitap, her yıl Costa Kitap Ödülü'ne layık görülüyor. (II) Costa, çocuk kitaplarını yetişkin kitaplarına eşdeğer tutan tek kitap ödülü olmakla övünüyor ve ödüller 1971'den beri dağıtılıyor. (III) Ödül kazanan yazarlar 5'er bin pound alırken Yılın Kitabı Ödülü'nün sahibine ayrıca 30 bin pound veriliyor. (IV) Her kategori için kurulan ayrı jüriler, başvuruları değerlendiriyor; ocak ayının ilk günlerinde de her kategorinin kazananı açıklanıyor. (V) Ocak ayının son günlerinde ise kazanan beş kitap arasından biri, Yılın Kitabı seçilerek öne çıkarılıyor.

**Bu parçadaki numaralanmış cümlelerle ilgili olarak aşağıda verilenlerden hangisi yanlıştır?**

- A) I. cümlede, beş farklı kitabın Costa Kitap Ödülü'nü hak ettiğine değinilmiştir.
- B) II. cümlede, Costa Kitap Ödülü'nün çocuk kitaplarını ciddi anlamda önemseydiğine yer verilmiştir.
- C) III. cümlede, Yılın Kitabı Ödülü'nü alan yazarın 35 bin pound ödül aldığından söz edilmiştir.
- D) IV. cümlede, farklı kategorilerin farklı jürilerinin olduğundan bahsedilmiştir.
- E) V. cümlede, beş farklı kitabın da Yılın Kitabı seçildiğinden söz edilmiştir.

8. Sana şiirler okuyacağım  
Güneşler doğacak yalnızlığımdan  
Bir de ışık saçacağım  
Büyük aydınlığımdan

**Bu dizelerde aşağıdaki ses olaylarından hangisi yoktur?**

- A) Ünlü değişimi
- B) Ünsüz yumuşaması
- C) Kaynaştırma ünsüzü
- D) Ünsüz benzeşmesi
- E) Ünlü düşmesi

9. Aşağıdaki cümlelerin hangisinde yazım **yanlış** vardır?

- A) Zafer Çarşısı önünde yer alan Zafer Abidesi'ne her yıl bu gün çelenk bırakılır.  
 B) Bu konuda Batı medeniyetinin Doğu mistizminden etkilendiğini düşünüyorum.  
 C) Dün akşam Kaymakam Erol Bey'in evinde önemli davetilere akşam yemeği verildi.  
 D) Sonbahar döneminde Ege ve Marmara bölgesinde kuvvetli sağanak yağışlar bekleniyormuş.  
 E) Arkeologlar Antik Çağ'ın el değmemiş kalıntılarını gün yüzüne çıkarmak için epeyce uğraştılar.

10. Toplumcu eleştirmenlerimiz , özle biçimin parçalanmaz bir bütün olduğunu söyleseler de , eserinin sanatsal yönlerini ortaya koymaktan çok , gerçek karşısındaki tutumunu , söylediklerinin gerçeğe örtüşüp örtüşmediğini , bütünlük içinde verilip verilmediğini irdelerler.

**Bu parçadaki numaralanmış virgüllerden hangisi yanlış kullanılmıştır?**

- A) I. B) II. C) III. D) IV. E) V.

11. İşlenen konu ve son derece gerçekçi bir bakış açısıyla tüm detayları en ince ayrıntıya kadar gözler önüne seren anlatımıyla Madam Bovary, 19. yy.'ın en başarılı romanlarından birisidir.

**Bu cümle ile ilgili olarak aşağıda verilenlerden hangisi yanlıştır?**

- A) Yükleme bir söz grubundan oluşmaktadır.  
 B) Dönüşlülük zamiri bulunmaktadır.  
 C) Anlamca ve biçimce olumlu bir cümledir.  
 D) Sıfat-fiile yer verilmiştir.  
 E) Belirtisiz ad tamlaması kullanılmıştır.

12. Amerikan işgali sırasında kaybolan tarihî eserleri yeniden kazanabilmek için kaçakçılarla gizli görüşmeler yürüten Irak'taki Süleymaniye Müzesi, bir kaçakçıdan 80 kil tablet aldı.

**Bu cümle ile ilgili olarak aşağıdakilerden hangisi söylenemez?**

- A) Edat kullanılmıştır.  
 B) Çekimli eylem vardır.  
 C) Niteleme sıfatı bulunmaktadır.  
 D) Girişik birleşik cümledir.  
 E) Bağlaç, nesnelere bağlamıştır.

13. Altı ayrı kültür merkezinde yıl boyunca gerçekleştirilecek

I II  
 birbirinden farklı etkinlikler, gösteriler, paneller, söyleşiler  
 III  
 ve geleneksel eğitimlerle Eyüp, kültür ve sanatın başkenti  
 IV  
 olacak.  
 V

**Bu parçadaki altı çizili sözcüklerle ilgili olarak aşağıdaki ifadelerden hangisi yanlıştır?**

- A) I. sözcük, bulunma durum eki almıştır.  
 B) II. sözcük, sıfat-fil eki almıştır.  
 C) III. sözcük, hem yapım hem çekim eki almıştır.  
 D) IV. sözcük, tamlayan eki almıştır.  
 E) V. sözcük, çatı eki almıştır.

14. (I) Usta yazarın kaleminden çıkan dünyamıza kedi gözüyle de bakan, (II) ince bir mizahla yazılan bu kitap (III) insan türünün değerlerini (IV) derinlemesine bir şekilde (V) sorguluyor (VI).

**Bu cümledeki numaralanmış yerlerin hangileri arasında zarf tümlecine yer verilmiştir?**

- A) I. ve II. C) II. ve III. D) III. ve IV.  
 D) IV. ve V. E) V. ve VI.

15. Aşağıdaki cümlelerin hangisinde anlatım bozukluğu vardır?

- A) "Altın Elbiseli Adam" zırhı, MÖ 5. yy.da yaşamış Alp Er Tunga'ya aittir.
- B) "Göktürk Kitabeleri" ile "Nutuk" arasındaki en önemli özellik, her ikisinin de geleceğe seslenmesidir.
- C) Dilin işlevleri şunlardır: göndergesel, heyecana bağlı, şiirsel, alıcıyı harekete geçirme, dil ötesi, kanalı kontrol.
- D) Millî Eğitim Bakanlığı, eğitim-öğretim sürecine teknolojiyi de sokmayı planlıyor.
- E) Bu üniversitenin akademisyenleri, eski tarihî eserler hakkında derinlemesine inceleme yapmış önemli isimlerden oluşmaktadır.

16. Suyun içine dalma özellikleri olmadığından martılar, en kötü koşullarda bile denizin üzerinde yüzerek dinlenirler. Gaga yapıları orta bölüme kadar düz inerken uç kısma doğru kanca şeklini alır. Kuyrukları genellikle çatalı, ayakların ön parmakları perdeli, arka parmakları ise perdesizdir. Denizin yüzeyinden ve kıyılarından beslenirler. Oldukça iştahlıdır. Yedikleri arasında plastik olursa sürekli tokluk hissi duyacaklarından ölme kadar giden bir süreç yaşarlar.

Bu parçanın anlatımı ile ilgili olarak aşağıdakilerden hangisi söylenemez?

- A) Bilgilendirici bir anlatım vardır.
- B) Sayıp dökmelerden yararlanılmıştır.
- C) Koşul anlam ilişkisi söz konusudur.
- D) Betimleme yapılmıştır.
- E) Gerçek anlamlı sözcükler kullanılmıştır.

17. (I) İsveç'teki Gothenburg Üniversitesinden araştırmacılar, Finlandiya'nın Kokkola kentinde günümüzden 5000 yıl öncesinden kalan buluntular üzerinde çalışıyor. (II) Araştırmacılar bu dönemde o bölgede yaşamış olan insanların beslenme biçimini de araştırıyor. (III) İlk araştırma sonuçları, bölgede arpa ve buğday yetiştirildiğini ortaya koymuş. (IV) Kazı alanında gübrede bulunan bir maddeye de rastlanmış. (V) Bu bulgu o dönemde bile insanların tarımda gübre kullandığını düşündürüyor.

Bu parçadaki numaralanmış cümlelerin hangisinden sonra düşüncenin akışına göre "Ancak bunun kanıtlanması için daha fazla araştırma yapılması gerekiyor." cümlesi getirilebilir?

- A) I. B) II. C) III. D) IV. E) V.

18. Şehirler ruhlarıyla yaşar, şehirler zamanı biriktirir, şehirler tarihin ilk şahitleridir ve kendi tarihlerinde geçmiş olan hiçbir şeyi unutmaz. Onu kendi toprağına harç eder. Kendi duvarına tuğla yapar, onu daima yaşatır, anar. İstanbul için Ebû Eyyûb el-Ensâri tam bir hatıradır. Konstantinopolis olduğu zamanda bile Ebû Eyyûb el-Ensâri'nin İstanbul'a dair bir anlamı vardır. İstanbul'un, Konstantinopolis'in bir azizidir o. Bizanslıların Ayazma gibi ziyaret ettikleri bir azizdir. Fatih İstanbul'u fethederken ruhaniyetiyle ordunun arasındadır o. Sekiz yüz küsur yıl sonra adeta dirilmiş, tekrar kılıç sallamıştır. Çünkü o, yeniçerilerin elindeki kılıcın ta kendisidir. Çünkü o, surlara bayrağı diken Ulubatlı Hasan'ın heyecanıdır.

Bu parçada aşağıdakilerin hangisinden söz edilmiştir?

- A) Ebû Eyyûb el-Ensâri'nin Fatih'in ordusuna manevi güç verdiği
- B) Ayazma'nın Bizanslılar için değerli bir isim olduğu
- C) Ebû Eyyûb el-Ensâri'nin İstanbul'u fethetmeye geldiği
- D) Ebû Eyyûb el-Ensâri'nin İstanbul için önem arz ettiği
- E) İstanbul surlarına bayrağı Ulubatlı Hasan'ın diktiği

19. Çin'de bir inşaat alanında bulunan fosillerin daha önce bilinmeyen bir dinazor türüne ait olduğu anlaşıldı. Bilimsel adı "qianzhousaurus sinensis" olarak belirlenen bu türe, uzun bir burun ve ağız yapısına sahip olduğundan "pinokyo rex" adı takıldı. Pinokyo rex, "yrannosauridae" ailesinden yani ünlü etçil T.rex akrabası. T.rex günümüzden 150 milyon ile 65 milyon yıl önce yaşamış yırtıcı bir dinazor türü. Pinokyo rex'in fosili 66 milyon yıl öncesinden kalmış. Fosil, iri başı ve sivri dişleriyle T.rex'e benzese de daha uzun bir burun ve ağız yapısına sahip. Pinokyo rex'in bu ağız yapısı ve sivri dişleriyle avını T.rex'in yapabildiğinden daha küçük parçalara ayırabildiği düşünülüyor.

Bu parçadan aşağıdakilerin hangisine kesin olarak ulaşılabılır?

- A) Etobur dinozorların sivri dişleri vardır.
- B) T.rex, Çin bölgesinde yaşamış bir dinozordur.
- C) Pinokyo rex, T.rex'e verilmiş diğer isimdir.
- D) Sözü edilen fosil dinazor, T.rex'in akrabasıdır.
- E) Pinokyo rex, T.rex'in atalarındandır.

## 20. - 21. SORULARI, VERİLEN PARÇAYA GÖRE CEVAPLAYINIZ.

(I) Millî parka adını veren Gelibolu, Helen dilinde “güzel kent” anlamında kullanılan Kallipolis’ten gelir. (II) Kallipolis ise yarımadaanın en önemli yerleşmesi olan Gelibolu kentinin tarihteki adıdır. (III) Kentin ne zaman ve kimler tarafından kurulduğu tam olarak bilinmemekle birlikte, MÖ V. yüzyılda bir Roma kale yerleşmesi şeklinde ortaya çıktığı kabul edilmektedir. (IV) Ancak yarımada üzerinde yerleşme tarihi çok daha eskiye, Traklar dönemine kadar gider. (V) Nitekim yörede yapılan yüzey araştırmalarında MÖ 3000 yıllarına ait bulgular elde edilmiştir.

20. Bu parçadaki numaralanmış cümlelerle ilgili olarak aşağıdakilerden hangisi söylenemez?

- A) I. cümlede, Kallipolis sözcüğünün ne anlama geldiğinden bahsedilmiştir.  
 B) II. cümlede, Kallipolis adının Yunancadan geldiğine değinilmiştir.  
 C) III. cümlede, gerçekliği tam olarak bilinmeyen bir durum dile getirilmiştir.  
 D) IV. cümlede, Trakların Gelibolu’da yaşadıklarından söz edilmiştir.  
 E) V. cümlede, çok eskilere dayanan arkeolojik veriler elde edildiğinden bahsedilmiştir.

21. Bu parçadaki altı çizili sözler yerine aşağıdakilerin hangisi getirilemez?

- A) varır      B) yaygın görüştür      C) gerilere  
 D) tartışılır      E) ismidir

## 22. - 23. SORULARI, VERİLEN PARÇAYA GÖRE CEVAPLAYINIZ.

Aklıma ilk önce Charles Dickens geldi. Bölüm bölüm basılıp satılan romanı *Mister Pickwick’in Serüvenleri*’nden şaka değil, tam 40 milyon pound kazanmıştı. Borç yüzünden hapis yatan ailesini kurtarmak için yazarlık yeteneğini ticari zekâsına katarak edebiyat tarihine damgasını vurmuş en önemli yazardı. Sonra bir de Balzac vardı tabii. Onun kitaplarının hemen hepsi ekonomik kaygılarla eve ve hayata para yetiştirmek için kaleme alınmış başyapıtlardı. Peki, şimdi öylesine ortaya sormak isterim, şu geçim derdi dediğimiz şey olmasaydı yazarların başında, hayatın yükünü sırtlanmaktan bir an vazgeçip, pamuklar içinde yaşayıp yaşatılsalardı eğer dilleri, kalemleri, edebiyat tarihi acaba nasıl etkilenirdi bundan?

## 22. Bu parçada aşağıdakilerden hangisi vurgulanmaktadır?

- A) Yazarın başarısı çok çalışmasına bağlıdır.  
 B) Zorda kalmak başarıyı artırır.  
 C) Başyapıt oluşturmak kolay bir iş değildir.  
 D) Yazarın okunurluğu evrensel oluşuyla ilgilidir.  
 E) Geçim derdi, yazarın başarısını düşürür.

23. Bu parçada aşağıdakilerden hangisine değginilmemiştir?

- A) Charles Dickens’ın ticari bir yeteneğinin olduğuna  
 B) Önemli yazarlardan bazılarının maddi sıkıntı yaşadığına  
 C) Charles Dickens’ın tüm yapıtlarının başyapıt niteliğinde olduğuna  
 D) Charles Dickens’ın ailesinin borç yüzünden sıkıntı yaşadığına  
 E) *Mister Pickwick’in Serüvenleri*’nin parça parça oluşturulmuş olduğuna

## 24. - 26. SORULARI, VERİLEN PARÇAYA GÖRE CEVAPLAYINIZ.

(I) Çöl tozları canlıların yaşamsal etkinlikleri için gerekli olan demir, kalsiyum, fosfor alüminyum gibi elementler bakımından zengindir. (II) Ancak bu elementlerden demir, canlıların kullanabileceği hâlde değildir. (III) Çöl tozlarında bulunan mantarlar, demiri canlıların kullanabileceği hâle getirir. (IV) Kullanılabilir hâle gelen demiri içeren tozlar yağmurlarla yeryüzüne iner. (V) Bu demir, yeryüzündeki bitkilerin gelişimini olumlu yönde etkiler. (VI) Denizlerdeki kullanılabilir demir miktarı arttığında buralarda yaşayan bitkisel planktonların sayısı hızla artar. (VII) Bitkisel planktonlar birçok deniz canlısının besin kaynağıdır. (VIII) Bu nedenle bitkisel planktonların sayıları arttığında onlarla beslenen deniz canlılarının sayıları da artar.

24. Bu parça iki ayrı paragrafa ayrılmak istenirse ikinci paragraf numaralanmış cümlelerin hangisiyle başlar?

- A) II. B) III. C) IV. D) VI. E) VII.

25. Bu parçada

- I. Deniz canlılarının sayılarının artma koşullarının ne olduğu,
  - II. Çöl tozlarında en çok demir elementinin bulunduğu,
  - III. Çöl tozlarındaki demirin yağmurla yeryüzüne indiği
- belirlemelerinden hangilerine değnilmemiştir?

- A) Yalnız I B) Yalnız II C) Yalnız III  
D) I ve II E) II ve III

26. Bu parçadaki numaralanmış cümlelerin hangisinde sayıp dökmelemlerden yararlanılmıştır?

- A) I. B) II. C) III. D) IV. E) V.

## 27. - 30. SORU AŞAĞIDA VERİLEN BİLGİLERE GÖRE BİRBİRİNDEN BAĞIMSIZ OLARAK CEVAPLAYINIZ.

Ayhan, Banu, Can, Dilek, Ergün ve Fırat bir koridorda soldan sağa doğru numaralandırılmış altı odada çalışmaktadırlar. Bu kişilerin hangi odada çalıştıklarıyla ilgili aşağıdaki bilgiler verilmiştir.

- Her odada yalnız bir kişi çalışmaktadır.
- Dilek 5 numaralı odada çalışmaktadır.
- Ayhan'ın çalıştığı odanın numarası Can'ın çalıştığı oda numarasından bir fazladır.
- Ergün'ün çalıştığı oda numarası Banu'nun çalıştığı odanın numarasından bir küçüktür.

27. Bu bilgilere göre, aşağıdakilerden hangisi kesin olarak yanlıştır?

- A) Can 1 numaralı odada çalışmaktadır.  
B) Fırat 6 numaralı odada çalışmaktadır.  
C) Banu 3 numaralı odada çalışmaktadır.  
D) Banu'nun çalıştığı odanın numarası Can'ın çalıştığı odanın numarasından büyüktür.  
E) Ayhan'ın çalıştığı odanın numarası Banu'nun çalıştığı odanın numarasından küçüktür.

28. Bu bilgilere göre, aşağıdakilerden hangisi kesin olarak doğrudur?

- A) Ayhan 1 numaralı odada çalışmaktadır.  
B) Can 3 numaralı odada çalışmaktadır.  
C) Fırat 2 numaralı odada çalışmaktadır.  
D) Ergün'ün çalıştığı odanın numarası Can'ın çalıştığı odanın numarasından küçüktür.  
E) Fırat'ın çalıştığı odanın numarası Banu'nun çalıştığı odanın numarasından büyüktür.



29. Bu bilgilere göre, 4 numaralı odada çalışıyor olma olasılığı olan kişiler aşağıdakilerden hangisinde birlikte verilmiştir?

- A) Ayhan, Can                      B) Banu, Ayhan  
C) Ergün, Can                      D) Banu, Ergün, Fırat  
E) Banu, Can, Fırat

30. Bu bilgilere göre, aşağıdakilerden hangisinin çalıştığı oda numarası kesin olarak bilinmektedir?

- A) Fırat                      B) Banu                      C) Can  
D) Ergün                      E) Ayhan

31. 
$$\frac{6 \cdot \left( \frac{1}{2} + \frac{1}{3} \right)}{3 - \frac{1}{2}}$$

işleminin sonucu kaçtır?

- A) 1                      B)  $\frac{3}{2}$                       C) 2                      D)  $\frac{5}{2}$                       E) 3

32. a, b ve c tam sayılardır.

- $-3 \leq a < 5$   
 $-7 < b < 3$   
 $-4 \leq c < 6$

olduğuna göre,  $4a - 3b + c$  ifadesinin alabileceği en büyük değer kaçtır?

- A) 33                      B) 35                      C) 38                      D) 39                      E) 46

33. Öğretmeni Halil'den 45 sayfalık bir kitabın sayfa numaralarını toplamasını istiyor. Halil yanlışlıkla ardışık 7 sayfa toplamadan atlayıp sonucu 790 buluyor.

Buna göre, Halil'in okumadan atladığı sayfa numaralarından en küçüğü kaçtır?

- A) 31                      B) 32                      C) 33                      D) 34                      E) 35

34. İki basamaklı AB sayısında A rakamı 5 arttırılıp, B rakamı 2 azaltıldığında elde edilen sayı AB sayısının 3 katının 6 eksikğine eşit oluyor.

Buna göre, A.B çarpımı kaçtır?

- A) 8                      B) 9                      C) 10                      D) 12                      E) 14

35.  $A = 15! + 16!$

olduğuna göre A sayısı aşağıdakilerden hangisine tam olarak bölünemez?

- A) 39                      B) 44                      C) 51                      D) 57                      E) 65

36.  $14^{x-1} = 2^{x+1}$

olduğuna göre,  $7^{x-2}$  ifadesinin eşiti aşağıdakilerden hangisidir?

- A)  $\frac{2}{7}$                       B)  $\frac{4}{7}$                       C) 1                      D)  $\frac{7}{4}$                       E)  $\frac{7}{2}$

37. Farkları 57 olan iki basamaklı iki doğal sayıdan büyük olanı kaç farklı değer alabilir?

- A) 31 B) 32 C) 33 D) 34 E) 35

38. - 39. SORULARI VERİLEN BİLGİLERE GÖRE CEVAPLAYINIZ.

Bir dairesel pistin etrafını üç hareketli sırasıyla 7, 8 ve 10 dakikada bir turlayabilir.

38. Hareketliler pistin A noktasında aynı anda saat 06:40'ta harekete başladığına göre üçü birlikte tekrar A noktasından geçtiklerinde saat kaç gösterir?

- A) 09:40 B) 10:20 C) 10:40  
D) 11:00 E) 11:20

39. Bu üç hareketli A noktasından aynı anda harekete başladıktan sonra A noktasından birlikte 3. kez geçtiklerinde yavaş olan hareketli toplam kaç tur atmış olur?

- A) 120 B) 105 C) 84 D) 72 E) 56

40.  $a^2 < a$

$b < b^2 < |b|$  olmak üzere

$$|a - 1| - |b + 1| + |b - a|$$

ifadesinin eşiti aşağıdakilerden hangisidir?

- A)  $-2a$  B)  $-2b$  C) 0 D) 2 E)  $2b - 2$

41.  $\frac{3\sqrt{2} - 2\sqrt{3}}{\sqrt{3} - \sqrt{2}}$

işleminin sonucu kaçtır?

- A)  $\sqrt{2}$  B)  $\sqrt{3}$  C)  $\sqrt{6}$  D)  $\sqrt{7}$  E)  $\sqrt{12}$

42.  $a - b = 5$  olmak üzere

$$\frac{a^2 - b^2 + 6b - 9}{a^2 - b^2 - 3a + 3b}$$

işleminin sonucu kaçtır?

- A)  $\frac{3}{5}$  B)  $\frac{5}{8}$  C)  $\frac{5}{3}$  D)  $\frac{8}{5}$  E)  $\frac{8}{3}$

43. Bir market elinde bulunan 143 kg şekeri 4, 5 ve 9 kg paketler halinde satmaktadır.

Her paketten en az bir tane olmak üzere şekerlerin bulunduğu paket sayısı en çok kaçtır?

- A) 31 B) 32 C) 33 D) 34 E) 35

**44. - 45. SORU AŞAĞIDA VERİLEN BİLGİLERE GÖRE BİRBİRİNDEN BAĞIMSIZ OLARAK CEVAPLAYINIZ.**

Cebinde yeterli sayıda 100 TL, 20 TL ve 5 TL banknotları olan biri her banknotu en az bir kez kullanmak şartıyla 365 TL hesabı ödüyor.

44. Bu bilgilere göre, hesap kaç farklı şekilde ödenebilir?

- A) 19    B) 20    C) 21    D) 22    E) 24

45. Hesap ödeme işleminde 20 TL'lik banknotun 4 kez kullanılmış olma olasılığı kaçtır?

- A)  $\frac{1}{24}$     B)  $\frac{1}{12}$     C)  $\frac{1}{15}$     D)  $\frac{1}{14}$     E)  $\frac{1}{16}$

46. Aras her gün sabit hızla evinden işyerine gittiğinde Mesainin başlama saatinden 18 dk önce işyerine varıyor. Yine bir gün işyerine gitmek için evinden çıkan Aras yolun  $\frac{2}{5}$ 'ini aldıktan sonra telefonunu evde unuttuğunu fark ediyor. Aynı hızla dönüp telefonunu alıp tekrar işe giden Aras o gün Mesai'nin başlama saatinden 10 dk geç işyerine varıyor.

Buna göre, normal zamanda Aras'ın evi ile iş yeri arası gidişi kaç dk sürmektedir?

- A) 28    B) 35    C) 49    D) 56    E) 70

47. Özgür, Derya ve Oğuz'un toplam 156 TL'si vardır.

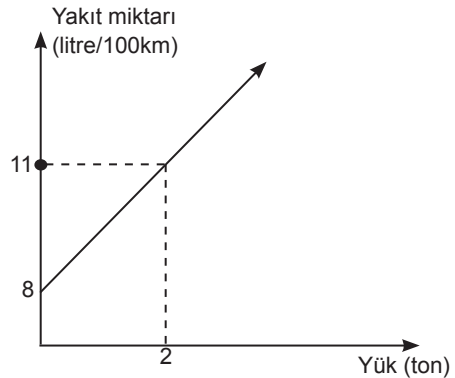
- Özgür parasının  $\frac{1}{3}$ 'ünü Derya'ya
- Derya parasının  $\frac{1}{4}$ 'ünü Oğuz'a
- Oğuz parasının  $\frac{1}{5}$ 'ini Özgür'e

aynı anda verdiğinde üçününde başlangıçtaki para miktarı değişmiyor.

Buna göre, Özgür'ün kaç TL'si vardır?

- A) 39    B) 45    C) 52    D) 60    E) 65

48. Aşağıdaki grafikte bir kamyonun taşıdığı yüke göre tükettiği yakıt miktarı gösterilmiştir.



Grafiğe göre kamyon yükü olmadığından her 100 km'de 8 litre yakıt tüketmektedir.

Buna göre, kamyon 12 ton yükü 200 km uzağa boşaltıp aynı yolu geri döndüğünde toplam kaç litre yakıt tüketir?

- A) 56    B) 58    C) 60    D) 64    E) 68

49. Bir iş yerinde çalışan Aras ile Poyraz isimli iki çalışanın haftalık ücretleri çalıştıkları gün sayısına göre hesaplanmaktadır. Bu iki çalışanın üç haftalık çalışma süreleri ve aldıkları haftalık ücretlerle ilgili aşağıdakiler bilinmektedir.

- Birinci hafta çalıştıkları gün sayıları aynıdır.
- İkinci hafta Aras birinci haftadan 1 gün fazla çalışarak 400 TL, Poyraz birinci haftadan 2 gün az çalışarak 120 TL almıştır.
- Üçüncü hafta Aras birinci haftadan 1 gün az çalışarak 240 TL, Poyraz birinci haftadan 1 gün fazla çalışarak 300 TL almıştır.

Buna göre, Aras'ın günlük ücreti Poyraz'ın günlük ücretinden kaç TL fazladır?

- A) 10    B) 20    C) 25    D) 30    E) 40

50. Kemal'in bir testi ilk çözümündeki başarı oranı % A'dır. Kemal geriye dönüp testi tekrar incelediğinde çözemediği sorulardaki başarı oranı %20'dir.

Kemal'in tüm sorulardaki başarı oranı %56 olduğuna göre, A kaçtır?

- A) 30    B) 35    C) 40    D) 45    E) 60

51. Salı günlerinin çarşamba günlerinden daha fazla olduğu bir Mayıs ayında 13 Mayıs hangi gündür? (Mayıs Ayı 31 gündür.)

- A) Pazar    B) Pazartesi    C) Çarşamba  
D) Cuma    E) Cumartesi

52. A = 37-38-39-40 ..... 123

olduğuna göre, A sayısının sondan kaç basamağı 0'dır?

- A) 8    B) 12    C) 14    D) 18    E) 20

53. 1'den 9'a kadar (9 dahil) her rakam üç defa yan yana yazıldığında elde edilen 27 basamaklı sayının 111 ile bölümünden oluşan bölüm kaç basamaklıdır?

- A) 9    B) 17    C) 25    D) 26    E) 27

54. Bir kurumun A, B ve C departmanların yaş ortalamaları sırasıyla 24, 27 ve 34'tür. A ile B departmanının yaş ortalaması 26, B ile C departmanının yaş ortalaması 32 olduğuna göre

A, B ve C departmanlarının üçünün yaş ortalaması kaçtır?

- A) 31    B) 30    C) 29    D) 28    E) 27

55. Gerçek sayılar kümesi üzerinde  $\star$  ve  $\blacksquare$  işlemleri ile f bağıntısı aşağıdaki gibi tanımlanıyor.

$$a \star b = a^2 + b^2 - a.b$$

$$x \blacksquare y = 3x - 2y + 1$$

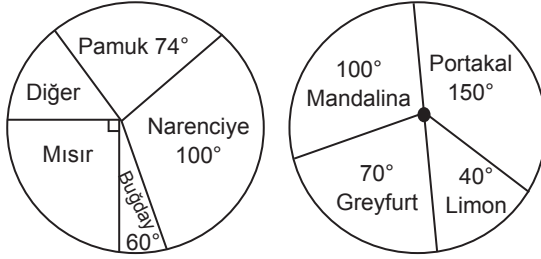
$$f(M, n) = \frac{M \star n}{M \blacksquare n}$$

Buna göre, f(3,4) işleminin sonucu kaçtır?

- A)  $\frac{11}{2}$     B) 6    C)  $\frac{13}{2}$     D) 7    E)  $\frac{15}{2}$

56. ve 57. SORULARI AŞAĞIDAKİ BİLGİLERE GÖRE BİRBİRİNDEN BAĞIMSIZ OLARAK CEVAPLAYINIZ.

Bir bölgedeki tarım arazisinin ne kadarının hangi ürün için kullanıldığını gösteren daire grafik aşağıdadır. Narenciye ürünlerinin çeşitlerini göstermek için ayrıca başka bir daire grafik çizilmiştir.



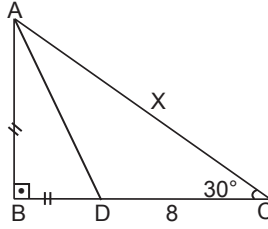
56. Bu bölgedeki pamuk, narenciye, buğday ve mısır dışında kalan diğer ürünler için kullanılan arazi tüm ürünler için kullanılan arazinin yüzde kaçdır?

- A) 8 B) 10 C) 12 D) 16 E) 24

57. Bu bölgede Greyfurt için kullanılan arazi 210 dönümse Buğday için kullanılan arazi kaç dönümdür?

- A) 512 B) 530 C) 620 D) 648 E) 720

58.

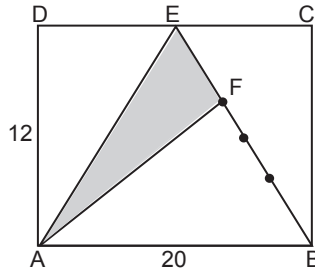


ABC dik üçgen  
 $AB \perp BC$   
 $m(\widehat{BCA}) = 30^\circ$   
 $|DC| = 8$   
 $|AC| = x$

Yukarıdaki verileri göre, x kaçtır?

- A) 6.  $(\sqrt{3}+1)$  B) 4  $(\sqrt{3}+1)$  C) 8.  $(\sqrt{3}+1)$   
D) 10  $(\sqrt{3}+1)$  E) 12.  $(\sqrt{3}+1)$

59.

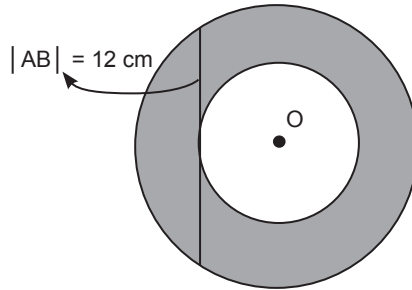


ABCD bir dikdörtgen  
 $|FB| = 3 \cdot |EF|$   
 $|AB| = 20 \text{ cm}$   
 $|AD| = 12 \text{ cm}$

Yukarıdaki verilere göre, AFE üçgeninin alanı kaç  $\text{cm}^2$ 'dir?

- A) 10 B) 20 C) 25 D) 30 E) 35

60.



Şekilde iki çemberinde merkezi O noktasıdır. Büyük çemberin birisi ve küçük çemberin teğeti olan AB doğru parçasının uzunluğu 12 cm'dir.

Buna göre, iki çember arasında kalan taralı bölgenin alanı kaç  $\text{cm}^2$ 'dir?

- A)  $9\pi$  B)  $12\pi$  C)  $24\pi$  D)  $36\pi$  E)  $48\pi$

**DİKKAT:** BU BÖLÜMDE YANITLAYACAĞINIZ SORU SAYISI 60'TIR.

1-27 SORU : "Atatürk İlkeleri ve İnkılap Tarihi" ile "Türk Kültür ve Medeniyetleri"

28-45 SORU : "Türkiye Coğrafyası"

46-60 SORU : "Temel Yurttaşlık Bilgisi ve Güncel Konular" ile ilgilidir.

Bu bölümdeki sorularla ilgili cevaplarınızı, cevap kağıdınızdaki "**GENEL KÜLTÜR**" bölümüne işaretleyiniz.

1. I. Hunlar  
II. Kıpçaklar  
III. Avarlar  
IV. Macarlar
- Yukarıdaki Türk topluluklarından hangileri hem Asya'da hem de Avrupa'da devlet kurmuşlardır?**
- A) Yalnız I      B) I ve III      C) II ve IV  
D) II ve III      E) I ve IV
2. İslamiyet öncesi Türk devletlerinde aşağıdaki görevlilerden hangisi devlet yönetimine katılmaz?
- A) Yabgu      B) Katun  
C) Tigin      D) Şad  
E) Baksı
3. Karahanlılarda Uygur alfabesi ile yazılan ve Tabgaç Buğra Han'a sunulan eser aşağıdakilerden hangisidir?
- A) Divan-ı Hikmet  
B) Atabet-ül Hakayık  
C) Kutadgu Bilig  
D) Divan-Lugat-ıt Türk  
E) Siyasetname
4. Anadolu'daki ilk külliye yapısı olarak bilinen UNESCO'nun kültürel mirası listesine aldığı Divriği Külliyesi aşağıdaki beyliklerden hangisi döneminde inşa edilmiştir?
- A) Artuklular  
B) Çaka Beyliği  
C) Danişmentliler  
D) Saltuklular  
E) Mengücekliler
5. Osmanlı Devleti'nde kunduracılık, duvarcılık, demircilik, marangozluk, dokumacılık gibi küçük el sanatlarına verilen isim aşağıdakilerden hangisidir?
- A) Hirfet      B) Kapan  
C) Gedik      D) Mekkari  
E) Tezhip
6. Halife tarafından "Sultan-ı İklimi Rum" (Anadolu'nun Sultanı) ünvanı verilen Osmanlı padişahı aşağıdakilerden hangisidir?
- A) I. Murat      B) I. Mehmet  
C) Orhan Bey      D) Yıldırım Beyazıt  
E) II. Murad

7. Aşağıdakilerden hangisi Osmanlı Devleti'nde seyfiye sınıfının görevleri arasında yer almaz?

- A) Kadı ve müderrislerin atamasını yapmak
- B) Devlet yönetiminde görev almak
- C) Asker ihtiyacını karşılamak
- D) Güvenliği temin etmek
- E) Padişah adına yürütme yetkisini kullanmak

8. I. Kişilere bağlı kalmış ve devlet politikası haline gelmemiştir.

- II. İslahatlar daha çok askeri alanda gerçekleşmiştir.
- III. Batı'daki teknik gelişmelerden yararlanılmamıştır.

Yukarıdakilerden hangileri XVII. yüzyıl ıslahatlarının nitelikleri arasında yer alır?

- A) Yalnız I
- B) Yalnız II
- C) Yalnız III
- D) I ve III
- E) I, II ve III

9. XVIII. yüzyılda yapılan Nizam-ı Cedit ıslahatlarına kaynak bulabilmek için vergilerin artırılması

- I. Yeniçeri,
- II. Reaya,
- III. Ulema

kesimlerinden hangilerinin tepkisine neden olmuştur?

- A) Yalnız I
- B) Yalnız II
- C) Yalnız III
- D) I ve III
- E) I, II, ve III

10. Osmanlı Devleti'nin dağılmasını engellemek için 19. ve 20. yüzyıllarda fikir akımları ortaya çıkmıştır.

Aşağıdakilerden hangisi Türkleri milli bir duygu ile birleştirerek Osmanlı bayrağı altında kuvvetli bir unsur olarak yeniden dünya devletleri arasına sokmayı amaçlayan Türkçülük akımının temsilcilerinden biri değildir?

- A) Ziya Gökalp
- B) Namık Kemal
- C) Yusuf Akçura
- D) Ömer Seyfettin
- E) Mehmet Emin Yurdakul

11. Aşağıdakilerden hangisi Tanzimat Fermanı'nın getirileri arasında gösterilemez?

- A) İltizam usulü kaldırılacaktır.
- B) Özel mülkiyet güvence altına alınmıştır.
- C) Yasa üstünlüğü anlayışı ortaya çıkmıştır.
- D) Vergi adaleti sağlanmıştır.
- E) Mahkemeler halka açık yapılacaktır.

12. II. Mahmut Döneminde devlet Memuru yetiştirmek amacı ile açılan okul aşağıdakilerden hangisidir?

- A) Mekteb-i Mülkiye
- B) Mekteb-i Ulamu Edebiye
- C) Mekteb-i Maarifi Edebiye
- D) Mızıka-i Hümayün
- E) Mekteb-i Harbiye

13. Osmanlı Devleti'nde basın-yayın hayatında gerçekleşen aşağıdaki gelişmeler eşleştirilmiştir.

Aşağıdaki eşleştirmelerden hangisi yanlıştır?

- A) İlk özel gazete - Tercüman-ı Ahval
- B) İlk dergi - Vekayı Tıbbiye
- C) İlk resmî gazete - Ceride-i Havadis
- D) İlk mizah dergisi - Diyojen
- E) İlk kadın dergisi - Terakki-i Mukadderat

14. I. Balkan Savaşı sonucunda imzalanan 1913 Londra Antlaşması'nda aşağıdaki devletlerden hangisinin imzası yoktur?

- A) Bulgaristan
- B) Romanya
- C) Osmanlı Devleti
- D) Yunanistan
- E) Karadağ

15. Rusya'nın 1918 Brest Litovsk Antlaşması ile savaştan çekilmesi, İtilaf Devletlerinin,

- I. Boğazlar,
- II. Doğu Karadeniz,
- III. Yemen

bölgelerinden hangileri ile ilgili yer düzenlemeleri yapmalarına neden olmuştur?

- A) Yalnız I
- B) Yalnız II
- C) Yalnız III
- D) I ve II
- E) I, II ve III

16. Aşağıdakilerden hangisi Türklerin oluşturduğu ve milli mücadeleye zarar veren cemiyetlerden biri değildir?

- A) Sulh ve Selamet-i Osmaniye Cemiyeti
- B) Nıgehban Askeri Cemiyeti
- C) Wilson Prensipleri Cemiyeti
- D) İngiliz Muhipleri Cemiyeti
- E) Kilikyalılar Cemiyeti

17. Millî mücadele döneminde kapitülasyonların kaldırılması kararı,

- I. Amasya Genelgesi,
- II. Sivas Kongresi,
- III. Misak-ı Milli kararları

gelişmelerinden hangilerinde yer almıştır?

- A) Yalnız I
- B) Yalnız II
- C) Yalnız III
- D) I ve II
- E) II ve III

18. 1919'da Kastamonu'da çıkarılmaya başlanan Millî Mücadele taraftarı ve İstiklal Marşı'nın ilk kez yayınlandığı gazete aşağıdakilerden hangisidir?

- A) Albayrak
- B) İrad-i Milliye
- C) Dergah
- D) Açıksöz
- E) İkdam



19. I. TBMM'de ilk icra vekilleri heyetinde yer alan ve I. İnönü Savaşı'ndan sonra Londra Konferansı'na da gönderilen Dışişleri Bakanı aşağıdakilerden hangisidir?

- A) Bekir Sami Bey      B) Adnan Adıvar  
C) Rıza Nur      D) Fevzi Çakmak  
E) Tevfik Paşa

20. I. Egemenlik kayıtsız şartsız milletindir.  
II. Dini emirlerin yerine getirilmesi Büyük Millet Meclisine aittir.  
III. Seçimler çift dereceli sisteme göre yapılır.

Yukarıdakilerden hangileri 20 Ocak 1921'de ilan edilen Teşkilat-ı Esasiye Kanunu'nun özellikleri arasında yer alır?

- A) Yalnız I      B) Yalnız II      C) Yalnız III  
D) I ve II      E) I, II ve III

21. Kurtuluş Savaşı'nda yapılan aşağıdaki antlaşmalardan hangisinde "Türkiye Devleti" tabiri ilk kez kullanılmıştır?

- A) Gümrü Antlaşması  
B) Batum Antlaşması  
C) Moskova Antlaşması  
D) Mudanya Ateşkesi  
E) Kars Antlaşması

22. Lozan Barış Konferansı'na Bulgaristan,

- I. Patrikhane,  
II. Nüfus mübadesesi,  
III. Boğazlar

konularından hangileri ile ilgili olarak katılmıştır?

- A) Yalnız I      B) Yalnız II      C) Yalnız III  
D) I ve II      E) I, II ve III

23. Şeyh Sait İsyanı başladığında Türkiye'de hükümet başkanı aşağıdakilerden hangisidir?

- A) İsmet İnönü  
B) Fethi Okyar  
C) Celal Bayar  
D) Mustafa Kemal  
E) Recep Peker

24. Türk Tarih Tezinde konuşulduğu I. Türk Tarih Kongresi hangi yıl düzenlenmiştir?

- A) 1931      B) 1932  
C) 1937      D) 1935  
E) 1934

25. I. Batı Trakya Sorunu  
II. Kıta Sahanelığı ve Kara Suları Sorunu  
III. Ticaret Ambargoları Sorunu  
Yukarıdakilerden hangileri Türkiye ile Yunanistan arasında mevcut olan sorunlardan biridir?

A) Yalnız I                      B) I ve II                      C) I ve III  
D) II ve III                      E) I, II ve III

26. I. Saldırmazlık ve iyi komşuluk paktıdır.  
II. Suriye Pakta katılmamıştır.  
III. Savunma için yardımlaşma paktıdır.  
Yukarıdakilerden hangileri Sadabat Pakti'nin özellikleri arasındadır?

A) Yalnız I                      B) Yalnız II                      C) I ve II  
D) II ve III                      E) I, II ve III

27. Türkiye, aşağıdaki hangi seçenekte verilen iki devletin Akdeniz ve Avrupadaki yayılmacı emellerinden dolayı Boğazların durumunun gözden geçirilmesi için 1936 yılında Milletler Cemiyeti'ne başvurmuştur?
- A) İtalya-Almanya  
B) İtalya-Fransa  
C) Sovyet Rusya-Bulgaristan  
D) İngiltere-Fransa  
E) Almanya-Japonya

28. Aşağıdaki haritada bazı merkezler verilmiştir.



Haritada belirtilen merkezlerle ilgili olarak aşağıdakilerden hangisi söylenemez?

- A) 21 Haziran'da en uzun gündüz süresi Kırklareli'nde yaşanır.  
B) Dünya'nın dönüş hızı Mersin'de Bayburt'tan daha hızlıdır.  
C) Ankara'nın yerel saati İzmir'den daha ileridir.  
D) Bayburt'ta tan ve gurup süresi Mersin'den daha kısadır.  
E) Kırklareli'nde gece-gündüz süre farkı İzmir'den daha fazladır.

29. Aşağıda ülkemizde bulunan bazı göller ve oluşum nedenleri eşleştirilmiştir.

Göl	Oluşum Nedeni
I. Çıldır	→ Volkanizmaya bağlı setleşme
II. Sera	→ Heyelana bağlı setleşme
III. Uluabat	→ Tektonik süreçler
IV. Salda	→ Karstik süreçler
V. Çamiçi	→ Dalgaya bağlı setleşme

Buna göre yukarıda belirtilen eşleştirmelerden hangisi **yanlıştır**?

A) I                      B) II                      C) III                      D) IV                      E) V

30. Türkiye'nin şekillenmesinde en etkili olan dış kuvvet akarsulardır.

Aşağıda belirtilen yeryüzü şekillerinin hangisinin oluşmasında akarsuların etkisi bulunmaz?

- A) Nevşehir kırğıbayırları
- B) Antalya falezleri
- C) Balat deltası
- D) Cihanbeyli platosu
- E) Manavgat dev kazanı

32. I. Ankara'da tahıl hasadının Sivas'tan daha önce yapılması  
 II. Antalya'da aynı tür tarım ürününün Bursa'dan daha önce olgunlaşması  
 III. Erciyes Dağı'nın kuzey kesimlerinde kayak tesislerinin kurulması

Yukarıda belirtilen durumların görülmesinde etkili olan faktörler hangi seçenekte doğru belirtilmiştir?

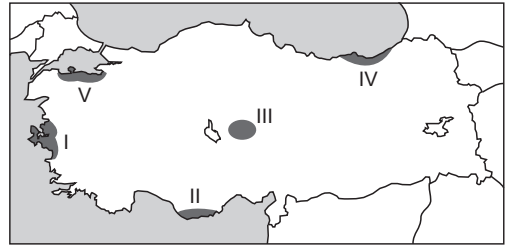
- |    | I        | II       | III      |
|----|----------|----------|----------|
| A) | Bakı     | Yükselti | Enlem    |
| B) | Enlem    | Bakı     | Yükselti |
| C) | Yükselti | Enlem    | Bakı     |
| D) | Yükselti | Bakı     | Enlem    |
| E) | Enlem    | Yükselti | Bakı     |

31. Türkiye fiziki haritasında, İç Anadolu ve Güneydoğu Anadolu bölgelerinde sarı rengin ağırlıklı olarak kullanılması bu iki bölgenin hangi özelliklerinin benzer olduğunu göstermektedir?

- A) Yükselti
- B) Bitki örtüsü
- C) İklim özellikleri
- D) Dağların uzanışı
- E) Jeolojik yapı

33.

- Yıl boyunca bağıl nem oranı yüksektir.
- En çok yağışını sonbahar mevsiminde alır.
- Sıcaklık farkları azdır.



Yukarıda bazı iklim özellikleri verilen yer Türkiye haritasında kaç numarayla gösterilmiştir?

- A) I
- B) II
- C) III
- D) IV
- E) V

34. Aşağıdaki haritada bir yöre taranarak gösterilmiştir.



Haritada taralı olarak gösterilen yöreyle ilgili aşağıdakilerden hangisi söylenemez?

- A) Engebeli araziler geniş yer tuttuğundan tarımsal nüfus yoğunluğu azdır.
- B) Bulunduğu bölgenin en çok yağış alan yöresidir.
- C) Endemik bitkiler geniş yer kapladığı için arıcılık ve botanik turizm faaliyetleri gelişmiştir.
- D) Yaz mevsiminde nüfus yoğunluğu artış göstermektedir.
- E) Tarım alanları dar ve parçalıdır.

35. Aşağıdakilerden hangisinde ülkemizde yer altı kaynağının çıkarıldığı yer yanlış belirtilmiştir?

- A) Toryum – Eskişehir (Kızılcaören)
- B) Altın – İzmir (Bergama)
- C) Boksit – Konya (Seydişehir)
- D) Fosfat – Balıkesir (Susurluk)
- E) Krom – Elazığ (Palu)

36. Türkiye'nin ticari fonksiyonlarıyla ilgili aşağıda belirtilenlerden hangisi yanlıştır?

- A) İzmir, İzmit, İstanbul gibi sanayi merkezleri ülkemiz ticaretinin çekim ve dağıtım merkezleridir.
- B) Turizm faaliyetleri ticaretin gelişmesinde önemli rol oynamaktadır.
- C) Fuar, panayır ve festivaller ticaretin canlanmasında önemli etkiye sahiptirler.
- D) Motorlu kara taşıtları ve aksamı ihracatında ülkemiz önemli gelir elde etmektedir.
- E) Türkiye'nin ithalatında ilk sırayı tarım, ormancılık ve hayvancılık ürünleri almaktadır.

37. Aşağıda belirtilenlerden hangileri ülkemizde en son UNESCO tarafından koruma altına alınan dünya mirasları arasında yer alır?

- A) Cumalıkızık - Pergamon
- B) Çatalhöyük - Selimiye Camisi ve Külliyesi
- C) Divriği Ulu Camisi - Truva Antik Kenti
- D) Diyarbakır Surları ve Hevsel Bahçeleri - Efes Antik Kenti
- E) Nemrut Dağı Heykelleri - Letoon Xanthos

38. Türkiye'de ilk kez denizin içerisinde dolguyla yapılan havaalanı aşağıda belirtilen illerden hangilerinin çevresine inşa edilmiştir?

- A) Ordu - Giresun
- B) Trabzon - Rize
- C) Rize - Artvin
- D) Zonguldak - Bartın
- E) Sinop - Samsun

40. 1923-1963 yılları arasında ülkemizde nüfusu artırıcı yönde nüfus politikalarının izlenmesinde aşağıdakilerden hangisi etkili olmamıştır?

- A) Fazla nüfusun ülkemiz için siyasi ve askerî güç olarak görülmesi
- B) Tarımda makineleşmenin yaygın olmaması
- C) Orduda insan gücünden çok teknolojik silahların ön plana çıkması
- D) Ölüm oranlarının çoğalması nedeniyle nüfustaki azalmaların doğumlarla önlenmek istenmesi
- E) Hızlı çoğalma ile ülkemizdeki sosyal iş bölümü ve ihtisaslaşmayı sağlamak

41. • Kara, deniz ve demir yollarının birbiriyle kesiştiği önemli kavşak noktasında bulunması nedeniyle sanayi kenti hâline dönüşmüştür.

- Türkiye genelinde 500 büyük fabrikanın %10'unu bünyesinde bulundurur.
- Zengin tarihî geçmişe sahip, ekonomisi sanayi ve ticarete dayalı hızla gelişen kentlerden biridir.

Yukarıda bazı özellikleri belirtilen kent merkezi aşağıdakilerden hangisidir?

- A) Gebze
- B) Merzifon
- C) Milas
- D) Akhisar
- E) Söke

39. DOKAP; Ordu, Artvin, Bayburt, Gümüşhane, Giresun, Trabzon ve Rize gibi illeri içine alan ülkemizde fizibilite çalışmaları tamamlanmış bölgesel kalkınma projesidir.

DOKAP'ın başlıca hedefleri arasında aşağıda belirtilenlerden hangisi yer almaz?

- A) Tarımda verimi sağlamak amacıyla kıyı kesimlerde sulama koşullarını artırmak
- B) Ulaşım ve iletişim sektörlerini geliştirmek
- C) Bölgenin doğal kaynaklarını ve çevre kapasitesini koruyarak sürdürülebilir kalkınmayı sağlamak
- D) Turizm faaliyetlerini geliştirmek
- E) Bölge için farklılıkları azaltarak bölgenin sosyal gelişimini desteklemek

42. Yerin derinliklerinde bulunan kızgın, erimiş ve basınç altındaki magmanın yeryüzüne çıkması olayına volkanizma denir.

Aşağıda belirtilen yüzey şekillerinden hangisi Doğu Anadolu Bölgesi sınırlarında bulunan volkanik süreçlerle oluşmuş yer şekilleri arasında yer almaz?

- A) Bulanık Gölü
- B) Nemrut Gölü
- C) Tendürek Dağı
- D) Meke Tuzlası
- E) Ardahan Platosu

43. Aşağıda belirtilenlerden hangisi ülkemizdeki nüfus artışının olumlu sonuçları arasında yer almaz?

- A) İş gücü ve ücretlerinin ucuzlaması
- B) Mal ve hizmetlere talebin artması
- C) Vergi gelirlerinin artış göstermesi
- D) Demografik yatırımların artması
- E) Üretimin artış göstermesi

45. Ülkemiz önemli oranda su ürünleri potansiyeline sahip olmasına rağmen ülkemizde balıkçılık yeterinde gelişmemiştir.

**Bu durumun nedenleri arasında;**

- I. Açık deniz balıkçılığı yerine kıyı balıkçılığının yapılması
- II. Balıkçı teknelerinin büyük ve donanımlı olmaması
- III. Kaçak ve usulsüz avlanmalar

**Yukarıda belirtilenlerden hangileri yer alır?**

- A) Yalnız I
- B) Yalnız III
- C) I ve II
- D) II ve III
- E) I, II ve III

44. Ülkemizde yağışın yıl içinde düzensiz olması, yaz mevsiminin genellikle kurak geçmesi gibi nedenlerden dolayı sulama önemli bir ihtiyaçtır.

**Türkiye'deki tarım alanlarında sulamanın yaygınlaştırılması sonucunda aşağıda verilenlerden hangisi gerçekleşmez?**

- A) Nadas uygulamaları azalma gösterir.
- B) İklim koşullarına bağımlılık artış gösterir.
- C) Tarım ürünlerinde çeşitlilik artar.
- D) Üretimde yıllara göre dalgalanmalar azalır.
- E) Birim alandan alınan verim artış gösterir.

46. Türkiye'de ilk kez tek dereceli seçim sistemi, hangi seçimle uygulanmıştır?

- A) 1909 seçimleri
- B) 1920 seçimleri
- C) 1946 seçimleri
- D) 1950 seçimleri
- E) 1961 seçimleri

47. Aşağıdakilerden hangisi sosyal devletin araçlarından değildir?

- A) Kanun önünde eşitlik
- B) Vergide adalet
- C) Sosyal ve ekonomik haklar
- D) Kamulaştırma
- E) Planlama

48. 1982 Anayasası'na göre siyasi partilerle ilgili aşağıdakilerden hangisi yanlıştır?

- A) Siyasi parti kapatma davalarını Anayasa Mahkemesi açar.
- B) Temelli kapatılan bir parti başka bir adla kurulamaz.
- C) İşçi niteliği taşımayan kamu görevlileri siyasi partilere üye olamazlar.
- D) Siyasi partiler en az 30 kişi ile kurulur.
- E) Partiler yurt dışında teşkilatlanabilir.

51. Hukuka aykırı yapılan bir işlemin mahkeme tarafından ortadan kaldırılmasına ne ad verilir?

- A) Hükümsüzlük
- B) Mutlak butlan
- C) İptal
- D) Yokluk
- E) Cebr-i İcra

49. Hakimlerin takdir yetkisi ile doldurabilecekleri boşluk türü aşağıdakilerden hangisidir?

- A) Hukuk boşluğu
- B) Kural içi boşluk
- C) Kural dışı boşluk
- D) Gerçek kanun boşluğu
- E) Örtülü boşluk

52. Aşağıdakilerden hangisi Cumhurbaşkanı tarafından seçilmez?

- A) Yargıtay Başkanı
- B) Devlet Denetleme Kurulu üyeleri
- C) Yüksek Öğretim Kurumu üyeleri
- D) Danıştay üyelerinin ¼'ü
- E) Askerî Yargıtay üyeleri

50. I. Bakanlıklar  
II. Kamu Tüzel Kişilikleri  
III. Bakanlar Kurulu

1982 Anayasası'na göre yukarıdakilerden hangileri yönetmelik çıkarabilir?

- A) Yalnız I
- B) I ve II
- C) II ve III
- D) I ve III
- E) I, II ve III

53. Merkezî idare içerisinde yer alan en yüksek devlet memuru aşağıdakilerden hangisidir?

- A) Başbakan
- B) Bakan
- C) Müsteşar
- D) Genel Müdür
- E) Daire Başkanı

54. Aşağıdakilerden hangisi valinin görevlerinden biri değildir?

- A) Yerinden yönetimler üzerinde vesayet yetkisini kullanmak
- B) Genel emirler çıkarmak
- C) İlerdeki tüm kamu kurumlarını denetlemek
- D) Memurlar üzerinde hiyerarşi yetkisini kullanmak
- E) Kolluk güçlerini kullanarak kamu düzenini sağlamak

57. Türkiye’de özel sektör tersaneleri tarafından inşa edilen en büyük ve ileri teknolojiye sahip savaş gemisinin adı nedir?

- A) Atak
- B) Yavuz
- C) Bayraktar
- D) Heybeliada
- E) Yıldırım

58. Ahmet Necdet Sezer, Türkiye Cumhuriyeti’nin kaçınıcı cumhurbaşkanıdır?

- A) 5
- B) 7
- C) 9
- D) 10
- E) 11

55. Aşağıdaki alanlardan hangisiyle ilgili Nobel Ödülü verilmemektedir?

- A) Fizik
- B) Kimya
- C) Matematik
- D) Tıp
- E) Barış

59. Şu an tedavülde olan Türk lirası banknotlarının üzerinde aşağıdakilerden hangisinin resmi yoktur?

- A) İtri
- B) Fatma Aliye Hanım
- C) Yunus Emre
- D) Mevlana
- E) Mimar Kemalettin

56. 29 Eylül 2015 tarihinde NASA tarafından yapılan açıklamaya göre aşağıdaki gezegenlerden hangisinde su bulunmuştur?

- A) Jüpiter
- B) Mars
- C) Neptün
- D) Plüton
- E) Merkür

60. 15-16 Kasım 2015 tarihinde düzenlenen G-20 toplantısı aşağıdaki şehirlerimizden hangisinde yapılmıştır?

- A) Antalya
- B) İstanbul
- C) İzmir
- D) Ankara
- E) Diyarbakır