

KAMU PERSONELİ SEÇME SINAVI
LİSANS

**KUZEY
AKADEMİ**

**GENEL YETENEK
GENEL KÜLTÜR**

SORU KİTAPÇIĞI

T. C. KİMLİK NUMARASI :

ADI :

SOYADI :

SALON NO :

SIRA NO :

Soru kitapçığı numarasının cevap kağıdına kodlanmamasının veya yanlış kodlanmasının sorumluluğu adaya aittir.

SINAV NUMARASI: **0000001**

TÜRKİYE GENELİ 1. DENEME SINAVI

DİKKAT SINAV BAŞLAMADAN ÖNCE AŞAĞIDAKİ UYARILARI MUTLAKA OKUYUNUZ.

- T.C. Kimlik Numaranızı, Adınızı, Soyadınızı, Salon Numaranızı ve Sıra Numaranızı, Soru Kitapçığı üzerindeki ilgili alanlara yazınız.
- Soru Kitapçık Numaranız yukarıda verilmiştir. Bu numarayı cevap kağıdınızdaki ilgili alana kodlayınız ve aşağıdaki ilgili alanı imzalayınız. Salon Görevlisinin de hem soru kitapçığındaki hem de cevap kağıdınızdaki ilgili alanı imzalamasını sağlayınız. Bu kodlamayı cevap kağıdınıza yapmadığınız veya yanlış yaptığınız takdirde, sınavınızın değerlendirilmesi mümkün değildir.
- Bu sayfanın arkasında yer alan açıklamayı dikkatle okuyunuz.

Adayın İmzası:

Soru kitapçık numarasını doğru kodladım.

Salon Görevlisinin İmzası:

Adayın soru kitapçık numarasını cevap kağıdına doğru kodladığını onaylıyorum.

AÇIKLAMA

1. Bu kitapçıkta Kamu Personel Seçme Sınavı (Lisans) **Genel Yetenek Testi** ve **Genel Kültür Testi** bulunmaktadır.
2. Bu test için verilen toplam cevaplama süresi **120 dakikadır (2 saat)**.
3. Genel Yetenek Testi ve Genel Kültür Testinin her birinde **60 soru** vardır.
4. Bu kitapçıkta testlerde yer alan her sorunun sadece bir doğru cevabı vardır. Bir soru için birden çok cevap yeri işaretlenmişse o soru yanlış cevaplanmış sayılacaktır.
5. İşaretlediğiniz bir cevabı değiştirmek istediğinizde, silme işlemini çok iyi yapmanız gerektiğini unutmayınız.
6. Bu testler puanlanırken doğru cevaplarınızın sayısından yanlış cevaplarınızın sayısının dörtte biri düşülecek ve kalan sayı testle ilgili ham puanınız olacaktır.
7. Cevaplamaya istediğiniz sorudan başlayabilirsiniz. Bir soru ile ilgili cevabınızı, cevap kâğıdında o soru için ayrılmış olan yere işaretlemeyi unutmayınız.
8. Sınavda uyulacak diğer kurallar bu kitapçığın arka kapağında belirtilmiştir.



1. Bu testte 60 soru vardır.

2. Cevaplarınızı, cevap kâğıdının GENEL YETENEK TESTİ için ayrılan kısmına işaretleyiniz.

1. Okuduğunuz denemelerde, yazarın derdinin insana ve eşyaya narin bir bakış yöneltmek olduğunu fark edip hayatı şöyle ince yanından kavrayabilirsek birlikte, yazmak ve okumak işte o zaman anlamlı olacaktır.

Bu parçada geçen "hayatı ince yanından kavrayabilmek" sözüyle anlatılmak istenen aşağıdakilerden hangisidir?

- A) Hayata toplumsal bir bilinçle yaklaşmak
B) Yaşamı nazik bir estetik duyuyla algılamak
C) Yaşamın olumsuz yanlarını görmemek
D) Sanatsal yaşamı her yönüyle anlayabilmek
E) Hayatı tüm gerçekleriyle kavramak

2. (I) Konfüçyüs'ün bir sözünü ara sıra hatırlarım: "Tanrım, bana kitap dolu bir evde, çiçek dolu bir bahçe ver." (II) İnsanı doğa ile düşünce arasında tanımlayan bu anlamlı sözün arkasındaki anlam, benim bilinçaltıma kitap sevgisi olarak yerleşmiştir. (III) Kitap sözcüğü içeriği olmadan bile bende doğa güzelliği gibi çağırır. (IV) Öncelikle kitabı yazan beyin bir düşünce evrimi geçirir; sonra da okuyanı düşündürür. (V) Bu girişi yapmamın nedeni son günlerde okuduğum bir kitaptır.

Bu parçadaki numaralanmış cümlelerle ilgili olarak aşağıda verilenlerden hangisi yanlıştır?

- A) I'ncide bir alıntı söze yer verilmiştir.
B) II'ncide alıntı sözden yola çıkarak kitap sevgisine değinilmiştir.
C) III'üncüde kitapla ilgili olarak benzetmeye yer verilmiştir.
D) IV'üncüde aşamalı bir durumdan bahsedilmiştir.
E) V'incide, bir amaca yönelik davranıştan bahsedilmiştir.

3. I. dilimize yapılan kalıplarla
II. yediğimiz, içtiğimiz, giydiğimiz, konakladığımız
III. çoğumuz hiç ayırımında olmadan
IV. konuşur olduk
V. dil mantığını zorlayan çeviri yoluyla
VI. yerlerin adı hızla yabancılaşırken

Yukarıdaki sözler anlamlı ve kurallı bir cümle oluşturacak biçimde sıralandığında hangisi baştan dördüncü olur?

- A) I B) II C) III D) V E) VI

4. Bilim insanları artık laboratuvar ortamında saç telinin binde biri incelikte lazer ışını üretebiliyor.

Bu cümleden aşağıdakilerin hangisi kesin olarak çıkarılabilir?

- A) Lazer ışınıyla ilgili farklı deneyler yapılmıştır.
B) Bilim insanları saç telinden yola çıkarak deneyler yapmıştır.
C) Lazer ışını teknolojisi en iyi seviyesine ulaşmıştır.
D) Saç telinden daha da ince olan lazer ışını ortaya çıkarılmıştır.
E) Laboratuvar ortamında lazer ışınıyla ilgili benzer deneyler yapılmıştır.



5. (I) Editör olarak tek görevimiz, basılacak kitabın dilinin düzgün olmasını sağlamak değil, aynı zamanda kitabın içinde sunulan bilgilerin doğru olduğundan ya da yanlış olmadığından ve hedef kitleye uygun olduğundan emin olmamız gerektir. (II) Bu anlamda bir editörün her alanda editörlük yapması oldukça zor. (III) Akademik ve bilimsel kitaplar için konularında uzmanlaşmış kişilerin editörlük yapması tercih edilmeli. (IV) Hatta kurgu metinlerde bile örneğin hastanelerde geçen bir polisiye romanda, editörün işini doğru yapabilmesi için tıp alanında bilgi sahibi olması gerekir. (V) Zaten çeviri editörlüğü başlı başına farklı bir iş çünkü bunlara ek olarak bir de çeviride hata yapılıp yapılmadığının kontrolü dahil oluyor editörün görevleri arasına. (VI) Edebî bir metnin çevirisi söz konusu ise o zaman iş iyice zorlaşıyor çünkü çevirmenin, kitabın dilinin edebî özelliklerini koruyup korumadığını takip etmek gerekiyor.

Bu parçadaki numaralandırılmış cümlelerle ilgili olarak aşağıdakilerden hangisi yanlıştır?

- A) I. cümlede bir zorunluluk dile getirilmiştir.
B) II. cümlede işin güçlüğü üstünde durulmuştur.
C) III. cümlede editörlüğe yönelik bir öneride bulunulmuştur.
D) V. cümlede bir gerekçeye yer verilmiştir.
E) VI. cümlede edebî çevirilerin yapılmasının imkânsızlığı belirtilmiştir.

6. I. Ahşap konaklar bahçeli evlere, bahçeli evler kat karşılığı verilip dört beş katlı apartmanlara dönüştü 30-40 yıllık kısa bir sürede.
II. Değişimin önlenemez olduğunu ama gidişatın kötü olduğunu düşünüyor.
III. İstanbul'da "Mavi Bir Tereddüt"ün orta yaşların sonuna gelmiş anlatıcısı bu değişimlerin hemen hepsini bir kentin tarihinde çok kısa sayılabilecek bir sürede yaşamış.
IV. İstanbul çok hızlı bir şekilde ve sürekli değiştiriliyor.
V. Şimdi de "Kentsel Dönüşüm" adı altında apartmanların yerini en kısıtı 20 kattan başlayan gökdelenler alıyor.

Yukarıdaki numaralandırılmış cümleler anlamlı bir bütün oluşturacak biçimde sıralandığında hangisi sonuncu cümle olur?

- A) I B) II C) III D) IV E) V

7. Doğu Anadolu'dan yurtdışına çıkmak isteyen bir doktorun taşraya sürgün edilmesiyle başlayan filmde; Barbara, her hareketi gözlenmesine rağmen Batı'ya kaçma isteğinde ısrar eden bir doktordur. Sürüldüğü küçük kasabada meslektaşı Andre ile beraber çalışmaya başlar. Andre'deki çıkarsız insan sevgisi, şehirli ve soğuk doktor Barbara'nın kararını bir kez daha gözden geçirmesine neden olacaktır.

I II III IV V

Bu parçada numaralandırılmış sözcüklerden hangisinde yazım yanlışı vardır?

- A) I B) II C) III D) IV E) V

8. Tartışma ile neye varılabilir? Biri doğuya gider, biri batıya; yolda rastladıkları ayrıntılara saplanır ve konudan ayrılırlar. Bir saat cenkleştikten sonra neyi aradıklarını bilemez olurlar. Kimi konunun üstüne çıkmış, kimi altına inmiş, kimi de kenarında kalmıştır...

I II III IV V
Bu parçada numaralanmış yerlerden hangisinde noktalama yanlışı yapılmıştır?

- A) I B) II C) III D) IV E) V



9. Baba, geçmişte kendi çektiği sıkıntılardan örnekler
I
vererek, kendisinin ana babasından görmediği maddi
II
rahatlığı onlara gösterdiğini, hiçbir şeylerini eksik etme-
diğini sık sık vurgulayarak onları bir nevi isyana sevk
III
ediyor; kendi çektiklerini, kendi yaşadıklarını onlar da
IV
annelerinin engellemesinden kurtulup yaşamaya
kalkarlarsa bunu da nankörlük, budalalık, isyankârlık,
V
hâinlik, çılgınlık diye niteliyordu.

**Bu parçadaki numaralandırılmış sözcüklerin hangi-
si kökün türüne göre diğerlerinden farklıdır?**

- A) IV B) I C) V D) III E) II

10. (I) Sartre, oyunlarında insanın insanla iletişim kurama-
yışının öyküsünü destanlaştırır. (II) İki yabancı motifinin
alternatiflerini araştırır. (III) Sonu hüsrarla biten üçgen-
ler kurar. (IV) Tanrılar ve kurallar, krallar ve halk, baba
ve oğul, ana ve kız, karı ve koca arasındaki Hegyelyen
açılımlar her seferinde bir kısır döngü ile sonuçlanır.
(V) Çünkü Charles Glucksberg'in dediği gibi insanlar
durumundaki her şey problematik ve süreklidir. (VI) Her
çözüm aldatmacası aslında yeni sorunlara doğru yeni
bir dönemece girilmesi ile sonlanır. (VII) Sinekler adlı
oyununda bu durumun panoramasını çıkarır.

**Bu parçadaki numaralanmış cümlelerle ilgili olarak
aşağıda verilenlerden hangisi yanlıştır?**

- A) V. cümle, bağlaçla bağlanmış sıralı cümledir.
B) I. cümle, fiil cümlesidir.
C) III. cümle, birleşik yapıdır.
D) IV. cümle, kurallı cümledir.
E) VII. cümle, birleşik yapı kurallı cümledir.

11. (I) Günlük ortamda bir bakıma herkes öznedir ya da
özne olabilir ancak kimi zaman kahraman nitelmesi
öznelere yüklenir. (II) Bizler günlük yaşamda, ancak
sıra dışı işler yapanlara, olağan dışı, alışılmamış ey-
lemlerde bulunanlara, karar verenlere, cesaretle iste-
yenlere ve istemlerini gerçekleştirenlere "kahraman"
deriz. (III) Çünkü biz çoğunlukla, kendi eylem olanak-
larımızı ortaya koymada, eylemlerimizin ardındaki iste-
temeyi ele vermede, anlatmada açıklık yolunu tercih
etmeyiz. (IV) Bu duruma karşılık romanın öznelere, bu
noktada öylesine açıklırlar ki onlar yüreklidir, cesurdur,
kahramandır çünkü kendilerini gerçekten kahraman-
ca ele verirler; onların, gerçek yaşamdaki öznelere gibi
zırhları yoktur; onların her biri kendisini açıklıkla ortaya
koyar. (V) Onlar bize kahramanca uzanır, daha da öte-
si, bize kahramanca ders verirler; eylem olanaklarını
gösterirler; bizi bize tanıtır; sınırlarımız üzerinde dü-
şünebilmemizi sağlayabilirler.

**Bu parçadaki numaralandırılmış cümlelerle ilgili
olarak aşağıdakilerden hangisi söylenemez?**

- A) I. cümlede hem belgisiz zamire hem belgisiz sığata
yer verilmiştir.
B) II. cümlede birden çok yan cümlecik yer almaktadır.
C) III. cümlede yardımcı eylemle kurulmuş birleşik ey-
lem vardır.
D) IV. cümlede birden fazla ek eylem yer almaktadır.
E) V. cümlede cümleye zaman anlamı katan bir sözcü-
ğe yer verilmiştir.

12. (I) Cavit Hoca; Şems'in mahallesinde büyümüş, o iklimi
solumuş. (II) Ben Konyalıyım. (III) Bu müzikal yolculuk
Tebri'z'de başlasın, Anadolu'ya gelsin, vakti zamanın-
da yıkılmış köprüler onarılsın istedik. (IV) Makamlar,
iklimler, coğrafyalar değişse de anlatılan hikâyeler çok
benzer. (V) Eserlerine yer verdiğimiz düşünürler bu
toprakların hikâyesini anlatmış.

**Bu parçada numaralanmış cümlelerle ilgili olarak
aşağıda verilenlerden hangisi yanlıştır?**

- A) I. cümlede, basit yapı sözcükler vardır.
B) II. cümlede, sözcükler isim soyludur.
C) III. cümlede, türemiş sözcükler yer almaktadır.
D) IV. cümlede, çekim eklerine yer verilmiştir.
E) V. cümlede, birden fazla eylem kullanılmıştır.



13. (I) Seramik sanatının ustası Jale Yılmazbaşar'ın seramiklerini çoğunuz görmüşsünüzdür. (II) Sergilerini de gezmişsinizdir belki. (III) Peki, onun hakkında neler yazılmış; kendisiyle yapılan söyleşilerde, bu konuda sorulan sorulara hangi yanıtları vermiş? (IV) Çoğumuz bunları bilmiyoruz. (V) Sanatçının çalışmalarının önemini öğrenmek istiyorsanız Ateşin Ustası Jale Yılmazbaşar kitabını okumalısınız.

Bu parçadaki numaralanmış cümlelerle ilgili olarak aşağıdakilerden hangisi yanlıştır?

- A) I. cümlenin yüklemi çekimli eylemdir.
B) II. cümledeki "de" bağlaçtır.
C) III. cümledeki "hangi" sözcüğü soru sıfatıdır.
D) IV. cümledeki "bunları" sözcüğü işaret sıfatıdır.
E) V. cümledeki "sanatçının" sözcüğünün kökü isimdir.

14. Şair; duygu, düşünce ve hayallerini sözcüklerle anlatır. Günlük konuşma dili ile şiir dili birbirinden farklıdır. Şair günlük dildeki sözcükleri özenle seçer, onlara yepyeni anlamlar kazandırır. Olayları, nesnelere bizden farklı biçimde algılar. Onları anlatırken hayallerden, imgelerden ve izlenimlerden yararlanır. Somut varlıkları soyutlaştırır, soyutları da somutlaştırarak duygu ve düşüncelerine bir anlam derinliği katar. Şiirde sözün gücünü artırmak amacıyla birtakım söz sanatlarına başvurulur. Söz sanatları şiirde anlama bir derinlik ve duygulara incelik katar.

Bu parçadan aşağıdakilerden hangisi çıkarılamaz?

- A) Şair, günlük dile yeni boyutlar kazandırır.
B) İkisinde de söz olmasına rağmen konuşma dili ile şiir dili birbirinden ayrıdır.
C) Şair çeşitli yollarla somut şeyleri bizden farklı yorumlar.
D) Şair, sözcükleri çeşitli söz sanatlarıyla ifade ederek bir derinliğe ulaşır.
E) Şairler için, söz sanatları şiirin en önemli unsurlarıdır.

15. Değerlerin aktarılması ve çocukların sosyalleşmesi adına öğretmenlere önemli görevler düşmektedir. Örneğin; öğretmenler grup ödevleri vererek bu konuda çocuklara yardımcı olabilir. Yine okul gezileri, piknikler öğrencilerin sosyalleşmesini sağlayabilir. Ayrıca hoşgörü, sevgi, iş birliği, ön yargısız yaklaşma, dürüstlük, saygı gibi değerler, tarihten örneklerle aktarılabilir. Örneğin; sevgi konusu Mevlana'dan örneklerle tiyatro, doğaçlama veya sözel anlatım yoluyla öğrencilerimize aktarılabilir.

Bu parçada ne üzerinde durulmaktadır?

- A) Nesillere kültürel mirasımızı bırakmanın önemi
B) Öğretmenlerin çocuklara değerleri aktarmadaki rolü ve yöntemi
C) Kültürel değerlerle yetişen bir neslin gelecekteki başarısı
D) Eğitim dünyasının değerler sistemine etkileri
E) Öğretmen ve öğrenci arasındaki etkileşimin faydaları

16. I. Fertleri, millet hayatı içinde birbirine bağlayan ilk vasıta.
II. İnsanlar duygu ve düşüncelerini dil ile anlatırlar.
III. Dil, anlaşma vasıtasıdır.
IV. Fert için de toplum için de yükselmenin, başarının ilk anahtarıdır ayrıca.
V. Bu bakımdan dilin fert hayatındaki yeri de millet hayatındaki yeri de çok büyüktür.

Bu cümlelerden anlamlı bir paragraf oluşturmak için doğru sıralama nasıl olmalıdır?

- A) V – III – IV – II – I
B) II – V – I – III – IV
C) III – I – II – IV – V
D) IV – III – II – V – I
E) III – I – IV – V – II



17. – 18. soruları aşağıdaki parçaya göre cevaplayınız.

(I) Uygarlıktaki en büyük gelişmeler, bilim temeli üzerine oturan, bilimden gücünü alan gelişme ve dönüşmelerdir. (II) Bilim bir yandan teknolojinin yol açtığı maddi gelişme ve dönüşmeleri büyük ölçüde temellendirirken öte yandan da görgü ve kavrayış ufukumuzun gelişmesini, manevi hayatımızın sağlam düşünce temelleri üzerine oturmasını sağlar ve böylelikle de manevi hayatımıza, ruhsal yaşam ve yaşantımıza, değer yargılarımıza, yön vermeye yarar. (III) Bilim sayesinde ve bilime az çok benzeyen ve bilimden çok zaman yararlanan teknoloji etkisiyle insan hayatı büyük değişimlere sahne olmuştur. (IV) Oysa insanın tabiatında geleneklerinden ve alışkanlıklarından kopmama eğilimi çok zaman kuvvetle etkili olur. (V) İnsan maceralara, sonu kesin olmayan yeni teşebbüslere girişmekten kaçınır.

17. Bu parçadan hareketle aşağıdaki yargılardan hangisine varılamaz?

- A) Bilimin maddi ve manevi yaşamımıza birçok katkısı vardır.
- B) Bilim ve teknoloji farklı uygarlıkların hızla etkileşmesini sağlamıştır.
- C) Bir medeniyetteki büyük gelişmeler, bilimsel dayanağı olan gelişmelerdir.
- D) İnsanoğlunun yaşamı teknoloji sayesinde büyük gelişme ve değişime göstermiştir.
- E) Farklı bir girişimde bulunma, insanın çok da yavaşmadığı bir durumdur.

18. Bu parçadaki numaralandırılmış cümlelerden hangilerinde "bilim" in yararlarından söz edilmemiştir?

- A) I ve II
- B) I ve III
- C) II ve IV
- D) III ve IV
- E) IV ve V

19. – 20. soruları aşağıdaki parçaya göre cevaplayınız.

(I) Büyük sanat eserleri yol göstermek, düzeltmek istenenden değil, yaratmak ihtiyacından doğmuştur. (II) Sanat adamı her insan gibi bir çevre içindedir. (III) Orada olup bitenlerin onda derin yankılar uyandırmamasına imkân yoktur. (IV) Ama bütün bunlar bilinçaltında bir süre bulunmadan hemen ve olduğu gibi sanat eserine dönüşmezler. (V) Varlığın bu karanlık bölgesinde unutulmuş sanılan, gerçekte ise bir ritim ve iklim hâlinde esrarlı bir surette yaşayan yankılar, bunılıyorlarmış gibi kurtulmak çarelerini ararlar. (VI) Düş ve yaratış bu kurtuluşun iki yoludur. (VII) İnsan düş görerek, sanat adamı yaratarak bu iç baskıdan kurtulur.

19. Bu parçada aşağıdakilerden hangisi vurgulanmaktadır?

- A) Sanatçının içinde yaşadığı toplumdan etkilenmesi kaçınılmazdır.
- B) Her insan gibi sanatçının da karmaşık bir ruh hâline sahip olması doğaldır.
- C) Geleceğe seslenmek için sanatçılar sanatsal eserler kaleme alırlar.
- D) Duygusal yaklaşımlar, kalıcı yapıtların oluşmasına zemin hazırlar.
- E) Sanatçı topluma yön vermekten ziyade iç dünyasını eserlerle dışa vurmak amaçındadır.

20. Bu parçadaki numaralandırılmış cümlelerden hangisinde koşul anlamı vardır?

- A) II
- B) III
- C) IV
- D) V
- E) VI



21. – 22. soruları aşağıdaki parçaya göre cevaplayınız.

(I) Çocuğun okul korkusu; bir endişe sebebiyle okula gitmeyi reddetmesi, bu konuda isteksiz görünmesidir. (II) Kimi çocuk okula gitmemek için evde oyalanır, bazen de bir hastalık uydurur. (III) Biz buna “okul korkusu” diyoruz. (IV) Okul korkusunun sebepleri ise evden uzakta olma, anne şefkatinden uzakta bulunmaktır. (V) Öğretmen öğrenci ilişkisi başarılı olamıyorsa bu da okul korkusunun sebebidir. (VI) Çocuk elinden tutulup okula götürüldüğünde ağlayarak gider. (VII) Evde kalan çocuk bir süre sonra yatıştır. (VIII) Okul korkusu karşısında alınacak tedbir ise ailenin çocuğa soğukkanlılıkla yaklaşmasıdır.

21. Bu parçada “okul korkusu” ile ilgili olarak aşağıdakilerden hangisine değnilmemiştir?

- A) Okula gitmek istemeyen çocuklarda görüldüğüne
- B) Bu tür çocukların çeşitli bahanelerle okula gitmeyi istemediğine
- C) Okula başlayan her yeni çocukta görülebildiğine
- D) Anneden uzak kalmanın buna bir sebep olduğuna
- E) Bu sorunun aileyle birlikte çözülebileceğine

22. Bu parçadaki numaralandırılmış cümlelerin hangisinde amaç söz konusudur?

- A) II
- B) IV
- C) VI
- D) VII
- E) VIII

23. – 24. soruları aşağıdaki parçaya göre cevaplayınız.

(I) Duygu, düşünce ve hayallerin sözle dile getirilmesidir sözlü anlatım. (II) Sözlü anlatımda isteğin doğru, düzgün, yalın ve etkili bir biçimde söylenmesi önemlidir. (III) Ses tonu, söyleyiş, vurgu, jest ve mimikler sözün etki gücünü artırır. (IV) Gereksiz heyecan ve telaş ile yerinde yapılmayan jest ve mimikler de sözün etki gücünü düşürür. (V) Liderler, sözlü anlatımın gücünden yararlanırlar. (VI) Günümüzde kitle iletişim araçlarının, özellikle radyo ve televizyon kanallarının artması, toplu yaşamın getirdiği zorunluluklar yüzünden karşılıklı hoşgörü ve güvenin oluşmasında sözlü anlatım önemli bir rol oynamaktadır.

23. Bu parçada “sözlü anlatım” ile ilgili olarak aşağıdakilerden hangisine değnilmemiştir?

- A) Toplumla yön verenlerin başvurduğu bir anlatım biçimi olduğuna
- B) Etki gücünü düşüren bazı davranışların bulunduğu
- C) Söylenmek istenilenin açık ve doğru bir biçimde anlatılmasının önemli olduğuna
- D) Toplumda bazı güzel özelliklerin oluşmasında önemli bir fonksiyonu olduğuna
- E) Aşırı da olsa heyecanın, jest ve mimiklerle sunulmasının sözün değerini arttırdığına

24. Bu parçadaki numaralanmış cümlelerin hangisinde tanım yapılmıştır?

- A) I
- B) III
- C) IV
- D) V
- E) VI



25. Kitaptaki öykülemenin ve tarihi tanıklıkların da hakkını vermek gerekiyor. Okuru yormayan net ve kısa cümleler, kitabın en belirleyici ögesi. Günün gününe yazmasa, anlatmasa da zamanlar arası kopukluk hiç yok ve izlenimciliği bir fotoğraf makinesi ile eş değer olan yorucu, gözlem yazarları ile aynı değil. Görülmesi gerekeni tarihsel yönüyle ele alan ve diri örneklemeler ile okura yansıtan Woodsworth bu konuda da başarısını gösteriyor.

Bu parçada sözü edilen kitapla ilgili olarak aşağıdakilerden hangisine değinilmemiştir?

- A) Kısa cümlelerden yararlanıldığına
B) Olayları net bir şekilde yansıttığına
C) Başarılı bir eser olduğuna
D) Dönemler arasında kopukluğun olmamasına
E) Kendinden sonraki eserlere örnek olmasına

26. Gezi kitapları geçmişte kaldı sanıyordum. Falih Rıfkı Atay'ın Onun Bizim Akdeniz'ini, Hind'ini vaktiyle ne kadar severek okumuştum. Ama 1930'ların, 1940'ların verimi bu eserler. "Görsel" henüz öne çıkmamış; Falih Rıfkı'nın akıcı anlatımı hâlâ etkileyici. Sonra belgesel çağı başlıyor. Hemen ardından beyazcam evlerde başköşede. Seyretmek, dinlemek dururken okumak ancak meraklısına çekici gelebilir. Zaten Falih Rıfkı'nın gezi kitaplarını biraz da Türkçe kıvraklığını edinmek için okurdum. Meğer yanıltılmışım. Birkaç haftadır gezi kitaplarını yine çok severek okuyorum. Hayal gücüm beyazcamın sağladığı imkânlarla yine yarışıyor. Kâh günümüzdeyim kâh geçmiş yüzyıllarda.

Bu parçada Falih Rıfkı Atay'a ilişkin olarak aşağıdakilerden hangisine değinilmemiştir?

- A) Akıcı bir anlatıma sahip olduğuna
B) Döneminin dil öncüsü olduğuna
C) Türkçenin güzel örneklerine eserlerinde yer verdiğine
D) Gezi kitaplarının olduğuna
E) 1930'larda bazı eserlerini kaleme aldığına

27. (I) Aşık olmak biraz da aşkla görünür olmak... (II) Renginizin aşka dönüşmesiyle parıldamaya, mutluluk hormonunun etkisiyle yaşama sevinci saçmaya başlıyorsunuz aşka düşünce. (III) Aşka bulaşmışsanız tepeden tırnağa aşka bulanmışsınız demektir bu. (IV) Azı çoğu, kararı olmaz, ya "var"ı vardır ya "yok"u. (V) Âşık olan dağları bile yerinden oynatacak gücü hisseder kendinde, olmayanlar dövünsün. (VI) Onlar öyle korkak korkak, çorak topraklarında yaşamaya mecburdur risksiz güvenli hayatlarında. (VII) Aşktan kaçanlar aşka inanamama maskesiyle gezinirler ortalıkta çoğunlukla. (VIII) Âşık olanların ışığından, ısısından hiç hoşlanmaz ve derhal büyüdü durumu bozmak isterler.

Bu parça iki paragrafa ayrılmak istense ikinci paragraf numaralandırılmış cümlelerin hangisiyle başlar?

- A) III B) IV C) V D) VII E) VIII

28, 29 – 30. soruları aşağıdaki bilgilere göre cevaplayınız.

Avrupa kültür etkileşimi amacıyla her yıl farklı bir şehir kültür başkenti olmuştur.

Bu Avrupa şehirleri ile ilgili şunlar bilinmektedir:

- İtalya'dan Milano, Napoli, Roma,
- Fransa'dan Paris, Lyon, Marsilya,
- Almanya'dan Berlin, Münih, Köln,
- İngiltere'den Londra, Manchester, Glasgow şehirleri Kültür Başkentliği yapacaktır.

Ayrıca ;

- 2., 6. ve 11. sırada İngiltere'de bulunan bir şehir Kültür başkenti olduğu,
- yalnız bir defa, aynı ülkeden iki şehrin üst üste kültür başkenti olduğu,
- İtalya'dan hemen sonra İngiltere'ye sıra geldiği,
- son olarak Almanya'da bulunan bir şehrin kültür başkenti olduğu bilinmektedir.

28. **Başkentliğin 1. yıl Milano'ya, 10. yıl ise Napoli'ye gittiği biliniyorsa, kaçınıcı yılda Roma'ya gitmiş olabilir?**

- A) 3. B) 4. C) 5. D) 7. E) 8.



29. Bu bilgilere göre, aşağıdaki ifadelerden hangisi **kesinlikle** doğrudur?

- A) 3. ve 4. sırada, aynı ülkede bulunan şehirler başkent olmuştur.
B) 8. yılda, Fransa'da bulunan bir şehir başkent olmuştur.
C) 3. ve 8. sırada, farklı ülkelerde bulunan şehirler başkent olmuştur.
D) 3. ve 8. sırada, aynı ülkede bulunan şehirler başkent olmuştur
E) 7. yılda, Almanya'da bulunan bir şehir başkent olmuştur

30. Kültür başkentliğinin 7. yılda Münih'e ve 8. yılda Paris'e gittiği biliniyorsa, 9. sırada aşağıdaki şehirlerden hangisi Başkentlik yapmış olamaz?

- A) Berlin B) Marsilya C) Lyon
D) Londra E) Köln

31. $\left(\frac{1+\frac{1}{2}}{1-\frac{1}{2}}\right)^{-2}$ işleminin sonucu kaçtır?

- A) 9 B) $\frac{9}{4}$ C) 1 D) $\frac{4}{8}$ E) $\frac{1}{9}$

32. $\frac{0,\overline{2}+0,\overline{7}}{1,5-1,\overline{2}}$ işleminin sonucu kaçtır?

- A) $\frac{1}{9}$ B) $\frac{1}{3}$ C) 1 D) 3 E) 9

33. $\sqrt{3-\sqrt{8}} \cdot \sqrt{2} + 1$ işleminin sonucu kaçtır?

- A) 1 B) $\sqrt{2}$ C) $3-\sqrt{2}$
D) $-\sqrt{2}$ E) -1

34. $2^{x+1} + 3^{y+2} = 37$

$$2^{x+2} + 3^{y+1} = 29$$

olduğuna göre, $2^x \cdot 3^y$ çarpımı kaçtır?

- A) 6 B) 9 C) 12 D) 15 E) 24

35. $x + 2 < 2x - 5 < x + 9$

olduğuna göre, x kaç farklı tamsayı değeri alır?

- A) 4 B) 5 C) 6 D) 7 E) 8

36. a, b $\in \mathbb{Z}^+$ olmak üzere,

(a + 3) ile (b - 2) sayıları aralarında asaldır.

$ab - 2a + 3b = 41$ olduğuna göre, a kaç farklı değer alır?

- A) 1 B) 2 C) 3 D) 4 E) 5

37. $\frac{(2n+1)!}{(2n-1)!} = 42$ olduğuna göre, n kaçtır?

- A) 2 B) 3 C) 4 D) 5 E) 6

38. Rakamları farklı beş basamaklı 4a23b sayısı 44 ile tam bölünebildiğine göre, a kaçtır?

- A) 1 B) 5 C) 7 D) 8 E) 9



39. $\frac{a^2-2a-3}{a^2-9} : \frac{a^2-1}{a+3} \cdot a-1$ ifadesinin en sade şekli aşağıdakilerden hangisidir?

- A) 1 B) $a-3$ C) $\frac{1}{a-1}$
D) $\frac{1}{a+1}$ E) $\frac{1}{a-3}$

40. $a^2 \leq a$ ve $2b - a = 5$ olduğuna göre, b'nin alacağı kaç tamsayı vardır?

- A) 1 B) 2 C) 3 D) 4 E) 5

41. $|2x-4| + |x-2| = 12$ denklemini sağlayan x değerlerinin toplamı kaçtır?

- A) 2 B) 4 C) 6 D) 8 E) 10

42. Bir miktar para 10 kişiye eşit olarak paylaştırılıyor. Aynı para 6 kişiye paylaştırılsaydı kişi başına 20 lira daha fazla düşecekti.

Buna göre, paylaştırılan toplam para kaç liradır?

- A) 180 B) 240 C) 300 D) 360 E) 420

43. Bir sinemada öğrenci bileti 10 TL, tam bilet ise 13 TL'dir.

Sinemada 27 bilet satılıp 315 lira kazanıldığına göre, kaç öğrenci bileti satılmıştır?

- A) 11 B) 12 C) 13 D) 14 E) 15

44. Sedat'ın parasının 3 katı Veli'nin parasının 5 katına eşittir.

Sedat Veli'ye 48 lira verirse paraları eşit olacağına göre, Sedat'ın başlangıçta kaç lirası vardır?

- A) 96 B) 144 C) 192 D) 240 E) 288

45. Bir okuldaki öğrencilerin %60'ı erkektir. Erkeklerin ise %30'u sarışındır.

Okulda 120 kız olduğuna göre, kaç sarışın erkek öğrenci vardır?

- A) 36 B) 48 C) 54 D) 72 E) 96

46. Bir sınıftaki öğrencilerin yaş ortalaması 24'tür. Sınıftaki kızların yaş ortalaması 22, erkeklerin yaş ortalaması 28'dir.

Sınıfta 12 kız öğrenci olduğuna göre, kaç erkek öğrenci vardır?

- A) 6 B) 8 C) 10 D) 12 E) 14

47. Bir mal %20 kar ile 336 liraya satılıyor.

Buna göre, aynı mal %10 zararla kaç TL'ye satılır?

- A) 230 B) 241 C) 252 D) 263 E) 274

48. **3 Coğrafya, 2 Matematik, 4 Türkçe öğretmeni Türkçe öğretmenleri yan yana olmak koşuluyla yuvarlak bir masa etrafına kaç farklı şekilde oturabilir?**

- A) 1440 B) 1680 C) 2010
D) 2640 E) 2880



49. Seda her gün bir önceki gün çözdüğü soru sayısının $\frac{2}{5}$ ini çözerek 4 günde toplam 609 soru çözdüğüne göre, ilk gün kaç soru çözmüştür?

A) 395 B) 385 C) 375 D) 365 E) 355

50. Şu anda günlerden Cuma ve saat 17:00 ise 227 saat sonra hangi gün ve saat kaç olur?

A) Cumartesi saat 03:00
B) Pazar saat 03:00
C) Pazartesi saat 03:00
D) Pazartesi saat 04:00
E) Pazar saat 04:00

51. E, evrensel küme olmak üzere;

$$E = (1, 9]$$

$$A = [2, 5) \text{ olduğuna göre,}$$

A' kümesi aşağıdakilerden hangisidir?

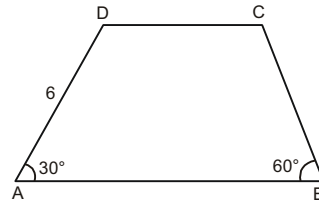
A) $(1, 2) \cup (5, 9)$ B) $(1, 2] \cup (5, 9]$
C) $(1, 2) \cup [5, 9]$ D) $(5, 9)$
E) $(1, 2)$

52. $[AB] \perp [BC]$
 $m(\widehat{DAC}) = 15^\circ$
 $m(\widehat{ADB}) = 45^\circ$
 $|AD| = 6\sqrt{2}$ br

Yukarıdaki verilere göre, $|AC|$ kaç br dir?

A) $6\sqrt{3}$ B) $9\sqrt{3}$ C) $12\sqrt{3}$
D) 9 E) 12

- 53.



ABCD bir yamuk

$$|AD| = 6 \text{ br}$$

$$|AB| = 4 + 4\sqrt{3} \text{ br}$$

$$m(\widehat{BAD}) = 30^\circ$$

$$m(\widehat{ABC}) = 60^\circ$$

Yukarıdaki verilere göre, yamuğun alanı kaç br^2 dir?

A) $24 + 24\sqrt{3}$ B) $24 + 12\sqrt{3}$
C) $12 + 24\sqrt{3}$ D) $12 + 6\sqrt{3}$
E) $12\sqrt{3} + 6$

54. – 56. soruları aşağıdaki bilgilere göre birbirinden bağımsız olarak cevaplayınız.

1. satır	1			
2. satır	2	3		
3. satır	4	5	6	
4. satır	7	8	9	10
n. satır				

n. satır

Yukarıdaki şekilde her satırda yandaki sayı kadar kutucuk vardır. İlk kutucuk 1'den başlayarak ardışık biçimde şekildeki gibi sayılar yazılmaktadır.

- 54.

1. satır	1			
2. satır	2	3		
3. satır	4	5	6	
27. satır	x			

27. satır

Şekilde 27. satırın ilk kutusunda x son kutusunda y yazılmaktadır.

Buna göre, $x + y$ toplamı kaçtır?

A) 728 B) 729 C) 730 D) 731 E) 732



55.

1. satır	1					
2. satır	2	3				
3. satır	4	5	6			
...						
40. satır				...		

Yukarıdaki şekilde 40. satıra kadar (40. satır dahil) kaç kutu kullanılmıştır?

- A) 820 B) 830 C) 840 D) 850 E) 860

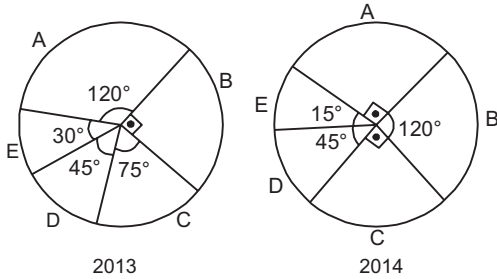
56.

1. satır	1					
2. satır	2	3				
3. satır	4	5	6			
4. satır						
...						
34. satır				...		

Şekil bir kareye tamamlanmak istenirse en az kaç kutu gerekir?

- A) 528 B) 561 C) 595 D) 630 E) 666

57. Bir marketin sattığı 5 ürünün 2013 ve 2014 yıllarındaki toplam satış grafikleri aşağıda verilmiştir.



Bu marketin 2013 yılında yapmış olduğu satış miktarı 7200 kg, 2014 yılında 10800 kg dir.

Bu marketin 2013 yılında sattığı A ürününün miktarı 2014 yılında kaç kg artmıştır?

- A) 150 B) 180 C) 240 D) 300 E) 360

58. – 60. soruları aşağıdaki bilgilere göre birbirinden bağımsız olarak cevaplayınız.

Bir bowling salonunda bowling oynayan Kuzey, Cemre, Zeynep ve Banu'nun oynadığı oyunla ilgili şu kurallar bilinmektedir.

Her oyunda 10 adet lobut ve 2 atış hakkı vardır. Tek atışta tüm lobutlar devrildiğinde strike yapılır ve 20 puan alınır fakat sıra diğer oyuncuya geçer. Tabloda X ile gösterilir. Bütün lobutların iki atışta devrilmesine spare denir ve / işaretiyle gösterilir, 12 puan alınır. İlk atıştan puan dikkate alınmaz. Üst üste iki strike veya 3 spare yapan oyuncuya her sefer için müsabaka sonunda fazladan bir atış hakkı daha verilir. Tüm bowling karşılaşması sonunda 4 strike yapan veya 6 spare yapan oyuncuya ayrıca 50 puan eklenir.

58. Banu'nun 120, Kuzey'in 166 puan aldığı bir bowling müsabakasında en az kaç oyun oynanmıştır?

- A) 3 B) 5 C) 7 D) 9 E) 11

59.

	I. oyun	II. oyun	III. oyun	IV. oyun	V. oyun	Son atış					
1. oyuncu	5	2	6	/	4	/	-	-	x		
2. oyuncu	x	-			6	/	2	5	7	/	9
3. oyuncu	3	5	2	/	1	3	-	9	x	-	
4. oyuncu	6	2	-	3	x	-	-		2	/	7

Yukarıda verilen tabloya göre Kuzey birinci olduğuna göre, ikinci olan Cemre'nin puanı kaçtır?

- A) 80 B) 73 C) 70 D) 63 E) 53

60. Yalnız iki oyun oynanan bir müsabakada kaç farklı puan alınabilir?

- A) 61 B) 60 C) 43 D) 42 E) 20



1. Bu testte 60 soru vardır.

2. Cevaplarınızı, cevap kâğıdının GENEL KÜLTÜR TESTİ için ayrılan kısmına işaretleyiniz.

1. Aşağıdakilerden hangisi Uygurlar'ı, Göktürkler'den ayıran özelliklerden birisi değildir?

- A) Hakanlarına idikut ünvanının verilmesi
- B) Kağıt ve matbaa kullanmaları
- C) Kendilerine özgü alfabe kullanmaları
- D) Mani dinini resmi din olarak kabul etmeleri
- E) Kent kültürüne sahip olmaları

2. Tarihin değişik dönemlerinde yaşanan aşağıdaki olaylardan hangisinin Orta Asya'da Türk nüfusunun azalmasına neden olduğu savunulamaz?

- A) İklim değişiklikleri ve kuraklıklar
- B) Çin Baskısı
- C) Moğol İstilasası
- D) Selçuklular'ın Anadolu'ya yönelik iskân siyaseti
- E) Haçlı Seferleri

3. Türk - İslâm Devletleri'nde eğitim, sağlık gibi hizmetlerin vakıf sistemiyle oluşturulması aşağıdakilerden hangisine kanıt olarak gösterilebilir?

- A) Eğitim alanında çağın gerisinde kalındığına
- B) Savunma birimlerinin toprak sistemiyle oluşturulduğuna
- C) Mimari faaliyetlere önem verildiğine
- D) Toplumun çok uluslu bir yapıda olduğuna
- E) Vakıfların devletin ekonomik yükünü hafiflettiğine

4. Aşağıdakilerden hangisi Anadolu'da kurulan Türk beylikleri arasında yer almaz?

- A) Saltuklular
- B) Çaka Beyliği
- C) Artuklular
- D) Danişmentliler
- E) Harzemşahlar

5. Osmanlı Devleti'nin aşağıdaki faaliyetlerinden hangisinin denizcilik alanında herhangi bir gelişmeye neden olduğu savunulamaz?

- A) Karesioğulları topraklarının ele geçirilmesi
- B) Çeşitli yerlerde tersaneler açılması
- C) Mora Yarımadası'nın fethedilmesi
- D) Dulkadiroğulları Beyliği'nin ele geçirilmesi
- E) Marmara kıyılarında fetihler yapılması

6. Osmanlı Devleti'nde hukuk üç ana temele dayanıyordu: Bu İslâm hukuku, örfi hukuk ve fethedilen bölgelerde daha önce konulan kanun ve nizamlardan oluşan uygulamalardı.

Bu bilgilere göre aşağıdaki yargılardan hangisine ulaşılabilir?

- A) Hukuk anlayışında birlik olmadığı
- B) Yerel hukuk uygulamalarının varlığı
- C) Dinin hukuk kurallarına etki ettiği
- D) Hukukun geleneklerden bağımsız geliştiği
- E) Fethedilen bölgelerde eski düzenin tamamen değiştirilmediği



7. Aşağıdakilerden hangisi Kanuni Sultan Süleyman Dönemi'nde görülen gelişmelerden biri değildir?

- A) Kanunnameler yapılması
- B) Süleymaniye Medreselerinin inşa edilmesi
- C) Hint Deniz Seferleri'nin düzenlenmesi
- D) Kıbrıs Adası'nın fethedilmesi
- E) Safeviler'le ilk siyasi antlaşmanın yapılması

8. Osmanlı Devleti'nin ilk kez XV. yüzyılda vermeye başladığı ticari imtiyazlar zamanla genişletilmiş hatta bazı devletlere sürekli olarak verilmiştir.

Yukarıdaki uygulamanın Osmanlı hazine gelirleri içerisinde aşağıdakilerden hangisinin payının azalmasına neden olduğu söylenebilir?

- A) Gümrük gelirleri
- B) Mukataa gelirleri
- C) Avarız gelirleri
- D) Cizye gelirleri
- E) Bac vergileri

9. Aşağıdakilerden hangisi egemenlik alanını genişletmek isteyen devletlerin dini siyasal bir araç olarak kullandıklarına kanıt olarak gösterilemez?

- A) Rusya'nın Osmanlı Ortodoksları'nın koruyuculuğunu üstlenmesi
- B) Safevilerin Doğu Anadolu'da şiilik propagandası yapması
- C) Hazarlar'ın Musevi olmasına karşın farklı dinlere karşı hoşgörülü davranması
- D) Fatimiler'in Batıniler'in Selçuklu içerisindeki faaliyetlerini desteklemesi
- E) Büveyhoğulları'nın Abbasi topraklarında şiileri halifelik makamına karşı kışkırtması

10. Osmanlı Devleti Tarihi'nde meydana gelen olaylardan hangisini yenilik karşıtlarının gerçekleştirdiği söylenemez?

- A) Kabakçı Mustafa İsyanı'nın çıkması
- B) II. Osman'ın tahttan indirilmesi
- C) 31 Mart Olayı'nın çıkması
- D) Hareket Ordusu'nun kurulması
- E) Nizam-ı Cedit'in sona ermesi

11. "Tebamdan müslümanları camide, hristiyanları kilisede, yahudileri havrada görmek isterim."

II. Mahmud'un yukarıdaki sözü XIX. yüzyıl başlarında aşağıdaki fikir akımlarından hangisinin felsefi temellerinin atıldığını kanıtlar niteliktedir?

- A) İslâmcılık
- B) Osmanlıcılık
- C) Türkçülük
- D) Adem-i Merkeziyetçilik
- E) Batıcılık

12. XIX. yüzyılda yaşanan;

- I. Süveyş Kanalı'nın açılması,
 - II. Rusya'nın güneye inme çabaları,
 - III. Alman siyasi birliğinin kurulması ve sömürge faaliyetlerine başlaması
- durumlarından hangilerinin İngiltere açısından, Osmanlı topraklarının öneminin artmasına neden olduğu söylenebilir?**

- A) Yalnız I
- B) Yalnız II
- C) I ve II
- D) II ve III
- E) I, II ve III



13. Aşağıdakilerden hangisinin Trablusgarp Savaşı'nın sonuçlarından biri olduğu **söylenemez**?

- A) Osmanlı Devleti'nin Akdeniz'de egemenliğinin zayıflaması
- B) İtalya'nın yeni hammadde kaynaklarına ulaşması
- C) On İki Ada'nın geçici olarak İtalya'ya bırakılması
- D) Osmanlı Devleti'nin Midye-Enez Hattı'nın doğusuna çekilmesi
- E) Osmanlı Devleti'nin güçsüzlüğünün Balkan Devletlerince anlaşılması

14. Balkan Savaşları bittikten sonra Osmanlı Devleti, sınırları ötesinde kalan Balkan Türklerinin sahip olacağı hakları belirlemek için;

- I. Romanya,
- II. Bulgaristan,
- III. Sırbistan

devletlerinden hangileriyle antlaşma yapmıştır?

- A) Yalnız I
- B) Yalnız II
- C) Yalnız III
- D) II ve III
- E) I, II ve III

15. I. Dünya Savaşı'nın sonucunda imzalanan barış antlaşmalarının devletlerarası eşitliğe aykırı olmasının aşağıdakilerden hangisine ortam hazırladığı söylenebilir?

- A) Uluslararası barış ortamının bozulmasına
- B) Silahlanma yarışının sona ermesine
- C) Milletlerarası işbirliğinin güçlenmesine
- D) Kıtalararası ticaretin gelişmesine
- E) Ulusçuluk düşüncesinin zayıflamasına

16. Mondros sonrası işgaller sırasında Yunanlılar Batı Anadolu'da bir yandan Türk halkını göçe zorlayıp şiddet hareketleri gösterirken bir yandan da Mora'dan Rum nüfusu getirip Anadolu'ya yerleştirmişlerdir.

Yukarıda verilen durum, Yunanlılar'ın uluslararası alanda aşağıdakilerden hangisinden yararlanma amacıyla olduklarının göstergesidir?

- A) Amiral Bristol Raporu
- B) Mondros Mütarekenamesi
- C) Sevr Antlaşması
- D) Wilson Prensipleri
- E) Misak-ı Milli

17. Kuvay-i Milliye'nin;

- I. Batı Anadolu'daki işgalleri yavaşlatmaları,
- II. ihtiyaçlarını halktan karşılamaları,
- III. suçlu gördükleri kişileri cezalandırmaları

özelliklerinden hangileri "Milli Mücadele Hazırlık Dönemi"nin daha rahat bir şekilde gerçekleşmesine olanak sağlamıştır?

- A) Yalnız I
- B) Yalnız II
- C) Yalnız III
- D) I ve II
- E) I ve III

18. Milli Mücadele Dönemi'nde alınan aşağıdaki kararlardan hangisinin sadece ulusal bağımsızlıkla ilgili olduğu söylenebilir?

- A) Mebuslar Meclisi derhal toplanmalıdır.
- B) Milletin istiklâlini yine millet azmi ve kararı kurtaracaktır.
- C) Kuvay-ı Milliye'yi amil, milli iradeyi hakim kılmak esastır.
- D) Manda ve himaye kabul edilemez.
- E) Egemenlik kayıtsız şartsız millettir.



19. Kurtuluş Savaşı Hazırlık Dönemi ile ilgili olarak aşağıda verilenlerden hangisinde I. de verilenin II. ye ortam hazırladığı söylenemez?

- | I | II |
|---|---|
| A) Balıkesir ve Alaşehir Kongreleri'nin yapılması | Batı Cephesi'nin kurulması |
| B) Temsil Heyeti'nin İstanbul Hükümeti'yle irtibatını kesmesi | Damat Ferit Paşa Hükümeti'nin istifası |
| C) Sivas Kongresi'nin yapılması | Yerel direniş oluşumlarının birleşmesi |
| D) Meclis-i Mebusan'ın Kurulması | Ankara'da TBMM'nin açılması |
| E) Amasya Görüşmeleri'nin yapılması | Temsil Heyeti'nin İstanbul Hükümeti'nce tanınması |

20. TBMM'ye bağlı düzenli birlikler, Batı Cephesi'nde aşağıdaki savaşlardan hangisinden sonra başarısız bir taarruz girişiminde bulunmuşlardır?

- A) Gediz Muharebesi
B) I. İnönü Muharebesi
C) II. İnönü Muharebesi
D) Eskişehir Kütahya Muharebeleri
E) Sakarya Meydan Muharebesi

21. Anlaşma Devletleri arasında yaşanan görüş ayrılıklarına;

- I. TBMM'nin İtilaf Devletleri'nce Londra Konferansı'na davet edilmesi,
II. İtalya'nın Paris Barış Konferansı'nı terketmesi,
III. Fransa'nın TBMM ile anlaşmasına karşın İngiltere'nin işgallere devam etmesi

durumlarından hangileri kanıt olarak gösterilebilir?

- A) Yalnız I B) Yalnız III C) I ve II
D) I ve III E) II ve III

22. Lozan Barış Görüşmeleri'nin başlamasından hemen önce Ankara Hükümeti aslında genel amaç ve politikalarına ters olmasına rağmen Amerikalılara madenler, petrol kaynakları, demir yolları ve limanlarla ilgili olarak bazı ayrıcalıklar vermiştir.

Buna göre Ankara Hükümeti'nin bu tutumuyla aşağıdakilerden hangisini amaçladığı söylenebilir?

- A) Ulusal bağımsızlıktan taviz vermek
B) Misak-ı Milli'yi gerçekleştirmek
C) Ulaşım ağını yabancı şirketlerle yaygınlaştırmak
D) Uluslararası alanda ABD'nin desteğini sağlamak
E) Devletçi ekonomik anlayışı yerleştirmek

23. Türkiye Cumhuriyeti'nin aşağıdaki faaliyetlerinden hangisini özel sermayeyi üretim alanında yatırım yapmaya çekmek için yaptığı söylenebilir?

- A) Gazi Orman çiftliğinin kurulması
B) Teşvik-i Sanayi Kanunu'nun çıkarılması
C) Uşak Şeker Fabrikası'nın açılması
D) Tevhid-i Tedrisat Kanunu'nun kabulü
E) Kabotaj Yasası'nın yapılması

24. I. Şer'iyye ve Evkâf Vekâleti'nin Kaldırılması
II. Şapka Kanunu'nun Kabulü
III. Medeni Kanun'un Kabulü
IV. Türk Tarih Kurumu'nun Kurulması

Yukarıda verilen inkılapların kronolojik sıralaması aşağıdakilerden hangisinde doğru olarak verilmiştir?

- A) I - II - III - IV B) III - II - I - IV
C) II - I - IV - III D) III - IV - I - II
E) IV - III - II - I



25. "Çağdaşlaşma süreklilik arz eden bir olgudur."

Aşağıda verilen Atatürk ilkelerinden hangisinin yukarıda verilen sürekliliği sağlamayı hedeflediği söylenebilir?

- A) Cumhuriyetçilik
B) Milliyetçilik
C) Laiklik
D) İnkılapçılık
E) Halkçılık

26. "Malını alanın malını al" şeklinde özetlenebilecek olan, dış ticarete iki ülke arasında yapılan alışverişin döviz kullanılmadan ürüne karşı ürünle ödenmesi sistemidir.

Yukarıda tanımı yapılan, Türkiye'nin de bir dönem uyguladığı uluslararası ticari sistemin adı aşağıdakilerden hangisidir?

- A) Cashback
B) Kliring
C) Karma
D) Ayniyat
E) Tahvil

27. İsmet İnönü Dönemi'nde 1940'ta kırsal kesime öğretim yetiştirmek amacıyla aşağıdaki kurumlardan hangisinin açıldığı söylenebilir?

- A) Millet Mektepleri
B) Halk Evleri
C) Ziraat Enstitüsü
D) Köy Enstitüleri
E) Gazi Eğitim Enstitüsü

28. Ham maddenin varlığı, bir endüstri kolunun kurulup gelişmesi açısından önemli bir faktördür.

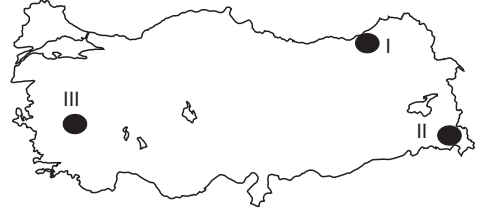
Buna göre bir yörede;

- I. yağ,
II. şeker,
III. yünlü dokuma,
IV. pamuklu dokuma

endüstrilerinden hangilerinin, küçükbaş hayvancılığa bağlı olarak gelişmesi beklenir?

- A) I ve II
B) I ve III
C) II ve III
D) II ve IV
E) III ve IV

29. Ülkemizde göçe neden olan doğal afetler değişik alanlarda farklı şekillerde etkilidir.



Yukarıdaki haritada belirtilen alanlarda göçe neden olan doğal afet aşağıdakilerden hangisinde doğru sıralanmıştır?

- | I | II | III |
|------------|---------|---------|
| A) Deprem | Heyelan | Çığ |
| B) Heyelan | Deprem | Sel |
| C) Heyelan | Çığ | Deprem |
| D) Sel | Heyelan | Çığ |
| E) Deprem | Sel | Heyelan |

30. Her ikisi de Türkiye'de bulunan X yöresinde turuncgil tarımı ve deniz turizmi, Y yöresinde ise küçükbaş hayvancılık ve tahıl tarımı yaygındır.

Sadece bu bilgilere dayanarak X ve Y yöresi ile ilgili aşağıdaki yorumlardan hangisi yapılamaz?

- A) X yöresinde yağış en fazla kışın, en az yazın görülür.
B) Y yöresinde bitki örtüsünü stepler oluşturur.
C) X yöresinde maki alanları yaygındır.
D) Y yöresine düşen yağış miktarı X yöresinden fazladır.
E) X yöresinde terra-rossa toprakları geniş alan kaplar.

31. Değişik ölçütler göz önüne alınarak çizilen bölgelerin alanları bazı durumlarda birbirleriyle örtüşür.

Buna göre Türkiye'de;

- I. zeytin tarımı bölgesi,
II. sanayi ve ticaret bölgesi,
III. Akdeniz iklim bölgesi,
IV. maden bölgesi,
V. yüksek ve düzlük bölgeler

kavramlarından hangilerinin birbiriyle en fazla örtüştüğü söylenir?

- A) I ve II
B) I ve III
C) II ve IV
D) III ve V
E) IV ve V



32. Türkiye'de yer alan bir merkezde yıl boyunca gözlem yapan bir kişi gözlemlerini aşağıdaki tabloda gösterildiği gibi işaretlemiştir.

Gözlem	21 Mart	21 Haziran	23 Eylül	21 Aralık
I Güneş ışınlarının atmosferde en az tutunarak, en büyük açıyla geldiği, en uzun gündüzün yaşandığı ve yazın başladığı tarih		✓		
II Gece ile gündüz süreleri arasındaki farkın en fazla olduğu tarihler		✓		✓
III Gündüzlerin gecelerden uzun olmaya başladığı tarih	✓			
IV Sonbahar başlangıcı			✓	
V Gölge boylarının kısalmaya başladığı tarih		✓		

Buna göre, tabloda numaralanmış alanlardan hangisinde işaretlenen tarihlerde yapılan gözlem doğru değildir?

- A) I B) II C) III D) IV E) V

33. Yatağında çavlan, çağlayan ve şelaleler yaparak akan bir akarsuyun yapmış olduğu aşındırma sonucu oluşan çukurlara dev kazanı denir.

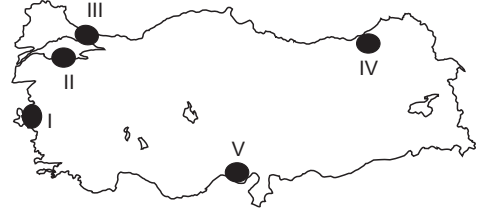
Buna göre, yatağında sıklıkla dev kazanlarına rastlanan bir akarsu için;

- I. denge profiline ulaşmıştır,
II. rejimi düzenlidir,
III. akış hızı fazladır,
IV. taşımacılığa uygun değildir.

yargılarından hangilerine kesin olarak ulaşılabilir?

- A) I ve II B) I ve III C) II ve III
D) II ve IV E) III ve IV

34. Aşağıdaki haritada beş kıyı yöresi numaralarla belirtilmiştir.



- Eski akarsu vadilerinin tektonik hareketlerin etkisiyle sular altında kalmasıyla ria tipi kıyılar oluşmuştur.
- Kıta sahanlığı geniş olduğundan delta ovası oluşmuştur.
- Dağlar kıyı çizgisine dik uzandığından koy, körfez ve doğal liman sayısının fazla olduğu enine kıyı oluşmuştur.
- Dalgaların açıktaki adayı kıyı oklarıyla anakaraya bağlamasıyla ada yarımada dönmüş, "tombolo" meydana gelmiştir.

Buna göre, haritada verilen olaylar ve açıklamalar belirtilen alanlarla eşleştirildiğinde hangisi açıkta kalır?

- A) I B) II C) III D) IV E) V

35. Konveksiyonel yağışlar, ülkemizde ilkbahar ve yaz başlangıcında karasal iklim bölgelerinde ısınan havanın yükselerek hızla soğuması sonucunda meydana gelir.

Buna göre, aşağıda verilen yörelerin hangisinde yıl içinde konveksiyonel yağışların daha fazla görülmesi beklenir?

- A) Çukurova'da
B) Tuz Gölü çevresinde
C) Menteşe Yöresi'nde
D) Zonguldak çevresinde
E) Edremit Körfezi'nde



36. – 37. soruları aşağıdaki paragrafa göre yanıtlayınız.

Bakır madenlerinde çalışan bir maden işçisiyim. Yöremizde madencilik, hayvancılık ve tahıl tarımı başlıca ekonomik etkinliklerimizdendir. Bulduğumuz bölüm, ülkemizde maden rezervi ve çeşitliliği açısından en zengin sahadır. Bu bölüm bakır, krom, kurşun, demir, çinko gibi madenler açısından zengin olmasına rağmen, bölümde madene dayalı sanayi yeteri kadar gelişmemiştir.

36. Parçada verilen bilgilere göre, madencinin aşağıdaki bölümlerden hangisinde yaşadığı söylenebilir?

- A) Yukarı Kızılırmak
- B) Batı Karadeniz
- C) Yukarı Fırat
- D) Orta Fırat
- E) Güney Marmara

37. Özellikleri verilen alanda madene dayalı sanayinin yeteri kadar gelişmemesinin nedeni aşağıdakilerden hangisidir?

- A) Enerji kaynaklarının yetersiz olması
- B) Alanın yüzölçümünün küçük olması
- C) İklim koşullarının elverişsiz olması
- D) Sermaye ve yatırımın yeterli olmaması
- E) Kalifiye elemanın yetersiz olması

38. İstanbul'un Başlangıç Meridyeni ile yerel saat farkı 116 dakika, Ekvator'a olan kuş uçuşu uzaklığı ise 4551 km'dir.

Buna göre İstanbul ile ilgili olarak;

- I. Başlangıç Meridyeni ile arasında 29 meridyen fark vardır,
- II. Ilıman iklim kuşağında yer alır,
- III. Başlangıç Meridyeni ile arasında kuş uçuşu 3219 km mesafe vardır,
- IV. Güneyinden kuzeyine doğru yer çekimi değeri artar.

Bilgilerinden hangilerine ulaşılabilir?

- A) I ve II
- B) I ve III
- C) II ve III
- D) II ve IV
- E) III ve IV

39. Aşağıdaki tabloda bazı ülkelerde çalışan nüfusun sektörlere dağılımı verilmiştir.

Ülkeler	Tarım (%)	Sanayi (%)	Hizmet (%)
Türkiye	24,5	25,5	50,0
İngiltere	7,3	31,4	61,3
ABD	2,1	28,7	69,2
İtalya	17,3	33,4	49,3
Libya	48,0	22,0	30,0

Tablodaki verilerden yararlanılarak aşağıdaki yargılardan hangisine ulaşamaz?

- A) Çalışan nüfus içinde sanayide çalışanların oranının en fazla olduğu ülke İtalya'dır.
- B) Libya'da nüfusun % 30'u hizmet sektöründe çalışmaktadır.
- C) Türkiye'de tarımda çalışanların oranı ABD'deki sanayide çalışanların oranından azdır.
- D) Hizmet sektöründe çalışanların oranının en fazla olduğu ülke ABD'dir.
- E) İngiltere'de tarımda çalışanların oranı Türkiye'de sanayide çalışanların oranının $\frac{1}{3}$ 'ünden azdır.



40. Mısır'da Nil Nehri üzerinde kurulan Aswan Barajı Nil'in yatağı boyunca getirdiği alüvyonları baraj gölünde biriktirdiği için nehir, Nil deltasını besleyememekte bu yüzden ovada gübre talebi artmaktadır.

Buna göre, Yeşilirmak üzerinde kurulacak bir baraj aşağıdaki şehirlerin hangisinde böyle bir soruna neden olur?

- A) Sakarya B) Sinop C) Samsun
D) Konya E) Ordu

41. Sanayileşmenin doğal dengeyi bozan faktörlerden olduğu düşünüldüğünde, aşağıdaki akarsulardan hangisinin ağız kısmındaki kirlenmenin **daha fazla** olduğu söylenebilir?

- A) Sakarya B) Bartın C) Dalaman
D) Meriç E) Yeşilirmak

42. Köyden küçük, idari açıdan köye bağlı toplu veya dağınık yerleşmelere köyaltı yerleşmeleri denir.

Buna göre, mezra, mahalle, divan, çiftlik gibi yerleşmelerin ortak özelliği aşağıdakilerden hangisidir?

- A) En önemli ekonomik etkinliklerinin hayvancılık olması
B) Yalnızca iç bölgelerde yaygın olmaları
C) Konut yapımında taş malzeme kullanılması
D) Devamlı yerleşmeler şeklinde olmaları
E) Büyük şehirlere yakın alanlarda kurulmaları

43. • Türkiye'de kültür bitkilerinin tomurcuklanma ve çiçek açma döneminde görülen don olayı üretim miktarının önemli ölçüde azalmasına neden olmaktadır.
• İlkbaharda yağış miktarının yetersiz olduğu yıllarda tahıl ürünlerinde ithalat yapılır.

Verilen bilgilere göre Türkiye'de yapılan tarımla ilgili olarak;

- I. toprak çeşitliliğinin fazla olması ürün çeşitliliğini artırmıştır,
II. üretim önemli ölçüde doğal koşullara bağlı olarak yapılmaktadır,
III. ülkemizde ürün çeşitliliği fazladır,
IV. yıllara göre üretimdeki dalgalanmalar fazladır
yargılarından hangilerine ulaşılabilir?
A) I ve II B) I ve IV C) II ve III
D) II ve IV E) III ve IV

44.



Yukarıdaki haritada ticaret hacmi fazla olan bazı kentler gösterilmiştir.

Aşağıda verilenlerden hangisi bu kentlerin tümünde görülen ortak bir özelliktir?

- A) Tarımsal ürün çeşitliliklerinin fazla olması
B) Önemli yer altı kaynaklarına sahip olmaları
C) Kara ve demir yolu ağlarının gelişmiş olması
D) Nüfus yoğunluklarının az olması
E) Turizmin, toplam gelir içinde önemli bir paya sahip olması

45. Yarı kurak iklim şartlarının etkili olduğu volkanik arazilerde, akarsuların tüflü alanlarda yapmış olduğu aşındırmalara bağlı olarak oluşan yer şekli aşağıdakilerden hangisidir?

- A) Mağara B) Birikinti konisi
C) Dev kazanı D) Delta
E) Peribacası



46. 1982 Anayasası'na göre OHAL ve Sıkıyönetim ilanı-
na Cumhurbaşkanı başkanlığında toplanan Bakanlar
Kurulu karar verir. Bazı durumlarda da Milli Güvenlik
Kurulu'nun görüşüne başvurulur.

**Aşağıdakilerden hangisi Milli Güvenlik Kurulu'nun
görüşüne başvuru durumlarıdır?**

- A) Deprem su baskını ve benzeri tabii afet yaşanması
durumunda
B) Genel grev veya lokavt durumunda
C) Türk parasının önlenemez şekilde değer kaybetmesi
durumunda
D) Yaygın şiddet hareketlerinin ortaya çıkması duru-
munda
E) Tehlikeli salgın hastalık söz konusu olduğunda

47. Özel hukuk ilişkilerinin düzenlendiği temel kanun
aşağıdakilerden hangisidir?

- A) Türkiye Cumhuriyeti Anayasası
B) Medeni Usul Kanunu
C) Borçlar Kanunu
D) Türk Ticaret Kanunu
E) Türk Medeni Kanunu

48. Kira sözleşmesini, taraflardan birinin fesh etmesi
durumunda aşağıdakilerden hangisinden bahset-
mek mümkün olur?

- A) Aynı haklar
B) Kurucu yenilik doğuran haklar
C) Değiştirici yenilik doğuran haklar
D) Bozucu yenilik doğuran haklar
E) İrtifak hakkı

49. Aşağıdaki tüzel kişilerden hangisi mal topluluğu ni-
teliğini taşımaktadır?

- A) Dernek
B) Anonim şirket
C) Sendika
D) Üniversite
E) Siyasi parti

50. Aşağıdakilerden hangisi, Türk parlamenter siste-
minin özelliklerinden biridir?

- A) Cumhurbaşkanı meclis tarafından seçilir
B) Hükümet yasama organını fesh edebilir
C) Parlamento iki meclisli yapıya sahiptir
D) Cumhurbaşkanı yürütmenin belirleyici unsurudur
E) Hükümet parlamentoya karşı sorumludur

51. Aşağıdakilerden hangisi 1982 Anayasası'nda de-
ğiştirilemez ve değiştirilmesi teklif edilemez hü-
kümlerinden biri değildir?

- A) Türkiye Devleti'nin başkenti Ankara'dır.
B) Türkiye Cumhuriyeti Devletinin hükümeti sistemi
parlamenter sistemdir.
C) Türkiye Devleti'nin milli marşı İstiklal Marşı'dır.
D) Türkiye Cumhuriyeti insan haklarına saygılıdır.
E) Türkiye Cumhuriyeti Atatürk milliyetçiliğine bağlıdır.


52. Aşağıdakilerden hangisi siyasi partilerle ilgili ola-
rak doğru bir ifadedir?

- A) Yükseköğrenim öğrencilerinin siyasi partilere üyeliği
kanunla düzenlenir
B) Siyasi partiler, İçişleri Bakanlığı ve Adalet Bakanlı-
ğ'ndan izin alınarak kurulur.
C) Devlet memurları, merkez, il ve ilçe teşkilatlarında
yönetici olmamak koşuluyla siyasi partilere üye ola-
bilirler.
D) Siyasi partiler, devletten hiçbir ad altında mali yar-
dım alamaz.
E) Vatandaşların siyasi parti üyesi olabilmeleri için 30
yaşını doldurmaları gerekir.



53. Aşağıdakilerden hangisinin Cumhurbaşkanı tarafından TBMM'ye iade edilmediği takdirde halkoyuna sunulması zorunludur?
- A) Seçim kanunu
B) Yeni bir üniversite kurulması hakkındaki kanun
C) Türkiye'nin milletlerarası kuruluşlara üye olmasına yönelik kanunlar
D) Anayasa'yı değiştiren ve TBMM'de 330-367 arasında bir çoğunlukla kabul edilen kanunlar
E) Türk Medeni Kanunu'nun bazı maddelerinin değiştirilmesine ilişkin kanun
54. Aşağıdakilerden hangisi Türkiye'nin idari teşkilatında varolan hiyerarşi ilkesinin özellikleri arasında yer almaz?
- A) Olağan bir yetki değildir yasal dayanağı olmalıdır.
B) Bir örgüt içinde çalışanların alttan üste doğru ast - üst ilişkisi içerisinde birbirlerine bağlanmalarıdır.
C) Hem hukukilik hem yerindelik denetimi söz konusudur.
D) Emir ve talimat yetkisi içerir.
E) Amir asların statülerine ilişkin bir takım yetkiler kullanılabilir.
55. ABD'nin Las Vegas eyaletinde Eylül 2015'te düzenlenen Dünya Güreş Şampiyonasında 125 kilo serbest stilde altın madalya alarak ard arda ikinci kez Dünya Şampiyonluğunu elde eden sporcumuz aşağıdakilerden hangisidir?
- A) Yakup Gör
B) Taha Akgül
C) Hamit Kaplan
D) Yaşar Erkan
E) Alihan Öksüz
56. Aşağıdakilerden hangisi Ahmet Ümit tarafından yazılmış romanlardan biri değildir?
- A) Beyoğlu'nun En Güzel Abisi
B) Sultan'ı Öldürmek
C) Ağrı Dağı Efsanesi
D) Aşk Köpekliktir
E) Kavim

57. Eylül 2015'te yüz yaşına giren "Şeyhül Müverrihin" (tarihçilerin şeyhi) olarak anılan tarihçimiz aşağıdakilerden hangisidir?
- A) Yusuf Akçura
B) İlber Ortaylı
C) Halil İnalcık
D) Afet İnan
E) Niyazi Berkez
58. 72. Venedik Film Festivali'nde jüri özel ödülünü alan Emin Alper'in yönetmenliğini üstlendiği film aşağıdakilerden hangisidir?
- A) Abluka
B) Sivas
C) Uçurtmayı Vurmasınlar
D) Susuz Yaz
E) Uzun Hikaye
59. Apollon Tapınağı aşağıdaki yerleşim yerlerinden hangisinde yer alır?
- A) Didim
B) Manavgat
C) Side
D) Alanya
E) Göreme
60. Aşağıdaki ülkelerden hangisi Bağımsız Devletler Topluluğu üyelerinden biri değildir?
- A) Rusya
B) Estonya
C) Ukrayna
D) Ermenistan
E) Moldova



*Kazanmak
Artık Kolay...*

KUZEY AKADEMİ YAYINLARI

TÜRKİYE GENELİ 1. DENEME SINAVI



Detaylı Bilgi İçin

0312 435 35 07
0549 769 69 03

Karanfil 2 Sokak No: 42 Kızılay/ANKARA Tel: 0312 435 35 07 • 0543 435 35 07

www.kuzeyakademiyayinlari.com