

# KPSS

## KAMU PERSONELİ SEÇME SINAVI

### ORTA ÖĞRETİM

### GENEL YETENEK

### GENEL KÜLTÜR

# DENEME SINAVI

# D E N E M E

#### DİKKAT! SINAVA BAŞLAMADAN ÖNCE AŞAĞIDAKİ UYARILARI MUTLAKA OKUYUNUZ.

- Adınızı, soyadınızı, T.C. Kimlik Numaranızı ve kurum kodunu optik forma mutlaka işaretleyiniz. Kurum kodu ve T.C kimlik numarası karnenizin oluşturulabilmesi için özellikle gereklidir.
- Genel Yetenek - Genel Kültür Testi için verilen toplam cevaplama süresi 120 dakikadır (2 saat).
- Bu testte 120 soru vardır.
- Cevaplamaya istediğiniz sorudan başlayabilirsiniz. Her soru ile ilgili cevabınızı, cevap kâğıdında o soru için ayrılmış olan yere işaretlemeyi unutmayınız.
- Sınav sonucunuzu [www.yaklasimkariyer.com](http://www.yaklasimkariyer.com) adresinden TC kimlik numaranızı girerek öğrenebilirsiniz.
- Türkiye Geneli Deneme sınavına ait **cevap anahtarı ve soruların çözümleri** sınavın uygulandığı son gün [www.yaklasimkitap.com](http://www.yaklasimkitap.com) adresinde yayınlanacaktır.
- Bu test puanlanırken testteki doğru cevaplarınızın sayısından yanlış cevaplarınızın sayısının dörtte biri düşülecek ve kalan sayı testle ilgili ham puanınız olacaktır. Bu nedenle, hakkında hiçbir fikriniz olmadığı soruları boş bırakınız. Ancak, soruda verilen seçeneklerden birkaçını eleyebiliyorsanız kalanlar arasından doğru cevabı kestirmeye çalışmanız yararınıza olabilir.

*Bu testlerin her hakkı saklıdır. Hangi amaçla olursa olsun, testlerin tamamının veya bir kısmının yayınevimizin yazılı izni olmadan kopya edilmesi, herhangi bir yolla çoğaltılması, yayımlanması ya da kullanılması yasaktır. Bu yasağa uymayanlar gerekli cezai sorumluluğu ve testlerin hazırlanmasındaki mali külfeti peşinen kabullenmiş sayılır.*

# NEDEN YAKLASIM? YAKLASIM!



- Alanında En Uzman Eğitim Kadrosu
- Çok seçenekli Ders Programları
- En isabetli soru tahminleri
- Profesyonel Rehberlik Desteği
- Ücretsiz Yayın Desteği
- Ücretsiz Deneme Sınavları
- Ücretsiz Video Ders İmkanı



GMK BULVARI NO: 19  
KIZILAY / ANKARA

229 84 94

[www.yaklasimkariyer.com](http://www.yaklasimkariyer.com)

# GENEL YETENEK

**DİKKAT: BU BÖLÜMDE YANITLAYACAĞINIZ SORU SAYISI 60'TIR.**

1-30 SORU : "Türkçeyi Kullanma Gücü"

30-60 SORU : "Matematiksel İlişkilerden Yararlanma Gücü" ile ilgilidir.

Bu bölümdeki sorularla ilgili cevaplarınızı, cevap kağıdınızdaki "**GENEL YETENEK**" bölümüne işaretleyiniz.

1. Ünlü yazarın yazarkenki kabızlığı hayranlarını harekete geçirdi, iki milyon toplayan bu insanlar bu yolla belki de sabrı satın almak istiyorlar.

**Parçada altı çizili söz grubuyla anlatılmak istenen aşağıdakilerden hangisidir?**

- A) Monoton, dingin bir dil kullanmak  
B) Eseri yazarken bir yandan da sağlık sorunlarıyla mücadele etmek  
C) Eserinde kalıplaşmış sözlere yer vermek  
D) Eserin oluşum aşamasını zamana yaymak  
E) Okuyucunun beklentilerini dikkate almamak

3. Biz şairlere düşen azar azar intihar etmektir.

**Aşağıdaki cümlelerden hangisi anlam yönünden bu cümleye en uzaktır?**

- A) Sanatçılar yaşam karşısında yılgınlık gösterebilir.  
B) Ölüm her şeyi olduğu gibi yazarın varlığıyla birlikte ortaya koyduklarını da yutan bir boşluktur.  
C) Şair yaşam karşısındaki avuntuyu yok olup gitmekte arayabilir.  
D) Çevresindeki kişilerden daha derin duyarlılığa sahip olan şair, başkalarının dert ve üzüntüleriyle dertlenip engellere yenik düşebilir.  
E) Hayatta avuntu bulamayan yazar, ölüm denen yokuşa kendini atabilir.

www.yaklasimkitap.com

2. Yönetmen James France... konusundaki ısrarının boş olmadığını kanıtarcasına bir sonraki filmde yine ... yöneldi.

**Yukarıdaki cümlede boş bırakılan yerlere anlatımın akışına göre sırasıyla hangilerinin getirilmesi en uygundur?**

- A) birey - reklama  
B) gerçeklik - bilimkurguya  
C) senaryo - doğaçlamaya  
D) uyarılama - edebiyata  
E) maliyet - tüketime

4. Eleştiri, eleştirdiğinde eleştiriye açılanlar da eleştiriye yakışmak zorundadır.

**Aşağıdaki cümlelerden hangisi bu cümlede anlatılmak istenene en yakındır?**

- A) Eleştirmen ele aldığı ürüne yakışmalı, bunu yazınsal bir dille yapmalıdır.  
B) Eser seçkin bir anlatımla ortaya konduğunda ancak iyi bir eleştirinin yanında sırtıtmaz.  
C) İyi yapıt eleştiriye başlamada eleştiren için sadece bir esin kaynağı olabilir.  
D) İyi bir eleştirmen yılda nitelikli belli sayıda iş çıkarabilir.  
E) Edebi eser varlığını eleştiri sahasında kanıtlamak zorundadır.

5. Kitaplar tanıtılmasın, kitap tanıtma yazıları olmasın demiyorum. (I) Var olan ortamın büsbütün buna çalışmasından da ürküntü duyuyorum. (II) Aynı kitap üstüne üç beş tanıtma yazısı yazılıp yazarla üç beş söyleşi yapıyor da çok zaman tek bir çözümlene, inceleme, eleştiri, anlam araştırma çalışması yapılmıyor. (III) Aslolan anlık tepki, eleştirmenden ya da eleştirmen konumuna gelebileceklerden istenen onun bütün yapıtlara ulaşması ve hepsine olumlu olumsuz tepkiler vermesi. (IV) Eleştiri amacına tam olarak ulaşmadığından bir içlenme boy gösteriyor. (V) Ah, Ataç'ın yokluğu!

**Yukarıda numaralandırılmış cümlelerden hangisi kendinden önceki cümlenin nedeni durumundadır?**

- A) I      B) II      C) III      D) IV      E) V

7. Forbes Türkiye'nin haberine göre, Türkiye'nin en çok kazanan 20 yazarı 2012'de 11 milyon lira telif geliri elde ederken zirvede 1,8 milyon liralık geliri ile Aşkın Gözyaşları kitabının da yazarı Sinan Yağmur var.

**Aşağıdakilerden hangisi bu cümleden kesin olarak çıkarılabilir?**

- A) Sinan Yağmur dışındaki yazarlar toplam 18,2 milyon lira kazanmıştır.  
B) Aşkın Gözyaşları kitabı Sinan Yağmur'a 1,8 milyon lira kazandırmıştır.  
C) Yazarların en çok kitap telif geliri elde ettikleri yıl 2012'dir.  
D) Sinan Yağmur'un Aşkın Gözyaşları dışında da kitabı vardır.  
E) Yazarlara telif geliri yılda bir kez ödenmektedir.

6. **Aşağıdaki cümlelerin hangisinde karşılaştırma yapılmamıştır?**

- A) Bursa'da yaşamının dezavantajları olduğu kadar avantajlarını da görüyorum.  
B) Eskiden olduğu gibi içinde yaşadığımız dönemde de edebiyatın taşra ortamında kendini ortaya koyabilmesine olanak yok.  
C) Sanat yapıtı oluşum anında daha oluşurken öncesiyle sanat adına yapılan, söylenen, boyanan, bestelenen bütün insanlık birimleriyle boy ölçüşmek, yarışmak zorundadır.  
D) Sanatçı en elverişli koşulları oluşturup ruhunu ve beynini kazıyacak, karanlığa ürün olarak koyacaktır.  
E) Sanatçı, bünyesinin koşullarını desteklemişse ortaya koyduğunun sanat yapıtı olma olasılığı daha yüksektir.

8. I. Eski neslin konuşurken kullandığı kelimelerden birçoğunu bugünün gençleri anlamıyorlar. II. Demek ki onların konuşma dilinde bu kelimeler yer almamıştır. III. Şu halde konuşma dili gibi kaypak bir kavramı bir kenara bırakarak dili sadeleştirme de ölçü olarak halk dilini kabul etmek daha doğru olur. IV. Yazar halk dilini iyi bilmeli ki atacağı sözcüğü doğru tespit etsin. V. Bu konuda ölçüyü bulmak için araştırmalarımıza devam eduralım, dili özleştirme çabası çıkmasın aklımızdan

**Yukarıdaki cümlelerle ilgili aşağıdaki yargılardan hangisi yanlıştır?**

- A) I. cümlede saptama yapılmıştır.  
B) II. cümlede çıkarım yapılmıştır.  
C) III. cümlede karşılaştırma yapılmıştır.  
D) IV. cümlede yargı gerekçesiyle birlikte verilmiştir.  
E) V. cümlede öneri söz konusudur.

9. Aşağıdaki cümlelerden hangisi kanıtlanabilirlik açısından farklıdır?

- A) Edebiyatı sanatın içinde anıp geçmek, ayırmaya çalıştığımız bu alana günümüzde ölçsüz zararlar vermektedir.
- B) Edebiyat adamlarımızın gezetçiler karşısında bir özgül ağırlıkları vardır.
- C) Mehmet Fuat, Adam Sanat'taki yazılarında edebiyat dışına çıkmasının gerekçelerini açıkladı.
- D) Gazetecilikle yazarlık arasında fark olması gerektiği her fırsatta vurgulayan Özdemir İnce, özellikle gazeteyi andırır yayın organlarında yazarken tipik gazeteci biçimine yönelmekten kendini kurtarmamaktadır.
- E) Yazar yaşadığı çevreden çok etkilenir. Bu kaçınılmazdır.

11. Mısır uygarlığından Azteklere ne geçtiği geçebileceği

üzerine düşünebilirim. Akla gelebilecek her şeyin bir-biriyle sürtüşerek, çatışarak var olduklarını kabul eden  
III  
lerdenim. Sözgelimi Peter Benchley'in aklına eser de  
IV

Atlas Okyanusu'nun diplerinde avlanan azman bir cins köpek balığını Amity kasabasına getirir.  
V

**Bu parçada numaralandırılmış sözlerin hangisinde yazım yanlışı yapılmıştır?**

- A) I B) II C) III D) IV E) V

10. I. Fransız Yönetme Gandry, Sil Baştan ile seyircisini aşkın hafızasına ve düşsel alemine götürmüştü.
- II. Rüya Bilmecesi'nde de aynı sulara yüzerek geçmişle geleceği rüya ile gerçeği iç içe geçirerek aşkın çocuksu naifliğini hatırlatıyordu.
- III. Baris Vian'ın yozlaşmış ilişkilerin gölgesinde yaşanan bir aşkı anlattığı romanı Günlerin Köpüğü'nün Gondry gibi bir yönetmenin düşsel kadrainde ustalıklı yeniden hayat bulması heyecanlanmamız için yeterli.
- IV. Yönetmen Colin ile Chbe'nin ölüm ile sınanan aşkını perdeye yansıtıyor.
- V. Filmin başrollerindeki Romain Duris, Audrey Tautou da roman kahramanlarının ete kemiğe bürünmüş hali.

**Parçada numaralandırılmış cümlelerin hangisinde bir değerlendirme yapılmıştır?**

- A) I B) II C) III D) IV E) V

12. Deneme özgürce yazmaya en yatkın türdür. Hiçbir bağ, (I) yazarı engellemez; (II) hiçbir kural, düşüncelerini söylemekten alıkoyamaz. Suut Kemal Yetkin, deneme türünün sağladığı olanaklardan yararlanarak, (III) her konuya eğilmiş; (IV) şiir, roman, öykü denemelerin konusu olmuştur. (V)

**Yukarıda numaralandırılmış noktalama işaretlerinden hangisi yanlış kullanılmıştır?**

- A) I B) II C) III D) IV E) V

13. Denemeleri okuyana çok şey öğretir.

**Aşağıdaki cümlelerden hangisi öğelerinin sıralanışı bakımından bu cümleyle özdeştir?**

- A) Türkçenin biçimsel olarak incelenmesini bize aydınlar öğütler.
- B) Yazarın son yapıtı zihnimde yeni hayaller uyandırdı.
- C) Acıları kalbimden hatıralar çıkarır.
- D) Gözlerini gözlerime yaklaştırma, derdi.
- E) Bazı teknik yanlışları sahnede görmeyebilir.

14. Göçmen sorununun büüklüğünü içinde yaşayan in

I II

san, onlara sevgi beslemekten kendini alamaz; insanlı

III

ğın yüzü sararan bir yüze renk verdiğinde ağaracaktır.

IV V

**Parçada numaralandırılmış sözcüklerden hangisinin kökü tür yönünden farklıdır?**

- A) I B) II C) III D) IV E) V

15. Kendimizde olmayanı başkasında görünce içimizdeki kıskançlık inkar şekline girerek yazılarımıza aksediyor.

**Yukarıdaki cümlede hangisi yoktur?**

- A) Belgisiz adıl
- B) Birleşik Fiil
- C) Ulaç
- D) Tamlayanı düşmüş ad tamlaması
- E) Türetilirken ünlü kaybına uğramış sözcük

16. Antoloji karşısındaki sevgisizliğim, üreticisinin konumunda önce elbette onun kendi konumundan kaynaklanıyordu. Onun konumuysa sanki şuydu: Onca özneyi parçalamış, talan etmiş bir nesne. Özneye antolojiyle birer ikişer organını kaptıran ve sanki bu yüzden elden ayakta atıl kalan, gözden düşen, tavan arasında, rafaların gerisinde tozlanmaya bırakılan dosyaları ya da kitapları kastettiğim belli,

**Parçada asıl yakınılan durum aşağıdakilerden hangisidir?**

- A) Antolojilerin dilin yapısına ve dil bilgisi kurallarına uymayan örneklerle dolu olması.
- B) Antolojilerin okuyucuyu artık yapıtlarla tanıştırmıyor olması.
- C) Antoloji oluşturan kimselerin başkalarının eserleri üzerinden fayda sağlaması
- D) Antolojilerin belli bir okur kitlesine hitap ediyor olması
- E) Antoloji oluşturmaın kolay bir işmiş gibi görülmesi

17. I. Bakıyorsun gelişmeye açık bir dergi, izleyeyim diyor, abone oluyorsun. II. Bir iki sayı geliyor, sonra gelmeye başlıyor, daha sonra hiç gelmiyor. III. Kapanmış olsa üzüleceksin, oysa yayımı sürüyor, sürdürdüğünü öğreniyorsun, kapanmamış olduğuna daha çok üzülüyorsun. IV. Sayfalar derme çatma öykü ve şiirlerle dolu. V. Yıl on iki ay Nâzım'ın adının, Atilla İlhan'ın adının doğru yazılmadığını izler bir çerçevede adının doğru yazılmasını nasıl beklersin?

**Parçada numaralandırılmış cümlelerden hangisi anlatımın akışını bozmaktadır?**

- A) I B) II C) III D) IV E) V

18. Coğrafyamızın etkisi altında olduğumuz yadsınamaz bir gerçek. Şiirimizi, öykümüzü, romanımızı, deneme-mezi bizim kadar, bizim kadar değilse bile, belli oranda coğrafyamız belirliyor. Soruşturma yanıtlarında herkeslerin öncelikle en yakın çevresini anlatmasında yalnızca takımçılık aramayalım. Buradaki en önemli etken yalın ve karmaşık anlamıyla coğrafya sanıyorum. Kendi özel ortamından, coğrafyasından etkilenen şair, yazar aynı ortamdan etkilenen şair ve yazarları fark ediyor öncelikle. Böyle olunca bir kentte yaşayanlar, bir dergi çevresindekiler, yaklaşık aynı doğumlular, dışarıya bir takım olarak yansıyorlar, akım ne de olsa köklü bir değişim. Sınırlı coğrafya bizi kendimizi dünyanın ve hatta tarihsel sürecin merkezi sanmaya mı zorluyor nedir?

**Parçada asıl anlatılmak istenen aşağıdakilerden hangisidir?**

- A) Sanatçının yaşadığı coğrafyadan bağımsız eser vermesi mümkün değildir.
- B) İdeolojiler sanatçıların takım ruhuyla aynı konuda eser vermelerinin önünü açar.
- C) Edebi ürünlerin farklı coğrafyalardan çıkması ortak yazın alanı oluşmasını engeller.
- D) Kolektif ruhla yazılan eserlerin bireysellikten uzak olması kaçınılmazdır.
- E) Coğrafya; eserlerin içeriğini, edebi toplantımları ve yazarın dünya görüşünü belirleyen bir role sahiptir.

19. Kabuki tiyatrosunda "aya bakmak" denilen ve oyuncunun işaret parmağıyla gökyüzünü gösterdiği bir hareket vardır. Bir oyuncu hayal edelim: Çok yeteneklidir, bu hareketi çok zarif bir şekilde yapar, seyirciyi yaptığı hareketin güzelliğiyle büyüler, herkesi bu konudaki ustalığına hayran bırakır. Başka bir oyuncu hayal edelim: O da aynı hareketi yapar, ama seyirci hareketin zerafetinin farkına varmaz, ayı gösteren oyuncuyu değil, oyuncunun işaret ettiği ayı görür. Yoshi Oida'nın gönlü seyirciye aynı göstermeye başaran oyuncudan yanadır. Yani ... Geliştirdiği oyunculuk metodunun özü budur.

**Parçada boş bırakılan yere anlatımın akışına göre hangisinin getirilmesi en uygundur?**

- A) seyircinin dikkatini bir anda dağıtan oyuncudan yanadır.
- B) oyunculuğuyla parmak ısırtan oyuncudan yanadır.
- C) görünmez olabilen oyuncudan yanadır.
- D) dikkatleri üzerine çeken oyuncudan yanadır.
- E) oyunu, oyunculuğa feda eden oyuncudan yanadır.

20. 1971 yılında İstanbul Nişantaşı'nda Hadi OLCA tarafından kurulan Akademi Kitabevi kısa süre içinde yazarların, şairlerin ve tüm edebiyat severlerin buluşma noktası olmuş, edebiyat dünyasını imza günü ile tanıştırmıştır. En az kitabevi kadar sevilen ve sayılan Akademi Edebiyat Ödülleri bu kitabevi tarafından hayata geçirilmişti. Genç yazarları teşvik etmek amacıyla 1979'da verilmeye başlanan ödülü Murathan Mungan'dan Ahmet Yasın'a kadar pek çok yazar kazanmıştı. 90'lı yılların sonlarına doğru kapanan kitabevi nihayet 14 yılın ardından bu defa Kadıköy'de kapılarını kitapseverlere açtı.

**Parçada Akademi Kitabevi ile ilgili olarak**

- I. İmza günü geleneğini devam ettirdiğine
- II. Akademi Sanat Ödülü'nü alan ilk kişinin Murathan Mungan olduğuna
- III. Akademi Kitabevi'nin 2004'te yeniden açıldığına
- IV. Kurulduğu yıllarda edebiyat ödülü vermediğine

**hangilerine kesin olarak ulaşılabılır?**

- A) I-III-IV
- B) III - IV
- C) IV
- D) III
- E) I-II-III-IV

21. I. Resim yapmak o anda roman yazmaktan daha mutlu ediyor ama roman yazınca dünyanın daha çok içine girdiğimi, dünyayı kavradığımı hissediyorum. II. Düşünerek değil sevgiyle yapıyor resmi Pamuk, böyle söylüyor. III. Böyle bakınca Orhan Pamuk düşünceleri bir romancı ama saf bir ressam. IV. Sözlerini öyle tamamlıyor ki Schiller'den ödünç aldığı bir yaklaşımla okur ve yazarları saf ve düşünceli olarak ayırdığı "Saf ve Düşünceli Romancı" kitabı geliyor. V. Resim yaparken ise o andaki sanatsal faaliyetin o anda araştırma yapmanın tadını çıkarıyorum, diyor.

**Yukarıdaki cümleler anlamlı ve kurallı bir paragraf oluşturacak şekilde sıralandığında hangisi baştan dördüncü olur?**

- A) I
- B) II
- C) III
- D) IV
- E) V

22. Sanatı seven, sevdiğini söyleyen insanların çoğu büyük bir ustanın hayat hikayesini anlatan kitaplarda onun da çocukluğunda çember çevirdiğini okudular mı bayırlılar bu işe, çember çevirişle o kişinin sanatı arasında ilgi kurmaya kalkarlar ama...

Ben böyle bile önemli sanatçı olamadım, bu alemde o çocuk mu olacak diyen bir halleri vardır. Sanatçıların çoğunun hayranlarının kendisinden yaşlılar hatta yaşlıları arasından değil de kendisinden küçük yaşta insanlardan çıkması bundandır, böyle bencil bir duygudur.

**Parçada anlatımın akışına göre boş bırakılan yere hepsinin getirilmesi en uygundur?**

- A) sanatçıyı sanatçı yapan özelliklerin temelini o günlerde atıldığını bilmezler.
- B) kurulan bu ilgi bir süre sonra canlarını yakmaya başlar.
- C) yaşları gereği çember çevirdiğini gördükleri bir çocuğun ustalığına, sanatçılığına dayanamazlar.
- D) kendilerinin de o yıllarda çember çevirdiklerini hemen unutuverirler.
- E) çocukluğunda çember çeviren çocuğun sanatta kapladığı alanın büyüklüğünü fark edemezler.

23. Nasıl bir yaz yağmuru ya da kış güneşi, büyüleyici bir görünüm, güzel bir insan yüzü, tek başlarına bu konularda şiir, öykü yazmak için yeterli nedenler değilse yayımlanan çok güzel bir şiir ya da öykü kitabı kapkalin bir roman da tek başına bu konuda bir eleştiri, eleştirel deneme yazılması için yeterli değildir.

**Aşağıdakilerden hangisi bu parçada anlatılanı desteklemez?**

- A) Edebi eserin oluşumunda esin tek başına yeterli değildir.
- B) Şiir ve öteki yazınsal ürünlerin başarısı büsbütün çabaya ve yoğunlaşmaya indirgenmemelidir.
- C) Eleştirmeni, eleştirel denemeyi edebiyatın yanında yakınında tutmamak yazınsal ürünü ya da yaratıyı mekanik bir devindirmeye indirgemektir.
- D) Sanatçının ilhamla başlayan serüveni yazarlığıyla desteklenmezse çok uzun sürmez.
- E) İyi bir romandan iyi bir eleştiri çıkacağını kimse garanti edemez.

24. İnsanoğlu tüm canlılar içinde bir canlı olmaktan çıkıp tüm canlıların ve dünyanın kendisi için var olduğu düşüncesine kapıldığından beri çevresini kontrol altına alarak bir yayılma ivmesi kazandı. (I) Bir bakıma mikrobakteriyeller gibi insanlar da dünyanın illeti halindedir. (II) Ulaştıkları her yeri kendilerine uygun hale getiriyor, karşılaştıkları tüm varlıkları kendilerine uyduruyorlar. (III) Bu, dünyanın cehenneme dönmesi anlamına gelse bile insani düzenlerini dünyaya dayatabiliyorlar. (IV) İnsanların ilk iş birliği yaptığı canlılar arasında hayvanlar geliyor. (V) Tüm canlılar içinde bir canlıyken rekabet içinde olduğu, kurbanı olduğu veya avladığı, ürktüğü ve ürktüğü hayvanlar daha sonra bir hizmet etmiş insanlara, kimi zaman eğlendirmiş, kimi zaman da besini olmuş insanın. Böylece evine mecbur edip evcilleştiriyor birçok türü.

**Parça iki paragrafa ayrılmak istenildiğinde ikinci paragraf numaralandırılmış cümlelerin hangisiyle başlar?**

- A) I
- B) II
- C) III
- D) IV
- E) V

25. Büyüklerin söylediklerine göre bundan 40-50 yıl öncesine kadar şu görünen kel tepeler balta kesmez ormanlarmış. Ormanın iyiliğini, orman olduğu zamanlardaki güzelliği anlatırlar anlatırlar da sonunda: "Ya oğul, işte böyle kuyruklu dağın odununa kaldık!" diye içlerini çekerler. Kuyruklu dağın odunu diye hayvan pisliğinden yapılan tezeklere derler bizim köyde. Yozgat ile Çekerek ilçesi arasındaki 125 km'lik kara yolu boyunca hep bunu düşündüm. Bilmem kaç yıl önce tarla yapılmak için kasken yakılan ormanların yerleri hala belli olup durur. Sonra Dağın Dağları'nın kuzeyine dolanınca ağaç denizinde sandım kendimi, öylesine yeşillik. Onların da ömürleri sona ermek üzere. Zira bura sakinleri işin kolayını öylesine bulmuşlar ki... Bahçe duvarlarını bile taze çam dallarıyla örüyorlar, gaz yerine sabahlara dek ocaklar dolusu taze çam dalları yanıyor evde. Sonra delikanlılar her akşam köy meydanında iki araba mı, üç araba mı dalyan gibi ağaçları getirip yığıyorlar ve hepsi bitinceye kadar ışığında sinsin oynuyorlar.

**Parçada aşağıdakilerden hangisine değinilmemiştir?**

- A) Köyde ağaçların sık olduğu döneme şahit olan kişilerin bulunduğu
- B) Kuyruklu dağın odununa muhtaç olmaktan duyulan üzüntüye
- C) Ormanlık alanda yapılan tahribatın izlerinin silinmediğine
- D) Bölgede yer yer yeşil alanlara rastlandığına
- E) Sinsinin ağaç dallarıyla oynanan bir oyun olduğuna



26. Parçanın anlatımında hangisinden yararlanılmıştır?

- A) Benzetme B) Karşılaştırma  
C) Sayısal verilerden D) Sayıp dökme  
E) Tanımlama

27. VE 30. SORULARI, VERİLEN BİLGİLERE GÖRE BİRBİRİNDEN BAĞIMSIZ OLARAK CEVAPLAYINIZ.

Bir meyve-sebze halinde elle ve makineyle toplanarak satışa sunulan bazı meyve türleri verilmiştir.

Meyve Türü	Toplanma Türü	
	Elle	Makineyle
Portakal	x	
Mandalina	x	
Üzüm		x
Elma	x	
Böğürtlen	x	x

Bu meyvelerden portakal ve mandalina kolilenecek satılırken, üzüm, böğürtlen ve elma kiloyla veya kolilenecek satılmaktadır.

Ali, Veli, Mehmet, Poyraz, Taner, ve Cenk adlı kişilerin aldıkları meyvelerle ilgili aşağıdaki bilgiler bilinmektedir.

- Veli elle toplanan bir meyve türü almıştır
- Portakal alan kişi Cenk'tir.
- Böğürtlen haricindeki her meyve türü yalnızca bir kişi tarafından alınmıştır.
- Kolilenmiş meyvelerden alan toplam 4 kişi vardır
- Kiloyla meyve alanlardan biri üzüm almıştır.
- Mehmet kiloyla, Taner kolilenmiş olan aynı tür meyvelerden almışlardır.

27. Buna göre aşağıdakilerden hangisi kesin olarak yanlıştır?

- A) Mehmet böğürtlen almıştır  
B) Cenk kolilenmiş meyvelerden almıştır  
C) Veli, kolilenmiş meyvelerden almıştır  
D) Veli böğürtlen almıştır  
E) Taner, böğürtlen almıştır

28. Poyraz'ın meyveyi kiloyla aldığı biliniyorsa aşağıdaki ifadelerden hangisi kesin olarak doğrudur?

- A) Veli, elma almıştır  
B) Ali, mandalina almıştır  
C) Ali, elma almıştır  
D) Veli, meyveyi koliyle almıştır  
E) Cenk, meyveyi koliyle almıştır

29. Ali'nin elma aldığı biliniyor ise aşağıdaki ifadelerden hangisi kesin olarak yanlıştır?

- A) Poyraz, üzüm almıştır  
B) Veli, meyveyi kiloyla almıştır  
C) Poyraz, meyveyi kiloyla almıştır  
D) Ali, meyveyi koliyle almıştır  
E) Veli, mandalina almıştır

30. Koliyle meyve aldığı bilinen Veli aşağıdaki meyve türlerinden hangilerini almış olabilir?

- I. Üzüm  
II. Elma  
III. Mandalina

- A) Yalnız I B) Yalnız II C) II ve III  
D) I ve III E) I, II ve III

$$31. 3 - \frac{1}{1 - \frac{1}{2}} : 2 - \frac{2}{1 - \frac{1}{3}}$$

işleminin sonucu kaçtır?

- A) -2 B) -1 C) 0 D) 1 E) 2

$$32. \frac{0,072}{0,012} + \frac{1,02}{0,34} + \frac{12,12}{0,1212}$$

işleminin sonucu kaçtır?

- A) 9,9 B) 10,9 C) 99 D) 109 E) 1009

33.  $12a5$  dört basamaklı ve  $xx+yy+zz + \dots + tt$  iki basamaklı sayılar olmak üzere

$$=12a5$$

olduğuna göre  $x + y + z + \dots + t$  rakamlarının toplamı kaçtır?

- A) 85 B) 95 C) 99 D) 105 E) 115

34.  $x$  bir doğal sayı olmak üzere

$\frac{17!}{2^x}$  sayısı bir çift sayıdır.

Buna göre  $x$ 'in alabileceği değerler toplamı kaçtır?

- A) 136 B) 120 C) 105 D) 96 E) 91

35.  $a, b$  ve  $c$  asal sayılar olmak üzere

$(a-2).(b-5).(a+b-3) = 2.c$  eşitliği verilmiştir.

Buna göre  $a.b.c$  çarpımı kaçtır?

- A) 147 B) 98 C) 56 D) 49 E) 63

36.  $x, y$  ve  $z$  pozitif tam sayılar olmak üzere

EBOB  $(x, y) = 15$

EBOB  $(y, z) = 20$

olduğuna göre  $x+y+z$  toplamı en az kaçtır?

- A) 75 B) 85 C) 95 D) 105 E) 120

37. 8 tane 60'ın çarpımı 8 tane 3'ün çarpımına bölüldüğünde elde edilen sayı kaç basamaklıdır?

- A) 8 B) 9 C) 10 D) 11 E) 12

38.  $3^a = 7^b$  olmak üzere  $3^{\frac{a+b}{b}}$  değeri kaçtır?

- A) 14 B) 21 C) 28 D) 35 E) 63

$$39. \sqrt{10 - 2\sqrt{21}} \cdot (\sqrt{7} + \sqrt{3})$$

işleminin sonucu kaçtır?

- A) 2 B)  $2\sqrt{2}$  C) 4 D)  $2\sqrt{3}$  E) 8

40.  $2 < x < 5$  olmak üzere

$\frac{|x-7|+|6-x|}{|3x|+|-x|-26}$  işleminin sonucu kaçtır?

- A)  $-\frac{1}{2}$  B) -1 C) 0 D)  $\frac{1}{2}$  E) 1

41.  $x < 0 < y$  olmak üzere

I.  $xy^{-5}$

II.  $y-x^{-3}$

III.  $x+y^{-4}$

ifadelerinden hangileri daima negatiftir?

- A) Yalnız I B) Yalnız II C) I ve II  
D) I ve III E) I, II ve III

42.  $\frac{\sqrt{x}}{\sqrt{x}+\sqrt{y}} + \frac{\sqrt{y}}{\sqrt{x}-\sqrt{y}} = 3$

olduğuna göre  $\frac{x}{y}$  oranı kaçtır?

- A)  $\frac{1}{4}$  B)  $\frac{1}{2}$  C) 1 D) 2 E) 4

43.

57	z	38	y	x	33	43	51	t
----	---	----	---	---	----	----	----	---

Yukarıdaki şekilde 9 kutudan her birinin içine bir kurala göre sayılar yazılmıştır Bu kural şöyle tanımlanmıştır.

- 5. sırada bulunan kutudan eşit uzaklıkta bulunan kutuların içindeki sayıların toplamının üçte biri 5. sırada yer alan kutunun içindeki sayıya eşittir.
- Bu kural diğer kutularda bulunan sayılar için geçerli değildir.

Buna göre  $(x + y) - (z + t)$  işleminin sonucu kaçtır?

- A) 21 B) 24 C) 27 D) 30 E) 36

44. Bir sınıfta bulunan 27 öğrencinin 15 tanesinin ortalaması 6 diğerlerinin ise 5 tir.

Bu sınıfa not ortalaması 10 olan kaç öğrenci daha katılırsa tüm sınıfın not ortalaması 8 olur?

- A) 21 B) 27 C) 33 D) 35 E) 37

45. Eşit hızla çalışan 3 işçi bir işi 12 günde yapabiliyor. İşçilerden biri işe 2 gün, diğeri ise 4 gün geç başlıyor.

Buna göre bu iş toplam kaç günde biter?

- A) 13 B) 13,5 C) 14 D) 15 E) 15,5

46. Poyraz'ın parasıyla yaptığı bazı harcamalar aşağıda verilmiştir.

- Önce parasının  $\frac{1}{4}$  ünün 50 ₺ fazlası ile kitap
- Geri kalanın  $\frac{3}{11}$ 'i ile kalem
- Geri kalanın  $\frac{5}{8}$ 'i ile de defter alınca geriye 150 ₺'si kalıyor.

Buna göre Poyraz'ın başlangıçta kaç ₺'si vardır?

- A) 1500 B) 1200 C) 900  
D) 800 E) 600

47. Değişik n farklı renkte (4 sarı, 4 kırmızı, 4 mavi gibi) bilyenin bulunduğu bir kutudan aynı renkten 4 tane almayı garantilemek için en az 46 bilye çekmek gerekiyor, n kaçtır?

- A) 14 B) 15 C) 22 D) 23 E) 43

48. Dört kişinin  $x$  yıl sonraki yaşlarının toplamı 65,  $2x$  yıl önceki yaşlarının toplamı ise 29 dur.

**Buna göre, bu dört kişinin en az kaç yıl sonra yaşlarının toplamı üç basamaklı bir sayı olur?**

- A) 9 B) 10 C) 11 D) 12 E) 13

49. Bir yayınevi sahibi sattığı bir kitap için aşağıdaki gibi iki farklı kampanya yapmıştır.

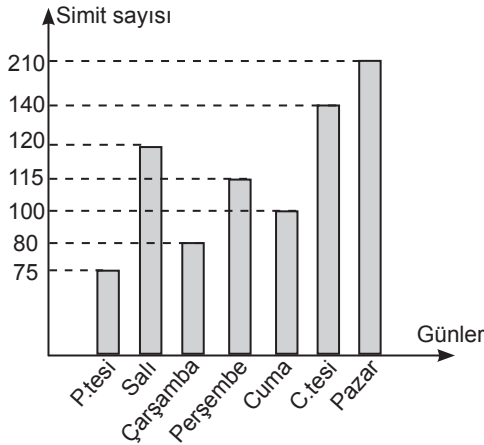
- 1. kampanya: 300 adet ve üzeri kitap alanlara 30 tanesi bedava ve geri kalanlar %10 indirimli
- 2. kampanya: 400 adet ve üzeri kitap alanlara tüm kitaplar %15 indirimli

Mağazaya gelen bir kırtasiye sahibi yayınevinden 400'den fazla kitap almıştır. Kırtasiye sahibinin ödeyeceği ücret hesaplanmış ve değerlerin eşit olduğu görülmüştür.

**Buna göre kırtasiye sahibi kaç adet kitap almıştır?**

- A) 450 B) 480 C) 540 D) 560 E) 600

**50. VE 52. SORULARI, VERİLEN BİLGİLERE GÖRE BİRBİRİNDEN BAĞIMSIZ OLARAK CEVAPLAYINIZ.**



Yukarıdaki sütun grafiğinde bir simitçinin bir hafta boyunca günlük kaç tane simit sattığı görülmektedir.

50. Simitçinin 1 haftada satmış olduğu simitlerin ortalaması kaçtır?

- A) 90 B) 100 C) 110 D) 120 E) 130

51. Cumartesi ve Pazar günü sattığı toplam simit sayısı Salı ve Çarşamba günü sattığı toplam simit sayısının % kaç fazlasıdır?

- A) 80 B) 75 C) 60 D) 120 E) 140

52. Hangi iki gün arasında satılan simit farkı az olanın %25 fazlasına eşittir?

- A) Salı-Çarşamba B) Çarşamba-Cumartesi  
C) Çarşamba-Cuma D) Perşembe-Cumartesi  
E) Pazartesi-Perşembe

53. Aras evlerinin önünde bulunan bir ağaç ile evleri arasında oyun oynarken ağacın arkasından bir köpeğin havlayarak kendisine saatte 24 km hızla geldiğini görüyor. Eve olan uzaklığı ağaca olan uzaklığının 3 katı olan Aras, eve doğru koşarsa tam kapıda, ağaca doğru koşarsa tam ağacın dibinde köpeğe yakalanacaktır.

**Buna göre Aras'ın koşma hızı saatte kaç km'dir?**

- A) 6 B) 8 C) 12 D) 16 E) 18

54. Bir futbol takımı her üç günde bir idman yapmaktadır.  
9. idmanlarını perşembe günü yaptıklarına göre 47. idmanlarını hangi gün yaparlar?

A) Cuma                      B) Cumartesi                      C) Pazar  
D) Pazartesi                      E) Salı

55.  $f(x+3) = 3x + 5$  koşulunu sağlayan  $f$  fonksiyonu için  $f(a+1) = 23$  ise  $a$  değeri kaçtır?

A) 4                      B) 6                      C) 7                      D) 8                      E) 10

56. Bir çift zar birlikte atılıyor. Zarlardan birinin 4 geldiği bilindiğine göre, iki zarın üst yüzeyinde gözükken sayıların toplamının tek sayı olma olasılığı kaçtır?

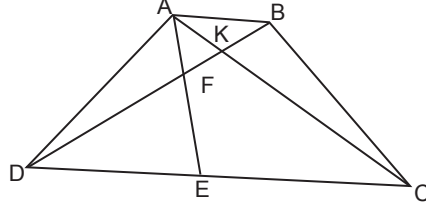
A)  $\frac{6}{11}$                       B)  $\frac{4}{11}$                       C)  $\frac{5}{12}$                       D)  $\frac{1}{2}$                       E)  $\frac{11}{36}$

57. A ve B kümelerinin alt küme sayıları,  $A \cap B$  kümesinin alt küme sayılarının sırasıyla 4 ve 8 katıdır.

$s(A \cup B) = 13$  olduğuna göre  $s(A \cap B)$  kaçtır?

A) 6                      B) 7                      C) 8                      D) 9                      E) 10

58.



ABCD yamuğunda

$$\frac{|ED|}{|EC|} = \frac{1}{2}$$

$$|DF| = 6 \text{ cm}$$

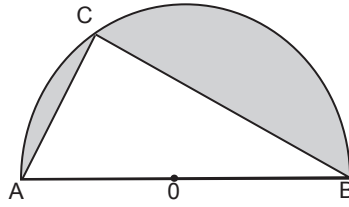
$$|FK| = 4 \text{ cm}$$

$$|KB| = x \text{ cm}$$

Yukarıda verilenlere göre  $x$  kaç cm'dir?

A) 5                      B)  $\frac{11}{2}$                       C) 6                      D)  $\frac{13}{2}$                       E) 7

59.



O merkezli yarım çember verilmiştir.

$$M(\angle ABC) = 30^\circ$$

$(\widehat{ABC})$  üçgeninin alanı  $18\sqrt{3} \text{ cm}^2$ 'dir.

Buna göre taralı bölgenin alanı aşağıdakilerden hangisidir?

A)  $9\pi - 9\sqrt{3}$                       B)  $18\sqrt{3} - 4\pi$                       C)  $18\sqrt{3} + 4\pi$   
D)  $36\pi - 18\sqrt{3}$                       E)  $18\pi - 18\sqrt{3}$

60.  $x + y - 7 = 0$  doğrusunun üzerinde bulunan ve A (2,3) noktasına en yakın olan B noktasının koordinatları çarpımı kaçtır?

A) 7                      B) 9                      C) 12                      D) 15                      E) 18

# GENEL KÜLTÜR

**DİKKAT: BU BÖLÜMDE YANITLAYACAĞINIZ SORU SAYISI 60'TIR.**

1-27 SORU : "Atatürk İlkeleri ve İnkılap Tarihi" ile "Türk Kültür ve Medeniyetleri"

28-45 SORU : "Türkiye Coğrafyası"

46-60 SORU : "Temel Yurttaşlık Bilgisi ve Güncel Konular" ile ilgilidir.

Bu bölümdeki sorularla ilgili cevaplarınızı, cevap kağıdınızdaki "**GENEL KÜLTÜR**" bölümüne işaretleyiniz.

1. I. Toplumsal ilişkileri düzenleyen yazısız hukuk kurallarıdır.  
II. Devlet yöneticilerinin eşyalarıyla gömüldüğü mezarlardır.  
III. Toplumu oluşturan en küçük sosyal birimdir.  
IV. Kurultay üyelerine verilen unvandır.
- Yukarıda İslamiyet öncesi Türk tarihine ait verilen bilgiler aşağıdaki kavramlarla eşleştirildiğinde hangisinin açıklaması yoktur?**

- A) Toygun B) Oğuş C) Kurgan  
D) Töre E) Baksı

2. Aşağıdaki savaşlardan hangileri Türk-İslam devletleri arasında olmamıştır?
- A) Dandanakan ( 1040)  
B) Pasinler ( 1048)  
C) Yassıçimen(1231)  
D) Otlukbeli( 1473)  
E) Nesa (1035)

3. Aşağıda verilen Osmanlı dönemi yazar ve eser eşleştirmelerinden hangisi yanlıştır?
- A) Aşıkpaşazade – Tevarih-i Ali Osman  
B) Katip Çelebi – Cihannüma  
C) Piri Reis – Miratü'l – Memalik  
D) Evliya Çelebi – Seyahatname  
E) Sabuncuoğlu Şerafettin – Mücerrebname

4. Osmanlı İmparatorluğu, Gerileme döneminde Avrupa'nın üstünlüğünü kabul ederek, başta askeri alanda olmak üzere, devletin bütün kurumlarında Avrupa tarzı ıslahatlar yapmaya çalışmıştır.

**Aşağıda verilen gerileme dönemi padişahlarından hangisi döneminde Avrupa örnek alınarak, askeri alanda ıslahat yapılmamıştır?**

- A) III. Ahmet B) I. Mahmut  
C) III. Mustafa D) I. Abdülhamit  
E) III. Selim

5. Aşağıdakilerden hangisi Osmanlı İmparatorluğu'ndaki eğitim ve öğretim kurumlarından değildir?

- A) Rüşdiye B) İdadi  
C) Sultani D) Ribat  
E) İbtidai

6. I. Nizam-ı Cedid  
II. İrad-ı Cedid  
III. Sekban-ı Cedid
- Yukarıda verilenlerden hangileri III. Selim dönemine ait yeniliklerdendir?**

- A) Yalnız I B) I ve II C) II ve III  
D) I ve III E) I, II ve III

7. Aşağıdakilerden hangisi Osmanlı İmparatorluğu'nun XIX. yüzyılda uyguladığı siyasettir?

- A) Fetih siyasetini sürdürmek
- B) Kaybettiği toprakları geri almak
- C) Milliyetçilik hareketlerini desteklemek
- D) Yükselme dönemindeki gücüne tekrar kavuşmak
- E) Devletlerarası çıkar mücadelelerinden yararlanmak

8. - Maarif Nezareti'nin kurulması  
- Kaime adı ile kağıt para basılması  
- Bank-ı Dersaadet adı ile ilk bankanın kurulması

Yukarıda verilen gelişmeler Osmanlı İmparatorluğu'nun hangi döneminde gerçekleşmiştir?

- A) Duraklama
- B) Gerileme
- C) Tanzimat
- D) Meşrutiyet
- E) İstibdat

9. Türk Tarihinde ilk kez siyasi parti ve dernek kurma hakkı hangi dönemde verilmiştir?

- A) Tanzimat
- B) I. Meşrutiyet
- C) II. Meşrutiyet
- D) I. TBMM
- E) Cumhuriyet

10. Aşağıdakilerden hangisi II. Meşrutiyet' in ilanı sonrasında ortaya çıkan gelişmelerden değildir?

- A) Bulgaristan' ın bağımsızlığını kazanması
- B) Reval görüşmelerinin yapılması
- C) Balkan Savaşları' nın başlaması
- D) II. Abdülhamit' in tahttan indirilmesi
- E) Avusturya' nın Bosna-Hersek' i ilhakı

11. I. Donanmanın Haliç' te çürümeye bırakılmış olması  
II. Mısır' ın İngiltere tarafından işgal edilmiş olması  
III. Bölgedeki Arapların İngilizlerle işbirliği yaparak ayaklanmaları

Yukarıdakilerden hangileri İtalya' nın Trablusgarp' ı işgali üzerine Osmanlı İmparatorluğu' nun bölgeye müdahale edememesinin nedenlerindedir?

- A) Yalnız II
- B) Yalnız III
- C) I ve II
- D) II ve III
- E) I, II ve III

12. I. Amiral Bristol Raporu  
II. General Harbord Raporu  
III. Sandler Raporu

Yukarıda verilen uluslar arası raporlardan hangileri Milli Mücadelenin haklılığını ortaya koyan belgelerden değildir?

- A) Yalnız I
- B) Yalnız II
- C) Yalnız III
- D) I ve II
- E) II ve III

13. Aşağıdakilerden hangisi Misak-ı Milli' de bahsedilen konulardan değildir?

- A) Kapitülasyonların kaldırılması
- B) Osmanlı dış borçlarının ödenmesi
- C) Boğazların uluslar arası ticarete açılması
- D) Batı Trakya' da halkoylamasının yapılması
- E) Dünya barışını korumak için uluslar arası bir örgütün kurulması

14. I. Balıkesir Kongresi  
II. Nazilli Kongresi  
III. Alaşehir Kongresi  
IV. Sivas Kongresi

Yukarıda verilen milli mücadelenin hazırlık döneminde toplanan kongrelerden hangilerinin toplanmasında doğrudan Mustafa Kemal' in etkisinden söz edilemez?

- A) II ve III
- B) I ve IV
- C) I, II ve III
- D) I, II ve IV
- E) II, III ve IV

15. Milli Mücadele sırasında yaşanan aşağıdaki gelişmelerden hangisinden sonra batı cephesi ikiye ayrılmıştır?

- A) Gediz Taarruzu
- B) Çerkez Ethem Ayaklanması
- C) I. İnönü Zaferi
- D) Kütahya – Eskişehir Yenilgisi
- E) Sakarya Meydan Savaşı

16. Aşağıdakilerden hangisi Mudanya ateşkes antlaşmasının hükümlerinden değildir?

- A) Türk ve Yunan kuvvetleri arasında çatışmalar sona erecek
- B) İstanbul' un yönetimi TBMM' ye bırakılacak
- C) Batı Trakya' daki Yunan kuvvetleri on beş gün içinde bölgeden çekilecek
- D) Boğazların yönetimi TBMM'ye devredilecek
- E) Türk ordusu barış imzalanıncaya kadar Çanakkale' de ve Kocaeli Yarımadası'nda belirtilen çizgide duracak

17. Aşağıdakilerden hangisi Şeyh Sait İsyanı ile ortaya çıkan gelişmelerdendir?

- A) Çok partili hayata geçilmesi
- B) Halifeliğin kaldırılması
- C) Takrir-i Sükun Kanunu' nun çıkarılması
- D) İsmet Paşa hükümetinin istifa etmesi
- E) Misak-ı Milli' den ikinci tavizin verilmesi

18. 1926 yılında Mustafa Kemal "Benim naçiz vücudum elbet bir gün toprak olacaktır. Ancak Türkiye Cumhuriyeti sonsuza kadar yaşayacaktır" sözünü hangi olay üzerine söylemiştir?

- A) Cumhuriyetin İlanı
- B) Halifeliğin kaldırılması
- C) Şeyh Sait İsyanı
- D) İzmir Suikastı
- E) Razgrad Olayı



19. I. Tarım Kredi Kooperatiflerinin kurulması  
II. Aşar Vergisi' nin kaldırılması  
III. Ziraat Bankası' nın kurulması  
IV. Köy Enstitülerinin kurulması

**Yukarıdakilerden hangileri Atatürk döneminde tarımın geliştirilmesi amacıyla yapılan çalışmalardan-  
dır?**

- A) I ve II                      B) II ve III                      C) I ve III  
D) II, III ve IV              E) I, II ve IV

20. Aşağıdakilerden hangisi 1930 – 1938 yılları arasında Türkiye' de yapılan inkılaplardan **değildir**?

- A) Halkevlerinin kurulması  
B) Dil-Tarih-Coğrafya Fakültesi' nin kurulması  
C) Toprak Mahsulleri Ofisi' nin kurulması  
D) Türk Tarih Kurumu' nun kurulması  
E) Devlet Malzeme Ofisi'nin kurulması

21. Atatürk' ün Türk Milli Mücadelesini anlattığı Nutuk(Söylev) adlı eseri;

- I. 1919-1923  
II. 1924-1927  
III. 1928-1938

**yukarıda verilen dönemlerden hangilerini kapsar?**

- A) Yalnız I                      B) Yalnız II                      C) I ve II  
D) II ve III                      E) I,II ve III

22. I. Kuzat Mektebi  
II. Medreseler  
III. Yabancı Okulları

**Yukarıdakilerden hangileri Tevhidu Tedrisat Kanunu ile kapatılmıştır?**

- A) Yalnız I                      B) Yalnız II                      C) I ve II  
D) II ve III                      E) I, II ve III

23. I. Kabotaj Kanunu  
II. Tevhid-i Tedrisat  
III. Halifeliğin kaldırılması

**Yukarıda verilen inkıaplardan hangileri Atatürk'ün milliyetçilik ilkesi ile ilgili olmakla beraber aynı zamanda laiklikle ilgilidir?**

- A) Yalnız II                      B) Yalnız III                      C) I ve II  
D) II ve III                      E) I, II ve III

24. Aşağıdakilerden hangisi Atatürk döneminde Türkiye' nin öncülüğünde dünya barışını korumak için kurulan uluslar arası örgütlerdendir?

- A) Locarno Paketi  
B) Briand-Kellog Paketi  
C) Milletler Cemiyeti  
D) Sadabad Paketi  
E) Küçük Antant

25. Aşağıda verilen cumhuriyet dönemi gelişmelerinden hangisi Fransa ile Türkiye arasında sorun olmuştur?

- A) Yabancı Okullar Sorunu
- B) Bozkurt-Lotus Olayı
- C) Vagon Li Olayı
- D) Hatay Sorunu
- E) Razgrad Olayı

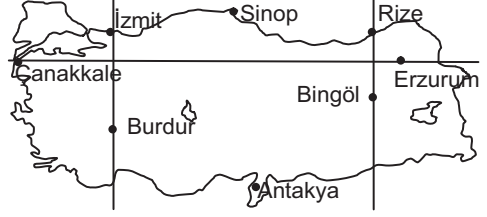
26. Aşağıdakilerden hangisi İsmet İnönü dönemi (1938-1950) gelişmelerindendir?

- A) Sadapat Paktı'nın kurulması
- B) Musul' un elden çıkması
- C) Halkevlerinin kurulması
- D) Varlık Vergisi'nin çıkarılması
- E) Boğazların yönetiminin Türkiye' ye bırakılması

27. Aşağıdakilerden hangisi ABD tarafından Sovyet tehdidine karşı alınan önlemlerden değildir?

- A) Kuzey Atlantik Paktı'nın kurulması
- B) Truman Doktrini'nin yayınlanması
- C) Marshall Planı'nın oluşturulması
- D) Eisenhower Doktrini'nin yayınlanması
- E) Comecon'un kurulması

28. Aşağıdaki Türkiye haritasında ülkemizdeki bazı merkezlerin yaklaşık olarak coğrafi konumları gösterilmiştir.



Buna göre yukarıdaki Türkiye haritasında, konumları gösterilmiş yörelerle ilgili olarak aşağıdakilerden hangisi söylenirse doğru olur?

- A) Sinop'ta güneş 21 Haziran tarihinde Antakya'ya göre daha geç doğar.
- B) Rize ve Bingöl'de yıl boyunca güneşin doğma ve batma anları aynıdır.
- C) İzmit ve Burdur'un baş meridyene olan uzaklığı aynıdır.
- D) Çanakkale'de gece gündüz süre farkı Erzurum'daki ile aynıdır.
- E) 21 Aralık tarihinde eşit boydaki cisimlerden en uzun gölge boyu Antakya'da ölçülür

29. Bir Türkiye haritasında iz düşüm alanları aynı olan iki alandan birincisinde kullanılan renk ve tonu fazla iken ikincisinde ise tek rengin bir tonu kullanılmıştır.

Buna göre aşağıdakilerden hangisi bu alanlarla ilgili olarak kesinlikle söylenebilecek doğru bir yargı değildir?

- A) Birinci alanda engebe fazladır.
- B) İkinci alanda yer şekilleri sadedir.
- C) Birinci alan yüksek, ikinci alan alçak bir alandır.
- D) Birinci alanda yükselti farkı fazla iken ikinci alanda daha azdır.
- E) Birinci alanda gerçek alan ile izdüşümü alan arasında fark fazla iken ikinci alanda daha azdır.

30. Aşağıdaki seçeneklerde Türkiye'nin yer şekilleri ile ilgili olarak verilen bilgilerden hangisinin doğru olduğu söylenemez?

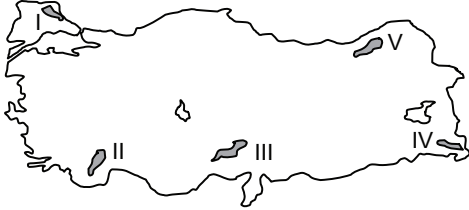
- A) Kuzey ve Güney kıyılarında kıvrımı batıda ise kırıklı dağlar geniş yer kaplar.
- B) Ülkemiz büyük oranda 3. jeolojik dönemde oluşmuştur.
- C) Türkiye'nin her bölgesinde büyük ya da küçük birçok plato yer almaktadır
- D) Rüzgarın oluşturduğu yer şekilleri buzulların oluşturduğu yer şekillerine göre daha azdır
- E) Ülkemizde dağların büyük bir kısmının doğu-batı yönlü uzanmasında doğu ve batıdaki levhaların sıkıştırmaları etkili olmuştur.

31. Ülkemizde I. Jeolojik dönemde oluşmuş olan arazilere genelde masif araziler denilmektedir.

Buna göre aşağıdakilerden hangisinde masif araziler geniş alanlar kaplamaz?

- A) Yıldız Dağları
- B) Kastamonu ve çevresi
- C) Kırşehir Yöresi
- D) Saruhan-Menteşe yöresi
- E) Yukarı Murat yöresi

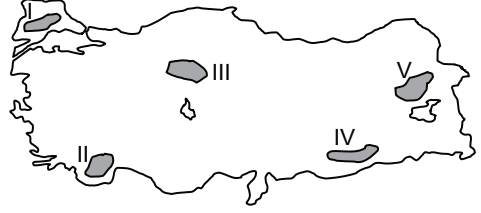
32.



Yukarıdaki Türkiye haritasında gösterilen alanlar içerisinde hangisinde buzul etkisinin diğerlerinden daha az olduğu söylenebilir?

- A) I
- B) II
- C) III
- D) IV
- E) V

33. Bir araştırma grubu gezi ve inceleme yaptığı bir alanda lapa, dolin, uvala, polye, obruk ve mağara gibi yer şekillerine oldukça fazla rastlamıştır.



Buna göre yukarıdaki bu araştırma grubu Türkiye haritasında gösterilen alanlar dan hangisinde araştırma ve inceleme yapıyor olabilir?

- A) I
- B) II
- C) III
- D) IV
- E) V

www.yaklasimkitap.com

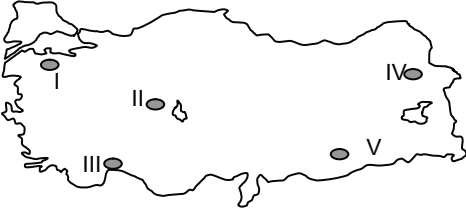
34. Bir merkezde gerçek sıcaklık ile indirgenmiş sıcaklık arasındaki fark yükselti ile doğru orantılıdır.



Buna göre yukarıdaki grafiklerde gerçek ve indirgenmiş sıcaklığı verilen şehir merkezleri aşağıdakilerden hangisi olabilir?

- | A            | B       |
|--------------|---------|
| A) İzmir     | Erzurum |
| B) Muğla     | Van     |
| C) Kastamonu | Denizli |
| D) Rize      | Antalya |
| E) Ankara    | Muş     |

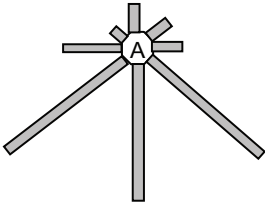
35. Bağıl nem maksimum nem ile ters mutlak nem ile doğru orantılıdır.



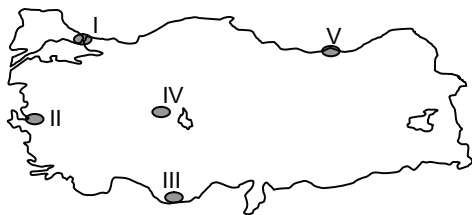
Buna göre yukarıdaki Türkiye haritasında Ocak ayında mutlak nemleri aynı olan alanlardan hangisinde bağıl nemin diğerlerinden daha fazla olacağı söylenebilir?

- A) I B) II C) III D) IV E) V

36.

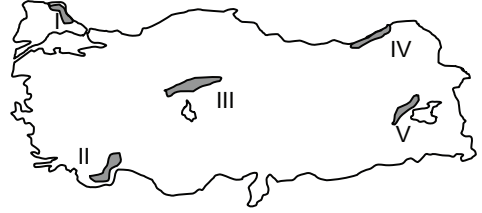


Yukarıdaki rüzgar yönleri grafiği verilen merkez aşağıdaki haritada gösterilenlerden hangisi olabilir?



- A) I B) II C) III D) IV E) V

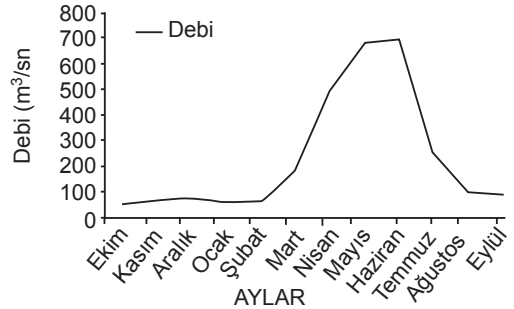
37. Bir bitki coğrafyası araştırma grubu gittikleri ortamda yaygın olarak ladin, kayın, sarıçam, köknar ve gürgen ağaçlarına rastlamaktadırlar.



Buna göre yukarıdaki bu araştırma grubu Türkiye haritasında gösterilen alanlardan hangisine gitmiş olabilir?

- A) I B) II C) III D) IV E) V

38. Aşağıdaki grafikte Çoruh Nehrinin ülke sınırlarımızı terk ettiği kesimdeki debi değişimi gösterilmiştir.



Çoruh Nehri'nin milli sınırlarımızı terk ettiği bölgedeki debi değişimi

Buna göre aşağıdakilerden hangisi Çoruh Nehri ile ilgili olarak kesinlikle söylenebilecek doğru bir yargı **değildir**?

- A) Çoruh nehrinin tüm yatağındaki akım hızı her yerde fazladır.  
 B) Nehrin yılın yaklaşık yarısındaki akımı 100 m<sup>3</sup>/sn den azdır.  
 C) En yüksek akım değerleri ilkbahar sonu yaz başlarındadır.  
 D) Yıllık akım farkı 500 m<sup>3</sup>/sn den fazla olabilmektedir.  
 E) Mayıs ve Haziran aylarındaki debisi birbirine yakındır.

39. Bir ülkede nüfus yapısı, o ülkede yaşayan insanların sosyoekonomik özelliklerini kapsar.

**Bu özelliğe göre, aşağıdakilerden hangisi Türkiye nüfusunun yapısal özellikleri içinde yer almaz?**

- A) Nüfusun iş kollarına göre dağılımı
- B) Nüfusun eğitim seviyesine göre dağılımı
- C) Nüfusun cinsiyet durumuna göre dağılımı
- D) Yaş gruplarına göre nüfusun dağılımı
- E) Aritmetik nüfus yoğunluğu değerleri

40. Nüfus projeksiyonları geleceğe yönelik politika üretme noktasında büyük önem arz etmektedir. Mevcut nüfus eğilimlerinin tespit edilmesi ve bu eğilimlerin devamı halinde gelecekteki nüfus yapısı hakkında kestirimlerde bulunulması daha sağlıklı politikalar üretilmesini sağlamak için hazırlanır.

**Buna göre, aşağıdakilerden hangisi Türkiye nüfus projeksiyonuna bağlı olarak gelecekte olması öngörülen bilgilerden biri değildir?**

- A) Türkiye nüfusu 2023 yılına kadar artmaya devam edecektir.
- B) Türkiye nüfusu 2050 yılından itibaren azalmaya başlayacaktır.
- C) Türkiye’de yaşlı nüfus oranı artacaktır.
- D) Türkiye’de ortanca yaş düşecektir.
- E) Türkiye’nin dünya nüfusu sıralamasındaki yeri düşecektir.

41. Uluslararası su hukuku henüz oluşturulmamakla birlikte su konusunda bugüne kadar kabul edilen uluslararası sözleşmeler daha ziyade sınır aşan su kaynaklarının yönetimi ve korunmasına odaklanmıştır. Bu bağlamda sınır aşan suların bulunduğu ülkeler arasında suyun kullanımı ile ilgili bazı sorunlar ortaya çıkabilmektedir.

**Buna göre aşağıdaki akarsulardan hangisinin Türkiye tarafından kullanım durumunda komşu ülkelere biriyile fazla sorun yaşanacağı söylenemez?**

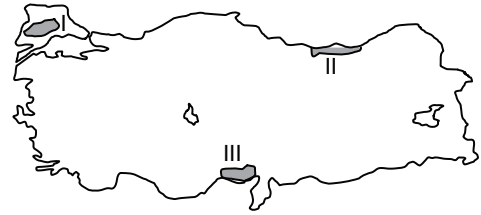
- A) Aras
- B) Fırat
- C) Çoruh
- D) Dicle
- E) Kura

42. Türkiye’deki tarım işletmelerinin yapısı küçük, parçalı ve dağınık arazileri şeklindedir. Bu yapının modern tarım işletmeciliğine göre yeniden düzenlenerek daha az zaman, işgücü ve sermaye kullanımının sağlanması gerekmektedir. Ayrıca üretim faktörlerinden en iyi biçimde yararlanarak tarımsal üretimi ve tarım işletmelerinin verimliliğini artırmak ve kırsal kesimdeki nüfusun hayat standartlarını yükseltmek amaçlandığı için tarım alanlarında arazi toplulaştırma projesi yürütülmektedir.

**Buna göre aşağıdakilerden hangisi arazi toplulaştırma projesinin hedeflerinden biri değildir?**

- A) İşlenebilir arazi miktarını artırmak
- B) Kullanılmayan küçük parçalı arazileri tarıma kazandırmak
- C) Her parseli yol veya sulama ağı ile iribatlandırmak
- D) Ulaşımdan dolayı meydana gelen kayıpları önlemek ve yakıt tasarrufu sağlamak
- E) Türkiye’deki tarımsal arazilerde ürün çeşidini artırmak

43.



**Yukarıdaki Türkiye haritasında yoğun olarak üretimi gerçekleştirilen ürünler aşağıdakilerden hangisi olabilir?**

- | I           | II      | III       |
|-------------|---------|-----------|
| A) Arpa     | Çay     | Muz       |
| B) Buğday   | Fındık  | Pamuk     |
| C) Pirinç   | Mısır   | Gül       |
| D) Ayçiçeği | Fındık  | Mısır     |
| E) Sebze    | Kenevir | Turunçgil |

44. Aşağıdaki seçeneklerden hangisinde bir maden ve yoğun olarak çıkarıldığı yer eşleştirmesi doğru verilmemiştir?

- A) Bakır → Artvin
- B) Boksit → Çanakkale
- C) Civa → İzmir
- D) Demir → Sivas
- E) Bor → Balıkesir

45. Türkiye'de iç ticaret son yıllarda oldukça gelişmiştir.

**Buna göre aşağıdaki hangi iki il arasındaki iç ticaret hacminin diğerlerine göre daha düşük olacağı söylenebilir?**

- A) Aydın → Uşak
- B) Bayburt → Gümüşhane
- C) Gaziantep → Zonguldak
- D) Ankara → İstanbul
- E) Bolu → İzmit

46. I. Egemenlik  
II. Vatan  
III. Bayrak  
IV. Başkent  
V. Millet

**Yukarıdakilerden hangisi bir devlette bulunması gereken temel unsurlar arasında yer almaz?**

- A) I, II ve III
- B) I, II ve V
- C) IV ve V
- D) III ve IV
- E) II, III ve IV

47. Aşağıdakilerden hangisi Yüksek Seçim Kurulu'nun (YSK) görevlerinden değildir?

- A) Resmi seçim sonuçlarını duyurmak
- B) Oy pusulalarını hazırlamak
- C) Seçim tarihlerini belirlemek
- D) Seçim çevrelerine göre milletvekili dağılımını yapmak
- E) Cumhurbaşkanlığı adaylık başvurularını kabul etmek.

48. I. Uyarı  
II. Kınama  
III. Kademe ilerleyişini durdurma  
IV. Maaş kesimi  
V. Meslekten Men

**Yukarıda verilen disiplin cezalarından hangilerine yargı yolu 2010 referandumun ile açılmıştır?**

- A) I, II, III, IV ve V
- B) Yalnız V
- C) III, IV ve V
- D) I ve II
- E) Yalnız IV

49. Birlikte ölüm karinesini düzenlemeye yetkili birim aşağıdakilerden hangisidir?

- A) Mülki Amir
- B) Cumhuriyet Savcılığı
- C) Belediye Başkanlığı
- D) Emniyet Müdürlüğü
- E) Garnizon Komutanlığı

50. Derneklerin kapatılmasında aşağıdaki yöntemlerden hangisi gereklidir?

- A) Mülki Amirin kararı
- B) Hakim kararı
- C) Bakanlar Kurulu Kararı
- D) TBMM kararı
- E) İçişleri Bakanlığı kararı

51. I. Bakanlar Kurulu  
II. TBMM  
III. Cumhurbaşkanı  
IV. Başbakan

**Yasal şartların oluşması halinde yukarıdakilerden hangileri milletvekilliği için erken genel seçim kararı alabilir?**

- A) II ve III
- B) I, II, III ve V
- C) III ve IV
- D) Yalnız II
- E) Yalnız I

52. TBMM Başkanlık Divanı görev süresi aşağıdakilerden hangisinde doğru olarak verilmiştir?

- A) 2 yıl + 3 yıl
- B) 2 yıl + Kalan süre
- C) 4 yıl
- D) 3 yıl + Kalan süre
- E) 2 yıl + 1 yıl

53. I. Savaş  
II. Doğal Afetler  
III. Salgın Hastalıklar  
IV. Ekonomik Krizler

**Yukarıda verilen hangi sebeplerden dolayı Cumhurbaşkanı başkanlığında toplanan Bakanlar Kurulu, Milli Güvenlik Kurulu'nun görüşünü almadan olağanüstühal ilan edebilir?**

- A) Yalnız I
- B) I ve II
- C) II, III ve IV
- D) I, II, III ve IV
- E) II ve IV

54. Aşağıdakilerden hangisi İdari yargıda yer alan ilk derece mahkemelerindendir?

- A) Vergi Mahkemeleri
- B) Asliye Hukuk Mahkemeleri
- C) Danıştay
- D) Asliye Ceza Mahkemeleri
- E) Ağır Ceza Mahkemeleri

55. Aşağıdakilerden hangisi Danıştay'ın görevlerinden değildir?

- A) Tüzük tasarılarını incelemek
- B) Kanun tasarılarını incelemek
- C) KHK ların yargısal denetimini yapmak
- D) Gereğinde tüzükleri iptal etmek
- E) Bazı yönetmenliklerin yargısal denetimini yapmak

56. 2015 Dünya Atletizm Şampiyonası nerede düzenlenmiştir?

- A) Kırgızistan – Bişkek
- B) Çin – Pekin
- C) Slovakya – Bratislavo
- D) Romanya – Bükreş
- E) Katar – Doha

59. Mart 2015'te düzenlenen "Yüzyılın En İyi Filmleri" ödül töreninde Türk Sinemasında yüzyılın en iyi filmi ödülü aşağıdakilerden hangi filme verilmiştir?

- A) Selvi Boylum Al Yazmalım
- B) Hababam Sınıfı
- C) Yol
- D) Kuş Uykusu
- E) İnşaat

57. Mart 2015 tarihi itibariyle göreve başlayan ÖSYM Başkanı aşağıdakilerden hangisidir?

- A) Ömer Demir
- B) Ünal Yarımağa
- C) Bahadır Akyel
- D) Ahmet Durmaz
- E) Kemal Fırtına

www.yaklasimkitap.com

58. 5 Aralık 2014'te yapılan seçimle Ekonomik Kalkınma ve İşbirliği Örgütü'nün (OECD) İcra Komitesi Başkanlığı'na seçilen Türk diplomat aşağıdakilerden hangisidir?

- A) Mithat Rande
- B) Haluk Afra
- C) Şafak Payev
- D) Adile Ayda
- E) Cem Duna

60. 2015 yılı AB Dönem başkanlığı görevini üstenecek ülkeler aşağıdakilerden hangisinde doğru olarak verilmiştir?

- A) Malta – Fransa
- B) İsviçre – Moldova
- C) Türkiye – Yunanistan
- D) Letonya – Lüksemburg
- E) İngiltere – Portekiz