

2017  
**KPSS**

Genel Yetenek  
Genel Kültür

**1.**  
**DENEME  
SINAVI**

1. Öykücü, her yapıtında okuyucuyu yeni tatlarla buluşturduğu için çok seviliyor, çok okunuyor.

**Bu cümledeki "okuyucuyu yeni tatlarla buluşturmak" sözüyle anlatılmak istenen, aşağıdakilerden hangisi olamaz?**

- A) Hiç değinilmemiş konulara el atmak  
B) İşlenmemiş, ilginç olayları öyküleştirmek  
C) Daha önce karşılaşılmayan tipler yaratmak  
D) Özgün anlatım yollarına başvurmak  
E) Evrensel temaları ele almak

2. Tavır alma; bilgi, birikim ve kendini yenileme ister. Son yıllarda ise bu söz, yaşamımızdan büsbütün çıktı. Bu gibi değerler, günün eğilimlerine göre dümen kırmak sanılmaktadır artık.

**Bu parçadaki altı çizili sözle anlatılmak istenen aşağıdakilerden hangisidir?**

- A) Çağının yeniliklerine sırt çevirmek  
B) Okuru yönlendiren bir özellik taşımak  
C) Zamanın moda değerlerine yönelmek  
D) Genç sanatçı adaylarına yol gösteren biri olmak  
E) Uzun süredir savunulan düşüncelerden vazgeçmek

3. I. Onu böylesine övüp yüceltmen, dikkatimi çekmiyor değil. (Pohpohlamak)  
II. İşe vaktinde gelir, herkes gitmeden gitmez. (Tam zamanında)  
III. Bu elemanlardan randıman alacağını düşünüyorsanız yanılıyorsunuz. (Verimli olmak)  
IV. Aldığımız kararlardan vazgeçtiğimiz hiç görülmüş mü? (İnkâr etmek)  
V. Ekibimiz seçkin öğretmenlerden oluşmuştur. (Nitelikli, saygın)

**Yukarıdaki cümlelerin hangisinde araç içinde verilen sözün anlamı yoktur?**

- A) I. B) II. C) III. D) IV. E) V.

4. İyi bir okur, bir kitabı madalyonun öbür yüzünü de görebilmek, gözündeki at gözlüğünü çıkarabilmek amacıyla okumalı, laf olsun diye okunan kitap yavan bir yemeğe benzer.

**Bu parçadaki altı çizili sözlerin anlamları aşağıdakilerin hangisinde sırasıyla verilmiştir?**

- A) Her şeyi irdelemek / Kendisine sunulanla yetinmemek  
B) Edebî zevkini geliştirmek / İyiyle kötüyü ayırtabilmek  
C) Gerçeklerin farkına varabilmek / Olaylara farklı bir bakış açısıyla yaklaşmak  
D) Doğruyu yanlış ayırmak / Gerçek sanat eserini keşfedebilmek  
E) Sırları çözebilmek / Sanatçıyı yönlendirmek

FİLOZOF YAYINCILIK

5. (I) Bu roman, Kurtuluş Savaşı'mızın hazırlık dönemi konu edinmiştir. (II) Olayların akışına paralel; açık, duru bir anlatımla yazılmış, olaylar arasında sağlam bağlantılar kurulmuştur. (III) Ölçülü tasvir ve ruh tahlilleri yapılmıştır. (IV) Daha dikkate değer yanı ise pek çok romanımızın aksine tek yönlü olmayışıdır. (V) Roman, başkahramanını idealize etmeksizin onun yurtseverliğinin yanında olumsuz yönlerine de yer vermiştir.

**Bu parçadaki numaralanmış cümlelerle ilgili aşağıdaki yargılardan hangisi yanlıştır?**

- A) I. cümlede romanın içeriğinden söz edilmiştir.  
B) II. cümlede romanın üslûbuna değinilmiştir.  
C) III. cümleden romanda betimlemelere yer verildiği anlaşılmaktadır.  
D) IV. cümlede romanın başka romanlardan farklı bir yönü ortaya konmuştur.  
E) V. cümlede romanla ilgili hem olumlu hem olumsuz eleştiriler dile getirilmiştir.

6. (I) Ne mutlu bana ki sanatın toplumun aynası olduğunu çok genç yaşta öğrendim. (II) İşim, seyirciye ayna tutmak ve böylece aynada kendi yüzlerini göstermek. (III) Canlandırdığım karaktere kızıyorlar ama ben oynadığı karakteri üzerine yapıştıranlardan değilim. (IV) O yüzden bana gösterilen tepkilerden hiç gocunmuyorum. (V) Ben bir büyüğümün dediği gibi, oynadığım karakteri sahne arkasındaki askıya asıp çıkıyorum sahnedem.

**Bu parçadaki numaralanmış yargılarla ilgili olarak aşağıdakilerden hangisi söylenemez?**

- A) I. cümlede sanatçının, durumundan hoşnut olduğu anlamı vardır.
- B) II. cümleden sanatçının, her an karşılabilecek nitelikte kişileri canlandırdığı anlamı çıkmaktadır.
- C) III. cümleden sanatçının, oynadığı rolün etkisinde kalmadığı anlaşılmaktadır.
- D) IV. cümlede bir durumu istemeye istemeye kabullenme anlamı vardır.
- E) V. cümleden sanatçının, başka birinin sözüne aynen katıldığı anlamı çıkmaktadır.

7. — Gazeteci olmana baban aracı olmuş. Bugün bu aracılıktan memnun mu?

— Şöyle memnun değil; İşimi iyi yaptığımı biliyor ama siyaset kökenli biri olarak "Niçin daha ciddi konularla ilgilenmiyorsun, artık yer değiştiremiyor musun?" diye soruyor.

**Bu parçada hangi noktalama işareti yanlış kullanılmıştır?**

- A) (.) B) (" ") C) (;) D) (?) E) (—)

8. **Aşağıdaki cümlelerde yer alan altı çizili sözcüklerden hangisi, yer-yön bildirme göreviyle kullanılmıştır?**

- A) Sokak çok karanlıktı, göz gözü görmüyordu.
- B) İkinci katı temizleme işi bize düştü.
- C) Annem ıçeri girin deyince hepimiz kaçıştık.
- D) Ülkemiz çağdaş ülkeler seviyesine ne zaman ulaşacak?
- E) Kapıya çıkardığımız sandalyeleri çalmışlar.

9. Her sahneyi ölererek terkedenler

I

Ölmeden önce bir şeyler öğretin bize

II

Her yarıştan ölererek çekilenler

III

Utancımızı hafifletsenize

IV

V

**Bu dizelerdeki altı çizili sözlerden hangisinin yazımı yanlıştır?**

- A) I. B) II. C) III. D) IV. E) V.

10. (I) Adamın yüzü sapsarıydı. (II) Yerinden ağır ağır kalktı. (III) Pencereyi açtı, içeri serin bir havayla doldu. (IV) Ceketini çıkarıp masaya bıraktı. (V) Çocuksu yüzü derin düşüncelerle gölgeleniyordu.

**Bu parçadaki numaralanmış cümlelerle ilgili olarak aşağıdakilerden hangisi söylenemez?**

- A) I. cümlede belirtili ad tamlaması vardır.
- B) II. cümlede ikileme sıfat görevindedir.
- C) III. cümle yapısına göre sıralıdır.
- D) IV. cümlede eylemsi kullanılmıştır.
- E) V. cümlede birleşik zamanlı eylem vardır.

11. "- miş (-miş, -muş, -müŧ) **eki, aŧađıdaki cümlelerin hangisinde farklı bir işlevde kullanılmıştır?**

- A) Kurumuŧ yaprakları temizlemek de bana düŧtü.
- B) Çekmecesesi çitlenmiş çekirdek kabuklarıyla doluydu.
- C) Ödenmemiş trafik cezaları pahalıya patladı bana.
- D) Okunmamış daha verdiđim kitapların hiçbirini.
- E) Sınavda çıkmış soruları çözüyor herkes harıl harıl.

12. (I) Kiŧi, karŧısındaki ağaca baktı mı, yanındakilerin de onu kendisi gibi gördüğünü sanır. (II) Oysa iş, hiç de öyle değildir. (III) Her kiŧi, baktığı nesne de farklı şeyler görür. (IV) Aynı dođa parçası karŧısında ressamaların resimlerinde benzerlik bulunmaması bundandır. (V) Bu, aynı konuyu işleyen iki romancı için de böyledir.

**Bu parçada numaralanmış cümlelerle ilgili aŧađdakilerden hangisi söylenemez?**

- A) I. cümlede dönüşlülük zamiri kullanılmıştır.
- B) II. cümlede ek eylemin olumsuzuna yer verilmiştir.
- C) III. cümle yüklemine göre addır.
- D) IV. cümle bulunma durumu eki vardır.
- E) V. cümlede niteleme sıfatı vardır.

13. **Aŧađdaki cümlelerin hangisinde eylem, "deđişerek yeni bir görünüm kazanma" anlamı taşımaktadır?**

- A) Resim yaparak yaşamını zenginleştiriyor.
- B) Çok çalışmaktan elleri nasırlaŧmıştı.
- C) Durmadan, telefonda biriyle görüşüyor.
- D) Yaşamda ne tuhaf şeylerle karŧılaşıyoruz.
- E) Hangi kitabın okunacağı konusunda anlaŧtık.

14. Yaşadığı altmış bir yıl içinde; bir imparatorluğun çöküşünü, Cumhuriyet'in ilanını ve 27 Mayıs İhtilali'ni gördü.

**Bu cümledeki altı çizili bölüm, aŧađdakilerden hangisidir?**

- A) Özne
- B) Belirtili nesne
- C) Belirtisiz nesne
- D) Dolaylı tümleş
- E) Zarf tümleci

15. Türk edebiyatının klasik denebilecek kitaplarına imza atan Güntekin, ev ve iş arasında gidip gelmekten başka yürüyüşler de yapardı.

**Bu cümleyle ilgili aŧađda verilenlerden hangisi yanlıştır?**

- A) Yüklem türüne göre eylem cümlesidir.
- B) Anlamca ve biçimce olumludur.
- C) Yüklem, geniş zamanın hikâyesiyle çekimlenmiştir.
- D) Girişik birleşik cümledir.
- E) Bađımsız sıralı cümledir.

16. Mutluluk herkese göre deđişebilen göreceli bir kavramdır, bu yüzden mutluluğun kimin için ne ifade ettiğini belirlemek zordur.

**Bu cümledeki altı çizili sözcüklerle ilgili aŧađdakilerden hangisi yanlıştır?**

- A) I. sözcük belgisiz zamirdir.
- B) II. sözcük niteleme sıfatıdır.
- C) III. sözcük edattır.
- D) IV. sözcük basit yapıdır.
- E) V. sözcük eylemsidir.

17. Aşağıdaki cümlelerin hangisinden virgül (,) atıldığında cümlenin anlamı **değişmez**?

- A) O, kitaplardan başka hiçbir şeyle ilgilenmiyordu.
- B) Çalış da ağabeyin gibi, sokaklarda boş boş gezme.
- C) Doktor, hemşirenin kendisini çağırdığını duymadı.
- D) Genç, kızın kulağına bir şeyler fısıldadı.
- E) Rus yazar, Dostoyevski üzerine epey araştırma yapmış.

19. (I) Okumak, kuşkusuz, kişiyi her yönden geliştiren bir uğraşı. (II) Okumaya ayrılan zamanın, harcanan paranın geri dönüşümü tahmin edilemeyecek kadar yüksek. (III) Değerli bir kitabı okuyarak o kitabın yazarıyla dostluk kurmanın, onun düşünce dünyasına girmenin, onunla tartışmanın eğitici yönü ise apaçık. (IV) Kişinin; okuduklarını, yaşadıklarını, gördüklerini, yaptıklarını eleştirip değerlendirip özümseyip bir hayat felsefesi edinmesi büyük kazanç. (V) Ne yazık ki okuyan, okuduklarını eleştiren, değerlendiren, araştıran, inceleyen bir toplum olma düzeyine henüz ulaşamadık. (VI) Eğitim sistemimiz, okullarımızda okuma, araştırma zevki ve alışkanlığı verilmeyişi ve ekonomik sıkıntılar, az okuyuşumuzun iki ana nedeni.

**Bu parça iki paragrafa ayrılmak istense ikinci paragraf, numaralanmış cümlelerden hangisiyle başlar?**

- A) II. B) III. C) IV. D) V. E) VI.

FİLOZOF YAYINCILIK

18. Bir ailenin geliri giderinden fazlaysa o ailenin bir süre sonra ekonomik sorunlar yaşaması kaçınılmazdır.

**Bu cümledeki anlatım bozukluğu aşağıdaki değişikliklerden hangisiyle giderilebilir?**

- A) "kaçınılmazdır" sözcüğünün yerine "sakınılmazdır" getirilerek
- B) "ekonomik" sözcüğünün yerine "maddi" getirilerek
- C) "geliri" sözcüğüyle "gideri" sözcüklerinin yeri değiştirilerek
- D) "fazlaysa" sözcüğü "fazla ise" biçiminde yazılarak
- E) "bir" sözcüğünün yerine "uzun" getirilerek

20. Yeni edebiyatımızı dramatik olmakla, karamsarlıkla suçlayanlar var. Yerinde mi bu yargılar? Hiç sanmam. Böyle aceleci yargılara varanlar çünkü edebiyatımızı hiç anımsamıyorlar anlaşılabilir. Çünkü iyimserlik de kötümserlik de göreceli kavramlardır, ancak karşılaştırma yapılarak ortaya konulabilir. Bugünkü edebiyatımızın karamsar olduğunu söylemek için, onu, ya çünkü edebiyatımızla ya da Batı edebiyatıyla karşılaştırmalıyız. Bunu yapmazsak savımız havada kalır, dayanaksız olur.

**Bu parçanın anlatım biçimi aşağıdakilerden hangisidir?**

- A) Açıklama B) Tartışma
- C) Öyküleme D) Betimleme
- E) Örnekleme

21. Dil düzensiz olursa sözler düşünceyi iyi anlatamaz. Düşünce iyi anlatılmazsa yapılması gerekenler doğru yapılmaz. Yapılması gerekenler doğru yapılmazsa âdetler ve kültür bozulur. Âdetler ve kültür bozulursa adalet yanlış yola sapar. Adalet yoldan çıkarsa şaşkınlık içine düşen halk, ne yapacağını, işin nereye varacağını bilmez. ----

**Bu parçanın sonuna, düşüncenin akışına göre aşağıdakilerden hangisi getirilmelidir?**

- A) Bu nedenle herkes kendi işini en güzel şekilde yapmalıdır.
- B) Öyleyse yöneticiler, adaleti elden bırakmamalıdır.
- C) O halde eğitime her şeyden çok önem verilmalıdır.
- D) İşte bunun için hiçbir şey, dil kadar önemli değildir.
- E) Bu yüzden düşünceye yönelik yazıların okunması gerekir.

22. Okumamıştım, oyunu duyunca okudum. Roman müthiş ama bu kez de kaygılanmaya başladım. Çünkü gerek sinemada gerek tiyatrodaki bir romandan yapılan uyarlamalarda sıkıntılar yaşanıyor. Fakat oyunu Agatha Christie'nin tiyatroya uyarladığını öğrenince kaygılarım ortadan kalktı.

**Bu parçada aşağıdaki sorulardan hangisinin yanıtı yoktur?**

- A) Rol alacağınız oyunun uyarlandığı romanı daha önce okudunuz mu?
- B) Agatha Christie'nin sanatçılığına güvenir misiniz?
- C) Romanlardan uyarlanan oyunlarda sıkıntı oluyor mu?
- D) Yeni bir oyuna başlarken nasıl hazırlanırsınız?
- E) Oyunla ilgili kaygılarınızı ortadan kaldıran ne oldu?

**23. – 24. SORULARI AŞAĞIDAKİ PARÇAYA GÖRE CEVAPLAYINIZ.**

Ozanlar söz insanıdır. Yaşama alanı dildir ozanların. Ozanı ozan kılan, her şeyden önce dille arasındaki bağıdır. Dili sevmeyen, bütün varlığını bu sevgide toplamayan, ozan olamaz. Ozanlığın özü, sevgiye dayanan bir dil saygısındadır. Sözcüklere ilgisiz, dil kurallarına duysız, konuşmanın ince-liklerine uzak bir ozan düşünülemez. Ses değerlerinden habersiz bir Verlaine, anlamlara sağır bir Rilke düşünülebilir mi?

**23. Bu parçadan aşağıdakilerden hangisine ulaşılabılır?**

- A) Dilini sevmeyen ve saymayan kişi, ozan olamaz.
- B) Ozanlığın temel koşulu, içinde yaşadığı toplumu tanımadır.
- C) Şiirlerinde yalnızca bireysel sorunlarını anlatan kişiye ozan denmez.
- D) Ozanın en önemli hedefi, dili zenginleştirmek olmalıdır.
- E) Dilde yeni imgeler ve çağrışımlar yaratmak, ozana düşer.

**24. Bu sözler aşağıdaki sorulardan hangisine karşılık söylenmiş olabilir?**

- A) Bir ozanda aradığınız en önemli özellik nedir?
- B) Sizce şiirde şekilsel özellikler önemli midir?
- C) Ozanın dilinin yalın olması neden önemlidir?
- D) Batılı şairler içinde en çok sevdiğiniz hangisidir?
- E) Dili canlı tutmanın yolları nelerdir?

**25. – 27. SORULARI AŞAĞIDAKİ PARÇAYA GÖRE CEVAPLAYINIZ.**

(I) Az rastlandığı için toplumda fazla bilinmeyen ve sayıları 6.000'i geçen "Nadir Hastalıklar", tüm dünyada 250 – 300 milyon insanı ve yakınlarını etkiliyor. (II) Her yıl şubat ayının son günü "Nadir Hastalıklar Günü" olarak kabul ediliyor.(III) Düzenlenen etkinliklerle bu hastalıkların yarattığı sorunlara dikkat çekilmesi hedefleniyor. (IV) Eurordis ve bu alanda çalışmalar yapan Ulusal İttifaklar Konseyi tarafından 2008'den beri düzenlenen "Nadir Hastalıklar Günü"nü bu yılki teması "Daha iyi bir tedavi için birlik olalım." şeklinde belirlendi.(V) Avrupa'da, toplumda her 10.000 kişiden en fazla 5'inde ortaya çıkan, sonuçları ciddi ve hayatı tehdit eden hastalıklara, nadir hastalıklar deniyor.

**25. Bu parçanın anlatımıyla ilgili olarak aşağıdakilerden hangisi söylenebilir?**

- A) Kişileştirmeden yararlanılmıştır.
- B) İki olayın ortak yönleri ortaya konulmuştur.
- C) Bir konuyla ilgili bilgi verilmiştir.
- D) Karşılaştırmadan yararlanılmıştır.
- E) Bir olayın sonuçları önem sırasına konulmuştur.

**26. Bu parçadaki numaralanmış cümlelerin hangisinde tanım yapılmıştır?**

- A) I
- B) II
- C) III
- D) IV
- E) V

**27. Bu parçaya göre aşağıdakilerden hangisi söylenebilir?**

- A) Her bünyede aynı etkiyi göstermeyen ilaçlar nadir hastalıkların sebebidir.
- B) Nadir hastalıklarla ilgili etkinliklerle hastalığın tedavi yöntemleri araştırılmaktadır.
- C) Dünyanın belirli bölgelerinde aynı hastalıklar ortaya çıkmaktadır.
- D) Nadir hastalıklar, kolay tedavi edilebilen ve yaşam kalitesini etkilemeyen niteliktedir.
- E) Hangi hastalığın nadir hastalık kategorisine alınacağına ölçütü, hastalığın tedavi edilme durumudur.

**28– 30. SORULARI AŞAĞIDAKİ BİLGİLERE GÖRE CEVAPLAYINIZ.**

Ahmet Bey'in 3 farklı ceketini ile 4 farklı renkte pantolonu vardır. Ceketler siyah, mavi ve gri renkte; pantolonlar siyah, mavi, beyaz, yeşil renktedir. Ahmet Bey'in bir hafta içi giydiği ceket ve pantolonları ile ilgili aşağıdaki bilgiler verilmiştir.

- Her gün bir ceket ve bir pantolon giymiştir.
- İki sefer giydiği pantolonu ve üç sefer giydiği ceketini üst üste günlerde giymiştir.
- Aynı renk pantolon ve ceketini sadece cuma günü giymiştir.
- Pazartesi gri ceketini giymemiştir.
- Aynı renk giydiği pantolonları perşembe ve cuma günleri giymiştir.

**28. Buna göre, pazartesi giydiği ceket ve pantolon rengi aşağıdakilerden hangisi olamaz?**

- A) Siyah - Yeşil
- B) Mavi - Yeşil
- C) Mavi - Beyaz
- D) Siyah - Beyaz
- E) Siyah - Siyah

29. Perşembe günü mavi pantolon giydiği biliniyor ise cuma günü giydiği ceket ve pantolonun rengi aşağıdakilerden hangisi olabilir?

- A) Mavi - Beyaz
- B) Gri - Siyah
- C) Mavi - Mavi
- D) Siyah - Siyah
- E) Siyah - Beyaz

30. Pazartesi mavi ceketini giydiğine göre salı günü giydiği ceket ve pantolonun rengi aşağıdakilerden hangisi olabilir?

- A) Gri - Siyah
- B) Mavi - Beyaz
- C) Siyah - Beyaz
- D) Gri - Mavi
- E) Siyah - Mavi

$$31. 1 + \frac{\frac{1}{7}}{2 - \frac{1}{2 - \frac{1}{4}}}$$

işleminin sonucu kaçtır?

- A)  $\frac{5}{7}$
- B) 1
- C)  $\frac{11}{10}$
- D)  $\frac{10}{7}$
- E) 2

$$32. \frac{0,04}{0,004} + \frac{0,045}{0,009} - \frac{0,1}{0,02}$$

işleminin sonucu kaçtır?

- A) 8
- B) 10
- C) 12
- D) 14
- E) 16

$$33. \begin{aligned} a + b &= c \\ b + c &= a + 12 \\ a + c &= b + 8 \end{aligned}$$

olduğuna göre,  $a + b + c$  toplamı kaçtır?

- A) 10
- B) 12
- C) 15
- D) 18
- E) 20

$$34. \begin{aligned} 4^x &= 81 \\ 9^y &= 8 \end{aligned}$$

olduğuna göre,  $x \cdot y$  çarpımı kaçtır?

- A) 3
- B) 6
- C) 9
- D) 12
- E) 15



35. a ve b birer pozitif tam sayı olmak üzere,  
(6a + 3) · (4b + 8) çarpımının 12 ile bölümünden  
elde edilen kalan kaçtır?

- A) 0 B) 3 C) 4 D) 8 E) 10

36.  $\left(\frac{2}{5}\right)^2 \cdot \left(\frac{1}{5}\right)^{-3}$

işleminin sonucu kaçtır?

- A) 16 B) 20 C) 25 D) 36 E) 45

37. İki basamaklı ab sayısının 9 ile bölümünden  
kalan 2 dir. ab sayısı 4 ile tam bölünebildiğine  
göre, bu sayı en çok kaçtır?

- A) 98 B) 96 C) 94 D) 92 E) 89

38.  $\frac{x \cdot y - x + y - 1}{y^2 - y} : \frac{1}{y} = 8$

olduğuna göre, x kaçtır?

- A) 5 B) 6 C) 7 D) 8 E) 9

39.  $y < 0 < x$  olmak üzere,

$$|x - y| - |x| + |y|$$

ifadesi aşağıdakilerden hangisine eşittir?

- A) 0 B) -2x C) -2y  
D) 2x + 2y E) 2y - 2x

FİLOZOF YAYINCILIK

40.  $\frac{x-3}{2} < \frac{x+2}{3}$

eşitsizliğini sağlayan en büyük tam sayı kaçtır?

- A) 9 B) 10 C) 11 D) 12 E) 13

41.  $\frac{\sqrt{0,91}}{\sqrt{0,7} \cdot \sqrt{1,3}}$

işleminin sonucu kaçtır?

- A) 1 B)  $\sqrt{2}$  C) 2 D)  $\sqrt{5}$  E) 3

42. 280 ₺ üç kardeşe 3,5 ve 6 ile orantılı olacak şekilde paylaştırılıyor. Buna göre, payı en fazla olan kaç ₺ alır?

- A) 80 B) 90 C) 100 D) 110 E) 120

43. Bir çiçekçide bulunan çiçekler demetlere ayrıldığında 10 demet oluyor. Eğer demetlerin her birinde 5 çiçek fazla olsaydı 8 demet olacaktı.

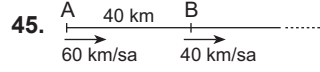
Buna göre, çiçekçide kaç tane çiçek vardır?

- A) 100 B) 120 C) 150 D) 200 E) 250

44. 8 tane doğal sayının aritmetik ortalaması  $x$  tir. Bu sayılardan her biri 2 arttırılırsa yeni ortalama  $2x - 4$  oluyor.

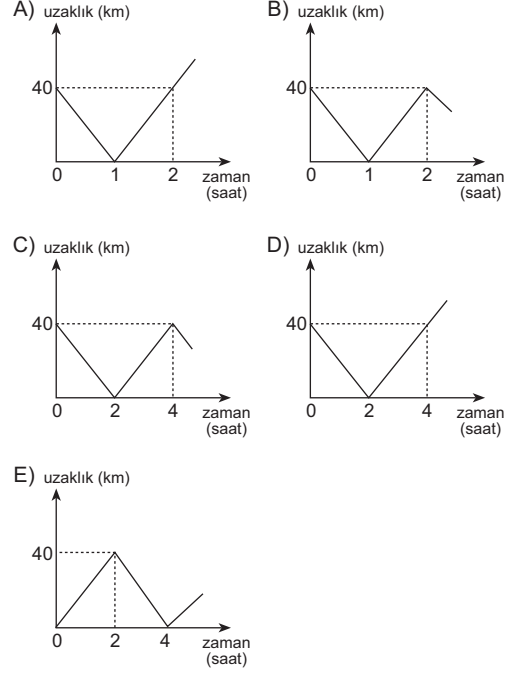
Buna göre,  $x$  kaçtır?

- A) 6 B) 7 C) 8 D) 9 E) 10



Şekildeki A ve B noktalarında bulunan iki aracın hızları sabit olup 60 km/sa ve 40 km/sa tir. Bu iki araç aynı anda harekete başlayıp, aynı yöne doğru hareket ediyor.

$|AB| = 40$  km olduğuna göre, bu iki araç arasındaki uzaklığın zamana bağlı değişimini gösteren grafik aşağıdakilerden hangisidir?



46. Bir kişi 18 kg portakalı 30 ₺ ye alıyor. İçindeki çürükleri çıkarıp atınca portakalın kilogramı 2 ₺ ye geliyor.

Buna göre, kaç kg portakal çürük çıkmıştır?

- A) 1 B) 2 C) 3 D) 4 E) 5

47. Tuz oranı % 20 olan 50 lt lik bir tuzlu su karışımına tuz oranı % 32 olan 75 lt lik başka bir tuzlu su eklenirse oluşan yeni karışımın su oranı % kaçtır?

- A) 70,5 B) 71,6 C) 72,8 D) 73 E)74,2

48. Ali bir kitabın önce %16, sonra % 24 ünü okuyor. Daha sonra da kalanın % 25 ini okuyor.

**Geriye okunmayan 135 sayfa kaldığına göre, kitabın tamamı kaç sayfadır?**

- A) 240 B) 270 C) 300 D) 330 E) 360

49. Ali 24 yaşında, kardeşi Deniz ise x yaşındadır. Ali kardeşinin bugünkü yaşında iken kardeşi bugünkü yaşının yarısı yaşta idi.

**Buna göre, x kaçtır?**

- A) 18 B) 16 C) 14 D) 12 E) 10

**50. – 51. SORULARI AŞAĞIDAKİ BİLGİLERE GÖRE CEVAPLAYINIZ.**

x bir sayma sayısı olmak üzere,

$T(x)=\{X\text{'den küçük, } X \text{ ile aralarında asal sayıların toplamı},$

$\Ç(x)=\{1\text{'den } X\text{'e kadar } X \text{ ile aralarında asal sayıların çarpımı}\}$

**Örnek:**

$$T(6)=1+5 = 6$$

$$\Ç(10)=1.3.7.9=189$$

50. Buna göre,  $\frac{T(12)}{\Ç(9)}$  kaçtır?

- A)  $\frac{3}{250}$  B)  $\frac{3}{260}$  C)  $\frac{3}{271}$   
D)  $\frac{3}{280}$  E)  $\frac{2}{290}$

51. Buna göre,  $T(20)+\Ç(12)$  toplamı kaçtır?

- A) 395 B) 420 C) 465  
D) 485 E) 510

52. Gerçel sayılar kümesi üzerinde \* işlemi

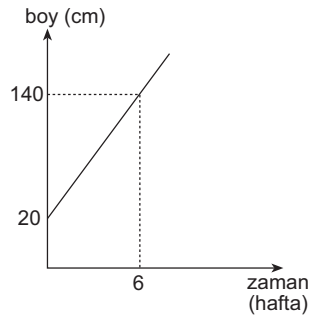
$$\frac{a}{2} * \frac{b}{3} = 2a - b + 4$$

biçiminde tanımlanıyor.

**Buna göre,  $4 * (-1)$  işleminin sonucu kaçtır?**

- A) 25 B) 23 C) 21 D) 19 E) 17

53.

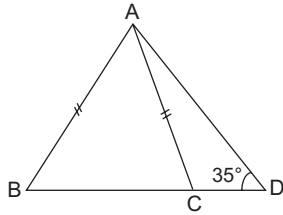


Şekildeki grafik başlangıçta boyu 20 cm olan bir ağacın boyunun zamanla göre değişimini göstermektedir.

Buna göre, bu ağacın boyu kaçınıcı haftada 300 cm olur?

- A) 15 B) 14 C) 13 D) 12 E) 11

54.

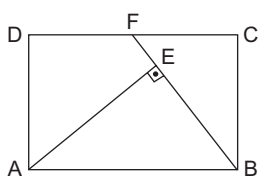


ABD bir üçgen  
 $|AB| = |AC|$   
 $m(\widehat{BAC}) = 3 \cdot m(\widehat{CAD})$   
 $m(\widehat{ADB}) = 35^\circ$

Yukarıdaki verilere göre,  $m(\widehat{ABD})$  kaç derecedir?

- A) 53 B) 54 C) 55 D) 56 E) 57

55.

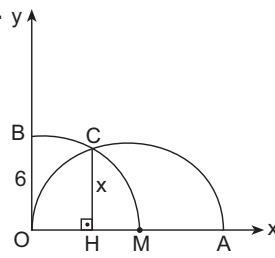


ABCD dikdörtgen  
 $[AE] \perp [BF]$   
 $|AE| = |BF| = 8 \text{ cm}$

Yukarıdaki verilere göre, ABCD dikdörtgeninin alanı kaç  $\text{cm}^2$  dir?

- A) 48 B) 56 C) 60 D) 64 E) 72

56.



$|OB| = 6$  birim

$[CH] \perp [OA]$

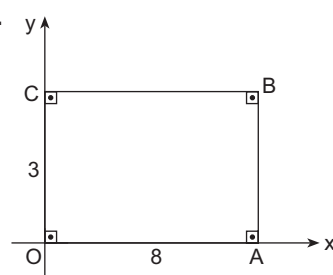
Dik koordinat düzleminde merkezi M noktası olan yarım çember ile merkezi O noktası olan çeyrek çember C noktasında kesişmektedir.

Yukarıdaki verilere göre,  $|CH| = x$  kaç birimdir?

- A)  $2\sqrt{3}$  B) 3 C)  $3\sqrt{3}$   
D)  $3\sqrt{2}$  E) 4

FİLOZOF YAYINCILIK

57.



Dik koordinat düzleminde OABC dikdörtgen

$|OC| = 3 \text{ br}$

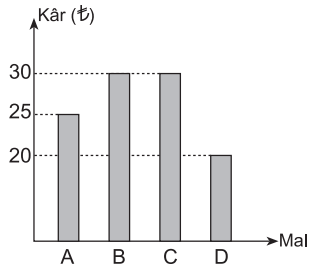
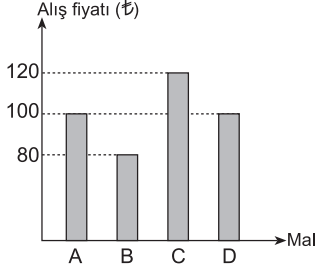
$|OA| = 8 \text{ br}$

OABC dikdörtgeni x eksenini etrafında  $360^\circ$  döndürülüyor. Elde edilen cismin hacmi kaç  $\text{br}^3$  olur?

- A)  $192\pi$  B)  $144\pi$  C)  $124\pi$   
D)  $96\pi$  E)  $72\pi$

58. – 60. SORULARI AŞAĞIDAKİ BİLGİLERE GÖRE CEVAPLAYINIZ.

Aşağıdaki grafiklerde sırasıyla A, B, C, D mallarının alış fiyatları ve kâr miktarları verilmiştir.



58. Satış fiyatı en yüksek olan mal kaç ₺'ye satılır?

- A) 110 B) 120 C) 125 D) 140 E) 150

59. Kâr yüzdesi en az olan maldan % kaç kâr edilir?

- A) 20 B) 25 C) 28,5 D) 32 E) 37,5

60. A, B, C, D mallarının alış fiyatları bir daire grafiğinde gösterildiğinde C malının alış fiyatını gösteren dilimin merkez açısı kaç derecedir?

- A) 72 B) 90 C) 108 D) 120 E) 144

1. I. Türkleri Çin esaretinden kurtarmak için çıkarılmıştır.  
II. Asya Hun Devleti'nin yıkılmasından sonra gerçekleşmiştir.  
III. Kutluk Devleti'nin kurulmasında etkili olmuştur.

**Yukarıda verilen bilgilerden hangileri Kürşat İhtilali'nin genel özellikleriyle ilgilidir?**

- A) Yalnız I      B) Yalnız II      C) I ve II  
D) I ve III      E) I, II ve III

2. **Asya Hun Kağanı Hohanyeh ve kardeşi Çi-Çi arasında geçen hangi tartışma devletin MÖ 58'de ikiye ayrılmasına zemin hazırlamıştır?**

- A) Çin üzerine sefer  
B) Otlak ve yaylak anlaşmazlığı  
C) Çin'e bağlanma  
D) İpek yolu hakimiyeti  
E) Avrupa'ya sefer

3. – Ünlü Türk hükümdarı Timur'un torunudur.  
– Astronomi ve matematik alanlarında önemli çalışmalar yapmıştır.  
– Yaptırdığı rasathanede yıldızların hareketlerini incelemiştir.  
– Hazırladığı "Heyet Cetveli ve Yıldızların Fihristi" teleskop bulununcaya kadar bu dalda en ilmi eser olarak kabul edilmiştir.

**Yukarıda özellikleri verilen Türk-İslam bilgini aşağıdakilerden hangisidir?**

- A) Kaşgarlı Mahmut      B) Uluğ Bey  
C) Farabi      D) Ali Şir Nevai  
E) Biruni

4. **Aşağıdaki beylik ve kurulduğu yer eşleştirmelerinden hangisinin yanlış olduğu söylenebilir?**

- A) Artuklular – Mardin ve Diyarbakır  
B) Danişmentliler – Sivas ve Kayseri  
C) Mengücekliler – Erzincan ve Kemah  
D) Dilmaçoğulları – Ahlat ve Van  
E) Tanrıvermişoğulları – Efes

5. **Aşağıdaki Türk devletlerinden hangisi tımar sistemini uygulamamıştır?**

- A) Gazneliler  
B) Karahanlılar  
C) Harzemşahlar  
D) Büyük Selçuklular  
E) Hazarlar

6. **Günümüzdeki "Adalet Bakanı" Osmanlı Devleti'nde hangi divan üyesine karşılık gelmekteydi?**

- A) Defterdar      B) Sadrazam  
C) Kazasker      D) Nişancı  
E) Reisülküttap

7. I. İznik  
II. Konya  
III. Edirne

**Yukarıdaki şehirlerden hangileri hem Anadolu Selçuklu hem de Osmanlı Devleti tarafından başkent olarak kullanılmıştır?**

- A) Yalnız I      B) Yalnız II      C) Yalnız III  
D) I ve II      E) II ve III

## 8. Osmanlı tarihinde meydana gelen,

- I. Patrona Halil,
- II. Kabakçı Mustafa,
- III. 31 Mart

isyanlarından hangilerinin mevcut rejimi değiştirmeye yönelik olduğu söylenebilir?

- A) Yalnız I
- B) Yalnız II
- C) Yalnız III
- D) I ve III
- E) II ve III

## 9. Osmanlı Devleti ilk dış borcu, aşağıdaki savaşlardan hangisi devam ettiği sırada almıştır?

- A) Kırım
- B) 93 Harbi
- C) Dömeke
- D) Hotin
- E) Trablusgarp

## 10. I. Sırp İsyanı

- II. Yunan İsyanı
- III. Mısır İsyanı

Osmanlı Devleti'nde XIX. yüzyılda meydana gelen isyanların hangilerinde milliyetçilik akımının etkisi vardır?

- A) Yalnız I
- B) Yalnız II
- C) I ve II
- D) II ve III
- E) I, II ve III

## 11. I. Trablusgarp Savaşı

- II. Birinci Dünya Savaşı
- III. Kurtuluş Savaşı

Yukarıda verilen savaşlardan hangilerinde Mustafa Kemal Paşa ve Enver Paşa birlikte yer almıştır?

- A) Yalnız I
- B) Yalnız II
- C) Yalnız III
- D) I ve II
- E) II ve III

12. Mondros Ateşkesi'nde; "Vilayet-i Sitte'de herhangi bir karışıklık çıkarsa bu bölgeler de işgal edilecektir." kararı yer almıştır.

Sözü edilen Vilayet-i Sitte kavramının kapsamı içerisinde aşağıdaki şehirlerden hangisinin yer aldığı söylenemez?

- A) Bitlis
- B) Elazığ
- C) Sivas
- D) Diyarbakır
- E) Muş

13. Mondros Ateşkes Antlaşması'nın imzalanmasından sonra İngilizlerin işgal ettiği yerler arasında aşağıdakilerden hangisi gösterilemez?

- A) Konya
- B) Samsun
- C) Maraş
- D) Urfa
- E) Antep

14. Mondros Ateşkesi'nden sonra aşağıdaki cemiyetlerden hangisi Çukurova Bölgesi'nde Fransızlar ve iş birlikçisi Ermenilerin zararlı faaliyetlerini engellemek amacıyla kurulmuştur?

- A) Millî Kongre Cemiyeti
- B) Kilikyalılar Cemiyeti
- C) Askeri Nigeşban Cemiyeti
- D) Şark Vilayetleri Müdafaa-ı Hukuk Cemiyeti
- E) Trakya-Paşaeli Müdafaa-ı Hukuk Cemiyeti

15. Mustafa Kemal'in öğrenim gördüğü aşağıdaki okullardan hangisinin günümüzdeki liseler seviyesinde olduğu söylenebilir?

- A) Şemsi Efendi İptidaisi
- B) Selanik Mülkiye Rüştiyesi
- C) Manastır Askerî İdadisi
- D) İstanbul Harp Akademisi
- E) İstanbul Harp Okulu

16. Mustafa Kemal'in Havza Genelgesi'nden sonra Sultan Ahmet Meydanı'nda düzenlenen miting aşağıda verilen şehirlerin hangisinin işgaline tepki olarak yapılmıştır?

- A) Maraş  
B) Adana  
C) İzmir  
D) Hatay  
E) Musul

17. Mustafa Kemal Mebusan Meclisi seçimlerinin yapılmasından sonra Müdafaa-ı Hukuk yanlısı olup milletvekili seçilenlerle bir görüşme yapmış ve onlardan bazı isteklerde bulunmuştur.

**Mustafa Kemal'in bu istekleri arasında aşağıdakilerden hangisinin yer aldığı söylenemez?**

- A) Kendisinin meclis başkanı seçilmesi  
B) Mecliste bir Müdafaa-ı Hukuk Grubunun kurulması  
C) Mecliste Misakımillî kararlarının kabul ettirilmesi  
D) Meclisin Anadolu'da bir yerde faaliyet göstermesini sağlamak  
E) Meclisin Anadolu Ajansının faaliyetlerini desteklemesinin sağlanması

18. Son Osmanlı Mebusan Meclisinde,

- I. Tesanüt,  
II. Müdafaa-ı Hukuk,  
III. Felah-ı Vatan

**gruplarından hangilerinin kurulduğu söylenebilir?**

- A) Yalnız I  
B) Yalnız III  
C) I ve II  
D) I ve III  
E) I, II ve III

19. I. TBMM'nin benimsediği Meclis Hükûmeti Sisteminin aşağıdaki gelişmelerden hangisinin yaşanması ile geçerliliğini yitirdiği söylenebilir?

- A) Damat Ferit Paşa'nın sadrazamlık görevinden istifa etmesi  
B) Halifeliğin kaldırılması  
C) Saltanatın kaldırılması  
D) Cumhuriyetin ilan edilmesi  
E) Mustafa Kemal'in Meclis Başkanı seçilmesi

20. Nutuk ile ilgili aşağıdaki ifadelerden hangisinde **yanlış** bir bilgi verildiği söylenebilir?

- A) 1919 ile 1927 yılları arasındaki olaylar anlatılmıştır.  
B) "19 Mayıs 1919'da Samsun'a çıktım." cümlesiyle başlamaktadır.  
C) Boğazların Türk egemenliğine geçmesi sürecindeki olaylardan bahsedilmiştir.  
D) Atatürk'ün Türk Gençliğine Hitabesi ile son bulmuştur.  
E) Atatürk'ün, CHP'nin ikinci büyük kongresinde yaptığı konuşmanın kitaplaştırılmış hâlidir.

21. I. TBMM'nin açılmasından sonra otoritesine karşı çıkan birçok ayaklanmanın bizzat İstanbul Hükûmeti tarafından desteklenmesinin,

- I. ulusal egemenliğin sağlanması,  
II. laikliğin yerleşmesi,  
III. saltanat makamının korunması

**düşüncelerinden hangilerini engellemeye yönelik olduğu savunulabilir?**

- A) Yalnız I  
B) Yalnız II  
C) I ve II  
D) I ve III  
E) I, II ve III



22. Millî Mücadele Dönemi'nde TBMM aşağıdaki devletlerden hangisine subay ve öğretmen gönderme taahhütünde bulunmuştur?

- A) Hindistan                      B) Pakistan  
C) Afganistan                    D) Gürcistan  
E) Ermenistan

23. Millî Mücadele Dönemi'nde aşağıdaki antlaşmalardan hangisinin imzalanmasından sonra Doğu sınırı kesin olarak belirlenmiştir?

- A) Gümrü                          B) Moskova  
C) Kars                             D) Mudanya  
E) Batum

24. Kurtuluş Savaşı hakkında yazılmış eserlerde göğüs göğüse çarpışmış pek çok Müslüman Türk kadınından bahsedilmiştir.

**Aşağıdakilerden hangisi bu kategori içerisinde değerlendirilemez?**

- A) Nene Hatun                    B) Kara Fatma  
C) Klavuz Hatice                D) Binbaşı Ayşe  
E) Tayyar Rahmiye

25. Aşağıdakilerden hangisi 1930 ile 1935 yılları arasında Türkiye'de yaşanan gelişmeler arasında **gösterilemez**?

- A) Üniversite Reformu'nun yapılması  
B) Medeni Kanun'un kabul edilmesi  
C) Türk Tarih Kurumunun kurulması  
D) I. Beş Yıllık Kalkınma Planı'nın uygulanmaya başlanması  
E) Türk Dil Kurumunun kurulması

26. Fethi Okyar, kendisinin kurduğu Serbest Cumhuriyet Fırkasına rejim karşıtlarının üye olduğunu ileri sürerek 18 Aralık 1930'da partisini kapatmıştır.

**Fethi Okyar'ın haklılığını aşağıdakilerden hangisi kanıtlamaktadır?**

- A) Şeyh Said İsyanı'nın çıkması  
B) Mustafa Kemal'e suikast girişiminde bulunulması  
C) Menemen Olayı'nın yaşanması  
D) Terakkiperver Cumhuriyet Fırkasının kapatılması  
E) Bozkurt-Lotus Olayı'nın yaşanması

27. II. Dünya Savaşı'nın cereyan ettiği sırada Türkiye'de yaşanan durumlar arasında aşağıdakilerden hangisi **gösterilemez**?

- A) II. Beş Yıllık Kalkınma Planı'nın uygulanmaması  
B) Bütçeden savunma giderlerine ayrılan payın artırılması  
C) Truman Doktrini ile ABD'den ekonomik yardım alınması  
D) Tarım ve sanayi sektörlerinde iş gücünün azalması  
E) Seferberlik ilan edilmesi

28. • Maden rezervi ve çeşitliliği fazladır.
- Hidroelektrik enerji potansiyeli yüksektir.
  - Nüfus yoğunluğu düşüktür.
  - Bölge dışına yoğun göç vermektedir.
- Yukarıda bazı özellikleri verilmiş olan bölge aşağıdakilerden hangisidir?**
- A) Doğu Anadolu  
B) Ege  
C) Marmara  
D) Güneydoğu Anadolu  
E) İç Anadolu

29. Türkiye'de 2015 yılına ait gelen turist sayılarını ve hangi illeri ziyaret ettiklerini gösteren bir grafikten yararlanılarak aşağıdaki bilgilerden hangisine ulaşılabılır?

- A) Toplam turizm gelirlerine  
B) Turizm faaliyetlerinin hangi illerde yoğunlaştığına  
C) Kış turizminin hangi merkezlerde yapıldığına  
D) Hangi milletten daha fazla turist geldiğine  
E) Gelen turist sayısının yıllar içinde gösterdiği değişimlere

30. Türkiye'de ormanlar kuzey bölgelerde yaklaşık 2000 m yüksekliğe kadar çıkabilirken güney bölgelerimizde bu sınır 2300 m'ye kadar yükselir.

**Türkiye ormanlarının bu belirtilen özelliği aşağıdakilerden hangisiyle açıklanabilir?**

- A) Su kaynaklarıyla  
B) Toprak özellikleriyle  
C) Bağıl nem oranıyla  
D) Enlem farkıyla  
E) Gündüz süreleriyle

31. I. Dağların kıyıya dik uzandığı bölgelerde oluşmuşlardır.  
II. Tarımsal verimlilik yüksek, üretim fazladır.  
III. Ekonomik faaliyetlerin yoğunlaştığı alanlardır.  
IV. Yaz kuraklığının belirgin olarak yaşandığı alanlardır.

**Yukarıdakilerden hangileri Türkiye'deki delta ovalarının tümü için ortak özelliklerdendir?**

- A) Yalnız III    B) I ve II    C) II ve III  
D) II ve IV    E) III ve IV

32. Aşağıdaki seçeneklerde Türkiye'de yürütülen bazı ekonomik faaliyetler belirtilmiştir:

- I. Erzurum-Kars yöresinde hayvancılığın gelişmesi  
II. Batman'da keşfedilen petrol yataklarının işletilmeye başlanması  
III. Eskişehir'de üniversitelerin kurulması, öğrenci sayısının artması  
IV. Teke Yöresi'nde küçükbaş hayvancılığın yapılması

**Yukarıdaki gelişmelerden hangilerinin yaşanması söz konusu illerin kalkınması üzerinde daha etkili olmuştur?**

- A) Yalnız II    B) I ve II    C) I ve III  
D) II ve III    E) III ve IV

33. Türkiye'de 1980 yılından itibaren iç göç hareketlerinde görülen artışın nedenleri arasında aşağıdakilerden hangisi yer alır?

- A) Hayvancılık faaliyetlerinin modern yöntemlerle yapılmaya başlanması  
B) Madencilik faaliyetlerinin gelişmesiyle yeni kentlerin kurulması  
C) Kentlerde doğum oranlarının yükselmesi  
D) İklim koşullarında değişmelerin olması  
E) Tarımsal etkinliklerde makine kullanımının artması

34. GAP Türkiye'de yürütülen en büyük kalkınma projesidir. Güneydoğu Anadolu Bölgesi'nde tarımsal üretimde görülen büyük gelişmeler bu projenin uygulanmasıyla söz konusu olmuştur.

**GAP ile beraber Güneydoğu Anadolu Bölgesi'nde aşağıdaki gelişmelerden hangisinin görülmesi tarımsal üretim üzerinde daha olumlu etkilerde bulunmuştur?**

- A) Sulama imkânlarının artması
- B) Toprak bakımının artması
- C) Makineli tarımın yaygınlaşması
- D) Gübre kullanımının artması
- E) Tarımda çalışan kişi sayısının artması

35. Aşağıdakilerden hangisi Adana ve İzmir kentlerinin ortak özelliklerinden biridir?

- A) Tektonik ovalar üzerinde kurulmuş olmaları
- B) Tarımsal faaliyetlerin genellikle sanayiye kullanılmak üzere ham madde üretimine yönelik yapılması
- C) Dağların kıyıya göre paralel uzanması
- D) Ulaşım imkânlarının sınırlı olması
- E) Jeotermal kaynaklardan evlerin ısıtılması için yararlanılması

36. Türkiye'de bazı yıllarda tarımsal ve hayvansal ürün üretiminde azalmaların görülmesinde,

- I. Mera ve çayırların çimlenme döneminde aşırı otlatılma yapılması
- II. Hayvansal ürün ihtiyacının bir kısmının ithalat yoluyla karşılanması
- III. Tarım ürünlerinin hasat dönemlerinde etkili olan yağışlara bağlı olarak sel ve taşkınların yaşanması
- IV. Tarım alanlarında nadas yerine nöbetleşe ekim yapılması

**yukarıdaki durumlarından hangileri etkili olmaktadır?**

- A) Yalnız III
- B) I ve II
- C) I ve III
- D) II ve III
- E) III ve IV

37. Türkiye'de madencilik faaliyetleri ve maden ürünleri ihracatı ekonomide önemli bir paya sahiptir.

- I. İskenderun
- II. Elazığ
- III. Kocaeli
- IV. Batman

**Yukarıdaki yerleşmelerden hangilerinin gelişmesinde madencilik faaliyetlerinin payı fazladır?**

- A) Yalnız IV
- B) I ve II
- C) I ve III
- D) II ve III
- E) II ve IV

38. Son yıllarda Türkiye'ye gelen turist sayısında büyük artışlar görülmektedir.

**Aşağıdakilerden hangisinin gelişmesi Türkiye'nin turizm gelirlerinin artmasında daha büyük paya sahiptir?**

- A) Kongre turizminin gelişmesi
- B) Akarsular üzerinde yapılan rafting ve kano gibi sporların yaygınlaşması
- C) Millî park statüsündeki alanların genişletilmesi
- D) Akdeniz'de avcılık faaliyetlerinin artması
- E) Jeotermal kaynakların turizm için kullanılması

39. • Kentlerin hızlı büyümesi ve çarpık yapılanmanın görülmesi

- Yer altı sularının bilinçsiz şekilde, aşırı kullanılması
- Tarımda sulama amacıyla göl sularının aşırı şekilde kullanılması
- Sulak alanların kurutulması

**Yukarıdaki durumlar sonucunda aşağıdakilerden hangisi gerçekleşir?**

- A) Göl seviyeleri yükselir.
- B) Akarsu ağızlarında yer alan deltalar genişler.
- C) Kentlerde hava kirliliği azalır.
- D) Ekolojik denge bozulur.
- E) Yağış miktarlarında azalma görülür.

40. Türkiye’de yürütülen sanayi faaliyetleriyle ilgili aşağıdakilerden hangisi **yanlış** bir bilgidir?

- A) Tekstil ve konfeksiyon ürünleri üretiminde dünyada önemli bir paya sahiptir.
- B) Sanayinin gelişmesinin önündeki en büyük engel işçi ihtiyacının karşılanamamasıdır.
- C) Dış talep kadar iç tüketimin de fazla olması imalat sanayisini geliştirmiştir.
- D) Ulaşımın kolay olduğu kıyı kesimlerde sanayi daha çok gelişme göstermiştir.
- E) Ham madde ihtiyacının kolay karşılandığı durumlarda sanayi daha çok gelişmiştir.

41.



Yukarıdaki haritada belirtilen alanlardan hangisinde gün içinde sıcaklık **daha fazla** değişir?

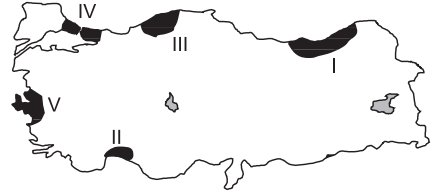
- A) I B) II C) III D) IV E) V

42. Akdeniz Bölgesi’nde narenciye yetiştiricileri kış aylarında meteoroloji bültenlerini yakından takip ederler. Yürüttükleri ekonomik faaliyet açısından bu önemli bir zorunluluktur.

Yukarıda açıklanan durumun temel nedeni aşağıdakilerden hangisidir?

- A) Kış aylarında yağış miktarlarının artması
- B) Güney sektörlü hava hareketlerinin etkili olması
- C) Kış aylarında ortalama sıcaklıkların 10°C’nin üzerinde olması
- D) Çöl üzerinden gelen tozlu hava kütlelerinin etkili olması
- E) Don olaylarının narenciye üretimine büyük zarar vermesi

43. Ekonomik açıdan gelişmiş, sanayi gibi işçi ihtiyacı fazla ekonomik faaliyetlerin yoğun olduğu yerler sürekli göç aldıklarından sık nüfuslanırlar.



Haritadaki alanlardan hangilerinin yoğun nüfuslanmış olmasında sanayi faaliyetlerinin payı **daha azdır**?

- A) I ve II B) I ve III C) I ve IV
- D) II ve IV E) III ve V

44. Türkiye’de birbirinden çok farklı turizm etkinliklerinin gelişmiş olması,

- I. yer şekillerinin çok çeşitli olması,
- II. iklim çeşitliliğinin fazla olması,
- III. sıradağların genellikle doğu-batı yönünde uzanması,
- IV. yükselti ortalamasının fazla olması

**durumlarından hangileriyle açıklanabilir?**

- A) I ve II B) I ve III C) I ve IV
- D) II ve III E) II ve IV

45. Aşağıdakilerden hangisi Erzurum-Kars Yöresi’nde büyükbaş mera hayvancılığının önemli bir ekonomik faaliyet türü olmasında etkili olmuştur?

- A) Toplu kırsal yerleşmelerin yaygın olması
- B) İhracata dönük üretim faaliyetlerinin gelişmesi
- C) Yer şekillerinin çok engebeli olması
- D) Tüketici nüfusun çok az olması
- E) Yaz ayları yağışlı geçtiği için çayır bitki örtüsünün gelişmesi

46. Aşağıdakilerden hangisi tazminat yaptırımıyla ilgili yanlış bir bilgidir?

- A) Hukuka aykırılık ya haksız fiil ya da sözleşmeye aykırılık sonucunda ortaya çıkar.
- B) Maddi ve manevi tazminat şeklinde olabilir.
- C) Tazminat yaptırımı hukuka aykırı olarak verilen zararın giderilmesi amacını taşır.
- D) Hukuka aykırı davranışlar maddi ve manevi zararlara yol açabilir.
- E) Yapılan bir işlemin hukuka aykırı olması durumunda uygulanır.

47. Aşağıdakilerden hangisi olağanüstü kanun hükmünde kararname ile ilgili yanlış bir bilgidir?

- A) Cumhurbaşkanı başkanlığında Bakanlar Kurulu tarafından çıkarılır.
- B) Resmî Gazete’de yayımlandıkları gün Meclis onayına sunulurlar.
- C) Yargısal denetimleri olağan dönemde olduğu gibi Anayasa Mahkemesi tarafından denetlenir.
- D) Meclisten yetki kanunu alınmasına gerek yoktur.
- E) Bu dönemde temel hak ve hürriyetlere ilişkin kanun hükmünde kararname çıkarılabilir.

48. Aşağıdakilerden hangisi ergin olmanın yollarından biri değildir?

- A) Ergin kılınma
- B) Normal erginlik
- C) Evlenme ile erginlik
- D) Mahkemece ergin kılınma
- E) İdari yoldan ergin olma

49. 1982 Anayasası’na göre, aşağıdakilerden hangisi sosyal-ekonomik haklardan biri değildir?

- A) Ailenin korunması ve çocuk hakları
- B) Eğitim ve öğrenim hakkı
- C) Toprak mülkiyeti
- D) Sendika kurma hakkı
- E) Toplantı, gösteri ve yürüyüş hakkı

50. Gerçek kişilik aşağıdaki hâllerden hangisinin varlığı hâlinde sona erer?

- A) Kişinin yargısal erginliğine karar verilmesi hâlinde
- B) Kişinin gaipliğine karar verilmesi hâlinde
- C) Kişinin evlenmesi hâlinde
- D) Kişinin temyiz kudretini kaybetmesi hâlinde
- E) Kişinin akıl hastalığı nedeniyle kısıtlanması hâlinde

51. Aşağıdakilerden hangisi 1982 Anayasası’na göre anayasa değiştirme usulünün aşamalarından biri değildir?

- A) Görüşme
- B) Teklif
- C) Karar
- D) İnceleme
- E) Onay

52. 1982 Anayasası'na göre, seçimden önce veya sonra bir suç işlediği ileri sürülen milletvekili hakkında meclis kararı olmadıkça aşağıdakilerden hangisi yapılabilir?

- A) Yargılanamaz.
- B) Tutulamaz.
- C) Sorgulanamaz.
- D) Hüküm verilemez.
- E) Tutuklanamaz.

53. Aşağıdakilerden hangisi 1982 Anayasası'na göre, Başbakan'ın görevinin sona ermesi ile ilgili doğru değildir?

- A) Başbakan'ın istifa etmesi
- B) Başbakan'ın ölmesi
- C) Başbakan'ın hukuk davasında yargılanması
- D) Başbakan'ın cumhurbaşkanı seçilmesi
- E) Başbakan'ın Yüce Divana gönderilmesi

54. İşlenmiş bir suçun takibine, delillerin elde edilmesine, faillerin kovuşturulmasına, yakalanmasına yönelmiş faaliyet aşağıdakilerden hangisidir?

- A) Özel kolluk
- B) Adli kolluk
- C) İdari polis
- D) Siyasi polis
- E) İdari kolluk

55. Türkiye'de en fazla iç göç veren bölge aşağıdakilerden hangisidir?

- A) Doğu Anadolu Bölgesi
- B) Karadeniz Bölgesi
- C) Güneydoğu Anadolu Bölgesi
- D) İç Anadolu Bölgesi
- E) Akdeniz Bölgesi

56. Dünyanın en büyük otomobil üretici ülkesi aşağıdakilerden hangisidir?

- A) ABD
- B) Güney Kore
- C) Fransa
- D) Almanya
- E) Çin

57. Aşağıdakilerden hangisi Karahanlılara ait eserlerden değildir?

- A) Kutadgu Bilig
- B) Divan-ü Lügati't Türk
- C) Atabetü'l Hakayık
- D) Divan-ı Hikmet
- E) Muhakemetü'l Lügatayn

58. Aşağıdakilerden hangisi Mezopotamya sınırlarında kurulmuş ilk Çağ uygarlıklarından değildir?

- A) Sümerler
- B) Akadlar
- C) Mikenler
- D) Asurlular
- E) Babiller

59. G-20 zirvesi 2017 yılında aşağıdaki ülkelerden hangisinde yapılacaktır?

- A) Türkiye
- B) Çin
- C) Almanya
- D) Japonya
- E) İtalya

60. Amerika Birleşik Devletleri Başkanlığı'na \_\_\_\_\_ Partisinden, ABD'nin \_\_\_\_\_'nci Başkanı olarak \_\_\_\_\_ 8 Kasım 2016'da seçilmiştir.

**Yukarıdaki boşluğa aşağıdakilerden hangisi getirilmelidir?**

- A) Cumhuriyetçi - 45. - Donald Trump
- B) Cumhuriyetçi - 50. - Donald Trump
- C) Demokrat - 45. - Donald Trump
- D) Demokrat - 50. - Hillary Clinton
- E) Cumhuriyetçi - 40. - Donald Trump

TESTİ BİTTİ.

CEVAPLARINIZI KONTROL EDİNİZ.

**FILOZOF**  
YAYINCILIK

**KPSS**   
**ARSİV**   
SERİSİ İLE  YANINIZDA



*Efsane Kalemlerden, Efsane Yapıtlar !*