

**BAŞKENT KARIYER**  
**KAMU PERSONELİ SEÇME SINAVI**  
**(KPSS)**  
**LİSANS DÜZEYİ**  
**GENEL YETENEK - GENEL KÜLTÜR**

**DİKKAT!**

**SINAVA BAŞLAMADAN ÖNCE AŞAĞIDAKİ UYARILARI MUTLAKA OKUYUNUZ.**

1. Adınızı, soyadınızı cevap kâğıdınızdaki belirtilen alana yazmayı unutmayınız.
2. Testler için verilen toplam cevaplama süresi 130 dakika olacaktır.
3. Bu kitapçık toplam iki bölüm (Genel Yetenek, Genel Kültür) ve çoktan seçmeli 120 sorudan oluşmaktadır.
4. Cevaplamaya istediğiniz bölüm ve sorudan başlayabilirsiniz.
5. Kendisine ait cevap kâğıdını kullanmayan, başka bir cevap kâğıdına işaretleme yapan adayın sınavı geçersiz sayılacaktır.
6. Bir soruya verilen cevabın değiştirilebilmesi için, yanlış konulmuş işaretin temiz bir şekilde silinmesi gerekir. Cevap kâğıdını değerlendiren optik okuyucu, iyi silinmemiş işareti de okuyabilir. Özellikle, verilen bir cevap silinip yerine başka bir cevap işaretlenmediğinde bu işaret çok iyi silinmiş olmalıdır.
7. Puanlama hesaplaması yapılırken her bölümdeki doğru cevaplarınızın sayısından yanlış cevaplarınızın sayısının dörtte biri düşülecek ve kalan sayı o testle ilgili ham puanınız olacaktır.

Bu testlerin her hakkı saklıdır. Hangi amaçla olursa olsun testlerin tamamının veya bir kısmının kurumumuzun yazılı izni olmadan kopya edilmesi, fotoğrafının çekilmesi, herhangi bir yolla çoğaltılması, yayımlanması ya da kullanılması yasaktır. Bu yasağa uymayanlar gerekli cezai sorumluluğu ve testlerin hazırlanmasındaki mali külfeti peşinen kabullenmiş sayılır. Bu testlerin her hakkı saklıdır. Hangi amaçla olursa olsun testlerin tamamının veya bir kısmının kurumumuzun yazılı izni olmadan kopya edilmesi, fotoğrafının çekilmesi, herhangi bir yolla çoğaltılması, yayımlanması ya da kullanılması yasaktır. Bu yasağa uymayanlar gerekli cezai sorumluluğu ve testlerin hazırlanmasındaki mali külfeti peşinen kabullenmiş sayılır.

BAŞARILAR  
BAŞKENT KARIYER

1. Sanatçı olmak kolay değildir. Büyük başarılarla imza atmak için çok çalışmak gerekir. Özellikle “Şiir” yazmak, ince hesap kitap işidir.

**Bu parçadaki altı çizili ifadeyle şair olmanın hangi özelliği anlatılmış olamaz?**

- A) Zor olduğu  
B) Şiir yazmanın itina istediği  
C) Sözcüklerin anlamına uygun kullanılması gerektiğine  
D) Güzel sözcükler kullanması gerektiğine  
E) Duygularını doğrudan yansıtması gerektiğine

2. Her işin uygun bir zamanı vardır. Yerinde ve vaktinde yapılan bir iş, bizi sonuca ulaştırır. Önümüze çıkan fırsatları iyi değerlendirirsek başarırız, o işten kazançlı çıkarız.

**Yukarıda verilen cümleyi hangi atasözü desteklemez?**

- A) Yel eserken harman savrulur.  
B) Su akarken testiyi doldurmalı.  
C) Demir, tavında dövülür.  
D) Her zaman gemicinin istediği rüzgar esmez.  
E) Göğe, direk denize kapak olmaz.

3. I. belki o an görmek mümkün değildir  
II. nükleer santrallerin veya reaktörlerin dünyaya nasıl zarar verdiğini  
III. ama gerçekleşen kazalardan yıllar geçtikten sonra  
IV. bugün bizi yeniden sorgulamaya itmelidir  
V. neler olduğu konusundaki veriler

**Yukarıdaki sözler anlamlı ve kurallı bir cümle oluşturacak biçimde sıralandığında hangisi baştan dördüncü olur?**

- A) V. B) IV. C) III. D) II. E) I.

4. Suut Kemal Yetkin: “Şiir, olmuş düşüncelerin yürekten kopuşudur.” der.

**Sanatçının bu sözüyle anlatmak istediği düşünceyi içeren cümle aşağıdakilerden hangisidir?**

- A) Şiir, düşüncenin duygu evreninde yoğrulmasıyla oluşur.  
B) Şiirin etkili olması, etkileyici bir üslupla söylenmesine bağlıdır.  
C) Şiirde, biçim değil içerik daha önemlidir.  
D) Şiir, duyguların toprağını besler.  
E) Şiirde sanatçı kendini yansıtır.

5. (I) Yükseliş ve çöküş süreçlerinin önemli olduğunu biliyoruz. (II) Fakat dikkatimiz, zekâmız ve aklımız mütemadiyen yükseliş süreçleri ile ilgileniyor. (III) Çöküş süreçleriyle her nedense kafi derecede ilgilenmiyoruz bu da yükselmeye, gelişmeye, kalkınmaya ihtiyacımız olduğunu gösteriyor. (IV) Hiç kimse ve hiçbir medeniyet çöküşü düşünmediği ve ihtiyaç duymadığı için dikkati, zekası ve aklı o istikamete yönelmiyor. (V) Bu sebeple dünyanın ürettiği literatür, sayısız kalkınma modeli ile doludur; oysa her devlet ve medeniyet mutlaka çöküyor.

**Bu parçadaki numaralanmış cümlelerin hangisinde çıkarım yapılmıştır?**

- A) I B) II C) III D) IV E) V

6. I. Yazık ki son zamanlarda biz Türklerin karakter çizgileri siliniyor, değişiyor, dağılıyor.  
II. Her milletin genel karakter çizgileri vardır.  
III. Tanısın ya da tanımasın, yüzünde hüznü gördüğü insana yaklaşır "Senin bir sıkıntın var galiba arkadaş, istersen paylaşalım, belki yardımım dokunur!" diyen yüce gönüllü kuşaklar gitti.  
IV. Ne zamandır bilinmez, artık kendimizle eşit konumda olan bir kardeşimizin olduğunu istemekte direnip durmayı âdet edindik.  
V. Yerine "Benim bir sıkıntım var!" diyerek onurunu zedelemek pahasına kapımıza gelen kişiye "Bu senin problemin; beni ilgilendirmiyor." diyebilecek kadar ithal nesiller geldi.

**Bu parçadaki numaralı cümleler anlamlı bir bütün oluşturduğunda hangisi baştan ikinci olur?**

- A) I B) II C) III D) IV E) V

7. (I) Ben, öykülerimi çok uzun zamanda yazıyorum; üzerinde günlerce düşünmek, en uygun sözleri bulmak istiyorum. (II) Bir söz, bir his, bir durum, bir atmosfer, bir fikir, bir insan, bir olay. (III) Bütün bunlardan beni yazmaya itecek bir unsur yakaladığım zaman onu kurmaya başlıyorum. (IV) Yazacağım öyküyü, uzun zaman kafamda taşıyorum; sonra da tamam oldu diyorum. (V) Genellikle ben bir şey bulmuyorum, bir şey bana kendini yazdırıyor.

**Bu parçadaki numaralı cümlelerin hangisinde noktalama hatası yapılmıştır?**

- A) I B) II C) III D) IV E) V

8. Metro istasyonunun merdivenlerinden çıkarken koltuk değneklerine yaslanmış, merdivenleri tırmanmaya çalışan engelli otuz-kırk çocuk gördüm. Kahkahalar atarak birbirleri ile şakalaşıyorlardı. Neşelerine hayret edip başlarındaki adama sebebini sordum. Bana şöyle dedi: "Bir çocuk ömür boyu sakat kalacağını anladığında önce şok geçirir. Sonra bu gerçeğe boyun eğer ve sakat olmayan çocuklardan daha neşeli ve mutlu olur. Onlar koltuk değneği ile yürüyemeyenlerin olduğunu da biliyorlar. Onlar ayaklarını kaybettiler ama kendilerinde daha ne kadar çok önemli şeyler bulunduğunun farkına vardılar.

**Bu parçanın anlatımıyla ilgili aşağıdakilerden hangisi söylenemez?**

- A) Karşılaştırma yapılmıştır.  
B) Düşsel öğelere yer verilmiştir.  
C) Farklı duyulara seslenilmiştir.  
D) Resim çizme sanatından yararlanılmıştır.  
E) Alıntı yapılmıştır.

9. Mahzuni yıldırım aylar içinde  
Bağlamışım zülfü yaylar içinde  
Yüzemez yunuslar çaylar içinde  
Deniz vurgununun yaresi bir hoş  
**Bu dizelerde aşağıdaki ses olaylarından hangisi vardır?**

- A) Ünlü düşmesi  
B) Ünsüz düşmesi  
C) Ünlü daralması  
D) Ünlü türemesi  
E) Ünsüz benzeşmesi

10. Yaptığı işin bilincinde olan bir eleştirmen, yazarı değil, eserini ele alır. Çünkü bir eser okuyucuyla buluştuktan sonra yazarıyla organik bağını koparmış olur. Nasıl ki yazarın onu açıklamaya veya savunmaya çalışması anlamsız bir çaba ise eleştirmenin de yazar üzerinde yoğunlaşması öyle gereksiz ve anlamsız bir çabadır. Eleştirmen, yazarla uğraşmak yerine güzel eserlerle okuyucuyu buluşturmaya, eserle okuyucu arasında köprü olmaya çalışmalıdır.

**Aşağıdakilerden hangisi bu parçadaki altı çizili sözlerden birinin anlamını ıçermez?**

- A) Birleştirici olmak  
B) Eserin sahibiyle ilgilenmek  
C) Eseri incelemek  
D) Tarafsız olmak  
E) Eserle ilgilenmek

11. Lozan Görüşmelerine hem İstanbul Hükümeti hem de TBMM Hükümetinin çağırılması ve İstanbul Hükümetinin temsilci göndermek için çalışmalar yapması üzerine TBMM'de saltanat kaldırılmıştır.

**Bu cümlede aşağıdaki anlam ilgilerinden hangisi vardır?**

- A) Neden-amaç  
B) Koşul-amaç  
C) Tanım-neden  
D) Çıkarım-amaç  
E) İhtimal-koşul

12. (I) Ayakla oynanan top oyunlarının Sümerlere kadar ulaştığı bilinmektedir. (II) Mısır'da mezarlardaki duvar resimlerinde ayakla top oynayan insan figürlerine rastlanmıştır, hatta bu zamandan kalma, 7 cm çapında deri veya ketenden yapılmış toplar 2500 yıl önceden günümüze kadar ulaşmıştır ve kimi müzelerde sergilenmektedir. (III) Homeros da "Odessa"da top oyunlarından bahseder. M.Ö 2500 yıllarında da Çin'de yere dikilmiş iki mızrak arasından bir topu tekmelemek suretiyle geçirmeye çalışarak talim yapıldığı bilinmektedir. (IV) Orta Asya Türklerinin de kız ve erkeklerden kurulu karma takımlarla, topa elle dokunmadan, sadece ayak ve kafa ile vurarak rakip kaleden içeri atmaya çalışarak bir oyun oynadıkları kaynaklarda yer alıyor. (V) İçlerinde Kaşgarlı Mahmut'un da bulunduğu pek çok tarihinin kitaplarında da Türklerin oynadığı "tepük" isimli bir oyundan bahsedilir.

**Bu parçadaki numaralanmış cümlelerin hangisinde yazım yanlışlığı yapılmıştır?**

- A) I B) II C) III D) IV E) V

13. Aşağıdaki cümlelerin hangisinde “hem ... hem” bağlacı özneleri bağlama görevinde kullanılmıştır?

- A) Çalışanlar hem ailelere hem de kimsesizlere yardım ediyor.
- B) Bu tatil köyünde hem öğrencilere hem de köyün yerli halka hizmet veriyor.
- C) Eserlerinde hem dil bilgisine hem de içeriğe önem verdiği için başarılı oluyor.
- D) Hem çiftçilere hem de öğrencilere yeni kredi olanakları sağlanacak.
- E) Mısır’da yaşananlara hem Avrupa hem de İslam dünyası sessiz kalıyor.

14. İslam kültüründe temizlik bir bütün olarak değerlendirilmiş; hem genel anlamdaki temizlik hem de ibadet amaçlı temizlik birbirini tamamlayacak şekilde ele alınmıştır.

**Bu cümlede aşağıdakilerden hangisi yoktur?**

- A) Sıfat
- B) Çekimli fiil
- C) Adlaşmış sıfat
- D) İsim tamlaması
- E) Eylemsi

15. (I) İçimize işlemiş “vefasızlık” duygusuna bir tepki gösterme düşüncesiyle bu kitabı yazdım. (II) Kitabımın başında da özellikle söylediğim gibi, ben bu kitabı ustam Suavi Süalp’le birlikte, mizahımıza yüreğini koymuş bütün mizahçılara adadım. (III) Suavi Süalp bu kitabı çoktan hak etmiş bir mizah dehasıydı. (IV) Ama 1981’de aniden aramızdan ayrılınca ne yazık ki adı da mizahımıza getirdiği yenilikler de unutuldu. (V) İstedim ki onun adını bile duymamış gençler onu tanısin. (VI) Gerçi bu kitapla ilgileneceklerini pek sanmıyorum ama tarihe sağlam bir belge bırakmak da yeter bana.

**Bu parçada konuşan kişiye ilişkin numaralanmış cümlelerle ilgili olarak aşağıda verilenlerden hangisi yanlıştır?**

- A) I. cümlede, kitabı neden hazırladığını açıklıyor.
- B) II. cümlede, kimi sanatçıların emeğine duyduğu saygıyı gösteriyor.
- C) III. cümlede, söz konusu kişiyi övgü dolu sözlerle tanıtıyor.
- D) IV. cümlede, bir üzüntüsünü dile getiriyor.
- E) VI. cümlede, bir yanlışlığı düzelttiğinden söz ediyor.

16. İnsanlar, bazen -hatta çoğu zaman- yaratıcılığın kökenlerini ararken bilimsel araştırmalardan ziyade, tarihte büyük ve önemli paradigma değişimlerine yol açmış, o güne kadar duyulmamış kavramları tüm insanlığa kabul ettirmiş insanların hayat hikayelerinden de dersler çıkarmaya çalışır.

**Bu cümleyle ilgili olarak aşağıda söylenenlerden hangisi yanlıştır?**

- A) Sıralı cümleler kullanılmıştır.
- B) Zincirleme isim tamlaması kullanılmıştır.
- C) Bir isim birden fazla sıfat tarafından nitelenmiştir.
- D) Birleşik zamanlı eylem kullanılmıştır.
- E) Farklı türde fiilimsiler kullanılmıştır.

17. (I) İnci Aral öykülerini 1977 yılında dergilerde yayımlamaya başladığında dili ve anlatımıyla olduğu kadar ortaya attığı düşünceler, anlattığı olaylarla da dikkatleri üzerine toplamıştı. (II) Bu ilk öykülerinde ülkemizde kadın olmanın getirdiği güçlüklerin göze çarpmayan ayrıntılarını dile getiriyordu, (III) Bu ayrıntılar genellikle büyük acıların kaynağından süzülüp geliyordu. (IV) İnci Aral, çeşitli kesimlerdeki kadınları ele alıyor, onları mutsuz kılan gelenekleri, kuralları öyküleştiren yargılıyordu. (V) "Kadın Zamanı", yazarın öykülerden oluşturduğu ilk kitabıdır.

**Bu parçadaki numaralanmış cümlelerden hangisi sadece özne ve yüklemden oluşmaktadır?**

- A) I    B) II    C) III    D) IV    E) V

18. Çoğu zaman günlük deneyimlerimiz, başlıca bilgi kaynağımız olan duyuvarın bizi yanılttığını göstermiştir. Ancak insanlık tarihine baktığımızda da bizim bugün apaçık yanlış olduğunu kabul ettiğimiz birçok şeyin geçmişte yanılmaz doğrular olarak benimsendiğini görürüz. Bu durum felsefe tarihinde, doğru bilginin imkânından şüphe eden filozofların ortaya çıkmasına yol açmıştır.

**Bu parçaya göre aşağıdakilerden hangisi sözü edilen filozofların özelliklerinden biri olamaz?**

- A) Kuşkucu  
B) Sorgulayıcı  
C) Eleştirel  
D) Yararacı  
E) Septik

19. Ahmet Hamdi Tampınar, "Musul Akşamları" adlı şiiriyle sanat hayatına başlamıştır. Şiirlerinde, "zaman, rüya, hayal, masal, musiki" gibi kavramlara geniş yer vermiştir. Şiirlerinde derin bir müzikalite, zaman teması, renkli bir imaj ve orijinal hayallerin yanı sıra bilinçaltına, insan ruhuna inen bir duyarlılık görülür. Sanatçının romanlarında ise durum biraz farklıdır. Nesir diliyle şiir dilini sentezleyerek ortaya koymaktadır. Bu durumu ise sanatçının şu sözü özetlemektedir: "Şiirlerimde sustuğum şeyleri, roman ve hikayelerimde anlattım."

**Bu parçadan hareketle aşağıdakilerden hangisine ulaşamaz?**

- A) Tampınar, şiirlerinde belirgi kavramlar üzerinde durmaktadır.  
B) Sanatçının şiir diliyle romanlarında kullandığı dil aynı duyarlılığa sahiptir.  
C) Tampınar, roman da yazmıştır.  
D) Şiirlerinde, insan ruhuna inen bir duyarlılık görülür.  
E) Sanatçı, şiirlerinde müzikaliteye ve zaman temasına önem verir.

20. (I) Cep telefonları son teknolojik gelişmelerin bir ürünüdür. (II) Kullanıcı sayısının her geçen gün artması zararlarının da aynı oranda çoğalmasına sebep olmaktadır. (III) Yaydığı elektromanyetik dalgalar, kısa vadede görüş ve işitme kayıplarına, kalp ritminde bozulmalara, uyku düzensizliklerine sebep olmaktadır. (IV) Uzun vadede ise cilt kanseri, beyin tümörü riskinde artışa, kan tablosunun bozulmasına yol açtığı uzmanlar tarafından bildirilmektedir. (V) Alınacak önlemler arasında baş, kalp gibi organlara yakın bölgelerden uzakta taşımak, kullanım sürelerini minimuma çekmektir. (VI) Bundan on beş yıl önce sadece konuşmak ve mesajlaşmak için kullandığımız cep telefonları artık bilgisayarın yerini aldı. (VII) Normal bilgisayarda yaptığımız işlemlerin çoğunu artık telefonlarla yapabiliyoruz.

**Bu parçadaki numaralı cümlelerin hangisiyle ikinci paragraf başlar?**

- A) III    B) IV    C) V    D) VI    E) VII

21. Türklerin tarihinde at, gerçekten büyük bir emekçidir. "At, Türk'ün kanadadır." sözü bunu örnekle-yen bir sözdür. Orta Asya'daki şamanlık dönem-lerine kadar giden kanatlı at öyküleri vardır. Atlar kanatlarıyla ölen bir yiğidi öbür dünyaya götürüyor oradan da yeryüzüne geri getiriyor. Türklerin atı, evcilleştirdikten sonra etinden ve sütünden yararlandılar.

**Bu parçadan hareketle aşağıdakilerden hangi-sine ulaşamaz?**

- A) Türklerin tarihinde at son derece önemli bir yere sahiptir.
- B) Orta Asya'daki Şamanlık döneminde kadar sü-ren kanatlı atıyla ilgili öyküler bulunur.
- C) Türklerin atı evcilleştirmesinden önce şaman-lar da atın etinden ve sütünden faydalandı.
- D) Atlarla ilgili bazı inançlar bulunmaktadır.
- E) At, Türkün kanadı sözü, bu hayvanın önemini vurgulamaktadır.

22. Batı edebiyatını tanıdıkça bizim edebiyatımızın ne kadar geri olduğunu daha iyi anlıyor ve bunu de-ğiştirebilmek için gece gündüz çalışıyorum.

**Bu cümlede aşağıdakilerden hangisi yoktur?**

- A) Amaç
- B) İkileme
- C) Koşul
- D) Tanım
- E) Öznellik

23. Mark Twain: "Başarının sırrı mesleği dinlenceye çevirmektir." diyor. İnsan, çalışırken sıkıntı, yor-gunluk hissetmediğinde yeteneklerini gösterebi-irse başarılı olur. Özellikle huzur ve güvenli bir ortamda da çalışıyorsa başarı kaçınılmazdır. Ye-teneklerini de etkili bir şekilde kullanabilir. Kendini işine verebilen bir insan için başarı kaçınılmazdır.

**Bu parçada asıl anlatılmak istenilen nedir?**

- A) Başarılı olmak isteyen bir insan, eleştirilere ku-lak vermelidir.
- B) Sadece çalışan insan başarılı.
- C) İnsan, bir işi seviyorsa her şeyi kendine göre şekillendirir.
- D) İnanmak, başarmak için yetmez.
- E) Kişi aynı anda birden fazla iş başarabilir.

24. Kimi sözcüklerin yazımında şapkaların kalktığı söyleniyor. Bu şapkaları kullanmasak ne olur? Bi-lenler elbette okur. Peki bilmeyen gençler? Çocuk-lar, Türkçeyi yeni öğrenenler... Sizler de çevreniz-de "hala" ya "hâla" der. Nasıl öğrenecek? Sevgili büyükler, önce siz bu iki kelimenin farklı yazılması gerektiğini öğrenin. Dilimize vefa borcumuzu öde-yelim.

**Bu parçadan çıkarılabilecek en kapsamlı yargı aşağıdakilerden hangisidir?**

- A) Dilimizde, şapka kullanımının bazı durumlarda kullanılması gerektiği bilinmeyen bir gerçektir.
- B) Gençlere dilimizin güzellikleri anlatılmalıdır.
- C) Dilde şapka kullanımı gerekli değildir.
- D) Dildeki yabancı kelimeler günden güne art-maktadır.
- E) Yabancı kelime yerine o kelimenin eş anlamlı Türkçe olanı tercih edilmelidir.

25-27. soruları aşağıdaki parçaya göre cevaplayınız.

Gordion, Frig uygarlığının başkenti olarak tarihe geçmiştir. Sakarya Nehri ve Porsuk Çayı'nın birleştiği noktanın çevresinde kalan, günümüzde Ankara'nın Polatlı ilçesinin yakınlarında bulunan bölgedir. Adını, Friglerin büyük kralı Gordios'dan almıştır. Gordion'un yer aldığı bölge, tarihte Asurlular ve Hititlere de ev sahipliği yapmış bir bölgedir. Gordion, yassı bir höyük şeklindedir. Kent, sürekli yıkılan ve üzerine yeni kerpiç evler yapılan bir höyük halindedir. Kentin, Milattan önce 8. yüzyılda yapılmış ve günümüze dek bir kısmı korunabilmiş, tarihi ve sanatsal değeri yüksek bir kapısı bulunmaktadır. Bu kapının her iki yanında ise kuleler yer almaktadır. Gordion kentinin merkezi, saraylara ayrılmıştır. Saray yapılarını halkın yaşam alanından ayıran kerpiç duvarlar yer almaktaydı. Frigler, Gordion'a Milattan önce 9. yüzyılın ortalarına doğru bu bölgeye, birçok kaynağa göre Makedonya'dan göç ederek gelmiş, yerleşmiştir. Milattan Önce 7. yüzyılın başında Kimmerlerin saldırısına uğrayan Gordion, uzun bir süre Pers istilasında kalmıştır.

25. Bu parçada Gordion'la ilgili olarak aşağıdakilerden hangisine değinilmemiştir?

- A) Başka milletlerin etkisi altında kaldığına
- B) Bir dönem başkentlik yaptığına
- C) Sanatsal değeri olan eserlerin olduğuna
- D) Persler tarafından yıkıldığına
- E) Üst ve alt zümre arasında ayrım olduğuna

26. Bu parçaya göre aşağıdakilerden hangisiyle ilgili kesin bir bilgi verilmemiştir?

- A) Gordion'un kimlere ev sahipliği yaptığı
- B) Friglerin nereden geldiği
- C) Gordion'un nerede bulunduğu
- D) Günümüze kadar kalan yapının ne olduğu
- E) Gordion isminin nereden geldiği

27. Bu parçanın anlatımıyla ilgili aşağıdakilerden hangisi söylenemez?

- A) Bilgi verme amaçlanmıştır.
- B) Sohbet havası taşımaktadır.
- C) Ayrıntılara yer verilmiştir.
- D) Nesnel veriler kullanılmıştır.
- E) Deyim kullanılmıştır.



28-30. soruları aşağıdaki bilgilere göre cevaplayınız.

Kuzey, Bahar, Kazım, Dilek ve Eren bir mağazadan 4 masa, 3 sandalye, 2 çadır ve 1 radyo almıştır. Bu alışverişle ilgili aşağıdaki bilgiler verilmiştir:

- Herkes iki farklı malzeme almıştır.
- Kazım masa almamıştır.
- Sandalye alan herkes masa de almıştır.
- Kuzey ve Dilek aynı malzemelerden almıştır.

28. Bu bilgilere göre, aşağıdakilerden hangisi kesin olarak yanlıştır?

- A) Kuzey masa almıştır.
- B) Bahar çadır almıştır.
- C) Dilek çadır almıştır.
- D) Kazım radyo almıştır.
- E) Eren sandalye almıştır.

29. Bu bilgilere göre, aşağıdakilerden hangisi kesin olarak doğrudur?

- A) Bahar sandalye almıştır.
- B) Dilek radyo almıştır.
- C) Eren çadır almıştır.
- D) Çadır alan herkes masa da almıştır.
- E) Radyo alan kişi çadır da almıştır.

30. Bu bilgilere göre, aldıkları malzemelerin neler olduğu kesin olarak bilinenler aşağıdakilerin hangisinde birlikte verilmiştir?

- A) Kuzey, Burcu
- B) Bahar, Kazım
- C) Kazım, Eren
- D) Kuzey, Kazım, Dilek
- E) Bahar, Dilek, Eren

31.  $6^x = 12$

olduğuna göre,  $\frac{2^{x+1}}{3^{1-x}}$  işleminin sonucu kaçtır?

- A) 3 B) 4 C) 6 D) 8 E) 9

32.  $a = \frac{1}{3} + \frac{1}{6} + \frac{1}{8}$

$$b = \frac{2}{5} + \frac{1}{10} + \frac{1}{9}$$

$$c = \frac{4}{7} + \frac{1}{5} - \frac{1}{14}$$

olduğuna göre, aşağıdakilerden hangisi doğrudur?

- A)  $a > b > c$  B)  $a > c > b$  C)  $b > a > c$   
D)  $b > c > a$  E)  $c > a > b$

33.  $\frac{\sqrt{0,4} + \sqrt{1,6}}{\sqrt{0,5} \cdot \sqrt{1,8}}$

işleminin sonucu kaçtır?

- A) 1 B) 2 C) 3  
D)  $2\sqrt{3}$  E)  $3\sqrt{2}$

34.  $4a1b$  dört basamaklı rakamları farklı 45 ile tam bölünen bir sayıdır.

Buna göre,  $a$  kaçtır?

- A) 9 B) 8 C) 7 D) 6 E) 5

35.  $K$ ,  $a$  ve  $b$  pozitif tam sayılardır.

$$K = 7a - 3 = 12b - 8$$

Üç basamaklı en küçük  $K$  sayısının rakamları toplamı kaçtır?

- A) 10 B) 11 C) 12 D) 13 E) 14

36.  $\frac{a}{b} - \frac{b}{a} = 6$

$$\frac{1}{a} + \frac{1}{b} = 2$$

olduğuna göre,  $a - b$  farkının değeri kaçtır?

- A) 2 B) 3 C) 4 D)  $\frac{1}{2}$  E)  $\frac{1}{6}$

37.  $a - \sqrt{a} = 1$

olduğuna göre,  $a + \frac{1}{a}$  ifadesinin değeri kaçtır?

- A) 1 B) 2 C) 3 D)  $\sqrt{3}$  E)  $\sqrt{5}$

38.  $3a + \frac{5}{4b} = \frac{1}{3}$

$$4b + \frac{5}{3a} = 2$$

olduğuna göre,  $\frac{a}{b}$  kaçtır?

- A)  $\frac{1}{6}$  B)  $\frac{3}{8}$  C)  $\frac{4}{9}$  D)  $\frac{2}{9}$  E)  $\frac{1}{9}$

39.  $p$  bir asal sayı ve  $n$  bir doğal sayı olmak üzere,  
 $p.n = 9^p$   
 eşitliği sağlanıyor.

**Buna göre,  $p + n$  toplamı kaçtır?**

- A) 240      B) 242      C) 244  
 D) 246      E) 248

40.  $x = ABC4$

$y = 4ABC$

$x$  ve  $y$  dört basamaklı sayılardır.

**$x - y = 2448$  olduğuna göre,  $A + B + C$  kaçtır?**

- A) 12      B) 13      C) 14      D) 15      E) 16

41.  $\Delta$  işlemi aşağıdaki gibi tanımlanmıştır.

$$\Delta(x) = \Delta(x + 1) - 2x$$

biçiminde tanımlanmıştır.

**$\Delta(1) = 2$  olduğuna göre,  $\Delta(4)$  kaçtır?**

- A) 10      B) 11      C) 12      D) 13      E) 14

42. 2, 3, 4, 5 rakamları kullanılarak yazılabilen, rakamları farklı bütün üç basamaklı sayıların toplamı kaçtır?

- A) 6728      B) 7246      C) 8496  
 D) 9048      E) 9324

43. Onur elindeki parayla 3 tane gömlek ve 4 kravat alırsa 60 TL'si artıyor. Eğer 2 gömlek 6 kravat alırsa hiç parası kalmıyor.

**Bir gömleğin fiyatı bir kravatın fiyatından 12 TL fazla olduğuna göre, bir gömlek kaç TL'dir?**

- A) 72      B) 76      C) 80      D) 84      E) 88

$$44. \frac{(10!)^2 - (9!)^2}{11! - 10! - 9!}$$

**işleminin sonucu aşağıdakilerden hangisidir?**

- A) 9!      B) 10!      C) 29! . 11  
 D) 11!      E) 9.11!

45. Menekşe, Birnur ve Seher'in yaşları toplamı 78'dir. Menekşe Birnur'un yaşına geldiğinde Seher'in yaşı Menekşe'nin şimdiki yaşına geliyor.

**Buna göre, Menekşe'nin bugünkü yaşı kaçtır?**

- A) 22      B) 23      C) 24      D) 25      E) 26

46. Bir araç A şehriden B şehrine 6 saatte, başka bir araç B şehriden A şehrine 9 saatte varabiliyor.

**Bu iki araç aynı anda biri A'dan diğeri B'den hareket ederlerse kaç saat sonra karşılaşılır?**

- A) 3      B) 3,6      C) 4      D) 4,5      E) 4,8

47. Bir mağazada 3 ürün alana 1 ürün hediye verilmektedir.

**Mağaza 3 ürün sattığında %20 kar sağladığına göre, bir ürünün satış fiyatı yüzde kaç karla hesaplanmıştır?**

- A) 75 B) 72 C) 60 D) 54 E) 48

48. Bir okuldaki bayan öğretmen sayısı 28, kadrolu öğretmen sayısı 30'dur.

**Bu okuldaki kadrolu erkek öğretmen sayısı ile sözleşmeli bayan öğretmen sayısı toplamı 26 olduğuna göre, sözleşmeli bayan öğretmen sayısı kaçtır?**

- A) 10 B) 11 C) 12 D) 13 E) 14

49. %40 tuz olan bir karışımın  $\frac{1}{4}$ 'ü dökülerek dökülen miktar kadar karışıma tuz ilave ediliyor.

**Buna göre, karışımın yüzde kaç tuz olur?**

- A) 45 B) 50 C) 55 D) 60 E) 65

50. Bir torbada beyaz, kırmızı ve sarı renkte bilye bulunmaktadır. Torbadan çekilen bir bilyenin beyaz renkte olma olasılığı  $\frac{1}{2}$ , kırmızı renkte olma olasılığı  $\frac{1}{3}$ 'tür.

**Buna göre, sarı renkte olma olasılığı kaçtır?**

- A)  $\frac{1}{3}$  B)  $\frac{1}{4}$  C)  $\frac{1}{5}$  D)  $\frac{1}{6}$  E)  $\frac{1}{7}$

51. Uzunluğu 90 cm olan bir telden en kısa kenarı 9 cm olan dik üçgen yapıyor.

**Bu dik üçgenin alanı kaç  $\text{cm}^2$  dir?**

- A) 90 B) 108 C) 144 D) 160 E) 180

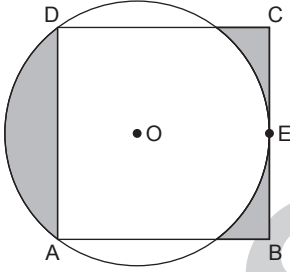
52.  $k$ , 2'den büyük bir tam sayı olmak üzere;

$A(k)$ ,  $k$  sayısının asal bölenlerinin çarpımı biçiminde tanımlanmıştır.

Buna göre,  $A(k) = 15$  eşitliğini sağlayan üç basamaklı en küçük  $k$  sayısının rakamları toplamı kaçtır?

- A) 9 B) 10 C) 11 D) 12 E) 13

53.



ABCD karesi O merkezli çembere E noktasında teğettir.

$|AB| = 8$  cm

Yukarıdaki verilere göre, taralı bölgelerin alanları toplamı kaç  $\text{cm}^2$  dir?

- A)  $\pi + 8$  B)  $\pi + 12$  C)  $\pi + 16$   
D) 12 E) 16

54. Alanları oranı  $\frac{3}{4}$  olan iki küpün hacimleri oranı kaçtır?

- A)  $\frac{3}{8}$  B)  $\frac{9}{16}$  C)  $\frac{27}{32}$   
D)  $\frac{3\sqrt{3}}{8}$  E)  $\frac{3\sqrt{3}}{16}$

55-57. soruları aşağıdaki bilgilere göre cevaplayınız.

İlk terimi  $a_1$  olan bir  $\{a_n\}$  dizisi,  $n \geq 2$  tam sayısı için

$$a_n = \begin{cases} a_{n-1} + a_{n-2} & , n \text{ tek ise} \\ 2n - 3 & , n \text{ çift ise} \end{cases}$$

biçiminde tanımlanıyor.

55.  $a_1 = 1$  olduğuna göre  $a_7$  kaçtır?

- A) 4 B) 8 C) 10 D) 16 E) 28

56.  $a_5 = 19$  olduğuna göre  $a_1$  kaçtır?

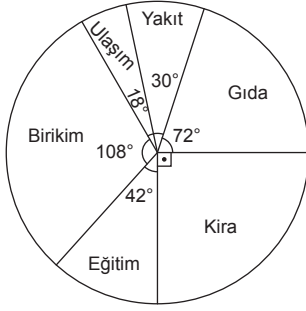
- A) 6 B) 7 C) 9 D) 13 E) 17

57.  $a_1 = 5$  olduğuna göre  $a_{21}$  kaçtır?

- A) 185 B) 190 C) 195 D) 210 E) 215

58-60. soruları aşağıdaki bilgilere göre cevaplayınız.

Aşağıdaki daire grafik 2400 TL maaş alan bir kişinin yaptığı harcamaların dağılımını ve birikimini göstermektedir.



58. Eğitime ayırdığı para, yakıt giderine ayırdığı paradan kaç TL fazladır?

- A) 60 B) 80 C) 90 D) 100 E) 120

59. Kira gideri %30 artan bu çalışan artışı birikiminden karşılayacaktır.

Buna göre, birikimin yüzde kaçını kiraya ayıracaktır?

- A) 10 B) 15 C) 20 D) 25 E) 30

60. Maaşının yüzde kaçını ulaşıma ayırmıştır?

- A) 2 B) 5 C) 8 D) 10 E) 12

GENEL YETENEK TESTİ BİTTİ.  
GENEL KÜLTÜR TESTİNE GEÇİNİZ.

1. I. Toplumsal ilişkileri düzenleyen yazısız hukuk kurallarıdır.  
II. Devlet yöneticilerinin eşyalarıyla gömüldüğü mezarlardır.  
III. Toplumunu oluşturan en küçük sosyal birimdir.  
IV. Kurultay üyelerine verilen unvandır.

**Yukarıda İslamiyet öncesi Türk tarihine ait verilen bilgiler aşağıdaki kavramlarla eşleştirildiğinde hangisinin açıklaması yoktur?**

- A) Toygun      B) Oğuş      C) Kurgan  
D) Töre      E) Baksı

2. Aşağıdaki savaşlardan hangileri Türk-İslam devletleri arasında olmamıştır?

- A) Dandanakan (1040)  
B) Pasinler (1048)  
C) Yassıçemen (1231)  
D) Otlukbeli (1473)  
E) Nesa (1035)

3. Aşağıda verilen Osmanlı dönemi yazar ve eser eşleştirmelerinden hangisi yanlıştır?

- A) Aşıkpaşazade - Tevarih-i Ali Osman  
B) Katip Çelebi - Cihannüma  
C) Piri Reis - Miratü'l-Memalik  
D) Evliya Çelebi - Seyahatname  
E) Ali Kuşçu - Muhammediye

4. Osmanlı İmparatorluğu, Gerileme döneminde Avrupa'nın üstünlüğünü kabul ederek, başta askeri alanda olmak üzere, devletin bütün kurumlarında Avrupa tarzı ıslahatlar yapmaya çalışmıştır.

**Aşağıda verilen gerileme dönemi padişahlardan hangisi dönemde Avrupa örnek alınarak, askeri alanda ıslahat yapılmamıştır?**

- A) III. Ahmet      B) I. Mahmut  
C) III. Mustafa      D) I. Abdülhamit  
E) III. Selim

5. Aşağıdakilerden hangisi Osmanlı İmparatorluğu'ndaki eğitim ve öğretim kurumlarından değildir?

- A) Rüşdiye      B) İdadi  
C) Sultani      D) Ribat  
E) İbtidai

6. I. Nizam-ı Cedid  
II. İrad-ı Cedid  
III. Sekban-ı Cedid

**Yukarıda verilenlerden hangileri III. Selim dönemine ait yeniliklerdendir?**

- A) Yalnız I      B) I ve II      C) II ve III  
D) I ve III      E) I, II ve III

7. Aşağıdakilerden hangisi Osmanlı İmparatorluğu'nun XIX. yüzyılda uyguladığı siyasettir?

- A) Fetih siyasetini sürdürmek
- B) Kaybettiği toprakları geri almak
- C) Turancılık fikrini gerçekleştirmek
- D) Yükselme dönemindeki gücüne tekrar kavuşmak
- E) Devletlerarası çıkar mücadelelerinden yararlanmak

8. • Maarif Nezareti'nin kurulması  
• Kaime adı ile kağıt para basılması  
• Bank-ı Dersaadet adı ile ilk bankanın kurulması

Yukarıda verilen gelişmeler Osmanlı İmparatorluğu'nun hangi döneminde gerçekleşmiştir?

- A) Duraklama
- B) Gerileme
- C) Tanzimat
- D) Meşrutiyet
- E) İstibdat

9. Türk Tarihinde ilk kez siyasi parti ve dernek kurma hakkı hangi dönemde verilmiştir?

- A) Tanzimat
- B) I. Meşrutiyet
- C) II. Meşrutiyet
- D) I. TBMM
- E) Cumhuriyet

10. Aşağıdakilerden hangisi II. Meşrutiyet'in ilanı sonrasında ortaya çıkan gelişmelerden değildir?

- A) Bulgaristan'ın bağımsızlığını kazanması
- B) Reval görüşmelerinin yapılması
- C) Balkan Savaşları'nın başlaması
- D) II. Abdülhamit'in tahttan indirilmesi
- E) Avusturya'nın Bosna-Hersek'i ilhak etmesi

11. I. Donanmanın Haliç'te çürümeye bırakılmış olması

- II. Mısır'ın İngiltere tarafından işgal edilmiş olması
- III. Bölgedeki Arapların İngilizlerle işbirliği yaparak ayaklanmaları

Yukarıdakilerden hangileri İtalya'nın Trablusgarp'ı işgali üzerine Osmanlı İmparatorluğu'nun bölgeye müdahale edememesinin nedenlerindedir?

- A) Yalnız II
- B) Yalnız III
- C) I ve II
- D) II ve III
- E) I, II ve III

12. I. Amiral Bristol Raporu

- II. General Harbord Raporu
- III. Sandler Raporu

Yukarıda verilen uluslararası raporlardan hangileri Milli Mücadelenin haklılığını ortaya koyan belgelerden değildir?

- A) Yalnız I
- B) Yalnız II
- C) Yalnız III
- D) I ve II
- E) II ve III

13. Aşağıdakilerden hangisi Misak-ı Milli'de bahsedilen konulardan değildir?

- A) Kapitülasyonların kaldırılması
- B) Osmanlı dış borçlarının ödenmesi
- C) Boğazların uluslararası ticarete açılması
- D) Batı Trakya'da halkoylamasının yapılması
- E) Dünya barışını korumak için uluslararası bir örgütün kurulması



14. I. Balıkesir Kongresi

II. Nazilli Kongresi

III. Alaşehir Kongresi

IV. Sivas Kongresi

**Yukarıda verilen milli mücadelenin hazırlık döneminde toplanan kongrelerden hangilerinin toplanmasında doğrudan Mustafa Kemal'in etkisinden söz edilemez?**

- A) II ve III      B) I ve IV      C) I, II ve III  
D) I, II ve IV      E) II, III ve IV

15. Milli Mücadele sırasında yaşanan aşağıdaki gelişmelerden hangisinden sonra Batı Cephesi ikiye ayrılmıştır?

- A) Gediz Taarruzu  
B) Çerkez Ethem Ayaklanması  
C) I. İnönü Zaferi  
D) Kütahya - Eskişehir Yenilgisi  
E) Sakarya Meydan Savaşı

16. Aşağıdakilerden hangisi Mudanya ateşkes antlaşmasının hükümlerinden değildir?

- A) Türk ve Yunan kuvvetleri arasında çatışmalar sona erecek  
B) İstanbul'un yönetimi TBMM'ye bırakılacak  
C) Batı Trakya'daki Yunan kuvvetleri on beş gün içinde bölgeden çekilecek  
D) Boğazların yönetimi TBMM'ye devredilecek  
E) Türk ordusu barış imzalanıncaya kadar Çanakkale'de ve Kocaeli Yarımadası'nda belirtilen çizgide duracak

17. Aşağıdakilerden hangisi Şeyh Said İsyanı ile ortaya çıkan gelişmelerdendir?

- A) Çok partili hayata geçilmesi  
B) Halifeliğin kaldırılması  
C) Takrir-i Sükun Kanunu'nun çıkarılması  
D) İsmet Paşa hükümetinin istifası  
E) Misak-ı Milli'den ikinci tavizin verilmesi

18. 1926 yılında Mustafa Kemal "Benim naçiz vücudum elbet bir gün toprak olacaktır. Ancak Türkiye Cumhuriyeti sonsuza kadar yaşayacaktır." sözünü hangi olay üzerine söylemiştir?

- A) Cumhuriyetin İlanı  
B) Halifeliğin kaldırılması  
C) Şeyh Said İsyanı  
D) İzmir Suikastı  
E) Razgrad Olayı

19. I. Tarım Kredi Kooperatiflerinin kurulması

II. Aşar Vergisi'nin kaldırılması

III. Ziraat Bankası'nın kurulması

IV. Köy Enstitülerinin kurulması

**Yukarıdakilerden hangileri Atatürk döneminde tarımın geliştirilmesi amacıyla yapılan çalışmalardandır?**

- A) I ve II      B) II ve III      C) I ve III  
D) II, III ve IV      E) I, II ve IV

20. Aşağıdakilerden hangisi 1930-1938 yılları arasında Türkiye’de yapılan inkıaplardan değildir?

- A) Halkevlerinin kurulması
- B) Dil-Tarih-Coğrafya Fakültesi’nin kurulması
- C) Toprak Mahsulleri Ofisi’nin kurulması
- D) Türk Tarih Kurumu’nun kurulması
- E) Köy Enstitüleri’nin kurulması

21. Atatürk’ün Türk Milli Mücadelesini anlattığı **Nutuk (Söylev)** adlı eseri;

- I. 1919-1923
- II. 1924-1927
- III. 1928-1938

dönemlerinden hangilerini kapsar?

- A) Yalnız I
- B) Yalnız II
- C) I ve II
- D) II ve III
- E) I, II ve III

22. • Laiklik

- Halkçılık
- Milliyetçilik

Aşağıda verilen inkıaplardan hangisi yukarıda verilen Atatürk ilkeleri ile ilgilidir?

- A) Aşar Vergisinin kaldırılması
- B) Tevhid-i Tedrisat Kanunu’nun kabulü
- C) Kabotaj Kanunu’nun kabulü
- D) Uluslararası rakamların kabulü
- E) Şapka Kanunu’nun kabulü

23. I. Kabotaj Kanunu

II. Tevhid-i Tedrisat

III. Halifeliğin kaldırılması

Yukarıda verilen inkıaplardan hangileri Atatürk’ün milliyetçilik ilkesi ile ilgili olmakla beraber aynı zamanda laiklikle ilgilidir?

- A) Yalnız II
- B) Yalnız III
- C) I ve II
- D) II ve III
- E) I, II ve III

24. Aşağıdakilerden hangisi Atatürk döneminde Türkiye’nin öncülüğünde dünya barışını korumak için kurulan uluslararası örgütlerdendir?

- A) Locarno Paketi
- B) Briand-Kellog Paketi
- C) Milletler Cemiyeti
- D) Sadabad Paketi
- E) Küçük Antant

25. Aşağıda verilen cumhuriyet dönemi gelişmelerinden hangisi Fransa ile Türkiye arasında olmamıştır?

- A) Yabancı Okullar Sorunu
- B) Bozkurt-Lotus Olayı
- C) Vagon Li Olayı
- D) Hatay Sorunu
- E) Razgrad Olayı

26. Aşağıdakilerden hangisi İsmet İnönü dönemi (1938-1950) gelişmelerindendir?

- A) Hatay Cumhuriyeti'nin kurulması
- B) Musul'un elden çıkması
- C) Halkevlerinin kurulması
- D) Varlık Vergisi'nin çıkarılması
- E) Boğazların yönetiminin Türkiye'ye bırakılması

27. Aşağıdakilerden hangisi ABD tarafından Sovyet tehdidine karşı alınan önlemlerden değildir?

- A) Kuzey Atlantik Pakti'nin kurulması
- B) Truman Doktrini'nin yayınlanması
- C) Marshall Planı'nın oluşturulması
- D) Eisenhower Doktrini'nin yayınlanması
- E) Comecon'un kurulması

28. 21 Haziran tarihinde Ankara'dan yola çıkan beş gözlemciden aşağıdaki şehirlerden hangisine giden, Ankara'ya göre gündüz sürelerinin daha kısa, yerel saatin ise daha ileri olduğunu gözlemler?

- A) Artvin      B) Muğla      C) Kırklareli
- D) Mardin      E) İzmir

29.



- K. Akıcı lavların birikmesi sonucu oluşan geniş alana yayılmış, kubbe görünümüne sahip volkan'dır.
- L. Dalgaların ada ile ana kara arasını doldurmasıyla adanın karaya bağlanması sonucu oluşan tombolodur.
- M. Ülkemizin en yüksek dağıdır. Volkanizmaya bağlı oluşmuştur.

Açıklamaları verilen bilgiler haritada numaralandırılmış hangi alanlara aittir?

	K	L	M
A)	II	I	III
B)	I	II	III
C)	III	II	I
D)	I	III	II
E)	III	I	II

30. Aşağıdaki sınır kapılarından hangisinde komşu ülke ile demir yolu bağlantısı vardır?

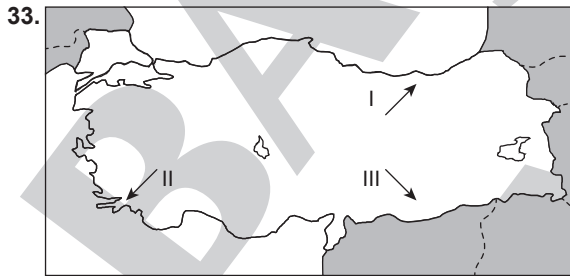
- A) Sarp      B) Kapıkule      C) Habur
- D) Üzümlü      E) İpsala

31. Aşağıdakilerden hangisinde yer şekillerinin etkisinden bahsedilemez?

- A) Doğu Anadolu Bölgesi'nde yol yapım giderlerinin fazla olması
- B) İç Anadolu Bölgesi'nde tarım alanlarının geniş olması
- C) Karadeniz Bölgesi'nde dağınık yerleşmelerin yaygın olması
- D) Akdeniz Bölgesi'nde kıyı ile iç kesimler arasındaki ulaşımın daha çok geçitlerden sağlanması
- E) Ege Bölgesi'nde kaplıca turizminin gelişmiş olması

32. Aşağıda verilen ova ve oluşumu eşleştirmelerinden hangisi yanlıştır?

Ova	Oluşumu
A) Tefenni	Karstik
B) Silifke	Delta
C) Nazilli	Tektonik
D) Korkuteli	Karstik
E) Adapazarı	Delta



Haritada numaralarla gösterilen rüzgarlar aşağıdakilerden hangisinde doğru verilmiştir?

I	II	III
A) Poyraz	Lodos	Samyeli
B) Samyeli	Karayel	Yıldız
C) Lodos	Poyraz	Karayel
D) Poyraz	Karayel	Kible
E) Kible	Poyraz	Lodos

34. • Dünya'nın en verimli toprakları arasında yer alır. Ülkemizde Erzurum-Kars Yöresi'nde yaygındır. Kara toprak olarak da bilinir.
- Kuzey Anadolu Dağları boyunca yaygın olarak görülür. Tarım için idealdir.
  - Akarsuların taşıyıp biriktirdiği bu topraklara delta ovalarında, eski göl tabanlarında ve akarsu boylarında rastlanır.
  - Nemli ve iğne yapraklı orman altında oluşan, ülkemizde Zonguldak çevresinde görülen toprak grubudur.

Yukarıda verilen özellikler aşağıdaki toprak türleriyle eşleştirilirse hangisi açıkta kalır?

- A) Podzol
- B) Çernozyom
- C) Kahverengi orman
- D) Alüvyon
- E) Laterit

35. Aşağıdakilerden hangisi Yeşilirmak Havzası Gelişim (YHGP) kapsamında yer alan illerden biri değildir?

- A) Sinop
- B) Samsun
- C) Tokat
- D) Çorum
- E) Amasya

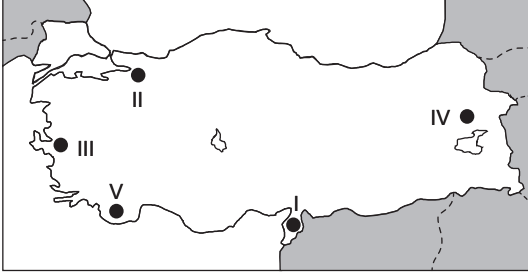
36. Aşağıdaki tabloda Türkiye'de 2015 ve 2016 yıllarındaki nüfusun yaş gruplarına göre dağılımı verilmiştir.

Yıllar	0-14 yaş (%)	15-64 yaş (%)	65 + yaş (%)
2015	24	67,8	8,2
2016	23,7	68	8,3

Buna göre, verilen değerlerden yararlanarak aşağıdaki yargılardan hangisine ulaşamaz?

- A) Doğum oranları azalmaktadır.
- B) Ortalama insan ömrü uzamaktadır.
- C) 2015 yılına göre 2016 yılı verileri ülkemizin gelişmekte olan bir ülke görünümünde olduğunu gösterir.
- D) Çalışan nüfus oranı artmaktadır.
- E) Çocuk nüfus oranı ile yaşlı nüfus oranı arasındaki fark azalmaktadır.

37. Daha çok karstik alanlarda görülen göçme depremleri yer altında oluşan boşlukların tavanının zamanla çökmesiyle oluşur.



Buna göre, haritada belirtilen alanlardan hangisinde göçme depremlerin görülme ihtimali **daha yüksektir**?

- A) I B) II C) III D) IV E) V
38. Ülkemizde yapılan nüfus sayımlarıyla ilgili verilen aşağıdaki bilgilerden hangisi **yanlıştır**?
- A) Cumhuriyet döneminde ilk nüfus sayımı 1927 yılında yapılmıştır.
- B) 1935 ile 1990 yılları arasında her beş yılda bir sayım yapılmıştır.
- C) Sokağa çıkma yasağının uygulandığı son sayım 1990 yılında yapılmıştır.
- D) 1997 yılında yapılan sayım seçmen yaşının değiştirilmesinden kaynaklıdır.
- E) 2007 yılından itibaren Adrese Dayalı Nüfus Tespit Sistemi'ne geçilmiştir.
39. 2016 yılında aşağıdakilerden hangisi Türkiye'nin dış ticaretinde hem ihracatta hem de ithalatta **daha fazla** öneme sahip olmuştur?

- A) Çimento  
B) Tekstil  
C) Motorlu kara taşıtları  
D) Mobilya  
E) Suni gübre

40. Aşağıdaki enerji santrallerinden hangisinin kullandığı enerji kaynağı yenilenebilir (tükenmeyen) özelliğe sahiptir?

- A) Afşin (Kahramanmaraş)  
B) Soma (Manisa)  
C) Ovaakça (Bursa)  
D) Germencik (Aydın)  
E) Çatalağzı (Zonguldak)

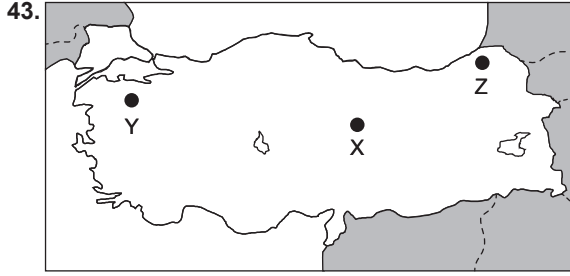
41. Ülkemizdeki sanayi kuruluşlarının dağılışına baktığımızda daha çok hammaddenin üretildiği alana yakın olduğu görülür. Bu durumun nedeni hem maliyeti düşürmek, hem de bozulabilir nitelikteki ürünlerin bozulmasını engellemektir.

Buna göre, aşağıda verilen sanayi kuruluşlarından hangisi bu genellemenin dışında kalır?

- A) Aksu - Kağıt Fabrikası  
B) Ankara - Mobilya Sanayi  
C) Kırklareli - Cam Fabrikası  
D) Bursa - Konserve Sanayi  
E) Batman - Petrol Rafinerisi

42. Ülkemizdeki UNESCO Dünya Mirası Listesi'nde yer alan ve hem doğal hem de kültürel özelliğe sahip olan bir yeri görmek isteyen bir turist kafilesini aşağıdaki illerden hangisine gitmelidir?

- A) Nevşehir B) İstanbul C) Karabük  
D) Konya E) İzmir



Haritada belirtilen alanlarda en fazla rezerve sahip olan madenler aşağıdakilerden hangisinde verilmiştir?

	X	Y	Z
A)	Demir	Bakır	Bor
B)	Bor	Bakır	Mermer
C)	Bakır	Mermer	Bor
D)	Bor	Demir	Bakır
E)	Demir	Bor	Bakır

44. Türkiye'nin ilk kadın pilotu aşağıdakilerden hangisidir?

- A) Sabiha Gökçen
- B) Azize Zorlu
- C) Bedriye Tahir Gökmen
- D) Nefise Akçelik
- E) Afife Üçkan

45. Türkiye'de 1985-2012 yılları arasında nüfus artış hızı sürekli olarak azalmıştır.

Buna göre, aşağıdakilerden hangisi ülkemizde nüfus artış hızının azalmasının sonuçlarından biri değildir?

- A) Bağımlı nüfus oranının azalması
- B) Demografik yatırımların azalması
- C) Genç nüfus oranının azalması
- D) Kadın nüfus oranının artması
- E) Yaşlı nüfus oranının artması

46. Sosyal düzen kurallarından olan ahlak kurallarının özellikleri arasında aşağıdakilerden hangisi yer almaz?

- A) Konusu insan davranışlarıdır.
- B) Yaptırımı kişinin kendi vicdanıdır.
- C) Koruyucusu insanın kendi vicdanıdır.
- D) Amacı iyi davranışın kötü davranıştan ayrılmasıdır.
- E) Ahlak kuralları hiçbir zaman hukuk kuralına dönüşmez.

47. I. Vergi Hukuku

II. Ticaret Hukuku

III. Anayasa Hukuku

IV. Borçlar Hukuku

Yukarıdakilerden hangisi ya da hangileri özel hukuk alanında düzenlenmiştir?

- A) Yalnız I
- B) Yalnız II
- C) I, II ve IV
- D) II ve IV
- E) II, III ve IV

48. 35 yaşında evli ve üç çocuk annesi olan Zeynep Hanım çocuklarının eğitim hayatlarına nasıl yön vermesi gerektiğine ilişkin bir araştırma yapmaktadır.

**Yukarıda verilenlere göre Zeynep Hanım fiil ehliyetinden kaynaklanan ne tür bir ehliyete sahiptir?**

- A) Sınırlı Ehliyetli
- B) Tam Ehliyetsiz
- C) Sınırlı Ehliyetsiz
- D) Tam Ehliyetli
- E) Taraf Ehliyetli

49. Yasama ve yürütme yetkilerinin yasamada toplandığı hükümet sistemi aşağıdakilerden hangisidir?

- A) Monarşi
- B) Yarı başkanlık sistemi
- C) Meclis hükümeti sistemi
- D) Parlamenter sistem
- E) Başkanlık sistemi

50. Seçilmeden önce veya seçildikten sonra bir suç işlediği öne sürülen milletvekilinin meclis kararı olmadıkça tutulamayacağı, sorgulanamayacağı, tutuklanamayacağı ve yargılanamayacağı 1982 Anayasası'nda belirtilmiştir?

**Aşağıdakilerden hangisi sözü edilen durumun bir istisnasıdır?**

- A) Milletvekilinin taksirli bir suç işlemesi
- B) Milletvekilinin kasti bir suçtan 6 ay hapis cezasına hüküm giymesi
- C) Milletvekilinin ağır cezayı gerektiren bir suç işlerken suçüstü yakalanmış olması
- D) Milletvekilinin meclis çalışmaları sırasında hakaret ve sövme fiillerini işlemesi
- E) Milletvekilinin ağır ceza mahkemelerinin görev alanına giren suçlardan birini işlediği iddiası

51. I. Hakimler ve savcılar

- II. Türk Silahlı Kuvvetleri mensupları
- III. Yükseköğretim elemanları
- IV. Kamuda işçi statüsünde çalışanlar
- V. Yükseköğrenim öncesi öğrenciler

**Yukarıda verilenlerden hangisi ya da hangileri siyasi partilere üye olamazlar?**

- A) Yalnız I
- B) Yalnız III
- C) I ve II
- D) I, II ve V
- E) I, III ve IV

52. Herhangi bir sebeple boş kalan bakanlığa aşağıdakilerden hangisi vekalet eder?

- A) Bakan yardımcılarında biri
- B) Bakanlık müsteşarı
- C) Başbakanlık müsteşarı
- D) Başka bir bakan
- E) Milletvekillerinden biri

53. Yargıtay Cumhuriyet Başsavcısı ve vekilini aşağıdakilerden hangisi seçer?

- A) Cumhurbaşkanı
- B) Adalet Bakanı
- C) Yargıtay Genel Kurulu
- D) TBMM Genel Kurulu
- E) Hakimler ve Savcılar Yüksek Kurulu

54. Aşağıda verilenlerden hangisi bir idari işlem sayılmaz?

- A) Bakanlar Kurulu Kararı
- B) Tüzük
- C) Yönetmelik
- D) Cumhurbaşkanlığı Kararnamesi
- E) TBMM İçtüzüğü

55. Dünyada yerleşimin olduğu en soğuk yer aşağıdakilerden hangisidir?

- A) Oymyakon
- B) Verkhayansk
- C) Yakutsk
- D) Ulan Bator
- E) Krakow

56. İslam İşbirliği Teşkilatı tarafından 2017 Turizm Başkenti olarak aşağıdakilerden hangisi seçilmiştir?

- A) İstanbul
- B) Medine
- C) Basra
- D) Kahire
- E) Kazablanka

57. 2016 Rio Olimpiyatlarında madalya kazanan tek kadın sporcumuz aşağıdakilerden hangisidir?

- A) Nur Tatar
- B) Ayşe Begüm Onbaşı
- C) Hülya Şenyurt
- D) Nurcan Taylan
- E) Aslı Çakır Alptekin

58. Türkiye'nin Nato'daki ilk daimi temsilcisi aşağıdakilerden hangisidir?

- A) Kamran İnan
- B) Fatin Rüştu Zorlu
- C) İsmail Cem
- D) Abdullah Gül
- E) Kemal Derviş

59. 2017'de 40.sı düzenlenecek olan Avrupa Basketbol Şampiyonası'na evsahipliği yapacak ülkeler arasında aşağıdakilerden hangisi yer almaz?

- A) Türkiye
- B) Finlandiya
- C) İsrail
- D) Romanya
- E) Bulgaristan

60. 2017 Ocak ayı itibariyle Avrupa Parlamentosu'nun yeni başkanı aşağıdakilerden hangisidir?

- A) Gianni Pittella
- B) Antonio Tajani
- C) Guy Verhofstadt
- D) Martin Schulz
- E) Manfred Weber

TEST BİTTİ.  
CEVAPLARINIZI KONTROL EDİNİZ.