

**KAMU PERSONEL SEÇME SINAVI**  
**ÖN LİSANS**  
**GENEL YETENEK TESTİ – GENEL KÜLTÜR TESTİ**  
**28 KASIM 2010**

A

**DİKKAT!**

**SINAVA BAŞLAMADAN ÖNCE AŞAĞIDAKİ UYARILARI MUTLAKA OKUYUNUZ.**

1. Adınızı, soyadınızı, T.C. Kimlik Numaranızı ve sınav salon numaranızı aşağıya yazınız.

ADINIZ	:	.....
SOYADINIZ	:	.....
T.C. KİMLİK NUMARANIZ	:	.....
SINAV SALON NO.	:	.....

2. Soru kitapçığının türü **A**'dır. Bunu cevap kâğıdınızdaki ilgili alana kodlayınız. Salon görevlileri tarafından paraflanmasını sağlayınız.  
**Bu kodlamayı cevap kâğıdınıza yapmadığınız veya yanlış yaptığınız takdirde, sınavınızın değerlendirilmesi mümkün değildir.**
3. Genel Yetenek Testi ve Genel Kültür Testi için verilen **toplam** cevaplama süresi **120 dakikadır (2 saat)**.
4. Genel Yetenek ve Genel Kültür Testlerinin her birinde **60 soru** vardır.  
Bu testlerin başladığı sayfalar şöyledir:  
**Genel Yetenek Testi 1**  
**Genel Kültür Testi 15**
5. Cevaplamaya istediğiniz testten ve sorudan başlayabilirsiniz. Her soru ile ilgili cevabınızı, cevap kâğıdında o soru için ayrılmış olan yere işaretlemeyi unutmayınız.
6. Testler puanlanırken her testteki doğru cevaplarınızın sayısından yanlış cevaplarınızın sayısının dörtte biri düşülecek ve kalan sayı o testle ilgili ham puanınız olacaktır. Bu nedenle, hakkında hiçbir fikrinizin olmadığı soruları boş bırakınız. Ancak, soruda verilen seçeneklerden birkaçını eleyebiliyorsanız kalanlar arasından doğru cevabı kestirmeye çalışmanız yararınıza olabilir.
7. Sınavda uyulacak diğer kurallar bu kitapçığın arka kapağında verilmiştir.

*Bu testlerin her hakkı saklıdır. Hangi amaçla olursa olsun, testlerin tamamının veya bir kısmının Merkezimizin yazılı izni olmadan kopya edilmesi, fotoğrafının çekilmesi, herhangi bir yolla çoğaltılması, yayımlanması ya da kullanılması yasaktır. Bu yasağa uymayanlar gerekli cezai sorumluluğu ve testlerin hazırlanmasındaki mali külfeti peşinen kabullenmiş sayılır.*

# GENEL YETENEK TESTİ

2010 - KPSS / ÖN LİSANS

1. Yazıyla uğraşanlar gayet iyi bilir. İnsan, yazdığı iki satır yazıyı bile hemen sahiplenir. Üç sayfa yazsa bir kenarda saklar, yazdıklarının üstüne titrer. Yazmak kolay değildir, yazdığını yok etmekse belki de en zordur. Kim bilir nasıl bir ruh hâlidir, bir yazarın yapıtlarını, hem de tek örneği bulunduğu hâlde bir çirpıda yok edebilmesi! Haftalarca, aylarca, yıllarca uğraş, didin; sonra bir kibrit çak hepsinin üstüne. Sonrası mı? Bir kibrit alevinin sarı mavi dansında seyretmek hayal gücünün intiharını...

**Bu parçada geçen "hayal gücünün intiharı" sözüyle anlatılmak istenen aşağıdakilerden hangisidir?**

- A) Ürettiklerinin varlığına son verme  
B) Yazdıklarını beğenmeme  
C) Yeniliklere kapalı olma  
D) Verimli çalışmama  
E) Öznellikten kaçınma
2. Bana neden gezgin olduğumu soruyorlar hep. Bence yolculukta iki yönlü bir hareket var. Bir taraftan dünyaya açılıyorsunuz, bir taraftan da değişik şeyler gördüğünüz için, kendinizin daha fazla farkına varıp kendi içinize çekiliyor, orada ikinci bir yolculuğa çıkıyorsunuz. Benim için yolculuğun çekici yanı bu. Dış yolculukları bahane ederek kendi içimde yolculuklara çıkmak için gezdiğimi söyleyebilirim.

**Bu parçada konuşan kişinin "kendi içinde yolculuklara çıkmak" sözüyle anlatmak istediği aşağıdakilerden hangisidir?**

- A) Yaşadıklarını unutmak, mutlu olmak  
B) Bulunduğu ortamdan uzaklaşmak, yenilikler aramak  
C) Kendi yaşamını değiştirmek, koşulları göz önünde bulundurmak  
D) Kendini anlamak, yeni yönlerini tanımak  
E) Sahip olduğu şeylerin değerini bilmek, hırslarından uzaklaşmak

3. Sözlüğün tarihi, elbette (hiç kuşkusuz) yazının icadıyla başlar. İnsanoğlu, acaba yazıdan önce sözlük olarak kabul edilebilecek (varsayılabilir) bir şey koymuş mudur ortaya? Örneğin kaya resimleri insanoğlunun yalnızca maharetini (ustalığını) göstermek istediği yapıtlar mıdır? Dünyanın pek çok yerinde (bölgesinde), geniş bir zaman diliminde yapılmış bu resimlerle ilgili olarak atalarımızın neler anlatmaya çalıştığı üzerine çok şey yazılıp söylenmiştir. 1868'de bulunan ilk mağara olan Altamira'daki resimler, başlangıçta çok yönlü (seçici) düşünemeyenlerin ürünü olarak görülmemiş midir?

**Bu parçadaki altı çizili sözlerden hangisinin yerine ayaç içinde verilen söz kullanıldığında, anlamca bir değişiklik olur?**

- A) I. B) II. C) III. D) IV. E) V.

4. (I) Yayınlanmaya başlandığı tarihten bu yana rehberlik kitaplarımız, gezip görme kavramını köklü bir değişime uğrattı (yenilik). (II) Bu kitaplarda, alışılmış gezi önerilerine yer vermiyoruz (benzerlik). (III) Ayrıca kitaplarımızda ayrıntılı kent planlarından gündelik yaşama ilişkin pratik seçeneklere kadar birçok bilgi değişik bir anlayışla bir araya getirilmektedir (farklılık). (IV) Yazılı malzemenin zengin ve çeşitlenmiş bir görsel bilgiyle harmanlandığı bu rehberler, sağladığı benzersiz kolaylıklarla zamanı etkin ve ekonomik kullanmaya olanak veriyor (verimlilik). (V) Belli aralıklarla içeriğini yenilediğimiz gezi rehberleri, eklenen bilgilerle zenginleşiyor (güncellik).

**Bu parçadaki numaralanmış cümlelerden hangisi, ayaç içinde verilen sözün anlamını İÇERMEZ?**

- A) I. B) II. C) III. D) IV. E) V.

*Diğer sayfaya geçiniz.*

5. (I) Edebiyat, geceden gündüze ve gündüzden geceye geçişteki anın, tam o büyümlü dönüşümün eseridir. (II) Karanlıkla aydınlığın buluşma anının saptanmasıdır. (III) Bir duygu ve bekleme havuzudur. (IV) Söz de kalem de bekleme sırasında hep bir şeyler arar. (V) Bu arayış, edebiyatın tükenmez kaynağıdır.

**Bu parçadaki numaralanmış cümlelerin hangileri anlamca birbirine yakındır?**

- A) I. ve II.      B) I. ve III.      C) II. ve V.  
D) III. ve IV.      E) IV. ve V.

6. (I) Kafka, yüzyılımızın ölümsüz isimlerinden. (II) Zorluklar içinde yaşamasına karşın yazmaktan hiç vazgeçmedi. (III) Bir ayağı hep çemberin dışındaydı. (IV) Sistemle barışamadı bir türlü, ona ayak uyduramadı. (V) Yaşanan olumsuzlukları, korkularını ve kurnularını başarıyla dile getirdi. (VI) Çarkların işleyişini en iyi analiz eden yazardı belki de.

**Bu parçadaki numaralanmış cümlelerin hangisi kendinden önceki cümlelerin açıklamasıdır?**

- A) II.      B) III.      C) IV.      D) V.      E) VI.

7. (I) Öykünüzü okudum. (II) Öykülerde zaman atlama-ları genelde rahatsızlık yaratır. (III) Sizinkilerde yadırgatıcı durmuyor, tersine öyküye yeni boyutlar kazan-dırıyor. (IV) Öykü kişilerden Cevahir'in yaşamına ilişkin belli dönemlerin, olduğu gibi yansıtılması öykü-yü sıradanlaştırıyor. (V) Şunu da eklemek isterim: Cevahir'in yaşamı, öykünün dokusuna sindirilebilirdi. (VI) Öyküyü bu ve benzeri yönlerden elden geçirme-nizi salık veririm.

**Bu parçadaki numaralanmış cümlelerin hangisinin de beğenme dile getirilmiştir?**

- A) II.      B) III.      C) IV.      D) V.      E) VI.

8. (I) Antik çağlarda yapılan bazı köprüler, su kemeri iş-levi de görüyordu. (II) Şanlıurfa şehir merkezini baş-tan başa geçen Karakoyunlu Deresi üzerindeki altı köprüden biri olan Hızmalı da böyle bir köprü. (III) Hızmalı Köprü'nün korkulukları altındaki görkemli künkler ve geçmiş yıllarda yıkılan ilginç su terazisi, yapının iki amaç için de kullanılmış olabileceğini akla getiriyor. (IV) Kesme taştan yapılan köprü'nün bir cep-hesinde üst üste iki sıra hâlinde ikişer sivri kemer yer alırken öteki cephesinde iki kemer üzerinde bir tek büyük kemer görülüyor. (V) Bu farklılık, köprüyü aynı dönemde yapılan benzerlerinden ayıran bir özellik.

**Bu parçadaki numaralanmış cümlelerin hangisinde kişisel düşünceye yer verilmiştir?**

- A) I.      B) II.      C) III.      D) IV.      E) V.

9. Bilinir ki yenilikçi edebiyatın başarılı örneklerini yarat-

mak zordur. Kendine özgü bir dil ve söz varlığının ya-

ratıcısı olmadan hiçbir yenilik yapılamaz. Bildiklerinin

dışında neler yapıldığını öğrenmeden, araştırıp oku-

madan, yaşananlardan ders almadan yeniyle karşı-

laşmak olanaksızdır. İçinde bulunulan alanın tutsağı

olmak ve ne yazılıyorsa onun izinden gitmek kaçınıl-

mazdır.

**Bu parçadaki numaralanmış sözlerden hangisi üslupla ilgilidir?**

- A) I.      B) II.      C) III.      D) IV.      E) V.

*Diğer sayfaya geçiniz.*

10. (I) Yıllardır okumak istediğim ama bir türlü okuyamadığım kitap elime geçince çok sevindim ve kitabı büyük bir merakla okumaya başladım. (II) "Beyaz Zambaklar Ülkesinde" adlı bu kitabın, karla kaplı Finlandiya'da geçen bir aşk öyküsünü anlattığını sanıyordum oysa öyle değilmiş. (III) Bu kitap, bir ülkenin doğuşunun, kuruluşunun, toplumsal yapısının sağlam bir temel üzerine oturmasının şaşırtıcı yönlerini anlatıyor. (IV) Çağdaş bir toplumun A'dan Z'ye nasıl kurulduğunu örnekleriyle ele alıyor. (V) Örnek bir toplumun nasıl olması gerektiğini ve Finlandiya'da bunun nasıl başarıldığını anlatan kitabını, yıllarca Finlandiya'da yaptığı geziler ve gözlemler sonucunda edindikleriyle oluşturmuş yazar.

**Bu parçadaki numaralanmış cümlelerle ilgili olarak aşağıda verilenlerden hangisi yanlıştır?**

- A) I. cümlede, kitabı okuma amacı açıklanmaktadır.  
B) II. cümlede, bir yanlışlıktan söz edilmektedir.  
C) III. cümlede, içerik belirtilmektedir.  
D) IV. cümlede, konunun eksiksiz olarak anlatıldığı belirtilmektedir.  
E) V. cümlede, yöntem üzerinde durulmaktadır.

11. (I) İnsan ana diliyle düşünür, düşündüklerini en iyi biçimde ana diliyle anlatır. (II) Okuduğunuz kitaba kanınızın kaynamamasının, kitabın sizi sarıp sarmalamasının birçok nedeni vardır. (III) Ama en önemlisi, o kitapta kullanılan dildir. (IV) Dil sizi sarıp sarmalamalı ki konusu ne olursa olsun kitap sizi alıp götürsün. (V) Bu gerçeği bilen biri olarak yazdıklarımda öz Türkçe sözcükler kullanma, açık seçik olma, daha kolay anlatma yolunu seçtim.

**Bu parçadaki numaralanmış cümlelerle ilgili olarak aşağıda verilenlerden hangisi yanlıştır?**

- A) I. cümlede, bir görüş dile getirilmiştir.  
B) II. cümlede, etkileyici yapının özellikleri belirtilmiştir.  
C) III. cümlede, II. cümlede belirtilenlerin nedeni açıklanmıştır.  
D) IV. cümlede, bir gereklilikten söz edilmiştir.  
E) V. cümlede, nasıl bir yol izlendiği açıklanmıştır.

12. (I) Perde kapandığında ilk önce seyirciler çıkar tiyatrodan, sonra oyuncular. (II) Işıklar söner, kapılar kilitlenir. (III) Tiyatro, bir akşamı daha sonlandırmış olur o anda ya da biz öyle olduğuna düşünürüz. (IV) Halbuki herkes gidip el ayak çekilince sahnenin ışıkları tekrar yanar. (V) Ardından, sadece görmeyi bilen gözlerin göreceği oyunlar başlar.

**Yukarıdakilerin hangisinde cümleyle zaman anlamı katan bir söz kullanılmamıştır?**

- A) I. B) II. C) III. D) IV. E) V.

13. **Aşağıdaki cümlelerin hangisinde eylemden etkilenen varlık isim ya da sıfat tamlaması değildir?**

- A) Bereketli ovaları yok ettik.  
B) Yemyeşil ormanları tükettik.  
C) Masmavi gökyüzünü dumana boğduk.  
D) Hızla doğanın dengesini bozduk.  
E) Denizleri çöplük gibi kullandık.

*Diğer sayfaya geçiniz.*

14. (I) Her yöresi ayrı bir güzellik taşıyordu ilçenin. (II) Özellikle bağlar bölgesi harikaydı tek kelime ile. (III) Bundan böyle biz çocuklar her yaz buraya gelmeye karar verdik. (IV) Bu düşüncemizi büyüklerimize ilettik. (V) Onlar da bizi destekledi.

**Bu parçadaki numaralanmış cümlelerden hangisi fiil (eylem) cümlesi değildir?**

- A) I. B) II. C) III. D) IV. E) V.

15. Aşağıdaki cümlelerin hangisinde altı çizili sözün anlamı, araç içindeki açıklamayla uyumlu değildir?

- A) Gönül kimi severse güzel odur, sözü boşuna söylenmemiştir (yanıt beklenen bir soru sözü).  
 B) Kimsenin alacağı vereceği ile uğraşacak zaman yok (kim olduğu bilinmeyen kişiler için kullanılan bir söz).  
 C) Kim kurallara uymazsa karşısında beni bulur (hangi kişi anlamında kullanılan bir söz).  
 D) Kim bilir, bu fotoğraflar ne kadar çok beğenilmiştir (olabilirlik bildiren bir söz).  
 E) Kimse yağurdum ekşi demez (olumsuz cümlelerde kişiyi belirten bir söz).

16. 1960'lı yılların başı... Ankara-Eskişehir Yolunun he-

men yanındaki çıplak ve boz arazide, hummalı bir

inşaat çalışması sürdürülmekteydi. Buradaki binalar,

yeni bir üniversitenin çekirdeğini oluşturacaktı.

**Bu parçadaki altı çizili sözlerin hangisinde bir yazım yanlışı vardır?**

- A) I. B) II. C) III. D) IV. E) V.

17. “Yaşam savaşı verirken kendimizin ? ailemizin ya da

sevdiğimiz şeylerin ne kadar farkındayız ?” diye

düşündünüz mü hiç ? Aslında biz, yaşadıklarımızın

ayırımına varmadan yaşıyoruz ? Yalnızca yapma-

mız gereken işlerin peşinde koşuyoruz. İçinde bulun-

ğumuz toplum nasıl davranmamızı istiyorsa ? biz de

öyle davranıyoruz.

**Bu parçadaki numaralanmış noktalama işaretlerinden hangisi yanlış kullanılmıştır?**

- A) I. B) II. C) III. D) IV. E) V.

18. Aşağıdaki cümlelerin hangisinde bir anlatım bozukluğu vardır?

- A) Tek tutkusu müzikti ve onun dışında hiçbir sanat dalıyla ilgilenmedi.  
 B) O, müzik dünyasının gelmiş geçmiş en büyük isimlerinden biriydi.  
 C) Şarkılarını ilk söylediği zamandan ölümüne kadar, hatta öldükten sonra da pek çok tartışmaya konu oldu.  
 D) Ölümünden yıllar sonra bile daha bir nebze olsun azalmayan şöhreti, ona yaşarken milyonlar kazandırmıştı.  
 E) Geçen yıl, ünlü sanatçıya ait olduğu sanılan bir tutam saç, açık artırmada on beş bin dolara satıldı.

*Diğer sayfaya geçiniz.*

19. (I) Okuma yazma becerisini kazanmak ayrı şey, okur kimliği kazanmak ayrı şeydir. (II) Kişiliğin oluşmasında önemli bir etkidir okuma. (III) Nitekim ilkokula başlayışımızın birinci yılında okuma yazma becerisini şöyle ya da böyle ediniriz. (IV) Okur kimliğini kazanmaya gelince iş değişir. (V) Çünkü gerçek anlamda okurluk, okuma becerisini sürekli olarak kullanmayı gerektirir. (VI) Bu da ancak sağlıklı bir ana dili öğrenimiyle gerçekleşir.

**Bu parçadaki numaralanmış cümlelerden hangisi düşüncenin akışını bozmaktadır?**

- A) II. B) III. C) IV. D) V. E) VI.

20. İstasyona bakan bir tepenin yamacındaydı evimiz. Ankara yönünden gelen trenleri ilk önce biz görürdük. Önce dumanı görünen trenler, sonra hafifçe sağa yatarak döner, kasabaya doğru süzülürdü bir uğultuyla. Bu sesin uğultu değil, katarın yaydığı bir müzik olduğu söylenebilir. Çelik tekerleğin çelik raylarda çıkardığı mırıltıyla beslenen, etkileyici bir kayma sesi... Tren, o dönüşten sonra istasyona varıncaya kadar bu büyümlü kayma sesiyle yavaş yavaş ilerlerdi.

**Bu parçanın anlatımıyla ilgili olarak aşağıdakilerden hangisi söylenemez?**

- A) Görülenler oluş sırasıyla verilmiştir.  
B) Eylemler betimlenerek anlatılmıştır.  
C) Koşul belirtilmiştir.  
D) Görme ve işitme duyusuna seslenen ayrıntılara yer verilmiştir.  
E) İkileme kullanılmıştır.

21. ----. Hele o bilginin başkasına ulaşmasının, saklayana hiçbir zararı yoksa... Ünlü Kütahyalı çini ustalarının öykülerini dinlemiştim. Büyük ustalardan kimileri vardı ki buldukları karışım formüllerini çiraklarına hiçbir zaman duyurmamış, çini hamurunu kendileri karmış ve gizlerini kendileriyle birlikte götürmüşlerdi. Düşünmeden edemedim, acaba uygarlık, bu gibi insanlar yüzünden mi gecikerek gelmişti? Tabii bu kişiler, kendilerinden yaklaşık altı-yedi bin yıl önce yaşamış Sümerlerin çivi yazısıyla yazılmış bir atasözünden habersizdiler: "Madem biliyorsun, öyleyse neden öğretmiyorsun?"

**Bu parçanın başına düşüncenin akışına göre aşağıdakilerden hangisi getirilebilir?**

- A) Bulunan kolaylıklardan ve yaratılan güzelliklerden yararlanmak gerekir  
B) Her meslekte, bildiklerini gizleyenler olduğunu biliyordum  
C) Bir ustayı usta kılan, bildiklerini uygulama gücüdür  
D) Her usta, bulduğu yeniliği başkalarıyla paylaşmak istemez  
E) Bilgisini kendisine saklayanlardan hiç hoşlanmam

22. Daha önce hiç görmediğiniz bir kenti yakından tanımak istediğinizi düşünelim. Bu kentin üzerinde helikopterle yapacağınız bir gezinti, kenti kuş bakışı görmenizi sağlayacaktır. Ancak kenti tanımak, güzelliklerini fark etmek için bu yeterli olmayacaktır. Yere inmeniz, sokaklarında, caddelerinde dolaşmanız gerekecektir. Metin çözümleme de buna benzer. Bir metni okumanız, onu kuş bakışı görmenizi sağlar. Eğer metni iyice anlamak ve içselleştirmek istiyorsanız mutlaka satır aralarına girmelisiniz. Çünkü metnin gerçeği satır aralarında gizlidir.

**Bu parçada yapılan benzetmede aşağıdakilerden hangileri arasında paralellik kurulduğu söylenebilir?**

- A) kentin güzellikleri – metinde geçen yerler  
B) kentin sokaklarında dolaşmak – metnin satır aralarına girmek  
C) kentin üzerinde helikopterle dolaşmak – metni iyice anlamak  
D) yere inmek – metni okumak  
E) ilk kez görülen bir kent – metnin konusu

*Diğer sayfaya geçiniz.*

23. Ne yazık ki toplumlar Hollywood filmlerinde izledikleriyle ve kulaktan dolma bilgilerle, kendilerince bir "uzayda yaşam" düşü kurmuştur. Neyin gerçek neyin bilim kurgu olduğu konusunda çoğu insan kararsızdır. Dünya dışı yaşamlar gibi ciddi konularla ilgili tartışmalarda "Uzayda kesinlikle yaşam yoktur." diyenler yanında, sanki arka bahçelerinde uzaylılar varmış gibi "Kesin vardır." diyenler de oluyor. Bir insanın, herhangi bir teoriye "İnanıyorum." ya da "İnanmıyorum." diyebilmesi için ya o konunun uzmanı olması ya da konuyla ilgili deneyiminin bulunması gerekir. Medya karşısına çıkıp toplumu bilgilendirme sorumluluğunu alarak konuşan kişi, en azından uzaydan, kendi gezegeni hakkındaki bilgilerden habersiz olmamalıdır.

**Bu parçada aşağıdakilerin hangisinden yakınılmaktadır?**

- A) İnsanların, bilmedikleri konularda fikir yürütmesinden
- B) Kitle iletişim araçlarının, toplumun yanlış yönlendirilmesine neden olmasından
- C) Uzay konusundaki bilimsel araştırmaların yetersizliğinden
- D) Gereksiz tartışmaların akıl karışıklığına yol açmasından
- E) Yalan yanlış bütün haberlere inanılmasından

24. O, alt sınıfın, sokağın dilini, duygusunu yansıtmada öylesine içten ve içeriden biridir ki hem okuruna kendini sevdirmiş hem de ardından gelen yazar kuşağına öncülük yapmıştır. Onun romanlarında kişiler, duygusal ve toplumsal durumlarını konuşarak ortaya koyarlar. Diyaloglarındaki doğallık, anlatıma canlılık ve sürükleyicilik kazandırır.

**Böyle tanıtilen bir romancıyla ilgili olarak aşağıdakilerden hangisi söylenebilir?**

- A) Eleştirileri hoşgörüsüyle karşıladı
- B) Belirli konuların dışına çıkmadı
- C) Söyleminin gerçekçi bir nitelik taşıdığı
- D) Geleneksel bir tutum sürdürdüğü
- E) Farklı okur kesimlerine seslendiği

25. Türk destan geleneğinde usta-çırak ilişkisi yalnızca destan anlatırken bir arada bulunmayla sınırlı değildir. Usta anlatıcı, çırağını evinde barındırır, ona evinde destan anlatma sanatını öğretir ve çırak da ustasına ev ve tarım işlerinde yardım eder. Öğretme ve öğrenme işi uzun bir zaman alır. Halk önünde başarılı bir anlatım gerçekleştirebilecek seviyeye gelen çırağa ustası bir takım elbise, bir "hila" ve bir "dombra" veya "dutar" hediye eder ve onun, kendi başına geleneği sürdürebilecek bir usta olduğunu herkese duyurur.

**Bu parçada aşağıdaki sorulardan hangisinin cevabı vardır?**

- A) Her çırak ustalaşır mı?
- B) Usta-çırak ilişkisi nasıl bir süreci içerir?
- C) Çıraklık süresi herkes için aynı mıdır?
- D) Çıraklığa seçilmenin koşulları nelerdir?
- E) Çırakla ustasının yaşama bakış açısı birbiriyle ne kadar örtüşür?

26. Kısa öykünün, özellikle 20. yüzyıl insanının yaşam tarzına uygun düştüğü, uzun metinler okuyacak kadar bol zamanı olmayan çağdaş insan için biçilmiş kaftan olduğu konusundaki yaygın düşünceye katılmıyorum. Bana göre kalın romanlar, çoğu kez kısa öyküden daha kolay okunur. Olay örgüsüyle, karakterlerle tanıştıktan sonra roman, vaktimiz oldukça birlikte olduğumuz yakın bir arkadaş olur artık. Oysa kısa öykünün kısalığı aldatıcıdır. Bu tür öyküler, bir okuyuşta biter ama dikkat isteyen yoğun bir okuma gerektirir. Bir düz yazı türü olan kısa öykünün, şiir gibi, anlaşılması için çaba gerektiren, yoğun bir yapısı vardır.

**Bu parçaya göre aşağıdakilerden hangisi bu sözleri söyleyen yazarın görüşüyle örtüşür?**

- A) Kısa öykü, romandan daha çok sevilen bir türdür.
- B) Romanın öyküye oranla daha karmaşık bir yapısı vardır.
- C) Kısa öykü yazabilmek şairlik deneyimi gerektirir.
- D) Kısa öykü ve romanla ilgili yaygın kanı gerçeklerle bağdaşmaz.
- E) Roman, okurlarından farklı bir donanım ister.

*Diğer sayfaya geçiniz.*

27. Türkiye Cumhuriyeti'nin kuruluş yıllarında yazılan öykü ve romanlarda, siyasal değişimlerin yansımalarından çok, değişik toplumsal görünümlerin sembelleri sayılabilecek kişilerin betimlenmesi, öykülenmesi göze çarpmaktadır. Bu değişik görüntülerde özellikle geleneksel, toplumsal ya da bireysel yaşamlar yer almaktadır. Kişilerin yaşamlarıyla ilgili sorunlara bağlı ruhsal çözümlenmeler, betimlemelerle öne çıkarılmıştır. Türkçenin özleştirilmesi çabasıyla kazanılan yalınlığın, yazarların dil ve anlatım özelliklerini büyük ölçüde etkilediği; ulusçu, toplumcu akımların, gerçekçi gözlemlerin, kimi yazarların yapıtlarında görüldüğü ileri sürülebilir.

**Bu parçadan, söz konusu dönemde yazılan öykü ve romanlarla ilgili olarak aşağıdakilerden hangisi çıkarılamaz?**

- A) Toplumsal çatışmalara ayna tutulduğu
- B) Yazınsal ürünlerin yaşanan gerçeklerle beslendiği
- C) Yazarların, Türkçeleştirme çalışmalarından olumlu yönde etkilendiği
- D) Cumhuriyet Dönemindeki kazanımların yazınsal yaratılara yansıdığı
- E) Değişik anlatım biçimlerinden yararlandığı

28. Dünyada koruma altına alınan yüz dağdan biri Babadağ. Kabak Koyu da bu dağın eteğinde. Endemik çeşitliliği, yabani hayatı ve iki yüz metre boyunca uzanan eşsiz koyuyla birinci derecede sit alanı olmuş. Bu doğal cennet, Türkiye'de ender rastlanan bir jeolojik yapıya sahip. Koy, üç tarafı dağlarla çevrili kanyon biçimindeki derin bir vadi ve vadinin denize açılan çakıllı kumsalından oluşuyor. Tatil köyü kurulması projesine karşı çıkılması sayesinde bakirliğini koruyan koyda sadece birkaç kamp alanı bulunuyor. Modern hayatın izlerine rastlanmayan Kabak Koyu, doğa ile baş başa kalmak isteyenlerin gözde mekânları arasında yer alıyor.

**Bu parçada Kabak Koyu'yla ilgili olarak aşağıdakilerden hangisine değinilmemiştir?**

- A) Koruma altına alınış nedenlerine
- B) Değişik coğrafi özelliklerine
- C) Tatil yeri olarak taşıdığı özelliğe
- D) Kimlerin ilgisini çektiğine
- E) Ekonomik yaşama olan katkılarına

29. Niçin yeterince okunmaz eleştiri ve deneme? Bir hikâyeden yoksun oluşu asıl neden olmalı. Okur, hikâyesi olan metni okumaya başladığı an büyük bir coşku duyar. Bir romanı ya da öyküyü bitirip ötekini okuma isteği doğar kişide. Oysa eleştiri ve deneme doğrudan düşünceyi, düşünce üretebilmeyi ve soyut kavramlarla düşünemeyi gerektirir. Okurdan da o düzeye yaklaşmasını, en azından merak edip araştırmasını bekler. Bu düzeye ulaşma, bunu göze alanlar için kolay olmayacaktır.

**Bu parçayla ilgili olarak aşağıdakilerden hangisine ulaşılamaz?**

- A) Okurların düşünce dünyasını zenginleştirmeyi amaçlayan metinlerin az okunduğuna
- B) Öyküleyici metinlerin kavram dünyası gelişmiş okurlarca yeğlendiğine
- C) Metinlerin, türsel özelliklerine uygun, farklı okuma biçimleri gerektirdiğine
- D) Öğretici nitelikli metinlerin, okurlarına somut bir dünya sunmadığına
- E) Öykülemeye dayalı metinlerin daha kolay okunduğuna

30. Arkadaşlarım beni güçlü buluyorlarsa eğer, bunun birkaç nedeni var. Bunlardan biri "içten" olmam ve insanları koşulsuz olarak sevmemdir. Ayrıca ileriye bakan, geleceğe yönelik tasarıları olan biriyim. Düşündüğümü dolaysız ve net olarak söylemek, şeffaf olmak, verici olmak ve güzellikleri paylaşmada cömert olmak insanı güçlü kılıyorsa evet, ben çok hem de çok güçlüyüm!

**Bu sözleri söyleyen kişi, kendisiyle ilgili olarak aşağıdakilerin hangisinden söz etmemiştir?**

- A) Çıkar gözetmeksizin başkalarına yardım ettiğinden
- B) Geçmişe bağlanıp kalmadığından
- C) Herkesle kolay iletişim kurabildiğinden
- D) Sahte davranışlardan hoşlanmadığından
- E) Gizli saklı bir düşüncesi olmadığından

*Diğer sayfaya geçiniz.*



31.

$$\frac{-3 - (-6) + (-7)}{3(-4)}$$

işleminin sonucu kaçtır?

- A)  $\frac{-1}{3}$       B)  $\frac{-1}{4}$       C)  $\frac{1}{3}$   
 D)  $\frac{1}{4}$       E)  $\frac{1}{6}$

32.

$$\frac{10^8 - 4}{10002}$$

işleminin sonucu kaçtır?

- A) 10 006      B) 10 004      C) 10 002  
 D) 9998      E) 9996

33.

$$\frac{\sqrt{1,28}}{\sqrt{0,32} - \sqrt{0,08}}$$

işleminin sonucu kaçtır?

- A) 2      B) 3      C) 4      D)  $\sqrt{2}$       E)  $\sqrt{3}$

34.

$$\sqrt[3]{a^2 \sqrt{a}} = 32$$

olduğuna göre, a kaçtır?

- A)  $\sqrt{2}$       B) 2      C) 8      D) 16      E) 64

35. a, b pozitif tam sayılar ve

$$27^{3a} = 81^{2b}$$

olduğuna göre, a + b'nin en küçük değeri kaçtır?

- A) 13      B) 14      C) 15      D) 16      E) 17

Diğer sayfaya geçiniz.

36.

$$\frac{1}{3} - 2a = \frac{1}{12} - 2b$$

olduğuna göre,  $a - b$  farkı kaçtır?

- A)  $\frac{1}{8}$       B)  $\frac{1}{7}$       C)  $\frac{1}{6}$   
 D)  $\frac{1}{5}$       E)  $\frac{1}{4}$

37.

$$a < 0$$

$$\frac{a}{b} < 0$$

$$\frac{c}{b} = 0$$

olduğuna göre, aşağıdakilerden hangisi kesinlikle doğrudur?

- A)  $a + c > 0$       B)  $a + b > 0$       C)  $a + b < 0$   
 D)  $a + c < 0$       E)  $b + c < 0$

38.  $x$  pozitif bir tam sayı olmak üzere,

$$\frac{1}{x-1} + \frac{1}{x^2-1} = \frac{4}{3}$$

olduğuna göre,  $x$  kaçtır?

- A) 1      B) 2      C) 3      D) 4      E) 5

39.

$$3 - \frac{3+x}{1-3x}$$

$$\frac{3(x+3)}{1-3x} + 1$$

ifadesinin sadeleştirilmiş biçimi aşağıdakilerden hangisidir?

- A)  $-x$       B)  $-3x$       C)  $3x+1$   
 D)  $x-3$       E)  $x+3$

Diğer sayfaya geçiniz.

40.  $x < 0$  olduğuna göre,

$$|2x-1| - |1-x| + |-2x|$$

işleminin sonucu aşağıdakilerden hangisidir?

- A) -2    B) 2    C) -x    D) -3x    E) 3x

41.

$$\frac{8}{x+1} + \frac{5}{y+1} = 3$$

$$\frac{5}{y+1} - \frac{4}{x+1} = 1$$

olduğuna göre, x kaçtır?

- A) 5    B) 6    C) 8    D) 9    E) 10

42. Dört basamaklı  $7a7b$  doğal sayısı 15 ile tam olarak bölünebildiğine göre  $a+b$ 'nin en büyük değeri kaçtır?

- A) 11    B) 12    C) 13    D) 14    E) 15

43. Toplamları 10 ve çarpımları 24 olan iki pozitif tam sayının kareleri toplamı kaçtır?

- A) 44    B) 48    C) 50    D) 52    E) 56

44. Eni 84 cm, boyu 108 cm olan dikdörtgen biçimindeki bir ambalaj kâğıdı kenar uzunluğu en büyük tam sayı olacak şekilde karelere bölünüyor.

Buna göre, ambalaj kâğıdı kaç kareye bölünmüştür?

- A) 56    B) 60    C) 63    D) 66    E) 72

*Diğer sayfaya geçiniz.*

45. İki işçi belli bir işi yalnız başına  $x$  ve  $y$  günde bitiriyor.

İkisi birden aynı işi 15 günde bitirdiğine ve  $x < y$  olduğuna göre,  $y$  aşağıdakilerden hangisi olabilir?

- A) 24    B) 26    C) 28    D) 30    E) 40

47. Bir sokakta yan yana bulunan aşağıdaki dört ev boyanacaktır.



Elindeki 5 renk boyayla bu evlerin her birini farklı renkte olacak biçimde boyamak isteyen bir boyacı ustası, bu boyamayı kaç farklı şekilde yapabilir?

- A) 120    B) 90    C) 72    D) 48    E) 24

46. Aylin girmiş olduğu sınavların sonucundan 96 puan alırsa not ortalaması 80 puan, 44 puan alırsa not ortalaması 67 puan olacaktır.

Buna göre, Aylin'in girdiği sınav sayısı kaçtır?

- A) 3    B) 4    C) 5    D) 6    E) 7

48. Bir otomobil A kentinden B kentine saatte 100 km hızla gidiyor ve saatte 110 km hızla geri dönüyor.

Otomobil bu gidiş dönüşü 10 saat 30 dakikada tamamladığına göre, A ile B kentleri arasındaki uzaklık kaç km'dir?

- A) 550    B) 560    C) 570    D) 590    E) 600

*Diğer sayfaya geçiniz.*

49. Bir annenin yaşı, dörder yıl ara ile doğmuş üç çocuğunun yaşları toplamına eşittir.

**Anne 45 yaşında olduğuna göre, en büyük çocuğu doğduğunda annenin yaşı kaçtır?**

- A) 25    B) 26    C) 27    D) 28    E) 29

50. Bir iş adamı aldığı bir malın % 40'ını % 20 kârla, % 20'sini % 15 zararla satıyor.

**Bu malın tüm satışından % 15 kâr elde etmesi için kalan malı yüzde kaç kârla satmalıdır?**

- A) 10    B) 15    C) 25    D) 30    E) 35

**51. VE 52. SORULARI AŞAĞIDAKİ BİLGİLERE GÖRE CEVAPLAYINIZ.**

Çapı 24 cm olan patlak bir basketbol topunun çapı doğrusal bir fonksiyon olarak azalarak 2 saniye sonra 20 cm olmaktadır.

51. Bu doğrusal fonksiyonun denklemleri aşağıdakilerden hangisidir?

A)  $y = 2x + 20$     B)  $y = 2x + 24$     C)  $y = -2x + 20$

D)  $y = -2x + 24$     E)  $y = -2x - 24$

52. Kaç saniye sonra topun çapı 8 cm olur?

- A) 8    B) 10    C) 12    D) 14    E) 16

*Diğer sayfaya geçiniz.*

53. Türkçe ve matematik bölümlerinden en az birini tercih eden bir öğrenci grubundaki öğrencilerden

- her ikisini tercih edenlerin sayısı 20,
- sadece Türkçe tercih edenlerin sayısı sadece matematik tercih edenlerin sayısının 2 katıdır.

Buna göre, aşağıdakilerden hangisi bu öğrenci grubundaki öğrenci sayısı olamaz?

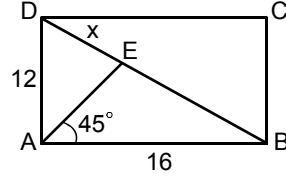
- A) 23    B) 35    C) 38    D) 41    E) 48

54. 4 işçi boyutları 12 metre ve 40 metre olan dikdörtgen biçimindeki bir tarlayı 5 saatte çapalıyor.

Buna göre, aynı iş gücündeki 6 işçinin 10 saatte çapaladığı dikdörtgen biçimindeki tarlanın alanı kaç metre karedir?

- A) 1440    B) 1420    C) 1380  
D) 1320    E) 1240

55.



ABCD bir dikdörtgen

$$m(\widehat{EAB}) = 45^\circ$$

$$|AB| = 16 \text{ cm}$$

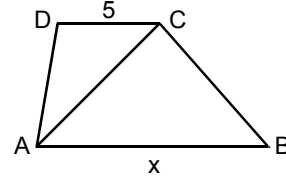
$$|AD| = 12 \text{ cm}$$

$$|DE| = x$$

Yukarıdaki verilere göre, x kaç cm'dir?

- A)  $\frac{20}{3}$     B)  $\frac{34}{3}$     C)  $\frac{28}{3}$   
D)  $\frac{20}{7}$     E)  $\frac{60}{7}$

56.



ABCD bir yamuk

$AB \parallel DC$

$$|DC| = 5 \text{ cm}$$

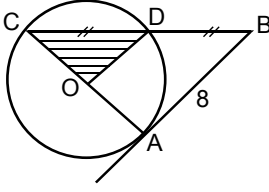
$$|AB| = x$$

Yukarıdaki yamukta ACD üçgeninin alanı  $10 \text{ cm}^2$  ve ABC üçgeninin alanı  $18 \text{ cm}^2$  olduğuna göre, x kaç cm'dir?

- A) 6    B) 7    C) 8    D) 9    E) 12

Diğer sayfaya geçiniz.

57.



$$|CD| = |DB|$$

$$|AB| = 8 \text{ cm}$$

Şekildeki AB doğrusu O merkezli çembere A noktasında teğettir.

Buna göre, ODC üçgeninin alanı kaç  $\text{cm}^2$  dir?

- A) 6      B) 8      C) 10      D) 12      E) 16

**58. – 60. SORULARI AŞAĞIDAKİ BİLGİLERE GÖRE CEVAPLAYINIZ.**

Aşağıdaki tabloda bir bölgede 2008 ve 2009 yıllarında tarım, sanayi, inşaat, hizmet ve imalat sektöründe çalışan kişilerin bu beş sektörde çalışanlar içindeki payları yüzde olarak gösterilmiştir.

Sektörler	2008	2009
Tarım	18	20
Sanayi	12	12
İnşaat	15	18
Hizmet	25	25
İmalat	30	25

Bu bölgede 2009 yılında çalışan kişi sayısının 2008'e göre % 20 arttığı ve 2009 yılında çalışan kişi sayısının 60 000 olduğu biliniyor.

58. Buna göre, 2008 yılında tarım sektöründe çalışan kişi sayısı kaçtır?

- A) 6000      B) 7000      C) 8000  
D) 9000      E) 12 000

59. Buna göre, inşaat sektöründe çalışan kişi sayısı 2009 yılında 2008 yılına göre kaç kişi artmıştır?

- A) 3000      B) 3300      C) 3600  
D) 4200      E) 4800

60.

- I. Sanayi sektöründe 2008 ve 2009 yıllarında çalışan kişi sayıları aynıdır.  
II. İmalat sektöründe çalışan kişi sayısı 2009 yılında 2008 yılına göre % 5 azalmıştır.  
III. Hizmet sektöründe çalışan kişi sayısı 2009 yılında 2500 kişi artmıştır.

Tabloya göre yukarıda verilen bilgilerden hangileri doğrudur?

- A) Yalnız I      B) Yalnız III      C) I ve II  
D) I ve III      E) II ve III

**GENEL YETENEK TESTİ BİTTİ.**

**GENEL KÜLTÜR TESTİNE GEÇİNİZ.**

# GENEL KÜLTÜR TESTİ

2010 - KPSS / ÖN LİSANS

1. Çin kaynaklarına göre, Orta Asya'da kurulan Asya Hunları evlerini topraktan yapmış, Volga kıyılarıyla Kırım arasında kurulan Hazarların evleri ise hep ahşap olup yalnız hakan sarayı ve kale taştan yapılmıştır.

**Yukarıda verilen bu bilgilerle,**

- I. Doğa şartları insanların yaşam biçimini etkilemiştir.
- II. Türklerde daha çok göçebe yaşantı vardır.
- III. Türkler mimaride Çinlilerden etkilenmiştir.

**yargılarından hangilerine ulaşılabilir?**

- A) Yalnız I      B) Yalnız II      C) Yalnız III  
D) I ve II      E) I, II ve III

2. Nizâm'ül-Mülk'ün Siyasetname adlı eserinin Türk İslam tarihindeki öneminin,

- I. yazarının Selçuklu devlet yönetiminde söz sahibi olması,
- II. devlet yönetimine ilişkin bilgiler vermesi,
- III. Türklerin İslamiyet'i kabulünden sonra kendi türünde yazılan ilk eser olması

**durumlarının hangilerinden kaynaklandığı savunulabilir?**

- A) Yalnız I      B) Yalnız II      C) Yalnız III  
D) I ve II      E) I, II ve III

3. Aşağıdaki Türk devletlerinden hangisi donanmaya önem vermiş ve tersaneler kurmuştur?

- A) Büyük Selçuklular      B) Anadolu Selçukluları  
C) Karahanlılar      D) Gazneliler  
E) Harzemşahlar

4. Aşağıdakilerden hangisi, Osmanlı toplumunda yönetici gruplar arasında değildir?

- A) İlimiye      B) Seyfiye  
C) Reaya      D) Kalemîye  
E) Hanedan üyeleri

*Diğer sayfaya geçiniz.*



5. Aşağıdakilerden hangisi, XIX. yüzyılda Osmanlı Devleti'nde eğitimle ilgili gelişmelerden biri değildir?

- A) Avrupa'ya öğrenci gönderilmesi
- B) İlk Türk matbaasının kurulması
- C) Yabancı dil eğitimine önem verilmesi
- D) Avrupa'da yayımlanan eserlerin Türkçeye tercüme edilmesi
- E) Kütüphane kurulmasına ülke çapında önem verilmesi

6.

- I. Coğrafi Keşifler
- II. Milliyetçilik akımları
- III. Sanayi İnkılabı

Osmanlı Devleti'nde XVI. yüzyılda yukarıdaki gelişmelerden hangileri ekonomik alanda etkili olmuştur?

- A) Yalnız I
- B) Yalnız II
- C) Yalnız III
- D) I ve II
- E) I, II ve III

7. Osmanlı Devleti'nde XIX. yüzyılda maliyenin iflasi, aşağıdakilerden hangisinin gerçekleşmesine neden olmuştur?

- A) İrad-ı Cedit hazinesinin kurulmasına
- B) Fransa'ya ilk kez kapitülasyonların verilmesine
- C) Düyun-ı Umumiye İdaresinin kurulmasına
- D) Anadolu'da Celali İsyanlarının çıkmasına
- E) Avrupa'dan askerî ve teknolojik alanlarda ilk kez yararlanılmasına

8. Osmanlı Devleti'nin Balta Limanı Antlaşması'yla yabancı tacirlere tanıdığı,

- I. vergi oranlarının indirilmesi,
- II. mal alım ve naklini belge göstermeden yapabilmesi,
- III. hiçbir kısıtlama olmadan her türlü malı Osmanlı topraklarında satabilmesi

olanaklarından hangilerinin iç piyasaya egemen olmalarını kolaylaştırdığı savunulabilir?

- A) Yalnız I
- B) Yalnız II
- C) Yalnız III
- D) I ve II
- E) I, II ve III

9.

- I. Kanunuesasi
- II. Tanzimat Fermanı
- III. Islahat Fermanı

Osmanlı Devleti'nde yukarıdakilerin ilanının doğru sıralaması aşağıdakilerden hangisidir?

- A) I, II, III
- B) II, I, III
- C) II, III, I
- D) III, I, II
- E) III, II, I

*Diğer sayfaya geçiniz.*

10. Birinci Dünya Savaşı başlarında tarafsızlığını açıklayan Amerika Birleşik Devletleri, daha sonra Anlaşma Devletleri safında savaşa girmiştir.

**Amerika Birleşik Devletleri'nin bu tutum değişikliğinin nedeni aşağıdakilerden hangisidir?**

- A) Rusya'nın savaştan çekilmesi  
B) Rusya'da rejim değişikliği olması  
C) Arapların Türk ordusuna karşı ayaklanması  
D) Amerika Birleşik Devletleri'nin ticaret gemilerinin batırılması  
E) Osmanlı Devleti'nin birçok cephede savaşması

11.

- Sivas'ta millî bir kongrenin acilen toplanması
- Bütün illerin her sancağından halkın güvenini kazanmış delegelerin en kısa zamanda yola çıkarılması

**Yukarıdaki çağrılar aşağıdakilerden hangisinin kapsamındadır?**

- A) Erzurum Kongresi      B) Amasya Genelgesi  
C) Sivas Kongresi      D) Amasya Protokolü  
E) Alaşehir Kongresi

12. Kurtuluş Savaşı'nda,

- I. Balıkesir,  
II. Alaşehir,  
III. Erzurum

**kongrelerinin hangilerinde Kuvayimillîye birliklerinin malzeme ve cephane bakımından desteklenmesine ve düşmana karşı ortak bir cephenin kurulmasına karar verilmiştir?**

- A) Yalnız I      B) Yalnız II      C) Yalnız III  
D) I ve II      E) I, II ve III

13. Erzurum ve Sivas Kongrelerinde alınan,

- I. Kuvayimillîyenin etkin ve millî iradenin egemen kılınması,  
II. azınlıklara siyasi hakimiyet ve sosyal dengeyi bozacak ayrıcalıkların verilmemesi,  
III. Millî Meclisin toplanması

**kararlarından hangilerinin "ülkenin parçalanmaz bir bütün olduğu" ilkesini desteklediği savunulabilir?**

- A) Yalnız I      B) Yalnız II      C) Yalnız III  
D) I ve II      E) I, II ve III

14. Misakımillî'de yer alan,

- I. Türkiye'deki azınlıklara, komşu ülkelerdeki Müslümanlara tanındığı düzeyde hak verilmesi,  
II. siyasi, adli, mali gelişmeye engel olan kapitülasyonların kaldırılması,  
III. hükümet merkezi olan İstanbul şehri ve Marmara Denizi'nin güvenliğinin her türlü müdahale ve saldırıya karşı korunması

**kararlarından hangileri bağımsız devlet anlayışının ilke edinildiğini gösterir?**

- A) Yalnız I      B) Yalnız II      C) Yalnız III  
D) I ve II      E) I, II ve III

*Diğer sayfaya geçiniz.*

15. Aşağıdakilerden hangisi, daha önceden üzerinde uzlaşma sağlandığından dolayı, Lozan Konferansı'nda tartışmalara konu olmamıştır?

- A) Boğazların yönetimine ilişkin düzenleme
- B) Suriye sınırı
- C) Osmanlı devlet borçları
- D) Kapitülasyonlar
- E) Musul

16. Aşağıdakilerden hangisi 17 Şubat 1923'te İzmir'de toplanan Türkiye İktisat Kongresi'nde alınan ilke kararlarından biri değildir?

- A) Kabotaj hakkının kullanılması
- B) Sendika hakkının tanınması
- C) Topraksız köylüye toprak dağıtılması
- D) Yerli sanayinin gelişmesi için gümrüklerde koruyucu önlemler alınması
- E) Ülkedeki madenlerin saptanması

17. Atatürk, "Çağdaş bir Cumhuriyet kurmak demek milletin insanca yaşamasını bilmesi, insanca yaşamının neye bağlı olduğunu öğrenmesi demektir." demiştir.

Atatürk'ün bu anlatımıyla,

- I. özgür birey olma,
- II. çağdaş gelişmeleri izleyebilme,
- III. demokrasi bilincine sahip olma

değerlerinden hangilerinin çağdaş olmanın gerekleri arasında olduğunu vurguladığı savunulabilir?

- A) Yalnız I
- B) Yalnız II
- C) Yalnız III
- D) I ve II
- E) I, II ve III

18. 1926 yılında imzalanan Ankara Antlaşması,

- I. Musul'un İngiliz yönetimindeki Irak'a bırakılması,
- II. Türkiye-Irak sınırının çizilmesi,
- III. Musul'un yıllık petrol gelirlerinin % 10'unun 25 yıl süreyle Türkiye'ye bırakılması

maddelerinden hangilerini kapsar?

- A) Yalnız I
- B) Yalnız II
- C) Yalnız III
- D) I ve II
- E) I, II ve III

*Diğer sayfaya geçiniz.*

## 19. Aşar vergisinin,

- I. toplanmasından sorumlu mültezimlerin yasa dışı tutumları,
- II. oranının köylü açısından yüksek olması,
- III. ürün üzerinden alınması

**koşullarından hangilerinin köylünün maddi yönden sıkıntı yaşamasına ve tarımda verimin düşmesine neden olduğu savunulabilir?**

- A) Yalnız I                      B) Yalnız II                      C) I ve II  
D) II ve III                      E) I, II ve III

## 20. Aşağıdakilerden hangisi 1926 yılında yürürlüğe giren Medeni Kanun'la sağlanan durumlardan biri değildir?

- A) Kadınların ülkenin siyasi yönetimine katılabilmesi
- B) Tek eşlilik esasının getirilmesi
- C) Kadının eşinden boşanabilmesi
- D) Resmî nikâh usulünün konulması
- E) Miras konusunda eşitsizliğin kaldırılması

## 21. 1 Kasım 1928'de TBMM'nin kabul ettiği Türk Harfleri Hakkındaki Kanun'la Harf İnkılabı başlamıştır.

**Aşağıdakilerden hangisi Harf İnkılabı'nın uygulanmaya konulmasıyla ilgili gelişmelerden biridir?**

- A) Medreselerin kapatılması
- B) Maarif Teşkilatı hakkında kanun çıkarılması
- C) Millet Mekteplerinin açılması
- D) Müzik Öğretmen Okulunun kurulması
- E) Eğitim ve öğretimin birleştirilmesine ilişkin kanun çıkarılması

## 22.

- I. Köy Enstitülerinin açılması
- II. Halkevlerinin açılması
- III. Eğitim kurslarının açılması

**Yukarıdakilerden hangilerinin gerçekleştirilmesinde toplumun bilgi ve yaşam düzeyini yükseltmek amacı vardır?**

- A) Yalnız I                      B) Yalnız II                      C) Yalnız III  
D) I ve II                      E) I, II ve III

*Diğer sayfaya geçiniz.*

23. Atatürk, "Demokrasi ilkesi, egemenliğin millette olduğunu başka yerde olmayacağını gerekli sayar. Bu suretle demokrasi ilkesi, siyasal gücün, egemenliğin kökenlerine ve yasallığına dayanmaktadır." demiştir.

**Atatürk'ün bu demokrasi anlayışını aşağıdaki ilkelere hangisi doğrudan destekler?**

- A) Halkçılık  
B) Cumhuriyetçilik  
C) Milliyetçilik  
D) Devletçilik  
E) İnkılapçılık

24. 1931 yılında ağırlık ve uzunluk ölçü birimleri değiştirilmiş metre ve kilo esaslı kabul edilmiştir.

**Bu değişimle,**

- I. ülkede ölçü birliğinin sağlanması,  
II. ticari işlerin kolaylaşması,  
III. tarımsal üretimin artması

**durumlarından hangilerinin sağlandığı savunulabilir?**

- A) Yalnız I  
B) Yalnız II  
C) Yalnız III  
D) I ve II  
E) I, II ve III

25. Atatürk, 1 Aralık 1921 tarihinde Büyük Millet Meclisinde yaptığı konuşmasında, "Biz yapmadığımız ve yapamadığımız kavramlar üzerinde koşarak düşmanlarımızın sayısını ve üzerimize olan baskıları artırmaktansa tabii duruma dönelim. Haddimizi bilelim. Binaenaleyh Efendiler, biz hayat ve istiklal isteyen milletiz ve yalnız ancak bunun için hayatımızı esirgemedik verimiz." demiştir.

**Atatürk'ün bu konuşmasında dış politikayla ilgili,**

- I. öncelikle sınırlarımız içinde ulusal varlığımızın korunmasının amaçlanması,  
II. gerçekleştirilemeyecek emeller peşinde koşulmaması,  
III. Türk tarihinin çok eskilere dayandırılması

**durumlarından hangilerine ulaşılabilir?**

- A) Yalnız I  
B) Yalnız II  
C) I ve II  
D) II ve III  
E) I, II ve III

26. **Diyanet İşleri Başkanlığına yönetimde yer verilmesiyle,**

- I. din işlerinin istismar edilmesi,  
II. hurafelerin ve yanlış inançların yaygınlaşması,  
III. ailelerin çocuklarına dinî bilgiler vermesi

**durumlarından hangilerinin önlenmek istendiği savunulabilir?**

- A) Yalnız I  
B) Yalnız II  
C) Yalnız III  
D) I ve II  
E) I, II ve III

*Diğer sayfaya geçiniz.*

27. Atatürk, "Biz, Batı medeniyetini bir taklitçilik yapalım diye almıyoruz. Onda iyi olarak gördüklerimizi, kendi bünyemize uygun bulduğumuz için dünya medeniyet seviyesi içinde benimsiyoruz." demiştir.

**Atatürk'ün bu ifadesiyle aşağıdakilerden hangisine ulaşamaz?**

- A) Çağdaşlığı ilke edinme  
B) Yabancı kültürlerle bağlanma  
C) Özgünlüğü korumayı amaçlama  
D) Batı medeniyetinden yararlanma gereğini kabul etme  
E) Gelişmiş dünya ülkeleri arasında yer almayı amaçlama

28.

- I. İstanbul Üniversitesinin Kurulması Hakkında Kanun çıkarılması  
II. Türk Tarih Kurumunun kurulması  
III. Köy Enstitülerinin açılması

**Yukarıdakilerden hangileri Atatürk Dönemi gelişmeleri arasındadır?**

- A) Yalnız I      B) Yalnız II      C) Yalnız III  
D) I ve II      E) I, II ve III

29. 1929-1930 yıllarında dünyada bir ekonomik bunalım baş göstermiştir.

**Bu ekonomik bunalımın Türkiye'de aşağıdakilerden hangisine ortam hazırladığı savunulabilir?**

- A) Devletçilik ilkesinin kabul edilmesine  
B) İzmir'de Türkiye İktisat Kongresi'nin toplanmasına  
C) Kabotaj Kanunu'nun çıkarılmasına  
D) İş Bankasının kurulmasına  
E) Teşvik-i Sanayi Kanunu'nun çıkarılmasına

30. **Aşağıdakilerden hangisi Sadabad Paktına üye devletlerden biridir?**

- A) Suriye      B) Mısır      C) Pakistan  
D) Afganistan      E) Hindistan

*Diğer sayfaya geçiniz.*

31. Aşağıdakilerden hangisi, sıcaklık dağılışında bakımın etkisine örnek olarak gösterilebilir?

- A) Mersin'de yıllık sıcaklık ortalamasının Sinop'tan yüksek olması
- B) Antalya kıyılarında deniz suyu sıcaklığının Samsun kıyılarındakinden yüksek olması
- C) Edirne'de karın yerde kalma süresinin İstanbul'dan fazla olması
- D) Kışın İzmir'den Afyonkarahisar'a gidildikçe yağmurun yerini kar yağışının alması
- E) Giresun'da dağların güney yamaçlarında kar erimelerinin kuzeydekenden erken başlaması

32. Karadeniz Bölgesi'nin jeolojik ve jeomorfolojik özellikleri göz önüne alındığında, bölgede aşağıdaki göl tiplerinden hangisine rastlanması beğlenmez?

- A) Krater
- B) Heyelan set
- C) Buzul
- D) Alüvyal set
- E) Kıyı set

33. Aşağıdakilerden hangisi Türkiye'de toprak erozyonunun fazla olduğu bölgelerde ortaya çıkan sorunlardan biri değildir?

- A) Toprak kalınlığının azalması
- B) Baraj tabanında biriken materyalin artması
- C) Delta alanlarının genişlemesi
- D) Çayır ve mera alanlarının azalması
- E) Tarımsal verimin ve üretimin düşmesi

34. Türkiye'deki bir yörede, geçim kaynakları sınırlı, enerji tüketimi az, tarımla uğraşan kişi sayısı fazla ve doğum oranı yüksektir.

Buna göre, bu yöre için aşağıdakilerden hangisi kesin olarak söylenebilir?

- A) Nitelsiz iş gücü fazladır.
- B) Ulaşım olanakları gelişmiştir.
- C) Ahır hayvancılığı yaygındır.
- D) Okullaşma oranı yüksektir.
- E) Nüfus yoğunluğu fazladır.

35. Türkiye'de yaşanan sürekli iç göçlerle ilgili olarak aşağıdaki genellemelerden hangisi yapılamaz?

- A) En çok kırsal kesimden kentlere göç olmaktadır.
- B) Endüstrinin geliştiği yerler daha fazla göç almaktadır.
- C) Marmara Bölgesi kıyı kentlerine olan göçlerle Akdeniz ve Güney Ege kıyı kentlerine olan göçlerin nedeni farklıdır.
- D) Tarımsal etkinliklerin çeşitlenmesi kıyılardan iç bölgelere olan göçü artırmıştır.
- E) Küçük kentlerden metropollere olan göçlerde temel neden işsizliktir.

Diğer sayfaya geçiniz.

36. Aşağıda, haritada beş kent gösterilmiş ve bu kentlerden dördünün gelişmesinde etkili olan etmenler verilmiştir.



- Geniş art bölgesi sayesinde gelişen liman kenti
- Tarım ve turizm fonksiyonlarının etkisiyle gelişen kent
- Kara yolu ve demir yolu ulaşımında önemli kavşak noktası olan kent
- Tarımsal endüstri ve otomotiv endüstrisiyle gelişen kent

Buna göre, yukarıda hangi kentin gelişmesinde etkili olan etmen yoktur?

- A) Bursa      B) Afyonkarahisar      C) Şanlıurfa  
D) Samsun      E) Karabük

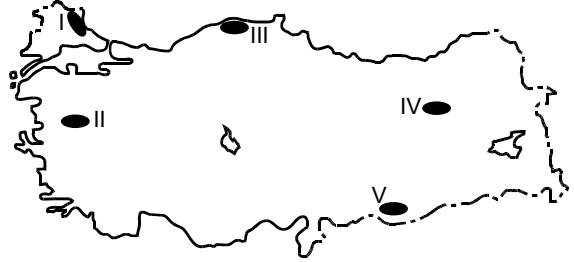
37. Türkiye'nin yüksek ve engebeli bir ülke olmasının aşağıdaki ekonomik etkinliklerden hangisi üzerinde etkisi yoktur?

- A) Kış turizmi      B) Büyükbaş hayvancılık  
C) Yayılacılık      D) Madencilik  
E) Orman işletmeciliği

38. Türkiye'deki tarımsal etkinliklerle ilgili olarak aşağıdakilerden hangisi doğrudur?

- A) İklim koşullarının uygun olması nedeniyle pirinç yalnız iç bölgelerde yetiştirilir.  
B) İklim koşulları benzer olmasına karşın Ege Bölgesi'ndeki zeytin üretimi Akdeniz Bölgesi'nden daha fazladır.  
C) İç Anadolu Bölgesi'nde yetiştirilebilen tarım ürünü çeşidi, Marmara Bölgesi'nde yetiştirilebilenlerden daha fazladır.  
D) İç bölgeler arasında sulama gereksiniminin en fazla olduğu bölge Doğu Anadolu'dur.  
E) Kırsal nüfusun fazla olduğu yerler aynı zamanda tarımda makine kullanımının da fazla olduğu yerlerdir.

39.



Doğal koşulları göz önüne alındığında haritada numaralarla gösterilen yerlerin hangisinde ekilen aynı tür buğdaydan, yıl içinde birim alandan daha yüksek verim alınması beklenir?

- A) I      B) II      C) III      D) IV      E) V

Diğer sayfaya geçiniz.



40. Yıllık sıcaklık ortalamasının yüksek olduğu yerlerde yetişen, meyve verme döneminde yüksek sıcaklık ve kuraklık isteyen, soğuğa ve don olayına çok duyarlı olan bir bitkinin aşağıdaki yerlerden hangisinde yetiştirilmesi daha kolaydır?

- A) Ergani      B) İskenderun      C) Amasra  
D) Tatvan      E) Gemlik

41. Türkiye’de çay ve muz üretimi için,

- I. üretilebilecek alanların sınırlı olması,  
II. her mevsim yağış istemesi,  
III. hasadının iş gücü gerektirmesi,  
IV. üretimin tüketimi karşılaması

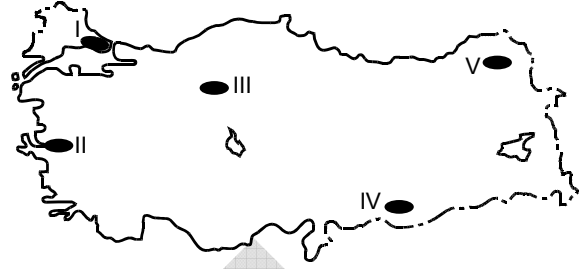
özelliklerinden hangileri ortaktır?

- A) I ve II      B) I ve III      C) II ve III  
D) II ve IV      E) III ve IV

42. Türkiye’de, aşağıdakilerin hangisinde verilen ekonomik etkinliklerin aynı yörede ve bir arada yürütülmesi daha zordur?

- A) Büyükbaş hayvancılık – Şeker pancarı tarımı  
B) Balıkçılık – Buğday tarımı  
C) Fındık tarımı – Pamuk tarımı  
D) Küçükbaş hayvancılık – İpek böcekçiliği  
E) Mısır tarımı – Zeytin tarımı

43. Kösele imalatı yapan bir yatırımcı, yeni fabrikasını bu iş için gerekli olan büyükbaş hayvan derisinin kolay ve ucuza temin edildiği bir yere kurmak istemektedir.



Buna göre, bu yatırımcının fabrikayı haritada numaralarla gösterilen yerlerden hangisine kurması maliyetin yükselmesine neden olur?

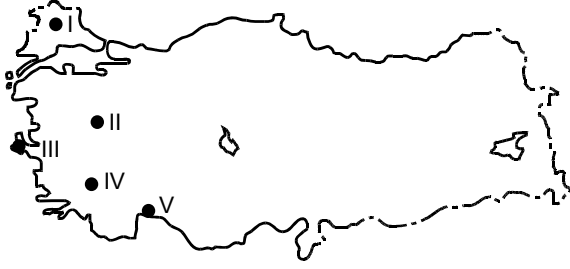
- A) I      B) II      C) III      D) IV      E) V

44. Aşağıdaki ürünlerden hangisi Türkiye için hem dış alım hem de dış satımda diğerlerinden daha önemli bir yer tutar?

- A) Petrol      B) Doğal gaz      C) Kahve  
D) Üzüm      E) Beyaz eşya

*Diğer sayfaya geçiniz.*

45.



Haritada numaralarla gösterilen yerlerdeki enerji kaynaklarıyla ilgili olarak aşağıdaki bilgilerden hangisi **yanlıştır**?

- A) I numaralı yer, Türkiye'deki doğal gaz üretiminde büyük paya sahiptir.
- B) II numaralı yerdeki barajlardan hidroelektrik enerji üretilmektedir.
- C) III numaralı yerde, rüzgâr enerjisinden yararlanmak amacıyla rüzgâr santralleri kurulmuştur.
- D) IV numaralı yerde, jeotermal enerjiyi elektrik enerjisine dönüştüren santraller bulunmaktadır.
- E) V numaralı yerde, güneşlenme süresi ve güneşli gün sayısı fazla olduğundan güneş enerjisinden yararlanılmaktadır.

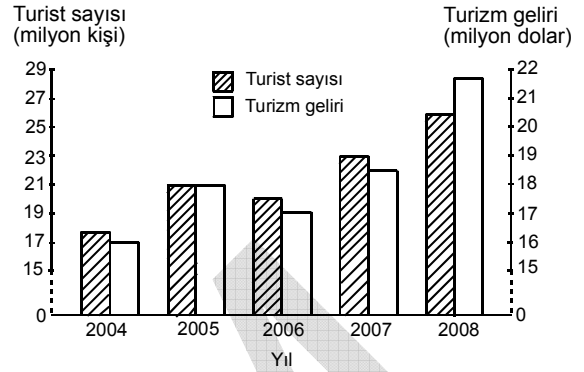
46. Aşağıdaki limanlardan hangisinin gelişmesinde,

- hem kara yolu hem de demir yoluyla ulaşımın mümkün olması,
- çevresinde önemli endüstri kuruluşlarının bulunması,
- serbest ticaret bölgesinin bulunması

özelliklerinin üçü de etkili olmuştur?

- A) Mersin      B) Tekirdağ      C) Trabzon  
D) Antalya      E) Çanakkale

47. Aşağıdaki grafikte, 2004-2008 yılları arasında Türkiye'ye gelen turist sayısı ve bu yıllarda elde edilen turizm gelirleri gösterilmiştir.



Bu grafikten aşağıdaki sonuçlardan hangisi çıkarılabilir?

- A) 2008 yılında elde edilen turizm geliri 25 milyon doların üzerindedir.
- B) 2005 ve 2007 yıllarında turist başına elde edilen gelir birbirine eşittir.
- C) 2004 ve 2006 yıllarında elde edilen toplam turizm geliri 2008'dekinden fazladır.
- D) 2004-2008 yılları arasında gelen turist sayısı düzenli olarak artmıştır.
- E) Turistik tesis sayısının artmasıyla gelen turist sayısı da artmıştır.

48. Aşağıdakilerden hangisi, Türkiye'deki inanç turizmi merkezlerinden biri **değildir**?

- A) Mevlana Türbesi – Konya  
B) Meryem Ana – Selçuk  
C) Cennet-Cehennem – Silifke  
D) Akdamar Kilisesi – Van  
E) Sümela Manastırı – Trabzon

Diğer sayfaya geçiniz.

49. Kazanç paylaşma amacı gütmeyen ve en az yedi kişinin bir araya gelmesiyle kurulabilen tüzel kişilik aşağıdakilerden hangisidir?

- A) Vakıf  
B) Kolektif şirket  
C) Kooperatif  
D) Komandit şirket  
E) Dernek

50. Kardeşler arasındaki hısımlığa ne ad verilir?

- A) Kayın hısımlığı  
B) Alt soy hısımlığı  
C) Üst soy hısımlığı  
D) Yan soy kan hısımlığı  
E) Evlat edinmeden doğan hısımlık

51. Kişiyeye eşya üzerinde doğrudan doğruya hâkimiyet sağlayan ve herkese karşı ileri sürülebilir haklara ne ad verilir?

- A) Fikrî hak  
B) Aynı hak  
C) Şahsi hak  
D) Alacak hakkı  
E) Talep hakkı

52.

- I. Bireysel başvuruları inceleme görev ve yetkisi  
II. Üyelerinin görev süresinin 12 yıla sınırlandırılması  
III. TBMM'nin, üye seçme yetkisine sahip olması  
IV. Anayasa değişikliklerinin sadece şekil açısından denetlenmesi  
V. Yüce Divan yargılaması yetkisi

Yukarıdakilerden hangileri 1982 Anayasası'nda 5982 sayılı Kanun'la 2010 yılında yapılan değişikliklerle Anayasa Mahkemesi için getirilmiş yenilikler arasında yer alır?

- A) Yalnız I  
B) I ve III  
C) I, II ve III  
D) I, III ve IV  
E) I, II, III, IV ve V

53. 1982 Anayasası'na göre, aşağıdakilerden hangisi milletvekilliğini sona erdiren hâllerden biri değildir?

- A) İstifa  
B) Milletvekili olmaya engel bir suçtan kesin hüküm giyme  
C) Kısıtlanma  
D) Milletvekilliğiyle bağdaşmayan bir görevi sürdürmekte ısrar etme  
E) Partisinin temelli kapatılmasına, beyan ve eylemleriyle sebep olma

*Diğer sayfaya geçiniz.*

54. Aşağıdakilerden hangisi 1982 Anayasası'nda değiştirilemez ve değiştirilmesi teklif edilemez hükümler arasında yer almaz?

- A) Türkiye Devleti'nin başkenti Ankara'dır.
- B) Yasama yetkisi Türk Milleti adına Türkiye Büyük Millet Meclisinindir.
- C) Türkiye Devleti'nin millî marşı İstiklal Marşı'dır.
- D) Türkiye Cumhuriyeti insan haklarına saygılıdır.
- E) Türkiye Cumhuriyeti Atatürk milliyetçiliğine bağlıdır.

56. Tüzüklerin yargısal denetimini yapma konusunda aşağıdakilerden hangisi görevlidir?

- A) İdare mahkemesi
- B) Bölge idare mahkemesi
- C) Askerî Yüksek İdare Mahkemesi
- D) Danıştay
- E) Sayıştay

55. Aşağıda eşleştirilenlerin hangisinde bir hiyerarşi ilişkisi söz konusu olamaz?

- A) Bakan – Müsteşar
- B) Rektör – Dekan
- C) Vali – Kaymakam
- D) Kaymakam – İlçe millî eğitim müdürü
- E) Yükseköğretim Kurulu Başkanı – Rektör

57. Aşağıdakilerden hangisi belediye tüzel kişiliğinin çıkarabileceği düzenleyici işlemlerden biri değildir?

- A) Tüzük
- B) Yönetmelik
- C) İmar planı
- D) Tebliğ
- E) Genelge

*Diğer sayfaya geçiniz.*

58. Aşağıdakilerden hangisi Bankacılık Düzenleme ve Denetleme Kurumunun görevleri arasında yer almaz?

- A) Finansal piyasalarda güven ve istikrarı sağlamak
- B) Finansal sisteme rekabet gücü kazandırıcı ortamı hazırlamak
- C) Fiyat istikrarını sağlamak için uygulanacak para politikasını belirlemek
- D) Kredi sisteminin etkin bir şekilde çalışmasını temin etmek
- E) Tasarruf sahiplerinin hak ve menfaatlerini korumak

60. Aşağıdaki ülkelerin hangisinde 4 Ekim 2010 tarihinde bir alüminyum fabrikasından zehirli atık yayılması sonucu büyük bir çevre felaketi yaşanmıştır?

- A) Rusya
- B) Polonya
- C) Ukrayna
- D) Bulgaristan
- E) Macaristan

59. Aşağıdaki ülkelerden hangisi başkanlık sistemi ile yönetilmektedir?

- A) ABD
- B) Almanya
- C) İngiltere
- D) Yunanistan
- E) Japonya

**TEST BİTTİ.**

**CEVAPLARINIZI KONTROL EDİNİZ.**

# SINAVDA UYULACAK KURALLAR

## 1. Cep telefonu ile sınava girmek kesinlikle yasaktır.

Çağrı cihazı, telsiz, fotoğraf makinesi vb. araçlarla; cep bilgisayar, saat her türlü bilgisayar özelliği bulunan cihazlarla; silah ve benzeri teçhizatla; müsvedde kâğıdı, defter, kitap, sözlük, sözlük işlevi olan elektronik aygıt, hesap cetveli, hesap makinesi, pergel, açölçer, cetvel vb. araçlarla da sınava girmek kesinlikle yasaktır. Bu araçlarla sınava girmiş adaylar mutlaka Salon Sınav Tutanağına yazılacak, bu adayların sınavı geçersiz sayılacaktır. **Sınava kalem, silgi, kalemtırış, saat vb. araçla girmek yasaktır. Kulaklık, küpe, broş vb. takı, herhangi bir metal eşya ile girmek de kesinlikle yasaktır. Yiyecek, içecek vb. tüketim malzemeleri de sınava getirilemez.**

## 2. Bu sınavda verilen toplam cevaplama süresi **120 dakikadır**. Sınav başladıktan sonra **ilk 90** ve **son 15** dakika içinde adayın sınavdan çıkmasına kesinlikle izin verilmeyecektir.

## 3. Sınav evrakını teslim ederek salonu terk eden aday, her ne sebeple olursa olsun tekrar sınava alınmayacaktır.

## 4. Cevaplamayı süre bitmeden tamamlarsanız, cevap kâğıdınızı ve soru kitapçığınızı salon görevlilerine teslim ederek salonu terk edebilirsiniz. Sınav süresinin bittiği ilan edildiğinde cevap kâğıtları ve soru kitapçıkları salon görevlileri tarafından toplanıncaya kadar yerlerinizde kalınız.

## 5. Sınav süresince görevlilerle konuşmak, görevlilere soru sormak yasaktır. Aynı şekilde görevlilerin de adaylarla yakından ve alçak sesle konuşmaları; ayrıca, adayların birbirinden kalem, silgi vb. şeyleri istemeleri kesinlikle yasaktır.

## 6. Sınav sırasında, görevlilerin her türlü uyarılarına uymak zorundasınız. Sınavınızın geçerli sayılması, her şeyden önce sınav kurallarına uyanınıza bağlıdır. Kurallara aykırı davranışta bulunanların ve yapılacak uyarılara uymayanların kimlik bilgileri tutanağa yazılacak ve sınavları geçersiz sayılacaktır.

## 7. Sınav sırasında kopya çeken, çekmeye kalkışan, kopya veren, kopya çekilmesine yardım edenlerin kimlik bilgileri Salon Sınav Tutanağına yazılacak ve bu adayların sınavları geçersiz sayılacaktır. Görevliler kopya çekmeye veya vermeye kalkışanları uyarmak zorunda değildir, sorumluluk size aittir.

Adayların test sorularına verdikleri cevapların dağılımları bilgi işlem yöntemleriyle incelenecek; bu incelemelerden elde edilen bulgular bireysel veya toplu olarak kopya çekildiğini gösterirse, kopya eylemine katılan adayın/adayların cevaplarının bir kısmı veya tamamı iptal edilecektir. Cevap kâğıdınızı başkaları tarafından görülmeyecek şekilde tutmanız gerekmektedir.

Sınav görevlileri bir salondaki sınavın, kurallara uygun biçimde yapılmadığını, toplu kopya girişiminde bulunulduğunu raporlarında bildirdiği takdirde, ÖSYM takdir hakkını kullanarak bu salonda sınava giren tüm adayların sınavını geçersiz sayabilir.

## 8. Cevap kâğıdına yazılacak her türlü yazıda ve yapılacak bütün işaretlemelerde kurşun kalem kullanılacaktır. Sınav süresi bittiğinde cevapların cevap kâğıdına işaretlenmiş olması gerekir. Soru kitapçığına işaretlenen cevaplar geçerli değildir.

## 9. Soru kitapçığınızı alır almaz, sayfaların eksik olup olmadığını, kitapçıkta basım hatalarının bulunup bulunmadığını kontrol ediniz. Soru kitapçığının sayfası eksik veya basım hatalı ise değiştirilmesi için derhâl Salon Başkanına başvurunuz. Soru kitapçığının üzerindeki açıklamaları dikkatle okumadan cevaplama işlemine geçmeyiniz.

## 10. Cevaplamaya geçmeden önce size verilecek soru kitapçığının üzerinde ayrılan yere adınızı, soyadınızı, T.C. Kimlik Numaranızı ve bu salonun Salon Numarasını yazınız. Sınav sonunda soru kitapçıkları toplanacak ve ÖSYM'de tek tek incelenecektir. Soru kitapçığının bir sayfası bile eksik çıkarsa sınavınız geçersiz sayılacaktır. Cevap kâğıdına ve soru kitapçığına yazılması ve işaretlenmesi gereken bilgilerde bir eksiklik ve/veya yanlışlık olması hâlinde sınavınızın değerlendirilmesi mümkün olamamaktadır. Tarafınızdan yazılması ve işaretlenmesi gereken bu bilgilerde eksiklik ve/veya yanlışlık olması hâlinde durumunuz Salon Sınav Tutanağında belirtilecektir.

## 11. Soru kitapçığının sayfalarındaki boş yerleri müsvedde için kullanabilirsiniz.

## 12. Soruları ve/veya bu sorulara verdiğiniz cevapları ayrı bir kâğıda yazıp bu kâğıdı dışarı çıkarmanız kesinlikle yasaktır.

## 13. Sınav salonundan ayrılmadan önce, soru kitapçığınızı, cevap kâğıdınızı ve bu oturuma ait **2010-KPSS ÖN LİSANS** Sınav Giriş ve Kimlik Belgenizi salon görevlilerine teslim etmeyi unutmayınız.

# KAMU PERSONEL SEÇME SINAVI (ÖN LİSANS)

28 KASIM 2010

## GENEL YETENEK TESTİ

### A KİTAPÇIĞI

- |       |       |       |
|-------|-------|-------|
| 1. A  | 21. E | 41. A |
| 2. D  | 22. B | 42. C |
| 3. E  | 23. A | 43. D |
| 4. B  | 24. C | 44. C |
| 5. A  | 25. B | 45. E |
| 6. C  | 26. D | 46. B |
| 7. B  | 27. A | 47. A |
| 8. C  | 28. E | 48. A |
| 9. B  | 29. B | 49. B |
| 10. A | 30. C | 50. C |
| 11. B | 31. C | 51. D |
| 12. B | 32. D | 52. A |
| 13. E | 33. C | 53. E |
| 14. B | 34. E | 54. A |
| 15. A | 35. E | 55. E |
| 16. B | 36. A | 56. D |
| 17. E | 37. D | 57. B |
| 18. D | 38. B | 58. D |
| 19. A | 39. A | 59. B |
| 20. C | 40. D | 60. B |

# KAMU PERSONEL SEÇME SINAVI (ÖN LİSANS)

28 KASIM 2010

## GENEL KÜLTÜR TESTİ

### A KİTAPÇIĞI

- |       |       |       |
|-------|-------|-------|
| 1. A  | 21. C | 41. B |
| 2. D  | 22. E | 42. C |
| 3. B  | 23. B | 43. D |
| 4. C  | 24. D | 44. E |
| 5. B  | 25. C | 45. B |
| 6. A  | 26. D | 46. A |
| 7. C  | 27. B | 47. C |
| 8. E  | 28. D | 48. C |
| 9. C  | 29. A | 49. E |
| 10. D | 30. D | 50. D |
| 11. B | 31. E | 51. B |
| 12. D | 32. A | 52. C |
| 13. E | 33. C | 53. E |
| 14. E | 34. A | 54. B |
| 15. B | 35. D | 55. E |
| 16. C | 36. E | 56. D |
| 17. E | 37. D | 57. A |
| 18. E | 38. B | 58. C |
| 19. C | 39. E | 59. A |
| 20. A | 40. B | 60. E |