



T.C. Ölçme, Seçme ve Yerleştirme Merkezi

**JANDARMA OKULLAR KOMUTANLIĞI
JANDARMA ASTSUBAY TEMEL KURSU
GİRİŞ SINAVI
(JANA)**

6 NİSAN 2013 CUMARTESİ

Bu testlerin her hakkı saklıdır. Hangi amaçla olursa olsun, testlerin tamamının veya bir kısmının Merkezimizin yazılı izni olmadan kopya edilmesi, fotoğrafının çekilmesi, herhangi bir yolla çoğaltılması, yayımlanması ya da kullanılması yasaktır. Bu yasağa uymayanlar gerekli cezai sorumluluğu ve testlerin hazırlanmasındaki mali külfeti peşinen kabullenmiş sayılır.

AÇIKLAMA

1. Bu test için verilen toplam cevaplama süresi **120 dakikadır (2 saat)**.
2. Testteki her sorunun sadece bir doğru cevabı vardır. Bir soru için birden çok cevap yeri işaretlenmişse o soru yanlış cevaplanmış sayılacaktır.
3. Cevaplamaya istediğiniz sorudan başlayabilirsiniz. Bir soru ile ilgili cevabınızı, cevap kâğıdında o soru için ayrılmış olan yere işaretlemeyi unutmayınız.
4. İşaretlediğiniz bir cevabı değiştirmek istediğinizde, silme işlemini çok iyi yapmanız gerektiğini unutmayınız.
5. **Bu test puanlanırken doğru cevaplarınızın sayısından yanlış cevaplarınızın sayısının dörtte biri düşülecek ve kalan sayı testle ilgili ham puanınız olacaktır.**
6. Sınavda uyulacak diğer kurallar bu kitapçığın arka kapağında belirtilmiştir.

Bu testte 100 soru vardır.

1. Mavi yolculuk demek, bol balık demektir ve (I) her yolculukta bu hayal yenilenir. Ne yazık ki bol balıklı yolculuklar azdır ve (II) rastlantılara bağlıdır. Gün boyunca teknenin ardında salınan oltaya ve (III) geceleri çevreye konan sepetlere balık ve (IV) istakoz gelmesi ve (V) bir iki ahtapotun yakalanması her zaman mümkün olmaz.

Bu parçadaki numaralandırılmış "ve" sözcüklerinden hangisinin yerine "ya da" sözcüğünün kullanılması anlamda bir değişikliğe yol açar?

- A) I. B) II. C) III. D) IV. E) V.

2.

- I. Buraya ne zaman gelsem bir tanıdıkla karşılaşıyorum.
 II. Her karşılaştığımızda bana seni soruyor.
 III. Çocuklarla hangi gün okul alışverişine çıkacağımızı biliyor musun?
 IV. Herkes sorunu çözmek için uğraşiyor.
 V. Bütün işlerini bir yana bırakıp yardımımıza koşmadı mı?

Yukarıdaki numaralanmış cümlelerin hangisinde altı çizili sözler aynı anlamda kullanılmıştır?

- A) I. ve II. B) I. ve III. C) II. ve III.
 D) II. ve IV. E) II. ve V.

3. Avrupa uygarlığı düzeyine yükselmek için o toplumların düşünce yapısını değil, yalnızca teknik gelişmelerini örnek almakla yetinen uluslar, ancak yüzeysel olarak onlara yaklaşabilirler. Avrupa'nın gerçek değerini oluşturan düşüncenin temel alındığı bir uygarlığa bu yolla ulaşılabileceğini sanmıyorum.

Bu parçada geçen "yüzeysel olarak" sözüyle anlatılmak istenen aşağıdakilerden hangisidir?

- A) Beklentilerle çatışma
 B) Yalnızca modernizme hizmet etme
 C) Gelişmelere karşı çıkma
 D) Yaşamın her alanında etkili olamama
 E) Teknik açıdan taklitle yetinme

4. 1993 yılında Eğirdir Belediyesi tarafından restore edilen Eğirdir Evi, günlük hayat, gelenekler ve sivil mimariden izler taşıyor. Tek katlı, avlulu, kâgir ve ahşap karışımı ev, Eğirdir'in geçmişine bir kapı aralıyor. Yeşilada'da bulunan Ayastefanos Kilisesi de Eğirdir'de görülecek tarihî eserler arasında bulunuyor.

Bu parçada geçen "geçmişine bir kapı aralama" sözüyle anlatılmak istenen aşağıdakilerden hangisidir?

- A) Eski evlerin buldukları mekânın yaşam ve geleneklerini anlatması
 B) Eski binaları restore ederek tarihi koruma
 C) Eski dönemlerle ilgili bilgi verme
 D) Tarihî eserleri koruyarak geçmişe saygı duyma
 E) Geçmişteki hayata özlem duyma

5. (I) Nâzım Hikmet yeni bir şairdir, çünkü Cumhuriyet gibi tam anlamıyla bir kopuşu temsil etmektedir. (II) Cumhuriyetin şairidir, onun ürünüdür. (III) Nâzım Hikmet, Divan ve Halk şiirlerinin çizgisinden ayrılmış, çağdaş evrensel şiire açılmıştır. (IV) Bu açılma Tanzimat şairlerindeki artık eskimiş olan açılıma benzemez. (V) Şair, alabildiğine geniş insani ve toplumsal sorunlara değinmiş ve geçmişe bugünden bakabilmiştir.

Bu parçadaki numaralanmış cümlelerin hangisi, şairin şiirlerinin içeriğiyle ilgilidir?

- A) I. B) II. C) III. D) IV. E) V.

6. Edebiyat, denizin öte yakasındaki kara parçasını göstermek yerine, okuru, orayı hayal etmeye yönlendirerek onun iç dünyasını zenginleştirir.

Bu cümleye göre, edebiyatın okura yönelik işlevleri arasında aşağıdakilerden hangisi vardır?

- A) Başkalarını anlamayı sağlama
B) Düş gücünü geliştirme
C) Okuma isteği uyandırma
D) Yeni yerler tanıtmaya
E) Yaşam koşullarını değiştirme

7. (I) Güneşin gökyüzüne gülümsediği bir bahar sabahı, Ovacık'tan Ölüdeniz'e inen yolun üzerindeyiz. (II) Bizi tarihle buluşturacak olan kırmızı-beyaz işaretlerin peşine düşüyoruz. (III) Yüzyıllardır dağ köylülerinin Fethiye'ye inmek için kullandıkları taş döşeli daracık yolda ilerliyoruz. (IV) Ölüdeniz'in kartpostallara yansıyan güzelliğiyle Gemiler Adası ve bir gölü andıran Fethiye Körfezi... (V) Havada süzülen yamaç paraşütçülerine bakarak yolumuza devam ediyoruz. (VI) Arkadaşlarımızdan biri ağaca tırmanıp bize muşmula ziyafeti çekerken önümüzdeki uçurumun kenarında vahşi doğasıyla Kelebekler Vadisi beliriyor.

Bu parçadaki numaralanmış cümlelerin hangisinde kişileştirme söz konusudur?

- A) I. B) II. C) III. D) IV. E) V.

8. Bir ağaçta gül de biter diken de.

Aşağıdaki atasözlerinden hangisi bu atasözüne anlamca en yakındır?

- A) Bir baş soğan bir kazanı kokutur.
B) Bir çiçekle yaz olmaz.
C) Boş başak dik durur.
D) Beş parmağın beşi bir olmaz.
E) Baş olan boş olmaz.

9. (I) Halk buraya "Eflâton Pınarı" da diyor. (II) Ama ünlü filozof Eflâton'la bir ilgisi yok. (III) Çünkü tarihi, ondan yaklaşık bin yıl önceye yani MÖ 1300'lü yıllara dayanıyor. (IV) Nedense halk bu adı vermiş. (V) Geç Hitit Dönemi'nden kalma höyüğün içinde, bir anıt bulunuyor. (VI) Pınara doğru bakan görkemli anıt, 7 m eni ve 4 m boyuyla bile, görenleri büyülemeye yetiyor. (VII) Anadolu'da saklı kalmış pek çok hazine gibi derinlemesine araştırılacağı günleri sabırla bekliyor.

Bu parçadaki numaralanmış cümlelerle ilgili olarak aşağıda verilenlerden hangisi yanlıştır?

- A) II. cümlede, ilk cümleyle ilgili bir açıklama yapılmıştır.
 B) III. cümlede, önceki cümlede belirtilenin nedeni açıklanmıştır.
 C) IV. cümlede, ilk cümledeki özel adın niçin konduğunun bilinmediği dile getirilmiştir.
 D) VI. cümlede, betimlenen anıtın etki gücü üzerinde durulmuştur.
 E) VII. cümlede, kimi eserlerin bakımsızlıktan yıprandığı belirtilmiştir.

10. (I) Gönen'in, kendisi küçük ama kaplıcalar konusunda şöhreti büyük. (II) Yer altından 73°C sıcaklıkta fışkırıyor su. (III) Havuzlara alınarak ilitildikten sonra kaplıcalarda kullanıma sunuluyor. (IV) Aralarında romatizma, kalp ve dolaşım sorunlarının da bulunduğu birçok sağlık problemine iyi geldiği söyleniyor. (V) Gönen'deki üç büyük kaplıca oteli, merkezdeki parkın çevresinde toplanmış.

Gönen ve kaplıcaların anlatıldığı bu parçadaki numaralanmış cümlelerle ilgili olarak aşağıda verilenlerden hangisi yanlıştır?

- A) I. cümlede, hangi konuda öne çıktığı dile getirilmiştir.
 B) II. cümlede, benzerlerinden ayrılan yönü belirtilmiştir.
 C) III. cümlede, suyunun nasıl bir işlemde geçirildiği açıklanmıştır.
 D) IV. cümlede, hangi hastalıkların tedavisinde yararlandığı anlatılmıştır.
 E) V. cümlede, kalınacak yerlerin bulunduğu bölgeyle ilgili bilgi verilmiştir.

11. (I) Sapanca Gölü ve çevresi; küçük kent merkezi, bu mevsimde iyice tenhalaşmış görünüşüyle çok çekici. (II) Çevrede yapılacak çok şey var. (III) Uzunluğu 16 km olan Sapanca Gölü'nün en geniş yeri 5,5 km, yüz ölçümü ise 55 km² yani gözümüzde canlandırmaya çalışınca oldukça büyük bir alanı kaplıyor. (IV) Sonbahar, su seviyesinin en düşük olduğu dönem. (V) Burada bir şeyi daha belirtmek istiyorum: Sapanca'ya her gidişimde göle ulaşmamak gibi bir sıkıntı yaşıyorum; merkez, gölden ayrı bir yerde; nedense göl, hayata katılamamış. (VI) Çevre çiçeklendirilse, banklar konulsa, yöre halkının yardımıyla temizlense İtalya'nın ünlü göllerinden bile daha çekici olur.

Sapanca Gölü ve çevresinin anlatıldığı bu parçadaki numaralanmış cümlelerle ilgili olarak aşağıda verilenlerden hangisi yanlıştır?

- A) I. cümlede, zamana bağlı olarak görülen değişiklik dile getirilmiştir.
 B) II. cümlede, doğal güzellikler yönünden zengin olduğu anlatılmıştır.
 C) III. cümlede, sayısal veriyle belirtilen özelliklerle ilgili öznel görüş dile getirilmiştir.
 D) V. cümlede, bir soruna ilişkin açıklamaya yer verilmiştir.
 E) VI. cümlede, bir öneri, sonuçlarıyla birlikte belirtilmiştir.

12. Günün erken saatlerinde bütün ilçe hareketlenmişti. Gençler (I) Halkevi'ni mersinlerle (II) defnelerle süslemiş (III) çocuklar (IV) ellerinde kâğıt bayraklarla yollara dökülmüşlerdi. Bir şenlik havası (V) bir mutluluk ki görmeyin!

Bu parçadaki numaralanmış yerlerden hangisine diğerlerinden farklı bir noktalama işareti getirilmiştir?

- A) I. B) II. C) III. D) IV. E) V.

13. Milas İlçesinin merkezindeki en önemli antik kalıntı,
I II
Gümüşkesen Mezar Anıtı'dır.
- Dünyanın Yedi Harikası'ndan biri olan Halikarnassos
III
Mausoleumu'nun Romalılar zamanındaki bir kopyasıdır.
IV
Baltalı Kapı ise ilçenin o dönemdeki kuzey kapısıdır.
V

Bu parçadaki numaralanmış sözlerden hangisinin yazımı yanlıştır?

- A) I. B) II. C) III. D) IV. E) V.

14. (I) TÜYAP Kitap Fuarı'nda, kalabalığa aldirmeden salonun ortasında durdum, kitap imzalayanlara baktım. (II) Kimisi işin heyecanını çoktan atmış üzerinden, önüne konan kitapları seri biçimde imzalıyor. (III) Kimisi okurlarının yüzüne bakıyor, onlara gülücükler dağıtıyor. (IV) Kimisi de gözlüğünün ardından bakarak hep uzaklara dalıyor. (V) Kimisiyse kitabının adından ötürü fotoğraf albümü sanan genç okurlarına sinirleniyor.

Bu parçadaki numaralanmış cümlelerin hangisinde bir anlatım bozukluğu vardır?

- A) V. B) IV. C) III. D) II. E) I.

15. Eğitimci olarak bizim bu sorunları bilmeli ve bunlara uygun çözümler ortaya koymamız gerekir.

Bu cümledeki anlatım bozukluğu aşağıdakilerden hangisiyle giderilebilir?

- A) "ortaya koymamız" yerine "ortaya koyulması" sözü getirilerek
B) "sorunları bilmeli" yerine "sorunların bilinmesi" sözü getirilerek
C) "koymamız" yerine "çıkarmamız" sözcüğü getirilerek
D) "bilmeli" yerine "bilmemiz" sözcüğü getirilerek
E) "bizim" yerine "bizlerin" sözcüğü getirilerek

16. (I) Dünya nüfusunun artış hızı ve yaşanan ekonomik gelişmeler dikkate alındığında toplumların sağlıklı, yeterli ve dengeli beslenme ihtiyaçları her geçen gün daha büyük anlam kazanıyor. (II) Ülkeler ileriye dönük stratejilerini, güçlü ve sağlıklı bir toplum üzerine kuruyor. (III) Bu durumda, ülke olarak bizim de gıda üretim potansiyelimizi bilim ve teknoloji yardımıyla iyi kullanmamız gerekiyor. (IV) Bu kapsamda, üstün beslenme özelliklerine sahip süt ve süt ürünleri, ülkemiz gibi genç ve hareketli nüfusun fazla olduğu toplumlarda hayli önemli bir yer tutuyor. (V) Doğada yalnızca sütte bulunan laktoz, beslenme fizyolojisi açısından da hayli önemlidir ve mutlaka düzenli olarak alınması gerekir.

Bu parçadaki numaralanmış cümlelerden hangisi, düşünceyi bozmaktadır?

- A) I. B) II. C) III. D) IV. E) V.

17. (I) Kentin doğusunda yer alan küçük balıkçı teknelerinin barınağı durumundaki Fosa Körfezi'nin sonunda yer alan Kara Kapısı'nın üstündeki aslan heykeli, Venedik sembollerinin en iyi örneklerinden. (II) Kentin ortası sayılabilecek geniş alanda Roma döneminden kalma forum alanı, üzerindeki eski eserlerle, âdeta açık hava müzesi. (III) Kentin en eski parkı da Beş Kuyular Meydanı denilen bu alanda bulunuyor. (IV) Yüksek doğu duvarlarının ardından başlayan kent, batıya doğru uzanan sokaklar ve meydanlarla bezenmiş. (V) Kapıdan kente girildiğinde sağda kalan meydanda büyükçe beş kuyu yer alıyor.

Bu parçada numaralanmış cümlelerden hangileri yer değiştirirse paragrafın anlam bütünlüğü sağlanmış olur?

- A) I. ve V. B) II. ve III. C) II. ve V.
D) III. ve IV. E) III. ve V.

18. (I) Ünlü bir kişiyle kısa ya da uzun süren bir arkadaşlığınız olduğunu düşünelim. (II) Size uzun mektuplar yazdı, birlikte fotoğraflar çektirdiniz; bu ne anlama gelir? (III) Siz şimdi o kişinin iç evrenini gereği gibi anlayıp onu her yönüyle tanıdınız mı? (IV) Sanatçılar; bir günü bir gününe benzemeyen, duygulu, tutkulu, coşkulu insanlardır. (V) An gelir öfkelenir, en sevdiği insanı yerin dibine batırır; birkaç gün geçmeden aynı kişiyi göklere yükseltirler! (VI) Ayrıca sanatçı, sözler uçar gider ama mektuplar kalır ellerde ve bir gün bu mektubu yayımlar diye düşünmez. (VII) Bu yüzden ben de sanatçıların, ölümünden sonra mektupları yayımlanarak, eski defterleri karıştırılarak özel yaşamının irdelenmesinden hiç hoşlanmam.

Bu parça iki paragrafa ayrılmak istense ikinci paragraf hangi cümleyle başlar?

- A) II. B) III. C) IV. D) V. E) VI.

19. İlk geldiğimde duygularımın örselendiğini hissetmiştim. Kent, aslında derin kederini sezdirmeden duruyordu karşımda. Hangi sokağa girsem, hangi çarşıdan geçsem, nerede soluk alıp oturuyorsam hayatın gürül gürül aktığını görüyordum görmesine ama kentte izi kalan savaşın soğuk yüzünü hissetmemek olanaksızdı.

Bu parçanın anlatımında aşağıdakilerden hangisi yoktur?

- A) Benzetmeye başvurma
B) İkilemelere yer verme
C) Varlıklara insana özgü nitelikler yükleme
D) Örneklerden yararlanma
E) Öznellik

20. Yusuf Atılgan'ın o harikulade romanı *Aylak Adam*'in kahramanı, bir gün sinema çıkışı kalabalığının arasına karıştığında kendini sanki biraz önce sinemadaki adam değilmiş gibi hisseder. Sonra şöyle düşünür: "Çağımızda geçmiş yüzyılların bilmediği, kısa ömürlü bir yaratık yaşıyor: Sinemadan çıkmış insan. Gördüğü film ona bir şeyler yapmış, onu değiştirmiştir. Salt çıkarını düşünen kişi değildir artık. İnsanlarla barışıktır. Ama ömrü kısadır, beş on dakika sonra ölecektir. Çünkü sokak sinemadan çıkmayanlarla dolu; asık suratları, kayıtsızlıkları, sinsî yürüyüşleriyle onu aralarına alıp eritecekler." Öyleyse ne yapmalı? "Bunları kurtarmanın yolunu biliyorum. Kocaman sinemalar yapmalı, Dünya'da yaşayan tüm insanları doldurmalı buralara. Sonra da izlenebilecek en iyi filmlere bakıp hep birden sokağa çıksınlar."

Bu parçanın anlatımıyla ilgili olarak aşağıdakilerin hangisi söylenemez?

- A) Özel adlara yer verilmiştir.
B) Birden çok duyuya seslenilmiştir.
C) Abartmaya başvurulmuştur.
D) Karşılaştırma yapılmıştır.
E) Değişik cümle türleri kullanılmıştır.

21. "Bir kitap başımıza inen bir darbe gibi bizi sarsmıyorsa neden zahmet edip okuyalım ki onu?" der Kafka. Ben de kitapları buna göre seçerim. Başkalarınınkinden farklı şeyler söylüyorsa okurum bir kitabı. Birbirinin kopyası niteliğinde olup da reklamlarla abartılmış kitapları okumam. En çok kaçtığım ise reklamını kendi yapan yazarların kitapları. Yazar elbette eserinden para kazanmak isteyecektir fakat yazar olarak kalmakla yetinmeyip reklamcılığa da soyunanlara yazar gözüyle bakmakta zorlanıyorum.

Bu sözleri söyleyen kişi, aşağıdakilerden hangisiyle nitelendirilebilir?

- A) Duygusal içerikli kitapları önemseyen
- B) Kitabın görünüşüyle de ilgilenen
- C) Pek tanınmamış yazarları yeğlemeyen
- D) Kitap seçimini tanıtım yazılarına göre yapmayan
- E) Yazar seçiminde nesnel ölçütler kullanan

22. Ne olursa olsun bunlar karavanın verdiği keyfin, sağladığı avantajlarının önüne geçemez. En önemli dezavantajı otoban ücretleri, riski ise güvenlik. Bazı ülkelerde hırsızlık daha fazla. Geziye çıkmadan, *İnternet*'te karavancılardan önerilerini okumuştum. Bu nedenle tedbirli olmaya çalıştık. Yine de kamping yerine otoyoldaki parka bırakınca karavanımıza hırsız girdi. Bir dizüstü bilgisayar ve hediyelikler çalındı. Para ve pasaportlar yanımdaydı neyse ki. Polis rapor tuttu, zararımızın bir kısmını sigortadan aldık. Yine de Barcelona'dan Lizbon'a kırık pencereyle gitmek zorunda kaldık. Çünkü yedek parça her yerde bulunmuyor. Avrupa'da karavan kültürü çok gelişmiş. Şehirlerin yakınında; su, elektrik, merkeze metro ulaşımı sağlanan uygun fiyatlı pek çok kamping var.

Bu sözler, aşağıdakilerden hangisine karşılık olarak söylenmiş olabilir?

- A) Yurt dışında karavanla tatil yapmanın zorlukları, riskleri yok mu?
- B) Gezinizi nasıl planladınız?
- C) Ne kadar zamandır karavanla tatil yapıyorsunuz, neden onu tercih ediyorsunuz?
- D) Bugüne kadar yurt dışında karavanla nereleri gezdiniz?
- E) Karavanla yolculuklarınız sırasında size en ilginç gelen neydi?

23. İlk romanların çok önemli olduğunu düşünmüyorum. İlk romanı yazmanız için bir sürü nedeniniz olabilir. Bir heves olabilir, çok hikâye biriktirmiş olabilirsiniz, ilk romanla şöhret olacağınızı düşünmüş olabilirsiniz veya başarısız olmayı göze almış olabilirsiniz. Ama ikinci romanı yazmak için çok daha haklı bir nedeniniz olmalı. Benim geçerli nedenimse hayatımın merkezine koyduğum mesele olan romancılık. Bu yüzden ikinci romanım, romancılıktaki kararlılığımın bir göstergesi.

Bu parçada anlatılanlar, aşağıdakilerden hangisine karşılık olarak söylenmiş olabilir?

- A) İkinci romanınız sizin için ne anlama gelmektedir?
- B) Son eserinizle daha çok okura ulaşmayı başardınız mı?
- C) Şairlik yerine yazarlığı tercih ettiğinizin göstergesi ikinci romanınız mı?
- D) Bütün romanlarınızda aynı tezi savunmak okura sıkıcı gelmez mi?
- E) İlk romanınızın ikinci romanınız kadar ilgi görmemesini neye bağlıyorsunuz?

24. Ergenlik çağındaki gençlerde bağımsızlık sinyalleri; kıyafet ve saç şeklini değiştirme, çeşitli takılar kullanma şeklinde kendini gösterir. Onlar, anne babalarından farklı görünmek; "Bu, benim." tavrıyla ayrı birey olarak kabul edilmek isterler. Bu tutumu reddedilme olarak algılayan anne babalar, oluşabilecek her türlü değişimi engelleme savaşı vermeye başlarlar, bütün bunların yol açacağı olumsuzlukların korkusunu yaşarlar.

Bu parçanın ana düşüncesi, aşağıdakilerin hangisinde doğru olarak verilmiştir?

- A) Gençler, bazı özelliklerini anne babalarını örnek alarak benimserler.
- B) Çocuklarının ergenlik dönemleri, anne babalar açısından en zor yıllardır.
- C) Gençlerin belli bir dönemdeki farklı tutum ve davranışları, anne babaları tarafından yanlış anlaşılıp engellenmeye çalışılır.
- D) Çoğu anne baba, çocuklarındaki davranış farklılıklarının sebeplerini araştırır ve ona göre tutum belirler.
- E) Gençler, doğumlarından başlayarak anne babalarına duygusal bağlılıklarını sürdürürler.

25. Mallarme bir dönem, şiirine kendi düşündüğünün dışında anlamlar verenlere yanıtlar göndererek onları ille de kendi düşündüğü anlama hapsedmek istemiştir. Ama sonradan buna çok üzülmüştür. Çünkü içeriğinden birden çok anlamın çıkarılabileceği eserler, hemen anlaşılmayan eserlerdir çoğunlukla. Bir şiirin, şairin yansıtmak istediği anlamın dışına uzanması da çok anlamlı olması demektir. Kapalılığın, çeşitli sakıncalarına karşın, esere kattığı anlam zenginliği çok önemlidir. Çünkü açık bir anlatımın şiire neler getirdiğini, şiirden neler götürdüğünü biliyoruz.

Bu parçada aşağıdaki düşüncelerden hangisi vurgulanmaktadır?

- A) Derin anlamlar taşıyan şiirlerden, herkes kendine göre bir anlam çıkarmayı başaramaz.
- B) Şiirler, okuyanın kendince anlayabileceği ve yorumlayabileceği nitelikte olmalıdır.
- C) Şiir, çağın beğenilerine uyduğu sürece ayakta kalabilir.
- D) Kimi şiirlerin gerçek anlamını ancak şairleri bilir.
- E) Anlamca çok kolay veya çok zor anlaşılabilir şiirler tartışma yaratır.

26. Yabancı bir edebiyat eserini elimize aldığımızda yaptığımız ilk iş, arka kapağındaki yazıyı okumak, belki birkaç sayfasına göz atmaktır. Yazarı da tanıyorsak sorun yoktur; kitabı alırız. O eserin matbaadan çıkıp bizim kütüphanemize gelmeden önce, en az yazarı kadar üzerinde emeği olan biri vardır ki o da çevirmen. Ama bizde yabancı bir eseri alırken kimin çevirdiğine pek bakılmaz. Bakanlar ve kimin çevirdiğine önem verenler de bir elin parmaklarını geçmez. Çevirmenler bu yüzden birer gizli kahramandırlar.

Bu parçada çevirmenlerle ilgili olarak aşağıdakilerin hangisinden yakınılmaktadır?

- A) Geri planda kalmayı yeğlediklerinden
- B) Eserin yazarı kadar önemsenmediklerinden
- C) Sanatsal değer taşımayan eserlere ağırlık vermelerinden
- D) Çevirilere kendi yorumlarını katmamalarından
- E) Kimi yazarlara gereken ilgiyi göstermemelerinden

27. Daha ilkokul sıralarındayken yazar, daha doğrusu ozan olmayı düşlerdim. Şiir yazan bir ağabeyim vardı; annem, zaman zaman büyük üzüntülerini doğaçlama şiirler söyleyerek dile getirirdi. Ben de şiir yazardım; ilkokulda, kasabada oldukça ünlüydim. Çok da okurdum belli sınırlar içine sıkışıp kalmadan Karacaoğlan'dan Orhan Veli'ye kadar. Sonra İstanbul'a Galatasaray Lisesi'ne geldim 1945 yılında. Burada edebiyat öğretmenim şiirlerimi oldukça başarılı buldu ama düzyazı yazmamı salık verdi. Bugün, onun öğüdünü tutup düzyazıya yönelmekle doğru bir şey yaptığımı düşünüyorum.

Bu sözleri söyleyen kişi için aşağıdakilerden hangisi söylenemez?

- A) Pek çok şairin eserlerini tanıma olanağı bulmuştur.
- B) Başkalarının önerilerini dikkate almıştır.
- C) Edebiyata yatkınlığında yakın çevresindekilerin etkisi olmuştur.
- D) Bazı seçimlerinden dolayı pişmanlık duymamıştır.
- E) Yaşadığı ortamın değişmesi düş evrenini zenginleştirmiştir.

28. Gerek dergi çıkaran edebiyat tutkunları gerek ürünleriyle dergilere katkıda bulunan yazarlar ve dergileri yaşatan okurlar; şairliğin yanı sıra dergiciliğiyle de edebiyat dünyamızda derin izler bırakmış olan Cemal Süreya'nın şu saptamasının doğruluğunu kabul etmişlerdir: "Edebiyatın nabızı dergilerde atar." Bu cümle, aynı zamanda edebiyat dergilerinin varoluş nedenini ortaya koyar. Her dergi, kendi yayın politikasına, edebiyat anlayışına, amaçlarına göre, edebiyat temeli üzerinde yükselen farklı yapılar inşa eder. Okur olarak bunların içinden beğenimize, düşüncelerimize uygun düşeni benimser, onun yeni sayılarını dört gözle bekleriz; ötekilerden ise uzak dururuz. Okurun seçim yapma hakkı saklı kalmak koşuluyla dergiler, dikkatli gözler için gerçekten de edebiyatın laboratuvarıdır.

Bu parçada edebiyat dergileriyle ilgili olarak aşağıdakilerin hangisinden söz edilmemiştir?

- A) Yayımlanacak ürünlerin belli bir bakış açısına göre seçildiğinden
- B) Nasıl bir işlevinin olduğundan
- C) Okuyucunun beklentilerine göre şekillendiğinden
- D) Okurları heyecanlandırıp etkilediğinden
- E) Her okurun kendi beğenisine göre seçim yaptığından

29. Kapağına şöyle bir baktığımda sıradan bir roman okuyacağımı düşünmüştüm. Ama kitabı okumaya başlayınca hiç de öyle olmadığını gördüm, bir günde okuyup bitirdim. Çok az kitapta yaşadığım o soluk soluğa kalma duygusunu tattım. Dostoyevski'nin *Suç ve Ceza*'sındaki çarpıcılığı hissettim. Aşkı en çarpıcı ve vurucu biçimde anlatmış. Kitap kurgu olarak hatasız, olayların birbirini izleyişi ve geçişler mükemmel. Tek bir cümle fazladan yazılmamış ve her cümle dopdolu, anlam yüklü. Bir an önce diğer sayfaya geçme aceleciliğini ve heyecanını yaşıyor. Aşkın içinde yanıp yok olmayı açık bir dille anlatmış. Kitaba ilişkin saptamalarımın ve duygularımın herkesçe paylaşılıp paylaşılmayacağını merak ettim ve okuma grubumdaki arkadaşlarımdan hızla bu kitabı okumalarını istedim. Hepsinden gelen yorumlar benimkilerle birebir örtüşüyordu.

Bu parçada anlatılan eserle ilgili olarak aşağıdakilerden hangisine değinilmemiştir?

- A) Hangi yazardan etkiler taşıdığına
- B) Okuru güçlü bir biçimde etkilediğine
- C) Anlatımının anlaşılır olduğuna
- D) Farklı kişilerde benzer düşünceler uyandırdığına
- E) Dış görünüşünün yanıltıcı olduğuna

30. Başkent'in eski yerleşim yerlerinden Hamamönü, Cumhuriyet'in ilk dönemlerinde bürokratlara ve siyasetçilere ev sahipliği yapmış ancak sonraki yıllarda önemini kaybetmiş. 2006 yılında Altındağ Belediyesinin başlattığı restorasyon ve sokak düzenleme projesi sayesinde ise yepyeni bir görünüm kazanmış. Restorasyonu, 2008 yılında tamamlanan ve 250 yapıdan oluşan Hamamönü, adını Oğuz Türklerinin Bayındır Boyu Beylerinden Karacabey'in yaptırdığı çifte hamamdan almış. Hamamönü ve civarı, şimdi bir mahalle olmasının çok ötesinde kültür ve sanat faaliyetlerinin merkezi olarak Ankara'nın gözde mekânları arasında. Ayrıca bu bölge, Kültür ve Turizm Bakanlığınca da 2011 yılının "Avrupalı Seçkin Turist Destinasyonu" seçildi.

Bu parçada Hamamönü ile ilgili olarak aşağıdakilerden hangisine değinilmemiştir?

- A) Adının verilmiş nedenine
- B) Zaman içinde görülen değişime
- C) Günümüzdeki işlevine
- D) Yenileme çalışmalarının ne kadar sürdüğüne
- E) Düzenlenen etkinliklere her kesimden insanın katıldığına

31.

$$\left(2 - \frac{1}{2}\right) \left(3 - \frac{1}{3}\right) \left(4 - \frac{1}{4}\right)$$

işleminin sonucu kaçtır?

- A) 9
- B) 10
- C) 15
- D) 18
- E) 20

32.

$$\frac{0,04}{0,2} + \frac{0,02}{0,4}$$

işleminin sonucu kaçtır?

- A) 0,25 B) 0,35 C) 0,45
D) 0,6 E) 0,7

33.

$$\frac{20! - 19!}{18(17! + 18!)}$$

işleminin sonucu kaçtır?

- A) 16 B) 17 C) 18 D) 19 E) 20

34.

$$\sqrt{5}(\sqrt{2} + \sqrt{3}) - \sqrt{10}(1 - \sqrt{6})$$

işleminin sonucu kaçtır?

- A) $\sqrt{3}$ B) $5\sqrt{3}$ C) $3\sqrt{5}$
D) $\sqrt{15}$ E) $3\sqrt{15}$

35.

$$\frac{\sqrt{3} \cdot \sqrt{6} \cdot \sqrt{8}}{\sqrt{7} + 1}$$

işleminin sonucu kaçtır?

- A) $\sqrt{7} - 1$ B) $\sqrt{7} + 1$
C) $2\sqrt{7} - 2$ D) $2\sqrt{7} + 2$
E) $4\sqrt{7} + 4$

36.

$$4^{x-1} \cdot 9^{x-2} = 25$$

olduđuna göre, 6^x kaçtır?

- A) 36 B) 50 C) 64 D) 72 E) 90

37.

$$x - y = 4$$

$$y + z = 6$$

$$z - t = 5$$

olduđuna göre, $x + t$ toplamı kaçtır?

- A) -4 B) -2 C) 3 D) 5 E) 7

38.

$$\frac{2a}{3} + \frac{3b}{5} = 2$$

olduđuna göre, $10a + 9b$ ifadesinin deđeri kaçtır?

- A) 15 B) 20 C) 30 D) 45 E) 60

39.

$$\frac{x^3 + 1}{(x^2 - 1)(x^2 - x + 1)} = \frac{2}{3}$$

olduđuna göre, x kaçtır?

- A) $\frac{1}{2}$ B) $\frac{5}{2}$ C) $\frac{1}{3}$
D) $\frac{2}{3}$ E) $\frac{7}{3}$

40. Sıfırdan farklı x , y ve z gerçel sayıları için

$$\frac{x}{2} = \frac{y}{3} = \frac{z}{7} \text{ olduğuna göre,}$$

$$\frac{x + 3y - 5z}{2x - 5y + 2z}$$

ifadesinin değeri kaçtır?

- A) -8 B) -5 C) -2 D) 3 E) 7

41.

$$|x + 2| \leq 3$$

$$|y - 2| \leq 4$$

olduğuna göre, $x - y$ farkının alabileceği en büyük değeri kaçtır?

- A) 3 B) 4 C) 5 D) 6 E) 7

42. x ve y tam sayıları için

$$-3 < x < y < 7$$

olduğuna göre, $x \cdot y$ çarpımının alabileceği en büyük değeri, en küçük değerden kaç fazladır?

- A) 32 B) 37 C) 42 D) 45 E) 48

43. $1 \leq n \leq 300$ olmak üzere, 3'e kalansız bölünebilen fakat 5'e kalansız bölünemeyen kaç tane n tam sayısı vardır?

- A) 75 B) 80 C) 85 D) 90 E) 95

44.

$$f(x) = 3x + 7$$

$$g\left(\frac{x}{2} + 1\right) = \frac{x}{4} - 1$$

olduğuna göre, $(g \circ f)(4)$ değeri kaçtır?

- A) 5 B) 6 C) 7 D) 8 E) 9

45. Gerçek sayılar kümesi üzerinde \otimes işlemi, her a ve b gerçel sayısı için

$$a \otimes b = \begin{cases} a^2 + b^2, & a \geq b \text{ ise} \\ \frac{1}{b-a}, & a < b \text{ ise} \end{cases}$$

biçiminde tanımlanıyor.

Buna göre, $1 \otimes \left(\frac{1}{2} \otimes (-1)\right)$ işleminin sonucu kaçtır?

- A) $\frac{1}{2}$ B) $\frac{3}{2}$ C) $\frac{3}{4}$
D) 2 E) 4

46. Bir aşı kampanyasında çocuklara A, B ve C aşuları yapılmıştır. A aşısı yapılan çocuk sayısı toplam 300'dür. Hem A hem de B aşısı yapılan çocuk sayısı 100, hem A hem de C aşısı yapılan çocuk sayısı 110'dur. Bu üç aşının yapıldığı çocuk sayısı ise 50'dir.

Buna göre, yalnızca A aşısı yapılan çocuk sayısı kaçtır?

- A) 130 B) 140 C) 150 D) 160 E) 170

47.

$$A = \{0, 1, 2, 3, 4, 5\}$$

kümesinin elemanlarıyla birler basamağında 1, binler basamağında 0 bulunan, rakamları birbirinden farklı altı basamaklı kaç doğal sayı yazılabilir?

- A) 18 B) 24 C) 30 D) 32 E) 36

48. Bir şirket, üretim birimindeki her bir çalışanına 4 ayda bir 900 TL, pazarlama birimindeki her bir çalışanına ise 3 ayda bir 800 TL ikramiye vermektedir.

Bu iki birimde çalışan toplam 30 kişiye şirketin bir yılda verdiği ikramiye tutarı 90 000 TL olduğuna göre, üretim biriminde kaç kişi çalışmaktadır?

- A) 8 B) 9 C) 10 D) 12 E) 14

49. Öğrenci biletlerinin tam biletlere göre % 25 indirimle satıldığı bir tiyatro gösterisi için toplam 90 adet bilet satılmış ve 1600 TL gelir elde edilmiştir.

Bu gösteri için satılan tam biletlerin sayısı öğrenci biletlerinin sayısından 10 fazla olduğuna göre, tam biletin fiyatı kaç TL'dir?

- A) 15 B) 16 C) 20 D) 24 E) 25

50. Bir pastanede oturan Ayşe, Tolga ve Mustafa'nın; çay, kahve ve gazozdan hangisini içtiğiyle ilgili aşağıdakiler bilinmektedir.

- Her bir kişi bu içeceklerden yalnızca birini içmiştir.
- Ayşe çay içmemiştir.
- Tolga ne çay ne de kahve içmiştir.

Buna göre; Ayşe, Tolga ve Mustafa'nın içtiği içecekler aşağıdakilerin hangisinde doğru olarak verilmiştir?

| | <u>Ayşe</u> | <u>Tolga</u> | <u>Mustafa</u> |
|----------|-------------|--------------|----------------|
| A) Kahve | Gazoz | Çay | |
| B) Kahve | Çay | Gazoz | |
| C) Gazoz | Çay | Kahve | |
| D) Gazoz | Kahve | Çay | |
| E) Çay | Gazoz | Kahve | |

51. Bir yolcu uçağında seyahat eden Alman, İngiliz ve Fransız yolcularla ilgili aşağıdaki bilgiler verilmiştir.

- Alman yolcuların sayısı, İngiliz yolcuların sayısının yarısıdır.
- Alman yolcuların sayısı, Fransız yolcuların sayısından 34 azdır.
- Fransız yolcuların sayısı, İngiliz yolcuların sayısından 7 fazladır.

Bu uçaktaki Alman, İngiliz ve Fransız yolcuların toplam sayısı kaçtır?

- A) 142 B) 144 C) 146 D) 148 E) 150

52. - 54. soruları aşağıdaki bilgilere göre birbirinden bağımsız olarak cevaplayınız.

Bir çiçekçide bulunan üç çeşit çiçeğin sayısı ile birim satış fiyatı aşağıdaki tabloda verilmiştir.

| | Sayısı | Birim satış fiyatı |
|----------|--------|--------------------|
| Karanfil | 100 | 3 TL |
| Gül | 80 | 5 TL |
| Zambak | 50 | 6 TL |

52. Bu çiçekçi her bir çiçek satışından % 25 kâr elde ettiğine göre, tüm çiçeklerin satışından kaç TL kâr elde eder?

- A) 150 B) 175 C) 200 D) 225 E) 250

53. Eşit sayıda karanfil, gül ve zambağın bulunduğu bir demetin satış fiyatı 84 TL olduğuna göre, bu demette kaç çiçek vardır?

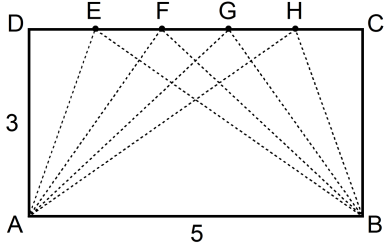
- A) 15 B) 18 C) 21 D) 24 E) 27

54. Bir müşteri, aldığı karanfil, gül ve zambaklar için eşit miktarda para ödemiştir.

Bu müşteri toplam 105 çiçek aldığına göre, çiçekçiye kaç TL ödemiştir?

- A) 330 B) 360 C) 375 D) 420 E) 450

55. Kenar uzunlukları 3 cm ve 5 cm olan aşağıdaki ABCD dikdörtgeninin DC kenarı beş eş parçaya bölünerek EAB, FAB, GAB ve HAB üçgenleri oluşturuluyor.



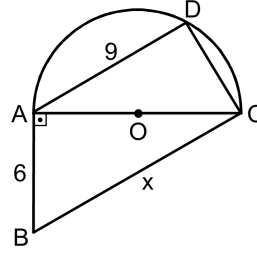
Buna göre,

- I. EAB üçgeni ile GAB üçgeni benzerdir.
- II. FAB üçgeni dik üçgendir.
- III. HAB üçgeni ikizkenar üçgendir.

İfadelerinden hangileri doğrudur?

- A) Yalnız I B) Yalnız III C) I ve II
D) I ve III E) II ve III

- 56.



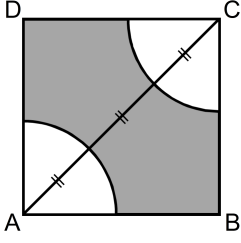
O merkezli yarım çember
ABC bir dik üçgen
 $AD \parallel BC$
 $|AB| = 6 \text{ cm}$
 $|AD| = 9 \text{ cm}$
 $|BC| = x$

Şekildeki D noktası, O merkezli $[AC]$ çaplı yarım çember üzerindedir.

Buna göre, x kaç cm'dir?

- A) 10 B) 11 C) 12 D) 14 E) 15

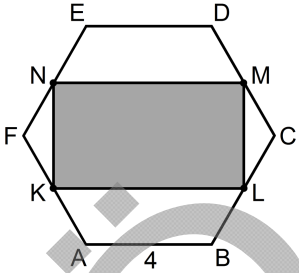
57. Şekildeki ABCD karesinin içine çizilen A ve C merkezli çeyrek çemberler, karenin AC köşegenini üç eş parçaya ayırmıştır.



Buna göre, boyalı bölgenin alanının karenin alanına oranı kaçtır?

- A) $1 - \frac{\pi}{6}$ B) $1 - \frac{\pi}{8}$
 C) $1 - \frac{\pi}{9}$ D) $1 - \frac{\pi}{12}$
 E) $1 - \frac{\pi}{16}$

58.



ABCDEF bir düzgün altıgen

$$|AB| = 4 \text{ cm}$$

Şekildeki K, L, M ve N noktaları, buldukları kenarların orta noktalarıdır.

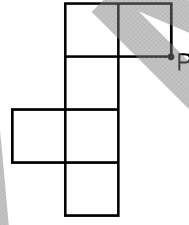
Buna göre, KLMN dörtgeninin alanı kaç cm^2 dir?

- A) $10\sqrt{2}$ B) $15\sqrt{2}$ C) $16\sqrt{2}$
 D) $10\sqrt{3}$ E) $12\sqrt{3}$

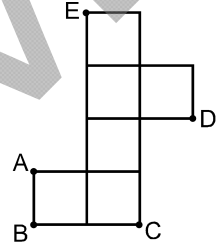
59. Analitik düzlemde; $A(2,3)$, $B(10,3)$, $C(x,y)$ ve $D(2,9)$ noktaları bir dikdörtgenin köşeleri olduğuna göre, $x + y$ toplamı kaçtır?

- A) 12 B) 13 C) 18 D) 19 E) 20

60.



I. konum



II. konum

I. konumdaki düzlemsel şekil döndürülerek II. konuma getirilirse P noktasına hangi nokta karşılık gelir?

- A) A B) B C) C D) D E) E

61. VI. yüzyılda Orta Asya'dan Balkanlara geçerek Orta Avrupa'da Bayan Han önderliğinde bir devlet kuran ve 626'da Sasanilerle anlaşarak İstanbul'u kuşatan Türk kavmi aşağıdakilerden hangisidir?

- A) Kıpçaklar B) Bulgarlar C) Oğuzlar
D) Avarlar E) Hunlar

62. Aşağıdakilerden hangisi Karahanlılar zamanında yazılan Kutadgu Bilig, Atebetü'l-Hakayık isimli eserlerin ortak özelliklerinden biri değildir?

- A) Ahlaki öğütlere ağırlık verirler.
B) Türklerin İslamiyet'i kabulünden sonra yazılmışlardır.
C) Hükümdarların emriyle yazılmışlardır.
D) Edebî özellikleri vardır.
E) Türkçe olarak kaleme alınmışlardır.

63. XVI. yüzyılın ilk yarısında Maraş ve Elbistan civarında kurularak bu bölgede iki yüzyıla yakın hüküm süren Türk beyliği aşağıdakilerden hangisidir?

- A) Saruhanoğulları
B) Eretna Beyliği
C) Eşrefoğulları
D) Kadı Burhaneddin Beyliği
E) Dulkadiroğulları

64. Büyük Selçuklu Devleti'nde, mali işlerle ilgilenen ve başkanına müstevfi adı verilen kurum aşağıdakilerden hangisidir?

- A) Divan-ı İnşa B) Divan-ı İstifa
C) Divan-ı İşraf D) Divan-ı Mezalim
E) Divan-ı Arzi'l-ceyş

65. 1472 yılında Fatih Sultan Mehmet tarafından Topkapı Sarayı'nın birinci avlusunda yaptırılan en eski köşk aşağıdakilerden hangisidir?

- A) Çinili Köşk B) Bağdat Köşkü
C) Revan Köşkü D) Malta Köşkü
E) Sepetçiler Köşkü

66. Mustafa Kemal, Birinci Dünya Savaşı sırasında,

- I. Çanakkale,
II. Suriye,
III. Irak

cephelerinin hangilerinde görev almıştır?

- A) Yalnız I B) Yalnız II C) I ve II
D) II ve III E) I, II ve III

67. Mondros Ateşkes Anlaşması'nda Boğazların Anlaşma Devletlerine açılması ve istihkamların işgal edilmesi öngörülmüştür.

Aşağıdakilerden hangisi, bu madde ile amaçlanarlardan biri değildir?

- A) Rusya'da Çarlık rejimini yeniden kurma girişimine destek olmak
B) Osmanlı Hükümetini baskı altına almak
C) Kafkaslardaki İngiliz birliklerine yardım edebilmek
D) Anlaşma Devletlerinin Karadeniz'deki etkisini artırmak
E) Wilson İlkelerinin kabul edilmesini sağlamak

68. Aşağıdaki eylem ve ayaklanmalardan hangisi doğrudan doğruya İstanbul Hükûmeti tarafından Kuvayimillîye'ye karşı düzenlenmiştir?

- A) Kuva-yı İnzibatiye Hareketi
- B) Çerkez Ethem Ayaklanması
- C) Milli Aşireti Ayaklanması
- D) Konya Ayaklanması
- E) Yozgat Ayaklanması

69. Mustafa Kemal önderliğindeki Millî Mücadele hareketinin benimsediği siyasi sınırlar, aşağıdakilerden hangisiyle Osmanlı Devleti'nin yasama organı tarafından da kabul edilmiştir?

- A) Amasya Görüşmeleriyle
- B) Misakımillî kararlarıyla
- C) İstanbul Hükûmetiyle ilişkilerin kesilmesiyle
- D) Bilecik Görüşmeleriyle
- E) Birinci İnönü Savaşı'nın kazanılmasıyla

70. TBMM'nin açılışına kadar, İstanbul Hükûmeti dışında aşağıdakilerden hangisi genel yönetme yetkisi üstlenmiştir?

- A) Balıkesir Kongresi Heyet-i Milliyesi
- B) Temsilciler Kurulu
- C) Millî Kongre
- D) Nazilli Kongresi Heyet-i Milliyesi
- E) Alaşehir Kongresi Heyet-i Milliyesi

71. Millî Mücadele Dönemi'nde Batum'un belirli koşullarla Gürcistan'a bırakılmasını içeren antlaşma aşağıdakilerden hangisidir?

- A) Kars Antlaşması
- B) Gümrü Antlaşması
- C) Ankara Antlaşması
- D) Brest-Litowsk Antlaşması
- E) İstanbul Antlaşması

72. Aşağıdakilerden hangisi, düzenli orduya geçiş çalışmaları içerisinde değerlendirilemez?

- A) Subay yetiştirme merkezlerinin açılması
- B) Kuvayimillîye giderlerinin Millî Savunma Bakanlığınca karşılanması
- C) Seferberlik ilan edilerek askere alma işlemlerinin başlaması
- D) Kuva-yı Seyyare birliklerinin güçlendirilmesi
- E) Genelkurmayın bakanlık olarak kurulması

73. Cumhuriyet'in ilanından sonra Yeni Türk Devleti'nde,

- I. çok partili hayata geçiş denemeleri yapılması,
- II. Tevhid-i Tedrisat Kanunu'nun çıkarılması,
- III. Diyanet İşleri Başkanlığının kurulması

durumlarından hangilerinin, ülkenin demokratikleşmesi yolunda yapılan girişimler olduğu savunulabilir?

- A) Yalnız I
- B) Yalnız II
- C) I ve II
- D) I ve III
- E) I, II ve III

74. Aşağıdakilerden hangisi, Atatürk Dönemi'ndeki dil çalışmalarının hedeflerinden biri değildir?

- A) Türkçeyi yabancı dillerin hâkimiyetinden kurtarmak
- B) Türkçenin söz varlığını, çağdaş gelişmelere uygun olarak zenginleştirmek
- C) Yazı dili ile konuşma dili arasındaki farklılığı gidermek
- D) Dile, ulusal bir nitelik kazandırmak
- E) Türk dünyasındaki lehçe farklılıklarını kültürel zenginlik olarak desteklemek

75.

- I. Türk Dil Kurumu
- II. Millet Mektepleri
- III. Türk Tarih Kurumu

Yukarıdakilerden hangileri, Atatürk Dönemi'nde bilimsel araştırmalar yapmak amacıyla kurulmuştur?

- A) Yalnız I
- B) Yalnız II
- C) I ve III
- D) II ve III
- E) I, II ve III

76. Anlaşma Devletlerinin Lozan'da yapılacak barış konferansı öncesinde Anadolu-İstanbul ayrımını ön plana çıkararak oluşturmak istedikleri bunalım karşısında, TBMM Hükümetinin aldığı önlem aşağıdakilerden hangisidir?

- A) Cumhuriyetin ilan edilmesi
- B) İstanbul Hükümetinin istifaya çağırılması
- C) Saltanatın kaldırılması
- D) Halifeliğin kaldırılması
- E) Çağrı yapılmadan konferansa katılmama kararının alınması

77. Atatürk, "Cumhuriyet sizden fikri hür, vicdanı hür, irfanı hür nesiller ister." sözüyle toplumun hangi kesimine seslenmiştir?

- A) Öğretmenlere
- B) Doktorlara
- C) Askerlere
- D) Çiftçilere
- E) Hukukçulara

78. Millî Mücadele'den sonra yapılan ilk iktisat kongresi hangi ilimizde ve hangi yılda yapılmıştır?

- A) Bursa, 1923
- B) Ankara, 1924
- C) İstanbul, 1925
- D) İzmir, 1923
- E) Konya, 1924

79. Aşağıdakilerden hangisinin, milliyetçilik ilkesi doğrultusunda yapıldığı savunulamaz?

- A) Türk Parasını Koruma Kanunu'nun kabul edilmesi
- B) Şapka Giyilmesi Hakkında Kanun çıkarılması
- C) Türk Dil Kurumunun kurulması
- D) Güneş-Dil Teorisi'nin oluşturulması
- E) İktisadi Müesseselerde Mecburi Türkçe Kullanılması Hakkında Kanun'un çıkarılması

80. Musul sorununun Türkiye ile İngiltere arasında gerginlik meydana getirdiği günlerde Anadolu'da çıkan ayaklanma aşağıdakilerden hangisidir?

- A) Şeyh Sait
- B) Dersim
- C) Menemen
- D) Ağrı
- E) Çapanoğlu

81. Türkiye'de görülen yağış türleri arasında kar yağışlarının önemli bir yeri vardır. Kar yağışları, kıyı kesimlerden iç kesimlere doğru artış gösterir.

Bu durumun, aşağıdakilerden hangisi üzerinde etkisinin olmadığı söylenebilir?

- A) Yer altı su sistemleri
- B) Akarsu rejimleri
- C) Ulaşım koşulları
- D) Yerleşim biçimleri
- E) Ekonomik etkinlikler

82. Türkiye'nin deniz etkisinden uzak bir yöresinde akarsuların en çok su taşıdığı dönem ilkbahardır.

Bu durum aşağıdakilerden hangisiyle açıklanabilir?

- A) Doğal bitki örtüsünün step olmasıyla
- B) Yıllık yağış miktarıyla
- C) Akarsu havzasının genişliğiyle
- D) Akarsuların yatak eğimlerinin azlığıyla
- E) Yağış rejimi ve biçimiyle

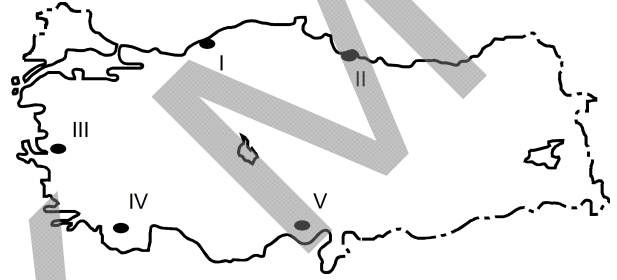
83. Türkiye'nin su varlığıyla ilgili olarak aşağıda verilenlerden hangisi yanlıştır?

- A) Su sporları bakımından önemli bir potansiyele sahiptir.
- B) Sıcak su kaynakları bakımından zengindir.
- C) Bazı göllerin sularının acı ve sodalı olmasında sıcaklık ve yükselti etkilidir.
- D) Yağış rejimine bağlı olarak akarsuların akımı düzensizlik gösterir.
- E) Deniz ulaşımı açısından elverişli koşullara sahiptir.

84. Konya ve Kayseri illerinde Ocak ayı sıcaklık ortalamasının düşük, Ordu ve Giresun'da ise daha yüksek olmasında aşağıdakilerden hangisinin etkili olduğu söylenemez?

- A) Enlem
- B) Fön rüzgârları
- C) Yükselti
- D) Nemlilik
- E) Karasallık

85.



Yukarıdaki haritada numaralarla gösterilen yerlerden hangisi, iklim koşulları uygun olmasına karşın seyrek nüfuslanmıştır?

- A) I
- B) II
- C) III
- D) IV
- E) V

86. Türkiye'nin eski bir yerleşim alanı olmasında aşağıdakilerden hangisinin etkisi diğerlerine göre daha azdır?

- A) Coğrafi konum
- B) İklim özellikleri
- C) Bitki çeşitliliği
- D) Verimli topraklar
- E) Yer şekilleri

87. Aşağıdakilerden hangisi, Türkiye’de köyden kente yapılan göçlerin sonuçlarından biridir?

- A) Hızlı nüfus artışı
- B) Nüfusun eğitim seviyesinin yükselmesi
- C) Kişi başına düşen millî gelirin azalması
- D) Nüfus dağılışındaki dengesizliğin azalması
- E) Genç nüfus oranının yüksek olması

88. Türkiye’nin aşağıda verilen şehirlerinden hangisinin gelişiminde diğerlerine göre farklı bir yer altı kaynağı etkili olmuştur?

- A) Tavşanlı
- B) Soma
- C) Yatağan
- D) Elbistan
- E) Keçiörlü

89.

- I. Türkiye’de doğal bitki türlerinin çeşitliliği ve fazlalığı
- II. Soğuk hava depolarının gelişmesi ve yaygınlaşması
- III. Doğu – batı yönlü tektonik olukların çok sayıda olması
- IV. Soğutucu araçlarla uzun mesafeli taşıma olanaklarının artması

gibi özelliklerin, aşağıdaki ekonomik etkinliklerden hangisini etkilemesi beklenir?

| | I | II | III | IV |
|-------------|---|------------|------------|------------|
| A) Tarım | | Balıkçılık | Arıcılık | Ulaşım |
| B) Arıcılık | | Tarım | Ulaşım | Balıkçılık |
| C) Tarım | | Ulaşım | Arıcılık | Balıkçılık |
| D) Arıcılık | | Ulaşım | Balıkçılık | Tarım |
| E) Tarım | | Arıcılık | Balıkçılık | Ulaşım |

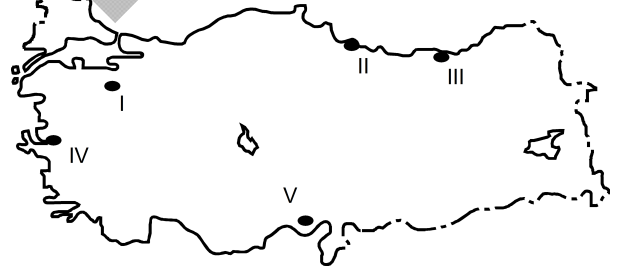
90. Aşağıdakilerden hangisi, Karadeniz ve Akdeniz’in kıyı kesimlerinde yapılan tarımsal etkinliklerin farklı olmasında etken değildir?

- A) Toprak türleri
- B) Yağış rejimleri
- C) Enlem dereceleri
- D) Yükselti değerleri
- E) Yıllık sıcaklık ortalamaları

91. Aşağıdakilerden hangisi turizm özelliği bakımından diğerlerinden farklılık gösterir?

- A) Nevşehir – Kapadokya
- B) Trabzon – Sümela
- C) Muğla – Knidos
- D) İzmir – Efes
- E) Çanakkale – Truva

92.



Yukarıdaki haritada numaralarla gösterilen yerlerden hangisinde sanayi faaliyetleri daha az gelişmiştir?

- A) I
- B) II
- C) III
- D) IV
- E) V

93. 1982 Anayasası'na göre, Genelkurmay Başkanı aşağıdakilerden hangisine karşı sorumludur?

- A) TBMM
B) Cumhurbaşkanı
C) Başbakan
D) TBMM Başkanı
E) Millî Savunma Bakanı

94. 1982 Anayasası'na göre aşağıdakilerden hangisi, kişinin hakları ve ödevleri bölümünde düzenlenmemiştir?

- A) Zorla çalıştırma yasağı
B) Eğitim ve öğretim hakkı
C) Kanuni hâkim güvencesi
D) Hak arama hürriyeti
E) Toplantı ve gösteri yürüyüşü düzenleme hakkı

95. Devlet Denetleme Kurulunun üyeleri ve başkanı aşağıdakilerden hangisi tarafından atanır?

- A) Cumhurbaşkanı
B) Başbakan
C) Bakanlar Kurulu
D) TBMM Başkanı
E) TBMM Genel Kurulu

96. 1982 Anayasası'na göre, aşağıdakilerden hangisi, Meclis Başkanlık Divanının üyesi değildir?

- A) İdare amirleri
B) Kâtip üyeler
C) Siyasi parti grup başkan vekilleri
D) TBMM Başkanı
E) TBMM başkan vekilleri

97. Mahallî idare seçimleri kural olarak kaç yılda bir yapılır?

- A) 2
B) 3
C) 4
D) 5
E) 6

98. 1982 Anayasası'na göre, Anayasa'da güvence altına alınmış temel hak ve özgürlüklerden Avrupa İnsan Hakları Sözleşmesi kapsamındaki herhangi birinin kamu gücü tarafından ihlal edildiği iddiası ile yapılacak bireysel başvuru aşağıdakilerden hangisine yapılır?

- A) TBMM Başkanlığı
B) TBMM İnsan Hakları İnceleme ve Araştırma Komisyonu
C) Kamu Denetçiliği Kurumu
D) Yargıtay
E) Anayasa Mahkemesi

99. 1982 Anayasası'na göre, Yüce Divan kararlarına karşı yeniden inceleme başvurusu aşağıdakilerden hangisi tarafından karara bağlanır?

- A) TBMM Genel Kurulu
B) Anayasa Mahkemesi Genel Kurulu
C) Yargıtay Genel Kurulu
D) Askerî Yüksek İdare Mahkemesi
E) Uyuşmazlık Mahkemesi

100. 1982 Anayasası'na göre aşağıdaki kanunlardan hangisi, Cumhurbaşkanınca bir kez daha görüşülmek üzere TBMM'ye geri gönderilemez?

- A) Bütçe Kanunu
- B) Türk Ceza Kanunu
- C) Anayasa değişikliği kanunu
- D) Milletlerarası antlaşmaları uygun bulma kanunu
- E) Af kanunu

ÖSS YMM

SINAVDA UYULACAK KURALLAR

- Sınav salonları kamera ile kayıt altına alınacaktır.** Kamera kayıtlarının incelenmesinden sonra sınav kurallarına uymadığı tespit edilen adayların sınavları ÖSYM Yönetim Kurulunca geçersiz sayılacaktır.
- Cep telefonu ile sınava girmek kesinlikle yasaktır.** Çağrı cihazı, telsiz, fotoğraf makinesi vb. araçlarla; cep bilgisayarı, kol ya da cep saati gibi her türlü bilgisayar özelliği bulunan cihazlarla; silah ve benzeri teçhizatla; müsvedde kâğıdı, defter, kitap, sözlük, sözlük işlevi olan elektronik aygıt, hesap cetveli, hesap makinesi, pergel, açölçer, cetvel vb. araçlarla sınava girmek kesinlikle yasaktır. Bu araçlarla sınava girmiş adayların adı mutlaka Salon Sınav Tutanağına yazılacak, bu adayların sınavı geçersiz sayılacaktır. **Sınava kalem, silgi, kalemıraş, saat vb. araçla ve kulaklık, küpe, broş vb. takı, herhangi bir metal eşya ile girmek de kesinlikle yasaktır. Yiyecek, içecek vb. tüketim malzemeleri de sınava getirilemez. Adaylar sınava şeffaf şişe içerisinde su getirebilecektir.**
- Bu sınav için verilen toplam cevaplama süresi **120 dakikadır.** Sınav başladıktan sonra **ilk 90** ve **son 15** dakika içinde adayın sınavdan çıkmasına kesinlikle izin verilmeyecektir. **Bu süreler dışında, cevaplamaı sınav bitmeden tamamlarsanız cevap kâğıdınızı ve soru kitapçığınızı salon görevlilerine teslim ederek salonu terk edebilirsiniz. Bildirilen sürele aykırı davranışlardan adayın kendisi sorumludur.**
- Sınav salonundan ayrılan aday, her ne sebeple olursa olsun, tekrar sınava alınmayacaktır.**
- Sınav süresince görevlilerle konuşmak, görevlilere soru sormak yasaktır. Aynı şekilde görevlilerin de adaylarla yakından ve alçak sesle konuşmaları ayrıca adayların birbirinden kalem, silgi vb. şeyleri istemeleri kesinlikle yasaktır.
- Sınav sırasında, görevlilerin her türlü uyarısına uymak zorundasınız. Sınavınızın geçerli sayılması, her şeyden önce, sınav kurallarına uymanıza bağlıdır. Kurallara aykırı davranışta bulunanların ve yapılacak uyarılara uymayanların kimlik bilgileri Salon Sınav Tutanağına yazılacak ve sınavları geçersiz sayılacaktır.
- Sınav sırasında kopya çeken, çekmeye kalkışan, kopya veren, kopya çekilmesine yardım edenlerin kimlik bilgileri Salon Sınav Tutanağına yazılacak ve bu adayların sınavları geçersiz sayılacaktır.
Adayların test sorularına verdikleri cevapların dağılımları bilgi işlem yöntemleriyle incelenecek, bu incelemelerden elde edilen bulgular bireysel ya da toplu olarak kopya çekildiğini gösterirse kopya eylemine katılan adayın/adayların sınavı geçersiz sayılacak ayrıca 2 yıl boyunca ÖSYM tarafından düzenlenen tüm sınavlara başvurusu yasaklanabilecektir.
Sınav görevlileri bir salondaki sınavın, kurallara uygun biçimde yapılmadığını, toplu kopya girişiminde bulunulduğunu raporlarında bildirdiği takdirde, ÖSYM bu salonda sınava giren tüm adayların sınavını geçersiz sayabilir.
- Cevap kâğıdında doldurmanız gereken alanlar bulunmaktadır. Bu alanları doldurunuz. Cevap kâğıdınızı başkaları tarafından görülmeyecek şekilde tutmanız gerekmektedir. Cevap kâğıdına yazılacak her türlü yazıda ve yapılacak bütün işaretlemelerde kurşun kalem kullanılacaktır. Sınav süresi bittiğinde cevapların cevap kâğıdına işaretlenmiş olması gerekir. Soru kitapçığına işaretlenen cevaplar geçerli değildir.
- Soru kitapçığınızı alır almaz kapağında bulunan ilgili alanları doldurunuz. Size söylendiği zaman, sayfaların eksik olup olmadığını, kitapçıkta basım hatalarının bulunup bulunmadığını ve soru kitapçığının her sayfasında basılı bulunan soru kitapçık numarasının, kitapçığın ön kapağında basılı soru kitapçık numarasıyla aynı olup olmadığını kontrol ediniz. Soru kitapçığının sayfası eksik ya da basımı hatalıysa değiştirilmesi için salon başkanına başvurunuz.
Size verilen soru kitapçığının numarasını cevap kâğıdınızdaki “Soru Kitapçık Numarası” alanına yazınız ve kodlayınız. Cevap kâğıdınızdaki “Soru kitapçık numaramı doğru kodladım.” kutucuğunu işaretleyiniz.
Soru kitapçığı üzerinde yer alan Soru Kitapçık Numarasını doğru kodladığınızı beyan eden alanı imzalayınız.
- Sınav sonunda soru kitapçıkları toplanacak ve ÖSYM’de incelenecektir. Soru kitapçığının sayfalarını koparmayınız. Soru kitapçığının bir sayfası bile eksik çıkarsa sınavınız geçersiz sayılacaktır.
- Cevap kâğıdına ve soru kitapçığına yazılması ve işaretlenmesi gereken bilgilerde bir eksiklik ve/veya yanlışlık olması hâlinde sınavınızın değerlendirilmesi mümkün olamamaktadır, bu husustaki özen yükümlülüğü ve sorumluluk size aittir.
- Soru kitapçığının sayfalarındaki boş yerleri müsvedde için kullanabilirsiniz.
- Soruları ve/veya bu sorulara verdiğiniz cevapları ayrı bir kâğıda yazıp bu kâğıdı dışarı çıkarmanız kesinlikle yasaktır.
- Sınav salonundan ayrılmadan önce, soru kitapçığınızı ve cevap kâğıdınızı salon görevlilerine eksiksiz olarak teslim etmeyi unutmayınız.

Bu testlerin her hakkı saklıdır. Hangi amaçla olursa olsun, testlerin tamamının veya bir kısmının Merkezimizin yazılı izni olmadan kopya edilmesi, fotoğrafının çekilmesi, herhangi bir yolla çoğaltılması, yayımlanması ya da kullanılması yasaktır. Bu yasağa uymayanlar gerekli cezai sorumluluğu ve doğacak tüm mali külfeti peşinen kabullenmiş sayılır.

JANDARMA OKULLAR KOMUTANLIĞI
JANDARMA ASTSUBAY TEMEL KURSU GİRİŞ SINAVI
6 NİSAN 2013 CUMARTESİ

- | | | | |
|-------|-------|-------|--------|
| 1. A | 26. B | 51. A | 76. C |
| 2. A | 27. E | 52. E | 77. A |
| 3. D | 28. C | 53. B | 78. D |
| 4. C | 29. A | 54. E | 79. B |
| 5. E | 30. E | 55. B | 80. A |
| 6. B | 31. C | 56. C | 81. D |
| 7. A | 32. A | 57. C | 82. E |
| 8. D | 33. D | 58. E | 83. C |
| 9. E | 34. E | 59. D | 84. A |
| 10. B | 35. C | 60. A | 85. D |
| 11. B | 36. E | 61. D | 86. C |
| 12. C | 37. D | 62. C | 87. B |
| 13. A | 38. C | 63. E | 88. E |
| 14. A | 39. B | 64. B | 89. B |
| 15. D | 40. A | 65. A | 90. D |
| 16. E | 41. A | 66. C | 91. A |
| 17. C | 42. C | 67. E | 92. C |
| 18. C | 43. B | 68. A | 93. C |
| 19. D | 44. D | 69. B | 94. B |
| 20. B | 45. E | 70. B | 95. A |
| 21. D | 46. B | 71. A | 96. C |
| 22. A | 47. B | 72. D | 97. D |
| 23. A | 48. D | 73. A | 98. E |
| 24. C | 49. C | 74. E | 99. B |
| 25. B | 50. A | 75. C | 100. A |