

Bu testte toplam **60** soru vardır.

*Başarılar dileriz...*

1. Bu sanatçımız; Türk öykücülüğünün gerçek bir ustası, seçkin bir temsilcisidir. Buna karşın öykülerinin üzerinde henüz gereği gibi durulmamıştır. Yazınsallıktan hiç ödün vermeden oluşturduğu öykülerde toplumsal sorunları, öykünün dokusuna sindirir. Bu nedenle derinlikli bir okumada, yaşadığı günlerin eleştirisini bulabilirsiniz onun öykülerinde.

**Bu parçadaki altı çizili sözle sanatçının anlatılmak istenen özelliği aşağıdakilerden hangisidir?**

- A) Yapıtlarında sanatsal boyutu göz ardı ettiği  
B) Düşüncelerinde son derece kararlı olduğu  
C) Öykü türünün gelenekselleşmiş kurallarının dışına çıkmadığı  
D) Yazmaya kimsenin cesaret edemediği konulara el attığı  
E) Estetik değerlerden en küçük bir taviz vermediği

2. Alzheimer olduğundan beri, saatler annem için doğrusallığını kaybetmiş bir akışın gelişigüzel tak

takları demek. Onun için zaman otoyolunda hiçbir

işaret levhası, hiçbir trafik lambası yok; istediği yö-

ne gidebilir, istediği gibi şerit değiştirebilir. Yahut

vulun tam ortasında aniden durup gitmeyi redde-

debilir. Çünkü annemin yaşamında, "ilerleme" diye

bir şey yok artık. Sadece kopuk kopuk anlar var.

**Bu parçada geçen "istediği yöne gidebilir, istediği gibi şerit değiştirebilir" sözleriyle anlatılmak istene-**

**ni numaralanmış sözlerin hangisi içermektedir?**

- A) I B) II C) III D) IV E) V

3. Ünlü bir yazar, "Okumamanın, okuma bilmemekten başka mazereti olmamalıdır." diyor. Bence çok haklı. Çünkü okumak, zevkli olmanın da ötesinde bir tür zorunluluktur. Bilgilenmenin tek yolu olmasa da temel yollarından biridir okumak. Yine bir ünlü kişi, "Okuma, insanların ekonomik kölelikten kurtulması için gereklidir ama her şeyden önce, düşünce köleliğinden kurtulmalarının vazgeçilmez koşuludur." diyor. Gerçekten de kitap okumanın gerekliliği kavranamazsa toplumların sorunlarına çözüm bulunamayacaktır.

**Bu parçadaki "düşünce köleliğinden kurtulma" sözüyle anlatılmak istenen aşağıdakilerden hangisidir?**

- A) Olayları nesnel bir biçimde değerlendirebilme  
B) Farklı düşüncelere hoşgörülle bakabilme  
C) Kalıplaşmış değerleri irdeleyebilme  
D) Özgür düşünebilme  
E) Ön yargılardan arınmış bir bakış açısına sahip olma

4. (I) Şeyh Zayed Camisi, 545 milyon dolarlık maliyetiyle dünyanın en pahalı camisi unvanını taşıyor. (II) Cami, adını Birleşik Arap Emirlikleri'nin kurucusu Şeyh Zayed Bin Sultan'dan alıyor. (III) 75 metre yüksekliğinde ve 33 metre çapında irili ufaklı 82 kubbesi olan caminin 4 minaresinin her biri 107 metre yükseklikte. (IV) Caminin tabanına İran'ın Horasan bölgesinde 1200 kadın tarafından 3 yılda dokunan, 45 ton ağırlığında ve 6000 m<sup>2</sup> olan tek parça bir halı serili. (V) Özel sipariş üzerine Almanya'da yapılan, dünyanın en büyük kristal avizesinin süslediği caminin yerleri ise İtalyan mermerleriyle kaplı.

**Şeyh Zayed Camisi'ne ilişkin bu parçadaki numaralanmış cümlelerle ilgili olarak aşağıda verilenlerden hangisi yanlıştır?**

- A) I. cümlede, dünyanın en büyük camisi olduğu belirtiliyor.  
B) II. cümlede, adının nereden geldiği açıklanıyor.  
C) III. cümlede, mimari özellikleri hakkında bilgi veriliyor.  
D) IV. cümlede, taban halısının bazı özelliklerine değiniliyor.  
E) V. cümlede, avizesinin yurt dışında yaptırılarak getirildiğinden söz ediliyor.



5. Bilgi bir kilitir ve anahtarı sorudur.

**Bu cümlede aşağıdakilerden hangisi vurgulanmaktadır?**

- A) Bilgiyi çoğaltan en önemli şeyin kuşku olduğu
- B) Her bilgiye erişebilmenin olanaksız olduğu
- C) Bilgiye ulaşmanın yolunun merak etmekten geçtiği
- D) Bazı bilgilere dolambaçlı yollardan ulaşılabilceği
- E) Sorgulanmadan kabullenilen bilgilerin doğru olmayabileceği

6. (I) Kapalı avlulu medrese örneklerinden biri olan Yakutiye Medresesi, yöre kültürünü yansıtan eserlerin sergilenebilmesi için 1995'te restore edilmiş. (II) Medresenin basık kemerli ve oymalı anıtsal taç kapısı, zengin süslemelerle bezeli. (III) Taç kapının yan yüzlerinde silme kemerle çevrili nişler içerisinde bulunan, iki pars ve kartal figüründen oluşan hayat ağacının, Yakut Bey'in amblemi olduğu sanılıyor. (IV) Medresenin, İlhanlı Sultanı Olcaytu'nun buyruğuyla 1310'da yaptırıldığını sülüs yazıyla yazılmış kitabesinden öğreniyoruz. (V) Medresenin doğu kısmında, yapıya bitişik olan bir türbenin kime ait olduğu konusunda kesin bir bilgi yok.

**Bu parçada numaralanmış cümlelerin hangisinde belirtilenler, kanıtıyla birlikte verilmiştir?**

- A) I      B) II      C) III      D) IV      E) V

7. Dünya'nın yörünge hareketi, ağırlıklı olarak Güneş'in çekim kuvvetinden kaynaklanmaktadır.

**Bu cümleden çıkarılacak kesin sonuç aşağıdakilerden hangisidir?**

- A) Dünya'nın dönüş hareketi Güneş'inkinden daha yavaştır.
- B) Dünya'nın hareketine etki eden yalnızca Güneş değildir.
- C) Yörünge hareketi Dünya'nın eksenini etrafında dönmesiyle oluşur.
- D) Güneş'in çekimi, tüm yıldızlardan daha fazladır.
- E) Yer çekimi kuvveti, yörünge hareketinden daha fazladır.

8. Topluma mal olmuş Nasreddin Hoca'nın her — ve her — topluma yönelik düşündürücü bir hiciv vardır.

**Bu cümlede boş bırakılan yerlere sırasıyla aşağıdakilerden hangileri getirilmelidir?**

- A) lafında – sözünde
- B) hareketinde – adımında
- C) sözünde – davranışında
- D) hikâyesinde – öyküsünde
- E) bilgisinde - düşünüşünde

9. "Temizce" sözcüğü, aşağıdaki cümlelerin hangisinde ötekilerden farklı bir görevde kullanılmıştır.

- A) Temizce bir arabaydı ama pahalıydı.
- B) Masaya temizce bir örtü sermişler.
- C) Toplantıya giderken temizce giyindim.
- D) Temizce bir önlük giyip sınıfa girdim.
- E) Divana temizce bir çarşaf örtüp bebeği yatırdı.

Y  
A  
R  
G  
I  
Y  
A  
Y  
I  
N  
E  
V  
İ

10. (I) Kırılmaçlar, dış görünüşleri bakımından Ebabil kuşlarına benzer. (II) Bu kuşların göğüs kısımları enli, boynu kısa, başı ise yassıdır. (III) Bacakları kısa ve kuvvetsiz, kanatları uzun, dar ve çok sivridir. (IV) Kuyrukları çoğu zaman derin çatallı, tüyleri kısa ve üstte madenî parlılıktır. (V) Fiziksel özellikleri onları diğer türlerden ayırıyor gibi görünse de ötücü kuşların içinde sesi en güzel olan kuşlardır.

**Bu parçadaki numaralanmış cümlelerle ilgili olarak aşağıda verilenlerden hangisi yanlıştır?**

- A) I'ncide, belirtisiz ad tamlaması vardır.
- B) II'nci, ad cümlesidir.
- C) III'üncüde, çatı özellikleri aranmaz.
- D) IV'üncü, bağımsız sıralı cümledir.
- E) V'inci, biçimce ve anlamca olumsuzdur.



11. Aşağıdaki cümlelerin hangisinde bir sözcük, hem belirtme hem niteleme sıfatı almıştır?

- A) Şairin bazı şiirlerinde umudun yüksek olduğunu görebiliriz.  
 B) Nitelikli şairin karar verme kudreti çok yüksektir.  
 C) İki satırlık bir şiir yazıp kendini anlatmayı başardı.  
 D) Bugünün bazı iyi yazarları halkı tanıyarak yazıyor.  
 E) Şair ilk şiirlerini kitap haline getirmiş.

12. Ödün vermek, her zaman emeği ve çalışmayı ziyan eder.

**Bu cümlelerin öğeleri aşağıdakilerin hangisinde sırasıyla verilmiştir?**

- A) Özne - zarf tümleci - nesne - yüklem  
 B) Nesne - zarf tümleci - dolaylı tümleş - yüklem  
 C) Özne - nesne - zarf tümleci - yüklem  
 D) Özne - nesne - dolaylı tümleş - yüklem  
 E) Nesne - zarf tümleci - özne - yüklem

13. Aşağıdaki cümlelerin hangisinde altı çizili sözcüğün kökü, tür bakımından diğerlerinden farklıdır?

- A) Yorgun olduğu için hemen uyumak istiyordu.  
 B) İşler her geçen gün daha da kötüye gidiyor.  
 C) Küçülen montunu kardeşine verecekti.  
 D) Yere serilen kilimi nereden aldınız?  
 E) Kızgın kumların üstünde zorlukla yürüdü.

14. Mersin'in Tarsus ilçesinde 1903'te, II.Abdülhamit'in

I II III  
 tahta çıkışının 25.nci yılı dolayısıyla yapılan saat  
 IV  
 kulesi 109 yıldır orijinal hâliyle zamana ve tarihe  
 V  
 tanıklık ediyor.

**Bu cümledeki numaralanmış sözlerin hangisinde bir yazım yanlışı vardır?**

- A) I B) II C) III D) IV E) V

15. Tarih boyunca nice uygarlığa ev sahipliği yapmış,  
 Anadolu'nun her köşesi bir kültür hazinesi. Neler  
 I  
 II  
 çıkıyor ki toprak ananın derinliklerinden... Müze  
 III  
 vitrinlerinde gördüklerinizi hatırlayın: heykeller, sik-  
 IV  
 keler, mozaikler, seramikler...  
 V

**Bu parçadaki numaralanmış noktalama işaretlerinden hangisi yanlış kullanılmıştır?**

- A) I B) II C) III D) IV E) V

16. Aşağıdaki cümlelerin hangisinde bir anlatım bozukluğu vardır?

- A) Bir kitap, sadece bilgi aktarmak amacıyla kaleme alınmışsa sanatsal bir nitelik taşıyor demektir.  
 B) Çocukların eğitimi, bir ülkenin geleceğine yapılabilecek en büyük yatırımdır.  
 C) Bugüne kadar öğretmen arkadaşlarımla kendim arasında en küçük bir tatsızlık yaşamadım.  
 D) Önümüzdeki üç dört binanın pencerelerinden ışıklar sızıyordu.  
 E) Hüznün, bir sanatçının yaratıcılığını kamçılığını düşünmüştür her zaman.

17. Son yıllarda "facebook" ve "twitter" kullanan gençler, birilerinden sürekli beğeni bekleyen küçük çocuklara benzemeye başladılar çünkü kendi kendilerine yetemiyorlar. Sayfalarında bir şeyler yayımlayıp sonra da bunlar beğenilmiş mi diye kılı kırk yararak kontrol ediyorlar. Gençlerin bu hâleri, bana dört beş yaşındaki çocukların, ağız kulaklarına vararak "Anneee, bak yemeğimi nasıl bitirdim?" deyip annesinden "Aferin evladım!" deme beklentisini hatırlatıyor. *İnternet* arkadaşlıkları, düşünceleri ve hobileri paylaşma amacından çıkıp insanların çocukluktan kaynaklanan "aferin sana beklentilerinin" tatmin merkezi oldu. Öyle olmasa bir insan için "Kahvaltıda sekiz zeytin yedim." gibi bir sözü paylaşır ki?

**Bu parçanın anlatımıyla ilgili olarak aşağıdakilerden hangisi söylenemez?**

- A) Gençlere yönelik olumsuz bir eleştirinin dile getirildiği  
 B) Deyimlerden yararlandığı  
 C) Nitel anlamlı sözcükler kullanıldığı  
 D) Kanılara yer verildiği  
 E) Tanımlama yapıldığı



18. Sayısız galaksiden tek bir atoma kadar her şeyi uyum içinde tutan en güçlü ve geçerli yasa, çekim yasasıdır. Bu yasa şöyle der: "Benzer, benzeri çeker." Bu yasa evrendeki her şey arasında işler. Buna hayatınız da dâhildir. Hayatınızın nasıl olacağına siz karar verirsiniz. Ne verirsiniz onu alırsınız. Verdiğiniz şeyler, çekim yasası aracılığıyla size bire bir döner. Çünkü her etki için ona eşit ve zıt yönlü bir tepki vardır. Her bir verme etkisi, alma tepkisini yaratır ve ne verirsiniz size dönmek zorundadır. Bu nedenle, hiçbir şey dışarıdan gelmez, her şey içinizden gelir. Sevgi verirsiniz karşılığında sevgi alırsınız. Olumsuzluk verirsiniz karşılığında olumsuzluk alırsınız. Kısacası ---

**Bu parçanın sonuna aşağıdakilerden hangisinin getirilmesi uygun değildir?**

- A) yaşamda istediğinizi almanın yolu, gereksindiginizi vermektir.  
B) başkalarının hayatlarına gönderdikleriniz, kendi hayatınıza geri döner.  
C) hayat, başınıza gelenler değil, başkalarına verdiklerinizin karşılığıdır.  
D) hayatınızı kendiniz değil, yazgınız belirler.  
E) hayatınızın her alanı çağrınızdır ve o çağrıyı, verdiklerinizle yaparsınız.

19. (I) Halk arasında gökkuşağı taşı olarak bilinen opal, aslında kuvarsın bir çeşididir. (II) Görünümü camsı olan opalin bileşiminde %3 su bulunur. (III) Taşıyan kişinin aşırı gergin olduğu anlarda opal çatlayıp suyunu atabilir çünkü vücuttaki yoğun elektrik suyla temas ettiğinde taşta genleşme olur. (IV) Değişik yönlerden bakılınca değişik renklerde görünen bu taşın gözenekli bir yapısı vardır. (V) Gözenekleri cam pırlıtısında olan opalin kırık yüzeyleri ise kavkiya benzer.

**Bu parçadaki numaralanmış cümlelerden hangisi düşüncenin akışını bozmaktadır?**

- A) I B) II C) III D) IV E) V

20. Türkiye, kitap okuma konusunda pek çok Afrika ülkesinden geri kalmış durumda. Çünkü insanımız, kitap okumaya yılda sadece 6 saat ayırıyor. Japonya'da toplumun %14'ü, Amerika'da %12'si, İngiltere ve Fransa'da %21'i düzenli kitap okurken Türkiye'de ortalama her 1000 kişiden yalnızca 1'i kitap okuyor. Bir Japon yılda ortalama 18, bir İsveçli yılda ortalama 10, bir Fransız yılda ortalama 25, bir Türk ise 10 yılda ancak bir kitap okuyor. Türkiye'deki kütüphanelerde 13 milyon kitap olmasına karşın Bulgaristan'da 46 milyon, Rusya'da 739 milyon, Almanya'daki kütüphanelerde 204 milyon kitap mevcut. Almanya'da 7500 kişiye 1 kütüphane düşerken Türkiye'de 70 bin kişiye bir halk kütüphanesi düşmekte.

**Bu parçada aşağıdaki sorulardan hangisinin yanıtı vardır?**

- A) Kitabın, Türk insanının genel ihtiyaç maddeleri sırasındaki yeri nedir?  
B) Ülkemizde okunan kitaplar, genellikle hangi konuları işlemektedir?  
C) Türkiye'de kütüphanelere kayıtlı üye sayısı kaçtır?  
D) Dünyada kitabın en çok okunduğu ülke hangisidir?  
E) Türk insanı, kitap okumaya bir yılda ne kadar zaman ayırmaktadır?

21. (I) İmparator pengueni, Antarktika buzullarında yaşayan bir deniz kuşudur. (II) Bu penguenler sadece denizde avlanır. (III) Grup hâlinde avlanan imparator penguenleri; balıklar, kril adı verilen planktonik canlılar ya da mürekkep balıkları ile beslenir. (IV) Bu kuşlar; direkt olarak balık sürülerine dalar, küçük avları hemen suyun içinde yerken daha büyük avları parçalamak için su yüzeyine çıkarır. (V) İmparator penguenleri ilk kez 3 ile 6 yaş aralığında üremeye başlar. (VI) Kuluçka yerine doğru, donmuş deniz üzerinde karaya 200 km kadar yürür. (VII) Antarktika yazında bile buzun ermediği bir bölgeye yumurtalarını bırakır.

**Bu parça iki paragrafa ayrılmak istense ikinci paragraf numaralanmış cümlelerin hangisiyle başlar?**

- A) II B) III C) IV D) V E) VI



22. Avrupa ülkelerinin çoğunda 13 sayısının uğursuz olduğu inancı son derece yaygındır. Bu inancın kökü, İskandinav mitlerine kadar uzanır. Mite göre, ışık ve güzellik tanrısı Balder'in verdiği ziyafete 12 tanrı davetliyken hilelerin tanrısı Loki, davetli olmadığı hâlde zorla 13. kişi olarak katılmak ister. Bu nedenle çıkan tartışmada Loki, diğer tanrılar tarafından çok sevilen Balder'i öldürür. Hristiyanlar ise bu inancı Hz. İsa'nın son yemeğine dayandırır. İncanın Hristiyan versiyonunda Balder'in yerini Hz. İsa, Loki'nin yerini de Judas alır. Bu yemekten sonra 24 saat içinde de Hz. İsa, çarmıha gerilerek öldürülür. Hint ve Japon mistisizminde ise bu inanç ayın 13 kez dolunay olarak görünmesine bağlanır. THY'nin hiçbir uçağında da 13 no'lu koltuk bulunmamaktadır.

**Bu parçadan, 13 sayısı ile ilgili olarak**

- I. Uğursuz olduğuna inanmayan Batı ülkeleri de vardır.
- II. Tüm dünya ülkelerinde uyandırdığı çağırışım olumsuzdur.
- III. Uğursuz olduğu inancı salt Doğu toplumlarına özgüdür.
- IV. Uğursuz olduğunun düşünülmesinin farklı gerekçeleri vardır.

**yargılarından hangileri çıkarılabilir?**

- A) I ve II                      B) I ve IV                      C) II ve III  
D) II ve IV                      E) III ve IV

23. Ehrenburg, iyi yetişmiş bir okuyucunun, sanatçıyı yeni ve özgün eserler vermeye zorlayacağını yazıyor. Ya iyi yetişmemiş, okuduğunu değerlendirme yeteneğinden yoksun okuyucu? Ne katkıda bulunabilir sanatçının yaratma çabasına? Onu, kendisini aşmaya nasıl itebilir? Bırakınız kendisini aşmaya itmeyi, kösteklemez mi, canından bezdirmez mi sanatçıyı? Sağır bir duygusuzluk içinde savsaklamaya, yerinde saymaya neredeyse zorlamaz mı onu?

**Bu parçada anlatılanları özetleyen yargı aşağıdakilerin hangisidir?**

- A) Okuyucunun bilinçlisi sanatçının yaratma gücünü geliştirir, bilinçsizi köreltir.
- B) Bilinçsiz okuyucu, kendisini kolay kolay yenileyemez.
- C) Kendisini aşmak isteyen sanatçı, bilinçli okuyucuya seslenmelidir.
- D) Okuduğunu değerlendirme yeteneği, bilinçli okuyucuya özgüdür.
- E) İyi yetişmemiş okuyucu, sanat eserinden tat alamaz.

24. Dünyadaki bütün böcekler, herhangi bir nedenle birdenbire yeryüzünden yok olsalar 50 yıl içerisinde yeryüzündeki tüm yaşam sona ererdi. Fakat dünyadaki bütün insanlar, herhangi bir nedenle birdenbire yeryüzünden yok olsalar 50 yıl içerisinde, var olan bütün canlı türleri hızla yeniden gelişmeye ve çoğalmaya başladılar.

**Bu parçadan aşağıdakilerden hangisi çıkarılabilir?**

- A) Doğa, dengesini kendi yasalarına göre kurar.
- B) Her canlı, doğadaki besin zincirinin bir halkasını oluşturur.
- C) İnsan, evrenin tek sahibi olduğunu bildiği için doğayı tüketmektedir.
- D) İnsanoğlu, varlığını tehdit eden her şeyi yok etme eğilimindedir.
- E) İnsanın varlığı, diğer canlı türlerinin varlığını tehdit etmektedir.

Y  
A  
R  
G  
I  
Y  
A  
Y  
I  
N  
E  
V  
I

25. Yalıçapkını, gök kuzgunları familyasına ait bir kuş türüdür. Bu kuşlar Afrika'dan Avustralya'ya, Avrupa'dan Amerika'ya kadar dağınık bir coğrafyada görülür ancak familyanın kökeninin aslen Asya olduğu sanılmaktadır. Sadece balıklarla beslenen bu kuşlar, avlanma sırasında havada asılı kalarak avını tespit eder ve dik bir şekilde dalışa geçerek avını yakalar; avını kolay yutabilmesi için kılıçklarının yönünde yutar. Söylencelere göre, bu kuşu havada asılı kalırken gören, yalılarda oturan genç kızlar "Vay, çapkına bak bizi gözlüyor!" demişler ve o günden sonra bu kuşun adı, yalıçapkınına çıkmış.

**Bu parçada yalıçapkını ile ilgili olarak aşağıdakilerin hangisine değinilmiştir?**

- A) Etçil beslendiğine
- B) Nerelere yuva yaptığına
- C) Adının anlamına
- D) Kuluçka süresine
- E) Ötücü olduğuna



26. Afganistan, Orta Asya'nın güneyindeki büyük bir yaylada kurulmuş bir ülkedir. Güneyinde ve doğusunda Pakistan, batısında İran yer alır. Kuzey komşusu SSCB ile sınırının bir bölümünü, Ceyhun Irmağı oluşturur. Yarı kurak bozkır ikliminin egemen olduğu Afganistan'da kışlar çok soğuk, yazlar çok sıcak geçer. Batıya doğru gidildikçe yıllık yağış ortalaması artar. Afganistan'ın güneyinde bitki örtüsü çok seyrek. Batıdaki kıraç bölgelerde ve kum çöllerinde hemen hiç ağaca rastlanmaz. Ülkenin kuzeyinde yağışların da etkisiyle bitki örtüsü sıklaşır. Yükseklerde iğne yapraklı ağaçların bulunduğu geniş ormanlar yer alır. Ekilebilir alanların kıt olduğu bölgelerde yaşayanlar tarım ve hayvancılıkla uğraşır. Yaz aylarında yüksek otlaklara çıkarak kışları geri dönen bu yarı yerleşik tarımcılar, birkaç türde tarımsal üretim yaparlar. Göçebelerin çoğunu Peştu çobanları oluşturur. Aşiretler hâlinde yaşayan ve hayvancılıkla uğraşan göçebeler ise yaz aylarında otlaklara inerler.

**Bu parçada Afganistan'la ilgili olarak aşağıdakilerin hangisinden söz edilmemiştir?**

- A) Birden çok ülkeyle komşu olduğundan
- B) Bitki örtüsünün yer yer farklılıklar gösterdiğinden
- C) Nüfus yoğunluğunu Müslümanların oluşturduğundan
- D) Doğu bölümünün batıdan az yağış aldığından
- E) Coğrafyasının hem tarım hem hayvancılığa elverişli olduğundan

27. Modern Türk hikâyeciliğinin öncülerinden olan Sait Faik, öykülerinde insanların yaşama biçimlerini, isteklerini, tasalarını, korkularını ve sevinçlerini irdeleyerek toplumsal çelişkiler yerine, insanı ele almıştır. Kendi özgün dilini oluştururken Andre Gide, Çehov gibi isimlerden etkilenmiş, kendisinden sonra gelen Ferit Edgü, Adalet Ağaoğlu, Demir Özlü gibi pek çok yazarı da etkilemiştir. Ölümünün ardından Burgaz Adası'ndaki evi müzeye dönüştürülen yazarın adına, her sene öykü ödülü verilmektedir.

**Bu parçada Sait Faik'le ilgili olarak aşağıdakilerin hangisine değinilmemiştir?**

- A) Öykülerinin temelini bireysel konuların oluşturduğuna
- B) Farklı yazın türlerinde eserlerinin olduğuna
- C) Yabancı kimi sanatçılara öykündüğüne
- D) Kendine özgü bir söyleyişinin olduğuna
- E) Adına her yıl bir etkinlik düzenlendiğine

**28. – 30. SORULARI AŞAĞIDAKİ BİLGİLERE GÖRE CEVAPLAYINIZ.**

Alışveriş için aynı gün içinde K, L, M, N ve P marketlerine giden, Elçin, Duygu, Neval, Beyza ve Tülay'dan her biri marketten, sebze, meyve, ekmek, süt ve yumurtadan birini almışlardır. Yapılan alışverişlerle ilgili aşağıdaki bilgiler verilmiştir:

- Herkes sadece 1 markete gitmiş ve tek bir ürün almıştır.
- Elçin K marketine gitmiştir.
- Ekmeği alan Duygu'dur.
- Beyza K ya da L marketine gitmiştir.
- Yumurta ve sebze alanlar K veya M'den almışlardır.
- Süt alan Tülay P'den almıştır.

28. Aşağıdakilerden hangilerininin hem gittiği market, hem de aldığı ürün kesin olarak söylenebilir?

- A) Duygu - Neval
- B) Elçin - Tülay
- C) Neval - Beyza
- D) Neval - Tülay
- E) Beyza - Tülay

29. Bu bilgilerden yola çıkılarak aşağıdaki sonuçlardan hangisine varılamaz?

- A) Duygu ekmeği N'den almıştır.
- B) Beyza meyve almıştır.
- C) Elçin yumurta almıştır.
- D) Neval sebze almıştır.
- E) Neval meyve almıştır.

30. Neval yumurta almışsa aşağıdakilerden hangisi doğrudur?

- A) Elçin sebze almıştır.
- B) Duygu ekmeği L'den almıştır.
- C) Beyza meyveyi K'den almıştır.
- D) Elçin meyve almıştır.
- E) Duygu M'ye gitmiştir.



31.  $\frac{2}{5} + \frac{4}{5} + \frac{6}{5} + \dots + \frac{28}{5}$

işleminin sonucu kaçtır?

- A) 34    B) 40    C) 42    D) 46    E) 50

32. x, y ve z birbirinden farklı rakamlardır.

$$x + \frac{y}{z} = 8$$

olduğuna göre, x + y + z toplamının en büyük değeri kaçtır?

- A) 17    B) 18    C) 19    D) 20    E) 21

33.  $\sqrt[3]{125^{x-1}} = 25$

olduğuna göre, x kaçtır?

- A) 1    B) 2    C) 3    D) 4    E) 5

34.  $A = \frac{17}{27} + \frac{13}{30}$

olduğuna göre,  $\frac{10}{27} + \frac{47}{30}$  toplamının A türünden eşiti aşağıdakilerden hangisidir?

- A) A - 3    B) A - 2    C) 2A - 1  
D) 2 - A    E) 3 - A

35. a < b olmak üzere, iki basamaklı ab sayısı 6 ile tam bölünmektedir.

Buna göre, a nın alacağı farklı değerlerin toplamı kaçtır?

- A) 23    B) 17    C) 15    D) 14    E) 12

36. x ve y pozitif tam sayılardır.

$$x < y$$

$$\text{EBOB}(x, y) = 6$$

$$\text{EKOK}(x, y) = 72$$

olduğuna göre, x in alabileceği değerler toplamı kaçtır?

- A) 48    B) 36    C) 32    D) 24    E) 18

Y  
A  
R  
G  
I  
Y  
A  
Y  
I  
N  
E  
V  
İ

37. A şehrinden B şehrine gitmek için iki yol vardır.

I. yol:  $(290 - 2x)$  km

II. yol:  $(3x + 40)$  km

I. yol, II. yoldan daha kısa olduğuna göre, x sayısı aşağıdaki aralıkların hangisindeki bütün değerleri alabilir?

- A) (0, 50)    B) (50, 145)    C) (70, 230)  
D) (0, 230)    E) (145, 230)

38.  $x^2 < x$  olduğuna göre,

$$|1 - |x - 1||$$

ifadesinin eşiti aşağıdakilerden hangisidir?

- A) -x    B) x - 2    C) x - 1    D) 2 - x    E) x



39.  $\frac{3}{x-1} + \frac{1}{y+2} = 8$

$\frac{2}{x-1} - \frac{1}{y+2} = 7$

denklemin sistemini sağlayan x kaçtır?

- A) 4 B) 2 C)
- $\frac{4}{3}$
- D)
- $\frac{5}{4}$
- E)
- $\frac{6}{5}$

40.  $\frac{8^3 - 1}{(8^2 + 1) \cdot (8^4 + 1)}$

işleminin sonucu kaçtır?

- A) 62 B) 63 C) 64 D) 65 E) 66

41. Bir torbadaki siyah ve beyaz bilyelerin toplam sayısı üç basamaklı bir sayıdır. Siyah bilyelerin sayısı bu üç basamaklı sayının rakamları toplamına eşittir. Beyaz bilyelerin sayısı ise 220 ile 230 arasındadır.

Buna göre, torbada **en fazla** kaç tane siyah bilye olabilir?

- A) 12 B) 13 C) 14 D) 15 E) 16

42. Boyu 180 cm olan bir kişi, tepesinde sokak lambası bulunan 12 metre uzunluğundaki bir direkten kaç metre uzakta durursa gölgesinin uzunluğu 30 cm olur?

- A) 1,7 B) 1,9 C) 2,1 D) 2,3 E) 2,5

43. Gözde bir merdivenin basamaklarının yarısını birer birer, diğer yarısını ikişer ikişer çıkıp, inerken üçer üçer iniyor.

Gözde'nin attığı toplam adım sayısı merdivenin basamak sayısından 15 fazla olduğuna göre, merdiven kaç basamaklıdır?

- A) 90 B) 120 C) 125 D) 150 E) 180

44. Umut bir işin
- $\frac{1}{3}$
- ünü 10 saatte, Evrim aynı işin
- $\frac{2}{5}$
- ini 6 saatte yapıyor.

Buna göre, ikisi birlikte bu işin tamamını kaç saatte yaparlar?

- A) 6 B) 7 C) 8 D) 9 E) 10

Y  
A  
R  
G  
I  
Y  
A  
Y  
I  
N  
E  
V  
I

45. Bir fabrikada üretilen ürünler için, maliyet fiyatı a TL ve satış fiyatı b TL olmak üzere, a ile b arasında
- $b = 2a - 10$
- bağıntısı vardır.

Buna göre, bu fabrikada üretilen ve maliyeti 40 TL olan bir ürünün satışından yüzde kaç kâr elde edilmektedir?

- A) 60 B) 65 C) 70 D) 75 E) 80

46. Saatte 40 km sabit hızla yol alan bir bisikletli, 20 km lik bir yolun
- $\frac{2}{5}$
- ini asfalttan,
- $\frac{3}{5}$
- ini ise topraktan gidiyor.

Bu bisikletli asfalttan giderken dakikada 10, topraktan giderken de dakikada 20 kez pedal çevirdiğine göre, yol boyunca toplam kaç kez pedal çevirir?

- A) 240 B) 360 C) 390 D) 420 E) 480

47. Üç torbadan birincisinde 3 kırmızı 2 beyaz, ikincisinde 4 kırmızı 1 beyaz, üçüncüsünde ise 1 kırmızı 4 beyaz bilye vardır. Bu torbalardan rastgele biri seçiliyor ve seçilen torbadan da bir bilye çekiliyor.

Buna göre, çekilen bilyenin kırmızı olma olasılığı kaçtır?

- A)
- $\frac{2}{5}$
- B)
- $\frac{8}{15}$
- C)
- $\frac{3}{5}$
- D)
- $\frac{2}{3}$
- E)
- $\frac{11}{15}$




**48 – 50. SORULARI AŞAĞIDAKİ BİLGİLERE GÖRE CEVAPLAYINIZ.**

Aşağıdaki kurala uyarak bir sayı dizisi oluşturuluyor.

- Sayı dizisinin ilk terimi seçiliyor ve ikinci terim seçiliyor ve ikinci terim ilk terimin bir fazlası oluyor.
- Üçüncü terimden itibaren her terim bir önceki terimin iki katı ile iki önceki terimin 3 katının toplamına eşit oluyor.

**Örneğin**

1. terim 3 ise  
 2. terim 4  
 3. terim  $4.2 + 3 \cdot 3 = 17$   
 4. terim  $17.2 + 4.3 = 46$

**48. İlk terim 1 ise 4. terim kaçtır?**

- A) 20 B) 18 C) 15 D) 14 E) 10

**49. 3. terim 27 ise ilk iki terimin toplamı kaçtır?**

- A) 5 B) 6 C) 8 D) 9 E) 11

**50. Sayı dizisindeki terimler 20 den küçük doğal sayılar ise en fazla kaç terimli bir dizi oluşturulabilir?**

- A) 2 B) 3 C) 4 D) 5 E) 6

**51 – 53. SORULARI AŞAĞIDAKİ BİLGİLERE GÖRE CEVAPLAYINIZ.**

Serdar her gün evinden işine gitmek için önce otobüse binip sonrada yürüyor. Otobüsler 30 dk. da bir geliyor. 1 saat 15 dak otobüs yolculuğu sürüyor ve otobüsten inince 15 dakika yürüyor.

**51. Serdar bu güzergâhları kullanarak aşağıdaki dakika cinsinden sürelerden hangisinde iş yerine ulaşamaz?**

- A) 80 B) 90 C) 105 D) 110 E) 120

**52. Serdar maksimum kaç dakikada işyerinde olur?**

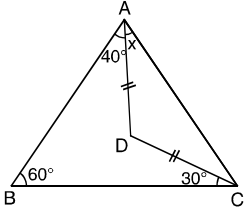
- A) 90 B) 95 C) 100 D) 110 E) 120

**53. Evden çıktığında bir önceki otobüs gideli 10 dakika olduğuna göre kaç dakika sonra otobüsten iner?**

- A) 90 B) 95 C) 100 D) 110 E) 120



54.



ABC bir üçgen  
 $|AD| = |DC|$   
 $m(\widehat{ABC}) = 60^\circ$   
 $m(\widehat{BAD}) = 40^\circ$   
 $m(\widehat{BCD}) = 30^\circ$   
 $m(\widehat{DAC}) = x$

Yukarıdaki verilere göre, x kaç derecedir?

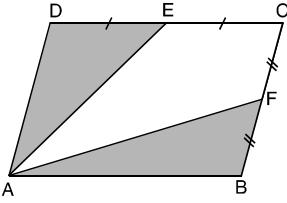
- A) 15 B) 20 C) 25 D) 30 E) 35

55. x, y ve z birer pozitif tam sayı olmak üzere, bir kenar uzunluğu x cm olan karenin alanının, boyutları y cm ve z cm olan dikdörtgenin alanına oranı  $\frac{12}{11}$  dir.

Buna göre, x + y + z toplamı en az kaçtır?

- A) 19 B) 20 C) 21 D) 22 E) 23

56.

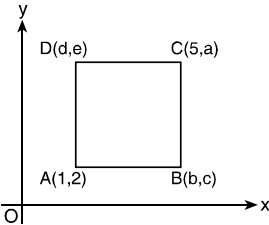


ABCD bir paralelkenar  
 $|DE| = |EC|$   
 $|CF| = |FB|$

Şekildeki ABCD paralelkenarının alanı  $84 \text{ cm}^2$  olduğuna göre, taralı alanlar toplamı kaç  $\text{cm}^2$  dir?

- A) 42 B) 41 C) 40 D) 39 E) 38

57.



ABCD bir kare  
 $[AB] \parallel O_x$   
 $[AD] \parallel O_y$

Yukarıdaki verilere göre, a + b + c + d + e toplamı kaçtır?

- A) 18 B) 19 C) 20 D) 21 E) 22

**58 – 60. SORULARI AŞAĞIDAKİ BİLGİLERE GÖRE CEVAPLAYINIZ.**

800 öğrencisi olan bir okuldaki öğrencilerin, % 40 ı üniversiteye yerleşmiştir. Üniversiteye yerleşen öğrencilerin fakültelere göre dağılım yüzdeleri aşağıdaki tabloda verilmiştir.

Fakülte	Öğrencilerin Fakülteye Göre Dağılım Yüzdeleri (%)
Mühendislik	35
Tıp	5
Eczacılık	15
Eğitim	20
Hukuk	25

58. Bu okuldaki öğrencilerin kaç tanesi eczacılık fakültesine yerleşmiştir?

- A) 42 B) 44 C) 46 D) 48 E) 50

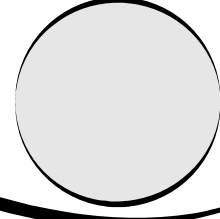
59. Hangi fakülteye yerleşen öğrenci sayısı tüm okuldaki öğrencilerin % 10 udur?

- A) Mühendislik B) Tıp C) Eczacılık  
 D) Eğitim E) Hukuk

60. Eğitim fakültesine yerleşen öğrencilerin % 25 i Matematik öğretmenliğine, kalan öğrencilerin % 75 i Türkçe öğretmenliğine ve geriye kalan öğrenciler de Tarih öğretmenliğine yerleşmiştir.

Buna göre, tarih öğretmenliğine yerleşen kaç öğrenci vardır?

- A) 12 B) 16 C) 20 D) 28 E) 36



Bu testte toplam **60** soru vardır.

*Başarılar dileriz...*

1. Orta Asya'da yaşayan toplulukların;
- madencilik,
  - astronomi,
  - dokumacılık
- alanlarının hangilerinde bilgi birikimine sahip oldukları savunulabilir?

A) Yalnız I      B) Yalnız II      C) I ve II  
D) I ve III      E) I, II ve III

2. Türk-İslam devletlerinde Müslüman olmayan halkın;
- medrese,
  - kervansaray,
  - şifahane
- kurumlarından hangilerinin verdiği hizmetlerden yararlandığı savunulamaz?

A) Yalnız I      B) Yalnız II      C) I ve II  
D) I ve III      E) I, II ve III

3. Türk-İslam devletlerinin, halkı Hıristiyan olan toprakları almalarının;
- haraç,
  - cizye,
  - öşür
- vergilerinden hangilerindeki artışa ortam hazırladığı savunulabilir?

A) Yalnız I      B) Yalnız II      C) I ve II  
D) I ve III      E) I, II ve III

4. Osmanlı İmparatorluğu'nda padişah fermanlarıyla aşağıdaki alanlardan hangisinin düzenlendiği savunulamaz?

A) Din  
B) Ordu  
C) Maliye  
D) Vergi  
E) İdare

5. – İlk divan teşkilatı oluşturulmuştur.  
– Yaya ve müselleme adıyla düzenli ordu kurulmuştur.  
– İlk vakıf bu dönemde kurulmuştur.

**Yukarıda özellikleri verilen dönem aşağıdakilerden hangisidir?**

A) Orhan Bey  
B) I. Murat  
C) Yıldırım Beyazıt  
D) II. Murat  
E) II. Mehmet

6. Divanhümayunda mali işlerden sorumlu olan ve Anadolu ve Rumeli olarak ikiye ayrılan makam aşağıdakilerden hangisidir?

A) Sadrazam  
B) Nişancı  
C) Defterdar  
D) Şeyhülislam  
E) Kazasker

7. Aşağıda yasama ile ilgili verilen unsurlardan hangisi örfi bir nitelik taşımaz?

A) Adaletname  
B) Berat  
C) Kanunname  
D) Ferman  
E) Fetva



8. XVII. yüzyıldan itibaren Osmanlı medreselerinde aşağıdaki derslerden hangisinin önemini kaybettiği söylenemez?

- A) Matematik
- B) Felsefe
- C) Astronomi
- D) Tıp
- E) Hukuk

9. Sanayi Devrimi'nin, Osmanlı'da;

- I. işsizliğin azalması,
- II. yerli sanayinin çökmesi,
- III. üretimde buharlı makinenin kullanılmaya başlanması

**gelişmelerden hangilerine neden olduğu savunulamaz?**

- A) Yalnız I
- B) Yalnız II
- C) I ve II
- D) I ve III
- E) I, II ve III

10. Osmanlıda kapıkulu askerlerinin sayısının artmasıyla;

- I. tarımsal üretimin artması,
- II. maliyenin bozulması,
- III. ıslahatların hızlanması

**durumlardan hangileri arasında ilişki kurulabilir?**

- A) Yalnız I
- B) Yalnız II
- C) I ve II
- D) I ve III
- E) I, II ve III

11. Osmanlılarda aşağıdakilerden hangisinin Tanzimat Fermanı'nın etkisiyle meydana geldiği savunulamaz?

- A) "Ana haklar" kavramının Osmanlı'ya aktarılması
- B) Yasa üstünlüğü anlayışının yerleşmesi
- C) Özel mülkiyet güvencesinin gelişmesi
- D) Demokratik anlayışın yerleşmeye başlaması
- E) Ayanların varlığının hukuken tanınması

12. Osmanlı Devleti'nde XIX. yüzyılın yarısından itibaren Anadolu'daki Türk-İslam nüfusunun artması;

- I. toprak kayıpları,
- II. sanayileşme,
- III. ekonominin düzelmesi

**durumlarından hangilerine bağlanabilir?**

- A) Yalnız I
- B) Yalnız II
- C) I ve II
- D) I ve III
- E) I, II ve III

13. Aşağıdakilerden hangisinde verilen neden-sonuç ilişkisinin doğru olduğu savunulamaz?

- A) Balkan Savaşları Osmanlıcılık düşüncesinin ortadan kalkması
- B) Trablusgarp Savaşı Rodos, On iki adanın elden çıkması
- C) Çanakkale Savaşı I. Dünya Savaşı'nın uzaması
- D) Brest Litovsk Antlaşması Kafkas Cephesi'nin kapanması
- E) Kanal Cephesi Savaşları İngiltere'nin Kıbrıs'a yerleşmesi

14. Erzurum Kongresi, İstanbul Hükümetinin üstüne düşen görevi yapamadığı takdirde aşağıdakilerden hangisinin öncelikle gerçekleştireceğini ilan etmiştir?

- A) Geçici bir hükümet kurulacağını
- B) Meclisi Mebusanın toplanacağını
- C) Kuvayimilliyenin destekleneceğinin
- D) Anlaşma devletleriyle savaşılacağını
- E) Her türlü manda girişiminin engelleneceğinin

15. Saltanat ve İstanbul Hükümeti, kamuoyu karşısında tek başlarına sorumluluk taşımak istemedikleri için Sevr Antlaşması'nı aşağıdakilerden hangisinde görüşmüşlerdir?

- A) Saltanat Şurası
- B) Meclisi Ayan
- C) Meclisi Mebusan
- D) Darül Fünun
- E) Harbiye Nezareti



16. Mustafa Kemal Paşa, Başkomutanlık Yasası'nın görüşülmesi sırasında kendisine verilecek yetkilerin üç ay ile sınırlandırılmasını istemiştir.

**Buna göre, Mustafa Kemal Paşa'nın;**

- I. diktatörlük,
- II. meşrutî,
- III. teokrası

**unsurlarından hangilerine karşı çıktığı savunulabilir?**

- A) Yalnız I                      B) Yalnız II                      C) I ve II  
D) I ve III                      E) I, II ve III

17. 1921 Teşkilatı Esasiye Yasası'nın kabul edilmesiyle TBMM;

- I. kurucu meclis olma,
- II. padişah ve halifenin siyasi ve hukuki yetkilerini üstlenme,
- III. Lozan Konferansı'nda Türk tarafını tek başına temsil etme

**özelliklerinden hangilerine sahip olduğu savunulabilir?**

- A) Yalnız I                      B) Yalnız II                      C) I ve II  
D) I ve III                      E) I, II ve III

18. "29 Ekim 1923'ten sonra bile yeni Türk Devleti'nde ikili yönetim görüntüsü devam etmiştir."

**yargısına;**

- I. saltanat,
- II. hilafet,
- III. TBMM

**kurumlardan hangilerinin varlığı kanıt olarak gösterilebilir?**

- A) Yalnız I                      B) Yalnız II                      C) I ve II  
D) I ve III                      E) I, II ve III

19. Lozan Antlaşması'nda özel yaşamlarında bazı haklara sahip olan azınlıklar Medeni Yasa'nın kapsamına alınmak istemişler ve istekleri kabul edilmiştir.

**Bu durumun aşağıdakilerden hangisine yol açtığı savunulamaz?**

- A) Ülkede hukuk birliğinin oluşmasına
- B) Patrikhanelerin yargısal yetkilerinin ortadan kalkmasına
- C) Vatandaşlık bilincinin oluşmasına
- D) Toplumsal düzenlemelerin tamamlanmasına
- E) Eskiden kalan imtiyazların sona ermesine

20. Devletçiliğin tarım sektöründeki yansımalarına aşağıdakilerden hangisi örnek verilemez?

- A) Toprak Mahsulleri Ofisi
- B) Tarım Kredi Kooperatifleri
- C) Devlet Çiftlikleri
- D) Yüksek Ziraat Enstitüsü
- E) Sümerbank

21. "Türkiye Atatürk Dönemi'nde bölgesinde lider devlet konumunda olmuştur" görüşüne;

- I. Balkan Antantı,
- II. Kellog – Briand Paktı,
- III. Sadabat Paktı

**gelişmelerden hangileri kanıt olarak gösterilebilir?**

- A) Yalnız I                      B) Yalnız II                      C) I ve III  
D) II ve III                      E) I, II ve III

22. Aşar Vergisi'nin kaldırılması, Teşviki Sanayi Yasası'nın çıkarılması, İş Bankası'nın kurulmasının;

- I. çiftçi,
- II. sanayici,
- III. tüccar

**gibi toplumsal kesimlerden hangilerine yönelik olduğu savunulabilir?**

- A) Yalnız I                      B) Yalnız II                      C) I ve II  
D) I ve III                      E) I, II ve III

Y  
A  
R  
G  
I  
Y  
A  
Y  
I  
N  
E  
V  
İ



23. Kadınlara 1930-1934 yılları arasında bütün siyasi hakların verilmesi;

- I. cumhuriyetçilik,
- II. halkçılık,
- III. devletçilik

ilkelerinden hangilerini geliştirdiği savunulabilir?

- A) Yalnız I      B) Yalnız II      C) I ve II  
D) I ve III      E) I, II ve III

24. 1924 Anayasası'nda 1928'de yapılan değişikliklerle;

- I. devletin dini,
- II. şer'i kurallar,
- III. yemin

gibi dinsel esaslardan hangileri anayasadan çıkarılmıştır?

- A) Yalnız I      B) Yalnız II      C) I ve II  
D) I ve III      E) I, II ve III

25. I. Adana  
II. I. Moskova  
III. Kahire

Yukarıdaki görüşmelerden hangilerine İsmet İnönü doğrudan katılmıştır?

- A) Yalnız I      B) Yalnız II      C) I ve II  
D) I ve III      E) I, II ve III

26. Türkiye Cumhuriyeti'nde devletçi ekonomiden liberal pazar ekonomisine geçişin ilk adımı sayılan gelişme aşağıdakilerden hangisidir?

- A) I. Beş Yıllık Sanayi Planı'nın uygulanması  
B) 1945'te Nuri Demirağ tarafından Milli Kalkınma Partisinin kurulması  
C) Recep Peker Hükümetinin 7 Eylül 1947'de aldığı kararlar  
D) Turgut Özal tarafından hazırlanan 24 Ocak 1980 kararları  
E) 1960'da IMF ile ilk stand by antlaşmasının yapılması

27. Arap – İsrail Savaşı'ndan sonra petrolün İsrail'e ve Batı'ya karşı siyasi bir silah olarak kullanılmasını sağlamak amacıyla Arap ülkeleri tarafından kurulan örgüt aşağıdakilerden hangisidir?

- A) OPEC  
B) OECD  
C) OAPEC  
D) AET  
E) DIM

28. Aşağıdaki seçeneklerde verilen bilgilerden hangisi Türkiye'nin Kuzey Yarımküre'de yer aldığına kanıt olarak gösterilebilir?

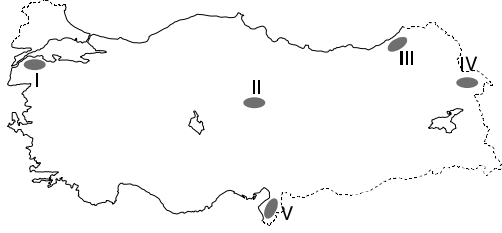
- A) Yıl içinde dört mevsimin yaşanması  
B) Kıyılarda gel-git genliğinin az olması  
C) Kuzeyden esen rüzgarların sıcaklığı düşürmesi  
D) Doğudaki merkezlerde güneşin önce doğması ve batması  
E) Güneş ışınlarının hiçbir zaman dik açı ile gelmemesi

29. Ege Bölgesi ile Karadeniz Bölgesi'nin aşağıdaki özelliklerinden hangisinin farklı olması bu iki bölgede dağların denize göre konumunun farklı olması ile açıklanabilir?

- A) Ege Bölgesi'nin sıcak su kaynakları bakımından daha zengin olması  
B) Karadeniz kıyılarında deniz turizminin daha az gelişmesi  
C) Karadeniz Bölgesi'nin balıkçılık gelirinin daha fazla olması  
D) Karadeniz Bölgesi limanlarının art bölgesinin daha dar olması  
E) Ege'de deniz suyu sıcaklığının Karadeniz'den yüksek olması



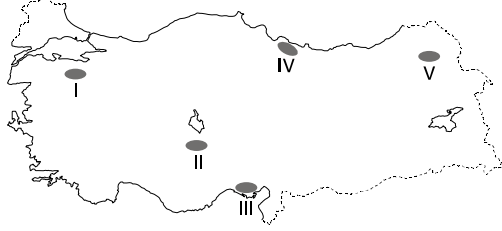
30.



Yukarıdaki haritada taralı olarak verilen yörelerden hangilerinde yaz mevsimi sıcak ve kurak **geçmez**?

- A) I ve III                      B) II, III ve IV                      C) Yalnız III  
 D) III ve IV                      E) III, IV ve V

31.



Bulunduğu yörenin iklim özellikleri göz önüne alındığında yukarıdaki haritada numaralandırılmış yörelerden hangisinde buharlaşmaya bağlı olarak topraktaki tuz ve kireç oranı diğerlerine göre **daha fazladır**?

- A) I                      B) II                      C) III                      D) IV                      E) V

32. Akarsuların yatak eğimi arttıkça akış hızları da artmaktadır. Akış hızı fazla olan akarsuların hidroelektrik potansiyeli de fazladır.

Buna göre, aşağıda verilen akarsuların aktıkları bölgelerin yer şekilleri özellikleri düşünüldüğünde hangisinin hidroelektrik enerji potansiyelinin daha az olduğu söylenebilir?

- A) Ergene                      B) Göksu                      C) Kızılırmak  
 D) Fırat                      E) Yeşilirmak

33. 308 km uzunluğa sahiptir. Alanya'nın kuzeyinde Akdağ'dan kaynağını alır. Taşeli Platosu üzerinden Akdeniz'e dökülür. Döküldüğü yerde Silifke delta ovasını oluşturmuştur.

Yukarıdaki parçada sözü edilen akarsu aşağıdakilerden hangisidir?

- A) Dalaman                      B) Göksu                      C) Aksu  
 D) Manavgat                      E) Seyhan

34. Aşağıdaki seçeneklerde verilen özelliklerden hangisinin o kentin ekonomisini **olumlu** yönde etkilediği **söylenemez**?

- A) Afyon'un kara ve demiryollarının kavşak noktasında yer alması  
 B) Rize'nin deniz kıyısında yer alması  
 C) Kars'ta ortalama yükseltinin fazla olması  
 D) Antalya'da güneşlenme süresinin uzun olması  
 E) Çanakkale'de iki denizi birbirine bağlayan boğazın bulunması

35. Türkiye'de 1985 yılında %25 olan yıllık nüfus artış hızı, 2012'de %12'ye gerilemiştir. Buna rağmen Türkiye'de nüfus gelişmiş ülkelerin ve dünya ortalamasının üzerinde bir hızda artmaktadır.

Buna göre, aşağıdakilerden hangisi ülkemizde hızlı nüfus artışının ortaya çıkardığı sorunlardan biri **değildir**?

- A) Kişi başına düşen milli gelirin azalması  
 B) İşsizlik oranının artması  
 C) Kırsal kesimden kentlere göçün artması  
 D) Genç nüfus oranının artması  
 E) Sağlık, eğitim ve altyapı hizmetlerinin aksaması

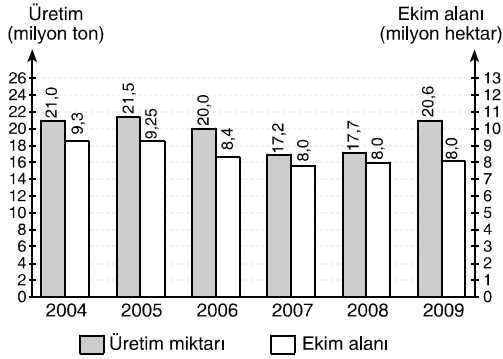
36. Aşağıdakilerden hangisi Türkiye'de nüfusun coğrafi dağılışı üzerinde beşeri faktörlerin etkisine bir örnektir?

- A) Güneydoğu Anadolu Bölgesi'nde nüfusun dağların eteğinde yoğunlaşması  
 B) İç Anadolu Bölgesi'nde Tuz Gölü çevresinde nüfusun az olması  
 C) Karadeniz Bölgesi'nde Zonguldak, Ereğli ve Karabük'te nüfusun yoğun olması  
 D) Ege Bölgesi'nde Menteşe Yöresi'nde nüfus yoğunluğunun az olması  
 E) Akdeniz Bölgesi'nde Teke ve Taşeli Yörelerinde nüfusun az olması

Y  
A  
R  
G  
I  
Y  
A  
Y  
I  
N  
E  
V  
I



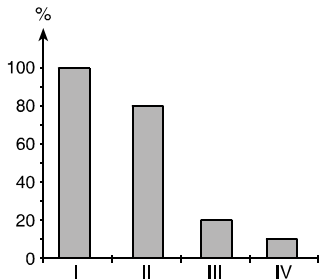
37. Aşağıdaki grafikte Türkiye’de 2004-2009 yılları arasında buğday ekim alanı ve üretim miktarları verilmiştir.



**Yalnızca** grafikteki bilgilerden yararlanarak aşağıdaki yorumlardan hangisine ulaşılabilir?

- A) Verilen yıllarda buğday üretimi sürekli artmıştır.  
B) 2007 yılında buğday verimi 2008 yılından fazladır.  
C) Buğday ekim alanının en geniş olduğu yılda buğday üretimi en fazladır.  
D) 2007-2009 yılları arasında buğday verimi sürekli artmıştır.  
E) Buğday üretiminin en fazla olduğu yıl yağış en fazladır.

38. Aşağıdaki grafikte Karadeniz Bölgesi’nde üretilen dört tarım ürününün Türkiye üretimi içerisindeki payı verilmiştir.



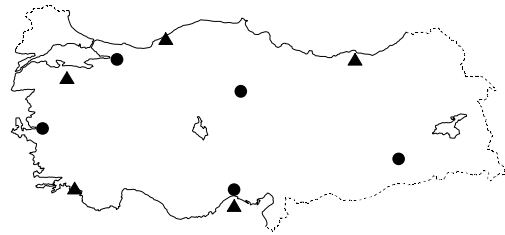
**Bu bilgilere göre, grafikte aşağıdaki ürünlerden hangisine yer verilmemiştir?**

- A) Çay B) Pamuk C) Fındık  
D) Mısır E) Tütün

39. Güneydoğu Anadolu Bölgesi aşağıdaki yer altı kaynaklarından hangisinin çıkarımında ilk sırada yer alır?

- A) Petrol B) Krom C) Boksit  
D) Linyit E) Kükürt

- 40.



**Yukarıdaki haritada ▲ ve ● sembolleri ile verilen merkezlerde gelişen endüstri kolları aşağıdakilerden hangisinde doğru olarak verilmiştir?**

- | ▲                 | ●           |
|-------------------|-------------|
| A) Otomotiv       | Seramik     |
| B) Kağıt          | Petro-kimya |
| C) Sigara         | Demir-çelik |
| D) Pamuklu dokuma | Petro-kimya |
| E) Seramik        | Kağıt       |

41. I. Edirne’den Ambarlı Limanı’na ayçiçeği yağı  
II. Afyon’dan İzmir Limanı’na mermer  
III. Erzurum’dan Trabzon’a büyükbaş hayvan

**Yukarıda verilen sevkiyatları yapmak için kullanılacak en ekonomik ulaşım yolları aşağıdaki seçeneklerden hangisinde doğru olarak verilmiştir?**

- | I            | II        | III       |
|--------------|-----------|-----------|
| A) Karayolu  | Demiryolu | Demiryolu |
| B) Demiryolu | Demiryolu | Karayolu  |
| C) Demiryolu | Demiryolu | Demiryolu |
| D) Demiryolu | Karayolu  | Demiryolu |
| E) Demiryolu | Havayolu  | Karayolu  |





42. Türkiye'nin dünya turizmindeki önemi her geçen gün artmaktadır. 1980'lerde başladığı turizmi geliştirme çalışmaları sonucunda bugün dünyada turizmde söz sahibi ülkelerden biridir. 2002 yılında dünya turizminde 17. sırada olan Türkiye 2009'da 7. sıraya yükseldi. Toplam turizm geliri; 20 milyar doları aştı.

**Buna göre, son yıllarda Türkiye'de turizmin gelişmesinde aşağıdakilerden hangisinin etkisi olmamıştır?**

- A) Turistik değerlerin tanıtımının artmasının  
 B) Turizm beldelerinde nüfus miktarının artmasının  
 C) Turizm etkinliklerinin çeşitlenmesinin  
 D) Ucuz tatil olanaklarının bulunmasının  
 E) Turistik tesis sayısının artmasının

44. • Karadeniz kıyısında yer alan ..... bölgenin en fazla nüfusa sahip kentidir. Bu durumun oluşmasında limanın varlığı, limanın iç bölgelerle gelişmiş bir kara ve demiryolu ağı ile bağlanması, geniş verimli delta ovalarına sahip olması ve ilaç, gübre, sigara, bakır fabrikalarının bulunması etkili olmuştur.
- Güneydoğu Anadolu Bölgesi'nde yer alan ..... ekonomisi tarım ve hayvancılığa dayalıdır. Ülkemizde çıkarılan petrolün yaklaşık üçte biri buradaki kuyulardan elde edilir. Kentin en önemli turizm değeri Kommagene Krallığı'na ait eserlerin tepesinde yer aldığı Nemrut Dağı'dır.

**Bu özellikler aşağıdakilerin hangisinde verilen kentlere aittir?**

<u>Karadeniz</u>	<u>Güneydoğu Anadolu</u>
A) Zonguldak	Mardin
B) Ordu	Diyarbakır
C) Giresun	Batman
D) Samsun	Adıyaman
E) Sinop	Şanlıurfa

Y  
A  
R  
G  
I  
Y  
A  
Y  
I  
N  
E  
V  
İ

43. Türkiye'de engebe ve yükseltinin kısa mesafede değişmesi, bölge ve bölümlerin sınırları içerisinde fiziki ve beşeri özellikleri birbirinden farklı yörelerin ortaya çıkmasına neden olmaktadır.

**Buna göre, aşağıdaki bölümlerden hangisinin sınırları içerisinde fiziki ve beşeri farklılıklar daha azdır?**

- A) Konya  
 B) Doğu Karadeniz  
 C) Yukarı Murat-Van  
 D) Antalya  
 E) Yukarı Kızılırmak

45. I. Rüzgar gücü  
 II. Hidroelektrik  
 III. Jeotermal  
 IV. Linyit

**Ege Bölgesi'nde yer alan yukarıdaki enerji kaynaklarından hangileri bölgenin jeolojik yapısıyla ilgilidir?**

- A) I ve II  
 B) Yalnız II  
 C) II ve III  
 D) Yalnız III  
 E) III ve IV

46. **Avrupa Parlamentosu 2012 Avrupa Spor Başkenti olarak aşağıdaki kentlerden hangisini seçmiştir?**

- A) İstanbul  
 B) Roma  
 C) Atina  
 D) Varşova  
 E) Kazan



47. 2011 yılında açıklanan Türkiye ekonomisine ilişkin orta vadeli programda en fazla hangi soruna ilişkin hedef ve çözüm yolları belirlenmiştir?

- A) Enflasyon oranını düşürmek
- B) İşsizlik oranını düşürmek
- C) Yatırım oranını düşürmek
- D) Yurt içi tüketimi artırmak
- E) Cari açığı azaltmak

48. Aşağıdaki ülkelerden hangisi Gelişmiş Yirmi Ülke (G-20)'nin üyelerinden biri değildir?

- A) Fransa
- B) Güney Afrika Cumhuriyeti
- C) Brezilya
- D) Tunus
- E) Endonezya

49. Türkiye'de bir bankanın kurulmasına aşağıda verilen kurumlardan hangisi karar verir?

- A) Tasarruf ve Mevduat Sigorta Fonu
- B) Bankacılık Düzenleme ve Denetleme Kurumu
- C) Sermaye Piyasası Kurulu
- D) Başbakanlık
- E) Sanayi Bakanlığı

50. Aşağıdakilerden hangisi başkanlık sisteminin özelliklerinden biridir?

- A) Yürütme, yasamayı fesh edebilir.
- B) Yasama, yürütme organını fesh edebilir.
- C) Aynı kişi hem yasamada hem de yürütmede görev yapabilir.
- D) Başkan, yasama organının çalışmasına katılır.
- E) Yürütme organı tek kişiden oluşur ve başkandır.

51. Aşağıdakilerden hangisi devlet memurlarına verilen disiplin cezalarından biri değildir?

- A) Uyarma
- B) Kınama
- C) Aylıktan kesme
- D) Devlet memurluğundan çıkarma
- E) Aile yardımının kesilmesi

52. Aşağıdakilerden hangisi 1982 Anayasası'na göre, milletvekili seçilme yeterliliği ile ilgili yanlış bir bilgidir?

- A) Türk vatandaşı olmak
- B) Yirmi beş yaşını doldurmak
- C) En az ilkokul mezunu olmak
- D) Kısıtlı olmamak
- E) Taksirli suçlardan dolayı 1 yıldan fazla hapis cezası almamak

53. 1982 Anayasası'na göre, anayasa değişikliği için en az kaç milletvekilinin teklifi gereklidir?

- A) Meclis üye tam sayısının salt çoğunluğunun
- B) Meclis üye tam sayısının üçte birinin
- C) Yirmi milletvekilinin
- D) 110 milletvekilinin
- E) Meclis üye tam sayısının üçte iki çoğunluğunun

54. Aşağıdakilerden hangisi 1982 Anayasasında yer alan yüksek mahkemelerden biridir?

- A) Vergi Mahkemesi
- B) Bölge İdare Mahkemesi
- C) Ağır Ceza Mahkemesi
- D) Asliye Hukuk Mahkemesi
- E) Uyuşmazlık Mahkemesi



55. Aşağıdakilerden hangisi Türkiye Cumhuriyeti İdaresi'nin görevlerinden biri değildir?

- A) Milli güvenliğin sağlanması
- B) Kolluk faaliyetleri
- C) Kamu hizmetleri
- D) Planlama faaliyetleri
- E) Gelir dağılımının dengelenmesi

58. Merkez Bankası Başkanı aşağıdakilerden hangisidir?

- A) Vahdettin Ertaş
- B) Mukim Öztekin
- C) Şakir Ercan Gül
- D) Erdem Başçı
- E) Ersin Özince

56. Bir kanun hükmünün belli bir olay için öngördüğü hükümden, belli olmayan bir olayın varlığı sonucuna ulaşmaya ne ad verilir?

- A) İkrar
- B) İtiraz
- C) Kanuni Karine
- D) Adi Karine
- E) Fiili Karine

Y  
A  
R  
G  
I  
Y  
A  
Y  
I  
N  
E  
V  
İ

59. Aşağıdakilerden hangisi G8 ülkeleri arasında yer almaz?

- A) ABD
- B) İngiltere
- C) Kanada
- D) Rusya
- E) Çin

57. Bir sözleşmenin emredici hukuk kurallarına veya ahlaka, kamu düzenine veya kişilik haklarına aykırı bulunması, şekil kurallarına uyulmaması, sözleşmenin görünüşte bir sözleşme olması, ayırt etme gücü olmayanın sözleşme yapması gibi durumlarda aşağıda verilen yaptırım türlerinden hangisi gerçekleşir?

- A) Butlan
- B) İptal
- C) Cebri İcra
- D) Eksiklik
- E) Zorallım

60. 2013 yılı Cannes Film Festivalinde en iyi film ödülünü aşağıdakilerden hangisi kazanmıştır?

- A) Nebraska
- B) Heli
- C) Safe
- D) The Paul
- E) Mavi En Sıcak Renktir.