

KPSS

KAMU PERSONELİ SEÇME SINAVI

GENEL YETENEK

GENEL KÜLTÜR

ÖN LİSANS DENEME SINAVI

Ö
n
l
i
s
a
n
s

DİKKAT!
SINAVA BAŞLAMADAN ÖNCE AŞAĞIDAKİ UYARILARI MUTLAKA OKUYUNUZ.

- Adınızı, soyadınızı, T.C. Kimlik Numaranızı ve kurum kodunu optik forma mutlaka işaretleyiniz. Kurum kodu ve T.C kimlik numarası karnenizin oluşturulabilmesi için özellikle gereklidir.
- Genel Yetenek - Genel Kültür Testi için verilen toplam cevaplama süresi 120 dakikadır (2 saat).
- Bu testte 120 soru vardır.
- Cevaplamaya istediğiniz sorudan başlayabilirsiniz. Her soru ile ilgili cevabınızı, cevap kâğıdında o soru için ayrılmış olan yere işaretlemeyi unutmayınız.
- Sınav sonucunuzu www.yaklasimkariyer.com adresinden TC kimlik numaranızı girerek öğrenebilirsiniz.
- Türkiye Geneli Deneme sınavına ait **cevap anahtarları ve soruların çözümleri** sınavın uygulandığı son gün www.yaklasimkitap.com adresinde yayınlanacaktır.
- Bu test puanlanırken testteki doğru cevaplarınızın sayısından yanlış cevaplarınızın sayısının dörtte biri düşülecek ve kalan sayı testle ilgili ham puanınız olacaktır. Bu nedenle, hakkında hiçbir fikriniz olmadığı soruları boş bırakınız. Ancak, soruda verilen seçeneklerden birkaçını eleyebiliyorsanız kalanlar arasından doğru cevabı kestirmeye çalışmanız yararınıza olabilir.

Bu testlerin her hakkı saklıdır. Hangi amaçla olursa olsun, testlerin tamamının veya bir kısmının yayınevimizin yazılı izni olmadan kopya edilmesi, herhangi bir yolla çoğaltılması, yayımlanması ya da kullanılması yasaktır. Bu yasağa uymayanlar gerekli cezai sorumluluğu ve testlerin hazırlanmasındaki mali külfeti peşinen kabullenmiş sayılır.

Yaklaşım Kariyer Yayıncılık ve Dağıtım Ltd.Şti

GMK Bulvarı No: 19 Kızılay-ANKARA

Tel: (0312) 229 84 94

Web: www.yaklasimkitap.com - www.yaklasimkitabevi.com

e-posta: bilgi@yaklasimkitap.com

DİKKAT: BU BÖLÜMDE YANITLAYACAĞINIZ SORU SAYISI 60'TIR.

1-30 SORU : "Türkçeyi Kullanma Gücü"

30-60 SORU : "Matematiksel İlişkilerden Yararlanma Gücü" ile ilgilidir.

Bu bölümdeki sorularla ilgili cevaplarınızı, cevap kağıdınızdaki "**GENEL YETENEK**" bölümüne işaretleyiniz.

1. Yabancı dilde yazılmış romanları özgün(orijinal) I
biçimleriyle okumak istiyordum. Ama yabancı dil
bilmiyordum (isteğim yoktu) ve öğrenmek için de
II
gerekli olanaklardan (imkanlardan) yoksundum. Bu ne-
III
denle romanları sözlüklere baka baka okumaya çalış-
tım. Başlangıçta (ilk önceleri) okuduklarımı anlamadım,
IV
birçok yanlış yaptım ama yılmadım (bıkmadım).
V
Sonunda yabancı dilde yazılmış bir romanı sözlüksüz
okuyabilir duruma geldim.
**Bu parçadaki altı çizili sözlerden hangisinin paran-
tez içindeki açıklaması yanlış verilmiştir?**
- A) I B) II C) III D) IV E) V

2. Ünlü sanatçımız ikinci kitabıyla tekrar okuyucunun kar-
şısında. Açık ve yalın anlatımlı, kısa dizelerden oluşan
şiiirle imza atmış. Sanatçının bu kitabındaki tüm şiiir-
leri, yine okuyucunun duyumsama ve düş kurma yetile-
rini harekete geçiriyor. Şair, şiiirleriyle okuyucuyu yoğun
karanlıkların içine götürüyor.
**Bu parçada geçen "karanlıkların içine götürüyor" sö-
züyle anlatılmak istenen aşağıdakilerden hangisi-
dir?**
- A) Şiiirlerinde kötü karakterlere yer verme
B) Okurun tepkisini çekecek şiiirler yazma
C) Dizelerinde ağır bir dil kullanma
D) Düş gücünü kamçılایan şiiirleere yer verme
E) Okuyucuda bilinmezlik duygusu yaratma

3. Bütün dünyada, romanın kazandığı popülerlikten ya-
rarlanmak konusunda genel bir eğilim kaydediliyor. Bir-
çok öğretinin, akademik disiplinin, çeşitli hobilerin, tu-
ristik amaçlı tarihin ve mitolojinin roman kurgusu içeri-
sinde yazıldığını görüyoruz. Aslında ilk romancıların da
öğretmek, aydınlatmak niyeti yok değildi. Ancak şimdi-
lerde 'Pedagojik Roman' denilen türde yazıların ede-
biyatla ilişkisinin araçsallığı olağan, hatta beklenen bir
durum. ----.

**Bu parça aşağıdakilerden hangisiyle en uygun bi-
çimde tamamlanır?**

- A) Bu da romanın bu kadar popüler olmasının en
önemli nedenlerinden
B) Roman her dönemde değer kazanan çok önemli
bir türdür
C) Birçok öğretinin temelinde yeni olanı keşfetme ar-
zusu yatar
D) İlk romancıların roman hakkındaki görüşleri daha
farklıydı
E) Son yüzyılda roman eski önemini kaybetmeye
başladı

4. I. Dar denebilecek tel örgülü kümeslerde barındırıl-
maları da kedilerin psikolojilerini bozmuş ve doğa-
lıklarından uzaklaşarak saldırgan bir hal almaları-
na sebep olmuştur.
II. Bu durum, son yıllarda Van kedilerine ilgi duyanla-
rın bazı çarelere başvurmalarına vesile olmuştur.
III. Bu amaçla, önceleri Van Tarım Meslek Lisesinde
koruma ve yetiştirme çalışmalarına başlanmış, an-
cak yeterli bilgi ve tecrübenin olmaması nedeniyle
istenilen sonuç alınamamıştır.
IV. Halbuki Van kedileri evde insanlarla beraber olma-
yı sevmekte ve özgürlüklerine düşkünlükleriyle ta-
nınmaktadırlar.
V. Ülkemizin ekolojik kültür zenginliklerinden olan
Van kedisinin sayısı giderek azalmakta ve önlem
alınmazsa saflıkları da bozularak yok olma tehlike-
si ile karşı karşıya bulunmaktadır.

**Yukarıdaki numaralanmış cümleler anlamlı bir bü-
tün oluşturacak biçimde sıralandığında baştan
ikinci hangisi olur?**

- A) I B) II C) III D) IV E) V

5. (I) Şiirin günümüzdeki durumunu görmek için dönem dönem çıkan kitapları iyi takip edip gidişatı kestirebilirsiniz. (II) Şiir diğer türlere göre daha fazla emek isteyen, duygu yoğunluğu arayan bir türdür. (III) Çıkan kitapları enine boyuna inceledikten sonra şiirin durumu hakkında bir kanaatiniz oluşacaktır. (IV) Şiirin durumu çıkan kitapların durumuyla orantılıdır. (V) Bugün şiir yazımındaki çokluğun aynı şekilde yayın dünyasına da etki etmesi şiirin ölmez bir tür olduğunu ve giderek ilerleyen bir biçimselliğe doğru ilerlediğinin göstergesidir.

Bu parçadaki numaralanmış cümlelerden hangisi parçanın anlam bütünlüğünü bozmaktadır?

- A) I B) II C) III D) IV E) V

6. Son yıllarda kullanımı hızla artan, ufak bir ağrı hissettiğimizde bile kullanmaktan kendimizi alıkoyamadığımız ağrı kesicilerin bir büyük tehlikesi daha ortaya çıktı.

Bu cümleden aşağıdakilerden hangisine kesin olarak ulaşılabılır?

- A) İnsanların çoğu ağrı kesicileri kullanmaktadır.
B) Her yaşta insan grubu ağrı kesicileri kullanmaktadır.
C) Ağrı kesicilerin can kaybına neden olan yan etkileri vardır.
D) Ağrı kesici kullanımı yıllara göre değişkenlik göstermektedir.
E) Kullanılan ilaçların büyük bir bölümünü ağrı kesiciler oluşturmaktadır.

7. (I) Günümüzde Keops'un uzaylıların değil ama bizim devrimize ait uygarlıkların teknolojisiyle de yapılmadığı artık kesin olarak biliniyor. (II) Ortada hâlâ cevap bekleyen pek çok soru varlığını korumaktadır. (III) Ancak bu gizemli piramitle ilgili her sorunun cevaplanabildiği sanılmasın. (IV) Özellikle de konuya hâlâ klâsik yöntemlerle yaklaşan arkeolog ve tarihçilerin zihinleri, cevaplayamadıkları sorularla doludur. (V) Ayrıca şunu da unutmamak gerekir ki günümüzde Büyük Piramit'in girilemeyen daha pek çok bölümü vardır.

Bu parçanın anlamlı bir bütün oluşturması için numaralanmış cümlelerden hangileri yer değiştirmelidir?

- A) I. ile II. B) II. ile III. C) II. ile V.
D) III. ile IV. E) IV. ile V.

8. (I) Mısır heykelticileri çok büyük ve sert taşlar yontuyorlardı. (II) Sert taş kullanmaları onları çalışmalarında sadeleşme yapmaya yöneltti. (III) Dolayısıyla heykelerde adale, kas gibi detaylar görülmezken yüzlerde de ifade yoktur. (IV) Yalnızca mezarlara, dini inançlar gereği konan heykeller, ölünün ruhuna ev sahipliği yapacağından sahibine benzemesi zorunluluğu taşıyordu. (V) Kral heykelleri sert taşlardan yapılırken yumuşak taşlardan ve ağaçtan yapılan prens, rahip ve memur heykelleri bulunur.

Bu parçadaki numaralanmış cümlelerin hangilerinde neden sonuç anlamı vardır?

- A) I ve II B) II ve III C) II ve IV
D) III ve V E) IV ve V

9. (I) Günümüzde öğretilen uzay kavramı, bizden yüzlerce kilometre uzakta başlayan, içinde gök cisimlerinin yüzdüğü vakumlu bir boşluktan ibarettir. (II) Mutlak bir boşluk olarak anlatılır, bu nedenle insanlar onun bir tür yokluk olduğunu zannederler. (III) Uzayın ne olduğunu tanımlamadan önce yanlış bir algıyı düzeltmekte fayda var. (IV) Uzay, bir uzay mekiğine binip epey yol aldıktan sonra ulaştığımız bir yer değildir. (V) Elbetteki ilim bunu iddia etmemektedir ama gündelik yaşamda ve bilimle uğraşmayan pek çok kişide böyle bir kanaat vardır.

Bu parçadaki numaralanmış cümlelerin hangisinde yazım yanlışlığı yapılmıştır?

- A) I B) II C) III D) IV E) V

10. Kıyılarımızda “ yazlık” adıyla yapılan evlere bakınca
I
ülkemizde çevresiyle , bütünleşebilen yapıların ne kadar
II
kadar az olduğunu görüyorum . Çoğunun kapı ve pen-
III
cere boyutları , bizim bol güneşimizle uyuşmuyor. İçle-
IV
rinde öyle yapılar var ki “ Gösteriş düşkünüyüm .” diye
bas bas bağırıyor.
V
Yukarıdaki altı çizili noktalama işaretlerinden han-
gisi yanlış kullanılmıştır?
A) I. B) II. C) III. D) IV. E) V.

11. Aşağıdaki cümlelerin hangisinde anlatım bozuklu-
ğu vardır?
A) Olanların hepsi benim suçumdu, onun bir hatası
yok.
B) Arkadaşımla bir haftalık plan yaptık ama planı uy-
gulayamadık.
C) Her akşam en az bir saat kitap ya da gazete oku-
rum.
D) Evlendikten sonra çok değişti, artık kimseyle ko-
nuşmuyor.
E) Çocuğun mavi ve küçük gözleri, tıpkı annesinin
gözlerini andırıyordu.

12. O sabah mı çıkmıştın, bir gün önce mi
Bir bıçağın ağzında yürür gibiydin
Demirlerin soğukluğu soluk dudaklarında
Gözlerinde karanlığı dar hücrelerin
Yukarıdaki dizelerde aşağıda ses olaylarından han-
gisi vardır?
A) Ünsüz düşmesi
B) Ünlü türemesi
C) Ünsüz sertleşmesi
D) Ünlü daralması
E) Ünsüz türemesi

13. Tarihin en eski toprakları olarak görülen Mezopotam-
I
ya sınırları içerisinde ve Türkiye'mizin güneydoğusunda
II
kalan, çok kültürlü tarihinin kazandırdığı yapısı ile son
III
zamanlarda birçok ülkeye yüz binlerce turistinuğraknok-
tası olan Mardin ilimizde yaşayanların misafirperverliği
IV
ve bilgi aktarımındaki hassasiyeti, etnobotanik çalış-
mamız sırasında bize çok yardımcı oldu.
V
Bu parçadaki altı çizili sözlerden hangilerini nitele-
yen sözcükler kullanılmıştır?

- A) I ve II B) I ve III C) II ve IV
D) III ve V E) IV ve V

14. Masamda eskiden kullandığımız, aslında kullanmaya
çalıştığımız daktilonun yerini çoktan almış, hatta yeni
nesile daktiloyu bile unutturmuş, ekrana bağlı klavye
denen tuşlar takımı.
Bu cümleyle ilgili olarak aşağıda verilenlerden
hangisi yanlıştır?
A) Türemiş sözcükler kullanılmıştır.
B) Belirtili isim tamlaması kullanılmıştır.
C) İsmi niteleyen sözcük kullanılmıştır.
D) Öznede sıfat fiil kullanılmıştır.
E) İsmi yerini tutan sözcük kullanılmıştır.

15. (I) Mardin ilimizin Midyat ilçesinde gerçekleştirdiğimiz bu çalışmada otuz köyü dolaştık. (II) Bitki kullanımı konusunda bilgisine güvenilen 123 kişi ile görüştüğümüz ve laboratuvar ortamında incelemek üzere 92 farklı bitki örneği topladık. (III) Çalışmamıza konu olan bitkilerin farklı mevsimlerde yetişiyor olmasından dolayı çalışmamız, 2 yıl sürdü. (IV) Bölgede halen çok farklı kültüre sahip farklı halklar yaşamlarını sürdürüyor. (V) Aynı bitkinin farklı kişilerce farklı isimler ile biliniyor olması çalışmamızın başında bizi oldukça zorladı.

Bu parçadaki numaralanmış cümlelerle ilgili aşağıda verilenlerden hangisi yanlıştır?

- A) I. cümlede işaret ve sayı sıfatı kullanılmıştır.
- B) II. cümlede isim tamlaması kullanılmıştır.
- C) III. cümlede "çalışmamız" sözü öznedir.
- D) IV. cümlede "halen" sözcüğü zarf tümlecedir.
- E) V. cümlede "oldukça zorladı" yüklemdir.

16. Yaz aylarına girerken çeşit çeşit hazırlık yapılır. Alınan kilolar hesaplanır, uygulanacak diyetler araştırılır. Yaz sıcağından korunmak için kozmetikçilerin yolu tutulur; toniklere, losyonlara paralar akıtılır. Peki ya kışın? Kışa girmemize çok az bir zaman kala cildinizin bakımını yaptınız mı? Soğuk havalar cildinizi kurutabilir, dudak ve ellerinizde çatlaklar meydana gelebilir. İşte tüm bunları önlemek için cildinize bakım uygulamaya ihtiyacınız olacak. Çarşı-pazardan aldığınız sebze ve meyvelerle cildinizi soğuk günlere hazırlayabilirsiniz. Hem doğal ürünlerden faydalanarak hem de kozmetik ürünlere çok fazla para harcamadan...

Bu parçanın anlatımıyla ilgili aşağıdakilerden hangisi söylenemez?

- A) Soru cümleleri vardır.
- B) Öneri anlamı veren cümle vardır.
- C) Tanımlamalar yapılmıştır.
- D) Amaç cümleleri kullanılmıştır.
- E) Öznel cümleler vardır.

17. Selim İleri'nin öykücülüğündeki dönemeç Dostlukların Son Günü'ydü. Artık öykü, bütün özellikleriyle modern bir tür olarak oluşuyordu. Kendine özgü duyarlılığıyla ayrı bir yerde duran bu kitap, Selim İleri'nin dilini kusursuzlaştırma serüvenindeki sıçrama tahtası oldu. Sanırım yazarlık serüveninin en fırtınalı zamanları başladı başlayacakken yayımlanmış bu kitap, romanları kadar öne çıkmadı, çıkamazdı da ama şimdi geriye dönüp bakıldığında, Selim İleri'nin Mavi Kanatlarında Yalnız Benim Olsaydın (1991) ile başlayan yeni dönemine kadarki on beş yıllık döneminin kurucusu olarak görülür.

Bu parçadan Selim İleri ile ilgili aşağıdakilerden hangisi çıkarılamaz?

- A) Birden fazla türde eserleri vardır.
- B) Dostlukların Son Günü adlı eserinde dili etkili kullanmıştır.
- C) Öyküye de önem vermiştir.
- D) Mavi Kanatlarında Yalnız Benim Olsaydın adlı eseriyle ödül almıştır.
- E) Öykücülüğüne yön veren eser Dostlukların Son Günü olmuştur.

18. Bir edebiyatçının ve tabii toplum içinde insanın amacı "öteki"ni tanımak olmalı bence. Ötekiyle iletişim kurmak... Okur için de bir bilgilenme yoludur edebiyat. Bir şeyleri sezdirir, insana dünyayı açar. Okurun ilk bakışta göremediklerini görmesine yardımcı olur. Ama asıl amaç okura kendi dünyasını tanıtmaktır...

Bu parça, aşağıdaki sorulardan hangisine verilmiş bir yanıt olabilir?

- A) Edebiyatçı çok mu sıkı çalışmalıdır?
- B) Edebiyatçı ne demektir?
- C) Edebiyatçı toplum için mi sanat yapmalı?
- D) Edebiyatçı nasıl bir eğitim almalıdır?
- E) Edebiyatçının amacı ne olmalıdır?

19. (I) İnsanlar, dinlenmek ve tatil yapmak için gittiği yerde başka çevre ile karşılaşılıyor. (II) O çevrede bir müddet yaşamak durumunda kalıyor. (III) Öncelikle herkesin farklı bir dinlenme ve tatil anlayışı var. (IV) Kimisi medyatik tatil yörelerine tercih ederken kimileri de tabiatta iç içe olabileceği, rahat huzurlu, sakin, kafasını dinleyebileceğini ekolojik turizmi tercih etmektedir. (V) Bu turizmi tercih edenler tatilden daha mutlu dönecektir. (VI) Çünkü huzurlu ve sakin bir ortamda buldukları için daha iyi dinlenmektedirler.

Bu parçadaki numaralı cümlelerden hangisiyle farklı bir konuya geçilmiştir?

- A) II B) III C) IV D) V E) VI

20. "Yüzüklerin Efendisi" son yüzyılın en çok okunan yüz kitabı arasında en başta geliyor; bilimkurgu, fantezi, polisiye, best-seller ya da ana akım demeden, tüm edebiyat türleri arasında tartışmasız bir önderliğe sahip. Bir açıdan bakarsanız bir fantezi romanı, başka bir açıdan baktığınızda, insanlık durumu, sorumluluk, iktidar ve savaş üzerine bir roman. Bir yolculuk, bir büyüme öyküsü; fedakarlık ve dostluk üzerine, hırs ve ihanet üzerine bir roman...

Bu parçada "Yüzüklerin Efendisi" adlı kitapla ilgili aşağıdakilerden hangisi söylenemez?

- A) Çok yönlü bir kitap olduğu
B) Farklı türleri geride bıraktığı
C) Fantastik roman özelliği taşıdığı
D) Karşıtlıkları içinde barındırdığı
E) Gerçekçi öğelerin ağır bastığı

21. Şair, insan ruhunun birçok yönünü araştıran ve insanı keşfeden biridir. Bu, onun en kutsal görevidir ve bu görevi, bir zümreye ait olmak uğruna feda etmesi asla başılsanamaz. Şairin ideali, kullandığı dili, bizzat şiirin kendisini yüceltmek olmalıdır. Bu nedenle iyi bir şairin, kullandığı dilin bütün kurallarını iyi bilmesi, o dilin kelimelerini sınıf arkadaşları gibi yakından tanınması gerekir. Ancak bu tarzdaki şairler, kendilerini sanatsal anlamda aşabilir ve gerçek şair olabilirler.

Bu parçada aşağıdakilerden hangisine değinilmemiştir?

- A) Gerçek şairlerin yaptıkları işi önemsiyor olmalarına
B) Şairlerin belli bir zümreye teslim olmamaları gerektiğine
C) Şairlerin, insanın iç dünyasını araştırıp ortaya çıkardıklarına
D) Şairlerin kendi dilleri dışında farklı dilleri bilmesi gerektiğine
E) Gerçek bir şair olabilmek için, şairin dilin kurallarını bilmesi gerektiğine

22. Özellikle de kitapçılarda psikoloji bilimi için ayrılmış bölmelere göz gezdirecek olursak kitapların en azından üçte birinin "NLP" teknikleriyle hayat kalitemizi yükseltme vaadinde bulunduğu tanık oluyoruz. Sayılarının bu denli çok oluşu şaşırtıcı değil aslında, çünkü 21. yüzyılın "stres ve rekabet" dünyasında okuyuculara bir nevi rehberi hizmeti sunan bu kitapların satış grafiği tahmin edebileceğimiz üzere yayınevlerini oldukça tatmin edecek seviyelerde. Hal böyle olunca merak etmeden duramıyoruz tabii; bu büyük sektörün tek derdi bizim beş adımda başarılı bir iş adamı olmamız ya da 10 altın kuralla depresyonu yenmemiz mi acaba?

Bu paragrafta aşağıdakilerden hangisine yönelik bir şüphe dile getirilmiştir?

- A) Yayınevlerinin kitapları basmasındaki asıl amacına
B) NLP tekniği hakkında bilgi veren kitapların içeriğine
C) Stres ve rekabet ortamının gerçekte olup olmadığına
D) İnsanların sorgulamadan her kitabı okumasına
E) Kitapçılarda psikoloji kitaplarının çok olmasına

23. ve 24. SORULARI AŞAĞIDAKİ
PARÇAYA GÖRE BİRBİRİNDEN BAĞIMSIZ
OLARAK CEVAPLAYINIZ.

(I) Türkiye’de matematik dersinin zor olduğuna dair yaygın bir kanı yerleştiği gözlemlenmektedir. (II) Öğrencide, bu zor kanısının oluşmasında çevre, aile, öğretmen gibi etkenlerin neden olduğu söylenebilir. (III) Hatta araştırmacılar tarafından yapılan gözlemlerde; matematik önemli; resim iş, müzik, beden eğitimi vb. ifade ve beceri derslerini önemsiz görme, onları ders-ten saymama gibi bir yanlış yapıldığı da görülmüştür. (IV) Ülkemizde gelecek kaygısının bulunması; meslek edinmeye verilen önemin adeta bir tutku haline ulaşmasının bu yanlış kanıyı pekiştirdiği söylenebilir. (V) Bu nedenle öğrencilerin zihinsel gelişim sürecinin üzerinde bir zorlamaya maruz kaldığı söylenebilir. (VI) Piaget’e göre somut işlemler döneminde olan ilköğretim birinci kademe öğrencileri soyut kavramlarla karşı karşıya kalabilmektedirler. (VII) Somut işlemler dönemindeki öğrenci soyut kavramları anlamasının zorluğu herkes tarafından bilinen bir gerçektir. (VII) Yapılan bir araştırmada matematik eğitiminde kavramların somutlaştırılmasının önemi vurgulanmıştır.

23. Bu parçada aşağıdaki sorulardan hangisinin cevabı vardır?

- A) Matematikle ilgi bir araştırma var mıdır?
- B) Gençler hangi derslere ilgi duymaktadır?
- C) Matematik dersinde hangi konular ağır gelmektedir?
- D) Ülkemizde üniversite eğitimindeki eksiklikler nelerdir?
- E) Öğrencilerin matematik korkusunu yenmesinin yolları nelerdir?

24. Bu paragraftaki numaralanmış cümlelerin hangilerinde matematik dersinin zor olduğuna dair kanının yerleşmesindeki etkenlere yer verilmiştir?

- A) I. ve II. B) II. ve IV. C) II. ve VI.
- D) III. ve VII. E) V. ve VI.

25. – 27. SORULARI AŞAĞIDAKİ
PARÇAYA GÖRE BİRBİRİNDEN BAĞIMSIZ
OLARAK CEVAPLAYINIZ.

İnsanlar, dünya üzerinde varlıklarını hissettirmeye başlamalarıyla beraber düşünce gücü ile farklılıklarını belli etmişlerdir. İnsanların gelişmesini sağlayan en önemli unsur, edindikleri tecrübeleri bir sonraki nesillere aktarabilme meyzetleridir. İnsanları diğer canlılardan ayırıp düşünce ve yaratıcılık özelliklerinin ortaya çıkmasını sağlayan güç, edindikleri tecrübe ve bilgi birikimlerini gelecek nesillere aktarabilmesidir. Böylece, insanlar geçen iki milyon yıllık tarihleri içinde yaşamlarını geleceğe taşımayı öğrendiler. İnsanoğlunun yaşam süresi arttıkça edindiği tecrübeler fazlaşmış ve aktarılabilecek bilgiler çoğalmıştır. Yaşam süresinin uzaması insanları gününbirlik yaşamdan kopararak geleceğe dönük yatırım yapmaya yöneltmiştir. İleriye dönük yatırım beraberinde üretimi getirmiştir. Üretimin artması ticaretin ilkel hali olan takası yaratmıştır. Takasla çalışmaya başlayan sahip olma duygusu, gücün yardımıyla sahip olunan mallar arasına insanın da girmesine neden olmuş ve kölelik doğmuştur.

25. Bu parçadan aşağıdakilerden hangisine varılabilir?

- A) İnsanlığın ilk dönemi ve sonraki dönemleri arasında birçok ortak nokta vardır.
- B) Düşünebilmek ve edindiklerini sonraki nesle aktarabilme insanoğlunun gelişmesini sağlamıştır.
- C) Doğadaki her canlı gibi insan da bazı yönlerden kendini geliştirmiştir.
- D) Gelişim gösteren insanoğlu farklı coğrafyaları keşfe başlamıştır.
- E) İlk insanlar arasında sosyal bağlar daha kuvvetlidir.

26. Bu parçaya göre aşağıdakilerden hangileri insanlığın gelişmesinde rol oynamamıştır?

- A) Yaratıcı olması
- B) Köleliğin doğması
- C) Düşünebilmesi
- D) Bilgi aktarımı yapabilmesi
- E) Üretime geçmesi

27. Bu parçanın anlatımıyla ilgili olarak aşağıda verilenlerden hangisi yanlıştır?

- A) İsim tamlamaları kullanılmıştır.
- B) Ünsüz yumuşaması vardır.
- C) Mecaz anlamlı sözcükler kullanılmıştır.
- D) Deyim ve atasözleri kullanılmıştır.
- E) Soyut ve somut sözcükler kullanılmıştır.

28. – 30. SORULARI AŞAĞIDAKİ
PARÇAYA GÖRE BİRBİRİNDEN BAĞIMSIZ
OLARAK CEVAPLAYINIZ.

Bir üretim işletmesi piyasaya yeni sürülecek bir mamül için K, L, M, N, P, R ve S şehirlerinde satış potansiyelini saptamaya yönelik bir anket çalışması yaptırmıştır.

- L, bu mamülün en yüksek satış potansiyeline sahip olduğu şehir değildir.
- K şehrinin satış potansiyeli, M şehrinde yüksek, R şehrinde düşüktür.
- S şehrinin satış potansiyeli bir tek N şehrinin satış potansiyelinden yüksektir.
- Bu mamül için satış potansiyeli sıralamasının tam ortasında M şehri vardır.

28. Bu bilgilere göre, bu mamülün satış potansiyelinin yüksekten düşüğe doğru sıralamasının beşinci sırasında aşağıdaki şehirlerden hangisi olabilir?

- A) L B) M C) N D) R E) S

29. Yukarıdaki bilgilere göre bu işletmenin anketiyle ilgili bilgiler yardımıyla aşağıdakilerden hangisi kesin olarak bilinmektedir?

- A) En yüksek satış potansiyeline sahip olan şehir
B) 2. sırada hangi şehrin olduğu
C) 3. sırada K şehrinin olduğu
D) Sondan 3. sırada hangi şehrin olduğu
E) Son sırada N şehrinin olduğu

30. Yukarıdaki bilgilere göre, bu mamülün en yüksek satış potansiyelinin P şehrinde olduğu kabul edilirse aşağıdaki durumlardan hangisi doğrudur?

- A) L şehrinin satış potansiyeli, N şehrinin satış potansiyelinden düşüktür.
B) R şehri ikinci sıradadır.
C) K şehri sonuncu sıradadır.
D) Diğer tüm şehirlerin satış potansiyeli L şehrinin satış potansiyelinden yüksektir.
E) S şehrinin satış potansiyeli, M şehrinin satış potansiyelinden yüksektir.

31. x ve y birbirinden farklı pozitif tamsayılar ve

$$x + \frac{12}{y} = 8$$

olduğuna göre, x'in alabileceği değerler toplamı kaçtır?

- A) 10 B) 12 C) 16 D) 20 E) 24

32. Öğretmeni Kamil'den 1'den n'e kadar ardışık tam sayıların toplamını bulmasını istiyor. Kamil bu toplama işlemini yaparken yanlışlıkla bir sayıyı iki defa toplayıp sonucu 83 buluyor.

Buna göre Kamil'in yanlışlıkla iki defa topladığı sayı kaçtır?

- A) 3 B) 4 C) 5 D) 7 E) 9

33. Bir a doğal sayısının 7 ile bölümünden kalan 3'tür.

$$a^2 + 2a + 1$$

sayısının 7 ile bölümünden kalan kaçtır?

- A) 1 B) 2 C) 3 D) 4 E) 5

34. VE 35. SORULARI AŞAĞIDAKİ BİLGİLERE GÖRE CEVAPLAYINIZ.

2, 3, 4, 6 ve 9 rakamları sadece bir kez kullanılarak beş basamaklı ABCDE sayıları yazılıyor. Yazılan bu sayılar için $A \cdot B = D \cdot E$ koşulu sağlanmaktadır.

34. Yazılabilecek en büyük sayı ile en küçük sayının farkı kaçtır?

- A) 65529 B) 64527 C) 63027
D) 57537 E) 36558

35. Bu koşulu sağlayan kaç farklı sayı yazılabilir?

- A) 2 B) 4 C) 8 D) 16 E) 32

36. $\frac{(5!)^3 + (4!)^3}{(5!)^3 - (4!)^3}$

işleminin sonucu kaçtır?

- A) $\frac{65}{64}$ B) $\frac{63}{62}$ C) $\frac{61}{60}$ D) $\frac{31}{30}$ E) $\frac{16}{15}$

37. x bir gerçel sayıdır.

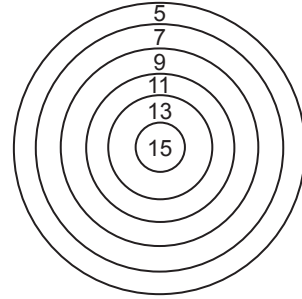
$$-5 < x < 4$$

olduğuna göre, x^2 nin alabileceği tam sayı değerleri kaç tanedir?

- A) 20 B) 22 C) 24 D) 25 E) 27

38. VE 39. SORULARI AŞAĞIDAKİ BİLGİLERE GÖRE CEVAPLAYINIZ.

Aşağıdaki şekilde bir hedef tahtası gösterilmiştir. Bu hedef tahtasında yazılı olan sayılar buldukları halkalı bölgelere ait puanlardır.



Yarışmacılar bu hedef tahtasına üç ok atışı yapıyor ve okların isabet ettiği bölgelerin puanları toplanarak yarışmacının puanı belirleniyor.

38. Mustafa'nın atışlarının ikisi aynı bölgeye diğeri de farklı bölgeye isabet etmiştir.

Buna göre Mustafa'nın puanı aşağıdakilerden hangisi olamaz?


- A) 19 B) 25 C) 28 D) 29 E) 41

39. Kemal üç atışında farklı bölgelere isabet ettirmiş ve 35 puan almıştır.

Buna göre, Kemal'in en az puan aldığı atışı kaç puandır?


- A) 5 B) 7 C) 9 D) 11 E) 13

40.



Şekillerdeki karelerde beyaz kareler şeffaftır, siyah kareler ise ışığı geçirmemektedir. Levhalar çakıştırıldığında üst üste gelen karelerin hepsi beyaz ise beyaz, en az biri siyahsa siyah görünmektedir.

Bu üç levha üst üste çakıştırıldığında aşağıdaki şekillerden hangisi elde edilir?



41. $|x^2 - x - 6| - |x - 3| = 0$

eşitliğini sağlayan x tam sayılarının toplamı kaçtır?

- A) -3 B) -1 C) 1 D) 2 E) 3

42. $15^{x-1} = 3^{x+1}$

olduğuna göre, 5^{x-2} ifadesinin sonucu aşağıdakilerden hangisidir?

- A) $\frac{5}{9}$ B) $\frac{3}{5}$ C) 1 D) $\frac{9}{5}$ E) $\frac{27}{5}$

43. $x = \frac{10}{13}$

$y = \frac{100}{103}$

$z = \frac{1000}{1003}$

olduğuna göre, aşağıdaki sıralamalardan hangisi doğrudur?

- A) $x < y < z$ B) $x < z < y$ C) $y < x < z$
D) $z < y < x$ E) $z < x < y$

44. x, y pozitif tam sayıları için

$\text{okek}(x,y) = 240$

$\text{obeb}(x,y) = 8$

koşulunu sağlayan kaç farklı (x,y) sıralı ikilisi vardır?

- A) 2 B) 4 C) 6 D) 8 E) 10

45. Bir okulda basketbol veya futbol oyunlarından en az birini oynayan 25 öğrenci vardır. Futbol oynayanların sayısı, basketbol oynayanların sayısının 2 katı, her iki oyunu oynayanların sayısının ise 4 katıdır.

Buna göre, sınıfta futbol oynayanların sayısı kaçtır?

- A) 10 B) 12 C) 15 D) 18 E) 20

47. VE 48. SORULARI AŞAĞIDAKİ BİLGİLERE GÖRE CEVAPLAYINIZ.

Bir kütüphanede en incesi 0,4 cm, en kalını 10 cm olmak üzere çeşitli kalınlıkta pek çok kitap vardır. Kütüphane görevlisi bu kitapların bazılarını 60 cm uzunluğunda boş bir rafa yerleştirecektir.

47. Görevlinin rafa yerleştirdiği kitaplardan en kalını 8 cm olduğuna göre, rafta en fazla kaç tane kitap olabilir?

- A) 120 B) 128 C) 130 D) 131 E) 135

46. Gerçek sayılar kümesinde "*" işlemi

$$\frac{1}{a} * \frac{1}{b} = \frac{a+b}{a \cdot b}$$

biçiminde tanımlanıyor.

Buna göre, $3 * 4$ işleminin sonucu kaçtır?

- A) $\frac{7}{12}$ B) $\frac{12}{7}$ C) 7 D) 12 E) 15

48. Kütüphane görevlisi rafa en incesi 2 cm olan 22 tane kitap yerleştirdiğinde rafta hiç boş yer kalmıyor.

Buna göre görevlinin yerleştirdiği kitapların en fazla kaç tanesinin kalınlığı 2 cm olabilir?

- A) 12 B) 14 C) 16 D) 18 E) 20

49. Bir bilgi yarışmasında kurallara göre yarışmacılar her doğru cevaptan 30 puan kazanıyor, her yanlış cevaptan 10 puan kaybediyor.

20 soruya cevap veren bir yarışmacı 400 puan kazandığına göre, doğru cevapların sayısı kaçtır?

- A) 14 B) 15 C) 16 D) 17 E) 18

50. Boş bir havuzu A musluğu tek başına 8 saatte, B musluğu tek başına 12 saatte dolduruyor. İlk olarak A musluğu 2 saat açılıyor. Havuzun kalan kısmı B musluğu ile dolduruluyor.

Buna göre B musluğu kaç saat açık kalmıştır?

- A) 5 B) 6 C) 7 D) 8 E) 9

51. Hızları dakikada 24 metre ve 16 metre olan iki hareketli, çember pist üzerindeki bir A noktasından aynı anda ters yönde hareket ettikten 3 dakika sonra karşılaşıyorlar.

Hareketlerden hızlı olanı, karşılaşmadan kaç dakika sonra A'ya ulaşılır?

- A) 2 B) 3 C) 4 D) 5 E) 6

52. VE 53. SORULARI AŞAĞIDAKİ BİLGİLERE GÖRE CEVAPLAYINIZ.

Bir top her defasında düştüğü yüksekliğin $\frac{2}{5}$ 'i kadar zıplayabiliyor. Top zeminden 1250 cm yükseklikten bırakılıyor.

52. Topun 4. zıplama sonunda zeminden yüksekliği kaç cm olur?

- A) 32 B) 64 C) 128 D) 150 E) 250

53. Topun 3. zıplama sonuna kadar aldığı toplam yol kaç cm'dir?

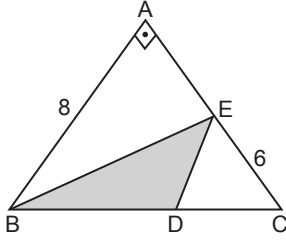
- A) 1950 B) 2030 C) 2530
D) 2730 E) 2810

54. 4 madeni para arka arkaya atılıyor.

Üçünün yazı, birinin tura gelme olasılığı kaçtır?

- A) $\frac{1}{4}$ B) $\frac{1}{2}$ C) $\frac{3}{4}$ D) $\frac{1}{8}$ E) $\frac{1}{16}$

55.



$$m(\widehat{BAC}) = 90^\circ$$

$$|AB| = 8 \text{ cm}$$

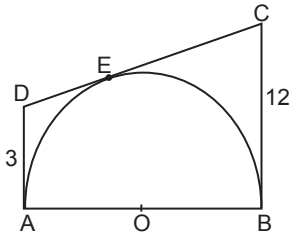
$$|EC| = 6 \text{ cm}$$

$$3|DC| = |BC|$$

Şekildeki verilere göre, EBD üçgeninin alanı kaç cm^2 dir?

- A) 4 B) 8 C) 12 D) 16 E) 20

56.



Şekildeki yarı çemberin A, B ve E noktaları teğetlerin değme noktaları.

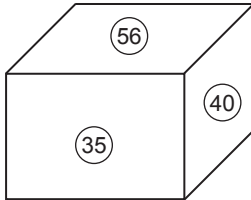
$$|AD| = 3 \text{ cm}$$

$$|BC| = 12 \text{ cm}$$

olduğuna göre, çemberin yarıçapı kaç cm dir?

- A) 10 B) 9 C) 6 D) 4 E) 3

57.



Şekildeki dikdörtgenler prizmasının üç farklı yüzünün alanları cm^2 cinsinden üzerlerine yazılmıştır.

Bu prizmanın hacmi kaç cm^3 tür?

- A) 200 B) 210 C) 240 D) 280 E) 300

58. VE 60. SORULARI AŞAĞIDAKİ BİLGİLERE GÖRE CEVAPLAYINIZ.

Bir torbada 15 sarı, 9 kırmızı, 13 beyaz renkte top vardır.

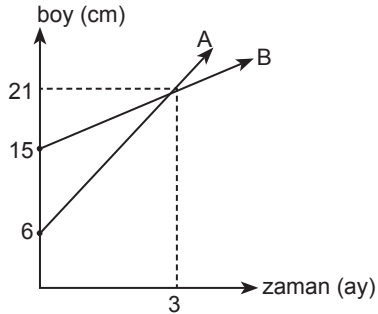
58. Torbadan en az kaç top çekilmeliki elimizde kesinlikle her renkten en az 1 top bulunsun?

- A) 23 B) 24 C) 27 D) 25 E) 29

59. Torbadan en az kaç top çekilmeliki elimizde kesinlikle herhangi bir renkten 3 top bulunsun?

- A) 4 B) 7 C) 10 D) 25 E) 31

60.



Grafik A ve B fidanların boylarının zamana göre değişimini göstermektedir.

İki fidan dikildikten kaç ay sonra A fidanının boyu B fidanının boyunun 2 katının 10 cm fazlasına eşit olur?

- A) 32 B) 33 C) 34 D) 35 E) 36

GENEL YETENEK TESTİ BİTTİ.
GENEL KÜLTÜR TESTİNE GEÇİNİZ.

DİKKAT: BU BÖLÜMDE YANITLAYACAĞINIZ SORU SAYISI 60'TIR.

1-27 SORU : "Atatürk İlkeleri ve İnkılap Tarihi" ile "Türk Kültür ve Medeniyetleri"

28-45 SORU : "Türkiye Coğrafyası"

46-60 SORU : "Temel Yurttaşlık Bilgisi ve Güncel Konular" ile ilgilidir.

Bu bölümdeki sorularla ilgili cevaplarınızı, cevap kağıdınızdaki "**GENEL KÜLTÜR**" bölümüne işaretleyiniz.

1. İslamiyet öncesi Türk Devletlerinde devlet işleri kurul-tay adı verilen mecliste görülürdü.

Kurultay toplantılarında Kağan'ın getirdiği öneriler mil-letin çıkarlarına uygun düşmezse kabul edilmezdi.

Buna göre;

- I. Kurultay yönetimde etkili bir organdır.
- II. Hükümdarlar sınırsız yetkiye sahip değildir.
- III. Ülke federasyon şeklinde örgütlenmiştir.

Yargılardan hangilerine ulaşılabilir?

- A) Yalnız I B) Yalnız II C) Yalnız III
D) I ve II E) II ve III

2. I. Konya İnce Minareli Medrese
II. Konya Karatay Medresesi
III. Tokat Yağıbasan Medresesi

Yukarıdaki eserlerden hangileri Anadolu Selçuklu Devleti dönemine aittir?

- A) Yalnız I B) Yalnız II C) I ve II
D) II ve III E) I, II ve III

3. Kazasker bütün kadıları atamakla beraber, İstanbul Kadısını padişah atardı. Eyaletlerde bütün memurların sicil amiri Beylerbeyi olduğu halde kadıların tayini, terfi etmesi ve azli gibi işler kazaskerin tasarrufundadır.

Bu bilgilere göre aşağıdaki yargılardan hangisine ulaşılabilir?

- A) Yönetimde birlik sağlamaya çalışılmıştır.
B) Tüm memurlar Beylerbeyine bağlıdır.
C) Osmanlı'da şeri hukuk geçerlidir.
D) Divanda yargı ile ilgili konular görüşülmez.
E) Yargı bağımsızlığı sağlanmaya çalışılmıştır.

4. **Aşağıdakilerden hangisi Miri Araziler içerisinde yer almaz?**

- A) Ocaklık B) Haraci
C) Dirlik D) Yurtluk
E) Paşmaklık

5. **Osmanlı Devletinde;**

- I. Mesleki eğitimde veren esnaf örgütlenmesi
- II. Devlet memuru yetiştiren saray içindeki okul
- III. Tanzimat Döneminde açılan bilimsel eğitim veren okul

Yukarıdaki özellikleri verilen kurumlar aşağıdaki-lerden hangisinde doğru olarak sıralanmıştır?

	I.	II.	III.
A)	Lonca	Enderun	Darulfünun
B)	Lonca	Medrese	Vakıf
C)	Vakıf	Medrese	Mülkiye
D)	Ahilik	Darulfünun	Rüştiye
E)	Sıbyan Mektebi	Vakıf	Enderun

6. Duraklama Döneminde, savaşların uzun sürmesi tımar sisteminin bozulmasına neden olmuştur.

Bu durum;

- I. Yeniçeri Ocağındaki asker sayısının artmasına,
- II. hazine giderlerinin artmasına,
- III. Tımarlı Sipahi ordusundaki asker sayısının azalmasına

gelişmelerinden hangilerine ortam hazırlamıştır?

- A) Yalnız I B) Yalnız II C) Yalnız III
D) I ve III E) I, II ve III

7. Osmancılık düşüncesi, Osmanlı sınırlarında yaşayan herkesi eşitleyerek, halkın kaynaşması ve dayanışmasını amaçlar.

Buna göre, Osmancılık akımı,

- I. Milliyetçilik akımı,
- II. Coğrafi Keşifler,
- III. Sanayi Devrimi

gelişmelerinden hangilerinin olumsuz etkilerini ortadan kaldırmaya yöneliktir?

- A) Yalnız I
- B) Yalnız II
- C) Yalnız III
- D) I ve II
- E) II ve III

8. Tanzimat Fermanı ile müsadere usulünün kaldırılması aşağıdakilerden hangisinin güvence altına alınmasını sağlamaya yöneliktir?

- A) Devlet gelirlerinin
- B) Eğitim hakkının
- C) Özel mülkiyetin
- D) Eşitlik hakkının
- E) Yaşam hakkının

9. Aşağıdakilerden hangisi II. Meşrutiyetin ilanından sonraki gelişmelerden biri değildir?

- A) 93 Harbi yaşandı.
- B) Çok partili hayata geçildi.
- C) İstibdat Dönemi son buldu.
- D) 31 Mart Ayaklanması yaşandı.
- E) Bulgaristan bağımsızlığını ilan etti.

10. I. Azınlıklar tarafından kurulmuştur.
II. Mandater sistemi savunmuşlardır.
III. Bölgesel kurtuluşu amaçlamışlardır.

Yukarıdakilerden hangileri Mondros Mütarekesinden sonra kurulan İngiliz Muhipleri ve Wilson Prensiplerinin ortak özellikleri arasındadır?

- A) Yalnız I
- B) Yalnız II
- C) Yalnız III
- D) I ve II
- E) II ve III

11. Misak-ı Milli'de yer alan, "Siyasi, adli ve mali gelişmimize engel olan sınırlamalar kaldırılmalıdır." hükmü,

- I. Tam bağımsızlık hedeflenmiştir.
- II. Düyun-u Umumiye'ye karşı çıkmıştır.
- III. Kapitülasyonlara karşı çıkmıştır.

Yorumlarından hangilerini doğrudur?

- A) Yalnız I
- B) Yalnız II
- C) Yalnız III
- D) I ve II
- E) I, II ve III

12. Aşağıdaki gazetelerden hangisi Milli Mücadele karşıtı yayın yapmıştır?

- A) İrad-ı Milliye
- B) Vakıf
- C) İkdam
- D) Peyam-ı Sabah
- E) Tasvir-i Efkâr

13. 1921 Anayasası'nda yer alan,

- I. Egemenlik kayıtsız şartsız milletindir.
- II. TBMM yasama ve yürütme yetkilerini kullanır.
- III. Dini hükümlerin yerine getirilmesi yetkisi TBMM'ye aittir.

maddelerden hangileri İstanbul Hükümetin ve halifenin yetkilerini TBMM'nin devraldığına kayıt olarak gösterilebilir?

- A) Yalnız I
- B) Yalnız II
- C) Yalnız III
- D) I ve II
- E) I, II ve III

14. Milli Mücadele aşağıdaki gelişmelerden hangisi ile Misak-ı Milli'den ilk kez ödün verilmiştir?

- A) Londra Konferansı
- B) Moskova Antlaşması
- C) 1921 Ankara Antlaşması
- D) Lozan Antlaşması
- E) Mudanya Ateşkesi

15. I. Türkiye'de yaşayan azınlıkların Türk vatandaşlığı sayılması
II. Rodos ve Oniki Ada'nın geçici olarak İtalya'ya bırakılması
III. İstanbul'daki Rumlar ile Batı Trakya'daki Türklerin mübadele kapsamı dışında tutulması

Yukarıdakilerden hangileri Lozan Antlaşması'nın kapsamında yer alan konular arasında yer almaz?

- A) Yalnız I
- B) Yalnız II
- C) Yalnız III
- D) I ve III
- E) II ve III

16. Aşağıdakilerden hangisi Cumhuriyetin ilanının sonuçlarından biri değildir?

- A) Başkent sorunu çözülmüştür.
- B) Kabine sistemine geçilmiştir.
- C) İnkılaplar için gerekli ortam hazırlanmıştır.
- D) Devlet başkanlığı sorunu çözülmüştür.
- E) Yeni Türk Devletinin rejimi belli olmuştur.

17. Türkiye Cumhuriyeti'nin Misak-ı Milli'ye uygun olarak dış politikada çözdüğü son sınır sorunu aşağıdakilerden hangisidir?

- A) Irak Sınırı
- B) Yunanistan Sınırı
- C) Bulgaristan Sınırı
- D) Suriye Sınırı
- E) İran Sınırı

18. Atatürk "Milletin irade ve emeline uymayanların talihi acıdır, yok olmaktır." demiştir.

Bu sözleri ile aşağıdakilerden hangisinin önemini vurgulamıştır?

- A) Milli birlik ve beraberlik
- B) Ulusal egemenlik
- C) Özgürlük ve bağımsızlık
- D) İnanç özgürlüğü
- E) Milli bağımsızlık

19. I. Kellog Paktı
II. Locarno Paktı
III. Bağdat Paktı
IV. Varşova Paktı
Yukarıdaki Paktlardan hangilerine Türkiye üye olmamıştır?
- A) I ve II
B) Yalnız II
C) II ve III
D) I ve IV
E) II ve IV
20. 1924'te çıkarılan bir kanunla ordunun siyasetten ayrılması sağlanmıştır.
Bu kanun aşağıdakilerden hangisini sağlamaya yöneliktir?
- A) Nasturi Ayaklanmasını bastırmak
B) Çok partili hayata geçişi sağlamak
C) Orduyu iç politika çekişmelerinin dışında tutmak
D) Erkan-ı Harbiye makamını kaldırmak
E) Hilafet makamını kaldırabilmek için gerekli ortamı yaratmak
21. **Tekalif-i Milliye Emirlerinin uygulamasında yaşanabilecek sorunları önlemek için aşağıdakilerden hangisi görevlendirilmiştir?**
- A) İstiklal Mahkemeleri
B) Düzenli Ordu
C) Anayasa Mahkemeleri
D) Nizamiye Mahkemeleri
E) Kuvay-i Milliye Birlikleri
22. **Mehmet Akif Ersoy, İstiklal Marşı'nı yazarken aşağıdakilerden hangisine ithaf etmiştir?**
- A) TBMM'ye
B) Türk Bayrağına
C) Türk Milletine
D) Türk Ordusuna
E) İstanbul Hükümetine
23. **Milli Mücadele döneminde, TBMM Hükümeti aşağıdaki devletlerden hangisi ile siyasi bir ilişki kurmamıştır?**
- A) İtalya
B) Sovyet Rusya
C) Fransa
D) Afganistan
E) Avusturya
24. **Atatürk Döneminde, çok partili hayata geçiş dönemleri sırasında rejime yönelik bazı isyanlar yaşanmıştır. Bu olaylar,**
- I. Cumhuriyetçilik,
II. Laiklik,
III. Devletçilik
İlkelere hangilerinin uygulanmasını olumsuz yönde etkilemiştir?
- A) Yalnız I
B) Yalnız II
C) Yalnız III
D) I ve II
E) I ve III

25. I. Kuzey Atlantik Paketi
II. CENTO
III. SEATO

Yukarıdaki ittifaklardan hangileri SSCB'nin özellikle Güneydoğu Asya'da yayılmasını engellemeye yöneliktir?

- A) Yalnız I
B) Yalnız II
C) Yalnız III
D) I ve II
E) I, II ve III

26. İslam Konferansı Teşkilatının ilk Türk genel sekreteri aşağıdakilerden hangisidir?

- A) Ekmeleddin İhsanoğlu
B) İhsan Eliaçık
C) Haydar Aliyev
D) Dr. Fazıl Küçük
E) Rauf Denktaş

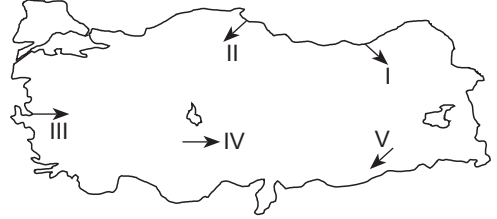
27. Hindistan ve Pakistan arasında yaşanan ve günümüze kadar devam eden sorun aşağıdakilerden hangisidir?

- A) Süveyş Krizi
B) Afganistan İşgali
C) Şattülarap Sorunu
D) Keşmir Sorunu
E) Arap – İsrail Savaşı

28. Türkiye'de aşağıdaki özelliklerden hangisine sahip olan illerde erkek nüfusu kadın nüfusundan daha fazladır?

- A) Dışarıdan göç alan iller
B) Dışarıya göç veren iller
C) Sanayisi geri kalmış iller
D) Eğitim seviyesi düşük iller
E) Kır nüfusu fazla olan iller

29. Eğitim koşulları, iklim şartları, yükselti gibi faktörler karayolu yapım maliyetini etkiler.



Buna göre yukarıdaki haritada oklar yönünde yapılacak 90 km'lik karayollarından hangisinde yol yapım maliyeti daha fazla olur?

- A) I
B) II
C) III
D) IV
E) V

30. İç Anadolu ve Güneydoğu Anadolu Bölgesi'nde step iklimi görülmektedir. Ancak Güneydoğu Anadolu Bölgesi'nin bazı kesimlerinde Akdeniz iklimi de etkili olduğu için bu iki bölgede bir takım farklılıklar ortaya çıkar.

- I. Kış sıcaklığı
II. Yağışın mevsimlere dağılımı
III. Genel bitki örtüsü
IV. En sıcak mevsim

Yukarıda verilenlerden hangileri bu farklılıklardan-
dır?

- A) Yalnız I
B) I ve II
C) Yalnız III
D) II ve III
E) III ve IV

31. Türkiye genel olarak genç bir yapıya sahiptir. Bu nedenle volkanizmanın yaygın olarak görüldüğü başlıca ülkelerdendir. Volkanizma zaman zaman faaliyet göstererek çeşitli şekiller oluşturmuş ve volkanik dağlar meydana gelmiştir.

Buna göre;

- I. Yund
- II. Tendürek
- III. Uludağ
- IV. Karadağ
- V. Erciyes

gibi dağlardan hangisi volkanik dağlara örnek olarak gösterilemez?

- A) I B) II C) III D) IV E) V

32. Türkiye kıyılarında yaygın olarak görülen şekillerin yanında dalgaların aşındırma etkisiyle oluşmuş falezler gelir. Falezlere daha çok Karadeniz ve Akdeniz kıyılarında rastlanır.

Bu bölgelerde falez oluşumunun kolay gerçekleşmesinde;

- I. Kıta sahanlığının dar olması
- II. Dağların kıyıya paralel uzanması
- III. Gel-git genliğinin fazla olması
- IV. Deniz akıntısının fazla olması
- V. Akarsuların fazla olması

gibi faktörlerden hangileri etkilidir?

- A) I ve II B) I ve III C) II ve III
D) III ve IV E) IV ve V

33. Türkiye'de devkazanı, peribacası, kırgıbayır gibi akarsu aşındırma şekillerine çokça rastlanır.

Aşağıdakilerden hangisi bu durumun nedenlerinden biri değildir?

- A) Eğimin fazla olması
- B) Akarsuların rejimlerinin düzensiz olması
- C) Sellenmelerin fazla olması
- D) Akarsuların denge profiline ulaşmamış olması
- E) Yer şekillerinin engebeli olması

34. Dünya üzerindeki herhangi bir noktanın ekvatora olan uzaklığının açı cinsinden değerine enlem denir.

Aşağıda verilenlerden hangisinin üzerinden enlemin etkisinden söz edilemez?

- A) Akdeniz'in tuz oranının Karadeniz'den fazla olması
- B) Güneyden kuzeye doğru sıcaklığın azalması
- C) Güneş ışınlarının güneye daha büyük açıyla gelmesi
- D) Çizgisel hızın güneyden kuzeye doğru azalması
- E) Karadeniz'deki ormanlık alanın Akdeniz'den daha fazla olması

35. Doğu Karadeniz'den sonra batıya en çok göç gönderen bölge Doğu Anadolu'dur.

Bu durumun nedeni aşağıdakilerden hangisi değildir?

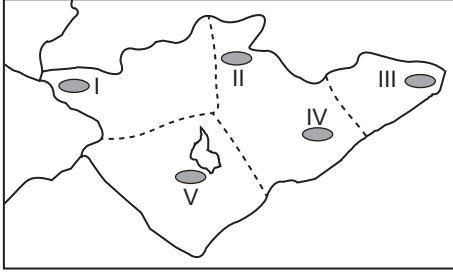
- A) İklim koşullarının elverişsiz olması
- B) Ulaşım koşullarının elverişsiz olması
- C) Hizmet sektörünün yaygınlık göstermemesi
- D) Sanayinin gelişmemesi
- E) Hammadde kaynakları bakımından yetersiz olması

36. Ege Bölgesi'nde en fazla yağışı Menteşe yöresi alır.

Bu durumun temel sebebi aşağıdakilerden hangisidir?

- A) Orman alanlarının fazla olması
- B) Dağların hakim rüzgar yönüne dik uzanması
- C) Bitki örtüsünün gür olması
- D) Akdeniz iklim kuşağında yer alması
- E) Asor yüksek basıncının etkisinde kalması

37. İç Anadolu Bölgesi'nde nadas uygulanması yağış azlığından dolayı fazladır.



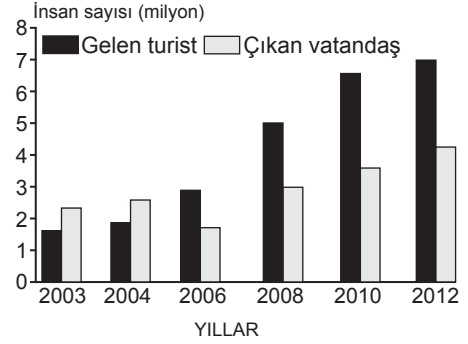
Buna göre, yukarıdaki haritada taralı yerlerden hangisinde nadas uygulaması daha çoktur?

- A) I B) II C) III D) IV E) V

38. Aşağıdakilerden hangisi Doğu Anadolu Bölgesi ile İç Anadolu Bölgesi'nin genel karşılaştırmalarından çıkarılacak bir sonuç değildir?

- A) Tarım ürünleri İç Anadolu Bölgesi'nde daha erken olgunlaşır.
 B) Doğu Anadolu Bölgesi'nde sıcaklık daha düşüktür.
 C) İç Anadolu'da yağış daha fazladır.
 D) İç Anadolu Bölgesi'nde nadas fazla, Doğu Anadolu Bölgesi'nde nadas daha azdır.
 E) Nüfus yoğunluğu İç Anadolu Bölgesi'nde daha fazladır.

39. Aşağıdaki grafikte, 1983 - 1992 yılları arasında ülkemize gelen turist sayısı ile çıkan vatandaş sayısı verilmiştir.



Buna göre, aşağıdakilerden hangisi sadece grafikten çıkarılacak bir sonuçtur?

- A) Ülkemizden çıkan vatandaşın sayısı sürekli artmıştır.
 B) Ülkemizde turizm gelirlerinin en yüksek olduğu yıl 2010'dur.
 C) Gelen turist ve çıkan vatandaş sayısı arasındaki farkın en az olduğu yıl 2006'dır.
 D) Gelen turistlerin çoğunluğu Almanyalı'dır.
 E) Gelen turist sayısı sürekli artmıştır.

40. Samsun limanı Karadeniz Bölgesi'nin diğer limanlarına göre daha fazla gelişmiştir.

Bu durum Samsun limanının daha çok hangi özelliği ile ilgilidir?

- A) Yükleme boşaltma kapasitesinin fazla olması
 B) Kıyısındaki derinliğinin az olması
 C) İç kesimlerle bağlantısının kolay olması
 D) Doğal liman özelliğine sahip olması
 E) Güneyinde dağların doğu-batı yönlü olarak uzanması

41. Aşağıda dışarıdan aldığımız ve dışarıya sattığımız yeraltı kaynaklarından bazıları verilmiştir.

Buna göre, hangisinin özelliği yanlış verilmiştir?

- A) Petrol - ithal B) Krom - ihraç
 C) Doğalgaz - ithal D) Bor - ihraç
 E) Bakır - ithal

42. Endüstri kuruluşlarının yoğunlaştığı yerlerde toprak, hava ve suda kirlilik oranı artmaktadır.

Aşağıdaki yörelerin hangisinde böyle bir duruma örnek oluşturmaz?

- A) İskenderun Körfezi
B) Erdek Körfezi
C) Teke Yöresi
D) Kocaeli yarımadası
E) Çandarlı Körfezi

43. Türkiye’de mera hayvancılığı yaygın olmasına rağmen; son yıllarda besi ve ahır hayvancılığının gelişmesinin nedenleri arasında aşağıdakilerden hangisi yer almaz?

- A) Nüfus miktarının artması
B) Mera alanlarının azalması
C) Kentleşme oranının artması
D) Daha çok gelir getirmesi
E) Daha az masraf gerektirmesi

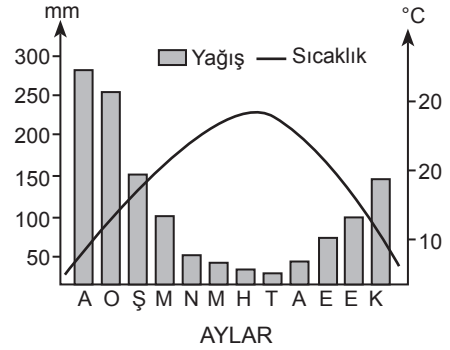
44. Aşağıda Türkiye'nin coğrafi bölgelerin bazı özellikleri verilmiştir.

- I. Bölgelerin yüzölçümleri birbirinden farklıdır.
II. Sanayi tesisleri belli bölgelerde yoğunlaşmıştır.
III. Nüfus belli bölgelerde yoğunlaşmıştır.
IV. Bölgelerin yetiştirdikleri tarım ürünleri, birbirinden farklıdır.

Buna göre, verilen özelliklerden hangilerinin bölgeler arası ticaretin gelişmesinde etkili olduğu söylenemez?

- A) Yalnız I B) Yalnız II C) II ve III
D) II ve IV E) III ve IV

45. Aşağıda ülkemizde yer alan bir merkezin yağış ve sıcaklık grafiği verilmiştir.



Grafiğin bulunduğu merkezle ilgili olarak verilen;

- I. Maki bitki toplulukları gözlenir.
II. Yaz kuraklıkları belirgindir.
III. Yağış tutarı 2000 mm nin üzerindedir.
IV. İncir, zeytin, tütün gibi ürünlerin yetiştirilebilmesi mümkündür.

bilgilerden hangileri doğrudur?

- A) Yalnız I B) Yalnız II C) II ve III
D) III ve IV E) I, II ve IV

46. “Kişinin cezalandırılmasının amacı kişinin yeniden topluma kazandırılmasıdır.”

ifadesi Türk Ceza Hukuku'nun hangi ilkesi ile tanımlanır?

- A) Adalet ve eşitlik ilkesi
B) Cezanın şahsiliği
C) Ümanizm
D) Belirlilik
E) Cezanın kanunlara dayalı olması

47. Gerçek ve tüzel kişiliklerin sonlanması ile ilgili aşağıda verilen ifadelerden hangisinin doğru olduğu söylenemez?

- A) Özel hukuk tüzel kişilikleri varlıklarına aldıkları kararla son verebilir.
- B) Gerçek kişinin ölüm tehlikesi ile kaybolması üzerinden beş yıl geçmeden gaiplik kararı çıkarılmaz.
- C) Ölüm gerçek kişiliği sonlandıran hukuki olaylardır.
- D) Kamu tüzel kişiliklerinin sonlanması için kanun çıkarılması gerekir.
- E) Gaiplik kararı ancak mahkemelerce verilir.

48. Aşağıda verilenlerden hangisinin gerçekleşmesi için yetkili mercilerden önceden izin alınması gereklidir?

- A) Siyasi Parti
- B) Sendika
- C) Gösteri – yürüyüş
- D) Özel hukuk tüzel kişiliği
- E) Dernek

49. 1982 Anayasası'na göre Milletvekillerinin dokunulmazlıklarının başlaması aşağıdakilerden hangisi ile gerçekleşir?

- A) Yasama yılının başlaması ile
- B) TBMM Başkanlık Divanı'nın seçimi ile
- C) Hükümetin güvenoyu alması ile
- D) Milletvekili mazbatasının alınması ile
- E) Milletvekilinin TBMM'nde and içmesi ile

50. Ara seçimler için verilen aşağıdaki bilgilerden hangisinin doğru olduğu söylenemez?

- A) Bir yasama döneminde sadece bir kez yapılabilir.
- B) Ara seçim yapılmasına Cumhurbaşkanı karar verebilir.
- C) Genel seçimlere 1 yıl kala yapılamaz.
- D) Bir ilin ya da seçim çevresinin TBMM'de üyesi kalmaması durumunda da yapılabilir.
- E) Ara seçim, yapılması zorunlu haller dışında TBMM'nin takdirindedir.

51. 1982 Anayasası'na göre TBMM tarafından ilan edilecek genel ya da özel af kapsamına aşağıdakilerden hangisi dahil edilemez?

- A) Hırsızlık suçları
- B) Orman suçları
- C) Terör suçları
- D) Uyuşturucu satıcılığı
- E) Zimmete para geçirme

52. Türkiye Cumhuriyeti'nde günümüze kadar yapılmış olan halkoylamalarından (referandum) hangisinin sonucunda hayır oyları çoğunluktadır?

- A) 1961
- B) 1982
- C) 1987
- D) 1988
- E) 2007

53. Alınmış bir grev kararı aşağıdakilerden hangisi tarafından ertelenebilir?

- A) Bakanlar Kurulu
- B) İlgili Bakanlık
- C) TBMM Genel Kurulu
- D) Devlet Denetleme Kurulu
- E) Sayıştay

54. I. Gazi Üniversitesi
II. Milli İstihbarat Teşkilatı
III. Çaykur
IV. Emniyet Genel Müdürlüğü
V. Milli Eğitim Bakanlığı
Yukarıda verilenlerden hangileri yönetmelik çıkar-
ma hakkına sahip değildir?
- A) II ve IV
B) I ve III
C) II, III ve IV
D) I, II, IV ve V
E) Yalnız III
55. Arap Birliği Turizm Teşkilatı'nın 2013 yılı Arap Tu-
rizm Başkenti olarak ilan ettiği şehir aşağıdakiler-
den hangisidir?
- A) Dubai
B) Antalya
C) Bursa
D) Rabat
E) Kahire
56. 2013 IMF dönem Başkanlığı görevini aşağıdakiler-
den hangisi yürütmektedir?
- A) Agustín Carstens
B) Michelle Obama
C) Christine Lagarde
D) Ban Ki-Moon
E) Claude Mignon
57. 2013 Bayan Voleybolu Dünya Kulüplerarası Voley-
bol Şampiyonluğu'nu kazanan takım aşağıdakiler-
den hangisidir?
- A) Vakıfbank Bayan Voleybol Takımı
B) Galatasaray Bayan Voleybol Takımı
C) Unilever Volei
D) Eczacıbaşı Bayan Voleybol Takımı
E) Volero Zürih
58. 2013 Nobel Barış Ödülü'ne layık görülen Kimyasal
Silahların Yasaklanması Örgütü'nün (KSYÖ) Genel
Direktörlüğü'nü kim üstlenmektedir?
- A) Ahmet Üzümcü
B) Leyman Gbowee
C) Tawakel Karman
D) Semavi Eyice
E) Seyit Ahmet Baş
59. 2013 yılı itibarıyla ülkemizde kamuda çalışan 1.9 mil-
yon memur bulunmaktadır. Bu sayının % 62'si erkek,
% 38'i ise kadın çalışanlardan oluşmaktadır.
Kamuda görevli devlet memurlarının dağılımında
2013 yılı verilerine göre en çok istihdam aşağıda-
ki sektörlerden hangisine aittir?
- A) Yargı
B) Maliye
C) Sağlık
D) Emniyet
E) Eğitim
60. 2020 Yaz Olimpiyat ve Paralimpik Oyunlara ev sa-
hipliği yapacak olan şehir hangisidir?
- A) İstanbul
B) Berlin
C) Tokyo
D) Londra
E) Viyana

TEST BİTTİ.

LÜTFEN CEVAPLARINIZI KONTROL EDİNİZ.