



“Türkiye Sizi Kazanacak”

KAMU PERSONEL SEÇME SINAVI

(KPSS)

LİSANS

GENEL YETENEK TESTİ - GENEL KÜLTÜR TESTİ

DENEME SINAVI - 4

DİKKAT

SINAVA BAŞLAMADAN ÖNCE AŞAĞIDAKİ UYARILARI MUTLAKA OKUYUNUZ

1. Adınızı, soyadınızı, TC Kimlik Numaranızı ve dersane numaranızı aşağıya yazınız.

ADI	:
SOYADI	:
TC KİMLİK NO	:
DERSANE NO	:

2. Cevap kâğıdınızdaki 2 numaralı yere TC Kimlik Numaranızı yazarak kodlayınız.
3. Genel Yetenek Testi ve Genel Kültür Testi için verilen toplam cevaplama süresi 120 dakikadır. (2 saat).
4. Cevaplamaya istediğiniz testten ve sorudan başlayabilirsiniz. Her soru ile ilgili cevabınızı, cevap kağıdında o soru için ayrılmış olan yere işaretlemeyi unutmayınız.
5. Testler puanlanırken her testteki doğru cevaplarınızın sayısından yanlış cevaplarınızın sayısının dörtte biri düşülecek ve kalan sayı o testle ilgili ham puanınız olacaktır. Bu nedenle hakkında hiçbir fikrinizin olmadığı soruları boş bırakınız. Ancak, soruda verilen seçeneklerden birkaçını eleyebiliyorsanız kalanlar arasında doğru cevabı kestirmeye çalışmanız yararınıza olabilir.

Bu testin her hakkı saklıdır. Hangi amaçla olursa olsun, testlerin tamamının veya bir kısmının Dersanemizin yazılı izni olmadan kopya edilmesi, fotoğrafının çekilmesi, herhangi bir yolla çoğaltılması, yayımlanması ya da kullanılması yasaktır. Bu yasağa uymayanlar gerekli cezai sorumluluğu ve testlerin hazırlanmasındaki mali külfeti peşinen kabullenmiş sayılır.

GENEL YETENEK TESTİ

1. Yahya Kemal'in sözcüklerle oynaması, onları eğip büküp bozup onlardan yeni biçimler oluşturmaları dillere destandır. Yahya Kemal, en uzun şiirlerinde de sözcük ekonomisini en iyi sağlayanlardır.

Bu parçada geçen "sözcük ekonomisini en iyi sağlayanlardan" sözüyle anlatılmak istenen aşağıdakilerden hangisidir?

- A) Sözcükleri gerçek anlamlarıyla kullanmak
B) Anlatımda süslü ve ağır bir dil kullanmamak
C) Anlatımda gereksiz sözcüklere yer vermemek
D) Sözcükleri hem gerçek hem de mecaz anlamlarını düşündürecek şekilde kullanmak
E) Şiirlerde az da olsa söz sanatına yer vermek

2. Hindistan, muson yağmurlarının yarattığı sel felaketinden en çok etkilenen ülkelerin başında geliyor.

Bu cümleden kesin olarak çıkarılabilecek yargı aşağıdakilerden hangisidir?

- A) Muson yağmurları her zaman sele neden olur.
B) Hindistan selden sonra su sorunu yaşayacaktır.
C) Muson yağmurlarının neden olduğu selden sadece Hindistan etkilenmemiştir.
D) Muson yağmurlarının yarattığı olumsuz durumlardan Hindistan sürekli etkilenmektedir.
E) Muson yağmurları muson ikliminin görüldüğü bölgelerde etkilidir.

3. (I) Kendi topraklarımızda krallıklarını ilan etmiş prenslerdik hepimiz. (II) Naylon ayakkabılı, kısa pantolonlu ve dizlerinde kabuk bağlamış yaraların acısından gayrı acı nedir bilmeyen küçük prensler. (III) Sonra birden üstümüzden gökyüzü çekildi ve ailelerimizin gözbebeklerinden anladık, çocukluğumuzun yitip gittiğini. (IV) İşte ilk büyük acımız bu dönemde başladı. (V) Ve bir daha hiç dönemedik o güzel günlere.

Bu parçadaki numaralanmış cümlelerle ilgili olarak aşağıda verilenlerden hangisi yanlıştır?

- A) I. cümlede, benzetme yapılmıştır.
B) II. cümlede, anlatıcı küçüklüğüyle ilgili bir betimleme yapmıştır.
C) III. cümlede, çocukluğun ailelerin istekleriyle bittiği söylenmiştir.
D) IV. cümlede, çocukluktan çıkmanın yarattığı acıdan bahsedilmiştir.
E) V. cümlede, çocukluk dönemine duyulan özlem dile getirilmiştir.

4. (I) İnsan ömrünün dörtte üçü mutluluğu hazırlamakla geçer. (II) Ömrünün bu bölümünde deli gibi çalışan insan ömrünün geri kalanında da mutluluğun tadını çıkaramaz. (III) İleriye hazırlık alışkanlıkları o kadar etkilemiştir ki onu, kendi hazırlıklarını bitirince başkalarınınkine başlar, bunun içindir ki mutluluğu yakalayamaz bir türlü insanoğlu. (IV) Böylece beklenen o "eşref saati" ölümden sonrasına kalır. (V) En büyük akıllılık, mutluluğun bu hazırlıklara bağlı olmadığını bilmektir.

Bu parçadaki numaralanmış cümlelerle ilgili olarak aşağıda verilenlerden hangisi yanlıştır?

- A) I. cümlede, insanın yaşamının büyük bir kısmını nasıl geçirdiği belirtilmiştir.
B) II. cümlede, insanların mutluluğu bir türlü yakalayamadıkları belirtilmiştir.
C) III. cümlede, alışkanlıkların mutluluğa ulaşmayı engellediği söylenmiştir.
D) IV. cümlede, mutluluğun ölümden sonraya kaldığı söylenmiştir.
E) V. cümlede, mutluluğun belli bir duruma bağlı olmadığından bahsedilmiştir.

5. Yazar sanatını hiç ----- biblolar yapmakta kullandığı zaman bile, bu hâli bir ----- belirtisidir. Suskunluğu da coşkusu da onun dünya görüşünü ortaya koyar.

Bu parçada boş bırakılan yerlere anlam akışına göre sırayla aşağıdakilerden hangisi getirilmelidir?

- A) renk belirtmeyen – davranış
B) susmayan – özentisi
C) kimseye benzemeyen – mesele
D) ses vermeyen – tutum
E) bakmayan – bıkkınlık

7. (I) Karagöz bir gölge oyunudur. (II) Burada değişik söz oyunları ve yanlış anlaşılabilir sözlerle güldürü unsuru sağlanır. (III) Bu oyunlarda eğlenme amacı güdülür. (IV) Karagöz ile Hacivat arasındaki atışmalarla oyun sürer. (V) Kuklaları oynatan kişi konuşmaları tek başına yapabilir.

Bu parçadaki numaralanmış cümlelerden hangisinin yüklemi kurallı birleşik eylemdir?

- A) I. B) II. C) III. D) IV. E) V.

6. Seninle bunları daha önce de konuşmuştuk

I II

ama bunların hiçbirini çözümleyememiştik. Ben

III IV

sorunun kimden kaynaklandığını biliyorum. Bu

V

sorunu en kısa zamanda çözmeye de kararlıyım.

Bu parçadaki numaralanmış sözcüklerden hangisi bir ismin yerini tutmak amacıyla kullanılmamıştır?

- A) I. B) II. C) III. D) IV. E) V.

8. **Aşağıdaki cümlelerin hangisinde eylemin kim tarafından gerçekleştirildiği bellidir?**

- A) Bu kilimler elli yıl önce dokundu.
B) Çocuklar için dergiler alındı.
C) Öğretmenin bu sözüne hemen alındı.
D) Üşüyen dağcılar için ateş yakıldı.
E) Yeni yapılan evler kısa sürede satıldı.

9. (I) Paris'i çok sevdim çünkü enerjisiyle İstanbul'a çok benziyor. (II) Günün her saati uyanık olan bu şehrin hem umudu hem zehri var. (III) Tıpkı taşı toprağı altın denilen ve insanı zengin de fakir de eden İstanbul gibi. (IV) Sanırım insanlar kendilerine benzeyen şehirlere tutuluyor. (V) Kentleri insanlara benzetirsek sevgilim, Paris; dostum, İstanbul'dur.

Bu parçadaki numaralanmış cümlelerle ilgili olarak aşağıda verilenlerden hangisi yanlıştır?

- A) I'inci cümle, bağlı cümledir.
B) II'inci cümle ad cümlesidir.
C) III'üncü cümle, birleşik yapıdır.
D) IV'üncü cümle, biçimce ve anlamca olumludur.
E) V'inci cümle ara söz içermektedir.

10. Aşağıdaki cümlelerin hangisinin yüklemde çatı özellikleri aranmaz?

- A) Şiir yazmaya çocuk yaşta başlamıştı.
B) Doğduğu şehri çok özleyiyor fakat bir türlü oraya gidemiyordu.
C) Herkes onu özleyiyor, onunla konuşmak istiyordu.
D) Çimenlerde oynayan çocuklar çok mutluydular.
E) Ahmet Bey, dün herkesi aramıştı.

11. Salah Birsal'in "Rumba da Rumba" adlı şiir kitabı beş bölümden oluşuyor . Bu bölümler : Sisten

I
II
ten Sonra, Cigidan, Güneş İlkesi, Rumba da Rumba, Musikâr ... Kitapta bölüm adı taşıyan

III
IV
şirlerden yalnızca "Sisten Sonra" 1960 yılında ,

ötekiler 1994'te yazılmış .
V

Bu parçada numaralanmış noktalama işaretlerinden hangisi yanlıştır kullanılmıştır?

- A) I. B) II. C) III. D) IV. E) V.

12. Nahit Ulvi Akgün, 1918'de Milas'da doğdu. İzmir'de büyüdü, İstanbul'da yetişti. 1936'da şiire

III
başladı. 1940'lı yıllarda Garipçilerin etkisinde

IV V
kaldı. Son yıllarında uyaklı şiire dönüş yaptı.

Bu parçadaki altı çizili sözlerin hangisinde bir yazım yanlışı vardır?

Bu parçadaki altı çizili sözlerin hangisinde bir yazım yanlışı vardır?

- A) I. B) II. C) III. D) IV. E) V.

13. Aşağıdaki cümlelerin hangisinde anlatım bozukluğu vardır?

- A) Hangisinin zeki olduğunu, hangisinin zeki olmadığını öğreneceğiz.
B) Bisiklete çok binmekten bacakları ağrıyordu.
C) Bu mahallede binalar birbirine yakın yapılmış.
D) İnsan hayatı beklenmedik sürprizlerle doludur.
E) Seni okutmak için neler yaptığımı bir bilsen!

14. (I) Sanatta bir üslup – konu tartışması epeydir sürer. (II) Haksız bir tartışma değildir bu. (III) Bir sanat eserinde aslolan şey, konu değildir. (IV) Aksine ikisi arasındaki uyum, mükemmelle doğru atılan en ciddi adımın ilk basamağını oluşturur. (V) Ne anlatıldığı, okuyucuya nasıl anlatıldığından daha çok etkilemez okuru. (VI) Yapıtın asıl tadı o zaman çıkar ortaya.

Bu parçada anlam akışının sağlanabilmesi için hangi cümleler yer değiştirmelidir?

- A) II – III B) III – IV C) IV – V
D) IV – VI E) V – VI

15. Dışarıda güneş... Pırıl pırıl bir gökyüzü... Masmavi ... Sık sık bir yel dalgası gelip geçiyor, bahçenin üstünden. Armut ağacının yaprakları karışıyor. Pencerenin önündeki asmanın her gün daha da uzayıp boy atan, kimisi üst katın balkonuna uzanmış, kimisi de pencerenin parmaklığına kanca atmış filizleri yumuşak tıkrıtlar oluşturuyor, cama çarptıkça. Komşu bahçeyle arada sınır olan ev sahibinin diktiği kırmızı çalı güller, taç yapraklarından birkaçını daha döküyor her dalga geçişinde.

Bu parçanın anlatımıyla ilgili olarak aşağıdakilerden hangisi söylenemez?

- A) Eylemler betimlenerek anlatılmıştır.
B) İkileme ve pekiştirmeye yer verilmiştir.
C) Görme ve işitme duyusuna seslenen ayrıntılara yer verilmiştir.
D) Eksiltili cümlelere yer verilmiştir.
E) Doğadan insana aktarma yapılmıştır.

16. (I) İnternet birçok bilgisayar sisteminin birbirine bağlı olduğu dünya çapında yaygın olan ve sürekli büyüyen bir iletişim ağıdır. (II) İnternet, insanların gittikçe artan, üretilen bilgiyi saklama, paylaşma ve ona kolayca ulaşma istekleri sonrasında ortaya çıkmış bir teknolojidir. (III) Bu teknoloji yardımıyla insanlar birçok bilgiye kolay, ucuz, hızlı ve güvenli bir şekilde erişebilmektedir. (IV) İnterneti bu hâliyle bir bilgi denizine veya büyükçe bir kütüphaneye benzetebiliriz. (V) İnternetin olumsuz yönlerinden biri de kötü niyetli insanlar tarafından hazırlanan sayfalar yüzünden kişisel güvenliğin tehlikeye girmesidir. (VI) Pek çok yararlı bilginin bir tuşa basmak kadar yakın olduğu dev bir kütüphaneye.

Bu parçada numaralanmış cümlelerden hangisi düşüncenin akışını bozmaktadır?

- A) II. B) III. C) IV. D) V. E) VI.

17. Ünlü yönetmen Fellini, sinemanın teknik olanaklarını duyularla algılanan dünyayı çarpıcı bir biçimde dile getirmesini bir tehlike olarak görür. Sinemanın özü gereği gerçekçi olduğunu, düşünsel olmadığını söyler. Öyle ki izleyen kendi dışında işleyen bir mekanizmanın içine düşüyor. Bir düşmeye basıyorsunuz ağlıyor, başka bir düşmeye basıyorsunuz gülüyor ya da coşuyor. Yönlendirme öylesine ileri gidiyor ki bu yol göstericilerden biri olmadığı anda izleyen kendini boşlukta buluyor ve hiçbir şey anlamıyor, der.

Bu parçada Fellini, sinemayı hangi yönüyle eleştiriyor?

- A) İzleyeni kendisinden başka bir yönlendiriciye bağlı hâle getirmesi
B) İzleyen insanları ağlatması
C) Konuların çok gerçekçi olması
D) Sinemanın tekniklerinin tamamını kullanmaması
E) Yönlendirmedeki boşluklar

18. Ünlü Fransız yazar Stendhal der ki: “Ben yazmaya başlamadan önce yarım saat medeni kanun okurum. Kendimi onun üslubuyla yazmaya hazırlarım.” Nedir medeni kanun? Atılacak tek kelime yoktur içinde. Stendhal’ın kaç bin yıl geçmesine rağmen hâlâ okunmasının, eskimesinin tek nedeni bu olsa gerek.

Bu parçaya göre Stendhal’ın kalıcı olmasının nedeni aşağıdakilerden hangidir?

- A) Yalın bir dil kullanması
- B) Her çağda sevilen ve okunan bir sanatçı olması
- C) Duru bir anlatım tercih etmesi
- D) Eserlerinde, özgün bir üslup benimsemesi
- E) Okumayı seven bir yazar olması

19. Fr. Dürrenmatt yaşadığımız gerçekleri bireyin algılayamayacağı denli karmaşık ve şaşırtıcı bulur. Bir yazısında şöyle der. “ Öyle bir dönemde yaşıyoruz ki insan çevresinde neler döndüğünü bir türlü anlayamıyor, büyük güçlerin elinde kendini oyuncak gibi hissediyor. Dünyadaki olaylar öylesine büyük boyutlarda ki elinden bir şey gelmiyor bireyin, söylenenler ona yabancı geliyor, dünya ona yabancı geliyor ve böylece ipliği pazara dökülmüş olan dünya görüşlerinin etkisiyle filizlenen kitle üretimlerinin kurbanı oluyor.”

Bu parçada Fr. Dürrenmatt’ın anlattıklarıyla ilgili aşağıdaki yargılardan hangisine değinilmemiştir?

- A) Yaşadığı dönemi yönlendiren büyük güçlerin olduğuna
- B) Yaşanan gerçeklerin insana şaşırtıcı ve karmaşık geldiğine
- C) Duruma yabancılaşan bireyin kendini bir oyuncak gibi gördüğüne
- D) Dünyadaki olaylar karşısında bireyin etkisizliğine
- E) Çeşitli dünya görüşlerinin insanı olumlu etkilediğine

20. Ünlü Rus yazar Tolstoy’un Savaş ve Barış adlı eserini yeniden okuyorum. Üçüncü okuyuşumdur bu. Konuyu biliyorum, kişileri tanıyorum ama bu durum merakımı hiç azaltmıyor. Daha çok yapının nasıl kurulduğuyla ilgileniyorum. Tolstoy hiç acele etmiyor. Kişilerini çocukluklarından, ilk gençliklerinden başlayarak içimize sindire sindire ortaya çıkarıyor. Hangi romanı tam olarak özümleyebilmişizdir ki! Böylesine taze kalmış başyapıtlardan her okuyuşta yeni bir tat alır, yeni bir şeyler öğreniriz.

Bu parçayla ilgili olarak aşağıdakilerden hangisine ulaşılamaz?

- A) Yazar, Savaş ve Barış’ı daha önce de okumuştur.
- B) Klasik eserleri her okuduğumuzda onlardan yeni şeyler öğreniriz.
- C) Romandaki konuyu bilen, kişileri tanıyan yazarın amacı, yapının nasıl kurulduğunu çözmektir.
- D) Tolstoy, herkes tarafından sevilerek okunan ve yaşadığı çağın olaylarına tanıklık eden bir yazardır.
- E) Savaş ve Barış, her okunduğunda başka tatlar veren bir başyapıttır.

21. Benzetmeci benzettiği şeyin ne olduğunu pek bilmez, yaptığı iş ciddi insanlara yakışmayan bir oyundur. Şairler, Homeros başta olmak üzere, en yüksek değerleri anlatırken herhangi bir şeyi uydururken birer benzetmecidirler sadece; gerçeğin kendisine ulaşamazlar. Ressam nasıl kunduracılığın ne olduğunu bilmeden bir kundura resmi yapıyorsa bu sanatı onlardan çok bilmeyenler de renklere biçimlere bakıp onu sahici gibi görüyor.

Bu parçadan aşağıdakilerden hangisi çıkarılamaz?

- A) Ressamların kundura resmi yapmakta başarılı oldukları
- B) Şairlerin benzettiği şeyin ne olduğunu pek bilmediği
- C) Şairlerin gerçeğin kendisine ulaşamadıkları
- D) Benzetmecilerin ortaya koyduklarının, ciddi insanlara yakışmayan bir oyun olduğu
- E) Şairlerin benzetmeci olduğu

22. I. En doğrusu bu soruyu Refik Halit, Halide Edip, Yakup Kadri gibi bu işi başarmış olanlara sormak.
- II. Doğru söylemek gerekirse bunu nasıl yaptıklarını bilmiyorum.
- III. Belki de eş dost yardımı ister, bilmiyorum.
- IV. Onlar sanatlarını harcamadan yapıyorlardı.
- V. Bilsem de bir yolunu bulur soluğu çoktan gazetelerde alırdım.
- VI. Bu, olsa olsa gazetecilere değerini kabul ettirmekle, okunduğunu, sevildiğini göstermekle olur.

Bu cümleler anlamlı bir bütün olacak şekilde sıralandığında baştan ikinci cümle hangisi olur?

- A) II B) III C) IV D) V E) VI

23. Dil, insanların anlaşma aracı olarak kullandıkları işaretler dizgesi olarak tanımlanır. Fakat dili sadece bir anlaşma aracı olarak görmek yanlış olur. Çünkü öyle olsaydı dünyada tek bir dil kullanılırdı. Oysa bugün her ulusun kendine özgü bir dili vardır. Yani dil toplumsal bir üründür. Toplumun içinden gelen, onun kültür ve uygarlığının çekirdeği olan bir özdür. Bu yüzden dilin bozulması ya da yitirilmesi özün yıpranmasıdır.

Bu parçada asıl anlatılmak istenen aşağıdakilerden hangisidir?

- A) Dilin anlaşma aracı olması
- B) Dünya üzerinde farklı dillerin olduğu
- C) Her ulusun kendine özgü bir dili olduğu
- D) Dilin kültür ve uygarlığın özü olduğu
- E) Dili yıpranan bir ulusun tarihten silineceği

24. Şu an liselerimizde verilen edebiyat dersleri amacından saptırıldığı için, bu dersten öğrencilerin soğuduğunu biliyoruz. Edebiyat gibi, estetik hazza yönelik bir dersin işkenceye dönüştürülmesi büyük bir başarıyla gerçekleştiriliyor ülkemizde. Öğrencilere bu derste “gazel hakkında bilgi” verilir ancak gazel okumanın zevki verilmez. Romanın özellikleri madde madde yazdırılır, bunlar yazılıda sorulur. Bu maddeleri ezberleyen çocuk edebiyatta başarılı olur, hayatında bir roman okumamış olsa da...

Bu parçada aşağıdakilerden hangisine değil nilmemiştir?

- A) Öğrencilere gazel okuma zevkinin aşılınmadığına
- B) Edebiyat derslerinin, edebiyat zevki aşılardan uzak olduğuna
- C) Çocukların, roman okumamış olmalarına rağmen başarılı sayıldığına
- D) Öğretmenlerin işlerini ciddiye almadığına
- E) Edebiyat derslerinde, ezber yaptırıldığına

25. (I) İnsan merkezli sinir sistemi, evrende bilinen en karmaşık biyolojik organizasyona sahiptir. (II) Bunların yanında, sinir hücrelerinin on katı kadar sayıda da yardımcı hücreler bulunur. (III) Yardımcı hücrelerin bir diğer adı da nöroglidir. (IV) Bu akıl almaz düzeydeki karmaşık yapı, bugünkü bilgilerimiz ışığında tüm gizemiyle keşfedilmeyi beklemektedir. (V) Nöroloji tam da bu noktada tüm canlılık olaylarını ve davranışlarını düzenleyen bir bilim dalı olarak hizmet vermektedir.

Bu parçada numaralanmış cümlelerin hangisinden sonra düşüncenin akışına göre “Milyonlarca sinir hücresi ve bunların aralarında ki trilyonlarca bağlantı, sinir sisteminin ana yapısını oluşturur.” cümlesi getirilebilir?

- A) I. B) II. C) III. D) IV. E) V.

26. – 27. SORULARI AŞAĞIDAKİ PARÇAYA GÖRE CEVAPLAYINIZ.

(I) Sanırım eleştiri için de bir yazarı kendinden önce yorumladığı biçimde yorumlamama zorunluluğu vardır. (II) Yoksa geçmişte yazılanları yineleyen eleştiriye niçin gereksinim duyulsun. (III) Düşünsel ve yazınsal bakımdan eleştirinin doğası yerinde saymaya başladığı an eleştiri eskimeye başlar. (IV) Eleştirmen kendinde yeterli cesareti ve samimiyeti görmemişse artık yazmaması gerekir. (V) Daha iyiyi, daha estetiği bulmak için yazardan çok eleştirmene görevler düşmektedir.

26. Bu parçada numaralanmış cümlelerin hangisinde amaç anlamı vardır?

- A) I. B) II. C) III. D) IV. E) V.

27. Bu parçadan aşağıdakilerden hangisi çıkarılamaz?

- A) Eleştiride, yazarları farklı bakış açılarıyla ele almak gerekir.
B) Eleştiri ancak yeni ve özgünse ona gerek duyulur.
C) Eleştiri hiçbir zaman eskimeyen, sürekli değişim içinde olan bir türdür.
D) Bir eleştirmen zaman zaman yazdıkları konusunda kendini sorgulayabilmelidir.
E) Eleştirmenler yazarlara nazaran daha fazla emek harcamalıdır.

28. – 30. SORULARI AŞAĞIDAKİ BİLGİLERE GÖRE CEVAPLAYINIZ.

Bir cumartesi günü Ali, Burak, Hüseyin adlı erkeklerle Ceren, Demet, Eda, Fatma adlı kızlar sinema, tiyatro ya da maça gitme seçeneklerinden birini tercih etmiştir. Bu kişilerin tercihleriyle ilgili olarak aşağıdaki bilgiler verilmiştir:

- Eda sinemaya gitmiştir.
- Burak, Ceren ile aynı yere gitmiştir; Demet ise onlardan farklı bir yere gitmiştir.
- Tiyatroya yalnızca iki kız gitmiştir.
- İki erkek, biri kız olmak üzere üç kişi maça gitmiştir.

28. Bu bilgilere göre, aşağıdakilerden hangisi kesinlikle doğrudur?

- A) Demet maça gitmiştir.
B) Ali maça gitmiştir.
C) Fatma sinemaya gitmiştir.
D) Hüseyin ve Burak maça gitmişlerdir.
E) Eda ve Ceren farklı yerlere gitmişlerdir.

29. Aşağıdakilerden hangisi kesinlikle yanlıştır?

- A) Hüseyin maça gitmiştir.
B) Ali sinemaya gitmiştir.
C) Burak ve Ceren sinemaya gitmişlerdir.
D) Ali ve Eda farklı yerlere gitmişlerdir.
E) Hüseyin ve Fatma farklı yerlere gitmişlerdir.

30. Aşağıdakilerden hangisinin, nereye ve kimlerle gittiği kesin olarak bilinmemektedir?

- A) Ali B) Hüseyin C) Ceren
D) Demet E) Eda

31. $|x + 5| + 4 = 6$ eşitliğini sağlayan x değerleri toplamı kaçtır?

- A) -18 B) -10 C) -8 D) 8 E) 20

32.
$$\frac{3^2 + 3^4 + 3^6 + 3^8}{9^{-5} + 9^{-4} + 9^{-3} + 9^{-2}}$$

işleminin sonucu kaçtır?

- A) 3^{-12} B) 3^{-8} C) $\left(\frac{1}{3}\right)^8$ D) 3^8 E) 3^{12}

33.
$$\frac{\sqrt{0,1 - 0,01}}{\sqrt[3]{0,03 - 0,003}}$$

işleminin sonucu kaçtır?

- A) 0,3 B) 0,1 C) 1 D) $\sqrt{3}$ E) 10

34. Tamsayılar kümesi üzerinde \otimes işlemi

$$\begin{cases} a \otimes b = a^2 - b, & a > b \text{ ise} \\ a \otimes b = a \cdot b + b, & a < b \text{ ise} \end{cases}$$

biçiminde tanımlanıyor. $(1 \otimes 3) \otimes (3 \otimes 2)$ işleminin sonucu aşağıdakilerden hangisidir?

- A) 49 B) 7 C) -7 D) -8 E) -49

35. $\frac{7! + 5!}{7! - 5!}$ işleminin sonucu kaçtır?

- A) -1 B) 1 C) 43 D) $\frac{43}{41}$ E) $\frac{43}{42}$

36.
$$\frac{0,2 + 0,04 + 0,006 + 0,0008}{0,02 + 0,004 + 0,0006 + 0,00008}$$

işleminin sonucu kaçtır?

- A) 100 B) 40 C) 10 D) 0,4 E) 0,1

37. $\frac{(3+\frac{1}{2})(4-\frac{1}{2})}{(3-\frac{1}{2})(4+\frac{1}{2})}$

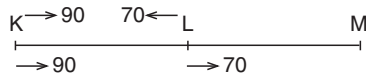
İşleminin sonucu aşağıdakilerden hangisidir?

- A) $\frac{49}{16}$ B) $\frac{49}{45}$ C) $\frac{45}{4}$ D) $\frac{45}{16}$ E) $\frac{45}{49}$

38. Bir adam merdivenleri üçer üçer çıkıp beşer beşer iniyor. İnerken 8 adım daha az atıyor. Buna göre çıkarken kaç adım atmıştır?

- A) 60 B) 30 C) 20 D) 12 E) 8

39.



K ve L den sırasıyla 90 ve 70 km/saat hızla zıt yönde hareket eden 2 araç 2 saat sonra karşılaşıyorlar. Araçlar aynı yönde hareket ettiğinde ise M noktasında yanyana oluyorlar.

Buna göre **ILMI** kaç km dir?

- A) 320 B) 740 C) 1120 D) 1440 E) 2560

40. a ve b sıfırdan farklı pozitif tamsayı ise

$$a = \frac{4b+8}{b} \text{ için a'nın alabileceği değerler toplamı kaçtır?}$$

- A) 4 B) 13 C) 15 D) 31 E) 46

41. $\frac{1}{\sqrt{5-2\sqrt{6}}} - \frac{1}{\sqrt{5+2\sqrt{6}}}$

İşleminin sonucu kaçtır?

- A) $\sqrt{3} + \sqrt{2}$ B) $\sqrt{3}$ C) $\sqrt{2}$
D) 1 E) $2\sqrt{2}$

42. Üç basamaklı ABC pozitif tamsayısı 3'e bölündüğünde 1 kalanını 4'e bölündüğünde 2 kalanını verdiği göre 3 basamaklı en küçük ABC sayısı aşağıdakilerden hangisidir?

- A) 106 B) 108 C) 110 D) 112 E) 121

43. $\frac{x^2y - xy^2}{x^2y + xy^2} \cdot \frac{x^2 + 2xy + y^2}{x^2 - y^2}$

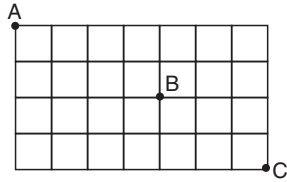
İfadesinin en sade biçimi aşağıdakilerden hangisidir?

- A) $(x - y)$ B) $(x + y)$ C) $\frac{x - y}{x + y}$
D) -1 E) 1

44. a, b, c pozitif tamsayılar olmak üzere $\frac{5}{a} = \frac{3}{b}$ ve $4b - 2a = 3c$ ise **C'nin alabileceği en küçük değer kaçtır?**
A) 24 B) 7 C) 6 D) 5 E) 2

45. $4x - 3$ ile $6x - 5$ sayıları ardışık 2 tek tamsayı ise **x'in alabileceği değerler toplamı kaçtır?**
A) 0 B) 2 C) -3 D) -4 E) -5

46.



Yukarıdaki labirentte A'dan B'ye ve C'ye giden yollar gösterilmektedir. Yollardan sadece sağa ve aşağı doğru gidilmektedir.

- Buna göre A'dan B'ye uğramak koşuluyla C'ye kaç farklı yoldan ulaşılabilir?**
A) 300 B) 150 C) 25 D) 15 E) 10

47. Bir havuzu 17 saatte dolduran A musluğundan sirke 8 saatte dolduran B musluğundan saf su akmaktadır. Havuz boşken 2 musluk aynı anda açılıyor. **Havuz dolduğunda havuzdaki sirke oranı % kaçtır?**
A) 16 B) 17 C) 25 D) 32 E) 68

48. Aynı iş yerinde çalışan 5 kişinin yaşları ile ilgili bilgiler şöyledir:
- Pınar, İsmail'den 2 yaş küçüktür.
 - İsmail, Hıdır'dan 2 yaş küçüktür.
 - Mehmet, Pınar'dan 8 yaş büyüktür.
 - Gül, Hıdır'dan 1 yaş büyüktür.
- Bu verilere göre en büyük ile en küçük arasındaki yaş farkı kaçtır?**
A) 5 B) 7 C) 8 D) 9 E) 10

49. Üç kardeş babalarının verdiği bir miktar parayı şöyle paylaşıyorlar. Büyük olan paranın $\frac{1}{3}$ ünü ortanca, kalanın $\frac{1}{3}$ ünü ve küçük olan son kalan paranın $\frac{1}{3}$ ünü alıyor. Kalan parayı ise eşit şekilde paylaşıyorlar.
- Her bir kardeşin aldığı para bir tam sayı olduğuna göre, ortanca kardeş en az kaç lira almıştır?**
A) 35 B) 26 C) 20 D) 18 E) 12

50. – 52. SORULARI AŞAĞIDA VERİLEN BİLGİYE GÖRE CEVAPLAYINIZ.

Okulda bir torba alma oyunu oynanmaktadır.

Oyunun kulları şöyledir:

- Torbaya doğru her 5 adım gidildiğinde torbaya 15 TL ekleniyor.
- Geri gidilen her adım için torbadan 2 TL alınmaktadır.
- Torbaya gidilen her 5 adım için 2 adım geri gidilecektir.

50. Başlangıçta içinde 50 TL olan torbaya ulaşmak için 81 adım atılmıştır. Torbaya ulaşıldığında torbada kaç TL olur?

- A) 121 B) 171 C) 183 D) 204 E) 259

51. Başlangıçta torbada 40 TL varsa ve torba 40 adım uzakta ise torbaya ulaşıldığında torbada kaç TL olurdu?

- A) 143 B) 172 C) 183 D) 188 E) 287

52. Başlangıçta içinde hiç para olmayan torbaya 61 adımda ulaşılmışsa torbada kaç lira olmuştur?

- A) 78 B) 99 C) 103 D) 135 E) 171

53. $\left. \begin{array}{l} \frac{3^x}{3^y} = 243. \\ 5^x \cdot 5^y = 125 \end{array} \right\}$ olduğuna göre $x^2 - y^2$ kaçtır?

- A) 25 B) 17 C) 16 D) 15 E) 8

54. – 56. SORULARI AŞAĞIDA VERİLEN TABLOYA GÖRE CEVAPLAYINIZ.

Yıl marka	2012	2013
A	120	150
B	108	200
C	256	250
D	237	300

Yukarıdaki tabloda 2012 ve 2013 yıllarında 4 marka otomobilin yıllık satış adetleri gösterilmiştir.

54. 2013 yılında hangi marka arabanın satışı en yüksek oranda değişmiştir?

- A) A B) B C) C D) D E) A ve D

55. Toplam araba satışı 2013 yılında bir önceki yıla göre yaklaşık % kaç değişim göstermiştir?

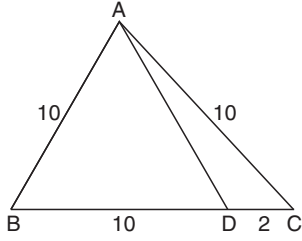
- A) % 25 Artmış B) % 15 Artmış
C) Değişim yok D) % 25 Azalmış
E) % 15 Azalmış

56. 2013 yılı daire grafiği ile gösterilirse A'ya ait merkez açı kaç derece olur?

- A) 60 B) 80 C) 100 D) 120 E) 140

57. Bir manavın aldığı sebzelerin % 20 si satıştan önce çürürse maliyeti yüzde kaç artar?
A) 10 B) 15 C) 20 D) 25 E) 30

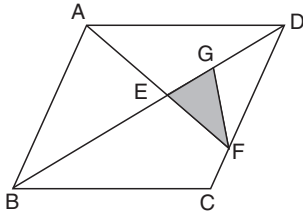
58.



ABC bir üçgen
IABI = IACI = 10cm
IBDI 10 cm
IDCI = 2 cm ise,
IADI uzunluğu kaç cm dir?

- A) $\sqrt{17}$ B) $2\sqrt{17}$ C) $2\sqrt{5}$
D) $4\sqrt{5}$ E) $5\sqrt{3}$

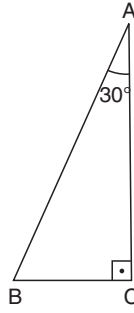
59.



ABCD eşkenar dörtgen,
IDFI = 2 . IFCI
2IAEI = 3IEFI
IGDI = 2 . IEGI

- Taralı alan 4 cm^2 ise eşkenar dörtgenin alanı kaç cm^2 dir?**
A) 30 B) 45 C) 60 D) 75 E) 90

60.



ABC bir dik üçgen
[AC] \perp [BC]
 $m(\widehat{BAC}) = 30^\circ$
IABI = 12 cm
Şekildeki ABC üçgeni [AC] kenarı etrafında 360° döndürülüyor. **Buna göre elde edilen cismin hacmi kaç cm^3 tür?**

- A) 144π B) $72\sqrt{3}\pi$ C) 72π
D) 48π E) 36π

GENEL KÜLTÜR TESTİ

1. Orta Asya Türk Devletleri'nde kağan adına ülkenin batı kısmını yöneten ve kağan soyundan gelme zorunluluğu olan yönetici aşağıdakilerden hangisidir?

- A) Aygucu B) Bitikçi C) Şad
D) Yabgu E) Hatun

2. Aşağıda verilen Türk İslam Devletleri'nden hangisinde "Devlet hanedanın malıdır" anlayışı etkili olmamıştır?

- A) Anadolu Selçuklular
B) Osmanlılar
C) Memlükler
D) Büyük Selçuklular
E) Tolunoğulları

3. Aşağıdakilerden hangisi Türk-İslam devletlerinde devlet yönetimiyle ilgili doğru bir bilgi değildir?

- A) Devlet hükümdar ailesinin ortak malıdır.
B) Devlet işleri Divan-ı Saltanat'ta görüşülür.
C) Devlet yönetiminde eski Türk kültürü de etkilidir.
D) Toprak sistemi, devletin asker ihtiyacını karşılar.
E) Hükümdarın yetkileri sınırsızdır.

4. Osmanlı Beyliği'nin diğer beyliklerden farklı olarak kısa sürede güçlenmesinin en önemli yönetsel özelliği aşağıdakilerden hangisidir?

- A) Jeopolitik konumu
B) Bizans'a komşu olması
C) Merkezi otoriteye önem vermesi
D) Halka adaletli davranması
E) Güçlü orduya sahip olması

5. Osmanlı Devleti'nde idari yetkili sayısının, vergilerin ve asker sayısının artması yükselme dönemi boyunca devam etmiştir.

Bu durumla ilgili olarak;

- I. Sınırlar genişlemiştir,
II. Gayrimüslim nüfus artmıştır,
III. Pençik sistemi ortaya çıkmıştır

yargılarından hangilerine ulaşılabilir?

- A) Yalnız I B) Yalnız II C) I ve II
D) I ve III E) II ve III

6. Aşağıda verilenlerden hangisi Osmanlı Devleti'nin hazine giderleri arasında gösterilemez?

- A) Saray masrafları
B) Tımarlı sipahi masrafları
C) Ulufe maaşları
D) Cülus Bahşişleri
E) Bayındırlık hizmetleri

7. Osmanlı Devleti'nde devletin nakit ihtiyacının karşılanmasında;

- I. İltizam,
II. Müsadere,
III. Devşirme

sistemlerinden hangileri kullanılmıştır?

- A) Yalnız I B) Yalnız II C) Yalnız III
D) II ve III E) I ve III

8. Osmanlı Devleti'nde XVII. yüzyılda yapılan ıslahatlarla,

- I. asayışı sağlamak,
II. toprak sistemini düzenlemek,
III. maliyeyi düzeltmek

amaçlarından hangilerine ulaşılmak istenmiştir?

- A) Yalnız I B) Yalnız II C) I ve II
D) I ve III E) I, II ve III

9. Osmanlı Devleti'nde görülen;
– Daimi elçiliklerin açılması
– Devlet matbaasının kurulması
gelişmeleri aşağıdaki hangi padişah devrinde yaşanmıştır?
A) IV. Murat B) I. Mahmut
C) III. Selim D) Abdülmecid
E) II. Abdülhamit
10. Aşağıdakilerden hangisi 1878 Berlin Antlaşması sonrası meydana gelen gelişmeler arasında gösterilemez?
A) Yunanistan'ın bağımsızlığını kazanması
B) Bulgaristan'ın bağımsızlığını kazanması
C) İngiltere'nin Mısır'ı alması
D) Sırp'ların bağımsız olması
E) Bosna – Hersek'in Avusturya – Macaristan tarafında ilhak edilmesi
11. Osmanlı Devleti'nde XIX. yüzyılda müsadere sisteminin kaldırılması,
I. tarımsal üretimin artması,
II. mülkiyet kavramının gelişmesi,
III. hükümdarın yetkilerinin artması
gelişmelerinden hangilerine neden olduğu söylenebilir?
A) Yalnız I B) Yalnız II C) Yalnız III
D) I ve II E) I ve III
12. Dağılma Dönemi'nde Osmanlı Devleti'nde,
I. Tanzimat Fermanı'nın ilanı,
II. Islahat Fermanı'nın ilanı,
III. Kanunuesasinin ilanı
gelişmelerinden hangileri hukuk üstünlüğünü sağlamaya yöneliktir?
A) Yalnız I B) Yalnız II C) I ve II
D) I ve III E) I, II ve III
13. Osmanlı Devleti Arnavutluk'u aşağıdakilerden hangisinin sonucunda kaybetmiştir?
A) Balkan savaşları
B) Trablusgarp Savaşı
C) I. Dünya Savaşı
D) Kırım Savaşı
E) 93 Harbi
14. Aşağıdakilerden hangisi Wilson İlkeleri arasında gösterilemez?
A) Yenilenlerin savaş tazminatı ödememesi
B) Milletler Cemiyeti'nin kurulması
C) Uluslararası diplomasinin açık yapılması
D) Boğazların İtilaf Devletlerince işgal edilmesi
E) Silahlanma yarışının yasaklanması
15. Aşağıdaki konulardan hangisi Misakımilli'de yer almamıştır?
A) Boğazlar
B) Dış borçlar
C) Halk oylaması
D) Düzenli ordunun kurulması
E) Kapitülasyonlar
16. Aşağıdakilerden hangisi, İstanbul'un işgaline ve TBMM'nin açılmasına ortam hazırlayan gelişmedir?
A) Amasya Genelgesi'nin kabulü
B) Misakımilli'nin meclis onayından geçmesi
C) İrade-i Milliye Gazetesi'nin yayımlanması
D) Temsil Heyeti'nin oluşturulması
E) Kuvayımilliye'nin birleştirilmesi
17. I. Firariler Hakkında Kanun
II. Hıyanetivatanıye Kanunu
III. Takririsükun Kanunu
yukarıdaki kanunlardan hangilerinin çıkarılması TBMM'nin gücünü ve otoritesini arttırmaya yöneliktir?
A) Yalnız I B) Yalnız II C) I ve II
D) I ve III E) I, II ve III
18. Milli Mücadele Dönemi'nde, ulusal güçlerin İstanbul Hükümeti ve Padişah tarafından tanınmasını sağlayan gelişme aşağıdakilerden hangisidir?
A) Londra Konferansı
B) Amasya Genelgesi
C) Amasya Görüşmeleri
D) Sivas Kongresi
E) Pozantı Kongresi

19. Kurtuluş Savaşı'nda Fransa'nın, Anadolu'daki işgal bölgelerinden çekilmesini sağlayan gelişme aşağıdakilerden hangisidir?

- A) Sakarya Savaşı'nın kazanılması
- B) Düzenli ordunun kurulması
- C) Mudanya Ateşkesi'nin imzalanması
- D) Hilafetin kaldırılması
- E) Saltanatın kaldırılması

20. Atatürk döneminde çoğulcu demokrasiye geçmek amacıyla;

- I. Serbest Cumhuriyet Fırkası'nın kurulması,
 - II. tek dereceli seçimlerin yapılması,
 - III. kadınlara siyasi hakların verilmesi
- gelişmelerinden hangileri gerçekleştirilmiştir?**

- A) Yalnız I
- B) Yalnız III
- C) I ve III
- D) II ve III
- E) I, II ve III

21. – Tekke ve türbelerin kapatılması
– Türk Medeni Kanunu'nun kabul edilmesi
– Hilafetin kaldırılması

gelişmeleri aşağıdaki ilkelere hangisiyle ilgilidir?

- A) Cumhuriyetçilik
- B) Laiklik
- C) Devletçilik
- D) Milliyetçilik
- E) Halkçılık

22. Yeni Türk Devleti'nde yatırımların doğrudan devlet eliyle yapılmasına karar verilmesi hangi ilkenin uygulama alanı bulmasını sağlamıştır?

- A) Cumhuriyetçilik
- B) Halkçılık
- C) İnkılapçılık
- D) Devletçilik
- E) Milliyetçilik

23. Montrö Sözleşmesi,

- I. Boğazlardaki uluslararası komisyonun kaldırılması
- II. Boğazların ticari geçişe açılması
- III. Musul'un geleceğinin belirlenmesi

konularından hangilerini kapsar?

- A) Yalnız I
- B) Yalnız II
- C) Yalnız III
- D) I ve II
- E) I ve III

24. Balkan Antantı'nın kurulmasında,

- I. İtalya'nın yayılma siyaseti izlemesi
- II. Yunanistan ile Türkiye arasında ilişkilerin gelişmesi,
- III. Boğazların ticarete açılması

gelişmelerinden hangileri etkili olmuştur?

- A) Yalnız I
- B) Yalnız II
- C) Yalnız III
- D) I ve II
- E) I ve III

25. II. Dünya Savaşı sırasında Cumhurbaşkanı İsmet İnönü'ye mektup gönderen lider aşağıdakilerden hangisidir?

- A) Churchill
- B) Hitler
- C) Lenin
- D) Stalin
- E) Mussolini

26. "Keşmir Sorunu" yüzünden birbirleriyle savaşan devletler aşağıdakilerden hangisidir?

- A) Hindistan – Pakistan
- B) Afganistan – ABD
- C) Hindistan – Japonya
- D) Irak – ABD
- E) SSCB – ABD

27. Aşağıdaki uluslararası teşkilatlardan hangisinin çağrısı üzerine Türkiye Cumhuriyeti Kore'ye asker göndermiştir?

- A) Varşova Paktı
- B) Birleşmiş Milletler
- C) CENTO
- D) Bağdat Paktı
- E) NATO

28. Aşağıdaki durumlardan hangisi Türkiye'nin matematiksel konumunun sonuçları arasında değerlendirilemez?

- A) Güneyine doğru gittikçe sıcaklığın artması
- B) Aynı anda dört mevsim özelliklerinin görülmesi
- C) Dağların kuzeye bakan yamaçlarının güney yamaçlarından daha soğuk olması
- D) Kış aylarında cephesel yağışların görülmesi
- E) Gündüz uzunluğunun 24 saati bulmaması

29. Türkiye'de aynı anda bir tane ulusal saat kullanılırken Rusya, ABD gibi ülkelerde birden fazla ulusal saat kullanılmaktadır.

Bu durum Türkiye'nin hangi özelliğine bağlı olarak oluşmuştur?

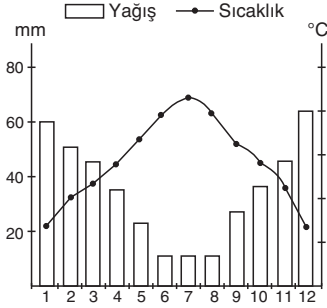
- A) Kuzey Yarımküre'de olması
- B) Kuzeyi ile Güney arasında 6 paralel bulunması
- C) Doğu - batı genişliğinin az olması
- D) Gerçek alan ile izdüşüm alanı arasındaki farkın fazla olması
- E) Yıl içinde dört mevsimin yaşanması

30. Türkiye'de ulaşım çeşitli nedenlerle fazla gelişme gösterememiştir.

Aşağıda Türkiye'de ulaşımı olumsuz yönde etkileyen bazı etmenler verilmiştir. Verilen etmenlerden hangisi doğal faktörler içinde yer almaz?

- A) Ortalama yükseltinin fazla oluşu
- B) Dar ve derin akarsu vadilerinin varlığı
- C) Sermaye yetersizliği
- D) Kar yağışları ve don olayları
- E) Dağların uzanış doğrultusu

31. Aşağıda bir ile ait aylık ortalama sıcaklık ve yağış grafiği verilmiştir.



Aşağıdakilerden hangisi bu grafikten çıkarılabilecek bir sonuç değildir?

- A) Sıcaklığın arttığı dönemde yağış miktarı azalmıştır.
- B) Yağışlar daha çok yağmur şeklinde düşmektedir.
- C) Bitki örtüsü yaz kuraklığına dayanıklıdır.
- D) Fiziksel çözülme görülmez.
- E) Kış ılıklığı görülür

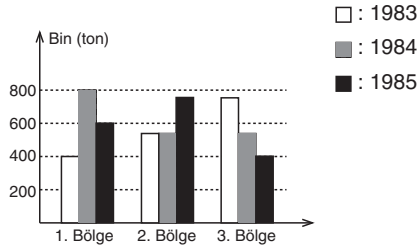
32. Türkiye'de arıcılık faaliyetleri daha çok tarım arazilerine uzak, dağlık alanlarda gelişmiştir.



Verilen açıklamaya göre haritada numaralarla belirtilen alanlardan hangisinde arıcılığın çok geliştiği söylenemez?

- A) I
- B) II
- C) III
- D) IV
- E) V

33. Aşağıdaki grafikte aynı tarım ürününün üç ayrı bölgede bazı yıllardaki üretimi verilmiştir.



Buna göre aşağıdaki yargılardan hangisi yanlıştır?

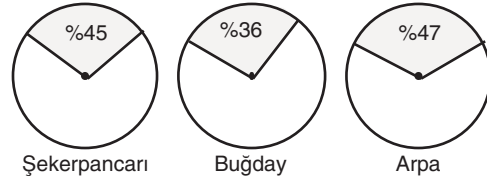
- A) 3. bölgede tarım ürünü yıllara göre sürekli azalmıştır.
 B) 1. bölgede üretim en çok 1984 yılında olmuştur.
 C) 3. bölgenin üç yıllık toplam üretimi 2. bölgeden fazladır.
 D) 2. ve 3. bölgede 1984 yılındaki tarım ürünü üretimi aynıdır.
 E) 2. bölgede 1983 ile 1984 yılında tarım ürünü üretimi aynıdır.

34. – Taş kömürünün çıkarıldığı tek bölümdür.
 – Demir-çelik sanayisinin geliştiği bölümdür.
 – Falezler oldukça fazladır.

Yukarıda özellikleri verilen bölüm aşağıdakilerden hangisidir?

- A) Doğu Karadeniz Bölümü
 B) Batı Karadeniz Bölümü
 C) Asıl Ege Bölümü
 D) Yıldız dağları Bölümü
 E) Orta Karadeniz Bölümü

35. Aşağıda üç tarım ürününün, bir coğrafi bölgedeki üretim miktarının, toplam üretimdeki payları gösterilmiştir.



Buna göre bölgeyle ilgili olarak ulaşılabilecek en doğru yargı aşağıdakilerden hangisidir?

- A) Bölge ahır hayvancılığında gelişmiştir.
 B) Şekerpancarının ekim alanı buğdaydan daha fazladır.
 C) Bölge her mevsim yağış almaktadır.
 D) Bölgede karasal iklim hakimdir.
 E) Bölgede heyelan afeti sık yaşanır

36. Aşağıda bazı madenlerin çıkarım alanları gösterilmiştir.



Buna göre maden ve çıkarıldığı yer eşleştirildiğinde hangi maden dışarıda kalır?

- A) Petrol B) Kükürt C) Altın
 D) Demir E) Boksit

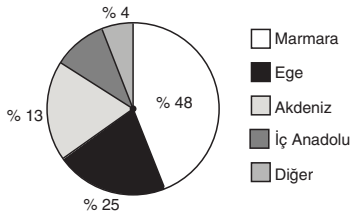
37. Aşağıdaki tabloda 1999 ve 2003 yılları arasında bazı kaynaklara göre elektrik enerjisi üretimi (kwh olarak) verilmiştir.

Yıllar	1999	2000	2001	2002	2003
Linyit	34.808	35.614	35.117	36.341	28.628
Fuel – oil	7.516	6.423	7.553	8.085	9.500
Doğalgaz	25.800	35.641	45.317	48.936	53.716

Buna göre aşağıdakilerden hangisine ulaşamaz?

- A) 2003 yılında linyit ve fuel-oilden elde edilen enerji doğalgazdan elde edilen enerjinin yarısından fazladır.
 B) Verilen enerji kaynaklarından yalnızca doğalgazda yıllar itibariyle elektrik üretimi sürekli artış göstermiştir.
 C) Linyitten elde edilen enerjinin en az olduğu yıl fuel-oilden elde edilen enerji en fazla olmuştur.
 D) Üretilen enerjinin büyük bir kısmı sanayide kullanılmaktadır.
 E) Fuel-oil üretiminin en az olduğu yıl doğalgaz ve linyit üretimi birbirine yakındır.

38.



Yukarıdaki grafikte Türkiye'de Turizm gelirinın bölgelere göre dağılımı verilmiştir.

Bu grafiğe göre aşağıdaki bilgilerden hangisi doğrudur?

- A) Gelen turist sayısının en fazla olduğu bölge Marmara'dır.
 B) Kıyı Turizmi en fazla Akdenizde'dir.
 C) Güneydoğu ve Doğu Anadolu ile Karadeniz bölgesinden elde edilen Turizm geliri %4'ü geçmemiştir.
 D) Akdeniz'e gelen turist sayısı Ege'ye gelen turist sayısından azdır.
 E) Kış turizminden elde edilen gelir düşüktür.

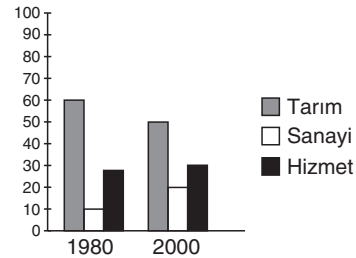
39. Aşağıdakilerden hangisi Ege Bölgesi'nin çöküntü ovalarında gelişen sanayi kollarından biri değildir?

- A) Yağ B) Şeker C) Dokuma
 D) Sigara E) Çimento

40. Aşağıdakilerden hangisi Karadeniz Bölgesi'nin nüfus özelliklerinden biri değildir?

- A) Aritmetik nüfus yoğunluğu Türkiye ortalamasının altındadır.
 B) Orta Karadeniz, bölgenin en sık nüfuslu bölümüdür.
 C) Doğu Karadeniz bölümünde nüfus, iç kesimlerde yoğundur.
 D) Zonguldak ve çevresi sanayileşmenin etkisiyle sık nüfusa sahiptir.
 E) Bölge içerisinde en fazla göçü Doğu Karadeniz Bölümü vermektedir.

41. Aşağıdaki grafikte Türkiye'nin 1980 - 2000 yılları arasında çalışan nüfusun sektörlere dağılımı verilmiştir.



Yalnızca grafikteki bilgilerden yararlanarak aşağıdakilerden hangisine ulaşamaz?

- A) 1980'den 2000 yılına gelindiğinde tarımda çalışanların oranı azalmıştır.
 B) Verilen yıllarda en az değişim sanayi sektöründe olmuştur.
 C) 1980 yılında sanayi ve hizmet sektöründe çalışanların oranı 2000 yılındaki tarımda çalışanların oranından az olmuştur.
 D) 1980 ve 2000 yılında hizmet sektöründe çalışanların oranı sanayide çalışanların oranından fazladır.
 E) 2000 yılında sanayide çalışanların oranı 1980 yılındaki hizmet sektöründe çalışanların oranından daha azdır.

42. Doğu Karadeniz Bölümünde tarımsal nüfus yoğunluğunun fazla olmasının temel nedeni aşağıdakilerden hangisinde doğru olarak verilmiştir?

- A) Nüfusun büyük kısmının tarımla uğraşması
- B) Sanayinin fazla gelişmemesi
- C) Dışarıya göç vermesi
- D) Tarım alanlarının dar olması
- E) Verimli tarım ovalarının bulunması

43. İç Anadolu Bölgesi'nde sulanan alanların artması aşağıdaki gelişmelerden hangisine neden olmaz?

- A) Tarımsal üretimin artması
- B) Tarımsal ürünlerin çeşitlenmesi
- C) Tarımda iklime bağımlılığın azalması
- D) Bölgede zeytin üretiminin başlaması
- E) Nadasa ayrılan toprakların oranının azalması

44. Aşağıda Marmara Bölgesi'nde çıkarılan bazı madenler verilmiştir.

Verilen madenlerden hangisinin bölgede birinci sırada çıkarıldığı söylenebilir?

- A) Bor minerali B) Linyit C) Demir
- D) Kurşun E) Krom

45. Aşağıda Türkiye'nin bazı bölümleri verilmiştir. Hangisinin yeryüzü şekilleri nedeniyle diğerlerinden farklı olduğu söylenebilir?

- A) Yukarı kıvrılmak Bölümü
- B) Orta Karadeniz Bölümü
- C) Yukarı Sakarya Bölümü
- D) Orta Fırat Bölümü
- E) Kıyı Ege Bölümü

46. Aşağıdakilerden hangisi borçlar hukukunun temel ilkelerinden değildir?

- A) Eşitlik ilkesi
- B) Üçüncü kişi aleyhine borç kurulabilmesi ilkesi
- C) Dürüstlük ilkesi
- D) Kusurlu sorumluluk ilkesi
- E) Nispiyet ilkesi

47. Aşağıdakilerden hangisi özel hukukun dallarından değildir?

- A) Eşya hukuku
- B) Miras hukuku
- C) İcra – iflas hukuku
- D) Devletler özel hukuku
- E) Medeni hukuk

48. Hakların kazanılmasında geçerli olan ana ilke aşağıdakilerden hangisidir?

- A) Subjektif iyi niyet
- B) Objektif iyi niyet
- C) Zamanaşımı
- D) Veraset ilkesi
- E) Def'i

49. Kanunlarla ilgili aşağıdakilerden hangisi yanlıştır?

- A) Kanun teklifleri milletvekilleri tarafından yapılır.
- B) Kesin hesap kanunu TBMM adına Sayıştay tarafından yapılır.
- C) Cumhurbaşkanı, kanunları TBMM'ye geri gönderebilir.
- D) Cumhurbaşkanı, bütçe kanunu bir defaya mahsus geri gönderebilir.
- E) Kanunları resmi gazetede Cumhurbaşkanı yayımlar.

50. Bakanlarla ilgili aşağıdakilerden hangisi yanlıştır?

- A) Bakanlıkların kurulmaları, kaldırılmaları kanunla olur.
- B) Bir bakan en fazla bir bakana vekalet edebilir.
- C) Herhangi bir sebeple boşalan bakanlığa en geç on beş gün içinde atama yapılır.
- D) TBMM kararıyla yüce divana gönderilen bir bakanla birlikte hükümette düşer.
- E) Başbakan yüce divana gönderilirse hükümet istifa etmiş sayılır.

51. Olağan dönem KHK'larla ilgili olarak hangisi yanlıştır?

- A) Bakanlar Kurulu tarafından çıkarılır.
- B) TBMM tarafından Bakanlar Kurulu'na yetki kanunu verilmesi gerekir.
- C) Yargısal denetimi yapılamaz.
- D) Yayımlandıkları gün TBMM onayına sunulur.
- E) Cumhurbaşkanı imzası da gereklidir.

52. Aşağıdakilerden hangisi 1982 yeniliğidir?

- A) Yerel yönetimlerin ilk kez düzenlenmesi
- B) Sosyal devlet ilkesinin ilk kez düzenlenmesi
- C) İlk kez halk oylaması sonucu yürürlüğe giren anayasa
- D) İlk kez işçilere grev ve sendika kurma hakkının verilmesi
- E) Cumhurbaşkanlığı kararnamesinin ilk kez çıkarılması

53. Cumhurbaşkanının yurt dışında olduğu ya da ölüm gibi durumlarda Cumhurbaşkanına kim vekalet eder?

- A) Genelkurmay Başkanı
- B) Başbakan
- C) TBMM Başkanı
- D) Dışişleri Bakanı
- E) Cumhurbaşkanı yardımcısı

54. Aşağıdakilerden hangisi mahalli idareler içinde yer almaz?

- A) İl Özel İdaresi
- B) İl Genel Meclisi
- C) Belediye
- D) İlçe
- E) Köy

55. NATO'nun kuruluş amacı aşağıdakilerden hangisidir?

- A) Kültürel
- B) Eğitim
- C) Askeri
- D) Ekonomik
- E) Sosyal

56. 2014 kış olimpiyat oyunları hangi ülke ve şehirde yapılıyor?

- A) Kanada – Toronto
- B) Rusya – Soçi
- C) ABD – Kansas
- D) Güney Kore – Seul
- E) Çin – Şangay

57. Aşağıdaki ülkelerden hangisi Avrupa Birliği'nin kurucu üyelerinden değildir?

- A) Fransa
- B) Lüksemburg
- C) Hollanda
- D) İtalya
- E) İngiltere

58. Mersin Akkuyu'da yapılacak nükleer santralin yapım ihalesini hangi ülke aldı?

- A) Japonya
- B) Fransa
- C) ABD
- D) Rusya
- E) Çin

59. UNESCO 2013 Dünya Kitap başkenti neresidir?

- A) Roma
- B) İstanbul
- C) Bangkok
- D) Berlin
- E) Kahire

60. Birleşmiş Milletler hangi tarihte kurulmuştur?

- A) 1945
- B) 1946
- C) 1947
- D) 1948
- E) 1949

Memur, Öğretmen ve Kariyer Meslek Adayları
KPSS-ALES ve DGS'de KARACAN 13 YILDIR ZİRVEDE TEK BAŞINA

2013

KPSS

ŞAMPİYONLARI
YİNE
KARACAN'DAN



KPSS-A

TÜRKİYE
BİRİNCİLİĞİ

2003-2004-2005
2006-2007-2008
2009-2010-2011
2012- 2013
YILLARI

KPSS-B

TÜRKİYE
BİRİNCİLİĞİ

2004
2006
2008
YILLARI

DGS

TÜRKİYE
BİRİNCİLİĞİ

(2008)
TÜRKİYE
İKİNCİLİĞİ
(2011)
YILLARI

ALES

TÜRKİYE
BİRİNCİLİĞİ

(2008)
YILI

**KAYITLAR
DEVAM
EDİYOR**

“Türkiye Sizi Kazanacak”

ÇÜNKÜ BURASI

30 yıllık tecrübesiyle

İLERİ DÜZEY SINAVA HAZIRLAMA MERKEZİ

ANKARA / Kızılay: (0.312) 435 96 00 • Sincan: (0.312) 271 25 25
İSTANBUL / Kadıköy: (0.216) 349 46 46 • Bakırköy: (0.212) 542 50 50 • Mecidiyeköy: (0.212) 347 91 91
Pendik: (0.216) 483 24 24 • Beşiktaş: (0.212) 236 99 99 • Ümraniye: (0.216) 335 48 48
Gaziosmanpaşa: (0.212) 615 74 74
İZMİR / Çankaya: (0.232) 441 38 38 • Karşıyaka: (0.232) 369 81 44 • Buca: (0.232) 420 91 91
Bornova: (0.232) 343 33 99 • Şirinyer: (0.232) 452 32 32



1983

karacanakademi.com