

1. Sanatçının üslubu, dünyaya bakış tarzı ve seçtiği konu, onun çizgisini oluşturan başlıca öğelerdir. O, bu öğeleri kimseye benzemeksizin ortaya koyabilirse kendi çizgisini oluşturabilir.

Bu parçada altı çizili sözle anlatılmak istenen aşağıdakilerden hangisidir?

- A) Sıradan anlatımların dışına çıkma
B) Düşüncelerinde tutarlılık sergileme
C) Gerçekçi bir anlayışı benimseme
D) Anlatım biçimine özen gösterme
E) Evrensel konuları işleme

2. Halk edebiyatı insanlığın binlerce yıllık geçmişinden izler taşır. Yerelliği ağır bastığı için, insanın daha çok doğal yönlerine seslenir. Doğal ve ulusal duyguları işleyen bu edebiyattan ----- insan, az çok etkilenir. Çünkü insan ne kadar çok ----doğal niteliklerinden büsbütün sıyrılmaz.

Bu parçada boş bırakılan yerlere düşüncenin akışına göre aşağıdakilerin hangisinde verilenler getirilmiştir?

- A) okumuş, aydın - nitelikli eser okursa okusun
B) doğayı seven - doğayla haşır neşir olursa olsun
C) hemen her düzeyden - değişirse değişsin
D) toplumdaki uzak yaşayan - yalnız kalırsa kalsın
E) faydacı düşünen - yardım düşüncesi gelişirse gelişsin

3.

- I. Düşündükleriyle yaptıklarını birleştirmesini umardık.
II. Bu görüşün gereklerine uymak ve gerçekleşmesi için çalışmak da gerekir.
III. Bundan ötürü, Mustafa Bey'den de düşünce özgürlüğünü dilemekle yetinmemesini, bu yolda tutarlılıkla yürümesini beklerdik.
IV. Bir entelektüelin doğru bir görüşe bağlanması yetmez.
V. Bunun boşa çıkmaması kendisinin de yararına olurdu.

Yukarıdaki numaralandırılmış cümleler anlamlı bir bütün oluşturacak biçimde sıralandığında hangisi baştan ikinci cümle olur?

- A) I. B) II. C) III. D) IV. E) V.

4.

- I. Biri şafaktan iki saat önce, öteki ikindinin garp yeli çıktıktan sonra.
II. Gün iyice kızdıktan sonra, artık çift sürülmez.
III. Şafaktan önce koşulan çift, gün kızınca kadar devam eder.
IV. Yaz yeli çıkarken çift, iki kere koşulur.
V. Bu arada ikindiye kadar, bir ağaç gölgesinde dinlenilir.

Bu cümleler, anlamlı bir paragraf haline getirilirse sıralama nasıl olur?

- A) IV-I- III - II - V
B) IV - II - III - I -V
C) III - II - IV-I - V
D) IV -I - V - III -II
E) III - V - IV -I - II

5. Şairin ölümünün 10. yılında hazırlanan albümde, yirmi genç şair, ustanın yirmi beş şiirini seslendirmiştir.

Bu cümleden, aşağıdakilerin hangisine kesin olarak ulaşılabilir?

- A) Albüm, piyasaya henüz çıkmamıştır.
B) Şairler, bu çalışma için ücret talep etmemişlerdir.
C) Şiirlerden bir kısmı müziksiz olarak seslendirilmiştir.
D) Şairlerden en az bir tanesi üstadın birden fazla eserini seslendirmiştir.
E) Albüm gelirleri, şairlerin ailesine bağışlanmıştır

6. Norveç Alpleri'nde eriyen bir buzul, 7500 yıl öncesine ait çok sayıda ve arkeolojik açıdan çok değerli kalıntıların ortaya çıkmasını sağladı.

Bu cümleden, aşağıdakilerin hangisine kesin olarak ulaşılabilir?

- A) Kalıntılar, Norveç'in tarihine ışık tutmuştur.
B) Eriyen buzul, kalıntıların farkına varılmasını sağlamıştır.
C) Pek çok buzulda bu tür kalıntılara rastlamak mümkündür.
D) Kalıntılar, bilim dünyasında şaşkınlıkla karşılanmıştır.
E) Kalıntılar, şu ana kadarki en eski örnekleri içermektedir.

7. (I) Sembollerle yarattığı eseri benimle paylaşmak için kafeteryaya uğrayacağını söyledi. (II) Biraz bekledikten sonra kafeteryaya geldi ancak beni fark etmediğinden olacak garsona beni sordu. (III) Oysa ben onun daha dikkatli biri olduğunu sanmışım. (IV) Birkaç metre uzağımda bir masaya oturarak derin düşüncelere daldı. (V) Yanına giderek dalgınlığını paylaşmak istedim fakat sonra, biraz daha yalnız kalması gerektiğini düşündüm.

Bu parçadaki numaralanmış cümlelerle ilgili aşağıda verilen bilgilerden hangisi yanlıştır?

- A) I. cümlede amaç-sonuç ilgisi söz konusudur.
B) II. cümlede bir tahmin anlamı vardır.
C) III. cümlede gerçekleşmemiş bir beklenti vardır.
D) IV. cümlede bir izlenimden bahsedilmiştir.
E) V. cümlede sezgisel bir durum ifade edilmiştir.

8. (I) Ağaçlar, insanlar için büyük bir öneme sahip canlı gruplardır. (II) Onlarsız bir yaşam düşünmek oldukça zor ve anlamsızdır. (III) İnsanoğlunun şu her şeye sahip olma hastalığı, doğayı da doğadaki canlıları da kapsıya kavurmaya devam ediyor. (IV) Çünkü insanlık tarihi boyunca ağaçlar insanların en önemli yaşam kaynaklarından biri olmuştur. (V) Çocuklarımızın da bu yaşam kaynaklarından, ağaçlardan, yeterince yararlanması için onlara ağaç sevgisini aşılmalıyız.

Bu parçadaki numaralanmış cümlelerden hangisi düşüncenin akışını bozmaktadır?

- A) I. B) II. C) III. D) IV. E) V.

9. (I) Birini övmek, onu boğazlamaktır. (II) Aslında, sevmek insanı yüceltir. (III) Kişiye değer veriyor-sanız, onu seviniz. (IV) Fikirlerini de kişiliğini de nesnel bir tarzda değerlendiriniz. (V) Bu şekilde kişi sevildiğinin farkına varacaktır.

Bu parçadaki numaralanmış cümlelerin hangisi isim cümlesidir?

- A) I. B) II. C) III. D) IV. E) V.

10. (I) Söz konusu proje için dağ köyüne uğradık. (II) Köylüler bizi sevinçle karşıladılar. (III) Köylülerle biraz sohbet edip arabamıza bindik.(IV) Tarlalara doğru yola koyulmuştuk bile. (V) O sırada arkadaşım, bak ağaçlar çiçek açmış, dedi.

Bu parçadaki numaralanmış cümlelerin hangisinde edat (ilgeç) kullanılmamıştır?

- A) I. B) II. C) III. D) IV. E) V.

11. Aşağıdaki cümlelerin hangisinde bir işi yapmaya gücü yetme anlamı vardır?

- A) Bu kaygan yolda kardeşime tutunmasaydım, düşecektim.
B) Bu ay ders çalışmaya daha çok zaman ayırıyorum.
C) Kardeşimin söylediklerine gülmek için kendimi zor tuttum.
D) İşimizi bitirdikten sonra biz de sizinle gezmeye gelelim.
E) Sorunları daha dikkatli değerlendirsem başarılı olabilirim.

12. (I) İlk günlerden neden söz edeyim? (II) Onlardan geriye ne kaldı ki? (III) O güzel anıların dili yok. (IV) Ne kim olduğumu ne de nerede bulunduğumu bilmiyorum. (V) Yalnızca, ölüm döşeğimin başucunda, üzerime eğilen biricik hayatımı, karımı görüyordum.

Bu parçadaki numaralanmış cümlelerin hangisinde bir anlatım bozukluğu vardır?

- A) I. B) II. C) III. D) IV. E) V.

13. Onunla elele verip yaşamın zorluklarını yenmek (I) istedim. Yaşamın herhangi bir aşamasında asla (II) bu durumdan vazgeçmedim. Her günün ardından daha bir kenetlendik, birbirimize. Düşlediğimiz de bu değil miydi? (V)

Bu parçadaki numaralanmış sözlerin hangisinde bir yazım yanlışı vardır?

- A) I. B) II. C) III. D) IV. E) V.

14. Aşağıdaki seçeneklerin hangisinde noktalama yanlışlığı vardır?

- A) En yola gelmez üç hayvan vardır: baykuş, yılan ve akbaba.
B) Birden karşımıza çıkivermesin mi?
C) Cömert derler, maldan ederler; yiğit derler, candan ederler.
D) Tavanda ancak bir kibrit ışığı kadar aydınlık veren bir ışık...
E) İki görüşü değerlendirirken, nesnel olmadığımı fark ettim.

15. Her nedense pek çok eleştirmen aynı yanılığa ısrar ediyor. Onlara göre roman, okuyucusunu eğiten bir okuldan başka bir şey değildir. Bu görüş romana gereğinden fazla görev vermek değil midir? Romancının amacı, kurmaca olayları başarılı bir anlatımla ortaya koyarak okurun zihninde canlandırmaktır. Biz bu işi başarıyla yapan insana "iyi romancı" diyoruz. Yoksa çok bilgi veren insana değil.

Bu parçada asıl anlatılmak istenen aşağıdakilerden hangisidir?

- A) Okuyucusuna bilgi veren sanatçı, iyi romancı olamaz, başarılı eserler oluşturamaz.
B) Gerçek romancı, düş gücünden yola çıkarak oluşturduğu gerçeği okurun zihninde canlandırır.
C) Romana gereğinden fazla görev yüklemek iyi romanın yazılmasını engeller.
D) Romani, eğitici olarak görmek ona taşıyamayacağı yük yüklemektir.
E) İyi romancının amacı, okura her konuda bilgi vermektir.

16. Yazmak benim için kendimi tanımak, kendime mutlu bir dünya kurmaktan başka bir şey değildir. Nedense mutlu olan kişi yazamaz, diyorum. Kişinin en sürekli, en güçlü duygusu mutsuzluktur. İnsanın yazmaktaki amacı bu duyguyu yenmektir, desem bir abartma yapmış olmam sanırım. Tabiki yaşam boyu bu duyguyu anlatmakla bitiremeyeceğimiz de bir gerçek.

Bu sözleri söyleyen kişiyle ilgili olarak aşağıdaki yargılardan hangisine varılabilir?

- A) Kendisini anlatmasını bilen bir yazardır.
- B) Duygularına yenilmiş bir kişidir.
- C) Gerçek mutluluğu kitaplarda bulmuştur.
- D) Gelecekte ümitli olan bir insandır.
- E) Yazarak mutlu olabileceğine inanmaktadır.

17. Güldürü unsurları, hayatımızın her döneminde kendini göstermiştir. İnsanlara yol gösterip onları iyi olana her daim sevk edecektir. İnsanlar yaşadıkça akıl denen ayrıcalığı kullanabildikçe güldürü unsurlarının ışığı sönmez; çünkü güldürü unsurları, insan aklının sanatıdır. Güldürü unsurlarının asıl amacı insan aklını silkeleyerek gerçeklerle insanları yüzleştirmek, onların gülümseyen pencerelerden hayatı seyretmesini sağlamaktır. Güldürü unsurlarından yoksun bir toplumun gelişmesi ötekilere göre kültürel alanda daha yavaştır. Güldürü unsurlarını içselleştirmek için akıl sürekli çalıştırmak gerekir; güldürüye aklın sporu da denilebilir. Güldürü alanında gelişmiş zihinlerin yaratıcı bireyler olduğu da bir gerçektir.

Bu parçaya göre aşağıdakilerden hangisi güldürü unsurlarının sağladığı yararlarından biri değildir?

- A) İnsanlara farklı bir bakış açısı kazandırması
- B) İnsanları gerçeklerle yüzleştirmesi
- C) Yaşamın ne kadar değerli olduğunu göstermesi
- D) Zihinsel faaliyetleri güçlendirmesi
- E) Toplumun kültürel gelişimini hızlandırması

18. Birçoğunun öve öve bitiremediği koyu görmeye gittik. Onu görmek için iyiden iyiye sabırsızlanıyorduk. Sonunda amacımıza ulaştık. Koyun burun kısmının ucu, ince uzun kayalık... Sonra yosun kokulu muhteşem deniz... Suyun içindeki iki üç kaya parçası denizle kaya arasında geçit oluşturuyor. Biraz uzaktan bakınca burun, ucundan taş damlayan bir kalemi de anımsatmıyor değil.

Bu parçanın anlatımıyla ilgili aşağıdakilerden hangisi yanlıştır?

- A) Söyleyişe yorum katılmıştır.
- B) Örneklendirmeden yararlanılmıştır.
- C) Bitmemiş cümlelere yer verilmiştir.
- D) Benzetmeye başvurulmuştur.
- E) Ayrıntıların seçiminde birden fazla duyudan yararlanılmıştır.

19. ve 20. soruları aşağıdaki parçaya göre cevaplayınız.

Sanatın amacı güzel ve kalıcı olanı yaratmaktır. Her ikisinin kökleri de fildişi kulelerde değildir. Yaşanılmakta olan somut hayatta, somut insan ilişkilerindedir. Halkın sanatçısı olmaya özenen kişi ise, Brecht'in düşüncesini izleyerek söyleyecek olursak halk dalkavukluğu yapan değildir. Aksine yapıyla halkın kültür ve beğeni düzeyini yükseltmeyi hedefleyen kişidir.

19. Bu paragrafa göre, "halk sanatçısı"nın en önemli özelliği aşağıdakilerden hangisidir?

- A) Geniş halk kitlelerince sevilmesi
- B) Halkın sevgisini kazanmayı amaç edinmesi
- C) Halkı bilgilendirmesi, halkın estetik duygularını geliştirmesi
- D) Kazandığı paralarla, topluma yararlı eserler yaptırması
- E) Kendine özgü bir dünyada yaşarken kendini sata adaması

20. Bu paragrafta aşağıdaki sorulardan hangisinin yanıtı yoktur?

- A) Sanatın amacı ne olmalıdır?
- B) Güzel ve kalıcı olmanın kökleri nerede aranmalıdır?
- C) Halkın sanatçısı olabilmek için ne yapmak gerekir?
- D) Sanatçı niçin somut insan ilişkileriyle ilgilenmelidir?
- E) Halkın sanatçısı hangi türde eserler oluşturmalıdır?

21. ve 22. soruları aşağıdaki parçaya göre cevaplayınız.

(I) Çocuklar için hazırladığımız "Sefertası" adlı derginin her sayısında bir hikaye yayımlamak istiyorduk. (II) Bu nedenle de birçok yazardan çocuklar için hikaye yazmasını istedik. (III) Elimize çok sayıda hikaye ulaştı, ama bu yazarlarımızın bir kısmıyla çok tartıştık. (IV) Çünkü hikayelerin çocuklara uygun olmadığını söylediğimizde, "Nasıl olur, o hikayenin kahramanları çocuk!" diyorlardı. (V) Onlara göre kahramanı çocuk olan hikaye de çocuk hikayesi oluveriyordu. (VI) Uzun uzun anlatmaya çalışıyorduk, içinde hiç çocuk olmayan bir hikaye çocuk hikayesi olabilir ya da kahramanları hep çocuklardan oluşan hikayeler büyüklere yazılmış olabilir diye.

21. Yukarıdaki numaralanmış cümlelerden hangisi kendinden önceki cümlenin açıklayıcısıdır?

- A) II. B) III. C) IV. D) V. E) VI.

22. Bu parçada çocuk hikayesiyle ilgili olarak aşağıdakilerden hangisi vurgulanmak istenmektedir?

- A) Çocuk hikâyelerine yeterince ilgi duyulmadığı
- B) Çocukların düzeyine uygun hikaye bulmanın zorluğu
- C) Çocuk hikayeciliğinin ciddiye alınmadığı
- D) Çocuk hikayesi yazarlarının eleştiriye açık olmadığı
- E) Çocuk hikayesi kavramının yanlış anlaşıldığı

23. - 24. soruları aşağıdaki parçaya göre cevaplayınız.

O yıllarda fakülte hocaları şimdiki kadar öğrenciden kopuk değildi ve öğrenciyle aralarında neredeyse bir usta - çırak ilişkisi vardı. Fakültenin ikinci yılında okurken hocam Tanpınar'a, artık şiir yazmak istediğimi söylemiş, yanında yetişmiş bir çırak olarak kendisinden izin istemiştim. Bana, "Bin eski şiiri ezbere öğrendiğin zaman veririm izni." dedi. Bir süre sonra dediği gibi bin tane eski şiir ezberleyerek dikildim karşısına.

Bu sefer de beni karşısına aldı ve: "Ezberlediğin şiirleri unutmadıkça şiir yazmana izin vermeyeceğim." dedi.

23. Bu parçada asıl anlatılmak istenen aşağıdakilerden hangisidir?

- A) Sanatçı olmak isteyen kişi çok okumalı, sanatının ilk yıllarında okuduklarından etkilenmelidir.
- B) Sanatçı, sanatsal birikimi iyi öğrenmeli fakat bu birikime bağlı kalmamalıdır.
- C) Çok sayıda sanat eseri okumak kişideki yaratıcılığı zamanla öldürecektir.
- D) Sanatta başarılı olmanın yolu, sanatsal yetkinliğe erişmiş kimselerin sözünü dinlemekten geçer.
- E) Sanatçı kendisinden önceki sanat eserlerini iyi öğrenmeli, onları korumalıdır.

24. Bu parçanın anlatımı ile ilgili aşağıdakilerden hangisi söylenemez?

- A) Benzetmeye yer verilmiştir.
- B) Soyut anlamlı sözcükler vardır.
- C) Alıntıya yer verilmiştir.
- D) Öznel düşüncelere yer verilmiştir.
- E) Eksilteli cümleler kullanılmıştır.

25. - 27. soruları aşağıdaki parçaya göre cevaplayınız.

(I) En çok ziyaret edilen müzeler arasında yer alan Ayasofya; sanat ve mimarlık tarihi bakımından dünyanın en önde gelen anıtlardan biri olup dünyanın 8. harikası olarak gösterilmektedir. (II) Bu yapı, İmparator Justinianos tarafından (527-565) dönemin iki önemli Mimarı olan Tralles'li (Aydın) Anthemios ile Miletos'lu (Balat) İsidoros'a yaptırılmıştır. (III) Yapım çalışmaları sırasında iki baş mimar ile birlikte 100 mimar ve her mimarın emrinde 100 işçi çalıştığı kaynaklarda geçmektedir. (IV) Yapımına 23 Şubat 532'de başlanmış, 5 yıl 10 ay gibi kısa bir sürede tamamlanarak büyük bir törenle, 27 Aralık 537'de ibadete açılmıştır. (V) 916 yıl kilise olan yapı, 1453 Yılında Fatih Sultan Mehmed tarafından İstanbul'un fethiyle camiye çevrilerek 482 yıl cami olarak kullanılmıştır. (VI) Atatürk'ün emri ve Bakanlar Kurulu'nun Kararı ile ise 1935 yılında Ayasofya müze olarak kapılarını ziyarete açmıştır.

25. Bu parçada aşağıdaki sorulardan hangisinin yanıtı yoktur?

- A) Ayasofya kim tarafından yaptırılmıştır?
- B) Ayasofya'yı yapan mimarlar kimlerdir?
- C) Ayasofya'nın yapımı kaç yıl sürmüştür?
- D) Ayasofya ne zaman müzeye dönüştürülmüştür?
- E) Ayasofya neden müzeye dönüştürülmüştür?

26. Bu parçanın anlatım özelliği bakımından aşağıda verilen bilgilerden hangisi yanlıştır?

- A) Sayısal verilerden yararlanılmıştır.
- B) Karşılaştırmalara yer verilmiştir.
- C) Nesnel verilerden yararlanılmıştır.
- D) Düşsel öğelere yer verilmiştir.
- E) Somut anlamlı sözcüklere yer verilmiştir.

27. Bu paragrafın anlatım biçimi aşağıdakilerden hangisidir?

- A) Betimleme
- B) Öyküleme
- C) Açıklama
- D) Örnekleme
- E) Tartışma

28. - 30. soruları aşağıdaki bilgilere göre cevaplayınız.

Bir masanın üzerindeki sarı, yeşil, lacivert, bordo ve turuncu kartlardan her biri Kemal, Leyla, Mehmet Nazlı ve Okan adlı kişilere aittir.

Bu kartlarla ilgili şunlar bilinmektedir:

- Leyla'nın kartı yeşil değildir.
- Kemal'in kartı lacivert veya turuncudur.
- Lacivert ve bordo kartının sahipleri erkektir.
- Sarı kartın sahibi kadın değildir.

28. Leyla'nın kartının rengi aşağıdakilerin hangisinde verilmiştir?

- A) Sarı
- B) Yeşil
- C) Lacivert
- D) Bordo
- E) Turuncu

29. Lacivert kartın sahibi aşağıdakilerden hangisidir?

- A) Kemal
- B) Leyla
- C) Mehmet
- D) Nazlı
- E) Okan

30. Yukarıdaki bilgilerden hareketle kaç kişinin kart rengi kesinlikle bilinir?

- A) 1
- B) 2
- C) 3
- D) 4
- E) 5

31. x, y, z gerçel sayılardır.

$$x^3 \cdot y < 0$$

$$x \cdot z^4 > 0$$

$$x^3 \cdot y^3 \cdot z^5 < 0$$

olduğuna göre x, y, z sayılarının sırayla işaretleri ne olur?

- A) +, +, +
- B) -, -, -
- C) +, -, +
- D) +, -, -
- E) -, +, -

32. x, y, z birer pozitif tam sayı olmak üzere, $2x = y \cdot z + 1$ olduğuna göre, aşağıdakilerden hangisi kesinlikle doğrudur?

- A) y ve z tek sayıdır. B) y çift sayıdır.
C) x ve z çift sayıdır. D) x ve y çift sayıdır.
E) x ve y tek sayıdır.

33. x, y, z pozitif tamsayılar ve $x > y > z$ dir.

$$x + \frac{y}{z} = 99 \text{ olduğuna göre}$$

$x + y + z$ nin en büyük değeri ne olur?

- A) 185 B) 192 C) 202 D) 241 E) 253

34. - 36. soruları aşağıdaki verilen bilgilere göre cevaplayınız.

n pozitif tam sayısı için n 'in kendisi hariç en büyük asal tam sayı böleni \boxed{n} olarak gösteriliyor.

a_n dizisinin terimleri için

$$a_n \begin{cases} 2 \cdot n & \boxed{n} \equiv 0 \pmod{3} \text{ ise} \\ \boxed{n}^2 - 1 & \boxed{n} \equiv 1 \pmod{3} \text{ ise} \\ \boxed{n}^2 + 1 & \boxed{n} \equiv 2 \pmod{3} \text{ ise} \end{cases}$$

şeklinde tanımlanıyor.

34. Buna göre $a_{21} + a_{22}$ işleminin sonucu kaçtır?

- A) 108 B) 144 C) 154 D) 162 E) 170

35. Buna göre $a_{69} - a_{729}$ işleminin sonucu kaçtır?

- A) 488 B) 524 C) 574 D) -116 E) -144

36. $a_8^n \cdot a_{27}^n$ işleminin sonucu aşağıdakilerden hangisidir?

- A) 0 B) 9 C) 18
D) $n \cdot (n^2 + 1)$ E) $n \cdot (n^2 - 1)$

37.

$$\frac{2000 \frac{1}{2} - 2001 \frac{1}{3}}{2002 \frac{1}{2} - 2003 \frac{1}{3}} \text{ işleminin sonucu kaçtır?}$$

- A) 1 B) 2 C) 3 D) 4 E) 5

38. $0 < x < 5$, $y > 0$ ve $m = \frac{x \cdot y}{20}$ ise aşağıdakilerden hangisi doğrudur?

- A) $m \cdot y < 0$ B) $0 < 4m < y$
C) $0 < m < 1$ D) $m > y$
E) $0 < 8x < y$

39. $||x - 3| + 5| = 7$ ise denklemin çözüm kümesi aşağıdakilerden hangisidir?

- A) $\{0\}$ B) $\{-1\}$ C) $\{-1, 0\}$
D) $\{-2, 3\}$ E) $\{1, 5\}$

40. m pozitif tam sayı olmak üzere,

$2^{2m+1} \cdot 5^{m+1}$ çarpımı 9 basamaklı bir sayı olduğuna göre, m kaçtır?

- A) 4 B) 5 C) 6 D) 7 E) 8

41. $\sqrt{4-m} + 5\sqrt{m+2}$ toplamının gerçel sayı olması için m nin alabileceği tamsayı değerleri kaç tanedir?

- A) 3 B) 4 C) 5 D) 6 E) 7

42. $a = \sqrt[3]{5} - 1$ ise $a^3 + 3a^2 + 3a + 3$ toplamının değeri kaçtır?

- A) 7 B) 8 C) 12 D) 17 E) 23

43. 121 ceviz üç kişi arasında $1, \frac{1}{2}, \frac{1}{3}$ sayıları ile orantılı olacak biçimde paylaşılıyor.

Buna göre, en çok ceviz alan kaç ceviz almıştır?

- A) 36 B) 42 C) 58 D) 66 E) 70

44. $\frac{y.z}{x} = 2, \frac{x.y}{z} = 5, \frac{x.z}{y} = 3$ ise $x.y$ kaçtır?

- A) $5\sqrt{6}$ B) $2\sqrt{3}$ C) $5\sqrt{5}$
D) 15 E) 25

45. 10 kişilik bir grup yemek yemek için lokantaya gidiyorlar. Parayı eşit olarak ödemek istiyorlar ancak bazıların yanında para olmadığı için diğerleri 6 şar TL daha fazla vererek kişi başına 12 TL ödüyorlar.

Buna göre, yemek parasını kaç kişi ödemiştir?

- A) 3 B) 4 C) 5 D) 7 E) 9

46. İçi süt dolu bir bidonun ağırlığı 12 kg gelmektedir.

Sütün yarısı satılırsa bidonun ağırlığı 7,5 kg geldiğine göre, boş bidonun ağırlığı kaç kg dır?

- A) 1 B) 2 C) 3 D) 5 E) 7

47. 60 yaşındaki bir anne oğlunun yaşındayken, oğlunun yaşı bugünkü yaşının yarısıydı.

Buna göre, oğlunun bugünkü yaşı kaçtır?

- A) 20 B) 25 C) 30 D) 35 E) 40

48. Bir işi Harun 18 günde, Musa ise 24 günde bitirebiliyor.

Harun ile Musa bu işte 6 gün çalıştıktan sonra işin kaçta kaç kalır?

- A) $\frac{1}{2}$ B) $\frac{7}{8}$ C) $\frac{5}{8}$
D) $\frac{5}{12}$ E) $\frac{7}{12}$

49. Bir balıkçı teknesi akıntıyla birlikte saatte 16km, akıntıya karşı saatte 8 km hızla gidiyor. Akıntıya karşı teknesiyle birlikte giden balıkçı saat 15⁰⁰ te şapkasını suya düşürüyor. Balıkçı şapkasının düştüğünü saat 18⁰⁰ de fark ediyor ve hemen geri dönüp nehir boyunca teknesiyle hareket ediyor.

Buna göre balıkçı şapkasını yakaladığında saat kaç olur?

- A) 18⁰⁰ B) 19⁰⁰ C) 20⁰⁰
D) 21⁰⁰ E) 22⁰⁰

50. Bir lastik, çekilip uzatıldığında boyu %110 artmaktadır.

Buna göre, çekilmiş halde 0,42 metre olan lastiğin çekilmesinden önce boyu kaç metredir?

- A) 0,2 B) 0,18 C) 0,15
D) 0,1 E) 0,01

51. Mustafa parasının $\frac{1}{3}$ ünü yıllık % 40 tan, geri kalanını ise % 60 tan 6 aylığına faize veriyor. Eğer tersini yap-saydı yani parasının $\frac{1}{3}$ ünü yıllık %60 tan geri kalanını ise yıllık % 40 tan 6 aylığına faize verseydi 20 ₺ daha az faiz alacaktı.

Buna göre, Mustafa'nın faize verdiği toplam para kaç ₺ dir?

- A) 500 B) 600 C) 700
D) 800 E) 900

52. Boyutları 40 m ve 32 m olan dikdörtgen biçimindeki bir tarla karelere bölünerek oluşan bütün karelerin köşesine birer fidan dikilecektir.

Buna göre en az kaç fidan dikilir?

- A) 10 B) 12 C) 18 D) 20 E) 24

53. $x \Delta y = 2xy + y + 5$ işleminde hangi sayının tersi yoktur?

- A) $\frac{1}{5}$ B) $\frac{1}{3}$ C) $\frac{1}{2}$
D) $-\frac{1}{3}$ E) $-\frac{1}{2}$

54. 6 duvarcı ve 4 boyacıdan, 4 kişilik bir ekip oluşturulacaktır.

2 duvarcı, 2 boyacı olmak üzere kaç farklı ekip oluşturulabilir?

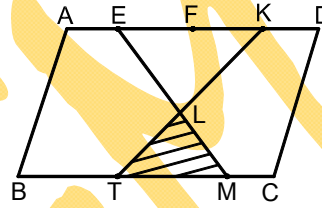
- A) 65 B) 73 C) 81 D) 90 E) 95

55. 50 kişilik bir grupta birinci erkek 9 kız arkadaşıyla, ikinci erkek 10 kız arkadaşıyla, üçüncü erkek 11 kız arkadaşıyla, bu şekilde devam ederek her seferinde kız sayısı 1 artmak üzere tokalaşıyorlar.

Sonuncu erkek tüm kız arkadaşlarıyla tokalaştığına göre grupta kaç kız vardır?

- A) 20 B) 24 C) 27 D) 29 E) 30

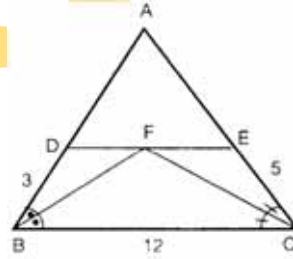
56. Aşağıdaki şekildeki ABCD paralel kenarda [AD], 4 eşit parçaya ve [BC], 3 eşit parçaya ayrılmıştır.



A (ABCD) = 144 br² ise taralı alan kaç br² olur?

- A) $\frac{48}{5}$ B) $\frac{27}{4}$ C) $\frac{11}{2}$ D) 40 E) 24

- 57.



Şekilde, [BF] ve

[CF] açıortay,

[DE] // [BC]

olduğuna göre,

|AD| kaçtır?

- A) 3 B) 4 C) 5 D) 6 E) 8

- 58.



Şekildeki dikdörtgeni [DC] kenarı etrafında 360° döndürülmesiyle elde edilen şeklin hacmi kaç cm³ olur?

- A) 100π B) 138π C) 144π
D) 150π E) 152π

59. ve 60. soruları aşağıdaki grafiğe göre cevaplayınız.

Televizyon sayısı

(bin adet)



Yukarıdaki grafik bir televizyon fabrikasının yıllara göre üretim adetini göstermektedir.

59. Grafiğe göre aşağıdakilerden hangisi doğrudur?

- A) Bu fabrikada 5 yılda 50000 adet televizyon üretilmiştir.
- B) En az üretim 2006 yılında yapılmıştır.
- C) En fazla üretim 2007 yılında yapılmıştır.
- D) 2003 yılından sonra üretim sürekli azalmıştır.
- E) Bu fabrikada yıllık ortalama 11,2 bin adet televizyon üretilmiştir.

60. 2003, 2004 ve 2005 yıllarında ortalama kaç bin adet televizyon satılmıştır?

- A) 10
- B) 11
- C) 12
- D) 13
- E) 14

GENEL YETENEK TESTİ BİTTİ.
CEVAPLARINIZI KONTROL EDİNİZ.



1. Türk boyları çeşitli nedenlerden dolayı anayurttan değişik bölgelere farklı zamanlarda göç etmişlerdir.

Aşağıdakilerden hangisinin Orta Asya'nın dışına yayılan Türk göçlerinin siyasal nedenlerinden biri olduğu söylenemez?

- A) Bağımsız yaşama arzusu
- B) Türk boylarının birbirleri ile mücadelesi
- C) Salgın hayvan hastalıkları
- D) Çin ve Moğol baskısı
- E) Yeni yerler ele geçirme arzusu

2. I. Türk-İslam kültürünün temelini atan devlettir.
II. Moğol ordusunu durduran ilk devlettir.
III. Kudüs'ü İslam dünyasına kazandıran devlettir.

Yukarıda verilen özellikleri taşıyan Türk devletleri sırası ile aşağıdakilerden hangisinde bir arada verilmiştir?

- A) Tolunoğulları – Memlükler – Karahanlılar
- B) Karahanlılar – Gazneliler – Eyyubiler
- C) Gazneliler – Eyyubiler – Tolunoğulları
- D) Karahanlılar – Memlükler – Eyyubiler
- E) Harzemşahlar – Selçuklular – Gazneliler

3. Türk - İslam tarihinde kaleme alınmış eserlerden hangisinin Türkçe'nin zengin bir dil olduğunu kanıtlama amacıyla yazıldığı söylenebilir?

- A) Muhakemetü'l - Lugateyn
- B) Kutadgu Bilig
- C) Divan-ı Hikmet
- D) Fih'i Mafih
- E) Risaletün Nushiye

4. Osmanlı Devleti'nde Haçlı donanmasına karşı kazandığı aşağıdaki savaşlardan hangisi Türkiye'de donanma günü olarak kutlanmaktadır?

- A) Cebre
- B) Navarin
- C) Preveze
- D) Sinop
- E) İnebahtı

5. 1770 yılında Osmanlı donanması Çeşme'de aşağıdaki devletlerden hangisi tarafından yakılmıştır?

- A) Rusya
- B) İngiltere
- C) Avusturya
- D) Portekiz
- E) Venedik

6. Osmanlı Devleti'nde klasik dönem boyunca devlet ve toplum hayatına yön veren medreselerin duraklama dönemi ile birlikte bozulmaya başladığı bilinmektedir.

Medreselerin bozulmasında;

- I. Pozitif bilimlere verilen önemin azalması
- II. Avrupa'daki gelişmelerin takip edilememesi
- III. Devşirme sisteminin işlevselliğini kaybetmesi

gibi gelişmelerden hangilerinin etkili olduğu söylenebilir?

- A) Yalnız I
- B) Yalnız II
- C) I ve II
- D) II ve III
- E) I, II ve III

7. Osmanlı Devleti'nde kapıkulu askeri sınıfının özellikleri arasında aşağıdakilerden hangisi gösterilmez?

- A) I. Murat zamanında kurulmuştur.
- B) Eyaletlerde güvenliği sağlamışlardır.
- C) Maaşlı askerlerdir.
- D) Devşirme sistemi ile oluşturulmuştur.
- E) Tek uğraşları askerliktir.

8. Tanzimat döneminde yer alan;

- I. Müsadere sisteminin kaldırılması
- II. Mahkemelerin herkese açık olması
- III. Vergilerin kişilerin gelirlerine göre alınması

gibi yeniliklerden hangilerinin sosyo - ekonomik hayatın düzenlenmesine yönelik olduğu söylenebilir?

- A) Yalnız I
- B) Yalnız II
- C) Yalnız III
- D) I ve III
- E) I, II ve III

9. Osmanlı Devleti'nin jeopolitik konumunun önemini bilen İngiltere, I. Dünya Savaşı başlarında, Osmanlı Devleti'nin tarafsız kalmasını sağlamak üzere yoğun çaba sarf etti.

İngiltere'nin böyle bir politika takip etmesinde;

- I. Savaşın alanını genişletmemek
- II. Sömürge yollarının güvenliğini sağlamak
- III. Savaşın süresini kısa tutmak

hangilerinin hedeflendiği söylenebilir?

- A) Yalnız I
- B) Yalnız II
- C) Yalnız III
- D) I ve II
- E) I, II ve III

10. Kurtuluş Savaşı yıllarında Anadolu halkının işgaller karşısındaki tepkisinin giderek artmasına rağmen, İstanbul Hükümeti'nin İtilaf Devletleri'nin istekleri doğrultusunda hareket etmeyi sürdürdüğü bilinmektedir.

Osmanlı yönetiminin bu tavrına bakarak;

- I. Halkın gücünü kavrayamadıkları
- II. İtilafların baskısından çekindikleri
- III. Mücadele için gizlice örgütlendikleri

gibi yargılardan hangilerine ulaşılabilir?

- A) Yalnız I
- B) I ve II
- C) I ve III
- D) II ve III
- E) I, II ve III

11. – Basın yayın yoluyla Türk halkının haklarını savunmuştur.
– İlk kez Kuvay-ı Milliye tabirini kullanan cemiyet olmuştur.
– Milli güçlerin birleşmesi gerekliliğini savunmuştur.

Yukarıda bazı özellikleri verilen müdafaa-i hukuk cemiyetimiz aşağıdakilerden hangisidir?

- A) Klikyalılar
- B) Milli Kongre
- C) Trakya Paşaeli
- D) Doğu Anadolu Müdafaa-i Hukuk
- E) Redd-i İlhak

12. Mondros Ateşkes Antlaşması'ndan sonra İtilaf Devletleri tarafından işgal edilen ilk Anadolu toprağı aşağıdakilerden hangisidir?

- A) Musul
- B) İzmir
- C) Dört Yol
- D) Antalya
- E) Batum

13. Erzurum Kongresi'nde alınan aşağıdaki kararlardan hangisi İstanbul hükümetinin keyfi uygulamalarını engellemek ve millet iradesini yönetime yansıtmaya yöneliktir?

- A) Manda ve himaye kabul edilemez.
- B) Mebusan Meclisi derhal toplanmalıdır.
- C) Hükümet kurmak zorunludur.
- D) İşgallere karşı topyekün mücadele verilecektir.
- E) Azınlıklara dengemizi bozacak ayrıcalıklar verilemez.

14. Mustafa Kemal'in, Milli Mücadele döneminde gerçekleşen;

- I. Misakımilli kararlarının alınması
- II. Sivas Kongresi'nin toplanması
- III. TBMM'nin açılması

gibi gelişmelerin hangilerinde doğrudan etkili olduğu söylenebilir?

- A) Yalnız I
- B) Yalnız II
- C) Yalnız III
- D) II ve III
- E) I,II ve III

15. Kurtuluş Savaşı'nın hazırlık sürecinde Mustafa Kemal'in askerlik görevinden istifası aşağıdaki gelişmelerden hangisinin bir sonucudur?

- A) Havza Genelgesi
- B) Amasya Tamimi
- C) Erzurum Kongresi
- D) Sivas Kongresi
- E) Amasya Görüşmeleri

16. Aşağıdakilerden hangisi I. TBMM'nin özellikleri arasında yer almaz?

- A) Kurucudur.
- B) Olağanüstü yetkilere sahiptir.
- C) Azınlıklara da yer verilmiştir.
- D) Laik değildir.
- E) Farklı gruplardan oluşur.

17. Milli mücadele döneminde Kuvayimillîye birliklerinin çıkardığı isyanlar arasında aşağıdakilerden hangisinin olduğu söylenebilir?

- A) Kuvayinzibatiye
- B) Demirci Mehmet Efe
- C) Şeyh Eşref
- D) Çapur Musa
- E) Çapanoğlu

18. Aşağıdakilerden hangisinde Ermenilerle ilgili bir gelişmenin olduğu söylenemez?

- A) Paris Barış Konferansı
- B) Gümrü Antlaşması
- C) Mudanya Mütarekesi
- D) Sevr Antlaşması
- E) Tehcir Yasası

19. I. Doğu sınırının kesinlik kazanması
II. Doğu Trakya'nın TBMM'ye bırakılması
III. Hatay hariç Suriye sınırının çizilmesi
IV. Misakımillî'den ilk tavizin verilmesi

Yukarıda verilenler, aşağıdaki antlaşmalarla eşleştirildiğinde hangisi dışarıda kalır?

- A) Batum
- B) Ankara
- C) Kars
- D) Moskova
- E) Mudanya

20. Aşağıdaki devletlerden hangisinin, I. İnönü Savaşı'ndan sonra toplanan Londra Konferansı'na katılan devletlerden biri olduğu söylenemez?

- A) İngiltere B) Sovyet Rusya
C) Fransa D) İtalya
E) TBMM

21. Aşağıdakilerden hangisi Atatürk döneminde diplomatik alanda ilişki kurulan devletlerden biri değildir?

- A) Ukrayna
B) Gürcistan
C) Fransa
D) Afganistan
E) Mısır

22. Mudanya Ateşkes Antlaşması'nın sonuçları arasında;

- I. Kurtuluş Savaşı'nın silahlı mücadele dönemi sona ermiştir.
II. Lozan Barış görüşmelerine zemin hazırlamıştır.
III. Savaşılmadan Batı Anadolu kurtarılmıştır.

Yukarıdakilerden hangilerinin olduğu söylenbilir?

- A) Yalnız I B) Yalnız II C) Yalnız III
D) I ve II E) I,II ve III

23. I. 12 ada ve Rodos İtalya'ya verilecek
II. Bozcaada ve Gökçeada Türkiye'ye verilecek
III. Kıbrıs adası İngiltere'ye verilecek
IV. Sakız adası Yunanistan'a verilecek
V. Türkiye'nin kendisine bırakılan adaları silahlandırması yasaklanacak

Yukarıdakilerden hangisinin Lozan Antlaşması'nda Ege Adaları ile ilgili alınmış bir karar olduğu söylenemez?

- A) I B) II C) III D) IV E) V

24. I. Ankara'nın başkent yapılması
II. TBMM'nin açılması
III. Cumhuriyetin ilânı
IV. İtilaf Devletleri'nin İstanbul'dan çekilmesi

Yukarıdaki gelişmelerden hangilerinin, Lozan Antlaşması'nın imzalanmasından önce gerçekleştiği söylenemez?

- A) I ve II B) I ve III C) II ve III
D) III ve IV E) I, II, III ve IV

25. 1929 Dünya ekonomik krizinin sonuçları arasında aşağıdakilerden hangisi yer almaz?

- A) İşsizlik oranı artmıştır.
B) İnşaat sektöründeki gelişme durmuştur.
C) Madencilik sektöründe talep azalmıştır.
D) Uluslar arası ticaret azalmıştır.
E) Devletlerin sınırları değişmiştir.

26. Yugoslavya Cumhuriyetinin yıkılmasından sonra kurulan devletlerarasında aşağıdakilerden hangisi yer almaz?

- A) Hırvatistan
B) Bosna Hersek
C) Sırbistan
D) Kosova
E) Romanya

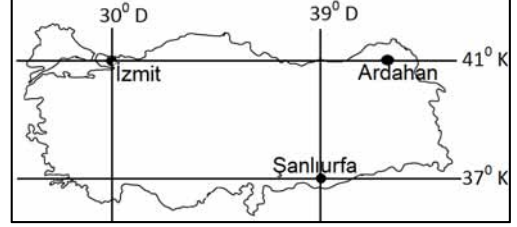
27. Irak'ın aşağıdaki antlaşmalardan hangisini tanıması 1980 yılında İran – Irak savaşını başlamasında etkili olmuştur?

- A) Sykes Picot
- B) Cezayir
- C) Camp David
- D) Bağdat
- E) Balfour

28. Aşağıdakilerden hangisi ülkemizin matematik konumunu açıklayan bir seçenek değildir?

- A) Hatay'dan Sinop'a gidildikçe çizgisel hızın azalması
- B) Dört mevsimin aynı anda yaşanması
- C) Orman üst sınırının Toroslar'da Kuzey Anadolu dağlarından daha yüksek olması
- D) Ege Denizi tuzluluğunun Karadeniz'den fazla olması
- E) Iğdır ve Ankara arasında yaklaşık 50 dakika zaman farkı olması

29. Aşağıdaki haritada bazı illerimizin coğrafi koordinatları verilmiştir.



Bu bilgilerden yararlanarak aşağıdakilerden hangisini söylemek yanlış olur?

- A) 21 Aralık'ta en uzun gündüz süresi Şanlıurfa'da yaşanır.
- B) 21 Haziran'da Ardahan'ın gündüz süresi Şanlıurfa'dan daha uzundur.
- C) İzmit'te güneş Şanlıurfa'dan 46'dk sonra doğar.
- D) Gece-gündüz süreleri arasındaki zaman farkı en fazla İzmit ve Ardahan'dadır.
- E) Üç ilinde 21 Mart'ta gündüz süreleri aynıdır.

30. Marmara Bölgesi ortalama yükseltinin en az olduğu coğrafi bölgemizdir.

Bu özellik aşağıdakilerden hangisini etkilememiştir?

- A) Tarımsal faaliyetleri
- B) Ulaşım ağını
- C) Hayvancılık faaliyetlerini
- D) Yer altı kaynaklarını
- E) Bitki örtüsü dağılışını

31. Toprak kaymasının en fazla yaşandığı bölgemiz Karadeniz Bölgesi'dir.

Bu olayın Karadeniz Bölgesi'nde yoğun olduğuna en iyi kanıt aşağıdakilerden hangisidir?

- A) En fazla yağış alan bölge olması
B) Bitki örtüsünün gür olması
C) Killi toprakların fazla olması
D) Heyelan set göllerinin fazla olması
E) Erozyon şiddetinin az olması

32. Ülkemizde her yer aynı oranda yağış almaz. Yağışın dağılışı denizellik ve yer şekilleri ile doğrudan ilişkilidir.

Buna göre aşağıdaki alalardan hangisinin yıllık yağış tutarı daha azdır?

- A) Yıldız Dağları Bölümü
B) Iğdır Yöresi
C) Hakkâri Bölümü
D) Taşeli Yöresi
E) Orta Karadeniz Bölümü

- 33.



Yukarıdaki Türkiye haritasında işaretli alanlardan hangisinde yaz mevsiminde nem açığı daha fazladır?

- A) I B) II C) III D) IV E) V

34. Depremler oluşumlarına göre;

- I. Tektonik depremler
II. Çöküntü depremleri
III. Volkanik depremler

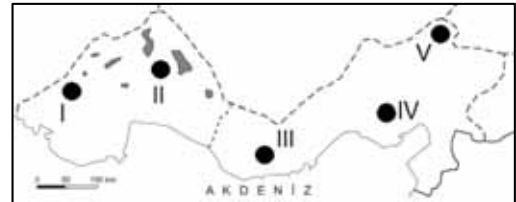
olmak üzere üçe ayrılır. Aşağıda verilen alanlardan hangisinde çöküntü deprem riski daha fazladır?

- A) Antalya Bölümü
B) Dicle Bölümü
C) Yukarı Kızılırmak Bölümü
D) Orta Karadeniz Bölümü
E) Kıyı Ege Bölümü

35. Aşağıdaki verilen özelliklerden hangisi Türkiye akarsuları için söylenirse **yanlış olur?**

- A) Filyos ve Bartın çayları ülkemizde ulaşımdaya yararlanılabilecek akarsulardır.
B) Rejimleri kar erimelerine bağlı olarak ilkbaharda artar.
C) Manavgat yer altı su kaynakları ile beslendiği için kurak dönemde su seviyesi çok düşmez.
D) Marmara ve Ege Denizi'ne dökülen akarsular genelde denge profiline yakındır.
E) Akarsularımızın tamamının ağız kısmı ülkemiz sınırları içinde yer alır.

- 36.



Yukarıdaki haritada işaretli alanlardan hangisinde tarımda makine kullanımı daha fazladır?

- A) I B) II C) III D) IV E) V

37. Türkiye'nin tarımsal özellikleri ile ilgili aşağıdaki ifadelerden hangisi **yanlıştır**?

- A) Bölge yüzölçümlerine göre ekili dikili alanların oranı en fazla olan bölgemiz Marmara Bölgesi'dir.
- B) Nadas alanları en geniş olan bölge İç Anadolu Bölgesi'dir.
- C) Tarımsal faaliyet süresinin en uzun olduğu bölgemiz Akdeniz Bölgesi'dir.
- D) Akdeniz Bölgesi'nde arazi yapısına da bağlı olarak tarımda sulama gereksinimi fazladır.
- E) Dış satımda en önemli paya sahip tarım ürünleri iç bölgelerde üretilmektedir.

38. Aşağıdakilerden hangisi entansif (intensif) tarım yönteminin uygulandığı bir alana ait özelliklerden biri **olamaz**?

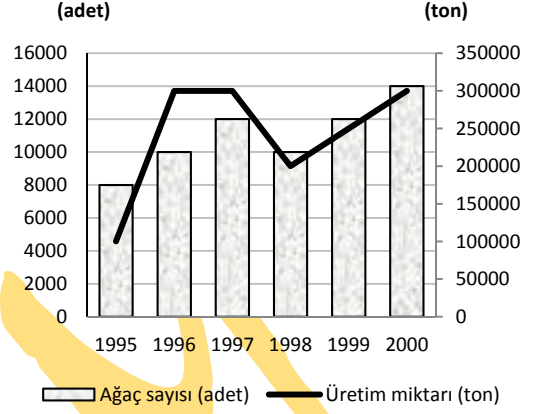
- A) Tarımda sulama ve gübrelemeye önem verilir.
- B) İklimle bağımlılık azdır.
- C) Tarımsal üretimde dalgalanmalar fazladır.
- D) Birim alandan elde edilen verim yüksektir.
- E) Tarımsal arazi yoğun olarak işlenmektedir.

39. Sanayi ürünlerinin üretiminde ülkemizde yıllar arasında bazı ürünlerde dalgalanmaların yaşandığı görülür.

Doğal koşulların etkisine bağlı olarak aşağıdaki endüstri kollarından hangisinin üretiminde dalgalanmanın daha fazla olduğu söylenebilir?

- A) Petro - kimya
- B) Un ve unlu mamüller
- C) Makine sanayisi
- D) Çimento sanayisi
- E) Metalurji

40. Aşağıdaki grafikte bir bölgede farklı yıllarda yetiştirilen meyve ağacı ve elde edilen ürün miktarları verilmiştir.



Yalnızca grafikteki bilgilerden yararlanarak aşağıdaki yorumlardan hangisini yapmak **yanlış olur?**

- A) 1995 yılındaki meyve ağacı sayısı 2000 yılındaki ağaç sayısının yarısından fazladır
- B) 1995 yılında tarımsal verim 1997'ye göre daha azdır.
- C) Birim alandan elde edilen verimin en yüksek olduğu yıl 1996'dır.
- D) Son üç yılda meyve ağacından elde edilen ürün miktarında düzenli artış vardır.
- E) 1996 - 1997 yıllarında yetiştirilen toplam ağaç sayısı 600.000 adetten fazladır..

41. Türkiye'de elektrik üretiminde birçok enerji kaynağından yararlanılmaktadır.

Aşağıdaki verilen alanlardan hangisinde elektrik enerjisi üretimi **yapılmamaktadır?**

- A) Alaçatı
- B) Kovada
- C) Sarayköy
- D) Silahtarağa
- E) Akdağmadeni

42. Aşağıdaki bölümlerden hangisi sosyo-ekonomik özellikler bakımından yurdumuzun daha az gelişmiş olan bir bölümdür?

- A) Adana Bölümü
- B) Batı Karadeniz Bölümü
- C) Yukarı Kızılırmak Bölümü
- D) Asıl Ege Bölümü
- E) Çatalca- Kocaeli Bölümü

43. Aşağıdaki tabloda dört farklı ülkedeki yıllık ithalat ve ihracat miktarları verilmiştir.

BÖLGE	İhracat (\$)	İthalat (\$)
I	750.000	1.550.000
II	1.510.000	600.000
III	2.800.000	250.000
IV	6.850.000	7.400.000

Buna göre hangi ülkelerde dış ticaret açığının olduğu söylenebilir?

- A) I ve IV
- B) II ve III
- C) III ve IV
- D) II ve IV
- E) I ve III

44. Aşağıda bazı madenlerin çıkarıldığı alanlar ve bu madenlerin işletildiği tesislerin bulunduğu iller verilmiştir.

Bu eşleştirmelerden hangisi yanlıştır?

Çıkartım Alanı	İşlendiği iller
A) Kastamonu(Küre)	Samsun
B) Balıkesir(Susurluk)	İstanbul(Ambarlı)
C) Kütahya (Emet)	Balıkesir (Bandırma)
D) Muğla(Köyceğiz)	Antalya
E) Artvin(Murgul)	Artvin

45. Aşağıda verilen alanlardan hangisinde kâğıt fabrikası bulunmamaktadır?

- A) Dalaman
- B) Afyon
- C) Bartın
- D) Taşköprü
- E) Aydın

46. Hukuka aykırı davranışlarıyla başkalarına zarar veren kimselerin vermiş oldukları zararı ödemeye mahkûm edilmesine verilen isim aşağıdakilerden hangisidir?

- A) Ceza
- B) Tazminat
- C) Cebri İcra
- D) Hükümsüzlük
- E) İptal

47. Hakimin herhangi bir davaya bakarken, davanın konusu ile ilgili olarak;

- I. Yazılı kaynaklara
- II. Din kurallarına
- III. Yazısız kaynaklara

yukarıdakilerden hangilerine uymak zorunda olduğu söylenebilir?

- A) Yalnız I
- B) Yalnız II
- C) Yalnız III
- D) I ve III
- E) I, II ve III

48. Türk Medeni Kanunu'na göre, kişiliğin başlangıcı aşağıdakilerden hangisi olarak kabul edilir?

- A) Ana rahmine düşmekle
- B) Ayırt etme gücünü kazanmakla
- C) Sağ ve tam doğumla
- D) On sekiz yaşına girmekle
- E) Ergenlik dönemini bitirmekle

49. Türk tarihinde oy verme işlemi ilk kez hangi anayasa ile zorunlu hale getirilmiştir?

- A) 1876 Anayasası
- B) 1921 Anayasası
- C) 1924 Anayasası
- D) 1961 Anayasası
- E) 1982 Anayasası

50. Aşağıdakilerden hangisinin TBMM'nin başkanlık divanı üyesi olduğu söylenemez?

- A) Meclis Başkanı
- B) Başkan Vekilleri
- C) Katip Üyeleri
- D) İdare Amirleri
- E) Siyasi Parti Grup Başkanları

51. Aşağıdaki yürütme işlemlerinden hangisinin yargı denetimi dışında tutulduğu söylenebilir?

- A) Bakanlar Kurulu Kararnamesi
- B) Tüzükler
- C) YÖK Yönetmelikleri
- D) Cumhurbaşkanlığı Kararnamesi
- E) Bakanlık Yönetmelikleri

52. Çalışma usul ve esaslarının kanunda değil de Anayasa'da belirtildiği mahkeme aşağıdakilerden hangisidir?

- A) Yargıtay
- B) Danıştay
- C) Askeri Yargıtay
- D) Anayasa Mahkemesi
- E) Uyuşmazlık Mahkemesi

53. 1982 Anayasası'na göre;

- I. TBMM Başkanı
- II. Cumhurbaşkanı
- III. Bakanlar
- IV. Başbakan

hangilerinin milletvekili olmak zorunda olduğu söylenemez?

- A) I ve II
- B) II ve III
- C) I ve IV
- D) II ve IV
- E) I, II ve IV

54. Aşağıdakilerden hangisi bulunduğu idarenin dışında bir idarenin fonksiyonunun yerine getirilmesi işlemine verilen isimdir?

- A) Fonksiyon gaspı
- B) Yetki gaspı
- C) Yetki tecavüzü
- D) Kamulaştırma
- E) Geçici işgal

55. uluslararası kuruluşlardan biri değildir?

- A) Birleşmiş Milletler
- B) Avrupa İnsan Hakları Mahkemesi
- C) Dünya Ticaret Örgütü
- D) İslam Konferansı Örgütü
- E) Avrupa Serbest Mübadele Birliği

56. 2012 G-8 Ülkeleri (Gelişmiş Sekiz Ülke) zirvesi aşağıdaki ülkelerin hangisinde toplanacaktır?

- A) Fransa
- B) Kanada
- C) Almanya
- D) ABD
- E) İtalya

57. Çeşitli dallarda başarılı çalışmalara Nobel ödüllerini veren ülke aşağıdakilerden hangisidir?

- A) İsviçre
- B) İsveç
- C) İzlanda
- D) İngiltere
- E) ABD

58. Suriye ile yapılacak olan görüşmeler aşağıdaki kentlerin hangisinde toplanacaktır?

- A) İstanbul
- B) Lozan
- C) Cenevre
- D) Londra
- E) Paris

59. Çin 2013 yılını hangi yıl olarak ilan etmiştir?

- A) Rusya Yılı
- B) İran Yılı
- C) İngiltere Yılı
- D) Türkiye Yılı
- E) Barış Yılı

60. KKTC'nin ilk kadın başbakanı aşağıdakilerden hangisidir?

- A) Sibel Ulaş
- B) Tansu Sabir
- C) Adalet Ağa
- D) Zülal Aşçı
- E) Sibel Siber

GENEL KÜLTÜR TESTİ BİTTİ.
CEVAPLARINIZI KONTROL EDİNİZ.