

Bu testte toplam **60** soru vardır.

*Başarılar dileriz...*

1. Ben bir hekimim, hekimlik eğitimim sırasında çocuk psikolojisini bir ders olarak aldım ve hekimlik yaşantımda çocuk hastalıklarının tedavisinde bire bir çocuklarla çalıştım. Bu nedenle kendimi şanslı görüyorum. Kitaplarımda çocuk gerçekliğiyle buluşabilmem, hekimlik donanımdan ve anne olmamın verdiği deneyimlerden kaynaklanıyor. Çocuklar için yazarken dilin imbiclerinden geçirilmiş olmasını, çocuk gerçekliğini yansıtmalarını önemserim.

**Bu parçada geçen "dilim imbiclerinden geçirilmiş olması" sözüyle anlatılmak istenen aşağıdakilerden hangisidir?**

- A) Dili çok dolambaçlı biçimde kullanmak  
B) Sözcüklerin anlam ayrımını gözetmek  
C) Sözcükleri süzerek, damıtarak özenle kullanmak  
D) Anlatımda sözcükleri yerli yerinde kullanmak  
E) Unutulmuş ölü sözcüklere can vermek

2. Gül düşünür, gülistan olursun  
Diken düşünür, dikenlik olursun.

**Bu dizelerde anlatılmak isteneni aşağıdaki atasözlerinden hangisi en iyi ifade etmektedir?**

- A) İsin yanına varan is, misin yanına varan mis.  
B) Taşıma su ile değirmen dönmez.  
C) Bakarsan bağ, bakmazsan dağ olur.  
D) Ne ekersen onu biçersin.  
E) Bana arkadaşını söyle, sana kim olduğunu söyleyeyim.

3. (I) Türk sinemasında kendine özgü bir dil oluşturmuş, ender yönetmenlerden biri Ömer Kavur. (II) Filmlerindeki insanlar, kullandığı mekân ve olayın geçtiği zaman, hepsi kendi içinde bir gizemi barındırır. (III) Yabancılaşma, arayış, iletişimsizlik, yalnızlık Kavur'un başarıyla ele aldığı temalar. (IV) Anayurt Otel, Yatık Emine, Gizli Yüz, Yusuf ile Kenan bu temaların en iyi biçimde işlendiği yapıtların başında gelir. (V) Şükran Esen, kitabında filmlerinde işlediği konu ve insanları ele alış biçimi çerçevesinde "auteur-yaratıcı" olarak nitelendiriyor Ömer Kavur'u ve okurlara bir Ömer Kavur portresi sunuyor.

**Parçada numaralanmış cümlelerin hangisinde yazarın kişisel görüşlerine yer verilmemiştir?**

- A) I. B) II. C) III. D) IV. E) V.

4. (I) Düşlerimle gerçek yaşamımı birbirine karıştırdığım olur. (II) Bütünüyle kurduğum, öykülerimde can verdiğim kişiler, insanlar sanki sahiden varmışlar da bir yerlerde yaşamlarını sürdürmekteymişler sanırım. (III) Onları sever ya da onlara kızar ama ne olursa olsun sevecenlikle düşünürüm. (IV) Rüyalarım girdikleri de olmuştur, bir sokakta karşıma çıkıverdikleri de. (V) Öyle bir an gelir ki öykülerimdeki tiplerin tanıdığım kişiler olduklarından hiç kuşku olmaz neredeyse.

**Bu parçada numaralanmış cümlelerden hangisi ikisi anlamca birbirine en yakındır?**

- A) I. ve II. B) II. ve III. C) II. ve V.  
D) III. ve IV. E) IV. ve V.



5. (I) Son 1 milyar yılda büzüştüğü bilinen Ay'ın, hâlâ büzüşmeye devam ettiği düşünülüyor. (II) Bu da Ay'ın, jeolojik açıdan, tahmin edilenden daha aktif olduğunu gösteriyor. (III) Bilim insanları, Ay'ın, oluşumu sırasında birçok meteorun bombardımanına uğradığını ve birçok çarpışma yaşadığını belirledi. (IV) Bunun da Ay'ın ısınmasına neden olduğu tahmin edilmekte. (V) Bu olayın çok eski zamanlarda gerçekleştiği kabul ediliyor.

**Bu parçadaki numaralanmış cümlelerin hangisinde "saptama" yapılmıştır?**

- A) I. B) II. C) III. D) IV. E) V.

6. (I) Birlikte yaşayan insanlar, birbirleriyle anlaşmak ve bir şeyleri paylaşmak zorundadır. (II) İletişim, bu zorluklar üzerine gelişmiştir. (III) Her yaşama biçiminde ortaya çıkan insan ilişkileri, kendi iletişim biçimini bulur. (IV) Zaten iletişim deyince aklımıza bir insan ile diğer bir insan arasındaki konuşma gelir. (V) Konuşmak için de söylenecek bir sözün yani iletilecek bir bilginin, duygunun, düşüncenin, haberin olması gerekir.

**Bu parçadaki numaralanmış cümlelerden hangisi "tanım" cümlesidir?**

- A) I. B) II. C) III. D) IV. E) V.

7. Anlayışlı olmak, ses ---- değildir. Aksine konuşmak, tek bir noktaya varana kadar tartışmaktır. Konular ---- berraklaşır, ---- düşünceler açığa çıkar ve karşınızdakini size tanıtır. İşte o zaman siz onu anlıyor, davranışları karşısında ---- olabiliyorsunuz, demektir.

**Bu parçada boş bırakılan yerlere düşüncenin akışına göre sırasıyla aşağıdakilerden hangisinde verilen sözcükler getirilmelidir?**

- A) çıkarmak – tartışıldıkça – görüşüldükçe – sakın  
B) etmemek – konuşuldukça – berraklaştıkça – saygılı  
C) çıkarmamak – görüşüldükçe – oluştuğça – öfkeli  
D) etmek – tartışıldıkça – kesinleştikçe – sinirli  
E) çıkarmamak – tartışıldıkça – berraklaştıkça – anlayışlı

8. I. Her edebiyat ürünü, yaratıldığı dönemin havasını yansıtır bir oranda.  
II. Bilinçli ya da bilinçsiz olarak sanatçılar, çağlarına tanıklık eder.  
III. Yoksa çağlarına tanıklık etmiş nice sanatçılar vardır ki unutulup gitmiştir bugün.  
IV. Bu tanıklık, sanata özgü kurallar ve ilkeler içinde yapılırsa sanatçı kalıcılık kazanır.  
V. Bu oran büyüktür, çünkü sanatçıları çağlarından soyutlamak olanaksızdır.

**Yukarıdaki numaralanmış cümleler anlamlı bir bütün oluşturacak biçimde sıralandığında hangisi baştan üçüncü olur?**

- A) I. B) II. C) III. D) IV. E) V.

9. NASA 1970'lerden bu yana birçok insansız keşif aracını uzaya yollamış bulunuyor ki bunlardan 1977 yılında gönderilen 722 kilogramlık Voyager, yaklaşık 36 yıldır seyahatine aralıklarla devam ediyor.

**Bu cümleden kesin olarak çıkarılabilecek yargı aşağıdakilerden hangisidir?**

- A) Voyager, bugüne kadar gönderilen en hafif keşif aracıdır.  
B) Voyager, içinde insan barındırmayan bir keşif aracıdır.  
C) NASA, uzay çalışmalarında her geçen gün bir adım ileri gider.  
D) 1977 yılından önce uzaya insansız keşif aracı gönderilmemiştir.  
E) Voyager, teknik sorunlar nedeniyle Dünya'ya geri dönüşler yapmıştır.

10. Ey benim sarı tamburam

Sen ne için inlersin

İçim oyuk, derdim büyük

Ben onun için inlerim

**Yukarıdaki altı çizili sözcüklerin yapısı aşağıdakilerin hangisinde doğru olarak verilmiştir?**

- A) Basit, basit, türemiş, basit  
B) Türemiş, türemiş, basit, türemiş  
C) Basit, türemiş, basit, türemiş  
D) Basit, türemiş, türemiş, basit  
E) Türemiş, basit, türemiş, basit



11. Bu yıl ilki 6-7 Nisan 2014 tarihlerinde Yalı belde-  
 I II  
sinde düzenlenecek olan "Bodrum Ot Fest", lezzet-  
 III  
 li yemeklerin yanısıra sağlıklı yaşam için faydalı  
 IV  
 olan pek çok otun bir şenlik havasında tanıtılacağı  
 V  
 bir festival.

**Bu parçadaki numaralanmış sözlerden hangisinin yazımı yanlıştır?**

- A) I B) II C) III D) IV E) V

12. **Aşağıdaki cümlelerin hangisinde parantezle belirtilen yere herhangi bir noktalama işareti getirilemez?**

- A) Ağacı kurt ( ) insanı dert yer.  
 B) Aile ( ) bir toplumun temel taşıdır.  
 C) Bugünlerde ne ailesini ( ) ne de dostlarını arıyordu.  
 D) Okuyor mu ( ) çalışıyor mu bilmiyorum ben.  
 E) Siz gidin ( ) ben sonra gelirim, dedi.

13. Renkleri ince ince ne anlatırsın köre İnsanlarla konuşun anlayışlarına göre **Aşağıdaki cümlelerin hangisinde "ne" sözcüğü, bu dizedekiyle aynı görevde kullanılmıştır?**

- A) Baban sana Amerika'dan ne alacak?  
 B) İlk defa dinliyorum, ne güzel sesi varmış!  
 C) Tanıştığımıza memnun oldum, ne iş yapıyorsunuz?  
 D) O ne derse ben tersini yaptım o gece.  
 E) Ne ağlıyorsun saatlerdir, diye soran olmadı.

14. Su kaynaklarının politik ve stratejik önemi, Orta  
 I  
 Doğu'da, dünyanın hiçbir yerinde olmadığı kadar  
 II III  
 açık bir şekilde göze çarpıyor.  
 IV V

**Bu cümledeki numaralanmış sözlerle ilgili olarak aşağıdakilerden hangisi söylenemez?**

- A) I. söz, belirtisiz isim tamlamasıdır.  
 B) II. söz, basit addır.  
 C) III. söz, belgisiz sıfattır.  
 D) IV. söz, sayı sıfatıdır.  
 E) V. söz, anlamca kaynaşmış birleşik eylemdir.

15. **Aşağıdaki dizelerin hangisi yalnızca özne ve yüklemden oluşmuştur?**

- A) Kaldırımlar, içimde yaşamış bir insandır.  
 B) Kalbimde solmadı o şirin çiçekler.  
 C) Beni bu güzel havalar mahvetti.  
 D) Yokluğun bir hançer gibi saplandı içime.  
 E) Beyaz perdeleri ger yavaş yavaş.

16. Bu yola üst geçit yapılması için defalarca valiliğe başvuruldu ama valilikten hiçbir yanıt alamadık.

**Bu cümledeki anlatım bozukluğu aşağıdakilerden hangisiyle giderilebilir?**

- A) "için" sözcüğü cümleden çıkarılarak  
 B) "defalarca" sözcüğü cümleden çıkarılarak  
 C) "alamadık" sözcüğü "alınamadı" yapılarak  
 D) "ama" sözcüğünden sonra "yine de" sözcüğü eklenerek  
 E) "ama" bağlacı cümleden çıkarılarak



17. (I) Tarihi güzellikler kentidir İstanbul. (II) Farklı medeniyetler, yaratıcılıklarının en ileri örneklerini burada birbirleriyle yarışmasına sunmuş. (III) Binlerce yılda, biri diğerini kışkırtacak eserler oluşmuş. (IV) Üstelik, bu farklı medeniyetlere ait eserler, yan yana, üst üste varlığını sürdürmüş. (V) Doğal güzellikler de İstanbul'un bu güzelliğini olağanüstülemiş.

**Bu parçadaki numaralanmış cümlelerin hangisinden sonra** "Çünkü her yeni gelen kendinden öncekilere saygı duymuş, onların eserlerini korumuş." cümlesi getirilirse parçanın anlam bütünlüğü korunur?

- A) I. B) II. C) III. D) IV. E) V.

18. Bir gün balıkçı kahvesinin önündeki yarısı kırmızı, yarısı beyaz çiçek açan akasyanın dalına asılmış bir dülgerbalığı gördüm. Rengi denizden çıktığı zamanki renkteydi önce. Vücudunda hiçbir kımladama yoktu, taş kadar cansızdı. Yalnız aletlerin etrafını çeviren incecik, ipekten bile yumuşak zarları oynayıp duruyordu. Öyle bir oynama hiç görmemiştim. Evet bu bir oyundu. Bir görünmez iç rüzgârın oyunuydu. Vücutta, görünüşte hiçbir titreme yoktu. Yalnız bu zarlar zevkli bir ürperişle tatlı tatlı titriyorlardı. İlk bakışta insana zevkli eğlenceli bir şeymiş gibi gelen bu titreme, hakikatte bir ölüm dansıydı. Sanki dülgerbalığının ruhu rüzgâr rüzgâr, bu incecik zardan çıkıp gidiyordu; bir dirhem kalmamacasına.

**Bu parçanın anlatımıyla ilgili olarak aşağıdakilerden hangisi söylenemez?**

- A) Benzetmelerden yararlanılmıştır.  
B) İkileme kullanılmıştır.  
C) Betimleyici ögelere yer verilmiştir.  
D) Karşılaştırma yapılmıştır.  
E) Örnelemeye başvurulmuştur.

19. Geçmiş değerlerinin kıymetini bilmeyen bir nesil, nasıl gerçeğe değer bırakmak ister ki? Örneğin 1500 yıllık Küçük Ayasofya Camisi'nin "restorasyon" adı altında başına gelenler, tüm olup bitenlerin çok açık bir dille ortaya konmuş özeti gibidir. Her gün yanan konaklar, bilimsel araştırma adına kazıldıktan sonra kendi hâline bırakılan arkeolojik alanlar, bu alanlardan ve müzelerden çalınan heykeller, depolarda çürüyen dünyanın en nadide parçaları... Bu yanlışlar, bizi geçmişimizden ve geleceğimizden her gün biraz daha uzaklaştırıyor.

**Bu parçadan aşağıdaki yargılardan hangisine varılabilir?**

- A) Belli bir tarih bilinci olmadan dünümüz de yarınımız da karanlıktır.  
B) Tarihi eserler, bizi geçmişimize bağlayan köprülerdir.  
C) Vakıflar, tarihi eserlerimize gerektiği gibi sahip çıkmamakta.  
D) Bilimsel araştırmalar, tarihi eserleri araştırma uğruna yok etmektedir.  
E) Anadolu'daki eski uygarlıklara ait kalıntılar, kültürel zenginliğimizin göstergesidir.

20. Şiirin, yaşananla örtüşmesi de önemli elbette. Esin kaynakları, her şair için aynı olabilir. Ama, içinde olunan toplumun ürettiği sorunları herkes sınıfsal konumuna uygun yaşayıp algılayacaktır kuşkusuz. Bu da dünya görüşlerinin belirlediği bir kişinin yazılmasına yöneltecektir şairi. "Şiirde politikaya yer yoktur, dünya görüşünden arınmadan büyük şiir yazılamaz." yalanı, şimdilerde doğruymuş gibi benimsense de doğru olan şudur: - - - - .

**Bu parçanın sonuna düşüncenin akışına göre aşağıdakilerden hangisi getirilmelidir?**

- A) Şiir, düzyazıya oranla politikadan daha az etkilendir.  
B) Her şair, kendi dünya görüşünün belirlediği yolda ilerleyecektir.  
C) Şiir, bu politik yaklaşımlardan en az nasiplenen türdür.  
D) Her kültürel üretim gibi, şiir de sonuçta biraz politiktir.  
E) Sanata, özellikle de şiire, politik yaklaşımlarda bulunmak yanlıştır.



21. Olmaz mı? Hemen yazmayı bıraksınlar ve okumaya başlasınlar. Okuyacakları kitapları en az yiyecekleri yemeğe gösterdikleri özenle seçsinler. Dahası her kitabı en az iki kere okusunlar. İlkinde haz alarak okumalarında bir engel yok, ikincisinde satır satır masaya yatırınsınlar eseri. Dili, kurguyu, üslubu ve karakterleri incelesinler. İşkenceye dönse de bu, okumaya sabretsinler. Notlar alarak içselleştirsinler okuduklarını. Sonra bakalım nasıl yazıyorlar.

**Bu parça, aşağıdaki sorulardan hangisine yanıt olarak söylenmiş olabilir?**

- A) Genç yazarların eserlerinde kurgu hatası var mı sizce?
- B) Yazmakta zorlananlara bir öneriniz var mı?
- C) Bir kitabı tekrar tekrar okumanın bir faydası var mı?
- D) Sanatçıyla okur buluşmasının sanatçıya ne gibi faydası olur?
- E) Yayınevlerinin her eserde satış kaygısı oluyor mu?

22. İnsanlığın yeni bir çağa girdiği söyleniyor. Kimimiz "atom çağı" kimimiz "uzay çağı" diyoruz. Doğrusunu ileride öğreneceğiz. Fakat gerçek olan şu ki çağımız da bilim ve teknoloji alanında gelişmiştir. Buna koşul olarak yaşamımız da değişmektedir. Aya gidiş gelişin insan psikolojisine etkisini yadsıyamıyoruz. Türkay bu değişimleri şiirine konu yapmıştır, ondan önce de Fazıl Hüsnü uzay konusuna eğilmişti. Osman Türkay bu konuyla şiirinde değişik biçim ve sesler denemiştir. "Uyurgezer" bu yönüyle özgün ve başarılı bir şiir kitabıdır.

**Bu parçada aşağıdakilerden hangisine değinilmemiştir?**

- A) Uzay çalışmaları edebiyatımızda pek çok romana konu olmuştur.
- B) Bilimsel ve teknolojik gelişmeler, insan yaşamını değiştirmiştir.
- C) Teknolojik değişimlerin insan psikolojisini etkilediği bir gerçektir.
- D) Osman Türkay, uzay konusunu şiire yeni biçimi ve farklı yorumuyla katmıştır.
- E) Girilen yeni çağa farklı adlar verilmektedir.

23. Anne babanın kendi otoritesini hangi temele dayandıracağına karar vermesi gerekir: Otoritenin dayandığı temel, "güç" olabilir. O takdirde böyle bir otoritenin araçları ceza, ödül, korkutma ve tehdittir. Bu araçların kullanılması, insanları otoriteyi kullanana mesafe koyma ihtiyacına yöneltir ve kişi, güce dayanan otorite kullanan kişiden uzaklaşır. O zaman da anne babalar, çocukları kendilerine yaklaşıyor, kendileriyle konuşmuyor diye şikayet ederler. Otoritenin dayandığı temel, "bilgi" olabilir. Bilgiye dayanan otoritenin aracı "bilgi", anlayış ve hoşgörüdür. Bilginin bir otorite aracı olarak kullanılması, insanları otoriteyi kullanan kişiye yaklaştırır. O zaman da anne babalar çocuklarının kendilerine yaklaştığını, ihtiyaç duyduğu zaman başvurduklarını ve fikirlerine başvurduklarını görürler.

**Bu parçadan aşağıdakilerden hangisi çıkarılmaz?**

- A) Ailelerin uyguladıkları otoritelerin belli bir dayanağa oturtulması gerekir.
- B) Güce dayanan otorite, çocukların ebeveynlerinden uzaklaşmasına yol açar.
- C) Bilgiye dayanan otorite, insanları bu otoriteyi kullanan kişiye yaklaştırır.
- D) Kaynağını "güç"ten alan otorite "ceza, ödül, korkutma ve tehdit" araçlarını kullanır.
- E) Anne ve babaların çocuklarıyla aralarında belli bir mesafe olması yadırganmamalıdır.

Y  
A  
R  
G  
I  
Y  
A  
Y  
I  
N  
E  
V  
I

**24. ve 25. soruları aşağıdaki parçaya göre cevaplayınız.**

(I) "Baykuş Virane Sever" romanında beni etkileyen en önemli özellik dil işçiliği oldu. (II) Faruk Duman, romanlarında da alttan alta beslediği dil kaygısını bu öykülerde alabildiğine somutlaştırıyor. (III) Konuşma dilini, edebi zenginlik içinde yeniden üretiyor. (IV) Kesik kesik söz öbekleri, kırılan cümlelerle öykücülüğümüzde bana göre yeni bir açılımı muştuluyor. (V) Özellikle bazı diyaloglarda halk edebiyatımızın yaygın tınılarını duyumsatıyor bize. (VI) Nitelemeye çalıştığım bu birkaç özellik, öykücülüğümüzde yeni bir kavisi ortaya çıkarıyor denebilir. (VII) Çevirmen Levent Bakaç'ın Stefan Zweig üstüne aktardığı bir yorumu ben Faruk Duman için söyleyeceğim: "Sanatçı, kullandığı dile boyun eğmek zorunda değil. (VIII) Yaptığı işte o denli usta ki kelimeler ve cümleler ona kendiliğinden teslim oluyor."

**24. Bu parçada tanıtılan sanatçı ve eseri için aşağıdakilerden hangisi söylenemez?**

- A) Eserdeki bazı unsurların yenilik izleri taşıdığı  
B) Romanlarıyla öyküleri arasında üslup ve konu farklılığı olduğu  
C) Sanatçının dilinin çalakalem olmadığı  
D) Edebiyatta yeni bir oluşumun habercisi olduğu  
E) Geleneksel edebiyatın bilinen seslerini hissettirdiği

**25. Bu parçadaki numaralanmış cümlelerden hangisinde "sanatçının gelenekten beslendiğini çağırıştırma" anlamı vardır?**

- A) III. B) IV. C) V. D) VI. E) VII.

**26. ve 27. soruları aşağıdaki parçaya göre cevaplayınız.**

LED TV'ler, her ne kadar teknoloji dünyasının son ürünü gibi görünse de aslında büyük bir yenilikten ziyade LCD teknolojisine getirilmiş bir yenileme şeklinde değerlendirilebilir. LCD'lerin arkadan aydınlatmalı sürümü olan LED'ler, daha net ve aydınlık görüntüler veriyor. Ayrıca bu segmentten televizyonlar arka aydınlatmasıyla güç tasarrufu konusunda teknolojiyi bir adım ileriye taşıyor. Bu televizyonlarda görüntü ayarlarının düzgün yapılması kritik bir konu; aksi takdirde verim alınamayabilir. Bu arada yandan aydınlatmalı LED'lerin daha ince tasarımlarla raflardaki yerini aldığını da belirtelim. Bazı tasarımcılar LED'lerle daha ince yapılı TV'lerin önünün açılmasını avantaj olarak görse de ekranda beyaz bir arka plan olduğunda, parlaklık değerinin fark edilir şekilde yükseldiğini ve gözleri rahatsız edebildiğinin de altını çiziyor. LED TV'ler, temelde iki şekilde üretiliyor ki biri doğrudan aydınlatma, diğeri ise kenardan aydınlatmalı LED'ler. Doğrudan aydınlatmalı modeller, yüksek karışıklık oranlarına ulaşırken kenardan aydınlatma teknolojisi ile çok daha ince tasarımlar yapılabilir. Doğrudan aydınlatmalı modellerde kullanılan LED sayısı ve bunların kontrol ettiği bölgenin büyüklüğü, görüntü kalitesini doğrudan etkiliyor ve üst düzey bir kalite sunuyor. Kenardan aydınlatma teknolojisi ise maliyetleri düşürdüğü için bu tip modeller daha uygun fiyata satın alınabiliyor.

**26. Bu parçaya göre aşağıdakilerden hangisi doğrudan aydınlatmalı LED TV'ler ile kenardan aydınlatmalı LED TV'lerin arasındaki farklardan biridir?**

- A) Maliyetinin düşük olması  
B) Tüketici tarafından daha çok tercih edilmesi  
C) Ses kalitesinin iyi olması  
D) Uzun ömürlü bir ekrana sahip olması  
E) Üretim sürecinin kısa olması

**27. I. görüntü kalitesi  
II. düşük enerji tüketimi  
III. dayanıklılık**

**Bu parçaya göre yukarıdakilerden hangileri doğrudan aydınlatmalı LED TV'lerin LCD TV'lere göre üstün yönlerinden biri değildir?**

- A) Yalnız I B) Yalnız II C) I ve II  
D) II ve III E) I, II ve III


**28. - 30. soruları aşağıdaki bilgilere göre cevaplayınız.**

İsimleri Ali, Burak, Caner, Davut olan dört erkek ile Elvan, Feyza, Gaye ve Hülya olan dört bayan bir televizyon programındaki yarışmaya katılacaklardır. Yarışma sırası için 4 zaman bölümü var ve her birinde bir bayan ve bir erkek birlikte yarışacaktır. Eşleşme bilgileri ve yarışma sıraları aşağıdaki koşullarda verilmiştir:

1. Davut, Hülya veya Feyza ile yarışmaya çıkamayacaktır.
2. Caner, Elvan ile birlikte yarışacaktır.
3. Eğer Gaye ilk sırada yarışmazsa, son sırada yarışır.
4. Elvan'dan hemen önce Hülya yarışmaya çıkacaktır.

**28. Eğer Feyza dördüncü sırada yarışmaya çıkarsa aşağıdakilerden hangisi kesinlikle doğrudur?**

- A) Davut, dördüncü sırada yarışmaya çıkar.
- B) Burak ikinci sırada yarışmaya çıkar.
- C) Caner üçüncü sırada yarışmaya çıkar.
- D) Ali birinci sırada yarışmaya çıkar.
- E) Elvan ikinci sırada yarışmaya çıkar.

**29. Eğer Ali üçüncü sırada yarışmaya çıkarsa, aşağıdakilerden hangisi doğru olamaz?**

- A) Caner ikinci sırada yarışmaya çıkar.
- B) Feyza dördüncü sırada yarışmaya çıkar.
- C) Caner dördüncü sırada yarışmaya çıkar.
- D) Burak birinci sırada yarışmaya çıkar.
- E) Hülya birinci sırada yarışmaya çıkar.

**30. Eğer Ali ve Burak art arda yarışmaya çıkarsa aşağıdakilerden hangisi kesinlikle doğrudur?**

- A) Davut ve Gaye üçüncü sırada yarışmaya çıkar.
- B) Burak ve Davut, Elvan'dan önce yarışmaya çıkar.
- C) Davut ile Caner de arka arkaya yarışmaya çıkar.
- D) Gaye yarışmaya çıkan birinci bayan, Hülya ise yarışmaya çıkan ikinci bayandır.
- E) Hülya, Feyza'dan önce yarışmaya çıkamaz.

$$31. \frac{\frac{3}{4} - \frac{1}{3}}{\frac{1}{2}}$$

**işleminin sonucu kaçtır?**

- A) 2      B)  $\frac{4}{3}$       C)  $\frac{5}{6}$       D)  $\frac{3}{4}$       E)  $\frac{3}{5}$

$$32. \frac{0,2}{0,05} + \frac{1,2}{0,6} - \frac{1,4}{0,14}$$

**işleminin sonucu kaçtır?**

- A) -4      B) -2      C) 1      D) 2      E) 4

$$33. (-2)^{-2} + 3 \cdot 4^{-1} - 3$$

**işleminin sonucu kaçtır?**

- A) 3      B) 2      C) 1      D) -1      E) -2



34.  $2^a = 5$

olduğuna göre,  $8^a + 4^{a+1}$  ifadesinin değeri kaçtır?

- A) 195 B) 205 C) 215 D) 225 E) 240

35.  $a = \sqrt{7} + \sqrt{6}$

$b = \sqrt{7} - \sqrt{6}$

olduğuna göre,  $a^2 - 2ab + b^2$  ifadesinin değeri kaçtır?

- A)
- $2\sqrt{7}$
- B) 24 C)
- $4\sqrt{6}$
- 
- D)
- $2\sqrt{7} - 2\sqrt{6}$
- E)
- $4\sqrt{7}$

36. A ve B pozitif tam sayılardır.

$$\begin{array}{r} A \mid B \\ \hline \quad \mid 5 \\ \hline \quad \mid 3 \end{array}$$

olduğuna göre, A + B toplamı aşağıdakilerden hangisi olamaz?

- A) 27 B) 33 C) 37 D) 45 E) 57

37.  $a < b < 0$

olduğuna göre,  $\frac{|a-b|}{|a|-|b|}$  ifadesi aşağıdakilerden hangisine eşittir?

- A) -1 B) 1 C)
- $\frac{-a+b}{a+b}$
- 
- D)
- $\frac{a+b}{a-b}$
- E)
- $\frac{a-b}{a+b}$

Y  
A  
R  
G  
I  
Y  
A  
Y  
I  
N  
E  
V  
İ38. Tam sayılar kümesi üzerinde  $\Delta$  ve  $\square$  işlemleri

$a \Delta b = b - a$

$a \square b = a^b$

şeklinde tanımlanıyor.

$\frac{3 \Delta x}{1 \square x} = 2$  olduğuna göre, x kaçtır?

- A) 2 B) 3 C) 4 D) 5 E) 6

39.  $2a - 10$ ,  $a + b$ ,  $3a - 21$

sırasıyla ardışık üç pozitif tam sayı olduğuna göre, b kaçtır?

- A) 3 B) 4 C) 5 D) 6 E) 7





40.  $x$  ve  $y$  birer tam sayı olmak üzere,  
 $-4 \leq x < 5$   
 $-2 < y \leq 8$   
 olduğuna göre,  $3x - 2y$  nin **en büyük** ve **en küçük** tam sayı değerleri toplamı kaçtır?  
 A) -17 B) -14 C) 10 D) 12 E) 28

41.  $\frac{a-1}{a^2-a-2} : \frac{a^2-1}{a-2}$   
 ifadesinin sadeleştirilmiş biçimi aşağıdakilerden hangisidir?  
 A)  $\frac{1}{(a+1)^2}$  B)  $\frac{1}{a-1}$  C)  $\frac{a-1}{a+1}$   
 D)  $\frac{a-2}{a-1}$  E)  $\frac{a+1}{a-2}$

42.  $a$ ,  $b$  ve  $c$  doğal sayılarıyla ilgili aşağıdakiler bilinmektedir.
- $a + b + c = 66$  dir.
  - $a$  ile  $b$  nin aritmetik ortalaması  $c$  den 15 eksiktir.
  - $b$  ile  $c$  nin aritmetik ortalaması  $a$  dan 12 fazladır.
- Buna göre,  $b$  kaçtır?**  
 A) 16 B) 18 C) 20 D) 22 E) 24

43. Bir iş yerinde A, B, C ve D birimlerinde çalışan işçiler vardır.  
**Bu birimlerde çalışan kişilerden bazılarının sayıları aşağıdaki tabloda verilmiştir.**

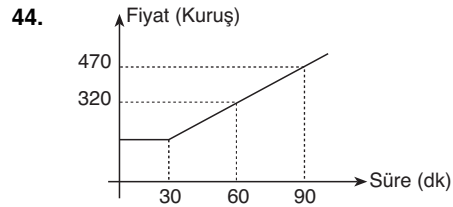
	Bayan	Erkek
A		21
B	8	12
C	11	13
D	19	

Bu iş yerinde D biriminde çalışan erkeklerin sayısı, A biriminde çalışan bayanların sayısının yarısıdır. Ayrıca bu işyerinde çalışan bayanların sayısı erkeklerin sayısına eşittir.

**Buna göre, D biriminde çalışan toplam kaç kişi vardır?**

- A) 23 B) 25 C) 26 D) 27 E) 29

Y  
A  
R  
G  
I  
Y  
A  
Y  
I  
N  
E  
V  
İ



Yukarıdaki doğrusal grafikte bir GSM operatörünün, gün içerisindeki telefon görüşmelerini ücretlendirmesi verilmiştir.

**Buna göre, 40 dakika telefon görüşmesi yapan bir kişi kaç kuruş ödeme yapar?**

- A) 220 B) 210 C) 200 D) 190 E) 180

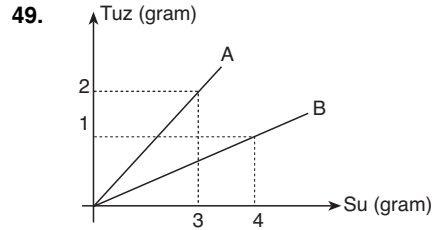


45. Mevcudu 30 olan bir sınıf için her öğrenciye bir adet pizza siparişi verilecektir.  
Bazı öğrenciler 12,5 ₺ lik büyük boy pizza, bazıları da 6 ₺ lik küçük boy pizza siparişi verecektir.  
**Pizzalar için toplam 297 ₺ ödendiğine göre, küçük boy pizzadan kaç tane sipariş verilmiştir?**  
A) 18 B) 16 C) 14 D) 12 E) 10

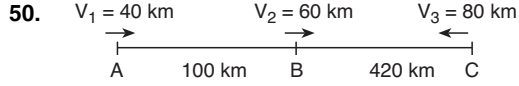
46. Beş kişinin yaşları ile ilgili aşağıdakiler bilinmektedir.  
• Aslı, Cenk'ten 4 yaş büyüktür.  
• Cenk, Cemre'den 5 yaş küçüktür.  
• Arzu, Aslı'dan 3 yaş büyüktür.  
• Leman, Cemre'den 7 yaş küçüktür.  
**Buna göre, bu beş kişi içinde yaşı en büyük olan kimdir?**  
A) Aslı B) Cenk C) Cemre  
D) Arzu E) Leman

47. Hakan (H), Ahmet (A) ve Serdar'ın (S) yaşları arasında  
 $\frac{H}{A} = \frac{3}{4}$   
 $\frac{S}{H} = \frac{1}{2}$   
oranları vardır.  
**Hakan, Serdar'dan 15 yaş büyük olduğuna göre, Ahmet'den kaç yaş küçüktür?**  
A) 13 B) 12 C) 11 D) 10 E) 9

48. Bir ceket, etiket fiyatı üzerinden %35 indirimle alınmış, etiket fiyatının %9 eksikliğine satılmıştır.  
**Buna göre, bu ceketin satışından elde edilen kâr oranı maliyetine göre yüzde kaçtır?**  
A) 38 B) 40 C) 42 D) 48 E) 50

Y  
A  
R  
G  
I  
Y  
A  
Y  
I  
N  
E  
V  
İ

- Yukarıda verilen grafiğe göre 60 gram A karışımı ile 40 gram B karışımı alınarak karıştırılıyor.  
**Buna göre, elde edilen karışımın tuz oranı yüzde kaçtır?**  
A) 33 B) 32 C) 30 D) 28 E) 26



Şekilde hızları sırasıyla 40 km/sa, 60 km/sa ve 80 km/sa olan  $V_1$ ,  $V_2$ ,  $V_3$  araçları aynı anda şekildeki yönlerde hareket ediyorlar.

$$|AB| = 100 \text{ km}$$

$$|BC| = 420 \text{ km}$$

**olduğuna göre,  $V_2$  ile  $V_3$  araçları karşılaştıkları anda  $V_1$  aracı B den kaç kilometre uzakta olur?**

- A) 20    B) 24    C) 30    D) 40    E) 48

**52. - 54. soruları aşağıdaki bilgilere göre birbirinden bağımsız olarak cevaplayınız.**

5	5	10	5
10	15	15	10
5	10	5	10

Yukarıda 12 kareden oluşan bir tablo ile oyun oynanacaktır. Oyunun kuralları aşağıda verilmiştir.

- İstenilen bir kutudan başlanacak.
- Çarpaz ilerlenecek.
- Başlanılan ve üzerinden geçilen kutulara 2. kez uğranılmayacak.
- Kutularda bulunan puanlar toplanacak ve en çok puan alan kazanmış olacaktır.

**52. Bu tablodan en çok kaç puan toplanabilir?**

- A) 40    B) 45    C) 50    D) 55    E) 60

Y  
A  
R  
G  
I  
Y  
A  
Y  
I  
N  
E  
V  
İ

**53. Oyun kurallarına göre en fazla kaç tane 10 puan toplanabilir?**

- A) 1    B) 2    C) 3    D) 4    E) 5

**51. Bir yarışmayla ilgili aşağıdakiler biliniyor.**

- Yarışmanın toplam ödülü 250.000 ₺ dir.
- Yarışmada sorulan her soru için verilen seçeneklerden bir tanesi doğru.
- Yarışmacı istediği seçeneğe istediği para miktarını koyabiliyor.
- Tüm para en az bir seçeneğe konulmak üzere, doğru seçenek üzerindeki para bir sonraki soruya devrediyor.

Bu yarışmaya katılan Ahmet Bey, ilk soruya 250 000 ₺ koyarak her sorudaki doğru cevaba bir önceki sorudan kalan paranın  $\frac{4}{5}$ 'ini koyuyor.

**Buna göre, Ahmet Bey, 4. soruya başlarken kaç ₺ koymuştur?**

- A) 130.000    B) 128.000    C) 127.000  
D) 125.000    E) 122.000

**54.**

10	15	10	15
15	5	Δ	10
10	15	5	15

Bir oyuncu yukarıda verilen tabloda "Δ" sembolünün bulunduğu kutudan başlamak koşuluyla bu kutuya 0,5,10,15,20 sayılardan birini koyma hakkına sahiptir.

**Buna göre, yarışmacı hangi sayıyı koyar ve kurallara göre ilerlerse 65 puan toplar?**

- A) 0    B) 5    C) 10    D) 15    E) 20



55. – 57. soruları aşağıdaki bilgilere göre cevaplayınız.

Bir çiçekçi bir haftada 120 tane sarı, 160 tane kırmızı ve 200 tane beyaz gül satmıştır. Çiçekçinin günlere göre sattığı güllerin yüzdeleri aşağıdaki tabloda verilmiştir.

Gülün rengi	Hafta içi (%)	Cumartesi (%)	Pazar (%)
Sarı	20	35	45
Kırmızı	15	60	25
Beyaz	30	20	50

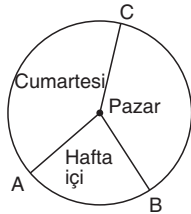
55. Hafta içi toplam kaç tane gül satmıştır?

- A) 96 B) 100 C) 106 D) 108 E) 110

56. Cumartesi günü satılan kırmızı gül sayısı, sarı gül sayısından kaç fazladır?

- A) 40 B) 44 C) 50 D) 52 E) 54

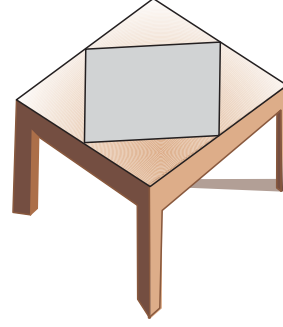
57.



Bir haftada günlere göre satılan gül sayıları daire grafiğiyle gösterilirse hafta içi dilimini gösteren merkez açının ölçüsü kaç derece olur?

- A) 81 B) 78 C) 64 D) 54 E) 51

58.



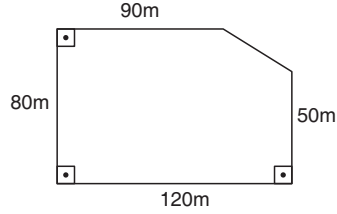
Kare şeklindeki bir örtü, kare şeklindeki bir sehpa-ya şekildeki gibi yerleştirildiğinde örtünün köşeleri, sehpanın kenarlarının orta noktalarıyla çakışmaktadır.

Sehpanın bir kenar uzunluğu 120 cm olduğuna göre, örtünün çevre uzunluğu kaç santimetredir?

- A) 240 B) 260 C)  $120\sqrt{2}$   
D)  $240\sqrt{2}$  E) 300

Y  
A  
R  
G  
I  
Y  
A  
Y  
I  
N  
E  
V  
İ

59.

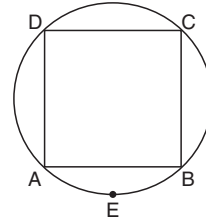


Yukarıda bir tarlanın ölçüleri verilmiştir.

Buna göre, bu tarlanın alanı kaç metrekaredir?

- A) 8600 B) 8950 C) 9150  
D) 9200 E) 9400

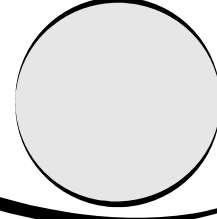
60.



Şekildeki karenin köşeleri çember üzerindedir.

Karenin bir köşegeninin uzunluğu 16 cm olduğuna göre, AEB yayının uzunluğu kaç santimetredir?

- A)  $4\pi$  B)  $6\pi$  C)  $8\pi$  D)  $10\pi$  E)  $12\pi$



Bu testte toplam **60** soru vardır.

*Başarılar dileriz...*

1. İslamiyet öncesi Türk tarihini araştırmak amacıyla;

- I. Macaristan,
- II. İspanya,
- III. İran

devletlerinin hangilerinin arşivlerinden yararlanılabilir?

- A) Yalnız I
- B) Yalnız II
- C) I ve II
- D) I ve III
- E) II ve III

2. Karahanlı Devleti, Gazneli saldırıları ve taht kavgaları nedeniyle zayıflama sürecine girmiş ve devlet Moğollar tarafından sona erdirilmiştir.

**Yalnız yukarıdaki bilgi dikkate alındığında**

- I. Moğollarla Karahanlılar çağdaş devlettir.
- II. Karahanlı Devleti'nin yıkılışında veraset sisteminin etkisi vardır.
- III. Gazneli ve Moğollar müttefik devletlerdir.

**Yargılarından hangilerine ulaşılabilir?**

- A) Yalnız I
- B) Yalnız II
- C) Yalnız III
- D) I ve II
- E) I, II ve III

3. Mesnevi, Divan-ı Kebir gibi eserleri kaleme alan ve eserlerinde daha çok Farsçayı kullanan Türk – İslam düşünürü aşağıdakilerden hangisidir?

- A) Yunus Emre
- B) Hacı Bektaş Veli
- C) Mevlana
- D) Caca Bey
- E) İbn-i Bibi

- I. II. Mehmet
- II. I. Süleyman
- III. Abdülmecit

**Yukarıda verilen Osmanlı sultanlarından hangileri dönemde saray değişikliği meydana gelmiştir?**

- A) Yalnız I
- B) Yalnız II
- C) Yalnız III
- D) I ve III
- E) I, II ve III

5. Osmanlı Devleti'nde devşirmelerin eğitim gördüğü saray okulu aşağıdakilerden hangisidir?

- A) Darümuallimat
- B) Darülfünun
- C) Enderun
- D) Hendesehane
- E) İstihkam Okulu

6. Osmanlı Devleti'nde

- I. cizye
- II. haraç
- III. öşür

**vergilerinden hangilerinin ürün üzerinden toplandığı söylenebilir?**

- A) Yalnız I
- B) Yalnız II
- C) Yalnız III
- D) II ve III
- E) I, II ve III

- I. Sanayi-i Nefise
- II. Baytar
- III. Sibyan
- IV. Şehzadegan

**Yukarıda verilen Osmanlı eğitim kurumlarından hangilerinin yenileşme çabalarının sonucunda kurulduğu savunulamaz?**

- A) Yalnız I
- B) Yalnız II
- C) I ve III
- D) II ve IV
- E) III ve IV



8. I. Ali Kuşçu  
II. Kadızade-i Rumi  
III. Molla Lütüfî  
**Osmanlı Devleti'ndeki yukarıdaki düşünürlerden hangilerinin pozitif ilimlerle uğraştığı söylenebilir?**  
A) Yalnız I B) Yalnız II C) Yalnız III  
D) I ve II E) I, II ve III
9. XVII. yüzyılda tımar sisteminin bozulmaya başlamasıyla;  
I. askeri  
II. iktisadi  
III. zirai  
**alanlarından hangilerinde ıslahat yapılması düşünülmüştür?**  
A) Yalnız I B) Yalnız II C) I ve II  
D) II ve III E) I, II ve III
10. Osmanlı Devleti XIX. yüzyılda merkezi otoritesini artırmak amacıyla ıslahatlar gerçekleştirmiştir.  
**Aşağıdaki ıslahatlardan hangisinin bu amaca yönelik olduğu savunulamaz?**  
A) Posta Teşkilatının kurulması  
B) Takvim-i Vekayinin çıkarılması  
C) Sanayi-i Nefise Mektebinin açılması  
D) Vilayet Nizamnamesinin yayımlanması  
E) Edirne-Varna-Kırım arasında telgraf döşenmesi
11. Türk tarihinde ilk kez çok partili hayata hangi yıl geçilmiştir?  
A) 1876 B) 1909 C) 1920 D) 1923 E) 1946
12. Yayımladığı raporda ilk kez Kuvayimilliyeye terimini kullanan ve mücadelenin ulusal hâle getirilmesinden bahseden yararlı cemiyet aşağıdakilerden hangisidir?  
A) Kilikyalılar  
B) Trakya Paşaeli  
C) Millî Kongre  
D) Doğu Anadolu Müdafaa-i Hukuk  
E) Trabzon Müdafaa-i Hukuk
13. I. TBMM Dönemi'nde yayımlanan aşağıdaki yasalardan hangisinin mali kaynak yaratma amacına yönelik olduğu savunulabilir?  
A) Teşkilat-ı Esasiye  
B) İstiklal Marşının kabulü  
C) Firariler Kanunu  
D) Meni Müskirat  
E) Nisab-ı Müzakere
14. I. Orduyu siyasetten ayırma çalışmaları  
II. Seçmen yaşının 18'den 22'ye çıkarılması  
III. Kadınlara siyasi hakların tanınması  
**Yukarıdaki gelişmelerden hangileri cumhuriyetçilik ilkesi ile ilişkilendirilebilir?**  
A) Yalnız I B) Yalnız II C) Yalnız III  
D) I ve III E) II ve III
15. Ulusal bağımsızlık, ulusal birlik ve beraberlik, insan ve insanlık sevgisi gibi anlayışlar aşağıdaki Atatürk ilkelerinden hangisini bütünlendirmektedir?  
A) Cumhuriyetçilik B) Laiklik  
C) Milliyetçilik D) Devletçilik  
E) İnkılapçılık
16. I. Tekke, zaviye ve türbelerin kapatılması  
II. Halifelik kaldırılması  
III. Türk Tarih Kurumunun açılması  
**Yukarıdaki inkılapların kronolojik sırası aşağıdakilerden hangisidir?**  
A) II – III – I B) III – II – I C) I – II – III  
D) II – I – III E) III – I – II
17. Atatürk "Mektep istemiyorsunuz. Halbuki millet onu istiyor. Bırakınız artık bu millet, bu memleket evladı yetişsin. Medreseler açılmayacaktır. Millete mektep lazımdır." demiştir.  
**Aşağıdakilerden hangisinin, Atatürk'ün bu sözü doğrultusunda gerçekleştirildiği savunulabilir?**  
A) Türk Dil Kurumunun açılması  
B) Millet Mekteplerinin açılması  
C) Yeni Türk harflerinin kabulü  
D) Medeni Kanun'un kabulü  
E) Halifelik Kaldırılması



18. – Kabine sistemine geçilmiştir.  
 – Cumhurbaşkanı ve Başbakanlık makamları oluşturulmuştur.

**Yukarıda verilen gelişmeler hangi inkılap sonucu gerçekleştirilmiştir?**

- A) Saltanatın Kaldırılması  
 B) Cumhuriyetin ilanı  
 C) Halifeliğin kaldırılması  
 D) Tevhid-i Tedrisat Kanunu'nun kabulü  
 E) Şerhiye ve Evkaf Vekaleti'nin kaldırılması

19. Aşağıdakilerden hangisinin ekonomi alanındaki gelişmelerden biri olduğu **savunulamaz**?

- A) Merkez Bankasının açılması  
 B) Kabotaj Kanunu'nun çıkarılması  
 C) İzmir İktisat Kongresinin toplanması  
 D) I. Beş Yıllık Sanayi Planının uygulamaya konulması  
 E) Yüksek Ziraat Enstitüsünün kurulması

20. I. Miladi Takvimin kabul edilmesi  
 II. Öğretimde birliğin sağlanması  
 III. Uluslararası saat usulüne geçilmesi

**Yukarıdaki gelişmelerden hangilerinin Türkiye'nin devletlerarası uyumu sağlamaya yönelik olduğu savunulabilir?**

- A) Yalnız I      B) Yalnız II      C) Yalnız III  
 D) I ve III      E) I, II ve III

21. Ordu mensuplarının siyasi partilere üye olamayacaklarına dair kanun hangi yıl çıkarılmıştır?

- A) 1923    B) 1924    C) 1925    D) 1926    E) 1927

22. Şeyhlik, dedelik, dervişlik, seyitlik gibi ayrıcalık bildiren unvanların kaldırılmasının hangi inkılap sonucunda gerçekleştirildiği savunulabilir?

- A) Soyadı Kanunu'nun kabul edilmesi  
 B) Tekke, zaviye ve türbelerin kaldırılması  
 C) Kılık – kıyafet düzenlemesinin yapılması  
 D) Saltanatın kaldırılması  
 E) Anayasaya altı ilkenin konulması

23. Irak sınırının;

- I. Lozan,  
 II. Haliç,  
 III. Londra (1921)

**konferanslarından hangilerinde tartışıldığı savunulabilir?**

- A) Yalnız I      B) Yalnız II      C) Yalnız III  
 D) I ve II      E) II ve III

24. Uluslararası barışı korumak adına yapılan aşağıdaki anlaşmalardan hangisine Türkiye'nin üyeliği **bulunmamaktadır**?

- A) Litvinov Protokolü  
 B) Briand-Kellog Paktı  
 C) Locarno Paktı  
 D) Sadabat Paktı  
 E) Balkan Antantı

25. Türkistan Millî Birliği'nin kurucusu ve ilk başkanı olan ve Basmacı Hareketinde Enver Paşa ile çalışan ordinaryüs profesör aşağıdakilerden hangisidir?

- A) Yusuf Akçura      B) Halil İnalcık  
 C) Fuat Köprülü      D) Zeki Velidi Togan  
 E) İsmail Gaspıralı

26. II. Dünya Savaşı'ndan sonra ABD hangi doktrinle **ilk kez** dünya siyasetine müdahale etmiştir?

- A) Truman      B) Nixon      C) Eisenhower  
 D) Monro      E) Brejnev

27. Kıbrıs Türk Barış Harekatı aşağıdaki hükümetlerin hangisi döneminde gerçekleştirilmiştir?

- A) İnönü      B) Menderes      C) Demirel  
 D) Ecevit      E) Özal

Y  
A  
R  
G  
I  
Y  
A  
Y  
I  
N  
E  
V  
i



28. Aşağıdaki Türkiye haritasında beş merkez numaralarla gösterilmiştir.



Kış saati uygulaması yapıldığı bir dönemde harita üzerinde numaralanmış merkezlerden hangisinde yerel saat ile ulusal saat arasındaki farkın **en fazla** olduğu söylenebilir?

- A) I B) II C) III D) IV E) V

29. Türkiye arazisinin jeolojik şekillenmesi daha çok 3. ve 4. Jeolojik dönemde gerçekleşmiştir. Bu nedenle Türkiye genç tektonik ülkeler arasında sayılır.

Aşağıdakilerden hangisi Türkiye'nin genç oluşumlu bir ülke olduğuna kanıt olarak **gösterilemez**?

- A) Sıcak su kaynakları bakımından zengin olması  
B) Akarsuların genel olarak dar ve derin vadiler oluşturması  
C) Zonguldak – Kozlu yöresinde taşkömürü yataklarının bulunması  
D) I. Derecede deprem riskine sahip arazilerin oranının fazla olması  
E) Dağlık ve engebeli arazilerin oranının fazla olması

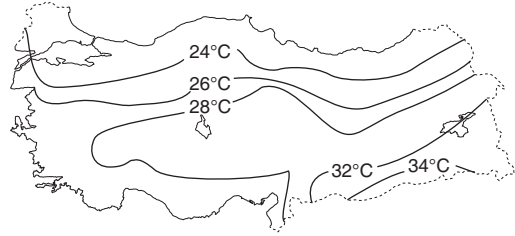
30. Aşağıdakilerden hangisi Türkiye'de yer şekillerinin beşeri yapı üzerindeki etkisine örnek olarak **gösterilemez**?

- A) Asya'dan Avrupa'ya geçişte köprü ve tünellerin kullanılması  
B) Kuzey güney yönlü karayolu yapım maliyetinin daha fazla olması  
C) Biriktirmeli hidroelektrik santrallerin eğim ve engebenin fazla olduğu yerde kurulması  
D) Bazı kıyı yörelerinde delta ovalarının oluşması  
E) Doğu Karadeniz'de kırsal kesimdeki yerleşme dokusunun dağınık olması

31. Renklendirme yöntemi ile çizilmiş bir Türkiye fiziki haritasında aşağıdaki illerden hangisinin sınırları içinde yeşil renge rastlanılacağı **söylenemez**?

- A) Şanlıurfa B) Manisa C) Edirne  
D) Zonguldak E) Afyon

32. Aşağıda Türkiye'nin Temmuz ayı indirgenmiş izoterm haritası verilmiştir.



Harita incelendiğinde aşağıdakilerden hangisine **ulaşamaz**?

- A) Karadeniz kıyılarının sıcaklığı 24°C'ten düşüktür.  
B) Ege'de sıcaklık 26°C ile 28°C arasındadır.  
C) Güneydoğu Anadolu Bölgesi en yüksek sıcaklıklara sahiptir.  
D) Van Gölü'nün güneyi kuzeyinden 2°C daha sıcaktır.  
E) Doğu Anadolu'nun kuzeyine doğru yükselti etkisi ile sıcaklık düşmektedir.

33. Meltem rüzgârları, gün içinde yön değiştirir. Gündüz ve gece arasında denizden karaya, karadan denize, dağdan vadiye ve vadiden dağa doğru esmektedir.

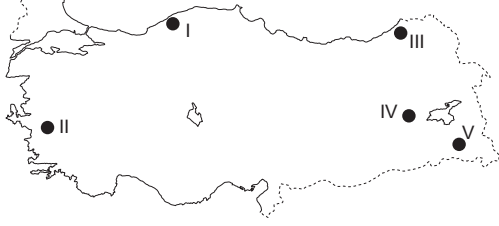
Yukarıda bahsedilen meltem rüzgarlarının esme yönlerinin değişimi aşağıdakilerden hangisi ile açıklanabilir?

- A) Günlük basınç farkıyla  
B) Yer şekilleriyle  
C) Doğal bitki örtüsüyle  
D) Jeolojik yapıyla  
E) Eğim ve engebeyle





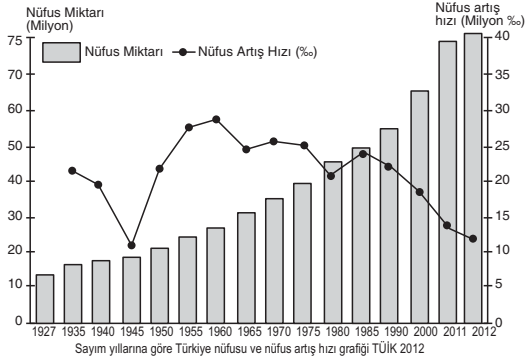
34. Harita üzerinde beş merkez numaralarla gösterilmiştir.



Sıcaklık isteği düşük buna rağmen sis ve yağış isteği fazla olan ağaç türleri yukarıdaki haritada kaç numaralı alanda daha yaygındır?

- A) I B) II C) III D) IV E) V

35. Aşağıda Türkiye'nin 1935 -2012 yılları arasındaki nüfus artış hızını ve 1927 – 2012 yılları arasındaki nüfus sayısını gösteren grafik verilmiştir.



Bu grafiğe bakılarak;

- I. Nüfus sayısı 1927'den, 2012'ye yaklaşık 6 kat artmıştır.
- II. Nüfus artış hızının en fazla olduğu dönemde ölüm oranları da en çok olmuştur.
- III. Nüfus artış hızı 1985 ile 2012 yılları arasında sürekli azalmıştır.
- IV. 1990 – 2000 arasındaki nüfus artış miktarı ile 2000 – 2011 yılları arasındaki nüfus artış miktarı yaklaşık aynıdır.
- V. 1927 yılından 1935 yılına kadar nüfus artış hızı sürekli azalmıştır.

Yorumlarından hangisinin yapılabileceği söylenemez?

- A) Yalnız II B) I ve III C) II ve IV  
D) II ve V E) III ve IV

36. Türkiye'nin 2013 yılı nüfus verileri dikkate alındığında 2012'ye göre aşağıdakilerden hangisinde bir azalma meydana gelmiştir?

- A) Nüfus artış hızında  
B) Nüfus sayısında  
C) Kent nüfus oranında  
D) Aritmetik yoğunlukta  
E) Çocuk nüfus oranında

37. Bir veya birkaç ev, ahır, ambar vb. eklentilerinden oluşan ve yıl boyunca ikamet edilen yerleşmelere çiftlik denir. Çiftlikler tarım amaçlı kurulur ve geniş tarım arazilerine sahip yerlerde yaygındır.



Buna göre, haritada numaralanmış yerlerden hangisinde çiftlik yerleşmelerinin kurulduğu söylenemez?

- A) I B) II C) III D) IV E) V

38. TÜİK ( Türkiye İstatistik Kurumu) 2013 yılı verilerine göre en fazla kivi üreten il aşağıdakilerden hangisi olmuştur?

- A) Rize B) Yalova C) Samsun  
D) Artvin E) Antalya



39. Çukurova'da ve Iğdır Ovası'nda pamuk tarımı yapılabilirken, Çukurova'da yetiştirilen turuncğile Iğdır Ovası'nda rastlanmaz.

**Bu durumun nedeni aşağıdaki seçeneklerden hangisinde verilmiştir?**

- A) Ovalardaki toprak türlerinin farklı olması  
B) Sulama imkânlarının Çukurova'da daha fazla olması  
C) Iğdır Ovası'nda kış sıcaklıklarının düşük olması  
D) Ovaların oluşumlarının birbirinden farklı olması  
E) Çukurova'da tarımda makine kullanımının daha yaygın olması

40. I. Büyükşehirler çevresinde büyükbaş ahır hayvancılığının gelişmesi  
II. Kümes hayvancılığının daha çok nüfus sayısının fazla olduğu merkezler çevresinde yoğunlaşması  
III. İç Anadolu'daki koyun yetiştiriciliği yaygın iken Doğu Anadolu'da büyükbaş mera hayvancılığının yaygın olması  
IV. Güneybatı Ege kıyılarında kültür balıkçılığının yaygın olarak yapılması

**Yukarıdaki ifadelerden hangilerine bakılarak Türkiye'deki hayvancılığın doğal koşullara bağlı olarak yürütüldüğü söylenebilir?**

- A) Yalnız II      B) I ve II      C) II ve III  
D) II ve IV      E) III ve IV

41. Güneydoğu Anadolu'da şeker pancarı tarımı yapılmasına rağmen şeker fabrikası bulunmamaktadır.

**Bu durum, bir yerde sanayinin kurulmasında etkili olan aşağıdaki faktörlerden hangisi ile ilişkilidir?**

- A) Ham madde yeterliliği  
B) Sermaye birikimi  
C) Pazarlama olanakları  
D) Enerji kaynaklarına yakınlık  
E) Ulaşım olanakları

42. Akarsuların eğim ve engebenin fazla olduğu yerlerde akış hızları yüksek olduğundan hidroelektrik potansiyelleri de fazladır.



**Buna göre, su gücüne yatırım yapmak isteyen bir enerji şirketi harita üzerinde kaç numaralı yere yatırım yaparsa verimlilik en düşük olur?**

- A) I      B) II      C) III      D) IV      E) V

Y  
A  
R  
G  
I  
Y  
A  
Y  
I  
N  
E  
V  
i

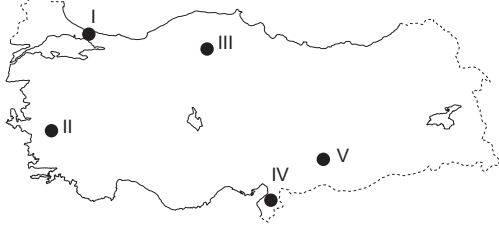
43. Türkiye'nin 2013 yılında yapmış olduğu ihracatın yarısından fazlası deniz yolu ile gerçekleşmiştir.

**Deniz yollarının ihracattaki payının yüksek olmasında aşağıdakilerden hangisi etkili olmuştur?**

- A) İhracat yapılan tüm ülkelerin limana sahip olması  
B) Limanlardan alınan gümrük vergilerinin, kara yollarından alınanlardan düşük olması  
C) Deniz yolu ulaşımının ticari malların naklinde en ucuz ulaşım türü olması  
D) İhracat yapılan ülkelerin malları deniz yolu ile istemesi  
E) Gemi sayısının diğer ulaşım türlerindeki araçlara göre sayıca daha fazla olması



44. Türkiye'ye gelen bir turist grubu haritada numaralarla gösterilen yerlerdeki turizm alanlarını sıraya göre ziyaret etmiştir.



Buna göre, turistlerin ziyaret ettikleri alanların sıralaması hangi seçenekte doğru olarak verilmiştir?

- |    | I                      | II                 | III                    | IV                 | V                      |
|----|------------------------|--------------------|------------------------|--------------------|------------------------|
| A) | Ayasofya               | Meryem Ana         | Safranbolu             | St. Piere Kilisesi | Nemrut Dağı Heykelleri |
| B) | St. Piere Kilisesi     | Safranbolu         | Nemrut Dağı Heykelleri | Ayasofya           | Meryem Ana             |
| C) | Ayasofya               | Meryem Ana         | Nemrut Dağı Heykelleri | Safranbolu         | St. Piere Kilisesi     |
| D) | Safranbolu             | Meryem Ana         | Nemrut Dağı Heykelleri | Ayasofya           | St. Piere Kilisesi     |
| E) | Nemrut Dağı Heykelleri | St. Piere Kilisesi | Safranbolu             | Meryem Ana         | Ayasofya               |

45. Aşağıda verilen bölgelerden hangisinde eşleştirilen enerji kaynaklarının hangisi ile elektrik üretimi başka bir bölgede yoktur?

- A) Ege – Jeotermal  
 B) Marmara – Doğal gaz  
 C) Doğu Anadolu – Linyit  
 D) Karadeniz – Taş kömürü  
 E) Akdeniz – Rüzgâr gücü

46. Aşağıdakilerden hangisi bir hukuk kuralının taşınması gereken özelliklerden biri değildir?

- A) Genellik  
 B) Devlet desteği  
 C) Süreklilik  
 D) Yaptırımlar içermesi  
 E) Somut olması

47. Kişilere eşya üzerinde doğrudan hâkimiyet yetkisi veren ve herkese karşı ileri sürülebilen haklara ne ad verilir?

- A) Fikri Hak  
 B) Aynı Hak  
 C) Kişisel Hak  
 D) Alacak Hakkı  
 E) Talep Hakkı

48. Uyuşmazlığın çözümüne (özüne) ilişkin hükümlerin tamamına maddi hukuk denir.

Aşağıdaki hukuk dallarından hangisi maddi hukuk kapsamında değildir?

- A) Anayasa Hukuku  
 B) Vergi Hukuku  
 C) Yargılama Hukuku  
 D) Ticaret Hukuku  
 E) Medeni Hukuk

49. I. Bakan  
 II. Başbakan  
 III. Cumhurbaşkanı  
 IV. Bakan yardımcısı

Yukarıdakilerden hangileri milletvekili olmak zorundadır?

- A) Yalnız I  
 B) Yalnız II  
 C) II ve III  
 D) II ve IV  
 E) I, III ve IV

50. Bütçe, yasama organının yürütme organına kamu gelirlerini toplamak ve kamu harcamalarını yapmak üzere verdiği bir yıllık izindir.

Bütçe ile ilgili aşağıdaki ifadelerden hangisi yanlıştır?

- A) Bütçenin hazırlanması Bakanlar Kuruluna , kabul edilmesi ise Meclise aittir.  
 B) Kamu maliyesinin parlamento tarafından kontrolü , bütçe ile yapılmaktadır.  
 C) Bütçenin onaylanması, Meclisin Bakanlar Kuruluna duyduğu siyasal güveni gösterir.  
 D) Bütçe Kanunu Cumhurbaşkanının Meclise geri gönderemeyeceği tek kanundur.  
 E) Bütçe Kanununun mali denetimini Türkiye Büyük Millet Meclisi adına Anayasa Mahkemesi yapar.



51. Bakanlar Kurulunun karar almasıyla ilgili aşağıdakilerden hangisi doğrudur?
- A) Bakanlar Kurulu adına Başbakan karar alır.  
B) Başbakan, yardımcılarını ile birlikte Bakanlar Kurulu adına karar alır.  
C) Bakanlar Kurulu oy çokluğuyla karar alır.  
D) Bakanlar Kurulu oybirliği ile karar alır.  
E) Bakanlar Kurulu beşte üç çoğunlukla karar alır.

52. 1982 Anayasası'na göre, Mecliste bir siyasi partiyi temsilen en az kaç milletvekili ile siyasi parti grubu kurulabilir?
- A) 10      B) 20      C) 30      D) 40      E) 50

53. Aşağıdakilerden hangisi, devlet memurları için öngörülen yasalar arasında yer almaz?
- A) İkinci görev alma yasağı  
B) Grev yasağı  
C) Toplu müracaat ve şikayet yasağı  
D) Ticari faaliyette bulunma yasağı  
E) Siyasi faaliyette bulunma yasağı

54. I. Güvenlik  
II. Genel sağlık  
III. Dirlik ve esenlik
- Yukarıdakilerden hangisi kamu düzeninin öğelerinden biridir?**
- A) Yalnız I      B) Yalnız III      C) I ve II  
D) II ve III      E) I, II ve III

55. Kasım 2011'de Mısır'ın başkenti Kahire'de toplanan Arap Birliği, şiddet olaylarından dolayı aşağıdaki ülkelerden hangisinin üyeliğini askıya almıştır?
- A) Lübnan      B) Yemen      C) Suriye  
D) Mısır      E) Türkiye

56. Moskova yanlısı parlamentosu tarafından Mart 2014'de bağımsızlık kararı alan ve bu kararın Rusya'ya bağımsız bir devlet olarak katılmaya zemin olduğu yorumları yapılan ülke aşağıdakilerden hangisidir?
- A) Ukrayna      B) Kırım      C) Belarus  
D) Moldova      E) Romanya

57. Avrupa Konseyi Parlamenterler Meclisi tarafından 2014 yılı Avrupa Müze Ödülü verilen müzemiz aşağıdakilerden hangisidir?
- A) Misis Mozaik Müzesi  
B) Pembe Köşk  
C) Milet Müzesi  
D) Baksı Müzesi  
E) Söğüt Müzesi

Y  
A  
R  
G  
I  
Y  
A  
Y  
I  
N  
E  
V  
I

58. 1 Ocak 2014 itibari ile İslam İşbirliği Teşkilatının yeni Genel Sekreteri olarak göreve başlayan kişi aşağıdakilerden hangisidir?
- A) Ekmeleddin İhsanoğlu  
B) İyad Medeni  
C) Mevlüt Çavuşoğlu  
D) Nebil El Arabi  
E) Ali El Dakbaaşı

59. 24 Mayıs 2013 tarihinde Londra'da düzenlenen 37. UEFA Kongresi'nde 54. üye olarak UEFA'ya kabul edilen ülke aşağıdakilerden hangisidir?
- A) Cebelitarık      B) San Marino  
C) Andora      D) Güney Sudan  
E) Faroe Adaları

60. Almanya'ya göçün resmileşmesinin 52. yılında Göç ve Uyumdan Sorumlu Devlet Bakanı olan ilk Türk kadın siyasetçi aşağıdakilerden hangisidir?
- A) Aydan Özoğuz  
B) Emine Ülker Tarhan  
C) Ruhsar Demirel  
D) Dilek Kolat  
E) Pervin Buldan