

# GENEL YETENEK

**DİKKAT: BU BÖLÜMDE YANITLAYACAĞINIZ SORU SAYISI 60'TIR.**

1-30 SORU : "Türkçeyi Kullanma Gücü"

30-60 SORU : "Matematiksel İlişkilerden Yararlanma Gücü" ile ilgilidir.

Bu bölümdeki sorularla ilgili cevaplarınızı, cevap kağıdınızdaki "**GENEL YETENEK**" bölümüne işaretleyiniz.

1. Başarılı olmayı sonuç almakla ---- doğrudur ancak sürekli olarak gözü sonuçta yaşamak insanın ---- olumsuz etkiler.

**Bu cümlede boş bırakılan yerlere sırasıyla aşağıdakilerden hangisi getirilebilir?**

- A) ilgilenmek - yaşamını
- B) birleştirmek - hayallerini
- C) orantılamak - duygularını
- D) bir tutmak - hedeflerini
- E) ölçmek - motivasyonunu

2. Sinema, edebiyatçıya ---- kaçınmayı ve gereksizlikleri ayıklamayı öğretiyor; çağımızın hızlı yaşayan insanın günlerce ---- okumaya ne sabrı ne de vakti var

**Bu cümlede boş bırakılan yerlere sırasıyla aşağıdakilerden hangisi getirilmelidir?**

- A) söz kalabalağından - sayfalar dolusu
- B) doğallıktan - senaryo
- C) hayal gücünden - gazete
- D) büyük konuşmaktan - kulak kabartmak
- E) özgünlükten - birbirinden bağımsız eserleri

3. Bir ödül için kendisini satan adam ne yazar olabilir ne insan. İnsan olunmadan yazar olunmaz. Bağımsızlık lazım, özgürlük lazım yazar olmak için çünkü sıradan insan değildir yazar. Kimseye oyuncak olmaz. Toplumun ona ihtiyacı vardır.

**Bu parçada altı çizili sözün yerine aşağıdaki deyimlerden hangisi getirilirse anlamda değişme olmaz?**

- A) ağzına bakmaz
- B) gölge etmez
- C) su koyuvermez
- D) baş eğmez
- E) çeki düzen vermez

4. Hayat, insan aklının düşünebileceğinden çok daha gariptir çünkü insan gerçekte basit olan şeyleri çoğu zaman hayal bile edemez.

**Bu cümleden aşağıdakilerden hangisine kesin olarak ulaşılabılır?**

- A) İnsan aklı gerçek yaşamda olan biten her şeyi kavrayamaz.
- B) Bireyin günlük hayatın sıradan gerçekliklerini akıl edememesi hayatı garip kılar.
- C) Bazı insanların kurduğu hayaller gerçeklikten uzaktır.
- D) Hayaller hiçbir zaman gerçek yaşamın akışını değiştiremez.
- E) Ulaşılması kolay hayaller seçmek, insanın başarılı olmasını sağlar.

5. Her şirketin imzasının arkasında durması iş hayatının ahlaksızlaşmaması için temel şartların başında gelir.

**Bu cümlede altı çizili sözle anlatılmak istenen aşağıdaki cümlelerin hangisinde vardır?**

- A) Bu insanların ağzından bir laf almak için yarım saat onlara dil döktük.
- B) Toplumun önde gelen insanların yapmayı vadettikleri şeyleri gerçekleştirme çok önemlidir.
- C) Milli bilincin oluşturulmadığı toplumların gelecek nesillere söyleyebileceği hiçbir sözü olamayacaktır.
- D) Çalışırken etik kurallara dikkat etmeyen firmaların piyasada tutulması, kök salması mümkün değildir.
- E) Ticaretin en iyisi, hiçbir kuralın varlığını kabul etmeden sürdürülmesiyle oluşur.

6. Bu soruya başkalarının ağzıyla (sözleriyle) karşılık ver-  
I  
meliyim. Bir süre önce şiirimizi göklere çıkarıp (yüceltip)  
II  
beylik taslayanlar hikayemize de el koymuşlardı (des-  
III  
tek olmuşlardı). Batı ile atbaşı (denk) gidiyor sözü, o  
IV  
günlerin türkülü masalıydı. Bugün iş değişti biraz, artık  
daha serinkanlı (sakin) yargılara varılıyor.  
V

**Bu parçada numaralanmış sözlerden hangisi ayraç içinde verilen sözün anlamını içermemektedir?**

- A) I. B) II. C) III. D) IV. E) V.

7. Biz daha çok Batı'ya bakıyoruz ama Azerbaycan'da bugün de büyük şairler yetişmektedir.

**Bu cümleden aşağıdakilerden hangisine kesin olarak ulaşılabılır?**

- A) Bütün iyi şairler Batı'da yetişmektedir.  
B) Azerbaycan'da eskiden olduğu gibi günümüzde de önemli şairler yetişmektedir.  
C) Şairlerin hepsi Azeri şiirinden, şiir anlayışından etkilenir.  
D) Batı şiirini takip eden Azeri şairler başarılı olmaktadır.  
E) Günümüz şairlerinin en iyileri Batı şiirini ciddiye almayan sanatçılar arasından çıkmıştır.

8. (I) Kıbrıs o kadar çok tarihi uygarlığa ev sahipliği yapmıştır ki bundan dolayı her köşesinde farklı medeniyetlere ait izler görmek mümkündür. (II) Salamis antik kenti de görüldüğünde hayranlık uyandıran yerlerden biridir. (III) Şehir, Bronz Çağı sonunda başlayan göçler ile Akalar tarafından kurulmuştur. (IV) Şehrin kurucusu Salamis Adası kralı Telamon'un oğlu Tefkros'tur. (V) Kıbrıs'ı almak isteyen Atinalı Kimon'un başarısız seferi sonunda ölmesi ile Atinalılar Ada'yı almaktan vazgeçmişlerdir.

**Bu parçadaki numaralanmış cümlelerle ilgili olarak aşağıdakilerden hangisi söylenemez?**

- A) I. cümlede, Kıbrıs'ta değişik medeniyetlere ait izler bulunmasının nedeni belirtilmiştir.  
B) II. cümlede, Salamis antik şehrinin büyük beğeni uyandırdığı söylenmiştir.  
C) III. cümlede, şehrin kurulduğu dönem ifade edilmiştir.  
D) IV. cümlede, antik kentin kurucusunun kim olduğu söylenmiştir.  
E) V. cümlede, Kıbrıs'ı fethetmek isteyen ilk topluluğun Atinalılar olduğu belirtilmiştir.

9. Uçak paraşütlerinin aksine yamaç paraşütlerinin kumaş kısmına paraşüt değil "kanat" veya "kanopi" denir. Paraşütün ön kısmında bulunan açıklıklardan uçuş sırasında hava dolmasıyla havadaki şişkin halini muhafaza eder. Bu kumaş özel polimerlerden üretilir ve üstü silikonla kaplanır. Hava geçirgenliği yeni bir kanatta hiç yoktur. Tamamen ıslanmadıkça su da geçirmez.

**Bu parçanın anlatımında aşağıdakilerin hangilerinden faydalanılmıştır?**

- A) Açıklama - karşılaştırma  
B) Tartışma - tanımlama  
C) Öyküleme - benzetme  
D) Kanıtlama - örnekleme  
E) Betimleme - kişileştirme

10. Her sanatçı yenilgiler yaşayarak bulur doğruyu. Bu korkuyu yaşamadan başarıya ulaşamaz zaten. Önemli olan o korkuya boyun eğmemek ve olgunluğa ulaşabilmektir. Gönül rahatlığıyla çalışan sanatçılara ihtiyacımız var. Kimsenin karışmadığı bağımsız çalışabilen sanatçılarımız olmalı. Bu sayede toplum her zaman ileriye doğru gidecektir.

**Bu parçada aşağıdakilerden hangisinden söz edilmiştir?**

- A) Başarısızlıkların sanatçıyı olgunlaştıracağına
- B) Sanatçının özgürce çalışabilmesi gerektiğine
- C) Sanatçının kaybetme korkusuna teslim olmaması gerektiğine
- D) Kaybetme korkusu yaşamayan sanatçıların başarılı olamayacağına
- E) Bağımsızca çalışan sanatçıların edebi değeri yüksek eserler vereceğine

11. Bir sanatçının yazmak için herhangi bir kaynağa ihtiyacı yoktur. Onu yazmaya itecek bir güç olmasa bile. Süslü bir içerik ya da biçim önemli değildir bence. Önemli olan verdiğim mesajdır. Bana yazmak için "söz" yeter. Sözler bitmedikçe yazmaya devam edeceğim.

**Bu parçada aşağıdakilerden hangisine değinilmiştir?**

- A) Yazarın ilhama ihtiyacı olmadığına
- B) Yazarın biçim kaygısı taşımadığına
- C) Eserlerinde mesaj vermeyi hedeflediğine
- D) Sanatçının yazmak için sadece söze ihtiyaç duyduğuna
- E) Konunun biçimden daha önemli olduğuna

12. Yazmak için de elbette yetenek gerekir. Yani doğuştan özellikleri olmalı yazacak kişinin. Ancak hiçbir yetenek süslenmedikçe, gelişmedikçe, kullanılmadıkça ilerlemez. Yeteneğin kaybolmaması için sürekli onun üzerine yoğunlaşılması gerekir. Her insanın bir şeye yeteneği vardır ancak herkes onu yaşatamaz.

**Bu parçada vurgulanmak istenen düşünce aşağıdakilerden hangisidir?**

- A) İnsan, yeteneğini kullanarak geliştirmeli ve onun yok olmasını engellemelidir.
- B) Hiçbir insana doğuştan yazarlık ya da şairlik yeteneği verilmemiştir.
- C) Yetenek denen şey sadece düzenli çalışmayla kazanılabilir.
- D) Yetenekli insanların başarılarını sürdürebilmesi için çok çalışmasına gerek yoktur.
- E) Yeteneğini doğru kullanabilmesi için süslenmesi şarttır.

13. Her zaman yazdım. Yazmadığım bir günüm bile olmadı. Ne istersem ne gördüysem onu yazdım. Çok saygı duyduğum bir büyüğüm onun gazetesinde yazmamı istedi, kıramadım onu, kabul ettim. Bir köşem var artık çok coşkulu ve mutluyum, diyecektim ki içim burkuldu bir anda. Bugüne kadar gönlüme göre davranıp yazmıştım. Kendi işimin sahibi gibiydim şimdi ise zorunluktan yazacağım.

**Bunları söyleyen bir sanatçının içini burkan aşağıdakilerden hangisidir?**

- A) Gazetecilik yapmak istememesi
- B) Her gün yazmanın zor olduğunu düşünmesi
- C) Yaptığı işten yeterince para kazanamayacak olması
- D) Her gün yazmaya mecbur kalması
- E) Gazetenin tirajının düşük olması

14. Sanatçı, bir söz söyler; halkın söyleyişini etkiler. Bir düşünce üretir, halkın fikirlerini yönlendirir. Bunları yapabilmek için sanatçı olur. Yaşananları halka tekrar tekrar yaşatır; onlara yanıtları, doğruları gösterir. Her okur onlarca düşünceye, bakış açısına sahip olur. Okuduğu metni yazanı anlar, ondan etkilenir. Böylece sanatçı büyür, her okunuştaki daha çok...

**Bu parçada anlatılmak istenen düşünce aşağıdakilerden hangisidir?**

- A) Okuduğu her yazıdan etkilenen kişiler belli bir sanat anlayışına sahip olamaz.
- B) Okur, her zaman yazarın anlattıklarından yola çıkarak yeni hayallere kavuşur.
- C) Farklı bakış açılarına sahip olamayanlar sanatçı olma şansını asla yakalayamaz.
- D) Bir yapıtı değerli kılan, okurun eserdeki kapalılığı anlamlandırmasıdır.
- E) Sanatçının hedefi, okuru üzerinde ve onun görüşleri ve seçimlerinde etkili olmaktır.

15. Herkes - belli bir birikime ve yeteneğe sahipse- sanat eseri ortaya koyabilir. Gezi yazısı yazabilir, bilimsel araştırma da yapabilir. Ancak tarihi eserler ortaya koymak bambaşkadır. Her insanın ulusal duyguları vardır. Gönülden bağlandığı ulusal dili vardır. Hep nesnel olmak ister tarihi yapıtı ortaya koyarken. Belgelere dayanmak ister. Yazdığından emin olmak ister. Bütün bunlar tarih yazıcılığını çok farklı bir hale getirir.

**Bu parçada asıl üzerinde durulan düşünce aşağıdakilerden hangisidir?**

- A) Tarihi eserlerin her olayı belgelemesi gerekir.
- B) Tarihi eser ortaya koymak diğer sanatları icra etmekten daha zordur.
- C) Tarihi roman yazarlarının hiçbiri eserini yazarken tamamen tarafsız davranamaz.
- D) Tarihi eserlerin, şiirdeki duygusallığı içinde barındırması mümkün değildir.
- E) Tarihi kitapların yazılabilmesi için nesnellikten tamamen uzak durulmalıdır.

16. Türkçenin en büyük şairlerinden biri, Farsçayı en iyi kullanan şairlerinden biri Genceli Nizami'dir. (I) O, dile öyle hakimdir ki hiçbir zaman duyguyu, düşünceyi olduğu gibi anlatmamıştır. (II) Sanatlara, mecazlara yer vermiş; süslemiştir eserlerini. (III) Bu yüzden tamamı yirmi dokuz bin altı yüz beyit tutan hamsesi her devirde okuyucu bulmuştur. (IV) Sanatçının en çok taklit edilen mesnevisi Leyla ve Mecnun olmuştur. (V) Arap hikayesidir ve asla bizim edebiyatımızdaki gibi bir derinliğe ve zenginliğe sahip değildir bu hikaye. (VI) Genceli Nizami bu hikayeyi hakkıyla işlemiş ve derleyip toplamıştır.

**Bu parça ikiye bölünmek istense ikinci paragraf numaralanmış cümlelerin hangisiyle başlar?**

- A) I.      B) II.      C) III.      D) IV.      E) V.

17. (I) Bu beyit bende insanın zamanın ağırlığı altında ezilişini çağırıyor. (II) Dikkat ediyorum bende iz bırakmış bir olayı, bir anıyı yıllar sonra hatırladığımda bu mısralar dökülüyor ağızımdan (III) Tabii tamamen bilinçsizce oluyor bu. (IV) Sanki bu iki mısraya hayatın "hem acı hem tatlı" anlamını yüklemeye çalışıyorum. (V) Büyük üstadı düşününce de bu dizeler geldi ağızıma yine. (VI) Hayatın içine bu kadar dalması, karışması büyüleyicidir edebiyatın. (VII) Galiba bu dizelerde onun yaşam felsefesini, edebi anlayışını da buluyorum.

**Bu parçada numaralanmış cümlelerin hangisi düşüncenin akışını bozmaktadır?**

- A) II.      B) III.      C) IV.      D) V.      E) VI.



22. Eğitim ve öğrenimi en iyi  $\frac{I}{I}$  en sağlam biçimde yapmak

başka bir şeydir  $\frac{II}{II}$  sömürüden kurtulmak başkadır  $\frac{III}{III}$

Ekonomi  $\frac{IV}{IV}$  'de ve teknolojiye ilerlemiş ülkelerde her şey

rayına oturmuş mudur  $\frac{V}{V}$ ?

**Bu parçada numaralanmış noktalama işaretlerinden hangisi yanlış kullanılmıştır?**

- A) I. B) II. C) III. D) IV. E) V.

23. Aşağıdaki cümlelerin hangisinde yazım yanlışı vardır?

- A) Eserlerinde gerçeklere sadık kalır, hayale pek yüz vermezdi.  
 B) İmge olmadan şiir ve roman yazmanın imkansız olduğunu iyi biliyordu.  
 C) Bir tarihçi gibi gerçeklerle, bir şair gibi hayallerle içiçe yaşadı.  
 D) Yaşamını romanlaştırıp güçlü bir üslup kurmayı da başardı  
 E) Hayata bakarak kurduğu hayallerle yeni hayatlar kurgulayıp romanlar yazdı.

24. (I) Okuma alışkanlığına sahip olmayan insanların bulunduğu bir alanda yaşıyoruz. (II) Bu insanlara, insanımıza, eğlenmek, öğrenmekten daha cazip geliyor. (III) Belki de öğrenme ile eğlenmeyi bir araya getirip kendi kültürüne yabancı kalmayan insanlar yetiştirebiliriz. (IV) Toplumda sağlam bir tarih bilinci uyandırmak ve uygun davranmak bunun en önemli şartıdır. (V) Bu şartı yerine getirdiğimizde her kültüre katkıda bulunacak gençlerimizin sayısı artacaktır.

**Bu parçada numaralanmış cümlelerden hangisinde çatı özellikleri aranmaz?**

- A) I. B) II. C) III. D) IV. E) V.

**25. – 27. SORULARI AŞAĞIDAKİ PARAGRAFA GÖRE CEVAPLAYINIZ.**

(I) Bir sanatçının başarılı olup geleceğini kurabilmesi için yaşadığı zamanın gün, ay, mevsim gibi kavramlarının ötesine gitme zorunluluğu vardır. (II) Geçmişte yaptığı hataların etkilerinden de uzak kalmamalıdır. (III) Eğer böyle yapmazsa her yeni kuşak daha, öncükilerin deneme yanılma yoluyla acı çekerek bulduklarını aynı yolla bulmak zorunlu kalacaktır. (IV) Bunu yapamazsa da toplumun yaşamadığı bunalımları yaşıyormuş gibi davranmakla büyük sanat ürünleri ortaya koyacağını sanacaktır. (V) Bu da bir aldanıştan başka bir şey değildir.

25. Bu parçaya göre, sanat eseri meydana getirmek için sanatçıların yapması gereken aşağıdakilerden hangisidir?

- A) Her dönemde özgünlüğünü korumalıdır.  
 B) Geçmişteki hataları yapıtlarına konu olarak almalıdır.  
 C) Sürekli aynı konularda yazı yazmayı bırakmalıdır.  
 D) Yaşamadığı konularda bile bir şeyler yazabilmelidir.  
 E) Yapıtlarını geçmişteki hatalardan uzak durup geleceği düşünerek kaleme almalıdır.

26. Bu parçayla ilgili aşağıdakilerden hangisi söylenmez?

- A) İsim cümlelerine yer verilmiştir.  
 B) Koşul ifade eden cümleye yer verilmiştir.  
 C) Devrik cümleler kullanılmıştır.  
 D) Gereklilik anlamı taşıyan cümle kullanılmıştır.  
 E) Yazar, kendi görüşlerine yer vermiştir.

27. Bu parçada numaralanmış cümlelerin hangisinde bir çıkarım yapılmıştır?

- A) I. B) II. C) III. D) IV. E) V.

28. – 30. SORULARI AŞAĞIDAKİ PARAGRAFA GÖRE CEVAPLAYINIZ.

Bir pazar günü Ahmet, Bekir, Hasan adlı erkeklerle, Cemre, Derya, Emel, Funda adlı kızlar sinema, tiyatro ya da maça gitme seçeneklerinden birini tercih etmiştir. Bu kişilerin tercihleriyle ilgili olarak aşağıdaki bilgiler verilmiştir.

- Emel sinemaya gitmiştir.
- Bekir, Cemre ile aynı yere gitmiştir; Derya ise onlardan farklı bir yere gitmiştir.
- Tiyatroya yalnızca iki kız gitmiştir.
- İki erkek, biri kız olmak üzere üç kişi maça gitmiştir.

28. Bu bilgilere göre, aşağıdakilerden hangisi **kesinlikle** doğrudur?

- A) Derya maça gitmiştir.
- B) Ahmet maça gitmiştir.
- C) Funda sinemaya gitmiştir.
- D) Hasan ve Bekir maça gitmişlerdir.
- E) Emel ve Cemre farklı yerlere gitmişlerdir.

29. Aşağıdakilerden hangisi **kesinlikle yanlıştır**?

- A) Hasan maça gitmiştir.
- B) Ahmet sinemaya gitmiştir.
- C) Bekir ve Cemre sinemaya gitmişlerdir.
- D) Ahmet ve Emel farklı yerlere gitmişlerdir.
- E) Hasan ve Funda farklı yerlere gitmişlerdir.

30. Aşağıdakilerden hangisinin nereye ve kimlerle gittiği **kesin olarak** bilinmektedir?

- A) Ahmet
- B) Hasan
- C) Cemre
- D) Derya
- E) Emel

$$31. \frac{6}{7} \cdot \left( \frac{4}{3} - \frac{3}{4} \right) - \left( \frac{4}{3} - \frac{6}{5} \right) : \frac{5}{2}$$

işleminin sonucu kaçtır?

- A)  $\frac{1}{2}$
- B)  $\frac{1}{3}$
- C)  $\frac{1}{4}$
- D)  $\frac{1}{5}$
- E)  $\frac{1}{6}$

$$32. \frac{6,8}{0,17} + \frac{0,01}{0,005} - \frac{x,y}{0,xy}$$

işleminin sonucu kaçtır?

- A) -4
- B) 4
- C) 20
- D) 32
- E) 40

33.  $\triangle x = \{x \text{ sayısından küçük ardışık tek doğal sayıların toplamı}$

$\odot y = \{y \text{ sayısından küçük ardışık çift doğal sayıların toplamı}$

olarak tanımlanıyor.

Buna göre,  $(24) - (20)$  işleminin sonucu kaçtır?

- A) 28
- B) 32
- C) 34
- D) 36
- E) 38

34.  $14^{-3} \cdot (21^3 - 28^3 + 35^3)$

işleminin sonucu kaçtır?

- A) 2 B) 7 C) 9 D) 11 E) 14

35.  $\left[ (\sqrt{7} + \sqrt{6})^5 \cdot (\sqrt{7} - \sqrt{6})^6 + \sqrt{6} \right]^3$

işleminin sonucu kaçtır?

- A) 36 B)
- $\sqrt{6}$
- C)
- $6\sqrt{6}$
- 
- D) 49 E)
- $7\sqrt{7}$

36.  $66^a = 11^{a+b}$

olduğuna göre,  $11^{\frac{b}{a}}$  ifadesinin değeri kaçtır?

- A) 11 B) 6 C) 3 D) 2 E) 1

37.  $a^2 - a = 1$

olduğuna göre,  $a^4 - 2$  ifadesinin  $a$  türünden değeri aşağıdakilerden hangisidir?

- A)
- $2a$
- B)
- $3a$
- C)
- $3a - 1$
- 
- D)
- $2a - 3$
- D)
- $3a + 2$

38.  $x$  pozitif tam sayısının pozitif bölenleri ile ilgili aşağıdaki bilgiler verilmektedir.

- En az iki tanesi 5 ten büyüktür.
- 3 tanesi tek sayıdır.

Buna göre,  $x$  sayısı en az kaçtır?

- A) 12 B) 15 C) 18 D) 27 E) 30

39.  $|x^2 + x - 6| - 7|x - 2| = 0$

eşitliğini sağlayan  $x$  değerlerinin toplamı kaçtır?

- A)
- $-7$
- B)
- $-6$
- C)
- $-4$
- D)
- $-2$
- E) 0



40. A ve B birbirinden farklı asal sayılar olmak üzere,

$$A^B \cdot B^A$$

sayısının pozitif tam sayı bölen sayısı en az kaçtır?

- A) 6      B) 12      C) 15      D) 18      E) 24

41. Bir sınıftaki öğrencilerin sıralara oturmasıyla ilgili aşağıdaki bilgiler verilmiştir.

- Öğrenciler sıralara 2'şerli oturduğunda 9 öğrenci ayakta kalıyor.
- Öğrenciler sıralara 3'erli oturduğunda 4 sıra boş kalıyor, bir sırayada 1 öğrenci oturuyor.

Buna göre, sınıf mevcudu kaçtır?

- A) 46      B) 48      C) 49      D) 51      E) 55

42. Ardışık iki tek doğal sayının okek'leri ile obeb'lerinin toplamı 36 dır.

Bu sayıların toplamı kaçtır?

- A) 8      B) 12      C) 16      D) 20      E) 24

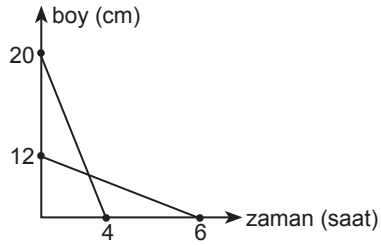
43. Bir kırtasiyede satılan ürünlerin fiyatlarıyla ilgili aşağıdaki bilgiler verilmektedir.

- 3 kalem ve 4 defterin fiyatı 2.A TL
- 1 kalem ve 3 defterin fiyatı 3.B TL'dir.

Buna göre, kırtasiyeden 1 kalem ve 1 defter alan bir kişinin ödediği paranın A ve B türünden ifadesi aşağıdakilerden hangisidir?

- A)  $2.A - 3.B$       B)  $\frac{4.A - 3.B}{2}$       C)  $\frac{4.A - 3.B}{5}$   
D)  $\frac{3.B - 2.A}{4}$       E)  $\frac{4.A - 3.B}{3}$

44. Aşağıdaki grafik iki mumun boylarının zamana göre değişimini göstermektedir.



İki mum aynı anda yakılıyor.

Buna göre, kaç saat sonra mumların boyu eşit olur?

- A)  $\frac{5}{3}$       B) 2      C)  $\frac{7}{3}$       D)  $\frac{8}{3}$       E) 3

$$45. (2^2 + 1) \cdot (2^4 + 1) \cdot (2^8 + 1) \cdot (2^{16} + 1) = \frac{2^x - 1}{3}$$

olduğuna göre,  $\sqrt{x + 4} - x$  ifadesinin değeri kaçtır?

- A) -26      B) -24      C) -20  
D) -18      E) -14

46. Poyraz, okuduğu kitapta kaldığı sayfa numaralarını her günün sonunda yazarak aşağıdaki tabloyu oluşturmuştur.

P.tesi	Salı	Çarş.	Perş.	Cuma	C.tesi	Pazar
50	75	107	135	160	190	225

Buna göre Poyraz bu kitaptan Salı, Perşembe ve Cumartesi günleri toplam kaç sayfa okumuştur?

- A) 80 B) 83 C) 86 D) 90 E) 93

**47. VE 48. SORULARI AŞAĞIDAKİ BİLGİLERE GÖRE CEVAPLAYINIZ.**

Bir robotun düz bir yolda yürümesi 7 adım ileri 3 adım geri olarak tasarlanmıştır.

47. Robot toplam 125 adım attığında başladığı noktadan kaç adım ilerlemiş olur?

- A) 48 B) 53 C) 55 D) 57 E) 58

48. Robotun başladığı noktadan 65 adım ilerlemesi için en az kaç adım atması gerekir?

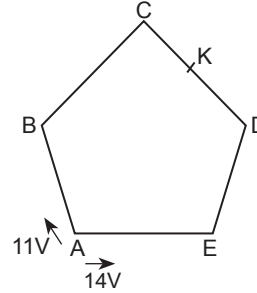
- A) 152 B) 153 C) 154 D) 155 E) 161

49. Çarşamba günlerinin, perşembe günlerinden fazla olduğu bir mart ayında 29 mart hangi gündür?

(Mart ayı 31 gündür)

- A) Pazartesi B) Salı  
C) Çarşamba D) Perşembe  
E) Cuma

- 50.



Şekildeki ABCDE düzgün beşgenin A köşesinde bulunan iki hareketliden biri B'ye doğru saatte 11V hızıyla diğeri ise E'ye doğru saatte 14V hızıyla harekete başlıyorlar ve ilk kez [CD] arasında K noktasında karşılaşırlar.

$$|KC| = 20 \text{ m}$$

Yukarıda verilen bilgilere göre, beşgenin çevresi kaç metredir?

- A) 400 B) 450 C) 500  
D) 550 E) 600

51. Boş bir havuzu tek başına 1. musluk 8 günde 2. musluk 12 günde doldurmaktadır. 1. musluktan akan su miktarı 2 katına çıkarılıp, 2. musluktan akan su miktarı yarıya düşürülüyor. Havuz boş iken iki musluk birlikte iki gün su akıttıktan sonra 1. musluk kapatılıyor.

Buna göre, havuzun geriye kalan kısmını 2. musluk tek başına kaç günde doldurur?

- A) 6 B) 7 C) 8 D) 9 E) 10

52. Aynı model bir cep telefonun 8 tanesinin satışından elde edilen kâr, bu telefonun 3 tanesinin maliyet fiyatına eşittir.

**Buna göre, bu telefon yüzde kaç kârla satılmıştır?**

- A) 22,5                      B) 30                      C) 32,5  
D) 35                      E) 37,5

53. a, b, 7, c, d sayıları bir aritmetik dizinin ardışık beş terimidir.

**Buna göre, a + b + c + d toplamı kaçtır?**

- A) 14      B) 21      C) 28      D) 35      E) 42

54. Basamaklarından sadece bir tanesinde 7 rakamı bulunan 3 basamaklı kaç doğal sayı yazılabilir?

- A) 225                      B) 240                      C) 250  
D) 275                      E) 280

55. Bir hastanede bulunan doktor ve hasta bakıcı sayısı ile aşağıdaki bilgiler verilmektedir.

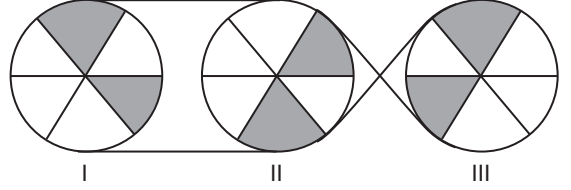
- Hastanede 4 tane bayan hasta bakıcı bulunmaktadır.
- Doktor sayısı, hasta bakıcı sayısının 10 katından 2 fazladır.

**Bu hastanede toplam 90 kişi bulunduğuna göre, erkek hasta bakıcı sayısı kaçtır?**

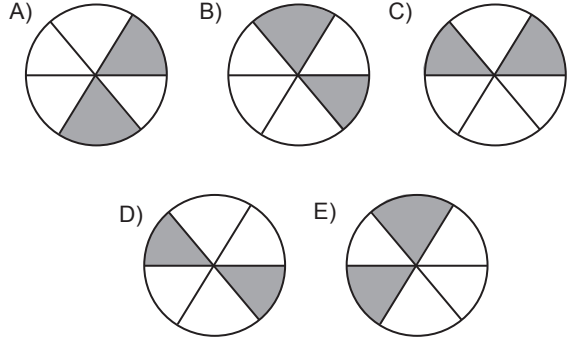
- A) 6      B) 5      C) 4      D) 3      E) 12

**56. VE 57. SORULARI AŞAĞIDAKİ BİLGİLERE GÖRE CEVAPLAYINIZ.**

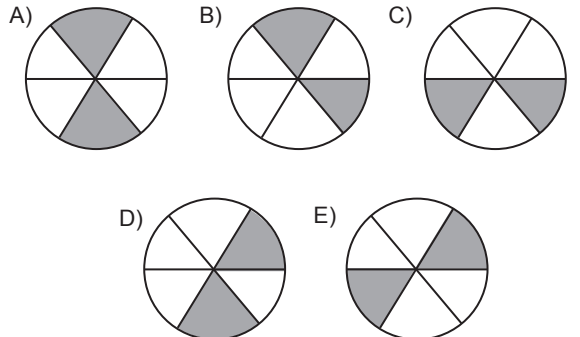
Birbirine eş üç daire, altı eşit parçaya ayrılmış ve aşağıda gösterildiği gibi birbirine bağlanmıştır.



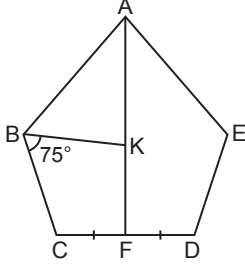
56. I. daire merkezi etrafında saat yönünde  $240^\circ$  döndürüldüğünde II. daire aşağıdakilerden hangisi olur?



57. II. daire merkezi etrafında saat yönünün tersine  $120^\circ$  döndürülürse III. daire aşağıdakilerden hangisi olur?



58.



ABCDE düzgün beşgen

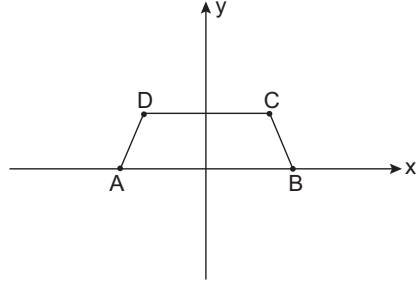
$$|CF| = |FD|$$

$$m(\widehat{KBC}) = 75^\circ \text{ dir.}$$

Yukarıdaki verilere göre,  $m(\widehat{BKF})$  kaç derecedir?

- A) 81    B) 87    C) 93    D) 97    E) 103

60.



$$A(-4,0)$$

$$B(4,0)$$

$$C(3,2)$$

$$D(-3,2)$$

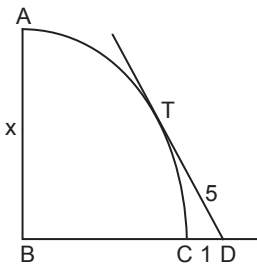
ABCD yamuğu y eksenini etrafında  $180^\circ$  döndürülüyor.

Buna göre, oluşan şeklin hacmi kaç  $\pi \text{ cm}^3$  tür?

- A)  $\frac{58}{3}$     B) 23    C)  $\frac{70}{3}$     D) 24    E)  $\frac{74}{3}$

www.yaklasimkitap.com

59.



B merkezli çeyrek çemberde T teğet noktasıdır.

$$|DT| = 5 \text{ cm}$$

$$|CD| = 1 \text{ cm}$$

Yukarıdaki verilere göre  $|AB| = x$  kaç cm dir?

- A) 6    B) 8    C) 10    D) 12    E) 15

GENEL YETENEK TESTİ BİTTİ.  
GENEL KÜLTÜR TESTİNE GEÇİNİZ.

# GENEL KÜLTÜR

**DİKKAT: BU BÖLÜMDE YANITLAYACAĞINIZ SORU SAYISI 60'TIR.**

1-27 SORU : "Atatürk İlkeleri ve İnkılap Tarihi" ile "Türk Kültür ve Medeniyetleri"

28-45 SORU : "Türkiye Coğrafyası"

46-60 SORU : "Temel Yurttaşlık Bilgisi ve Güncel Konular" ile ilgilidir.

Bu bölümdeki sorularla ilgili cevaplarınızı, cevap kağıdınızdaki "**GENEL KÜLTÜR**" bölümüne işaretleyiniz.

1. Aşağıdaki Türk devletlerinden hangisinin diğerlerine göre daha çok hukuk vesikaları bıraktığı söylenebilir?

- A) Göktürkler B) Hunlar C) Türgişler  
D) Uygurlar E) Avarlar

2. Malazgirt Savaşı'ndan sonra Anadolu'da Büyük Selçuklu Devleti'ne bağlı pek çok devletin ortaya çıkmasında;

- I. Hükümdara devleti yönetme yetkisini halife tarafından verilmesi,  
II. Bizansın güçlü devletlerin kurulmasına imkan vermemesi,  
III. Fethedilen toprağın fethedenin malı olması durumlarından hangileri etkili olmuştur?

- A) Yalnız I B) Yalnız II C) Yalnız III  
D) I ve II E) II ve III

3. Aşağıdakilerden hangisi Türk-İslam devletlerinde görülen İktidar Sisteminin özellikleri arasında gösterilemez?

- A) Elde edilen gelire hazinenin nakit ihtiyacının karşılanması  
B) İktidar sahibinin asker yetiştirmek zorunda olması  
C) Devlet memurlarına maaş karşılığı verilmesi  
D) Üretimde sürekliliğin sağlanması  
E) İmar faaliyetlerini desteklemesi

4. Aşağıda verilen padişah ve mahlas (takma ad) eşleştirmelerinden hangisi yanlıştır?

- A) II. Mehmet – Avni  
B) I. Süleyman – Muhibbi  
C) III. Selim – İlhami  
D) II. Mahmud – Adli  
E) II. Abdülhamid – Fahrüddin

5. Osmanlı Devletindeki;

- I. şehzadelerin sancağa yönetici olarak gönderilmesi,  
II. beşik ulemalığı sisteminin uygulanması,  
III. ıslahatların yapılmasında Batılı uzmanlardan yararlanılması

gelişmelerden hangileri pozitif bilimlere verilen önemin azalmasına neden olmuştur?

- A) Yalnız I B) Yalnız II C) Yalnız III  
D) I ve II E) II ve III

6. Osmanlı Devletinde kalemiye sınıfı;

- I. iç ve dış yazışmaların yapılması,  
II. toprakların dağıtılması,  
III. ordunun sefere hazırlanması

görevlerinden hangilerinden sorumludur?

- A) Yalnız I B) Yalnız II C) Yalnız III  
D) I ve II E) II ve III

7. I. Gayrimüslimlerin askerlik yapabilmesi  
II. İlk bankaların kurulması  
III. İlk resmi gazetenin çıkarılması  
**Yukarıdakilerden hangileri Tanzimat Dönemi'nde yaşanan gelişmeler arasında yer almaz?**

A) Yalnız I      B) Yalnız II      C) Yalnız III  
D) I ve II      E) II ve III

8. Osmanlı Devleti'nde aşağıdakilerden hangisi I. Meşrutiyet'in ilan edilmesi için çalışmıştır?

A) Yeniçeriler      B) Ulema  
C) Medreseliler      D) Genç Osmanlılar  
E) İttihatçılar

9. Sened-i İttifak'ın imzalanmasıyla ayanlar,

I. merkezi otoriteyi korumaya yardımcı olacakları,  
II. padişaha bağlı kalacakları,  
III. veraset sisteminde düzenleme yapacakları

**yukarıdakilerden hangileriyle ilgili söz vermişlerdir?**

A) Yalnız I      B) Yalnız II      C) Yalnız III  
D) I ve II      E) II ve III

10. I. Ayanlar Meclisi'nin açılması  
II. Uluslararası anlaşmaların meclise sunulma zorunluluğu  
III. Parti ve cemiyet kurmanın serbest bırakılması  
**Yukarıdakilerden hangileri 1909 yılında anayasada yapılan değişiklikler arasında yer alır?**

A) Yalnız I      B) Yalnız II      C) Yalnız III  
D) I ve II      E) II ve III

11. İstanbul Hükümeti'nin Temsil Kurulu'nu tanıdığına,  
I. Amasya Görüşmelerinin yapılması,  
II. Londra Konferansı'na temsilci gönderilmesi,  
III. Sivas Kongresi'nin toplanması  
**gelişmelerinden hangileri kanıt olarak gösterilebilir?**

A) Yalnız I      B) Yalnız II      C) Yalnız III  
D) I ve III      E) II ve III

12. I. İrade-i Milliye Gazetesinin çıkarılması  
II. Ali Galip Olayı  
III. Anayasanın hazırlanması

**Yukarıdakilerden hangileri Sivas Kongresi ile ilgili değildir?**

A) Yalnız I      B) Yalnız II      C) Yalnız III  
D) I ve II      E) II ve III

13. Aşağıdakilerden hangisi Türk ordularının Sakarya Nehri'nin doğusuna çekilmesinin sonuçlarından biridir?

A) İtalya'nın Anadolu'yu boşaltması  
B) Tekalif-i Milliye Emirlerinin yayınlanması  
C) Malta'daki esirlerin serbest bırakılması  
D) Doğu sınırının kesinlik kazanması  
E) İstiklal Marşı'nın kabul edilmesi

14. I. TBMM, Kurtuluş Savaşı sırasında kaynak sağlamak amacıyla çıkardığı ilk kanun aşağıdakilerden hangisidir?

A) Nisab-ı Müzakere Kanunu  
B) Başkomutanlık Kanunu  
C) Ağnam vergisinin artırılmasına ilişkin kanun  
D) Tekalif-i Milliye Emirleri  
E) Hiyanet-i Vataniye Kanunu

15. I. Kapitülasyonlar  
II. Boğazlar  
III. Azınlıklar

**Lozan'la yukarıdakilerden hangileri TBMM'nin egemenlik anlayışına uygun bir şekilde çözümlenmiştir?**

- A) Yalnız I      B) Yalnız II      C) Yalnız III  
D) I ve III      E) I, II ve III

16. I. İlk muhalefet partisi olması  
II. Kazım Karabekir başkanlığında kurulması  
III. Laiklik ilkesini kötüye kullanması

**Yukarıdakilerden hangileri Terakkiperver Cumhuriyet Partisi'nin özellikleri arasında yer alır?**

- A) Yalnız I      B) Yalnız II      C) Yalnız III  
D) I ve II      E) I, II ve III

17. Aşağıdaki devrim hareketlerinden hangisi Avrupa ile olan kültürel etkileşimi hızlandırmıştır?

- A) Şapka kanununun kabulü  
B) Latin alfabesinin kabulü  
C) Tekke zaviye ve türbelerin kapatılması  
D) Soyadı Kanunu  
E) Saltanatın kaldırılması

18. Tevhid-i Tedrisat Kanununun kabulü ile;

- I. yabancı okullar,  
II. medreseler,  
III. azınlık okulları

**kurumlarından hangileri Milli Eğitim Bakanlığı'na bağlanmıştır?**

- A) Yalnız I      B) Yalnız II      C) Yalnız III  
D) I ve III      E) I, II ve III

19. Aşağıdakilerden hangisi 1929 Dünya Ekonomik bunalımından Türkiye'yi en az zararlar kurtarmak amacıyla ekonomik politikalar geliştirmek için kurulmuştur?

- A) Terakkiperver Cumhuriyet Halk Fırkası  
B) Cumhuriyet Halk Fırkası  
C) Serbest Cumhuriyet Fırkası  
D) Ahali Fırkası  
E) Amele ve Çiftçi Fırkası

20. Atatürk Nutuk adlı eserinde "uygulamayı bir takım evrelere ayırmak ve adım adım ilerleyerek, amaca ulaşmaya çalışmak gerekiyordu" diyerek,

- I. inkılapların belli bir süreç içinde yapılacağını,  
II. devrimlerin alt yapısı hazırlanmadan gerçekleşeceğini,  
III. halkın isteklerine önem verilmeyeceğini
- yukarıdakilerden hangilerini vurgulamıştır?**

- A) Yalnız I      B) Yalnız II      C) I ve II  
D) II ve III      E) I, II ve III

21. I. Din adamlarının ibadet kıyafetiyle sokakta dolaşmalarının engellenmesi  
II. Tekke, zaviye ve türbelerin kapatılması  
III. Eğitim ve öğretimin birleştirilmesi

**Yukarıdakilerden hangileri halifeliğin kaldırıldığı gün yaşanan gelişmeler arasında yer almaktadır?**

- A) Yalnız I      B) Yalnız II      C) Yalnız III  
D) I ve II      E) II ve III

22. I. Bakanların tek tek Meclis içinden seçilmesi  
II. Meclis Başkanı'nın hükümetin de başkanı olması  
III. Devlet başkanının hükümet başkanını belirlemesi  
**Yukarıdaki uygulamalardan hangilerine 1921 Anayasası'nda yapılan 1923 değişikliğiyle son verilmiştir?**

A) Yalnız I      B) Yalnız II      C) I ve II  
D) II ve III      E) I, II ve III

23. 1924 Anayasası'nda 1928 yılında yapılan değişiklikle "Devletin dini İslam'dır" maddesinin çıkarılması,

- I. devletin inançlara eşit mesafede yaklaşmasını sağlama,  
II. anayasayı laik hale getirme,  
III. çok partili hayata geçme

**amaçlarından hangilerini sağlamaya yönelik değildir?**

A) Yalnız I      B) Yalnız II      C) Yalnız III  
D) I ve III      E) I, II ve III

24. Cumhuriyet'in ilk yıllarında çıkarılan Teşvik-i Sanaî Kanunu'ndan istenilen sonucun alınamaması üzerine,

- I. temel tüketim mallarının devlet eliyle üretilmesi,  
II. yabancı sermayenin işbirliğinin sağlanması,  
III. özel girişimcinin yatırım olanaklarının sınırlandırılması  
**yöntemlerinden hangileri uygulanmıştır?**

A) Yalnız I      B) Yalnız II      C) Yalnız III  
D) I ve II      E) II ve III

25. "Millî egemenlik esası üzerinde idare edilen medeni devletlerde, kabul edilmiş ve fiilen geçerli bulunan esas, milletin genel isteklerini en çok temsil eden ve bu isteklerin bağlı olduğu menfaat ve gerekleri, en yüksek kudretle ve salâhiyetle yapabilecek siyasi grubun, devlet işlerinin idaresini üstüne alması ve bu mesuliyeti en yüksek liderinin omuzuna bırakması prensibinden ibaretir" **diyen Atatürk,**

- I. hükümetin parlamento içinde sağlam bir çoğunluğa dayanmasının,  
II. meclis içinde muhalefet grubunun baskı altına alınmasının,  
III. zayıf bir hükümet kurulması ve onun partinin liderinin emir ve öğütleriyle çalışmasının

**yukarıdakilerden hangilerini vurgulamıştır?**

A) Yalnız I      B) Yalnız II      C) Yalnız III  
D) I ve II      E) II ve III

26. II. Dünya Savaşı'ndan sonra Türkiye,

- I. Kore,  
II. Vietnam,  
III. Körfez

**savaşlarından hangilerine asker göndermiştir?**

A) Yalnız I      B) Yalnız II      C) Yalnız III  
D) I ve II      E) II ve III

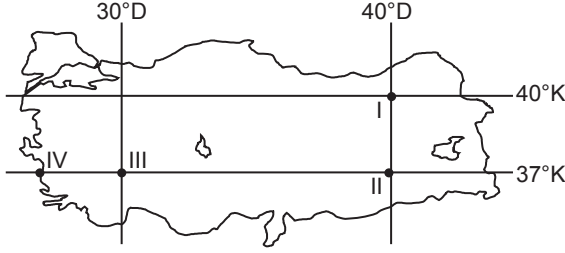
27. I. 1876 Kanun-i Esasi  
II. 1921 Teşkilat-ı Esasi  
III. 1961 Anayasası  
IV. 1982 Anayasası

**Yukarıdakilerden hangilerinde tek meclis uygulaması esas alınmıştır?**

A) Yalnız I      B) Yalnız II      C) I ve III  
D) II ve IV      E) I, II ve IV



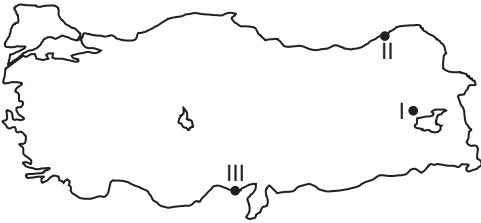
28. Aşağıdaki Türkiye haritasında dört ayrı nokta verilmiştir.



Buna göre verilen noktalarla ilgili aşağıdakilerden hangisi söylenemez?

- A) 21 Haziran günü güneşin en erken doğduğu nokta I'dir.  
 B) I. ve II. numaralı noktalarda yerel saat daima aynıdır.  
 C) IV. noktada çizgisel hız I. noktadan daha fazladır.  
 D) 23 Eylül günü II. noktada güneş doğduktan 12 saat 40 dakika sonra III. noktada batar.  
 E) I. ve II. noktada güneş yıl boyunca aynı anda doğup aynı anda batar.

29. Coğrafya öğretmeni öğrencilerden Mert'e volkanik dağların oluşumunu, Ali'ye falez oluşumunu, Zümra'ya ise delta oluşumunu incelemeleri için araştırma konusu vermiştir.



Buna göre Mert, Ali ve Zümra'nın araştırma yapmaları için belirleyecekleri yerler aşağıdakilerden hangisi olmalıdır?

	Mert	Ali	Zümra
A)	I	II	III
B)	I	III	I
C)	II	I	III
D)	II	III	I
E)	III	I	II

30. Bir akarsuyun taşkın yapabilmesi için eğimin az olduğu geniş tabanlı vadilerden akması gerekir.

Buna göre, aşağıdaki akarsulardan hangisini taşkın yapma olasılığı daha yüksektir?

- A) Kızılırmak  
 B) Gediz  
 C) Çoruh  
 D) Aras  
 E) Zap Suyu

31. Yerkabuğunun geniş alanlarında alçalma ve yükselme şeklinde yavaş olarak meydana gelen kıta oluşum hareketlerine epirojenez denir.

Aşağıdakilerden hangisi Türkiye'de epirojenez hareketlerine örnek olduğu söylenemez?

- A) Ege karasının çökmesi  
 B) İç Anadolu'da platolara rastlanması  
 C) Ergene havzasının her yıl alçalmaya devam etmesi  
 D) Doğu Anadolu Bölgesi'nde sönmüş volkanik dağlara rastlanması  
 E) Anadolu Yarımadasının toptan yükselmesi

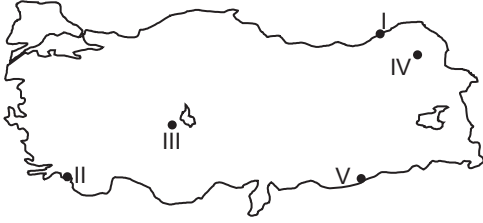
32. Bağıl nem; mutlak nem ile doğru, maksimum nem ile ters orantılıdır.



Buna göre, yukarıdaki Türkiye haritasında verilen noktaların mutlak nem miktarları aynı olduğu kabul edilirse hangisinde ocak ayında bağıl nem oranının daha yüksek olduğu söylenebilir?

- A) I  
 B) II  
 C) III  
 D) IV  
 E) V

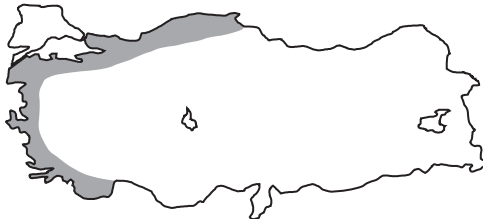
33. I. gözlemci bulunduğu yörede yazların sıcak ve kurak, kışların soğuk ve sert geçtiğini  
II. gözlemci ise bulunduğu yörede yazların yağmurlu, kışların kar yağışlı ve soğuk geçtiğini söylemektedir.



Buna göre, I. ve II. gözlemcinin Türkiye haritasında numaralandırılmış yörelerden hangisinde bulunduğu söylenebilir?

- |    | I. Gözlemci | II. Gözlemci |
|----|-------------|--------------|
| A) | I           | II           |
| B) | II          | III          |
| C) | III         | IV           |
| D) | III         | V            |
| E) | IV          | V            |

34.



Yukarıda verilen taralı alanlardan aşağıdaki köyaltı yerleşmelerinden hangisine rastlanmaz?

- A) Divan                      B) Yayla                      C) Çiftlik  
D) Dalyan                      E) Kom

35. Herhangi bir yerin büyümesinde ulaşım hizmetlerinin etkili olduğu, önemli kavşak ve işlek yollar üzerinde yer alan şehirlere ulaşım şehri denir. Bu tip şehirlere ikincil ve üçüncül ekonomik faaliyetlerde gelişmiştir.

Aşağıdakilerden hangisi bu şehirlere örnek gösterilemez?

- A) Samsun                      B) Ankara  
C) Afyonkarahisar              D) Ardahan  
E) Gaziantep

36. Türkiye'nin nüfus artış hızının gösterildiği bir grafik incelenirse aşağıdaki bilgilerden hangisine ulaşamaz?

- A) Aritmetik nüfus yoğunluğunun en fazla ve en az olduğu yıllara  
B) Nüfus miktarının en az ve en fazla olduğu yıllara  
C) Fizyolojik nüfus yoğunluğunun bölgelere göre dağılımına  
D) Nüfus artış hızının ortalamasına  
E) Nüfus artış hızının düşüş gösterdiği yıllara

37. Aşağıdaki tabloda 2000 yılı nüfus sayımına göre Türkiye'nin coğrafi bölgelerindeki; erkek, kadın ve toplam nüfus içindeki okur-yazar nüfus oranları verilmiştir.

Bölge	Okur-Yazar Nüfus Oranı (%)		
	Erkek	Kadın	Toplam
P	94	82	88
O	92	77	85
Y	91	77	84
R	89	73	81
A	88	70	79
Z	81	55	68
S	76	45	60

Buna göre; yukarıda verilen bölgelerle ilgili olarak aşağıdakilerden hangisi söylenebilir?

- A) Verilen bütün bölgelerde erkek nüfus miktarı kadın nüfus miktarından fazladır.  
B) P bölgesindeki nüfus yoğunluğu S bölgesinden fazladır.  
C) Okur-yazar kadın nüfus oranı en az olan S ve Z bölgesidir.  
D) O ve Y bölgelerinde kadın nüfus miktarı aynıdır.  
E) O bölgesinde kadın okur yazar oranı A ve Z bölgesindeki kadın okur yazar oranının toplamından fazladır.

38. Karadeniz sahil yolu Samsun'dan başlayıp Gürcistan'a kadar devam eden yaklaşık 550 kilometrelik bir şeridi kapsar. Bu yol 6 il, 63 ilçe ve 9 liman ve bir çok yerleşim birimine hizmet vermektedir.

**Aşağıdaki illerden hangisi üzerinden Karadeniz sahil yolunun geçtiği söylenemez?**

- A) Giresun      B) Ordu      C) Trabzon  
D) Tokat      E) Artvin

39. Türkiye'nin turizm özellikleriyle ilgili aşağıdaki bilgilerden hangisi yanlıştır?

- A) Sivas (Divriği)'ta bulunan Ulu Camii Unesco dünya kültür mirası listesine alınan önemli turistik yerlerden biridir.  
B) Nevşehir'te bulunan peribacaları akarsu ve rüzgar aşındırması sonucu oluşmuştur.  
C) Gaziantep'te bulunan Zeugma Mozaik Müzesi Dünya'nın en büyük mozaik müzesi olma özelliği taşımaktadır.  
D) Gediz nehri Türkiye'de rafting turizminin geliştiği önemli akarsulardan biridir.  
E) Kartepe ve Uludağ Marmara Bölgesi'nin önemli kayak merkezlerinden biridir.

40. 16 ili kapsayan bir proje niteliğinde olan Doğu Anadolu Projesi (DAP)'nin amacı bölgenin sosyal kültürel ve ekonomik açıdan kalkınmasını sağlamaktır. DAP'ın öncelikli hedefi ise tarım ve hayvancılığın geliştirilmesidir.

**Aşağıda belirtilen şehirlerden hangisi Doğu Anadolu Bölgesi sınırları içerisinde bulunduğu halde DAP kapsamında yer almamıştır?**

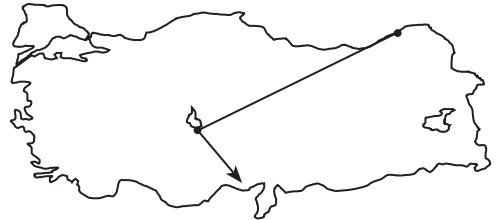
- A) Hakkari      B) Şırnak      C) Van  
D) Ardahan      E) Ağrı

41. I. Kişi başına düşen enerji tüketimi  
II. Yeraltı kaynaklarının çeşitliliği  
III. Nüfusun bölgelere göre dağılımı  
IV. Sanayide kullanılan hammadde türü  
V. Aritmetik nüfus yoğunluğu bölgelere göre dağılımı

**Yukarıdakilerden hangisi Türkiye'nin gelişmişlik düzeyi hakkında bilgi verir?**

- A) I ve II      B) I ve IV      C) II ve III  
D) III ve IV      E) IV ve V

42. Türkiye'nin iklim çeşitliliğine bağlı olarak çok çeşitli tarım ürünlerinin bir arada yetiştirildiği bir ülkedir.



**Yukarıda ok yönünde ilerlendiğinde sırasıyla aşağıdaki tarım ürünlerinden hangilerinin yetiştirildiği görülür?**

- A) Çay, Buğday, Pamuk  
B) Çay, Turunçgil, Muz  
C) Tütün, Buğday, Pamuk  
D) Mısır, Fındık, Tütün  
E) Kenevir, Buğday, Pirinç

43. Türkiye'nin tarım alanlarında karşılaşılan sorunu çözmek için;

- I. Mera ve ormanları tarlaya dönüştürmek
- II. Nadasa bırakılan araziye azaltmak
- III. Tarım alanlarını azaltmak
- IV. Baraj sayısını çoğaltmak

**gibi durumlardan hangisinin yapılması gerekir?**

- A) Yalnız I
- B) Yalnız IV
- C) I ve II
- D) II ve IV
- E) III ve IV

44. Aşağıda verilen maden-şehir eşleştirmelerinden hangisi **yanlıştır**?

- A) Asfaltit → Şırnak
- B) Boksit → Akseki
- C) Demir → Divriği
- D) Krom → Seydişehir
- E) Bor → Emet

45. Sanayi tesislerin yer seçiminde hammadde kaynaklarına yakınlığın önemli bir rolü vardır.

**Buna göre,**

- I. Bursa → Otomotiv
- II. Murgul → Bakır işletmesi
- III. Ankara → Mobilya
- IV. Batman → Petrol arıtma
- V. İskenderun → Demir-çelik

**sanayi kuruluşlarından hangisinde ham maddeye yakınlık göz önüne alınmıştır?**

- A) I ve II
- B) II ve III
- C) II ve IV
- D) III ve IV
- E) IV ve V

46. 1215 İngiltere Magna Carta Libertium'u ile 1808 Osmanlı Sened-i İttifakı'nın ortak özelliklerinden birisi aşağıdakilerden hangisidir?

- A) Her iki ülkede de parlamenter sistemi başlatmaları
- B) Monarşik güç yetkilerinin ilk kez kısıtlanmasını sağlamaları
- C) İngiltere ve Osmanlı Devleti'nde ilk anayasalar olarak hayata geçmeleri
- D) Her iki ülkede de askeri darbeler sonucu ortaya çıkmaları
- E) Monarşik güçlerin istek ve planlaması ile yürürlüğe girmeleri

47. Babanın vefatı ile üzerine kayıtlı olan ev, tek oğluna miras olarak kalmış ve çocuk tapu işlemleri ile kendi üzerine evin tapu kaydını almıştır.

**Yukarıda verilen olayda çocuğun ev üzerindeki hakları devralması aşağıdakilerden hangisinde doğru olarak tanımlanmıştır?**

- A) Mutlak Hak – Sahiplenme – Hukuki Fiil – Hukuki İşlem
- B) Nispi Hak – İşgal – Hukuki Olay
- C) Mutlak Hak – Hukuki Olay – Hukuki İşlem
- D) Nispi Hak – Devren Kazanma – Hukuki Olay
- E) Mutlak Hak – Aslen Kazanma – Sahiplenme

48. Aşağıda verilen anayasal haklardan hangisine **saş, sıkıyönetim, seferberlik ve olağanüstühal durumlarında dokunulamaz**?

- A) Gösteri yürüyüşü, miting ve toplantı hakları
- B) Sendikal haklar
- C) Seçme ve seçilme hakları
- D) Kişinin dokunulmazlığı ve hürriyeti hakkı
- E) Maddi ve manevi varlığın bütünlüğü

49. Türkiye Cumhuriyeti'nde milletvekili seçimleri için Türkiye kaç seçim bölgesine ayrılmaktadır?

- A) 81
- B) 87
- C) 67
- D) 71
- E) 75

50. Aşağıdakilerden hangisi Cumhurbaşkanı'nın yasa ile ilgili görevleri arasında yer almaz?

- A) Erken genel seçim kararı vermesi
- B) Kanunları onaylayarak Resmi Gazete'de yayınlaması
- C) Anayasa değişiklikleri ile ilgili Anayasa Mahkemesi'ne şekil yönünden dava açması
- D) Gereğinde savaş kararı alabilmesi
- E) Yasama yılı başlangıcında TBMM'de açılış konuşması yapması

51. Türkiye Cumhuriyeti'nde en uzun süre başbakanlık yapan kişi aşağıdakilerden hangisidir?

- A) İsmet İnönü
- B) Süleyman Demirel
- C) Adnan Menderes
- D) Recep Tayyip Erdoğan
- E) Bülent Ecevit

52. Aşağıdakilerden hangisinin üyelerinin seçiminde Cumhurbaşkanı'nın doğrudan katkısı yoktur?

- A) Uyuşmazlık Mahkemesi
- B) Askeri Yüksek İdare Mahkemesi
- C) Hakimler Savcılar Yüksek Kurulu
- D) Danıştay
- E) Anayasa Mahkemesi

53. Aşağıdakilerden hangisi anayasada öngörülen, idarenin çıkarabileceği düzenleyici işlemlerden değildir?

- A) Kanun
- B) Kanun Hükmünde Kararnameler
- C) Tüzük
- D) Yönetmelik
- E) Cumhurbaşkanlığı Kararnamesi

54. Aşağıdakilerden hangisi memurluğu sona erdiren hallerden değildir?

- A) Memurluktan çıkarılma
- B) Emeklilik
- C) İstifa
- D) Ölüm
- E) Anonim şirket hissedarı olma

55. Türkiye'de banknot olarak Türk Lirası'nın piyasaya sürülmesi yetkisi aşağıdakilerden hangisine aittir?

- A) Başbakanlık
- B) Hazine Müsteşarlığı
- C) Merkez Bankası
- D) Maliye Bakanlığı
- E) Gelirler İdaresi Başkanlığı

56. 1927 Kolombiya doğumlu olup, 1982 Nobel Edebiyat Ödülü'ne layık görülen ve 17 Nisan 2014'te hayatını kaybeden önlü edebiyatçı aşağıdakilerden hangisidir?

- A) Daris Lessing
- B) Herta Müller
- C) Gabriel Garcia Marguez
- D) Wole Soyinka
- E) Comilo José Cela

57. Euroleag Kadınlar Basketbol Şampiyonası'nda FIBA Kadınlar Avrupa Ligi Şampiyonu olan Galatasaray Odeobank Basketbol Takımı'nın final maçında elediği takım aşağıdakilerden hangidir?

- A) Fenerbahçe
- B) Vs Praha
- C) Wuber Schio
- D) Good Angels Kosice
- E) İmos Brno

58. Dünyanın 3. Avrupa'nın 1. tamamı deniz dolgu-  
su üzerine inşa edilen havalimanı aşağıdakilerden  
hangisidir?

- A) Roma Havalimanı
- B) Venedik Havalimanı
- C) Valensiya Havalimanı
- D) Or-gi Havalimanı
- E) Londra Havalimanı

59. 24-25 Mart 2014'te 3. Nükleer Güvenlik Zirvesi'ne  
ev sahipliğini aşağıdaki ülkelerden hangisi yapmış-  
tır?

- A) Çin
- B) ABD
- C) Almanya
- D) Rusya
- E) Hollanda

60. Mart 2014'te Kuveyt'te düzenlenen 25. Arap Birliği  
Zirvesi'ne katılmayan ülke aşağıdakilerden hangi-  
sidir?

- A) Somali
- B) Fas
- C) Suriye
- D) Tunus
- E) Cezayir

TEST BİTTİ.  
LÜTFEN CEVAPLARINIZI KONTROL EDİNİZ.