

1. Bu testte 60 soru vardır.

2. Cevaplarınızı, cevap kağıdının Genel Yetenek Testi için ayrılan kısmına işaretleyiniz.

1. Böyle giriyoruz hayata. Bütün köşelerine dokunarak geçiyoruz hayatın. On iki yıl yetmiş sayı her dem yeniden o ilk zamanlarımızı yaşıyormuşuz gibi devingen bir ruhla süzülüyor satırların arasına. Yıllar geçiyor, hafızamıza emanet edilmiş güzellik kendini yeniden üretiyor. Yürüyüşümüzü gözleyenler bu halimize hayretler ediyor.

Bu parçada geçen "Bütün köşelerine dokunarak geçiyoruz hayatın" sözüyle anlatılmak istenen aşağıdakilerden hangisidir?

- A) Hayatı bir ödül olarak düşünüp her anı dolu dolu yaşamak
B) İyisiyle kötüsüyle yaşamın sunduğu her andan etkilenmek
C) Her zaman olumlu düşüncelere sahip olup kötülöklere yer vermemek
D) Geçmiş ve geleceği boş verip içinde yaşanan ana odaklanmak
E) Yaşam sınavında her zaman en yükseklerde yer almak

2. Albert, içine kapanıktı; çocukların arasına katılmaktan, oyun oynamaktan hoşlanmazdı. Okulu sıkıcı buluyor, ezbere dayanan eğitim disiplinine katlanamıyordu. "Gimnazyum"da geçen orta öğrenimi mutsuz ve başarısızdı; mühendis amcasının özel ilgisi olmasaydı belki de ---. Amca, yeğene cebir ve geometriyi sevdi. Geometri özellikle Albert'i büyülemişti.

Yukarıdaki parçada boş bırakılan yere aşağıdakilerden hangisi getirilmelidir?

- A) öğrenimden tümüyle kopacaktı
B) okulunu değiştirecekti
C) büyük bir bilim adamı olacaktı
D) matematikle ilgilenecekti
E) hayatından memnun olmayacaktı

3.

- I. Bu da romancıyı yalnızlaştırır.
II. Bazen içinde bulunulan veya yaklaşmakta olan tehlikeden dolayı çığlık atar.
III. Ama çevresindekiler onun gördüklerinin, sezdiklerinin farkında olmadıkları için çığlığını duymazlar.
IV. Yalnızlaşan romancı da kalemine sarılmaktan başka çare bulamaz.
V. İyi bir sanatkârın antenleri uzun olduğu için herkesin göremediğini görür.

Yukarıdaki numaralanmış cümleler anlamlı bir bütün oluşturacak biçimde sıralandığında hangisi baştan ikinci olur?

- A) I B) II C) III D) IV E) V

4.

- I. Kitaptan niçin korkarlar?
II. Kitaptan korkmak, insan düşüncesinden korkmak, insanı kabul etmemektir.
III. Bunu bir türlü anlayamadım.
IV. Kitaptan korkan adam, insanı mesuliyet hissinden mahrum ediyor demektir.
V. "Bırak, senin yerine ben düşünüyorum!" demekle "Falan kitabı okuma!" demek arasında hiçbir fark yoktur.

Bu parçanın anlamlı bir bütün oluşturması için numaralanmış cümlelerden hangileri yer değiştirmelidir?

- A) I. ile II. B) II. ile III. C) II. ile IV.
D) III. ile IV. E) IV. ile V.

5. Cemal Süreya, başkalarına öykünmeyen söyleyişi, zengin birikimi; duyarlı, çarpıcı, yoğun, diri imgeleriyle İkinci Yeni şiirinin en başarılı örneklerini vermiştir.

Bu cümleden aşağıdakilerden hangisine kesin olarak ulaşılabilir?

- A) İkinci Yeni şiirinin kurucusu ve en önemli sanatçısı Cemal Süreya'dır.
B) Cemal Süreya farklı türlerle ilgilenerek edebiyata yenilik getirmiştir.
C) Cemal Süreya kendine has bir üslup kullanmıştır.
D) İkinci Yeni şiirinde her tür konuya değinilmiştir.
E) Edebiyatımızda en başarılı şiirler İkinci Yeni döneminde verilmiştir.

6. Yaz aylarında soğuk sıvı tüketiminin artmasıyla dişlerdeki hassasiyetin arttığına dikkat çeken uzmanlar, çok soğuk ve sıcak gıdaların arka arkaya tüketilmemesi uyarısında bulundu.

Bu cümleden aşağıdakilerden hangisine kesin olarak ulaşılabilir?

- A) Diş ağrısı daha çok yaz aylarında görülmektedir.
B) İlık gıdaların tercih edilmesi dişteki hassasiyeti azaltır.
C) Uzmanlar diş hassasiyetini engelleyecek yeni yöntemler kullanmaktadır.
D) Her diş ağrısının nedeni aynı değildir.
E) Düzenli bakım yaptıranlarda diş ağrısı görülmemektedir.

7. (I) Son zamanların en çok tartışılan ve fiziğin yeni gözdesi olan "sicism kuramı" on bir boyutlu bir evren önermekte ise de bu henüz deneysel olarak ispatlanamadı. (II) İçinde bulunduğumuz evren ve maddi varlığımız ölçüp algıladığımız dört boyuta sahiptir. (III) En, boy ve yükseklik evrenin mekân boyutları, zaman da dördüncü boyutu olarak tanımlanır. (IV) Evren içerisinde varlıkları ve kendi yerimizi anlamamız ve algılamamız en azından bu ölçülebilir boyutlarla olmaktadır. (V) Mesela bir ağaç düşünelim, bunun bir yüksekliği, çapı ve hacmi vardır. (VI) Uzunluklar cinsinden ifade edeceğimiz bir büyüklüğü olsa da bu bilginin şuurulu bir gözlemci tarafından algılanıp bilinmesi için bu uzunlukların varlığının süreklilik arz etmesi gerekir.

Bu parçadaki numaralanmış cümlelerle ilgili aşağıda verilenlerden hangisi yanlıştır?

- A) I. cümlede kesinlik kazanmamış bir bilgiye yer verilmiştir.
B) II. cümlede evrenin dört boyut sayesinde geliştiği anlatılmıştır.
C) III. cümlede dört boyutun neler olduğu açıklanmıştır.
D) IV. cümlede insanın çevresini algılamasında bu boyutların önemli olduğu belirtilmiştir.
E) VI. cümlede belli bir şeyin algılanmasında devamlılığın olması gerektiği anlatılmıştır.
8. (I) Akıllı sera, klasik tarıma göre verimi 10 kat artırıyor. (II) Biberden domatese, salatalıktan, patlıcana, marul, kavun, karpuz ve çileğe kadar geniş bir yelpazede ürün bulunuyor. (III) Normal şartlarda toprak üstünde yetişen kavun ve karpuz gibi meyveler ise akıllı serada sıra dışı bir yöntemle yetiştiriliyor. (IV) Karpuz ve kavun için özel bir sistemin geliştirildiği serada, bu iki meyve yukarı doğru büyüyen dallarda yetişiyor. (V) Hızlı bir şekilde büyüyen karpuz ve kavunlar düşmesin diye de filelerin içine koyularak tavana sabitleniyor.

Bu parçadaki numaralanmış cümlelerin hangisinde amaç dile getirilmiştir?

- A) I. B) II. C) III. D) IV. E) V.

9. Çoğu zaman insanların arasına karışmaktan,
I II
tanımadığım insanlarla sohbet etmekten hoşlanırdım
III
ancak şimdi yanımda kimseyi istemiyorum.
IV V

Bu cümledeki altı çizili sözlerde aşağıda verilenlerden hangisi örneklenmemiştir?

- A) I. de, ünsüz yumuşaması
B) II. de, ünsüz sertleşmesi
C) III. de, ünlü düşmesi
D) IV. de, kaynaştırma ünsüzü
E) V. de, ünlü daralması

10. (I) Haboob, atmosferik yer çekim akımında hareket eden kum fırtınalarına verilen isimdir ve genelde kuru bölgelerde meydana gelir. (II) Patlama sırasında dışarı akan rüzgârlar, yerde bulunan toprak ve kili havaya kaldırır. (III) Genelde Sahara Çölü, Sudan, Kuveyt ve Irak'ın kuru kesimlerinde görülür. (IV) Bunun dışında Avustralya'nın çöllerinde de sıkça rastlanır. (V) Amerika'da ise zaman zaman Arizona Çölü etrafında gözlenmektedir.

Bu parçadaki numaralanmış cümlelerden hangisi düşüncenin akışını bozmaktadır?

- A) I B) II C) III D) IV E) V

11. Alman dilinin gelenekçi söyleyiş kurallarının dışına çıkan Nietzsche (I) yazılarını bir şiir uyumu içinde yazar, aklından geçeni yazıya dökerken dil bilgisi kurallarını bir yana iter. Aforizmalar şeklinde yazdığı eserlerinin büyük kısmı (II) düşüncelerine dair ipuçları ile doludur (III) olumlu başladığı bir cümleyi ya da paragrafı olumsuz bitirir ya da olumsuz başlar (IV) olumlu bitirir. Alaycı (V) işneleyici bir anlatımı vardır.

Bu parçadaki numaralanmış yerlerden hangisine noktalı virgöl gelebilir?

- A) I. B) II. C) III. D) IV. E) V.

12. **Aşağıdaki cümlelerin hangisinde yazım yanlışı vardır?**

- A) İnsanın sorunlarını dinlemek bu sorunlara çare bulmak için de çeşitli yardım kuruluşları var.
B) İnsanın dünyaya geldiği, yetiştiği, birlikte olduğu tüm sosyal çevresini de incelemek gerekir.
C) Hayata vermek zorunda olduğum yanıtların en önemlisidir şiir.
D) Yaklaşık iki milyonu aşkın öğrencinin geleceğe dair hayallerinin giriş kapısı niteliği taşıyan LYS, gençlerimizin kişisel gelişim süreçlerini olumsuz yönde etkiliyor.
E) Yer yarılıdıda içine girdi sanki bir aydır ortalıkta görünmüyor.

13. (I) Soğuklardan yakından biri değilim. (II) Ne yalan söyleyeyim? (III) Öyle çok üşümedim ömrümde. (IV) Şöyle biraz üşümenin de bir tadı vardır doğrusu. (V) Kar altında beş on dakika, yarım saat yürüdükten sonra sıcak bir odaya girip parmaklarınızı hohlamanın zevkine doyulur mu?

Bu parçadaki numaralanmış cümlelerle ilgili olarak aşağıda verilenlerden hangisi yanlıştır?

- A) I. cümle, özne ve yüklemden oluşmuştur.
B) II. cümle, kurallı eylem cümlesidir.
C) III. cümlede, "öyle çok" sözü zarf tümleci görevindedir.
D) IV. cümlede, "Şöyle biraz üşümenin" sözü özne görevindedir.
E) V. cümlede, "doyulur mu" sözü yüklemidir.

14. **Aşağıdaki cümlelerin hangisinde tamlayanı zamir olan bir isim tamlaması vardır?**

- A) Yüz metrede dünya şampiyonu olan atlet, yeni rekorların geleceğini söyledi.
B) Bütün aile onun sorunlarını çözebilmek için gece gündüz çalışıyor.
C) Espri yeteneği gelişmemiş insanlara şaka yapmak da tehlikeli olabilir.
D) Kimine göre sevmek, sadece acı dolu bir hayat sürmektir.
E) Şehir hayatına uyum sağlayamayanlar kısa süre sonra köylerine döner.

15. (I) İnsan, yaşamının her döneminde, daima unuttur. (II) Çünkü süregelen olarak geçmişte veya gelecekte duramaz. (III) Yapabildiği tek eylem, hatırlamaktır. (IV) Üstelik şimdiki zaman gelip geçiciliğiyle basit hazları da çağırıştırılmaktadır. (V) Aslolan vazgeçilmeyecek bir hazdır.

Bu parçadaki numaralanmış cümlelerden hangisinde fiilimsi kullanılmamıştır?

- A) I. B) II. C) III. D) IV. E) V.

16. **Aşağıdaki cümlelerin hangisinde anlatım bozukluğu vardır?**

- A) Olayların bu şekilde hikaye edilmesi okurun ilgisini daha da artırmıştı.
B) Gecenin bir vakti bütün ev halkı dışarı çıktı.
C) Öykülerimde elimden geldiğince yalın bir dil kullanmaya çalışırım.
D) Köyümüzün gençleri kış aylarında şehirlere gider ve çalışır.
E) Bazı yazarlar çeviri eserlerin okur için daha yararlı olduğuna inanıyor.

17. Kazılarda ortaya çıkarılan kalıntılar, Anadolu'daki en eski insan topluluklarının Paleolitik Çağ ya da "Eski Taş Çağı" ile "Mezolitik Çağ" denen Orta Taş Çağı'nda yaşamış olduklarını belgelemektedir. Arkeolojinin yanı sıra öteki bilim dallarınca da desteklenen araştırmalar sonucunda bu çağların İÖ 6.000 ile 8.000 yılları arası gibi çok uzun bir zaman aralığını kapsadığı ortaya konmuştur. Paleolitik Çağ insanların yaşamları tüketim ekonomisine dayanıyordu. Besinlerini avlayarak ve toplayarak elde ediyorlardı. Henüz göçebe hayatı sürdüren bu insanlar, kendilerine barınak olarak mağaraları ve kaya sığınaklarını seçmişlerdi. Bol av ve besin bulabilecekleri yerlere göç ediyorlar, avlanabilmek ve öteki yaşam gereksinimlerini sağlayabilmek için alet edevata ihtiyaç duyuyorlardı. Bu insanlar, doğada hazır buldukları taşları kullanmanın yanında, kırılğan bir özelliğe sahip çakmak taşını keşfetmişler ve çeşitli aletler yapmışlardır.

Bu parçada sözü edilen insanlarla ilgili aşağıdakilerden hangisi çıkarılamaz?

- A) El becerileri gelişmiştir.
B) Elde ettiklerini tüketmektedirler.
C) En eski insan topluluklarıdır.
D) Yerleşik hayata geçmemişlerdir.
E) Avcı toplum özellikleri göstermektedirler.

18. (I) İnsan, akli ile iyiyi kötüden, doğruyu yanlıştan, faydayı zarardan ayırt eder. (II) Çevresinde olup bitenleri anlar ve değerlendirir. (III) Olaylar arasında neden-sonuç ilişkisi kurar. (IV) Karşılaştığı güçlüklerle çözümler üretir, böylece yeni şartlara uyum sağlayarak yaşamını kolaylaştırır. (V) Akıl meyvelerinden biri bilimdir. (VI) İnsan, akli sayesinde diğer varlıklardan kolayca yararlanır; araç gereçler üretir ve buluşlar yapar. (VII) En küçük şehirlerden dev sanayi ürünlerine, güzel sanatlardan mimariye kadar pek çok şeyi akli sayesinde yapar.

Bu parça iki paragrafa ayrılmak istense ikinci paragraf hangi cümleyle başlar?

- A) II B) III C) IV D) V E) VI

19. İnsanı, diğer canlılardan ayıran temel nitelik aklını kullanarak düşünme faaliyetinde bulunmasıdır. Gerçekten bizi diğer canlılardan ayıran, en güçlü yapan şey; akıl ve bu aklın ürettiği bilgidir. Bazı hayvanlar bizden daha hızlı koşabilir ancak biz herhangi bir hayvandan daha hızlı olmamızı sağlayacak arabalar yapabiliriz. Bazı hayvanların görme yetisi bizimkinden daha üstündür ancak hiçbir hayvan, teleskop ya da mikroskop kullanan bir insandan daha iyi göremez. Kuşlar, bizden farklı olarak uçabilir ancak bizler herhangi bir kuştan daha hızlı ve daha uzağa uçabilecek uçaklar üretmişizdir. Tüm bu örneklerde hayvanlarla aramızdaki farkı ortaya çıkaran; arabalar, teleskoplar ve uçaklar icat etmemizi sağlayan şey aklımız ve bilgimizdir.

Bu parçanın anlatımıyla ilgili olarak aşağıda verilenlerden hangisi yanlıştır?

- A) Karşılaştırmalı bir anlatıma başvurulmuştur.
B) Örnekler yoluyla konu pekiştirilmiştir.
C) Açıklayıcı bir anlatım kullanılmıştır.
D) Betimlemeler yapılmıştır.
E) Soyut anlamlı sözcükler kullanılmıştır.

20. Yaratıcı yazarlıkla ilgili olarak da iyi bir yazar olabilmek için pek söylenmese de okumak ve yazmak dışında yapmanız gereken bir şey daha var: O da yaşamak. Bundan kastım bir savaşı yazmak için savaş muhabirliği yapmanız gerektiği değil ama hayatla içli dışlı olmak, gözlem yapmak, bu arada ufku geniş olmak, diğer sanat dallarıyla ilişkisi olmak. Söz gelimi bir roman veya öykü yazarı olarak sinema sanatını takip etmek; müzikten, tiyatrodan, felsefeden, bilimden aldıklarınızla yeni yaratılar ortaya koyabilmek... Yazabilmek için sermayenizin geniş olması gerekiyor.

Bu parçada yazarlıkla ilgili aşağıdakilerden hangisinin önemi vurgulanmaktadır?

- A) Hayata farklı açılardan bakarak yaşamının
B) Ele alınan konuya hakim olmanın
C) Hayatın tadına varabilmenin
D) Başka eserleri okumanın
E) Yaşadıklarını eserlere aktarabilmenin

21. - 22. soruları aşağıdaki parçaya göre cevaplayınız.

(I) Öykü, öteki türler arasında önemsiz duruma gelmediyse bunun nedenleri olmalı diye düşünmüştüm. (II) Başlangıçta iyi bir şiir okuru olmaya çalışmış, asıl ilgi alanımı romanla kuşatmışken öykünün benim için zamanla bu denli öne geçmesinin nedeni yalnızca bir görev değildi. (III) On beş yıl boyunca öyküyle içli dışlı olmak için görevin bütün zehrini alacak göz kamaştırıcı bir cevheri olmalıydı öykünün. (IV) Şiire yakın ama şiirsellikten korkması gereken; düzyazı ama romanın dünyasına uzak. (V) Bu iki uca değip kaçan, ikisinin arasında sıçrayan fasulyeydi öykü.

21. Bu parçada öyküyle ilgili aşağıdakilerden hangisi üzerinde durulmaktadır?

- A) Romanla benzer yönlerinin olduğu
B) Şiir türünden üstün olduğu
C) Kendine has özelliklerinin olduğu
D) Yoğun bir anlatıma sahip olduğu
E) Yazarları en çok etkileyen tür olduğu

22. Bu parçadaki numaralanmış cümlelerin hangisinde mecazlı bir anlatıma yer verilmemiştir?

- A) I B) II C) III D) IV E) V

23. - 24. soruları aşağıdaki parçaya göre cevaplayınız.

İnternet iki gövdeli bir yaratık. Bir taraftan fırsatlar, özgürlükler ortamı, bir taraftan sığılıklar, saçmalıklar ve kolaylıklar diyarı. Her iki özelliğini de aynı anda taşıyor. Edebiyata etkileri de dolayısıyla iki yönlü oluyor. İnternet bir taraftan ulusal sınırları yıkmayı mümkün kılıyor. Okurlara başka başka ülkelerden gelen sesleri duyma imkânı veriyor. Sansürlenmiş yazarları, şairleri, kitapları dolaşıma sokuyor ve tabuları kırabiliyor. Ancak aynı zamanda internet bilgilendirirken bilinçsizleştiriyor. Bilgiyi ve kültürü kapsüller halinde sunuyor. Hiçbir şey bir kitabın yerini tutamaz ama bunu anlayabilmek için kitapsever olmak lazım. Bir kitapla baş başa kalmanın, kendi içine çekilmenin, derinleşmenin önemini anlayabilmek için kitap müptelası olmak, o virüsü taşımak lazım.

23. Bu parçaya göre aşağıdakilerden hangisi internetin edebiyat üzerinde yarattığı olumsuzluklardan biri olabilir?

- A) Sansürlenmiş yazarların kendilerini tanıtmaya imkânı bulması
B) İnsanların sorgulamadan her tür bilgiyi alması
C) Kitapların kontrol edilmeden yayımlanması
D) Yazarların düşüncelerini açık açık ifade etmeleri
E) Gerçek dışı bilgilerin verilmesi

24. Bu parçada internetle ilgili aşağıdakilerden hangisine değnilmemiştir?

- A) Evrenselliğinin yolunu açtığına
- B) Edebiyatı çeşitli şekillerde etkilediğine
- C) Özgürce her bilgiye ulaşılabilmesine
- D) Olumlu ve olumsuz yönlerinin olduğuna
- E) Yeni sanatçılarının ortaya çıkmasını sağladığına

25. - 27. soruları aşağıdaki parçaya göre cevaplayınız.

Tarih boyunca birkaçı hariç bütün toplumlar coğrafi açıdan diğerlerine yakın olduklarından, birbirleriyle ilişkide bulunmuşlardır. Komşu toplumlar arası ilişkilerin ara ara ya da daima düşmanca olduğu görülmüştür. Bir toplum gücünü koruyabildiği sürece ve çevresel zarar dâhil herhangi bir nedenden ötürü zayıflayana kadar düşmanlarını uzak tutmakta başarılı olabilir. Böylesi durumlarda çöküşün doğrudan nedeni, askerî fetihlerdir. Ancak altta yatan temel unsur, toplumun zayıflamasına neden olan genel süreçtir. Buna göre ekolojik, toplumsal veya başka nedenlerden ötürü meydana gelen çöküşler, sıklıkla askerî hezimetler olarak maskelenmiştir. Buna verilebilecek en iyi örnek, Batı Roma İmparatorluğu'nun çöküşüdür. Roma, bin yıl boyunca sınırlarını kuşatmış olan Kuzey Avrupa ve Orta Asya'da yaşayan kavimleri başarılı bir biçimde defetmeyi bilmiştir. Fakat en sonunda savaşı kazananlar Romalılar değil, karşı taraf olmuştur. Orta Asya'dan gelen kavimler, nüfusları arttıkça daha iyi silahlar, atlar edinip daha iyi örgütlenmiş, diğer kavimlerin geçirdiği değişimden veya Orta Asya'daki steplerin iklim değişiminden olumlu etkilenmiş ve başarılı olmuşlardır.

25. Bu parçadan aşağıdakilerden hangisi çıkarılabilir?

- A) Askerî yönden güçlü olan topluluklar diğer toplulukları hakimiyeti altına almaktadır.
- B) Bazı imparatorluklar ayaklanmalar sonucu tarih sahnesinden silinmiştir.
- C) Dünya tarihinde yıkılmayan imparatorluk yoktur.
- D) Siyasi gelişmeler; toplumsal yapı ve doğadan bağımsız değildir.
- E) Kuraklık ve savaşlar tarihin her döneminde görülmüştür.

26. Bu parçaya göre Orta Asya'dan gelen kavimlerin başarılı olmasında;

- I. çok sık savaşmaları,
- II. silah güçlerinin iyi olması,
- III. örgütlenmelerinin kuvvetli olması,
- IV. doğa olaylarıyla mücadele etmeleri

etkenlerinden hangileri rol oynamamıştır?

- A) Yalnız I
- B) Yalnız III
- C) I ve III
- D) I ve IV
- E) II ve IV

27. Bu parçanın anlatımıyla ilgili olarak aşağıda verilenlerden hangisi yanlıştır?

- A) Konunun somutlanması için örneklere başvurulmuştur.
- B) Bilgi verme amacı güdülmüştür.
- C) Bazı yargılar gerekçesiyle verilmiştir.
- D) Öznel ifadelere yer verilmiştir.
- E) Tanımlamalara yer verilmiştir.

28. - 30 soruları aşağıdaki parçaya göre cevaplayınız.

Ayşe, Burcu, Canan, Demet, Elif, Ferhan, Gülenay isimli çocuklar kreşte spor ve sanat faaliyetleri arasında yer alan yüzme, satranç, seramik, jimnastik, dans derslerinden seçeceklerdir. Yaptıkları seçimlerle ilgili şunlar bilinmektedir:

- Her dersi en çok üç, en az iki kişi seçmiştir.
- Jimnastik dersini yalnız Burcu ve Elif seçmiştir.
- Canan yalnızca satranç dersini seçmiştir.
- Elif ve Ferhan dans dersi dışında bir ders daha beraber seçmişlerdir.
- Yüzme dersini seçen üç kişiden biri Ayşe diğeri Demet'tir.
- Ferhan'ın seçtiği hiçbir dersi Gülenay seçmemiştir.
- Bir kişi en fazla üç dersi seçebilmektedir.

28. Yukarıda verilen bilgilere göre yüzme dersini seçen;

- I. Burcu,
- II. Elif,
- III. Ferhan,
- IV. Gülenay

adlı kişilerden hangileri olabilir?

- A) Yalnız I
- B) I ve II
- C) I, III ve IV
- D) I ve IV
- E) II, III ve IV

29. Yukarıda verilen bilgilere göre aşağıdakilerden hangisi **kesin olarak yanlıştır**?

- A) Satranç dersini iki kişi seçmiştir.
 B) Satranç dersini üç kişi seçmiştir.
 C) Seramik dersini seçenler Elif ve Ferhan'dır.
 D) Seramik dersini seçen üçüncü kişi Burcu'dur.
 E) Dans dersini seçen üçüncü kişi Gülenay'dır.

30. Demet ve Gülenay'ın seramik dersini birlikte seçtikleri biliniyorsa aşağıdakilerden hangisi **kesin olarak doğrudur**?

- A) Yüzme dersini seçen üçüncü kişi Ferhan'dır.
 B) Seramik dersini seçen üçüncü kişi Ayşe'dir.
 C) Elif ve Ferhan'ın birlikte aldıkları ikinci ders satrançtır.
 D) Dans dersini seçen üçüncü kişi Burcu'dur.
 E) Dans dersini seçen üçüncü kişi Ayşe'dir.

31. $\frac{\left(\frac{1}{2} - \frac{1}{3}\right) - \left(\frac{2}{3} - \frac{3}{4}\right)}{\left(\frac{1}{2} + \frac{1}{3}\right) - \left(\frac{3}{4} - \frac{2}{3}\right)}$ işleminin sonucu kaçtır?

- A) $\frac{1}{3}$ B) $\frac{2}{3}$ C) $\frac{4}{3}$ D) $\frac{5}{3}$ E) $\frac{7}{3}$

32. abc ve cba üç basamaklı rakamları farklı doğal sayılardır.

abc - cba = 594 ise yazılabilecek kaç tane abc doğal sayısı vardır?

- A) 8 B) 2 C) 4 D) 24 E) 32

33. $4^{a+b} = 8^{a-1}$ olduğuna göre, $\frac{3a-2b}{2a+3}$ ifadesinin değeri kaçtır?

- A) 1 B) 2 C) 4 D) $\frac{1}{3}$ E) $\frac{2}{3}$

34. x ve y pozitif tam sayı olmak üzere, $13! = 2^x \cdot y$ eşitliğinde, x in alabileceği değerler toplamı kaçtır?

- A) 46 B) 48 C) 52 D) 55 E) 58

35. $a < b < 0 < c$ olduğuna göre, $\sqrt{a^2 - \sqrt{b^2 - \sqrt{a^2 - 2ac + c^2}}}$ işleminin sonucu aşağıdakilerden hangisidir?

- A) a - b B) b C) a D) b - c E) c - a

36. $\left(\frac{y}{x^2 + xy} - \frac{x}{xy + y^2}\right) \cdot \frac{x \cdot y}{x - y}$

işleminin sadeleştirilmiş biçimi aşağıdakilerden hangisidir?

- A) -x B) y C) x - y D) -1 E) 1

37. Reel sayılar kümesi üzerinde " Δ " ve " \square " işlemleri

$$a\Delta b = a + b + 2$$

$$a\square b = a \cdot b - 1$$

biçiminde tanımlanıyor.

$[2\Delta(-1)]^{1\square x} = 81$ olduğuna göre, x kaçtır?

- A) 5 B) 4 C) 3 D) 2 E) 1

38. Bir sayı dizisinin her terimi kendinden önceki terimin rakamları toplanarak elde ediliyor.

Sayı dizisinin ilk terimi 1234 olduğuna göre, 2014. terimi kaçtır?

- A) 1 B) 2 C) 3 D) 4 E) 10

$$39. \quad \begin{array}{r} a \mid 5 \\ \hline \mid b \\ \hline \mid 3 \end{array} \quad \begin{array}{r} b \mid c \\ \hline \mid 4 \\ \hline \mid 1 \end{array}$$

olduğuna göre, a'nın 20 ile bölümünden elde edilen kalan kaçtır?

- A) 4 B) 6 C) 8 D) 10 E) 12

40. x, y, z birer negatif tam sayı ve

$$\frac{x+y}{z} < \frac{x}{z} + 1$$

olduğuna göre, aşağıdakilerden hangisi kesinlikle doğrudur?

- A) $x < y$ B) $y < z$ C) $x \cdot y < z$
D) $y - z > 0$ E) $x - z < 0$

41. $\frac{1}{\sqrt{3}+\sqrt{2}} - \frac{1}{\sqrt{3}-\sqrt{2}} + \frac{2}{\sqrt{2}}$ işleminin sonucu kaçtır?

- A) $-4\sqrt{2}$ B) $-3\sqrt{2}$ C) $-\sqrt{2}$
D) $\sqrt{2}$ E) $\frac{\sqrt{2}}{2}$

42. a ve b aralarında asal pozitif tam sayılardır.

$EBOB(a, b) + EKOK(a, b) = 196$ ise a + b toplamı en az kaçtır?

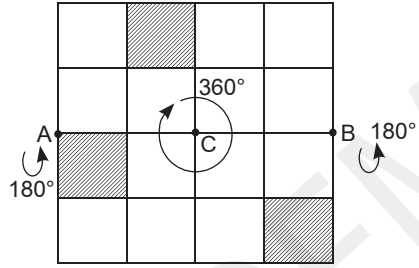
- A) 28 B) 30 C) 32 D) 38 E) 42

43. "ANAVATAN" kelimesinin harfleri kullanılarak anlamlı ya da anlamsız 8 harfli kelimeler yazılıyor.

Yazılan bu kelimeler arasından seçilen bir kelimenin T harfi ile başlama olasılığı kaçtır?

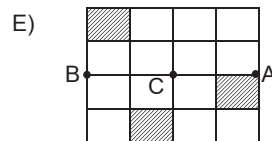
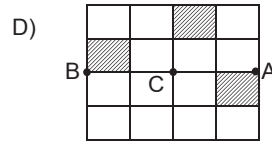
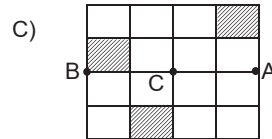
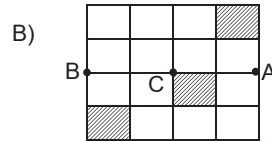
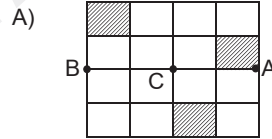
- A) $\frac{1}{6}$ B) $\frac{1}{8}$ C) $\frac{1}{10}$ D) $\frac{1}{15}$ E) $\frac{1}{20}$

44. - 46. soruları aşağıdaki bilgilere göre cevaplayınız.

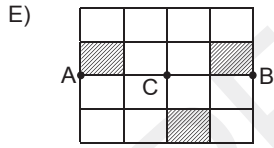
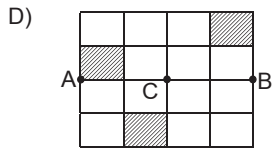
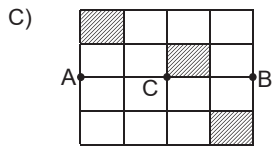
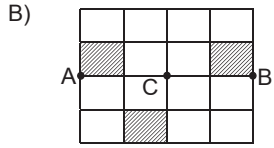
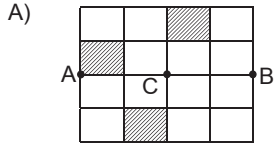


Yukarıdaki kare şeklindeki şeffaf levhanın bazı bölümleri siyah renge boyanmıştır. Levha, C noktası etrafında 360° dönme ve AB doğru parçası etrafında 180° dönme yapabilecek şekilde tasarlanmıştır.

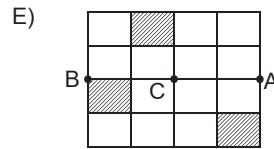
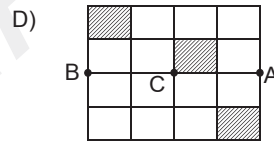
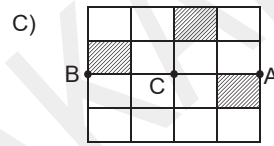
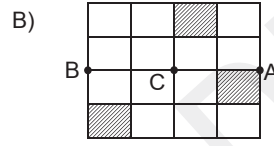
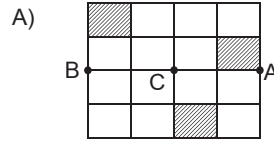
44. Buna göre levhanın C noktası etrafında 180° döndürülmesi sonucu elde edilen yeni görüntü aşağıdakilerden hangisidir?



45. Levhanın AB doğru parçası etrafında 180° dönmesi sonucu elde edilen yeni görüntü aşağıdakilerden hangisidir?



46. Levhanın önce C noktası etrafında 180° ve ardından AB doğru parçası etrafında 180° döndürülmesi sonucu elde edilen yeni görüntü aşağıdakilerden hangisidir?



47. İlk günkü satışı 4700 ekmek olan A fırınının günlük satışında 150 ekmek azalma, ilk günkü satışı 2300 ekmek olan B fırınının günlük satışında 90 ekmek artma görülüyor.

Aynı gün satışa başlayan bu iki fırının kaç gün sonraki ekmek satışlarının sayısı aynı olur?

- A) 6 B) 8 C) 10 D) 12 E) 15

48. Yücel bir fuarda katıldığı 3 bölümlük bir oyunun ilk bölümünde parasını 2 katına çıkarıyor ve kızı için 30 TL harcıyor. 2 bölümde parasını 3 katına çıkarıyor ve eşi için 54 TL harcıyor. 3. bölümde ise parasını 4 katına çıkarıyor ve kendisi için 72 TL harcıyor. Eve döndüğünde 48 TL kaldığını görüyor.

Buna göre, başlangıçta Yücel'in kaç TL'si vardır?

- A) 25 B) 26 C) 27 D) 28 E) 29

49. Bir telefon şirketi uzun görüşmeler için yeni bir kampanya başlatıyor. İlk 5 dakika için sabit bir ücret ve bundan sonraki her bir dakika için belli bir ücret belirleniyor.

9 dakikalık bir görüşmenin ücreti 2 TL ve 13 dakikalık bir görüşmenin ücreti 3 TL olduğuna göre, 21 dakikalık bir görüşmenin ücreti kaç TL dir?

- A) 5 B) 7 C) 9 D) 12 E) 15

50. Belirli bir yükseklikten bırakılan bir top yere her vuruşundan sonra bir önceki düşüş yüksekliğinin $\frac{1}{5}$ 'i kadar yükselmektedir.

Top yere dördüncü vuruşundan sonra 1 cm yükseldiğine göre, başlangıçta kaç cm yükseklikten bırakılmıştır?

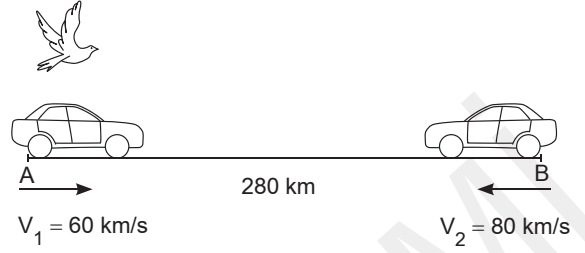
- A) 575 B) 625 C) 680 D) 725 E) 900

51. Kenan ile Kerem'in bugünkü yaşları toplamı 18'dir. Kenan doğduğu yıldan 3 yıl önce, Kerem doğduğu yıldan 5 yıl sonra doğmuş olsaydı bugünkü yaşları eşit olacaktı.

Buna göre, Kenan'ın bugünkü yaşı kaçtır?

- A) 3 B) 4 C) 5 D) 6 E) 7

52.

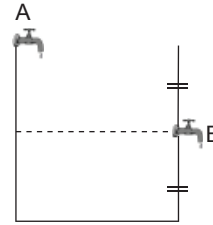


Aralarında 280 km mesafe bulunan iki araç, A ve B kentlerinden sırasıyla 60 km/saat ve 80 km/saat hızla birbirlerine doğru aynı anda hareket ediyor. Araçların hareketleriyle aynı anda, A kentinden $V_A = 100 \text{ km/saat}$ hızla bir kuş B kentinden gelen araca doğru uçmaya başlıyor ve araçla karşılaştığı anda geri dönüp A'dan gelen araçla karşılaşıyor. Kuş bu hareketini araçlar karşılaşıncaya kadar devam ettiriyor.

Buna göre, kuşun aldığı toplam yol kaç km dir?

- A) 100 B) 180 C) 200 D) 240 E) 280

53.



A musluğu boş havuzu tek başına 48 saatte dolduruyor. Havuzun ortasındaki B musluğu ise kendi seviyesine kadar olan kısmı 36 saatte boşaltıyor.

İki musluk birlikte açılırsa boş havuz kaç saatte dolar?

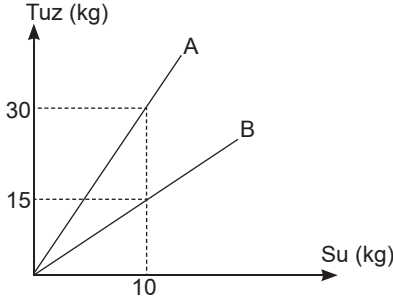
- A) 84 B) 89 C) 92 D) 96 E) 98

54. Bir satıcı 80 tane yumurtayı %30 kârla satmayı düşünüyor. Yumurtaların bir kısmı kırık çıktığından satıcı sağlam yumurtaları %60 kârla satarak aynı parayı kazanıyor.

Buna göre, sağlam yumurtaların sayısı kaçtır?

- A) 65 B) 68 C) 70 D) 72 E) 75

55.

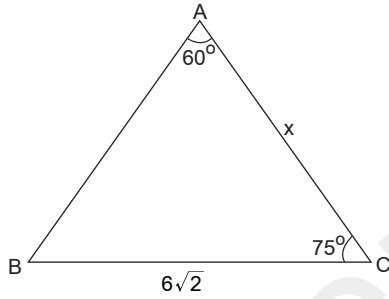


Yukarıdaki grafik A ve B karışımlarının içindeki tuz ve su miktarlarını göstermektedir.

Buna göre, A karışımından 40 kg, B karışımından 60 kg alınarak oluşturulan yeni karışımın tuz yüzdesi kaç olur?

- A) 64 B) 65 C) 66 D) 67 E) 68

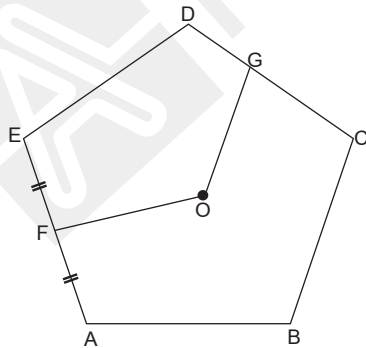
56.



ABC üçgeninde; $m(\widehat{BAC}) = 60^\circ$, $m(\widehat{ACB}) = 75^\circ$
 $|BC| = 6\sqrt{2}$ cm olduğuna göre $|AC| = x$ kaç cm dir?

- A) $2\sqrt{3}$ B) $3\sqrt{3}$ C) $4\sqrt{3}$
 D) $5\sqrt{3}$ E) $6\sqrt{3}$

57.



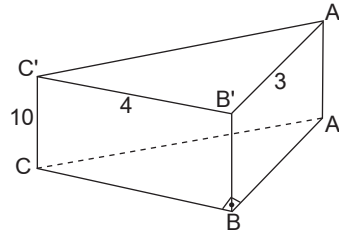
Şekildeki düzgün beşgende; O noktası çevrel çemberin merkezidir.

$|EF| = |AF|$, $|GC| = 2 \cdot |DG|$ olduğuna göre,

$\frac{A(ABCGOF)}{A(DEF OG)}$ oranı kaçtır?

- A) $\frac{9}{11}$ B) $\frac{13}{11}$ C) $\frac{15}{11}$ D) $\frac{17}{11}$ E) $\frac{19}{11}$

58.



Şekildeki dik üçgen dik prizma, $|A'B'| = 3$ cm, $|B'C'| = 4$ cm, $|CC'| = 10$ cm olduğuna göre, prizmanın yanal alanının sayısal değeri ile hacminin sayısal değerinin toplamı kaçtır?

- A) 90 B) 98 C) 120 D) 180 E) 204

59. - 60. soruları aşağıdaki grafiğe göre cevaplayınız.



Yukarıdaki sütun grafiği, bir çiftçinin üreterek sattığı buğdayın yıllara göre miktarını göstermektedir.

59. Bu çiftçinin sattığı buğdayların 5 yıllık ortalaması kaç tondur?

- A) 15 B) 20 C) 26 D) 28 E) 30

60. Sattığı tüm buğday miktarı daire grafiği ile gösterildiğinde, 2010 yılına ait satış miktarını gösteren daire diliminin merkez açısının ölçüsü kaç derece olur?

- A) 60 B) 65 C) 68 D) 72 E) 75

1. Bu testte 60 soru vardır.

2. Cevaplarınızı, cevap kağıdının Genel Kültür Testi için ayrılan kısmına işaretleyiniz.

1. Eski Türklerle ilgili aşağıdaki destan-devlet eşleştirmelerinden hangisi **yanlıştır**?

- A) Ergenekon Destanı - Göktürkler
- B) Manas Destanı - Uygurlar
- C) Oğuz Kağan Destanı - Asya Hunları
- D) Bozkurt Destanı - Göktürkler
- E) Göç Destanı - Uygurlar

2. Aşağıdakilerden hangisi Karahanlılarla (840-1212) ilgili **değildir**?

- A) Orta Asya'da kurulan ilk Müslüman Türk devletidir.
- B) Karluk, Yağma, Çiğil ve Tuhsi gibi Türk boylarının desteğiyle kurulmuştur.
- C) Hükümdarları kara, buğra, kadir, arslan, han gibi unvanlar kullanmışlardır.
- D) İkili yönetim anlayışını devam ettirmişlerdir.
- E) Abbasi halifelerini dış baskılara karşı korumuşlardır.

3. Türk-İslam devletlerinde Selçuklular Dönemi'nde uygulanmaya başlanan ikta sistemiyle ilgili;

- I. İktalar özel mülkiyet olmadığından bunların hibe, vakıf ve satışına müsaade edilmezdi.
- II. Küçük iktalarda toprağın kullanım hakkı babadan oğula geçmekteydi.
- III. İkta sahipleri halktan kanunlarla tespit edilen vergiden başka talepte bulunamazlardı.
- IV. İkta sistemi Harzemşahlar, Memlûkler ve Eyyûbiler gibi devletler tarafından da uygulanmıştır.

bilgilerinden hangileri doğrudur?

- A) Yalnız I
- B) Yalnız III
- C) I ve III
- D) I, III ve IV
- E) I, II, III ve IV

4. Osmanlı Devleti'nde I. Murat Dönemi'nde;

- I. gümüş paranın basılması,
- II. Rumeli Beylerbeyliği'nin kurulması,
- III. Sırpsındığı Savaşı'nın yapılması

gelişmelerinden hangileri yaşanmıştır?

- A) Yalnız I
- B) Yalnız II
- C) Yalnız III
- D) II ve III
- E) I, II ve III

5. Aşağıdakilerden hangisi Osmanlı Devleti'nin Yükselme Dönemi gelişmeleri arasında **yer almaz**?

- A) Hint Deniz Seferleri'nin düzenlenmesi
- B) Avusturya arşidükünün protokolde Osmanlı sadrazamına denk sayılması
- C) Batı'da en geniş sınırlara ulaşılması
- D) Cem Sultan Olayı'nın ve Şahkulu İsyanı'nın yaşanması
- E) İran'la ilk resmî antlaşmanın imzalanması

6.

- I. Kaptanıderya
- II. Defterdar
- III. Kazasker

Osmanlı Devleti'yle ilgili yukarıdaki Divanihümayun üyelerinin temsil ettikleri sınıfların kalemiye, ilmiye ve seyfiye şeklinde doğru sıralanış biçimi aşağıdakilerden hangisidir?

- A) I, II, III
- B) I, III, II
- C) II, I, III
- D) II, III, I
- E) III, I, II

7.

- Kale kuşatmalarında surları yıkmakla, tünel kazmakla, top fitillerinin ateşlenmesiyle ve köprü yapmakla görevli askerî sınıf
- Havan topu, el bombası ve mermi yapmakla görevli askerî sınıf
- Sınır ve uçlarda bulunan, atlı birliklerden oluşan, keşif birlikleri olma özelliği taşıyan askerî sınıf
- Kapıkulu askerlerinin silah yapım ve onarımından sorumlu olan askerî sınıf

Osmanlı Devleti'nin ordu teşkilatıyla ilgili aşağıda verilenlerden hangisinin açıklaması yukarıda yoktur?

- A) Cebelü B) Cebeci C) Humbaracı
D) Lağımçı E) Akıncı

8. İstanbul'da bulunan Sultan Ahmet Camii için aşağıdaki bilgilerden hangisi doğru **değildir**?

- A) Mimarbaşı Sedefkâr Mehmet Ağa tarafından yapılmıştır.
B) Osmanlı Klasik Dönem eserleri arasında yer alır.
C) III. Ahmet Dönemi'nde yapılmıştır.
D) Avrupa'da "Mavi Camii" olarak tanınır.
E) Altı minareye sahip olan caminin pencereleri renkli cam süslemelerle (vitray) bezenmiştir.

9. XVII. yy. da Osmanlı Devleti'nde idari, mali ve askerî durum bozuldu. Bu yüzden İstanbul ve Anadolu'da büyük tehlikeler oluşturan isyanlar çıktı.

Aşağıdakilerden hangisi XVII. yy. İstanbul İsyancıları'nın sebeplerinden biri **değildir?**

- A) Yeniçerilerin sık sık cülus bahşişi almak istemeleri
B) Devlet yönetiminde etkin olmak isteyen devlet adamlarının yeniçerileri kışkırtmaları
C) Yeniçerilerin maaşlarının zamanında ödenmemesi
D) Merkezî otoritenin zayıf olması
E) Avrupa tarzı islahatların yapılması

10. Osmanlı Devleti'nde XIX. yy. da görülen değişimin topluma yansımaları arasında;

- I. modern yargılama usulleri uygulayan mahkemelerin kurulması,
II. kadına meslek edindirmeyi amaçlayan okulların açılması,
III. medrese eğitime son verilerek eğitimde birliğin sağlanması,
IV. her alanda gayrimüslimlere, Müslümanlarla eşit haklar tanınması

gelişmelerinden hangileri **yer almaz?**

- A) Yalnız II B) Yalnız III C) I ve III
D) II ve III E) II, III ve IV

11. Aşağıdakilerden hangisi II. Abdülhamit Dönemi'nde (1876-1909) yaşanan gelişmeler arasında **yer almaz**?

- A) Sanayi-i Nefise Mektebinin açılması
B) Bab-ı Âli Baskını'nın gerçekleşmesi
C) Ziraat Bankasının kurulması
D) Düyun-ı Umumiye İdaresinin kurulması
E) Berlin-Bağdat demir yolu ihalesinin Almanya'ya verilmesi

12. 31 Mart Olayı'ndan sonra 1909'da Kanunuesasi'de yapılan değişiklikler arasında aşağıdakilerden hangisi **yer almaz**?

- A) Padişahın sürgün yetkisi elinden alındı.
B) Hükümet, padişaha karşı değil meclise karşı sorumlu hâle getirildi.
C) Seçimlere katılmada aranan vergi verme şartı kaldırıldı.
D) Padişahın veto hakkı sınırlandırıldı.
E) Padişahın milletler arası antlaşmaları onaylama yetkisi Meclis-i Umumînin tasdiki şartına bağlandı.

13. Trablusgarp Savaşı'nın nedenleri arasında;

- I. İtalya'nın ham madde ve pazar arayışı,
- II. Reval Görüşmeleri,
- III. İtalya'nın 1896'daki Habeşistan başarısızlığını telafi etmek istemesi

gelişmelerinden hangileri yer alır?

- A) Yalnız I B) Yalnız II C) Yalnız III
D) I ve III E) I, II ve III

14. 30 Ekim 1918'de imzalanan Mondros Ateşkes Anlaşması kapsamında;

- I. Boğazlar,
- II. Vilayet-i Sitte,
- III. Toros tünelleri

konularından hangileriyle ilgili ifadelere yer verilmiştir?

- A) I, II ve III B) I ve II C) Yalnız III
D) Yalnız II E) Yalnız I

15. Aşağıdaki basın-yayın organlarından hangisi Millî Mücadele'nin karşısında ver almamıştır?

- A) Hakimiyet-i Milliye
- B) Peyamı Sabah
- C) Türkçe İstanbul
- D) Alemdar
- E) Aydede

16. San Remo Konferansı'ndan (18-26 Nisan 1920) sonra Osmanlı Devleti 10 Ağustos 1920'de Sevr Antlaşması'nı imzalamıştır.

Aşağıdakilerden hangisi Sevr Antlaşması için doğru bir bilgi değildir?

- A) Reşat Halis, Rıza Tevfik ve Hadi Paşa tarafından imzalanmıştır.
- B) Boğazların yönetimi uluslararası bir komisyona bırakılmıştır.
- C) Saltanat Şurası tarafından onaylanmıştır.
- D) Osmanlı Devleti'nin maliyesinin tamamen İtilaf Devletlerinin denetiminde olması kararlaştırılmıştır.
- E) Kapitülasyonların kaldırıldığı Anlaşma Devletleri tarafından kabul edilmiştir.

17. 22 Haziran 1919'da yayımlanan Amasya Genelgesi için;

- I. Kurtuluş Savaşı'nın amaç, yöntem ve gerekçesi belirlenmiştir.
- II. Millet iradesine dayalı yeni bir devletin ilk işaretleri verilmiştir.
- III. Osmanlı Hükûmeti'nin görevini yerine getiremediği ilk kez dile getirilmiştir.

bilgilerinden hangileri doğrudur?

- A) Yalnız I B) Yalnız II C) I ve II
D) I ve III E) I, II ve III

18. 28 Ocak 1920'de Son Osmanlı Mebusan Meclisinde kabul edilen Misakımillî kapsamında;

- I. millî ve bölünmez Türk vatanının sınırları,
- II. kapitülasyonlar,
- III. boğazlar,
- IV. azınlıklar

konularından hangileri ile ilgili ifadeler yer almıştır?

- A) I, II, III ve IV B) I, II ve IV C) I, III ve IV
D) II, III ve IV E) III ve IV

19.

- İtalya'nın Anadolu'da işgal ettiği yerleri tamamen boşaltması,
- Fransa ile TBMM Hükûmeti arasında Ankara Antlaşması'nın imzalanması,
- 1683 Viyana Kuşatması'ndan sonra başlayan ve asırlarca süren Türk geri çekilişinin sona ermesi,
- TBMM tarafından Mustafa Kemal Paşa'ya "Gazi" unvanı ile askerî rütbelerin en büyüğü olan "Mareşal" rütbesinin verilmesi

kazanımları aşağıdaki savaşlardan hangisinin sonuçları arasındadır?

- A) I. İnönü
- B) Sakarya
- C) II. İnönü
- D) Büyük Taarruz
- E) Eskişehir-Kütahya

20. 17 Kasım 1924'te Ankara'da kurulan Terakkiperver (İlerici) Cumhuriyet Fırkası için aşağıdakilerden hangisi doğru değildir?

- A) Kurucuları arasında Ali Fuat Cebesoy, Kâzım Karabekir, Adnan Adıvar, Hüseyin Rauf Orbay gibi önemli şahsiyetler yer almıştır.
- B) Reiscumhur (Cumhurbaşkanı) seçilen kişinin mebusluk sıfatı son bulur fikrini savunmuşlardır.
- C) Parti, Bakanlar Kurulu kararıyla 5 Haziran 1925'te kapatılmıştır.
- D) Kapatılmasında Menemen Olayı etkilidir.
- E) Türkiye Cumhuriyeti'nin ilk muhalefet partisidir.

21. 17 Şubat - 4 Mart 1923'te toplanan İzmir İktisat Kongresi'nde alınan kararlar arasında aşağıdakilerden hangisi yer almaz?

- A) Tekelciliğin önüne geçilmesi
- B) Millî bankaların kurulmasının sağlanması
- C) Men'i İsrifat Kanunu'nun çıkarılması
- D) Türk kara sularında yük ve yolcu taşımacılığının Türklere bırakılması
- E) Sanayinin teşvik edilmesi ve yerli malı kullanılmasının sağlanması

22. Harf inkılabıyla okunması ve yazılması zor olan Arap harflerinin kaldırılmasının sonuçları arasında;

- I. okuma yazma öğreniminin kolaylaşması,
- II. Türkçe sözcüklerin yazıldığı gibi okunması,
- III. Millet Mekteplerinin açılması,
- IV. eğitim - öğretimin Millî Eğitim Bakanlığına bağlanması

gelişmelerinden hangileri yer alır?

- A) I ve II
- B) I ve III
- C) II ve III
- D) I, II ve III
- E) I, II, III ve IV

23. Türk kadını aşağıdaki haklardan hangisini diğerlerinden daha önce elde etmiştir?

- A) İsteddiği mesleği seçme
- B) Belediye üyesi seçme ve seçilme
- C) Muhtar seçme ve seçilme
- D) Milletvekili seçme ve seçilme
- E) Kendi soyadını kullanma

24. "Egemenlik kayıtsız, şartsız milletindir." yargısı Atatürk'ün;

- I. laiklik,
- II. halkçılık,
- III. cumhuriyetçilik

ilkelerinden hangilerinin gereğidir?

- A) Yalnız I
- B) Yalnız II
- C) Yalnız III
- D) I ve III
- E) I, II ve III

25. 20 Temmuz 1936'da imzalanan Montreux (Montrö) Boğazlar Sözleşmesi için aşağıdakilerden hangisi doğru değildir?

- A) İsviçre'de düzenlenen konferans sonucunda imzalanmıştır.
- B) Konferansta İtalya Türkiye'yi desteklemiştir.
- C) İmzalanmasında dünyadaki yayılmacı politikalar etkili olmuştur.
- D) Boğazlar Komisyonu'nun bütün görev ve yetkileri Türk Devleti'ne bırakılmıştır.
- E) Türkiye, Boğazlar bölgesini silahlandırarak Boğazlarda askerî kuvvet bulundurma hakkını elde etmiştir.

26.

Kavram

Açıklama

- I. Roma Yürüyüşü İtalya'da faşist partinin üyelerinin Napoli'den Roma'ya gerçekleştirdikleri ve Mussolini'nin başbakanlığa getirilmesini sağlayan yürüyüştür.
- II. Weimar Anayasası 1919 Ağustos'unda Almanya'da demokratik rejime geçilmesini sağlayan anayasadır.
- III. Gestapo Franko'nun İspanya iç savaşı için sivillerden oluşturduğu faşist milis güçleridir.
- IV. Halk Toplumu Almanya'da Nazilerin kendi rejimlerine verdikleri addir.
- V. Faşizm İtalya'da Mussolini'nin önderliğinde kurulan ırkçı ve baskıcı yönetim biçimidir.

Yukarıdaki kavramlardan hangisinin açıklaması, karşısında yanlış verilmiştir?

- A) I
- B) II
- C) III
- D) IV
- E) V

27. 1960 - 1980 yılları arasında Türkiye'nin sosyoekonomik yapısında köklü değişiklikler yaşandı.

Aşağıdakilerden hangisi bu süreçte yaşanan değişimlerden biri değildir?

- A) Köyden kente göçün artması
B) Sendikal faaliyetlerin yoğunlaşması
C) İşçi sayısının artması
D) İnternet kullanımının yaygınlaşması
E) Okullaşma oranının artması

28.



Yukarıdaki Türkiye haritasında verilen illerin yıl içindeki gündüz süreleri birbirine yakındır.

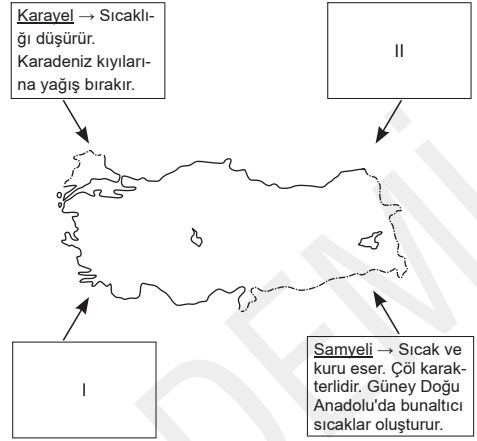
Buna göre;

- I. cisimlerin öğle vakitlerinde oluşan gölge boylarının aynı olması,
II. Dünya dönüşü sırasında birim zamanda alınan yollarının aynı olması,
III. 23 Eylül'de gece gündüz sürelerinin eşit olması

verilenlerden hangileri yukarıdaki durumun oluşmasına neden olan etkene bağlanabilir?

- A) Yalnız I B) Yalnız II C) Yalnız III
D) I ve II E) I, II ve III

29.



Yukarıda Türkiye'yi güneyden ve kuzeyden etkileyen rüzgârların bir kısmı verilmiştir.

Boş bırakılan yerlere hangi rüzgar ve özelliği getirilmelidir?

- | I | II |
|------------------------------------------------|--------------------------------------------------------------|
| A) Kible → Sıcaklığı artırır. Kuru eser. | Yıldız → Sıcaklığı düşürür. Kuru eser. |
| B) Lodos → Sıcaklığı yükseltir. Yağış getirir. | Poyraz → Sıcaklığı düşürür. Kuru-soğuk-ayaz etkiye sahiptir. |
| C) Lodos → Sıcaklığı artırır. Kuru eser. | Poyraz → Sıcaklığı düşürür. Kar yağışı ile nem sağlar. |
| D) Lodos → Sıcak ve yağışlıdır. | Yıldız → Isıyı düşürür. Soğuk ve kar yağışlıdır. |
| E) Keşişleme → Sıcak ve kurudur. | Poyraz → Sıcaklığı düşürür. Soğuk ve ayaz etkisi yaratır. |

30.



- Tarımsal nüfus yoğunluğu az
■ Tarımsal nüfus yoğunluğu fazla

Yukarıdaki Türkiye haritasında tarımsal nüfus yoğunluklarına göre değerlendirmeler yapılmıştır.

Bu değerlendirmelerin yapılmasında;

- I. arazinin yer şekilleri,
II. tarım faaliyetlerinde makine kullanabilme durumu,
III. tarım ürünlerinden alınan verim

durumlarından hangilerinin etkili olduğu söylenebilir?

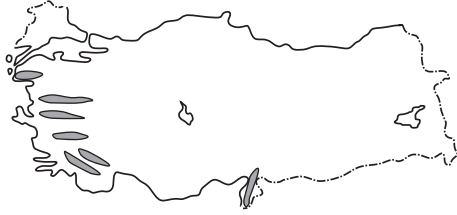
- A) Yalnız I B) Yalnız II C) Yalnız III
D) I ve II E) I ve III

31. Marmara ve Ege Bölgesi akarsuları yer şekilleri gibi doğal nedenlerle ve çevresinde yapılan ekonomik faaliyetlerin sonuçları ile birtakım ortak özelliklere sahiptir.

Aşağıda verilen bu ortak özelliklerden hangisi diğerlerinden farklı bir nedenle olmuştur?

- A) Menderes, kum adası gibi biriktirme şekilleri meydana getirir.
B) Hidroelektrik potansiyelleri düşüktür.
C) Derin vadiler oluşturarak akmadıklarından sel ve taşkın riskleri yüksektir.
D) Kirlilik oranları fazladır.
E) Akış hızları yavaştır.

32.



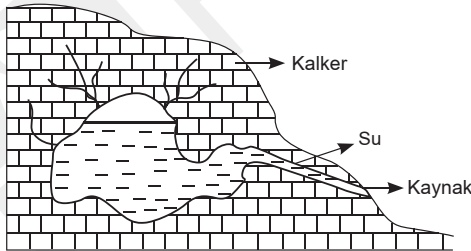
Yukarıdaki Türkiye haritasında yayılımı gösterilen dağ oluşumu alanlarıyla ilgili olarak;

- I. Jeotermal su kaynakları boldur.
II. Fay kırıklarına bağlı olarak depremsellik şiddeti fazladır.
III. Maden çeşit ve rezervleri bakımından zengindir.

yargılarından hangileri söylenebilir?

- A) Yalnız I B) Yalnız II C) Yalnız III
D) I ve II E) I, II ve III

33. Kalkerler içinde biriken sular çeşitli şekillerde yeryüzüne çıkarak aşağıdaki kaynakları oluşturur.



Yukarıda oluşumu gösterilen kaynak türü ile ilgili olarak;

- I. Kolay çözünebilir karstik arazilerin bulunduğu alanlarda birikerek meydana gelmiştir.
II. Sondaj yapılarak yeryüzüne çıkarılan kaynak türü basınç etkisiyle fışkırarak yeryüzüne ulaşır.
III. Sıcak su kaynaklarıdır.

yargılarından hangileri söylenebilir?

- A) Yalnız I B) Yalnız II C) Yalnız III
D) I ve III E) I, II ve III

34.



Yukarıdaki Türkiye haritasında Türkiye'nin bazı platoları taranarak gösterilmiştir.

Bu platolarda;

- I. karstik arazilerde bulunmaları,
II. yüksek ve engebeli olmaları,
III. seyrek nüfuslu olmaları

özelliklerinden hangilerinin ortak olduğu söylenebilir?

- A) Yalnız I B) Yalnız III C) I ve II
D) I ve III E) I, II ve III

35. Aşağıdakilerden hangisi toprak oluşumu ile ilgili doğru bir bilgi **değildir**?

- A) Nemli ve sıcak bölgelerde kimyasal ayrışma ön plandadır.
B) Kurak iklim bölgelerinde bitki örtüsü zayıf olduğundan humus bakımından fakir topraklar oluşur.
C) Ana kayanın direnci çözülmenin zorluk derecesini etkilemektedir.
D) Dış kuvvetler tarafından taşınan malzemelerden oluşan topraklar verimsizdir.
E) Toprak oluşumunda etkili olan faktörlerin başında iklim gelir.

36.



Yukarıdaki Türkiye haritasında pamuk üretim alanları gösterilmiştir. Pamuk ilk yetişme döneminde bol su isteyen, olgunlaşma döneminde kuraklık isteyen bir üründür. Ekiminden hasadına kadar yüksek sıcaklık isteyen bu ürün İç Anadolu ve Karadeniz Bölgelerinde yetiştirilmez.

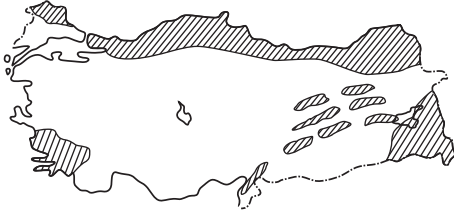
Buna rağmen İç Anadolu Bölgesi'nde Kayseri ve Ankara illerinde pamuklu dokuma fabrikalarının bulunması;

- I. ürünün çabuk bozulmaması,
II. Türkiye'de gelişmiş bir sanayi kolu olması,
III. İnstansif tarım yöntemleri ile ekim alanlarının İç Anadolu'da da genişlemesi

durumlarından hangilerine kanıt oluşturmaktadır?

- A) Yalnız I B) Yalnız II C) Yalnız III
D) I ve II E) II ve III

37.



Yukarıdaki Türkiye haritasında dağılışı gösterilen hayvancılık türü aşağıdakilerden hangisidir?

- A) Balıkçılık
- B) Besi ve ahır hayvancılığı
- C) Arıcılık
- D) Kümes hayvancılığı
- E) Büyükbaş mera hayvancılığı

38.



Yukarıda Türkiye'nin bazı önemli sanayi kuruluşları verilmiştir.

Hangisi ham madde üzerinde kurulu değildir?

- A) Bandırma Bor İşleme Tesisi
- B) Seydişehir Alüminyum Fabrikası
- C) Samsun Bakır İşleme Tesisi
- D) Elazığ Ferro-Krom Fabrikası
- E) Batman Petrol Rafinerisi

39.

- I. Ülkeye yabancı sermayenin ve teknolojinin getirilmesi, sağlanan teşviklerle ve avantajlarla düşük maliyetli mal üretme ve ihraç etme, amacıyla İzmit, İskenderun, Mersin, İzmir'de serbest ticaret bölgeleri kurulmuştur.
- II. 1980'lerden itibaren tarım toplumundan sanayi toplumuna geçilmiş, büyüyen ihracatın yanında ithalat da büyümüştür. Dış ticaret açığı devam etmektedir.
- III. Dış ticarete en önde gelen ülkeler Yunanistan, Gürcistan, Bulgaristan, Suriye gibi komşu ülkelerdir.

Yukarıdaki durum ve yargılardan hangileri Türkiye ticareti ile ilgili doğru bir değerlendirmedir?

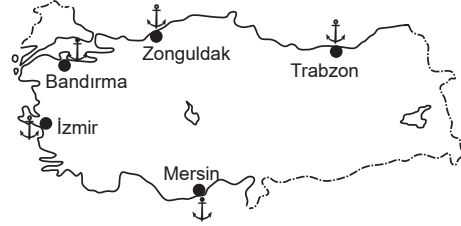
- A) Yalnız I
- B) Yalnız II
- C) I ve II
- D) II ve III
- E) I, II ve III

40. Doğada kendiliğinden bulunan, beşeri nedenlerle ortaya çıkmamış zenginlik kaynaklarına doğal kaynaklar adı verilir.

Aşağıda verilen doğal kaynak türü ve kullanım amacı eşleştirmelerinden hangisinde yanlıslık yapılmıştır?

Kaynak türü	Kullanım alanı
A) Orman	Mobilya - İlaç sanayi
B) Çakıl - Kum	Yol yapımı - İnşaat sektörü
C) Rüzgâr	Elektrik üretme - Taşımacılık
D) Kömür	Isınma - Elektrik üretme
E) Çayır - Otlaklar	Tarım - Ormancılık

41.



- I. Gelişmesinde önemli bir tarım ve sanayi bölgesi olması etkili olmuştur. Türkiye'nin en büyük ihracat limanıdır.
- II. Demir yolu bağlantısı olmamasına rağmen İran'a bağlanması nedeniyle uluslararası öneme sahiptir.
- III. Gelişmesinde çevresindeki ağır sanayi kuruluşları, gübre ve cam fabrikaları gibi kuruluşlar etkili olmuştur. Gelişmiş kara ve demir yolu bağlantıları vardır.
- IV. Bor minarellerinin ihracatında büyük öneme sahiptir.

Yukarıda verilen özellikler limanlarla eşleştirildiğinde hangi liman eşleştirmenin dışında kalır?

- A) Zonguldak Limanı
- B) Bandırma Limanı
- C) İzmir Limanı
- D) Trabzon Limanı
- E) Mersin Limanı

42. Türkiye'nin gelecek yıllardaki Turizm Stratejisi Kültür ve Turizm Bakanlığı tarafından hazırlanmıştır.

Aşağıdakilerden hangisi bu stratejiler içerisinde yer almaz?

- A) Sağlık turizmi, termal turizm, golf turizmi, ekoturizm gibi turizm sahalarını alternatif turizm de öncelikli hâle getirmek
- B) Sürdürülebilir turizm yaklaşımını benimsemek ve bu alanda istihdamı artırmak
- C) Deniz turizmini turizm faaliyetleri içinde öncü sektör konumuna getirmek
- D) Ulusal, bölgesel ve yerel ölçekte markalaşmak, tanıtım ve pazarlama faaliyetlerine bu yönde başlamak
- E) Ekonomik gelişimi destekleyen, fiziksel düzeyde uygulanabilir, sürdürülebilir turizm ilkesi içeren planlama yaklaşımları ortaya koymak


43.

- Geniş bir hinterlanda sahip işlek ulaşım yollarının kavşak noktasındadır.
- Sahada orta veya büyük ölçekli sanayi tesisleri, ticaret mallarının satıldığı, alındığı, depolandığı çok sayıda iş yeri - pazar - panayır ve fuarlar görülür.
- İthalat ve ihracat yoğundur.
- Hizmet sektörü gelişmiştir ve çalışanların oranı yüksektir.

Yukarıda özellikleri verilen fonksiyonlarına göre gruplandırılan ticaret şehri grubuna aşağıdakilerden hangisi giremez?

- A) Manisa
- B) Gaziantep
- C) Nevşehir
- D) İzmir
- E) Ankara

44.



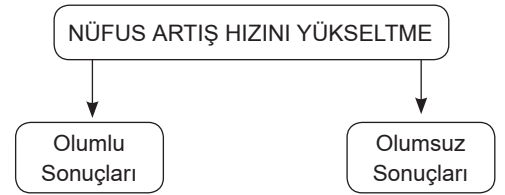
Türkiye nüfusunun yaş pramidinden yararlanılarak;

- I. bağımlı nüfus oranı,
- II. genç nüfusun yaşlı nüfusa oranı,
- III. çalışan nüfusun ekonomik faaliyet kollarına dağılımı

bilgilerinden hangilerine ulaşılabilir?

- A) Yalnız I
- B) Yalnız II
- C) Yalnız III
- D) I ve II
- E) I, II ve III

45.



- I. Vergi gelirleri artar.
- II. Mal ve hizmetlere talep artar.
- III. Tasarruflar azalır.
- IV. Yeni sanayi kolları kurulur.
- ★ Çevre kirliliği artar.
- * Ekonomik bağımlılık oranı yükselir.
- Kişi başına düşen milli gelir azalır.
- ▲ İşçi ücretleri ucuzlar.

Yukarıdaki diagramda Türkiye'deki nüfus artışının yükselmesinin olumlu ve olumsuz sonuçları verilmiştir.

Diagramda yapılan hata hangi verilerin yer değiştirmesiyle düzeltilir?

- A) III ve ▲
- B) I ve *
- C) II ve ▲
- D) III ve *
- E) IV ve ★

46. Hukukta kişiler tarafından yerine getirilmeyen yükümlülüklerin, devlet eliyle zorla gerçekleştirilmesine ne ad verilir?

- A) Ceza
- B) İptal
- C) Cebri icra
- D) Tazminat
- E) Hükümsüzlük

47. Bir davada ileri sürülen taleplerin maddi hukuk kurallarına göre incelenmesi sonucunda, davanın esas bakımından kabulü veya reddi şeklinde mahkemece verilen nihai karara ne ad verilir?

- A) Teamül
- B) Doktrin
- C) Teori
- D) Hüküm
- E) İstinaf

48. Bir insanın maddi, manevi ve iktisadi bütünlüğü ve varlıkları üzerinde sahip olduğu mutlak haklara ne ad verilir?

- A) Şahsiyet hakları
- B) Nispi haklar
- C) Alalade haklar
- D) Bağımlı haklar
- E) Malvarlığı hakları

49. Aşağıdakilerden hangisi Anayasa Mahkemesinin görevleri arasında yer almaz?

- A) Siyasi partilerin kapatılmasına ve devlet yardımından yoksun bırakılmasına ilişkin davaları karara bağlamak
- B) Siyasi partilerin mal edinmeleri ile gelir ve giderlerinin kanuna uygunluğunu denetlemek
- C) Mahkeme üyeleri arasından Anayasa Mahkemesi Başkanı ve başkanvekillerini seçmek
- D) Yüce Divan sıfatıyla kişileri yargılamak
- E) Danıştay başkanını seçmek

50.

- I. Cumhurbaşkanı
- II. Dışişleri Bakanı
- III. Kara Kuvvetleri Komutanı
- IV. Millî Eğitim Bakanı

Yukarıdakilerden hangisi, Millî Güvenlik Kurulunun üyeleri arasında yer alır?

- A) Yalnız I
- B) I ve II
- C) I, II ve III
- D) II, III ve IV
- E) I, II, III ve IV

51. Bakanlar Kurulu'nun hazırlayarak Türkiye Büyük Millet Meclisine sunduğu kanun projelerine ne ad verilir?

- A) Kanun hükmünde kararname
- B) Tüzük
- C) Yönetmelik
- D) Kanun tasarısı
- E) Kanun teklifi

52. Merkezî idarenin yerinden yönetim kuruluşları üzerinde denetim yetkisi kullanmasına ne ad verilir?

- A) Kamu hizmeti
- B) Kolluk hizmeti
- C) Hiyerarşi
- D) Vesayet
- E) Terkin

53. Aşağıdaki ifadelerden hangisi, köyle ilgili doğru bir ifade değildir?

- A) Köy, özel hukuk tüzel kişidir.
- B) Köy, hukuki işlem yapabilir; hak ve borç altına girebilir.
- C) Köyün organları, köy derneği, köy ihtiyar meclisi ve muhtardır.
- D) Köy derneği, köyde bulunan kadın erkek bütün seçmenlerden oluşan bir kuruldur.
- E) Köy, mahkemeler huzurunda davacı veya davalı olabilir.

54. Aşağıdakilerden hangisi, idare hukukunun özellikleri arasında yer almaz?

- A) İdare hukuku işlemleri "tek taraflı"dır.
- B) İdare hukuku "tedvin" edilmiş bir hukuk dalıdır.
- C) İdare hukuku bağımsız bir hukuk dalıdır.
- D) İdare hukuku, büyük ölçüde "içtihadî" bir hukuk dalıdır.
- E) İdare hukuku genç bir hukuk dalıdır.

55. Aşağıdakilerden hangisi Avrupa İnsan Hakları Mahkemesinin organları arasında yer almaz?

- A) Genel Kurul
- B) Vesayet Konseyi
- C) Komite
- D) Daire
- E) Büyük Daire

56. Dünya Turizm Örgütü'nün 2013 ilk 8 aylık raporuna göre Türkiye turizm gelirini arttıran kaçınıcı ülke olmuştur?

- A) 1
- B) 2
- C) 3
- D) 4
- E) 5

57. 2014 FIBA Kadınlar Dünya Şampiyonası nerede yapılacaktır?

- A) Kanada
- B) Küba
- C) Danimarka
- D) Brezilya
- E) Türkiye

58. 50 TL ile karıştırıldığı için rengi değişen para birimi aşağıdakilerden hangisidir?

- A) 5 TL
- B) 10 TL
- C) 20 TL
- D) 100 TL
- E) 200 TL

59. 2013 UNESCO Somut Olmayan Kültürel Miras Başkenti aşağıdaki illerimizden hangisidir?

- A) Ankara
- B) İzmir
- C) İstanbul
- D) Eskişehir
- E) Nevşehir

60. Aşağıdakilerden hangisi, Avrupa Birliğinin 1 Temmuz 2013 tarihi itibarıyla 28. üyesi olan ülkedir?

- A) Yunanistan
- B) Hırvatistan
- C) Danimarka
- D) Bulgaristan
- E) Romanya