

KPSS

KAMU PERSONELİ SEÇME SINAVI

GENEL YETENEK

GENEL KÜLTÜR

DENEME SINAVI

D
E
N
E
M
E

DİKKAT!
SINAVA BAŞLAMADAN ÖNCE AŞAĞIDAKİ UYARILARI MUTLAKA OKUYUNUZ.

- Adınızı, soyadınızı, T.C. Kimlik Numaranızı ve kurum kodunu optik forma mutlaka işaretleyiniz. Kurum kodu ve T.C kimlik numarası karnenizin oluşturulabilmesi için özellikle gereklidir.
- Genel Yetenek - Genel Kültür Testi için verilen toplam cevaplama süresi 120 dakikadır (2 saat).
- Bu testte 120 soru vardır.
- Cevaplamaya istediğiniz sorudan başlayabilirsiniz. Her soru ile ilgili cevabınızı, cevap kâğıdında o soru için ayrılmış olan yere işaretlemeyi unutmayınız.
- Sınav sonucunuzu www.yaklasimkariyer.com adresinden TC kimlik numaranızı girerek öğrenebilirsiniz.
- Türkiye Geneli Deneme sınavına ait **cevap anahtarı ve soruların çözümleri** sınavın uygulandığı son gün www.yaklasimkitap.com adresinde yayınlanacaktır.
- Bu test puanlanırken testteki doğru cevaplarınızın sayısından yanlış cevaplarınızın sayısının dörtte biri düşülecek ve kalan sayı testle ilgili ham puanınız olacaktır. Bu nedenle, hakkında hiçbir fikriniz olmadığı soruları boş bırakınız. Ancak, soruda verilen seçeneklerden birkaçını eleyebiliyorsanız kalanlar arasından doğru cevabı kestirmeye çalışmanız yararınıza olabilir.

Bu testlerin her hakkı saklıdır. Hangi amaçla olursa olsun, testlerin tamamının veya bir kısmının yayınevimizin yazılı izni olmadan kopya edilmesi, herhangi bir yolla çoğaltılması, yayımlanması ya da kullanılması yasaktır. Bu yasağa uymayanlar gerekli cezai sorumluluğu ve testlerin hazırlanmasındaki mali külfeti peşinen kabullenmiş sayılır.

Yaklaşım Kariyer Yayıncılık ve Dağıtım Ltd.Şti

GMK Bulvarı No: 19 Kızılay-ANKARA

Tel: (0312) 229 84 94

Web: www.yaklasimkitap.com - www.yaklasimkitabevi.com

e-posta: bilgi@yaklasimkitap.com

GENEL YETENEK

DİKKAT: BU BÖLÜMDE YANITLAYACAĞINIZ SORU SAYISI 60'TIR.

1-30 SORU : "Türkçeyi Kullanma Gücü"

30-60 SORU : "Matematiksel İlişkilerden Yararlanma Gücü" ile ilgilidir.

Bu bölümdeki sorularla ilgili cevaplarınızı, cevap kağıdınızdaki "**GENEL YETENEK**" bölümüne işaretleyiniz.

1. Şiir subjektiftir çünkü bizzat şair tarafından kişisel bilgi, algı, zeka ve metafiziğe göre şekillendirilir. Ve şiir evrenseldir çünkü şair olsa da olmasa da temelde insanı ele alır. Kısacası şiir, William Faulkner'in kutsal yargılar için söylediği "yüreğe dokunmak" fiilini yaparak kendini evrenselleştirir.

Bu parçadaki altı çizili sözle anlatılmak istenen aşağıdakilerden hangisidir?

- A) Kişiyi acılarıyla yüz yüze getirmek
B) Kişiyi içten, duygusal yönden etkilemek
C) Kişiye duyarlılık kazandırmak
D) Kişiyi anlatımın soyutluğuna sürüklemek
E) Kişinin somut dünyaya karşı farkındalığını artırmak

2. Aşağıdaki dizelerin hangisinde karşıt kavramlar bir arada verilmiştir?

- A) Dünle beraber gitti cancağızım
Şimdi yeni bir şeyler söylemek lazım
B) Ayrılıktan zor belleme ölümü
Görmeyince sezilmiyor Mihriban
C) Şimdi sil baştan yaşanır mı hayatım
Yoksa geçmişi silmem mi lazım
D) Zerdali güzel gözlerinle bak bana
Baldan tatlı sözlerinle gül bana
E) İlk selam mı yoksa son veda mı
Başı belli, sonu değil

3. (I) Dünya'nın en büyük çölü olan Sahra, kurak toprak için bir ölçüdür. (II) Bağlı nem oranı tek basamaklı sayılara kadar inmektedir. (III) Yüz yıl boyunca sadece bir kez yağış alan yerleri vardır. (IV) Burada, yaşamı boyunca bir damla su düştüğünü görmeyen insanlar yaşamaktadır. (V) Bununla birlikte, ilginçtir ama, Sahra'nın altında küçük bir denizi doldurmaya yetecek kadar yer altı suyu vardır.

Bu parçadaki numaralanmış cümlelerin hangisinde "karşılaştırma" söz konusudur?

- A) I. B) II. C) III. D) IV. E) V.

4. (I) Büyük Ağrı Dağı'na çıkmayı planlayanlar, kış koşullarına göre kaz tüyü kaban, su geçirmez elyaf giysiler, kar tipi botlar yanına almalı. (II) Çünkü Ağrı'nın zirvesinde her mevsim kar fırtınası olabiliyor. (III) 5137 metredeki bu dağın zorlu zirvesine profesyonel bir rehberle çıkmalısınız. (IV) Bu arada sizin de sağlık kontrolünden geçmiş ve biraz da antrenmanlı olmanız gerek. (V) Doğubeyazıt Dağcılık Kulübü rehberleri, bu konuda her yaşta turistlere rehberlik ediyor. (VI) Ancak bir şartla, kurallara uyacaksınız!

Bu parçadaki numaralanmış cümlelerle ilgili olarak aşağıda verilenlerden hangisi yanlıştır?

- A) I. cümlede, gereklilik anlamı verilmiştir.
B) II. cümlede, varsayım yapılmıştır.
C) III. cümlede, niteleyici ögelere yer verilmiştir.
D) IV. cümlede, öznel bir açıklama yapılmıştır.
E) VI. cümlede, koşul bildirilmiştir.

5. (I) Yaşınız ilerledikçe, Alzheimer hastalığı gibi, hafızanızı etkileyen zihinsel hastalıklara yakalanma riskiniz artar. (II) Sık sık beyin sisi yaşayan insanlarda veya günlük hayatta karşılaştığımız basit unutkanlıkları yaşayan insanlarda Alzheimer hastalığının uyarıcı sinyallerini görebilirsiniz. (III) Alzheimer, zamanla kendini gösteren, tedavisi yapılamayan bir beyin hastalığıdır. (IV) Hastalık ne kadar erken fark edilirse ilerlemesi o kadar kolay durdurulur. (V) Kendinizde veya bir yakınınızda beyin sisi fark ederseniz, doktorunuzla görüşmeniz faydalı olacaktır.

Bu parçadaki numaralanmış cümlelerin hangisinde "tanımlama" yapılmıştır?

- A) I. B) II. C) III. D) IV. E) V.

6. I. arıların çiçeklerden topladığı
II. her ne kadar iştah kaçırmaya olsa da
III. nektarı kusmasıyla yapıldığını
IV. kahvaltıda masamızdaki balın
V. biliyor musunuz

Yukarıdaki numaralanmış sözlerle anlamlı ve kuralı bir cümle oluşturulduğunda sıralama aşağıdakilerden hangisi olur?

- A) V - I - II - IV - III B) II - IV - I - III - V
C) IV - I - II - V - III D) II - IV - III - I - V
E) IV - V - I - III - II

7. Kuzey ve Güney Anadolu sıradağları yurdumuza yağış getiren nemli hava kütlelerinin iç kesimlere girmesini engeller.

Bu cümleden aşağıdakilerden hangisine kesin olarak ulaşılabılır?

- A) Yurdumuzun yağış alamamasının tek nedeni kuzey ve güneyde bulunan dağların uzanış şeklidir.
B) Anadolu'nun kuzeyindeki ve güneyindeki sıradağlar yağışa neden olacak hava kütlelerinin içlere girmesine izin vermez.
C) Yağış getiren hava kütleleri yurdun iç kesimlerine kadar ilerler.
D) Kuzey Anadolu dağları nemli hava kütlelerinin oluşmasına neden olur.
E) Yağış getiren hava kütleleri sıradağlar sayesinde yurdun iç kesimlerine yağış bırakır.

8. Türkçe bir kelimenin sonunda "f, s, t, k, ç, ş, h, p" ünsüzleri bulunur ve bu kelimelere "c, d, g" ile başlayan ek getirilirse ekin başındaki yumuşak ünsüz sertleşir.

Aşağıdaki cümlelerin hangisinde bu kuralı örnekleyen bir sözcük kullanılmamıştır?

- A) Evrendeki en karmaşık soruların cevaplarını bu kitaptan öğreniyoruz.
B) Hastalık derecesindeki hassasiyetlerim yüzünden oldukça yavaş yazıyorum.
C) Her yıl, yüzlerce insan ölüyor trafik kazaları nedeniyle.
D) İnsanların topluma bakış açısı zaman geçtikçe değişiyor.
E) Köşedeki kuru yemişçiden içecek bir şeyler alırsın?

9. Aşağıdaki cümlelerin hangisinde yazım yanlışı vardır?

- A) Bu projenin orijinal halini her halükârda göreceğiz.
 B) Her gün bahçeden topladığı maydanoz ve soğanla salata yapardı.
 C) Her ne ise bize anlatmadığı, çok merak ediyoruz.
 D) Konuyla ilgili toplantıya Ahmet de katılacak mı ki?
 E) Bahar gelse de bizde şöyle güzel bir piknik yap-sak.

10. Genç yazarlarımızın çoğu () özensizce () kaleminin ucuna nasıl gelirse öylece yazıyorlar. Yazdıklarının bir günde unutulup geçeceğini biliyorlar da onun için mi özenmiyorlar () Hayır () hemen hepsi büyük sorunlarla uğraştıklarına, o sorunları çözecek güçte olduklarına kendilerini inandırmışlar () bu yüzden başarılı olmuyorlar.

Bu parçadaki boşluklara, aşağıdaki ortalama işaretlelerinden hangisi sırasıyla getirilmelidir?

- A) (;) (,) (?) (,) (,) B) (,) (;) (?) (;) (;)
 C) (,) (,) (?) (,) (;) D) (;) (;) (?) (,) (,)
 E) (,) (;) (?) (,) (;)

11. I. Size anlatılanlara biz de inanamadık.
 II. Onun bu pişkinliğine bir anlam veremedik.
 III. Çoğunluk sağlanamadığı için toplantı ertelendi.
 IV. Cesaretinin kırılmasına sen sebep oldun.
 V. Çevre temizliğine önem vermemek

Yukarıdaki cümlelerde geçen altı çizili sözcüklerden hangileri fiilimsi eki almamıştır?

- A) I. ve II. B) II. ve III. C) II. ve V.
 D) III. ve V E) IV. ve VI.

12. Kenan Işık'ı birden karşımda görünce çok şaşırdım, gözlerime inanmadım.

Bu cümleyle ilgili olarak aşağıdakilerden hangisi söylenemez?

- A) Sıralı cümledir.
 B) Kurallı birleşik fiil kullanılmıştır
 C) Birden çok zarf kullanılmıştır.
 D) "Karşımda" ve "gözlerime" sözcükleri hal eki almıştır.
 E) "Görünce" sözcüğü sıfat-fiil eki almıştır.

13. Türkler, tarihlerinin ilk dönemlerinden itibaren adaletle

önem vermiş; bunu devlet yönetiminde en iyi şekilde uygulamıştır. Şikayeti olan herhangi bir yurttaş, devlet başkanına başvurma ve davasının görülmesini isteme hakkına sahiptir.

Bu parçadaki numaralanmış sözlerden hangisi, eylemi belirtmek amacıyla kullanılmıştır?

- A) I. B) II. C) III. D) IV. E) V.

14. Altı haftadan beri gösterilen bu filmin tüm kopyaları mühürlendi ve el konuldu.

Bu cümledeki anlatım bozukluğu aşağıdakilerden hangisi yapılarak giderilebilir?

- A) "tüm" sözü cümleden çıkarılarak
- B) "ve" bağlacından sonra "kopyalarına" sözü getirilerek
- C) "gösterilen" sözü yerine "gösterimde olan" sözü getirilerek
- D) "bu" sözü cümleden çıkarılarak
- E) "altı haftadan" sözü yerine "haftalardan" sözü getirilerek

16. Toplumda çoğu insan resmin konusuyla ilgilenir ve resmi anladığını sanar. Ancak resmin konusunu bilme, resmi anlamak için yeterli değildir. Betimlenen konunun önemi, ressamın üslup ve anlatımına uygun seçilmesi nedeniyle büyüktür. Bunun yanı sıra resimde kişisel bir anlatımın varlığını görmek de çok önemlidir. Ressam doğayı anlatmaz; ondan esinlenir, onu yorumlar. "Bence, gerçek ressam, eşyayı olduğu gibi değil; duyduğu gibi resmedendir." diyen Van Gogh, resmi anlamının önemini belirterek resmin tek bir yönle anlamlandırılmaması gerektiğini bizlere vurgulamıştır.

Bu parçanın anlatımıyla ilgili olarak aşağıdakilerden hangisi söylenemez?

- A) Niteleyici ögeler kullanılmıştır.
- B) Tanık gösterme yapılmıştır.
- C) Yorumu yer verilmiştir.
- D) İnsana özgü nitelikler doğaya aktarılmıştır.
- E) Neden - sonuç cümlesine yer verilmiştir.

15. Aşağıdaki cümlelerin hangisinde bir anlatım bozukluğu vardır?

- A) Hepiniz başınızın çaresine bakın, benden yardım istemeyin.
- B) Çevresindeki insanlara güvenmiyor, onları yalancılıkla suçluyordu.
- C) Tırnak yemesinin nedeni, içine kapanık olmasıydı.
- D) Onlara, doğru konuşmayı öğretecek biri lazım.
- E) Bu anlayış, kültürel açıdan tekrar değerlendirilmeli.

17. İnsanın en asil uzvu hangisidir, diye sorsalar, hepimizin vereceği cevap şudur: Beyin. Halbuki insanı diğer yaratıklardan ayıran ve bütün hayvanlara nazaran üstün bir konuma çıkaran beyin değil, sadece elinin baş parmağıdır. Baş parmağın diğer parmaklarla birleşip iş görebilecek durumda olması, insanları asırlar boyu diğer canlılardan üstün kılmıştır.

Aşağıdakilerden hangisi bu parçadan çıkarılabilecek sonuçtur?

- A) El becerisi olmayan insanlar hayatın hiçbir dalında başarılı olamaz.
- B) Beyin ancak beden gücüyle çözülemeyen sorunları çözebilir.
- C) Düşünme yeteneği gelişmemiş insanlar yaşamı her yönüyle algılayamaz.
- D) İnsanı diğer canlılardan üstün kılan zekası değil, fiziki üstünlüğü olmuştur.
- E) Yetenek insanın doğuştan gelen bir özelliğidir.

18. Hiçbir dil gökten inmemiştir. Dili insanlar yaparlar. Zengin dediğimiz dillerin sözcüklerini, o dili konuşanlar ihtiyaç duydukça yapmışlar; zamanla dillerini zenginleştirmişlerdir. Yabancı dillerden sözcük almak zorundayız, düşüncesi bu nedenle bizi tembelliğe sürükleyecek ve yeni sözcükler yaratmaya çok elverişli olan dilimizin gelişmesini köstekleyecektir.

Bu parçada yazar aşağıdakilerden hangisi eleştirmektedir?

- A) Yabancı dil öğreniminin bir gereklilik haline getirilmesini
- B) Farklı dilleri öğrenmenin bir mecburiyet görülmesini
- C) Dilimizin söz varlığının yeterli olmamasını
- D) Dilin gelişimiyle ilgili kişilerin sorumluluk almak istememeleri
- E) Yabancı sözcük kullanımının zorunluluk haline getirilmesini

19. I. Dostlarımın ısrarı üzerine, öykülerimden gelişigüzel seçtiğim on bir tanesini yayımladım.
 II. Elimde daha böylece yüzlerce öykü var.
 III. Şimdi onları okuyanların da benimle aynı görüşü paylaştığını görüyorum ve bu hoşuma gidiyor.
 IV. Aslında öykülerimin güzel olduğunu ben daha yazarken biliyordum.
 V. Kitap yayımlandığı zaman, bu işten anlayanlar, bana bu öykülerin değerli olduğunu söylediler.
 VI. Çünkü ben de gerçekten iyi bir öykü yazarı olduğuma inanıyorum.

Yukarıdaki parçada anlam ve anlatım akışının düzelmesi için numaralanmış cümlelerden hangilerinin yer değiştirmesi gerekir?

- A) I. ve III. B) II. ve IV. C) III. ve IV.
- D) III. ve V. E) IV. ve VI.

20. Türk kültür mirasımıza ömrünü adayan mimar Ekrem Hakkı Ayverdi, Balkanlardaki Türk eserlerini değerli ekibi ile araştırmış, kitap haline getirerek bu araştırmaları ilim alemine sunmuş büyük bir araştırmacıdır. Beş cilt halindeki "Osmanlı İmparatorluğu'nun İlk Devir Mimarisi"ni bizlere kazandırması, başlı başına bir enstitü işidir. Arkasında 15 restorasyon, 81 makale, 16 dev eser bırakan bu mümtaz araştırmacı için hazırlanan anma kitabı, değerli makalelerden meydana gelmektedir.

Bu parçada Ekrem Hakkı Ayverdi ile ilgili aşağıdakilerden hangisine değinilmemiştir?

- A) Oluşturduğu eseri makalelerle şekillendirdiğine
- B) Balkanlardaki Türk eserlerini incelediğine
- C) Eserinin beş ciltten oluştuğuna
- D) Adına bir anma kitabı yazıldığına
- E) Türk kültürü için çalışmış bir mimar ve araştırmacı olduğuna

21. Mehmet Taner'in bir meslektaşı ve okuru olmaktan öte arkadaşım. Erken şiirleriyle erken yıllarımda karşılaştım. Ama şimdi şair ve şiir çevirmeni deneyimimle tüm şiirlerini okuduğumda beni şaşırtıyor. Mesleğin olgunluk evresinde beklenen bir dilsel süzülmeyle, yapı bilgisiyle şiir evrenine girdiğini görüyorum. Kendi şiirindeki imgeleri kullanarak ifade etmem gerekirse; iki yokluk iki varlık arasında hayat bulan bir çiçek gibi. Doğa, belki öz suyundan, belki de dolaştığı yörelerden olanaklar vermiştir ona.

Bu parçada belirtilen şair Mehmet Taner ve eserleriyle ilgili aşağıdakilerden hangisi söylenemez?

- A) Eserlerinde doğadaki unsurlara yer vermiştir.
- B) Alanındaki olgunluk evresi yaratıcılığını da etkilemiştir.
- C) Şiirde, biçem açısından kendini yenilemiştir.
- D) Özgün kişiliğini, sadece olgunluk dönemindeki eserlerinde göstermiştir.
- E) Eserlerinin, zıtlıklar arasındaki var oluşu anlatmıştır.

22. (I) Sanatçının kimi şiirlerinin derlendiği bu kitap üç bölümden oluşuyor. (II) Bunların ayrı bir kitapta toplanıp toplanmayacağını bilmiyorum. (III) Eğer böyle bir çalışma yapılmazsa bu üç bölümlük kitabın eksik bir seçki olarak kalacağını söylemeliyim. (IV) Sanatçının ürünlerini topluca tanıtmada bu yapının belirli bir işlevi olmayacak. (V) Kısacası yayımlanışındaki amaç gerçekleşmeyecek.

Bu parçada numaralanmış cümlelerin hangisinden sonra "Ancak, şairin bu kitaba girmemiş şiirleri de vardır." cümlesi getirilmelidir?

- A) I. B) II. C) III. D) IV. E) V.

23. Anlama ve kavramanın temelinde algılama yatar. İlişkiler bulabilme, ilişkilerden anlamlı sonuçlar çıkarabilme, çözümler yapabilme, ayrıntılı ögelere inebilme... Bunlar algılama becerisinin ürünleridir. Öğrenme süreci, önemli ölçüde bu algılama becerilerine dayanır. Yapılan araştırmalar algılama süreçlerinin doğuştan getirilen fizyolojik donanımla, sonradan kazanılan donanım gücünün dinamik birlikteliğinin ürünü olarak geliştiğini ortaya koymuştur.

Bu parçada algılamayla ilgili aşağıdakilerden hangisine değinilmemiştir?

- A) Fizyolojiyle oluştuğuna ve kazanılan donanımla geliştiğine
B) Anlama ve kavramanın temel taşı olduğuna
C) Öğrenme sürecindeki rolüne
D) Üzerine araştırmalar yapıldığına
E) Sürecin temelinin duyuşsal kayıt olduğuna

24. VE 25. SORULARI AŞAĞIDAKİ PARAGRAFA GÖRE CEVAPLAYINIZ.

İspanyol sinema yönetmeni Carlos Suara için çocukluk, yaşamımızın en güvensiz bölümüdür. Ünlü yönetmen şöyle der: "Ben kendi deneyimime dayanarak, çocukluğun insanın en mutlu dönemi olduğu fikrine katılmıyorum. Tam tersine bence çocukluk, her şey bir yana tamamen büyüklerin yönetiminde olduğu, korkularla geçtiği için yaşamımızın en güvensiz bölümüdür. ----"

24. Bu parça düşüncenin akışına göre aşağıdakilerden hangisiyle sürdürülebilir?

- A) Yine de her insan çocukluğunu özler.
B) Ve bütün güven sorunları hayatımızda silinmeyecek izler bırakır.
C) Çocukluk döneminde, temel ihtiyaçların karşılanması çok önemlidir.
D) Bu dönemin sağlıklı geçmesi aileye bağlıdır.
E) İnsanların ileride hangi statüde olacağı çocukluk dönemlerinde belli olur.

25. Bu parçayla ilgili aşağıdakilerden hangisi yanlıştır?

- A) Karşılaştırmaya yer verilmiştir.
B) Dönüşlülük zamiri kullanılmıştır.
C) Devrik cümleler kullanılmıştır.
D) Cümleye derecelendirme anlamı katan sözcüğe yer verilmiştir.
E) Doğrudan anlatıma başvurulmuştur.

**26. VE 27. SORULARI AŞAĞIDAKİ
PARAGRAFA GÖRE CEVAPLAYINIZ.**

(I) Sevmek, beğenmek bazen önceden verilmiş bir karardır. (II) Sağdan soldan duyduklarımız, oradan buradan edindiğimiz izlenimler, verdiğimiz ya da vermeğe gönüllü olduğumuz bir kararı pekiştiresin, güçlendirsin isteriz. (III) Çünkü her yargı belli bir konforu gerektirir. (IV) Biz o konuda doğru bir karar almış olduğumuza inandığımızda, yardım aldığımız söz parçalarıyla kendimizi ve kararlarımızı onaylayayım isteriz. (V) Sevgi kavramı günümüzde tahrip edilmiştir; bir nesneye, varlığa duyular sevgi artık katışıksız değildir. (VI) Ve biliriz ki sevilen, beğenilen her varlığın altında yatan "ben" öznesidir.

26. Bu parçadaki numaralanmış cümlelerin hangisi kendinden önceki cümlelerin gerekçesidir?

- A) II. B) III. C) IV. D) V. E) VI.

27. Bu parçadaki numaralanmış cümlelerden hangisi anlam akışını bozmaktadır?

- A) II. B) III. C) IV. D) V. E) VI.

**28. – 30. SORULARI AŞAĞIDAKİ
BİLGİLERE GÖRE CEVAPLAYINIZ.**

Sarı, beyaz, kırmızı ve mor renkli dört tane gömleği ve sarı, beyaz ve mor renkli üç tane eteği olan Sena'nın hafta içi günlerinde ne giydiği ile ilgili şunlar bilinmektedir:

- Bütün kıyafetlerini en az bir kez giymiştir.
- Kırmızı gömleğini art arda iki gün giymiştir.
- Hiçbir eteğini art arda günlerde giymemiştir.
- Yalnız bir gün aynı renkli etek ve gömlek giymiştir.
- Pazartesi ve perşembe günleri sarı ve beyaz kıyafetlerini çapraz kombinasyonlarla giymiştir.

28. Bu bilgilere göre, Sena ile ilgili ifadelerden hangisi kesin olarak doğrudur?

- A) Salı günü mor gömlek giymiştir.
B) Perşembe günü beyaz etek giymiştir.
C) Çarşamba günü kırmızı gömlek giymiştir.
D) Pazartesi günü beyaz etek giymiştir.
E) Sarı gömleği tam üç kez giymiştir.

29. Sena'nın pazartesi günü sarı etek giydiği biliniyorsa aşağıdaki ifadelerden hangisi kesin olarak yanlıştır?

- A) Perşembe günü beyaz gömlek giymiştir.
B) Salı günü mor etek giymiştir.
C) Salı günü beyaz etek giymiştir.
D) Çarşamba günü mor etek giymiştir.
E) Pazartesi günü beyaz gömlek giymiştir.

30. Sena'nın aynı renkli etek ve gömlek giydiği gün aşağıdakilerden hangisidir?

- A) Salı B) Çarşamba
C) Perşembe D) Pazartesi
E) Cuma

31. $\frac{1}{0,1} + \frac{2}{0,2} + \frac{3}{0,3}$

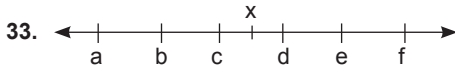
işleminin sonucu kaçtır?

- A) $\frac{1}{10}$ B) $\frac{3}{10}$ C) $\frac{3}{5}$ D) $\frac{6}{5}$ E) 6

32. $\frac{8^x + 8^x + 8^x + 4^x + 4^x + 4^x}{2^x \cdot 2^x \cdot 2^x} = 9$

eşitliğini sağlayan x değeri kaçtır?

- A) -2 B) -1 C) 0 D) 1 E) 2



Yukarıdaki sayı doğrusunda;

- a, b, c, d, e ve f ardışık negatif tam sayılar,
- x rasyonel sayı,
- $\frac{a}{f} = 1,125$,

ise x'in tam kısmı kaçtır?

- A) -41 B) -42 C) -43 D) -45 E) -47

34. Birbirinden farklı iki basamaklı üç negatif tek sayının toplamı kaç farklı değer alır?

- A) 253 B) 252 C) 128 D) 127 E) 126

35. $20 < x < 60$ ve $x \cdot y = 120$ ise,

y tam sayılarının toplamı kaçtır?

- A) 4 B) 7 C) 10 D) 12 E) 14

36. $x = 7! + 8! + 9!$ olmak üzere;

(10! - 9!) sayısının x cinsinden değeri aşağıdakilerden hangisidir?

- A) 6x B) 7x C) 8x D) 9x E) 10x

37. $x - 1 = \frac{2x - 6}{x - 3}$

denkleminin çözüm kümesi kaç elemanlıdır?

- A) 0 B) 1 C) 2 D) 3 E) 4

38. a, b pozitif tam sayılardır.

$$3b - 2a + 24 = 0$$

eşitliği veriliyor,

- I. Tek sayıdır.
II. Çift sayıdır.
III. Asal sayıdır.
IV. 3 ile tam bölünebilen bir sayıdır.
V. 24 ile tam bölünebilen bir sayıdır.

yargılarından hangisi b için **kesinlikle** doğrudur?

- A) I B) II C) III D) IV E) V

39. x ve y tam sayılardır.

$$y = \frac{x-4}{|x|}$$

olduğuna göre y'nin olabileceği kaç farklı değer vardır?

- A) 8 B) 7 C) 6 D) 5 E) 4

40. $(3^{12} - 1)$ sayısı hesaplandığında aşağıdakilerden hangisine tam olarak bölünür?

- A) 23 B) 24 C) 25 D) 26 E) 27

41. Hızları 8 m/s, 12 m/s ve 16 m/s olan üç bisikletli çevresi 480 m olan dairesel bir pistte aynı yerden, aynı anda, aynı yöne doğru harekete başlıyorlar.

Başladıkları noktada üçü birlikte aynı anda ilk kez buluştuklarında yavaş olan kaç tur atmıştır?

- A) 2 B) 3 C) 4 D) 5 E) 6

42. Kontrollü dalış yapan bir dalgıç, dakikada 12 m derinliğe inebilmekte, çıkışta ise ancak dakikada 4 metre yükselebilmektedir.

Bu dalgıç **en çok 24 dakika suda kalabildiğine göre en çok kaç metre derinliğe dala bilir?**

- A) 36 B) 48 C) 72 D) 108 E) 144

43. 5 usta ile 6 çırağın yaptığı bir işi 3 usta ile 9 çırak yapabilmektedir.

Buna göre 8 ustanın yaptığı işi kaç çırak yapabilir?

- A) 9 B) 10 C) 12 D) 15 E) 18

44. Üç ayrı esans kullanılarak parfüm yapılmak isteniyor. Kullanılan esanslar ve alkol oranları sırasıyla, Gül esansı %80, lavanta esansı %70, baharat esansı %90'dır. 20 gr gül, 30 gr lavanta, 40 gr baharat esansı ve geriye kalanıda alkol olmak üzere toplamda 170 gramlık parfüm hazırlanıyor.

Elde edilen parfümün alkol yüzdesi kaç olur?

- A) 5 B) 10 C) 90 D) 95 E) 97,5

45. 480₺ para bir grup öğrenciye eşit olarak paylaşılırken isteniyor. Bu gruba iki öğrenci daha katılınca her birinin payı $\frac{1}{5}$ oranında azalıyor.

Buna göre son durumda öğrenci başına düşen para kaç TL'dir?

- A) 12 B) 24 C) 36 D) 48 E) 60

46. Her evde internet ve LCD televizyondan en az birinin bulunduğu bir kasabada evlerin %55'inde LCD televizyon, %60'ında internet bulunmaktadır.

Hem LCD televizyon hem de internet bulunan ailelerin sayısı 15 olduğuna göre bu evlerin kaç tanesinde yalnız internet bulunur?

- A) 30 B) 40 C) 45 D) 60 E) 75

47. 27 kişilik bir sınıftaki kızların sayısı erkeklerin sayısından 5 fazladır. 14 kişinin gözlük kullandığı bu sınıfta 8 kız gözlük kullanmamaktadır.

Bu sınıftan seçilen bir kişinin gözlük kullanmayan erkek veya gözlük kullanan kız olma olasılığı kaçtır?

- A) $\frac{8}{27}$ B) $\frac{9}{27}$ C) $\frac{13}{27}$ D) $\frac{16}{27}$ E) $\frac{7}{9}$

48.

Depo hacmi (litre)	60
1 depo yakıtla alınan yol (km)	1000
1 litre yakıt fiyatı (TL)	4,75
Otomobille gidilen yol (km)	400

Yukarıdaki tabloda bir otomobilin otoyol kullanım şartlarında yakıt kullanım bilgileri verilmiştir. Buna göre, bu otomobille 400 km yol yapıldığında $x = \frac{400.60}{1000}$

büyüklüğü aşağıdakilerden hangisini gösterir?

- I. Kalan yakıtın kaç TL olduğunu
 II. Depoda kalan yakıtın kaç litre olduğunu
 III. 400 km'de ne kadar yakıt harcadığını
 IV. Harcanan yakıtın kaç TL olduğunu
 V. Bir litre yakıtla alınan yolun kaç km olduğunu

- A) I B) II C) III D) IV E) V

49 – 51. SORULARI AŞAĞIDAKİ BİLGİLERE GÖRE CEVAPLAYINIZ

	Başarılı öğrenci sayısı	Kayıtlı öğrenci sayısı
K	500	800
L	600	1000
M	400	1000
N	300	600
P	250	400

Tabloda K, L, M, N, P KPSS kurslarına kayıtlı öğrenci sayıları ve KPSS'de başarılı olan öğrencilerin sayıları verilmiştir.

49. Kayıtlı öğrenci sayıları dikkate alındığında KPSS'de başarılı olamayan öğrencilerin oranı hangi iki kursu ayırır?

- A) K-P B) L-M C) M-N D) N-P E) K-M

50. Kayıtlı öğrenci sayıları dikkate alındığında KPSS'de başarı yüzdesi en az olan kurs hangisidir?

- A) K B) L C) M D) N E) P

51. Kayıtlı öğrenci sayıları dikkate alındığında KPSS'de başarı yüzdesi en fazla olan kurs ya da kurslar hangisidir?

- A) K - P B) L C) M - L
 D) N E) P - N

52. VE 53. SORULARI AŞAĞIDAKİ BİLGİLERE GÖRE CEVAPLAYINIZ

0,1,2 rakamları kullanılarak 4 basamaklı sayılar yazılacaktır.

Örneğin; 1012, 1111, 2201,....

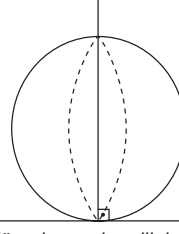
52. Kuralara uygun kaç tane 4 basamaklı sayı yazılabilir?

- A) 18 B) 34 C) 54 D) 63 E) 81

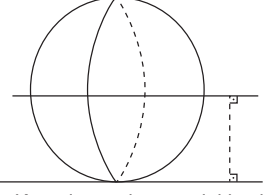
53. Kurala uygun 2 ile bölünemeyen kaç tane 4 basamaklı sayı yazılabilir?

- A) 18 B) 27 C) 54 D) 63 E) 81

54 – 56. SORULARI AŞAĞIDAKİ BİLGİLERE GÖRE CEVAPLAYINIZ



Kürenin zemine dik kesimi dikey kesiş



Kürenin zemine paralel kesimi yatay kesiş

Küre şeklinde bir cisim yukarıda görüldüğü gibi dikey ve yatay şekilde kesilerek parçalara ayrılacaktır. Parçalama aşağıdaki kurallara göre yapılacaktır.

- Kürenin sabit durduğu varsayılarak
- Yatay kesiş, kürenin sabitlendiği yüzeye paralel olarak yapılacaktır.
- Dikey kesiş kürenin sabitlendiği yüzeye dik olarak yapılacaktır.
- Oluşacak parçaların eşit büyüklükte olma zorunluluğu yoktur.

54. Küre birbirinden farklı yerlerden 3 yatay kesikle kaç parçaya ayrılır?

- A) 2 B) 3 C) 4 D) 5 E) 6

55. Küre birbirinden farklı 3 dikey kesikle en çok kaç parçaya ayrılır?

- A) 4 B) 5 C) 6 D) 7 E) 8

56. Küreye farklı iki yatay kesik atıldıktan sonra 6 parça oluşması için kaç farklı dikey kesik atılmalıdır?

- A) 0 B) 1 C) 2 D) 3 E) 4

57. Δ | Ö Z B E K Yanda " Δ " işleminin tablosu verilmiştir.

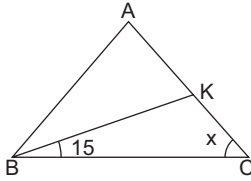
Δ	Ö	Z	B	E	K
Ö	Z	B	E	K	Ö
Z	B	E	K	Ö	Z
B	E	K	Ö	Z	B
E	K	Ö	Z	B	E
K	Ö	Z	B	E	K

$$x^n = \underbrace{x \Delta x \Delta x \Delta \dots \Delta x}_{n \text{ tane}}$$

olduğuna göre (Ö)¹⁸ 'in sonucu aşağıdakilerden hangisine eşittir?

- A) Ö B) Z C) B D) E E) K

- 58.

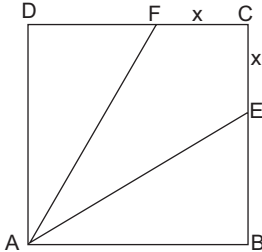


$$\begin{aligned} |AB| &= |BK| \\ |AC| &= |BC| \\ m(\widehat{KBC}) &= 15^\circ \\ m(\widehat{ACB}) &= x \end{aligned}$$

verilenlere göre x kaç derecedir?

- A) 40 B) 45 C) 50 D) 55 E) 60

- 59.



ABCD bir kare, $E \in [BC]$

$$\begin{aligned} F \in [DC], |AB| &= 1 \\ |FC| = |EC| &= x \text{ birimdir.} \end{aligned}$$

Yandaki şekilde

$$A(\text{AECF}) = \frac{A(\text{ABCD})}{2}$$

olduğuna göre x kaçtır?

- A) $\frac{3}{4}$ B) $\frac{3}{2}$ C) $\frac{\sqrt{3}}{3}$ D) $\frac{\sqrt{2}}{2}$ E) $\frac{1}{2}$

60. Bir dikdörtgenler prizmasının yüksekliği değiştirilmeden tabanın kısa kenarı $\frac{1}{4}$ ü kadar kısaltılır, uzun kenarında $\frac{1}{5}$ i kadar uzatılırsa hacmi ilk prizmaya göre ne kadar değişir?

- A) $\frac{1}{20}$ artar B) $\frac{1}{9}$ artar C) $\frac{1}{20}$ azalır
D) $\frac{1}{10}$ azalır E) Değişmez

GENEL KÜLTÜR

DİKKAT: BU BÖLÜMDE YANITLAYACAĞINIZ SORU SAYISI 60'TIR.

1-27 SORU : "Atatürk İlkeleri ve İnkılap Tarihi" ile "Türk Kültür ve Medeniyetleri"

28-45 SORU : "Türkiye Coğrafyası"

46-60 SORU : "Temel Yurttaşlık Bilgisi ve Güncel Konular" ile ilgilidir.

Bu bölümdeki sorularla ilgili cevaplarınızı, cevap kağıdınızdaki "**GENEL KÜLTÜR**" bölümüne işaretleyiniz.

1. Uygurlar dönemine ait alım-satım, veraset, intikal gibi vesikalara rastlanması,

- I. ticaret,
- II. hukuk,
- III. mülkiyet

kavramlarından hangilerinin varlığını kanıtlamaktadır?

- A) Yalnız I B) Yalnız II C) Yalnız III
D) I ve II E) I, II ve III

2. Aşağıdakilerden hangisi Ahilik teşkilatının özelliklerinden biri değildir?

- A) Üretilen malların fiyatını belirler
- B) İş yeri açma izni verir
- C) Malların kalitesini kontrol eder
- D) Üyeleri padişah tarafından seçilir
- E) Usta-çırak ilişkisi vardır

3. Osmanlı Devleti'nde vakıf sistemi,

- I. insanların sağlık, eğitim-kültür gereksinimlerinin karşılanması,
- II. ordunun asker ihtiyacının karşılanması,
- III. kişilerin sosyal, ekonomik hayat düzeyinin yükseltilmesi

konularından hangilerinde katkı sağlamıştır?

- A) Yalnız I B) Yalnız II C) Yalnız III
D) I ve III E) I, II ve III

4. Osmanlı Devleti'nde kadı ve müderrislerin atamalarından aşağıdakilerden hangisi görevlidir?

- A) Padişah B) Kazasker
C) Sadrazam D) Şeyhülislam
E) Defterdar

5. Aşağıdakilerden hangisinin, Osmanlı Devleti'nde ticari hayatın canlandırılması ve ticaretin geliştirilmesi amacıyla inşaa edildiği söylenemez?

- A) İmaret B) Kapanhanı
C) Bedesten D) Kervansaray
E) Arasta

6. Osmanlı Devleti'nde, savaşlardan eskisi kadar ganimet gelmemesi, gümrük gelirlerinin düşmesi, hazinenin nakit ihtiyacını artırmıştır.

Buna göre, Osmanlı Devleti'nin;

- I. iltizam
- II. tımar
- III. devşirme

sistemlerinden hangilerinin hazinenin nakit ihtiyacını kapatmak için uyguladığı söylenebilir?

- A) Yalnız I B) Yalnız II C) Yalnız III
D) I ve II E) I, II ve III

7. Kırım, Küçük Kaynarca Antlaşması ile bağımsızlığı olmuş fakat bu süreçten sonrada Kırım'da hutbe yine Osmanlı padişahı adına okunmaya devam etmiştir.

Bu durum,

- I. Kırım halkının müslüman olduğu,
- II. Kırım'da kültürel bağlarında korunmaya çalışıldığını,
- III. Kırım'ın dini yönden Osmanlı Devleti'ne bağlı kaldığı

yukarıdakilerden hangilerini kanıtlar?

- A) Yalnız I B) Yalnız II C) Yalnız III
D) I ve III E) I, II ve III

8. Osmanlı Devleti'nde 1839'da yayınlanan Tanzimat Fermanı ile,

- I. Yargı sistemi,
- II. Vergi sistemi,
- III. Devlet rejimi

konularından hangileri ile ilgili bir düzenlemeye gidilmemiştir?

- A) Yalnız I B) Yalnız II C) Yalnız III
D) I ve II E) II ve III

9. I. Azınlıkları yönetime dahil ederek ülkenin parçalanmasını engellemek
II. Avrupa'daki bilimsel ve teknik gelişmelerden yararlanmak
III. Veraset sistemini düzenli hale getirmek
Yukarıdakilerden hangileri Osmanlı Devleti'ne anayasal düzene geçilmesinin nedenleri arasında yer almaz?

- A) Yalnız I B) Yalnız II C) Yalnız III
D) I ve II E) II ve III

10. II. Meşrutiyet'in ilanını hızlandıran olay aşağıdakilerden hangisidir?

- A) Bab-ı Ali Baskı'nın yapılması
- B) Bosna-Hersek'in kaybedilmesi
- C) İngiltere ve Rusya arasında Reval Görüşmeleri'nin yapılması
- D) Bulgaristan'ın bağımsızlığını ilan etmesi
- E) Yunanistan'ın Girit'i İlhak etmesi

11. Osmanlı Devleti'nde XIX. ve XX. yüzyıllarda Osmanlıcılık, İslamcılık ve Türkçülük gibi düşünce akımları dönem dönem devlet politikası haline gelmiştir.

Bu düşünce akımlarının ortak amacı:

- I. Milli duyguların gelişmesini sağlamak,
- II. Osmanlı Devleti'nin dağılmasını engellemek,
- III. Ulusal egemenliği gerçekleştirmek

yukarıdakilerden hangileridir?

- A) Yalnız I B) Yalnız II C) Yalnız III
D) I ve II E) I, II ve III

12. I. Rusya
II. Almanya
III. Avusturya-Macaristan

Yukarıdakilerden hangileri I. Dünya Savaşı'ndan sonra dağılan imparatorluklar arasında yer almaktadır?

- A) Yalnız I B) Yalnız II C) Yalnız III
D) I ve II E) I, II ve III

13. "Temsil Heyeti yurdun tamamını temsil eder" kararı aşağıdakilerden hangisinde alınmıştır?

- A) Amasya Genelgesi B) Havza Genelgesi
C) I. TBMM D) Sivas Kongresi
E) Erzurum Kongresi

14. I. Ulusal egemenlik kavramından ilk kez bahsedilmesi
II. Manda ve himayenin kesin olarak reddedilmesi
III. Temsil Heyeti'nin İstanbul Hükümeti tarafından resmen tanınması

Yukarıdaki olayların kronolojik sıralaması aşağıdakilerden hangisinde doğru verilmiştir?

- A) I - II - III B) I - III - II C) II - I - III
D) III - II - I E) II - III - I

15. Aşağıdakilerden hangisi I. TBMM'nin çıkardığı yasalardan biri değildir?

- A) Nisab-ı Müzakere Yasası
B) Men-i İsrifat Yasası
C) Takrir-i Sükun Yasası
D) Hiyanet-i Vataniye Kanunu
E) Teşkilat-ı Esasiye

16. I. Batum Antlaşması
II. Moskova Antlaşması
III. 1921 Ankara Antlaşması

Yukarıdakilerden hangileri ile Misakı Milli'den taviz verilmiştir?

- A) Yalnız I B) Yalnız II C) Yalnız III
D) I ve II E) II ve III

17. Aşağıdakilerden hangisi Lozan Barış Antlaşması ile ilgili değildir?

- A) Ege Adalarının silahsızlandırılması
B) Boğazlar komisyonunun kaldırılması
C) Azınlıkların Türk vatandaşlığı sayılması
D) Kapitülasyonların kaldırılması
E) Patrikhane'nin evrensel olmaktan çıkarılması

18. I. Türk Afgan Dostluk Antlaşması
II. Moskova Antlaşması
III. Gümrü Antlaşması

TBMM'nin imzaladığı yukarıdaki antlaşmalardan hangileri Yunanlılarla yapılan savaşların sonucunda imzalanmamıştır?

- A) Yalnız I B) Yalnız II C) Yalnız III
D) II ve III E) I, II ve III

19. I. Milli Kalkınma Partisi
II. Serbest Cumhuriyet Fırkası
III. Terakkiperver Cumhuriyet Fırkası

Yukarıdakilerden hangileri Atatürk döneminde muhalefet görevi üstlenmiştir?

- A) Yalnız I B) Yalnız II C) Yalnız III
D) I ve II E) II ve III

20. Aşağıdakilerden hangisi Atatürk'ün yazdığı kitaplardan biri değildir?

- A) Nutuk
- B) Cumalı Ordugahı
- C) Geometri kitabı
- D) Çankaya
- E) Zabıt ve Kumandan ile Hasbihal

21. Atatürk'ün Milli Mücadele Dönemi'nde "Biz herşeyi gençliğe bırakacağız geleceğin umidi, ışıklı çiçekleri onlardır. Bütün ümidim gençliktedir." **Sözleri ile aşağıdaki ilkelerden hangisi vurgulanmıştır?**

- A) İnkılapçılık
- B) Laiklik
- C) Cumhuriyetçilik
- D) Halkçılık
- E) Devletçilik

22. I. Harf İnkılabı
II. Metrik sisteme geçiş
III. Medeni Kanununun kabulü

Yukarıdakilerden hangileri kendi alanlarında yer alan ikiliklere son vermiştir?

- A) Yalnız I
- B) Yalnız II
- C) Yalnız III
- D) I ve II
- E) II ve III

23. Lozan Antlaşmasında görüşülen ve karara bağlayan aşağıdaki konulardan hangisi üzerinde daha sonra yeniden bir düzenlemeye gidilmemiştir?

- A) Suriye Sınırı
- B) Batı Sınırı
- C) Boğazlar
- D) Nüfus Mübadelesi
- E) Dış borçlar

24. Türkiye Cumhuriyeti'nin;

- I. Balkan Paktına katılması,
- II. Birand Kellog Paktına katılması,
- III. Sadabat Paktına katılması

faaliyetlerinden hangileri bölgesel işbirliği ve savunma amacına yöneliktir?

- A) Yalnız I
- B) Yalnız II
- C) Yalnız III
- D) I ve III
- E) I, II ve III

25. I. Tahran Konferansı
II. Kahire Konferansı
III. Adana Konferansı

Yukarıdakilerden hangilerinde II. Dünya Savaşı sırasında Müttefik Devletler'in Türkiye'yi savaşa yanlarında çekme amacına yönelik kararlar vardır?

- A) Yalnız I
- B) Yalnız II
- C) Yalnız III
- D) I ve III
- E) I, II ve III

26. Aşağıdakilerden hangisi CHP'ye 1945'te Dörtlü Takrir vererek Demokrat Partiyi kuran devlet adamlarından biri değildir?

- A) Fatin Rüştü Zorlu
- B) Celal Bayar
- C) Adnan Menderes
- D) Refik Koraltan
- E) Fuat Köprülü

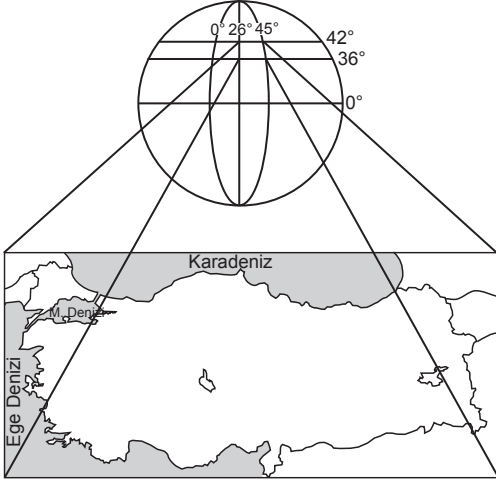
27. Kıbrıs Barış Harekatı sırasında;

- I. Yugoslovya,
- II. SSCB,
- III. ABD

devletlerinden hangileri Türkiye'ye silah ambargosu uygulamıştır?

- A) Yalnız I
- B) Yalnız II
- C) Yalnız III
- D) I ve III
- E) I, II ve III

28. Aşağıdaki şekilde Türkiye'nin dünya üzerindeki coğrafi konumu gösterilmiştir.



Buna göre Türkiye ile ilgili;

- I. Aynı anda dört mevsim özellikleri yaşanır.
- II. Gölge yönleri yerel saat 12:00 de daima kuzeyi gösterir.
- III. Gerçek alan ile izdüşüm alanı arasındaki fark fazladır.
- IV. 21 Haziranda güneyine doğru gidildikçe gündüz süresi kısalır.

verilen özelliklerden hangileri doğru değildir?

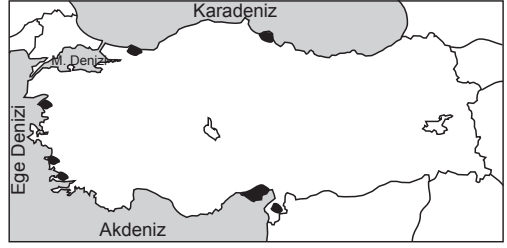
- A) Yalnız I B) Yalnız II C) Yalnız III
D) I ve III E) II ve IV

29. Türkiye günümüze yakın jeolojik dönemde oluşmuş genç bir ülkedir.

Aşağıdakilerden hangisi Türkiye arazi yapısının genç oluşumlu olduğunu kanıtlayan bir bilgi değildir?

- A) Ortalama yükseltinin fazla olması
- B) Sık sık deprem gerçekleşmesi
- C) Linyit ve bor gibi madenlerce zengin olması
- D) Jeotermal enerji potansiyelinin fazla olması
- E) Haliçli kıyı tipinin görülmemesi

- 30.



Türkiye haritasında bazı ovaların dağılışı gösterilmiştir.

Buna göre, aşağıdakilerden hangisi bu ovaların ortak özelliklerinden değildir?

- A) Aynı toprak yapısına sahiptirler.
- B) Sık nüfuslu arazilerdir.
- C) Mineral özellikleri buldukları iklimi yansıtmaz.
- D) Yükselti değerleri azdır.
- E) Tamamı delta ovası özelliği gösterir.

31. Türkiye'deki dağlar genelde doğu batı istikametinde uzanır.

Aşağıdakilerden hangisi Türkiye'de dağların doğu batı istikametinde uzanmasının sonuçları arasında yer almaz?

- A) Cephe yağışlarının görülmesi
- B) Ulaşımın doğu batı istikametinde gelişmesi
- C) İç kesimlerde karasallığın etki alanının genişlemesi
- D) Akarsuların genelde doğu batı istikametinde akışa sahip olması
- E) Kuzey güney istikametinde ulaşım maliyetlerinin fazla olması

32. Türkiye'de çığ olaylarının yaygın olduğu sahalarla ilgili;

- I. ortalama yükselti fazladır.
- II. eğimli arazi yapısı fazladır.
- III. karlı gün sayısı fazladır.
- IV. bağıl nem oranı fazladır.

bilgilerinden hangileri kesinlikle doğrudur?

- A) Yalnız I B) Yalnız II C) II ve III
D) III ve IV E) I, II ve IV

33. Bağıl nem yükselti ile doğru, sıcaklık ile ters orantılıdır.

Buna göre, aşağıdaki illerin hangisinde mutlak nemleri eşit olduğu halde yağış oluşturma ihtimali daha fazladır?

- A) İzmir B) Samsun C) Erzurum
D) Şanlıurfa E) Ankara

34. Türkiye'de, yaz mevsiminde en yüksek sıcaklıkların güneydoğuda görülmesinde;

- I. buharlaşmanın şiddetli olması
- II. ekvatora daha yakın olması
- III. güney sektörlü rüzgarların etkili olması
- IV. yükseltinin az olması

gibi durumlardan hangilerinin etkisi bulunmaz?

- A) Yalnız I B) Yalnız II C) I ve II
D) II ve III E) III ve IV

35. Göç sosyo-ekonomik değişmelerin neden olduğu eşitsiz gelişmelere bir tepki olarak nüfusun yatay ya da dikey yönlü hareket etmesidir.

Türkiye'de yaşanan göçlerle ilgili;

- I. kırdan kente göçten ziyade kentten kente göç daha fazladır.
- II. topraksızlaşma oranının yüksek olduğu yörelerde kırdan kente göç yaygındır.
- III. göç edenlerin büyük bir bölümü tarım sektöründe istihdam edilmektedir.
- IV. göçlerin büyük bir kısmı aile göçü şeklinde gerçekleşir.

gibi bilgilerden hangileri doğru değildir?

- A) Yalnız I B) Yalnız II C) Yalnız III
D) II ve III E) III ve IV

36. Türkiye'de seyrek nüfuslanmış sahalara için,

- I. yerçekimleri engebeli ve yüksektir.
- II. ekonomik faaliyetler gelişmemiştir.
- III. nüfus içindeki erkek oranı yüksektir.
- IV. tarımda makineleşmeye elverişlidir.

gibi özelliklerden hangileri söylenebilir?

- A) Yalnız I B) Yalnız II C) I ve II
D) II ve III E) III ve IV

37. Bir şehrin gelişmesinde ön plana çıkan ekonomik faaliyete o, şehrin gelişim fonksiyonu denilir.

Buna göre, aşağıdaki merkezlerden hangisinin gelişim fonksiyonunda ulaşım daha ön plandadır?

- A) Sivas B) Antalya C) Adana
D) Afyon E) Samsun

38. Türkiye'de üretilen bazı tarım ürünleri farklı nedenlere bağlı olarak devlet kontrolünde üretimi gerçekleştirilir. **Ürünlerin devlet kontrolüne alınma nedenleri ikili olarak eşleştirildiğinde hangisi farklı bir nedenle devlet kontrolünde üretilmektedir?**

A) Pirinç B) Haşhaş C) Kenevir
D) Çay E) Tütün

39. Seracılık kış sıcaklıklarını kontrol altına almak için geliştiren bir tarımsal yöntem olup, Türkiye'de en fazla geliştiği sahalar Akdeniz ve Ege Bölgesi kıyılarıdır.

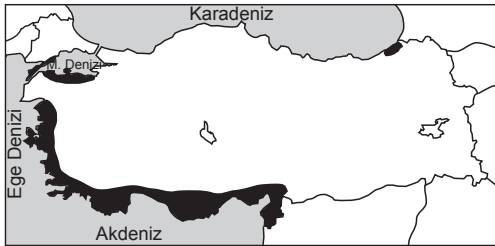
Bu durumun ortaya çıkmasında,

- I. toprak verimliliğinin yüksek olması
II. kışların ılık geçmesi
III. yaz mevsiminin uzun sürmesi
IV. bağıl nem oranının yüksek olması

gibi faktörlerden hangileri daha fazla etkili olmuştur?

A) Yalnız I B) Yalnız II C) I ve IV
D) II ve III E) III ve IV

40. Aşağıdaki Türkiye haritasında bir tarım ürününün dağılışı gösterilmiştir.



Buna göre, tarım ürününün yetiştirilme koşullarıyla ilgili aşağıdakilerden hangisi söylenemez?

- A) Kış ılıklığı ister.
B) Yaz kuraklığına dayanıklıdır.
C) Mikroklima alanlarında yetişme imkanı bulur.
D) Ekonomik değeri yüksek ürünler içerisinde yer alır.
E) Mineral değeri düşük yıkanmış topraklarda yetişmez.

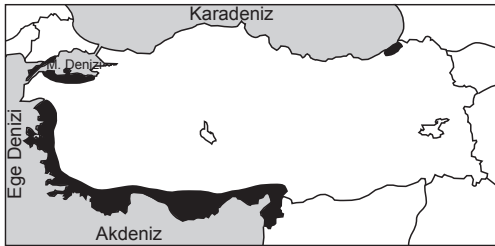
41.



Türkiye haritasında taranarak gösterilen yörede aşağıdaki hayvancılık faaliyetlerinden hangileri daha fazla yapılmaktadır?

- A) Küçükbaş - Arıcılık
B) Balıkçılık - Besi Ahır
C) Kümes - Arıcılık
D) Arıcılık - Büyükbaş
E) Keçi - İpek Böceği

40. Aşağıdaki Türkiye haritasında bir tarım ürününün dağılışı gösterilmiştir.



Buna göre, tarım ürününün yetiştirilme koşullarıyla ilgili aşağıdakilerden hangisi söylenemez?

- A) Kış ılıklığı ister.
B) Yaz kuraklığına dayanıklıdır.
C) Mikroklima alanlarında yetişme imkanı bulur.
D) Ekonomik değeri yüksek ürünler içerisinde yer alır.
E) Mineral değeri düşük yıkanmış topraklarda yetişmez.

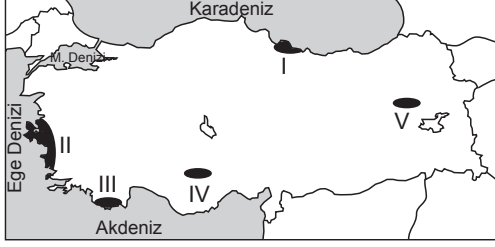
42. Aşağıda verilen Türkiye haritasında bazı bölgelerin en önemli maden çeşitleri gösterilmiştir.



Verilen bölge ve en önemli madeni eşleştirmelerinden hangisi yanlıştır?

- A) Bakır B) Linyit C) Krom
D) Petrol E) Barit

43. Ülkemiz son yıllarda yenilebilir enerji kaynaklarına yatırım yapmaktadır. Türkiye’de santral kurulumuna başlanan bu kaynaklardan biri de rüzgar enerjisidir.



Yukarıdaki Türkiye haritasında işaretlenmiş yörelerin hangisinde rüzgar enerji potansiyeli **daha** fazladır?

- A) I B) II C) III D) IV E) V

44. Milli park; bilimsel ve estetik bakımından, milli ve milletlerarası ender bulunan tabii, kültürel kaynak değerleri ile koruma, dinlenme ve turizm alanlarına sahip tabiat parçaları olarak tanımlanır.

Aşağıda verilen sahalardan hangisi Türkiye’nin ilk milli parkıdır?

- A) Uludağ Milli Parkı
B) Kazdağı Milli Parkı
C) Nemrut Dağı Milli Parkı
D) Ilgaz Dağı Milli Parkı
E) Yozgat Çamlığı Milli Parkı

45. Bataklık ve göl gibi sulak alanların kurutulması ile;

- I. su rejiminin bozulması
II. taban suyu seviyesinin azalması
III. biyo çeşitliliğin artış göstermesi

gibi özelliklerden hangilerinin ortaya çıkması beklenir?

- A) Yalnız I B) Yalnız II C) Yalnız III
D) I ve II E) I, II ve III

46. Bir işlemin kanunun emredici hükümlerine aykırılığı sonucu uygulanan yaptırım türü nedir?

- A) İptal B) Mutlak Butlan
C) Ceza D) Yokluk
E) Cebr-i İcra

47. I. Gaiplik
II. Boşanma
III. Ölüm Karinesi

Yukarıdaki durumlardan hangisine mahkeme karar verebilir?

- A) Yalnız I B) Yalnız II C) I ve II
D) II ve III E) I, II ve III

48. Murat ile teyzesinin kızı Aslı arasındaki hısımlığın türü ve derecesi ile ilgili aşağıdaki ifadelerden hangisi doğrudur?

- A) Dördüncü derece kan, yan soy hısımlığı vardır.
B) Üçüncü derece kan, yan soy hısımlığı vardır.
C) Dördüncü derece kan, üst soy hısımlığı vardır.
D) Üçüncü derece kan, alt soy hısımlığı vardır.
E) İkinci derece kayın, yan soy hısımlığı vardır.

49. 1982 Anayasası’na göre Türkiye’de uygulanan seçim sistemi aşağıdakilerden hangisidir?

- A) Milli Bakiye Sistemi
B) Bölge Barajlı Liste Usulü
C) Yüzde On Ülke barajlı D’hont Sistemi
D) Tercihli Oy Çift dereceli sistem
E) Yüzde On Ülke Barajlı Dar Bölge Seçim Sistemi

50. Aşağıdakilerden hangisi merkezi idarenin en üst hiyerarşik amiridir?

- A) Başbakan
B) Bakan
C) Cumhurbaşkanı
D) TBMM Başkanı
E) Vali

51. Seçimlerde uygulanacak esasları belirleyen seçim kanunu aşağıdakilerden hangisi tarafından hazırlanır?

- A) TBMM
B) Anayasa Mahkemesi
C) Yüksek Seçim Kurulu
D) Bakanlar Kurulu
E) Yargıtay Cumhuriyet Başsavcılığı

52. Aşağıdakilerden hangisi kamu düzeninin öğelerinden değildir?

- A) Güvenlik
B) İnanç
C) Esenlik
D) Dirlik
E) Sağlık

53. Aşağıdaki kurumlardan hangisi Danıştay Başkanı'nı görevi ile ilgili suçlardan yargılama yetkisine sahiptir?

- A) Adli Mahkemeler
B) Yüce Divan
C) Danıştay Genel Kurulu
D) TBMM
E) Uyuşmazlık Mahkemesi

54. Aşağıdakilerden hangisi özel hukuk tüzel kişilikleri arasında yer alır?

- A) Fiskobirlik
B) Ziraat Bankası
C) TÜSİAD
D) Ankara Ticaret Odası
E) TOBB

55. 2015 yılı aşağıdaki ülkelerin hangisinde "Türkiye Yılı" olarak kutlanacaktır?

- A) Almanya
B) Kanada
C) İsveç
D) Avustralya
E) Japonya

56. Hababam Sınıfı filmlerinin yönetmeni aşağıdakilerden hangisidir?

- A) Halit Refiğ
B) Ferza Özpetek
C) Ertem Eğilmez
D) Yavuz Turgul
E) Metin Erksan

57. 2014 Türk Dünyası başkenti aşağıdakilerden hangisidir?

- A) Eskişehir
B) Kazan
C) Bakü
D) Erzurum
E) Bişkek

58. Türkiye'nin en uzun kara sınırına sahip olduğu komşu ülkesi aşağıdakilerden hangisidir?

- A) Suriye B) Irak C) Rusya
D) İran E) Bulgaristan

59. 2 Haziran 2014 tarihi itibarıyla Türk vatandaşlarına vizeyi kaldıracak ülke hangisidir?

- A) Beyaz Rusya B) Makedonya C) Belarus
D) İzlanda E) Uruguay

60. Resmi ziyarette bulunmak amacıyla 2014 tarihinde ülkemize gelen Fransa Cumhurbaşkanı Francois Hollande, aşağıdaki sanatçılarımızdan hangisine Sanat ve Edebiyat nişanı takmıştır?

- A) Fazıl Say B) Suna Kan
C) İdil Biret D) Candan Erçetin
E) Şefika Kutluer

TEST BİTTİ.
LÜTFEN CEVAPLARINIZI KONTROL EDİNİZ.