

KPSS

KAMU PERSONELİ SEÇME SINAVI

GENEL YETENEK

GENEL KÜLTÜR

DENEME SINAVI

D
E
N
E
M
E

DİKKAT!
SINAVA BAŞLAMADAN ÖNCE AŞAĞIDAKİ UYARILARI MUTLAKA OKUYUNUZ.

- Adınızı, soyadınızı, T.C. Kimlik Numaranızı ve kurum kodunu optik forma mutlaka işaretleyiniz. Kurum kodu ve T.C kimlik numarası karnenizin oluşturulabilmesi için özellikle gereklidir.
- Genel Yetenek - Genel Kültür Testi için verilen toplam cevaplama süresi 120 dakikadır (2 saat).
- Bu testte 120 soru vardır.
- Cevaplamaya istediğiniz sorudan başlayabilirsiniz. Her soru ile ilgili cevabınızı, cevap kâğıdında o soru için ayrılmış olan yere işaretlemeyi unutmayınız.
- Sınav sonucunuzu www.yaklasimkariyer.com adresinden TC kimlik numaranızı girerek öğrenebilirsiniz.
- Türkiye Geneli Deneme sınavına ait **cevap anahtarı ve soruların çözümleri** sınavın uygulandığı son gün www.yaklasimkitap.com adresinde yayınlanacaktır.
- Bu test puanlanırken testteki doğru cevaplarınızın sayısından yanlış cevaplarınızın sayısının dörtte biri düşülecek ve kalan sayı testle ilgili ham puanınız olacaktır. Bu nedenle, hakkında hiçbir fikriniz olmadığı soruları boş bırakınız. Ancak, soruda verilen seçeneklerden birkaçını eleyebiliyorsanız kalanlar arasından doğru cevabı kestirmeye çalışmanız yararınıza olabilir.

Bu testlerin her hakkı saklıdır. Hangi amaçla olursa olsun, testlerin tamamının veya bir kısmının yayınevimizin yazılı izni olmadan kopya edilmesi, herhangi bir yolla çoğaltılması, yayımlanması ya da kullanılması yasaktır. Bu yasağa uymayanlar gerekli cezai sorumluluğu ve testlerin hazırlanmasındaki mali külfeti peşinen kabullenmiş sayılır.

Yaklaşım Kariyer Yayıncılık ve Dağıtım Ltd.Şti

GMK Bulvarı No: 19 Kızılay-ANKARA

Tel: (0312) 229 84 94

Web: www.yaklasimkitap.com - www.yaklasimkitabevi.com

e-posta: bilgi@yaklasimkitap.com

GENEL YETENEK

DİKKAT: BU BÖLÜMDE YANITLAYACAĞINIZ SORU SAYISI 60'TIR.

1-30 SORU : "Türkçeyi Kullanma Gücü"

30-60 SORU : "Matematiksel İlişkilerden Yararlanma Gücü" ile ilgilidir.

Bu bölümdeki sorularla ilgili cevaplarınızı, cevap kağıdınızdaki "**GENEL YETENEK**" bölümüne işaretleyiniz.

1. "Yalnızlık" hissini yaşayan ıssız adamın bireysel trajedisini anlatan "Otel Odaları"; zaman, mekân ve kişi bağlamında "huzursuz bir ruhun" tenhalıklarda gezindiği bir tabloyu resmetmektedir. "Otel Odaları", bir betimleme değildir. Şairin ruh durumunun objeye aktarımıdır.

Bu parçada geçen "Şairin ruh durumunun objeye aktarımıdır." cümlesinde anlatılmak istenen aşağıdakilerden hangisidir?

- A) Şaire yeni bir dünya sunması
B) Manevi dünyanın gerçeklerini aktarması
C) Şairin iç dünyasının somutlaştırılması
D) Gerçekleri dile getirmesi
E) Belli olmayan bir zamanı ele alması

3. I. Bu dönem kızlarda 11-12, erkeklerde ise 13-14 yaşından başlayarak 20-21 yaşına kadar devam eder.
II. Her bireyin yaşamında fiziksel ve psikolojik yönden hızlı bir değişim ve gelişim gösterdiği bir dönem vardır.
III. Ergenlik dönemi kişinin önceki yaşamından ve gelişiminden kopuk, yeniden bir doğuş dönemi değildir.
IV. Bu döneme ergenlik dönemi denir.
V. Fakat, gelişme o kadar hızlı ve göze batacak biçimdedir ki bu durum çevreyi olduğu kadar ergeni de şaşırtır, hatta bunalıma itebilir.

Yukarıdaki numaralanmış cümleler anlamlı bir bütün oluşturacak biçimde sıralandığında hangisi baştan ikinci olur?

- A) I B) II C) III D) IV E) V

2. Dünyada pek çok öğrenci matematiği başaramayacağını düşünerek kaygılanmakta ve matematiğe karşı olumsuz tutum geliştirmektedir. Daha da kötüsü, kendilerinin matematiği öğrenecek kadar zeki olmadıkları kanaatine varmaktadır. Bunlar bazen de bu korkuyu sadece kendilerinin yaşadıklarını düşünürler. ---- Çünkü üst düzey akademisyenler ve matematikçiler de bu korkuyu yaşayabilirler.

Bu paragrafta boş bırakılan yere aşağıdakilerden hangisi gelmelidir?

- A) Bunlar tamamıyla yanlış düşüncelerdir.
B) Matematik korkusu zaman içinde ortadan kalkar.
C) Öğrencilere matematiği sevdirmek gerekir.
D) Bu korkuyla yaşayanlar matematiği sevemezler.
E) Her korkunun bir nedeni vardır.

4. I. İnsan hayatının en kesin ve temel gerçeklerinden biri de davranışlarımıza bazı sınırların çizilmesi ve bunlara saygı gösterilmesinin gerekli olduğudur.
II. Bu kurallar ve kanunlar, bize bahçemizde yabancı otlarının yetişmesine nasıl engel olabileceğimiz konusunda bir şeyler söyler.
III. Bu sınırlar, yasalarda açıkça belirtilmiş olabilir.
IV. Kişi; bu görünen veya görünmeyen, yazılı olan veya yazılı olmayan sınırlara uyduğunda ahlâklı ve karakterli insan hâline gelir.
V. Kişi, sosyal hayatı bir arada tutan bu kurallara uymazsa kısa veya uzun vadede kendi kendini yok eder.

Yukarıdaki numaralandırılmış cümlelerin anlamlı bir bütün oluşturabilmesi için hangileri yer değiştirmelidir?

- A) I. ile II. B) II. ile III. C) II. ile IV.
D) III. ile V. E) IV. ile V.

5. Kalp hastalıkları mevsim farkı gözetmese de kalp sağlığını korumak için yaz aylarında daha dikkatli olmak gerekiyor.

Bu cümleden aşağıdakilerden hangisine kesin olarak ulaşılabılır?

- A) Kalp hastalıkları birçok insanda görülmektedir.
B) Yaz aylarında kalp rahatsızlıkları daha tehlikeli olmaktadır.
C) Kalp sağlığını korumak düzenli spor yapmakla mümkündür.
D) Her insanda kalp hastalıklarına rastlanır.
E) İnsanlar kalp rahatsızlıkları hakkında yeterli bilgiye sahip değildir.

7. (I) Konstantinopolis'in, eski dünyanın çöküşü sürecinde hayatta kalmasının nedeni, sağlam altyapısının ve kentsel hayatın temel yapılarının değişmemesiydi. (II) Altıncı yüzyıl ortalarında hayata geçen temel sosyal hizmet kurumları, liman, pazar, imparatorluk sarayı, kilise gibi kurumlar "Karanlık Çağlar" denen yedinci ve sekizinci yüzyıllar boyunca hizmet etmeyi ve ardından gelen uzun canlanma döneminde model olmayı sürdürdü. (III) Kentin erken dönem Hıristiyan çehresi, ancak onuncu yüzyıldan itibaren yeni manastırların, aristokrat evlerinin inşasıyla ve Haliç'teki ticari hayatın dönüşmesiyle değişmeye başladı. (IV) Ama bu yeni imarlaşma o sıralarda hâlâ var olan çekirdeğin etrafında örgütlenmekteydi. (V) Kentsel hayatın sürekliliği, Dördüncü Haçlı Seferiyle ve ardından gelen yağma ve yangınlarla kesintiye uğradı.

Bu parçadaki numaralanmış cümlelerin hangilerinde Konstantinopolis'in hayatta kalmasını sağlayan etkenler verilmiştir?

- A) I ve II B) II ve III C) II ve V
D) III ve V E) IV ve V

6. Türkiye'de bilim politikaları kanayan yara; sürekli vizyon geliştiriyoruz ama uygulamaları denetleyici politikalarımız yok.

Bu cümleden aşağıdakilerden hangisine kesin olarak ulaşılabılır?

- A) Bilim politikalarında bilim insanlarının görüşleri önemsenmemektedir.
B) Bilim alanında yeterli ekipman ve altyapıya sahip değiliz.
C) Bilimsel çalışmalarda diğer ülkelerin gerisindeyiz.
D) Türkiye'de bilimsel çalışmalar yapan kurum sayısı yeterli değildir.
E) Türkiye bilim politikalarında yeterli ilerleme göstermemiştir.

8. (I) Bilim insanları, Samanyolu Galaksisi'ndeki kırmızı cüce yıldızlarının yüzde 40'ının, dünya benzeri gezegenler içeren sistemlere sahip olabileceğini belirtti. (II) Yapılan hesaplamalar, galakside Dünya benzeri gezegen sayısının 10 milyar civarında olabileceğine işaret etti. (III) Kırmızı cüceler, Güneş'in yaklaşık yarı kütlelerine sahip olan daha küçük yıldızlar anlamına geliyor. (IV) Bu yıldızlar, dört bir yanına yayılmış oldukları galaksideki yıldız çeşitlerinin yaklaşık yüzde 80'ini temsil ediyor. (V) Kırmızı cücelerin bu kadar yaygın olmaları, Güneş Sistemi dışında yaşam izi arayabileceğimiz on milyarlarca yer olduğunu gösteriyor.

Bu parçadaki numaralanmış cümlelerin hangisinde çıkarımda bulunulmuştur?

- A) I B) II C) III D) IV E) V

9. (I) Mart ayı sergilerinden ilki White Cube Galerî'deki Kris Martin sergisi. (II) Sanatçının klasik teknik ile yaptığı bronz döküm bal petekleri, zaman ve dış etkenlere bağlı değişime uğrarken kendi içlerinde de farklı ve enteresan görüntüler oluşturmuş. (III) Doğadan alınan bu hazır nesnelere ustaca birer sanat parçasına dönüştürülmüşler. (IV) Alt kattaki salonda ise bir enstalasyona (yerleştirme) yer verilmiş. (V) 100 adet dik duran mezar taşından oluşan heykeller domino gibi yerleştirilmiş.

Bu parçadaki numaralanmış cümlelerden hangileri nesnelere aittir?

- A) I ve II B) I ve III C) I ve IV
D) III ve V E) IV ve V

10. (I) Toplumsal dayanışma, toplumun kurum ve kuruluşlarıyla ortak değerlerde birleşmesi ve birlikte hareket etmesidir. (II) Yaşamımızda toplumsal dayanışmanın çok önemli bir yeri olduğunu artık idrak etmemiz gerekmektedir. (III) Çünkü iyi yaşamımıza yardımcı olacak unsurlardan birisi dayanışmadır. (IV) Ülke içinde veya dış ülkelere karşı her zaman birlik ve beraberliğimizi korumak zorundayız. (V) Bu, ortadan kalkarsa ortada iyi yaşam diye bir şey kalmayacaktır.

Bu parçadaki numaralanmış cümlelerden hangisi düşünceyi ifade eder?

- A) I B) II C) III D) IV E) V

11. Kırmızı et ve kötü kalp sağlığı arasındaki bağlantı, geleneksel olarak kolesterole yüklenmiştir, ancak yeni kanıtlar bunun doğru olmadığını göstermekte.

Bu cümlede aşağıdaki ses olaylarından hangisi vardır?

- A) Ünsüz düşmesi
B) Ünlü türemesi
C) Ünlü daralması
D) Ünsüz türemesi
E) Ünsüz benzeşmesi

12. Bir şeyi, bütünü görmeden, tanımadan, anlamadan yargılamak; bayağılık, basitlik ve ucuzluktur. Zira yarım yamalak iş olmaz. Eğer bir şey hakkında bir yargıya varmak ve hüküm vermek istiyorsanız o şeyi tam anlamıyla tetkik ve tahlil etmeniz gerekir. Aksine varacağınız yargı, vereceğiniz hüküm sizi küçültür ve basitleştirir.

Bu parçayla ilgili aşağıda verilenlerden hangisi yanlıştır?

- A) İsim ve eylem cümleleri kullanılmıştır.
B) Farklı türde eylemsiler kullanılmıştır.
C) Birden fazla sıfat vardır.
D) Zincirleme isim tamlaması kullanılmıştır.
E) Birden fazla bağlaç kullanılmıştır.

13. (I) Hissettiğiniz her türlü duygunun, yaşadığınız sürede algıladığınız her şeyin temel oluşum sebebinde atomlar vardır. (II) Sevdiğiniz birine dokunduğunuzda duyumsadığınız his; sizin elinizdeki atomların içindeki elektronlarla o kişinin elektronlarının etkileşiminden başka bir şey değildir. (III) Soğuk havada duyduğunuz üşüme hissi, atomların size çarpması sonucu oluşur. (IV) Ateşin yanması ile ısınma, elektronların daha hızlı dönmesinden başka bir şey değildir. (V) Atomlar; çekirdek ve elektronlardan oluşur; çekirdek ile elektronlar arasındaki boşluk inanılmaz büyük boyuttadır.

Bu parçadaki numaralanmış cümlelerle ilgili aşağıda verilenlerden hangisi yanlıştır?

- A) I. cümle üç öğeden oluşan, kurallı isim cümledir.
B) II. cümlede isim ve sıfat tamlaması vardır.
C) III. cümle özne-zarf tümlecisi ve yüklemden oluşmuştur.
D) IV. cümlede farklı türde eylemsiler kullanılmıştır.
E) V. cümlede birden fazla bağlaç kullanılmıştır.

14. Gün geçmiyor ki çevre felaketi haberlerde yer almasın.

I

Büyük Okyanus'ta 30 metreye kadar yükselen dalgalar

II

sahilleri yerle bir etti. Deniz dibindeki deprem ya da yanardağların patlamasından meydana geldiği söyle-

III

nen bu dev dalgalara karşı uyarı ağırları da para etmiyor.

IV

V

Hatırlanacağı gibi bu dev dalgalar, 1993'te Endonezya'da bir adanın tamamını kapladı ve 2 bin kişinin yaşamını yitirmesine yol açtı.

Bu parçadaki altı çizili sözcüklerden hangileri isim tamlamasının tamlayanı durumundadır?

- A) I ve II B) I ve III C) II ve III
D) III ve V E) IV ve V

15. Aşağıdaki cümlelerin hangisinde yazım yanlışlığı yapılmıştır?

- A) Böyle bir ortamda rahat uyumak mümkün değil.
B) İnsanlarda ortaya çıkan bu hastalık hayvanlara da bulaştı.
C) Gözlerinde ışıltı adına bir şey kalmamış, karanlık var sadece.
D) Soruyu doğru cevaplarsa da ezber yaptığı için konuyu anlayamıyor.
E) Sevginin de aşkın da yalan olduğu bir dünya da yaşıyoruz.

16. (I) İnanç yozlaşmasının yaşandığı bir Osmanlı toplumunda doğan Hüseyin R. Gürpınar, gerçekçi ve doğalcı yöntemle yazdığı bütün romanlarında, bilime ve maddeye olan inancını temel dünya görüşü olarak ele alır. (II) Cahil toplumun gören gözü, duyan kulağı, düşünen beyni olmayı yeğler. (III) Romanlarında çizdiği İstanbul hiç iç açıcı bir kent değildir; birbirine ihanet eden karı kocalar, açıktan sokağa ve kötü yola düşen çocuklar, dini ve boş inançları kötüyü kullanarak cahil halkın sırtından zenginleşen asalaklar, savaş zengileri... (IV) Yazar "Mutallaka" romanında "Boş ol!" diye eşini boşayan bir adamı anlatır. (V) Aile içi sorunlara, bu sorunların doğurduğu trajik sonuçlara değinirken : okura, eski nikahın böylesine kolayca, düşünmeden bir öfke anında söylenebilen iki sözcükle ortadan kalkabileceğini duyumsatır.

Bu parçadaki numaralanmış cümlelerin hangisinde noktalama hatası yapılmıştır?

- A) I B) II C) III D) IV E) V

17. Televizyonlarda gün geçtikçe artan diziler, filmler ve programlarda dikkat çekici öğelerden biri de bu yapımlarda rol alan çocuklar. Kamera karşısına geçirilerek rol yapması istenen çocukların birçoğu henüz oynadıkları oyunun gerçek hayatla ayrımını fark edemeyecek yaşta. Evlerinde, okullarında ya da parklarda oyun oynaması gereken yaşlarda setlere götürülen çocuklar, şiddet, dram öğeleriyle dolu yapımların içinde yer alıyor. Çocuk yaşlarda hayatın hiç de hoş olmayan gerçekleri ile yüzleştirilen bu çocuklar, yaşlılarından çok farklı bir yaşam sürmeye başlıyorlar.

Bu paragrafın anlatımıyla ilgili olarak aşağıda verilenlerden hangisi yanlıştır?

- A) Bir konuda okurun fikirleri değiştirilmeye çalışılmıştır.
B) Olaylar oluş sırasıyla verilmiştir.
C) Kurallı cümleler kullanılmıştır.
D) Eleştirel bir yaklaşım benimsenmiştir.
E) İsmi niteleyen sözcüklere yer verilmiştir.

18. Toplumsal çöküş her toplumda değişik çağrışımlar uyandırabilir. Bunlar bir toplumun gerilemesi, ekonomisinin çökmesi, dini inançlarından kopması, siyasi-politik safhadaki aksaklıklar vb. nedenler olarak sıralanabilir. Kısacası bir toplumun çöküşü demek aslında her kurumda meydana gelen bir olumsuzluğun var olması olarak nitelendirilebilir. Tarihi incelemeler göstermektedir ki çoğu toplum ve medeniyet, canlılar gibi doğuş ve yükseliş dönemlerinden sonra batmaya ve yok olmaya mahkûm olmuşlardır. Bu yok oluşa yol açan veya yön veren yasayı keşfetmek için düşünür, bilim ve sosyal bilimciler, çok uğraş vermiş, toplumlar üzerinde birçok araştırma yapmışlardır.

Bu paragrafta toplumsal çöküşle ilgili aşağıdakilerden hangisine varılabilir?

- A) Her toplumda farklı şekillerde kendini gösterdiğine
- B) Farklı etkenlerin bir araya gelmesinden oluştuğuna
- C) Toplumların dağılımlarına neden olduğuna
- D) Bireyler üzerindeki etkisinin daha kalıcı olduğuna
- E) Ulusların, birbirine bağlanmasını sağladığı

19. (I) Hayatının bir döneminde boyun ağrısından yakınmayan insan oldukça azdır. (II) Boyun ağrıları, boyun omurgasını oluşturan kemiklerin, eklemlerin, omurların arasında yer alan disklerin ve omurga etrafındaki kas ve bağların bozukluğu sonucu oluşur. (III) Boyun ağrısına yol açan hastalıklarda ağrı bazı olgularda sadece ensededir. (IV) Ancak bazı olgularda ise enseden başa, sırtta, kollara ve hatta göğse doğru yayılabilir. (V) Bu gibi durumlarda farklı tedavi yöntemleri kullanılır.

Bu paragraftaki numaralanmış cümlelerin hangisinden sonra "Bu nedenle hastalar boyunluk takarak bu rahatsızlıktan kurtulmaya çalışırlar" cümlesi gelirse parçanın anlamında bir bozulma olmaz?

- A) I
- B) II
- C) III
- D) IV
- E) V

20. Artık evet! Aslında kitabım yayımlanmadan çok önce kendimi yazar olarak, romancı olarak görüyordum. Bunun için illa kitabımın yayımlanması gerekmiyordu. Yine de yüksek sesle söyleyebilmemde, Aralık Roman'ının yayımlanmasının etkisi büyük oldu. Kendini bir yazar olarak hissetmekle, yazar olduğunu söyleyebilmek arasında, sanırım böyle bir sürece ihtiyaç var.

Bu paragraf aşağıdaki sorulardan hangisine verilmiş bir cevaptır?

- A) Yazdığınız kitapları beğeniyor musunuz?
- B) Kendinizi 'yazar' olarak tanımlıyor musunuz?
- C) Yazmaya nasıl başlıyorsunuz?
- D) Bir romanın ortaya çıkması ne kadar sürer?
- E) Bize biraz kendinizden söz eder misiniz?

21. (I) Yazarlık bana sorarsanız, bir yetenek işidir; bir üretken olmadır, kendini disiplin altına almaktır, yazmayı olabildiğince sürdürmektir. (II) Fakat "aslolan"; bunların hepsini devşirecek, yazarı yazar kılacak insanı değerlendirme yetisinin varolması zorunluluğudur. (III) Buna göre de yazar, insana bakmasını bilendir. (IV) İnsanın sorunlarına eğilen, ona kendinden de bir şeyler katabilme özverisiyle yaklaşan, onu her türlü gerçeği ile birlikte kendi bilinç süzgecinden kâğıt üzerine dökülebilir. (V) İnsanın yaptığı her şeyin doğanın, doğadakinin bir öykünmesi olduğu savı doğrudur. (VI) Yazar da bunu yapar romanında, hikâyesinde; ne var ki, değiştirir, yenden biçimlendirir, olması gerektiği, gerekliliğine inandığı doğrultuda oluşturur.

Bu parçadaki numaralanmış cümlelerin hangisiyle ikinci paragraf başlar?

- A) II
- B) III
- C) IV
- D) V
- E) VI

22. – 23. SORULARI AŞAĞIDAKİ PARÇAYA GÖRE CEVAPLAYINIZ.

(I) Filozof, hekim ve çok yönlü bir Müslüman olan İbn-i Sina, felsefe ve tıp alanları ile ilgilenmiş ve bu alanlarda ünlenmiştir. (II) Tıp ve felsefe alanına ağırlık verdiği değişik alanlarda 200 kitap yazmıştır. (III) Batılılarca, Orta Çağ Modern Biliminin kurucusu ve hekimlerin önderi olarak bilinir ve "Büyük Üstad" ismi ile tanınır. (IV) Tıp alanında 7 Asır boyunca temel kaynak eser olarak kabul edilen El-Kanun fi't-Tıbb (Tıbbın Kanunu) adlı kitabı ile ünlenmiş ve bu kitap Avrupa üniversitelerinde 17. asrın ortalarına kadar tıp biliminde temel eser olarak okutulmuştur. (V) İbn-i Sina, değişik konular üzerinde 240'ı günümüze gelen 450 kadar makale yazdı. (VI) Eserlerinin en ünlüleri felsefe ve fen konularını içeren çok geniş bir çalışma olan Kitabü's-Şifa'dır.

22. Bu paragraftan aşağıdakilerden hangisine değinilmemiştir?

- A) Bir eserin özelliğine
- B) Dönemindeki tıp adamlarından etkilendiğine
- C) Hangi alanlara ağırlık verdiği
- D) Batılılarca saygı duyulan biri olduğuna
- E) Farklı türlerde kitaplar yazdığına

23. Bu parçadaki numaralanmış cümlelerin hangisinde karşılaştırma yapılmıştır?

- A) II
- B) III
- C) IV
- D) V
- E) VI

24. – 25. SORULARI AŞAĞIDAKİ PARÇAYA GÖRE CEVAPLAYINIZ.

(I) Çoğu zaman insanlar, iradelerinin güçsüzlüğü karşısında hayrete düşerler. (II) Madem "bilinç" çok güçlü, peki neden başladığım sporu başarıyla sonuçlandırıp hedefim olan fit ve sağlıklı bir vücuda ulaşamadım, neden sigaranın zararlarını bilmeme rağmen sigarayı irademle bırakamıyorum. (III) Bu soruları birçoğunuz bilinçli olmasa da zihninizde defalarca sordunuz; zira inanç çelişkileri, tekrar düşünülmemek üzere çoğu zaman bilinçaltının derinliklerine atılır. (IV) Bu nedenle çoğu zaman insanlar çok basit hedefleri bile başaramamaktan yakınır. (V) Her türlü alışkanlık değişikliği için bilinçaltında kalıplaşmış söylem kalıplarının da değişmesi, bir diğer deyişle bilinçaltının onayı ve işbirliği gerekmektedir. (VI) Söz konusu işlem sağlanmadığı sürece, bilincin yeni bir değişiklik yapma çabası, bilinçaltının inançları ile çelişerek iradenin yenilgisi ile sonuçlanmaya mahkûmdur.

24. Bu paragraftan aşağıdakilerden hangisi çıkarılabılır?

- A) Gerçekleştirilmek istenen bir eylem bilinçaltında da kabul görmelidir.
- B) İradesi güçlü insanların altından kalkamayacağı işler yoktur.
- C) Birey her şeyden önce kendini güçlü hissetmeli ki sorunlarla baş edebilsin.
- D) İnsan hayatında her zaman sorunlu dönemler olacaktır.
- E) Bilinç altında yatan olumsuzlukları ortadan kaldırmak her şeyi çözmeye yarar.

25. Bu parçadaki numaralanmış cümlelerin hangilerinde koşula yer verilmiştir?

- A) I. ile III.
- B) II. ile IV.
- C) III. ile VI.
- D) IV. ile V.
- E) V. ile VI.

26. – 27. SORULARI AŞAĞIDAKİ
PARÇAYA GÖRE CEVAPLAYINIZ.

Sağlık ve zindelik için düzenli yaşam ve uyku vazgeçilmez şartlardır. Uyku gereksinimi, insan yaşamı boyunca süre açısından değişkendir. Yeni doğmuş bir bebek neredeyse günün tamamını uyuyarak geçirir. Aylar içinde uyku gereksinimi giderek azalır. Büyüme hormonu uykuda salgılandığından çocukların büyüme ve gelişmesinde düzenli ve yeterli uyku çok önemlidir. Yetişkinlik döneminde 7-8 saatlik uykunun yeterli olduğu kabul edilir. Yaşamın ilerleyen yıllarında yaşlılıkta gece uykuları dört saate kadar inebilir. Bunun yanında gün boyunca uyuklamalarla gece uykusu telafi edilir. Bireyler arasında uyku gereksinimi ve ritmi farklılık gösterir. Bazı insanlar 4-6 saatlik uyku ile yetinirler kimileri ise 10-12 saat uyurlar. Bazıları erken yatıp erken kalktıklarında, bazılarıysa geç yatıp geç kalktıklarında kendilerini daha zinde hissederler. Uyku aynı zamanda ruh sağlığının bir göstergesidir. Streste ve pek çok psikiyatrik hastalıkta uyku ritmi ve süresi bozulur. Bunun yanında yeterli uyku uyunmadığında kişinin fiziksel ve ruhsal streslere dayanıklılığı azalır.

26. Bu paragrafta uykuyla ilgili aşağıdakilerden hangisine değilmiştir?

- A) Bireyin ruhsal ve fiziksel sağlığını etkilediğine
- B) Ritmin bozulmasının psikiyatrik hastalıklara neden olduğuna
- C) Yaşlara göre uyuma süresinin değiştiğine
- D) Yaş ilerledikçe sürenin daha da kıaldığına
- E) Çocukların gelişiminde etkin rol oynadığına

27. Bu parçanın anlatımıyla ilgili aşağıdakilerden hangisi söylenemez?

- A) Örnekler yoluyla konu pekiştirilmiştir.
- B) Karşılaştırma yapılmıştır.
- C) Neden sonuç cümlesi kullanılmıştır.
- D) Bilgi verme amacı güdülmüştür.
- E) Alıntılarla konu somutlanmıştır.

28. – 30. SORULARI AŞAĞIDAKİ
PARÇAYA GÖRE CEVAPLAYINIZ.

Ahmet, Burak, Cemal, Derya, Erdal ve Fikri aileleri bir nikah salonunu aynı haftanın farklı günleri için kiralamışlardır. Salonun kiralanma koşulları ve kiralayanlarla ilgili şunlar bilinmektedir.

- Pazartesi günler salonda nikah töreni yapılmamaktadır.
- Salonda, bir gün içinde saat 12.00'de ve saat 20.00'da olmak üzere 2 tören yapılmaktadır.
- Salonu kiralayan bu ailelerden ikisinin nikah töreni saat 12.00'de, dördünün nikah töreni saat 20.00'de yapılacaktır.
- Derya ve Fikri ailelerinin nikah töreni cumartesi ve pazar günlerinde, farklı saatlerde yapılacaktır.
- Cemal ailesinin nikah töreni, Burak ailesinin nikah töreninin olduğu günden daha önceki bir günde yapılacaktır.
- Erdal ailesinin nikah töreni Cuma günü saat 12.00'de yapılacaktır.

28. Bu bilgilere göre, aşağıdakilerden hangisi kesinlikle yanlıştır?

- A) Salı günü saat 12.00'de salon boştur.
- B) Çarşamba günü saat 20.00'de salon doludur.
- C) Perşembe günü saat 20.00'de salon boştur.
- D) Cumartesi günü saat 12.00'de salon doludur.
- E) Pazar günü saat 20.00'de salon doludur.

29. Bu bilgilere göre aşağıdakilerden hangisi kesinlikle doğrudur?

- A) Ahmet ailesinin nikah töreni saat 12.00'de yapılacaktır.
- B) Cemal ailesinin nikah töreni, Salı günü yapılacaktır.
- C) Ahmet ailesinin nikah töreni, Burak ailesinin nikah töreninin yapılacağı günden daha sonraki bir günde yapılacaktır.
- D) Burak ailesinin nikah töreni, Erdal ailesinin nikah töreninin yapılacağı günden daha önceki bir günde yapılacaktır.
- E) Derya ailesinin nikah töreni, Erdal ailesinin nikah töreninin yapılacağı günün ertesi gününde yapılacaktır.

30. I. Ahmet
II. Burak
III. Cemal

Nikah töreni salı günü yapılacak aileler yukarıdakilerden hangileri olabilir?

- A) Yalnız I
- B) Yalnız III
- C) I ve III
- D) II ve III
- E) I, II ve III

$$31. \frac{\frac{1}{75} + \frac{1}{45} - \frac{1}{30}}{\frac{1}{25} + \frac{1}{15} - \frac{1}{10}}$$

işleminin sonucu kaçtır?

- A) 3 B) 2 C) 1 D) $\frac{1}{2}$ E) $\frac{1}{3}$

$$32. \frac{0,6}{0,12} + \frac{0,36}{0,036} - \frac{3}{0,02}$$

işleminin sonucu kaçtır?

- A) -150 B) -135 C) -100 D) -75 E) -50

$$33. \frac{3^{-2} - 3^4 + 3^{-6} - 3^8}{3^2 - 3^{-4} + 3^6 - 3^{-8}}$$

işleminin sonucu kaçtır?

- A) -81 B) -27 C) -9 D) -3 E) -1

34. xy ve xz iki basamaklı doğal sayılar

$$(xy)^2 - (xz)^2 = 53$$

denklemini sağlayan $x + y + z$ toplamı kaçtır?

- A) 12 B) 13 C) 14 D) 15 E) 16

$$35. |a - |a|| > 6$$

eşitsizliğini sağlayan birbirinden farklı 3 tam sayı toplamı en fazla kaçtır?

- A) -20 B) -15 C) -12 D) -10 E) -8

$$36. \frac{(\sqrt{3} + \sqrt{2} + 1)(\sqrt{3} - \sqrt{2} + 1)}{1 + \sqrt{3}}$$

işleminin sonucu kaçtır?

- A) 1 B) $\sqrt{3}$ C) 2 D) $2\sqrt{3}$ E) $3\sqrt{3}$

37. Gerçel sayılar kümesi üzerinde " Δ " ve " $*$ " işlemleri

$$x\Delta y = x^2 + y^2$$

$$x*y = x \cdot y$$

biçiminde tanımlanıyor.

Buna göre, $(48\Delta 36) - 2(48*36)$ işleminin sonucu kaçtır?

- A) 48 B) 52 C) 64 D) 81 E) 144

38. 10 dan 100 e kadar olan ardışık doğal sayılar yan yana yazılıp çarpılarak

$$A = 10 \cdot 11 \cdot 12 \cdot \dots \cdot 99 \cdot 100$$

sayısı elde ediliyor.

Buna göre, A sayısının sondan kaç basamağı sıfırdır?

- A) 24 B) 23 C) 22 D) 21 E) 20

39. a ve b pozitif tam sayılar

$$\begin{array}{r|l} 3a + b & b - a \\ \hline & 5 \\ \hline & 4 \end{array}$$

Yukarıda verilen bölme işlemine göre, a'nın alabileceği en küçük değer kaçtır?

- A) 4 B) 5 C) 6 D) 7 E) 8

40. İki basamaklı bir x sayısı 3 e, x + 1 sayısı 4 e, x + 3 sayısı 5 e tam bölünmektedir.

Buna göre, x'in en büyük değeri için rakamları toplamı kaçtır?

- A) 13 B) 14 C) 15 D) 16 E) 17

$$41. \sqrt[3]{5\sqrt{x}} = \sqrt[3]{5} \cdot \sqrt[3]{x}$$

olduğuna göre, x aşağıdakilerden hangisidir?

- A) 5 B) 5³ C) 5⁵ D) 3³ E) 3⁵

42. Aşağıda 2014 yılı Mart ayı takvimi verilmiştir.

Pzt	Salı	Çrş	Perş	Cum	Cumt	Pz
					1	2
3	4	5	6	7	8	9
10	11	12	13	14	15	16
17	18	19	20	21	22	23
24	25	26	27	28	29	30
31						

Olcay yaptığı programa göre Mart ayında 2'nin katı olan günlerde matematik, 3 ün katı olan günlerde Tarih ve Pazar günleri de Coğrafya çalışmayı planlamıştır. Diğer günlerde ders çalışmayı planlamamaktadır.

Buna göre, Olcay bu ay içinde kaç gün sadece 2 ders çalışmaktadır?

- A) 8 B) 7 C) 6 D) 5 E) 4

43. 10 kurdan oluşan bir İngilizce kursu aşağıdaki gibi planlanmıştır.

I. Kur ocak ayında 1. kurdan başlayacaktır.

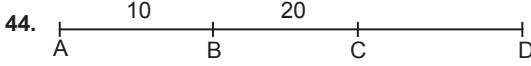
II. İlk kur bir ay sürecektir.

III. Bir sonraki kur bir öncekinden 1 ay fazla olacaktır.

IV. Ardışık iki kur arasında bir ay tatil vardır.

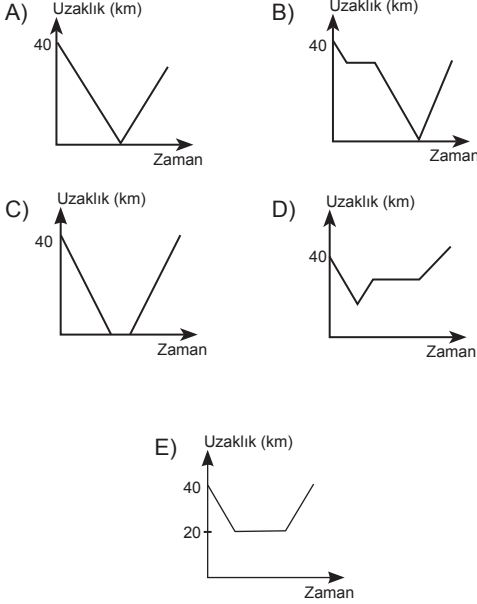
Buna göre, kursta kurların tamamı hangi ayda biter?

- A) Mart B) Nisan C) Mayıs
D) Haziran E) Temmuz



A ile D kentleri arasındaki yol üzerinde, şekildeki gibi A dan 10 km uzaklıkta B ve B'den 20 km uzaklıkta C kentleri bulunmaktadır.

Buna göre, A dan D ye doğru sabit hızla giden bir aracın B ve C kentlerine olan uzaklıkları toplamının zamana göre değişimini gösteren grafik aşağıdaki-lerden hangisidir?



45. Bir gezinti teknesi nehirde akıntıyla birlikte saatte 30 km, akıntıya karşı saatte 10 km hızla gidebilmektedir.

Akıntıyla aynı yönde gitmekte olan teknede bulunan Hatice saat 12:00'da teknede bulunan deniz topunu suya düşürüyor. Saat 15:00'da farkına varıyor ve hemen geri dönüyor. Buna göre Hatice hiç bir yere takılmadan ilerleyen deniz topunu geri aldığı anda saat kaçtır? (Teknenin geri döndüğündeki zaman kaybı dikkate alınmayacaktır.)

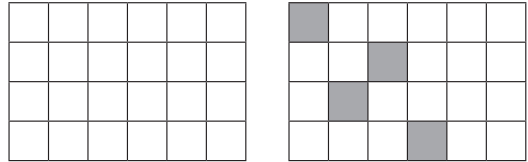
- A) 23:00 B) 22:00 C) 21:00
D) 20:00 E) 18:00

46. Sadece bir tür mal üreten bir atölyede makinelerden biri x saatte y birim mal üretiyor.

Aynı süre içinde bu makinenin z katı mal üreten başka bir makine, y birim malı kaç saatte üretir?

- A) $\frac{y.z}{x}$ B) $\frac{x.y}{z}$ C) $\frac{y}{z}$
D) $\frac{x}{z}$ E) $\frac{x}{y}$

47.



I. Şekil

24 küçük kareden oluşan I. şeklin her satır ve her sütununda bir ve yalnız bir küçük kare siyaha boyanarak II. şekildeki gibi desenler elde edilecektir.

Buna göre, en çok kaç farklı desen elde edilir?

- A) 360 B) 240 C) 180 D) 120 E) 60

48. Sayı doğrusu üzerinde işaretlenmiş x, y, z ve t sayılarının toplamı 100 dür.

Bu sayılardan en küçüğü x olmak üzere x'in y, z ve t sayılarının her birine olan uzaklıkları 40'dır.

Buna göre, x kaçtır?

- A) -5 B) -10 C) -12 D) -15 E) -20

49. Bir alışveriş merkezine giren ziyaretçi sayısı gün sonunda kayıt altına alınmaktadır. Tutulan kayıtlar o günle beraber o günden önce giren ziyaretçilerin toplam sayısıdır.

Beş gün boyunca tutulan kayıtlar aşağıdaki tabloda verilmiştir.

Pazartesi	200
Salı	x
Çarşamba	900
Perşembe	1400
Cuma	y

Cuma ve öncesi merkeze giren ziyaretçi sayısı, salı ve öncesinde merkeze giren ziyaretçi sayısının dört katıdır. Ayrıca cuma günü merkeze giren ziyaretçi sayısı, salı günü girenlerin iki katıdır.

Buna göre, çarşamba günü alışveriş merkezine giren ziyaretçi sayısı kaçtır?

- A) 400 B) 350 C) 300 D) 250 E) 200

50. Buna göre bu trende ön tarafta toplam kaç yolcu oturmaktadır?

- A) 360 B) 320 C) 300 D) 280 E) 260

51. Buna göre, trendeki tüm yolcuların ödediği toplam bilet ücreti kaç TL'dir?

- A) 11.200 B) 13.800 C) 14.000
D) 15.600 E) 33.600

50. VE 51. SORULARI AŞAĞIDAKİ BİLGİLERE GÖRE BİRBİRİNDEN BAĞIMSIZ OLARAK CEVAPLAYINIZ.

Aşağıdaki tabloda bir trende bulunan koltuklar için belirlenen bilet tarifesi verilmiştir.

Tam		Öğrenci	
Ön	Arka	Ön	Arka
₺90	₺50	₺60	₺30

Bu trenin tüm koltukları dolu iken yolcular ile ilgili aşağıdaki bilgiler bilinmektedir.

- Trende verilen koltuk türleri dışında koltuk bulunmamaktadır.
- Tam bilet alan ve öğrenci bileti olan yolcuların ödedikleri toplam bilet ücretleri birbirine eşittir.
- Tam bilet alan koltukların yarısı ön tarafta, yarısı arka taraftadır.
- Trenin öğrenci bileti olan koltukların dörtte biri arka tarafta, dörtte üçü ön taraftadır.
- Trende toplam 560 adet yolcu bulunmaktadır.

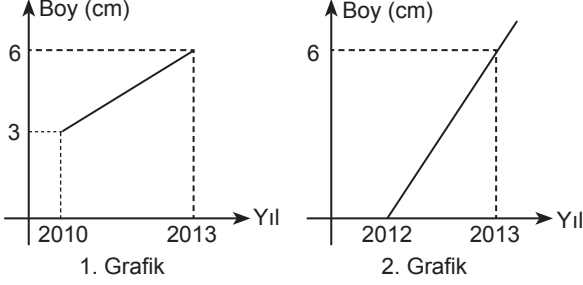
52. A ve B mağazalarında iki çeşit satış kampanyası bulunmaktadır.

- A mağazasında bir televizyonun satış fiyatı iki kez üst üste %20 ve %30 indirim yapılarak ₺7.000 olarak oluşturulmuş,
- B mağazasında bir bilgisayarın satış fiyatına %10 zam yapılarak ayda ₺300'lik ödemelerle 44 ay taksitli olarak oluşturulmuştur.

Buna göre B mağazasında bilgisayarın ilk satış fiyatı, A mağazasında satılan televizyonun ilk satış fiyatından yüzde kaç eksiktir?

- A) 2 B) 3 C) 4 D) 5 E) 10

53. VE 54. SORULARI AŞAĞIDAKİ BİLGİLERE GÖRE BİRBİRİNDEN BAĞIMSIZ OLARAK CEVAPLAYINIZ.



Yukarıda verilen 1. grafikte A bitkisinin 2. grafikte B bitkisinin yıllara göre boylarındaki değişimler gösterilmiştir.

53. Buna göre B bitkisinin yıllık uzama miktarı A bitkisinin yıllık uzama miktarının kaç katıdır?

- A) 1 B) 2 C) 3 D) 4 E) 6

54. Buna göre hangi yılda B bitkisinin boyu A bitkisinin boyunun 3 katı olur?

- A) 2014 B) 2015 C) 2016
D) 2017 E) 2018

55. VE 57. SORULARI AŞAĞIDAKİ BİLGİLERE GÖRE BİRBİRİNDEN BAĞIMSIZ OLARAK CEVAPLAYINIZ.

Bir basketbol turnuvasına belli sayıda takım katılıyor. Turlarda bir maç kaybeden eleniyor. Her turda tek sayıda takım olursa bir takım eleme turunu bay geçiyor yani maç yapmadan direk üst tura çıkıyor.

Örneğin 5 takım katılırsa 4 takım kendi aralarında 2 maç yapıyor kalan takım o turu bay geçiyor yani direk bir üst tura çıkıyor.

55. Buna göre turnuvaya 23 takım katılırsa toplam kaç maç yapılır?

- A) 27 B) 25 C) 23 D) 22 E) 20

56. Turnuvada toplam 17 maç oynanmış ise turnuvaya kaç takım katılmıştır?

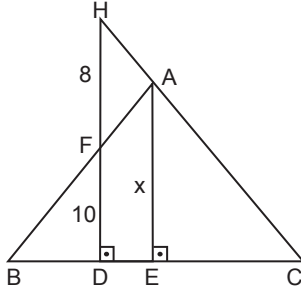
- A) 14 B) 16 C) 18 D) 20 E) 22

57. Turnuvaya 29 takım katılmış ve 1. olan takım 2 turda bay geçmiştir.

Buna göre, 1. olan takım kaç tane maç yapmıştır?

- A) 29 B) 28 C) 27 D) 26 E) 25

58.



ABC ikizkenar üçgen

$[HD] \perp [BC]$

$[AE] \perp [BC]$

$|AB| = |AC|$

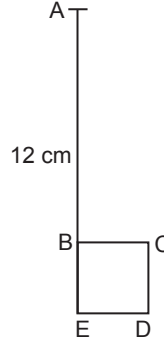
$|HF| = 8 \text{ cm}$

$|FD| = 10 \text{ cm}$

Yukarıdaki verilere göre $|AE| = x$ kaç cm dir?

- A) 13 B) 14 C) 15 D) 16 E) 17

60.



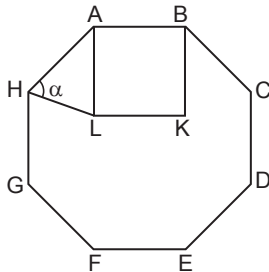
Şekilde verilen 12 cm uzunluğundaki AB ipi gergin durumda tutularak çevre uzunluğu 12 cm olan BCDE karesinin çevresine saat yönünde döndürülerek sarılıyor.

İpin A ucu B köşesine geldiğinde ipin çizdiği yayın uzunluğu kaç π cm olur?

- A) 12 B) 13 C) 14 D) 15 E) 16

www.yaklasimkitap.com

59.



ABCDEFGH düzgün sekizgen

ABKL kare

Yukarıdaki verilere göre $m(\widehat{AHL}) = \alpha$ kaç derecedir?

- A) 77,5 B) 72,5 C) 70 D) 67,5 E) 62,5

GENEL YETENEK TESTİ BİTTİ.
GENEL KÜLTÜR TESTİNE GEÇİNİZ.

GENEL KÜLTÜR

DİKKAT: BU BÖLÜMDE YANITLAYACAĞINIZ SORU SAYISI 60'TIR.

1-27 SORU : "Atatürk İlkeleri ve İnkılap Tarihi" ile "Türk Kültür ve Medeniyetleri"

28-45 SORU : "Türkiye Coğrafyası"

46-60 SORU : "Temel Yurttaşlık Bilgisi ve Güncel Konular" ile ilgilidir.

Bu bölümdeki sorularla ilgili cevaplarınızı, cevap kağıdınızdaki "**GENEL KÜLTÜR**" bölümüne işaretleyiniz.

1. Orta Asya Türklerinde;
- Mülkiyet kavramının olmaması,
 - Çadır dokumacılığının gelişmesi
 - Başkent olgusunun fazla gelişmemesi
- durumundan hangileri göçebe yaşamı benimsediklerini kanıtlar niteliktedir?**
- A) Yalnız I B) I ve II C) II ve III
D) I ve III E) I, II ve III
2. Büyük Selçuklularda önemli davalara bakan Hükümdarın başkanlık ettiği bir tür yüksek mahkeme gibi çalışan divan aşağıdakilerden hangisidir?
- A) Divan-ı Mezalim B) Divan-i Saltanat
C) Divan-ı Arz D) Divan-ı Tuğra
E) Divan-ı İstifa
3. Anadolu Selçuklularda sultan oğulları "Atabey" adlı öğretmenlerinin kontrolünde vilayetlerin yönetiminden sorumlu tutulurdu.
- Bu uygulamayla aşağıdakilerden hangisi amaçlanmıştır?**
- A) Sultan adaylarına yönetim terbiyesi kazandırmak
B) Atabeylerin devlet yönetmindeki etkinliğini arttırmak
C) Vilayetleri merkezden bağımsızlaştırmak
D) Sultan oğullarını devletin merkezinden uzaklaştırmak
E) Merkezi yönetimi en iyi, en becerikli, en büyük oğula devretmek
4. Aşağıdaki devlet görevlerinden hangisi ilmiye sınıfı içerisinde **yer almaz**?
- A) Müftü B) Kadı C) Nişancı
D) Kazasker E) Şeyhülislam
5. Aşağıdakilerden hangisi Osmanlı Devleti'nin tarımsal üretimini korumak amacıyla aldığı önlemlerden birisidir?
- A) Tımarlı sipahilere toprak mülkiyetinin verilmesi
B) Toprağını terk eden köylüden çift bozan vergisinin alınması
C) Herkesten gelirine göre öşür vergisinin toplanması
D) Tımarların gayr-ı müslimlere de verilmesi
E) Toprağın tasarrufunun köylüye bırakılması
6. Osmanlı sanatının klasik döneminde resim yerine aşağıdaki sanat dallarından hangisi daha fazla tercih edilmiştir?
- A) Seramik B) Minyatür C) Oymacılık
D) Hat E) Tezhip
7. Osmanlı Devleti'nde;
- ticaret yollarının yön değiştirmesi
 - Ulufe alan asker sayısının artması
 - çok uluslu karaktere sahip olunması
- durumlarından hangilerinin ekonomiyi olumsuz yönde etkilediği söylenebilir?**
- A) Yalnız I B) Yalnız II C) Yalnız III
D) I ve II E) I, II ve III
8. Osmanlı Devleti, XIX. yy'da halkı yerli malı kullanımına teşvik etmiş ve yurt dışından mal alımına sınırlamalar getirmiştir.
- Bu uygulamaların aşağıdakilerden hangisine yönelik olduğu söylenemez?**
- A) Yerli tüccarların korunmasına
B) Ekonomik dışa bağımlılığın azaltılmasına
C) Kapitülasyonların etkilerinin önlenmesine
D) Avrupa devletleri ile ekonomik ilişkilerin sonlandırılmasına
E) Paranın değerinin korunmasına

9. Osmanlı Devleti'nin XX.yy'da din, dil ve ırk ayrımı gözetmeden ülke bütünlüğünü korumak için Osmaniçlik düşüncesini öne çıkarmasında aşağıdakilerden hangisinin etkili olduğu savunulamaz?

- A) Milliyetçilik hareketlerinin yaygınlaşması
- B) Ülke sınırlarının genişletilmek istenmesi
- C) Devletin dağılma sürecine girmiş olması
- D) Avrupalıların Osmanlı Devleti'nin içişlerine müdahale etmek istemesi
- E) Etnik unsurların ayrılıkçı hareketlere yönelmesi

10. Genel Borçlar İdaresi olan "Duyun-u Umumiye'nin" oluşturulması aşağıdakilerden hangisinin sonucudur?

- A) Balkan uluslarının isyan etmesinin
- B) Kapitülasyonların yaygınlaştırılmasının
- C) Osmanlının dış borçlarını ödeyememesinin
- D) Azınlık sorununun çözülememesinin
- E) Osmanlının Avrupa'da elçilikleri açmasının

11. Mustafa Kemal Paşa'nın emperyalizme karşı mücadeleye ettiği ifade ilk cephe aşağıdakilerden hangisidir?

- A) I. Balkan Savaşı
- B) Trablusgarb Savaşı
- C) Sakarya Savaşı
- D) Çanakkale Cephesi
- E) Kafkas Cephesi

12. Mustafa Kemal Paşa'nın görev aldığı;

- I. Anafartalar
- II. Tobruk
- III. Conkbayırı

cephelerinden hangilerinin kazanılması İstanbul'un işgalini önlemiştir?

- A) Yalnız I
- B) Yalnız II
- C) Yalnız III
- D) I ve II
- E) I ve III

13. Osmanlı Devleti'nin I. Balkan Savaşı'nda Makedonya ve Batı Trakya ile Doğu Trakya'nın bir bölümünü kaybetmesi aşağıdakilerden hangisinin göstergesidir?

- A) Osmanlı Devleti'nin dış politikada etkinliğinin artırdığının
- B) Osmanlı Devleti'nin siyasi sınırlarında küçülme yaşadığının
- C) Bulgaristan'ın, Avusturya - Macaristan ile yakınlaştığının
- D) Osmanlı Devleti'nin Balkanlardaki egemenliğinin pekiştığının
- E) Amavutluk'un Osmanlı ile aynı ittifakta yer aldığıının

14. Mondros Ateşkes Antlaşması'nın;

- I. Osmanlı ordusu terhis edilecek
- II. Tüm ulaşım hatları itilaf devletlerinin denetimine geçecek
- III. Anadolu'daki itilaf devletlerinin esirleri serbest bırakılacak

hükümlerinden hangileri Osmanlı Devleti'nin savunmasız bırakmaya yöneliktir?

- A) Yalnız I
- B) Yalnız II
- C) Yalnız III
- D) I ve II
- E) I, II ve III

15. Kuvva-i Milliye birlikleri, Milli Mücadeleye karşı artan isyanların bastırılmasında ve Yunan ilerleyişinin yavaşlatılmasında etkili olmuştur.

Bu durum Kuvva-i Milliye birliklerinin;

- I. Milli Mücadele hareketini güçlendirmeye
- II. İşgallerin yaygınlaşmasını önlemeye
- III. düşman birliklerini oyalamaya

özelliklerinden hangilerine ulaşılmasına katkı sağlar?

- A) Yalnız I
- B) Yalnız II
- C) I ve II
- D) I ve III
- E) I, II ve III

16. Mustafa Kemal Paşa, Milli Mücadele yıllarında karşılaştığı ilk iç muhalefet hareketi aşağıdakilerden hangisidir?

- A) Son Osmanlı Mebusan Meclisi
- B) Erzurum Kongresi
- C) Sivas Kongresi
- D) TBMM
- E) Amasya Görüşmesi

17. Mustafa Kemal Paşa'nın kurtuluşun gerçekleştirilmesi için düşündüğü çare, "Milli egemenliğe dayanan kayıtsız, şartsız bağımsız yeni bir Türk devleti kurmaktır".

Buna göre Mustafa Kemal Paşa'nın;

- I. ulusal bağımsızlık
- II. milli irade
- III. bölgesel irade

durumlarından hangilerine önem verdiği savunulabilir?

- A) Yalnız I
- B) Yalnız II
- C) I ve II
- D) I ve III
- E) II ve III

18. – I. İnönü Savaşı'ndan sonra İtilaf Devletleri'nin TBMM Hükümeti'ni Londra Konferansı'na çağırması
– Sakarya Savaşı'ndan sonra Fransa'nın TBMM Hükümeti'nin Fransa ile Ankara Antlaşması'nı imzalaması

Gelişmelerine bakılarak aşağıdakilerden hangisine ulaşabilir?

- A) Türk ordusunu askeri başarılarının diplomasiyi etkilemiştir.
- B) İstanbul Hükümeti'nin Türk halkı üzerindeki otoritesi artmıştır.
- C) Anlaşma Devletleri Anadolu'da tamamen çekilmiştir.
- D) TBMM ülkede, genel seferberlik ilan etmiştir.
- E) Kurtuluş Savaşı'nın silahlı mücadele dönemi sonlanmıştır.

19. Moskova Antlaşması'na göre; Sovyet Rusya, TBMM'nin Gürcü ve Ermeni yönetimleri yaptığı sınır antlaşmalarını kabul edecektir.

Bu durum;

- I. TBMM yönetimi İtilaf Devletleri ile ilişkilerini kırmıştır.
- II. Sovyet Rusya, TBMM'nin dış politikadaki varlığını kabul etmiştir.
- III. TBMM yönetimi siyasal ilişkiler kurarken sınırlarının korunmasına önem vermiştir.

yargılarından hangilerine kanıt gösterilebilir?

- A) Yalnız I
- B) Yalnız II
- C) Yalnız III
- D) I ve II
- E) II ve III

20. Cumhuriyet'in ilanından sonra çok partili rejime geçişte;

- I. Hükümetin denetlenmesini sağlamak
- II. Halkın görüşlerinin mecliste temsil edilmesini kolaylaştırmak
- III. Tek dereceli seçim sistemine geçmek

yargılarından hangilerinin amaç edinildiği söylenebilir?

- A) Yalnız I
- B) Yalnız II
- C) I ve II
- D) I ve III
- E) I, II ve III

21. Atatürk, "Kanun önünde eşitlik herşeyden önce din ve vicdan hürriyetini zorunlu kılmaktadır."

Atatürk'ün sözü aşağıdakilerden hangileriyle bağdaşır?

- A) Halkçılık - Laiklik
- B) Cumhuriyetçilik - Laiklik
- C) Halkçılık - Cumhuriyetçilik
- D) Laiklik - Milliyetçilik
- E) Laiklik - Devletçilik

22. Cumhuriyet'in ilk yerli sermayeli bankası olan "Türkiye İş Bankası"nın ilk genel müdürü aşağıdakilerden hangisidir?

- A) Hasan (Saka)
- B) Mustafa Rahmi (Köken)
- C) Cahit Kocaömer
- D) Mahmut Celal (Bayar)
- E) Hasan Fehmi (Ataç)

23. Aşağıdakilerden hangisi Atatürk dönemi Türk dış politikasının esaslarıyla bağdaşmaz?

- A) Mevcut sınırlarını koruma
- B) Dünya barışına katkıda bulunma
- C) Uluslararası hukuka saygılı olma
- D) Sınırlarını genişletme
- E) Devletlerarası eşitlik prensibine bağlı kalma

24. 1934 yılında Balkan Antantı'nın kurulmasında;

- I. İtalya'nın Doğu Akdeniz'e egemen olmak istemesi
- II. Devletlerarası silahlanma yarışını hızlanması
- III. Birleşmiş Milletler Teşkilatının görevini yapamaz hale gelmesi

durumlarından hangileri etkili olmuştur?

- A) Yalnız I
- B) I ve II
- C) I ve III
- D) II ve III
- E) I, II ve III

25. II. Dünya Savaşı'nın ardından yaşanan gelişmelere bakıldığında;

- I. Hindistan ve Endonezya'dan milli kurtuluş hareketleri başlamıştır.
- II. Almanya, Doğu ve Batı olarak ikiye bölünmüştür.
- III. Polonya kurulmuştur.

yukarıdakilerden hangilerine ulaşılabilir?

- A) Yalnız II
- B) Yalnız III
- C) I ve II
- D) I ve III
- E) II ve III

26. 1974 yılından itibaren Türk-Yunan ilişkileri Kıbrıs Meselesi'ne paralel olarak daha çok Ege Denizi üzerinde yoğunlaşmıştır.

Bunlardan;

- I. Karasuların Yunanistan tarafından 12 mile çıkarılmak istenmesi
- II. Hava sahası (Fır Hattı) Sorunu
- III. Batı Trakya Türkleri'nin azınlık haklarının çiğnenmesi

hangileri 1974 sonrası Yunanistan ile Türkiye arasında yaşanan sorunlardandır?

- A) Yalnız I
- B) I ve II
- C) I ve III
- D) II ve III
- E) I, II ve III

27. – Teşkilatın kuruluş amacı tamamen "İsrail Sorunu" ile ilgilidir.

- 25 Eylül 1969'da Türkiye'nin de içerisinde olduğu 57 ülke tarafından kurulmuştur.
- Teşkilatın 2005'ten itibaren Genel Sekreterliğini Ekmeleddin İhsanoğlu yapmaktadır.

Bu dünya teşkilatı aşağıdakilerden hangisidir?

- A) İslam Konferansı Teşkilatı (İKT)
- B) Türkiye İşbirliği ve Kalkınma İdaresi Başkanlığı (TİKA)
- C) Avrupa Ekonomik Topluluğu (AET)
- D) Kuzey Atlantik Paktı (NATO)
- E) Avrupa Birliği Komisyonu (EUC)

28. Türkiye'nin jeopolitik konumunda etkili olan;

- I. İklim
- II. Askeri değerler
- III. Gelenek – görenek
- IV. Coğrafi konum

faktörlerinden hangileri değişmeyen unsurlar arasında yer alır?

- A) I, II B) I, III C) I, IV
D) II, III E) III, IV

29.



İstanbul kentinden Gaziantep'e doğru havalanan bir uçak, yukarıdaki haritada gösterildiği gibi belirli bir rotayı takip ederek bazı platoların üzerinden geçmektedir.

Buna göre, haritada numaralandırılan platolar aşağıdakilerin hangisinde doğru olarak verilmiştir?

- | | I | II | III |
|----|-------------------|------------|-------------------|
| A) | Çatalca - Kocaeli | Haymana | Obruk |
| B) | Haymana | Yazılıkaya | Gaziantep - Urfa |
| C) | Çatalca - Kocaeli | Bozok | Uzunyayla |
| D) | Obruk | Yazılıkaya | Çatalca - Kocaeli |
| E) | Yazılıkaya | Obruk | Bozok |

30. Türkiye'nin gölleriyle ilgili aşağıda verilen bilgilerden hangisi **yanlıştır**?

- A) Doğal göl bulunmayan tek bölge Güneydoğu Anadolu Bölgesidir.
- B) Karadeniz ve Akdeniz bölgesindeki dağlar üzerinde bulunan göller volkanik oluşumludur.
- C) Göllerin yükseltisi batıdan doğuya gidildikçe artmaktadır.
- D) Akdeniz bölgesinde çok sayıda karstik göl vardır.
- E) Ülkenin kuzey batısında akarsu vadilerine baraj ve baraj gölü inşa etmek oldukça güçtür.

31. Aşağıdakilerden hangisi, Karadeniz Bölgesi'nde özellikle ilkbahar mevsiminde yaşanan heyelanın nedenleri arasında **gösterilemez**?

- A) Ormanların tahrip edilmesi
- B) Sağanak şeklindeki yağışlar ve kar erimeleri
- C) Yamaçlardaki kuvvetli eğim
- D) Killi toprağın varlığı
- E) Anakayayı oluşturan tabakaların uzanış doğrultusu

32. Türkiye'de,

- kış mevsiminde cephesel yağışların oluşması
 - yıl içerisinde dört mevsimin yaşanması
 - genel hava akımının batıdan doğuya doğru olması
- aşağıdakilerden hangisinin sonucudur?**

- A) Üç tarafının denizlerle çevrili olmasının
- B) Kuzey yarım kürede yer almasının
- C) Orta kuşakta yer almasının
- D) Yükseltinin doğuda fazla olmasının
- E) Eski dünya karaları arasında merkezi bir konuma sahip olmasının

33. I. İğne yapraklı orman

- II. Maki
- III. Çayır
- IV. Bozkır

Yukarıda Türkiye'de bulunan çeşitli bitki tür ve toplulukları verilmiştir.

Buna göre, bu bitkilerin egemen olduğu yerlerde iklim ve yerşekilleri gibi doğal koşullara uygunluk bakımından sırasıyla hangi toprak türlerinin bulunması beklenir?

- | | I | II | III | IV |
|----|------------------|------------------|------------|---------------------|
| A) | Laterit | Terrarossa | Podzol | Kestane renkli step |
| B) | Podzol | Terrarossa | Çernozyum | Kahverengi step |
| C) | Çernozyum | Podzol | Terrarossa | Çöl |
| D) | Tundra | Kahverengi orman | Çernozyum | Çöl |
| E) | Kahverengi orman | Terrarossa | laterit | Tundra |

34. I. Enlem
II. Karasallık
III. Orta kuşakta yer alması
IV. Dağların uzanış doğrultusu

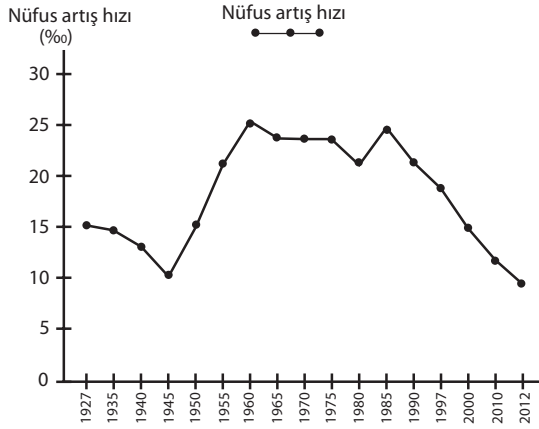
Türkiye'nin farklı yörelerinde konveksiyonel yağışlar ile yamaç (orografik) yağışların görülmesi yukarıda verilen nedenlerden hangilerine bağlanabilir?

- A) I, II B) I, III C) II, III
D) I, IV E) II, IV

35. Türkiye'de nüfusun dağılışı göz önüne alındığında aşağıdakilerden hangisi **yanlıştır**?

- A) Taşeli platosunda nüfus yoğunluğu Türkiye ortalamasının altındadır.
B) Türkiye'de nüfusun yarısından fazlası kıyı kesiminde yaşamaktadır.
C) Türkiye'nin doğusu ve batısı arasında nüfus miktarı bakımından dengesizlik vardır.
D) Bağımlı nüfus Türkiye'nin batısında daha fazladır.
E) En fazla nüfus Marmara Bölgesi'nde toplanmıştır.

36.



Yukarıdaki grafikte Türkiye'de sayım yıllarına göre 1927 – 2012 yılları arasında nüfus artış hızındaki değişimler gösterilmiştir.

Grafiğe göre aşağıdakilerden hangisi Türkiye'de 1985 yılından itibaren meydana gelen nüfus artış hızındaki düşmenin nedenleri arasında gösterilemez?

- A) Eğitim seviyesinin yükselmeye başlaması
B) Kadının iş hayatına girmesi
C) Kentleşen nüfusun artması
D) Kırdan kente yapılan göçlerin azalması
E) Gelir düzeyinin artmaya başlaması

37. Aşağıdakilerden hangisi, Güneydoğu Anadolu Projesinin hedefleri arasında **yer almaz**?

- A) Bölgenin gelir düzeyini ve yaşam standartını yükseltmek
B) Sulamalı tarımı yaygınlaştırmak
C) Bölgenin diğer bölgelerle olan sosyo-ekonomik gelişmişlik farkını azaltmak
D) Kırdan kente göçü teşvik etmek
E) Bölgeyi büyük bir lojistik üssü yapmak

38. Aşağıdakilerin hangisinde, yetiştirilen tarım ürünlerinin en fazla üretildiği yer **yanlış** verilmiştir?

- A) Pamuk – Güneydoğu Anadolu Bölgesi
B) Zeytin – Akdeniz Bölgesi
C) Fındık – Karadeniz Bölgesi
D) Buğday – İç Anadolu Bölgesi
E) Üzüm – Ege Bölgesi

39. Türkiye'nin doğusunda yer alan Erzurum – Kars platosunda büyükbaş hayvancılığın, İç Anadolu'daki platolarda yetiştirilen küçükbaş hayvancılık faaliyetlerinden daha yaygın olmasının **temel nedeni** aşağıdakilerden hangisidir?

- A) Pazarlama olanaklarının gelişmiş olması
B) Yaz yağışlarının fazla olması
C) Geniş düzlüklerinin yaygın olması
D) Toprak tipinin farklı olması
E) Modern hayvancılık yöntemlerinin kullanılması

40. Aşağıda verilen termik santrallerde kullanılan enerji kaynakları göz önüne alındığında, hangisinin elektrik üretiminde kullandığı enerji kaynağı diğerlerinden farklıdır?

- A) Afşin – Elbistan B) Soma
C) Sarayköy D) Yatağan
E) Seyit Ömer

41. Türkiye’de endüstri kuruluşlarının yer seçimini belirleyen etkenler göz önüne alındığında Anadolu’nun kıyı kesiminde özellikle İzmit, İzmir ve Mersin’de petro – kimya endüstrisinin gelişmesinde aşağıdakilerden hangisinin etkisi daha fazladır?

- A) Hammadde
- B) İşgücü
- C) Sermaye
- D) Enerji
- E) Ulaşım

42. “Ticari sanayi ve turizm faaliyetlerinin yoğunlaşmasına bağlı olarak kentler arasındaki karayolu üzerinde yoğun bir trafik akışı söz konusudur.”

Türkiye’deki karayollarında aşağıdaki güzergahlardan hangisinin araç trafiği yoğunluğunun daha az olması beklenir?

- A) Doğu Karadeniz sahil yolu
- B) Ankara – İstanbul otoyolu
- C) Mersin – Adana – Gaziantep otoyolu
- D) İstanbul – Bursa – İzmir karayolu
- E) Afyon – Antalya karayolu

43. Bir limanın iç kesimlerle olan demir ve karayolu bağlantısı ne kadar güçlü ve iyi ise o liman ve bulunduğu kent-sel mekan, bir o kadar gelişme kaydetmektedir.

Buna göre aşağıda limanı olan kentlerden hangisi bu duruma örnek olarak gösterilemez?

- A) Mersin Limanı
- B) İstanbul – Haydarpaşa Limanı
- C) Antalya Limanı
- D) İzmir Limanı
- E) İskenderun Limanı

44. Türkiye’de turizm faaliyetlerinin en yoğun şekilde gerçekleştiği bölgelerden biridir.(I) Deniz, kum ve güneş olanaklarının en uygun olduğu yerdir. (II) Roma imparatorluğu dönemine ait Aspendos ve Perge gibi antik kentler yer almaktadır. (III) Karstik aşındırma şekli olan Cennet ve Cehennem obrukları bölgedeki en önemli doğal turistik yerlerdendir. (IV) Bölgenin batısında yer alan antik Efes kenti en fazla turist çeken turizm merkezlerinden biridir.(V)

Akdeniz Bölgesi’nin turizm varlıkları ile ilgili olarak verilen metindeki cümlelerden hangisi yanlıştır?

- A) I
- B) II
- C) III
- D) IV
- E) V

45. Türkiye turizmde önemli yer tutan doğal ve kültürel çekicilikler göz önünde bulundurulduğunda aşağıdakilerden hangisinin daha fazla turist çektirici söylenebilir?

- A) Kapadokya
- B) Topkapı Sarayı
- C) Yedigöller Milli parkı
- D) Antakya Saint Pierre Kilisesi
- E) Doğu Karadeniz yaylaları

46. I. Hukuken sınırlıdır.
II. Yalnızca hükümet darbesi sonucu oluşur.
III. Anayasa değişikliklerinde sınırlıdır.
IV. Mevcut anayasal sistem üzerinde değişiklikler yapan iktidardır.
V. Hiçbir bağlayıcı hükme tabi değildir.

Yukarıda verilen özelliklerden hangisi/hangileri Tali Kurucu iktidara ait özelliklerden değildir?

- A) I, III ve IV
- B) II ve V
- C) Yalnız V
- D) I ve II
- E) I, III, IV ve V

47. Aşağıdaki ifadelerden hangisi hukuk kurallarının özelliklerindedir?

- A) Yazılı olan tek sosyal hayat düzenleyicisidir.
- B) Bilimsel doktrinler mevzuatlar içerisinde yer alır.
- C) Dogmatik kurallar birlikteliğidir.
- D) Yaptırımları toplumsal baskıya dayanır.
- E) Yazılı kaynaklarda boşluk halinde örf-adet hukuku devreye girer.

48. İkrahi durumu mahkemece kanıtlanan bir borç belgesinin akıbeti aşağıdakilerden hangisidir?

- A) Cebri İcra
- B) Tek taraflı bağlamazlık
- C) Hükümsüzlük
- D) Manevi tazminat
- E) Adli para cezası

49. 1982 Anayasasına göre çalışma şartları açısından özel olarak korunacaklar aşağıdakilerden hangisinde doğru olarak verilmiştir?

- A) Yaşlılar - muhtaçlar
- B) Emekliler - özürlüler
- C) İşçiler - memurlar
- D) Kadınlar - çocuklar
- E) Çocuklar - yaşlılar

50. TBMM'nin çalışma usullerini yine kendisi tarafından belirlemesi aşağıdaki ilkelerden hangisiyle ifade edilir?

- A) Yasamanın genelliği
- B) Egemenliğin millete ait olması
- C) Tek meclis sistemi
- D) Yöntemsel bağımsızlık
- E) Rasyonelleştirilmiş parlamenterizm

51. 1982 Anayasası'na göre Cumhurbaşkanı'nın kişisel suçlarıyla ilgili sorumluluğu tanımlanmamıştır.

Bu durum aşağıdakilerden hangisi ile ifade edilebilir?

- A) Cumhurbaşkanının tarafsızlığı
- B) Tek taraflı bağlamazlık
- C) Rasyonelleştirilmiş parlamenterizm
- D) Karşı imza kuralı
- E) Kanun boşluğu

52. Aşağıdaki konulardan hangisi ile ilgili Anayasa Mahkemesi'ne bireysel başvuru yapılabilir?

- A) Devlet memurlarının atama kararlarına yapılan itirazlar
- B) Kamu başdenetçilerinin çözümleyemediği konular
- C) Hizmet yerinden yönetim birimlerinde çalışan kişilerin aldıkları disiplin cezalarına itirazlar
- D) İnsan haklarına dayalı ihlaller durumunda iç hukuk yollarının tamamlanması ile
- E) Kamulaştırmaya karşı hak sahibinin yönetsel itirazlarında

53. Aşağıdakilerden hangisi “yerel yönetim”lere ait özelliklerden değildir?

- A) Aralarında herhangi bir hiyerarşi söz konusu değildir.
- B) Kendilerine ait, kendi bütçelerinden karşılanan “kolluk kuvveti” oluşturabilirler.
- C) “Kamu Tüzel Kişiliği”ne sahiptirler.
- D) Yönetmelik çıkarma yetkisine sahiptirler.
- E) Yönetici maaşlarının belirlenmesi bakanlık yetkisi dahilindedir.

54. Belediye başkanının vefatı, görevden ayrılması yada görevden alınması durumunda belediye başkanlığı için aşağıdakilerden hangisi uygulanır?

- A) Vali tarafından il idare kurulundan bir kişi kalan süre sonuna kadar belediye başkanlığı görevini üstlenir.
- B) Belediye Meclisi kendi içerisinde yaptığı oylama ile üyeleri arasından bir kişiyi kalan süre için Belediye Başkanlığı görevine getirir.
- C) Söz konusu belediye sınırları içinde Belediye Başkanlık seçimi yenilenir.
- D) Belediye Encümeni yeni belediye başkanını belirler.
- E) Kaymakam tarafından belediye başkanlığı vekaleten üstlenilir.

55. 5 kıtada 35 ülkede aynı anda gerçekleştirilecek olan en büyük koşu etkinliği “Wings for Life World Run” (Dünya Koşamayanlar için koşacak) 4 Mayıs 2014’te aşağıdakilerden hangisinde gerçekleştirilecektir?

- A) İstanbul
- B) Bursa
- C) Alanya
- D) Antalya
- E) İzmir

56. Türkiye’de 13 Ocak 2012 itibariyle en son ulusal yas ilanı ile sınır ve gümrük kapılarında ve yurtdışı temsilciliklerimizde bayrakların yarıya indirilmesi aşağıdaki olaylardan hangisiyle gerçekleşmiştir?

- A) Rauf Denktaş’ın vefatı
- B) Düzce depremi
- C) Nelson Mandela’nın vefatı
- D) Filipinler’de yaşanan tsunami
- E) İskenderun’da yaşanan patlama

57. 2013 Avrupa Parlamentosu dönem başkanı aşağıdakilerden hangisidir?

- A) Ekmeleddin İhsanoğlu
- B) Mario Monti
- C) Martin Schulz
- D) Angela Merkel
- E) François Hollande

58. Şubat 2014 Kış Olimpiyatları’nın düzenlendiği Soçi kenti hangi ülkededir?

- A) Rusya
- B) Romanya
- C) Çin
- D) Kore
- E) Ukrayna

59. 2013 Nato Genel Sekreter yardımcılığı görevini aşağıdakilerden hangisi üstlenmektedir?

- A) Andres Fogh Rasmussen
- B) Hüseyin Dirioz
- C) Ban Ki-Moon
- D) Jim Yong Kim
- E) Hasan Tuluy

60. Para politikasını belirleyen, banknot basmaya yetkili, faiz oranlarını tesbit eden ve fiyat istikrarından sorumlu olan Merkez Bankası Başkanı aşağıdakilerden hangisi tarafından atanır?

- A) TBMM
- B) Cumhurbaşkanı
- C) Başbakanlık
- D) Bakanlar Kurulu
- E) Milli Güvenlik Kurulu

TEST BİTTİ.

LÜTFEN CEVAPLARINIZI KONTROL EDİNİZ.