

KAMU PERSONEL SEÇME SINAVI
ÖN LİSANS
GENEL YETENEK TESTİ – GENEL KÜLTÜR TESTİ
- 3 -

DİKKAT!

SINAVA BAŞLAMADAN ÖNCE AŞAĞIDAKİ UYARILARI MUTLAKA OKUYUNUZ.

1. Adınızı, soyadınızı, T.C. Kimlik Numaranızı ve sınav salon numaranızı aşağıya yazınız.

ADINIZ	:
SOYADINIZ	:
T.C. KİMLİK NUMARANIZ	:
SINAV SALON NO	:

2. Genel Yetenek Testi ve Genel Kültür Testi için verilen **toplam** cevaplama süresi **120 dakikadır (2 saat)**.
3. Genel Yetenek Testi ve Genel Kültür testlerinin her birinde **60 soru** vardır. Toplam **120 soru** bulunmaktadır.
4. Cevaplamaya istediğiniz testten ve sorudan başlayabilirsiniz. Her soru ile ilgili cevabınızı, cevap kâğıdında o soru için ayrılmış olan yere işaretlemeyi unutmayınız.
5. **Testler puanlanırken her testteki doğru cevaplarınızın sayısından yanlış cevaplarınızın sayısının dörtte biri düşülecek ve kalan sayı o testle ilgili ham puanınız olacaktır. Bu nedenle, hakkında hiçbir fikrinizin olmadığı soruları boş bırakınız. Ancak, soruda verilen seçeneklerden birkaçını eleyebiliyorsanız kalanlar arasından doğru cevabı kestirmeye çalışmanız yararınıza olabilir.**

Bu testlerin her hakkı saklıdır. Hangi amaçla olursa olsun, testlerin tamamının veya bir kısmının Aymir Yayınevi'nin yazılı izni olmadan kopya edilmesi, fotoğrafının çekilmesi, herhangi bir yolla çoğaltılması, yayımlanması ya da kullanılması yasaktır. Bu yasağa uymayanlar gerekli cezai sorumluluğu ve testlerin hazırlanmasındaki mali külfeti peşinen kabullenmiş sayılır.

1. Ruhsuz insan bir kalıptır. Düşünmekten, duymaktan, insanlıktan, iyi ile kötüyü ayırt etmekten uzak bir kalıp. İnsanın en değerli varlığı vücudu ve ruhudur. Hastane gövdelerin, tiyatro ruhların şifa kaynağıdır.

Bu parçadaki "tiyatro ruhların şifa kaynağıdır" sözüyle anlatılmak istenen aşağıdakilerden hangisidir?

- A) İzlenen oyunların ruhumuzu coşturacağı
B) Tiyatro yardımıyla iyi ile kötünün ayırt edilebileceği
C) Üzüntü ve sıkıntılarımızı tiyatronun hafifletebileceği
D) Ruhsal sorunların fiziksel sorunlardan önemli olduğu
E) En değerli varlığımızın ruhumuz olduğunu sezdirebileceği

2. Bütün şairler, içinde yaşadığı toplumun bir üyesidir. Toplumdaki öteki insanlarla aynı kaderi paylaşır. Bu durum benim için de böyledir. Ben de şiirimi, yaşadığım hayattan damıtıyorum. Bunun için de şiirlerim süreklilik gösteriyor.

Bu parçada geçen "şiiri hayattan damıtma" sözüyle şiire ilişkin olarak anlatılmak istenen aşağıdakilerden hangisidir?

- A) Özünü gündelik yaşamdan alma
B) Halkın beğenisine uygun olma
C) Halktan kişilere seslenme
D) Birbirini izleyen olayları yansıtma
E) Halkın duygularını dile getirme

3. Balıkçılar, 2012'de Karadeniz'de avlanan toplam balık miktarında geçen yıla göre yüzde yirmilik, hamside ise yüzde yüzlük bir artış olduğunu belirtti.

Bu cümleden aşağıdaki yargıların hangisi kesin olarak çıkarılabilir?

- A) 2012'de Karadeniz'de avlanan balıklarda önceki yıla göre en fazla artış hamside olmuştur.
B) 2012'de en çok balık Karadeniz'de avlanmıştır.
C) Yıllardan beri en çok balık Karadeniz'de avlanmaktadır.
D) 2012'de Karadeniz'de geçen yıldakinin iki katı hamsi avlanmıştır.
E) Türkiye'de en çok hamsi Karadeniz'de avlanmaktadır.

4. Ünlü sanatçı X'in yasal varislerinden olan Türk Eğitim Vakfı; ölümünün 17. yıl dönümünde sanatçının gün yüzüne çıkmamış, çocukluk, gençlik ve askerlik fotoğraflarını 24 Eylül'de Bodrum'da sanatçının adını taşıyan müzede sergileyecek.

Bu cümleden aşağıdaki yargıların hangisi kesin olarak çıkarılabilir?

- A) Ünlü sanatçı X'in 24 Eylül'de Bodrum'daki müzede sergilenecek olan fotoğrafları, sanatçının hayatındaki bütün kilometre taşlarını göz önüne serecektir.
B) Ünlü sanatçı X'in 24 Eylül'de Bodrum'daki müzede sergilenecek olan fotoğrafları, önceki yıllarda da çeşitli sergilerde yayımlanmıştır.
C) 24 Eylül'de Bodrum'da sanatçının adını taşıyan müzede sergilenecek fotoğraflar, sanatçının yaşamının değişik dönemlerinde çekilmiştir.
D) Ünlü sanatçı X'in yasal tek varisi, Türk Eğitim Vakfıdır.
E) Türk Eğitim Vakfı, düzenlediği tüm etkinliklerin giderlerini sanatçıların bağışlarıyla karşılamaktadır.

5. (I) Opera, müziği ve tiyatroyu bir araya getiren bir sanat dalıdır. (II) Opera binaları, kentlerle ilgili değerlendirmelerde önemli bir ölçüt olarak ele alınabilir. (III) Çünkü opera binaları, ait oldukları kentin kültürel düzeyinin bir göstergesidir. (IV) Örneğin, Avrupa'da önemli kültürel etkinliklere ev sahipliği yapan şehirlerden Paris'te beş; Prag, Berlin, Münih'te üçer opera binası vardır. (V) Bu opera binaları o kentte yaşayanların opera sanatına verdikleri değer in ötesinde, kültürel ve sanatsal etkinliklere verdikleri önemin de göstergesidir.

Bu parçadaki numaralanmış cümlelerle ilgili olarak aşağıda verilenlerden hangisi yanlıştır?

- A) I. cümlede, operanın bazı niteliklerinden söz ediliyor.
B) II. cümlede, opera binalarının kentsel açıdan önemi vurgulanıyor.
C) III. cümlede, bir önceki cümledeki yargının gerekçesi açıklanıyor.
D) IV. cümlede, opera binalarının kültürel etkinliklere ev sahipliği yaptığı vurgulanıyor.
E) V. cümlede, bir çıkarımda bulunuluyor.

6. **Aşağıdaki cümlelerin hangisinde "beğenme, takdir etme" söz konusudur?**

- A) Piknik yeri dediğin ağaçlık olur.
B) Öğrenci dediğin saygılı olur.
C) Arkadaş dediğin dürüst olur.
D) Film dediğin gerilimli olur.
E) Resim dediğin böyle olur.

7. İnsanlara, onları size nankörlük yapmaya mecbur bırakacak kadar büyük iyiliklerde bulunmayın.

Bu cümlede aşağıdakilerden hangisi yoktur?

- A) İsim
B) Zamir
C) Edat
D) Sıfat
E) Bağlaç

8. "Kolay" sözcüğü, aşağıdaki cümlelerin hangisinde ötekilerden farklı bir görevde kullanılmıştır?

- A) Deniz dalgalı olmasına rağmen Çanakkale Boğazı'ndan kolay geçtik.
B) Zor işleri bana verip kolay işleri kendisi yapıyordu.
C) Okulumuzdaki kolay derslerden biri de beden eğitimiydi.
D) Öğrencilik yıllarımda kolay yemekler yapıyordum.
E) Bilgi yarışmasında kolay sorular sordular.

9. **Aşağıdaki cümlelerin hangisinde -den (-dan, -ten, -tan) eki alan sözcük niteleme sıfatı olarak kullanılmıştır?**

- A) Evimizin balkonundan deniz görünüyordu.
B) O aileyi yakından tanırız.
C) Dün gece sıradan bir film izledim.
D) Yanaklarım soğuktan pembe pembe olmuştu.
E) Uzaktan köpek ve horoz sesleri geliyordu.

10. **Aşağıdaki atasözlerin hangisinin yüklemi edilgen çatılı bir fiildir?**

- A) Kaz gelen yerden, tavuk esirgenmez.
B) Yel gibi gelen, sel gibi gider.
C) Kaynayan kazan, kapak tutmaz.
D) Bal tutan, parmağını yalar.
E) Yavuz hırsız, ev sahibini bastırır.

L
İ
D
E
R
Y
A
Y
I
N
L
A
R
I

11. (I) Zakkum, Antik Çağ'dan beri bilinen, zehirli bir geçmişi olmasına karşın masum, pembe ya da beyaz çiçekli bir ağaççık. (II) Susuzluğa dayanıklılığı, her tür toprakta yetişebilmesi, yansa bile inatla küllerinden yeniden yeşermesiyle ünlü. (III) Her koşulda tutunur toprağa. (IV) Diğer Akdeniz ülkelerinde olduğu gibi Türkiye'de de genellikle kendiliğinden yetişir. (V) Sıcak iklimli coğrafyalarda alımlı, bol çiçekli, gösterişli duruşuyla yol kenarlarının, bahçelerin doğal süsüdür. **Bu parçadaki numaralanmış cümlelerle ilgili olarak aşağıda verilenlerden hangisi yanlıştır?**

- A) I'ncisi birleşik yapıdır.
B) II'ncisi isim cümlesidir.
C) III'üncüsü devriktir.
D) IV'üncüsü kurallı-fiil cümlesidir.
E) V'incisi sıralıdır.

12. 40'lı yaşların sonuna geliyorum. Çıktığı günden beri teknoloji ve bilim konularındaki açlığımı ^I Bilim ve Teknik dergisini ^{II} okuyarak giderdim. Neredeyse çeyrek yüzyıl önce bilimin çok şey ^{III} keşfettiğini düşünürdüm. Şimdiyse o zamanki ^{IV} kimi bilgilerin ^V çokdan rafa kalktığını ve yerlerini daha iyi sınanmış bilgilere bıraktığını görüyorum.

Bu parçadaki numaralanmış sözlerin hangisinde bir yazım yanlışı vardır?

- A) I. B) II. C) III. D) IV. E) V.

13. Karın, ^I soğuşun, ^{II} yağmurlu günlerin arkasından binlerce armağanla gelir ilkbahar. O geldiğinde bahçeler gülmeye, ^{III} çayırlar sevinmeye, ^{IV} rüzgâr hoş kokularla, ^V koşuşturmaya başlar.

Bu parçadaki numaralanmış virgüllerden (,) hangisi yanlışı kullanılmıştır?

- A) I. B) II. C) III. D) IV. E) V.

14. Aşağıdaki cümlelerin hangisinde bir anlatım bozukluğu vardır?

- A) Betimleme yeteneğinden yoksun bir insan yazarlığa soyunmamalı.
B) Gelseniz de gelmeseniz de bu geziye gideceğiz.
C) Ben de o okulun en eski öğrencilerinden biriyim.
D) Gerekli ilaçları alabilerseniz hastalığınızı kısa sürede iyileştirebiliriz.
E) Babam olmasa arada, yaptıklarına pişman ederdim onu.

15. Hava yavaş yavaş soğuyordu. Karanlık, demir bir perde gibi gökyüzünün üstüne çökmüştü. Bir çtırdama, bir makineli tüfek sesi! Ateşe atılmış çam kozalakları gibi, yağmur çatırdaya çatırdaya indirmeye başladı, bardaktan boşanırcasına. Rüzgâr da öfkelendikçe öfkeleni. Yelkene söz geçirebilmek için ipini bileğime doladım.

Bu parçanın anlatımı için aşağıdakilerden hangisi söylenemez?

- A) Öyküleyici bir anlatımı vardır.
B) Kişileştirmeye başvurulmuştur.
C) Benzetmelerden yararlanılmıştır.
D) Örnekler verilmiştir.
E) İzlenim yaratmak amaçlanmıştır.

16. I. Bir araya gelen vatansever bu insanlar, Aydın'ın Yunanlılarca işgaline karşı son derece kararlı bir direniş başlattı.
II. 27 Mayıs 1919'da Yunan kuvvetlerinin Aydın'ı işgali Yörük Ali Efe, Albay Mehmet Şefik, Yüzbaşı Ahmet, Hüseyin Efe, Aksekili Deli Mehmet gibi birçok vatanseveri bir araya getirdi.
III. Gazi Mustafa Kemal Atatürk komutasında 26 Ağustos 1922'de başlatılan Büyük Taarruz ile kahraman Türk ordusu karşısında tutunamayan Yunan birliklerinin geri çekilmesiyle Aydın 7 Eylül 1922'de düşman işgalinden kurtuldu.
IV. Bu baskın, millî mücadele tarihimizde Güneybatı Anadolu'da işgalci düşman kuvvetlerine karşı yapılmış ilk düzenli ve planlı baskın olarak kabul edildi.
V. 16 Haziran 1919'da Yörük Ali Efe ve milisleri, Malgaç Köprüsü yakınlarındaki Yunan karakoluna yaptığı baskınla karakolu imha ederek düşman kuvvetlerinin cephanelerini ele geçirdi.

Yukarıdaki cümleler anlamlı bir bütün oluşturacak biçimde sıralandığında, hangisi baştan üçüncü cümle olur?

- A) I. B) II. C) III. D) IV. E) V.

17. I. İpek böceği aslında bir tür kelebeğdir.
II. Öteki kelebekler gibi onun da yaşamında birbirinden değişik evreler vardır.
III. İpek böceğinin bir susam tanesini andıran yumurtasından, önce minicik bir kurt çıkar.
IV. Yeterince beslenip belli bir boya eriştiğinde kendine bir koza örerek uykuya yatar.
V. Yumurtadan çıkan kurtçuk, beslenerek hızla büyür.
VI. Uyku sırasında koza içinde şekil ve yapı değişikliğine uğrar ve bembeyaz bir kelebek olarak kozadan çıkar.

Yukarıdaki numaralanmış cümlelerin anlamlı bir bütün oluşturabilmesi için hangilerinin birbiriyle yer değiştirmesi gerekir?

- A) I. ve II. B) I. ve III. C) II. ve IV.
D) IV. ve V. E) V. ve VI.

18. ... Gelenek eskiliği, sanatları ancak zenginleştirir. Sağlam ve köklü geleneklere dayanan sanatlarda birçok teknik sorun çözülmüş ve sanatta yeni atılımlara hazır hâle gelinmiştir. İmgeler işlene işlene zenginleşmiş, incelmıştır.

Bu parçayı aşağıdakilerin hangisiyle başlatmak uygundur?

- A) Sanatta gelenekten yararlanmak, sanatın gelişimini köstekler.
B) Sanatta geleneği yadsımak, bence hatadır.
C) Sanatta gelenek sorunu, ayrıntılı olarak irdelenmelidir.
D) Sanat ve gelenek, örtüşmeyen iki kavramdır.
E) Gelenekten yararlanmak, sanatın her dalı için geçerli değildir.

19. Dünya edebiyatı tarihine adını yazdırmayı başarmış sanatçılardan biri olan Balzac, romanlarını yazarken roman kahramanlarıyla ağlayan, onlarla gülen biridir. En ünlü romanı *Eguene Grandet*'yi bitirmek üzere çalışma odasında çalışırken kız kardeşinin ölüm haberini alır. "Çok yazık oldu, şimdi biz Grandet'nin yazdığı mektubu tamamlayalım!" der.

Bu parçanın aşağıdakilerin hangisiyle tamamlanması uygundur?

- A) Bir yakınının ölümünü önemsemeyecek kadar katı bir kişiliğe sahiptir.
B) Yazarken en önemli olayları bile düşünmeyecek kadar kendinden geçer.
C) Sanat dünyasına kalıcı yapıtlar vermiş bir sanatçıdır.
D) Eserlerinin kahramanlarıyla özdeşleşen biridir.
E) Çok yazdığı için duygusal yanını yitirmiştir.

20. (I) Şiire genellikle gergin başlarım. (II) Bu gerginlik şiir yazma süreci uzadıkça artar. (III) Bu süreçte şiirin o gün bitip bitmeyeceğini anlarım. (IV) Sanırım şiir beynimin bir yerinde kendi kendine hazırlanıp olgunlaşıyor. (V) Bu nedenle bazen birkaç dakika içinde beş on dize dökülürüyorum.

Bu parçada numaralanmış cümlelerden hangisinden sonra "Çünkü şiir bana hiç sürpriz yapmaz." cümlesinin getirilmesi uygundur?

- A) I. B) II. C) III. D) IV. E) V.

21. (I) Ülkemizdeki millî kütüphanelerde zamanla bozulan, yıpranan kitapların onarımı için Türkiye’de ilk mikrofilm ve kitap onarım servisi kuruldu. (II) Bu serviste her gün uzmanlar tarafından onarca kitap elden geçiriliyor. (III) Mantarlı, asitli, kurt yenikli, lekeli, sayfaları yapışmış ya da taşlaşmış kitap ve belgelerin hastalığına önce tanı konuyor. (IV) Yıpranmış kitapların onarımı kimi zaman üç gün, kimi zaman üç hafta sürüyor. (V) Sonra bunların iyileştirilebilmesi için gerekli işlemlere başlanıyor.

Bu parçada numaralanmış cümlelerin hangisi düşüncenin akışını bozmaktadır?

- A) I B) II C) III D) IV E) V

22. İnsanlar -genellikle- bedenlerinin bir elektrik ya da enerji makinesi olduğunun farkında değil. (I) Oysa bio-elektrik organizmalardan oluşan vücudumuzda sayısız hücreden her biri mini bir elektrik jeneratörüdür. (II) Milyarlarca hücrenin birleşmesinden meydana gelen bu elektrik jeneratörleri beyne, kalbe ve kaslara gerekli elektriği sağlayan mekanizmalardır. (III) Günümüzde beyne yerleştirilen implantlarla beyin fonksiyonları kontrol altına alınabilmektedir. (IV) Bu implantlarla beynimizin elektrik tesisatı değiştirilebilmektedir. (V) Ayrıca bunlarla beyin dalgalarının tempoları bile denetlenebilmektedir.

Bu parça iki paragrafa bölünmek istense ikinci paragraf kaçınıcı cümleyle başlar?

- A) I. B) II. C) III. D) IV. E) V.

23. Bizde, okuyucu -çoğunlukla- bilinçsiz ve dayanıksızdır sanat konusunda. Örneğin, bir okuyuşta kendisine hoş gelmeyen bir şiiri bırakıverir bir kenara. “Ben bundan bir şey anlamadım!” der. Oysa aynı şiiri bir ya da birkaç kez daha okuma dayanıklılığını gösterse zamanla onun kendisine bir şey verdiğini, gizlerini yavaş yavaş önüne serdiğini görecektir. Giderek bir şiir okuma alışkanlığı edinecek, şiirden tat almayı öğrenecek, iyi şiiri kötüsünden ayırt etmeye başlayacaktır.

Bu parçada aşağıdakilerden hangisi vurgulanmaktadır?

- A) Bilinçli okuyucu, sanat eseri ile kendisi arasındaki köprüyü kolayca kurabilir.
B) Şiiri doğru değerlendirip ondan tat alabilmek, sabır ve emek ister.
C) Sanat eserleri, herkes tarafından anlaşılabilir bir nitelikte olmalıdır.
D) Sanat eserleri, bir şeyler anlatmak için üretilmediğinden onlarda anlam aranmamalıdır.
E) Şiir, kavranıp anlaşılabilmesi en zor sanat dallarından biridir.

24. Sabahattin Ali’nin kendine özgü bir anlatımı vardır. Herkesin anlayacağı biçimde arı bir Türkçe kullanır. İnsanı büyüleyen, şaşırtan, süssüz, kısa, yer yer argolu cümlelerle anlatır hikâyelerini. Açgözlü vurgunculardan, insanlık duygusunu yitirmiş ikiyüzlü kişilerden, zalimlerden nefret eder. Hakları yenenlerin yanında yer alır. Hikâyeye yazmaktaki gayesinin daha iyi bir dünya hazırlamak olduğunu söyler.

Bu parçada Sabahattin Ali ile ilgili olarak aşağıdakilerin hangisine değinilmemiştir?

- A) Üslubunun anlaşılır bir nitelikte olduğuna
B) Yapıtlarında ayrıntılara çokça yer verdiğine
C) Eserlerinde sanatsız bir söyleyişi yeğlediğine
D) Özgün bir anlatıma sahip olduğuna
E) Daha yaşanması bir dünya kurma amacı güttüğüne

25. - 27. soruları aşağıdaki parçaya göre cevaplayınız.

(I) Yer elması, ayçiçeği ailesinden, sarı çiçekli bir bitkidir. (II) Yenilen kısmı, bitkinin kökünde oluşan yumrulardır. (III) Avrupalılar, bu bitkiyi Amerika’nın keşfine borçlu. (IV) Yer elması da domates, patates, biber gibi, yeni kıtadan Avrupa’ya getirilen lezzetlerden biri. (V) İlk olarak 1607 yılında Fransa’ya getirilen yer elması, her koşulda ve bolca üretilebilme özelliği keşfedilince hızla herkesin sofrasına girerek başlardaki değerini kaybetti. (VI) Hoş ve değişik lezzetine karşın sofralardan uzak kalması, insan vücudu tarafından emilemeyen bir karbonhidrat türü olan insülin içermesinden kaynaklanmaktaydı.

25. Bu parçada, yer elmasıyla ilgili olarak aşağıdakilerin hangisine değinilmemiştir?

- A) Sindiriminin güç olduğuna
B) Ana vatanının neresi olduğuna
C) Sadece belli bir bölümünün yenebildiğine
D) Farklı bir tadı olduğuna
E) Hangi familyadan olduğuna

26. Bu parçada, numaralanmış cümlelerin hangilerinde neden belirtilmektedir?

- A) I. ve II. B) I. ve III. C) II. ve V.
D) II. ve IV. E) V. ve VI.

27. Bu parçadaki, numaralanmış cümlelerin hangisinde karşılaştırma söz konusudur?

- A) I B) II C) III D) IV E) V

28. - 30. soruları aşağıdaki bilgilere göre birbirinden bağımsız olarak cevaplayınız.

Gün içinde A, B, C adlı üç ayrı marketten alışveriş yapan Fahriye Hanım'ın aldığı ürünler şunlardır:

Gıda Maddesi	Temizlik Maddesi	Giyim kuşam
Peynir	Sabun	Etek
Yoğurt	Deterjan	Kemer
Ekmek	Plastik süpürge	Terlik
Hazır çorba	Çamaşır suyu	Çorap
Bulgur	Fiber silme bezi	Şapka
Turşu		
Elma		
Portakal		

- Giyim kuşamla ilgili alışverişini iki ayrı marketten yapmıştır.
- Sadece iki marketten gıda maddesi almıştır.
- Temizlik maddesi aldığı marketler A ve B'dir.
- Giyim kuşam alışverişini yaptığı marketten gıda maddesi almamıştır.
- Peynir ve yoğurt aldığı marketten ekmek almamıştır.

28. Buna göre Fahriye Hanım'ın yaptığı alışverişlerle ilgili olarak aşağıdakilerden hangisi kesin olarak yanlıştır?

- A) Kemer ve plastik süpürgeyi A marketinden almıştır.
B) Peynir ve sabunu B marketinden almıştır.
C) Kemer ve bulguru C marketinden almıştır.
D) C marketinden etek almışsa turşu almamıştır.
E) Yoğurdu A marketinden almışsa ekmeği C marketinden almıştır.

29. C marketinden etek, A marketinden elma almışsa aşağıdakilerden hangisi kesin olarak doğrudur?

- A) Portakal A marketinden almıştır.
B) Deterjan aldığı marketten elma da almıştır.
C) B marketinden sabun almışsa deterjan da almıştır.
D) Çorap ve şapkayı B marketinden almıştır.
E) Yoğurdu C marketinden almamıştır.

30. Giyim kuşam alışverişini sadece B marketinden yapmışsa aşağıdakilerden hangisi kesinlikle doğrudur?

- A) B marketinden en az altı alışveriş yapmıştır.
B) Plastik süpürgeyi B marketinden almıştır.
C) Hazır çorbayı B marketinden almıştır.
D) Peynir ve yoğurdu A marketinden almışsa ekmeği B marketinden almıştır.
E) Şapka aldığı marketten fiber silme bezi de almıştır.

$$31. \frac{\frac{1}{2} \cdot (4 - \frac{2}{3})}{2 \cdot (2 - \frac{1}{3})}$$

işleminin sonucu kaçtır?

- A) -2 B) -1 C) $\frac{1}{2}$ D) 1 E) 2

32. a bir pozitif tam sayıdır.

$$\frac{a+3}{a} = 1,15$$

olduğuna göre, a kaçtır?

- A) 15 B) 20 C) 21 D) 23 E) 25

$$33. \frac{2^{1,3} \cdot 2^{1,4} \cdot 2^{1,5}}{2^{0,5} \cdot 2^{0,7}}$$

işleminin sonucu kaçtır?

- A) 4 B) 6 C) 8 D) 12 E) 16

34. a ve b pozitif tam sayılardır.

$$a \cdot b = 9!$$

eşitliğinde a sayısı 32 ile tam bölünemeyen en büyük sayı olduğuna göre, b kaçtır?

- A) 64 B) 32 C) 16 D) 8 E) 4

$$35. |a + 1| < 5$$

$$a - b = 3$$

olduğuna göre, b nin alabileceği kaç farklı tam sayı değeri vardır?

- A) 7 B) 8 C) 9 D) 10 E) 11

$$36. \frac{x^3y - xy^3}{x^2 \cdot y^2} : \frac{(x-y)^2 + 4xy}{2xy}$$

ifadesinin sadeleştirilmiş biçimi aşağıdakilerden hangisidir?

- A) $\frac{x+y}{x-y}$ B) $\frac{x-y}{x+y}$ C) $\frac{2 \cdot (x-y)}{x+y}$
D) $\frac{1}{x+y}$ E) $\frac{1}{x-y}$

$$37. |x-3| = a$$

eşitliğini sağlayan x değerlerinin çarpımı 5 olduğuna göre, a kaçtır?

- A) 4 B) 2 C) 1 D) -2 E) -4

38. x bir doğal sayı olmak üzere, üç basamaklı 2ab sayısının 13 katı, x'in 45 katına eşittir.

Buna göre, en büyük x sayısı için a + b toplamı kaçtır?

- A) 7 B) 8 C) 9 D) 11 E) 13

L
İ
D
E
R
Y
A
Y
I
N
L
A
R
I

39. A ve B iki basamaklı doğal sayılardır.

$$\begin{array}{r} A \quad B \\ \hline \quad \quad 3 \\ \hline \quad \quad 2 \end{array}$$

olduğuna göre, A + B sayısı en çok kaç olabilir?

- A) 98 B) 118 C) 130 D) 136 E) 142

40. a, b ve c negatif tam sayılardır.

$$\frac{3a}{2} = \frac{4b}{3} = \frac{3c}{4}$$

eşitsizliğini sağlayan a, b ve c sayıları için aşağıdakilerden hangisi doğrudur?

- A) $b > a > c$ B) $b > c > a$ C) $a > b > c$
D) $a > c > b$ E) $c > b > a$

$$41. \sqrt{2+\sqrt{3}} - \sqrt{2-\sqrt{3}}$$

işleminin sonucu kaçtır?

- A) $-\sqrt{3}$ B) $-\sqrt{2}$ C) -1
D) $\sqrt{2}$ E) $\sqrt{3}$

42. Bir otoparka üç sıra halinde park etmiş araçların sayıları hakkında aşağıdaki bilgiler verilmiştir.

- Birinci sıradaki araçlar sayılmazsa 54
- İkinci sıradaki araçlar sayılmazsa 48
- Üçüncü sıradaki araçlar sayılmazsa 66

Buna göre, bu otoparkta ikinci sırada park etmiş araç sayısı kaçtır?

- A) 44 B) 42 C) 36
D) 32 E) 28

43. Bir tiyatro oyununu izleyen 50 erkek, 65 tane kadın ve x tane çocuk bulunmaktadır. Oyunun arasında eşit sayıda erkek, kadın ve çocuk tiyatro salonundan ayrılıyor.

Kalan kişiler arasında kadınların sayısı, erkeklerin ve çocukların 2 katı olduğuna göre, oyun arasında en az kaç erkek salondan ayrılmıştır?

- A) 3 B) 5 C) 9 D) 12 E) 13

44. Bir su deposundaki A, B ve C tanklarında belirli miktarlarda su bulunmaktadır.

A tankındaki suyun $\frac{1}{5}$ i B tankına boşaltıldıktan sonra, B tankındaki suyun $\frac{1}{5}$ i C tankına boşaltıldığında tankların her birinde 600 litre su bulunuyor.

Buna göre, başlangıçta B tankında kaç litre su vardır?

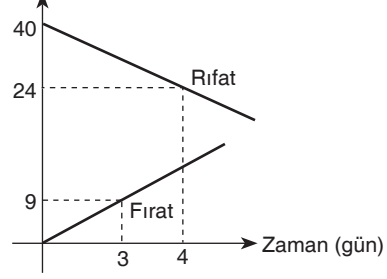
- A) 750 B) 600 C) 980
D) 560 E) 500

45. Bir site kurulurken, toplam ev sayısının $\frac{1}{16}$ sı olan x tane ev ilk yıl yapılmıştır. Bunu izleyen her yıl 2x tane daha fazla ev yapılarak site tamamlanmıştır.

Buna göre, sitedeki evlerin tümü kaç yılda bitirilmiştir?

- A) 4 B) 5 C) 6 D) 7 E) 8

46. Para (TL)



Yukarıdaki grafik Rıfat ve Fırat'ın kumbaralarında bulunan paranın zamana bağlı değişimini göstermektedir.

Buna göre, Rıfat'ın kumbarasında 8 TL kaldığında Fırat'ın kumbarasında kaç TL olur?

- A) 18 B) 22 C) 24
D) 28 E) 30

L
İ
D
E
R
Y
A
Y
İ
N
L
A
R
İ

47. İki masa saati hakkında aşağıdaki bilgiler verilmektedir.

- Birinci masa saati her saat 6 dakika geri kalmaktadır.
- İkinci masa saati ise her saat 8 dakika geri kalmaktadır.
- Masa saatlerinden birincisi saat 00:00 da diğeri de saat 03:00 de çalıştırılmıştır.

Buna göre, ikinci masa saati 13:24'ü gösterdiğinde birinci masa saati saat kaç gösterir?

- A) 13:30 B) 13:36 C) 13:38
D) 14:00 E) 14:06

48.

A			
B	C	D	E
F			

Şekildeki A, B, C, D, E, F bölgeleri ortak kenarlı bölgelerin farklı renkte olması koşuluyla boyanacaktır.

Bu iş için en az kaç renk boya gereklidir?

- A) 2 B) 3 C) 4 E) 5 E) 6

49. Nuryıl m yılında Burcu n yılında doğmuştur. Nuryıl'ın yaşı Burcu'nun yaşının 3 katı olduğuna göre, Burcu'nun yaşının m ve n türünden değeri aşağıdakilerden hangisine eşittir?

- A) $\frac{m+n}{8}$ B) $m-n$ C) $\frac{m+n}{12}$
D) $\frac{m-n}{2}$ E) $\frac{n-m}{2}$

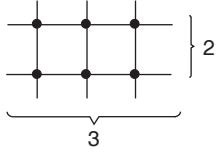
50. - 52. Soruları Aşağıdaki Bilgilere göre Cevaplayınız.

Eski çağlarda kullanılan çarpma işlemi farklı bir metotla yapılmaktaydı. Sayıları doğrular temsil etmekte ve sonuç kesişme noktalarıyla bulunmaktaydı.

- İşlem aynı basamaklı iki sayının çarpımında geçerlidir.

Örnek:

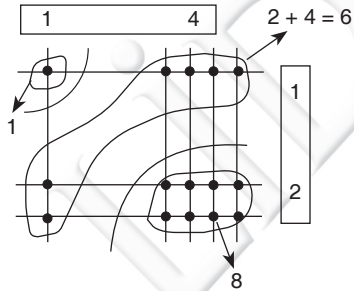
$$2 \times 3 = 6$$



6 kesişme noktası var, sonuç 6 dır.

Örnek:

$$12 \times 14$$



Sonuç: 168

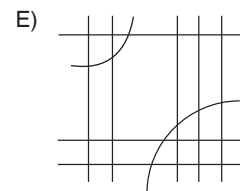
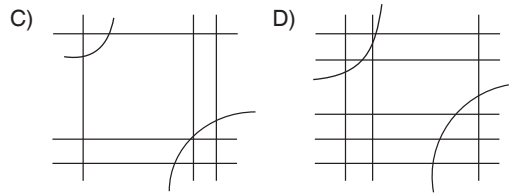
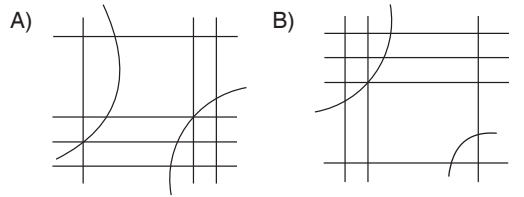
50. İki tane tek basamaklı sayının çarpımında kesişme noktası en çok kaç tane olur?

- A) 100 B) 81 C) 72
D) 36 E) 18

51. 123×134 çarpımının bu kurala göre yazılması için kaç tane doğru kullanılmalıdır?

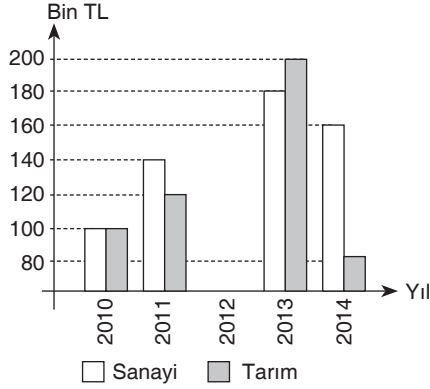
- A) 12 B) 13 C) 14
D) 15 E) 16

52. Aşağıdaki şekillerden hangisi $12 \times 23 = 276$ işlemini gösterir?



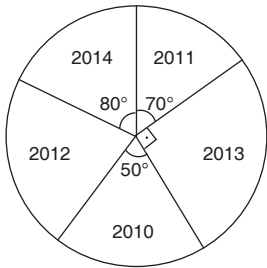
53. - 55. Soruları Aşağıdaki Bilgilere Göre Cevaplayınız.

Aşağıdaki grafik bir şirketin 2010, 2011, 2013 ve 2014 yıllarında tarım ve sanayi alanında yaptığı ihracat tutarlarını göstermektedir.



- Grafikte 2012 yılında yapılan tarım ve sanayi ihracat tutarları gösterilmemiştir.

Aşağıdaki daire grafikte ise şirketin sanayi sektöründeki toplam ihracatının yıllara göre dağılımı verilmiştir.



53. Şirketin 2011 yılındaki tarım ihracatı 2013 yılındaki tarım ihracatına göre yüzde kaç azdır?

- A) 80 B) 60 C) 40 D) 25 E) 20

54. Şirketin 2010 yılındaki toplam ihracatı x bin TL fazla, 2014 yılındaki yapılan toplam ihracatı x bin TL az olsaydı iki yılda yapılan ihracat tutarları eşit olacaktı.

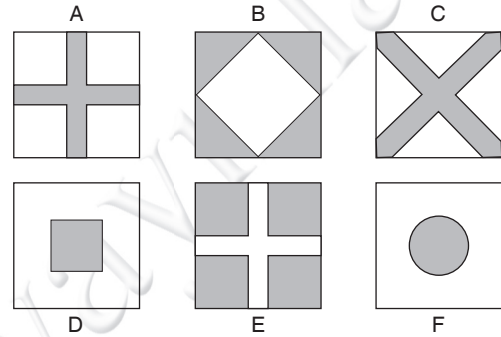
Buna göre, x kaçtır?

- A) 20 B) 40 C) 60 D) 80 E) 90

55. 2012 yılındaki tarım ihracatı aynı yıldaki sanayi ihracatından %50 daha fazla olduğuna göre, beş yıl boyunca yapılan toplam sanayi ihracatı, hangi iki yılın toplam sanayi ihracatından %200 daha fazladır?

- A) 2012 - 2013
B) 2010 - 2012
C) 2010 - 2013
D) 2013 - 2014
E) 2010 - 2014

56. ve 57. Soruları Aşağıdaki Bilgilere Göre cevaplayınız.

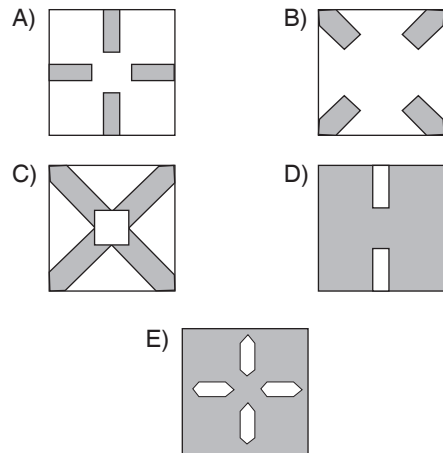


L
İ
D
E
R
Y
İ
N
L
A
R
I

Y Yukarıda farklı desenler içeren aynı boyutlardaki
A kare kalıplar üst üste getirilerek, farklı desenler elde
Y edilmektedir.

- Desenler üst üste getirilirken döndürülmeden yerleştirilecektir.

56. B, C ve E kalıplarının üst üste gelmesiyle oluşan şekil aşağıdakilerden hangisidir?



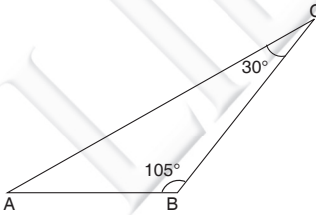
57.



Yukarıdaki desenin oluşması için hangi iki kalıp üst üste getirilmelidir?

- A) A ve C
- B) B ve F
- C) B ve D
- D) A ve E
- E) E ve F

58.

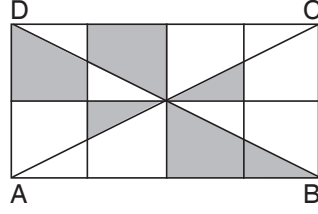


ABC bir üçgen
 $m(\widehat{ABC}) = 105^\circ$
 $m(\widehat{BCA}) = 30^\circ$
 $|AC| = 6 + 6\sqrt{3}$ cm

Yukarıdaki verilere göre, ABC üçgeninin alanı kaç cm^2 dir?

- A) $12 \cdot (1 + \sqrt{3})$
- B) $12\sqrt{6}$
- C) $18\sqrt{3}$
- D) $18 \cdot (1 + \sqrt{3})$
- E) $36\sqrt{3}$

59.



Birim karelerden oluşan şekildeki ABCD dikdörtgeninde, koyu renkli bölgenin alanının beyaz renkli bölgenin alanına oranı kaçtır?

- A) $\frac{3}{5}$
- B) $\frac{1}{2}$
- C) $\frac{7}{12}$
- D) $\frac{15}{19}$
- E) $\frac{17}{32}$

L
İ
D
E
R
Y
A
Y
I
N
L
A
R
I

60. $2x - 5y + 8 = 0$

doğrusunun y eksenine göre simetriği olan doğrunun x eksenini kestiği noktanın apsisi kaçtır?

- A) -4
- B) -2
- C) 0
- D) 2
- E) 4

1. Aşağıdakilerden hangisi ilk Türk devletlerinde "ordu"nun özelliklerinden biri **değildir**?

- A) Genellikle atlı askerlerden oluşması
- B) Kadınlarında savaşa katılması
- C) Askerlerin devletten düzenli maaş alması
- D) Bozkır taktığının uygulanması
- E) Askerliğin meslek olmaması

2. Batı dünyasında etkili olmuş ve Türk - İslam dünyasında pozitif bilimleri başlatan düşünür aşağıdakilerden hangisidir?

- A) Farabi
- B) İbn-i Rüşd
- C) Harezmi
- D) Ömer Hayyam
- E) Yusuf Has Hacib

3. Anadolu Selçuklu ve İkinci Beylikler döneminde denizciliğin gelişmesi;

- I. Anadolu coğrafyası,
 - II. ticarete verilen önem,
 - III. Ege Adaların'dan gelen tehlikeler
- durumların hangilerinden kaynaklandığı savunulabilir?**

- A) Yalnız I
- B) Yalnız II
- C) Yalnız III
- D) I ve II
- E) I, II ve III

4. 16. yüzyıldan itibaren, Osmanlı reayası olan köylüler belli bir bölgede ikamet etmek zorunda iken, Timar sistemi bozulunca kentlere göç etmeye başlamışlardır.

Bu durumun;

- I. tarımsal üretimin azalması,
- II. yeni vergiler konulması,
- III. şehir nüfusunun artması

sonuçlarından hangilerini ortaya çıkardığı savunulabilir?

- A) Yalnız I
- B) Yalnız II
- C) I ve II
- D) II ve III
- E) I, II ve III

L
İ
D
E
R

Y
A
Y
I
N
L
A
R
I

5. Aşağıdakilerden hangisi Kanuni Sultan Süleyman zamanında meydana gelen gelişmelerden biri **değildir**?

- A) Akdenizde üstünlük sağlanması
- B) Irak fethinin tamamlanması
- C) Saltanat yasasının değişmesi
- D) Avusturya'ya üstünlük sağlanması
- E) Saray kadınlarının etkinliğinin artması

6. 19. yüzyılda Osmanlı Devletinden özerklik kazanan ilk millet aşağıdakilerden hangisidir?

- A) Sırlar
- B) Yunanlılar
- C) Makedonlar
- D) Bulgarlar
- E) Arnavutlar

7. Osmanlı ordusunun bir bölümü "ulufeli" olarak adlandırılır ve devlet tarafından üç ayda bir verilen maaş alırlardı.

Aşağıdaki birliklerden hangisinin 'ulufeli' birlikler içinde yer aldığı söylenemez?

- A) Yeniçeriler
B) Tımarlı Sipahi
C) Topçular
D) Cebeciler
E) Humbaracılar

8. **Aşağıdakilerden hangisi Osmanlı vakıf sisteminin sağladığı yararlardan biri değildir?**

- A) Siyasi kurumları denetleme
B) Şehir hayatını kolaylaştırma
C) Eğitim kurumlarını destekleme
D) Devletin egemen olduğu yerleri bayındır hale getirme
E) Fethedilen topraklara Türklerin yerleşmesine ortam hazırlama

9. **Osmanlı Devleti'nin Avrupa'nın açık pazarı durumuna gelmesinde;**

- I. kapitülasyonların sürekli hale gelmesi ve kapsamının genişletilmesi,
II. pazar rekabetinin artması,
III. Balta Limanı Ticaret Antlaşması'nın yapılması

gelişmelerinden hangilerinin etkili olduğu söylenebilir?

- A) Yalnız I B) Yalnız II C) I ve II
D) II ve III E) I, II ve III

10. **Osmanlı Devleti'nde aşağıdakilerden hangisinin gerçekleşmesinde İttihat ve Terakki Partisi'nin etkisi olmuştur?**

- A) Avrupa tarzı bakanlıkların kurulmasında
B) Islahat Fermanı'nın ilanında
C) Sened-i İttifak'ın imzalanmasında
D) II. Meşrutiyet'in ilanında
E) Kanunuesasinin hazırlanmasında

11. **Aşağıdakilerden hangisinin güçlenmesi, Osmanlılık düşüncesinin önemini kaybetmesine neden olmuştur?**

- A) Demokrasi hareketlerinin
B) İslami akımların
C) Ulusal ayaklanmaların
D) Monarşik anlayışın
E) Denge politikasının

12. **1919'da yapılan Paris Barış Konferansı'nda alınan karar sonucunda aşağıdaki illerden hangisinin Yunanistan tarafından işgalinin önü açılmıştır?**

- A) İzmir
B) Konya
C) Muğla
D) Manisa
E) Balıkesir

13. Milli Mücadele döneminde kurulan Müdafa-i Hukuk Cemiyetlerinin ortak özellikleri arasında aşağıdakilerden hangisi yer almaz?

- A) Bağımsızlık ilkesiyle hareket etmeleri
- B) Basın ve yayın yoluyla propaganda yöntemini benimsemeleri
- C) Yerel mücadeleyi temel almaları
- D) Sevr Antlaşması'na tepki olarak kurulmaları
- E) Ulusal bilinci harekete geçirmeleri

14. Mondrostan sonra bazı çevreler

- I. ABD
 - II. Fransa
 - III. İngiltere
- devletlerinin hangilerinin himayesini istemişlerdir?
- A) Yalnız I
 - B) Yalnız II
 - C) Yalnız III
 - D) I ve III
 - E) I, II ve III

15. Mustafa Kemal Paşa aşağıdakilerden hangisiyle "milli önder" olmaya başlamıştır?

- A) Erzurum Kongresi
- B) Sivas Kongresi
- C) TBMM Başkanlığı
- D) Baş komutan olması
- E) Cumhurbaşkanı olması

16. Son Osmanlı Mebusan Meclisinde misakimilli kararlarının alınmasında,

- I. Mustafa Kemal Paşa
- II. Felah-ı Vatan Grubu
- III. Damat Ferit Paşa

gibi kişi veya kuruluşlardan hangileri etkili olmuştur?

- A) Yalnız I
- B) Yalnız II
- C) Yalnız III
- D) I ve II
- E) I, II ve III

17. İstanbul resmen

- I. ABD
- II. İngiltere
- III. Fransa

devletlerinden hangileri tarafından işgal edilmiştir?

- A) Yalnız I
- B) Yalnız II
- C) Yalnız III
- D) I ve II
- E) II ve III

18. Kütahya Eskişehir Savaşları'nın;

- I. Meclisin Kayseri'ye taşınmasının tartışılmasına
- II. Başkomutanlık Kanunu'nun çıkarılmasına
- III. Fransa'nın TBMM'ye barış teklifinde bulunmasına

gelişmelerinden hangilerine ortam yarattığı söylenebilir?

- A) Yalnız I
- B) Yalnız II
- C) Yalnız III
- D) I ve II
- E) II ve III

L
İ
D
E
R
Y
A
Y
I
N
L
A
R
I

19. Aşağıdakilerden hangisi Birinci İnönü Savaşı'nın sonuçların biri değildir?

- A) Londra Konferansı'nın toplanması
- B) İtalya'nın Anadolu'yu boşaltmaya başlaması
- C) İstiklal marşı'nın kabulü
- D) Türk - Afgan Dostluk Antlaşması'nın imzalanması
- E) Moskova Antlaşması'nın yapılması

20. "Hatt-ı müdafaa yoktur sathı müdafaa vardır. O sathı bütün vatandır." emri Mustafa Kemal Paşa tarafından hangi savaş sırasında taktik olarak kullanılmıştır?

- A) Büyük Taaruz
- B) Sakarya
- C) Kütahya - Eskişehir
- D) II. İnönü
- E) I. İnönü

21. I. TBMM'nin bazı konulardaki yasama yetkilerinden aşağıdakilerden hangisiyle vazgeçtiği söylenebilir?

- A) Başkomutanlık yasası
- B) Teşkilatı Esasi yasası
- C) Hiyaneti vataniye yasası
- D) Asker kaçakları yasası
- E) İstiklal mahkemeleri yasası

22. TBMM'nin 24 Nisan 1920 tarihindeki oturumunda söz alan Mustafa Kemal: "Çeşitli milletleri ortak ve genel bir ad altında toplamak ve bu değişik ulusları eşit haklar ve koşullar altında bulunduracak güçlü bir devlet kurmak, parlak ve çekici bir görüştür. Ama aldatmacadır. Dahası, hiçbir sınır tanımayarak dünyadaki bütün Türkleri bir devlet olarak birleştirmek ulaşılamayacak bir amaçtır." görüşlerini açıklamıştır.

Mustafa Kemal'in bu görüşleriyle;

- I. Osmancılık,
- II. Ümmetçilik,
- III. Turancılık

düşünce akımlarından hangilerine eleştiri yönelttiği söylenebilir?

- A) Yalnız I
- B) Yalnız II
- C) I ve II
- D) I ve III
- E) I, II ve III

23. Mustafa Kemal Paşa TBMM'nin ilk oturumlarından birinde: "Ulusal sınırlarımız içinde her şeyden önce kendi gücümüze dayanarak varlığımızı koruyup ulusun ve yurdun gerçek mutluluğuna ve bayındırlığına çalışmak; ulaşılamayacak istekler peşinde ulusu uğraştırmamak ve zarara sokmamak, uygarlık dünyasının uygarca ve insanca davranışını ve karşılıklı dostluğunu beklemek ulusal siyasetimizdir." ifadesini kullanmıştır.

Bu ifadeye dayanarak Mustafa Kemal'in Yeni Türk Devleti'nin izleyeceği siyasetin;

- I. milliyetçilik,
- II. gerçeklik,
- III. barışçılık

niteliklerinden hangilerini vurguladığı savunulabilir?

- A) Yalnız I
- B) Yalnız II
- C) I ve II
- D) II ve III
- E) I, II ve III

24. Aşağıdakilerden hangisi Türk Dış Politikası'nın 1932 - 1938 ana konuları arasında yer almamıştır?

- A) Boğazlar
- B) Milletler Cemiyetine üyelik
- C) Sadabat Paketi
- D) Balkan Paketi
- E) Mübadele

25. II. Dünya savaşı sırasında Birleşmiş Milletlerin kurulmasına esas olan ilk gelişme aşağıdakilerden hangisidir?

- A) Kazablanka Konferansı
- B) Washington Konferansı
- C) Atlantik Bildirisi
- D) Kahire Konferansı
- E) Yalta Konferansı

26. Sovyetler Birliğinin çökmesinde

- I. Glasnost
- II. Perestroika
- III. Batı Dünyası

yukarıdakilerden hangilerinin etkili olduğu söylenbilir?

- A) Yalnız I
- B) Yalnız II
- C) Yalnız III
- D) II ve III
- E) I, II ve III

27. Türkiye Soğuk Savaş Döneminde güvenliğini sağlamak amacıyla;

- I. Nato
- II. Bağdat
- III. Sadabat

gibi paktlardan hangilerine katılmıştır?

- A) Yalnız I
- B) Yalnız II
- C) I ve II
- D) II ve III
- E) I, II ve III

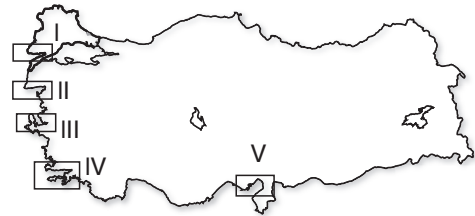
28. Antalya'dan Trabzon'a giden bir kişi aşağıdakilerden hangisi ile karşılaşmaz?

- A) Sıcaklığın azalmasıyla
- B) Yerel saatin ileri olmasıyla
- C) Gece ile gündüz arasındaki zaman farkının artmasıyla
- D) Güneşin ufuk düzleminde batma süresinin kısalmasıyla
- E) Öğle vakti cismin gölgesinin daha uzun olmasıyla

L
İ
D
E
R

Y
A
Y
I
N
L
A
R
I

29.



Yukarıdaki Türkiye haritasında bazı körfezler gösterilmiştir.

Bu körfezlerin coğrafi özellikleri dikkate alındığında hangisinin deniz suyu sıcaklığının diğerlerinden daha az olması beklenir?

- A) I
- B) II
- C) III
- D) IV
- E) V

30. Türkiye fiziki haritasında yeşil ve tonlarının fazla olduğu bir yöre ile ilgili olarak aşağıdakilerden hangisi söylenebilir?

- A) Tarım alanlarının küçük ve parçalı olduğu
- B) Akarsuların dar ve derin vadiler oluşturduğu
- C) Gerçek sıcaklık ile indirgenmiş sıcaklık arasındaki farkın fazla olduğu
- D) Kara ve demiryolu ulaşımında yapım maliyetinin düşük olduğu
- E) Doğal bitki örtüsü çeşidinin fazla olduğu

31. Türkiye'de bugüne kadar ölçülen en yüksek sıcaklık 48.8 °C ile Mardin'de en düşük sıcaklık ise -46,4 °C ile Van'da görülmüştür.

Yukarıdaki bu açıklama aşağıdakilerden hangisine kanıt olabilir?

- A) Merkezlerin deniz etkisine uzak olmalarına
- B) Merkezlerin bitki örtüsünün seyrek olmasına
- C) Merkezlerin dağların kuzey yamaçlarında yer almasına
- D) Merkezlerin sıcak ve nemli rüzgarlara kapalı olmasına
- E) Merkezlerin güneş ışınlarını eğik açı ile almalarına

32. Türkiye'de yapılan aşağıdaki beşeri faaliyetlerden hangisinin habitatlar üzerinde olumlu etkisi bulunmaz?

- A) Bitki örtüsü ve hayvan çeşitliliği bakımından zengin alanların milli park yapılması
- B) Akarsu yatakları çevrelerinin yerleşime açılması
- C) Sulak alanların korunma altına alınması
- D) Fosil yakıt kullanımının sınırlandırılması
- E) Soyu tükenmekte olan canlıların korunma altına alınması

33. Ülke sınırları içinde köyden kente ya da az gelişmiş bölgeden gelişmiş bölgeye doğru olan göçlere iç göç denir. İç göçler geçici ve yerleşme amaçlı olarak iki şekilde olur.

Buna göre aşağıda verilen göç çeşitlerinden hangisi yerleşme amaçlıdır?

- A) Antalya'ya tatile gitmek
- B) İstanbul'a eğitim amaçlı gitmek
- C) Çukurova'da tarlada çalışmak
- D) İskenderun demir çelik fabrikasında çalışmak
- E) Trabzon'da yaylaya çıkmak

34. Aşağıdaki kent çiftlerinden hangisinin nüfuslanmasında sırasıyla turizm ve yeraltı kaynaklarının etkili olduğu söylenebilir?

	Turizm	Yeraltı Kaynağı
A)	Antalya	Batman
B)	Muğla	Kayseri
C)	Bodrum	Adana
D)	Kuşadası	İzmir
E)	Çanakkale	Murgul

35. Aşağıdakilerden hangisi, Türkiye'de nüfusun tenha olduğu alanlar arasında yer almaz?

- A) Engebeli Alanlar
- B) Kurak iç bölgeler
- C) Yüksek yaylalar
- D) Deprem bölgeleri
- E) Baraj gölü çevreleri

36. Türkiye'de 1950'li yıllardan sonra tarımda makine kullanımının yaygınlaşması sonucunda meydana gelen değişikliklerden biri değildir?

- A) Tarım ürünlerinin olgunlaşma süresi kısalmıştır.
B) Gücünden yararlanan hayvan sayısı azalmıştır.
C) Ekilebilen tarım alanları genişlemiştir.
D) Kırsal kesimde işsizlik artmıştır.
E) Tarım ürünlerinin hasat süresi kısalmıştır.

37. Aşağıdaki tabloda dört bölgede yetiştirilen dört farklı tarım ürününün Türkiye üretimindeki payları verilmiştir.

Bölgeler	Üretim Oranı (%)
Ege	70
Karadeniz	100
Akdeniz	88
İç Anadolu	49

Tablodaki bilgelere göre, aşağıdaki ürünlerden hangisine yer verilmemiştir?

- A) İncir
B) Pamuk
C) Çay
D) Turunçgil
E) Şeker pancarı

38. I. Ahır hayvancılığında verim mera hayvancılığından yüksektir.
II. Türkiye hayvan varlığının yarısından fazlasını oluşturur.
III. Ahır hayvancılığı büyük kentler ve çevresinde gelişmiştir.
IV. Yazların serin ve yağışlı geçtiği yörelerde yapılmaktadır.

Türkiye'de büyük baş hayvancılıkla ilgili yukarıdaki bilgilerden hangileri yanlıştır?

- A) Yalnız I B) Yalnız II C) I ve III
D) II ve IV E) III ve IV

39. I. Karabük, Ereğli ve İskenderun'da işlenmektedir.
II. Fethiye, Köyceğiz ve Guleman'da çıkarılmaktadır.
III. Dünya rezervlerinin yarısından fazlası Türkiye'dedir.
IV. Seydişehir'de çıkarılıp işlenmektedir.

Yukarıda özellikleri verilen yer altı kaynakları ile aşağıdaki seçeneklerde verilen madenler eşleştirildiğinde hangisi dışta kalır?

- A) Demir
B) Krom
C) Bor
D) Alüminyum
E) Bakır

L
İ
D
E
R

Y
A
Y
I
N
L
A
R
I

40. Türkiye'deki aşağıda verilen endüstri kollarından hangisinin hammaddesi üzerinde iklim koşullarının etkisi yoktur?

- A) Unlu mamüller
B) Kağıt
C) Pamuklu dokuma
D) Petro - Kimya
E) Şeker

41. Türkiye'nin dış ticaret hacminin giderek büyümesine karşın ihracatın ithalatı karşılama oranı azdır.

Bu durumun oluşmasında aşağıdakilerden hangisinin etkili olduğu söylenemez?

- A) Dış satımda rekabet güçlüğünün yaşanması
B) Enerji ihtiyacının ithalatla sağlanması
C) İç tüketimin fazla olması
D) Uluslararası standartlarda üretim yapılması
E) Önemli ulaşım yolları ve boru hatlarının bulunması

42. Ağır metal eşyaların,

- I. İzmir'den Ankara'ya
- II. Bursa'dan Kayseriye
- III. Mersin'den İstanbul'a

taşınmasında kullanılabilir en uygun ulaşım yolu aşağıdakilerden hangisidir?

	I	II	III
A)	Karayolu	Denizyolu	Demiryolu
B)	Demiryolu	Karayolu	Denizyolu
C)	Havayolu	Demiryolu	Denizyolu
D)	Demiryolu	Karayolu	Havayolu
E)	Denizyolu	Demiryolu	Havayolu

43. Akdeniz Bölgesi, turizm çeşitliliği bakımından oldukça zengin bir bölgedir. Yamaç paraşütü, rafting, yayla, mağara ve deniz turizmi faaliyetleri bölgede gerçekleştirilen en bilindik turizm etkinlikleridir.

Buna göre, bölgenin turizm çeşitliliği bakımından zengin olmasında aşağıdakilerden hangisinin etkisi yoktur?

- A) Dağların kıyıya paralel uzanması
- B) Karstik arazinin yaygın olması
- C) Yüzey şekillerinin çeşitli olması
- D) Sıcak dönemin uzun olması
- E) Yükselti ve engebenin fazla olması

44. I. Benim yaşadığım yörede yazlar kısa, serin ve yağışlı geçer. Kışlar çok soğuk ve kuraktır. İlkbahar aylarında karların erimesi ve yaz yağışları nedeniyle yeşeren gür çayırlar geniş alanlar kaplar. Bu çayırlarda büyükbaş hayvancılık yaygın olarak yapılmaktadır.
- II. Benim yaşadığım yörede yazlar sıcak ve kurak geçer. Şiddetli buharlaşmadan dolayı tarımda sulamaya ihtiyaç çok fazladır. Kış aylarında sıcaklıkların azalmasıyla kar yağışları görülür. Maksimum yağış ilkbahar aylarında yağar ve bu yağışlar ile yeşeren bozkırlar doğal bitki örtüsünü oluşturur.
- III. Benim yaşadığım yöre Türkiye'nin en yağışlı yöresidir. Hemen her mevsim yağın bol yağışlar nedeniyle geniş alanlarda gür ormanlar bulunur. Yüksek kesimlerde sıcaklığın azalması nedeniyle orman sınırının üstünde alpin çayırlar bulunur. Bu nedenle kırsal kesimde yaşayan insanlar Mayıs ayında hayvanları ile beraber yayla evlerine çıkarlar.

Bu üç kişinin Türkiye'de yaşadıkları yörelerdeki iklim tipleri aşağıdakilerden hangisinde doğru verilmiştir?

	I	II	III
A)	Ilıman Karasal	Akdeniz	Karadeniz
B)	Sert Karasal	Ilıman Karasal	Karadeniz
C)	Sert Karasal	Karadeniz	Akdeniz
D)	Akdeniz	Ilıman Karasal	Sert Karasal
E)	Ilıman Karasal	Karadeniz	Akdeniz

45. Aşağıda verilen coğrafi bölümlerden hangisinde, arazinin engebeli olması nedeniyle balıkçılık önemli bir geçim kaynağıdır?

- A) Doğu Karadeniz
- B) Yıldız Dağları
- C) Çatalca - Kocaeli
- D) Kıyı Ege
- E) Antalya

46. Bir örf veya âdetin pozitif hukuk içerisinde yer alabilmesi için taşıması gereken en temel şart aşağıdakilerden hangisidir?

- A) Manevi yaptırım içermesi
- B) Uygulanması üzerinde genel uzlaşması
- C) Uzun zamandır uygulanıyor olması
- D) Devlet desteğini sağlamış olması
- E) Borç ilişkilerini düzenlemesi

47. Mevzu hukuk içerisinde, yasa koyucunun bilerek ve isteyerek bırakmış olduğu boşluğa ne ad verilir?

- A) Açık boşluk
- B) Kural içi boşluk
- C) Hukuk boşluğu
- D) Örtülü boşluk
- E) Kural dışı boşluk

48. Türk Medeni Kanunu'na göre, hak kavramı ile ilgili aşağıdakilerden hangisi yanlıştır?

- A) Herkes, haklarını kullanırken ve borçlarını yerine getirirken dürüstlük kurallarına uymak zorundadır.
- B) Bir hakkın açıkça kötüye kullanılmasını hukuk düzeni korumaz.
- C) Kanunun iyiniyete hukukî bir sonuç bağladığı durumlarda, asıl olan iyiniyetin varlığıdır.
- D) Hakların kazanılmasında iyiniyet ilkesi geçerlidir.
- E) Kanunda aksine bir hüküm bulunmadıkça, taraflardan her biri, hakkını dayandırdığı olguların varlığını ispatla yükümlü değildir.

49. 1982 Anayasası'na göre, aşağıdaki milletvekilliğini sona erdiren nedenlerden hangisinde Meclis Genel Kurulunun nitelikli çoğunluk kararı gerekir?

- A) Partisinden istifa etme
- B) Devamsızlık
- C) Cumhurbaşkanı seçilme
- D) Bağdaşmayan işlerin kabulünde ısrar
- E) Kısıtlanma

50. 1982 Anayasası'na göre, aşağıdakilerden hangisi genel seçimler ile ilgili yanlış bir bilgidir?

- A) Genel seçimler 4 yılda bir yapılır.
- B) Savaş sebebiyle seçimlerin yapılması ertelenebilir.
- C) Seçim dönemi dolmadan önce yapılan seçimlere erken seçim adı verilir.
- D) Cumhurbaşkanı, olağanüstü genel seçim kararı alabilir.
- E) Genel seçimler yasama organlarının denetiminde gerçekleştirilir.

51. 1982 Anayasası'na göre, savaş zamanlarında Başkomutanlık görevini aşağıdakilerden hangisi yürütür?

- A) Cumhurbaşkanı
- B) Başbakan
- C) Meclis Başkanı
- D) Milli Savunma Bakanı
- E) Genelkurmay Başkanı

52. I. Askeri Yüksek İdare Mahkemesi
II. Anayasa Mahkemesi
III. Danıştay
IV. Yargıtay
V. Askeri Yargıtay
VI. Uyuşmazlık Mahkemesi

Yukarıdaki yüksek yargı organlarından hangileri kendi görev alanı içerisinde tanımlı tek yargı organıdır?

- A) Yalnız I
- B) I, II ve VI
- C) Yalnız III
- D) IV ve VI
- E) IV, V ve VI

L
İ
D
E
R
Y
A
Y
I
N
L
A
R
I

53. 1982 Anayasası'na göre, Türkiye Büyük Millet Meclisince, Bakanlar Kuruluna kanun hükmünde kararname çıkarmak için verilen yetki kanununun kapsamında aşağıdakilerden hangisi yer almaz?

- A) Kanun hükmünde kararnamenin yürürlük süresi
- B) Kanun hükmünde kararnamenin amacı
- C) Kanun hükmünde kararnamenin kapsamı
- D) Kanun hükmünde kararnamenin ilkeleri
- E) Süresi içinde birden fazla çıkarılıp çıkarılmayacağı

54. Kolluk faaliyeti ile ilgili aşağıdakilerden hangisi yanlıştır?

- A) Kamu düzeni ve güvenliğinin sağlanması amacıyla yürütülen faaliyetlerdir.
- B) Genel ahlak, genel sağlık ve dirlik-esenlik temel öğeleridir.
- C) Zabıta ve köy korucusu genel idari kolluk personelidir.
- D) Vali ve kaymakam genel idari kolluk amirleridir.
- E) Kamu düzeni bozulmadan önce hareket eden kolluk idari kolluktur.

55. Türkiye'de yer alan aşağıdaki adalardan hangisinin ismi "Demokrasi ve Özgürlük Adası" olarak değiştirilmiştir?

- A) Yassıada
- B) Bozcaada
- C) Heybeliada
- D) Gökçeada
- E) Büyükada

56. 30 Ağustos – 14 Eylül tarihleri arasında gerçekleştirilecek olan 2014 FIBA Dünya Basketbol Şampiyonası'na ev sahipliği yapacak ülke aşağıdakilerden hangisidir?

- A) İngiltere
- B) Manila
- C) İspanya
- D) Brezilya
- E) ABD

57. 2013 Cumhurbaşkanlığı Kültür ve Sanat Ödülleri müzik alanında kime verilmiştir?

- A) Mazhar Alanson
- B) Candan Erçetin
- C) Bülent Ortaçgil
- D) Ahmet Kaya
- E) Sertap Erener

58. 2015 yılında gerçekleştirilmesi planlanan genel seçimler ile kaçınıcı dönem yasama meclisi seçimleri yapılacaktır?

- A) 22
- B) 23
- C) 24
- D) 25
- E) 26



59. Mart 2014'te gerçekleştirilen 86.Oscar Ödülleri (Akademi Ödülleri) ile en iyi yönetmen dahil 6 dalda oscar almayı başaran film aşağıdakilerden hangisidir?

- A) 12 Yıllık Esaret
- B) Blue Jasmine
- C) Dallas Buyers Club
- D) Spike Jonze
- E) Gravity

60. Ülkemizde nüfusu en az olan ülke aşağıdakilerden hangisidir?

- A) Bayburt
- B) Yalova
- C) Tunceli
- D) Hakkâri
- E) Şırnak

KPSS | AÖF | DGS | ALES | SMMM



UZAKTAN EĞİTİM PROGRAMI



KPSS-A EĞİTİM BİLİMLERİ ÖĞRETMENLİK ALAN GENEL YETENEK GENEL KÜLTÜR

- Alanında uzman öğretici kadro
- Akademik ve özgün konu anlatımı dersleri
- Konu tarama testleri
- Deneme sınavları

Ayrıntılı bilgi için:
www.lideruzaktanegitim.com



TÜRKİYE'de bir ilk...

Sınavlara hazırlıkta internet destekli uzaktan eğitim programından faydalanabilirsiniz...

LİDER
yayınları



Eğitimde Lider Yayında Lider...

www.lideryayin.com

Tel: (0232) 435 65 50 - (0232) 347 45 14 • Fax: (0232) 435 65 23
Tuna Mah. 5501 Sk. No:6 Kat:4 Çamdibi - Bornova / İZMİR