

1. Bu testte 60 soru vardır.

2. Cevaplarınızı, cevap kâğıdının Genel Yetenek Testi için ayrılan kısmına işaretleyiniz.

1. Edebiyatın hayat damarlarının attığı, en inanmış edebiyat insanlarının kendini helak edercesine bu işe adanmış kutsal bir alandır şiir dergileri.

Altı çizili sözün cümleye kattığı anlam aşağıdakilerin hangisinde vardır?

- A) Tüm insani değerlerin yaşam bulduğu bir masal dünyası yaratmak istemişim.
B) Birçok büyük öykücü acemiliğini edebiyat dergilerinde atmıştır.
C) Şairin anlatımındaki bir başka yol da çağrışımlar zinciri kullanmasıdır.
D) Onun romanı, her konuya elini uzatmış büyük bir pencerenin romanıdır.
E) Bu şiirlerdeki yalınlık basitliğin değil, zor ulaşılır bir ustalığın ürünü olduğu görülüyor.

2. Yazar savaşta kendisinin ve arkadaşlarının yaşadıklarını, kurusal hikâyelerle harmanlayıp

sunuyor. İlk başta gerçek bir hikâye olarak okumaya

başladığınız romanda, bir yerden sonra gerçeğe

kurulanmış olanın arasındaki çizgi tamamen kalkıyor. Yazar da sürekli buna gönderme yapıyor.

Gerçeğe kurgu iç içe geçince hikâye daha da

okunur duruma geliyor.

- Bu parçada geçen "arasındaki çizgi tamamen kalkıyor" sözüyle anlatılmak istenen altı çizili sözlerin hangisinde verilmiştir?**

- A) I B) II C) III D) IV E) V

3.

- I. Doğa, düzenli değişimlere sahiptir.
II. Buna rağmen büyük çoğunluğu önceden tahmin edilememektedir.
III. Bu değişimler bazen tahmin edilebilir gelişmelerdir veya mevsimsel hava koşullarında olduğu gibi normal bir döngüsel olaylar dizisidir.
IV. Önceden tahmin edilemeyen bir olay meydana geldiğinde ve bu olay olağanüstü bir özellik gösterdiğinde hem insanlar hem de çevrenin diğer öğeleri için bir tehlike hâlini alır.
V. Bu durumda, böylesi bir olay, doğal afet olarak tanımlanır.

Yukarıdaki numaralanmış cümleler anlamlı bir bütün oluşturacak biçimde sıralandığında hangisi baştan dördüncü olur?

- A) I B) II C) III D) IV E) V

4.

- I. Günümüz dünyasının en belirgin tanımlarından biri olan küreselleşme aslında üç büyük dönemden oluşmaktadır.
II. Ülkenin gelişmişlik düzeyi bu güçlerin en yaratıcı biçimde nasıl kullanıldığına bağlıydı.
III. Bu dönemin önde gelen unsurları ülke ve ülkenin sahip olduğu güçtü.
IV. Birinci dönem 1492'de Kristof Kolomb'un eski dünyadan yeni dünyaya yelken açmasıyla başlayıp 1800'lere kadar sürmüş ve dünyayı Büyük Boy'dan Orta Boy'a küçültmüştür.
V. Doğru kullanan ülkeler daha da gelişerek dünyaya hâkim olmaya başladılar.

Yukarıdaki numaralandırılmış cümlelerin anlamlı bir bütün oluşturabilmesi için hangileri yer değiştirmelidir?

- A) I. ile II. B) II. ile III. C) II. ile IV.
D) III. ile IV. E) IV. ile V.

5. Yazarın, 20 dilde yayımlanan, pek çokları tarafından yılın en iyi kitapları arasında gösterilen kitabı "Sonsuzluk" ile beynimizin derinlerine dalarak yaptığımız, düşündüğümüz ya da hissettiklerimizin çok büyük bir kısmının bizden başka bir biz tarafından yönetildiğini ürkütücü bir berraklıkla ortaya koyuyor.

Bu cümleden çıkarılabilecek en kesin yargı aşağıdakilerden hangisi olabilir?

- A) Yazarın birden fazla kitabı vardır.
B) "Sonsuzluk" kitabında hayali unsurlar ele alınmıştır.
C) "Sonsuzluk" kitabı dışında beğenilen başka kitaplar da olmuştur.
D) Yazar bu kitabıyla birçok ödül almıştır.
E) Yazarın "Sonsuzluk" kitabı roman türünde yazılmıştır.

6. (I) Tarihi-turistik İstanbul gezilerimize Anadolu Kavağı ile başladık. (II) Bir gün önceden gezi programımızın rotasını, saatlerini, taşıtlarını belirledim. (III) Anadolu Kavağı'nda gidilebilecek yerleri ve yenilebilecekleri önceden not etmiştim. (IV) Önce 129L otobüsü ile Kavacık'a, oradan da 15A ile Anadolu Kavağı'na gittik. (V) Sempatik 15A şoförü bize dönüşte de eşlik etti ve ona çok teşekkür ettik.

İstanbul'a yapılan bir gezinin anlatıldığı bu parçadaki numaralanmış cümlelerle ilgili olarak aşağıda verilenlerden hangisi yanlıştır?

- A) I. cümlede, gezi kapsamında gidilen ilk nokta verilmiş.
B) II. cümlede, gezi ile ilgili yapılan hazırlıklardan bahsedilmiş.
C) III. cümle, konaklama ile ilgili bilgi verilmiştir.
D) IV. cümlede, ulaşım araçlarıyla ilgili bilgi verilmiş.
E) V. cümlede, yoruma yer verilmiştir.

7. "Başarının sırrı, başkalarının gözüyle de kendi gözü kadar iyi görebilmekte saklıdır." **cümlesiyle aynı yargıyı taşıyan cümle aşağıdakilerin hangisidir?**

- A) Kişisel başarıda başkalarının etkisi büyüktür.
B) Kendini iyi tanımak için başkalarını tanımak gerekir.
C) Başkalarının, dünyayı nasıl yorumladığını anlamaya çalışan insan başarılı olur.
D) Başarı, sadece kendini iyi tanımakla tanımlanamaz.
E) Başkalarının ne diyeceğini hesaba katmayan kişi başarıya ulaşır.

8. (I) Şehirleşme medenileşmenin ilk hareket noktası olarak algılanır. (II) Göçebe hayatından yerleşik düzene geçen toplumlar için belki bir anlamda doğrudur. (III) Step kültürünün dağınık, cılız ve gelişmeye kapalı yapısından toplumsal hayatın geniş imkânlarına atlayanlar için şehirler tek kurtuluş merkezleridir. (IV) Dağ başında devlet kuramazsın, meclis de oluşturamazsın. (V) Ama yerleşik hayata girdiğin zaman farklı kültürlerin ve anlayışların değişik yaşama biçimlerinin bir merkez etrafında kendi değerlerini koruyarak ancak başkalarının yaşama hakkına da saygı göstererek birlikte yaşamayı öğrenirsin.

Bu parçaya göre şehirlerin medenileşmenin merkezî olmasının nedeni numaralı cümlelerin hangisinde verilmiştir?

- A) I B) II C) III D) IV E) V

9. Devr-i Alem Projesi'ni gerçekleştirmek üzere 2007 yılında yola çıkan ve şu anda Hint Okyanusu'nda kürek çekmekte olan Türk gezgin, 31 Ağustos itibarıyla toplam 542 gün ile en uzun süre denizde kalan kürekçiler sıralamasında dünyada ikinciliğe yükseldi.

Bu cümlede aşağıdaki ses olaylarından hangisi yoktur?

- A) Ünsüz yumuşaması
B) Ünsüz düşmesi
C) Ünlü düşmesi
D) Ünlü türemesi
E) Ünsüz sertleşmesi

10. Eşyanın duyguyu sürükleyen bir unsur olarak

I

kullanılması, dekoratif özellikleri dışında canlı bir varlık olarak dış dünyanın, şuurlu bir tercih olarak Necip Fazıl'ın şiirinde yer aldığı söylenebilir.

II

İssiz adamın trajik hâli, tavan arasında tahtayı

III

kemiren zamana bağlı olarak değişimler gösterir.

Yılların pasını üstünde taşıyan çivinin yaralı bir

IV

konuğu oynadığı sahne, çaresiz ve

yalnız insanın sızısını temsil eder. Küflü aynalarında

V

her bir konuktan kalma akislerin varlığı, silinemez geçmişin yani anıların insan ruhunda bıraktığı derin izleri taşımaktadır.

Bu parçadaki altı çizili sözlerin hangisinde isim ve sıfat tamlaması iç içe kullanılmamıştır?

- A) I B) II C) III D) IV E) V

11. Ayşe Çıpan, son romanında, Mısır'da yaşanan olayları çarpıcı bir anlatımla okuyucularına sunuyor.
- Bu cümle için aşağıdakilerden hangisi söylenemez?**
- A) Fiil cümlesidir.
B) Birden fazla yargı vardır.
C) Türemiş sözcükler kullanılmıştır.
D) Biçimce ve anlamca olumludur.
E) Farklı türde fiilimsiler kullanılmıştır.

12. Tasarım, bir ürünün tamamının veya bir parçasının çizgi, şekil, renk, biçim, doku, malzemenin esnekliği veya süslemesi gibi insan duyuları ile algılanabilen çeşitli unsur ve özelliklerin oluşturduğu görünümdür.

Bu cümlelerin öğelerinin dizilişi aşağıdakilerin hangisinin öge dizilişiyle aynıdır?

- A) Eşimle aramızdaki sorunları her zaman çocuklardan gizledik.
B) Beni anlasın diye onunla günlerce konuşmuştum.
C) Küçük bir ağacın altına saklanan kedi yavrusu kimsesizdi.
D) Arabaya binen çiftlerden bazıları çok gergindi.
E) Yarın akşam seninle bu konuyu uzun uzun konuşalım.

13. Kerem ile Aslı Hikâyesi, XVII. yüzyılda oluşmuş bir

I II
halk hikâyesidir. Hikâyede, Keşiş'in kızını Müslüman

III
bir gence vermek istememesi ve buna bağlı olarak gelişen olaylar anlatılmaktadır. Arkadaşı Sofu ile birlikte yöre yöre gezerek saz çalan Kerem, aynı

IV
zamanda bir saz şairidir. Bu bakımdan eserde pek çok şiir de bulunmaktadır.

V
Bu parçadaki altı çizili sözcüklerden hangisinin yazımı yanlıştır?

- A) I B) II C) III D) IV E) V

14. (I) Toplumsal söylem kodlarımız, maalesef, mütevazılık kavramını yanlış yorumlayarak bireysel seviyede bireyin aleyhine işleyen zihinsel kodlamaya sebep olmuştur. (II) Birey, başardığı bir işin sonunda, "Arkadaşlar harika bir iş çıkardım, hepimiz benimle gurur duyabilirsiniz çünkü ben kendimle gurur duyuyorum!" söylemini dillendirme konusunda çekiniyorsa, ilgili grubun veya toplumun kültürel kodlarında bir sorun var demektir. (III) İnsan fayda-külfet oran algısı doğrultusunda düşünür, karar verir ve harekete geçer. (IV) Tüm bunların toplamı ise bireyin kimliğini, eğilimlerini ve içinde bulunduğu sosyal gerçeği oluşturur. (V) Birey kendisinin farklı özelliklerini besler, büyütür ve oluşturur.

Bu parçadaki numaralanmış cümlelerin hangisinde gereksiz bir noktalama işareti kullanılmıştır?

- A) I B) II C) III D) IV E) V

15. (I) Özgür ama ölçülü, yaşlı ama çocuksu bir adamdı. (II) Çevresiyle duvarlarını yıkarak dostluklar kurardı. (III) Hayatın tadı onun yaşamının her anında duyuluyordu. (IV) Onun sanata, gazeteciliğe ilgisi hayrandık. (V) Fıkraları, nükteleri dilden dile gezerler, her gün yenilerini katardı.

Bu parçada numaralanmış cümlelerden hangisinde anlatım bozukluğu vardır?

- A) I. B) II. C) III. D) IV. E) V.

16. **Aşağıdaki cümlelerin hangisinde anlatım bozukluğu yapılmıştır?**

- A) Kardeşim dışarıda babamdan, araba kullanmayı öğreniyor.
B) Annem arkadaşlarımı çok sever, hepsine değer verirdi.
C) Toplumumuzda sağlıklı bir tartışma ortamı oluşturulamadı bir türlü.
D) Tartışma büyüyünce hepsini tek tek dinledi, sözünü kesmedi.
E) Beni öyle görünce annem, o yumuşak sesiyle beni yatıştırdı.

17. Bizim zamanımızda "ozan" denince "Hecenin Beş Şairi" diye adlandırılan kişiler aklımıza gelirdi. Bunları, sade bir dille ve hece ölçüsüyle yazdıkları için baş tacı ediyorduk. Öte yanda Yahya Kemal'le Ahmet Haşım vardı ama aruzla yazdıkları için beğensek bile onların peşlerine düşmüyorduk. Roman alanında en tanınmış ve sevilen yazar da Reşat Nuri'ydi. Dudaktan Kalbe ve Akşam Güneşi on yedi, on sekiz yaşındaki biz gençleri yürekten sarsıyordu. Akşam Güneşi'ne Gün Batarken adlı bir nazire bile yazdığımı hatırlıyorum.

Bu parçada aşağıdakilerden hangisine ağırlık verilmiştir?

- A) Görsel öğelere B) Tanımlamaya
C) Örneklemeye D) Nesnel ifadelere
E) Alıntılara

18. (I) Kuzey İran'dan Akdeniz sahillerine kadar önüne çıkan bütün devletlere diz çöktüren Selçuklu Devleti çok büyük komutanlar ve devlet adamları tarafından yönetildi. (II) Bunlardan önde geleni Sultan Melikşah ve büyük vezir Nizamülmülk'tü. (III) İkisi de devlet yönetiminde üstün mezihetlere sahipti. (IV) Selçuklu Devleti zaman içinde birçok ülkeyi ele geçirir duruma geldi. (V) Onların bayraktarlığında devlet öylesine büyüdü ki çınarın dalları altında her dinden, dilden ve ırktan insan yaşıyordu.

Bu parçadaki numaralanmış cümlelerden hangisi düşüncenin akışını bozmaktadır?

- A) I B) II C) III D) IV E) V

19. Çatalhöyük evleri taş temeller üzerine kerpiçten, tek katlı ve düz damlı olarak inşa edilmişlerdi. Evler birbirlerine bitişik olarak yapıldıkları için aralarında sokaklar bulunmuyordu. Fakat evler arasında yer yer büyük avlular bulunmaktaydı. Ulaşım düz damlar üzerinden sağlanmaktaydı. Evlerde kapı pencere gibi oluşumlar bulunmamaktaydı. Evlere giriş dam üzerindeki bir açıklıktan sağlanmakta ve bu açıklık aynı zamanda baca görevini görmekteydi. Evlerin içlerinde ocak, fırın, küçük depolar ve oturma yatma gibi işlevleri olan sekiler bulunmaktaydı. Ölüler bu sekilerin altına bacaklar karına çekik (hoker) durumda ve sepetler içerisinde gömülmekteydi. 20-25 metrekare genişliğindeki dikdörtgen planlı bu evlerin yanı sıra daha büyük ve daha özel yapıldıkları fark edilen binalar bulunmaktaydı. Bu yapıların duvarları beyaz kille sıvanmış daha sonra da av, tapınma ve daha birçok konudaki renkli fresklerle bezlenmişti.

Bu parçada Çatalhöyük evleriyle ilgili aşağıdakilerden hangisi hakkında bilgi verilmemiştir?

- A) Birbirlerine göre konumları
B) Fiziksel özellikleri
C) Kaç kişinin barınabildiği
D) Yapımında hangi malzemelerin kullanıldığı
E) Hangi eşyaların bulunduğu

20. Kışın gelmesiyle birlikte cildimizin kuruması kendini cilt gerginliği olarak göstermektedir. Özellikle cildin kuruması karşılaşılan en büyük problem. Yüzümüz haricinde ayaklarımız, dizlerimiz, boynumuz, ellerimiz, özellikle dirseklerimizde görülen pul pul beyazlanmalar... Dudaklarımızın kurumasını önlemek, daha da önemlisi kendimizi iyi hissetmek için kışın cilt ve vücut bakımına özen göstermeliyiz. Kış boyunca kuruyan cilt, masajla eski ışıltısına kavuşur. Ellerinizde, mutlaka el losyonu ile masaj yapın. Ciltteki kuruluk zeytinyağı, hardal yağı ve badem yağı ile yapılacak masajla giderilebilir.

Bu parçadan aşağıdakilerden hangisine varılamaz?

- A) Ciltteki kuruluğun giderilmesinin mümkün olduğuna
B) Kışın, ciltte sorunlara neden olduğuna
C) Vücut bakımının düzenli olarak yapılması gerektiğine
D) Masajın vücuda yararlı olduğuna
E) Her insanın farklı bir alt yapısı olduğuna

21. Eleştirmen, dünün ve bugünün sanat meselelerini iyi bilmeli, geniş bilgi ve kültür sahibi olmalı, başka milletlerin belli başlı sanat eserlerini tanımalıdır. Ele aldığı eseri bütün olarak kavrayabilmeli, peşin yargılardan kendini uzak tutmalı, tek yönlü sanat anlayışına saplanıp kalmamalı, alışılmış güzelliklerden başka güzellikler bulunabileceğini düşünmeli, estetik değerleri ararken geniş bir felsefi görüşle hareket edebilmelidir.

Bu parçaya göre aşağıdakilerden hangisi eleştirmende olması gereken özelliklerden biri değildir?

- A) Geçmişin ve bugünün sanat anlayışlarını tanıma
B) Farklı kültürlerin sanat eserlerini takip etme
C) Özgün bir sanat anlayışına sahip olma
D) Nesnel bir tavır sergileyebilme
E) Kendini yenileyebilme

22. Yüz mimiklerini yapmamızı sağlayan kaslar, üstlerini örten deriye yapışıktır. Bu nedenle mimik kasları harekete geçerken üzerindeki deri de büzüşür. Böylece kırışıklıkların ilk adımı atılmış olur. Yıllarca süren bu işlem cildin esneklik yapısının da azalması ile birleşince kırışıklıklar oluşmaya başlar.

Bu parçaya göre aşağıdakilerden hangisi yüzdeki kasları hareket geçiren mimiklerden biri olamaz?

- A) Gülme B) Sinirlenme
C) Konuşma D) Ağlama
E) Düşünme

23. (I) Romancıyı bilim adamından ayıran en büyük özellik, sezgilerinin çok güçlü olmasıdır. (II) Bu sezgilerle bilimle ulaşılamayan insan ruhunun girift, en karanlık dehlizleri aydınlanır. (III) Aksi takdirde Shakespeare'in kahramanlarının, Dostoyevski'nin resmini çizdiği Raskolnikov'un, Karamazov Kardeşler'in kişiliklerini yakından tanıyabilir miydik? (IV) İlginç kahramanlar bulup okuyucuya tanıtmak durumunda bulunan romancı bir yanıyla kâşif, diğer yanıyla da analizcidir. (V) Bilim insanı, şahsiyetinin oluşmasını ele alarak kişinin hâl ve tavrını izah edebilir. (VI) Fakat mutlu veya mutsuz olması, tamamen subjektif bir olay olduğu için bilim insanının bu konuda söyleyeceği söz yoktur. (VII) Çünkü aynı olayları yaşayanlar, aynı imkânlarla sahip olanlar mutluluk bakımından aynı noktada bulunmazlar.

Bu parçadaki numaralanmış cümlelerin hangisiyle ikinci paragraf başlar?

- A) II B) III C) IV D) V E) VI

24. - 25. SORULARI AŞAĞIDAKİ PARÇAYA GÖRE CEVAPLAYINIZ.

Ülkemizde her gün 3 bin çocuk sigaraya başlıyor ve bir tanesi sigara yüzünden erken ölüyor. Orman ve şehir içi yangınlarının yarısı sigara yüzünden çıkarken sigara izmaritlerinin deniz kirliliğinin birinci nedeni olduğu açıklandı. 2004'e kadar, 1954 yılında yayımlanan bir yasa ile orman yangınını söndürmeye giden ormancılara bedava sigara dağıtılıyordu. Hava kirliliği de sigarının bir diğer marifeti. Sigara izmaritleri ayrıca toprak ve yer altı sularını kirliletmektedir. Sigara yüzünden hastanelerin hasta sayısı ve ilaç tüketimi ikiye katlanıyor. Türkiye her yıl sigara için yurt dışına 9,5 milyar dolar ödüyor. Tekel'in satılması ile bu rakamın çok daha artacağını bekliyoruz. Bu para ile tüm öğrencilerimize bilgisayar alabilir, tüm okullarımıza spor salonu yaptırabiliriz.

24.

- I. Çevreye zararları
II. Bırakmanın zor olmadığı
III. İnsan üzerindeki etkileri
IV. Hangi yaş grubunda fazla içildiği

Bu parçada sigara hakkında yukarıdakilerden hangisi ile ilgili bir bilgi yoktur?

- A) I ve II B) I ve III C) II ve III
D) II ve IV E) III ve IV

25. **Bu parçada aşağıdakilerin hangisi üzerinde durulmamıştır?**

- A) Sigaraya başlama yaşının düştüğü
B) Sigarayı özendirici yasaların çıktığı
C) Türkiye'nin sigara ithal ettiği
D) Sigaraya bağlı hastalıkların arttığı
E) Sigaranın doğaya zarar verdiği

26. - 27. SORULARI AŞAĞIDAKİ PARÇAYA GÖRE CEVAPLAYINIZ.

(I) Genel donma, kişinin uzun süre soğukta kalmasıyla ve vücut sıcaklığının düşmesiyle oluşur. (II) Donmak üzere olan kişilerde görme bozukluğu, derinin soluklaşması, morarması ve mumsu bir görünüm alması, halsizlik ve uyuşukluk, engellenemeyen uyku isteği, zamanla bilincin kaybolması gibi belirtiler görülür. (III) Donma olayının oluşması durumunda, vakit geçirilmeden ilk yardım uygulamasına geçilmelidir. (IV) Donan kişi ani olarak sıcakla temas ettirilmeden serin bir yere yatırılır. (V) Daha sonra üzerindeki giysiler çıkarılarak bir örtü ile örtünmesi sağlanır. (VI) Bu şekilde vücut ısısı artırılır.

26. **Bu parçada genel donmayla ilgili aşağıdakilerden hangisine değinilmemiştir?**

- A) Kişi üzerindeki etkilerine
B) En çok kimlerde görüldüğüne
C) Nasıl oluştuğuna
D) Yapılması gerekenlere
E) Belirtilerinin neler olduğuna

27. **Bu parçadaki numaralanmış cümlelerin hangisinden itibaren önerilerde bulunulmaya başlanmıştır?**

- A) II B) III C) IV D) V E) VI

28. - 30. SORULARI AŞAĞIDAKİ PARÇAYA GÖRE CEVAPLAYINIZ.

Tiyatro bölümü öğrencileri olan Aleyna, Batu, Can, Derya, Eren, Ferit ve Günce adlı arkadaşlar dönem ödevini seçmek için panoda asılı olan listeden Kiralık Oyun, Cimri, Krem Karamel, Fosforlu Cevriye, Aşk Hastası isimli oyunlardan hangilerini seçtikleriyle ilgili aşağıdaki bilgiler verilmiştir:

- Kiralık Oyunu iki kişi, Fosforlu Cevriye'yi üç kişi seçmiştir.
- Cimri isimli oyunu yalnızca Eren seçmiştir.
- Krem Karamel adlı oyunu hiç kimse seçmemiştir.
- Can ve Ferit aynı oyunu seçmiştir.
- Aleyna, Can ve Günce farklı oyunları seçmiştir.

28. Verilen bilgilere göre aşağıdakilerden hangisi kesinlikle yanlıştır?

- A) Aleyna ve Batu, aynı oyunları seçmiştir.
 B) Batu ve Derya, farklı oyunları seçmiştir.
 C) Ferit, Aşk Hastası adlı oyunu seçmiştir.
 D) Ferit, Fosforlu Cevriye adlı oyunu seçmiştir.
 E) Ferit, Kiralık Oyun adlı oyunu seçmiştir.

29. Derya'nın seçebileceği oyunlar aşağıdakilerin hangisinde verilmiştir?

- A) Kiralık Oyun
 B) Fosforlu Cevriye
 C) Aşk Hastası
 D) Kiralık Oyun-Cimri
 E) Kiralık Oyun-Fosforlu Cevriye

30. Aleyna'nın "Fosforlu Cevriye" adlı oyunu seçtiği biliniyorsa aşağıdakilerden hangisi kesin olarak yanlıştır?

- A) Batu, Fosforlu Cevriye adlı oyunu seçmiştir.
 B) Derya Fosforlu Cevriye adlı oyunu seçmiştir.
 C) Derya, Kiralık Oyun adlı oyunu seçmiştir.
 D) Günce, Aşk Hastası adlı oyunu seçmiştir.
 E) Can, Kiralık Oyun adlı oyunu seçmiştir.

31. a, b, c birbirinden farklı rakamlar olmak üzere,

$$3a - 4b + 2c$$

ifadesinin alabileceği en küçük değer kaçtır?

- A) -34 B) -36 C) -38 D) -62 E) -88

32. a ve b sıfırdan farklı iki doğal sayıdır.

$$3a + 2b = 33$$

eşitliğini sağlayan kaç farklı (a, b) ikilisi vardır?

- A) 6 B) 5 C) 4 D) 3 E) 2

33. x ve y çift sayılar olduğuna göre, aşağıda verilen ifadelerden hangisi daima çift sayıdır?

- A) $1 + \frac{x}{y}$ B) $\frac{x-y}{y}$ C) $1 + \frac{y}{x}$
 D) $\frac{y}{x}$ E) $\frac{x \cdot y}{2}$

34. Ardışık tek rakamlar kullanılarak yazılabilecek iki basamaklı rakamları farklı dört farklı doğal sayının toplamı en az kaçtır?

- A) 132 B) 152 C) 184 D) 188 E) 212

35. abc üç basamaklı bir doğal sayıdır.

$$a = 3b \text{ ve } b = c - 1$$

eşitliklerini sağlayan abc sayılarının toplamı kaçtır?

- A) 2569 B) 1869 C) 1889
D) 1872 E) 1979

36. abb üç basamaklı, ab iki basamaklı doğal sayıdır.

$$abb - ab = 850$$

olduğuna göre, a + b toplamı kaçtır?

- A) 10 B) 11 C) 13 D) 15 E) 16

37. a ve b pozitif tam sayılar olmak üzere,

$$224 \cdot a = b^3$$

eşitliğini sağlayan en küçük a değeri kaçtır?

- A) 106 B) 98 C) 84 D) 72 E) 64

38. Dört basamaklı 5K4M sayısı 3 ve 4 ile kalansız bölünebiliyor.

Bu sayı 5 ile bölündüğünde 3 kalanını verdiği göre, K'nın alabileceği değerler toplamı kaçtır?

- A) 7 B) 9 C) 11 D) 12 E) 14

$$39. \quad 2^4 \cdot 3^5 \cdot 5^3 = A$$

olduğuna göre, A sayısının pozitif bölenlerinden kaç tanesi 45'in katıdır?

- A) 75 B) 60 C) 55 D) 45 E) 40

40. $\frac{36!}{2^a}$ ifadesi bir tek doğal sayı olduğuna göre, a kaçtır?

- A) 33 B) 34 C) 36 D) 38 E) 39

$$41. \quad (0,\overline{6} + 0,\overline{9}) \cdot \left(\frac{1}{0,\overline{5}} + \frac{1}{5} \right)$$

işleminin sonucu kaçtır?

- A) $\frac{10}{3}$ B) 3 C) $\frac{8}{3}$ D) $\frac{7}{3}$ E) $\frac{5}{3}$

$$42. \quad x - 3[x - 4(x - 4)] = 2$$

denklemini sağlayan x değeri kaçtır?

- A) 5 B) 4 C) 3 D) 2 E) 1

43. $x = a + \frac{1}{a}$ ve $y = a - \frac{1}{a}$ olduğuna göre, $x^2 - y^2$ farkı kaçtır?
A) 8 B) 4 C) 2 D) 1 E) -2

44. $|2x-1| < 3$ olmak üzere, $|x-2| + |x+3|$ ifadesinin değeri nedir?
A) -5 B) 4 C) $x-2$ D) 5 E) $x+1$

45. $\frac{9^6 + 27^4 + 81^3}{9 \cdot 3^{11}}$ işleminin sonucu kaçtır?
A) 3 B) 1 C) $\frac{1}{3}$ D) $\frac{1}{9}$ E) $\frac{1}{27}$

46. $\frac{\sqrt{5}-2}{\sqrt{5}+2} - \frac{\sqrt{5}+2}{\sqrt{5}-2}$ işleminin sonucu kaçtır?
A) $2\sqrt{5}$ B) $4\sqrt{5}$ C) -18 D) -16 E) $-8\sqrt{5}$

47. $\frac{x^2-x-20}{x^2-25} \cdot \frac{x^2-x-2}{x^2+2x-8} : \frac{x+1}{x^2+5x}$ işleminin sonucu aşağıdakilerden hangisidir?
A) 1 B) x C) $\frac{1}{x}$ D) $x+1$ E) $\frac{1}{x+1}$

48. 4 işçi günde 6 saat çalışarak 20 günde 320 m yol yaparsa aynı güçte 8 işçi 10 saat çalışarak 30 günde kaç metre yol yapar?
A) 800 B) 1200 C) 1500 D) 1600 E) 2400

49. Çay dolu bir bardak 200 gr gelmektedir. Bardaktaki çayın bir yudumda $\frac{1}{10}$ u içilmektedir. Bu durumda bir kısmı çay dolu bardak 190 gram gelmektedir. Her yudumda aynı miktarda çay içildiğine göre, 3. yudumdan sonra bardakta kaç gr çay kalır?
A) 170 B) 160 C) 155 D) 145 E) 135

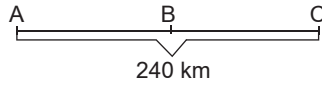
50. Bir annenin yaşı iki çocuğunun yaşları toplamından 16 fazladır. 5 yıl önce annenin yaşı çocukların yaşları toplamının 8 katı idi. Buna göre, büyük çocuk en az kaç yaşındadır?
A) 9 B) 5 C) 6 D) 7 E) 8

51. Onur ile Caner bir işin tamamını 18 günde yapıyorlar. İşe başladıktan 12 gün sonra Caner işi bırakıyor, kalan işi Onur 9 günde bitiriyor.

Buna göre, Caner işin tamamını kaç günde yapar?

- A) 54 B) 42 C) 36 D) 30 E) 27

52. $\xrightarrow{3V}$
 \xrightarrow{V}



AC arası 240 km'dir. Hızları V ve $3V$ olan iki hareketli aynı anda A'dan hareket ediyorlar. Hızlı giden hareketli C'ye varıp durmadan geri döndüğünde diğer hareketli ile B'de karşılaşıyorlar.

Buna göre, BC yolu kaç km'dir?

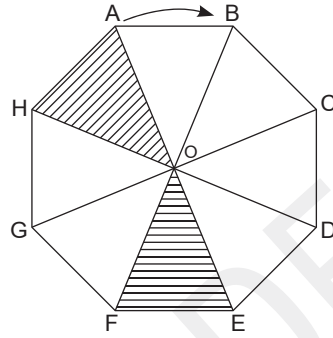
- A) 120 B) 135 C) 140 D) 150 E) 160

53. a sayısı %20 azaltılırsa b sayısına eşit oluyor.

b sayısı yüzde kaç artırılırsa a sayısına eşit olur?

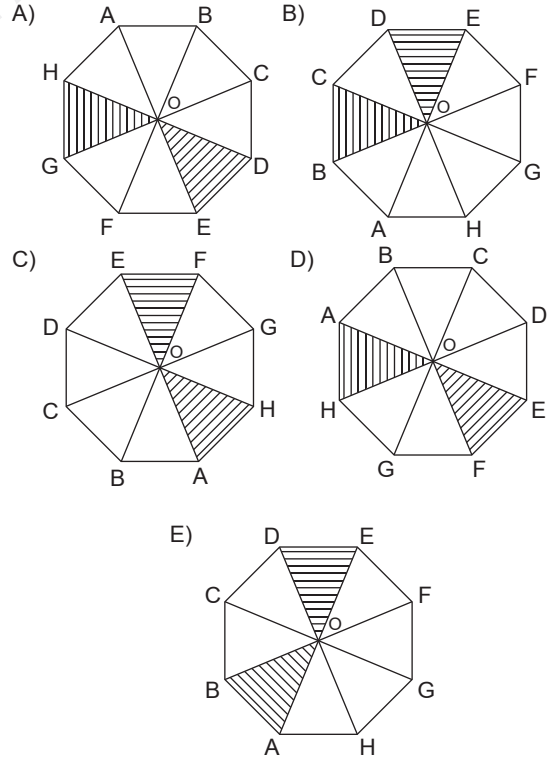
- A) 20 B) 22,5 C) 25 D) 30 E) 40

54. - 55. soruları aşağıdaki grafiğe göre cevaplayınız.

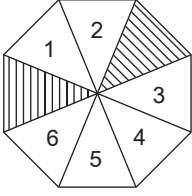


Şekildeki ABCDEFGH düzgün sekizgeninde AOH ve FOE üçgenleri taranmıştır. Şekil O merkezi etrafında saat yönünde 1 turu sabit hızla 180 dakikada atmaktadır.

54. Buna göre saat 11.00'de şekildeki konumda harekete başlayan şekil saat 12.30'da hangi konumda olur?



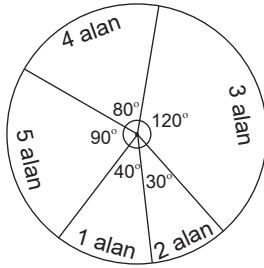
55.



Yukarıdaki konumdan 67,5 dakika sonra numaralandırılmış bölmelerden hangisi taralı olur?

- A) 1 B) 2 C) 3 D) 5 E) 6

56. - 57. soruları aşağıdaki grafiğe göre cevaplayınız.



Yandaki dairesel grafik 1800 öğrencinin bulunduğu bir okuldaki öğrencilerin aldıkları notların dağılımını göstermektedir.

56. Buna göre 5 notunu alan kaç tane öğrenci vardır?

- A) 270 B) 360 C) 450 D) 540 E) 600

57. 2 notunu alan öğrenci sayısı 3 notunu alan öğrenci sayısının yüzde kaçtır?

- A) 20 B) 25 C) 30 D) 40 E) 45

58. m bir doğal sayı olmak üzere,

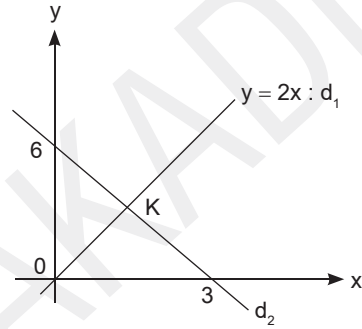
$$2^{(2^m)} + 1$$

sayısı asal sayı ise bu asal sayıya fermat asalı denir.

Buna göre, aşağıdakilerden hangisi fermat asalıdır?

- A) 7 B) 17 C) 63 D) 67 E) 91

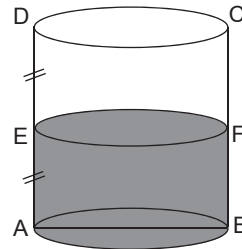
59.



Analitik düzlemde verilen d_1 ve d_2 doğrularının keşiştiği K noktasının apsisi kaçtır?

- A) $\frac{3}{2}$ B) 1 C) $\frac{5}{3}$ D) $\frac{6}{5}$ E) $\frac{2}{3}$

60.



Şekildeki silindir, yarıya kadar su ile doludur.

$|AB| = 12$ cm, $|BC| = 16$ cm olduğuna göre, bu su ile küre şeklindeki bir kap tam olarak doldurulacaktır.

Buna göre, kürenin yarıçapı kaç cm olmalıdır?

- A) 12 B) $9\sqrt{2}$ C) 9 D) $6\sqrt{2}$ E) 6

1. Bu testte 60 soru vardır.

2. Cevaplarınızı, cevap kâğıdının Genel Kültür Testi için ayrılan kısmına işaretleyiniz.

1. İlk Türk devletlerine ait kurganlarda önemli sanat eserlerine ratlanmıştır.

Aşağıdaki kurganların hangisinde "Altın Elbiseli Adam" adlı eser bulunmuştur?

- A) Esik
- B) Pazırık
- C) Noin-ula
- D) Şipovo
- E) Katanda

2. Aşağıdakilerden hangisi Büyük Selçuklu Devleti Dönemi'nde kurulan Nizamiye Medreselerinin kuruluş amaçları arasında yer almaz?

- A) Baba İshak İsyanı'na karşı mücadele etmek
- B) Devletin yönetim kademelerine memur yetiştirmek
- C) Din adamı ihtiyacını karşılamak
- D) Bilim insanı yetiştirmek
- E) Yıkıcı ve bölücü faaliyetleri engellemek

3. Moğol İmparatorluğu'nun parçalanmasıyla Çin'de ve Doğu Türkistan'da kurulan devletler aşağıdakilerin hangisinde doğru verilmiştir?

- | Çin | Doğu Türkistan |
|--------------------|-----------------|
| A) İlhanlılar | Altın Orda |
| B) Kubilay Hanlığı | Çağatay Hanlığı |
| C) Altın Orda | İlhanlılar |
| D) Çağatay Hanlığı | İlhanlılar |
| E) Kubilay Hanlığı | Altın Orda |

4. Osmanlı Devleti'nde I. Mehmet (Çelebi) Dönemi'nde,

- I. Şeyh Bedreddin İsyanı'nın çıkması,
- II. İlk deniz savaşının Venedik'le yapılması,
- III. Anadolu Türk siyasi birliğini sağlama çalışmalarının tamamlanması

gelişmelerinden hangileri yaşanmıştır?

- A) Yalnız I
- B) Yalnız II
- C) Yalnız III
- D) I ve II
- E) I, II ve III

5. Aşağıdakilerden hangisi Osmanlı Devleti'nde II. Bayezid Dönemi gelişmeleri arasında yer almaz?

- A) Karamanoğulları Beyliği'ne kesin olarak son verilmesi
- B) Cem Sultan Olayı'nın yaşanması
- C) Safeviler'le Çaldıran Savaşı'nın yapılması
- D) Şahkulu İsyanı'nın yaşanması
- E) İspanya'daki Müslüman ve Yahudilere yardım yolları

6. Aşağıdakilerden hangisi Osmanlı hukuk sistemiyle ilgili bir kavram değildir?

- A) Kazasker
- B) Kadi'l-kudat
- C) Mecelle
- D) Kanunname
- E) Kadi

7. Osmanlı Devleti'nde Türk musikisine büyük katkıları olup, Nevekâr makamını bulan ve "Tuti-i Mucize-i Guyem" isimli eserin bestecisi olan sanatçı aşağıdakilerden hangisidir?

- A) Karacaoğlan
- B) Nedim
- C) Aşık Ömer
- D) Baki
- E) İtri

8.

- I. Kanunuesasi
- II. Sened-i İttifak
- III. İslahat Fermanı

Yukarıdakilerden hangileri Batılı devletlerin işlerimize karışmasını engellemek için yapılan düzenlemelerdir?

- A) Yalnız I
- B) Yalnız II
- C) I ve II
- D) I ve III
- E) I, II ve III

9.

- Mülkiye Mektebini kurdu.
- Kaime-i Nakdiye adıyla ilk kağıt parayı bastırdı.
- İl Genel Meclislerini kurdu.

Yukarıdaki ıslahatları gerçekleştiren Osmanlı padişahı aşağıdakilerden hangisidir?

- A) II. Mahmut
- B) III. Selim
- C) Abdülmecit
- D) Abdülaziz
- E) II. Abdülhamit

10. Osmanlı Devleti;

- I. Sırbistan,
- II. Arnavutluk,
- III. Makedonya

topraklarından hangilerini Balkan Savaşları'nda kaybetmiştir?

- A) Yalnız I
- B) Yalnız II
- C) I ve II
- D) II ve III
- E) I, II ve III

11. Osmanlı Devleti imzaladığı aşağıdaki antlaşmalardan hangisiyle birden çok devlet bağımsızlığını kazanmıştır?

- A) 1812 Bükreş Antlaşması
- B) 1809 Kale-i Sultaniye
- C) 1829 Edirne Antlaşması
- D) 1878 Berlin Antlaşması
- E) 1838 Balta Limanı Antlaşması

12.

- I. Küçük Mecmua
- II. Aydede
- III. Ümit

Yukarıdaki dergilerden hangileri Millî Mücadele'yi desteklemek amacıyla çıkarılmıştır?

- A) Yalnız I
- B) Yalnız II
- C) I ve II
- D) II ve III
- E) I, II ve III

13. Aşağıdakilerden hangisiyle İstanbul Hükümeti **açıkça** yok sayılmıştır?

- A) Amasya Görüşmeleri
- B) Havza Genelgesi
- C) Komutanlar Toplantısı
- D) Samsun Raporu
- E) TBMM'nin açılması

14. Mustafa Kemal Atatürk'ün Temsil Heyetiyle Ankara'ya gelerek Ankara'yı Milli Mücadele'nin merkezi seçmesinde,

- I. ulaşım elverişli olması,
- II. işgal edilmemiş olması,
- III. Batı Cephesi'ne yakın olması

durumlarından hangileri etkili olmuştur?

- A) Yalnız I
- B) Yalnız II
- C) I ve II
- D) I ve III
- E) I, II ve III

15. Kurtuluş Savaşı'nda aşağıdaki savaşlardan hangileri sırasıyla Rum Sındığı ve Subaylar Savaşı olarak adlandırılmıştır?

- A) I. İnönü - Sakarya
- B) Başkomutanlık - Sakarya
- C) II. İnönü - Sakarya
- D) Sakarya - Başkomutanlık
- E) II. İnönü - I. İnönü

16. Sakarya Meydan Muharebesi'nden sonra Fransa'yla yapılan Ankara Antlaşması'yla Güney Cephesi kapanarak Fransa işgal ettiği toprakları boşaltmıştır.

Buna göre;

- I. İtilaf Devletleri arasında görüş ayrılığı yaşandığı,
- II. Yunanistan'ın işgal ettiği toprakları boşalttığı,
- III. Kurtuluş Savaşı'nın sona erdiği

sonuçlarından hangilerine ulaşılabilir?

- A) Yalnız I
- B) Yalnız II
- C) I ve II
- D) I ve III
- E) I, II ve III

17. Aşağıdakilerden hangisi Lozan Antlaşması'nın kapsamında **değildir**?

- A) Bütün azınlıkların Türk vatandaşı sayılması
- B) Yabancı okulların Türk kanunlarına göre eğitim yapması
- C) Boğazların başında bir Türk'ün bulunduğu uluslararası bir komisyonun yönetimine bırakılması
- D) Asker bulundurmamak şartıyla Sakız, Sisam, Nikerya ve Midilli adalarının Yunanistan'a bırakılması
- E) Kafkasya sınırının kesinlik kazanması

18.

- I. Halk Fırkasının kurulması
- II. İzmir İktisat Kongresi
- III. Ankara'nın başkent ilan edilmesi

Yukarıdakilerden hangileri Cumhuriyet'in ilanından önce meydana gelen gelişmelerdir?

- A) Yalnız I
- B) Yalnız II
- C) I ve II
- D) II ve III
- E) I, II ve III

19. Mustafa Kemal Atatürk herkese okuma-yazma öğretilerek bilgisizliğin ortadan kaldırılmasını amaçlamıştır.

Bu doğrultuda;

- I. Türk harflerinin kabul edilmesi,
- II. Türk Tarih Kurumunun kurulması,
- III. Millet Mekteplerinin açılması

çalışmalarından hangileri gerçekleştirilmiştir?

- A) Yalnız I
- B) Yalnız II
- C) I ve II
- D) I ve III
- E) I, II ve III

20. Saltanatın kaldırılmasıyla, devlet başkanlığı sorunu ortaya çıkmıştır.

Bu sorun aşağıdakilerden hangisiyle çözüme kavuşmuştur?

- A) Cumhuriyet'in ilanı
- B) 1924 Anayasası'nın kabulü
- C) Teşkilat-ı Esasiye'nin kabulü
- D) Çok partili hayata geçilmesi
- E) Halifeliğin kaldırılması

21. İnançlar vicdanlarda ve mabetlerde kalmalı, maddi hayatın ve dünyanın işlerine karıştırılmamalıdır.

Atatürk'ün bu sözü aşağıdaki ilkelerden hangisiyle doğrudan ilgilidir?

- A) Halkçılık
- B) Laiklik
- C) Cumhuriyetçilik
- D) Milliyetçilik
- E) Laiklik

22. Aşağıdakilerden hangisi Atatürk Dönemi'nde başbakanlık yapmıştır?

- A) Fethi Okyar
- B) Recep Peker
- C) Refik Saydam
- D) Şemseddin Günaltay
- E) Şükrü Saraçoğlu

23. Çelebilik, dervişlik, seyitlik ve babalık gibi unvanların yasaklanması aşağıdaki inkılaplardan hangisiyle gerçekleşmiştir?

- A) Kılık-Kıyafet Kanunu
- B) Tekke, zaviye ve türbelerin kapatılması
- C) Soyadı Kanunu
- D) Türk Medeni Kanunu
- E) Şer'iye ve Evkâf Vekaletinin kaldırılması

24. Mustafa Kemal Paşa ile ilgili aşağıdakilerden hangisi doğru değildir?

- A) En büyük eserim olarak nitelendirdiği eser "Nutuk"tur.
- B) Ankara'ya geldiğinde "Ankara Ziraat Okulu"nda yani bugünkü "Devlet Meteoroloji İşleri Genel Müdürlüğü"nde konaklamıştır.
- C) Sakarya Meydan Muharebesi'nden sonra "Mareşallik" rütbesi ile "Gazilik" unvanını almıştır.
- D) Mondros Ateşkesi'nden sonra İstanbul'da Fethi Bey'le "Minber" gazetesini çıkarmıştır.
- E) Amasya Genelgesi'nden sonra, Erzurum Kongresi'nden önce askerlik mesleğinden istifa etmiştir.

25. İki büyük savaş arasında Avrupa'da ekonomik ve sosyal alanlarda önemli gelişmeler yaşandı.

Aşağıdakilerden hangisi bu süreçte yaşanan gelişmelerden biri değildir?

- A) Mandater rejim Avrupa'da da uygulanmaya başlandı.
- B) Sovyet Rusya "Beş Yıllık Plan" uygulaması ile sanayisini geliştirdi.
- C) Birçok Avrupa ülkesinde emeklilik ve işsizlik sigortası gibi sosyal politikalar uygulanmaya başlandı.
- D) Avrupa'dan ABD'ye yapılan göçler azalırken Avrupa içindeki göçler hızlandı.
- E) İngiltere'nin savaş öncesindeki refah düzeyine yeniden ulaşma çabaları başarılı olmadı.

26.

- I. Hayat Sahası - Almanya
- II. Bizim Deniz - İtalya
- III. Yeni Düzen - Fransa

Yukarıda İkinci Dünya Savaşı'nın çıkmasında önemli rol oynayan politikalar ve bu politikaları izleyen devletler eşleştirilmiştir.

Bu eşleştirmelerden hangileri doğrudur?

- A) Yalnız I
- B) Yalnız II
- C) I ve II
- D) II ve III
- E) I, II ve III

27. SSCB komünist partilerin iktidarda olduğu ülkelerle bağlarını daha da güçlendirmek için;

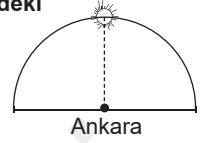
- I. Cominform,
- II. Comecon,
- III. Varşova Paktı

oluşumlarını gerçekleştirdi.

Bu oluşumlardan hangilerinin Doğu Bloku ülkeleri arasında kollektif savunma ve askerî iş birliği amaçlı kurulduğu savunulabilir?

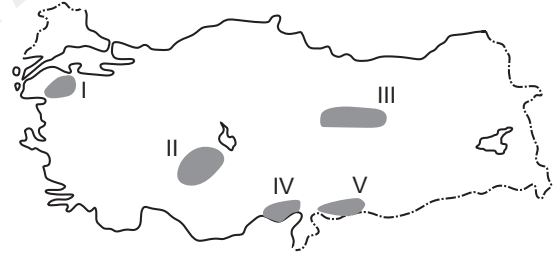
- A) Yalnız I
- B) Yalnız III
- C) I ve II
- D) I ve III
- E) II ve III

28. Güneş 33° Doğu boylamı üzerindeki Ankara'da yandaki konumdayken 45° Doğu meridyenindeki Iğdır'da güneşin ufuktaki konumu nasıldır?



- A)
- B)
- C)
- D)
- E)

29.



Yukarıdaki Türkiye haritasında taralı olarak gösterilen alanlardan hangisinde gerçek alanla izdüşüm alan arasındaki fark diğerlerinden daha fazladır?

- A) I
- B) II
- C) III
- D) IV
- E) V

30. Karadeniz Bölgesi'nin Doğu Karadeniz Bölümü'nde tarımsal nüfus yoğunluğu fazladır.

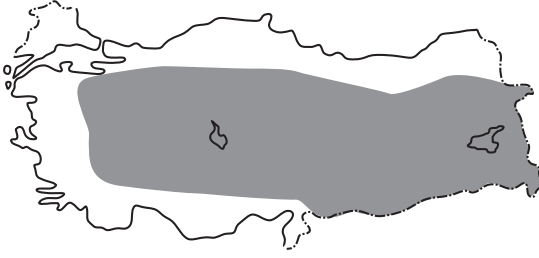
Doğu Karadeniz Bölümü'nde;

- I. Nadas ihtiyacının en az olması,
- II. Tarımda makine kullanımının az olması,
- III. Dağınık yerleşmelerin görülmesi

durumlarından hangileri yukarıdaki durumun oluşma nedeniyledir?

- A) Yalnız I
- B) Yalnız II
- C) Yalnız III
- D) II ve III
- E) I, II ve III

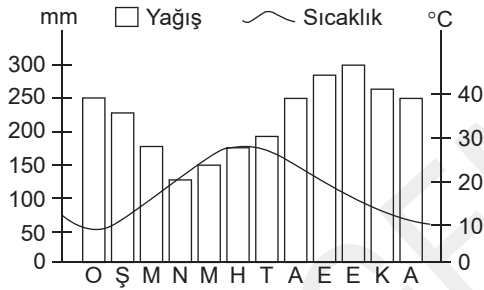
31.



Yukarıdaki Türkiye haritasında hangi doğal afetin yayılım alanı görülmektedir?

- A) Çığ B) Deprem C) Erozyon
D) Heyelan E) Sel ve taşkın

32.



Yukarıdaki sıcaklık ve yağış grafiği verilen iklim alanında aşağıdaki ürünlerden hangisinin yetiştirilmesi **beklenemez**?

- A) Pamuk B) Soya fasülyesi C) Mısır
D) Fındık E) Tütün

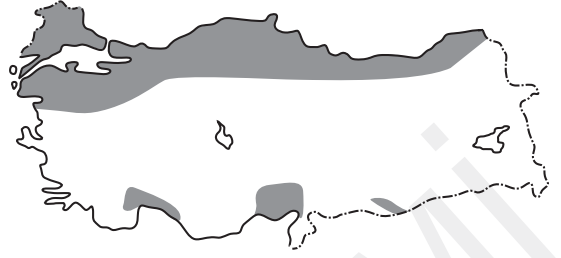
33.

- I. Az yağış alan - şiddetli buharlaşmanın olduğu yerlerde görülür. → Çernezyom toprak
II. Akdeniz iklim bölgelerinde kalkerli araziler de görülür. → Terra-rossa toprak
III. Akarsuyun taşıyıp biriktirdiği yerlerde görülür. → Alüvyal toprak

Yukarıda verilen bazı toprak türleri ve özelliklerinden hangileri doğru eşleştirilmiştir?

- A) Yalnız I B) Yalnız II C) Yalnız III
D) II ve III E) I, II ve III

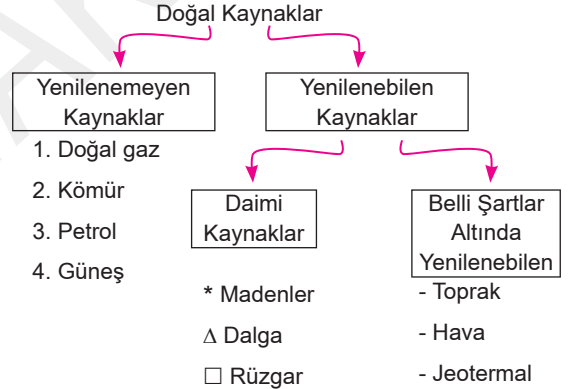
34.



Yukarıdaki Türkiye haritasında en yaygın ekim alanı gösterilen un ve yağ üretiminde ayrıca hayvan yemi olarak kullanılan ve Akdeniz Bölgesi'nde birinci sırada yetiştirilen ürün aşağıdakilerden hangisidir?

- A) Haşhaş B) Fındık C) Mısır
D) Ayçiçeği E) Soya fasülyesi

35.



Yukarıdaki doğal kaynak türlerini sınıflandıran diagramda hangi kaynakların yer değiştirmesi yapılan yanlışlığı düzeltir?

- A) 2 - □ B) 4 - * C) 1 - * D) 4 - Δ E) 2 - *

36.

- I. Doğu Anadolu Bölgesi'nde tarım faaliyetlerinin önüne hayvancılık faaliyetlerinin geçmesi
II. Güneydoğu Anadolu Bölgesi'nde nadasa duyulan ihtiyacın fazla olması
III. Antalya Bölümü'nde göl sayısının ve kapladıkları alanların fazla olması
IV. Karadeniz Bölgesi akarsularının rejimlerinin düzenli olması

durumlarından hangilerinin oluşumunda iklimin doğrudan etkisinden söz edilebilir?

- A) I ve II B) II ve III C) I, II ve III
D) I, II ve IV E) I, II, III ve IV

37. Aşağıdakilerden hangisi ülkemizdeki sanayi kolları ve dağılışlarıyla ilgili doğru bir bilgi değildir?
- A) En çok işçi istihdam eden sanayi kolları tekstil ve gıda sanayisidir.
- B) Ülkemizde ihracat gelirlerine en çok katkı yapan sanayi kolu otomotivdir.
- C) Beyaz eşya ve elektronik sanayisinde dışarıya bağımlıdır. Büyük kısmı ithal edilir.
- D) Çimento sanayisi ülke genelinde en yaygın sanayi kollarındandır.
- E) Mobilyacılık sanayisi son yıllarda büyük endüstriyel yatırımlarla daha fazla gelişmektedir.

38. Aşağıdakilerden hangisi Türkiye'de büyükbaş mera hayvancılık faaliyetleriyle ilgili doğru bir değerlendirme değildir?
- A) Büyük şehirlerin ayrıca şeker ve yem fabrikalarının bulunduğu alanlarda gelişmiştir.
- B) Uzun boylu otlardan oluşan bitki örtüsünün görüldüğü yerlerde yapılır.
- C) Türkiye'de yazların kurak geçmesinden olumsuz etkilenir.
- D) Genel olarak sığır besleyiciliği yapılmaktadır.
- E) Et ve süt verimi iklime bağımlıdır.

39.

	Maden	Çıkarıldığı Yer	İşlendiği Yer
I.	Krom	Guleman	→ Elazığ Ferro-Krom Fb.
II.	Boksit	Seydişehir	→ Seydişehir Alüminyum Fb.
III.	Bakır	Murgul	→ Samsun Bakır İşleme Tesisi
IV.	Barit	Alanya - Gazipaşa	→ Antalya Barit unu Fb.
V.	Çinko-Kurşun	Keban	→ Elazığ Kurşun İşletmesi

Yukarıdaki bazı madenlerin çıkarıldığı yerler ve işlendiği yerler eşleştirilmiştir. Bu eşleştirmelerden hangisi doğru değildir?

- A) I B) II C) III D) IV E) V

40.

	Taş kömürü	Linyit	Petrol
1995	3.380	56.030	3.515
1996	3.581	57.532	3.499
1997	3.645	56.461	3.363
1998	3.350	61.197	3.223
1999	3.047	64.200	2.899

Yukarıdaki tabloda Türkiye'deki beş yılda üç farklı enerji kaynağının üretim miktarları (bin ton) verilmiştir.

Buna göre;

- I. Üretim miktarı en fazla olan enerji kaynağı linyittir.
- II. Taş kömüründe üretim düzenli bir şekilde yıldan yıla artmaktadır.
- III. Üretimde dalgalanmaların olmadığı kaynak linyittir.

yargılarından hangilerine ulaşamaz?

- A) Yalnız I B) Yalnız II C) Yalnız III
D) I ve III E) II ve III

41. Türkiye'nin demir yolu ulaşımı ile ilgili olarak;

- I. Yunanistan, Gürcistan, Irak ülkeleri hariç tüm sınır komşularımıza doğrudan demir yolu bağlantısı vardır.
- II. Doğu'da özellikle akarsu vadilerini, çöküntü ovalarını takip ederler.
- III. Doğu Karadeniz ve Hakkari Bölümü dışında tüm bölümlere demir yolu ulaşımı vardır.

yargılarından hangileri söylenbilir?

- A) Yalnız I B) Yalnız II C) I ve II
D) II ve III E) I, II ve III

42.

- I. Hattuşaş (Boğazköy), Hitit başkenti (Çorum)
- II. Divriği Ulu Camisi ve Darüşşifası (Sivas)
- III. Edirne Selimiye Camii ve Küllüyesi (Edirne)
- IV. Sümela Manastırı (Trabzon)

Yukarıdaki kültürel varlıklarından hangileri UNESCO Dünya Miras Listesi'nde yer almaktadır?

- A) I ve III B) III ve IV C) II, III ve IV
D) I, II ve III E) I, II ve IV

43. Türkiye'de yerleşme ile ilgili verilen bilgilerden hangisi doğru değildir?

- A) Karadeniz Bölgesi'nde kırsal alanlarda toplu yerleşmeler görülür.
- B) Toplu yerleşmeler Türkiye'de oldukça yaygındır.
- C) İklim koşulları ve ekonomik özellikler kırsal alanlardaki yerleşmelerin konut malzemelerinde belirleyici unsurdur.
- D) İklim ve yerşekilleri yerleşmenin sıklığı üzerinde belirleyici temel doğal unsurlardır.
- E) Mahalle, divan, çiftlik gibi köy altı yerleşmeleri kalıcı köy altı yerleşmeleridir.

44. Türkiye'de nüfus artışı ile ilgili bilgilerden hangisi doğru değildir?

- A) 1940 - 45 yılları arası nüfus artış oranı erkek nüfusun savaş nedeniyle silah altına alınması etkisiyle düşüktür.
- B) Nüfus artış hızı sürekli azalma dönemindedir. Bu durumun oluşmasında doğum oranlarının azalması önemli bir nedendir.
- C) Nüfus yoğunluğu her geçen yıl artmaktadır.
- D) Nüfusun en fazla olduğu yıl 1960'tır. Bu durumun oluşmasında ekonomik iyileşmenin olması büyük bir etkendir.
- E) 1927'den 1980'lere kadar nüfus artış hızı dalgalanmalar gösterir.

45. Güneydoğu Anadolu Bölgesi'nde nüfus yoğunluğunun fazla olması;

- I. Doğum oranının fazla olması,
- II. Yüzlüçümün küçük olması,
- III. GAP ile sanayi ham maddesi üretimin artması

durumlarından hangilerine doğrudan bağlanabilir?

- A) Yalnız I
- B) Yalnız II
- C) Yalnız III
- D) I ve III
- E) I, II ve III

46. Aşağıdakilerden hangisi, maddi yaptırımli sosyal düzen kuralıdır?

- A) Hukuk kuralları
- B) Ahlak kuralları
- C) Örf ve âdet kuralları
- D) Din kuralları
- E) Etik kurallar

47. Sahibine en geniş yetkileri sağlayan ve hak sahibi tarafından herkese karşı ileri sürülebilien haklara ne ad verilir?

- A) İrtifak hakkı
- B) Sınırlı aynı haklar
- C) Mutlak haklar
- D) Rehin hakları
- E) Nisbi haklar

48. Davalının, bir şeyi vermeye veya yapmaya yahut yapmamaya mahkûm edilmesini talep etmek amacıyla açılan davaya ne ad verilir?

- A) Belirsiz alacak davası
- B) Eda davası
- C) Tespit davası
- D) İnşai dava
- E) Topluluk davası

49. TBMM'nin iç yapısı ve çalışma düzenini sağlayan hukuk kuralı aşağıdakilerden hangisidir?

- A) Anayasa
- B) Kanun
- C) Kanun hükmünde kararname
- D) TBMM içtüzüğü
- E) Yönetmelik

50. Parlamentonun hükümet üzerindeki denetiminin gerçekleştirilmesini sağlayan hukuki araçlara, denetim yolları veya denetim araçları denilir

Aşağıdakilerden hangisi, TBMM'nin denetim yolları arasında yer almaz?

- A) Soru
- B) Gensoru
- C) Güvenoyu
- D) Meclis soruşturması
- E) Meclis araştırması

51. Aşağıdakilerden hangisi Cumhurbaşkanının yasa ile ilgili görevleri arasında yer almaz?

- A) Anayasa değişikliklerine ilişkin kanunları gerekli gördüğü takdirde halkoyuna sunmak
- B) Türkiye Büyük Millet Meclisi'ni gerektiğinde toplantıya çağırarak
- C) Kanunları yayımlamak
- D) Türkiye Büyük Millet Meclisi seçimlerinin yenilenmesine karar vermek
- E) Başbakanı atamak ve istifasını kabul etmek

52. Aşağıdakilerden hangisi, kamu hizmeti ilkeleri arasında değildir?

- A) Devamlılık ilkesi
- B) Uyum ilkesi
- C) Eşitlik ilkesi
- D) Ücretlilik ilkesi
- E) Tarafsızlık ilkesi

53.

- I. Cumhurbaşkanlığı kararnamesi
- II. Tüzük
- III. Kanun
- IV. Yargıtayın içtihatı birleştirme kararları

Yukarıdakilerden hangisi yürütmenin düzenleyici işlemleri arasında yer alır?

- A) Yalnız I
- B) Yalnız II
- C) I ve II
- D) I, II ve III
- E) I, II, III ve IV

54. Aşağıdakilerden hangisi, merkezi idarenin başkent teşkilatında yer almaz?

- A) Ankara Büyükşehir Belediyesi
- B) Cumhurbaşkanı
- C) Başbakan
- D) Bakanlar kurulu
- E) Danıştay

55. Dünya Botanik Exposu 2016 yılında hangi şehrimizde gerçekleşecektir?

- A) İstanbul
- B) Trabzon
- C) Eskişehir
- D) İzmir
- E) Antalya

58. 2014 - 2018 yılları Türkiye'de kaçınıcı kalkınma planı olacaktır?

- A) 5
- B) 6
- C) 7
- D) 9
- E) 10

56. 2014 yılı ülkemizde, hangi ülkenin yılı olarak ilan edilecektir?

- A) Macaristan
- B) İran
- C) ABD
- D) Çin
- E) Suriye

59. 2016 Yaz Olimpiyatları hangi ülkede yapılacaktır?

- A) Rio de Janeiro
- B) Madrid
- C) Şikago
- D) Tokyo
- E) Prag

57. Aşağıdaki ülkelerden hangisi, Karadeniz İpek Otoyol Projesi'ne imza atan devletler arasında yer almaz?

- A) Ukrayna
- B) Gürcistan
- C) Bulgaristan
- D) Macaristan
- E) Türkiye

60. Aşağıdaki kişilerden hangisi Sermaye Piyasası Kurulu (SPK) başkanıdır?

- A) Mükim Öztekin
- B) Gökhan Çetinsayar
- C) Vahdettin Ertaş
- D) Mustafa Birden
- E) Durmuş Yılmaz