




**Deneme  
Sınavı**

**Ortaöğretim  
Önlisans**



**Türkiye  
Geneli**

**Genel Yetenek  
Genel Kültür**

**01**

**uzmankariyer**  
İyi bir kariyer, uzmanlık ister...

**(Yorum gücünü artırıcı)  
doping**



## KAMU PERSONEL SEÇME SINAVI (KPSS)

### ORTAÖĞRETİM – ÖN LİSANS DÜZEYİ

### TÜRKİYE GENELİ DENEME SINAVI - 1

### Genel Yetenek - Genel Kültür Testi

#### DİKKAT!

**SINAVA BAŞLAMADAN ÖNCE AŞAĞIDAKİ UYARILARI MUTLAKA OKUYUNUZ.**

1. Adınızı, soyadınızı ve sınav salon numaranızı ön tarafta belirtilen yere yazınız.
2. Branşınızı optik formda bulunan kodlar arasından bulup ilgili alana kodlayınız.
3. Genel Yetenek - Genel Kültür Testi için verilen **toplam** cevaplama süresi **120** dakikadır (**2 saat**).
4. Bu testte toplam **120 soru** vardır.
5. Cevaplamaya istediğiniz testten ve sorudan başlayabilirsiniz. Her soru ile ilgili cevabınızı, cevap kâğıdında o soru için ayrılmış olan yere işaretlemeyi unutmayınız.
6. Test puanlanırken her testteki doğru cevaplarınızın sayısından yanlış cevaplarınızın sayısının dörtte biri düşülecek ve kalan sayı o testle ilgili ham puanınız olacaktır. Bu nedenle hakkında hiçbir fikrinizin olmadığı soruları boş bırakınız. Ancak, soruda verilen seçeneklerden birkaçını eleyebiliyorsanız kalanlar arasından doğru cevabı kestirmeye çalışmanız yararınıza olabilir.

*Bu testlerin her hakkı saklıdır. Hangi amaçla olursa olsun, testlerin tamamının veya bir kısmının kurumumuzun yazılı izni olmadan kopya edilmesi, fotoğrafının çekilmesi, herhangi bir yolla çoğaltılması, yayımlanması ya da kullanılması yasaktır. Bu yasağa uymayanlar gerekli cezai sorumluluğu ve testlerin hazırlanmasındaki mali külfeti peşinen kabullenmiş sayılır.*

## Türkiye Genel Deneme Sınavı - 1

1. (I) Daha zor zamanlar yaşamıştık. (II) Yine de yılmak lügatimizde olmayan bir sözcüktü. (III) Çünkü biz yaptığımız işe gönül vermiştik. (IV) Deyim yerindeyse başarmak için tek yürek, tek bilek olmuştuk. (V) Bizi başarıya götüren yol, işte bu inancın ve bağlılığın yolu olmuştu.

**Bu parçada numaralanmış cümlelerin hangisinde karşılaştırma yapılmıştır?**

- A) I B) II C) III D) IV E) V

2. (I) İstanbul, kaç yüzyıllık saltanatın bulutlar üstünde uçan ulu mekânı. (II) Heybetli sarayları, semaya uzanan camileri ve ince bir kalp sızısı gibi süzülerek akan Boğaziçi... (III) Milyonlarca insanın yüreğinde bir büyümlü muamma. (IV) Şairlere ilham, genç gönüllere aşk müjdeleyen bir sihir diyarı. (V) Yahya Kemal'in "Ankara'yı İstanbul'a dönüşlerinde seviyorum." diye tarif ettiği şehir.

**Bu parçada numaralanmış cümlelerin hangisinde yazar anlatımına yorum katmamıştır?**

- A) I B) II C) III D) IV E) V

3. Yaşamdaki kapalı kapıları açabilecek tek anahtar, yaşamla ilgili soru işaretleridir.

**Bu cümlede asıl anlatılmak istenen aşağıdakilerin hangisidir?**

- A) Yaşamın insanın çözemeyeceği nice bilinmezlikle dolu olduğu  
B) İnsanın yaşamdaki engelleri sorular sorup cevaplar üreterek aşabileceği  
C) Çok fazla soru soran insanların hayatta hep engellerle karşılaştığı  
D) Karşılaşılan soruların insanları yaşamla ilgili sorular sormaya yönelttiği  
E) Yaşamda mutlu olmak için yaşamla ilgili çok fazla soru sormamak gerektiği

4. (I) Dünya üzerinde bildiğimiz beş büyük toplu yok oluş var. (II) Bunlardan en bilineni Üst Kretase -65 milyon yıl önce - Dönemi'nde, dünyadaki yaşamın neredeyse tamamen yok olmasına neden olan büyük bir göktaş çarpması. (III) Bu çarpma ile dünya üzerinde yaklaşık 150 milyon yıl tek egemen tür olan dinazorlar yok oldu. (IV) Peki dünya yok mu oldu, hayır. (V) Dinazorlar yüzünden yer altında yaşayan memeliler bu çarpışmadan fazla etkilenemeyerek çarpışma sonrasındaki yaşam koşullarına uyum sağlamayı başardılar.

**Bu parçada numaralanmış cümlelerle ilgili olarak aşağıdakilerden hangisi söylenemez?**

- A) I. cümlede nesnel bir anlatım vardır.  
B) II. cümlede karşılaştırma yapılmıştır.  
C) III. cümlede koşul anlamı vardır.  
D) IV. cümlede sohbet üslubu vardır.  
E) V. cümlede neden - sonuç ilişkisi vardır.

5. (I) Bodrum'u seviyorum, içini değil de etrafını. (II) Daha insani geliyor. (III) Bizim doğup büyüdüğümüz dünyada -50'lerin, 60'ların dünyasında- insanlar ne yaparlardı? (IV) Kaleiçi'ne indiğinizde o küçük dükkânlarda alışveriş yapardınız. (V) Sakin bir hayat vardı.

**Bu parçada numaralanmış cümlelerle ilgili aşağıdaki yargılardan hangisi yanlıştır?**

- A) I. cümlede kişisel bir yargı ortaya konmuştur.  
B) II. cümlede I. cümleye ilişkin bir gerekçe açıklanmıştır.  
C) III. cümlede olumsuz eleştiri dile getirilmiştir.  
D) IV. cümlede koşul - sonuç ilişkisi vardır.  
E) V. cümlede önceki cümleleri ilgilendiren bir yorum yapılmıştır.

6. Tarih ne çok gizemle doludur. Gizem diyince de

I

Mısır'daki kalıntılar baş sırada yer alır elbette.

II

III

Çünkü bu uygarlıkla ilgili olarak hâlâ çözülememiş

IV

V

nice bilinmez vardır.

**Bu parçada numaralanmış yerlerin hangisinde yazım yanlışı yapılmıştır?**

- A) I B) II C) III D) IV E) V



7. İstanbul - Ankara arasındaki Bolu Dağı'nda kış aylarında gerçekleşen yoğun kar yağışı, birçok trafik kazasının gerçekleşmesine sebep oluyor. bu durum bu geçidin önemini hiçbir şekilde değiştirmiyor.

**Bu parçada numaralanmış yerlerin hangisindeki noktalama işareti yanlış kullanılmıştır?**

- A) I B) II C) III D) IV E) V

8. Şu deniz aşırı davul sesleri

Yine kim bilir neyi kutluyorlar

Batmış olmalı ki bu bahtsız şehri

Her sabah yeniden kurtarıyorlar

**Bu dörtlükte numaralanmış sözlerden hangisi bir ad tamlamasıdır?**

- A) I B) II C) III D) IV E) V

9. İlerleme yolunda daha hızlı adımlar atmamızı sağlayacak birçok ihtiyaç lazım toplumumuzda.

**Bu cümledeki anlatım bozukluğu aşağıdaki değişikliklerin hangisiyle giderilebilir?**

- A) "ilerleme" sözcüğü yerine "uygarlaşma" sözcüğü kullanılarak  
B) "daha" sözcüğü cümleden çıkarılarak  
C) "birçok" sözcüğü cümleden çıkarılarak  
D) "ihtiyaç lazım" sözü yerine "şeye ihtiyaç var" sözü kullanılarak  
E) "toplumumuzda" sözcüğü "toplumumuza" şeklinde kullanılarak

10. (I) Bir yazı daha geçti ömrümüzün. (II) Ve galiba ömrümüzün en güzel yazı değildi bu. (III) Kumsalda kumdan yaptığımız kaleler denize karıştı birer birer. (IV) Yaz böylece bitti işte. (V) Yeni bin yıl, bu yaz savaş naraları arasında kaybolup gitti. (VI) Kış, bu yüzden barış ümidini yaratmak için mücadele etmekle geçecek yazık ki.

**Bu parça iki paragrafa ayrılmak istenirse ikinci paragraf kaç numaralı cümleyle başlar?**

- A) II B) III C) IV D) V E) VI

11. (I) Şiir renktir, seste renk. (II) Şair sözcüklerin sesini renkli olarak duyar. (III) Birçok şair, resim sanatını pek de önemsememiştir. (IV) Sadece sözcükler değil, harfler bile renklidir. (V) Söz gelişi "elif" siyah, "be" beyaz, "cim" kırmızıdır.

**Bu parçada numaralanmış cümlelerden hangisi anlatımın akışını bozmaktadır?**

- A) I B) II C) III D) IV E) V

12. İş, bazı insanlar için kendinden bir kaçıştır hatta sığınılacak yerdir. Hayat başarısı, iş başarısından daha zordur. Dolayısıyla işe ayrılan süre kadar süreyi kendinize, eve, sokaklara, eşe, sevgiliye, dostlara, çocuklara, ülke sorunlarına ayırmazsanız bir gün, günlük hayat sizi yutuverir. Tükenmişlik sendromu diyebiliriz buna.

**Bu parçada yazarın asıl vurguladığı aşağıdaki-lerden hangisidir?**

- A) İş hayatının insanın genel yaşam şeklini çok etkilediği  
B) Hayatı işten ibaret görmeyip bir bütün olarak yaşamının önemli olduğu  
C) Eşine ve çocuklarına yeterli zamanı ayıranların işte de başarılı olduğu  
D) İş hayatına çok fazla odaklanmanın aile hayatına zarar verdiği  
E) İş dünyasının ülke sorunlarına yeteri kadar ilgi göstermediği

## Türkiye Genel Deneme Sınavı - 1

13. Değer yargılarınız, doğrularınız ve yanlışlarınız yoksa başka insanların derterleri, tasaları sizi hiç ilgilendirmiyorsa, siz sadece kendi dalganıza bakıyorsanız, bir gün o dalga sizi yutar. Hep haz peşinde koşarsanız bir gün tüketmediğiniz haz kalmaz. Tatmin olmak, çok zor hâle gelince mutsuzluk başlar.

**Bu parçada yazarın asıl eleştirdiği aşağıdakilerden hangisidir?**

- A) Diğer insanları hiç umursamadan bencilce bir hayatın sürülmesi
- B) Gündelik hayatta birtakım kurallara uymaktan kaçınılması
- C) Hayatla ve insanlarla ilgili ciddi konuların alaya alınması
- D) Mutsuzluğu aşmak için her türlü yolu deneyerek tatmin olmaya çalışılması
- E) Tüketim alışkanlıklarının her geçen gün daha da karmaşıklaşması

14. Bu yüzyılda aşk bedensel çekimden öte bir şey değildi. Herkes için geçerli mi bu? Herkes için geçerli olması mümkün değil. Ancak aşkların bir ömrü olduğu ve bir gün mutlaka bittiği bir gerçek. Tabii çoğu insan da bedensel çekimi aşkla karıştırıyor. Aşkta sadece ten uyumu olmaz ki! Sadece fiziksel çekime bağlı birliktelikler çok kısa sürüyor.

**Bu parçada yazarın asıl anlatmak istediği aşağıdakilerin hangisidir?**

- A) Sonlu bir yaşantı olan aşkın kaba bir cinsellikle karıştırılmaması gerektiği
- B) Her çağın toplum yapısının aşka farklı anlamlar yüklenmesine yol açtığı
- C) Aşkta kişiler arası düşünce ve duygu uyumunun aşkın ömrünü artırdığı
- D) Herkes için geçerli ve kabul gören bir aşk tanımını yapmanın imkânsız olduğu
- E) Aşkın insanı psikolojik olarak rahatlatan önemli bir gerçek olduğu

15. Belirli bir ahlak anlayışının dayatılmasına her zaman karşı çıkarım. Herkes istediği tarzda yaşar. Bize uymayan ahlak anlayışı mutlaka kötü değildir. Bu kitapta benim kendimi en yakın görebileceğim karakter Ahmet ağabey ve eşi olabilir. Ama benim kime yakın kime uzak durduğumun hiç önemi yok. Önemli olan karakterlerin hepsini anlayabilmemdir. Anlamak da, onaylamak manasına gelmez.

**Bu parçada yazarın asıl karşı olduğu aşağıdakilerin hangisidir?**

- A) Romanlarda genelde ahlaki karmaşalar yaşayan tiplerin konu edilmesi
- B) Yazarların nesnel davranmak adına eserlerindeki kişileri duygusuzca ele alması
- C) Edebî eserlerde yazarların birbirinden çok farklı ahlaki normları incelemesi
- D) Toplumda onay görmeyen davranışların edebiyatta hep öne çıkarılması
- E) Yazarların katı bir ahlakçılıkla roman kahramanlarını yargılaması

**16. VE 17. SORULARI AŞAĞIDAKİ BİLGİLERE GÖRE YANITLAYINIZ.**

Gerçekten nasıl yaşamak istediğinizi sorgulayıp size öğretilen doğrultuda bir hayat kurarsanız bir gün gelir ve "Ben bu hayatı mı yaşamak istiyorum?" diye sorarsınız. Cevabınız "Hayır!" ise ve bu soruyu sorduğunuzda yaşınız da otuz beşi geçmişse işiniz zorlaşır. Çünkü o güne kadar kurduklarınızı yıkip yenilerini inşa etmek çok meşakkatlidir. Hem siz yıpranırsınız hem de çevrenizdekileri çok üzersiniz. Ama bir kere soru sorarsanız ardı sıra birçok soru sorarsınız ve arayışınız başlar. Mutluluğu yakalamak veya yakalayamamak sizin ne aradığınızı doğru tespit edip edemediğinize bağlıdır.

**16. Bu parçada görüşlerini açıklayan kişinin hayatla ilgili olarak asıl önemseddiği aşağıdakilerden hangisidir?**

- A) Hayatı şekillendirirken deneyimli insanların uyarılarını dikkate almak
- B) Yeni yaşantılar elde etmeye çalışırken eski yaşamını da korumak
- C) Hayatla ilgili dayatmaları aşip kişisel bir tutum ve kararlılık sergilemek
- D) Kişisel bir yaşam süreyim derken çevredeki başka insanları üzmemek
- E) Yaşamla ilgili düzeni bozan soru işaretlerinden uzak durmak

17. Bu parçada aşağıdakilerden hangisine **değini-  
memiştir**?

- A) İnsanların öğretilen doğrultuda bir hayatı tercih edebildiğine
- B) Neyi aradığını bilmenin, mutluluğa ulaşmanın temel koşulu olduğuna
- C) İnsanın kendi yaşamını zamanla benimseyip sevdiğine
- D) Belli bir yaştan sonra hayatı değiştirmenin zor olduğuna
- E) Kişinin kendine sorduğu bir sorunun, pek çok soruyu beraberinde getirdiğine

18. Bir yazarla aynı semtte oturmak... Üstelik hem sevdiğiniz hem "benim yazarım" dediğiniz bir yazarla... Selim İleri'yle aynı semtte oturuyoruz yıllardır. Anahtarla kapımı açarken onun birkaç sokak ötedeki evinde olduğunu, daktilosunun başında yeni romanını yazdığını ya da çoktan uyuduğunu düşünmek, rüyalarında neler gördüğünü tahmin etmek... Oturduğu caddeden geçerken ışığını açık görmek... Aynı yokuşu tırmanmak... Yokuşun bazen sonunda bazen başında olmak... Onun ve dolayısıyla benim çok sevdiğimiz İstanbul'un bir semtinde yaşayıp gidiyoruz.

**Bu parçadan, düşüncelerini aktaran kişiyle ilgili olarak aşağıdakilerin hangisine varılamaz?**

- A) Komşularıyla ilgili olarak birtakım olumlu düşüncelere sahip olduğuna
- B) Yaşadığı semtte oldukça uzun bir süredir bulunduğu
- C) İstanbul'la ilgili duygu ve düşüncelerinde Selim İleri'nin etkisi olduğuna
- D) Oturduğu semtte Selim İleri'den başka yazarların da yaşadığına
- E) Komşusu olan Selim İleri'nin gündelik yaşamıyla ilgili gözlemler yaptığına

19. Aile ve evlilik çok güzel olabilir ya da olmayabilir. Bu sizin nasıl bir aile kurduğunuza, nasıl bir evlilik sürdürdüğünüze bağlı. Gerçekten sizin için uygun sevgili veya eşiniz varsa evliliğiniz şahane olabilir. Benim seçtiğim karakterler evlenmeden önce nasıl bir eş istediklerine doğru düzgün kafa yormamışlar ve kendilerini de doğru düzgün tanımıyorlar zaten. Önerine çıkan bayırda yuvarlanmışlar ve bir gün durup hem kendilerine hem evliliklerine bakıyorlar. **Bu parçada aşağıdakilerden hangisine değini-  
memiştir?**

- A) Eşler arasındaki uyumun aile hayatına bir güzellik katabileceğine
- B) Her evliliğin zaman içerisinde çiftleri bunaltan bir hâl aldığına
- C) Yazarın seçtiği kahramanların evlilik ve aile konusunda sıkıntılar yaşadıklarına
- D) Aile ve evlilik kurumlarının mutluluk konusunda çeşitli olasılıklar taşıdığına
- E) Kendi kişiliğinin farkında olmamanın evlilikte soru işaretleri yaratabildiğine

20. Apartman hayatı belki bir zorunluluktadır. Hele bu kadar büyüyen bir kentte... Apartman hayatından mı bitti insan ilişkileri arasındaki değerler? Onu tam bilemiyorum. Ben çok garip bir şekilde, insan ilişkilerini kötüleştiren, hırçınlaştıran şeylerin temelinde hep ekonomik sebepler görüyorum. Ekonomisi daha müreffeh bir toplum olsaydı ne İstanbul'da ne Türkiye'de bunca korkunç yıkımlar olurdu.

**Bu parçadan aşağıdakilerin hangisi çıkarılamaz?**

- A) Kent yaşamında insanların hiçbir sosyal ilişki kuramadığı
- B) Ekonomik sorunların ülke çapında başka sorunlara sebep olduğu
- C) Apartman tipi yerleşmenin kaçınılmaz bir olgu olduğu
- D) İstanbul'un bir kent olarak birçok soruna sahip olduğu
- E) Sosyal ilişkilerde değerler boyutunun eskisi gibi olmadığı

## Türkiye Genel Deneme Sınavı - 1

21. İstanbul'un silueti konusu çok ciddi bir mesele. Belki de şimdiki kadar İstanbul etrafındaki en ürkütücü yapılaşma yaşanıyor. 19. yüzyılın bütün seyyahlarının özellikle üzerinde durdukları, yabancıları ve biz İstanbulluları da büyülemiş olan İstanbul'un silueti... O siluet dediğiniz nedir? Üç dört tane tarihî cami, anıt, tapınak, Ayasofya'dır. Onların arkasından gökdelenlerin görünmesi kadar akıllara durgunluk verici bir şey düşünmek mümkün değil.

**Bu parçada aşağıdaki sorulardan hangisinin yanıtı yoktur?**

- A) İstanbul'un ünlü siluetini hangi tür yapılar oluşturmaktadır?
- B) İstanbul'a uğramış gezginlerin en çok üzerinde durdukları şey nedir?
- C) İstanbul'daki gökdelenleşme gerçeği hangi nedenlere dayanmaktadır?
- D) İstanbullular açısından İstanbul'un silueti nasıl bir anlama sahiptir?
- E) Gökdelenlerin sayısının artmasının İstanbul'un görüntüsüne etkisi sizce nasıldır?

22. Siyasetin estetiğinden söz edilirse düpedüz saçma olur. Toplumsal hayatın kaçınılmaz bir türevi olarak insanları ahtapot gibi saran siyaset, kirinden pasından kurtulunması olanaksız bulaşıcı bir hastalık gibi çökmüştür insanın üstüne. Onunla yaşamının zorluğu başka hiçbir şeyle karşılaştırılmaz. Nedeni siyasetin kendini iktidarla özdeşleşmesidir.

**Bu parçanın yazarı için aşağıdakilerden hangisi söylenemez?**

- A) Siyasetin insan ve toplum hayatında belirleyici olduğunu savunmaktadır.
- B) Siyasetin güzellik kavramından uzak olduğunu düşünmektedir.
- C) İktidar kavramıyla ilişkisinin siyaseti, kötü kıldığını savunmaktadır.
- D) Sanatın siyasetten daha üstün olduğunu düşünmektedir.
- E) Toplum olarak yaşamının siyaset kurumunu doğurduğuna inanmaktadır.

23. Polatlı - Sivrihisar yolu, Türkiye Cumhuriyeti'nin bilgisayar destekli ilk modernizasyon uygulamasıydı. Bugün kara yolunda seyredenlerin, yolun 50 yıl önceki gizli mimarının,---- bilmeleri pek mümkün değil! Polatlı - Sivrihisar yolu, bugün "bilgisayarıcı" ya da "bilişimci" olarak adlandırdığımız meslek erbabının, Türkiye'deki ilk alaylı üyelerinin, güzergâh tespiti ve yarma/dolma hesaplarını yaptığı ilk kara yolu. Onlar bu yol için dönemin fen işleri ekipleri, greyderci, kazma/kürekçi gibi işçileriyle birlikte çalışmış, zaman zaman da aynı çadırda beraber yatmışlardı.

**Bu parçada boş bırakılmış yere düşüncenin akışına göre aşağıdakilerin hangisi getirilebilir?**

- A) yurt dışında çok iyi eğitim almış olduklarını ve işlerini ciddiye aldıklarını
- B) eskiden üç ayda yapılabilen bir yol hesabını bir saate indiren IBM 650 bilgisayarı olduğunu
- C) çok farklı ilgi alanlarına ve renkli bir kişiliğe sahip olduğunu
- D) birtakım teknolojik yoksunlukların gölgesinde bu işi başardığını
- E) bu yolu çok kısa sürede bitirdiğini ve yeni projeler de yaptığını

24. Yaşam ne denli, ne yönde, ne hızda değişip dönüşüyorsa eylemler de uğraşlar da benzer biçimde değişip dönüşmekte. Bu bakımdan, "okuma uğraşı", okuma teknolojilerinin doğurduğu yeni okuma biçimleri ya da alışkanlıkları, okuduğumuzu anlama süreçlerinde tuttuğumuz yollar, yöntemler sürekli değişen koşullara göre hızla yenilenmekte. Günümüz okurunun sabırsız, hemenci ve stresli olduğu söylenmekte. Neden? Salt yaşam koşullarının dayattığı bir durum mu bu? Öyle görünüyor. ----

**Bu parçanın sonuna düşüncenin akışına göre aşağıdakilerden hangisi getirilebilir?**

- A) Her çağın kendine göre sorunları olmuştur.
- B) İnsanlar yine de okumayı en değerli işlerden sayıyorlar.
- C) Doğaya aykırı bir hıza ve tüketime dayalı bir dünya.
- D) Daha detaylı okuyan ve araştıran bir okur kitlesi eskiden de vardı.
- E) Öğretmenler, öğrencilere kitap okuma konusunda örnek olurdu.

25.

- I. Bizim ülkemiz - kırık kabuk parçalarının itişip kaktığı bir bölge gibi - önemli bir deprem kuşağı üzerinde.
- II. Çevremizdeki denizlerin altı da faylarla dolu.
- III. Ama tehlikenin ille de denizdeki dalgalardan gelmesi gerekmiyor.
- IV. Belki bu fayların yarattığı dalgalar okyanuslardaki tsunamilerinki kadar büyük olmayacak.
- V. Topraklarımızın altındaki kırıklar da yeterince sabıkalı.

**Yukarıdaki numaralanmış cümlelerin anlamlı bir bütün oluşturabilmesi için hangileri yer değiştirilmelidir?**

- A) I. ile II.                      B) II. ile III.                      C) II. ile IV.  
D) III. ile IV.                      E) IV. ile V.

26. Jüpiter'in Güneş sisteminin daha dış bölgelerinde oluşup bugünkü yörüngesine sonradan göç ettiği, ilk kez 1984 yılında Julio Fernandez ve Wing - Huen Ip tarafından ortaya atılmıştı.

**Bu cümleden aşağıdakilerin hangisine kesin olarak ulaşılabılır?**

- A) Jüpiter, Güneş sisteminin dışında oluşmuştur.
- B) 1984'te bilimsel bir gerçek ortaya çıkarılmıştır.
- C) Jüpiter'in Güneş sisteminde oluşmadığı daha sonra da iddia edilmiştir.
- D) Julio Fernandez, dünyaca tanınan bir bilim insanıdır.
- E) Jüpiter'le ilgili çalışmalar Astrofizik Merkezinde yapılmıştır.

27.

- I. dolmuş kraterler olduğunu düşünüyorlar
  - II. araştırmacılar, önceden hidrokarbon denizi
  - III. gerçekleşen meteorit çarpmaları sonucu
  - IV. sanılan karanlık alanların, eskiden
  - V. meydana gelmiş ve sonradan içleri
- Yukarıdaki sözler anlamlı ve kurallı bir cümle oluşturacak biçimde sıralandığında hangisi baştan ikinci olur?**

- A) IV.    B) I.    C) II.    D) V    E) III.

**28 - 30. SORULARI AŞAĞIDAKİ BİLGİLERE GÖRE BİRBİRİNDEN BAĞIMSIZ OLARAK YANITLAYINIZ.**

Ali, Burcu, Ceyda, Deniz, Elif, Fatma, Gonca ve Hasan sekiz kişilik bir sınıfın öğrencileridir. Öğretmenleri bir şiir yarışması yapmak amacıyla bu öğrencileri dörder kişilik 2 gruba ayırmıştır. Bununla ilgili aşağıdaki bilgiler verilmiştir:

- Deniz 1. gruptadır.
- Burcu ve Ceyda aynı gruptadır.
- Gonca ve Fatma aynı gruptadır.
- Ali ve Hasan farklı gruptadır.

**28. Aşağıdakilerden hangisinin hangi grupta olduğu kesin olarak bilinmektedir?**

- A) Ali                      B) Burcu                      C) Elif  
D) Gonca                      E) Hasan

**29. Aşağıdakilerden hangisi 2. gruptakilerin listesi olabilir?**

- A) Ali, Elif, Fatma, Hasan
- B) Ali, Burcu, Ceyda, Elif
- C) Ali, Burcu, Elif, Gonca
- D) Burcu, Ceyda, Ali, Fatma
- E) Fatma, Ceyda, Gonca, Hasan

**30. Ceyda'nın 1. grupta olduğu durumda aşağıdakilerden hangisi kesinlikle yanlıştır?**

- A) Gonca 2. gruptadır.
- B) Ali 2. gruptadır.
- C) Ali ve Burcu aynı gruptadır.
- D) Hasan ve Gonca aynı gruptadır.
- E) Fatma ve Elif farklı gruptadır.

31.  $4 - \frac{1}{2} : \left( \frac{1}{2} - \frac{1}{3} \right)$

işleminin sonucu kaçtır?

- A)
- $\frac{5}{6}$
- B) 1 C)
- $\frac{7}{6}$
- D) 7 E) 21

32. Biri tek, diğeri çift sayı olmak üzere, rakamları farklı, iki basamaklı iki doğal sayının farkı en çok kaç olabilir?

- A) 85 B) 86 C) 87 D) 88 E) 89

33. Beş basamaklı, rakamları farklı 2A30B sayısı 15 ile tam bölünebilmektedir.

Buna göre, A'nın alabileceği kaç farklı değer vardır?

- A) 1 B) 2 C) 3 D) 4 E) 5

34.  $\frac{3^{12} + 3^{14} + 3^{16}}{3^9 + 3^{11} + 3^{13}}$

işleminin sonucu kaçtır?

- A) 3 B) 6 C) 9 D) 18 E) 27

35.  $\left[ \left( -\frac{1}{8} \right)^4 \right]^{\frac{1}{6}}$

sayısı aşağıdakilerden hangisine eşittir?

- A)
- $-2^2$
- B)
- $-2^{-2}$
- C)
- $2^{-3}$
- D)
- $2^{-2}$
- E)
- $2^{-4}$

36.  $\frac{\sqrt{0,36} + \sqrt{1,44}}{\sqrt{0,04} + \sqrt{0,49}}$

işleminin sonucu kaçtır?

- A)
- $\frac{1}{2}$
- B) 2 C) 3 D) 4 E) 6

37. x, y, z negatif reel sayılardır.

$$2x = \frac{3y}{4} = \frac{6z}{5}$$

olduğuna göre, x, y, z arasındaki sıralama aşağıdakilerden hangisidir?

- A)
- $x < y < z$
- B)
- $x < z < y$
- C)
- $y < z < x$
- 
- D)
- $y < x < z$
- E)
- $z < y < x$

38.  $x - \frac{x+4}{2} < 1 - \frac{x}{2}$

eşitsizliğini sağlayan en büyük x tam sayısı kaçtır?

- A) 2 B) 3 C) 4 D) 5 E) 6

39.  $\frac{3}{|2x-1|} > \frac{1}{3}$

eşitsizliğini sağlayan kaç farklı x tam sayısı vardır?

- A) 4 B) 5 C) 6 D) 7 E) 8

40.  $\frac{a.b}{a^2 + a.b} + \frac{a.b}{b^2 + a.b}$

ifadesinin sadeleşmiş biçimi aşağıdakilerden hangisidir?

- A) a B) b C) 1 D)
- $\frac{1}{a+b}$
- E)
- $\frac{a}{b}$



41.  $x - \sqrt{y} = 3$  ve  $x^2 - y = 21$  olduğuna göre,  $x + y$  toplamı kaçtır?

- A) 8 B) 9 C) 10 D) 12 E) 15

42.  $\frac{a - 2b}{3a + b} = \frac{1}{4}$  olduğuna göre,  $\frac{2a - 3b}{a - 4b}$  oranı kaçtır?

- A) 3 B) 4 C) 5 D) 6 E) 7

43. Yaş ortalaması 15 olan 10 kişilik bir gruptan 18 ve 20 yaşlarında iki kişi ayrılıyor. Buna göre, grupta kalan kişilerin yaş ortalaması kaçtır?

- A) 12 B) 12,5 C) 13 D) 13,5 E) 14

44. Hangi sayının dört eksiğinin dörtte biri, aynı sayının yarısının dört eksiğine eşittir?

- A) 8 B) 10 C) 12 D) 16 E) 20

45. Üçte biri su ile dolu olan bir kovaya, içindeki suyun üçte biri kadar su eklenince kovanın dolması için 20 litre su gerekmektedir.

Buna göre, bu kova tamamen su ile doldurulduğunda kaç litre su alabilir?

- A) 32 B) 36 C) 40 D) 45 E) 51

46. Özge ile Ahmet'in bugünkü yaşlarının toplamı 59'dur. Özge 4 yıl önce, Ahmet 3 yıl sonra doğmuş olsaydı ikisinin yaşları eşit olacaktı.

Buna göre, Özge bugün kaç yaşındadır?

- A) 22 B) 23 C) 25 D) 26 E) 28

47. Bir öğrenci, bir testteki soruların %60'ına cevap vermiştir.

Öğrenci, geriye kalan soruların yüzde kaçına cevap vermelidir ki testteki tüm soruların %70'ine cevap vermiş olsun?

- A) 12 B) 15 C) 20 D) 25 E) 30

48. Tuz oranı %20 olan bir tuz - su karışımına 20 gram su eklenince karışımın tuz oranı %15'e düşmektedir.

Buna göre, ilk durumda karışım kaç gramdır?

- A) 30 B) 35 C) 40 D) 45 E) 60

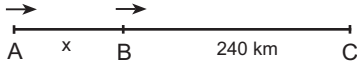
49. A işçisinin çalışma hızı, B işçisinin çalışma hızının 3 katına eşittir.

A ve B işçilerinin birlikte 18 saatte bitirebildiği bir işi, A işçisi tek başına kaç saatte bitirebilir?

- A) 24 B) 27 C) 30 D) 32 E) 36

## Türkiye Genel Deneme Sınavı - 1

50.



Bir yolun A ve B noktalarından aynı yöne doğru şekildeki gibi hareket eden iki aracın hızları oranı  $\frac{5}{3}$  tür.

$|BC| = 240$  km olmak üzere, araçlar aynı anda hareket ettikten belirli bir süre sonra C noktasında yan yana geldiklerine göre,  $|AB| = x$  kaç km'dir?

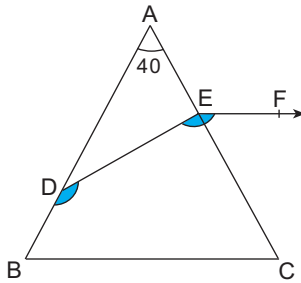
- A) 120 B) 140 C) 150 D) 160 E) 180

51. Hilesiz bir zar peş peşe iki kez atılıyor.

Gelen sonuçların toplamının 10 olma olasılığı kaçtır?

- A)  $\frac{1}{36}$  B)  $\frac{1}{12}$  C)  $\frac{5}{12}$  D)  $\frac{4}{9}$  E)  $\frac{5}{9}$

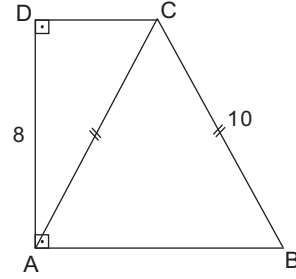
52.



ABC ikizkenar üçgen,  $|AB| = |AC|$ ,  $[BC] \parallel [EF]$ ,  $m(\widehat{BDE}) = m(\widehat{DEF})$ ,  $m(\widehat{BAC}) = 40^\circ$  olduğuna göre,  $m(\widehat{DEC})$  kaç derecedir?

- A) 60 B) 72 C) 75 D) 80 E) 85

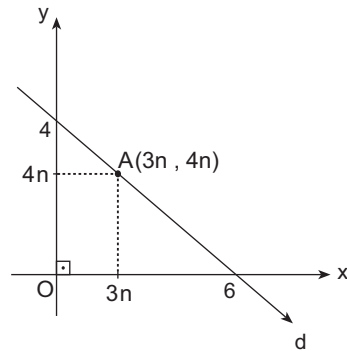
53.



Şekilde ABCD dik yamuk,  $|AC| = |BC| = 10$  br,  $|AD| = 8$  br olduğuna göre, Alan(ABCD) kaç br<sup>2</sup> dir?

- A) 48 B) 72 C) 84 D) 96 E) 144

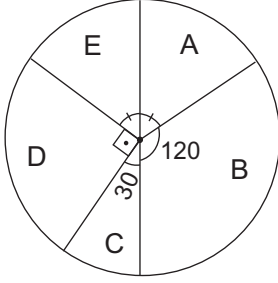
54.



Yukarıdaki dik koordinat sisteminde verilenlere göre, n kaçtır?

- A)  $\frac{1}{3}$  B)  $\frac{2}{3}$  C)  $\frac{3}{4}$  D)  $\frac{4}{5}$  E)  $\frac{5}{6}$

55 - 57. SORULARI AŞAĞIDA VERİLEN BİLGİLERE GÖRE YANITLAYINIZ.



Yukarıdaki daire grafiği, A,B,C,D,E gazetelerinin belirli bir günde, belirli bir bölgedeki satış sayılarını göstermektedir.

A ve E gazetelerine ait daire dilimlerinin merkez açıları birbirine eşittir.

A,B,C,D,E gazetelerinden toplam 4.800 adet satıldığı bilinmektedir.

55. Satılan gazetelerin kaç tanesi A gazetesidir?

- A) 600 B) 720 C) 750 D) 800 E) 900

56. En çok satılan gazete ile en az satılan gazetenin satış sayıları arasındaki fark kaçtır?

- A) 750 B) 800 C) 900 D) 1.000 E) 1.200

57. D gazetesinden hiç satılmasaydı diğer gazetelerin satış sayılarının dağılımını gösteren daire grafiğinde B gazetesine ait dilimin merkez açısı kaç derece olurdu?

- A) 128 B) 135 C) 144 D) 150 E) 160

58 - 60. SORULARI AŞAĞIDA VERİLEN BİLGİLERE GÖRE BİRBİRİNDEN BAĞIMSIZ OLARAK YANITLAYINIZ.

A, B ve C takımlarının katıldığı bir futbol turnuvasında her takım diğer takımlarla birer maç yapmıştır. Bu turnuvada galip gelen takıma 3, mağlup olan takıma 0 puan verilecektir. Beraberlik durumunda ise her iki takıma 1'er puan verilecektir.

58. Buna göre, A takımının turnuva salonundaki puanı aşağıdakilerden hangisi olamaz?

- A) 2 B) 3 C) 4 D) 5 E) 6

59. Turnuva salonunda takımların puanları toplamı en az kaç olabilir?

- A) 5 B) 6 C) 7 D) 8 E) 9

60. Turnuva sonunda A takımının 1, B takımının 6 puanı olduğuna göre, C takımının puanı kaçtır?

- A) 1 B) 2 C) 3 D) 4 E) 5

GENEL YETENEK TEST BİTTİ.  
GENEL KÜLTÜR TESTİNE GEÇİNİZ.

1. Uygurların ticari ilişkileri sırasında yaşadıkları anlaşmazlıklar;

- I. yazılı hukuk kuralları,
- II. 18 harften oluşan alfabe,
- III. hareketli harf sistemi

**düzenlemelerinden hangilerini oluşturmalarında etkili olmuştur?**

- A) Yalnız I                      B) Yalnız II                      C) Yalnız III  
D) I ve II                      E) II ve III

2. Gök Tanrı inancına sahip Türk kavimlerinden Avarlar Hristiyanlığı, Hazarlar ise Museviliği kabul etmiştir.

**Türk devletlerinin din değiştirmelerinde;**

- I. yönetim anlayışı,
- II. göç hareketleri,
- III. ticari ilişkileri

**durumlarından hangileri etkili olmuştur?**

- A) Yalnız I                      B) Yalnız II                      C) Yalnız III  
D) I ve II                      E) II ve III

3. Anadolu Selçuklu Devleti'nde görülen Ahilik Teşkilatı;

- I. ticari hayatın gelişmişliği,
- II. dinsel hoşgörü,
- III. düzenli bir ordu teşkilatı

**durumlarından hangileriyle ilişkilidir?**

- A) Yalnız I                      B) Yalnız II                      C) Yalnız III  
D) I ve II                      E) II ve III

4. Osmanlı Devleti'nde kurulan Yeniçeri Ocağıyla ilgili olarak,

- I. Birinci Murat zamanında kurulmuştur.
- II. Devşirme sistemiyle yetişen askerlerden oluşmuştur.
- III. Askerî masrafları tımar sisteminden karşılanmıştır.

**yargılarından hangileri söylenebilir?**

- A) Yalnız I                      B) Yalnız II                      C) Yalnız III  
D) I ve II                      E) II ve III

5. Osmanlı Devleti'nde I. Murat'a kadar hâkim olan "Ülke hanedan üyelerinin ortak malıdır." anlayışı, I. Murat Dönemi'nde "Ülke padişah ve oğullarının ortak malıdır." olarak değiştirilmiştir.

**Veraset sistemindeki bu değişiklikle;**

- I. taht kavgalarını sona erdirmeye,
- II. devlet gelirlerini artırma,
- III. ulema sınıfının nüfuzunu kırma

**durumlarından hangilerini sağlamak amaçlanmıştır?**

- A) Yalnız I                      B) Yalnız II                      C) Yalnız III  
D) I ve II                      E) II ve III

6. Aşağıdakilerden hangisiyle Osmanlı Devleti'nde devlet hazinesinden para harcanmadan savaşa hazır atlı birlikler oluşturulmuştur?

- A) Devşirme                      B) İltizam                      C) Tımar  
D) Vakıf                      E) Müsadere

7.

- I. Kanunname-i Ali Osman
- II. Islahat Fermanı
- III. Sened-i İttifak

**Yukarıdakilerden hangileri Avrupa devletlerinin Osmanlı Devleti'nin iç işlerine karışmalarına ortam hazırlamıştır?**

- A) Yalnız I      B) Yalnız II      C) Yalnız III  
D) I ve II      E) II ve III

8. Osmanlı Devleti'nde XVIII. yüzyılda yapılan ıslahat hareketlerinin özellikleri arasında;

- I. Batı'nın teknik bilgisinden yararlanarak askerî alanda yapılması,
- II. yenilik hareketlerinin halk hareketi sonucunda başlaması,
- III. toprak kayıplarını engellemek amacıyla taşınması

**durumlarından hangilerinin yer aldığı söylenebilir?**

- A) Yalnız I      B) Yalnız II      C) Yalnız III  
D) I ve III      E) II ve III

9. Osmanlı Devleti'nde II. Mahmut Dönemi'nde ilk nüfus sayımı yapılmıştır.

**Nüfus sayımının yapılmasıyla;**

- I. askere gidecek kişi sayısının tespiti,
- II. hukuksal ikilikleri ortadan kaldırma düşüncesi,
- III. vergi yükümlülerinin belirlenmesi,

**durumlarından hangileri sağlanmak istenmiştir?**

- A) Yalnız I      B) Yalnız II      C) I ve III  
D) II ve III      E) I, II ve III

10. Osmanlı Devleti'nde;

- I. Sened-i İttifak'ın imzalanması,
- II. Tanzimat'ın ilanı,
- III. Meşrutiyet'in ilanı

**gelişmelerinin hangilerinde Fransız İhtilali'nin etkisi olduğu savunulabilir?**

- A) Yalnız I      B) Yalnız II      C) Yalnız III  
D) I ve II      E) II ve III

11. Birinci Dünya Savaşı'nın sonuçları arasında aşağıdakilerden hangisi gösterilemez?

- A) İtalya'da faşizm düşüncesinin ortaya çıkması
- B) Yugoslavya Devleti'nin kurulması
- C) Milletler Cemiyetinin kurulması
- D) Sömürgecilik hareketlerinin başlaması
- E) Avusturya - Macaristan İmparatorluğu'nun yıkılması

12. Amasya Görüşmeleri'nde İstanbul Hükümeti;

- I. seçimlerin en kısa sürede yapılması,
  - II. Mebuslar Meclisinin açılması,
  - III. Meclisin İstanbul dışında bir yerde toplanması
- konularından hangilerinde Temsilciler Kuruluy-la görüş birliğine varmıştır?**

- A) Yalnız I      B) I ve II      C) I ve III  
D) II ve III      E) I, II ve III

13. Aşağıdakilerden hangisi ulusal mücadeleyi destekleyen basın yayın organlarından biri değildir?

- A) İrade-i Milliye
- B) Peyam-ı Sabah
- C) Hâkimiyet-i Milliye
- D) Ceride-i Resmiye
- E) Anadolu Ajansı

14. Sovyet Rusya 16 Mart 1921 tarihinde TBMM Hükümeti'yle Moskova Antlaşması'nı imzalayarak Misakımillî'yi tanımıştır.

**Bu antlaşmanın imzalanmasında her iki devlet;**

- I. rejimlerini karşılıklı olarak güvence altına alma,
  - II. sömürgecilik faaliyetlerinde iş birliği yapma,
  - III. Batı'ya karşı ortak bir savunma hattı oluşturma
- düşüncelerinden hangileri etkili olmuştur?**

- A) Yalnız I      B) Yalnız II      C) Yalnız III  
D) I ve II      E) I ve III

## Türkiye Genel Deneme Sınavı - 1

15. Aşağıdakilerden hangisi Birinci İnönü Savaşı'nın sonuçlarından biri **değildir**?

- A) TBMM'nin Anlaşma Devletlerince hukuki varlığının tanınması
- B) Sovyet Rusya'nın Sevr Antlaşması'nı geçersiz sayması
- C) Teşkilat-ı Esasiye Kanunu'nun yürürlüğe girmesi
- D) Doğu Cephesi'nin kapanması
- E) İstiklal Marşı'nın kabul edilmesi

16.

- Fransa'nın Misakımillî'yi tanınması
- Türkiye'nin Kafkasya sınırının kesin olarak çizilmesi

**gelişmeleri aşağıdaki savaşlardan hangisinden sonra yaşanmıştır?**

- A) Birinci İnönü Savaşı
- B) İkinci İnönü Savaşı
- C) Sakarya Savaşı
- D) Kütahya - Eskişehir Savaşları
- E) Başkomutanlık Meydan Savaşı

17. Kurtuluş Savaşı'nda;

- I. Türkiye - Ermenistan sınırının belirlenmesi,
- II. Karaağaç ve çevresinin alınması,
- III. Musul'un Irak'a bırakılması

**düzenlemelerinden hangileri Lozan Antlaşması'nın kapsamında yer almaktadır?**

- A) Yalnız I
- B) Yalnız II
- C) Yalnız III
- D) I ve II
- E) II ve III

18. Cumhuriyet Dönemi'nde yapılan;

- I. Terakkiperver Cumhuriyet Partisinin kapatılması,
- II. Takrir-i Sukûn Kanunu'nun çıkarılması,
- III. Millî Korunma Kanunu'nun çıkarılması

**düzenlemelerinden hangileri inkılapların korunmasını sağlama amacına yöneliktir?**

- A) Yalnız I
- B) Yalnız II
- C) Yalnız III
- D) I ve II
- E) II ve III

19. Türkiye'de 3 Mart 1924'te Tevhid-i Tedrisat Yasası kabul edilirken Şerîye ve Evkaf Vekâleti de kaldırılmış, bu bakanlığın bütçesindeki okul ve medresele-re ayrılan tutarın Millî Eğitim Bakanlığına devri kabul edilmiştir.

**Bu düzenlemenin yapılmasıyla;**

- I. eğitim ve öğretimin ulusallaştırılması,
- II. ulusal ve laik bir öğretimin planlanması,
- III. halkın yönetime katılımının sağlanması

**durumlarından hangileri sağlanmıştır?**

- A) Yalnız I
- B) Yalnız II
- C) Yalnız III
- D) I ve II
- E) I, II ve III

20. Yeni Türk Devleti'ndeki;

- I. kadınlara milletvekili seçimlerine katılma hakkının tanınması,
- II. Serbest Cumhuriyet Partisinin kurulması,
- III. herkese bir soyadı kullanma zorunluluğunun getirilmesi

**düzenlemelerinden hangileri demokratik hayatı güçlendirme amacı taşımaktadır?**

- A) Yalnız I
- B) Yalnız II
- C) Yalnız III
- D) I ve II
- E) I, II ve III

21. Serbest Cumhuriyet Partisinin kapatılma nedeni aşağıdakilerden hangisidir?

- A) Şeyh Said İsyanı'nın çıkması
- B) Menemen Olayı'nın yaşanması
- C) 1929 Dünya Ekonomik Bunalımı
- D) 1923'te hükûmet bunalımının yaşanması
- E) Parti içine gerici unsurların girmesi

22. Atatürk Dönemi'nde kurulan bankalar arasında aşağıdakilerden hangisi **gösterilemez**?

- A) Türkiye İş Bankası
- B) Sanayi ve Maadin Bankası
- C) Ziraat Bankası
- D) Merkez Bankası
- E) Emlak ve Eytam Bankası



23. "Egemenlik kayıtsız şartsız milletindir." anlayışı;

- I. TBMM'nin açılması,
- II. Saltanatın kaldırılması,
- III. Kabotaj Kanunu'nun çıkarılması

**gelişmelerinden hangileriyle ilişkilidir?**

- A) Yalnız I                      B) I ve II                      C) I ve III  
D) II ve III                      E) I, II ve III

24. Cumhuriyetin ilk yıllarında yaşanan;

- I. İzmir suikasti girişimi,
- II. Şeyh Said İsyanı,
- III. Bursa Olayı

**durumlarından hangileri Türkiye - Irak sınırının Türkiye aleyhine çözülmesinde etkili olmuştur?**

- A) Yalnız I                      B) Yalnız II                      C) Yalnız III  
D) I ve II                      E) II ve III

25.

- I. Hatay'ın Türk topraklarına katılması
- II. Türkiye'nin Kore Savaşı'na katılması
- III. Boğazların Türk egemenliğine girmesi

**Yukarıdakilerden hangileri Atatürk Dönemi gelişmeleri arasındadır?**

- A) Yalnız I                      B) Yalnız II                      C) Yalnız III  
D) I ve III                      E) II ve III

26. Irak'ın 1990 yılında Kuveyt'i işgali ile başlayan Körfez Krizi, aynı zamanda bir dünya sorunu hâline gelmiştir. **Bu durumun yaşanmasında;**

- I. dünya petrol rezervinin %60'ının Orta Doğu'da olması,
- II. Orta Doğu'daki statü değişiminin ABD ve Batılı devletlerin çıkarlarıyla da yakından ilgili olması,
- III. işgalin bölge ülkelerince tehdit unsuru olarak görülmesi

**durumlarından hangileri etkili olmuştur?**

- A) Yalnız I                      B) Yalnız II                      C) I ve II  
D) II ve III                      E) I, II ve III

27. Kırgızistan'ın yetiştirdiği, "Toprak Ana" , "Selvi Boylum Al Yazmalım" ve "Cengiz Han'a Küsen Bulut" gibi önemli eserleriyle bütün dünyada tanınan yazar aşağıdakilerden hangisidir?

- A) Bahtiyar Vahapzade  
B) Cengiz Aytmatov  
C) Mehmet Emin Resülzade  
D) İsmail Gaspiralı  
E) Sultan Galiyev

28. Aşağıda Türkiye'de dört farklı yörenin coğrafi koordinatlarıyla ilgili bazı bilgiler verilmiştir.

- I. yöre 33° Doğu boylamı üzerinde yer alır.
- II. yöre 40° Kuzey enlemi üzerinde yer alır.
- III. yöre 37° Doğu boylamında yer alır.
- IV. yöre 38° Kuzey enleminde yer alır.

**Bu bilgilere dayanarak aşağıdakilerden hangisi söylenemez?**

- A) III. yörede yerel saat IV. yöreden daha ileridir.  
B) I. yörede Güneş'in doğuşu III. yöreye göre daha sonradır.  
C) 21 Aralık'ta IV. yörede yaşanan gündüz süresi II. yöreden fazladır.  
D) 21 Mart'ta dört yörede de Güneş, doğduktan 12 saat sonra batar.  
E) 23 Eylül'de yaşanan gündüz süresi yörelerin tamamında aynıdır.

29. Türkiye'de dağların kıyıya uzanışı bölgelere göre farklılık göstermektedir.

**Buna göre aşağıdakilerden hangisi bu farklılık sonucunda ortaya çıkan durumlardan biri değildir?**

- A) Kıyı ile iç kesimler arasındaki ulaşımın niteliği  
B) Kıyı şekilleri ve uzunluğu  
C) Ekili - dikili arazi oranı  
D) Bitki örtüsünün kuşaklar oluşurması  
E) Denizel iklimin yayılma alanı

## Türkiye Genel Deneme Sınavı - 1

30. Doğdukları noktadan başlayarak denize döküldükleri yerler arasında geçtikleri bölgelerin iklim özellikleri dikkate alındığında aşağıdaki akarsulardan hangisinin rejiminin diğerlerine göre **daha düzenli** olduğu söylenebilir?

- A) Sakarya B) Çoruh C) Gediz  
D) Kızılırmak E) Dicle

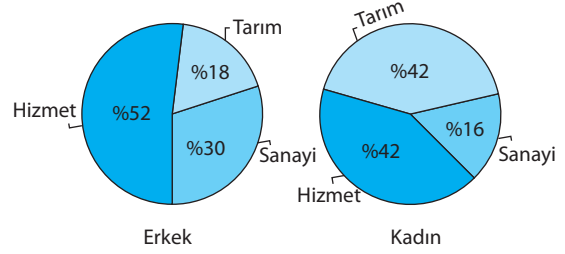
31.



Haritada numaralarla gösterilen taralı alanların toprak özellikleri ile ilgili aşağıdakilerden hangisi **söylenemez**?

- A) I'de alüvyal topraklar yaygındır.  
B) II'de toprağın rengi kırmızıdır.  
C) III'te çernezyom toprakları yaygındır.  
D) IV'te toprak yüzeyinde tuz ve kireç birikimi daha fazladır.  
E) V'te aşınma ve taşınmaya elverişli step toprakları yaygındır.

32. Aşağıdaki grafiklerde Türkiye'de 2010 yılında çalışan erkek ve kadın nüfusun sektörlere göre dağılışı gösterilmiştir.



Grafiklerdeki bilgilere bakılarak aşağıdakilerden hangisi **söylenemez**?

- A) Çalışan erkek ve kadın nüfus oranının birbirine en yakın olduğu sektör hizmettir.  
B) Sanayi sektöründe çalışan erkek nüfus oranı aynı sektördeki kadın nüfus oranından fazladır.  
C) Tarım ve hizmet sektörü toplamında kadın nüfus oranı aynı sektörlerdeki erkek nüfus oranından fazladır.  
D) Çalışan nüfus içinde kadınların oranının erkeklerden fazla olduğu tek sektör tarımdır.  
E) Tarım sektöründe çalışan erkek nüfus oranının büyük bölümünü 15 - 30 yaş grubu oluşturmaktadır.

33. Adana Bölümü'nde yılın belirli döneminde yaşanan nüfus hareketliliğine benzer bir durum aşağıdakilerden hangisinde görülür?

- A) Antalya Bölümü  
B) Doğu Karadeniz Bölümü  
C) Dicle Bölümü  
D) Yukarı Sakarya Bölümü  
E) Çatalca - Kocaeli Bölümü

34. Türkiye'de kırsal yerleşmelerle ilgili olarak,

- I. Ekstansif (yaygın) tarım metodu kullanılır.  
II. Yüzey şekilleri dağlık ve engebelidir.  
III. Ekonomileri daha çok tarım ve hayvancılığa dayanır.

özelliklerinden hangilerinin tümünde ortak olduğu söylenebilir?

- A) Yalnız I B) Yalnız II C) Yalnız III  
D) I ve III E) I, II ve III

35. Türkiye'de iç göçlere katılan nüfusla ilgili olarak aşağıdakilerden hangisi söylenemez?

- A) Genç oranının yüksek olması
- B) Çoğunluğunu tarım sektöründe çalışanların oluşturması
- C) İşsiz oranının yüksek olması
- D) Erkek oranının yüksek olması
- E) Daha çok geçici amaçlı yapılması

36.

- I. Kastamonu'daki kenevir üretimi
- II. Samsun'daki tütün üretimi
- III. Konya'da buğday üretimi
- IV. Giresun'daki fındık üretimi

Yukarıdakilerden hangilerinde yıllık üretim miktarı yalnızca iklim koşullarına bağlıdır?

- A) I ve II
- B) I ve III
- C) II ve III
- D) II ve IV
- E) III ve IV

37. Türkiye'de çay ve muz yetiştiriciliği ile ilgili aşağıdakilerden hangisinin ortak olduğu söylenebilir?

- A) İhracatta önemli paya sahip olmaları
- B) Sulama olanaklarının elverişli olduğu yerlerde yetişmeleri
- C) İklim seçiciliklerinin fazla olması
- D) Yetiştirme alanlarının geniş olması
- E) Düşük kış sıcaklıklarından fazla etkilenmemeleri

38. İklim koşulları ve bitki örtüleri göz önüne alındığında aşağıdaki bölüm çiftlerinden hangilerinin büyükbaş mera hayvancılığına uygun olduğu söylenebilir?

- A) Yıldız Dağları ve İç Batı Anadolu
- B) Doğu Karadeniz ve Erzurum-Kars
- C) Dicle ve Yukarı Kızılırmak
- D) Erzurum-Kars ve Kıyı Ege
- E) Orta Karadeniz ve Hakkâri

39. Türkiye'de Karadeniz dışındaki diğer bütün kıyı bölgelerde tesisi bulunan endüstri kolu aşağıdakilerden hangisidir?

- A) Sigara
- B) Petrokimya
- C) Çimento
- D) Demir çelik
- E) Konserve

40. Sinop limanının doğal bir liman olmasına rağmen yeterince gelişmemiş olmasında etkili olan temel faktör aşağıdakilerden hangisidir?

- A) Çevresinde ekilebilir tarım alanlarının azlığı
- B) Yıllık toplam yağış tutarının fazlalığı
- C) Balıkçılığın yaygın olması
- D) Kıyı turizminin yapılması
- E) İç kesimlerle ulaşımın güç olması

41.



Yukarıda verilen elektrik santrallerinden hangilerinde yıllık enerji üretimindeki dalgalanmalar daha fazladır?

- A) I ve II
- B) I ve III
- C) II ve III
- D) II ve IV
- E) III ve IV

42.

- I. Az yakıtla çok yük taşınması
- II. Yol yapımı ve bakımı için harcamaların olmaması
- III. Güzergâhta rahatlıkla değişiklik yapılabilmesi
- IV. Tek seferde daha fazla yükün taşınması
- V. Diğer ulaşım türlerine göre daha ekonomik olması

Yukarıda Türkiye'de dış ticarete daha çok deniz yolu taşımacılığının kullanılması ile ilgili verilen bilgilerden hangisi diğer dördünün nedenidir?

- A) I
- B) II
- C) III
- D) IV
- E) V

43. Aşağıdaki merkezlerden hangisinde gerçek sıcaklıklar ile indirgenmiş sıcaklıklar arasındaki fark diğerlerinden **daha azdır**?

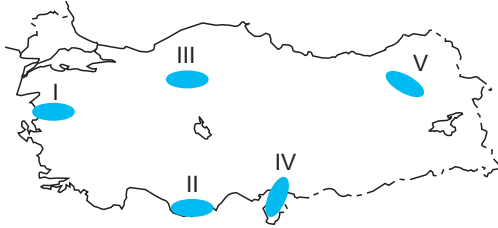
- A) Yozgat B) Edirne C) Ardahan  
D) Muğla E) Adıyaman

44. Türkiye'nin birçok bölgesinde eski yerleşim merkezlerine ait kalıntılar bulunmaktadır.

**Bu durum üzerinde aşağıdakilerden hangisinin etkisi diğerlerinden daha azdır?**

- A) İklimin elverişli olması  
B) Toprakların verimli olması  
C) Bitki örtüsünün çeşitlilik göstermesi  
D) Su kaynaklarının fazla olması  
E) Ticaret yollarında olmaları

45.



Haritada numaralarla gösterilen taralı alanların jeolojik yapıları göz önüne alındığında hangisinde tektonik deprem görülme olasılığı **en azdır**?

- A) I B) II C) III D) IV E) V

46. Yerleşim yeri, hısımlık, ehliyet gibi konuları düzenleyen medeni hukuk koluna ne ad verilir?

- A) Vatandaşlık hukuku  
B) Eşya hukuku  
C) Aile hukuku  
D) Kişiler hukuku  
E) Miras hukuku

47.

- I. Borç ilişkisinin nispiyeti  
II. Kusur ilkesi  
III. Borçlunun ikametgâhında ifa ilkesi  
IV. İvaz ilkesi

**Yukarıdakilerden hangileri borçlar hukukuna hâkim olan ilkeler arasında yer almaktadır?**

- A) Yalnız II B) I ve II C) II ve III  
D) I, II ve III E) I, II, III ve IV

48. Aşağıda 1961 ve 1982 Anayasalarının benzerlikleri ile ilgili verilen bilgilerden hangisi **yanlıştır**?

- A) Her iki Anayasa da askerî müdahale sonucu hazırlanmıştır.  
B) Askerî ve sivil kanadı olan Meclisler tarafından hazırlanmıştır.  
C) Meclisin sivil kanadı halk oylaması ile belirlenmiştir.  
D) Meclisin sivil kanadının Bakanlar Kurulunun kurulmasına ilişkin yetkileri yoktur.  
E) Her iki Anayasa da asli kurucu iktidar tarafından hazırlanan katı anayasalardır.

49. Aşağıdakilerden hangisi aktif statü haklarından (siyasi hak ve ödevler) biri **değildir**?

- A) Bilgi edinme ve kamu denetçisine başvurma hakkı
- B) Kamu hizmetine girme hakkı
- C) Toplantı düzenleme hakkı
- D) Siyasi faaliyette bulunma hakkı
- E) Vatan hizmeti

50.

- I. Milletvekilliğinin düşürülmesi
- II. Ara seçim kararı
- III. TBMM başkan seçimi
- IV. Anayasa Mahkemesine üye seçimi
- V. Hizmet bakanlıklarının kurulması

**Yukarıdakilerden hangileri parlamento kararı ile yapılan işlemlerdir?**

- A) I ve II
- B) I ve III
- C) II, III ve IV
- D) II, III ve V
- E) I, II, III ve IV

51. Aşağıda yasama dokunulmazlığı ile ilgili verilen bilgilerden hangisi **yanlıştır**?

- A) Yasama dokunulmazlığı mutlakdır, gerektiğinde kaldırılabilir.
- B) Yasama dokunulmazlığının amacı milletvekillinin parlamento toplantılarına katılmasına engel olunmamasıdır.
- C) Milletvekillerine yalnızca cezai koruma sağlar.
- D) Yasama dokunulmazlığı kamu düzeni ile ilgilidir.
- E) Yasama dokunulmazlığından milletvekili olmayan bakanlar da yararlanır.

52. Cumhurbaşkanı'nın görev ve yetkilerine ilişkin verilen bilgilerden hangisi **yanlıştır**?

- A) Başbakan'ı atamak ve istifasını kabul etmek
- B) Yabancı devletlere temsilci göndermek
- C) Genelkurmay Başkanı'nı atamak
- D) Atatürk Dil ve Tarih Yüksek Kurumuna üye seçmek
- E) Kamu Baştetçisi'ni seçmek

53. Hâkimler ve Savcılar Yüksek Kurulu yapısında yapılan değişiklikler ile ilgili olarak aşağıda verilen bilgilerden hangisi **doğrudur**?

- A) Kurul kararlarına karşı meslekten çıkarma kararları hariç yargı yoluna başvurulabilecektir.
- B) Kurula bağlı Genel Sekreterlik yerine Kurul üyelerinden oluşan 3 ayrı daire kurulmuştur.
- C) Kurul üye sayısı 22'ye çıkarılarak yedek üyelik sistemi kaldırılmıştır.
- D) Kurul Başkanı olarak Adalet Bakanı'nın oy hakkı kaldırılmış ve toplantılara katılması usulünden vazgeçilmiştir.
- E) Kurula Cumhurbaşkanı ve TBMM üye seçebilmektedir.

54. Aşağıdakilerden hangisi Yüce Divanda görevleri ile ilgili suçlardan dolayı **yarılanamaz**?

- A) Adalet Bakanlığı Müsteşarı
- B) Kara Kuvvetleri Komutanı
- C) Meclis Başkanı
- D) Devlet Denetleme Kurulu Başkanı
- E) Uyuşmazlık Mahkemesi üyesi

55. Yaşamın Kıyısında filmiyle 2007 Cannes Film Festivali'nde En İyi Senaryo; 2007 Antalya Altın Portakal Film Festivali, 2007 Bavaria Film Ödülleri, 2007 Avrupa Parlamentosu tarafından verilen Avrupa Sineması LUX Ödülü'nde En İyi Yönetmen; Duvara Karşı filmiyle 2004 Berlin Film Festivali - Altın Ayı ve 2004 Avrupa Film Ödülleri'nde En İyi Film Ödülü kazanan Türk asıllı yönetmen aşağıdakilerden hangisidir?

- A) Semih Kaplanoğlu
- B) Fatih Akın
- C) Ferzan Özpetek
- D) Zeki Demirkubuz
- E) Serdar Akar

56. 2013 yılında yaşamını yitiren, 1983 - 1987 yılları arasında Devlet Tiyatroları Genel Müdürlüğü yapmış olan, Çılgın Türkler, Diriliş gibi kitapların ve Kurtuluş, Cumhuriyet gibi tarihî filmlerin senaryo yazarı aşağıdakilerden hangisidir?

- A) Attila İlhan
- B) Turgut Özakman
- C) Orhan Koloğlu
- D) Vamık Volkan
- E) Cemal Kutay

57. Aşağıdakilerden hangisi Birleşmiş Milletlere bağlı kuruluşlardan biri değildir?

- A) Uluslararası Telekomünikasyon Birliği (ITU)
- B) Dünya Meteoroloji Örgütü (WMO)
- C) Dünya Ticaret Örgütü (WTA)
- D) Endüstriyel Gelişme Örgütü (UNIDO)
- E) Uluslararası Atom Enerjisi Kurumu (IAEA)

58. Sınır güvenliği, büyüyen enerji ihtiyacı gibi alanlarda iş birliği yaratması amacıyla kurulan Şanghay İşbirliği Örgütü'nün kurucuları arasında aşağıdakilerden hangisi yer almamaktadır?

- A) Tacikistan
- B) Rusya
- C) Özbekistan
- D) Çin
- E) Kazakistan

59. Türkiye, İran, Irak ve Afganistan arasında, 8 Temmuz 1937'de Tahran'da imzalanan ve sınır sorunlarının kalıcı biçimde çözülmesi, sömürgeleikten kurtulan devletlerin bağımsızlıklarını vurgulamak amacıyla yan yana geldiği Sadabat Paketi'nin tarihsel köklerinden yükselen uluslararası kuruluş aşağıdakilerden hangisidir?

- A) Ekonomik İşbirliği Teşkilatı (EİT)
- B) Asya Pasifik Ekonomik İşbirliği (APEC)
- C) Bağımsız Devletler Topluluğu (CIS)
- D) Güney Asya Ortak Çevre Programı (SACEP)
- E) Kalkınma Yardımları Komitesi (DAC)





60. Başbakanlığa bağlı olarak devlet organlarının denetimi yetkisini üstlenen ve 2011 yılında yapılan yasal düzenlemelerle görevleri Sayıştaya devredilen kuruluş aşağıdakilerden hangisidir?

- A) Devlet Denetleme Kurulu
- B) Yüksek Denetleme Kurulu
- C) Devlet Planlama Teşkilatı
- D) Kalkınma Bakanlığı
- E) Ekonomik ve Sosyal Konsey

TEST BİTTİ.  
CEVAPLARINIZI KONTROL EDİNİZ.

# AOÖF

aktif öğrenen fasiküller

hepsini  
biz çözdük!...



SİZ bunlara takılıp  
kalmayın!...

 **uzmankariyer**  
İyi bir kariyer, uzmanlık ister...

Sakarya Caddesi No: 34 Kızılay / Ankara  
T: 0.312.231 1289 / F: 0.312. 231 4199

[www.uzmankariyer.com](http://www.uzmankariyer.com)  
E: [bilgi@uzmankariyer.com](mailto:bilgi@uzmankariyer.com)