

1. Şair, bir toplumun ortak malı olan dil içinde kendi dilini yarattığı oranda şairdir ve şiir, duygu olmuş düşüncenin yürekte kopuşudur.

**Bu cümlede altı çizili sözle, şairin dilinin hangi özelliği vurgulanmıştır?**

- A) Anlaşılmaz sözlere yer vermeyen  
B) Özgün olan  
C) Yerel sözcükleri kullanan  
D) Süsten ve gösterişten uzak  
E) Renkli ve şiirsel

2. Hemen hiçbir sanat adamı, gördüklerini olduğu gibi söylemek istememiştir; seçer, büyütür, küçültür, istese de istemese de anlattıklarına kendi kişiliğini katar.

**Bu cümlede, sanatçılarda bulunan hangi özellik vurgulanmıştır?**

- A) Doğallık      B) Abartma      C) Titizlik  
D) Öznellik      E) Yalınlık

3. (I) Anadolu halkı "güzel" sözünü aslına uygun olarak "gözel" şeklinde kullanır. (II) "Gözel" gözle görülen, göze hoş gelen, demektir. (III) Aslında güzel olan dünyadır. (IV) Ressamlar, renk ve çizgilerle; edebiyatçılar, sözcükler ve cümlelerle dış alemde gözle görülen varlıkların hayallerini, görüntülerini tasvire çalışırlar. (V) Tabii ressam da, edebiyatçılar da dış alemde hoşlarına giden veya dikkati çeken şeyleri seçerler ve kendilerine göre değiştirirler.

**Bu parçadaki numaralanmış cümlelerden hangisinde tanım yapılmıştır?**

- A) I.      B) II.      C) III.      D) IV.      E) V.

4. Aşağıdaki atasözlerinden hangisinin anlatımı mecazlıdır?

- A) Dağ ne kadar yüce olsa yol üstünden aşar.  
B) Son pişmanlık fayda etmez.  
C) Dost ile ye iç, alışveriş etme.  
D) Dost; dostun ayıbını yüzüne söyle.  
E) Bugünün işini yarına bırakma.

5. Aşağıdaki cümlelerin hangisinde bir hayflanma söz konusudur?

- A) Duvardaki saate aldanıp geç kaldık.  
B) Niye insanlar tiyatroya gitmez ki!  
C) Dünyanın tüm tasasını sen mi çekeceksin!  
D) Zaten bu çocuk ödevlerini hiç yapmaz.  
E) Yolun uzak oluşu sizi alıkoymasın.

6. (I) Yazarın en başarılı oyunu "Koçyiğit Köroğlu"dur. (II) Oyun konusunu halk hikâyelerinden alır. (III) Hayat, ölüm, evlilik, geçim sıkıntısı ve bir yığın dedikodu eserde anlatılır. (IV) Bu oyun, bir destansı piyestir. Yazar, Köroğlu adını alan kahramanın daha eski bir Oğuz destanından gelme olduğuna inanır. (V) Bu yüzden oyun, tiyatro tekniğine aykırı bulunur, yazarın çok hayalci olduğu belirtilir.

**Bu parçada, numaralı cümlelerin hangisinde yazarın eleştirilmesi, nedeniyle verilmiştir?**

- A) I.      B) II.      C) III.      D) IV.      E) V.

7. İnsan, son kırk yılda ortalama sekiz yüze yakın canlı türünün yok olmasına neden oldu.

**Bu cümleden çıkarılabilecek kesin yargı aşağıdakilerden hangisidir?**

- A) Birçok tür, nesli tükenme tehdidi altındadır.  
B) İnsan, doğayı kirleten tek canlıdır.  
C) Canlı türlerinin yüzde sekseni yok olmuştur.  
D) İnsanın, canlı türleri üzerinde doğrudan etkisi vardır.  
E) Doğanın dengesi, insanlar sayesinde devam etmektedir.

8. Bir şair, ---- her eseri elbette sever ama onu de-falarca da eleştirir. Böylece mükemmele ulaşmayı ister.

**Bu cümlede boş bırakılan yeri anlam bakımın-dan tamamlayan en uygun sözcük aşağıdaki-lerden hangisidir?**

- A) düşlediği  
B) hayran kaldığı  
C) yarattığı  
D) yazacağı  
E) var olan

9. I. güzel şekilde ifade eden  
II. aydınlar ve o  
III. sanatçılar toplumun  
IV. gerçeğin peşinden koşan  
V. gerçekleri bize  
VI. en önemli yapı taşlarıdır

**Yukarıdaki sözler kurallı ve anlamlı bir cümle oluşturacak biçimde sıralandığında hangisi baştan üçüncü olur?**

- A) I. B) II. C) III. D) IV. E) V.

10. I. hızla çoğalabilen canlılardır  
II. şartlar müsaitse birkaç saat  
III. içinde sayıları milyonları bulabilir  
IV. ve buldukları ortamda  
V. bildiği gibi bakteriler

**Yukarıdaki sözler kurallı ve anlamlı bir cümle oluşturacak biçimde sıralandığında hangisi baştan üçüncü olur?**

- A) I. B) II. C) III. D) IV. E) V.

11. **Aşağıdaki cümlelerin hangisinde bir sözcük hem belirtme hem de niteleme sıfatı almıştır?**

- A) Bu görüntüler Özlem Hanım'ı mutlu etmişti.  
B) Bunca zamandır halk böyle duyarlı bir tepki göstermemişti.  
C) Başkan herkese, kendine bile, yalan söylüyor-du.  
D) Güzel, taze kokulu çiçekler parka güzellik veri-yordu.  
E) Bu kitap en güzel düşüncelere tercüman olu-yor.

12. **Aşağıdakilerin hangisinde fiilimsi (eylemsi) kullanılmamıştır?**

- A) Küskünüm yalnızlığında zamanın  
İki gözümde iki yaş  
B) Koşarak gidiyordu atlılar  
Atlılar denize doğru  
C) Bir anlamı var akan yaşın  
Zamanda bir anlamı var  
D) Okumak içindi her şey  
Yaşamı hissetmek için  
E) Yaralı bir kuş gibi  
Çırpına çırpına düştü kaldırımın kenarına

13. Aşağıdaki cümlelerin hangisinde yüklem yardımcı eylemden oluşmaktadır?

- A) Kitapların arasında oldukça mutluydu.
- B) Söylenenlerin hepsini biliyormuş.
- C) Tüm olanları sonradan fark etti.
- D) Düşünmeden yola çıktı, düşünmeden gitti.
- E) Yolun sonuna doğru yorulmuştu.

14. Yükseltiyorlar duvarları aklımda, bunu hissediyorum, bittiğinde ömür, görüyorum.

**Bu cümlede aşağıdaki ses olaylarından hangisi yoktur?**

- A) Ünsüz düşmesi
- B) Ünsüz benzeşmesi
- C) Ünsüz türemesi
- D) Ünlü daralması
- E) Ünlü düşmesi

15. Aşağıdakilerin hangisinde bir yazım yanlışı yapılmıştır?

- A) Dün aldığı kuru yemişlerin hepsi bayatlamıştı.
- B) Köpek balıklarının güçlü bağışıklık sistemi insanlara örnek oluyor.
- C) Ankara'da yeterince üst geçit var.
- D) Bugün suçüstü yakalanmıştı.
- E) Köyden getirdiği dere otunu salataya ekledi.

16. Çavuşa döndü ( )

( ) Haydi ( ) Gazileri uyandır ( ) Kurban Bayramı'nı bugünden yapacağız.

**Boş ayrıçla belirtilen yerlere sırasıyla hangi noktalama işaretleri getirilmelidir?**

- A) (:) (–) (!) (.)
- B) (;) (–) (;) (.)
- C) (:) (") (;) (.)
- D) (,) (–) (,) (!)
- E) (,) (–) (,) (...)

17. Gözlerin gözlerime değince

Felaketim olurdu, ağlardım  
Beni sevmiyordun bilirdim  
Bir sevdiğin vardı duyardım

**Bu dizelerde aşağıdakilerden hangisi yoktur?**

- A) Ad
- B) İyelik eki
- C) İşaret zamiri
- D) Ortaç
- E) Birleşik zamanlı eylem

18. Yeni şiirimizin her yönünde duran bir ozanlar topluluğu, bu sosyal anlatımdan habersiz; çünkü, yirminci yüzyılın aydınlık sanat eserlerinin hayatları yok onlarda. Gerçekten, kıvılcımsız yaşamayı seviyorlar diyeceğim. "Hayatları yok" dedim. Bu ne demek? Çevreleri ile insanca alışverişe girmek istemiyorlar. Ozanların, ülkelerine ışık tutmak gibi bir görevleri olduğunu düşünmüyorlar.

**Bu parçada yazarın eleştirdiği ozanlar topluluğu için en uygun nitelik aşağıdakilerden hangisidir?**

- A) Karamsar görüşleri ağır basan
- B) Yaratıcılıktan yoksun
- C) Yaşama sevinçleri güçlü
- D) Yalnız yaşamayı seven
- E) Toplum sorunlarına ilgisiz

19. I. Hatta sera gazı salımları en hızlı artan ülkelerden biri olan Türkiye Kyoto Protokolü'nü imzalamalı.
- II. Gemi, dünya liderlerine iklim felaketlerine karşı vaktimizin kalmadığı uyarısında bulunmayı amaçlıyor.
- III. Gezegemimizin doğal koşulları geri döndürülemez biçimde değişiyor ama liderler bununla ilgili sorumluluğu almıyor.
- IV. İklim değişikliğinin yıllardan beri görülmemiş acılara yol açacağından artık şüphe duyulmuyor.
- V. Greenpeace, Ağrı Dağı'nda denizden 2500 metre yükseklikte yeni Nuh'un Gemi'sini yapıyor.

**Yukarıdaki cümlelerle anlamlı bir bütün oluşturduğunda hangisi baştan üçüncü olur?**

- A) I.    B) II.    C) III.    D) IV.    E) V.

20. Hiç öyle şey olur mu? Eğer öyle olsaydı İngilizler Shakespeare'ı hâlâ ezberden okurlar mıydı? Fransızlar Hugo'yu hayatlarının bir parçası hâline getirirler miydi? Aynı şekilde bizler Mevlana'yı yeniden keşfetmenin yollarını arar, Yunus'un coşkuluğunda ölmez duygulara ulaşmaya çalışır mıydık?

**Bu parça aşağıdaki soruların hangisine verilmiş bir cevap olabilir?**

- A) Sanatçıların etkisi yaşadığı yüzyıla mı sınırlıdır?
- B) Kùltürler, evrensel yargılarla mı değerlendirilmeli?
- C) Büyük sanatçılar, sadece eserleriyle tanıyabilir miyiz?
- D) Sanatın işlevi milletlere göre değişir mi?
- E) Büyük sanatçılar ulusal mıdır, evrensel mi?

21. Günümüzde yeni bir moda doğdu: "Ne bulsam okurum." modası. Bu sözü çok sık duyar olduk. Ben ne bulursa okuyan insanlardan değilim. Okunmaya değer ne bulursa okuyanlardanım. Kitabın insana yeni ufuklar açması, insanın bilgi dağarcığını geliştirmesi gerektiğine inanıyorum. Yoksa kitap okumak insanı eğlendirmekten öte gidemez. Okunacak kitapların seçiminde buna dikkat edilmelidir.

**Bu parçanın anlatım biçimi aşağıdakilerden hangisidir?**

- A) Tartışma                      B) Açıklama
- C) Alıntı yapma                D) Karşılaştırma
- E) Öyküleme

22. (I) Ülkemizde çocuk sinemasının durumunun iç açıcı olduğunu söylemek zor. (II) Çocuğu da bir eğlence unsuru olarak ele alan yaklaşımın çocuk sinemasının gelişmesini engellediği düşünce-sindeyim. (III) Yönetmenler ve senaristler, dün-yayı çocuğun algılayışıyla görmeye çalışan bir çaba içerisine girmelidirler. (IV) Bu da sinemaya ticari bir kaygıyla yaklaşımdan kaynaklanıyor. (V) Çocukla ilgili sinema filmi çekmeyi düşünen-lerin, çocuğun dünyasıyla bağlantıya geçmesi gerekiyor. (VI) Çocuk sinemasıyla uğraşanların çocuğun dünyasını duyumsaması, onun hisleriyle çevreye bakması lazım.

**Yukarıdaki parçada numaralanmış cümleler-den hangileri anlamca birbirine en yakındır?**

- A) I. ve II.      B) II. ve III.      C) I. ve IV.  
D) IV. ve V.      E) V. ve VI.

23. (I) Her yeni kitap, değişmez biçimleri aşarak ken-di yasalarını kurar. (II) Kendi biçimini arar ve bu-lur. (III) Bulmak zorundadır. (IV) Hiçbir hazır kalıp onun için yeterli olmaz. (V) Çünkü daha önceki eserlerin kuralları yalnız o eserler için geçerlidir.

**Bu parçada numaralanmış cümlelerle ilgili ola-rak aşağıdakilerden hangisinde yanlış bir bilgi verilmiştir?**

- A) I. cümlede, bir genelleme yapılmıştır.  
B) II. cümlede, I. cümleyle ilgili bir örnek verilmiş-tir.  
C) III. cümlede bir zorunluluk ifade edilmiştir.  
D) IV. cümlede kesin bir yargıda bulunulmuştur.  
E) V. cümle, IV. cümlenin gerekçesi durumunda-dır.

24. Şiir yazarken herhangi bir amaç ya da düşünce gütmem ben. Şiir iç dünyanın özgür olduğu bir anda yazılır, böyle olunca düşüncelerim şiirime karışmaz. Kişisel ya da toplumsal mesajlar bu yüz-den şiirlerimde pek görülmez.

**Bu parçaya göre şairin şiirlerinde toplumsal mesajlar görülmemesinin nedeni aşağıdakiler-den hangisidir?**

- A) Şairin ruhu özgür olduğu bir durumda şiirin ya-zılabilir olması  
B) Toplumsal sorunlardan uzak konulara yer ver-mesi  
C) Özgür olmanın beraberinde sorumluluklar ge-tirmesi  
D) Yansız olmayı amaçlaması  
E) Düşüncelerin şiirde yeri olmaması gerektiğini düşünmesi

25. Bazı düşünce yazarları - bazı bilim insanlarının kendi yorumlarını bilimsel gerçekler olarak sunma-ları gibi- anılarını ön plana çıkarıyor, düşüncelerini bu anılara dayanarak ispatlamaya çalışıyor.

**Yukarıdaki cümlede yazar öncelikle neyi eleş-tirmektedir?**

- A) Düşünce insanlarının anılarını yayımlamasını  
B) Toplumun anılardan gerektiği kadar yararlan-mamasını  
C) Düşünce yazarlarının bilim insanlarına benze-meye çalışmasını  
D) Bilim insanlarının bilimsel gerçeklerle yorumla-rını karıştırmalarını  
E) Düşünceyle ilgili yazılarda anıların kaynak gösterilmesini

26. - 27. soruları aşağıdaki parçaya göre cevaplayınız.

Halk şairi bilgiyle değil, genelde, sezgi ve sevgiyle örer şiirini. Karlı dağların dumanı, sisi; köpüklü suların dalgalanıp akışı, kazı, kuğusu, genci, yaşlısı onun şiirinde kendine yer bulur. O pastoral şiir türünde saf bir doğa anlatımıyla çok daha başarılıdır. Halk şairinin gülen bir yüzü, kıvrak bir dili vardır. Bu dil, herkesin anlayacağı sadelikte ve şiir, herkesin "benim" diyeceği bir içtenliktedir. Halk şairi nüktedan bir özelliğe de sahiptir; gözlediği gülünç noktaları kaçırmaz; şiirine yerleştirir.

26. I. Bilgi

II. Sezgi

III. Sevgi

Halk şairi yukarıdaki ifadelerden hangilerini şiirlerinde kullanılır?

- A) Yalnız I      B) Yalnız II      C) I ve II  
D) II ve III      E) I, II ve III

27. Bu parçaya göre aşağıdakilerden hangisi halk şairinin bir özelliği değildir?

- A) Şiirlerinde gülünç noktaları yakalar.  
B) Herkesin anlayacağı bir dil kullanır.  
C) Okur, bu şiirlerinde kendinden parçalar bulur.  
D) Doğa olduğu gibi yer alır.  
E) İyi bir eğitim almazlar.

28. - 30. soruları aşağıdaki parçaya göre birbirinden bağımsız olarak cevaplayınız.

Aslı, Büşra, Can, Deniz ve Emre bir pastaneden 4 tane poğaçaya, 3 tane simit, 2 tane meyve suyu, 1 tane ayran almışlardır. Bu alışverişle ilgili aşağıdaki bilgiler verilmiştir.

- Can poğaçaya almamıştır.
- Simit alan herkes poğaçaya da almıştır.
- Her gıda ürününden en çok 1 tane almak koşuluyla herkes 2 farklı ürün almıştır.
- Aslı ve Deniz aynı gıda ürünlerinden almıştır.

28. Bu bilgilere göre, aşağıdakilerden hangisi kesinlikle doğrudur?

- A) Deniz ayran almıştır  
B) Emre meyve suyu almıştır.  
C) Meyve suyu alan herkes poğaçaya da almıştır.  
D) Ayran alan kişi, meyve suyu da almıştır.  
E) Büşra simit almıştır.

29. Bu bilgilere göre, aşağıdakilerden hangisi kesinlikle yanlıştır?

- A) Can meyve suyu almıştır.  
B) Emre simit almıştır.  
C) Aslı poğaçaya almıştır.  
D) Deniz meyve suyu almıştır.  
E) Büşra meyve suyu almıştır.

30. Bu bilgilere göre, aldıkları yiyecekler kesin olarak bilinenler aşağıdakilerin hangisinde birlikte verilmiştir?

- A) Aslı - Büşra  
B) Can - Emre  
C) Büşra - Can  
D) Büşra - Deniz - Emre  
E) Aslı - Büşra - Can

31. a ve b tek sayı ise aşağıdakilerden hangisi kesinlikle çift sayıdır?

- A)  $a \cdot b$       B)  $a \cdot b^2$       C)  $a^3 + b^2$   
 D)  $\frac{a^2 + b^2}{2}$       E)  $\frac{a}{b}$

32.  $\sqrt{44} \cdot \sqrt{99}$

işleminin sonucu kaçtır?

- A) 36    B) 48    C) 56    D) 66    E) 88

33.  $\frac{2^x + 2^x + 2^x + 2^x}{3^{x+1} + 3^{x+1} + 3^{x+1}} = \frac{81}{16}$

olduğuna göre, x kaçtır?

- A) -6    B) -5    C) -4    D) 2    E) 3

34.  $\frac{3}{4} \cdot \frac{1}{5} - \frac{1}{10} \cdot \frac{5}{2}$

işleminin sonucu kaçtır?

- A)  $-\frac{1}{10}$       B)  $-\frac{1}{5}$       C)  $\frac{3}{10}$   
 D)  $\frac{1}{5}$       E)  $\frac{1}{10}$

35. a pozitif çift tam sayı b negatif tek tam sayıdır.

Buna göre,  $5a - 2b$  en az kaçtır?

- A) -2    B) 2    C) 4    D) 8    E) 12

36.  $a < 0 < b$  olmak üzere

$$P = \frac{a-b}{a}$$

gerçek sayısı veriliyor.

Buna göre, P sayısı aşağıdakilerden hangisi olabilir?

- A)  $\frac{1}{2}$     B)  $\frac{2}{3}$     C)  $\frac{3}{4}$     D)  $\frac{4}{5}$     E)  $\frac{3}{2}$

37.  $x, y, z$  tam sayı olmak üzere;

$$x \cdot y = 18$$

$$y \cdot z = 12$$

$$x \cdot z = 54$$

olduğuna göre,  $x \cdot y \cdot z$  çarpımının en büyük değeri kaçtır?

- A) 108      B) 54      C) 27  
D) -54      E) -108

38.  $(3x - 5y)^2 + (4y - 24)^2 = 0$   
olduğuna göre,  $x$  kaçtır?

- A) 10      B) 8      C) 6      D) -3      E) -5

39.  $\frac{1}{x-1} - \frac{1}{x^2-x}$

ifadesinin en sade şekli aşağıdakilerden hangisidir?

- A)  $\frac{x-1}{x}$       B)  $\frac{1}{x-1}$       C)  $x$   
D)  $\frac{1}{x}$       E)  $\frac{x}{x-1}$

40.  $x$  ve  $y$  birer doğal sayı olmak üzere,

$$\begin{array}{r} x \mid 50 \\ \underline{\quad} \quad 25 \\ y \end{array}$$

olduğuna göre,  $x$  in alabileceği en büyük değer kaçtır?

- A) 1250      B) 1260      C) 1280  
D) 1299      E) 1300

41. A, B, C, D, E, F, K, L birbirinden farklı rakamlardır.

Bu rakamlarla yazılabilen en büyük ABCD ve EFKL dört basamaklı sayılarının toplamı kaçtır?

- A) 15308      B) 16308      C) 17308  
D) 18395      E) 18495

42. 55 yolcusu olan bir otobüsten 4 erkek ve 1 bayan yolcu indiğinde, bayanların sayısının erkeklerin sayısına oranı  $\frac{3}{7}$  oluyor.

Buna göre, ilk durumda otobüsteki bayan yolcu sayısı kaçtır?

- A) 15      B) 16      C) 18      D) 21      E) 22



43. Tuğba ile İrem'in toplam 36 TL parası vardır. Tuğba parasının  $\frac{1}{4}$  ünü, İrem'e verdiğinde Tuğba'nın parası İrem'in parasının 2 katı oluyor.

**Buna göre, Tuğba'nın ilk durumunda parası kaç TL dir?**

- A) 32 B) 28 C) 26 D) 24 E) 12

44. Üç kardeşten Ahmet, Selçuk'tan 10 yaş küçük, İlkan'dan 5 yaş büyüktür. Kardeşlerin 3 yıl sonraki yaşları toplamı 53 olacaktır.

**Buna göre, Selçuk'un bugünkü yaşı kaçtır?**

- A) 21 B) 23 C) 24 D) 25 E) 26

45. Ali parasının % 10 u ile defter, kalan parasının % 20 si ile kitap alıyor.

**Geriye 36 TL si kaldığına göre, Ali deftere kaç TL vermiştir?**

- A) 6 B) 5 C) 4 D) 3 E) 2

46. 30 kişilik bir sınıfta, erkeklerin % 4 ü, kızların % 6 sına eşittir.

**Buna göre, sınıfta kaç tane kız öğrenci vardır?**

- A) 10 B) 12 C) 14 D) 16 E) 18

47. Bir firma düzenlediği turun biletlerini öğrencilere 20 TL den diğer müşterilere 25 TL den satmıştır.

**Bu tur için satılan biletlerin sayısı 50 ve bilet satışından elde edilen para 1100 TL olduğuna göre, biletlerin kaç tanesi öğrencilere satılmıştır?**

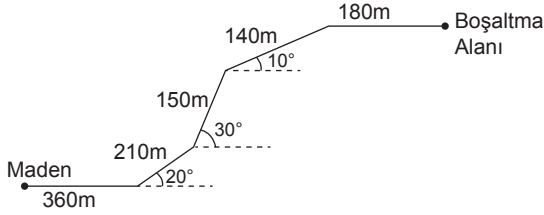
- A) 20 B) 25 C) 30 D) 35 E) 40

48. A dan B ye 4 farklı yol, B den C ye 5 farklı yol vardır.

**A dan yola çıkan bir kişi B ye uğramak şartı ile A dan C ye kaç farklı şekilde gidebilir?**

- A) 9 B) 15 C) 20 D) 25 E) 30

49. - 51. soruları aşağıdaki bilgilere göre cevaplayınız.



Yukarıdaki şekilde bir maden ocağından çıkarılan madenlerin vagonlar yardımıyla boşaltma yerine götürüldüğü yolların uzunlukları ve bu yolların eğim açıları gösterilmiştir. Bu madenin çalışma sistemi ile ilgili aşağıdakiler verilmiştir.

- En az 3, en fazla 5 vagonla madenler boşaltım alanına taşınabilmektedir.
- Düz kısımlarda 3 vagon için hız dakikada 50 metredir. 3 vagonun sonra takılan her vagon için hız dakikada 5 metre azalmaktadır.
- Vagonların her 10 derecelik eğim açısı için hızı dakikada 5 metre azalmaktadır.
- Boşaltma işlemi her vagon için 10 dakika sürmektedir.
- Boş olan vagonlar boşaltma alanından maden ocağına doğru dakikada 40 metre yol alacak şekilde sabit hızla hareket etmektedir.

49. Üç vagon ile madenden hareket eden vagonların 10 derecelik bölmedeki hızı dakikada kaç metredir?

- A) 25 B) 30 C) 35 D) 40 E) 45

50. 4 vagon ile madenden hareket eden vagonların madeni boşalttıktan sonra tekrar madene gelmeleri kaç dakika sürer?

- A) 87,5 B) 90 C) 92,5  
D) 95 E) 97,5

51. Bir vagonun taşıma kapasitesi 500 kg olduğuna göre, bu madenden 7,5 ton madenin boşaltma yerine boşaltılması en az kaç dakika sürer?

- A) 250 B) 293,5 C) 300  
D) 303 E) 310,5

52. - 53. soruları aşağıdaki bilgilere göre cevaplayınız.

Reel sayılar kümesi üzerinde tanımlı  $f$  ve  $g$  fonksiyon olmak üzere,

$$f(x) = 2x + 5 \text{ ve } f(g(x)) = 3x + 2$$

şeklinde tanımlanıyor.

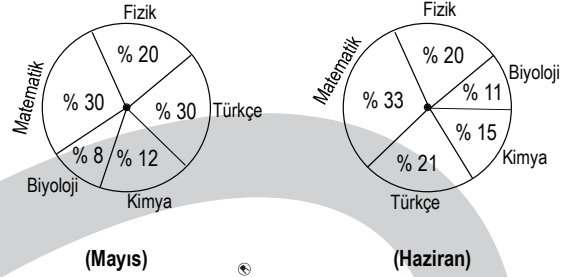
52.  $g(x)$  fonksiyonu aşağıdakilerden hangisine eşittir?

- A)  $\frac{2x+3}{2}$       B)  $\frac{x+1}{3}$       C)  $\frac{3x+3}{2}$   
 D)  $\frac{3x-3}{2}$       E)  $\frac{3x+5}{3}$

53. Buna göre,  $f(g(-2))$  fonksiyonunun değeri kaçtır?

- A) -4      B) -2      C) 0      D) 2      E) 4

54. - 56. soruları aşağıdaki bilgilere göre cevaplayınız.



Dairesel grafikler bir öğrencinin Mayıs ve Haziran aylarında çözdüğü soru sayılarının yüzdelik dağılımını göstermektedir.

54. Mayıs ve Haziran aylarında soru çözme yüzdelere göre en çok değişim gösteren ders hangisidir?

- A) Matematik      B) Biyoloji      C) Fizik  
 D) Kimya      E) Türkçe

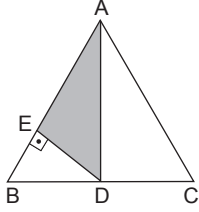
55. Mayıs ayında öğrenci tüm derslerden 6000 soru çözdüğüne göre, fizik dersinden kaç soru çözmüştür?

- A) 600      B) 1000      C) 1200  
 D) 1500      E) 2000

56. Haziran ayında 5000 soru çözdüğüne göre en az hangi dersten kaç soru çözmüştür?

- A) Kimya – 550 soru  
 B) Fizik – 1000 soru  
 C) Biyoloji – 550 soru  
 D) Kimya – 750 soru  
 E) Türkçe – 300 soru

57.

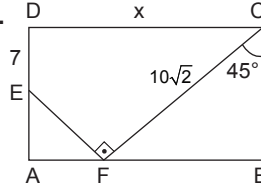


ABC eşkenar üçgen,  
 $[ED] \perp [AB]$   
 $|EB| = 2 \text{ cm}$ ,  
 $A(\triangle ADE) = 8\sqrt{3} \text{ cm}^2$

Yukarıdaki verilere göre,  $A(\triangle ABC)$  kaç  $\text{cm}^2$  dir?

- A)  $10\sqrt{3}$       B)  $12\sqrt{3}$       C)  $16\sqrt{3}$   
 D)  $20\sqrt{3}$       E)  $25\sqrt{3}$

59.



ABCD dikdörtgen  
 $[EF] \perp [FC]$   
 $m(\widehat{BCF}) = 45^\circ$   
 $|FC| = 10\sqrt{2}$   
 $|ED| = 7 \text{ cm}$

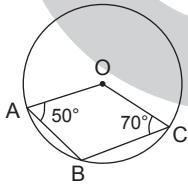
Yukarıdaki verilere göre,  $|DC| = x$  kaç  $\text{cm}$  dir?

- A) 10      B) 11      C) 12      D) 13      E) 14

60. Koordinat sisteminde  $A(x, y)$  ve  $B(5, -3)$  noktalarını uç nokta kabul eden doğru parçasının orta noktası  $C(2, 0)$  olduğuna göre,  $x - y$  kaçtır?

- A) -4      B) -3      C) -2      D) -1      E) 0

58.



O merkezli çembere  
 $m(\widehat{OAB}) = 50^\circ$   
 $m(\widehat{OCB}) = 70^\circ$

Buna göre,  $m(\widehat{AOC})$  açısının ölçüsü kaç derecedir?

- A) 120      B) 130      C) 140  
 D) 150      E) 160

GENEL YETENEK TESTİ BİTTİ.  
 GENEL KÜLTÜR TESTİNE GEÇİNİZ.

1. • İlk düzenli Türk devlet teşkilatını oluşturmuşlardır.  
• İlk Türk alfabesini kullanmışlardır.  
• Yerleşik yaşama geçen ilk Türklerdir.  
• Museviliği benimseyen ilk Türk devletidir.

**İslamiyet öncesi Türk devletleriyle ilgili yukarıdaki özellikler aşağıdaki devletlerle eşleştirildiğinde hangisi dışarıda kalır?**

- A) Göktürkler      B) Hunlar  
C) Hazarlar      D) Türgişler  
E) Uygurlar

2. • Horasan'dan gelerek Anadolu'ya yerleşmiştir.  
• Düşüncelerini Makalat adlı eserde toplamıştır.

**Yukarıda özellikleri verilen Türk-İslam düşünürü aşağıdakilerden hangisidir?**

- A) Enveri  
B) Ahmet Yesevi  
C) Yunus Emre  
D) Hacı Bektaş Veli  
E) Ömer Hayyam

3. Türk-İslam devletlerinde,

- I. bimarhane,  
II. darüşşifa,  
III. imarethane

**kurumlarından hangileri sağlık hizmetlerinde bulunmuştur?**

- A) Yalnız I      B) Yalnız II      C) Yalnız III  
D) I ve II      E) II ve III

4. Osmanlı Devleti'nde bürokrasi alanındaki üst düzey yöneticiler daha çok aşağıdakilerden hangisinde yetişmişlerdir?

- A) İdadiler      B) Enderun  
C) Vakıflar      D) Divan  
E) Loncalar

5. Aşağıdakilerden hangisi II. Mahmut'un eğitim alanında gerçekleştirdiği yeniliklerden değildir?

- A) İstanbul'da kız ve erkek çocuklarına ilköğretimin zorunlu hâle getirilmesi  
B) Devlet adamı yetiştirmek için Mektebi Maarif-i Adliyenin açılması  
C) Yurt dışına ilk defa öğrenci gönderilmesi  
D) Mektebi Harbiyenin açılması  
E) Encümen-i Danişin kurulması

6. Osmanlı Devleti'nden ayrılan ilk Balkan ulusu ve bunu gerçekleştiren antlaşma ile ilgili aşağıdaki eşleşmelerden hangisi doğrudur?

- A) Rumlar - Berlin Antlaşması
- B) Sırlar - Bükreş Antlaşması
- C) Rumlar - Edirne Antlaşması
- D) Rumenler - Berlin Antlaşması
- E) Arnavutlar - Londra Antlaşması

7. Bazı büyük devletlerin Osmanlı Devleti'ni I. Dünya Savaşı'na sokmaya çalışmalarında Osmanlı Devleti'nin hangi özelliği önemli bir etken olmuştur?

- A) Askerî gücü
- B) Jeopolitik konumu
- C) Savaş tecrübesi
- D) Ekonomik gücü
- E) Siyasi yapısı

8. Millî Mücadele Dönemi'nde Mustafa Kemal,

- I. Amasya Görüşmeleri,
- II. Havza Genelgesi,
- III. Amasya Genelgesi

gelişmelerinden hangilerinde "Temsil Heyeti Başkanı" unvanını kullanmıştır?

- A) Yalnız I
- B) Yalnız II
- C) Yalnız III
- D) I ve II
- E) II ve III

9. Birinci TBMM'nin,

- I. üye sayısının değişken olması,
- II. üyelerin seçimle belirlenmesi,
- III. anayasa hazırlaması

özelliklerinden hangileri, "Kurucu Meclis" niteliğinde olduğunu gösterir?

- A) Yalnız I
- B) Yalnız II
- C) Yalnız III
- D) II ve III
- E) I, II ve III

10. Ulusal Kurtuluş Savaşı sırasında aşağıdakilerden hangisi diğerlerinden daha önce imzalanmıştır?

- A) Moskova Antlaşması
- B) Gümrü Antlaşması
- C) Kars Antlaşması
- D) Türk - Afgan Dostluk Antlaşması
- E) Mudanya Ateşkes Antlaşması

11. Mustafa Kemal, ordumuzun ihtiyaçlarını karşılamak için Tekâlif-i Millîye Emirlerini yayımlanmıştır.

**Tekâlif-i Millîye Emirlerinin etkisi ilk kez aşağıdaki savaşların hangisinde görülmüştür?**

- A) I. İnönü Savaşı
- B) II. İnönü Savaşı
- C) Kütahya - Eskişehir Savaşları
- D) Sakarya Meydan Savaşı
- E) Büyük Taarruz

12. Saltanatın kaldırılmasında,

- I. ulusal egemenlik anlayışı ile bağdaşmaması,
- II. padişahın ülkeyi terk etmesi,
- III. Lozan Konferansı'nda TBMM'nin yanında İstanbul Hükûmetinin de davet edilmesi

**durumlarından hangileri etkili olmuştur?**

- A) Yalnız I
- B) Yalnız II
- C) I ve II
- D) I ve III
- E) I, II ve III

13. Lozan Antlaşması ile,

- I. savaş tazminatı,
- II. Türkiye - Irak sınırı,
- III. Türkiye - Yunanistan sınırı

**konularından hangileri kesin olarak çözümlenmiştir?**

- A) Yalnız I
- B) Yalnız II
- C) I ve II
- D) I ve III
- E) I, II ve III

14. Cumhuriyet Dönemi'nde,

- I. eğitim,
- II. dil,
- III. tarih

**alanlarından hangilerinde yenilik yapıldığı söylenebilir?**

- A) Yalnız I
- B) Yalnız II
- C) Yalnız III
- D) I ve II
- E) I, II ve III

15. I. Çok eşliliğin yasaklanması

- II. Boşanmanın hâkim kararına bağlanması
- III. Kadınların da milletvekili seçilebilmesi

**Yukarıdakilerden hangileri Türk Medeni Kanunu ile yapılan hukuki düzenlemeler içerisinde yer alır?**

- A) Yalnız I
- B) Yalnız II
- C) I ve II
- D) II ve III
- E) I, II ve III

16. Halifeliğin kaldırılmasının aşağıdaki inkılaplardan hangisini etkilediği savunulamaz?

- A) Tekke ve zaviyelerin kapatılması
- B) Laik hukuk sistemine geçilmesi
- C) Anayasa'dan laikliğe aykırı hükümlerin çıkartılması
- D) Mecelle'nin yürürlükten kaldırılması
- E) Meclis hükümeti sistemine son verilmesi

17. Aşağıdakilerden hangisi Soyadı Kanunu'nun kabul edilmesinin nedenlerinden biridir?

- A) Uluslararası alanda devleti tanıtmak
- B) Kültürel alanda ikiliğe son vermek
- C) Sınıf farklılıklarını ortadan kaldırmak
- D) Hukuk birliğini sağlamak
- E) Eğitim-öğretimde birliği sağlamak

18. I. Çağdaş uygarlık düzeyine ulaşma

II. İnkılapların sürekliliğini sağlama

III. Özgürlüğü Batı demokrasilerini örnek alma

**Yukarıdakilerden hangileri Atatürkçü düşünce sistemi içerisinde yer alır?**

- A) Yalnız I
- B) Yalnız II
- C) Yalnız III
- D) I ve II
- E) I, II ve III

19. 1929 yılında meydana gelen Dünya Ekonomik Bunalımı'nın Türkiye'ye,

I. dış borçların ödenmesi,

II. Hatay'ın ana vatana katılması,

III. Boğazlarda uluslararası komisyon idaresinin kurulması

**durumlarının hangilerinde olumsuz etki oluşturduğu savunulabilir?**

- A) Yalnız I
- B) Yalnız II
- C) Yalnız III
- D) II ve III
- E) I, II ve III

20. Aşağıdaki inkılap hareketlerinden hangisinin ulusal egemenliğin gerçekleşmesine yönelik olduğu söylenemez?

- A) Saltanatın kaldırılması
- B) Cumhuriyetin ilanı
- C) Halkçılık ilkesinin uygulanması
- D) TBMM'nin açılması
- E) Soyadı Kanunu'nun çıkarılması



**21. Montrö Boğazlar Sözleşmesi'nin Türkiye'ye,**

- I. egemenlik haklarını güçlendirmesi,
- II. stratejik önemini artırması,
- III. sınırlarını güvenceye alması

**katkılarından hangilerini sağladığı savunulabilir?**

- A) Yalnız I      B) Yalnız II      C) Yalnız III  
D) II ve III      E) I, II ve III

**22. Tevhid-i Tedrisat Kanunu ile bütün okullar, yabancı okullar da dahil Eğitim Bakanlığına bağlandı ve eğitim kurumları devlet denetimine alındı. Çağdaş eğitim müfredatları oluşturuldu.**

**Buna göre, Tevhid-i Tedrisat Kanunu'nun,**

- I. laiklik,
- II. devletçilik,
- III. inkılapçılık

**ilkelerinden hangileriyle ilgili olduğu savunulabilir?**

- A) Yalnız I      B) Yalnız II      C) Yalnız III  
D) I ve II      E) I ve III

**23. Atatürk: "Ben 19 Mayıs 1919'da Samsun'a çıktığım gün elimde hiçbir kuvvet yoktu. Yalnız Türk milletinin asaletinden doğan ve benim vicdanımı dolduran yüksek ve manevi bir kuvvet vardı." sözü ile aşağıdaki ilkelerden hangisini vurgulamıştır?**

- A) Cumhuriyetçilik  
B) Halkçılık  
C) Milliyetçilik  
D) Devletçilik  
E) İnkılapçılık

**24. II. Dünya Savaşı aşağıdaki devletlerden hangisinin teslim olmasıyla tamamen sona ermiştir?**

- A) Japonya      B) İtalya  
C) Almanya      D) Rusya  
E) Polonya

**25. 1943 yılı başlarında İngiltere'nin Türkiye'yi savaşa dahil etmek istemesinde,**

- I. Almanya'yı etkisiz hâle getirme,
- II. Balkanlarda oluşacak bir boşluğu SSCB'nin dolduracağı endişesi,
- III. Almanya'nın Türkiye'yi kendi yanına çekmesine engel olma

**durumlarından hangilerinin etkili olduğu söylenebilir?**

- A) Yalnız I      B) Yalnız II      C) I ve II  
D) II ve III      E) I, II ve III

26. Aşağıdakilerden hangisi 1961 yılında ilk insanlı uzay uçuşunu gerçekleştiren kişidir?

- A) Yuri Gagarin
- B) Neil Armstrong
- C) Edwin Aldrin
- D) Alexy Leonev
- E) Chirstian Bernard

28. Türkiye 36° - 42° Kuzey paralelleri 26° - 45° Doğu meridyenleri arasında yer almaktadır.

Buna göre aşağıda verilen kentlerden hangisinin enlem derecesi en büyük ve boylam derecesi en küçüktür?

- A) Samsun
- B) Hakkâri
- C) Edirne
- D) Artvin
- E) Muğla

29. Karadeniz Bölgesi'nde yer şekillerinin engebeli olması;

- I. ulaşım koşulları,
- II. maden rezervi,
- III. tarımda makineleşme

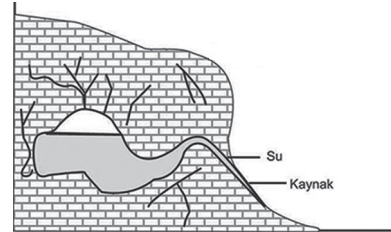
hangilerini olumsuz yönde etkilemiştir?

- A) Yalnız I
- B) Yalnız II
- C) I ve III
- D) II ve III
- E) I, II ve III

27. Aşağıdakilerden hangisi Türkiye'de değişik zamanlarda hem başbakanlık hem de cumhurbaşkanlığı görevlerinde bulunmamıştır?

- A) Süleyman Demirel
- B) Turgut Özal
- C) Kenan Evren
- D) İsmet İnönü
- E) Celal Bayar

30.



Yukarıda oluşum şekli verilen kaynak türünün en çok aşağıdaki illerden hangisinde bulunduğu söylenebilir?

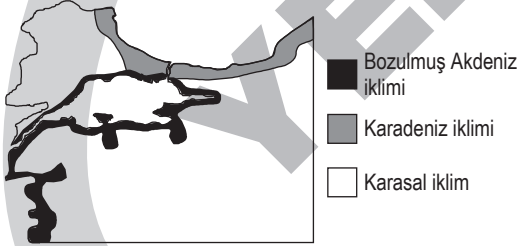
- A) Antalya
- B) Bursa
- C) İzmir
- D) Edirne
- E) Rize

31. • Sinop Yarımadası
- Akyatan Gölü
  - Kapıdağ Yarımadası
  - Terkos Gölü

Yukarıda verilen yeryüzü şekillerinin oluşumunda aşağıdaki olaylardan hangisi etkili olmuştur?

- A) Dalga biriktirmesi  
B) Akarsu aşındırması  
C) Rüzgâr aşındırması  
D) Dalga aşındırması  
E) Akarsu biriktirmesi

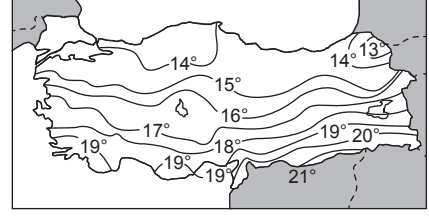
32. Aşağıda Marmara Bölgesi'nde etkili olan iklimlerin dağılışı verilmiştir.



Yukarıda verilen haritaya göre aşağıdakilerden hangisi söylenemez?

- A) Ülkemizdeki iklim tiplerinin çoğu bu bölgede görülür.  
B) Bölgede zeytin, fındık ve buğday yetiştirilebilir.  
C) Karasal iklimin oluşmasında özel konum şartları etkili olmuştur.  
D) Bölge yüz ölçümünün geniş olması iklimi çeşitlendirmiştir.  
E) Marmara Denizi çevresinde bozulmuş Akdeniz iklimi hâkimdir.

33. Aşağıdaki haritada Türkiye'nin indirgenmiş yıllık izoterm değerleri verilmiştir.



Bu haritada aşağıdakilerden hangisinin etkisi göz önüne alınmamıştır?

- A) Enlem  
B) Karasallık  
C) Basınç merkezleri  
D) Yükselti  
E) Deniz etkisi

34. Ülkemiz doğal bitki çeşidinin çok fazla olduğu bir ülkedir.

Aşağıdakilerden hangisi ülkemizdeki bitki örtüsünün dağılışı ile ilgili yanlış bir bilgidir?

- A) İç bölgelere oranla kıyı bölgelerimizde orman daha fazladır.  
B) Bölgeler arası bitki örtüsü farklılıkları gözlenir.  
C) İç bölgelerdeki ormanların kalitesi düşüktür.  
D) Orman altı bitki örtüsünün en zengin olduğu bölge Karadeniz'dir.  
E) Ormanların en az olduğu bölge İç Anadolu'dur.

35. İç Anadolu Bölgesi Marmara Bölgesi'nden sonra en fazla nüfus barındıran bölgedir. Buna rağmen bölgede nüfus yoğunluğu Güneydoğu Anadolu Bölgesi'nin nüfus yoğunluğundan azdır.

**Bu duruma neden olarak aşağıdakilerden hangisi gösterilebilir?**

- A) Yüz ölçümünün büyük olması
- B) Yer şekillerinin engebeli olması
- C) Kırsal nüfusun fazla olması
- D) Tarım alanlarının geniş olması
- E) Volkanik arazinin yaygın olması

36.



**Yukarıdaki Türkiye haritasında işaretli kentlerde kırsal meskenlerde aşağıdaki yapı malzemelerinden hangileri kullanılır?**

Antalya	Rize	Nevşehir
A) Taş	Ahşap	Volkan tüfü
B) Taş	Kerpiç	Kerpiç
C) Kerpiç	Volkan tüfü	Taş
D) Volkan tüfü	Ahşap	Kerpiç
E) Ahşap	Taş	Volkan tüfü

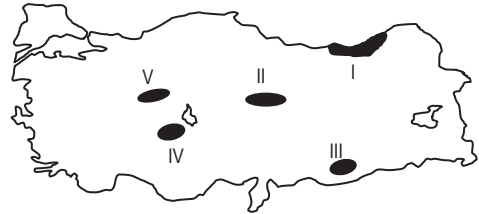
37. Doğu Anadolu Bölgesi'nden diğer bölgelere olan göçü azaltmak için;

- I. endüstri yatırımlarını artırma,
- II. mera hayvancılığını geliştirme,
- III. ulaşım ağını geliştirme,
- IV. altyapı, sağlık ve eğitim hizmetlerini artırma

**çalışmalarından hangileri çözüm olamaz?**

- A) Yalnız I
- B) I ve II
- C) Yalnız II
- D) II ve III
- E) III ve IV

38. **Nadas:** Tarım alanlarının sürülerek, suyunu tamamlayabilmesi için bir yıl ya da daha fazla boş bırakılması yöntemidir.



**Buna göre, haritada taralı alanların hangisinde nadas alanların en az olması beklenir?**

- A) I
- B) II
- C) III
- D) IV
- E) V

39. Ülkemizde bazı tarım ürünleri, doğal yetiştirme ortamlarında daha kârlı ürünler yetiştirildiği için sulamayla farklı bölgelerde üretilmektedir.

**Buna göre, aşağıda verilen tarım ürünlerinden hangisi ait olduğu iklim bölgesi dışında üretilmesine rağmen ekonomik değeri daha yüksektir?**

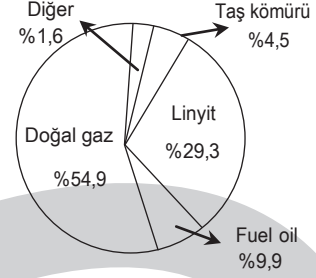
- A) Fındık  
B) Mısır  
C) Ayçiçeği  
D) Çay  
E) Şeker pancarı

40. Ülkemiz bir yarımada özelliği taşımasına rağmen su ürünleri üretimi birçok yıl tüketimi karşılayamamaktadır.

**Buna göre, ülkemizde balıkçılığın gelişmeme sebepleri arasında aşağıdakilerden hangisi gösterilemez?**

- A) Açık deniz balıkçılığının yapılmaması  
B) Teknolojik imkânların yetersizliği  
C) Usulsüz avlanma yöntemlerinin kullanılması  
D) Daha fazla gelir getiren işlerin yapılması  
E) Denizlerde kirliliğin artması

41. Aşağıdaki grafikte Türkiye'de termik santrallerde üretilen elektriğin enerji kaynaklarına göre payları verilmiştir.



**Yalnızca grafikteki bilgilerden yararlanarak aşağıdakilerden hangisine ulaşılabilir?**

- A) Termik santrallerde elektrik enerjisi üretiminde doğal gazın payı en fazladır.  
B) Üretilen elektrik enerjisinin tamamına yakını sanayide kullanılır.  
C) Termik santrallerde elektrik üretiminde fuel oil ve linyitin toplam payı doğal gazın payından fazladır.  
D) Termik santrallerde elektrik üretiminde taş kömürünün payı en azdır.  
E) Termik santrallerde kullanılan linyitin yarısından fazlası Ege Bölgesi'nden karşılanır.

42. Aşağıda verilen illerden hangisinde suni gübre fabrikası bulunmaz?

- A) Samsun  
B) Trabzon  
C) Bandırma  
D) Elazığ  
E) Gemlik

43. Türkiye'nin dış satımında ilk üç sırayı alan sektörler aşağıdakilerden hangisiyle sırasıyla birlikte verilmiştir?

I	II	III
A) Sanayi	Tarım	Maden
B) Tarım	Sanayi	Maden
C) Maden	Tarım	Sanayi
D) Sanayi	Maden	Tarım
E) Tarım	Maden	Sanayi

44. Aşağıdaki illerden hangileri arasında demir yolu ulaşımı **daha çok** maden taşımaya yöneliktir?

- A) Sivas – Karabük
- B) Adana – Osmaniye
- C) İstanbul – Eskişehir
- D) Ankara – Konya
- E) İstanbul – Ankara

45. Aşağıda verilenlerden hangisi Güneydoğu Anadolu Bölgesi'nin ayırt edici özellikleri arasında **yer almaz**?

- A) Yüz ölçümü en küçük olan bölgemizdir.
- B) Kırmızı mercimek üretiminin en fazla olduğu bölgedir.
- C) Orman yönünden en fakir bölgemizdir.
- D) Tarım ürünlerinin en geç olgunlaştığı bölgemizdir.
- E) Tarımda sulamanın en fazla ihtiyaç duyulduğu bölgedir.

46. Kamu hizmetlerinde ve kamu kuruluşlarında görev alacak personel, göreve alınmada, ilerleme ve yükselmeye, yer değiştirmede ve çikarmalarda tüm hizmet ve şartlarda ehliyetin esas tutulmasını öngören ilke aşağıdakilerden hangisidir?

- A) Kadro ilkesi
- B) Sınıflandırma ilkesi
- C) Kariyer ilkesi
- D) Eşitlik ilkesi
- E) Liyakat ilkesi

47. Aşağıdaki hukuki işlemlerden hangisi, sınırlı ehliyetsizin kendisi veya yasal temsilcisi tarafından yapılması mümkün olmayan yasak işlemlerden biri **değildir**?

- A) Vakıf kurma
- B) Kefil olma
- C) Rekabet yasağı taahhüdünde bulunma
- D) Taşınmaz mal satım sözleşmesi
- E) Önemli bağışlarda, bağışlayan sıfatıyla bulunma

48. Bir federasyonun kurulabilmesi için **en az kaç** derneğin bir araya gelmesi zorunludur?

- A) 2
- B) 3
- C) 4
- D) 5
- E) 6

49. Türk vatandaşlığı ile birlikte İngiliz vatandaşlığı da olan 29 yaşındaki Erdal'ın, yükümlü olduğu askerlik hizmeti tecil edilmiştir. Ayrıca Erdal hakkında, devletin birliğini ve bütünlüğünü bozma suçlaması ile yapılan yargılama devam etmektedir.

**Bu durumda 1982 Anayasası'na göre, aşağıdaki ifadelerden hangisi doğrudur?**

- A) Seçmen olabilmenin tüm şartlarını taşıdığı için milletvekili seçilmesi mümkündür.
- B) Askerliğini yapmadığı için milletvekili seçilemez.
- C) 30 yaşını doldurmadığı için milletvekili seçilemez.
- D) Çifte vatandaşlığı olduğu için milletvekili seçilemez.
- E) Anayasanın ilgili maddesinde sayılan suçlardan biriyle yargılandığı için milletvekili seçilemez.

50. Aşağıdakilerden hangisi görevi gereği bir başkasının yerine hiçbir durumda vekâlet edemez?

- A) Milletvekili
- B) Bakan
- C) Meclis Başkanı
- D) Meclis Başkanvekili
- E) Başbakan

51. Aşağıdakilerden hangisinin, Anayasa Mahkemesinin üyelerinin seçiminde aday gösterme yetkisi yoktur?

- A) Sayıştay Genel Kurulu
- B) Baro başkanları
- C) Yükseköğretim Kurulu
- D) TBMM
- E) Askerî Yüksek İdare Mahkemesi

52. 1982 Anayasası'na göre, aşağıdakilerden hangisi kamu idarelerinin gelir ve giderlerini denetler?

- A) Danıştay
- B) Sayıştay
- C) Yargıtay
- D) Uyuşmazlık Mahkemesi
- E) Anayasa Mahkemesi

53. 1982 Anayasası'na göre, Yüksek Seçim Kurulu kaç üyeden oluşur?

- A) 5 asıl, 2 yedek
- B) 6 asıl, 2 yedek,
- C) 7 asıl, 4 yedek
- D) 3 asıl, 2 yedek
- E) 11 asıl, 4 yedek

54. 657 sayılı Devlet Memurları Kanunu'na göre, memurların adaylık süresi aşağıdakilerden hangisinde doğru olarak verilmiştir?

- A) En az 6 ay, en çok 1 yıl
- B) En az 6 ay, en çok 3 yıl
- C) En az 1 yıl, en çok 3 yıl
- D) En az 1 yıl, en çok 2 yıl
- E) En az 2 yıl, en çok 3 yıl

55. G- 20 2014 Dönem Başkanlığı'nı aşağıdaki ülkelerden hangisi yapacaktır?

- A) Rusya
- B) Avustralya
- C) Suudi Arabistan
- D) Brezilya
- E) Kanada

56. Avrupa İnsan Hakları Mahkemesinin merkezi aşağıdaki şehirlerden hangisinde bulunmaktadır?

- A) Lahey
- B) Brüksel
- C) Strazburg
- D) Frankfurt
- E) Paris

57. Türkiye'de faiz oranlarını belirlemeye yetkili organ aşağıdakilerden hangisidir?

- A) Bakanlar Kurulu
- B) Merkez Bankası
- C) Bankacılık düzenleme ve Denetleme Kurulu
- D) Ekonomi Bakanlığı
- E) Hazine Müsteşarlığı

58. İslam Konferansı Örgütü (İKO) Genel Sekreteri aşağıdakilerden hangisidir?

- A) Ekmeleddin İhsanoğlu
- B) İyad bin Emin Madan
- C) Lahtar İbrahimi
- D) Yusuf İslam
- E) Kofi Annan

59. Türkiye son verilere göre, en fazla ihracatı aşağıdaki ülke gruplarından hangisine yapmaktadır?

- A) OECD Ülkeleri
- B) Avrupa Birliği Ülkeleri
- C) Türk Cumhuriyetleri
- D) Arap Birliği Ülkeleri
- E) Karadeniz Ekonomik İşbirliği Ülkeleri

60. İSEDAK (İslam İşbirliği Teşkilatı Ekonomik ve Ticaret İşbirliği Daimî Komitesi) Başkanlığını aşağıdakilerden hangisi yapmaktadır?

- A) Ahmet Davudoğlu
- B) Ali Babacan
- C) Zafer Çağlayan
- D) Abdullah Gül
- E) Recep Tayyip Erdoğan

**TEST BİTTİ.**  
**CEVAPLARINIZI KONTROL EDİNİZ.**