

2016

# KPSS

*kamu personel seçme sınavı*

Genel Yetenek  
Genel Kültür

# YEDİİKLİM

**Türkiye Geneli  
Deneme Sınavı**

Adayın,

Adı/Soyadı

.....

TC. Kimlik No

.....

Bölüm/Sınıf

.....



1. Bu genç şairimizi birkaç yıldır dikkatle izliyorum. Bence gelecek için ümit beslemeye değer. Doğrusu kolay beğenen biri değilim. Ama onu okurken ümitleniyorum. Düşünceleri güçlü, kendine özgü bir söyleyişi olduğu kesin. Sözcükleri özenle seçtiği de belli. Ancak o dizelerde, o anlatışta, o söyleyişte yürek çarpmalarını bulamıyorum.

**Bu parçadaki altı çizili bölümde, sözü edilen sanatçının hangi yönü vurgulanmak istenmiştir?**

- A) Yapıtlarında tek yönlü karakterler çizdiği  
B) Anlatımında duygularını yansıtamadığı  
C) Kendine özgü bir anlatım geliştiremediği  
D) Şiirlerinde, duygudan çok aklın ön planda olduğu  
E) Okuyanı heyecanlandıracak bir söyleyişten uzak olduğu

2. Geçmiş hakkında bilgi edinmek isteyen bir araştırmacının en büyük yardımcısı dergilerdir. Çünkü dergilerde devrin çehresini makyajsız olarak görübiliriz.

**Bu parçadaki altı çizili sözle anlatılmak istenen aşağıdakilerden hangisidir?**

- A) Dergilerin dili, diğer eserlere göre daha ağırdır.  
B) Toplumun beklentilerini anlatan kitaplar bugüne gelebilmiştir.  
C) Tarihî olaylar günümüze taşımanın tek aracı dergiler değildir.  
D) Önemli olayları anlatan eserler daha kalıcı olmaktadır.  
E) Dergiler, oluşturuldukları zamanın görüntüsünü natürel olarak yansıtır.

3. Edebiyat dünyamızda yıllardır konu ve üslup tartışmaları süregelmıştır. Anlatılan şey ne olursa olsun yazar unutmamalıdır ki dünyamızın sınırları, kelimelerimizin gidebildiği ufuklar kadardır.

**Bu parçadaki altı çizili sözle anlatılmak istenen aşağıdakilerden hangisidir?**

- A) Kullanılan kelimelerin anlam incelikleri önemli değildir.  
B) Aynı olay karşısında farklı tepkiler kelimelerle belirir.  
C) İnsanın hayal dünyasının hudutlarını kelimeler tespit eder.  
D) Düşüncenin sınırlarını belirleyen, yaşanan olaylardır.  
E) Yazarın his dünyası, onu diğer yazarlardan ayırır.

4. Öykülerinde kendi hayatına ayna tuttu ancak ----

**Bu cümle aşağıdakilerden hangisiyle sürdürülürse “yazarın bazı gerçekleri gizlediği” anlamı ortaya çıkar?**

- A) bu ayna yalnız güzellikleri gösterdi.  
B) toplum sorunlarını da anlattı.  
C) çoğu zaman sanatın temel ilkelerine değindi.  
D) aynaya yansıyanları sanat eseri hâline getiremedi.  
E) böyle bir şeyin kendisini anlatmak için yeterli olmayacağını düşünmedi.

www.yediiklim.com.tr

www.yediiklim.com.tr

www.yediiklim.com.tr

www.yediiklim.com.tr

www.yediiklim.com.tr

3

5. Dostluk, şık ve zarif bir kadınsa saygı onun boyundaki elmas gerdanlıktır.

**Aşağıdakilerden hangisi bu cümleyle aynı doğrultudadır?**

- A) Dostluk, iki insanın birbirini koşulsuz sevmesidir.  
 B) Gerçek dost, her şeyini tereddüt etmeden anlatabileceğin kişidir.  
 C) Karşımızdakinin fikrine saygı duymak, o fikri benimsemek değildir.  
 D) Dostluktan saygıyı kaldıran, onun en değerli süsünü kaldırmış olur.  
 E) Hoşgörü karşımızdaki insanın istediği şekilde mutlu olmasına yardımcı olmaktır.

6. (I) Tarık Dursun K.'nin toplu öyküleri bir araya getirildi. (II) *Toplu Öyküler*, öykü geleneğimizin büyük ustasının kaleminden çıkmış en iyi örneklerini yeniden okurla buluşturuyor. (III) *Toplu Öyküler*'in ilk cildi "Karanfilli Hikâye" adıyla yayımlandı. (IV) İlk cilt 1955'ten 1976'ya "Hasangiller"den "Bahriyeli Çocuk"a sekiz öykü kitabını içeriyor. (V) "Toplu Öyküler" in ikinci cildi "Gönlümün Bir Parçası" adını taşıyor.

**Bu parçada numaralanmış cümlelerin hangisinde karşılaştırma yapılmıştır?**

- A) I. B) II. C) III. D) IV. E) V.

7. (I) Halk şairleri eserlerini yazı ile değil söz ile yazarlar. (II) Bu da eski Şaman töresi göçebe yaşayışımızın önemli kişileri olan kam, baksı ve ozanların özelliğidir. (III) Böylece hem kendi eserlerini hem de başka şairlerin verimlerini halka yaymış, belleklerimize emanet etmiş olurlar. (IV) Ancak bu tarzda oluşturulan şiirlerin, şairlerin ağızlarından çıktıkları gibi saklanmayacağı tabidir. (V) Nitekim sazla söylenmiş sözlü parçalar çok defa değişip bozularak ulusun folklor hazinesine katılır.

**Bu parçada numaralanmış cümlelerle ilgili olarak aşağıda verilenlerden hangisi yanlıştır?**

- A) I. cümlede bir işin nasıl yapıldığı anlatılmıştır.  
 B) II. cümlede benzetmeye yer verilmiştir.  
 C) III. cümlede varılan sonuçtan söz edilmiştir.  
 D) IV. cümlede bir durumun değişebilirliği dile getirilmiştir.  
 E) V. cümlede bir ürünün son şeklinden söz edilmiştir.

8. Uzun zamandır ünlü yazarın yapıtlarını okurla buluşturmayı başaran torunu, yazarın kayıp bir romanını daha gün ışığına çıkararak okurlara yeni bir heyecan getirmiş oldu.

**Bu cümleden aşağıdakilerden hangisi kesin olarak çıkarılabilir?**

- A) Yazarın bütün romanları torunu tarafından okurla buluşturuldu.  
 B) Yazarın yapıtları döneminin yansıması gibidir.  
 C) Yazarın okurla buluşturulmuş en az iki kayıp romanı vardır.  
 D) Sanatçının merakla beklenen son yapıtı piyasaya sürüldü.  
 E) Eserin bulunmasıyla yazarın ünü daha da arttı.

9. Bu yontma tekniğine en uygun malzeme olduğu için eserlerinde ahşabı ----- sanatçı, genellikle hayvan figürlerini -----.

**Bu cümledeki boşluğu anlam bakımından en uygun biçimde tamamlayan seçenek aşağıdakilerden hangisidir?**

- A) tercih eden - alıyor
- B) beğenen - yansıtıyor
- C) ele alan - elden çıkarıyor
- D) tavsiye eden - süslüyor
- E) kullanan - işliyor

10. Önce baygın bir iniltiydi yamaçtan duyulan,  
Sonra bir gölge belirmişti kuş uçmaz yoldan;  
Köyümün titreterek bağı yanık toprağını  
İnliyor, baktım, uzaktan görünen bir kağı

**Bu dizelerde aşağıda verilen ses olaylarından hangisi yoktur?**

- A) Ünsüz yumuşaması
- B) Ünlü daralması
- C) Ünlü düşmesi
- D) Ünsüz düşmesi
- E) Ünsüz benzeşmesi

11. Bir düşünür: ( ) İnsan daima, kendisini olmak istediği gibi görür ( ) ( ) demiş. Bu sözünü insanların maske taktıklarını mı söylemiş ( ) Kendi maskesini indirmeye cesareti olan biriyim ( )

**Bu parçada ayrıla belirtilen yerlere sırasıyla aşağıdakilerin hangisinde verilen noktalama işaretleri getirilmelidir?**

- A) (" (!) (" (.) (...)
- B) (" (.) (" (?) (.)
- C) (" (.) (" (:) (.)
- D) (" (.) (" (...) (:)
- E) (" (" (.) (!) (?)

12. (I) Sait Faik modern öykücülüğümüzün kurucusudur. (II) "Herşey insanı sevmekle başlar." anlayışı ile öykülerine sadık kalmıştır. (III) İstanbul'un kenar semtlerini, balıkçıları, öğrencileri anlatmıştır öykülerinde. (IV) Bu konuları Çehov tarzında kaleme almıştır. (V) "Semaver, Lüzumsuz Adam, Sarnıç" gibi unutulmaz öyküleriyle edebiyatımızın en önemli ustalarından biri olmuştur.

**Bu parçada numaralanmış cümlelerden hangi ikisinde yazım yanlışı yapılmıştır?**

- A) I. ve II.      B) II. ve III.      C) II. ve IV.
- D) III. ve IV.      E) IV. ve V.

13. (I) Önceleri yazı yoktu, söz vardı. (II) İnsanlar oluşturdukları edebî ürünleri birbirlerine ve sonraki kuşaklara ancak sözlü olarak aktarabiliyorlardı. (III) Bu da birçok ürünün değişmesine ya da kaybolmasına neden oluyordu. (IV) Bu nedenle yazı, kültürün sürekliliğini sağlayan önemli bir araç olmuştur. (V) Ortaya konulan ürünler taşlara, derilere, papirüse ve mağara duvarlarına yazılmaya başlanmıştır.

**Bu parçadaki numaralanmış cümlelerle ilgili aşağıdakilerden hangisi yanlıştır?**

- A) I. cümle sıralı cümle özelliği gösterir.
- B) II. cümle özne, nesne, dolaylı tümleç ve yüklemden oluşmuştur.
- C) III. cümlede yüklem birleşik zamanlıdır.
- D) IV. cümlede bir sözcük hem niteleme hem belirtme sıfatı almıştır.
- E) V. cümlede yönelme hâl eki kullanılmıştır.

14. Bir yaprak düşünce dalından

Ben onun altında kalıyorum

**Bu dizelerde aşağıdakilerden hangisi yoktur?**

- A) Belirtme sıfatı
- B) Farklı türde zamirler
- C) Sıfat-fiil
- D) Çekimli eylem
- E) Ulaş

15. Ankara'nın mimarisiyle ünlü ilçesi Ayaş'ta bir sokak... Sokaktaki tarihî evlerden biri... Badanası solmuş, sıvaları yer yer dökülmüş. Pencere pervazları da doğaya direniyor, bir bakıma evin sahibi yaşlı kadını andırıyor. Ev de yorgun, sahibi de. Ne var ki yaşam sürüyor.

**Bu parçanın anlatımında aşağıdakilerden hangisine başvurulmamıştır?**

- A) İzlenimleri belirtmeye
- B) Benzetme yapmaya
- C) Eksilteli cümleler kullanmaya
- D) Kişileştirmeden yararlanmaya
- E) Tanımlama yapmaya

16. Güneş hep erken doğar baharat kokulu ülkede. İyi ki doğar. Yoksa milyonlarca esmer, kara gözlü insanın yaşadığı ülke nasıl aydınlanır? Kara gözlü insanların, baharat kokulu kentlerindeki çelişkilerse yürek burkucu. Okyanustan gelen esinti bile sokaklara taşan yoksulluğun, derme çatma evlerdeki yaşamın sıkıntısını hafifletmiyor. Muson yağmurları ansızın sizi ter ve sivrisinek sarmalı içinde bırakıyor. Muson yağmurlarıyla yıkanan şehir mi yoksa insanlar mı ayırt edemiyorum, insana değer verilmeyen ve emeğin ucuz olduğu bu ülkede.

**Bu parçanın anlatımıyla ilgili olarak aşağıda verilenlerden hangisi yanlıştır?**

- A) Tanık göstermeden yararlanılmıştır.
- B) Bir sohbet havasında yazılmıştır.
- C) Soru cümlesine yer verilmiştir.
- D) Devrik cümleye yer verilmiştir.
- E) Öznel ifadelerle yer verilmiştir.

17. I. Paris'in kafelerini, sokaklarını, sinemalarını ve müzelerin ağızımızın suyu akarak dinlerdik ondan.  
 II. Sanırım Paris, amcamın anlattığı biçimiyle hiç var olmadı.  
 III. Amcamın Fransa'daki yaşamıyla ilgili pek çok şey biliyorduk.  
 IV. Yıllar sonra Paris'e gittiğimde büyük bir düş kırıklığı yaşamıştı.  
 V. Dünyanın farklı köşelerini gezen amcam, yazar ve şair dostlarıyla yaşadığı ilginç anıların neşeli ve enerjik üslubuyla bize aktarırdı.

**Yukarıdaki numaralanmış cümleler anlamlı bir bütün oluşturacak biçimde sıralandığında baştan üçüncü cümle hangisi olur?**

- A) I. B) II. C) III. D) IV. E) V.

18. Bugün babaların birçoğu çocuklarından yakınıdır. Bunlar kendi çocukluklarını unutmuş gibidirler. Bilmezler ki bir zamanlar kendi babaları da aynı şekilde onlardan yakınmışlardı. Tıpkı kendilerinin şimdi yaptıkları gibi, babaları onlara: "Biz çocukken böyle miydik? Sinema nedir bilmez, maçı tanımaz, büyüklerimizin sözlerinden dışarı çıkmazdık. Ya şimdikiler... Nerde..." demişlerdi ama bunları bilen, hatırlayan var mı ki?

**Bu parçaya getirilebilecek en uygun başlık aşağıdakilerden hangisidir?**

- A) Çocukların Eğitimi  
 B) Anılar  
 C) Babalar ve Çocukları  
 D) Çocukluk Günleri  
 E) Geçmiş Unutmak

19. İngilizce ya da başka bir yabancı dil öğrenenler bilir; öğrenim sürecinde sözcüklerin hangi vurguyla söyleneceği özel işaretlerle gösterilmiştir. Büyük, küçük ya da içi boş birtakım yuvarlaklarla. Türkçede ise vurgu konusu öğretilmez, bütünlüğüyle kulak belleğine bırakılır. Bu yüzden, yalnız Türkçeyi sonradan öğrenenler değil, ana dil olarak Türkçe konuşanlar da yanlış öğrenmişler ya da öğrenememişlerse kimi sözcükleri ölünceye kadar yanlış söyleyebilirler.

**Bu parçaya göre sözcüklerin yanlış söylenmesinin nedeni aşağıdakilerden hangisidir?**

- A) Türkçenin zor bir dil olması  
 B) Özel işaretlerin Türkçede bulunmaması  
 C) Türkçenin sonradan öğrenilmiş olması  
 D) Türkçede vurgu konusunun öğretilmemesi  
 E) Kulağın söylenenleri tam olarak algılayamaması

20. 13. yüzyılda Mevlana, Türkçeyi yeterli bulmadığı için eserlerini Farsçayla yazmıştır. Bu nedenle İranlılar Mevlana'nın Türk değil, İranlı bir şair olduğunu savunurlar. Aynı yüzyılda yaşayan Yunus Emre ise Arapça ve Farsçayı çok iyi bildiği hâlde şiirlerini Türkçe yazmıştır. Türkçe yazan Yunus Emre'nin Türklüğünden hiç kimsenin şüphesi yoktur. Ancak Mevlana'nın eserlerinde kendisinin Türk olduğunu söylemesine rağmen İranlılar onun Türk değil, İranlı olduğunu iddia edebilmektedir. Demek ki dil, ---- en önemli unsurların başında gelmektedir.

**Düşüncenin akışına göre bu parçada boş bırakılan yere aşağıdakilerden hangisi getirilmelidir?**

- A) nesiller arasında köprü oluşturan  
 B) düşünce dünyamızı biçimlendiren  
 C) sanatçıları ölümsüz kılan  
 D) yazarın kişiliğini ortaya koyan  
 E) millî kimliğimizi belirleyen

21. (I) Sanatta çocuk kahramanların işlenişi her zaman ilgimi çekmiştir. (II) Çocuğuma yeni bir gözle bakabilmemi sağlasın diye her sözcüğüne özel bir dikkat harcayarak okudum bu kez. (III) Okurken çocuksu bir dünya gibi çocuksuz bir sanatın da ne kadar kurak ve albenisiz olacağı gerçeğini bir kez daha duyumsadım. (IV) Yapıtın özüne işlenmiş olan çocuk sevgisini bir kez daha kendi kareme aktarmak için yapıtı yeniden okudum. (V) Bu kitabı, çocuk ögesinin sinemadaki izdüşümlerini incelediği için okudum.

**Bu parçada numaralanmış cümlelerden hangileri yer değiştirirse anlamlı bir bütün oluşur?**

- A) I. ve III.      B) II. ve IV.      C) II. ve V.  
D) III. ve IV      E) IV. ve V.

22. Okur sayısı düşük. Kitapların satışından kazandığı para, yazarı geçindirmiyor. Yazar yazdığıyla geçinemediği için, yan işler tutmak zorunda kalıyor. Daha doğrusu yazarlık bir yan iş oluyor. Böylece yazarın, yaratıcılık özgürlüğü daha baştan kısıtlanıyor. Ayrıca yazar her yazdığını istediği zaman, kolayca yayımlatamıyor. Yayımlatabilirse ve salt yayımlattığı ile geçinmek isterse o zaman da durmadan yazması, yazdıkları üzerinde düşünmeden yeniden yazması gerekiyor.

**Bu parçada yazarlarla ilgili olarak aşağıdakilerin hangisinden söz edilmemiştir?**

- A) Yazdıklarının, istenilen sayıda okuyucu bulamamasından  
B) Sadece yazarlıkla geçinmelerinin zor olmasından  
C) Ağır koşullar içinde bulunmanın, yaratma güçlerini kamçılamasından  
D) Yazılanları yayımlatmada zorluklarla karşılaşmalarından  
E) Başka işler yapma zorunluluğunun, yaratma güçlerini sınırlamasından

23. (I) Ailelerin, çocuklara öncelikli olarak ahlaki ve insani değerler kazandırması gerekir. (II) Günümüzde anne-babalar çocukları daha 8 aylıken onlara uygun olduğunu düşündükleri birtakım programlar oluşturmaya başlıyor. (III) Ailelerin bu davranışına "aşırı anne-babalık", çeşitli etkinliklerle zamanı tika basa doldurulmuş bu "proje çocuk"lara da "aşırı programlanmış çocuk" deniyor. (IV) Türlü türlü etkinlikler için oradan oraya çektiştirilen "proje çocuklar" çocukluklarını yaşayamıyor ve sonunda depresyona yenik düşüyor. (V) Bunun sonucunda giderek mutsuzlaşan çocuklar toplumsal bir sorun hâline geliyor.

**Bu parçada numaralanmış cümlelerden hangisi parçanın anlam bütünlüğünü bozmuştur?**

- A) I.      B) II.      C) III.      D) IV.      E) V.

24. I. Ve işin şaşırtıcı yanı, çocukların haklı olması.  
II. Öyle görünüyor ki insanoğlunun zekâsı nesilden nesile giderek yükseliyor.  
III. Günümüz çocuklarının video ve bilgisayar gibi elektronik aletleri anne ve babalarından daha zekice kullandıkları görülmektedir.  
IV. Çünkü araştırmalar 1950'li yıllardan bu yana çocukların zekâ katsayılarının sürekli arttığını gösteriyor.  
V. Çocuklar bu konuda hiç alçakgönüllü de değil, büyüklerinden daha akıllı olduklarını düşünüyorlar.

**Yukarıda numaralanmış cümlelerle bir paragraf oluşturulduğunda doğru sıralama aşağıdakilerden hangisi olur?**

- A) V - I - II - IV - III  
B) II - IV - III - V - I  
C) III - V - I - IV - II  
D) IV - II - III - I - V  
E) I - II - IV - V - III



25 - 26. soruları aşağıdaki parçaya göre cevaplayınız.

Ece Ayhan'ın Oktay Rifat'la ilgili düşüncelerini daha somut ortaya koyabilmemiz için İkinci Yeni'nin ilk yıllarını kısaca anımsamakta yarar var. Hareketin ortaya çıkış günlerinde şiirdeki bu değişim ve yenileşmeye bir "öncü" arar mahiyette kimi tartışmalar da başlatılmıştı. Bu arada Oktay Rifat, 1956'da yayımlanan "Perçemli Sokak" kitabını kanıt göstererek İkinci Yeni'nin öncüsü, hatta "kurucusu" olduğunu öne sürüyordu. Öbür İkinci Yeni şairleri gibi Ece Ayhan da buna şiddetle karşı çıkar. "Bay Horozcu" dediği Oktay Rifat'ın "mahalleye yeni gelen kiracıların çocukları gibi süregelmekte olan bir oyunun başından başlamak" istediğini, bunu "üstelik bu oyunu kurallarını bilmeden, salt öykünerek, dün dediğinin tam aksini söyleyerek acemice" yaptığını söyler.

25. Bu parçada geçen "salt öykünerek" ifadesinin taşıdığı anlam aşağıdaki cümlelerin hangisinde vardır?

- A) Söylediklerinin biraz olsun ötesinde bir düşünce yapısına sahip olmanı isterdim.
- B) Eserlerinde, karakterlerin ruhsal betimlemelerini yaparken dili çok akıcı kullanıyor.
- C) Bu sanatçının yazdıklarının çoğu, sadece başkalarının eserlerinin taklidi.
- D) Sadece bildiklerimi anlatmıştım ve merakla dinliyordu herkes beni.
- E) Ece Ayhan'ın şiirleri kimseninkilere benzemeyen sıra dışı yapıtlardır.

26. Bu parçadan yola çıkarak aşağıdakilerden hangisine ulaşamaz?

- A) Ece Ayhan, Oktay Rifat'ın İkinci Yeni şiirinin öncüsü olduğu fikrini kabul etmemiştir.
- B) İkinci Yeni şiirinin asıl kurucusu sanıldığı gibi Oktay Rifat değil Ece Ayhan'dır.
- C) İkinci Yeni, edebiyatımızda bir yeniliğin ve farklılığın ortaya konduğu bir şiir anlayışıdır.
- D) Ece Ayhan'a göre Oktay Rifat bazı noktalarda tutarsız ve acemice hareket etmektedir.
- E) İkinci Yeni şiirinin ortaya çıktığı dönemlerde bazı tartışmalar yaşanmıştır.

27. - 30. soruları aşağıdaki bilgilere göre birbirinden bağımsız olarak cevaplayınız.

Bir ressamın resimlerinde kullandığı altı renk aşağıdaki gibi sınıflanmaktadır.

Ana renkler	Beyaz	Kırmızı	Mavi
Ara renkler	Turuncu	Mor	Siyah
Sıcak renkler	Beyaz	Turuncu	Kırmızı
Soğuk renkler	Mavi	Mor	Siyah

Bu ressam, resim yaparken şu kurallara uymaktadır:

- Her resim bu altı rengin üç tanesinde oluşmalıdır.
- Her resimde ana ve ara renk gruplarından en az bir renk olmalıdır.
- Resimde mavi kullanılmışsa siyahın da kullanılması zorunludur.
- Resimde turuncu kullanılmışsa morun da kullanılması zorunludur.
- Resimde kırmızı varsa beyaz olamaz.

27. Aşağıdakilerden hangisi, bu ressamın herhangi bir resminde kullandığı renk gruplarından biri olamaz?

- A) Mor - Kırmızı - Siyah
- B) Kırmızı - Mavi - Siyah
- C) Turuncu - Mor - Beyaz
- D) Mavi - Siyah - Turuncu
- E) Beyaz - Mavi - Siyah

28. Ressam, iki ana rengin bulunacağı bir resimde aşağıdakilerden hangisini kullanmak zorundadır?

- A) Turuncu      B) Beyaz      C) Kırmızı
- D) Mor              E) Siyah

29. Bu altı renk, birbirine zıt renkler olarak üç gruba ayrılmaktadır.

- I. Beyaz - mor
- II. Mavi - turuncu
- III. Kırmızı - siyah

Ressam, renklerinden ikisi birbirine zıt olan bir resim yapmak isterse, yukarıdaki zıt renk gruplarından hangilerini kullanabilir?

- A) Yalnız II      B) Yalnız III      C) I ve III
- D) II ve III      E) I, II ve III

30. Ressam, resimlerin üç renkten oluşması kuralını bozarak dört renkten oluşan bir resim yapmak isterse, öteki kuralların hepsine uyması şartıyla;

- I. dört renkten üçü ana renk olan,
  - II. dört renkten üçü ara renk olan,
  - III. dört renkten üçü sıcak renk olan,
  - IV. dört renkten üçü soğuk renk olan
- resimlerden hangilerini yapabilir?

- A) Yalnız I      B) Yalnız II      C) Yalnız III
- D) II ve IV      E) I, II ve III

31. 2 den başlamak koşulu ile küçükten büyüğe doğru sırasıyla yazılan asal sayıların çarpımına 1 eklendiğinde bulunan sayı asal olur. Bu şekilde elde edilen asal sayılara "öklid asalı" denir.

( $2.3 + 1 = 7$  ve  $2.3.5 + 1 = 31$  gibi.)

Buna göre, aşağıdakilerden hangisi öklid asalıdır?

- A) 71 B) 87 C) 211 D) 213 E) 371

32. n, m ve A birer doğal sayıdır.

$$\frac{11!}{2^n \cdot 3^m} = A$$

eşitliğinde A'nın en küçük değeri için n + A toplamı kaçtır?

- A) 1933 B) 1925 C) 1920  
D) 1918 E) 1915

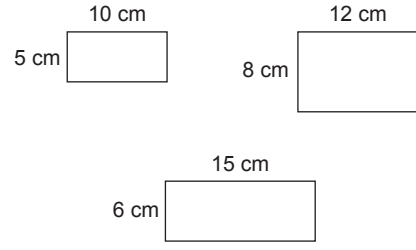
33.

$$\begin{array}{r} \text{A B C} \\ + \quad 5 \text{ D} \\ \hline \cdot \cdot \cdot \cdot \\ \times 1070 \\ \hline \end{array}$$

Yukarıdaki çarpma işlemine göre A + B + C toplamı kaçtır?

- A) 5 B) 6 C) 7 D) 8 E) 9

34. Aşağıda üç çeşit fayans örneği gösterilmiştir.



Kare şeklindeki bir odanın tamamı sadece I., sadece II. ya da sadece III. çeşit fayanslarla döşenebilmektedir.

Buna göre, bu odanın tamamı sadece II. çeşit fayansla döşenirse en az kaç tane fayans kullanılır?

- A) 100 B) 120 C) 140 D) 150 E) 300

35.  $8 - \frac{7}{3 + \frac{1}{2}}$

işleminin sonucu kaçtır?

- A) 4 B)  $\frac{9}{2}$  C) 5 D)  $\frac{11}{2}$  E) 6

36.  $\left(8 - 0,2 : 0,1 + \frac{1}{4}\right) \cdot 0,64$

işleminin sonucu kaçtır?

- A) 4    B) 2    C) 1    D) 0,2    E) 0,04

37.  $\frac{3^8 + 3^9 + 3^{10} + 3^{11}}{3^{-2} + 3^{-3} + 3^{-4} + 3^{-5}}$

işleminin sonucu kaçtır?

- A)  $3^{10}$     B)  $3^{11}$     C)  $3^{12}$     D)  $3^{13}$     E)  $3^{14}$

38.  $\sqrt{1 - \frac{9}{25}} \cdot \sqrt{2 + \frac{1}{4}} \cdot \sqrt{2 + \frac{1}{12}}$

işleminin sonucu kaçtır?

- A)  $\sqrt{3}$     B)  $2\sqrt{3}$     C) 4    D)  $3\sqrt{3}$     E) 6

39. a, b ve gerçel sayılardır.

$$a < a^3 < a^2$$

$$a \cdot b < 0$$

$$c = a - b$$

olduğuna göre a, b ve c için aşağıdakilerden hangisi doğrudur?

- A)  $c < b < 0 < a$     B)  $b < c < 0 < a$   
 C)  $a < 0 < b < c$     D)  $a < c < 0 < b$   
 E)  $c < a < 0 < b$

40.  $x < y < 0$  olmak üzere,

$$|2x - 3y| = 5$$

$$|y - 3x| = 18$$

eşitlikleri veriliyor.

Buna göre,  $x + y$  toplamı kaçtır?

- A) -9    B) -10    C) -11    D) -12    E) -13

41.  $\frac{x}{3} = \frac{y-2}{2} = \frac{z+1}{5}$

$$x + y + z = 81$$

olduğuna göre, y kaçtır?

- A) 12    B) 14    C) 16    D) 18    E) 20

42. 68 bilyenin tamamı bir grupta bulunan çocuklara her bir çocuk farklı sayıda bilye alacak şekilde dağıtılacaktır.

**Buna göre, bu gruptaki bilye alan çocuk sayısı en fazla kaçtır?**

- A) 8 B) 9 C) 10 D) 11 E) 12

43. Bir manavdaki tartı ayarı bozuk olduğu için her 1 kilogramlık ağırlığı 1200 gram olarak ölçmektedir.

**Bu hatalı tartıda tartılıp 18 TL'ye satılan bir miktar domates, doğru bir tartıda tartılsaydı kaç TL'ye satılırdı?**

- A) 15 B) 16 C) 17 D) 19 E) 20

44. Bir babanın yaşı, yaşları tam sayı ve birbirinden farklı üç çocuğunun yaşları toplamının 3 katına eşittir. 3 yıl sonra babanın yaşı, çocuklarının yaşları toplamının 2 katı olacaktır.

**Buna göre, en küçük çocuk en çok kaç yaşındadır?**

- A) 3 B) 4 C) 5 D) 6 E) 7

45. Bir mağaza ürünlerinin satış fiyatında %30 indirim yaptığında bir günde satılan ürün miktarının %70 arttığını görüyor.

**Buna göre, mağazanın kasasına bir günde giren para yüzde kaç artmıştır?**

- A) 10 B) 19 C) 27 D) 30 E) 35

46. A kenti ile B kenti arası 660 km'dir. A'dan B'ye hareket eden bir araç sabit bir hızla 4 saat gittikten sonra, saatteki hızını 20 km artırarak kalan yolu 6 saatte tamamlıyor.

**Buna göre, aracın ilk hızı saatte kaç km'dir?**

- A) 60 B) 54 C) 52 D) 50 E) 48

47. Bir elektrik devresinde bulunan A, B, C, D ve E lambaları alfabetik sıraya göre birer kez yanıp sönüyor. E lambası yanıp söndükten sonra her seferinde A lambası yanıp sönüyor ve bu şekilde lambalar alfabetik sıraya göre yanıp sönmeye devam ediyor. Art arda yanan iki lamba arasında geçen sürenin aynı olduğu gözleniyor.

**A lambasının ilk kez saat 10:00'da yandığı bir günde E lambası saat 13:10'da 4. kez yanıp söndüğüne göre, A lambası kaç dakika aralıklarla yanıp söner?**

- A) 40 B) 50 C) 55 D) 60 E) 65

$$48. x^2 + y^2 = 6xy$$

**olduğuna göre,  $\frac{x-y}{x+y}$  oranı kaçtır?**

- A)  $\frac{1}{2}$  B) 1 C)  $\frac{\sqrt{2}}{2}$  D)  $\sqrt{2}$  E)  $2\sqrt{2}$

49. Tam sayılarda tanımlı  $\Delta$  işlemi "a  $\Delta$  b = a'dan b'ye kadar olan tek sayıların toplamı" olarak tanımlanıyor.

$$(3 \Delta 10 = 3 + 5 + 7 + 9 \text{ gibi})$$

Buna göre,  $-45 \Delta 52$  işleminin sonucu kaçtır?

- A) 201 B) 193 C) 181 D) 164 E) 147

50.  $f\left(3 + \frac{3}{x}\right) = \frac{18}{x^2} + 7 + \frac{12}{x}$

olduğuna göre,  $f(2)$  kaçtır?

- A)  $\frac{35}{2}$  B) 17 C) 10 D) 7 E) 5

51. Bir torbada bulunan 80 topun her birinin üzerinde 2 veya  $-3$  sayılarından birisi yazılıdır. Bu topların tamamının üzerindeki sayıların toplamı 40'tır.

Buna göre, bu torbadan rastgele alınan bir topun üzerindeki sayının  $-3$  olması olasılığı kaçtır?

- A)  $\frac{1}{10}$  B)  $\frac{1}{5}$  C)  $\frac{3}{10}$  D)  $\frac{2}{5}$  E)  $\frac{3}{5}$

52. - 53. soruları aşağıdaki bilgilere göre birbirinden bağımsız olarak cevaplayınız.

1	3	5	7	→ 1. satır
		B		→ 2. satır
				→ 3. satır
A			10	→ 4. satır

Yukarıda verilen 4x4 lük tablonun hücrelerine 1 den 16 ya kadar olan tüm doğal sayılar aşağıdaki kurallara göre yerleştirilecektir.

- Sayılar her sütunda yukarıdan aşağıya doğru artan sırada olacaktır.
- Sütundaki sayıların toplamı eşit olacaktır.

52. Buna göre, 3. satırdaki sayıların toplamı kaçtır?

- A) 48 B) 46 C) 44 D) 42 E) 40

53. Buna göre, A + B toplamı kaçtır?

- A) 16 B) 18 C) 20 D) 22 E) 24

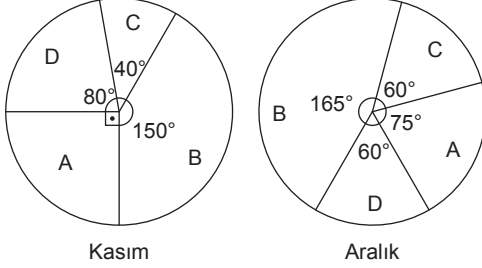
54. Kaan 1 den 12 ye kadar olan tüm doğal sayıları boş kâğıda yazıyor. Her adımda kâğıtta yazılı olan sayılardan birini seçiyor ve seçtiği bu sayının tam katlarını kâğıttan siliyor. Kaan iki adım uyguladıktan sonra kâğıtta 1, 2, 5, 7, 10 ve 11 sayıları kalıyor.

Bu iki adımda Kaan'ın seçtiği sayıların toplamı kaçtır?

- A) 5 B) 6 C) 7 D) 8 E) 10

55. - 57. soruları aşağıdaki bilgilere göre birbirinden bağımsız olarak cevaplayınız.

Bir markette satılan A, B, C ve D isimli gazetelerin kasım ve aralık aylarında satış sayılarının dağılımı aşağıdaki dairesel grafiklerde gösterilmiştir.



55. Bu markette aralık ayında satılan gazete sayısı kasım ayında satılan gazete sayısının  $\frac{5}{2}$  katıdır.

Kasım ayında bu markette 600 tane C gazetesi satılmıştır.

Buna göre, bu markette aralık ayında kaç tane D gazetesi satılmıştır?

- A) 1500      B) 1600      C) 1800  
D) 2200      E) 2250

56. Bu markette kasım ve aralık aylarındaki D gazetesinin satış sayıları birbirine eşittir.

Buna göre, kasım ayındaki A gazetesinin satış sayısının aralık ayındaki A gazetesinin satış sayısına oranı kaçtır?

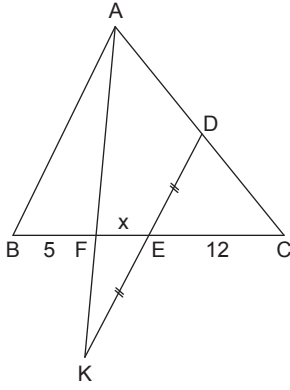
- A)  $\frac{7}{10}$       B)  $\frac{4}{5}$       C)  $\frac{9}{10}$       D)  $\frac{5}{9}$       E)  $\frac{4}{9}$

57. Bu markette kasım ayında satılan B gazetesi sayısı kasım ve aralık ayında satılan tüm gazete sayısının altıda birine eşittir.

Buna göre, kasım ayında satılan D gazetesinin sayısının aralık ayında satılan D gazetesi sayısına oranı kaçtır?

- A)  $\frac{2}{5}$       B)  $\frac{3}{2}$       C)  $\frac{2}{3}$       D)  $\frac{7}{9}$       E)  $\frac{8}{9}$

58.

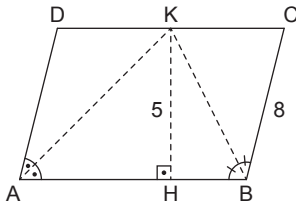


$$\begin{aligned} |DE| &= |EK| \\ |BF| &= 5 \text{ br} \\ |EC| &= 12 \text{ br} \\ |DK| &\parallel |AB| \end{aligned}$$

olduğuna göre,  $|FE| = x$  kaç birimdir?

- A) 6    B) 5    C) 4    D) 3    E) 2

59.



ABCD bir paralelkenar

$$KH \perp AB$$

$$|KH| = 5 \text{ br}$$

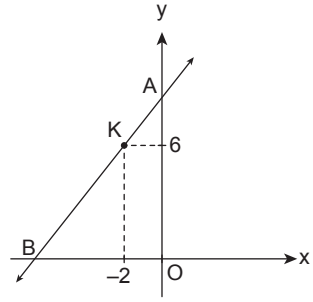
$$|BC| = 8 \text{ br}$$

Şekildeki ABCD paralelkenarının A ve B açılarının iç açıortayları [DC] kenarı üzerindeki K noktasında kesişmektedir.

Buna göre, ABCD paralelkenarının alanı kaç  $\text{br}^2$  dir?

- A) 100    B) 80    C) 75    D) 70    E) 60

60.



Şekildeki AB doğrusu  $K(-2, 6)$  noktasından geçmektedir.

$$|AO| = 3|OB|$$

olduğuna göre, A noktasından AB doğrusuna çizilen dik doğrunun denklemi aşağıdakilerden hangisidir?

- A)  $2x + 3y - 36 = 0$   
 B)  $3y + x - 36 = 0$   
 C)  $3y + x - 24 = 0$   
 D)  $3x + y - 36 = 0$   
 E)  $2x + 3y - 18 = 0$

GENEL YETENEK TESTİ BİTTİ.  
GENEL KÜLTÜR TESTİNE GEÇİNİZ.



1. • Günümüzde varlığını sürdüren Kazan Türklerinin atalarıdır.
- Almış Han Dönemi'nde Müslümanlığı kabul ettikleri için bazı tarihçiler tarafından ilk Müslüman Türk devleti olarak kabul edilirler.
- 1237 yılında Altın Orda Devleti tarafından varlıklarına son verilmiştir.

**Yukarıda özellikleri verilen Türk devleti aşağıdakilerden hangisidir?**

- A) İtil Bulgarları  
B) Peçenekler  
C) Avarlar  
D) Tuna Bulgarı  
E) Oğuzlar

2. Anadolu'daki ilk kervansaray olan Alay Han ve Anadolu'daki en büyük han olan Sultan Hanı hangi devlet döneminde yapılmıştır?

- A) Danişmentliler  
B) Anadolu Selçukluları  
C) Mengücekler  
D) Saltuklular  
E) Çubukoğulları

3. Aşağıdakilerden hangisi Nizamiye Medreselerinin kuruluş amaçlarından biri değildir?

- A) Selçuklu topraklarında yıkıcı ve bölücü faaliyetleri önlemek  
B) Bilim insanı yetiştirerek fikre fikir ile karşılık vermek  
C) Selçuklu Devleti'nin ordularını yönetecek asker ihtiyacını karşılamak  
D) Din adamı ihtiyacını karşılamak ve Oğuzların İslam inançlarını pekiştirmek  
E) Genişleyen devletin yönetim kademeleri için memur yetiştirmek

4. I. Sırpsındığı Savaşı  
II. Sazlıdere Savaşı  
III. Birinci Kosova Savaşı

**Osmanlı Devleti'nin Kuruluş Dönemi'nde gerçekleşen yukarıdaki savaşlardan hangileri I. Murat'ın hükümdarlığı sırasında yaşanmıştır?**

- A) Yalnız I      B) Yalnız II      C) Yalnız III  
D) I ve II      E) I, II ve III

5. I. Bektaşilik  
II. Kadirilik  
III. Haşhaşilik

**Yukarıdaki tarikatlardan hangileri Anadolu'da hüküm sürmüştür?**

- A) Yalnız I      B) Yalnız II      C) Yalnız III  
D) I ve II      E) I, II ve III

6. Aşağıdakilerden hangisi Fatih (II. Mehmet) Devri'nde yaşamış ve "Hattatların Kiblesi" lakabıyla bilinen ünlü hat ustasıdır?

- A) Amasyalı Şeyh Hamdullah  
B) Sinan Bey  
C) Nigari  
D) Matrakçı Nasuh  
E) Nakkaş Osman

7. Osmanlı Devleti'nin XVI. yüzyılın sonlarından itibaren yapmış olduğu yoğun savaşların;

- I. Celâli İsyanlarının çıkması,
- II. Anadolu'da üretimin düşmesi,
- III. taşrada devlet etkinliğinin kaybedilmesi

**durumlarından hangilerinin yaşanmasına neden olduğu söylenebilir?**

- A) Yalnız I
- B) Yalnız II
- C) Yalnız III
- D) I ve II
- E) I, II ve III

8. Osmanlı Devleti'nde vakıflardan hangi alanlarda **yararlanılmamıştır?**

- A) Kapı Kulu Ordusunun asker ihtiyacının karşılanmasında
- B) Yerleşim yerlerinin sosyokültürel ihtiyaçlarının karşılanmasında
- C) Halkın sağlık, eğitim ve öğretim alanlarındaki ihtiyaçlarının karşılanmasında
- D) Yolların, han ve kervansaray gibi yapıların yapım ve işletiminde
- E) Osmanlı Devleti sınırları içinde uygulanan iskân faaliyetlerinde

9. Aşağıdakilerden hangisi Osmanlı Devleti ile Avusturya, Venedik ve Lehistan arasında imzalanan Karlofça Antlaşması'nın sonuçlarından biri **değildir?**

- A) Osmanlı Devleti'nin Batı'da büyük ölçüde toprak kaybettiği ilk antlaşmadır.
- B) Osmanlı Devleti ilk kez kendine bağlı bir azınlık milletinin bağımsızlığını tanımıştır.
- C) Mora Yarımadası, Dalmaçya kıyıları ve Ayamavra Adası Venedik'e verilmiştir.
- D) Türklerin Avrupa'da ilerleyişi durmuş ve geri çekilişi başlamıştır.
- E) Avrupa, Osmanlı Devleti'ne karşı savunmadan saldırıya geçmiştir.

10. Aşağıdakilerden hangisi III. Selim Dönemi'nde yapılan ıslahatlardan biridir?

- A) İstanbul'da kız ve erkek çocuklarına ilköğretim zorunlu hâle getirilmiştir.
- B) İşlevini kaybeden enderunun yerine devlet adamı yetiştirmek amacıyla Mekteb-i Maarif-i Adliye açılmıştır.
- C) İlk defa yurt dışına öğrenci gönderilmiştir.
- D) Nizam-ı Cedit ordusu kurulmuştur.
- E) Asakir-i Mansure-i Muhammediye ordusu kurulmuştur.

11. Aşağıdakilerden hangisi Tanzimat Fermanı'nda yer alan konulardan biri **değildir?**

- A) Halkın can, mal ve namus güvenliği sağlanacaktır.
- B) Askerlik vatan hizmeti hâline getirilecek, askere alma ve terhis işlemleri belirli kurallara göre yapılacaktır.
- C) Vergiler, herkesin gelirene göre alınacaktır.
- D) Gayrimüslimler devlet hizmetine alınacaklar, askerî veya sivil okullara da kabul edilecektir.
- E) Rüşvet ve iltimas önlenecektir.

12. Osmanlı Devleti'nin XIX. yüzyılda yaptığı aşağıdaki antlaşmalardan hangisinde Rusya yer **almamıştır?**

- A) Berlin Antlaşması (1878)
- B) Edirne Antlaşması (1829)
- C) Kütahya Antlaşması (1833)
- D) Paris antlaşması (1856)
- E) Hünkâr İskelesi Antlaşması (1833)

13. Balkan Savaşları sırasında Osmanlı Devleti'nin padişahı kimdir?

- A) II. Abdülhamit
- B) V. Mehmet Reşat
- C) VI. Mehmet
- D) Abdülmecit
- E) Abdülaziz

14. • Eserlerinde özellikle milliyetçiliği, halkçılığı savunan şiirler yazmıştır.

- Türkçülük fikrini savunmuştur ve Türk Ocaklarının kurucuları arasındadır.

Yukarıda bazı özellikleri verilen ve Mustafa Kemal'in Manastır Askerî İdadisinde öğrenci iken okuduğu, ilk defa millî benliğini bulduğunu ifade ettiği "Ben bir Türk'üm, dinim, cinsim uludur." mısrasıyla başlayan şiiri yazan Türk düşünürü kimdir?

- A) Mehmet Akif Ersoy
- B) Ali Suavi
- C) Tevfik Fikret
- D) Namık Kemal
- E) Mehmet Emin Yurdakul

15. Mustafa Kemal'in, askerlerine "Ben size taarruzu emretmiyorum, ölmeyi emrediyorum. Biz ölünceye kadar geçecek zaman içinde yerimize başka kuvvetler ve komutanlar gelebilir." diye hitap ettiği savaş aşağıdakilerden hangisidir?

- A) Sakarya Savaşı
- B) Büyük Taarruz
- C) II. İnönü Savaşı
- D) Çanakkale Savaşı
- E) Trablusgarp Savaşı

16. Aşağıdakilerden hangisi Millî Mücadele'ye karşı kurulan zararlı cemiyetlerdendir?

- A) Kiliyalılar Cemiyeti
- B) Teali İslam Cemiyeti
- C) Trakya - Paşaeli Müdafaa-i Hukuk Cemiyeti
- D) Redd-i İlhak Cemiyeti
- E) Millî Kongre Cemiyeti

17. 16-25 Ağustos 1919 tarihleri arasında Hacim (Muhittin Çarıklı) Bey'in önerisi ile Millî Mücadele sırasında toplanarak Batı Anadolu'da devam eden yerel direnişin nasıl başarıya ulaşacağı, halkın Yunan işgaline karşı bilinçlendirilmesi ve teşkilatlandırılması üzerinde durulan, amacı ve kararları açısından bölgesel bir nitelik taşıyan kongre aşağıdakilerden hangisidir?

- A) Nazilli Kongresi
- B) Pozantı Kongresi
- C) Alaşehir Kongresi
- D) Sivas Kongresi
- E) Afyon Kongresi

18. Aşağıdakilerden hangisi Sakarya Savaşı'nın sonuçlarından biridir?

- A) İsmet (İnönü) Bey generalliğe yükseltilmiştir.
- B) Mustafa Kemal'e mareşal rütbesi verilmiştir.
- C) Çerkez Ethem kuvvetleri dağıtılmıştır.
- D) Londra Konferansı'nın toplanmasına zemin hazırlanmıştır.
- E) Rusya ile Moskova Antlaşması imzalanmıştır.

19. I. Takrir-i Sükûn

- II. Hıyanet-i Vataniye  
III. Tekâlif-i Milliye

**Yukarıdaki kanunlardan hangileri, ordunun ihtiyaçlarını karşılamak amacıyla Mustafa Kemal tarafından Başkomutanlık yetkisine dayanılarak çıkarılmıştır?**

- A) Yalnız I      B) Yalnız II      C) Yalnız III  
D) I ve II      E) I, II ve III

20. Mudanya Ateşkes Antlaşması'nın imzalanmasından sonra "Trakya Yüksek Komiseri" sıfatıyla Doğu Trakya'yı teslim almakla görevlendirilen Türk temsilcisi kimdir?

- A) Kâzım Karabekir  
B) İsmet İnönü  
C) Fevzi Çakmak  
D) Refet Bele  
E) Rauf Orbay

21. Atatürk'ün "Millî emeller, millî irade, yalnız bir şahsın düşüncesinden değil, bütün millet fertlerinin arzularının, emellerinin birleşmesinden ibarettir." sözünün aşağıdaki ilkelerden **daha çok** hangisinin amacına hizmet ettiği söylenebilir?

- A) Devletçilik  
B) Milliyetçilik  
C) Laiklik  
D) İnsanlık sevgisi  
E) Millî egemenlik

22. Aşağıdakilerden hangisi Atatürk Dönemi'nde kurulan Terakkiperver Cumhuriyet Fırkasının ana ilkelerinden biri **değildir**?

- A) Devletçilik temelli ekonomi politikası izlenmelidir.  
B) Cumhurbaşkanı olan kişinin milletvekilliği kaldırılmalıdır.  
C) Parti, ülke yönetiminde merkezîyetçiliğe karşıdır.  
D) Devlete ait çiftliklerle araziler topraksız köylülere dağıtılacaktır.  
E) Parti, dinî düşünce ve inançlara saygılıdır.

23. Aşağıdakilerden hangisi Atatürk Dönemi'nde eğitim alanında yapılan çalışmalardan biri **değildir**?

- A) Ankara Hukuk Mektebinin açılması  
B) İstanbul Üniversitesinin açılması  
C) Musik-i Muallim Mektebinin açılması  
D) Halkevlerinin açılması  
E) Türk Ocaklarının açılması

24. 17 Şubat 1926'da kabul edilen Türk Medeni Kanunu ile;

- I. evliliklerde resmî nikâh zorunluluğu,  
II. miras dağılımında kadın-erkek eşitliği,  
III. seçme ve seçilmede eşit oy kullanımı uygulamalarından hangilerinin sağlandığı söylenebilir?

- A) Yalnız I      B) Yalnız II      C) Yalnız III  
D) I ve II      E) I, II ve III

25. Mondros Ateşkes Antlaşması'ndan sonra İskenderun sancağını işgal edip 1946 yılında da Suriye ve Lübnan'dan tamamen çekilen devlet aşağıdakilerden hangisidir?

- A) Fransa
- B) İngiltere
- C) Almanya
- D) İtalya
- E) Rusya

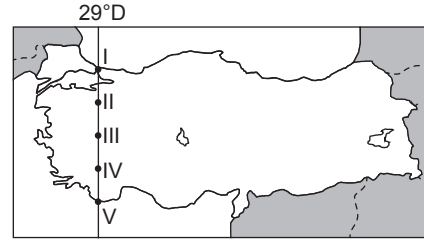
26. Aşağıdakilerden hangisi SSCB'nin dağılmasıyla birlikte Orta Asya'da yeni kurulan devletlerden biri değildir?

- A) Azerbaycan
- B) Kazakistan
- C) Kırgızistan
- D) Özbekistan
- E) Tacikistan

27. Türkiye'de tamamen renkli yayına geçilmesi hangi yıl gerçekleşmiştir?

- A) 1974
- B) 1976
- C) 1980
- D) 1984
- E) 1986

28.



Yukarıdaki haritada 29° Doğu boylamı üzerinde numaralarla gösterilen yerlerden hangisinde, 21 Haziran'da Güneş daha erken batar?

- A) I
- B) II
- C) III
- D) IV
- E) V

29. Aşağıda verilen kent çiftlerinden hangi ikisi arasında yükselti farkı daha azdır?

- A) Çanakkale - Eskişehir
- B) Mersin - Konya
- C) Gaziantep - Ardahan
- D) Manisa - Uşak
- E) Bingöl - Muş

30. Akdeniz'de bazı sular yer altından akarak denize ulaşır. Bazıları da tekrar yeryüzüne çıkarak denize dökülür.

Bu durumun nedeni aşağıdakilerden hangisidir?

- A) Yağış rejiminin düzensiz olması
- B) Karstik yapının bulunması
- C) Asor basınç merkezinin etkisi altında kalması
- D) Boyuna kıyı tipinin olması
- E) Dağların denize paralel uzanması

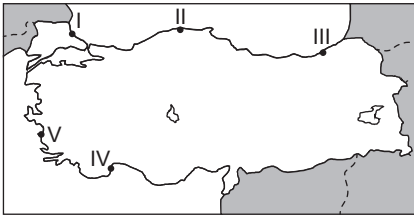
31. Aşağıda verilen yer-kıyı eşleştirmelerinden hangisi **yanlıştır**?

- A) Edremit - İzmir → Enine
- B) Finike - Kaş → Dalmaçya
- C) Datça kıyıları → Ria
- D) Küçükçekmece Gölü → Haliçli
- E) Rize - Trabzon → Boyuna

32. Türkiye’de yaz mevsiminde en yüksek sıcaklık ortalamalarının Güneydoğu Anadolu Bölgesi’nde yaşanmasında aşağıdakilerden hangisinin etkisi **yoktur**?

- A) Buharlaşma miktarının fazla olması
- B) Güneş ışınlarının geliş açısı
- C) Karasallık
- D) Yükselti ortalamasının az olması
- E) Çölden gelen rüzgârların etkisi

33.



Yukarıdaki Türkiye haritasında numaralanmış yerlerin hangisinde yıl içinde düşen yamaç (orografik) yağışlarının oranı **daha azdır**?

- A) I
- B) II
- C) III
- D) IV
- E) V

34. Aşağıdakilerden hangisi kuraklığın Türkiye’deki etkileri arasında **gösterilemez**?

- A) Ekolojik denge bozulur.
- B) Tarımda çeşitlilik azalır.
- C) Erozyonun şiddeti azalır.
- D) Barajların su seviyesi azalır.
- E) Et ve süt verimi azalır.

35. Türkiye’de bitki coğrafyası konusunda araştırma yapmak isteyen bir bilim adamı, gittiği yörede defne, lavanta, yabani zeytin, keçi boynuzu, kocayemiş gibi türlere rastlamıştır.

**Buna göre bilim adamının araştırma gezisi hangi yörede yapılmış olabilir?**

- A) Mersin
- B) Ankara
- C) Zonguldak
- D) Van
- E) Siirt

36. Aşağıdaki illerden hangisinde nüfus yoğunluğu diğerlerinden **daha fazladır**?

- A) Kocaeli
- B) Ağrı
- C) Uşak
- D) Sinop
- E) Tunceli

37. Türkiye'de iç göçlerle ilgili olarak aşağıdaki yargılardan hangisi doğrudur?

- A) Mevsimlik tarım göçü, en fazla Doğu Anadolu Bölgesi'ne yapılmaktadır.
- B) Büyük şehirlerde birtakım sorunların ortaya çıkmasına neden olmuştur.
- C) Eğitim nedeniyle yapılan göçler daha fazladır.
- D) Toplam nüfus miktarının artmasına neden olmaktadır.
- E) İstanbul, Ankara, İzmir gibi yöreler istihdam olanaklarının az olduğu yörelerdir.

38. Türkiye'de aşağıda verilen kentlerin hangisinin gelişiminde diğerlerine göre farklı bir yer altı kaynağı etkili olmuştur?

- A) Hekimhan
- B) Seydişehir
- C) Hasançelebi
- D) Divriği
- E) Torbalı

39. Bir tarım ürünü farklı iklim bölgelerinde yetişebiliyorsa o bitkinin iklim seçiciliği azdır.

**Bu bilgiye göre, aşağıdaki tarım ürünlerinden hangisinin iklim seçiciliği daha azdır?**

- A) Muz
- B) Kivi
- C) Tütün
- D) Çay
- E) Zeytin

40. Türkiye'de arazi kullanım koşulları göz önüne alındığında, aşağıdaki yerlerin hangisinde karşısında verilen ekonomik etkinlik gelişmemiştir?

- A) Çukurova - Tarım
- B) Kaz Dağları - Kış turizmi
- C) Ardahan Platosu - Hayvancılık
- D) Mazı Dağı - Madencilik
- E) Gaziantep Platosu - Hayvancılık

41. Türkiye'deki büyükbaş besi hayvancılığı ve ipekböcekçiliği etkinliklerinde önemli bir yere sahip iller aşağıdakilerden hangisinde doğru verilmiştir?

Büyükbaş besi hayvancılığı	İpek böcekçiliği
A) Şanlıurfa	Rize
B) Karaman	Bursa
C) Afyon	Antalya
D) Tekirdağ	Muş
E) Kars	Diyarbakır

42. I. Doğal gaz

II. Jeotermal

III. Su gücü

IV. Taş kömürü

V. Güneş

**Türkiye'de bulunan ve yapılması planlanan santrallerde, yukarıda verilen enerji kaynaklarından hangilerinin kullanılması hâlinde dışa bağımlılığın artması beklenir?**

- A) Yalnız I
- B) I ve V
- C) II ve III
- D) I ve IV
- E) III ve IV

43. Aşağıdakilerden hangisi dış satımı artırmak için yapılması gereken çalışmalardan biri değildir?

- A) Serbest ticaret bölgeleri kurmak
- B) AR-GE çalışmalarına önem vermek
- C) Uluslararası standartlara uygun kaliteli ürünler üretmek
- D) Uluslararası ticaret anlaşmalarını artırmak
- E) Pazar ağını belirli ülkeler üzerinde yoğunlaştırmak

44. Türkiye’de ulaşım faaliyetleri hakkında aşağıdakilerden hangisi söylenemez?

- A) Uluslararası taşımacılıkta deniz yolu daha fazla kullanılmaktadır.
- B) Ülkemizde yol ağı en geniş olan ulaşım türü kara yoludur.
- C) Son yıllarda ülke içi taşımacılığında hava yolunun payı artmıştır.
- D) Avrasya Tüneli, İstanbul’da yapımı devam eden bir demir yolu projesidir.
- E) Ülkemizde bazı limanlar transit liman özelliği gösterirler.

45. Aşağıdakilerden hangisi turizm özelliği bakımından diğerlerinden farklılık gösterir?

- A) İzmir - Bergama
- B) Batman - Hasankeyf
- C) Muğla - Knidos
- D) Antalya - Side
- E) Tokat - Balıca

46. Aşağıdakilerden hangisi hukukun, bir hukuki meseleyi çözerken hâkimi bağlayıcı olmayan yardımcı kaynakları arasında yer alır?

- A) Yönetmelikler
- B) Örf ve âdet hukuku
- C) Usulüne uygun olarak kabul edilmiş milletlerarası antlaşmalar
- D) Bilimsel görüşler
- E) Tüzükler

47. Hukuk düzeninin sonuç bağladığı tek taraflı veya karşılıklı irade açıklamalarına ne ad verilir?

- A) Hukuki olay
- B) Hukuki fiil
- C) Hukuki işlem
- D) İhtar
- E) Haksız fiil

48. Hukuki ilişkilerde ortalama, makul bir kimsenin karşılıklı güven ilişkisi içinde uyması gereken ve herkesçe benimsenen davranışlar toplamına ne ad verilir?

- A) Görgü kuralı
- B) Objektif iyiniyet
- C) Ahlak kuralı
- D) Subjektif iyiniyet
- E) Mutlak adalet



49. 1982 Anayasası'na göre;

- I. kanunları yayımlamak,
- II. sıkıyönetim ilan etmek,
- III. Türk Silahlı Kuvvetlerinin yabancı ülkelere gönderilmesine karar vermek

**görev ve yetkilerinden hangileri Türkiye Büyük Millet Meclisine aittir?**

- A) Yalnız I
- B) Yalnız II
- C) Yalnız III
- D) I ve III
- E) II ve III

50. 1982 Anayasası'na göre, bir bakanın herhangi bir sebeple görevinden ayrılmasından sonra kaç gün içinde yerine atama yapılması gerekir?

- A) 7
- B) 10
- C) 15
- D) 20
- E) 30

51. 1982 Anayasası'na göre her defasında dört ay geçmemek üzere olağanüstü hâl ve sıkıyönetim süresini uzatmaya aşağıdakilerden hangisi yetkilidir?

- A) TBMM
- B) Cumhurbaşkanı
- C) Bakanlar Kurulu
- D) Millî Güvenlik Kurulu
- E) Genel Kurmay Başkanı

52. I. İç tüzük

- II. Kanun hükmünde kararname
- III. Yönetmelik

**Yukarıdakilerden hangileri idarenin düzenleyici işlemleri arasında yer alır?**

- A) Yalnız I
- B) Yalnız III
- C) I ve II
- D) II ve III
- E) I, II ve III

53. Aşağıdakilerden hangisi merkezî idare kuruluşları içinde yer alan bir görevli değildir?

- A) Müsteşar
- B) Kaymakam
- C) Vali
- D) Bucak müdürü
- E) Türkiye Radyo Televizyon Kurumu genel müdürü

54. Merkezî idare teşkilatı içinde millî bir kamu hizmetini sunmak üzere örgütlenmiş birime ne ad verilir?

- A) Başbakanlık
- B) Bakanlık
- C) Belediye
- D) Yerel yönetim
- E) İl

55. 2015 Nobel Kimya Ödülünü kazanan Prof. Dr. Aziz Sancar'a ödülü hangi ülke tarafından verilmiştir?

- A) Norveç
- B) İsviçre
- C) Fransa
- D) Amerika Birleşik Devletleri
- E) İsveç

56. 2015 yılının son ayında aşağıdaki illerimizden hangisinin mutfağı gastronomi dalında, Birleşmiş Milletler Eğitim, Bilim ve Kültür Örgütü'nün (UNESCO) "Yaratıcı Şehirler Ağı"na girmiştir?

- A) Gaziantep
- B) Hatay
- C) Adana
- D) Kayseri
- E) Mersin

57. Amerikan Merkez Bankası (FED) başkanı aşağıdakilerden hangisidir?

- A) Janet Yellen
- B) Ben Bernanke
- C) John Kery
- D) Hillary Clinton
- E) Donald Trump

58. 2015 Cumhurbaşkanlığı Kültür ve Sanat Büyük Ödülü, sinema alanında aşağıdaki sanatçılarımızdan hangisine verilmiştir?

- A) Hülya Koçyiğit
- B) Türkan Şoray
- C) Münir Özkul
- D) Kartal Tibet
- E) Ediz Hun

59. Aşağıdaki ülkelerden hangisi Avrupa ortak para birimi euro kullanmaktadır?

- A) Yunanistan
- B) İngiltere
- C) Danimarka
- D) İsveç
- E) Bulgaristan

60. Devlet tarafından el konulan bankaların yönetimi aşağıdakilerden hangisine geçer?

- A) Bankacılık Düzenleme ve Denetleme Kurumu
- B) TC. Merkez Bankası
- C) Sermaye Piyasası Kurulu
- D) Tasarruf Mevduatı Sigorta Fonu
- E) Maliye Bakanlığı

TEST BİTTİ.  
CEVAPLARINIZI KONTROL EDİNİZ.