

2016

KPSS

kamu personel seçme sınavı

Genel Yetenek
Genel Kültür

YEDİİKLİM

**Türkiye Geneli
Deneme Sınavı**

**çözüm
kitapçığı**

1. Soru kökünde verilen “o dizelerde, o anlatışta, o söyleyişte yürek çarpmalarını bulamıyorum.” sözü, parçadaki şairin şiirlerinde insanları heyecanlandırarak bir söyleyişten, anlatımdan uzak olduğu anlamındadır. Bu ifadede E'deki “Okuyanı heyecanlandırarak bir söyleyişten uzak olduğu” yargısı ile aynı anlamdadır.

Cevap E

2. Parçadaki “dergilerde devrin çehresini makyajsız olarak görebiliriz.” sözü ile dergilerin yayımlandıkları zamanın ortamını doğal bir şekilde yansıttıkları anlatılmak istenmiştir. A'da dergilerin dilinin ağırlığından, B'de toplum beklentilerini anlatan kitapların günümüze ulaşamadığından, C'de tarihî olayları günümüze taşımamanın tek aracının dergiler olmadığından, D'de önemli olayları anlatan eserlerin kalıcı olduğundan söz edilmiştir. E'de ise “Dergilerin oluşturuldukları zamanın görüntüsünü natürel olarak yansıtır.” ifadesi ile parçadaki altı çizili söz anlatılmak istenmiştir.

Cevap E

3. Parçadaki “dünyamızın sınırları, kelimelerimizin gidebildiği ufuklar kadardır.” sözü ile kişilerin hayal dünyalarının sınırlarını, kullandığı kelimelerin belirlediği anlatılmak istenmiştir. A, B, D ve E'de böyle bir anlam yoktur ancak C'de “İnsanın hayal dünyasının hudutlarını kelimeler tespit eder.” sözü ile parçadaki altı çizili bölüm anlatılmak istenmiştir.

Cevap C

4. Verilen cümle A'daki “bu ayna yalnız güzellikleri gösterdi.” sözü ile tamamlandığında yazarın bazı gerçekleri gizlediği anlamı ortaya çıkar çünkü A'daki “yalnız” edatı “sadece” anlamında kullanılmıştır ve cümlenin akışına göre kimi durumların gizlendiği anlamını da vermektedir. B, C, D ve E'deki ifadelerde toplum sorunlarını anlattığı, sanatın temel ilkelerine değindiği, sanat eseri oluşturmadığı ve kendisini anlatmak için yeterli olmayaçağını düşünmediği yargıları vardır.

Cevap A

5. Verilen öncüldeki “Dostluk, şık ve zarif bir kadınsa saygı, onun boynundaki elmas gerdanlıktır.” cümlesinde “dostluk” ve “saygı” kavramlarının birbirini tamamladığı anlatılmak istenmiştir. Bu cümle ile de D'deki “Dostluktan saygıyı kaldıran, onun en değerli süsünü kaldırmış olur.” ifadesi aynı doğrultudadır. Ancak A'daki dostluğun iki insanın birbirini koşulsuz sevmesi, B'deki gerçek dostun her şeyini rahatlıkla anlatabileceği kişi olması, C'deki fikirlere saygı duymamanın o fikrin benimsendiği anlamına gelmediği, E'deki hoşgörünün karşımızdaki insanın istediği şekilde mutlu olmasına yardımcı olduğu yargıları verilen cümle ile aynı doğrultuda değildir.

Cevap D

6. Karşılaştırma cümleleri en az iki nesnenin, olgunun, kavramın, kişinin benzer ve farklı yönlerini ortaya koyar. Parçaya baktığımızda II. cümlede Tarık Dursun K.'nin öykülerinin en iyi örneklerini sözü edilen yapıtta ele aldığı belirtiliyor. Burada Tarık Dursun'un öykülerinin içinde bir karşılaştırma yapılmıştır.

Cevap B

7. Parçada numaralı cümlelere baktığımızda I. cümlede bir işin nasıl yapıldığı (halk şairleri eserlerini söz ile yazarlar), III. cümlede bir sonuç (Böylece hem kendi eserlerini hem de başka şairlerin verimlerini halka yaymış...) vardır. IV. cümlede bir durumun değişebilirliği (... şiirlerin, şairlerin ağızlarından çıktıkları gibi saklanmayacağı...) anlatılmıştır. V. cümlede bir ürünün son şekli (çok defa değişip bozularak ulusun folklor hazinesine katılır.) söz edilmiştir. II. cümlede ise benzetme yoktur. Şaman töresinin önemli kişileri olan kam, baksı ve ozanların özelliğine değinilmiştir.

Cevap B

8. Verilen öncülden yazarın kayıp romanlarının olduğu ve bunların en az iki tane olduğu, bu romanları da torununun gün ışığına çıkardığı belirtiliyor. Seçeneklere baktığımızda C'deki "Yazarın okurla buluşturulmuş en az iki kayıp romanı vardır." ifadesi kesin olarak çıkarılabilir.

Cevap C

9. Verilen cümlede sanatçının yontma tekniğinde alışabı kullandığı belirtilmek isteniyor. Buna göre de A, C ve E seçenekleri ilk boşluğa getirilebilir. İkinci boşluğa da yontma işinden bahsettiği için A'daki "alıyor" ve C'deki "elden çıkarıyor" sözcükleri getirilemez. Ancak E'deki "işliyor" sözcüğü cümledeki ikinci boşluğa getirilirse cümle en uygun şekliyle tamamlanabilir.

Cevap E

10. Dizelerdeki "toprak(ğ)ını" sözcüğünde ünsüz yumuşaması (A), "inle(i)yor" sözcüğünde ünlü daralması (B), "bağ(ı)rı" sözcüğünde ünlü düşmesi (C) ve "yamaç(d)tan", bak(d)tım, uzak(d)tan" sözcüklerinde ünsüz benzeşmesi (E) vardır. Dizelerde ünsüz düşmesi (D) yoktur.

Cevap D

11. Parçadaki ilk boşluğa aktarma cümlesi olduğu için "tırnak işareti (")", ikinci boşluğa yargı bittiği için "nokta (.)", üçüncü boşluğa aktarma ifadesi sona erdiğinden "tırnak işareti (")" getirilmelidir. Daha sonra soru anlamı olduğundan "soru işareti (?)" ve son boşluğa da yargı bittiğinden "nokta (.)" getirilmelidir.

Cevap B

12. II. cümledeki "Herşey" sözünde "şey" sözcüğü her zaman ayrı yazılır, III. cümlede "anlatmışdır" sözcüğünde ünsüz sertleşmesi kuralına uyulmadığı için yazım yanlış yapılmıştır. Sözcük "anlatmıştır" şeklinde yazılmalıydı.

Cevap B

13. I. cümlede birden fazla yüklem (yoktu, vardı) vardır ve bu cümle sıralı cümle özelliği gösterir (A), III. cümlede yüklem "oluyordu" sözcüğüdür ve şimdiki zamanın hikâyesi şeklinde çekimlenmiştir yani birleşik zamanlıdır (C), IV. cümlede "araç" sözcüğü hem niteleme (önemli) hem belirtme (bir) sıfatı almıştır (D), V. cümlede "ortaya, taşlara, derilere, papirüse, duvarlarına, yazılmaya" sözcüklerinde altı çizili ekler yönelme hâl ekine (E) örnektir. II. cümle ise öge olarak "özne, belirtili nesne, dolaylı tümleç, **zarf tümleci** ve yüklem"den oluşmuştur bu nedenle B'deki ifade yanlıştır.

Cevap B

14. Dizelerdeki "Bir yaprak" sözünde altı çizili sözcük belirtme sıfatına (A), "Ben (kişi zamiri), onun (işaret zamiri)" sözcükleri farklı türde zamirlere (B), "kalıyorum" sözcüğü çekimli eyleme (D) "düşünce" sözcüğünde altı çizili ek ulaca (E) örnektir. Dizelerde sıfat-fiil (C) yoktur.

Cevap C

15. Parçadaki "Ankara'nın mimarisiyle ünlü ilçesi Ayaşta bir sokak..., sokaktaki tarihî evlerden biri..." yargıları eksiltili cümlelere (C), "...evin sahibi yaşlı kadını andırıyor" sözünde benzetmeye (B), "Pencere pervazları doğaya direniyor..." kişileştirmeye (D) örnektir. Parçanın genelinde izlenimlere (A) yer verilmiştir ancak parçada tanım kullanılmamıştır (E).

Cevap E

16. Parçanın genelinde bir sohbet havası seziliyor (B), "... nasıl aydınlanır?" cümlesi soru cümlesine (C) örnektir. Parçada "İyi ki doğar, yürek burkucu, yaşamın sıkıntısı, insana değer verilmeyen ..." sözleri öznel ifadelerle (E) örnektir. "Güneş hep erken doğar baharat kokulu ülkede." sözünde yüklem sonda olmadığı (doğar) için devrik cümleye (D) örnektir. Parçada tanık gösterme yoktur.

Cevap A

17. Numaralı cümlelere baktığımızda V. cümlelerin paragrafın ilk cümlesi olmaya en uygun cümle olduğunu görüyoruz. Daha sonra V. cümleye bağlı olarak III. cümle gelmeli ve I. cümlede de Fransa'yı Paris'e bağlaması yönüyle III. cümleden sonra gelmelidir. I. cümleden sonra da IV. cümle gelmeli ve parçanın son cümlesi de II. cümle olmalıdır. Paragrafın sıralaması "V - III - I - IV - II" şeklinde olmalıdır. Baştan üçüncü cümle de I. cümle olur.

Cevap A

18. Parçaya baktığımızda babaların çoğunun çocuklarından yakındığı belirtilirken bir zamanlar kendilerinin de çocuk olduğu belirtiliyor. Buna göre de parçaya getirilebilecek en uygun başlık C'deki "Babalar ve Çocukları"dır.

Cevap C

19. Parçada İngilizce ya da başka dillerde sözcüklerin hangi vurguyla söyleneceği özel işaretlerle anlatılmıştır ancak Türkçede böyle bir durum olmadığı ve kişinin kulak hafızası ile bunu yapmak zorunda kaldığı belirtilmiştir. Buna göre de sözcüklerin yanlış söylenmesinin nedeni olarak Türkçede vurgu konusunun öğretilmemesi gösterilebilir.

Cevap D

20. Parçaya baktığımızda dilin önemine vurgu yaptığı ve dilin millî kimliğimizi oluşturmada önemli bir yere sahip olduğu belirtilmiştir. Buna göre de düşüncenin akışına göre E'deki "millî kimliğimizi belirleyen" ifadesi getirilirse parça anlamlı bir bütün hâline gelir.

Cevap E

21. Parçada I. cümlede sanatta çocuk kahramanların işlenişinin ilgi çektiğinden söz edilirken II. cümlede okunan bir yapıtın ikinci defa farklı bir gözle okunduğu belirtiliyor. I. ve II. cümleler arasında bir kopukluk oluşuyor. I. cümle paragrafın giriş cümlesi olmaya uygun olduğundan II. cümlelerin yer değiştirmesi gerekiyor. Parçada III. ve IV. cümleler birbiriyle bağlantılı olduğundan V. cümle II. cümle ile yer değiştirdiğinde parçanın anlam bütünlüğü de sağlanmış olur.

Cevap C

22. Parçadaki "Okur sayısı düşük." yargısı ile A, "... yazdığıyla geçinemediği için yan işler tutmak zorunda kalıyor." ile B, "... her yazdığını istediği zaman, kolayca yayımlatamıyor." ile D, "... yazarın yaratıcılık özgürlüğü daha baştan kısıtlanıyor." ile E seçeneklerinden söz edilmiştir. Ancak parçada "Ağır koşullar içinde bulunmanın yaratma güçlerini kamçılamasından söz edilmemiştir.

Cevap C

23. Parçada I. cümlede ailelerin çocuklarına kimi değerleri kazandırmaları gerektiği belirtilirken II. cümleden itibaren günümüzde anne-babaların çocuklarına daha bebekliklerinden başlayarak çeşitli aktiviteler ile onların çocukluklarını yaşamalarına engel oldukları ve bunun sonucu olarak da toplumda depresyona giren, mutsuz çocukların görüldüğü ifade ediliyor. Yani I. cümle paragrafın anlam akışını bozmaktadır.

Cevap A

24. Numaralı cümleler incelendiğinde paragrafa en uygun giriş cümlesinin III. cümle olduğunu görüyoruz. Daha sonra bunun devamı olarak V. cümle ve ardından I. cümle gelmelidir. Sonra IV. cümle ve ardından II. cümle getirildiğinde anlamlı ve kurallı bir paragraf oluşturulmuş olur. Yani sıralama III - V - I - IV - II şeklinde olmalıdır.

Cevap C

25. Parçada geçen "salt öykünerek" ifadesi ile başkalarının eserlerinin taklit edildiği anlatılmak istenmiştir. Bu da C'deki "Bu sanatçının yazdıklarının çoğu sadece başkalarının eserlerinin taklidi." ifadesinde vardır.

Cevap C

26. Parçadan "İkinci Yeni şiirinin asıl kurucusunun sandığı gibi Oktay Rifat değil, Ece Ayhan'dır." ifadesine ulaşamaz.

Cevap B

27. Öncüllerden hareketle, mavi kullanılmışsa siyahın kullanılması gerektiği sonucuna varırız. Turuncu kullanılmışsa, mutlaka mor da kullanılmıştır. Kırmızı kullanılmışsa beyaz kullanılmaz. Yani D şıkkı olamaz. Çünkü turuncu kullanılmışsa morun da kullanılması gerekeceğinden ve dördüncü bir renk gerektiğinden "mavi, siyah, turuncu" olamaz.

Cevap D

28. Beyaz, kırmızı ve mavi ana renklerdir. Buna göre beyaz ve kırmızı birlikte kullanılmayacağından beyaz (ya da kırmızı), mavi ve üçüncü bir renk daha olacaktır. Bu renk de siyahtır. Çünkü, mavi kullanılmışsa siyahın da kullanılması zorunludur.

Cevap E

29. Öncüllere dayanarak altı renk zıt renkler olarak ayrıldığına göre bu zıt renk gruplarından I ve III kullanılabilir. Çünkü mavi kullanılmışsa siyah mutlaka kullanılmalıdır. Turuncu kullanılmışsa mor kullanılmak zorundadır. 4 renk çıkacağından II kullanılmaz.

Cevap C

30. Üç renk kuralı bozulup dört renkten oluşan bir resim yapılırsa resimlerden sadece II ve IV'te bulunan dört renkten üçü ara renk olan (turuncu, mor, siyah, mavi) ve dört renkten üçü soğuk renk olan (mavi, siyah, mor, beyaz, kırmızı) alternatifleri kullanılabilir.

Cevap D

31. $211 = 2.3.5.7 + 1$ olduğuna göre 211 sayısı öklid asalıdır.

Cevap C

32. $11! = 2^n \cdot 3^m \cdot A$

A'nın en küçük değerini alabilmesi için m ve n'nin en büyük değerini alması gerekir.

$$\begin{array}{r} 11 \overline{) 2} \\ \underline{5} \\ 7 \\ \underline{2} \\ 9 \\ \underline{2} \\ 7 \\ \underline{1} \\ 6 \\ \underline{2} \\ 4 \\ \underline{1} \\ 3 \\ \underline{1} \\ 2 \\ \underline{1} \\ 1 \\ \underline{1} \\ 0 \end{array}$$

$$\begin{array}{l} n = 5 + 2 + 1 \\ n = 8 \end{array} \quad \begin{array}{l} m = 3 + 1 \\ m = 4 \end{array}$$

$$11! = 2^8 \cdot 3^4 \cdot \underbrace{5^2 \cdot 7^1 \cdot 11^1}_A$$

$$A = 5^2 \cdot 7 \cdot 11 = 1925$$

$$A + n = 1925 + 8 = 1933 \text{ olur.}$$

Cevap A

33. İşleme göre;

$$(ABC) \cdot 5 = 1070$$

$$ABC = 214$$

$$A + B + C = 2 + 1 + 4 = 7 \text{ bulunur.}$$

Cevap C

34. Bu odanın bir kenar uzunluğu 5, 6, 8, 10, 12 ve 15 sayılarının OKEK'i olmalıdır.

$$\text{OKEK}(5, 6, 8, 10, 12, 15) = 120$$

Böylece kare şeklindeki bu odanın bir kenar uzunluğunun 120 cm olması gerektiğini bulmuş olduk.

$$\begin{aligned} \text{Fayans sayısı} &= \frac{\text{Odanın Alanı}}{1 \text{ fayans alanı}} \\ &= \frac{120 \cdot 120}{8 \cdot 12} \\ &= 15 \cdot 10 \\ &= 150 \end{aligned}$$

Cevap D

$$\begin{aligned}
 35. \quad 8 - \frac{7}{3 + \frac{1}{2}} &= 8 - \frac{7}{\frac{2}{2}} \\
 &= 8 - 7 \cdot \frac{2}{2} \\
 &= 8 - 2 \\
 &= 6 \text{ bulunur.}
 \end{aligned}$$

Cevap E

$$\begin{aligned}
 36. \quad \left(8 - 0,2 : 0,1 + \frac{1}{4}\right) \cdot 0,64 &= \left(8 - \frac{0,2}{0,1} + \frac{1}{4}\right) \cdot 0,64 \\
 &= \left(8 - 2 + \frac{1}{4}\right) \cdot 0,64 \\
 &= \frac{25}{4} \cdot \frac{64}{100} \\
 &= \frac{64}{16} \\
 &= 4 \text{ bulunur.}
 \end{aligned}$$

Cevap A

$$\begin{aligned}
 37. \quad \frac{3^8 + 3^9 + 3^{10} + 3^{11}}{3^{-2} + 3^{-3} + 3^{-4} + 3^{-5}} &= \frac{3^8 \cdot (1 + 3 + 3^2 + 3^3)}{3^{-5} \cdot (1 + 3 + 3^2 + 3^3)} \\
 &= \frac{3^8}{3^{-5}} \\
 &= 3^{13} \text{ bulunur.}
 \end{aligned}$$

Cevap D

$$\begin{aligned}
 38. \quad \sqrt{1 - \frac{9}{25}} \cdot \sqrt{2 + \frac{1}{4}} \cdot \sqrt{2 + \frac{1}{12}} &= \sqrt{\frac{16}{25}} \cdot \sqrt{\frac{9}{4}} \cdot \sqrt{\frac{25}{12}} \\
 &= \sqrt{\frac{16 \cdot 9 \cdot 25}{25 \cdot 4 \cdot 12}} \\
 &= \sqrt{3} \text{ bulunur.}
 \end{aligned}$$

Cevap A

$$39. \quad a < a^3 < a^2 \text{ ise } -1 < a < 0$$

a.b < 0 ise a negatif olduğu için b > 0 olur.

$$c = a - b \text{ ise } b = a - c$$

$$a - c > 0 \text{ ise } a > c \text{ olur.}$$

Buna göre sıralama;

$$c < a < 0 < b \text{ bulunur.}$$

Cevap E

$$40. \quad x < y \text{ ise } 2x - 3y < 0$$

$$y - 3x > 0 \text{ olur.}$$

$$|2x - 3y| = 5 \text{ ise } 2x - 3y = -5$$

$$|y - 3x| = 18 \text{ ise } y - 3x = 18$$

$$2x - 3y = -5$$

$$+ \quad 3y - 9x = 54$$

$$-7x = 49$$

$$\boxed{x = -7} \text{ bulunur.}$$

$$3y - 9x = 54$$

$$3y - 9(-7) = 54$$

$$3y = -9$$

$$y = -3$$

$$x + y = -7 - 3 = -10 \text{ olur.}$$

Cevap B

$$41. \quad \frac{x}{3} = \frac{y-2}{2} = \frac{z+1}{5} = k \text{ olsun.}$$

$$\frac{x+y-2+z+1}{3+2+5} = k$$

$$\frac{x+y+z-1}{10} = k$$

$$\frac{81-1}{10} = k$$

$$k = 8 \text{ bulunur.}$$

$$\frac{y-2}{2} = 8$$

$$y - 2 = 16$$

$$y = 18$$

Cevap D

42. 1. çocuk → 1 bilye

2. çocuk → 2 bilye

:

10. çocuk → 10 bilye

$1 + 2 + 3 + \dots + 10 = 55$ bilye

Bu durumda 11. çocuk da 13 bilye alır.

Cevap D

43. Yanlış tartılan domates 1200 gr olsun.

1200 gr 18 TL

1000 gr x TL

DO

$$1200.x = 1000.18$$

$$x = 15 \text{ TL}$$

Cevap A

44. Çocukların yaşları toplamı x olsun.

	Baba	Çocukların yaşları toplamı
Bugün	3x	x
3 yıl sonra	3x + 3	x + 9

$$3x + 3 = 2(x + 9)$$

$$3x + 3 = 2x + 18$$

$$x = 15$$

Çocukların yaşları toplamı 15 ise en küçük çocuk en çok 4 yaşında olur ($4 + 5 + 6 = 15$).

Cevap B

45. İlk durum = 10 adet x 10 TL = 100 TL

Son durum = 17 adet x 7 TL = 119 TL

Kasaya giren para 100 TL iken 119 TL olduysa %19 luk bir artış söz konusudur.

Cevap B

46. İlk hızı V olsun.

$$660 = 4.V + 6.(V + 20)$$

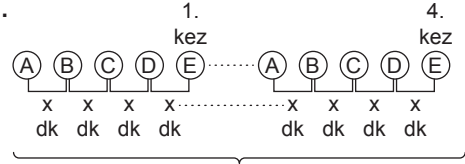
$$660 = 4V + 6V + 120$$

$$540 = 10V$$

$$V = 54 \text{ km/sa}$$

Cevap B

47.



$$19.x = 190 \text{ dk (10.00 - 13.10 arası)}$$

$$x = 10 \text{ dk}$$

O hâlde A lambası $10.5 = 50$ dk aralıkla yanıp söner.

Cevap B

48. $x^2 + y^2 = 6xy$ ise

$$(x + y)^2 - 2xy = 6xy$$

$$(x + y)^2 = 8xy$$

$$x + y = \sqrt{8xy}$$

$$(x - y)^2 + 2xy = 6xy$$

$$(x - y)^2 = 4xy$$

$$x - y = \sqrt{4xy}$$

$$\frac{x - y}{x + y} = \frac{\sqrt{4xy}}{\sqrt{8xy}} = \frac{1}{\sqrt{2}} = \frac{\sqrt{2}}{2} \text{ bulunur.}$$

Cevap C

49. $-45 \triangle 52 = (-45) + (-43) + \dots + 49 + 51$

$$= 47 + 49 + 51$$

$$= 147$$

Cevap E

50. $3 + \frac{3}{x} = 2$ ise $x = -3$ olur.

$$f\left(3 + \frac{3}{-3}\right) = \frac{18}{(-3)^2} + 7 \cdot \frac{12}{(-3)}$$

$$f(2) = 2 + 7 - 4$$

$$f(2) = 5 \text{ bulunur.}$$

Cevap E

www.yediiklim.com.tr

51. (-3) yazan top sayısı x,

2 yazan top sayısı (80 - x) olsun.

$$-3x + 2(80 - x) = 40$$

$$-3x + 160 - 2x = 40$$

$$5x = 120$$

$$x = 24$$

O hâlde (-3) yazılı top çekme olasılığı $\frac{24}{80} = \frac{3}{10}$ olur.

Cevap C

www.yediiklim.com.tr

52. $1 + 2 + 3 + \dots + 16 = \frac{16 \cdot 17}{2} = 136$

O hâlde her sütunun toplamı $\frac{136}{4} = 34$ olur.

1	3	5	7
2	4	6	8
15	13	11	9
16	14	12	10

3. satırdaki sayıların toplamı

$$15 + 13 + 11 + 9 = 48 \text{ bulunur.}$$

Cevap A

www.yediiklim.com.tr

53. 52. soruda oluşturulan tabloya göre

$$A = 16$$

$$B = 6 \text{ olur.}$$

$$A + B = 22 \text{ bulunur.}$$

Cevap D

www.yediiklim.com.tr

54. Kaan ilk adımda 3 sayısını seçmiştir. Böylece 3, 6, 9 ve 12 sayılarını siliyor.

İkinci adımda kalan sayılardan 4 sayısını seçmiş ve böylece 4 ile 8 sayılarını silmiştir.

Böylece kâğıt üzerinde 1, 2, 5, 7, 10 ve 11 sayıları kalmıştır.

Cevap C

55. Kasım ayı;

$$40^\circ \quad 600 \text{ adet}$$

$$\frac{360^\circ}{x \text{ adet}}$$

DO

$$x = 5400 \text{ adet}$$

O hâlde aralık ayında $5400 \cdot \frac{5}{2} = 13500$ adet gazete satılmıştır.

$$360^\circ \quad 13500 \text{ adet}$$

$$\frac{60^\circ}{x \text{ adet}}$$

DO

$$x = 2250 \text{ adet}$$

Cevap E

www.yediiklim.com.tr

56. Kasım ayı $\rightarrow x$ adet

Aralık ayı $\rightarrow y$ adet olsun.

$$x \cdot \frac{80}{360} = y \cdot \frac{60}{360}$$

$$4x = 3y \Rightarrow \frac{x}{y} = \frac{3}{4} \text{ bulunur.}$$

Bize sorulan;

$$\frac{x \cdot \frac{90}{360}}{y \cdot \frac{75}{360}} = \frac{x \cdot 6}{y \cdot 5} = \frac{3}{4} \cdot \frac{6}{5} = \frac{9}{10} \text{ bulunur.}$$

Cevap C

www.yediiklim.com.tr

57. Kasım ayı → x adet

Aralık ayı → y adet olsun.

$$x \cdot \frac{150}{360} = \frac{x+y}{6}$$

$$5x = 2x + 2y$$

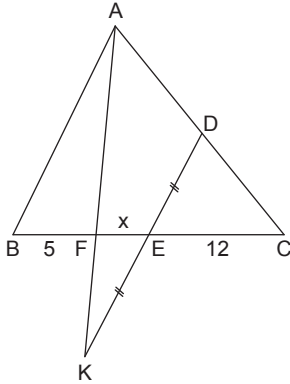
$$3x = 2y$$

$$\frac{x}{y} = \frac{2}{3}$$

Bize sorulan;

$$\frac{x \cdot \frac{80}{360}}{y \cdot \frac{60}{360}} = \frac{x \cdot 4}{y \cdot 3} = \frac{2}{3} \cdot \frac{4}{3} = \frac{8}{9} \text{ bulunur.}$$

58.



[DK] // [AB] ise

$$\frac{|EK|}{|AB|} = \frac{x}{5}, \quad \frac{|ED|}{|AB|} = \frac{12}{x+17}$$

|EK| = |DE| olduğuna göre,

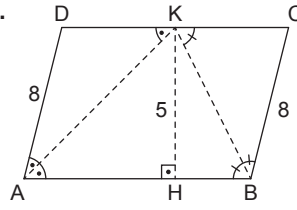
$$\frac{x}{5} = \frac{12}{x+17}$$

$$x(x+17) = 60$$

$$x = 3 \text{ bulunur.}$$

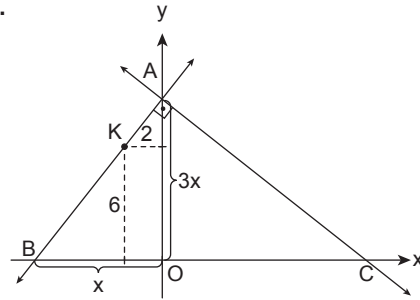
Cevap D

59.

ABCD paralelkenar ise $|BC| = |AD| = 8$ br $[AB] \parallel [DC]$ ise $m(\widehat{DKA}) = m(\widehat{BAK})$ ve $m(\widehat{CKB}) = m(\widehat{ABK})$ olur.Böylece $|BC| = |CK| = 8$ br ve $|AD| = |DK| = 8$ br olur.Bu durumda $|CD| = |AB| = 16$ br bulunur. $A(ABCD) = 16 \cdot 5 = 80$ br²

Cevap B

60.



$$\frac{3x-6}{3x} = \frac{2}{x}$$

$$3x-6=6$$

$$3x=12$$

$$x=4$$

 $\triangle ABC$ de öklid

$$|AO|^2 = |BO| \cdot |OC|$$

$$12^2 = 4 \cdot |OC|$$

$$|OC| = 36$$

A(0, 12) ve C(36, 0) ise

$$\frac{x}{36} + \frac{y}{12} = 1$$

$$x + 3y = 36$$

 $x + 3y - 36 = 0$ bulunur.

Cevap B

1. Büyük Bulgar Devleti'nin yıkılmasından sonra Hazarların hâkimiyetine girmek istemeyen Bulgarlar, İtil Nehri civarına göç ederek bu bölgede İtil Bulgar Devleti'ni kurdular (890). Başkentleri Bulgar şehri olan İtil Bulgarları, yaşadıkları toprakların verimliliği ve yaptıkları ticari faaliyetler sayesinde güçlü bir devlet hâline geldiler. Almış Han Dönemi'nde Müslümanlığı kabul ettiler. Bu yüzden bazı tarihçiler ilk Müslüman Türk devleti olarak İtil Bulgar Devleti'ni kabul ederler. İtil Bulgar Devleti'ne 1237 yılında Altın Orda Devleti son verdi. İtil Bulgar Devleti, günümüzde varlığını sürdüren Kazan Türklerinin atalarıdır.

Cevap A

2. Alay Han, Sultan Hanı, Evdir Han ve Hekim Han A. Selçukluların Dönemi'nde yapılmıştır. Konya-Aksaray yolu üzerinde bulunan Sultan Hanı, I. Alaeddin Keykubat (1220-1237) tarafından yaptırılmıştır. Bundan dolayı Sultan Hanı ismi ile anılan ve İpek Yolu üzerinde inşa edilen Han, Türkiye'deki en büyük han örneğidir. Aynı zamanda Moğol saldırılarına karşı kale amaçlı olarak da kullanılmıştır.

Cevap B

3. Türk- İslam medreselerinde hem dinî hem de pozitif bilimler birlikte okutulmuş devletin dinî, ilmi, hukuki ve idari alanlardaki yetişmiş eleman ihtiyacını karşılaması hedeflenmiştir. Selçuklu topraklarında yıkıcı ve bölücü faaliyetleri önlemek, bilim insanı yetiştirerek fikre fikir ile karşılık vermek, genişleyen devletin yönetim kademeleri için memur yetiştirmek, din adamı ihtiyacını karşılamak ve Oğuzların İslam inançlarını pekiştirmek, bilim insanı yetiştirmek ve onların bilgilerinden devlet ve ülke yararına faydalanmak Nizamiye Medreselerinin kuruluş amaçlarındandır. Selçuklu Devleti'nin ordularını yönetecek asker ihtiyacını karşılamak bu medreselerin temel amaçlarından değildir.

Cevap C

4. I. Murat'ın saltanatı 1362-1389 yılları arasında kapsamaktadır. Sırpı Savaşı (1364), Sazlıdere Savaşı (1363), Birinci Kosova Savaşı (1389) bu dönemde yaşanmıştır. Balkanlar'da Osmanlı Devleti aleyhine hızlanan gelişmeler karşısında I. Murat harekete geçmiş, Sırp Kralı Lazar'ın önderliğindeki Haçlı kuvvetleri, Kosova meydanında ağır bir yenilgiye uğratılmıştır. Ancak savaş sonrasında I. Murat savaş alanını gezerken bir Sırp askeri tarafından hançerlenerek şehit edilmiştir.

Cevap E

5. Bektaşilik, Kadirilik, Rufailik, Ekberlik, Nakşibendilik, Yesevilik, Babailik Anadolu'da hüküm sürmüş tarikatlardır. Haşhaşilik ise İran coğrafyasında Büyük Selçuklular zamanında etkili olmuş zararlı bir tarikatdır.

Cevap D

6. Amasyalı Şeyh Hamdullah Fatih (II. Mehmet Devri'nin en ünlü hat ustasıdır. Sinan Bey ve Seyyid Lokman ise bu dönemin en ünlü Türk minyatür ustalarıdır. Nakkaş Osman, Matrakçı Nasuh, Şair Mustafa Sai ve Nigari ise XVI. yüzyılın önemli Türk minyatür ustalarıdır.

Cevap A

7. Osmanlı Devleti'nin XVI. yüzyılın sonlarından itibaren yapmış olduğu yoğun savaşlar; Celâli İsyanlarıyla Anadolu'da üretimin düşmesine, taşrada devlet etkinliğinin kaybedilmesi sonucu toplanan vergilerin azalmasına, bütçe açığı çıkmasına ve hızlı enflasyon yaşanmasına sebep olmuştur.

Cevap E

8. Osmanlı Devleti vakıflardan daha çok din, eğitim-öğretim, sosyal, kültürel ve sağlık gibi alanlarda yararlanma yoluna gitmiştir. Kapı Kulu Ordusunun veya eyalet ordusunun asker ihtiyacını karşılamak için tercih edilmemiştir.

Cevap A

9. Osmanlı Devleti ile Avusturya, Venedik ve Lehistan arasında imzalanan Karlofça Antlaşması 1699 yılında yirmi beş yıl geçerli olmak koşuluyla imzalanmıştır.

Bu antlaşma;

Osmanlı Devleti'nin Batı'da bu kadar büyük ölçüde toprak kaybettiği ilk antlaşmadır. Avrupa, Osmanlı Devleti'ne karşı savunmadan saldırıya geçmiştir.

Türklerin Avrupa'da ilerleyişi durmuş ve geri çekiliş başlamıştır.

Mora Yarımadası, Dalmaçya kıyıları ve Ayamavra Adası Venedik'e; Podolya ve Ukrayna Lehistan'a; Temeşvar ili ve Banat Yaylası hariç bütün Macaristan ve Erdel, Avusturya'ya verilmiştir. Osmanlı Devleti'nin ilk kez kendine bağlı bir azınlık millletinin bağımsızlığını tanıması ise 1829 Edirne Antlaşması ile (Yunanistan'ın bağımsızlığını tanımasıyla) olmuştur.

Cevap B

10. Nizam-ı Cedid ordusunun kurulması III. Selim Dönemi'nde yapılan ıslahatlardan biridir. Diğer seçeneklerde verilen İstanbul'da kız ve erkek çocuklarına ilköğretim zorunlu hâle getirilmesi, işlevini kaybeden enderunun yerine devlet adamı yetiştirmek amacıyla Mekteb-i Maarif-i Adliyenin açılması, ilk defa yurt dışına öğrenci gönderilmesi ve Yeniçeri Ocağının yerine Asakir-i Mansure-i Muhammediye ordusunun kurulması yenilikleri II. Mahmut zamanında yapılmıştır.

Cevap D

11. Gayrimüslimlerin devlet hizmetine alınması ve askerî veya sivil okullara da kabul edilmesi ilk kez İslahat Fermanı'nda yer almıştır. Halkın can, mal ve namus güvenliği sağlanması, askerliğin vatan hizmeti hâline getirilmesi, vergilerin herkesin gelirin göre alınması, kanunların herkese eşit uygulanacak olması ve mahkemelerin herkese açık yapılması; herkese mal, mülk, edinme ve istediği gibi tasarruf hakkı sağlanması, rüşvet ve iltimasın önlenmesi ilkeleri ilk kez Tanzimat Fermanı'nda yer alan konulardandır.

Cevap D

12. II. Mahmut'un Mısır Valisi Kavalalı Mehmet Ali Paşa İsyanı'nda Rusya'dan yardım istemesi üzerine Avrupalı devletlerin devreye girerek arabuluculuk yapması sonucunda Mehmet Ali Paşa ile Osmanlı arasında Kütahya Antlaşması (1833) imzalanmıştır. Rusya bu antlaşmada taraf değildir.

Cevap C

13. V. Mehmet (Reşat) 27 Mayıs 1909 - 3 Temmuz 1918 tarihleri arasında hüküm süren Osmanlı padişahıdır. Trablusgarp Savaşı (1911), Balkan Savaşları (1912-1913) ve I. Dünya Savaşı (1914-1918) da bu dönemde meydana gelmiştir.

Cevap B

14. Mustafa Kemal'in Manastır Askerî İdadisinde öğrenci iken okuduğu ve ilk defa millî benliğini bulduğunu ifade ettiği "Ben bir Türk'üm, dinim, cinsim uludur." mısrasıyla başlayan şiirin şairi Mehmet Emin Yurdakul'dur.

Eserlerinde özellikle milliyetçiliği, halkçılığı savunan şiirler yazmış, Türkçülük fikrini savunmuş, Türk Ocaklarının kurucuları arasında yer alarak bu ocağın yayın organı olan Türk Yurdu dergisinde de yöneticilik yapmıştır. Kurtuluş Savaşı'nın başlamasıyla birlikte Anadolu'ya gelerek Türk milletinin Millî Mücadele'ye destek vermesini sağlamak amacıyla çeşitli toplantılar düzenlemiştir.

Cevap E

15. Mustafa Kemal, Çanakkale Cephesi'nde Anafartalar Grup Komutanlığına atandıktan sonra kuvvetlerini toparlayıp onlara "Ben size taarruzu emretmiyorum, ölmeyi emrediyorum. Biz ölünceye kadar geçecek zaman içinde yerimize başka kuvvetler ve komutanlar gelebilir." diye hitap ederek emrindeki birliklere savunmanın önemini vurgulamış ve neticede Çanakkale Cephesi zaferle sonuçlanmıştı. Bu cephedeki başarı I. Dünya Savaşı'nın seyirini değiştirmiştir.

Cevap D

16. İngiltere'nin desteğini alarak İstanbul'da kurulan Teali İslam Cemiyeti, daha çok Konya ve çevresinde örgütlenmiştir. Bu cemiyetin amacı halkın dinî duygularını istismar ederek Anadolu'da isyanlar çıkartmaktır. Diğer bir hedefi ise saltanat ve hali-feliği yeniden güçlendirerek Anadolu'daki Kurtuluş Savaşı'nı engellemektir.

Cevap B

17. 16-25 Ağustos 1919 tarihleri arasında Hacim (Muhittin Çarıklı) Bey'in önerisi ile Alaşehir Kongresi toplanmıştır. Millî Mücadele sırasında toplanan ve ilk olma özelliği taşıyan bu kongrede Millî Mücadele'nin başlatılması ile ilgili kararlar alınmış, Batı Anadolu'da devam eden yerel direnişin nasıl başarıya ulaşacağı, halkın Yunan işgaline karşı bilinçlendirilmesi ve teşkilatlandırılması üzerinde durulmuştur. Amacı ve kararları açısından bölgesel bir nitelik taşıyan Alaşehir Kongresi, halkın işgalci güçlere karşı bilinçlendirilmesinde etkili olmuştur. Yapılan yerel kongrelerin sonucunda Batı Cephesi'nde büyük bir mücadele başlatılarak Yunan ordusunun ilerleyişi yer yer yavaşlatılmış veya durdurulmuştur.

Cevap C

18. Mustafa Kemal'e gazi unvanı ve mareşal rütbesinin verilmesi Sakarya Savaşı'nın sonuçlarındandır. Soruda verilen diğer gelişmeler I. İnönü Savaşı'nın sonuçlarındandır.

Cevap B

19. Mustafa Kemal, Başkomutanlık Yasası'nın verdiği yetkiye dayanarak Türk ordusunun ihtiyaçlarını karşılamak için 7-8 Ağustos 1921'de Millî Yüklülükler Buyruklarını yayımlamıştır. Hıyanet-i Vatanıye Kanunu 29 Nisan 1920'de, Takrir-i Sükûn Kanunu ise II. TBMM Dönemi'nde çıkarılmıştır.

Cevap C

20. Mustafa Kemal Mudanya Ateşkes Antlaşması'nı imzalamak için Türk tarafı adına İsmet İnönü'yü görevlendirmiştir. Mudanya Ateşkes Antlaşması'nın imzalanmasından sonra da Refet Bele Doğu Trakya'yı teslim almakla görevlendirilmiştir. Refet Bele TBMM Hükûmeti temsilcisi olarak "Trakya Yüksek Komiseri" sıfatıyla coşkun gösteriler arasında İstanbul'a girmiştir (19 Ekim 1922).

Cevap D

21. Atatürk ilke ve inkılapları millî egemenlik temelini dayanır. Türkiye Cumhuriyeti'nde egemenlik, kayıtsız şartsız milletindir. Yeni Türk Devleti, millî egemenlik üzerine kurulmuştur. Atatürk, inkılapları bu ilkenin ışığında gerçekleştirmiştir. Atatürk'ün "Millî emeller, millî irade, yalnız bir şahsın düşüncesinden değil, bütün millet fertlerinin arzularının, emellerinin birleşmesinden ibarettir." sözü de daha çok millî egemenlik ilkesinin amacına hizmet eden bir sözdür.

Cevap E

22. Terakkiperver Cumhuriyet Fırkası liberal ekonomiden yanadır ve millî iradeye saygılıdır ilkesini benimsemiştir, devletçilik temelli ekonomi politikasına karşıdır.

Cevap A

23. Türk Ocakları, 1912 yılında İstanbul'da bir kültür derneği olarak kurulmuş ve Cumhuriyet Dönemi'nde Türkiye'de millî devletin oluşumuna katkıda bulunmuş milliyetçi örgüttür. 1931'de 260'ı geçen şubesi, 30.000'i aşkın üyesiyle ülkenin en güçlü sivil kuruluşu durumuna gelen dernek, Cumhurbaşkanı Mustafa Kemal Paşa'nın emri doğrultusunda Cumhuriyet Halk Partisi ile birleştirilmiş, 1949 yılında yeniden canlandırılmıştır.

Cevap E

24. Medeni Kanun'un kabulü ile birlikte Türk toplumunda ve aile yaşamında kadın-erkek eşitliği sağlanma yoluna gidilmiştir fakat bu kanun seçme ve seçilmede eşit oy kullanımı gibi siyasi haklar sağlamamıştır. Kadınlar bu haklara 1930-1933-1934 yıllarında aşama aşama kavuşmuş ve erkeklerle eşit konuma gelmiştir. Tek eşli evliliğin kabul edilmesi, resmî nikâh zorunluluğu getirilmesi, evlilikte yaş sınırı getirilmesi, boşanmanın şartlara bağlanması, mirasta kadın - erkek eşitliği sağlanması, evlenmede eşlerin isteğinin esas alınması bu kanunla sağlanan kazanımlardandır.

Cevap D

25. Mondros Ateşkesi'nden sonra İskenderun sancağı (Hatay) Fransızlar tarafından işgal edilmiştir. Türkiye ile Fransa arasında imzalanan Ankara Antlaşması'yla (20 Ekim 1921) İskenderun sancağı, Fransa mandasında olan Suriye sınırları içinde yer almıştır. İtalya'nın Habeşistan'ı işgali ve Akdeniz'de tehlikeli olması, Almanya'nın Orta Doğu'da İngiltere ve Fransa aleyhine girişimlerinden sonra Fransa 1936'da Lübnan ve Suriye ile ittifak antlaşması yapmış fakat parlamento bu antlaşmayı kabul etmemiştir. Fransa 1946'da tamamen Lübnan ve Suriye'den çekilmiştir.

Cevap A

26. Azerbaycan, Ermenistan ve Gürcistan SSCB'nin dağılmasıyla birlikte Kafkasya'da kurulan devletlerdendir. Orta Asya'da yeni kurulan devletlerden değildir.

Cevap A

27. Türkiye'de tamamen renkli yayına geçilmesi 1984 yılında gerçekleşmiştir. 1990'da ilk özel televizyon kanalı açılmıştır. 1994 yılında Özel Radyo ve Televizyon Yasası'nın çıkması ile çok sayıda özel radyo ve televizyon, yayın hayatına başlamıştır.

Cevap D

28. 21 Haziran tarihinde, eksen eğikliği ve yıllık hareketin etkisiyle ülkemizde kuzeye doğru gidildikçe gündüz süresi uzar. Gündüz süresinin daha kısa olduğu bir kentte Güneş daha geç doğup daha erken batacağı için doğru cevap V numara ile gösterilen E seçeneğidir.

Cevap E

29. Ülkemizde Bingöl (1151 m) ve Muş (1404 m) Doğu Anadolu Bölge sınırlarında yer alıp yükselti ortalamaları birbirine daha yakın olan kent çiftleridir.

Cevap E

30. Akdeniz Bölgesi, ülkemizde litolojik olarak kalkerli arazinin yoğun olduğu bir bölgedir. Bu nedenle bazı sular kayacın geçirgen özelliğinden dolayı yer altına sızar ya da başka bir yerden kaynak suyu olarak tekrar yeryüzüne çıkar.

Cevap B

31. Ülkemizde Küçükçekmece Gölü, Büyükçekmece Gölü, Durusu (Terkos) Gölü kıyıları limanlı kıyı tipidir. Ülkemizin okyanusa kıyısı olmadığı için haliçli kıyı örneği bulunmamaktadır.

Cevap D

32. Türkiye’de yaz mevsiminde Güneydoğu Anadolu Bölgesi’nin yaz sıcaklık ortalamasının yüksek olmasında buharlaşma miktarının fazla olmasının bir etkisi yoktur. Çünkü buharlaşma bir neden değil, sıcaklığın artışıyla ortaya çıkan bir sonuç bilgisidir.

Cevap A

33. Ülkemizde yamaç yağışları dağların kıyıya yakın ve paralel uzandığı yörelerimizde daha etkili görülür. Fakat V numaralı yöre olan Aydın, dağların kıyıya dik uzandığı bir yer olmasından dolayı yıl içinde yamaç yağışlarının görülme oranı daha azdır.

Cevap E

34. Ülkemizde bazı dönemlerde görülen kuraklık, erozyon şiddetinin artmasına neden olur. Çünkü erozyon yıllık yağış miktarının az, fiziksel çözülmenin arttığı yörelerde daha etkili olur. Kuraklık belirtilen bu özellikleri tetikleyeceği için erozyon şiddeti daha da artış gösterecektir.

Cevap C

35. Defne, lavanta, zakkum, yabani zeytin, keçi boy-nuzu, kermes meşesi, kocayemiş gibi türler ülkemizde maki denilen çalı formasyonunun türleridir. Bu nedenle araştırma gezisi Akdeniz ikliminin görüldüğü Mersin yöresinde yapılmıştır.

Cevap A

36. Ülkemizde Kocaeli, sanayi ve ticarete bağlı olarak göç alan bu nedenle nüfus yoğunluğu belirtilen diğer illere göre daha fazla olan bir ilimizdir.

Cevap A

37. Ülkemizde 1970 yıllarından sonra kırsal alandan ya da küçük kentlerden büyük kentlere doğru yapılan yoğun göçler birtakım sorunların oluşmasına neden olmuştur. Gecekondulaşma başta olmak üzere tarım alanlarının yerleşmeye açılması, sanayi tesislerinin kent içinde kalması gibi bazı sorunların oluşmasına neden olmuştur.

Cevap B

38. Ülkemizde Konya il sınırlarında yer alan Seydişehir kentinin gelişmesinde boksit yataklarının yörede bulunması etkili olmuştur. Fakat seçeneklerde belirtilen diğer kentler ise ülkemizde demir maden yataklarının bulunmasıyla gelişme gösteren kentlerimizdir.

Cevap B

39. Ülkemizde tütün bitkisi, aslında iklim seçiciliği fazla olmayan Anadolu’nun birçok yöresinde yetişebilen bir tarım ürünüdür. Fakat kalite koruma adına devlet tarafından kontrol altına alınmıştır ve belirli yörelerde üretimi yoğunlaşmıştır.

Cevap C

40. Ülkemizde Çanakkale ve Balıkesir il sınırlarının kesiştiği yerde bulunan Kaz Dağları, ekonomik olarak kış turizm tesislerinin önemli olduğu bir yer değildir. Millî park olarak bilinen Kaz Dağları, doğa yürüyüşü, botanik turizmi gibi etkinliklerle öne çıkan bir yerdir.

Cevap B

41. Ülkemizde büyükbaş besi hayvancılığı son yıllarda büyükşehirlerin çevresinde (Afyon) gelişme göstermeye başlamıştır. Bunun nedenleri içerisinde tüketici nüfusun fazlalığı ve pazarlama imkânlarının kolaylığı yer alır. İpek böcekçiliğinde ise Antalya yine son yıllarda en iyi yaş koza üretimini gerçekleştiren ildir.

Cevap C

42. Ülkemizde doğal gaz ve taş kömürü rezervleri fazla olmadığı için dışarıya bağımlılık söz konusudur. Fakat jeotermal, su gücü ve güneş enerji kaynakları ise ülkemizde potansiyel olarak var olan enerji kaynakları olduğu için mevcut santrallerde ya da yapılacak santrallerde dışarıya bağımlılığın azalması beklenir.

Cevap D

43. Dış satımı artırmanın önemli yollarından biri pazar ağını genişletmekten geçer. Bu nedenle pazar ağını belirli ülkelerle sınırlı tutmak günümüzde ticaret hacmini daraltır. Çünkü yeni pazarlar keşfetmek ülkemiz için kaçınılmazdır.

Cevap E

44. Avrasya Tüneli, ülkemizde İstanbul'da Boğaz'ın altından araçların geçişini ön gören bir kara yolu tüneldir.

Cevap D

45. Ülkemizde Tokat il sınırlarında yer alan Ballica önemli bir mağaradır. Fakat seçeneklerde belirtilen diğer yerler ise ülkemizde önemli antik kentler olarak bilinir.

Cevap E

46. Bir hukuki meseleyi çözerken hâkim ilk önce yazılı kaynaklara (Anayasa, kanun, usulünce kabul edilmiş milletlerarası antlaşmalar, tüzük, yönetmelik vs.) başvurmak zorundadır. Meseleyi çözecek yazılı bir hukuk kuralı yoksa başvuracağı diğer zorunlu kaynak örf ve âdet hukukudur. Bilimsel görüşler (doktrin) ve tek tek mahkeme kararları (yargı içtihatları) hâkimi bağlayıcı ve hâkimin başvurması gereken zorunlu kaynaklar arasında yer almaz.

Cevap D

47. Bir veya daha fazla kişinin, hukuki bir sonuç elde etmek amacıyla yaptıkları irade açıklamalarına hukuki işlem denir. Sözleşme olarak da adlandırılan hukuki işlemler, bağışlama sözleşmesinde olduğu gibi tek tarafın irade açıklamasıyla da meydana gelebilir; satım sözleşmesinde olduğu gibi iki tarafın irade açıklamasıyla da meydana gelebilir. Yine sözleşmeler tek tarafa da borç yükleyebilir, iki tarafa da.

Cevap C

48. Objektif iyiniyet (Dürüstlük kuralı): Hukuki ilişkilerde ortalama, makul bir kimsenin karşılıklı güven ilişkisi içinde uyması gereken ve herkesçe benimsenen davranışlar toplamıdır. Medeni Kanun'a göre herkes haklarını kullanırken ve borçlarını yerine getirirken dürüstlük kuralına uymak zorundadır.

Cevap B

49. 1982 Anayasası'na göre sıkıyönetim cumhurbaşkanının başkanlığında toplanan Bakanlar Kurulu tarafından ilan edilebilir. Kanunlar cumhurbaşkanı tarafından yayımlanır. Türk Silahlı Kuvvetlerinin yabancı ülkelere gönderilmesine karar verme yetkisi TBMM'ye aittir.

Cevap C

50. 1982 Anayasası'na göre, herhangi bir sebeple boşalan bakanlığa en geç on beş gün içinde atama yapılır.

Cevap C

51. 1982 Anayasası'na göre, olağanüstü hâl ve sıkıyönetim ilan etmek cumhurbaşkanının başkanlığında toplanan Bakanlar Kurulunun görev ve yetkileri arasındadır. TBMM Bakanlar Kurulunun istemi üzerine, her defasında dört ayı geçmemek üzere süreyi uzatabilir veya sıkıyönetim ya da olağanüstü hâli kaldırabilir.

Cevap A

52. Öncüllerde verilen kanun hükmünde kararname ve yönetmelik yürütme organın (idarenin) düzenleyici işlemleri arasında yer alır. İç tüzük ise idare tarafından değil yasama organı (TBMM) tarafından çıkarılır. İç tüzük yasama organının kendi iç çalışmalarını düzenlediği kurallardır.

Cevap D

53. Türkiye Radyo Televizyon Kurumu (TRT), hizmet yerinden yönetim kuruluşu yani kamu kurumudur. TRT, merkezî idare içinde yer almaz. Bu nedenle TRT genel müdürü merkezî idare içinde yer alan bir kamu görevlisi değildir.

Cevap E

54. Eğitim, sağlık, savunma gibi millî kamu hizmetleri, merkezî idare içinde başkentte bakanlık adı altında kurulmuştur. Bakanlık millî bir kamu hizmetini sunan bölümün adıdır.

Cevap B

55. Fizik, kimya ve ekonomi dalındaki Nobel Ödülleri Stockholm'deki İsveç Kraliyet Bilimler Akademisi, tıp veya fizyoloji dalındaki ödül Stockholm Karolinska Kraliyet Tıp-Cerrahi Enstitüsü, edebiyat ödülü İsveç Akademisi, Nobel Barış Ödülü ise üyeleri Norveç Storting (Parlamento) tarafından atanan beş kişilik Norveç Nobel Komitesi tarafından verilir. İsveç Kraliyet Bilimler Akademisi daha sonra ekonomi ödüllerinin de gözetimini üstlendi. Türk Profesör Aziz Sancar, 10 Aralık 2015 tarihinde İsveç'in başkenti Stockholm'de düzenlenen törenle Nobel Kimya Ödülü'nü İsveç Kralı 16'ncı Gustaf'ın elinden aldı.

Cevap E

56. Gaziantep; gastronomi dalında, Birleşmiş Milletler Eğitim, Bilim ve Kültür Örgütü'nün (UNESCO) "Yaratıcı Şehirler Ağı"na girdi. Gelişmiş ve gelişmekte olan ülkelerin şehirlerinin sosyal, ekonomik ve kültürel kalkınmalarına katkı sağlamayı hedefleyen söz konusu ağa üye olan şehirler, yerel yaratıcılık, tanıtım ve görünürlüklerini artırmayı hedeflemekte UNESCO'nun kültürel çeşitliliğin desteklenmesi doğrultusundaki görüşlerini paylaşmaktadır.

Programa katılım, "el sanatları ve halk sanatı", "dizayn", "sinema", "gastronomi", "edebiyat", "müzik" ve "görsel sanatlar" alanında gerçekleştiriliyor.

Şu ana kadar UNESCO gastronomi listesine dünyanın dört bir yanından sadece sekiz kent kabul edilmişti.

Listeye şu ana kadar Çin'den iki kent, Brezilya, Güney Kore, İsveç, Kolombiya, Japonya ve Lübnan'dan birer şehir girmişti. 2015 yılının Aralık ayından itibaren Gaziantep ile birlikte 9 kent daha bu listeye eklendi.

Cevap A

57.6 Ocak 2014 tarihinde ABD Başkanı Barack Obama'nın ataması ile ABD'nin Merkez Bankası (FED) başkanı olmuştur. 3 Şubat 2014 tarihinde yemin ederek görevine başladı. Janet Yellen'in başkanlığı 2018 yılına kadar devam edecek. Janet Yellen, 3 Şubat 2018 tarihine kadar FED başkanlığı, 31 Ocak 2024 tarihine kadar da FED yönetim kurulu üyeliği görevini sürdürecektir.

Cevap A

58. 2015 Cumhurbaşkanlığı Kültür ve Sanat Büyük Ödülü, sinema alanında Münir Özkul'a, edebiyat alanında, "Gül yetiştiren adam" Rasim Özdenören'e, tarih alanında Mehmet Genç'e, müzik alanında Orhan Gencebay'a, geleneksel sanatlar alanında Hüseyin Kutlu'ya ve Vefa Ödülü ise merhum mütefekkir Cemil Meriç'e verilmiştir.

Cevap C

59. Euro ya da Avro, Avrupa Birliği'nin 28 üyesinden 19'u ile 3 Avrupa ülkesinin daha resmî olarak kullandıkları ortak para birimidir. İngiltere, Danimarka ve İsveç Euro'ya geçmeyen AB üyeleridir. Bu ülkelerin hükümetleri bu konuda karar vermedikçe ya da halk oylaması sonuçları bu yönde olmadıkça, AB tarafından yasal bir baskıyla karşılaşmazlar. Bulgaristan'ın 2015 yılında Euro'ya geçmesi kararlaştırılmıştır. AB üyesi Yunanistan yaşadığı ekonomik kriz nedeniyle Avrupa ortak para birliğinden çıkarılması gündeme gelmişse de bu gerçekleşmemiş para birliğinde kalmıştır.

Cevap A

60. Mali yapılarının bozulması nedeniyle Bankacılık Düzenleme ve Denetleme Kurumu tarafından el konulan bankaların yönetimi Tasarruf Mevduatı Sigorta Fonu'na geçer.

Cevap D