

KPSS

Editörler:
Serhat GÜVEN - Umut TÜRKYILMAZ

GENEL YETENEK GENEL KÜLTÜR



**DENEME
SINAVI**

Başarıya son adım...



Bu testte 60 soru vardır.

1. Bir edebi eser elbette dille var olur ve dille çoğalır. Televizyonda da dinlemiş olsam, internette de kitaptan da dergiden de okumuş olsam dille oluşturulan yapıyla karşımdadır şiir, öykü, roman, deneme... Ama tüm bunlara rağmen diyebilirim ki her eserin edebiyatça varlığı biriciktir.

Bu parçadaki altı çizili sözle edebiyat ürününün hangi özelliği belirtilmek istenmiştir?

- A) Konusunun zenginliği
B) Özgünlüğü
C) Anlamsal derinliği
D) Duygusal boyutu
E) Okuyucuyu etkileme gücü
2. Sanatçımızın eserlerini bugünlere taşıyan ve yarınlara da taşıyacak olan özellik, eserlerinin bizim insanımızın parmak izlerini taşıyor olmasıdır.

Bu cümledeki "insanımızın parmak izlerini taşıyor olmasıdır." sözüyle anlatılmak istenen aşağıdakilerden hangisidir?

- A) Her dönemde seviliyor olması
B) Evrensel değerler taşıması
C) Yorucu bir çabanın ürünü olması
D) Türk insanının duygu ve düşüncesini yansıtmaması
E) Her kesimden insana seslenebilmesi

3. Akademik bir yazının hangi düşünceyi, hangi duyguyu dile getirmiş olduğu pek önemli değil, çünkü o, artık her türlü duyguyla, duygusallıkla ilişkisini kesmiştir. Bu tip yazılarda yazar kendini mümkün olduğu kadar paranteze almalıdır. Bu tip yazılar, okuyanın tarafsızlık duygusunda hiçbir şüphe uyandırmamalıdır.

Bu parçada geçen "kendini paranteze almak" sözüyle anlatılmak istenen aşağıdakilerden hangisidir?

- A) Farklı düşüncelere saygı duymak
B) Konunun dışına çıkmamak
C) Anlaşılma çabası içinde olmak
D) Kendine has bir bakış açısına sahip olmak
E) Kişisel değerlendirmeleri yansıtmamak

4. ve 5. sorularda başta verilen cümleden kesin olarak çıkarılabilecek yargıyı bulunuz.

4. "Türkiye'de geçen yıl satılan iki yüz bin otomobilin yüz yirmi bini ithal otomobilden oluşuyor."

- A) Türkiye'de en çok geçen yıl otomobil satılmıştır.
B) Türkiye'de otomobil ithalatına bir sınırlama getirilmiştir.
C) İthal otomobiller daha kaliteli oldukları için tercih edilmektedir.
D) Türkiye'de satılan otomobillerin bir kısmının üretimi Türkiye'de gerçekleşmiştir.
E) Türkiye'deki otomobil fiyatları Avrupa'ya göre yüksektir.

5. "Türkiye'nin Karadeniz Bölgesi'nde evler ahşaptan yapılırken İç Anadolu'da kerpiçten, Doğu Anadolu'da ise taştan yapılmaktadır."

- A) Türkiye'nin orman bakımından en zengin bölgesi, Karadeniz Bölgesi'dir.
B) Taş evlerin maliyeti, ahşap ve kerpiç evlerden yüksektir.
C) Bölgelerin aldığı yağış miktarı ile ev yapımında kullanılan malzemelerin çeşidi arasında sıkı bir bağ vardır.
D) Doğu Anadolu'da kışlar sert geçtiği için evler taştan yapılmaktadır.
E) Türkiye'de inşaat sektöründe farklı malzemeler kullanılmaktadır.

6. I. Etkin bir tiyatro adamı olarak Güner Sümer'i tanımayan yoktur.
 II. Genç yaşta ölümü, tiyatromuz için büyük kayıp olmuştur.
 III. Yönetmen, oyuncu, oyun yazarı kimliğiyle Türk tiyatrosunda derin izler bırakmıştır Sümer.
 IV. Güner'in ölümü insana ölümün felsefesini yaptırıcak türdendi.
 V. Dolu dolu yaşanarak geçen, yaratarak, düşünerek, ürün vererek yaşanan bir ömür yarı yolda kesiliverince kayıp çok daha büyük oluyor.

Yukarıdaki numaralanmış cümleler anlamlı bir bütün oluşturacak biçimde sıralandığında hangisi baştan dördüncü olur?

- A) I. B) II. C) III. D) IV. E) V.

7. I. Kıyıya yakın yerde seyreden Humboldt akıntısı üzerinde nemli ve soğuk hava yükseliyor.
 II. Karadan esen sıcak alize rüzgârları soğuk ve nemli havanın üzerini örterek yeterince yükselmesini engelliyor.
 III. Peru'daki Atacama Çölü'nün kumulları denize kadar uzanıyor.
 IV. Ancak yağmur bulutları oluşmuyor.
 V. Bu kıyı çölü özgün coğrafi koşullar neticesinde oluşmuştur.

Yukarıdaki numaralanmış cümleler anlamlı bir bütün oluşturacak biçimde sıralandığında hangisi baştan dördüncü olur?

- A) I. B) II. C) III. D) IV. E) V.

8. I. Brecht'in söz konusu konuşmasının odak noktalarından biri, dünyanın değişebilirliğini yansıtmak ilkesi
 II. Yönleri ne olursa olsun bu iki çağdaş yazar, edebiyatta biçim ve imgede birleşiyorlar.
 III. Yine aynı yıllarda bizde de bu konuyla ilgili benzer bir formülle karşılaşılıyor.
 IV. Dürrenmatt'ın dünyayı biçimlendirme ve imge ilkeleriyle ters düşmüyor.
 V. Dürrenmatt'ın görüşüne aykırıyken öteki, yeni sanat araçları aramaya koyulmak gereğini duymuş.

Yukarıdaki numaralanmış cümleler anlamlı bir bütün oluşturacak biçimde sıralandığında hangisi baştan sonuncu olur?

- A) I. B) II. C) III. D) IV. E) V.

9. I. Dünya, sessizlik ve fırtına; denizinin üzerinde yüzen ve daima değişen bir köpüktür.
 II. Hayat aklımızı başımızdan aldığı için hayata karşı, duygularımızı içeri doğru çevirerek kıvanç içinde rahatlıyoruz.
 III. Gece, günün hem en uslu hem de en uçarı çocuğudur.
 IV. Her yazı, geçmişte yazılmış metinlerin rahminden doğar ve gelecekte yazılacak metinleri bir rahim gibi içinde taşır.
 V. Vücutlarımız Doğu'da olsa bile düşüncelerimiz Batı'ya dönük olmalıdır.

Numaralanmış cümlelerden hangilerinde benzetmeye yer verilmemiştir?

- A) II ve V B) I ve II C) III ve V
 D) II ve IV E) I ve III

10. Bizim dağlarda kaya menekşesi dediğimiz bir menekşe türü var. Susuz, topraksız, sert kayaların yarıklarında biter. İnsan boyunun ulaşamadığı yerlerde burçak burçak kocar. Güneş gören yerlerde açık mavi, güneş görmeyen yerlerde açık eflatun renginde... Tohumu toprağa dökülür, bitmez. Engin kayalara dökülür, bitmez. Kökünü saksıya alırsınız, yetişmez. İnsanlara kafa tutan bu menekşeyi çok severim.

Bu parçada kullanılan anlatım biçimi aşağıdakilerden hangisidir?

- A) Öyküleme B) Örnekleme C) Betimleme
 D) Açıklama E) Tanımlama

11. (I) İngiliz arkeolog James Mellaart tarafından keşfedilen Çatalhöyük'te ilk kazılar 1961'de başladı ve birkaç yıl devam etti. (II) Mellaart'ın, henüz gizemi çözülemeyen "Dorak Hazinesi" problemi sonrasında çalışmalar 1963'te durduruldu. (III) İki yıl sonra O. Gurney yönetiminde kazılara yeniden başlandı. (IV) Çatalhöyük sayesinde, yerleşik hayata ve tarım kültürüne geçen insanoğlunun sosyal ve kültürel yapısı tüm zenginliğiyle ortaya çıkmıştır. (V) 1994'te yapılan yüzey araştırmasının ardından 1995'te Ian Hodder yönetiminde kazılara bir kez daha İngiliz arkeologlar başladı.

Bu parçadaki numaralanmış cümlelerden hangisi düşüncenin akışını bozmaktadır?

- A) I B) II C) III D) IV E) V

657 yayınevi

657 yayınevi

12. (I) İnsan vücudunda 160 kadar bursalar vardır. (II) Bunlar çoğu zaman tendon deformasyonuna bağlı olarak iltihaplanır. (III) Bu durumda tendonların daha çok hasar görmesini önlemek maksadıyla bursalara sıvı üretilirerek içi sıvı dolu kese şekli verilir. (IV) Böylece eklem hareketi kısıtlanır. (V) Bursaların hasara bağlı kese şeklini almalarına tıpta bursit adı verilir.

Bu parçadaki numaralanmış cümlelerden hangisi düşüncenin akışını bozmaktadır?

- A) I B) II C) III D) IV E) V

13. (I) Fransa'da resim, 1648'de kurulan Kraliyet Resim ve Heykel Akademisi'nce titiz bir sınıflandırmaya tabi tutulmuştur. (II) Resim türleri; en basitinden tarihi resim diye adlandırılan ve diğer resim türlerine göre mutlak ayrıcalığı olduğu kabul edilen en soylu resme kadar sınıflandırılmıştır. (III) Tarihi resim, konularını mitolojiden, Antik Çağ'dan, kutsal kitaplardan ve Hristiyanlıktan alır. (IV) Bu büyük tür, iki biçime bürünebilir: tek tek tablolar veya duvar resimleri. (V) Bu türün ilk örneklerinden biri 16. yüzyılda yapılan I. Francois galerisi olmuştur.

Bu parçayı iki paragrafa ayırmak gerekirse ikinci paragraf kaç numaralı cümleyle başlar?

- A) I B) II C) III D) IV E) V

14. Sanatçı, halktan ayrı düştü mü hayattan da ayrı düşüyor ve yarınlarda yaşayamıyor.

Bu cümlede aşağıdakilerden hangisi yoktur?

- A) Ünlü düşmesi
B) Ulama
C) Ünlü daralması
D) Ünsüz benzeşmesi
E) Ünsüz değişimi

15. (I) Yeni şairlerimiz nedense anlaşılmaz olmayı yeğliyor. (II) Oysa bu tutum edebiyatı halktan gitgide uzaklaştırıyor. (III) Açıkçası bu düşüncede olanlar dilimizin canına kast ediyor. (IV) Değişik olalım derken anlaşılması güç, basmakalıp ifadelerle dilimizin dolmasına neden oluyorlar. (V) Edebiyatımızın bir an önce bu düşünceden uzaklaşması gerekir.

Bu parçadaki numaralanmış cümlelerden hangisinde yazım yanlış yapılmıştır?

- A) I B) II C) III D) IV E) V

16. Aşağıdakilerin hangisinde ikileme ad tamlamasının tamlananı görevinde kullanılmıştır?

- A) Eşin dostun ricasını kırmayıp buraya gelmeye karar verdim ben de.
B) Bizler de zaman zaman böyle hatalar yapıyoruz ki.
C) Sen sen ol, çoluk çocuğun lafına inanıp da hareket etme,
D) Memlekete gitmeyeli aşağı yukarı üç yıl oluyor.
E) Bayadır sesi soluğu çıkmıyordu genç sanatçının.

17. Deneme ve makalenin amacı çok farklıdır () Makale gerçeği () deneme bir düşüncüyü anlatır ()

Bu cümlede ayraçla () belirtilen yerlere aşağıda verilen noktalama işaretlerinden hangileri sırasıyla getirilmelidir?

- A) (:) (,) (.) B) (;) (,) (.) C) (,) (:) (.)
D) (,) (:) (.) E) (;) (:) (.)

18. Yollarıma tuzak kurmuşlar bir kere
Güvenim yok haftalara günlere
Zamanın tesbihi saçıldı yere
Dizemedim, dizilmiyor sultanım

Yukarıdaki dörtlük için aşağıdakilerden hangisi söylenemez?

- A) Hem isim cümlesi hem de fiil cümlesi vardır.
B) Fiilimsiye yer verilmiştir.
C) "dizemedim" sözcüğü yapıcı bileşik bir fiildir.
D) Ad tamlaması özne görevindedir.
E) Geçişli fiil kullanılmıştır.

19. Ne doğan güne hükmüm geçer
Ne halden anlayan bulunur
Ah aklımdan ölümüm geçer
Sonra bu kuş, bu bahçe, bu nur

Bu dizelerle ilgili olarak aşağıdakilerden hangisi söylenemez?

- A) İyelik eki alan sözcükler vardır.
B) Ünlü düşmesinin örneği vardır.
C) Adlaşmış sığata yer verilmiştir.
D) Zamir kullanılmıştır.
E) Bağlaç kullanılmıştır.

20. Dr. Ruskin, öğrencilerine yaşlanmanın psikolojik belirtilerini öğretirken onlara şunu okudu: "Hasta ne konuşuyor ne de söyleneni anlıyor. Zaman, yer ya da kişi kavramı yok. Son altı aydır onun yanındayım. Onu hep başkası besliyor, yıkıyor, giydireyor. Dişleri yok, üstü salyalardan dolayı sürekli leke içinde. Yürümüyor, uykusu düzensiz. Bazen ortada bir neden yokken feryat figan bağıriyor." Okuduktan sonra bu kişinin bakımını kimin üstlenmek isteyeceğini sordu. Öğrenciler bunu kabul etmeyince onlara hastanın fotoğrafını gösterdi. Aksine herkesin büyük bir zevkle bakmak isteyeceğini söyledi. Fotoğraftaki hasta doktorun altı aylık kızıydı.

Bu parçada anlatılanlara göre aşağıdakilerden hangisi söylenemez?

- A) Yanlış anlamamanın kişide farklı bir yaklaşım duygusu oluşturabileceği
- B) Kelimelerin anlatamadığını bir görüntünün verebileceği
- C) İnsanların yaşlanınca yalnızlığa ve ilgisizliğe mahkum olduğu
- D) Bir fotoğrafın bazen bir söze bedel olabileceği
- E) İnsanların yaşlı bakımını zor, bebek bakımını zevkli göreceği

21. Bazı arkadaşlar, aradıkları şiir kitaplarını kitapçılarda bulamadıklarından şikayet ediyor. Haklılar. Aynı sıkıntıyı ben de yaşıyorum. Ne var ki bunun suçu sadece kitapçılarda değil. Evet, kitapçıların çoğu şiir kitabı buldurmak istemiyor, hele genç şairlerin kitaplarını önerdiğinizde yüzlerini buruşturanlar bile var. Ama "şiirsever milletimiz" şiir kitaplarına hemen alışır. Kitap da yayımlandığı anda bir metadır, bunun ticaretini yapan kitapçı ister istemez sürümü daha fazla olan türlere eğilim gösterecektir.

Bu parçada aşağıdakilerden hangisi çıkarılmaz?

- A) Kitapçıların şiir kitabı buldurmayı tercih etmediğine
- B) Okuyucuların almak istedikleri şiir kitaplarını bulma sıkıntısı yaşadığına
- C) Yeni şairlerin şiirlerinin beğenilmediğine
- D) Kitap satanların revaçta olan kitapları buldurduğuna
- E) Şiir kitaplarına talebin artmasıyla durumun düzeleceğine

22. Bir toplumda ahlakın ilerlemesini, düzelmesini istiyorsanız o toplumda edebiyat, sanat merakını uyandırmaya çalışın. Çocuklara, gençlere şiirler, hikayeler, romanlar okutun. Onları tiyatrolara, sinemalara gönderin. O hikâyelerin, romanların, oyunların insanları ile tanışsınlar. Onların hayatlarını, hayallerini yaşasınlar; öğrensinler onların içlerini. Böylece gerçekteki insanları da daha iyi anlarlar. Çocuğunuz büyüyünce ne olacaksa olsun, küçükken siz ona edebiyatı sevdirmeye bakın. İlim, bilgi sonradan gelecektir. Önce insanlığını kurmak hayatını işlemek gerekir.

Bu parçada asıl anlatılmak istenen aşağıdakilerden hangisidir?

- A) Edebi türlerin çocuk yaşta okunmaya başlanması gerekir.
- B) Sinema ve tiyatro da roman, hikâye kadar faydalı türlerdir.
- C) Edebiyat ve sanata ilgisi olan toplumlarda ahlaki değerler gelişebilir.
- D) Çocuğun büyüyünce hangi mesleği seçeceği değil hangi sanat dalıyla ilgileneceği önemlidir.
- E) Başka insanların hayatlarını öğrenmek kişisel gelişim açısından gereklidir.

23. Divan edebiyatı kavramı Arap ve Fars, özellikle de Fars edebiyatının estetik kaideleri üzerine kurulmuş edebiyatını içine almaktadır. Fakat günümüz aydınları divan edebiyatı denince sadece Osmanlı İmparatorluğu'nun sınırları içinde oluşanı kastediyorlar. Bu düşünce elbette yanlıştı. Çünkü edebiyat bir dil olayıdır. 16. yüzyılın ikinci yarısında, şive özelliklerindeki ayrıntılar bir yana bırakıldığında Çağatay Türkçesinin büyük şairi Ali Şir Nevai ile Osmanlı Türkçesinin Ahmed Paşa'sı, Necati Bey'i şiirlerinin estetik yapısı arasında hiçbir fark yoktur.

Bu parçada vurgulanmak istenen aşağıdakilerden hangisidir?

- A) Edebiyatın sınırı dille çizilir. Farklı yerlerde aynı dili kullanan sanatçılarda estetik fark yoktur.
- B) Divan edebiyatını etkileyen temel Arapça ve Farsçadır.
- C) Divan edebiyatı sadece Osmanlı sınırları içinde gelişmiş kabul edilir.
- D) Çağatay Türkçesini kullanan şair ile Osmanlı Türkçesini kullanan şair arasında şive farkı yoktur.
- E) Edebiyatımızın estetik kuralları en çok Fars edebiyatından alınmıştır.

24. Gazeteciler her ne kadar bir basın kuruluşunda ücretli olarak çalışıyorsa da gazeteciliğin olmazsa olmaz koşulu bağımsızlıktır. Ekonomik, politik hat- ta çalıştığı basın kuruluşunun önceden belirlenmiş genel kuralları içindeki bağımlılık bile kolay kabul edilemez. Ancak her alanda bağımsız olan gazeteci olayların üzerine tarafsızlıkla gidebi- lir, halkın çıkarlarını savunma durumunu koruyabi- lir.

Parçada boş bırakılan yere düşüncenin akışına göre aşağıdakilerden hangisi getirilebilir?

- A) Gazetecilik dünyada ve Türkiye’de bir meslek olarak kabul edilir.
- B) Gazetecinin bağımlılığı, tarafsızlığını kaybettiği anlamına gelir.
- C) Gazeteciler ister yazılı ister sözlü basında çalışsın, okuyucusuna, dinleyicisine her gün haber iletmekle yükümlüdür.
- D) Gazetecilik, sorumluluğunun yanında sorunları da olan bir meslektir.
- E) Gazeteci olmak için doktorluk, mühendislik, avukatlık gibi değişmez kuralları olan bir eği- timden geçmek gerekmez.

657 yayınevi

657 yayınevi

25.-27. soruları aşağıdaki paragrafa göre cevaplayınız.

(I) En kötü sesler sıralamasında kara tahtaya tırnak sürme ilk sırayı almış. (II) Peki ama neden bu kadar berbat? (III) Kulak kanalı, kulakta geniş, kulak zarında kapalı olan geniş bir borudur. (IV) Araştırmalar büyük olasılıkla insan sesinin bazı bölümlerinin 2 bin - 4 bin hertz aralığına düşmesi nedeniyle bu aralıktaki seslerin kulak kanalına girdikten sonra çok kuvvetlendiğini gösteriyor. (V) Araştırmacılar, bu kuvvetlenmenin kaynağında ünlü ve ünsüz harfleri daha iyi ayırabilme amacının yatabileceğini gösteriyor. (VI) Ama kanal o tiz sürtünme sesinin yine bu aralıktaki bölümlerini toplayınca bu aşırı bir yankıya ve bedensel bir tepkiye yol açabilirmiş. (VII) Araştırmanın bir sonraki aşaması çerçevesinde, bu sesi hayal etmenin bile terlemeye ve kalp atışının hızlanmasına neden olabildiği söyleniyor. (VIII) Demek ki bu duruma bağlı olarak elektrikli süpürge ve makine üreticilerinin, günlük yaşamımızda sık sık karşımıza çıkan sesleri yumuşatmalarına bu araştırmalar önyak olabilir.

25. Bu paragrafta aşağıdakilerin hangisi kullanılmamıştır?

- A) Tanımlama B) Deyim
C) Karşılaştırma D) Tanık gösterme
E) Soru cümlesi

26. Paragrafta numaralı cümlelerin hangisinde bir çıkarım yapılmıştır?

- A) II B) IV C) V D) VII E) VIII

27. Parçada numaralanmış cümlelerin hangisinde dolaylı anlatım yapılmıştır?

- A) II B) III C) IV D) V E) VII

28.-30. soruları aşağıdaki bilgilere göre cevaplayınız.

DİKKAT! Soruları birbirinden bağımsız olarak cevaplayınız.

Beş yarışmacının katıldığı ve jüri üyelerinin “olumlu” (+) ya da “olumsuz” (-) olarak değerlendirmede bulunup yanıt verdiği bir şarkı yarışmasında, Armağan, Bülent, Eser, Hadise ve Murat adlı jüri üyelerinin katılımcılar hakkında buldukları değerlendirmeyle ilgili şunlar bilinmektedir:

- Armağan üç tanesi peş peşe olmak üzere dört yarışmacı için olumsuz (-) değerlendirmede bulunmuştur.
- Bülent ikisi peş peşe olmak üzere üç yarışmacı için olumlu (+) değerlendirme yapmıştır.
- Armağan ve Murat ikinci yarışmacıya olumsuz (-) değerlendirmede bulunmuştur.
- Bülent, Eser ve Hadise dördüncü yarışmacı için olumsuz (-) değerlendirmede bulunmuştur.
- Hadise, her yarışmacıya bir önceki yarışmacıya verdiği yanıtın farklı bir yanıt vermiştir.
- Eser her yarışmacı için aynı değerlendirmede bulunmuştur.
- Murat iki yarışmacı için Eser’den farklı bir değerlendirmede bulunmuştur.

28. Bu bilgilere göre, aşağıdakilerden hangisi kesinlikle doğrudur?

- A) Murat, üçüncü yarışmacıya olumlu (+) yanıt vermiştir.
- B) Armağan, üçüncü yarışmacıya olumlu (+) yanıt vermiştir.
- C) Murat, dördüncü yarışmacıya olumlu (+) yanıt vermiştir.
- D) Bülent, üçüncü yarışmacıya olumsuz (-) yanıt vermiştir.
- E) Hadise, ikinci yarışmacıya olumsuz (-) yanıt vermiştir.

29. Aşağıdakilerin hangisinde verilen iki jüri üyesinin de birinci yarışmacıya olumsuz (-) yanıt verdiği kesindir?

- A) Armağan ve Bülent
- B) Armağan ve Eser
- C) Bülent ve Hadise
- D) Eser ve Murat
- E) Hadise ve Murat

30. Bu bilgilere göre, Bülent ikinci, üçüncü ve beşinci yarışmacılardan hangilerine kesinlikle olumlu (+) yanıt vermiştir?

- A) Yalnız ikinciye
- B) Yalnız üçüncüye
- C) Yalnız beşinciye
- D) İkinci ve beşinciye
- E) Üçüncü ve beşinciye

31.

$$0,45 - \frac{0,2}{0,3 + \frac{0,1}{0,5}}$$

işleminin sonucu kaçtır?

- A) 5
- B) 2
- C) 0,5
- D) 0,05
- E) 0,08

32.

$\frac{2}{\frac{2}{3}}$ sayısı $\frac{3}{4}$ sayısının kaç katıdır?

- A) 18
- B) 12
- C) 9
- D) $\frac{1}{9}$
- E) $\frac{1}{12}$

33.

$\frac{a}{6}$, $\frac{b}{a}$ ve $\frac{a}{4}$ sayıları küçükten büyüğe sıralı olarak verilmiş ardışık pozitif tamsayılarıdır.

Buna göre, $|a - b|$ kaçtır?

- A) 84
- B) 88
- C) 90
- D) 92
- E) 96

34. $|a| = 3$, $|b| = 8$, $|c| = 7$ olmak üzere,

$$b < a < c$$

$$a \cdot b \cdot c > 0$$

olduğuna göre, $a + b + c$ toplamı kaçtır?

- A) 18
- B) 2
- C) 1
- D) -2
- E) -4

35. n bir pozitif tamsayı olmak üzere 46 sayısının n ile bölümünden kalan 4'tür.

Buna göre, n'nin alabileceği değerler toplamı kaçtır?

- A) 87 B) 88 C) 90 D) 92 E) 96

36. İki basamaklı AB sayısı rakamları toplamının $2x + 3$ katına eşittir. İki basamaklı BA sayısı rakamları toplamının $3x - 2$ katına eşittir.

Buna göre, x kaçtır?

- A) 6 B) 5 C) 4 D) 3 E) 2

37.

$$\left(\frac{1}{12}\right)^x = \left(\frac{4}{3}\right)^{x+2}$$

olduğuna göre 16^x ifadesinin değeri kaçtır?

- A) $\frac{3}{4}$ B) $\frac{3}{8}$ C) $\frac{9}{10}$ D) $\frac{9}{16}$ E) $\frac{4}{3}$

38.

$$\frac{\sqrt[4]{27 \cdot \sqrt[3]{9}}}{\sqrt[3]{9 \cdot \sqrt[6]{3}}}$$

işleminin sonucu kaçtır?

- A) $3^{\frac{1}{2}}$ B) $3^{\frac{1}{3}}$ C) $3^{\frac{1}{12}}$ D) $3^{\frac{5}{12}}$ E) $3^{\frac{11}{12}}$

39. Gerçek sayılar kümesi üzerinde bir f fonksiyonu

$$f\left(\frac{x}{4} - 1\right) = \frac{x}{2} - a$$
 biçiminde tanımlanıyor.

$f(2) = 7$ olduğuna göre, a kaçtır?

- A) -1 B) -2 C) -3 D) -4 E) -5

40.

$$\begin{aligned} a^2 &< a \\ a + c &< 0 \\ b^3 \cdot c^5 &< 0 \end{aligned}$$

eşitsizliklerini sağlayan a, b ve c gerçel sayılarının işaretleri sırasıyla aşağıdakilerden hangisidir?

- A) - ; - ; - B) - ; - ; + C) + ; - ; -
D) + ; + ; - E) + ; - ; +

657 yayınevi

41. a, b, c birer asal sayı olmak üzere,

$$\begin{aligned} a &< b < c \\ a + b + c &= 32 \\ a \cdot b + a \cdot c + b \cdot c &= 281 \end{aligned}$$

olduğuna göre, b.c çarpımı kaçtır?

- A) 180 B) 210 C) 221 D) 229 E) 261

657 yayınevi

42. AB iki basamaklı bir doğal sayı olmak üzere,

$$\Ç(AB) = A \cdot B$$

olarak tanımlanıyor.

Örneğin:

$$\Ç(17) = 1 \cdot 7 = 7$$

$$\Ç(20) = 2 \cdot 0 = 0$$

$$\Ç(39) = 3 \cdot 9 = 27$$

Buna göre,

$$\Ç(10) + \Ç(11) + \Ç(12) + \dots + \Ç(19) + \Ç(20) + \dots + \Ç(99)$$

toplamı kaçtır?

- A) 2007 B) 2025 C) 2225
D) 2475 E) 2593

43. A ve B okullarının belirli bir zamandaki öğrenci sayılarıyla ilgili aşağıdakiler bilinmektedir.

- A okulunda başlangıçta 2500 öğrenci vardır.
- A okulunun mevcudu her 4 ayda bir 50 öğrenci artmaktadır.
- B okulunun mevcudu 6 ayda bir 100 öğrenci artmaktadır.

A ve B okullarının 6 yıl sonraki öğrenci sayıları birbirine eşit olacağına göre, B okulunda başlangıçta kaç öğrenci vardır?

- A) 2000 B) 2050 C) 2100
D) 2150 E) 2200

44. İki araç A kentinden B kentine doğru aynı anda hareket ediyor. Yavaş olan araç yolun yarısına geldiğinde hızlı olan 240 km yol alıyor. Hızlı olan araç yolun yarısına geldiğinde yavaş olan araç 60 km yol alıyor.

Buna göre, A kenti ile B kenti arası kaç km'dir?

- A) 180 B) 200 C) 230 D) 240 E) 300

45. %40'ı su olan 19 kg yaş üzüm bir süre bekletildikten sonra %24'ünün su olduğu belirleniyor.

Buna göre, son durumda elde edilen üzüm kaç kg'dır?

- A) 15 B) 14 C) 13 D) 12 E) 11

46. Bir kitaplıkta bulunan A, B ve C derslerine ait sayısal kitaplar ile X, Y ve Z derslerine ait sözel kitaplar tek bir rafta yan yana sıralanacaktır.

- Sayısal ve sözel kitaplar kendi arasında art arda sıralanacaktır.
- A kitabı tüm kitaplar arasında en başta veya en sonda olacaktır.
- X kitabı sözel kitaplar arasında en başta veya en sonda olacaktır.

Buna göre, kitaplar kaç farklı biçimde sıralanabilir?

- A) 8 B) 12 C) 16 D) 24 E) 120

47. Bir öğretmen elindeki 60 TL'nin tamamıyla kırtasiyeden bir miktar kalem almıştır. Bir sonraki alışverişte kırtasiyeci, her bir kaleme 20 kuruş indirim yapmış ve bu öğretmen 60 TL ye bir önceki alışverişe göre %50 fazla sayıda kalem almıştır.

Bu iki alışverişte öğretmen kırtasiyeden toplam kaç kalem almıştır?

- A) 180 B) 210 C) 240 D) 250 E) 300

48. Bir su deposuna her gün içindeki su kadar su ilave ediliyor. Deponun tamamı 36 günde dolduğuna göre, deponun $\frac{1}{4}$ 'ü kaç günde dolmuştur?

- A) 34 B) 33 C) 32 D) 20 E) 10

49. ve 50. soruları aşağıdaki bilgilere göre cevaplayınız.

Bir akvaryum merkezinde 1'den 60'a kadar numaralandırılmış 60 akvaryuma bir miktar balık;

- Numarası 2'nin tam katı olan akvaryumlara 2'şer balık
- Numarası 3'ün tam katı olan akvaryumlara 3'er balık
- Numarası 5'in tam katı olan akvaryumlara 5'er balık

gelecek biçimde dağıtılıyor.

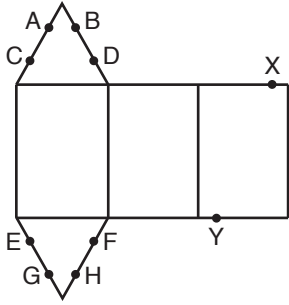
49. Dağıtım işlemi bittiğinde içinde 7 veya daha fazla balık olan kaç akvaryum vardır?

- A) 6 B) 8 C) 9 D) 10 E) 12

50. Dağıtım işlemi bittiğinde akvaryumlarda toplam kaç balık olur?

- A) 120 B) 150 C) 180 D) 240 E) 300

51.



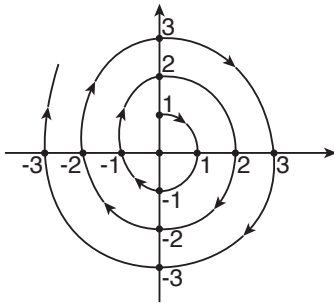
Şekilde bir üçgen dik prizmanın açılımı gösterilmiştir.

Bu şekil kapatıldığı zaman X ve Y noktaları sırasıyla hangi noktalar ile eşleşir?

- A) E ve B B) D ve G C) F ve C
D) B ve E E) C ve G

52. Dik koordinat düzleminde (0, 1) noktasından başlayarak şekildeki gibi içten dışa doğru bir spiral çizerek biçimde, x ve y eksenleri üzerinde noktalar alınıyor.

Örneğin, alınan 6. noktanın koordinatları (2, 0), alınan 8. noktasının koordinatları (-2, 0)'dır.



Spiral aynı şekilde devam ettirildiğinde, alınan 529. noktasının koordinatları aşağıdakilerden hangisi olur?

- A) (132, 0) B) (-132, 0) C) (0, 133)
D) (0, -133) E) (0, 132)

53. 30 sayfa bir defterin sayfaları, önlü arkalı olmak üzere 1'den 60'a kadar numaralandırılmıştır. Defterin art arda gelen iki sayfa yırtıldığında kalan sayfaların sayfa numaraları toplamı 1680 oluyor.

Buna göre, yırtılan sayfa numaralarının en küçüğü kaçtır?

- A) 33 B) 34 C) 35 D) 36 E) 37

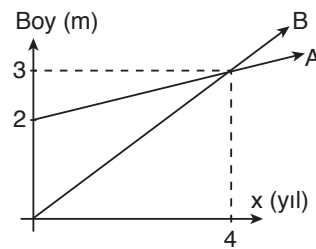
54. n pozitif tam sayı olmak üzere,

$$\text{EKOK}(5, n) = \text{EBOB}(20, n)$$

olduğuna göre, n'nin alabileceği değerlerin çarpımı kaçtır?

- A) 1000 B) 1200 C) 1800
D) 6000 E) 15000

55. A ve B bitkilerinin yıllara göre boylarının grafiği aşağıda verilmiştir.



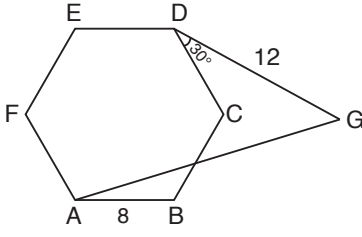
Buna göre, birinci yıl sonunda A bitkisinin boyu B bitkisinin boyunun kaç katıdır?

- A) $\frac{13}{4}$ B) 3 C) $\frac{11}{4}$ D) $\frac{5}{2}$ E) $\frac{9}{4}$

57 yayınevi

57 yayınevi

56.



ABCDEF düzgün altıgen, $m(\widehat{CDG}) = 30^\circ$

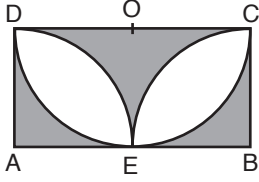
$AB = 8$ cm $IDGI = 12$ cm

Yukarıda verilenlere göre IAGI uzunluğu kaç cm'dir?

- A) 12 B) 13 C) 15 D) 18 E) 20

657 yayınevi

57. Aşağıdaki şekilde O merkezli, [DC] çaplı yarım çember, A ve B merkezli iki çeyrek çember ve ABCD dikdörtgeni verilmiştir. E noktasında yarım çember ABCD dikdörtgenine, çeyrek çemberler de birbirine teğettir.

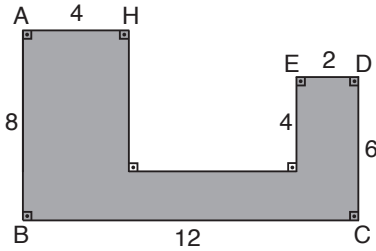


IDCI = 8 cm olduğuna göre, taralı bölgelerin alanları toplamı kaç cm^2 'dir?

- A) $8 + 5\pi$ B) $8(4+\pi)$ C) $12(5+\pi)$
D) $16(4 - \pi)$ E) $24(4 - \pi)$

657 yayınevi

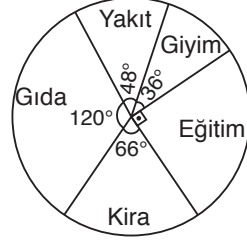
58.



Yukarıda verilenlere göre şeklin alanı kaç birim karedir?

- A) 52 B) 54 C) 56 D) 58 E) 60

59. ve 60. soruları aşağıdaki bilgilere göre cevaplayınız.



Şekildeki daire grafiği bir ailenin aylık giderleri içinde kira, yakıt, giyim, gıda ve eğitim harcamalarının payını göstermektedir.

59. Bu aile eğitime ayırdığı paranın %40'ını ve gıdaya ayırdığı paranın %20'sini yakıta ayırıyor.

Buna göre, bu ailenin yakıt harcamaları toplam giderinin yüzde kaç olur?

- A) 45 B) 40 C) 36 D) 32 E) 30

60. Bu ailenin yakıta ayırdığı para kiraya ayırdığı paradan 90 TL fazla olduğuna göre, gıdaya ayırdığı para kaç TL dir?

- A) 600 B) 540 C) 500
D) 480 E) 420

Bu testte 60 soru vardır.

1. Orta Asya Türk Devletlerinin dinsel inançları ile ilgili aşağıdakilerden hangisi doğru değildir?
- A) Eski Türklerde ölü gömme törenine Yuğ denilirdi.
B) Mezarın başına öldükten sonra hizmet edecek Balbal adı verilen taş heykeller konulurdu.
C) Mezarlarına Kurgan adı verilirdi.
D) Gök Tanrı dini en yaygın inanışlarındanıdır.
E) Avrupa Hunları Batıya doğru göç ederek Hristiyanlığı kabul etmişlerdir.
2. Orta Asya Türk Devletleri ile ilgili aşağıda verilen eşleştirmelerden hangisi doğru değildir?
- A) **Türgişler**, hükümdarları Sulu Kağan döneminde İslamiyet'in yayılmasını engellemişlerdir.
B) **Karluklar**, Karahanlılar Devleti'nin kuruluşunda rol oynamışlardır.
C) **Peçenekler**, Hristiyandırlar. Malazgirt Savaşı'nda Büyük Selçuklu Devleti yanında yer almışlardır.
D) **İtil Bulgarları**, Almış Han zamanında İslamiyeti kabul etmişlerdir.
E) **Avarlar**, Bayan Han önderliğinde Viyana'yı kuşatmışlardır.
3. Selçuklular Dönemi divanlarından aşağıdakilerden hangisinin tanımı doğru değildir?
- A) **İstifa Divanı**, Maliye işleri
B) **Arz Divanı**, Askerlik işleri
C) **İnşa Divanı**, Yazışma işleri
D) **Divanı Berid**, Posta işleri
E) **İşraf Divanı**, Yüksek Mahkeme
4. Anadolu Selçuklularında Ahi Teşkilatı'nın nitelikleri arasında aşağıdakilerden hangisi yer almamıştır?
- A) Fütüvvet anlayışı doğrultusunda örgütlenmiştir.
B) İş yeri açılması için verilen ruhsata Gedik Usulü denilmiştir.
C) İhtiyaç doğrultusunda üretim yapmışlardır.
D) Mesleki eğitimin verildiği örgütlenmede her esnaf grubunun bir şeyhi bulunmaktadır.
E) Anadolu'da Ahiliğin kurucusu Sadreddin Konevi'dir.
5. Anadolu Selçukluları döneminde eserler veren edebiyatçılar ve eserleri eşleştirmelerinden hangisi yanlış verilmiştir?
- A) Yunus Emre – Risaletün Nushiye
B) Mevlana – Fihi Mafih
C) Sultan Veled – İbtidaname
D) Hacı Bektaş Veli – Makalat
E) Hoca Dehhani – Garipname
6. Osmanlı Devleti'ndeki Eyalet Askerleri ile ilgili aşağıda verilen tanımlardan hangisi yanlıştır?
- A) **Azaplar**, sınır kalelerde güvenliği sağlayan gönüllü askerlerdir.
B) **Deliler**, orduda keşif hizmetleri yaparak bilgi toplayanlardır.
C) **Beşliler**, beş haneden bir kişi alınarak oluşturulan birliklerdir.
D) **Sakalar**, ordunun posta işleriyle ilgilenen birliklerdir.
E) **Martoloslar**, sarp geçitlerde güvenliği sağlayan Hristiyan askerlerdir.

7. Osmanlı Devleti'nde Yıldırım Bayezit Dönemi'nde açılan ilk Darrüşşifa'da tabib olarak görev yapan "Müntehab-ı Şifa" adlı eserin yazarı aşağıdakilerden hangisidir?
- A) Celaleddin Hızır
B) Sabuncuoğlu Şerafeddin
C) Altunizade
D) Ahi Ahmet Çelebi
E) Mukbilzade Mümin
8. Osmanlı Devleti'nde yapılması gereken düzenlemeler padişaha risale, layiha veya raporlar halinde sunulurdu. Aşağıdakilerden hangisi bu raporlardan biri sayılmaz?
- A) Koçi Bey
B) Katip Çelebi
C) Hoca Sadeddin
D) Yusuf Agah Efendi
E) Hazerfan Ahmet Çelebi
9. Aşağıdakilerden hangisi Avrupa'da Rönesans dönemi yazarlarından birisi değildir?
- A) Montaigne
B) William Shakespeare
C) Martin Luther
D) Petrark
E) Cervantes
10. Avrupa'da Aydınlanma Çağı'nı yaşatan bilim adamları arasında aşağıdakilerden hangisi yer almaz?
- A) Galileo Galilei
B) Pascal
C) Bacon
D) Adam Smith
E) Christin Bernard
11. İstanbul'un fethi olan 1453 tarihinden Fransız İhtilali'nin gerçekleştiği 1789'a kadar olan dönem Yeni Çağ olarak adlandırılmıştır.
- Aşağıdakilerden hangisi Yeni Çağ'ın yaşanmasına neden olan gelişmelerden biri değildir?**
- A) Barutun ateşli silahlarda kullanılması
B) Kağıdın geliştirilmesi
C) Pusulanın sapma açısının bulunması
D) John Gutenberg'in modern matbaayı bulması
E) İpek ve Baharat Yolu'nun canlanması
12. Avrupa'da XVIII. yüzyılda meydana gelen Sanayi Devrimi'nin Osmanlı Devleti'ne etkileri arasında aşağıdakilerden hangisi yer almamıştır?
- A) Küçük atölye ve el tezgahlarının kapanması
B) Lonca Teşkilatı'nın öneminin artması
C) Osmanlı topraklarında ihracatın azalması
D) Avrupa'nın hammadde ve pazar ihtiyacının Osmanlı topraklarının işgaline neden olması
E) Osmanlı akçesinin değerinin düşmesi
13. Osmanlı Devleti'nde Boğazların ilk kez sorun haline gelmesi aşağıdaki antlaşmalardan hangisi ile olmuştur?
- A) Kütahya Antlaşması
B) Hünkar İskelesi Antlaşması
C) 1840 Londra Konferansı
D) 1841 Londra Konferansı
E) Balta Limanı Ticaret Sözleşmesi
14. Aşağıdakilerden hangisi İstibdat Dönemi gelişmelerinden biridir?
- A) Gedik Paşa Tiyatrosu'nun açılması
B) Osmanlı Hamdi Bey tarafından Sanayi Nefise Mektebi'nin açılması
C) İngiltere'den ilk kez borç para alınması
D) Fransızcanın okullarda zorunlu dil olması
E) Esham uygulamasına gidilmesi

15. Türklerle ilgili aşağıdaki raporlardan hangisi olumsuz niteliktedir?

- A) Amiral Bristol Raporu
- B) General Harboud Raporu
- C) King Crane Raporu
- D) Dr Esat Işık Raporu
- E) Sandler Raporu

16. I. Ali Galip Olayı

- II. Ankara Valisi Muhittin Paşa Olayı
- III. Sivas Valisi Reşit Paşa'nın girişimleri

Sivas Kongresi'nin toplanmasını engelleme çalışmalarından hangileri İstanbul Hükümeti'nde değişikliğe neden olmuştur?

- A) Yalnız I
- B) Yalnız II
- C) Yalnız III
- D) I ve II
- E) I ve III

17. TBMM açıldıktan sonra yapılan ilk anayasa olan 1921 Anayasası'nda aşağıdakilerden hangisine yer verilmemiştir?

- A) Egemenlik anlayışı
- B) Güçler Birliği
- C) İcra Vekilleri Heyeti
- D) Laiklik
- E) 1876 Kanuni Esasi'nin yürürlükte olması

18. I. İnebolu

- II. Maraş
- III. Antep

Milli Mücadeleye katkılarından dolayı İstiklal Madalyası alan şehirler yukarıdakilerden hangileridir?

- A) Yalnız I
- B) Yalnız II
- C) Yalnız III
- D) I ve II
- E) I, II ve III

19. I. İran Sınırı

- II. Kafkas Sınırı
- III. Suriye Sınırı

Yukarıdaki sınırlardan hangileri daha önce belirlenen haliyle Lozan Antlaşması'nda kabul edilmiştir?

- A) Yalnız I
- B) Yalnız II
- C) Yalnız III
- D) I ve II
- E) I, II ve III

20. Cumhuriyet'in ilanından sonra yeniden kurulan İstiklal Mahkemeleri aşağıdaki şehirlerden hangisinde kurulmamıştır?

- A) Diyarbakır
- B) Sivas
- C) İstanbul
- D) İzmir
- E) Ankara

21. 1882 yılında Mekteb-i Sanayi-i Nefise-i Şahane adıyla kurulan yükseköğretim kurumunun günümüzdeki adı aşağıdakilerden hangisidir?

- A) Yıldız Teknik Üniversitesi
- B) İstanbul Teknik Üniversitesi
- C) Mimar Sinan Güzel Sanatlar Üniversitesi
- D) Boğaziçi Üniversitesi
- E) İstanbul Üniversitesi

22. Mustafa Kemal Atatürk Sancak Sorunu'nun (Hatay) çözümlenmesi aşamasında İsmet İnönü Hükümeti'ni eleştirirken yazdığı makaleleri hangi takma adla yazmıştır?

- A) Asım Us
- B) Şerif Bey
- C) Galip Hoca
- D) Milli Şef
- E) Reşad-ı Sani

23. Aşağıdakilerden hangisinin açıklaması, karşısında yanlış verilmiştir?

- A) Maastricht Antlaşması, İkinci Dünya Savaşı sonrasında Avrupa'da insan hakları ve hukukun üstünlüğünü savunmak amacıyla kurulmuştur.
- B) EOKA, 1950'li yılların başlarında Kıbrıs'ın Yunanistan'a bağlanması amacıyla Yorgo Grivas liderliğinde kurulan Rum örgütüdür.
- C) DPT, Devlet Planlama Teşkilatı 1960'ta hızla kalkınmayı sağlamak için kurulmuştur.
- D) Gandhi, Hindistan bağımsızlık hareketinin lideridir.
- E) Monroe Doktrini, ABD'nin Avrupa sorunları ve diplomasisinden uzak duran yalnızlık politikasıdır.

24. İkinci Dünya Savaşı başlarında Almanya ile anlaşarak Polonya'yı işgal eden ancak daha sonra Almanya'nın topraklarına saldırısı karşısında Fransa'nın da içinde bulunduğu müttefik grubuna katılan devlet aşağıdakilerden hangisidir?

- A) Sovyet Rusya
- B) Arnavutluk
- C) Bulgaristan
- D) Romanya
- E) İtalya

25. Aşağıdakilerden hangisi Avrupa Birliği'ne dönüşen süreçle ilgili gelişmelerden biri değildir?

- A) Avrupa Ekonomik Topluluğu'nun kurulması
- B) Schuman Bildirisi
- C) Birleşmiş Milletler'in kurulması
- D) Avrupa Kömür ve Çelik Birliği'nin kurulması
- E) Üye ülkeler arasında serbest dolaşım hakkının tanınması

26. Birleşik ve laik bir Arap toplumu oluşturmayı amaçlayan sosyalist bir yönetim uygulamak isteyen siyasal hareket aşağıdakilerden hangisidir?

- A) Yasemin Baharı
- B) Baas
- C) Turuncu Devrim
- D) Müslüman Kardeşler
- E) El Kaide

27. Demokrat Parti Dönemi'nde Atatürk ile ilgili çalışmalar arasında aşağıdakilerden hangisi yer almaz?

- A) Erzurum Atatürk Üniversitesi'nin açılması
- B) Atatürk aleyhine işlenen suçlara ilişkin yasa çıkarılması
- C) Devlet dairelerine yalnızca Atatürk resminin asılması ile ilgili genelge yayımlanması
- D) Atatürk'ün naaşının Anıtkabir'e taşınması
- E) Dörtlülük Takrir'in TBMM'ye sunulması

28. Aşağıdakilerden hangisi Türkiye'nin matematik konusunun sonuçlarından değildir?

- A) Cephesel yağışlar görülmesi
- B) Daimi bakı yönün güney olması
- C) Aynı anda farklı mevsim özellikleri görülmesi
- D) Gölge yönünün daima kuzeye düşmesi
- E) Kuzeye doğru gidildikçe sıcaklığın azalması

29. I. Sıcaklık artar
II. Yerçekimi artar
III. Çizgisel hız artar
IV. Gece gündüz süre değişimi artar

Yukarıda verilenlerden kaç tanesi Türkiye'de kuzeyden güneye gidildikçe artar?

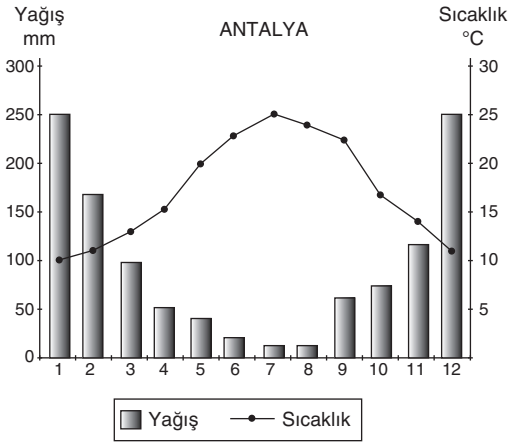
- A) Yalnız I
- B) I ve II
- C) II ve III
- D) I ve III
- E) II ve IV

30. Türkiye ortalama yükseltisi fazla olan dağlık engebeli bir ülkedir.

Buna göre aşağıdakilerden hangisi ortalama yükseltinin fazla olduğunu kanıtlamaz?

- A) İklim bitki örtüsü kısa mesafelerde değişir.
- B) Akarsuların hidroelektrik potansiyeli fazladır.
- C) Akarsu erozyonu fazla olduğundan kıyılardaki delta ovaları hızla genişler.
- D) Tarım alanları dar ve parçalıdır.
- E) Dağlar doğu-batı doğrultusunda uzanır.

31.

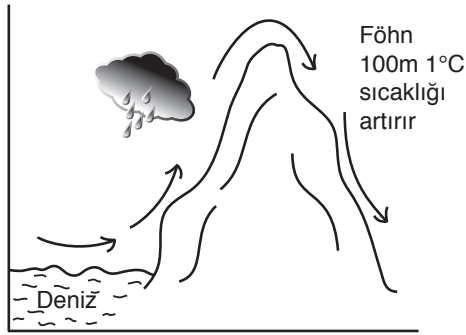


Yukarıdaki grafik bir yere ait yıllık ortalama sıcaklık ve yağış durumu hakkında bilgi vermiştir.

Buna göre aşağıdakilerden hangisi verilen yer için kesin olarak söylenebilir?

- A) Bitki örtüsünün yaz kuraklığına dayanıklı olması
- B) Güney yarım kürede yer alması
- C) Akarsuların denge profiline ulaşması
- D) Akarsuların hidro elektrik potansiyellerinin fazla olması
- E) Gece gündüz ve yıllık sıcaklık farkının fazla olması

32.



Föhn rüzgarı dağların yükseklerinden eteklerine doğru esen rüzgarlardır.

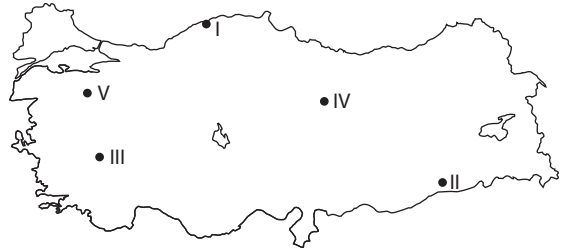
Buna göre aşağıdakilerden hangisi föhn rüzgarının özellikleri arasında yer almaz?

- A) Sıcaklığı arttıkça bağıl nemi azaltır.
- B) Ani kar erimelerine ve sellere neden olur.
- C) Uludağ'ın eski adını alan kuru rüzgardır.
- D) Rize'de turuncuğil yetişmesine neden olur.
- E) Iğdır Ovası'nda yazın pamuk tarımı yapılmasına neden olur.

33. Aşağıdakilerden hangisi göç veren bir yerin özellikleri arasında yer almaz?

- A) Erkek nüfus oranı azalırken, kadın nüfus oranı artar.
- B) Tarımsal üretim ve verimlilik azalır.
- C) Kırsal kesime yapılacak yatırımlar âtil kalır.
- D) Genç dinamik nüfus azalırken yaşlı nüfus artar.
- E) Konut yetersizliği nedeniyle gecekondulaşma artar.

34. Aşağıdaki haritada bazı yeraltı kaynaklarının çıkarıldığı yerler gösterilmiştir.



Buna göre hangi alanda çıkarıldığı söylenen yeraltı kaynağı yanlış verilmiştir?

- A) I- Taşkömürü
- B) II- Petrol
- C) III- Krom
- D) IV- Demir
- E) V- Bor

35. I. Yaz yağışlarıyla yeşeren ot topluluğu
 II. İlkbahar yağmurları ile yeşeren yazın kuruyan ot topluluğu
 III. Kuraklığa dayanıklı kısa boylu bodur ağaç
 IV. Çiçekli gür bitki örtüsü her mevsim yaprağını dökmeyen ormanlar

Yukarıda verilen özelliklere göre bu alanların egemen olduğu yerlerde yapılan hayvancılık faaliyeti aşağıdakilerden hangisidir?

	I	II	III	IV
A) Büyükbaş	Koyun	Kılkeçisi	Arıcılık	Arıcılık
B) Koyun	Arıcılık	Kılkeçisi	Büyükbaş	Büyükbaş
C) Arıcılık	Koyun	Kılkeçisi	Büyükbaş	Büyükbaş
D) Kılkeçisi	Arıcılık	Büyükbaş	Koyun	Koyun
E) Kılkeçisi	Büyükbaş	Arıcılık	Koyun	Koyun

057 yayınevi

057 yayınevi

36. Kuş gözlemciliği doğayı kuşların gözlerinden tanımayı sağlayan bir gözlem sporudur.

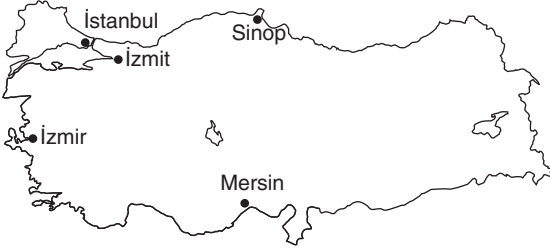
Buna göre aşağıdakilerden hangisi kuş gözlemciliğinin yapıldığı alanlardan biri değildir?

- A) Uluabat Gölü
B) Sultan Sazlığı
C) Hatilla Vadisi
D) Kızılırmak Deltası
E) Dilek Yarımadası

39. Aşağıdakilerden hangisi Marmara Bölgesi'nin özelliklerinden biri değildir?

- A) Ekili dikili arazi oranı en fazla olan bölgedir.
B) En fazla göç alan bölgedir.
C) Hidro elektrik potansiyel fazla olan bölgedir.
D) İklim çeşitliliği en fazla olan bölgedir.
E) Okur yazar oranının en fazla olduğu bölgedir.

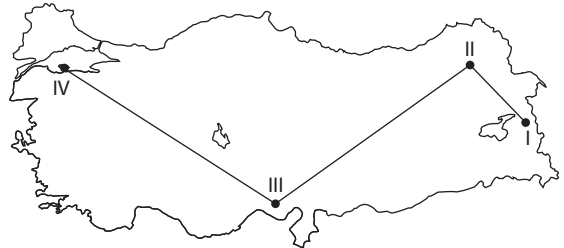
37.



Yukarıdaki haritaya göre Türkiye'nin en büyük serbest ticaret limanı aşağıdakilerden hangisidir?

- A) Mersin
B) İzmir
C) İzmit
D) İstanbul
E) Sinop

40.



Yukarı Murat Van Bölümü'nden yola çıkan bir kişi aşağıdaki numara ile verilen yerlerden hangilerini görmüştür?

	I	II	III	IV
A)	Ağrı Dağı	Erzurum-Kars Platosu	Çukurova Deltası	Kapıdağ Yarımadası
B)	Erzurum-Kars Platosu	Çukurova Deltası	Nemrut Heykelleri	Kapıdağ Yarımadası
C)	Çukurova Deltası	Erzurum-Kars Platosu	Ağrı Dağı	Kapıdağ Yarımadası
D)	Kapıdağ Yarımadası	Çukurova Deltası	Ağrı Dağı	Erzurum-Kars Platosu
E)	Nemrut Heykelleri	Ağrı Dağı	Çukurova Deltası	Kapıdağ Yarımadası

38. I. Konya Ovası
II. Menteşe Yöresi
III. Bafra çevresi
IV. Amik Ovası
V. Teke çevresi

Yukarıda verilen alanlardan hangileri engebeli dağlık bölge kapsamında yer alır?

- A) I ve II
B) I ve III
C) III ve IV
D) II ve V
E) IV ve V

657 yayınevi

657 yayınevi

41. İnsanların yaşadıkları alanları ekonomik, sosyal, siyasal ve doğal nedenlere bağlı olarak terk ederek başka bir yere sürekli ya da geçici olarak gitmesine göç denir.

Aşağıdakilerden hangisi siyasi nedenlere bağlı göçlere örnek verilemez?

- A) Mübadele göçü
B) Mülteci göçü
C) İşçi göçü
D) Savaşlara bağlı göçü
E) Sınır değişikliğine bağlı göç

43. Terkos Gölü (Durusu)

Akyatan Gölü
Büyükçekmece Gölü
Küçükçekmece Gölü

Yukarıda verilen göllerin oluşumunda aşağıdaki olaylardan hangisi etkili olmuştur?

- A) Volkanizma B) Dalga C) Rüzgar
D) Akarsu E) Deprem

657 yayınevi

657 yayınevi

42. Dağların denize paralel uzandığı yerlerde kıta sahanlığı dar ve kıyılarda dalga aşındırma şekli falezler yaygındır.

Buna göre aşağıdaki alanlardan hangileri bu duruma örnek verilemez?

- A) Artvin – Rize arası
B) Bartın – Sinop arası
C) Antalya – Alanya arası
D) Finike – Kaş arası
E) Mersin – Adana arası

44. I. Yukarı Sakarya Bölümü

II. Yukarı Fırat Bölümü

III. Orta Fırat Bölümü

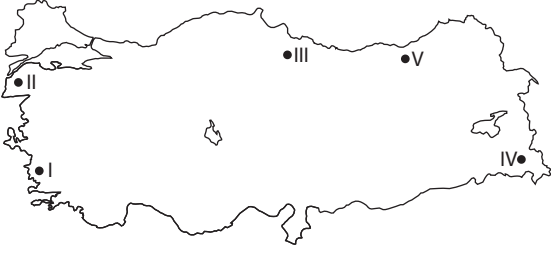
IV. Erzurum Kars Bölümü

V. Ergene Bölümü

Türkiye’de yer alan yukarıdaki bölümlerden hangisinde yaz yağışları etkilidir?

- A) I B) II C) III D) IV E) V

45.



Yukarıdaki Türkiye haritasında verilen numaralı yerlerden hangisinde nüfus seyrek değildir?

- A) Yalnız I B) I ve IV C) II ve III
D) I ve III E) IV ve V

47. I. Ergin olmak

II. Ayrırım gücüne sahip olmak

III. Kısıtlı olmamak

Yukarıdakilerden hangisi veya hangileri bir kimsenin hukuken tam ehliyetli olarak kabul edilebilmesi için gereken şartlardandır?

- A) Yalnız I B) Yalnız II C) I ve II
D) II ve III E) I, II ve III

657 yayınevi

48. Aşağıdakilerden hangisi medeni hukukun alt dallarından biri değildir?

- A) Kişiler hukuku
B) Aile hukuku
C) Eşya hukuku
D) Borçlar Hukuku
E) Miras hukuku

657 yayınevi

46. Aşağıdakilerden hangisi toplumsal hayatı düzenleyen normatif disiplinlerden biri değildir?

- A) Hukuk B) Din C) Siyaset
D) Görgü E) Ahlak

49. Kanunun hâkime açıkça yetki verdiği veya durumun gereklerini ya da haklı sebepleri göz önünde tutmayı emrettiği konularda, hakimin hukuka ve hakkaniyete göre karar vermesi aşağıdakilerden hangisi ile ifade edilir?

- A) Dürüstlük kuralı
B) İyiniyet
C) Bağlı yetki
D) Takdir yetkisi
E) Hukuk yaratma

50. Bir kimse hakkında gaiplik kararı verecek mahkeme aşağıdakilerden hangisidir?

- A) Aile mahkemesi
- B) Asliye hukuk mahkemesi
- C) Sulh hukuk mahkemesi
- D) Çocuk mahkemesi
- E) Kadastro mahkemesi

53. Anayasa Mahkemesi üye sayısı kaçtır?

- A) 11 asıl 4 yedek
- B) 7 asıl 4 yedek
- C) 17 üye
- D) 22 asıl 11 yedek
- E) 22 asıl 12 yedek

657 yayınevi

51. T.C. Anayasaları arasında ilk ve tek yumuşak anayasa aşağıdakilerden hangisidir?

- A) 1876 Kanun-i Esasi
- B) 1921 Teşkilat-ı Esasiye
- C) 1924 Teşkilat-ı Esasiye
- D) 1961 Anayasası
- E) 1982 Anayasası

54. Aşağıdakilerden hangisi yönetmelik çıkarmaz?

- A) Başbakanlık
- B) Bakanlar Kurulu
- C) Gazi Üniversitesi Hukuk Fakültesi
- D) İçişleri Bakanlığı
- E) Dicle Üniversitesi

657 yayınevi

52. Aşağıdakilerden hangisinde seçimde döneminde ayrılması gereken bakanlar doğru olarak verilmiştir?

- A) Başbakan yardımcıları, Milli Savunma Bakanı, İçişleri Bakanı
- B) Adalet Bakanı, İçişleri Bakanı, Milli Savunma Bakanı
- C) İçişleri Bakanı, Dışişleri Bakanı, Adalet Bakanı
- D) İçişleri Bakanı, Adalet Bakanı, Ulaştırma Bakanı
- E) Adalet Bakanı, Gümrük ve Ticaret Bakanı, Ulaştırma Bakanı

55. Aşağıdakilerden hangisi Yaşar Kemal'in eserlerinden biri değildir?

- A) Ağrı Dağı Efsanesi
- B) İnce Memed
- C) Üç Anadolu Efsanesi
- D) Devlet Kuşu
- E) Gökyüzü Mavi Kaldı

56. Aşağıdakilerden hangisi Avrupa Birliğine üye ülkelerden biri değildir?

- A) İsveç B) Norveç C) İngiltere
D) Hollanda E) Finlandiya

59. Azerbaycan doğal gazını Hazardaki Şahdeniz-2 üzerinden Türkiye ve Avrupa'ya taşıyacak projenin adı nedir?

- A) Trakya Akımı
B) Mavi Akım
C) Tanap
D) Bakü-Ceyhan Boru Hattı
E) Kuzey Akımı Projesi

657 yayınevi

57. Birleşmiş Milletlerin merkezi nerededir?

- A) Cenevre B) New York C) Paris
D) Roma E) Oslo

657 yayınevi

58. G20 toplantısına ev sahipliği yapan ülkelere tanınan haktan yararlanarak Türkiye, G20 2015 Zirvesi'ne hangi ülkeyi davet etmiştir?

- A) Kırgızistan
B) Özbekistan
C) Azerbaycan
D) Kuzey Kıbrıs Türkiye Cumhuriyeti
E) Moldova

60. 2015'te Türkiye'de denize dolgu yapılarak inşa edilen ilk hava limanı aşağıdakilerden hangisidir?

- A) Batum Havalimanı
B) Ordu-Giresun Havalimanı
C) Trabzon Havalimanı
D) Samsun Havalimanı
E) Atatürk Havalimanı



Renklerle Soru-Cevap Serisi

-  → Dur!
-  → Dikkat et!
-  → Oku-geç!

Kırmızı renkli soruların sınav açısından bilinmesi zorunlu, sarı renkli soruların bilinmesi faydalı, yeşil renkli soruların bilinmesi ise, tüm konular hakkında bilgi sahibi olunmasını sağlayıcı niteliktedir.

Ayrıca kitapta; sorular arasında yeri geldikçe sınavda dikkat edilmesi gereken temel TUZAKLARA ve ezberi kolaylaştırıcı bir takım FORMÜLLERE yer verilmiştir.



(0.549) 657 1 657

657 Yayıncılık ve Dağıtım

Ostım Mah. Turan Çiğdem Cad.
1220 Sokak No: 13/1-2
Yenimahalle / ANKARA
Tel: (0312) 386 37 87
info@657yayinevi.com

www.657satis.com