

KPSS GENEL YETENEK GENEL KÜLTÜR

TÜRKİYE GENELİ

DENEME 1 SINAVI

DİKKAT!

SINAVA BAŞLAMADAN ÖNCE AŞAĞIDAKİ UYARILARI MUTLAKA OKUYUNUZ.

1. Genel Yetenek Testi ve Genel Kültür Testi için verilen toplam cevaplama süresi 120 dakikadır. (2 saat).
2. Genel Yetenek Testi ve Genel Kültür testlerinin her birinde 60 soru vardır. Toplam 120 soru bulunmaktadır.
3. Cevaplamaya istediğiniz testten ve sorudan başlayabilirsiniz. Her soru ile ilgili cevabınızı, cevap kâğıdında o soru için ayrılmış olan yere işaretlemeyi unutmayınız.
4. Testler puanlanırken her testteki doğru cevaplarınızın sayısından yanlış cevaplarınızın sayısının dörtte biri düşülecek ve kalan sayı o testle ilgili ham puanınız olacaktır. Bu nedenle, hakkında hiçbir fikrinizin olmadığı soruları boş bırakınız. Ancak, soruda verilen seçeneklerden birkaçını eleyebiliyorsanız kalanlar arasından doğru cevabı kestirmeye çalışmanız yararınıza olabilir.

© COPYRIGHT AYMI RYAYINEVİ

Yayı m Hakkı

Bu kitabın her türlü yayım hakkı Aymir Yayın Basım Dağı tım Ltd, Şti'ye aittir.

Bu kitabın baskısından 5846 ve 2936 sayılı Fikir ve Sanat Eserleri Yasası hükümleri gereğince kaynak gösterilerek bile olsa alıntı yapılamaz, herhangi bir şekilde çoğaltı lamaz, genel ağı ve diğ er elektronik ortamlarda yayı mlanamaz.



1. Eleştirmen, bir oyunu beğenir ya da beğenmez. Bu, eleştirmenin görüşüdür; saygıyla karşılanır. Üç eleştirmen, bir oyunu ayrı ayrı açılardan eleştirir. Birinin beğendiğini öteki beğenmeyebilir. ... Ancak doğal olmayan, eleştirmenin bir sanatçıyı değerlendirirken eleştiri sınırlarının ötesine geçerek ısrarla, o sanatçının kişiliğini yıpratma kavgasına girmesidir.

Bu parçada boş bırakılan yere aşağıdakilerden hangisinin getirilmesi en uygundur?

- A) Bu durum, eleştirmenlerin sanata bakış açısıyla ilgilidir.
B) Çünkü renkler ve zevkler tartışılmaz.
C) Önemli olan, bir eleştirmenin başka eleştirmenlerden etkilenmemesidir.
D) Bu da son derece doğaldır.
E) Her eleştirmen, sanat yapıtını kendi ölçütlerine göre değerlendirir.

2. Yunus Emre, “kendini bilme ilmi”ni öğrenmek isteyenlere çağlar boyunca öncülük etmiştir. 13. yüzyılda yaşamış bu arif kişinin; şiirleriyle verdiği, yüzyılları ve ülkeleri aşan mesajları öyle sevilir ve benimsenir ki... Yunus Emre, yaşadığı bu toprakların harcına yüzlerce yıldır sevgi ve hoşgörü katmaya devam etmektedir. Sözü, Anadolu'nun sözü olmuş bu büyük ozan, bugün de dilimizin ve edebiyatımızın en büyük mimarlarından biri sayılmaktadır.

Bu parçadaki “dilimizin ve edebiyatımızın mimarı” sözüyle Yunus Emre'nin hangi niteliği vurgulanmak istenmektedir?

- A) Türk dilinin ve yazınının biçimlenmesinde büyük katkısının olduğu
B) Türk edebiyatına birçok başyapıt kazandırdığı
C) Dilimizin zenginliğini başarılı bir şekilde yansıtan eserler verdiği
D) Türkçenin gelişmesine kendi payınca katkısının olduğu
E) Türk dili ve edebiyatını, evrensel düzeye yükselttiği

3. Mersin'in Silifke ilçesinde su altı arkeoloji çalışmalarını sürdüren, Konya Selçuk Üniversitesi Su Altı Araştırma Merkezi; 2015'te Kültür ve Turizm Bakanlığı adına yaptığı kazılarda özel bir sonar sistemiyle, aynı anda 100 savaş gemisinin imal ya da tamir edilebileceği bir genişliğe sahip antik bir tersane bularak bu tersanenin MÖ 8 ile MS 13. yüzyıl arasında kesintisiz olarak kullanıldığını tespit etti.

Bu cümleden aşağıdaki yargıların hangisi kesin olarak çıkarılabilir?

- A) Silifke'deki antik tersanenin bulunmasıyla Tunç Çağı'ndan Osmanlı İmparatorluğu'na kadar kullanılan pek çok kültür mirası da gün ışığına çıkarılmıştır.
B) Silifke'de bulunan antik tersane, Türkiye'de bulunan en eski tersanedir.
C) Milattan önceki dönemlerde Mersin yöresinde yaşayan kavimlerin çoğu, savaşçıydı.
D) Silifke'de bulunan antik tersane, en az 2000 yıl kullanılmıştır.
E) Doğu Akdeniz'in pek çok medeniyete ev sahipliği yaptığıının en önemli kanıtı, Silifke'de bulunan antik tersanedir.

4. (I) Panama Kanalı, Orta Amerika'nın en güney ülkesi Panama topraklarında yer alır. (II) Bu kanal, Atlas Okyanusu ile Büyük Okyanusu birbirine bağlayan bir su yoludur. (III) Kanalın inşaatı, ABD tarafından yapılmış ve kanal 1914'te hizmete açılmıştır. (IV) 77 km uzunluğundaki bu kanalın yapımı sırasında yaklaşık 28 bin kişi can vermiştir. (V) Dünyanın en tehlikeli su yollarından biri olan fakat her yıl binlerce geminin geçtiği Panama Kanalı'nın yapımında 200 bin kişi çalışmıştır.

Panama Kanalı'ndan söz edilen bu parçadaki numaralanmış cümlelerle ilgili olarak aşağıda verilenlerden hangisi yanlıştır?

- A) I. cümlede, nerede olduğu söyleniyor.
B) II. cümlede, iki kıtayı birbirine bağladığına değiniliyor.
C) III. cümlede, kullanılmaya başlandığı tarihten söz ediliyor.
D) IV. cümlede, inşaatı sırasında ölümlü pek çok kaza meydana geldiği belirtiliyor.
E) V. cümlede, yapımında çalışanların sayısı ile ilgili bilgi veriliyor.

5. I. Mutsuzluğumuzun nedeni kendimize göre değil, insanlara göre yaşamamızdır.
II. Büyük mutluluklar yerine küçük mutluluklarla yetinmeyi bilmek gerekir.
III. Mutlu olabilmek için bencillik gerekir.
IV. Yaşadığımız doğal çevreyle mutluluğumuz arasında sıkı bir ilişki vardır.

Yukarıda numaralanmış cümlelerin hangileri anlamca birbirine en yakındır?

- A) I. ve II. B) I. ve III. C) I. ve IV.
D) II. ve III. E) III. ve IV.

6. Bir akşamüstü oturup hâpishane kapısında
I II III
Rubailer okuduk Gazali'den
IV V

Yukarıdaki dizelerde numaralanmış yerlerin hangilerinde ulama yapılabilir?

- A) I. ve II. B) I. ve III. C) I. ve IV.
D) II. ve III. E) III. ve V.

7. Hiçbir topluluk, kendini oluşturan üyelerden daha yukarıda olamaz.
I II III IV
V

Bu cümledeki numaralanmış sözcüklerle ilgili olarak aşağıda verilenlerden hangisi yanlıştır?

- A) I'ncisi, anlamca kaynaşmış birleşik sıfattır.
B) II'ncisi, birden çok yapım eki almış bir isimdir.
C) III'üncüsü, sıfat-fiildir.
D) IV'üncüsü, hem yapım hem çekim eki almıştır.
E) V'incisi, kurallı birleşik fiildir.

8. "Sert" sözcüğü, aşağıdaki cümlelerin hangisinde ötekilerden farklı bir görevde kullanılmıştır?

- A) Bel fıtığı olduğumdan beri sert yatakta yatıyorum.
B) Kangal, sert iklimi seven bir çoban köpeği türüdür.
C) Balığa çıktığımız sabah sert bir hava vardı.
D) Törende sert adımlarla yürüyen askerleri alkışladık.
E) Bize kızmış olmalı ki hayli sert konuştu.

9. Aşağıdaki cümlelerin hangisinin yüklemi, geçişli bir fiildir?

- A) Zamanın değerini, yapacak işi olan kimse bilir.
B) Derinliğini bilmediğin suya, iki ayağınla girme.
C) Hedepsiz gemiye hiçbir rüzgâr, yardım edemez.
D) Rüyaları gerçekleştirmenin en kısa yolu, uyanmaktır.
E) Başlayan her şey, biter.

10. Aşağıdaki dizelerin hangisinde zarf-fiil (bağ-fiil) vardır?

- A) Bir anıt yapmak için tırmandığım dağda sen Çekicime ilk değen taşların içindesin
B) Başarısız, kimsesiz gizlice ağladım mı Ağzıma tuzu değen yaşların içindesin
C) Uzaktan her kımlıltı senden bir haber bana Arkası bana dönük başların içindesin
D) Çiçeğimi ansızın meyve yapan yazların Dallarımı koparan kışların içindesin
E) Rüyama başkası girerken zaman zaman Sen uyanık gördüğüm düşlerin içindesin

11. Doğanın en büyük armağanı, hayatın kısalığıdır.

Bu cümle ile ilgili olarak aşağıdakilerden hangisi söylenemez?

- A) Çatı özellikleri aranmaz.
 B) Yüklemi, belirtili isim tamlamasıdır.
 C) Kurallı-isim cümlesidir.
 D) Ek-fiil vardır.
 E) Öznesi, içine belirteç öbeği almış zincirleme isim tamlamasıdır.

13. Anadolu Selçuklu Devleti'nin en önemli şehirlerinden biri de Sivas'tır. Bugünkü Sivas'ın tam ortasında yer alan Çifte Minareli Medrese'nin Selçuklu döneminde Köseadağ Savaşı'ndan 30 yıl sonra İlhanlı Veziri Şemsettin Cüveyni tarafından yaptırıldığı biliniyor.

Bu parçadaki numaralanmış sözlerin hangisinde bir yazım yanlışı vardır?

- A) I. B) II. C) III. D) IV. E) V.

12. (I) Yanılsama ya da illüzyon, hatalı algılama demektir. (II) Sinemada durağan görüntülerin devingen olarak algılanmasını sağlayan da beynin, duyu organlarından gelen verileri algılama sırasındaki bu yanılışıdır. (III) Durağan görüntüler belirli bir hızın üzerinde gösterildiğinde beyin, bu görüntüleri ayrı ayrı algılamadığı gibi, kör noktaya düşen görüntülerin eksik kısımlarını tamamlar. (IV) Böylece aradaki boşluğu dikkate almayarak bütüne ulaşır. (V) Yaptıkları gösteriler halk arasında "el çabukluğu" diye nitelenen illüzyonistler de beynin bu özelliğinden yararlanır.

Bu parçadaki numaralanmış cümlelerle ilgili olarak aşağıdakilerden hangisi yanlıştır?

- A) I'ncisi, yüklemnin türüne göre fiil cümlesidir.
 B) II'ncisi, olumlu isim cümlesidir.
 C) III'üncüsü, bileşik-girişiktir.
 D) IV'üncüsü, kurallı-fiil cümlesidir.
 E) V'incisi, biçimce ve anlamca olumludur.

14. Diyarbakır surlarını gezmeden (I) Balıklı Göl'ü görmeden (II) Cahit Sıtkı ve Ziya Gökalp'in evlerini ziyaret etmeden (III) Bakırcılar Çarşısı'nı dolaşmadan (IV) Diyarbakır hasırını almadan (V) Diyarbakır'dan dönmeyin.

Bu cümledeki numaralanmış yerlerin hangisine herhangi bir noktalama işareti getirilemez?

- A) I. B) II. C) III. D) IV. E) V.

15. Aşağıdaki cümlelerin hangisinde bir anlatım bozukluğu vardır?

- A) Yük kaldırmak, eşya taşımak gibi beni fiziksel olarak yorabilecek işlerden uzak duruyorum.
- B) Sonbaharın serin ama güneşli günlerinde deniz kıyısında en az yarım saat yürüyorum.
- C) Doktorumun verdiği kalp ve tansiyon ilaçlarını düzenli olarak kullanıyorum.
- D) Altı ayda bir şeker ve kolesterolümü mutlaka ölçtüyorum.
- E) Yetmiş beş yaşında olmama rağmen pek çok ihtiyacımı kendim yapıyorum.

- 16. John, ölünce kendini çok güzel bir yerde buldu. Etrafında hayatı boyunca hayalini kurduğu zenginlik ve güzellik vardı. Bembeyaz giysiler içinde bir adam yanına geldi ve "İstedğin her şey emrine amade; neyi, hangi eğlenceyi istersen iste, senindir." dedi. John, sevinçle tüm hayatı boyunca hayalini kurduğu şeylerin hepsini yaptı. Sonra da beyazlar giymiş adamı bularak "İstedğim her şeyi yaptım, hepsini denedim. Şu anda en çok ihtiyacım olan şeyse biraz iş, çalışayım ki kendimi işe yarar hissedebileyim." dedi. "Çok üzgünüm, sana sunamayacağım tek şey, iş; burada yapılacak iş yok!" dedi beyazlar giymiş adam. "Ama bu korkunç!" dedi John öfkeyle. "Sonsuza kadar sıkıntıdan ölere mi geçireceğim zamanımı! Cehennemde olmayı bin kez tercih ederdim." Beyazlar giymiş adam John'un yanına gelip alçak bir sesle şöyle dedi: "Sen nerede olduğunu sanıyorsun ki?"**

Bu parçanın anlatımında aşağıdakilerden hangisi yoktur?

- A) Karşılaştırma
- B) Kişileştirme
- C) Pekleştirilmiş sıfat
- D) Nitel anlamlı sözcük
- E) Alıntı

- 17. I. "Hayat, zaten ip üzerinde" diye cevap vermiş Wallenda. "Gerisi, sadece beklemek..."**
- II. Bir zamanlar Uçan Wallendalar adlı bir trapez topluluğu varmış.**
- III. "Bu kadar trajediden sonra nasıl olur da ısrarla ip üzerinde yürümeyi ve gösteriler yapmayı sürdürüyorsunuz?" diye sorulmuş, grubun şefi Karl Wallenda'ya.**
- IV. Bu topluluk; akıllı almaz gösteriler yapan, birbirinden yetenekli pek çok cambazdan oluşuyormuş.**
- V. Bir yaz, gösterileri sırasında arka arkaya çok feci kazalar geçirerek büyük kayıplar vermiş bu topluluk; yine de hiç aksatmadan gösterilerine devam etmiş.**

Yukarıdaki cümleler anlamlı bir bütün oluşturacak biçimde sıralandığında hangisi baştan üçüncü olur?

- A) I. B) II. C) III. D) IV. E) V.

- 18. I. İstanbul, tarihinin en büyük yağmalarından birini 1909 Nisan'ının son haftasında yaşadı.**
- II. O senenin 13 Nisan'ında patlayan ve "31 Mart Ayaklanması" diye bilinen isyanı bastırmak amacıyla Selanik'ten yola çıkan Hareket Ordusu, İstanbul'daki ayaklanmayı kanlı bir şekilde bastırdı.**
- III. Sonra 27 Nisan'da Sultan II. Abdülhamit tahtından indirilip Selanik'e gönderilerek 30 küsur sene boyunca devletin idare merkezi ve padişahın resmî ikametgâhı olan Yıldız Sarayı yağmalandı.**
- IV. Önce Sultan II. Abdülhamit'e yabancı devlet başkanlarının gönderdiği yahut padişahın bizzat topladığı objelerden meydana gelen koleksiyonlar talana uğradı; eşyalar, kapanın elinde kaldı ve mobilyaların çoğu başka yerlere gönderildi.**
- V. Son padişahın 1922 Kasım'ında Türkiye'yi terk etmesinden birkaç sene sonra da hiç akla gelmeyecek bir şey oldu: Sarayın bazı bölümleri uluslararası bir şirkete kiralanıp kumarhane yapıldı.**
- VI. İçi neredeyse boşaltılmış hâle gelen Yıldız Sarayı'nı, 1918 ile 1922 yılları arasında Sultan Vahdettin kullandı.**

Yukarıdaki numaralanmış cümlelerin anlamlı bir bütün oluşturabilmesi için hangilerinin birbiriyle yer değiştirmesi gerekir?

- A) I. ve II. B) II. ve III. C) II. ve VI.
D) IV. ve V. E) V. ve VI.

19. (I) Dimitri Mendeleev, Sibiryada doğdu ve liseden mezun olduktan sonra Saint Petersburg Üniversitesinde okudu. (II) Bu üniversiteden 1850'de mezun olan Mendeleev, tüberküloza yakalanınca tedavi olmak için Kırım'a gitti. (III) Kırım'da aylarca süren tedavisi tamamlandıktan sonra kimya bilgisini geliştirmek için Almanya'ya giden Mendeleev, orada yıllarca Prof. Bunsen ile çalışıp elementleri gruplayan ilk periyodik cetveli yaptı. (IV) Kimya bilimine periyodik cetveli kazandırdığı için, ölümünden sonra; bir elemente, Ay'daki bir kratere ve Rusya'daki bir üniversiteye Mendeleev adı verildi. (V) Almanya'daki çalışmalarını tamamladıktan sonra Rusya'ya dönen Mendeleev, mezun olduğu Saint Petersburg Üniversitesinde profesör oldu ve kimya bilimine katkıları nedeniyle tüm dünyada saygınlık kazandı.

Bu parçadaki numaralanmış cümlelerin hangisi düşüncenin akışını bozmaktadır?

- A) I. B) II. C) III. D) IV. E) V.

20. Basra'da mücevhercileri etrafına toplayıp onlarla sohbet eden bir bedevi takılmıştı gözüme. Şu öyküyü anlatıyordu: "Bir seferinde çölde yolumu yitirmiştim, aksi gibi yiyeceğim de tükenmişti. Ölümüne tam boyun eğmek üzereydim ki birden, içi inciyle dolu bir torba buldum. O andaki sevincimi hiç unutamam. Çünkü torbanın içinde kavrulmuş buğday bulunduğunu sanmışım. Torbadan buğday çıkmasını beklerken inciyle yüz yüze gelince duymuş olduğum acı ve umutsuzluğu ölünceye kadar unutamam."

Bu parçada aşağıdakilerden hangisi vurgulanmaktadır?

- A) Yaşam, birbirinden ilginç sürprizlerle doludur.
B) İnsan, yaşadığı kimi olayları ölene kadar belleğinden atamaz.
C) Bir nesneyi değerli kılan, gereksinim duyulduğu andaki yararlılığıdır.
D) Kimi düşün kırıklıklarının izleri kolay kolay silinmez.
E) İnsan, yaşamı boyunca hiç beklemediği olaylarla karşılaşabilir.

21. Vurgun, suyun altında belli bir derinlikte kalma süresi aşıldığı için dolaşım sistemi ve kan aracılığıyla dokularda biriken nitrojenin vücuttan atılmaması sonucu oluşan hastalıktır. Erken müdahale edilmezse ölümle sonuçlanabilir. Suda olabileceği gibi, sudan çıktıktan on iki saat sonra da başınıza gelebilir. Tek tedavi yöntemi, basınç odasında bir süre dinlenmektir. Bu nedenle, dalmayı sevenlerin su altında kalma süresine çok dikkat etmesi gerekir.

Bu parçada vurgun ile ilgili olarak aşağıdakilerden hangisine değinilmiştir?

- A) Sadece denizde karşılaşılacağına
B) Etkisini sudan çıkıldıktan sonra da gösterebileceğine
C) Kan damarlarının yırtılmasına yol açtığına
D) Mutlaka ölümle sonuçlandığına
E) Farklı yöntemlerle tedavi edilebileceğine

22. Edebiyatımızın en güçlü kalemlerinden biri olan Yaşar Kemal, Anadolu'yu ve Anadolu insanının yaşamını folklor yüklü bir hava ile yapıtlarına yansıtır. Romanlarının konusunu çoğunlukla Toros köylülerinin, ekmeğini Çukurova toprağından çıkaran insanların mücadeleleri oluşturur. Halk edebiyatımızın; ağıt, türkü, tekerleme ve atasözleriyle Toros efsaneleri ve deyişlerine dayanan zengin sözcüklü, kısa cümleli, canlı, diri ve şiirsel bir dile sahiptir. Çinceye kadar onlarca dile çevrilen *İnce Memed* destansı bir roman olarak büyük bir ün kazanmıştır.

Bu parçadan Yaşar Kemal'le ilgili olarak aşağıdakilerin hangisine değinilmemiştir?

- A) Yapıtlarıyla halk edebiyatının gelişmesine katkıda bulunduğu
B) Türk edebiyatının en yetkin kalemlerinden biri olduğuna
C) Yapıtlarında şiirsel bir dil kullandığına
D) Yapıtlarının içeriğini, genellikle kırsal kesimde yaşayan insanların yaşantısının oluşturduğuna
E) Halk edebiyatı ürünlerinden yararlandığına

23. Tuz Gölü, Van Gölü'nden sonra, ülkemizdeki ikinci büyük göldür. Uzunluğu 80 km olan Tuz Gölü'nün genişliği 48 km'yi bulur. Bu denli geniş bir alanı kapsamasına karşılık sığ bir göldür. Dünya'nın en tuzlu göllerinden biridir. 1 litresinde 329 gr gibi inanılmaz bir oranda tuz ihtiva eder. Coğrafya kitapları, bu göle dökülen en önemli akarsuların Peçeneközü Deresi ve Melendiz Çayı olduğunu belirtir. Ancak coğrafya kitaplarına girmemiş bir bilgi daha vardır: Tuz Gölü'ne dökülen en büyük akarsu, Konya'nın şehir kanalizasyonudur. Çumra yönünden verilen bu kanalizasyon, hiçbir arıtmaya tabi tutulmadan doğrudan Tuz Gölü'ne akıtılmaktadır. Bir milyonu geçen şehir nüfusunun sanayi atıklarını da taşıyan şehir kanalizasyonu, iyotlu ya da iyotsuz tuz olarak sofralarımıza dönmektedir.

Bu parçadan, Tuz Gölü ile ilgili,

- I. Türkiye'nin tuz ihtiyacının çok önemli bir kısmını karşılamaktadır.
- II. Oldukça yüksek oranda tuz içermektedir.
- III. Türkiye'nin en kurak bölgelerinden birinde yer almaktadır.
- IV. Fazla derin değildir.
- V. Ülkemizdeki pek çok gölden büyüktür.

yargılarından hangilerine ulaşılabilir?

- A) I, II ve IV B) I, III ve V C) II, III ve IV
D) II, IV ve V E) III, IV ve V

24. Oktay Rifat'ın yazılarındaki dil, çağdaşlarınkine hiç benzemez. Bu dil, geleceği müjdeleyen, pürüzsüz, sade ve kıvrak bir Türkçedir. Asıl önemli olan, yazarın hiçbir iddiada bulunmadan bu yolu seçmiş olmasıdır. Onun ikinci önemli yönü de mizah yazıları yazmasıdır. Bu tür yazıları, iğneleyen ama iğnelediklerinden başkasını rahatsız etmeyen kaba bir kinaye değil, ustalıklı bir espi içinde düşündüren özlü ve temiz yazılardır.

Bu parçada Oktay Rifat'la ilgili olarak aşağıdakilerden hangisine değinilmemiştir?

- A) Kimseninkine benzemeyen bir söyleyişinin olduğuna
- B) Güldürürken düşündüren bir anlatımının olduğuna
- C) Söz sanatlarından çokça yararlandığına
- D) Dilinin kılıksız olduğuna
- E) Anlaşılabilir bir dille yazdığına

25. - 26. soruları aşağıdaki parçaya göre cevaplayınız.

(I) B12, suda eriyen bir vitamindir; bu vitaminin suda eriyen diğer vitaminlerden farkı depo edilebilmesidir. (II) B12'nin eksikliğine ait belirtilerin yavaş yavaş ortaya çıkması, bu vitaminin depolanma işlevinin karaciğerde gerçekleştirilmesinden kaynaklanır. (III) Bu vitamin ısıya en dayanıklı vitamindir, besinleri ısıtmak ya da pişirmekle etkisi kesinlikle kaybolmaz. (IV) Ağırıklı olarak sebze ve meyve tüketenler, özellikle vejetaryenler, ek olarak B12 vitamini kullanmalıdır; mide ilacı kullananlar da düzenli olarak B12 vitamini ölçümü yaptırmalıdır. (V) Bu vitaminin yeteri kadar alınmaması, genellikle anemiye ve buna bağlı olarak hâlsizlik ya da yorgunluğa yol açar.

25. Bu parçada B12 vitamini ile ilgili,

- I. Eksikliği nelere yol açar?
- II. En çok hangi besinlerde bulunur?
- III. Nedir?
- IV. Emilimi nasıl gerçekleşir?
- V. Sağlık için yararları nelerdir?

sorularından hangilerinin cevabı vardır?

- A) I. ve II. B) I. ve III. C) II. ve III.
D) II. ve IV. E) III. ve V.

26. Bu parçadaki numaralanmış cümlelerin hangisinde gerekçe belirtilmemiştir?

- A) I. B) II. C) III. D) IV. E) V.

27. Sedir, çamgiller familyasının Cedrus cinsini oluşturan dört iğne yapraklı ağaç türünün genel adıdır. Değerli bir kereste kaynağı olan sedir, dünyanın pek çok yerinde park ve bahçelerde süs bitkisi olarak da yetiştirilir. Uzun ömürlü ve oldukça iri gövdeli ağaçlar olan sedirler, gençken piramitsi bir yapıda olmalarına karşılık yaşlandıkça yayvanlaşarak daha düzensiz bir görünüm alır. Genç ağaçların koyu gri renkli, ince ve pürüzsüz kabuğu, yaşlandıkça kalınlaşarak çatlaklı ve pulsu bir hâle gelir, rengi koyulaşır. Uzun ve kısa sürgünleri son derece belirgindir. Çünkü yaprakları, uzun sürgünlere tek tek, seyrek ve dağınık; kısa sürgünlere ise demetler hâlinde dizilmiştir.

Bu parçada sedir ile ilgili olarak aşağıdakilerin hangisine değinilmemiştir?

- A) Yaprak uçlarının sivri olduğuna
- B) Ekonomik değerinin olduğuna
- C) Kabuk renginin zamanla değiştiğine
- D) Kozalaklarının kısa saplı olduğuna
- E) Biçiminin, büyüdükçe farklılaştığına

28. - 30. soruları aşağıdaki bilgilere göre birbirinden bağımsız olarak cevaplayınız.

Yağmur, Deniz, Toprak, Ateş, Çınar ve Rüzgâr adlı öğrencilerin sınıfları aynı katta ve yan yanadır. Sınıflar soldan sağa doğru 6A, 6B, 6C, 6D, 6E ve 6F şeklinde sıralanmıştır. Bu öğrencilerin sınıfları ile ilgili olarak aşağıdaki bilgiler verilmiştir:

- Toprak'ın sınıfı 6D'dir.
- Ateş ve Çınar'ın sınıfları yan yanadır.
- Yağmur ve Rüzgâr'ın sınıfları yan yanadır.
- Deniz ve Rüzgâr'ın sınıfları yan yana değildir.

28. Aşağıdakilerden hangisi kesinlikle yanlıştır?

- A) Deniz'in sınıfı 6A'dır.
- B) Ateş'in sınıfı 6F'dir.
- C) Çınar'ın sınıfı 6A'dır.
- D) Deniz ve Yağmur'un sınıfları yan yanadır.
- E) Rüzgâr ve Ateş'in sınıfları yan yanadır.

- 29. I. Deniz
- II. Ateş
- III. Rüzgâr

Çınar'ın sınıfının 6C olması durumunda yukarıdaki öğrencilerden hangilerinin hangi sınıfta ders gördüğü kesinlikle bilinmemektedir?

- A) Yalnız I
- B) Yalnız II
- C) I ve II
- D) II ve III
- E) I, II ve III

30. Deniz'in sınıfının 6C olması durumunda aşağıdakilerden hangisi kesinlikle yanlıştır?

- A) Ateş'in sınıfı 6A'dır.
- B) Rüzgâr'ın sınıfı 6E'dir.
- C) Rüzgâr'ın sınıfı 6F'dir.
- D) Yağmur'un sınıfı 6A'dır.
- E) Çınar'ın sınıfı 6A'dır.

31.
$$\frac{(n-1)!}{(n+1)!} = \frac{1}{110}$$

olduğuna göre, n kaçtır?

- A) 7
- B) 8
- C) 9
- D) 10
- E) 11

32. k ve p pozitif tam sayılar olmak üzere,
 $16^k \cdot 25^p$ ifadesi 13 basamaklı en küçük doğal sayı olduğuna göre, $k + p$ toplamı kaçtır?

A) 7 B) 8 C) 9 D) 10 E) 11

33. Bir uç kutusunun içindeki uç sayısı üç basamaklı bir sayıdır. Bu uç kutusundan uç sayısının rakamları toplamı kadar uç çıkarıldığında kalan uç sayısının 140 ile 150 arasında olduğu görülüyor.

Buna göre, bu uç kutusunda son durumdaki uç sayısı kaçtır?

A) 141 B) 142 C) 144
D) 148 E) 149

34. $\frac{1,9}{0,95} + \frac{1,7}{0,85}$
işleminin sonucu kaçtır?

A) 0,4 B) 0,2 C) 1 D) 2 E) 4

35. $\left[\frac{2}{7} \cdot \left(\frac{1}{4} - \frac{1}{5} \right) \right] : \frac{1}{70}$
işleminin sonucu kaçtır?

A) 1 B) 2 C) 5 D) 7 E) 20

36. $\frac{5}{12} < x < \frac{7}{6} < y$

sıralamasında birbirini izleyen sayılar arasındaki farklar eşittir.

Buna göre, y sayısı kaçtır?

A) $\frac{37}{24}$ B) $\frac{13}{8}$ C) $\frac{5}{3}$
D) $\frac{41}{24}$ E) $\frac{23}{12}$

37. x ve y birer tam sayı olmak üzere,
 $10^x \cdot 5^{-y} = 250$
olduğuna göre, $x \cdot y$ çarpımı kaçtır?

A) -2 B) -3 C) 4 D) 6 E) 12

38. $5^{\sqrt{a}} \cdot (25)^{\sqrt{a}} = 125$

olduğuna göre, a kaçtır?

- A) $\frac{\sqrt{2}}{2}$ B) $\frac{1}{2}$ C) $\sqrt{2}$
D) 1 E) $\sqrt{3}$

39. $\frac{\sqrt{32}\sqrt{32}}{4\sqrt{2}}$

işleminin sonucu kaçtır?

- A) $2\sqrt{2}$ B) $4\sqrt{2}$ C) $8\sqrt{2}$
D) 8 E) 4

40. $\boxed{1} \boxed{2} \boxed{3} \boxed{4} \dots \boxed{100}$

Yukarıda verilen ve 1 den 100 e kadar numaralandırılmış olan 100 tane kart, kırmızı ve mavi torbalara dağıtılıyor. Bu durumda kırmızı ve mavi torbalardaki kartların üzerindeki numaraların aritmetik ortalaması sırasıyla 52,5 ve 50 oluyor.

Buna göre, kırmızı torbadaki kart sayısı kaçtır?

- A) 25 B) 22 C) 20 D) 18 E) 15

41 ve 42. soruları aşağıdaki bilgilere göre cevaplayınız.

Hüseyin, Ruhi ve Kemal'in bir marketten yaptıkları alışverişlerle ilgili olarak aşağıdakiler bilinmektedir.

- 1 kavanoz salça, 1 şişe yağ ve 1 paket makarnanın toplam fiyatı 25 TL dir.
- Hüseyin, 3 kavanoz salça, 4 şişe yağ ve 2 paket makarna almıştır.
- Ruhi, Kemal'den 33 TL daha fazla ödeyerek 5 kavanoz salça ve 1 şişe yağ almıştır.
- Kemal, Hüseyin'den 40 TL daha az ödeyerek 2 kavanoz salça ve 5 paket makarna almıştır.

41. Bir kavanoz salçanın fiyatı kaç TL dir?

- A) 10 B) 11 C) 12 D) 13 E) 14

42. Hüseyin toplam kaç TL harcamıştır?

- A) 81 B) 82 C) 83 D) 84 E) 85

43. Kasım bir işi tek başına 18 günde, Faruk ise aynı işi tek başına 24 günde yapmaktadır.

Bu işin $\frac{1}{3}$ ünü Kasım tek başına, geriye kalan kısmını da Faruk tek başına yaptığına göre, işin tamamı kaç günde bitmiş olur?

- A) 18 B) 19 C) 20 D) 21 E) 22

44 ve 45. soruları aşağıdaki bilgilere göre birbirinden bağımsız olarak cevaplayınız.

Bir acentada satılan otobüs biletleri ile ilgili aşağıdaki bilgiler veriliyor.

- 8 yaş altı biletlerin fiyatı normal biletlerden %25 daha ucuzdur.
- 5 bilettten fazla olan toplu alımlarda toplam bedel üzerinden %20 indirim yapılmaktadır.

44. Normal bilet fiyatı 80 TL olan bir gezi için 5 tane 8 yaş altı ve 1 tane normal bilet alan biri toplam kaç TL ödeme yapar?

- A) 336 B) 322 C) 316
D) 310 E) 304

45. 10 tane 8 yaş altı ve 20 tane normal bilet alan biri 6600 TL ödeme yaptığına göre, bir tane normal biletin fiyatı kaç TL dir?

- A) 300 B) 280 C) 275
D) 250 E) 225

46 ve 47. soruları aşağıdaki bilgilere göre cevaplayınız.

Hasan A kentinden B kentine aşağıdaki şekilde gidebiliyor:

- Taksiyle saatte 90 km hızla giderse 1 saat erken varıyor.
- Otobüsle saatte 70 km hızla giderse 1 saat geç kalıyor.

46. Buna göre, Hasan'ın A kentinden B kentine zamanında gitmesi için gereken süre kaç saattir?

- A) $\frac{11}{2}$ B) $\frac{13}{2}$ C) 7
D) 8 E) 9

47. A ile B kentleri arasındaki mesafe kaç km dir?

- A) 630 B) 700 C) 720
D) 810 E) 910

48. Pozitif tam sayılar kümesinde ∇ işlemi $a \nabla b = \{a^b \text{ nin } 5 \text{ ile bölümünden elde edilen kalan}\}$ biçiminde tanımlanıyor.

Buna göre, $2013 \nabla 2015$ işleminin sonucu kaçtır?

- A) 0 B) 1 C) 2 D) 3 E) 4

49. $f(x) = \frac{2x-a}{3}$

$f(4) = -10$

olduğuna göre, $f(20)$ kaçtır?

- A) $-\frac{1}{3}$ B) $\frac{1}{6}$ C) $\frac{2}{5}$ D) $\frac{2}{3}$ E) 1

50. İki çekmecesini bulunan bir masanın her bir çekmecesinde 6 tükenmez kalem ve 3 kurşun kalem vardır.

Bu iki çekmecedan rastgele alınan birer kalemin aynı türden alma olasılığı kaçtır?

- A) $\frac{1}{9}$ B) $\frac{1}{3}$ C) $\frac{4}{9}$ D) $\frac{5}{9}$ E) $\frac{2}{3}$

51-53. soruları aşağıdaki bilgilere göre cevaplayınız.

Bir asal sayının rakamları toplamı yine bir asal sayı ise bu sayıya "double asal sayı" denir.

51. Aşağıdakilerden hangisi double asal sayıdır?
A) 13 B) 29 C) 31 D) 59 E) 65

52. A7 iki basamaklı sayısı bir double asal sayı olduğuna göre, A sayısının alabileceği değerler toplamı kaçtır?
A) 6 B) 7 C) 10 D) 11 E) 15

53. İki basamaklı en büyük double asal sayının rakamları çarpımı kaçtır?
A) 33 B) 45 C) 54 D) 64 E) 72

54. Aşağıda verilen her şeklin içindeki sayı ile o şeklin kenar sayısının karesi çarpılıyor ve işlem sonucu olarak bir sayı elde ediliyor.

Örneğin;

$$\triangle 4 : 3 \text{ kenarlı olduğundan: } 3^2 \cdot 4 = 36$$

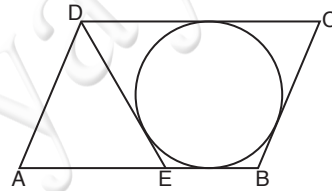
$$\square 5 : 4 \text{ kenarlı olduğundan: } 4^2 \cdot 5 = 80$$

$$\text{pentagon } 7 : 5 \text{ kenarlı olduğundan: } 5^2 \cdot 7 = 175 \text{ olur.}$$

Buna göre, $\triangle 6 + \square 8 - \text{pentagon } 5$ işleminin sonucu kaçtır?

- A) 54 B) 55 C) 56 D) 57 E) 58

- 55.

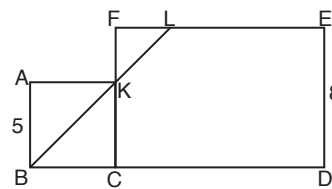


EBCD teğetler dörtgeni
ABCD paralel-kenardır.
IDCI = 13 birim
IEBI = 5 birim

Yukarıdaki verilere göre, AED üçgeninin çevresi kaç birimdir?

- A) 17 B) 18 C) 23 D) 26 E) 31

- 56.



ABCK bir kare
CDEF bir dik-dörtgen
B, K, L noktaları doğrusaldır.
IABI = 5 birim
IDEI = 8 birim

Yukarıdaki verilere göre, IBLI kaç birimdir?

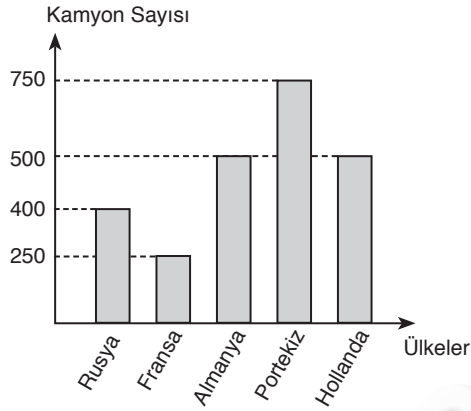
- A) 9 B) 10 C) $6\sqrt{2}$ D) $6\sqrt{3}$ E) $8\sqrt{2}$

57. Dik koordinat düzleminde; A(1, -3) ve B(3, 9) noktalarının orta noktası K dir.

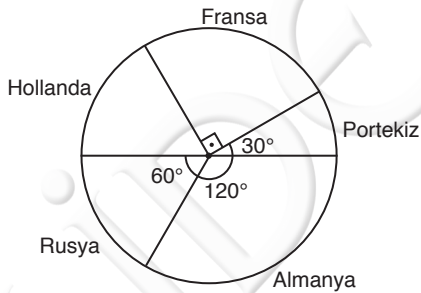
Bu K noktası $y = mx - 4$ doğrusu üzerinde olduğuna göre, m kaçtır?

- A) 3 B) $\frac{7}{2}$ C) $\frac{5}{2}$ D) $-\frac{1}{2}$ E) -2

58-60. soruları aşağıdaki bilgilere göre cevaplayınız.



Yukarıdaki sütun grafiğinde yurt dışına sebze ihraç eden bir şirketin verilen beş ülkeye gönderdiği kamyon sayıları verilmiştir.



Yukarıdaki daire grafiğinde aynı şirketin bu beş ülkeye gönderdiği sebze miktarlarının dağılımı verilmiştir. Bütün ülkelere gönderilen sebze miktarları toplamı 7200 tondur.

58. Almanya'ya gönderilen kamyon sayısı, Rusya'ya gönderilen kamyon sayısından yüzde kaç daha fazladır?

- A) 10 B) 20 C) 25 D) 40 E) 50

59. Hangi iki ülkeye gönderilen sebze miktarı birbirine eşittir?

- A) Almanya-Rusya
B) Portekiz-Hollanda
C) Fransa-Almanya
D) Portekiz-Fransa
E) Rusya-Hollanda

60. Hangi ülke için kamyon başına düşen sebze miktarı diğerlerinden daha fazladır?

- A) Rusya B) Fransa C) Almanya
D) Portekiz E) Hollanda

L
İ
D
E
R

Y
A
Y
I
N
L
A
R
I

1. İlk Türk devletlerinin aşağıdaki özelliklerden hangisine sahip oldukları savunulamaz?
- A) Aynı egemenlik anlayışına sahip olmaları
B) Töre denilen kuralların geçerli olması
C) Boy birliği üzerine kurulmaları
D) Askeri karaktere sahip olmaları
E) Yöneticilerin kendi aralarında çeşitli sınıflara ayrılmış olması
2. Aşağıdakilerden hangisi Büyük Selçukluda bulunan Divan-ı Saltanatın üyelerinden biri değildir?
- A) Camedar
B) Müstevfi
C) Tuğrai
D) Müşrif
E) Ariz
3. Erzurum da kurulan ilk Türk-İslam eserleri aşağıdakilerden hangisine aittir?
- A) Mengücek Beyliği
B) Saltuklu Beyliği
C) Büyük Selçuklu Devleti
D) Artuklu Beyliği
E) Osmanlı Devleti
4. Osmanlı Beyliğinin Rumeli'ye geçmesi ve orada kalıcı olmasında aşağıdakilerden hangisinin etkili olduğu savunulamaz?
- A) Karesi donanmasının Osmanlıya katılması
B) Bizans'ın taht kavgaları içinde olması
C) Rumeli'de güçlü bir devletin olmaması
D) Rumeli'de alınan yerlere Türklerin yerleştirilmesi
E) Karaman Beyliğinin Osmanlıya destek olması
5. Osmanlı Devleti'nde aşağıdakilerden hangisinin elden çıkmasıyla Anadolu'ya ilk büyük göçün başladığı savunulabilir?
- A) Kıbrıs B) Balkanlar C) Belgrad
D) Kıbrıs E) Girit
6. Aşağıdaki Divanhümayun üyelerinden hangisi seyfiye sınıfından değildir?
- A) Vezirazam
B) Vezirler
C) Kaptanıderya
D) Yeniçeri Askeri
E) Nişancı
7. Osmanlı Devletinde kişiler aşağıdakilerden hangisinin onayı ile sınıf değiştirebilirlerdi?
- A) Vezirazam
B) Şeyhülislam
C) Sultan
D) Müftü
E) Lonca
8. Aşağıdakilerden hangisi Osmanlı Devletinde uygulanan Dirlık Sisteminin bir özelliği değildir?
- A) Dirlık sahibi kanunla belirtilen vergileri toplama hakkına sahipti
B) Dirlık sahibi köylüyü yargılayamazdı
C) Dirlık sahibi devlete asker yetiştirmek zorundaydı
D) Köylü işlediği araziye satabilirdi
E) Köylü arazinin işletme hakkını miras bırakabilirdi

9. Osmanlı Devletinde Gazi Osman Paşa, Ahmet Muhtar Paşa ve Nene Hatunun destansı savunmaları aşağıdaki savaşlardan hangisinde yaşanmıştır?

- A) 1828-1829 Osmanlı Rus Savaşı
- B) Kırım Savaşı
- C) Doksan Üç Harbi
- D) 1806-1812 Osmanlı Rus Savaşı
- E) I. Dünya Savaşı

10. Osmanlıda Batı mimari tarzıyla inşa edilen ilk büyük eser aşağıdakilerden hangisidir?

- A) Nuru Osmaniye Camii
- B) Sultan Ahmet Çeşmesi
- C) Ortaköy Camii
- D) Selimiye Kışlası
- E) Beylerbeyi Sarayı

11. Osmanlı Devletinde batıdan gelen yabancı uzmanlar öncelikle aşağıdaki alanlardan hangisinde görevlendirilmişlerdir?

- A) Mimari
- B) Askeri
- C) Yönetim
- D) Hukuk
- E) Yargı

12. Aşağıdakilerden hangisi Tanzimat Fermanının dayandığı esaslardan biri değildir?

- A) Mülkiyet
- B) Sanat
- C) Yargı
- D) Vergi
- E) Askerlik

13. Osmanlı Devletinde II. Meşrutiyetin ilan edilmesinde aşağıdakilerden hangisinin doğrudan katkısı olmuştur?

- A) İttihat ve Terakki Cemiyeti
- B) Osmanlı ile Almanya'nın yakınlaşması
- C) Hürriyet ve İtilaf Fırkası
- D) Osmanlı Demokrat Fırkası
- E) Vatan ve Hürriyet Cemiyeti

14. Mondros Mütarekesinden sonra İstanbul'da Esat Paşa öncülüğünde kurulan cemiyet aşağıdakilerden hangisidir?

- A) Kars İslam Şurası
- B) Karakol
- C) İslam Teali
- D) Milli Kongre
- E) Trakya Paşaeli

15. Aşağıdakilerden hangisi diğerlerinden sonra ortaya çıkmıştır?

- A) Amasya Genelgesi
- B) Erzurum Kongresi
- C) Misakımilli
- D) Sivas Kongresi
- E) Amasya Görüşmesi

16. Sivas Kongresi aşağıdakilerden hangisinin aldığı kararları bazı değişiklik ve ilavelerle kabul etmiştir?

- A) Amasya Genelgesi
- B) Erzurum Kongresi
- C) Balıkesir Kongresi
- D) Alaşehir Kongresi
- E) Meclisi Mebusan

17. I. Güçler birliği ilkesine göre çalışması
II. Hıyaneti Vataniye yasasını çıkarması
III. İstiklal Mahkemelerini kurması
yukarıdakilerden hangilerinin TBMM'nin etkinliğini arttırdığı savunulabilir?

- A) Yalnız I
- B) Yalnız II
- C) Yalnız III
- D) I ve I
- E) I , II ve III

18. Aşağıdakilerden hangisi I. İnönü zaferinin sonuçları arasında yer almamıştır?

- A) Anayasal düzene geçilmesi
- B) Londra Konferansının toplanması
- C) İstiklal Marşının kabul edilmesi
- D) Fransa ile antlaşma yapılması
- E) Moskova Antlaşmasının yapılması

19. İstanbul Hükümeti sadrazamı Tevfik Paşa "Ben sözü Türk milletinin esas temsilcisi olan TBMM baş delegesine bırakıyorum" sözünü aşağıdakilerden hangisinin toplanması sırasında söylemiştir?

- A) TBMM
- B) Londra Konferansı
- C) Mudanya Konferansı
- D) Sen-Remo Konferansı
- E) Paris Barış Konferansı

20. I. İstanbul'un TBMM yönetimine bırakılacağı
II. Kesin barış sağlanıncaya kadar işgal güçlerinin İstanbul'da kalmaya devam edecekleri
III. Trakya'da 8 bin Türk jandarmasının bulunulacağı

Yukarıdaki kararlardan hangileri Mudanya Ateşkes Antlaşmasının kapsamında yer almıştır?

- A) Yalnız I
- B) Yalnız II
- C) Yalnız III
- D) I ve II
- E) I , II ve III

21. Kurtuluş Savaşı yıllarında sırasıyla onbaşı, çavuş, başçavuş rütbeleriyle orduda hizmet etmiş yaşadıklarını bir eserde toplamış olan edebiyatçı aşağıdakilerden hangisidir?

- A) Yakup Kadri
- B) M. Emin Yurdakul
- C) Ömer Seyfettin
- D) Halide Edip
- E) Fatma Aliye

22. Ekim 1923'te Türkiye'de yaşanan hükümet bunalımı aşağıdakilerden hangisiyle sona erdirilmiştir?

- A) Saltanatın kaldırılması
- B) Cumhuriyetin ilanı
- C) Yeni Anayasanın kabul edilmesi
- D) Halifeliğin kaldırılması
- E) Ankara'nın başkent yapılması

23. Aşağıdakilerden hangisi siyasi inkılaplar arasında gösterilemez?

- A) Saltanatın kaldırılması
- B) Cumhuriyetin ilanı
- C) TBMM'nin çıkarılması
- D) Soyadı yasasının çıkarılması
- E) Halifeliğin kaldırılması

24. I. Boğazlar

- II. Hatay
- III. Musul

Lozan da aleyhimize çözülen konulardan hangileri daha sonra lehimize çözülmüştür?

- A) Yalnız I
- B) Yalnız II
- C) Yalnız III
- D) I ve II
- E) I , II ve III

25. Türkiye'nin II. Dünya Savaşının muhtemel zararlarına karşı aşağıdaki tedbirlerden hangisini aldığı savunulamaz?

- A) Ekmeği karneye bağlama
- B) Karartma uygulama
- C) Yeni vergiler koyma
- D) Boğazları savaş gemilerine kapatma
- E) Almanya ile ihracatı artırma

26. Türklerin Sovyet Rusya'ya karşı Türkistan da başlattıkları ayaklanma aşağıdakilerden hangisidir?

- A) Çeçenya
- B) Dağıstan
- C) Basmacı
- D) Cedid
- E) Osetya

27. Türkiye'nin Kore'ye asker göndermesi karşılığında üye olduğu uluslararası örgüt aşağıdakilerden hangisidir?

- A) Avrupa Konseyi
- B) NATO
- C) Birleşmiş Milletler
- D) Avrupa Ekonomik Topluluğu
- E) Bağdat Paketi

28. Ankara'da yaşayan bir aile 20 günlük tatilini geçirmek için Ağustos ayında il dışına çıkıyor. Tatilini geçirdikleri ilde gündüz süresi Ankara'ya göre daha kısa, yerel saat daha geridir.

Buna göre, ailenin tatilini geçirdiği il aşağıdakilerden hangisidir?

- A) Muğla
- B) Hatay
- C) İstanbul
- D) Giresun
- E) Zonguldak

29. Karadeniz, Akdeniz ve Ege Bölgesi'nin kıyı kesimlerinde yer alan dağların ortak özellikleri dik-kate alındığında;

- I. Genç dağlardan oluşmaları
 - II. Doğu-batı yönünde uzanmaları
 - III. Kıyı ile iç kesimler arasında ulaşımı zorlaştırmaları
 - IV. Zirvelerinde buzul şekillerinin bulunması
- özelliklerinden hangilerinin ortak olduğu söylenebilir?**

- A) I ve II
- B) I ve III
- C) II ve III
- D) II ve IV
- E) III ve IV

30. Aşağıdaki göl ve oluşum eşleştirmelerinden hangisi yanlıştır?

- A) Tuz Gölü – tektonik
- B) Hazar – alüvyal set
- C) Nemrut – volkanik
- D) Büyük Çekmece – kıyı setti
- E) Tortum – heyelan setti

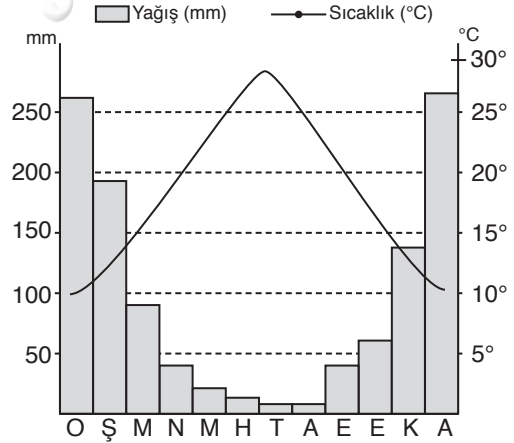
31. **Engin:** Hafta sonu Muğla'nın Gökova kıyılarını görmeye gittik. Burada görevli rehberimiz bize dağların denize dik uzanmasından dolayı enine kıyı tipine örnek olduğunu söyledi.

Murat: Rehber bir hata yapmış olmalı. Çünkü ..

Murat aşağıdakilerden hangisini söylerse Engin'e doğru bilgi vermiş olur?

- A) Burada dağlar denize dik uzanmadığı için "Boyuna" kıyıları görülür.
- B) Eski akarsu vadilerinin ağız kısımlarının çökmesi sonucu oluşmuş "Ria Tipi" kıyılarıdır.
- C) Sıradağların alçak kısımlarının çökmesi sonucu oluşmuş "Dalmaçya Tipi" kıyılarıdır.
- D) Akarsu ağızları "gel-git" olayları sonucu oluşmuş "Haliç Tipi" kıyılarıdır.
- E) Buzul aşındırması sonucu oluşmuş "Fiyort Tipi" kıyılarıdır.

32.



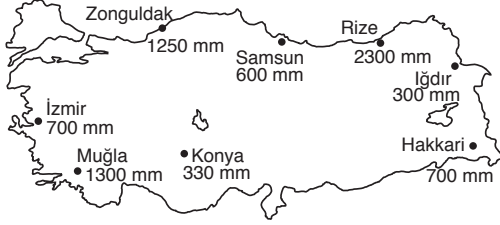
Yukarıda aylık ortalama sıcaklık ve yağış grafiği verilen bir bölgemiz ile ilgili olarak,

- I. Bitki türleri yaz kuraklığına dayanıklıdır.
- II. Yaz aylarının sıcak ve kurak geçmesi pamuk tarımının yapılmasını kolaylaştırmıştır.
- III. Kışın yağışlar kar şeklindedir.
- IV. Kırsal kesim mesken tiplerinde kerpiç malzeme kullanılmaktadır.

özelliklerinden hangileri söylenebilir?

- A) I ve II
- B) I ve III
- C) II ve IV
- D) I, III ve IV
- E) III ve IV

33. Aşağıda Türkiye'nin bazı kentlerinin yıllık ortalama yağış miktarları verilmiştir.



Buna göre yağışların bölgelere farklı dağılımında,

- I. yükselti
II. enlem
III. dağların uzanışı
IV. denize uzaklık

etmenlerinden hangilerinin etkisi olduğu söylenemez?

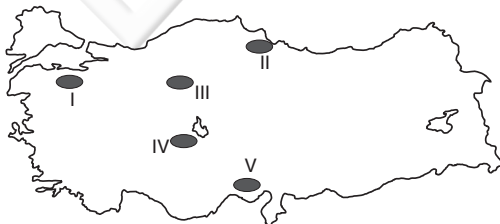
- A) I ve II B) Yalnız II C) II ve III
D) II ve IV E) Yalnız IV

34. Türkiye doğal afetlerin sık görüldüğü ülkelerden biridir.

Doğal afetlerin nedenleri düşünüldüğünde aşağıdakilerden hangisinde insanın doğal çevreye olumsuz etkisinin tetiklediği söylenemez?

- A) Heyelan
B) Sel ve Taşkın
C) Çığ
D) Erozyon
E) Deprem

35. Aşağıdaki haritada bazı alanlar numaralandırılarak taralı olarak gösterilmiştir.



Yeryüzü şekilleri sade olmasına rağmen bu alanların hangisinde nüfuslanma azdır?

- A) I B) II C) III D) IV E) V

36. Türkiye'de 1927-2014 yılları arasında gözlenen nüfus özelliklerinden hangisinde sürekli artış olduğu söylenemez?

- A) Nüfus miktarında
B) Kentsel nüfus miktarında
C) Nüfus artış hızında
D) Aritmetik nüfus yoğunluğunda
E) Yaşlı nüfus miktarında

37. Türkiye'de dağınık yerleşmelerin yaygın olarak bulunduğu bir yerle ilgili aşağıdakilerden hangisi söylenemez?

- A) Yeryüzü şekilleri engebeldir.
B) Kırsal kesimlerde yapı malzemesi ahşaptır.
C) Çay tarımı yapılmaktadır.
D) Nadas tarımı yaygındır.
E) Konutlar arası mesafe uzundur.

38. Tarımda makineleşme, insan gücü yerini makine gücünün almasıdır.

Türkiye'de 1950 yılında başlayan makineleşmeye bağlı olarak aşağıdakilerden hangisinde artış olduğu söylenemez?

- A) Tarım üretiminde
B) Tarım alanlarında
C) Köyden kente göçün artmasında
D) Tarım ürünlerinin hasat süresinde
E) Tarım ürünü çeşidinde

39. Pamuk, yaz aylarının sıcak ve kurak geçtiği ve sulamanın yaygın olduğu verimli ovalarda yetiştirilir.



Buna göre, yukarıdaki haritada numaralarla gösterilen ovalardan hangilerinde pamuk tarımı yapılamaz?

- A) I ve II B) I ve III C) II ve III
D) II ve IV E) III ve V

L
İ
D
E
R
Y
A
Y
I
N
L
A
R
I

40. I. Arıcılık faaliyetleri en yoğun olarak Menteşe ve Ordu yörelerinde yapılmaktadır.
II. Kümes hayvancılığı nüfuslanmanın fazla olduğu büyük şehirlerin çevresinde yoğunlaşmıştır.
III. Küçükbaş hayvancılık bozkır bitki örtüsünün görüldüğü iç bölgelerimizde yaygındır.

Türkiye’de hayvancılığın yoğun olduğu bazı yöreler verilmiştir. Bunda etkili olan faktörler hangi seçenekte doğru olarak verilmiştir?

	I	II	III
A)	Yer şekiller	Bitki örtüsü	Pazar
B)	Bitki örtüsü	Pazar	Yer şekilleri
C)	Bitki örtüsü	Yer şekilleri	Bitki örtüsü
D)	Yer şekilleri	Pazar	Bitki örtüsü
E)	Pazar	Yer şekilleri	Bitki örtüsü

41. İzmir’in Aliağa ilçesi son yıllarda gerek devlet gerekse özel sektörün yaptığı enerji üretim tesisleri sonucu Türkiye ekonomisine büyük katkı sağlamaktadır.

Buna göre, Aliağa’nın gerek enerji potansiyeli gerekse enerji temin etme kolaylığına bağlı olarak aşağıdaki enerji kaynaklarından hangisini kullandığı söylenemez?

- A) Kömür
B) Rüzgar
C) Doğalgaz
D) Petrol
E) Jeotermal

42. İstanbul, İzmir ve Samsun illerinin coğrafi özellikleri göz önüne alındığında aşağıdaki-lerden hangisinin ortak olduğu söylenemez?

- A) Termik santrallerin bulunması
B) Tüm ulaşım sektörleri ile ulaşılabilir olması
C) Buldukları bölgeler içinde en fazla nüfusa sahip olmaları
D) Ticaretin gelişmiş olması
E) Tarım ve turizm etkinliklerinin ön planda olması

43. Aşağıdaki endüstri kuruluşlarının hangisinin kuruluş yerinin belirlenmesinde pazara yakınlık etkili olmamıştır?

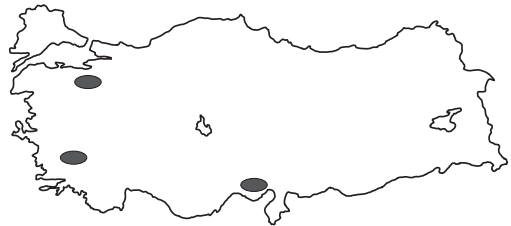
- A) Hazır giyim
B) Mobilya
C) Demir-çelik
D) Beyaz eşya
E) Otomotiv

44. Türkiye’de 15 tarihi ve turistik varlığımız UNESCO tarafından Dünya Kültür Mirasları Listesi’ne alınmıştır.

Buna göre, aşağıdaki kentlerimizden hangisinde Dünya Kültür Mirası Listesi’ne giren turistik varlığımız bulunmamaktadır?

- A) İzmir
B) Diyarbakır
C) Trabzon
D) Karabük
E) Bursa

45. Aşağıdaki haritada bazı yerler taralı olarak gösterilmiştir.



Bölge sınıflandırılmasında kullanılan ölçütler dikkate alındığında bu yerler aşağıdaki bölgelerden hangisi içinde yer almaz?

- A) Ovalık bölge
B) Sık nüfuslu bölge
C) Tarımsal bölge
D) Maden bölgesi
E) Makilik bölge

46. Kişinin kendi nefesine karşı ödevli olduğu iyi-kötü değer yargıları aşağıdaki sosyal düzen kurallarından hangisini oluşturur?
A) Görgü kuralları
B) Din kuralları
C) Sübjektif ahlak kuralları
D) Hukuk kuralları
E) Objektif ahlak kuralları
47. Aşağıdakilerden hangisi kanunun emredici hükümlerine aykırı bir hukuki işleme uygulanan yaptırım türüdür?
A) Tek taraflı bağlamazlık
B) Mutlak butlan
C) İptal edilebilirlik
D) Yokluk
E) İptal
48. Aşağıdakilerden hangisi hukukun kaynaklarından biri değildir?
A) Anayasa
B) Kanun
C) Örf-adet
D) Tüzük
E) Yönetmelik
49. Anayasanın üstünlüğü ilkesinin yargısal güvencesine ilk kez yer veren Anayasa aşağıdakilerden hangisidir?
A) 1876 Kanun-i Esasi
B) 1921 Anayasası
C) 1924 Anayasası
D) 1961 Anayasası
E) 1982 Anayasası
50. Çoğunluğun fikrine ağırlık vermekle birlikte azınlığa da belli haklar tanımak suretiyle muhalefet etme imkânı sunan demokrasi anlayışı aşağıdakilerden hangisidir?
A) Çoğulcu demokrasi
B) Yarı doğrudan demokrasi
C) Çoğunlukçu demokrasi
D) Doğrudan demokrasi
E) Temsili demokrasi
51. 1982 Anayasası'na göre suç ve cezalarla ilgili aşağıdakilerden hangisi söylenemez?
A) Suçluluğu hükmen sabit oluncaya kadar kimse suçlu sayılamaz.
B) Ceza sorumluluğu şahsidir.
C) Kanuna aykırı elde edilmiş bulgular delil olarak kullanılamaz.
D) Vatandaş hiçbir durumda suç sebebiyle yabancı bir ülkeye geri verilemez.
E) Genel müsadere ve ölüm cezası verilemez.
52. 1982 Anayasası'na göre, aşağıdakilerden hangisi kişinin hak ve ödevleri arasında yer almaz?
A) Kiyılardan yararlanma hakkı
B) Toplantı ve gösteri yürüyüşü düzenleme hakkı
C) Süreli ve süresiz yayın hakkı
D) Yerleşme ve seyahat hürriyeti
E) Mülkiyet hakkı
53. Aşağıdakilerden hangisi merkezden yönetim ilkesinin yararlarından biri değildir?
A) İdari hizmetlerin tüm ülkede yeknesak bir biçimde uygulanmasını sağlar.
B) Hizmetlerin maliyetini azaltır.
C) Kamu görevlileri yerel etkilerden kurtulur.
D) Güçlü bir devlet yönetimi sağlar.
E) Kırtasiyeciliği azaltır.
54. I. Başbakan – Diyanet İşleri Başkanlığı
II. 9 Eylül Üniversitesi Rektörü- Hukuk Fakültesi Dekanı
III. İçişleri Bakanlığı – Jandarma Genel Komutanlığı
IV. YÖK – Ankara Üniversitesi
V. Savunma Bakanlığı – Savunma Sanayi Müsteşarlığı
Yukarıdaki eşleştirmelerden hangileri arasında idari vesayet ilişkisi vardır?
A) I, II ve V
B) I ve II
C) II, IV ve V
D) Yalnız IV
E) IV ve V

55. Yaşayan en büyük Türk şairi olarak anılan “Ah, kimselerin vakti yok / Durup ince şeyleri anlamaya” dizelerinin yazarı olan Ekim 2015’te hayatını kaybeden şair ve insan hakları savunucusu aşağıdakilerden hangisidir?

- A) Fazıl Hüsnü Dağlarca
- B) Gülten Akın
- C) Attila İlhan
- D) Tezer Özlü
- E) Birhan Keskin

56. Kanser alanında yaptığı çalışmalarla bilinen, hastalığın tedavisinde kullanılmak üzere geliştirdiği ritmik saat buluşuyla tanınan ve Nobel Kimya Ödülü’nü kazanan ilk Türk aşağıdakilerden hangisidir?

- A) Oktay Sinanoğlu
- B) Nejat Eczacıbaşı
- C) Aziz Sancar
- D) Melahat Okuyan
- E) Mehmet Emin Ceylan

57. Ekim 2015’te Moto Dünya Süpersport’un Fransa ayağını da 1.bitirerek 4. kez Süpersport Şampiyonu olan sporcu aşağıdakilerden hangisidir?

- A) Kenan Sofuoğlu
- B) Michael van der Mark
- C) Jules Cluzel
- D) Jack Kenndy
- E) Lorenzo Zanetti

58. Sınır Tanımayan Gazeteciler Örgütü’nün 2015 yılında açıklamış olduğu Dünya Basın Özgürlüğü Endeksi’nde birinci sırada yer alan ülke hangisidir?

- A) ABD
- B) Norveç
- C) Japonya
- D) Finlandiya
- E) Avustralya

59. Aşağıdaki ülkelerden hangisi G-20 üyelerinden biri değildir?

- A) Arjantin
- B) Endonezya
- C) Hindistan
- D) Suudi Arabistan
- E) Mısır

60. Şiirlerinde, yalnızlık duygusunun dikkat çektiği, kadınların sorunlarını ve toplum içerisinde ayrımcılığa uğramasını ele alan, “Tutsak”, “Duvar”, “Yeniden Doğuş” gibi kitaplarıyla da tanınan İranlı şair aşağıdakilerden hangisidir?

- A) Furuğ Ferruhzad
- B) Simin Behbahani
- C) Ali Ekber Dihhoda
- D) Nima Yooshij
- E) Mehdi Akhavan-Sales



DERSLER FLASH DİSK'TE



UZAKTAN EĞİTİM



KİTAP MARKET

Bir İlk, Ders Çekimleri Flash Disk' te



- ✓ GENEL YETENEK - GENEL KÜLTÜR
- ✓ ÖABT
- ✓ EĞİTİM BİLİMLERİ
- ✓ KPSS - A



www.lideryayin.com

Uzaktan Eğitimde Güncel Çekimi Videolar eğitim web tr'de



- ✓ KPSS - A
- ✓ EĞİTİM BİLİMLERİ
- ✓ ÖABT
- ✓ GENEL YETENEK - GENEL KÜLTÜR

egitim.web.tr

DENEME SINAVLARI & KONU TARAMA TESTLERİ
HEDİYE

İnteraktif eğitimde yeni adres  egitim.web.tr

110 ÇEŞİT YAYINLA

KPSS'ye HAZIRIZ!

* Detaylı bilgi için kitap marketimiz
www.lideryayin.com

LİDER
yayınları

Tuna Mah. 5501 Sok. No: 6 Kat: 4 Çamdibi / İZMİR

Tel: 0 232 435 65 50 Fax: 0 232 435 65 23

✉ kurumsal@lideryayin.com 📞 0 530 930 70 15

Eğitimde lider, yayında lider.