

2003 KPSS GENEL KÜLTÜR GENEL YETENİK SORULARI VE AÇIKLAMALARI



www.kpss.info

NOT: BU SORULAR VE CEVAPLARI SINAVA GİRENLER TARAFINDAN TESPİT EDİLENLERDİR. EKSİKLİKLER VE FARKLILIKLAR OLABİLİR.

ANAYASA

1. Aşağıdakilerden hangisi G-8 daimi üyelerinden değildir?

- a) Almanya
- b) Rusya
- c) Japonya
- d) İsviçre
- e) Fransa

2. Aşağıdakilerden hangisi Birleşmiş Milletler daimi ülkesi değildir?

- a) Fransa
- b) İngiltere
- c) Japonya
- d) Rusya
- e) Çin

3. Aşağıdakilerden hangisi seçimle başa geçer?

- a) Kaymakam
- b) Vali
- c) Belediye başkanı
- d) Cumhurbaşkanı
- e) Genel kurmay başkanı

4. Demokratik ülkelerde yönetim nasıl seçilir?

- a) Seçimle
- b) Verasetle
- c) Babadan oğula
- d) Dikta rejimle
- e) Belli bir kesimin isteğiyle

5. Aşağıdakilerden hangisi kamu görev yasalarına ters düşer?

- a) Bir kamu hizmetinin kamu görevlilerinden başka hiçbir kuruluş hizmeti yerine getiremez.
- b) Kamu yönetmenliğine uyma
- c) Kamu çalışma saatlerine uyma
- d) Kamu hizmeti izin saatlerine uyma
- e) Kamu hizmeti izin saatlerine uyma

6. Lozan antlaşması görüşmelerinde Rusya neden Türkiye'yi desteklemiştir?

- a) Kendi rejimini dış tehlikelerden korumak için
- b) Türkiyeyle dost olduğu için
- c) Boğazlardan sıcak denizlere ulaşmak için
- d) Topraklarını genişletmek amacıyla
- e) Etnik yakınlık olduğu için

7. 1982 anayasasında sosyal ve ekonomik ödevler arasında hangisi yer alır?

- a) Protesto ve mitingler
- b) Eğitim ve öğretim hakkı
- c) Dilekçe hakkı
- d) Basın yayın hakkı
- e) Mülkiyet hakkı

8. Repo, tahvil,hisse senedlerin kontrol eden kurum hangisidir?

- a) Merkez bankası
- b) Sermaye piyasası kurulu
- c) Maliye bakanlığı

2003 KPSS SORULARI

- d) Türkiye mevduat sermaye fonu
e) Hazine müsteşarlığı
9. İl olma nasıl kararlaştırılır?
a) Bakan kurulu
b) Kanun
c) Cumhurbaşkanı
d) Meclis başkanı
e) Meclis
10. Aşağıdakilerden hangisi TBMM'nin yasama görevi değildir?
a) Hükümet denetlemek
b) Yasaları yorumlamak
c) Savaş ilanına karar vermek
d) Cumhurbaşkanı seçmek
e) Yasa çıkarmak
11. Kişinin bir olay karşısında aynı şekilde kendini korumasında ne denir ?
a) Mal güvenliği
b) Meşru Müdafaa
c) Saldırı
d) Savunma
e) Güvenlik gerekçesi
-
-
- TARİH
-
-
1. I- Sakarya
II- Kütahya-Eskişehir
III- I. İnönü
Yukarıdaki olayların kronolojik sıralaması aşağıdakilerden hangisidir?
a) I – II - III
- b) III – I - II
c) II – III – I
d) II – I– III
e) III – II – I
2. Aşağıdakilerden hangisi Osmanlılarda fakirlere yemek veren kurumdur?
a) Han
b) Medrese
c) İmaret
d) Şifahane
e) Kümbet
3. I. Meşrutiyetin ilanında aşağıdakilerden hangisinin etkisi olmuştur ?
I – Saray
II – Ordu
III – Aydınlar
a) Yalnız I
b) Yalnız II
c) Yalnız III
d) I - II
e) I - II - III
4. Aşağıdakilerden hangisi Osmanlılarda anıt mezar niteliğindedir ?
I – Kümbet
II – Mescit
III –Medrese
a) Yalnız I
b) Yalnız II
c) I – II

2003 KPSS SORULARI

- d) II – III
e) I – III
5. **Balkan paktının imzalamasını aşağıdaki olaylardan hangisinden sonra gerçekleşmiştir?**
- a) İtalya ve Almanya'nın saldırgan politikaları
b) Hatay sorunu
c) II. Dünya savaşının başlaması
d) Balkan savaşlarının baş göstermesi
e) 1929 Ekonomik krizi
6. **Aşağıdakilerden hangisi Osmanlılar zamanında yapılmamıştır ?**
- a) Anadolu hisarı
b) Rumeli hisarı
c) Diyarbakır surları
d) Kilitbahir Kalesi
e) Kaleyli Sultaniye
7. **Aşağıdakilerden hangisi Selçuklu dönemine ait bir eserdir?**
- a) Edirne Selimiye camisi
b) Süleymaniye camisi
c) Konya Alaattin camisi
d) Sultan Ahmet camisi
e) İzzet paşa camisi
8. **Hangi alanda yapılan yenilikler birlik sağlamak amacıyla ?**
- I – Hukuk**
II – Eğitim
III- Tarım
- a) Yalnız I
b) Yalnız II
- c) Yalnız III
d) I – II
e) II – III
9. **Aşağıdakilerden hangisi çok partili sisteme gelmeyi engellemiştir ?**
- I- Menemen Olayı**
II- Şeyh Sait Olayı
III- Le-Niyon
- a) Yalnız I
b) Yalnız II
c) I –II - III
d) II – III
e) I – II
10. **Aşağıdakilerden hangisi Türkiye'de kalifiyeli olmayan işçilerin tarımdan sonra en fazla çalıştıkları alandır ?**
- a) Sanayi
b) Hizmet sektörü
c) Kamu
d) İnşaat
e) Turizm sektörü
11. **1946 da**
- I – Bir dereceli seçim sistemi**
II – İki dereceli seçim sistemi
III – Referandum
- Yukarıdaki seçeneklerden hangileri demokrasi açısından olumlu gelişmelerden değildir ?**
- a) Yalnız I
b) Yalnız II
c) Yalnız III
d) I - III
e) I - II
12. **I- Hayvan figürleri**
II – Bitki Motifleri
III – Yazı
- Yukarıdaki seçeneklerden hangileri selçuklu zamanında kullanılmıştır ?**

2003 KPSS SORULARI

- a) Yalnız I
b) Yalnız II
c) I –II
d) II – III
e) I – II – III
- 13. I- Tanzimat Fermanı
II- Islahat Fermanı
III- Sened-i İttifak
IV- Kanun-i Esasiye
Yukarıdakilerden hangileri kişi haklarında eşitlik sağlamıştır?**
- a) I – II
b) II – III
c) I – IV
d) I – II – IV
e) I – III –IV
- 14. Aşağıdaki olaylardan hangisinden sonra Türk Milli Mücadelesinin haklılığı kanıtlanmıştır?**
- a) İzmirin işgali
b) Ankara Antlaşması
c) Amiral Bristol Raporu
d) Londra Konferansı
e) Lozan antlaşması
- 15. İngilterenin Hatay sorununda Türkiye'yi desteklemesinin sebebi nedir?**
- a) Ortadoğu'daki çıkarları
b) Milletler cemiyeti üyesi olması
c) Suriye ile olan soğuk savaşları
d) Türkiye ile olan dostlukları
e) Amerika'nın baskın tutumu
- 16. Mustafa Kemale Bakomutanlık verilmesi aşağıdaki olaylardan hangisinden sonra gerçekleşmiştir?**
- a) Yunanlıların yeniden saldırıya geçmesi
b) Ordunun Sakarya'nın doğusuna çekilmesi
c) I. İnönü savaşı
d) II. İnönü savaşı
e) Başkomutanlık savaşı
- 17. I- Demokratik ülkelerin yanında olması
II- Kendi çıkarlarını koruması
III-Avrupa'nın geleceğini Yukarıdakilerden hangileri Türkiye'nin Amerikanın yanında olma nedenlerindedir?**
- a) I
b) II
c) III
d) I - II
e) II - III
- 18. Mustafa Kemal Atatürk Nutuk'ta aşağıdakilerden hangisine değinmiştir?**
- a) Medeni kanunun kurallarından
b) Seçme ve seçilme hakkından
c) Soyadı kanunun öneminden
d) Kişi hak ve özgürlüklerinden
e) Türkiye Cumhuriyetinin yönetim şeklin-den
- 19. Avrupa devletleri aşağıdakilerden hangisinde içişlerimize karışmamışlardır?**
- a) Veraset
b) Azınlıklar
c) Taht kavgaları
d) Kapütasyonlar
e) Devlet borçları
- 20. 17. yüzyılda Osmanlı medreselerinde aşağıdakilerden hangisi okutulmamıştır?**
- a) Fıkıh

2003 KPSS SORULARI

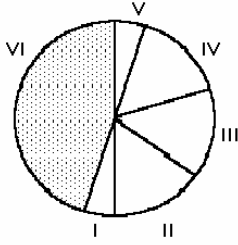
- b) Tefsir
c) Astronomi
d) Kalam
e) Hadis
- 21. Hangisi anayasaya laikliğin giriş tarihidir?**
a) 1937 anayasası
b) 1924 anayasası 1928 değişikliği
c) 1924 anayasası 1937 değişikliği
d) 1982 anayasası
e) 1928 anayasası
- 22. 1928 yılında aşağıdaki anayasa değişikliklerinden hangisi yapılmıştır?**
a) "Devletin dini islamdır" kaldırılmıştır.
b) "Türkiye Cumhuriyeti laiktir"
c) "Medeni kanun değiştirildi"
d) "Soyadı kanunu çıkarıldı"
e) "Türkiye Devleti Cumhuriyet'tir."
- 23. I – Belli oranda vergi alınması
II – Mültezimlerin kendi masraflarını katmaları
III – Ürün olsada olmasada vergi alınması
Yukarıdakilerden hangisi Halkçılık ilkesi ile bağdaşmaz?**
a) II- III
b) II
c) I-II
d) I-II-III
e) III
- 24. Aşağıdakilerden hangisi Montrö antlaşması ile Türkiye üzerindeki kısıtlamalar kaldırılmıştır?**
a) Boğazlar komisyonu
b) Mandacılık
c) Kapitülasyonlar
d) Gümrük vergisi
e) Vatandaşlık hakları
- 25. Fethi Okyar'ın istifa etmesi aşağıdaki gelişmelerden hangisini sağlamıştır?**
a) Cumhuriyetin ilan edilmesi
b) Seçim yapılması
c) Çok partili sisteme geçilmesi
d) Muhalafetin oluşması
e) Laikliğe geçilmesi
- 26. Aşağıdakilerden hangisi TBMM'nin kendi otoritesine karşı saldırılara aldığı bir önlem değildir?**
a) Meclis Hükümetine geçilmesi
b) İstiklal mahkeleri açılmış
c) Takri sukun
d) İhaneti vataniye
e) Düzenli orduya geçilmesi
- 27. İlk kapitülasyonları kaldıran devlet hangidir?**
a) İtalya
b) İngiltere
c) Fransa
d) Amerika
e) Sovyet Rusya
- 28. Toplum arasında (şeyh, hazret ,hacı) gibi unvanların kaldırılmasının nedeni nedir?**
a) Ayrımcılığın kaldırılması
b) Soyadı kanununun gelmesi
c) Tanınma rahatlığı sağlanması
d) Birlik ve beraberlik sağlanması
e) Medeni kanunun uygulanması
- 29. Aşağıdakilerden hangisi İngiltere'nin I. İnönü savaşından sonra Yunanlıları yeniden saldırmalarını istemelerinin sebebidir?**

2003 KPSS SORULARI

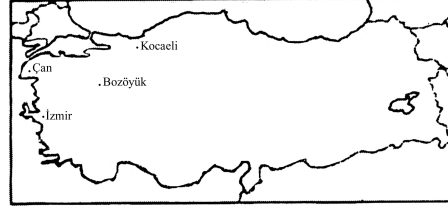
- Londra konferansında TBMM hükümetinin anlaşmaları kabul etmemeleri.
- Çerkez Ethem ayaklanması
- TBMM'deki iç karışıklıklar
- İç ayaklanmalar
- İngiliz-Yunan dostluğu

COĞRAFYA

- Grafikte VI nolu kısım bir bölgenin "şekerpancarı" üretimini göstermektedir. Bu bölge aşağıdakilerden hangisidir?



- Akdeniz
 - İç Anadolu
 - Doğuanadolu
 - Marmara
 - Karadeniz
- Kıyıda yada kıyıya yakın bölgelerde nüfus içe göre daha yoğundur. Aşağıdakilerden hangisi bu duruma zıttır?
 - Çukurova
 - Taşeli
 - Gediz
 - Çarşamba
 - Zonguldak
 - Gösterilen yerlerde ortak gelişen sanayi hangisidir?



- Cam
 - Kağıt
 - Seramik
 - Otomotiv
 - Tarım
- Aşağıdakilerden hangisi hazır giyim merkezidir?
 - Malatya
 - İzmir
 - İstanbul
 - Ankara
 - Kocaeli
 - Marmara bölgesinde aşağıdaki tarım ürünlerinden en az yetişen hangisidir?
 - Mısır
 - Ayçiçeği
 - Pirinç
 - Tütün
 - Fındık
 - Türkiye'de iklim etkisi ortadan kaldırıldığında ekim alanı en sınırlı olan bitki hangisidir?
 - Haşhaş
 - Çay
 - Fındık
 - Ayçiçeği
 - Pamuk
 - Fiziki haritaya bakıldığında Çukurova ile Isparta ovasının farklı renklerde gösterilmesinin nedeni nedir?

2003 KPSS SORULARI

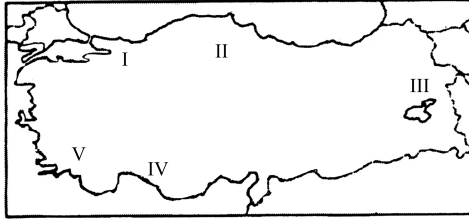
- a) Enlem
b) Sıcaklık
c) Denize göre yükseklik
d) Bitki örtüsü
e) Boylam
8. Kıyıya bakan yamaçlarında geniş yapraklı ormanlar rastlanır iç kesimlerde alpin çayırları ve iğne yaprakların olduğu bölüm neresidir?
a) Doğu Karadeniz
b) Akdeniz
c) Marmara
d) Orta Karadeniz
e) Batı Karadeniz
9. Aşağıdakilerden nehirlerden hangisi iklim ve çevre nedeniyle en az kirli olan nehirdir?
a) Aras
b) Meriç
c) Kızılırmak
d) Büyük Menderes
e) Gediz
10. Karedeniz bölgesinde aşağıdaki yörelerden hangisinden iç bölgelere demiryolu geçit vardır?
a) Trabzon-Rize
b) Samsun – Zonguldak
c) Samsun -Sivas
d) Gümüşhane -Trabzon
e) Zonguldak-Kastamonu
11. Aşağıdakilerden hangisi yapılarak hayvancılıkta birim et oranı en az etkilidir?
a) Hayvan sayısının artırılması
b) Besicilik yaygınlaştırılmalı
c) Damızlık hayvanların yaygınlaştırılması
d) Meraların artırılması
e) Hayvan bakımının önemsenmesi
12. Aşındakilerden hangisi erozyonun doğrudan sonucu değildir?
a) Köylerden kentlere göç
b) Bitki türünün azalması
c) Koy ve Körfezlerin dolması
d) Toprak kayması olması
e) Ağaç oranının azlığı
13. Aşağıdakilerden hangisi yerleşimi en az etkileyendir?
a) Doğal göller
b) Yer şekilleri
c) İklim
d) Ulaşım
e) Toprak verimi
14. Türkiye’de tarımla ilgili Aşağıdaki yargılardan hangisi yanlıştır?
a) Tarım ile uğraşan kişi sayısı artmaktadır.
b) Türkiye tarım açısından elverişli bir ülkedir.
c) Çalışan kesim en çok tarım sektöründedir.
d) Tarım ihracı önemli yer tutar
e) Tarımsal faaliyetler bölgelere göre farklılık göstermektedir
15. Aşağıdakilerden hangisi Ürgüp göreme yöresinde turistlerin gelme nedeni değildir?
a) Peri bacaları
b) El sanatları
c) Yer altı şehirleri
d) Termal tesisler
e) İbadethane
16. İzmir ve İstanbul limanlarının gelişme nedenidir?

2003 KPSS SORULARI

- I – Ulaşım
II – Endüstri
III – Kalabalık olması

- a) I – II
b) II
c) III
d) II-III
e) I

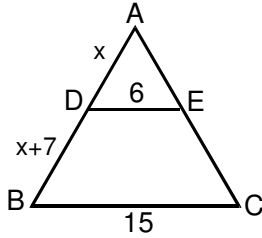
17. Numaralandırılmış bölgelerden hangisi tarıma en elverişli bölgedir?



- a) I
b) II
c) III
d) IV
e) V

MATEMATİK

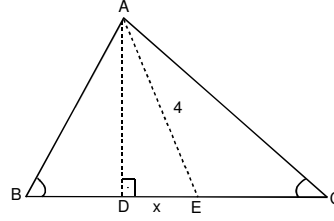
1.



$DE \parallel BC$
 $AB = ?$

- a) 18
b) 19
c) 11
d) 21
e) 15

2.



AE BAC'nin
açı ortayı
kaçtır?
 $x = ?$
 $\hat{C} = 60^\circ$
 $\hat{B} = 30^\circ$ ise
 $|DE| = x = ?$

- a) 1
b) 2
c) 3
d) 4
e) 5

3. Bir limandan sırasıyla 30,60,90 dakika ara ile 3 vapur hareket etmektedir. 8:30'da birlikte hareket ettikten sonra ilk defa tekrar birlikte saat kaçta hareket ederler.

- a) Saat 12:30 4 saat sonra
b) Saat 12:00 3,5 saat sonra
c) Saat 11:30 3 saat sonra
d) Saat 10:00 1,5 saat sonra
e) Saat 10:30 2 saat sonra

4. Yarı çapı 2 cm olan dairenin alanı A, bir kenarı 3 cm olan karenin alanı B, bir kenarı 4 cm olan eşkenar üçgenin alanı C ise büyükten küçüğe sıralayınız?

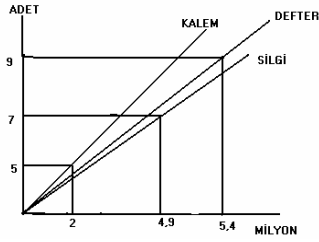
- a) $A > B > C$
b) $B > A > C$
c) $C > B > A$
d) $A > C > B$
e) $B > C > A$

2003 KPSS SORULARI

5. Rakamlarının çarpımı 60 olan 3 basamaklı kaç sayı yazılabilir?

- a) 3
b) 6
c) 12
d) 15
e) 18

6. 1 defter, 1 kalem, 1 silgi toplam kaç liradır?



- a) 1.300.000.-
b) 1.700.000.-
c) 1.900.000.-
d) 2.000.000.-
e) 2.200.000.-

7.
$$\begin{array}{r} \text{A B C} \\ \times \text{C D} \\ \hline \text{.....} \\ \text{.....} \\ \hline \text{9 0 5 0} \end{array}$$
 $A + B + C + D = ?$

- a) 10
b) 12
c) 15
d) 18
e) 20

8. Özge'nin yaşı babasının yaşının $\frac{2}{11}$ katıdır. Babası Özge'den 36 büyük olduğuna göre Özge kaç yaşındadır?

- a) 3
b) 4
c) 5

- d) 6
e) 8

9. Bir araç AB yolunu 9 saatte gitmiştir. Yolun yarısında hızını 2 katına çıkardığına göre ikinci yarısını kaç saatte gitmiştir?

- a) 1
b) 2
c) 3
d) 4
e) 5

10. A sayısının B'nin iki katına bölümünde bölüm C+1 kalan 4'tür. Aynı A sayısının C'nin 2 katına bölümünde bölüm B kalan D'dir. D aşağıdakilerden hangisidir?

- a) 3
b) 5
c) 6
d) 7
e) 9

11. 20 litre tuzlu suyun tuz oranı %16'dır. Karışımın tuz oranı %20 olması için kaç litre su buharlaştırılmalıdır?

- a) 4
b) 6
c) 6,5
d) 7
e) 8

12.

X	A	B	C
A		120	160
B			192

Yukarıdaki çarpım işleminde C kaçtır?

- a) 10

2003 KPSS SORULARI

- b) 11
c) 12
d) 16
e) 18
13. Bir işi Ayşe, Çiğdem iki katı günde yapmaktadır. İkisi birlikte aynı işi 2 günde yaptıklarına göre Ayşe tek başına aynı işi kaç günde yapar?
a) 5
b) 6
c) 7
d) 8
e) 10
14. $\frac{\sqrt{96} + \sqrt{24}}{\sqrt{54}} = ?$
15. $\frac{1}{5^x} < \frac{1}{625}$ x'in alabileceği en küçük değer kaçtır?
a) 5
b) 25
c) 125
d) 150
e) 625
16. Bir kenarı 2 cm olan küçük küplerden en küçük hacimli bir küp oluşturuluyor. Bu küpün yüzey alanı kaç cm²'dir?
a) 48
b) 64
c) 96
d) 108
e) 124
17. $\frac{\frac{1}{2} - \frac{3}{4}}{\frac{13}{9} - \frac{7}{6} + \frac{1}{3}} = ?$
- a) 1/3
b) 1/2
c) 1
d) 2
e) 2/3
18. Bir kesrin payından 7 fazladır. Paydasının 1 eklendiğinde kesrin değeri 1/5 oluyor. İlk kesrin paydası kaçtır?
a) 6
b) 9
c) 12
d) 15
e) 18
19. $\frac{0,006}{0,0036} : \frac{0,00012}{0,00036}$
a) 12
b) 15
c) 18
d) 19
e) 20
20. Üç basamaklı bir sayının rakamları toplamına bölüldüğünde en büyük sonuç kaçtır?
a) 80
b) 90
c) 100
d) 110
e) 120
21. $x^2 - 6x + 10$ x'in alacağı değerler sonucu en küçük kaç olur?
a) 0,5
b) 1
c) 1,5
d) 2
e) 3

2003 KPSS SORULARI

22. $\frac{x^2y}{x+y} + \frac{x}{y-x} - \frac{y}{x+y}$

- a) x
- b) y
- c) 1
- d) zx
- e) x/y

23. $\frac{4}{9} = \frac{2x}{3x+6}$ ise x=?

- a) 2
- b) 3
- c) 4
- d) 5
- e) 6

24. $a < b < 0 < c$ ise aşağıdakilerden hangisi doğrudur?

- a) $(a-c).b < 0$
- b) $(c-a).(b-a) < 0$
- c) $(b-c).a < 0$
- d) $(b-c).(b-a) > 0$
- e) $(c-a).(a-b) < 0$

25. 15, a, 2a terimlerinin aritmetik ortalaması 75 ise

a kaçtır?

- a) 5a
- b) 55
- c) 60
- d) 79
- e) 81

