

KPSS GENEL YETENEK GENEL KÜLTÜR

TÜRKİYE GENELİ

DENEME SINAVI 3

DİKKAT!

SINAVA BAŞLAMADAN ÖNCE AŞAĞIDAKİ UYARILARI MUTLAKA OKUYUNUZ.

1. Genel Yetenek Testi ve Genel Kültür Testi için verilen toplam cevaplama süresi 120 dakikadır. (2 saat).
2. Genel Yetenek Testi ve Genel Kültür testlerinin her birinde 60 soru vardır. Toplam 120 soru bulunmaktadır.
3. Cevaplamaya istediğiniz testten ve sorudan başlayabilirsiniz. Her soru ile ilgili cevabınızı, cevap kâğıdında o soru için ayrılmış olan yere işaretlemeyi unutmayınız.
4. Testler puanlanırken her testteki doğru cevaplarınızın sayısından yanlış cevaplarınızın sayısının dörtte biri düşülecek ve kalan sayı o testle ilgili ham puanınız olacaktır. Bu nedenle, hakkında hiçbir fikrinizin olmadığı soruları boş bırakınız. Ancak, soruda verilen seçeneklerden birkaçını eleyebiliyorsanız kalanlar arasından doğru cevabı kestirmeye çalışmanız yararınıza olabilir.

© COPYRIGHT AYMİR YAYINEVİ

Yayın Hakkı

Bu kitabın her türlü yayım hakkı Aymir Yayın Basım Dağıtım Ltd, Şti'ye aittir.

Bu kitabın baskısından 5846 ve 2936 sayılı Fikir ve Sanat Eserleri Yasası hükümleri gereğince kaynak gösterilerek bile olsa alıntı yapılamaz, herhangi bir şekilde çoğaltılamaz, genel ağ ve diğer elektronik ortamlarda yayımlanamaz.



1. İnsan, --- değil, --- ölü.

Bu cümlede boş bırakılan yerlere sırasıyla aşağıdakilerin hangisinde verilenler getirilmelidir?

- A) hasta olunca – tedavi edilmezse
- B) gençken – yaşlandığında
- C) kalbi durduğu zaman – unutulduğu zaman
- D) sağlıklıyken – hastayken
- E) istediği zaman – eceli geldiği zaman

2. Temelleri Yunan ve Latin yazarlar tarafından atılan deneme, bir yazınsal tür olarak on altıncı yüzyılda şekillenir. Fransızca “essai” kelimesinin karşılığı olan bu türün en belirleyici özelliği, öne sürülen düşünceleri kanıtlama zorunluluğunun olmayışıdır. Yazınsal sürecin bir serüvene dönüşümü bu türde metnin ucu sürekli açıktır. Bunun için okuyucu her an bir sürprizle karşılaşabilir. Anlam çok yönlüdür. Dilin resmî kıyafetinden arındığı bu türde, hayatın içinde var olan türlü türlü durumlara, olay ve olgulara, gerçeklere, yazar tarafından yeni bir şekil verilebilir.

Bu parçadaki altı çizili sözle deneme türünün hangi niteliği anlatılmak istenmektedir?

- A) Anlatımda yabancı sözcüklere de yer verilmesi
- B) Biçiminin samimi ve içten olması
- C) Salt bir ulusun değil, tüm insanlığın malı olması
- D) Yalnızca tarihsel konularla sınırlı olmaması
- E) Olay ve olgulara farklı bir pencereden bakması

3. (I) İngiltere’de yapılan bir araştırmaya göre, müzik dinlemenin sağlık problemlerine iyi geldiği belirtildi. (II) Bu araştırma, klasik müzik dinlemenin, özellikle de Verdi’nin bestelerini tercih etmenin dinleyicilerin kan basıncını düşürdüğünü de ortaya çıkardı. (III) Müziğin, bunama ve demans hastalıkları ile savaşta önemli bir yerinin olduğu vurgulandı. (IV) Düzenli olarak müzik dinleyenlerin, dinlemeyenlere göre kısa ve uzun süreli hafızada daha az sorun yaşadığına dikkat çekildi. (V) Bu araştırmanın dikkat çekici başka bir yönü ise hastalık veya operasyon geçiren kişilere klasik müzik dinletilmesinden sonra acılarının daha az hissetmeleri ve iyileşme sürecini daha hızlı tamamlamaları oldu. (VI) Müziğin ayrıca stresi önemli ölçüde azalttığı ve kişinin kendisini daha iyi hissetmesini sağladığı belirtildi.

Bu parçadaki numaralanmış cümlelerle ilgili olarak aşağıda verilenlerden hangisi yanlıştır?

- A) I. cümlede, saptama söz konusudur.
- B) II. cümlede, önceki cümlede dile getirilen yargı örnek verilerek somutlaştırılmaktadır.
- C) IV. cümlede, karşılaştırma yapılmaktadır.
- D) V. cümlede, çıkarımda bulunmaktadır.
- E) VI. cümlede, öznel bir değerlendirme dile getirilmektedir.

4. Yasa dışı göçü, uyuşturucu ticaretini, silah kaçakçılığını önlemek ya da terörle mücadele etmek için dünyanın çeşitli ülkeleri arasındaki sınırlarda örülen duvarların toplam uzunluğu, 19.500 kilometreyi geçiyor.

Bu cümleden aşağıdaki yargıların hangisi kesin olarak çıkarılabilir?

- A) Ülkelerin sınırlarına duvar örmek, ülkeler arasındaki çeşitli sorunlara kalıcı çözüm getirebilmektedir.
- B) Ülkeler arasında örülen duvar uzunluğu, her yıl giderek artmaktadır.
- C) Çeşitli gerekçelerle ülkeler arasında dünya çevresinin yarısına yakın bir uzunlukta duvar örülmüştür.
- D) Dünyadaki ülkelerin çoğu, çeşitli nedenlerle komşu ülkeleriyle sınırlarına duvar örmüştür.
- E) Bir ülkenin, komşu ülkelere gelebilecek herhangi bir tehditten korunmasının en güvenli yolu, sınırlarına duvar örmektir.

L
İ
D
E
R

Y
A
Y
I
N
L
A
R
I

5. (I) "Simurg'un Gözyaşları" adlı son yapıtım, yazarlık serüvenim içinde çok büyük bir önem taşıyor. (II) Çok katmanlı, alt yazısında çok şey söylenen, öykü örgüsünde de birçok değişik tat barındıran bir kitap. (III) Bu kitabın en önemli özelliği, dört ayrı zaman dilimi içinde geçmesi ve her bölümün o döneme ait dil oyunları ile süslenmesi. (IV) Kitapta Anadolu insanına özgü halk şiirlerini, eski İstanbul'un kokusunu, müziğini, kültürünü, Bursa'daki Ermeni azınlık yaşantısını, efsanelerin yazıldığı zamanın masalsi havasını peş peşe bulursunuz. (V) Aynı zamanda bir sayfada eski bir Fransız şiiriyle duygulanıp Hacı Arif Bey'in eserlerinin şiirselliğiyle keyfe dalabilirsiniz.

Bu parçadaki numaralanmış cümlelerin hangisinde üslup ile ilgili bir özelliğe değinilmiştir?

- A) I. B) II. C) III. D) IV. E) V.

6. "Yaşlı" sözcüğü, aşağıdaki cümlelerin hangisinde ötekilerden farklı türde kullanılmıştır?

- A) Yaşlı kadın, komşularının yardımıyla geçiniyordu.
B) Yaşlı insanlar, nedendir bilmem, çocuk gibi oluyor.
C) Yaşadıklarını yaşlı gözlerle anlatmaya devam etti.
D) Korudaki yaşlı ağaçları kestiler.
E) Askerden henüz gelmesine rağmen yaşlı görünüyordu.

7. I. Cefayı çekmeyen, sefanın kadrini bilmez.
II. Allah sabırlı kulumu sever.
III. Kedinin boynuna ciğer asılmaz.
IV. Başa gelmeyince bilinmez.

Yukarıda numaralanmış atasözlerinin hangileri çatı bakımından aynı özellikleri göstermektedir?

- A) I. ve II. B) I. ve III. C) II. ve III.
D) II. ve IV. E) III. ve IV.

L
İ
D
E
R

8. Güzellikleri görme yeteneğini kaybetmeyenler
I II III IV
asla yaşlanmaz.
V

Bu cümledeki numaralanmış sözcüklerle ilgili olarak aşağıdakilerden hangisi söylenemez?

- A) I'ncisi, birden çok çekim eki almıştır.
B) II'ncisi, fiilin olumsuzluk ekini almıştır.
C) III'üncüsü, yapı bakımından türemiştir.
D) IV'üncüsü, birleşik yapıdır.
E) V'incisi, isimden fiil türetme eki almıştır.

Y
A
Y
I
N
L
A
R
I

9. I. Haliç'te bir vapuru vurdular dört kişi
II. Demirlemişti, eli kolu bağlıydı, ağlıyordu
III. Yemyeşil bir ay gökte dağılıyordu
IV. Şafak nabız gibi atıyordu
V. Cinayeti kör bir kayıkçı gördü

Yukarıda numaralanmış dizelerin hangilerinin öznesi bir söz öbeği değildir?

- A) I. ve II. B) II. ve III. C) II. ve IV.
D) III. ve V. E) IV. ve V.

10. Uçun kuşlar uçun doğduğum yere
Şimdi dağlarında mor sümbül vardır
Ormanlar koynunda bir serin dere
Dikenler içinde sarı gül vardır

Bu dizelerde aşağıdakilerden hangisinin örneği yoktur?

- A) Ulama
B) Ünsüz benzeşmesi
C) Ünsüz yumuşaması
D) Kaynaştırma
E) Ünlü düşmesi

11. (I) Halep kentini gezerken Tembeller Pazarı denilen pazara uğruyoruz. (II) Sebze ve meyvelerin tümü soyularak satıldığından, buraya bu ad verilmiş. (III) Soyulmuş sarımsağın bile kiloyla satıldığı bu pazarda fiyatlar çok düşük. (IV) Pazardan sonra, kaleyi de gezdik. (V) Burası Hititlerden kalma bir tapınakken daha sonra Romalılar ve Eyyubiler tarafından kale olarak kullanılmış.

Bu parçadaki numaralanmış cümlelerle ilgili olarak aşağıda verilenlerden hangisi yanlıştır?

- A) I'ncisi, girişik – bileşiktir.
B) II'ncisi, biçimce ve anlamca olumludur.
C) III'üncüsü, bileşik isim cümlesidir.
D) IV'üncüsü, kurallı fiil cümlesidir.
E) V'incisi, öznesi ortak sıralı bir cümledir.

12. Aşağıdaki cümlelerin hangisindeki altı çizili sözde bir yazım yanlışı vardır?

- A) Birkaç gündür canımı sıkıyorsun.
B) Birtakım davranışların hiç hoşuma gitmiyor.
C) Seni birçok kez uyardım.
D) Biraz söz dinlesen çok iyi olur.
E) Senden başka da birşey istemiyorum.

13. Urla'da Roma Dönemi'ne ait 2000 yıllık olduğu tahmin edilen antik liman (I) Karantina Adası (II) üzüm bağları gezilecek yerlerin (III) un kurabiyesi (IV) güveç (V) katmer ise tadılacak lezzetlerin başında geliyor.

Bu cümledeki numaralanmış yerlerin hangisine ötekilerden farklı bir noktalama işareti getirilmelidir?

- A) I. B) II. C) III. D) IV. E) V.

14. Aşağıdaki cümlelerin hangisinde bir anlatım bozukluğu vardır?

- A) İstanbul'a gidip de Topkapı Sarayı'nı gezmemek olmaz.
B) Akyaka'ya gidip de tekne turuna binmemek olmaz.
C) Konya'ya gidip de Mevlana'yı ziyaret etmemek olmaz.
D) Kanlıca'ya gidip de yoğurt yememek olmaz.
E) Fethiye'ye gidip de Kelebekler Vadisi'ni görmemek olmaz.

15. Küçük bir çocukken babamla, amcalarımla ve kuzenlerimle birlikte dua ederdik. Her akşam bir araya gelir ve Kuran'dan bir bölüm okurduk. İşte, yine böyle bir akşam amcam Kuran okurken diğerlerinin çoğunun uykuya daldığını fark ettim. Babama, "Bu uykucu kafalar peygamberimizin sözlerini duyamıyor. Bu yüzden Tanrı'ya asla ulaşamayacaklar." dedim. Babam bana şöyle cevap verdi: "Canım oğlum, sen inanç yolunda kendi rotanı bul, bırak diğer insanlar da kendi yollarını bulsun. Kim bilir belki de onlar rüyalarında Tanrı'yla konuşuyordur. Doğrusu senden bu sert yargılama ve suçlamayı duyacağıma onlar gibi uyuduğunu görmeyi bin kere yeğlerdim!"

- I. Kişileştirmeden
II. Nitelik bildiren sözcüklerden
III. Eksiltili (kesik) cümlelerden
IV. İkiylemeden
V. Pekiştirmeden

Bu parçanın anlatımında yukarıdakilerin hangilerinden yararlanılmıştır?

- A) Yalnız I B) Yalnız II C) II ve IV
D) III ve IV E) III ve V

16. I. Günlerden cuma idi ve zamanın padişahı II. Abdülhamit cuma selamlığına çıkmıştı yani merasimle cuma namazına gitmişti.
- II. Osmanlılarda ilk bomba hadisesi, 1905 yılının 21 Temmuz'unda İstanbul'da Yıldız Camisi'nin önünde yaşanmış ve bu patlama 26 kişinin hayatına mal olmuştu.
- III. Ama patlamada 26 kişi ölmüş, 58 kişi yaralanmış ve merasim için camiye getirilmiş olan atlardan 20 kadarı da telef olmuştu.
- IV. Yıldız Camisi'nde kılınan cuma namazının tamamlanmasından hemen sonra caminin yanı başına bırakılmış bir arabanın içine önceden yerleştirilmiş olan saatli bomba Abdülhamit'in geçmesine birkaç saniye kala patlamıştı.
- V. Padişah, bu patlamadan yara almadan kurtulmuş, saraya kendi kullandığı arabasıyla dönmüştü.

Yukarıda numaralanmış cümleler anlamlı bir bütün oluşturacak biçimde sıralandığında hangisi baştan üçüncü olur?

- A) I. B) II. C) III. D) IV. E) V.

17. I. Urla'nın İskele mevkinde 1992 yılında başlatılan kazı çalışmaları sonucu Klazomenai Antik Kenti'nde bulunan işlik, Anadolu'daki ilk zeytinyağı üretim tesisidir.
- II. Bu işlikte 7 metre uzunluğundaki çatının tavanından aşağı uzanan tahta bir mil bulunur.
- III. Milin ucundaki silindirik taşlar asma katta bulunan bir işçinin yardımıyla döndürülünce değirmendeki zeytinleri ezmeye başlar.
- IV. Burada üste kalan zeytinyağı, yan bölmeye geçerek orada birikmeye devam ederken alta çöken su ortamdan ayrılır.
- V. Bu esnada oluşan zeytinyağı donmaması için sıcak su ile karıştırılıp üç gözlü kaplar sistemine göre çalışan ayrıştırma düzenine özel bir kanal sistemi yardımıyla akar.
- VI. Sonra da üçüncü bölmeye geçen ve sudan tamamen ayrıldığı için iyice saflaşmış olan zeytinyağı uygun bir süre burada bekletildikten sonra Klazomenai'ye özgü kuşak bezemeli ve üzerinde mutlaka bu kentin simgesi olan "k" harfi bulunan testilere doldurularak yağ depolarına taşınır.

Yukarıdaki numaralanmış cümlelerin anlamlı bir bütün oluşturabilmesi için hangilerinin birbiriyle yer değiştirmesi gerekir?

- A) I. ve II. B) II. ve III. C) II. ve IV.
D) IV. ve V. E) V. ve VI.

18. (I) Dil balığını usulünce pişirebilmek için önce balığın içi güzelce temizlenir ama derisi yüzülmez. (II) Derisinin iki yanı limonla iyice ovulur. (III) Yabancılar özellikle de Fransızlar dil balığı pişirirken mutlaka limon kullanır. (IV) Böylece limonun kokusu balığın her tarafına siner. (V) Sonra çok hafif una bulanana balık, taze tereyağı ile tavada iyice kızartılır. (VI) Bütün olarak tabağa alınan kızarmış balığın üzerine de ince ince maydanoz doğranmış ve birkaç damla limon sıkılmış, eritilmiş tereyağı dökülür.

Bu parçada numaralanmış cümlelerden hangisi parçanın anlam akışını bozmaktadır?

- A) II. B) III. C) IV. D) V. E) VI.

19. (I) Tropikal bir meyve olan avokado; antioksidan olarak bilinen A, C ve E vitaminlerini içerir. (II) Ayrıca K vitamini de diğer meyvelere göre çok yüksek oranda avokadoda bulunur. (III) Zengin bir folik asit ve potasyum kaynağı da olan avokadoda glutatyon ve lutein gibi doğal antioksidanlar da bulunur. (IV) Avokado meyvesi olgun ve yumuşakken yenmelidir. (V) Olgunlaşmış avokado iyice yıkandıktan sonra boylamasına ortadan ikiye kesilir. (VI) Meyvenin içini rahatça almak için dış kabuğu soyulur ve çekirdeklerini çıkarmak için kaşık kullanılır.

Bu parça iki paragrafa bölünmek istense ikinci paragraf numaralanmış cümlelerin hangisiyle başlar?

- A) II. B) III. C) IV. D) V. E) VI.

20. Mersin'in 14 kilometre batısındaki Soloi Antik Kenti, MÖ 7. yüzyılda Rodoslu koloniciler tarafından kurulmuş ve bu kente güneş anlamına gelen "Soloı" adı verilmiştir. MÖ 520'de Darius zamanında Kilikya'yı ele geçiren Persler için burası son derece önemli bir liman kenti olmuştur. Pers-Yunan savaşları sırasında MÖ 499'da Kilikya'yı bir süre işgal eden Atinalılar, Soloı'yi yönetim merkezi yapmışlarsa da bir yıl sonra yapılan Kilyos Barışı ile burayı Perslere geri vermişlerdir. MÖ 333'te Asya seferine çıkan Aleksander Soloı'yi Pers işgalinden kurtarmıştır.

Bu parçada Soloı ile ilgili olarak aşağıdakilerin hangisi çıkarılamaz?

- A) Deniz kıyısında olduğu
- B) Adının anlamı
- C) Tarihçesi
- D) İklimi
- E) Konumu

21. Metin Altıok, 1941'de Bergama'da doğdu. 1971'de Ankara Üniversitesi Dil ve Tarih Coğrafya Fakültesi Felsefe Bölümü'nü bitirdi. Öğrenimi sırasında bir yandan Kızılay Genel Müdürlüğünde memur olarak çalışıyor, bir yandan da resim yapıp sergiler açıyordu. Şiir ve resimden başka tiyatroya da ilgi duyduğu için çeşitli radyo oyunları ve çocuk oyunları yazıyordu. Şiir, deneme, resim çalışmalarının yanı sıra bir gazetede haftalık köşe yazıları da yazmaya başladı. Daha ilk şiirlerinden başlayarak büyük ustaların övgüsünü kazanmış bir şairdi. Şiirlerinin çoğunda yalnızlığı, kederi, hüznü öne çıkaran bu şair; şiirin yoğun koklandığı ortamlara uzak kalmanın sıkıntısını yaşadı. Şiir alanındaki çalışmalarıyla 1980 Ömer Faruk Toprak Şiir Ödülü'nü, 1989 Halil Kocagöz Şiir Ödülü'nü, 1991'de de Cemal Süreya Şiir Ödülü'nü aldı.

Bu parçada Metin Altıok ile ilgili olarak aşağıdakilerin hangisine değinilmemiştir?

- A) En başarılı eserlerini şiir türünde verdiğine
- B) Sanatın birden çok dalıyla ilgilendiğine
- C) Çeşitli ödüller aldığına
- D) Kimi şiirlerinde bireysel konular işlediğine
- E) Yükseköğrenim gördüğüne

22. - 23. soruları aşağıdaki parçaya göre cevaplayınız.

(I) Yeryüzündeki tüm canlıların vazgeçilmez ve yaşam kaynağı olan su, aşırı tüketiminde ölümcül olabilir. (II) Vücudu temizlediği, konsantrasyonu artırdığı ve baş ağrısını azalttığı düşünüldüğünden olsa gerek bol bol su içiliyor ancak uzmanlar gereğinden fazla içilen suyun zararlı olduğunu iddia ediyor. (III) İngiliz kalp ve damar cerrahı olan Mark Whiteley, çok fazla su tüketmeye başlayan bir bedende beynin kendini yeniden programlandığını ve kişiyi suya daha bağımlı hâle getirdiğini belirtiyor. (IV) Bağımlılarda gece çok fazla tuvalete kalktıkları için uyku bozuklukları görülüyor. (V) İngiltere'de yaşanan bir vakada 40 yaşındaki bir kadının birkaç saat içinde 4 litre su içtiği için su zehirlenmesinden öldüğünü belirten Whiteley, kadınların günde 1,6 litre, erkeklerin ise 2,5 litre su tüketmelerini tavsiye ediyor.

22. Bu parçada su ile ilgili olarak aşağıdakilerin hangisine değinilmemiştir?

- A) Beynin işleyişinde etkisinin olduğuna
- B) Bütün canlılar için mutlaka gerekli olduğuna
- C) Erkeklerin günlük gereksiniminin kadınlarınkinden fazla olduğuna
- D) Çok fazla tüketildiğinde ölüme neden olabileceğine
- E) Yeryüzünün büyük bir bölümünü kapladığına

23. Bu parçadaki numaralanmış cümlelerin hangilerinde hem neden hem olasılık anlamı vardır?

- A) I. ve II.
- B) I. ve III.
- C) II. ve IV.
- D) III. ve IV.
- E) IV. ve V.

24. - 26. soruları aşağıdaki parçaya göre cevaplayınız.

(I) Suni ipek; kavak, köknar, söğüt gibi selüloz bakımından zengin olan ağaçlardan kimyasal yollarla elde edilen liflere denir. (II) Belirtilen bu ağaçlar önce levhalar hâline getirilerek kurutulur, sonra makinelere konarak lif lif parçalanır. (III) Bu lifler sac kaplarda birkaç gün bekletilir, sonra kükürtleme makinelerinde belli bir miktar karbon sülfür karıştırılarak bu liflerden renkli bir madde elde edilir. (IV) Elde edilen bu madde kesilerek platin alaşımından yapılmış çok ince delikli gözlerden asitli bir banyo içine fıskırtılır. (V) Böylece bu gözlerden çıkan ama doğal ipek kadar dayanıklı olmayan iplik şeklindeki suni ipek, makaralara sarılarak piyasaya sürülür.

24. I. Ne renk olduğuna
II. Ham ipekten ucuz olduğuna
III. Belirli aşamalardan geçirilerek üretildiğine
IV. Doğal olmadığına
V. Ham maddesinin ağaç olduğuna
Bu parçada suni ipek ile ilgili olarak yukarıdakilerin hangilerine değinilmemiştir?
A) I. ve II. B) II. ve III. C) III. ve IV.
D) III. ve V. E) IV. ve V.

25. Bu parçadaki numaralanmış cümlelerden hangisi tanımsal bir nitelik taşımaktadır?

- A) I. B) II. C) III. D) IV. E) V.

26. Bu parçadaki numaralanmış cümlelerin hangisinde karşılaştırma söz konusudur?

- A) I. B) II. C) III. D) IV. E) V.

27. - 30. soruları aşağıdaki bilgilere göre birbirinden bağımsız olarak cevaplayınız.

- Bir cep telefonu satıcısı hem orijinal hem de Çin malı replika (orijinaline görünüm olarak çok benzeyen taklit) telefonlar satmaktadır.
- Bugün toplam sekiz kişiye A, B, C, D ve E marka telefonlardan orijinal ve replika telefon satışı yapılmıştır.
- Bu telefonları satın alanlar Enver, Fatih, Gazanfer, Harun ve İsmail adlı erkeklerle Jale, Kader ve Lale adlı bayanlardır.
- D marka 1 telefon satılmış olup bu ürünün replikası yoktur.
- B marka telefonlardan iki tane satılmış olup biri orijinal, biri replikadır.
- Bayanlardan ikisi aynı marka telefonların orijinallerinden satın almıştır.
- Satıcıdaki A marka tek telefonu Jale satın almıştır ve bu ürün orijinal değildir.
- Satılan E marka telefonların ikisi de replikadır.

27. Buna göre aşağıdakilerden hangisi kesin olarak doğrudur?

- A) E marka telefonlardan birini erkek, birini bayan müşteri almıştır.
B) Satılan telefonlardan beşi orijinal, üçü replikadır.
C) Lale ve Kader C marka telefonlardan satın almıştır.
D) C marka telefonlardan biri orijinal, biri replikadır.
E) C marka telefonlardan birini satın alan müşteri erkektir.

28. Enver ve Fatih aynı marka ve aynı tür telefonlardan satın aldıysa aşağıdakilerin hangisi kesin olarak yanlıştır?

- A) İki de E marka telefon satın almıştır.
B) Aldıkları telefonlar orijinal değildir.
C) İsmail B marka bir telefon satın almıştır.
D) Harun D marka bir telefon satın almıştır.
E) Gazanfer E marka bir telefon satın almıştır.

29. Aynı marka telefonun orijinalini Harun, replikasını İsmail satın aldıysa aşağıdakilerin hangisi kesin olarak yanlıştır?

- A) İsmail E marka telefon satın almamıştır.
B) Harun D marka telefon satın almamıştır.
C) Gazanfer D marka telefon satın almamıştır.
D) Enver E marka telefon satın almamıştır.
E) Harun B marka telefon satın almamıştır.

30. I. Enver ve İsmail'in aldıkları telefonların markaları farklıdır.

II. Harun B marka telefon satın almıştır.

III. Fatih ve Gazanfer'in aldıkları telefonların markaları aynıdır.

Bu bilgilere göre telefon satın alanların toplam kaçının aldığı telefonun markası kesin olarak söylenebilir?

- A) 4 B) 5 C) 6 D) 7 E) 8

31. $8 - \frac{9}{2 - \frac{5}{7}}$

işleminin sonucu kaçtır?

- A) 1 B) 2 C) 3 D) 4 E) 5

32. $\boxed{x} \rightarrow \boxed{x^2} \rightarrow \boxed{x^3} \rightarrow \boxed{x^4}$
 $y_1 \quad y_2 \quad y_3 \quad y_4$

- x asal olmayan bir rakamdır.
- $y_1, y_2, y_3,$ ve y_4 ten her biri üstlerindeki karelerin içinde yer alan sayıların tam sayı bölen sayısını göstermektedir.

Buna göre, $y_1 + y_2 + y_3 + y_4$ toplamının en büyük değeri kaçtır?

- A) 62 B) 72 C) 84 D) 96 E) 108

33. a, b ve c birer rakamdır.

$$3,04 = c + \frac{b}{50} + \frac{a}{100}$$

olduğuna göre, a + b + c toplamının alabileceği farklı değerler toplamı kaçtır?

- A) 20 B) 18 C) 15 D) 13 E) 12

34. n bir doğal sayıdır.

$$\frac{(n+1)!}{(n-1)!} - \frac{n!}{(n-2)!} = 16$$

olduğuna göre, n kaçtır?

- A) 5 B) 6 C) 7 D) 8 E) 9

35. $\frac{x+4}{x-2} - \frac{3}{x-3} = \frac{4}{3} - \frac{x}{x-3}$

denkleminin çözüm kümesi aşağıdakilerden hangisidir?

- A) $\{-7\}$ B) $\{-2\}$ C) $\{2\}$
D) $\{7\}$ E) \emptyset

36. A ve B pozitif tam sayıdır.

$$\text{OBEB}(A, B) = 12$$

$$\text{OKEK}(A, B) = 180$$

olduğuna göre, A + B toplamı en az kaçtır?

- A) 80 B) 84 C) 96 D) 108 E) 120

37. $|2x - 9| = x - 6$

denkleminin çözüm kümesi aşağıdakilerden hangisidir?

- A) $\{3\}$ B) $\{5\}$ C) $\{3, 5\}$
D) $\{-1, 2\}$ E) \emptyset

38. a ve b birer tam sayıdır.

$$-4 \leq a < 7$$

$$-3 < b < 8$$

olduğuna göre, $2a - 3b$ farkının alabileceği en büyük tam sayı değeri kaçtır?

- A) 12 B) 14 C) 16 D) 18 E) 20

39. $\sqrt{2^8 - 2^5 + 1}$

işleminin sonucu kaçtır?

- A) 7 B) 15 C) 31 D) 63 E) 127

40. $a = 2^{1-m}$
 $b = \frac{2^m - 1}{2^{-m}}$

olduğuna göre, b nin a türünden ifadesi aşağıdakilerden hangisidir?

- A) $\frac{4-2a}{a^2}$ B) $\frac{2-4a}{a^2}$ C) $\frac{a-2}{a^2}$
D) $\frac{a^2}{2-a}$ E) $\frac{a^2}{a-2}$

41. $\frac{(x-3) \cdot (x^2-1) \cdot x^2 - 2x - 3}{x^2 - 3x + 9} \cdot \frac{x^2 - 2x - 3}{x^3 + 27}$

ifadesinin sadeleştirilmiş hali aşağıdakilerden hangisidir?

- A) $(x-2) \cdot (x+3)$
B) $(x-1) \cdot (x+3)$
C) $(x+1) \cdot (x-3)$
D) $(x+3) \cdot (x+3)$
E) $(x+2) \cdot (x+3)$

42. ve 43. soruları aşağıdaki bilgilere göre cevaplayınız.

192 kişinin katılacağı bir balo için bir salonda oturma planı düzenlenecektir.

- Balo için kullanılacak masaların tümü tamamen dolu olacaktır.
- Balo için sadece 3 kişilik ya da 4 kişilik masalar kullanılacaktır.

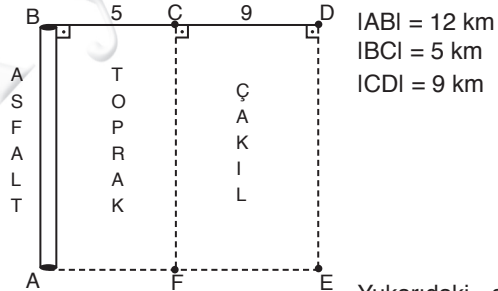
42. Baloda toplam 50 masa kullanıldığına göre, kaç tanesi 4 kişilik masadır?

- A) 42 B) 41 C) 40 D) 39 E) 38

43. Baloda en az kaç masa olabilir?

- A) 42 B) 44 C) 46 D) 48 E) 50

44. ve 45. soruları aşağıdaki bilgilere göre cevaplayınız.



Yukarıdaki şekilde

A ile B arasındaki yol asfalt, AFGB dikdörtgenel bölgesi toprak ve FEDC dikdörtgenel bölgesi çakıllık bir yüzeydir.

Bu bölgede hareket eden bir hareketlinin asfalttaki hızı saatte 4 km, topraktaki hızı saatte 1 km, çakıldaki hızı saatte 3 km dir.

44. A noktasından yola çıkan hareketli C noktasına en az kaç saatte varır?

- A) 8 B) 9 C) 10 D) 11 E) 12

45. A dan yola çıkan hareketli önce B noktasına uğramak şartıyla D noktasına en az kaç saatte gider?

- A) 9 B) 10 C) 11 D) 12 E) 13

46. Bir benzin deposunun $\frac{2}{3}$ ü benzin ile doludur.

Depodaki benzinin $\frac{1}{5}$ i kullanılıncaya depoda 64 litre benzin kalıyor.

Buna göre, bu deponun tamamı kaç litre benzin alır?

- A) 90 B) 100 C) 120 D) 150 E) 180

47. Ahmet, bir kitabın yarısını günde 12 şer sayfa okuyarak, diğer yarısını günde 10 ar sayfa okuyarak bitiriyor.

Ahmet, bu kitabı toplam 22 günde bitirdiğine göre, kitap kaç sayfadır?

- A) 120 B) 160 C) 180 D) 240 E) 360

48. ➤ İkbal ile abisinin doğum yıllarının sayısal farkı A, sayısal toplamı B dir.

➤ İkbal, abisinin bugünkü yaşına geldiğinde abisinin yaşı 6A olacaktır.

Buna göre, bugünün yıl olarak karşılığı aşağıdaki ifadelerden hangisidir?

- A) $\frac{B+9A}{2}$ B) $\frac{2B-9A}{2}$ C) $\frac{B+2A}{2}$
D) $\frac{2B+7A}{2}$ E) $\frac{B+7A}{2}$

49. $\frac{x}{4}$ sayısının yüzde kaç $\frac{x}{20}$ dir?

- A) 10 B) 20 C) 30 D) 40 E) 50

50. ve 51. soruları aşağıdaki bilgilere göre cevaplayınız.

Yukarıda verilen ve kenar uzunlukları 4 cm ve 6 cm olan dikdörtgen eş birim karelere bölünmüştür.

50. Şekilde kaç tane dikdörtgen vardır?

- A) 156 B) 192 C) 210 D) 240 E) 264

51. Şekildeki kenar uzunlukları 2 cm ve 3 cm olan kaç tane dikdörtgen vardır?

- A) 18 B) 22 C) 24 D) 28 E) 32

52. 21 kişilik bir sınıfta İngilizce bilen herkes Almanca da bilmektedir.

Bu sınıfta sadece Almanca bilen 8 kişi, her iki dili de bilmeyen 5 kişi olduğuna göre, İngilizce bilen kaç kişi vardır?

- A) 4 B) 5 C) 6 D) 7 E) 8

53. $A = \{0, 1, 2, 3, 4, 5\}$ kümesinin elemanları kullanılarak rakamlarından sadece bir tanesi 2 olan üç basamaklı kaç farklı tek sayı yazılabilir?

- A) 36 B) 33 C) 30 D) 27 E) 24

54. Gerçek sayılar kümesi üzerinde tanımlı bir Δ işlemleri, her a ve b gerçel sayısı için

$$a \Delta b = a + b + 2 (b \Delta a)$$

eşitliğini sağlıyor.

Δ işleminin değişme özelliği olduğuna göre, $20 \Delta (-10)$ işleminin sonucu kaçtır?

- A) 20 B) 15 C) 10 D) 0 E) -10

55.-57. soruları aşağıdaki bilgilere göre cevaplayınız.

Aşağıdaki tabloda bir kekin yapımında kullanılan malzemelerin ağırlıkları ile yüzdeleri verilmiştir.

Malzemeler	Yüzdesi	Ağırlığı (gram)
Un	%12	
Süt	%28	
Şeker		100
Kakao	%14	
Vanilya		15

55. Bu kekin yapımında kaç gram un kullanılmıştır?

- A) 15 B) 20 C) 30 D) 35 E) 40

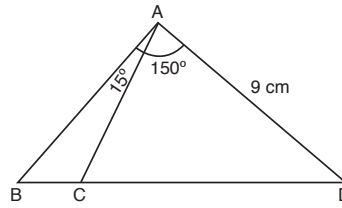
56. Bu kekin yapımında kullanılan süt miktarı, kakao miktarından kaç gram fazladır?

- A) 25 B) 35 C) 40 D) 45 E) 50

57. Bu kekin yapımında kullanılan süt miktarı, kakao miktarından yüzde kaç fazladır?

- A) 40 B) 50 C) 75 D) 100 E) 150

58.

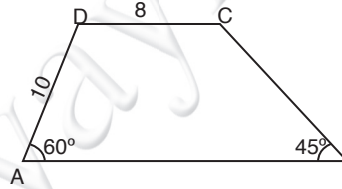


ABD üçgeninde
 $|CD| = 2 \cdot |BC|$
 $m(\widehat{CAD}) = 150^\circ$
 $m(\widehat{BAC}) = 15^\circ$
 $|AD| = 9 \text{ cm}$

Yukarıdaki verilere göre, $|AC|$ kaç cm dir?

- A) 1 B) 2 C) 3 D) 4 E) 6

59.



ABCD yamuk
 $|DC| = 8 \text{ cm}$
 $|AD| = 10 \text{ cm}$
 $m(\widehat{DAB}) = 60^\circ$
 $m(\widehat{ABC}) = 45^\circ$

Yukarıdaki verilere göre, ABCD yamuğunun alanı kaç cm^2 dir?

- A) $\frac{75 + 100\sqrt{3}}{2}$
 B) $\frac{105\sqrt{3} + 75}{2}$
 C) $\frac{75 - 105\sqrt{3}}{2}$
 D) $\frac{5\sqrt{3} + 75}{2}$
 E) $\frac{105 - 5\sqrt{3}}{6}$

60. Dik koordinat düzleminde merkezi x ekseninde bulunan ve dik koordinat düzleminde orijin ile (2, 4) noktası üzerinden geçen çemberin yarıçapı kaç birimdir?

- A) 5 B) 6 C) 7 D) 8 E) 9



1. Uygurlardan;

- I. minyatür
- II. yazılı eser
- III. fresko

yukarıdakilerden hangileriyle ilgili örnekler günümüze ulaşmıştır?

- A) Yalnız I B) Yalnız II C) Yalnız III
D) I ve II E) I, II ve III

2. 10 ile 13. yüzyıllar arasında Batı Türkistan'da inşa edilen Türk - İslami eserler aşağıdakilerden hangisinden kalmıştır?

- A) Uygurlar
- B) Türgişler
- C) Karahanlılar
- D) Sasaniler
- E) Harzemşahlar

3. Aşağıdaki medreselerden hangisi rasathane olarak inşa edilmiştir?

- A) Karatay
- B) Cacabey
- C) Gök
- D) İnce Minareli
- E) Hatuniye

4. Yıldırım Bayezid'in ortadan kaldırdığı

- I. Karamanoğlu
- II. Aydınoğlu
- III. Menteşoğlu

beyliklerinden hangileri Ankara savaşından sonra yeniden kurulmuştur?

- A) Yalnız I B) Yalnız II C) Yalnız III
D) I ve II E) I, II ve III

5. Aşağıdakilerden hangisinin Osmanlı'dan bağımsızlığını kazanmasında Rusya'nın doğrudan etkisi olduğu savunulamaz?

- A) Arnavutluk
- B) Yunanistan
- C) Bulgaristan
- D) Romanya
- E) Sırbistan

6. Osmanlı Devletinde kamuya ait mimari faaliyetleri

- I. Hassa Mimarlar Ocağı
- II. Ebniye-i Hassa Müdürlüğü
- III. Şehreminiği

gibi kurumlardan hangileri tarafından yürütülmüştür?

- A) Yalnız I B) Yalnız II C) Yalnız III
D) I ve II E) I, II ve III

7. Enderun mektebinin en yüksek kısmı aşağıdakilerden hangisidir?

- A) Doğancı koğuşu
- B) Seferli odası
- C) Has oda
- D) Kiler odası
- E) Hazine odası

8. Tanzimat devrinde Fransız akademisi örnek alınarak oluşturulan kurum aşağıdakilerden hangisidir?

- A) Meclis-i vala
- B) Encümen-i Dâniş
- C) Meclis-i Mahsusa
- D) Meşayih
- E) Encümen-i Tarih-i Osmani

9. I. Akşemseddin
II. Sabuncuoğlu Şerafeddin
III. Altunizade

Yukarıdakilerden hangileri Osmanlıda tıp alanında öne çıkan isimler arasında yer almaktadırlar?

- A) Yalnız I
- B) Yalnız II
- C) Yalnız III
- D) II ve III
- E) I, II ve III

10. Tanzimat Fermanı'nın yeterli bulunmaması

- I. Kanunuesasi
- II. Islahat Fermanı
- III. Sened-i İttifak

gibi belgelerden hangilerinin yayımlanmasına neden olduğu savunulabilir?

- A) Yalnız I
- B) Yalnız II
- C) I ve II
- D) II ve III
- E) I, II ve III

11. Aşağıdakilerden hangisi İttihat ve Terakki fırkası yerine kurulmuştur?

- A) Ahrar Fırkası
- B) Osmanlı Demokrat Fırkası
- C) İttihad-ı Muhammedi Fırkası
- D) Hürriyet ve İtilaf Fırkası
- E) Teceddüd Fırkası

12. Erzurum Kongresi'nin sona ermesi ile Sivas kongresinin toplanması arasındaki tarih aralığında meydana gelen en önemli gelişme aşağıdakilerden hangisidir?

- A) İngilizlerin Eskişehir ve Afyona kuvvet göndermeleri
- B) Ankara Valisinin tutumu
- C) Ali Galip Olayı
- D) Batı Anadolu'da kongre faaliyetlerinin olması
- E) İngiliz casuslarının faaliyetleri

13. Gediz Taaruzu'nun

- I. Batı cephesinin bölünmesine
- II. Düzenli ordu tartışmalarının başlamasına
- III. Ali Fuat Paşa'nın görevden alınmasına

durumlarından hangilerine ortam hazırladığı savunulabilir?

- A) Yalnız I
- B) Yalnız II
- C) Yalnız III
- D) I ve III
- E) I, II ve III

14. İtilaf devletleri,

- I. I. İnönü
- II. Eskişehir - Kütahya
- III. Sakarya

Savaşlarından hangilerinin etkileriyle barış teklifinde bulunmuşlardır?

- A) Yalnız I
- B) I ve II
- C) Yalnız III
- D) I ve III
- E) I, II ve III

15. Kurtuluş savaşının zaferle sonuçlanmasında rol oynayan **Büyük Taarruz** sırasında suvari kolordu komutanlığı yapan kişi aşağıdakilerden hangisidir?

- A) Fahrettin Paşa
- B) Ali Hikmet Paşa
- C) Ali İhsan Paşa
- D) Kemaleddin Sami Paşa
- E) Nureddin Paşa

16. I. İstanbulun güvenliği sağlandığı takdirde Boğazlar açılacaktır.
II. Boğazlarla ilgili kararlar ilgili ülkelerle birlikte alınacaktır.

Yukarıdaki kararlar aşağıdakilerden hangisinin kapsamı içindedir?

- A) Montrö sözleşmesi
- B) Boğazlar idaresi yönetmeliği
- C) Misakımilli
- D) Lozanın boğazlarla ilgili hükümleri
- E) Sevr Antlaşması

17. Aşağıdaki eşleştirmelerden hangileri arasında doğrudan bir ilişki olduğu **savunulamaz?**

- A) Anayasal düzene geçilmesi - I. İnönü Savaşı
- B) Dış tanınma sorunun çözülmesi - II. İnönü Savaşı
- C) Meclisin ilk uluslararası belgeyi onaylaması - Ermenistan'la savaş
- D) İtilaf devletlerinin barış teklifini yapmaları - Sakarya Savaşı
- E) Doğu Trakya'nın savaşılmadan alınması - Mudanya Ateşkes Antlaşması

18. I. Ceride-i Resmî
II. Hakimiyet-i Milliye
III. İrade -i Milliye

Yukarıdaki gazetelerden hangileri Milli Mücadele sırasında Temsil Heyeti ve Meclisin resmi veya yarı resmi sesi olmuştur?

- A) Yalnız I
- B) Yalnız II
- C) Yalnız III
- D) I ve II
- E) I, II ve III

19. 1921-1924 yılları arasında yürürlükte kalan **Teşkilat-ı Esasiye** Yasasından yapılan **tek ve en önemli** değişiklik aşağıdaki tarihlerden hangisinde gerçekleştirilmiştir?

- A) 1920
- B) 1921
- C) 1922
- D) 1923
- E) 1924

20. Aşağıdakilerden hangisi 1923-1947 yılları arasında kurulan siyasi partilerin ilk başkanlarından biri **değildir?**

- A) Atatürk
- B) İsmet İnönü
- C) Kazım Karabekir
- D) Fethi Okyar
- E) Celal Bayar

21. Yeni Türk devletinde 1930 - 1939 yılları arasında ekonomi - mali alanda aşağıdakilerden hangisinin meydana geldiği savunulamaz?

- A) Madenlerin devlet denetimine alınması
- B) Planlı kalkınma dönemlerinin başlaması
- C) İthalatın kısıtlanması
- D) Devlet bankacılığının geliştirilmesi
- E) Tarımın "altın yıllarını" yaşaması

22. 1932 de açılan Halkevlerinin aşağıdakilerden hangisi ile ilgili etkinlikte bulunduğu savunulamaz?

- A) Güzel sanatlar
- B) Sosyal yardım
- C) Kütüphane ve yayın
- D) Müzecilik ve sergileme
- E) Fen ve laboratuvar

23. İlke - gelişme ilişkisinin aşağıdakilerden hangisinde doğru verildiği savunulamaz?

- A) Halkçılık köylüye toprak dağıtılması için yasa çıkarılması
- B) Devletçilik - İş Bankasının kurulması
- C) Cumhuriyetçilik - Çok partili deneme girişimleri
- D) Laiklik - Medeni yasanın çıkarılması
- E) Milliyetçilik - Tevhid-i Tedrisat yasasının çıkarılması

24. Aşağıdakilerden hangisi Musul'un kaybedilmesi sürecinde yer alan bir gelişme değildir?

- A) Lozan konferansında konunun çözülmemesi
- B) Haliç Konferansı
- C) Milletler Cemiyetinin sorunu görüşmesi
- D) Şeyh Said İsyanının çıkması
- E) Bölgede halkoylamasının yapılması

25. Musul konusu nedeniyle kopan İngiliz - Türk ilişkilerinin 1930'larda yeniden başlamasında

- I. İtalya
- II. Fransa
- III. Almanya

gibi devletlerden hangilerinin saldırgan politikalarının ortam hazırladığı savunulabilir?

- A) Yalnız I
- B) Yalnız II
- C) Yalnız III
- D) I ve III
- E) I, II ve III

26. Aşağıdakilerden hangisinin Soğuk Savaş Döneminin önemli kilometre taşlarından biri olduğu savunulamaz?

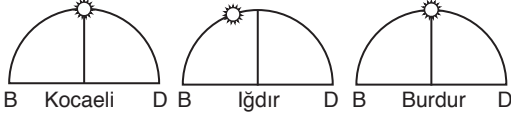
- A) Truman Doktrini'nin hayata geçirilmesi
- B) NATO'nun kurulması
- C) Gorboçov'un SSCB komünist partisi sekreteri olması
- D) Küba krizi
- E) Bağlantısızlar Hareketinin ortaya çıkması

27. I. Versay kısıtlamalarından kurtulmak
II. Almanya dışında yaşayan Almanları sınır içine almak
III. Hayat Sahası'nı oluşturmak

Hitler'in yukarıdaki hedeflerden hangilerini gerçekleştirme çalışması büyük devletleri harekete geçmiştir?

- A) Yalnız I
- B) Yalnız II
- C) Yalnız III
- D) I ve II
- E) II ve III

28. Gün içinde Güneş'in ufuk düzlemi üzerindeki konumu yerel saat hakkında bilgi verir. Gün ilerledikçe yerel saatte ilerler.



23 Eylül tarihinde üç kentte aynı anda yaşanan Güneş'in konumu yukarıda verilmiştir.

Bu merkezlerle ilgili olarak aşağıda verilen bilgilerden hangisine ulaşamaz?

- A) Kocaeli ve Burdur'un yerel saatleri aynıdır.
 B) Iğdır'ın yerel saati Kocaeli'den daha ileridir.
 C) Burdur'da Güneş Iğdır'dan sonra batar.
 D) Üç kentimizde aynı enlem üzerindedir.
 E) Iğdır ile Başlangıç Meridyeni arasındaki zaman farkı Burdur'a göre daha fazladır.

29. Türkiye fiziki haritası üzerinde inceleme yapan bir araştırmacı Doğu Karadeniz kıyılarında kısa mesafelerde renklerin daha fazla değişiklik gösterdiğini gözlemlemiştir.

Buna göre, Doğu Karadeniz Bölümü ile ilgili;

- I. Yol yapım maliyeti yüksektir.
 II. Volkan oluşumlar yaygın olarak görülür.
 III. Kısa mesafelerde iklim ve bitki örtüsü çeşitliliği fazladır.
 IV. Arazi dağlık ve engebeldir.

Bilgilerinden hangilerine ulaşamaz?

- A) I ve II
 B) Yalnız II
 C) II ve III
 D) I ve IV
 E) Yalnız IV

30. Aşağıda Türkiye'de bazı göllerle ilgili bilgiler verilmiştir.

- Güney Marmara'da tektonik oluşumlu bir göl olup, aynı zamanda kuş gözlemciliği turizmi de yapılmaktadır.
- Göller Yöresi'nde yer alan Çarşamba Çayı ile Konya kapalı havzasının sulanmasında kullanılan karma yapılı bir göldür.
- Doğu Karadeniz Bölümü'nde heyelan setleşmesi sonucu oluşmuş olup, üzerinde hidroelektrik santrali bulunmaktadır.
- Yukarı Fırat Bölümü'nde yer alan tektonik oluşumlu bir göl olup, Dicle Nehri'ne bir ayakla bağlanmaktadır.

Yukarıda bazı özellikleri verilen göller eşleştirildiğinde, aşağıdaki göllerden hangisi dışta kalır?

- A) Van Gölü
 B) Tortum Gölü
 C) Beyşehir Gölü
 D) Manyas Gölü
 E) Hazar Gölü

L
İ
D
E
R

Y
A
Y
I
N
L
A
R
I

31. "Türkiye aktif deprem kuşağı üzerinde yer alır" diyen bir araştırmacı, bu tezini aşağıda verilen bilgilerden hangisiyle desteklemelidir?

- A) Dağların doğu-batı yönünde uzanmasıyla
 B) Toprak türlerinin farklı olmasıyla
 C) Yeraltı sıcak su kaynaklarının yaygın olmasıyla
 D) Masif arazilerin bulunmasıyla
 E) Yer şekillerinin çeşitli olmasıyla

32. Aşağıda Antalya ile İzmir'in yıllık ortalama sıcaklık ve yağış miktarları verilmiştir.

	Yıllık ortalama sıcaklık (°C)	Yıllık yağış miktarı (mm)
Antalya	18,7	1070
İzmir	17,3	700

Antalya ve İzmir aynı iklim kuşağında yer almasına rağmen sıcaklık ve yağış koşullarının farklı olmasının nedeni aşağıdakilerden hangisidir?

- A) Enlem-Yükselti
B) Karasallık-Dağların uzanışı
C) Enlem-Karasallık
D) Bakı-Enlem
E) Enlem-Dağların uzanışı

33. Türkiye'de yazları sıcak ve kurak, kışları ılık ve yağışlı, kış sıcaklık ortalaması 10°C üzerinde, yıllık yağış miktarı 1000 mm ye yakın olan bir iklim bölgesinde aşağıdaki ekonomik etkinliklerden hangisinin yapılması **daha zordur?**

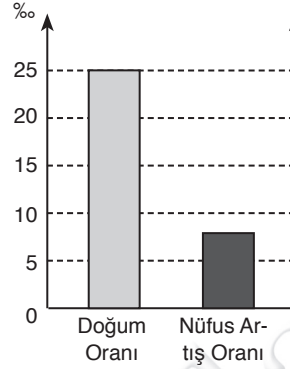
- A) Kıyı turizmi
B) Büyükbaş mera hayvancılığı
C) Seracılık
D) Turunçgil tarımı
E) Küçükbaş mera hayvancılığı

34. Türkiye'de nüfusun dağılışı incelendiğinde son derece düzensiz dağıldığı görülmektedir.

Bu duruma etki eden faktörler arasında aşağıdakilerden hangisinin etkisi daha azdır?

- A) İklim
B) Matematik konum
C) Yükselti
D) Yer şekilleri
E) Toprak verimliliği

35. Aşağıdaki grafik, Türkiye'deki bir kentin iki nüfus sayımı dönemi arasındaki doğum ve nüfus artış oranlarını göstermektedir.



Buna göre, bu kentle ilgili olarak;

- I. İl dışından göç almıştır.
II. Ölüm oranı yüksektir.
III. Nüfus yoğunluğu azdır.
IV. İl dışına göç vermiştir.

Yorumlarından hangilerine ulaşılabilir?

- A) I ve II B) I ve III C) Yalnız III
D) II ve IV E) III ve IV

36. Türkiye'de tarımda işgücüne fazla ihtiyaç duyulan kentlere mevsimlik işçi göçleri yaşanmaktadır.

Buna göre aşağıdaki kentlerden hangisine tarım amaçlı mevsimlik göç yaşandığı söylenmez?

- A) Ordu
B) Adana
C) Kütahya
D) Manisa
E) Aydın

37. Türkiye'de tarla bitkilerinin %75 inden fazlası tahıl tarımına ayrılmıştır.

Bu durumda aşağıdakilerden hangisinin etkisi görülmemiştir?

- A) Halkın temel besin maddesi olması
B) Makineli tarıma uygun olması
C) Birim alandan alınan ürünün yüksek olması
D) Uzun süre depolanabilmesi
E) Türkiye iklim şartlarında kolaylıkla tarımın yapılabilmesi

38. Çiftçinin elverişsiz piyasa şartlarından olumsuz etkilenmemesi için devlet bazı ürünlerde destekleme alımı yapmaktadır. Destekleme alımı "Devletin çiftçinin malını önceden açıkladığı taban fiyat üzerinden alma garantisi" vermesidir.

Buna göre aşağıdakilerden hangisi devletin bazı ürünlerde destekleme alımı yapmasının amaçları arasında gösterilemez?

- A) Üreticinin fiyatlardaki ani iniş çıkışlardan zarar görmemesi
B) Üreticinin ürettiği malın elde kalmaması
C) Ürünlerin uygun fiyatlarla piyasaya sunulması
D) Ürünlerin piyasa koşullarına göre fiyatlandırılması
E) Aynı tarım ürününün ülke genelinde benzer fiyatlarla satılması

39. Pamuk yetiştirme döneminde bol su, olgunlaşma döneminde sıcak ve kurak iklim ister.

Buna göre yetiştirme koşulları verilen pamuk bitkisi aşağıdaki kentlerden hangisinde ekonomik değer taşımaz?

- A) Şanlıurfa
B) Iğdır
C) Adana
D) Samsun
E) Aydın

40.



Yukarıdaki haritada taralı olarak gösterilen bölgelerde yapılan hayvancılık faaliyetlerinden hangisi doğal koşullardan etkilenmez?

- A) I B) II C) III D) IV E) V

41. Türkiye'de kurulan elektrik santrallerinden hangisinin yer seçiminde jeolojik yapının etkisi bulunmamaktadır?

- A) Hamitabad doğalgaz santrali
B) Çatalağzı termik santrali
C) Germencik jeotermal santrali
D) Yatağan termik santrali
E) Karakaya hidro-elektrik santrali

42. Türkiye'de gerek yükseltinin fazla olması gerekse yer şekillerinin engebeli olması ulaşımı olumsuz etkilemektedir.

Türkiye'de son yıllarda yapılan aşağıdaki ulaşım ile ilgili gelişmelerden hangisinde yer şekillerinin olumsuz etkisi bulunmaz?

- A) Konya-Ankara Hızlı Tren Hattı
B) Marmaray
C) Ordu-Giresun Havaalanı
D) Karadeniz Sahil Otoyolu
E) Ankara-İstanbul Otoyolu

43. Aşağıdaki tabloda, Türkiye'de bazı yıllarda ihracatın ithalatı karşılama oranları verilmiştir.

Yıl	İhracatın ithalatı karşılama oranı / (%)
1950	92,2
1970	62,1
1990	58,1
2000	51
2010	61,4
2014	65,1

Yalnızca bu bilgilerden yararlanarak aşağıdakilerden hangisine ulaşılamaz?

- A) Verilen yıllarda dış ticarete sürekli açık verildiğine
B) Verilen yıllarda ihracatın ithalattan az olduğuna
C) Verilen yıllar içinde dış ticaret açığının en fazla olduğu yıla
D) Verilen yıllarda ihracatın ithalatı karşılama oranının değişkenlik gösterdiğine
E) Verilen yıllar içinde dış ticaret hacminin en yüksek olduğu yıla

44. Türkiye’de turizmin çeşitlenmesinde yer şekillerinin çeşitli olmasının büyük etkisi bulunmaktadır.

Buna göre, aşağıdaki turizm etkinliklerinden hangisinin gelişmesinde yer şekillerinin etkisi olmamıştır?

- A) Rafting turizmi
- B) Yamaç paraşütü
- C) Yayla turizmi
- D) Mağara turizmi
- E) Kaplıca turizmi

45. İnsanlar binlerce yıldan itibaren doğadan ihtiyaçları doğrultusunda yararlanmışlar ve zaman zaman doğal süreçlere müdahale etmişler.

Buna göre aşağıdakilerden hangisi Türkiye’de insanların doğal çevreyi değiştirmeye yönelik faaliyetleri arasında gösterilemez?

- A) İç Anadolu Bölgesi’nde kırsal kesim ev tiplerinin kerpiçten yapılması
- B) Akdeniz Bölgesi’nde seracılığın önemli bir ekonomik faaliyet olması
- C) Çoruh Nehri havzasında hidro-elektrik üretiminin yaygın olarak yapılması
- D) Mavi Tünel Projesi’nin hizmete girmesiyle Konya Ovası’nda tarımın çeşitlenmesi
- E) Urfa Sulama Tüneli’nin açılmasıyla bu yörede nadas tarımının azalması

46. Hukuk kurallarına uymamakta veya yükümlülüklerini yerine getirmemekte ısrar eden kişilerin devlet gücü ile o hukuk kuralına uydurulması ya da yükümlülüğünü yerine getirmesinin sağlanması, aşağıdaki maddi yaptırım türlerinden hangisidir?

- A) Hükümsüzlük
- B) Cebr-i icra
- C) İptal
- D) Butlan
- E) Ceza

- 47. I. Sebepsiz zenginleşme
- II. Haksız fiil
- III. İbra
- IV. Hukuki işlem
- V. Tereke

Yukarıdakilerden hangileri, borcun kaynaklarından biridir?

- A) Yalnız I
- B) Yalnız IV
- C) I ve II
- D) I, II ve IV
- E) II ve V

48. Alper’in kardeşi Yağmur’un kızı Bade ile arasında olan soy bağı ve hısımlık derecesi aşağıdakilerden hangisinde doğru olarak verilmiştir?

- A) 1. derece yan soy kan hısımlığı
- B) 2. derece üst soy kan hısımlığı
- C) 2. derece alt soy kan hısımlığı
- D) 3. derece alt soy kan hısımlığı
- E) 3. derece yan soy kan hısımlığı

49. Cumhurbaşkanlığı Genel Sekreterliği aşağıdaki anayasal düzenlemelerden hangisi ile kurulmuştur?

- A) 1924 Anayasası ile
- B) 1961 Anayasası ile
- C) 1961 Anayasası’nda yapılan 1971-73 değişiklikleri ile
- D) 1982 Anayasası ile
- E) 1982 Anayasası’nda yapılan 1987 değişikliği ile

50. 1982 Anayasası'na göre, aşağıdakilerden hangisi TBMM İçtüzüğü ile ilgili yanlış bir bilgidir?

- A) Resmi Gazete'de yayımlanarak yürürlüğe girer.
- B) Kural olarak parlamento kararı ile değiştirilir.
- C) Cumhurbaşkanı imzasına sunulur.
- D) Yargısal denetimi başvuru üzerine Anayasa Mahkemesince yapılır.
- E) Şekil yönünden itirazı, Resmi Gazete'de yayımlandıktan sonra 60 gün içinde mümkündür.

51. 1982 Anayasası'na göre, Bakanlar Kurulu'nun kurulduktan sonra TBMM'den güvenoyu alabilmesi için gereken çoğunluk aşağıdakilerden hangisidir?

- A) Toplantıya katılanların salt çoğunluğu
- B) Meclis üye tam sayısının salt çoğunluğu
- C) Meclis üye tam sayısının 2/3'ü
- D) Meclis üye tam sayısının 3/5'i
- E) Meclis üye tam sayısının 3/4'ü

52. 1982 Anayasası'na göre, vergi ve benzeri mali yükümlülükler konusunda Danıştay ile Sayıştay kararları arasında uyuşmazlık yaşanırsa aşağıdakilerden hangisi geçerlidir?

- A) Anayasa Mahkemesinin kararı esas alınır.
- B) Danıştayın kararı esas alınır.
- C) Vergi mahkemelerinin benzer konularda vermiş olduğu kararlara göre karar verilir.
- D) Uyuşmazlık konusu, Uyuşmazlık Mahkemesine sunulur.
- E) Bölge idare mahkemesinin vereceği karar esas alınır.

53. 1982 Anayasası'na göre, Cumhurbaşkanı başkanlığında toplanan Bakanlar Kurulu, aşağıdaki nedenlerden hangisi ile sıkıyönetim ilan ettiği takdirde dört aylık uzatma sınırı aranmaz?

- A) Olağanüstü halden daha vahim şiddet olaylarının varlığı
- B) Seferberlik
- C) Ayaklanma
- D) Devlete ve Cumhuriyete karşı eylemli bir kalkışma
- E) Savaş

54. Aşağıdakilerden hangisi Türkiye Cumhuriyeti İdaresinin görevleri arasında yer almaz?

- A) Milli güvenliğin korunması
- B) Kamu hizmetleri
- C) Yasama faaliyetleri
- D) Planlama faaliyetleri
- E) Özendirme ve destekleme faaliyetleri

55. Türkiye'nin ilk volkanik kökenli doğal mağarası Aralık 2015'te hangi ilimizde bulunmuştur?

- A) Hatay
- B) Adana
- C) Şanlıurfa
- D) Van
- E) Antalya

L
İ
D
E
R

Y
A
Y
I
N
L
A
R
I

56. Amerikan Time Dergisi tarafından "2015 Yılı'nın Kişisi" olarak aşağıdakilerden hangisi seçilmiştir?

- A) Barack Obama
- B) Vladimir Putin
- C) Hillary Clinton
- D) Recep Tayyip Erdoğan
- E) Angela Merkel

59. Paris'teki Louvre Müzesine hayatta iken resmi kabul edilen ilk Türk ressamı olan ve daha çok natüremort resimleri ile bilinen 19.yüzyılda doğmuş olan ünlü Türk ressamı aşağıdakilerden hangisidir?

- A) Hoca Ali Rıza
- B) Şeker Ahmet Paşa
- C) Osman Hamdi Bey
- D) İbrahim Çallı
- E) Bedri Rahmi Eyüboğlu

57. NATO üyesi ülkeler arasındaki işbirliğini geliştirme amacıyla 2015 yılında İzmir ilinin Seferhisar ilçesinde düzenlenen fiili amfibi tatbikatın adı aşağıdakilerden hangisidir?

- A) EGEMEN - 2015
- B) EBUR - 2015
- C) NATO SEAFORCE - 2015
- D) GUARD - 2015
- E) AGEAN - 2015

60. Rusya'nın üyeliğinin askıya alınması ile birlikte gelişmiş yedi ülke olarak toplantılarına devam eden G-7'nin 2016 Dönem Başkanlığı'nı aşağıdaki ülkelerden hangisi devralmıştır?

- A) Almanya
- B) İtalya
- C) Kanada
- D) Japonya
- E) İngiltere

58. 12 Nisan 1961 yılında açık uzaya çıkarak dünya yörüngesinde tur atmış olan ilk insan aşağıdakilerden hangisidir?

- A) Valentina Tereshkova
- B) Neil Armstrong
- C) Yuri Gagarin
- D) Aleksei Leonov
- E) German Titov

L
İ
D
E
R

Y
A
Y
I
N
L
A
R
I



DERSLER FLASH DİSK'TE



UZAKTAN EĞİTİM



KİTAP MARKET

Bir İlk, 2016 Ders Çekimleri Flash Disk' te



- ✓ GENEL YETENEK - GENEL KÜLTÜR
- ✓ ÖABT
- ✓ EĞİTİM BİLİMLERİ
- ✓ KPSS - A



www.lideryayin.com

Uzaktan Eğitimde Güncel 2016 Çekimi Videolar egitim.web.tr'de



- ✓ KPSS - A
- ✓ EĞİTİM BİLİMLERİ
- ✓ ÖABT
- ✓ GENEL YETENEK - GENEL KÜLTÜR

egitim.web.tr

DENEME SINAVLARI & KONU TARAMA TESTLERİ HEDİYE

İnteraktif eğitimde yeni adres  egitim.web.tr

GYGK'ya Ait Herşey Facebook'ta

Tarih, Coğrafya, Vatandaşlıkda Türkiye'nin Bilgi ve Soru Paylaşımında En Faydalı Sayfa İlk-En-Son KPSS'nin Şifreleri ve Güncel Bilgiler



www.facebook.com/groups/ilkenson



Tarih Video ve Soru Paylaşımı İçin Emre Hoca İle Tarih Sayfası



www.facebook.com/emreozbeyiletarih



Matematik İçin Tüm Tüyolar ve Birebir Soru Çözüm Sayfası Güven Hoca İle Matematik



www.facebook.com/groups/guvehocailematematik



Tuna Mah. 5501 Sok. No: 6 Kat: 4 Çamdibi / İZMİR

Tel: 0 232 435 65 50 Fax: 0 232 435 65 23

✉ kurumsal@lideryayin.com ☎ 0 530 930 70 15

**2016'da
110 ÇEŞİT YAYINLA
KPSS'ye HAZIRIZ!
* Detaylı bilgi için kitap marketimiz
www.lideryayin.com**

Eğitimde lider, yayında lider.