



2016

KAMU PERSONEL SEÇME SINAVI (LİSANS)

**GENEL YETENEK
GENEL KÜLTÜR TESTİ**

Deneme Sınavı • 5

**KONU ANALİZLİ
SORU ÇÖZÜMLEME TEKNİĞİ
KİTAPÇIĞI**

© COPYRIGHT YARGI YAYINEVİ

Yayım Hakkı

Bu kitabın her türlü yayım hakkı Yargı Basın Yayın Dağıtım Ltd. Şti'ye aittir.

Bu kitabın baskısından 5846 ve 2936 sayılı Fikir ve Sanat Eserleri Yasası hükümleri gereğince kaynak gösterilerek bile olsa alıntı yapılamaz, herhangi bir şekilde çoğaltılamaz, genel ağ ve diğer elektronik ortamlarda yayımlanamaz.



Başarılar dileriz...



KPSS

GENEL YETENEK

www.yargiyayinevi.com

1. Parçada geçen “hayatı ıskalamak” sözünün bize çağrıştırdığı anlam, “üzerinde durmamak, atlamak, önem vermemek, önemsememek, pas geçmek, ihmal etmek”tir. A seçeneğindeki “Farkında olmadan birçok şeyi ihmal ediyoruz.” cümlesiyle “yapmamız gerekenleri çeşitli nedenlerle yapmadığımız, ertelediğimiz, önemsemediğimiz, ihmal ettğimiz” anlamı veriliyor.

CEVAP: A

2. Cümleyi boş bırakılan yerlere gelebilecek sözcükleri bulabilmek için dikkatle okuduğumuzda ilk boş bırakılan yere, cümledeki “bin bir” sözcüğünü göz önünde bulundurunca “bir” sözcüğünün getirilmesi gerektiğini anlıyoruz. Bu durumda cümleyi “Gerçek sanatçı bin ikinciyi arayan, böyle bir yürekliliği gösteren kişidir.” şeklinde devam ettirip bitiriyoruz. O hâlde cümlede boş bırakılan yerlere B seçeneğinde verilenler getirilmelidir.

CEVAP: B

3. Öncülde verilenleri belirleyelim:
- Hollanda maçı kaybetmiştir.
 - Millî Takım’ımız maçı kazanmıştır.

Bu durumda öncüldeki cümleden kesin olarak varılacak “Millî Takım’ımız maçı kazanmıştır.” yargısı D seçeneğinde verilmiştir.

CEVAP: D

4. Numaralanmış cümleleri, cümlelerde verilen olayları oluş sırasına göre sıraladığımızda I. cümledeki ilk cümle olması gerektiğini anlıyoruz. İlk cümlede söz söyleyen kişi, “herkesin alışık olmadığı bir evde büyüdüğünü” söylüyor. V. cümlede bu alışık olmayan şeyin ne olduğunu belirtiyor. Bu da “babasının ve ağabeyinin resimle iç içe olması”dır. Arkasından IV. cümleyle de “dayısının odasında sürekli yazdığını” söylüyor. Bu anlattıklarını II. cümleyle “Yani evin içinde resim, kitap, dergi hep vardı.” şeklinde derleyip toparlıyor. II. cümleden de kendisiyle ilgili bir çıkarıma vararak düşüncelerini III. cümleyle sonuçlandırıyor. Bu durumda sıralama “I - V - IV - II - III” şeklinde olduğuna göre, baştan ikinci cümle, V. cümle oluyor.

CEVAP: E

5. Öncüldeki cümlede anlatılmak isteneni belirleyelim:

Nedenler:

- Kuşaklararası çatışmalar
- Baskılar

Sonuç:

- Gençler erken yaşta yaşlanıyor.
- Gençler toplumdaki rollerine bürünüyor. (Büyükler gibi davranışlar sergilemeye başlıyor.)

Verilen bu neden-sonuç ilişkisi bizi C seçeneğindeki “Baskılar, gençlerin çok erken yaşlarda büyüklerle benzemesine neden olmaktadır.” yargısına götürüyor.

CEVAP: C

6. Öncüldeki cümlede Wagner'in Almanya'da ilk operalarını sahneye koyduğu zaman anlaşılmadığı ve ıslıklandığı, kendisini ilk anlayanın da yine kendi gibi devrinde anlaşılmamış bir şair olan Baudelaire'nin olduğu belirtilmiştir. O hâlde öncüldeki cümlede anlatılmak istenen, "Yaşadığı dönemde anlaşılmayan, değeri bilinmeyen bir sanatçıyı ancak yine kendi gibi değeri bilinmeyen bir başka sanatçı anlayabilir." Bu da D seçeneğinde verilmiştir.

CEVAP: D

7. Seçeneklerde verilenleri parçadaki numaralanmış cümlelerde arayalım:

II. cümlede verilen "Yahya Kemal gerçekten büyük şair(dir)." yargısı B seçeneğini; III. cümlede verilen "Türkçenin Türkçe şiirsel sözün önünü açmış emsalsiz bir sanatçı." yargısı II. cümleye sorulan "neden-niçin" sorularına bir cevap niteliğinde olup C seçeneğini; IV. cümledeki "Dıranas'ın ifade ettiği gibi" sözü D seçeneğini, V. cümledeki "Türkçede evrensel insanı şiirleştirmek istemiş yalnızca Türk okuruna değil, evrensel okura da seslenebilecek bir şiir dili kurmuş." sözleri de E seçeneğini doğrulamaktadır. Parçanın I. cümlesinde Tanpınar'la ve Yahya Kemal'le ilgili pek çok kitap yayımlandığı belirtilmiş, ancak bunların şiir kitabı olduğu bilgisi verilmemiştir. Bu kitaplar, şiir kitabından ziyade "eleştiri, inceleme" kitapları niteliğindedir.

CEVAP: A

8. A seçeneğindeki zincirleme ad tamlamasını gösterelim:

Prometheus'un ateşi çalma düşü-n-ün yurd-u

<i>t. yan (b.li ad tam)</i>	<i>t.nan</i>
<i>zin. ad tam.</i>	

Diğer seçenekleri inceleyelim:

B) bu adamın sırrı

b.li ad tam.

C) dağın enginindeki ateş-in simgeleşt-i-yer

sıfat tam.

D) ... gelen ateş-in yalınlanarak yanış-ı

b.li ad tam.

E) ... sunuşu-nun öykü-sü

b.li ad tam.

CEVAP: A

Y
A
R
G
I
Y
A
Y
I
N
E
V
İ

9. Parçadaki numaralanmış sözcükleri yapı bakımından inceleyelim:

I. iste - k = türemiş sözcük

YE

II. bilinç - altı = birleşik sözcük

III. iz - le - n - im = türemiş sözcük

YE YE YE

IV. yaş - a - yış = türemiş sözcük

YE YE

V. öz - le - m = türemiş sözcük

YE YE

CEVAP: B

10. Cümleyi çözümlayelim:

Şiir, bir çılgınlıktır / bir ilanı aşktır, /

Ö1-2-3-4-5 Y1 Y2

sallanan bir yumruktur, / bir ümittir, / bir kurtuluşur.

Y3

Y4

Y5

Görüldüğü gibi cümlede "şiir" öznesi ortaktır. Cümlelerin yüklemeleri birer sıfat tamlaması olup cümleler birer ad cümlesidir. Cümlelerin yüklemeleri ek fiille göre çekimlenmiştir. Cümlelerin öncesi (şiir), bir söz öbeği değildir.

CEVAP: D

11. Seçeneklerdeki cümlelerin öğelerini bulalım:
- A) Ağacın gölgesinde dünyayı / seyredenler / ağaçla konuşmaya / çekinmeyenlerdir.
 Ö
 DT Y
 "Seyredenler"e kadar özne olduğu için cümleyi "dünyayı" dan ayırmak yanlıştır.
- B) Soğuk evlerdeki yoksullara / kurtuluş ülkeleriyle değil, / battaniyelerle / giderler.
 DT ZT
 ZT Y
- C) Öfkemi, / kayalık bir dağın en yüksek tepesinde / saklıyorum, / yıllardır.
 B.li N DT
 Y ZT
- D) Açlığın sesini / hız kesip yavaşlayarak / bastırıyorsun.
 B.li N ZT
 Y
- E) Söz ülkesinde diz çökmüş olanlar / her eşişe / baş koymazlar.
 Ö DT
 Y

CEVAP: A

12. Cümledeki fiilimsileri inceleyelim:

- A) bulunduktan sonra
 Zarf Fiil
- B) bizi yönetenler (yöneten insanlar)
 SF (adlaşmış sf)
- C) Başlamak ... bitirmektir.
 İF İF
- D) İyi bitirmek, iyi başlamadan ...
 İF İF
- E) Kurumuş bir gül vardı ...
 SF ad

CEVAP: B

13. Özel ada dâhil olmayıp tamlama kuran şehir, il, ilçe, belde, köy vb. sözcükler küçük harfle başlar. Bu kurala göre I. cümlede "Çal İlçesi'nde" sözünün yazımı yanlıştır. Cümlede "ilçe" adı özel ada dahil olmadığı için küçük harfle başlamalı ve "nde" eki kesme işaretiyle ayrılmalıdır. Doğrusu "Çal ilçesinde" şeklindedir. Parçadaki numaralanmış diğer cümlelerde herhangi bir yazım yanlışı yoktur.

CEVAP: A

Y
A
R
G
I
Y
A
Y
I
N
E
V
I

14. Parçada ilk yay ayrıca bir açıklama yapılacağı için iki nokta getirilmelidir. ikinci yay ayrıca bir uyarıda bulunduğu için ünlem getirilmelidir. Üçüncü yay ayrıca yargı tamamlandığı için nokta; dördüncü yay ayrıca özneyi ayırmak için virgül, son yay ayrıca da cümle tamamlandığı için nokta getirilmelidir.

CEVAP: B

15. Cümlede bir sözcüğün anlam inceliğine dikkat edilmeden kullanılması anlatım bozukluğuna yol açar. Buna göre, seçenekleri inceleyelim:

- A) "azımsanacak" yerine "küçümsenecek" getirilmeli.
 B) "çizdiği" yerine "çektığı" getirilmeli.
 C) "çekimsen" yerine "çekingen" getirilmeli.
 D) "sonucunda" yerine "sonunda" getirilmeli.
 E seçeneğinde yanlış anlamda kullanılan bir sözcük yoktur.

CEVAP: E

16. Parçanın anlatımıyla ilgili seçeneklerde verilenleri parçada araştırılın:

Parçanın ilk cümlesinde geçen "Telaşlı bir yaralı kuş çırpınıp duruyor." sözüyle insandan doğaya aktarma (kişileştirme) yapılmıştır. "Sonra beyaz bir duman gibi çekilip gidiyor." cümlesiyle benzetme yapılmıştır. "Hayvan pislikleriyle kirli parkelerde bir kaçma, kovalamaca ... Tarlalar, diken dolu tarlalar ..." cümleleri betimleyici ögelere birer örnektir. Parçada gördüğü rüyayla uyanan birinin rüyanın etkisiyle kurduğu hayaller anlatılıyor. O hâlde parçanın anlatım biçimi öykülemedir. Parçada kurgusal bir anlatım söz konusu olduğu için gözlemlerden yararlanılması da söz konusu değildir.

CEVAP: E

17. Parçaya göre "hayata kafa tutmak" için yapılması gerekenlere ilişkin A seçeneği, "genelgeçer yargıların engeline takılmadan yürümeyi" sözüyle; B seçeneği, "hayatı kolaylaştırmak adına konmuş kuralları sorgulamayı" sözüyle; D seçeneği, "gözü kara olmaktadır, ... hayata kafa tutmak, beldel ödemeyi de zorunlu kılar" sözleriyle; E seçeneği, "körü körüne öğretilerle sınırlı kalmadan, her sunulanı yargı diye kabullenmeden karşı koymayı..." sözleri ile doğrulanmaktadır. Genelgeçer yargıların engeline takılmadan yürüyen ve toplumsal kuralları sorgulayan biri için C seçeneği söylenemez.

CEVAP: C

18. Bir parçada yeni bir paragrafa geçiş yapmak için konunun değişmesi gerekir. Parçada III. cümleye kadar gündelik hayatımızda aşına olduğumuz insanlardan, komşulardan ve dostlarımızdan söz edilmiştir. III. cümleyle birlikte konu "mekanlar"a getirilmiştir. Parçanın sonuna kadar da "mekanlar"dan söz edilmektedir. O hâlde III. cümleyle birlikte yeni bir paragrafa geçilebilir.

CEVAP: B

19. Öncüldeki cümle "Folklor, ayırıcı değil; birleştiricidir." görüşüne yer veren ve "çünkü" bağlacıyla başlayan bir açıklama cümlesidir. Bu durumda III. cümleye baktığımızda bu cümlede "Folklor, ayrılıklara değil, benzerliklere önem verir; ortak noktaları saptamaya çalışır." görüşüne "Neden-niçin" sorusunu yönelttiğimizde "çünkü" bağlacıyla başlayan öncüldeki cümle bu sorulara cevap veren bir açıklama cümlesi oluyor. O hâlde öncüldeki cümle III. cümleden sonra getirilmelidir.

CEVAP: C

Y
A
R
G
I
Y
A
Y
I
N
E
V
I

20. Parça, "eğitimi alınmadan bir işte başarılı olmanın tesadüflere bağlı olduğu" görüşünü içeren bir giriş cümlesiyle başlamıştır. Daha sonra konu şiire ve şaire getirilerek "şiirin basit bir uğraş olmadığı, herkesin şair olamayacağı" görüşü işlenmiştir. Buradan varılacak en kapsamlı yargı: "Şiir yazmak, sandıldığı gibi basit bir uğraş değildir dolayısıyla şiir, yoğun emek ve çaba gerektiren bir uğraşdır." Bu da A seçeneğinde verilmiştir.

CEVAP: A

21. Parçada yazar "Bu da aklımıza ister istemez şu soruları getiriyor" cümlesinden sonra soruları sıralıyor. Yazar "bu" zamiriyle sorusuna neden olan duruma değiniyor. Yazarın "bu" dediği, Alice Miller'in "Beden Asla Yalan Söylemez" adlı kitabında "İnsanın inkar ettiği her anının, her duygunun, her ihtiyacın, kişinin bedeninde nasıl gizlendiği ve inkar edilmeye devam edildiği sürece hastalıklara nasıl yol açacağı" kendi yaşamından da yola çıkarak, tecrübelerini göz önünde bulundurarak bir psikanalist gözüyle anlattıklarıdır. İşte yazar, Alice Miller'in bu anlattıklarından hareketle kafasında oluşan soruları sormaya başlıyor.

CEVAP: C

22. Parçada A seçeneğine, “Romanda kendini masalımsı ve doğaüstü güçleri olan biri olarak tanıtan kahraman, ikinci sayfaya geçer geçmez bir araba tamircisine dönüşüyor. Bu garip yaratık, insan oluveriyor.” cümlelerinde; B seçeneğine yine “Bu garip yaratık insan oluyor.” cümlesinde; C seçeneğine, “Sıradan görünen bir çocuğun, sıradan olmayan iç dünyası ve onun gözünde her şeyin imgelere dönüşmesi, romanın kahramanını unutulmaz kılıyor.” cümlesinde; E seçeneğine, “Bu belirsizlik, romanın akışı içerisinde ustaca sürdürülüyor.” cümlesinde değerlendirilmiştir. Parçada D seçeneğine değinilmemiştir.

CEVAP: D

CEVAP: E

24. Parçada A seçeneğine I. cümledeki “... çocuk için yaz tatili yoğun bir ders çalışma temposu içinde geçirilmemelidir.” sözüyle; B seçeneğine, II. cümledeki “Yaz tatilinde bu başarısızlığın nedenleri üzerinde durulmalı ... bunlar için gelecek yılda ne gibi önlemler alınmalı diye düşünülmeli.” sözüyle; C seçeneğine III. cümledeki “Yaz tatili her öğrenci için iyi bir dinlenme ve motivasyon sağlamaya yönelik olmalı...” sözüyle; D seçeneğine IV. cümledeki “... hem çocuğunuzla ve ailenizle olan iletişiminizin güçlenmesi hem de çocuğunuzda görmek istediğiniz olumlu karakter özelliklerinin kazanımı için birtakım etkinlikler ve aktiviteler öneriyoruz.” sözüyle değerlendirilmiştir. Parçada E seçeneğine değinilmemiştir.

CEVAP: E

Y
A
R
G
I
Y
A
Y
I
N
E
V
İ

23. Parçadan hareketle A seçeneğini, “Cinsel kimliğin gelişimine ait en büyük etkenlerden biri de cinsine uygun iş ve becerileri kazanabilmektir.” cümlesinden; B seçeneğini, yine aynı cümleden; C seçeneğini “Birçok ebeveyn, evlatlarına” Ben sizden sadece ders çalışmanızı ve derslerinizde başarılı olmanızı istiyorum. Başka hiçbir şeye gerek yok, diyerek masumane fakat karakter gelişimlerine özgü becerilerin kazanımını çok da önemsemeyen bir tavır sergiler.” cümlesinden; D seçeneğini, “Bu etkinlikleri (kız ve erkek çocukların cinsiyetlerine uygun işlere yönlentilmeleri) sempatik yaparsanız ve çocuğunuza ihtiyacınız olduğunu hissettirerek yaparsanız daha iyi sonuç alabilirsiniz.” cümlesinden söyleyebiliriz. Parçadan E seçeneğini söyleyemeyiz.

25. A seçeneğini, I. cümledeki “... yaz tatili yoğun bir ders çalışma temposu içinde geçirilmemelidir.” sözleri doğrulamaktadır. B seçeneğini, II. cümledeki “Yaz tatilinde bu başarısızlığın nedenleri üzerinde durulmalı, ... bu yaz tatili ... bunlar için gelecek yılda ne gibi önlemler alınmalı diye düşünülmeli.” sözleri doğrulamaktadır. D seçeneğini, V. cümledeki “... bu aktivitelerle fikirlerinize yeni bir bakış açısı kazandırabilirsiniz.” sözleri doğrulamaktadır. E seçeneğini, VI. cümledeki “... çocukluğunuzla yaşayacağınız küçük ama farklı bir paylaşım, ummadığınız güzelliklere kapı açabilir.” sözleri doğrulamaktadır. Parçanın III. cümlesinde “yaz tatilinin her öğrenci için iyi bir dinlenme ve motivasyon sağlamaya yönelik olarak değerlendirilmesi gerektiği” belirtilmiştir. “Yalnızca doya doya gezip eğlenmelerinin onlara motivasyon sağlayacağı” belirtilmemiştir.

CEVAP: C

26. Bu tür soruların çözümünde parçanın konusunu ve parçada vurgulanmak istenen ana düşünceyi doğru bulmak gerekir. Yazar parçanın ilk cümlesinde Yunus Emre'ye olan ilgisinin ta ortaokul yıllarında başladığını belirtiyor. Bu konu cümlesiyle parçaya giriş yaptıktan, sonra Yunus Emre'yi tez konusu almadan önce yaptığı çalışmalarını sıralıyor. Bugün de bu çalışmaların sürdüğünü belirtiyor. O hâlde parça A seçeneğindeki soruya bir cevap niteliğindedir.

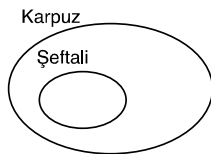
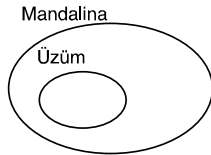
CEVAP: A

27. Parçanın yazarıyla ilgili olarak A seçeneğini, "Duyduğum Yunus Şiirlerinden büyük zevk alırdım... Yunus bitmez, Yunus'un uzmanı olunmaz, öğrencisi olunur." cümlelerinden; B seçeneğini, "Yunus'un takipçilerinden Niyâz"î-i Mısırî ile tanışmam da bu yıllara rastlar." cümlesinden; C seçeneğini, "Sonra bu okumaları irfan meclisinden aldığım bilgilerle daha bilimsel bir çizgiye çekmem gerektiğini düşündüm." cümlesinden; D seçeneğini, "Yunus bitmez Yunus'un uzmanı olunmaz, öğrencisi olunur." cümlesinden hareketle söyleyebiliriz. E seçeneği, parçadan hareketle söylenemez.

CEVAP: E**28. – 30. Soruların Çözümleri**

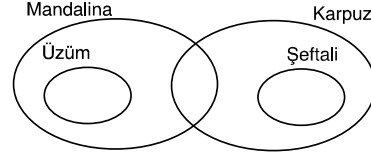
Meyve çeşitleriyle ilgili şartların bulunduğu senaryomuzda venn şeması yöntemini kullanalım.

1. öncül için

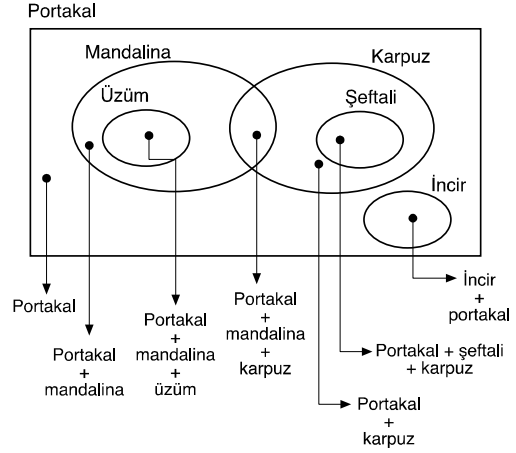


şemaları oluşur.

2. öncül için oluşturduğumuz 2 şema kesişir. Üzüm ve şeftali kümesi kesişimin dışında kalır.



3. öncüle göre, incir, mandalina ve karpuz kümeleriyle kesişemez. 4. öncüle göre, portakal bütün kümeleri kapsar yani evrensel kümedir.



Şemamızdaki tüm bölgeler hangi kümelere aitse meyve tabağının içinde o meyveler bulunur.

28. Şeftalinin bulunduğu meyve tabağında ve tüm meyve tabaklarında portakal bulunur.

CEVAP: E

29. Portakalın bulunduğu ve 2 meyve çeşidinden oluşan meyve tabakları;
portakal + mandalina
portakal + karpuz
portakal + incirdir.

CEVAP: B

30. 3 meyve çeşidinden oluşan meyve tabakları;
portakal + şeftali + karpuz
portakal + mandalina + karpuz
portakal + mandalina + üzüm
olmak üzere 3 çeşittir.

CEVAP: C

31. I. x in her tam sayı değeri için y bir tam sayı olmak zorunda değildir. Örneğin $x = 5$ için $y = \frac{12}{5}$ olur.
- II. $y = \frac{12}{x}$ olduğundan x irrasyonel sayı olursa y de irrasyonel olmak zorundadır.
- III. Örneğin $x = \frac{1}{3}$ için $y = 36$ olur.
- Yani x doğal sayı değil iken y doğal sayı olabilir.

CEVAP: B

32. Verilen şartı sağlayan sayı ABC olsun. Bu sayının birler ve yüzler basamağındaki rakamların yeri değiştirilince oluşan sayı CAB olur.
- $ABC - CAB = 99(A - C)$ dir.
- Bu farkın en büyük değerini alması için A ve C rakamları arasındaki farkın en büyük değerini alması gerekir.
- Buna göre, rakamları çarpımı 12 ye eşit ve A ile C rakamları arasındaki fark en büyük olan sayı 621 dir. Bu durumda istenen fark $621 - 126 = 495$ tir.

CEVAP: C

33. $\text{Ekok}(6, 9, 10) = 90$ olduğundan hastanın bu üç ilacı tekrar bir arada alması için 90 saat geçmesi gerekir.
- 90 saatlik süre ise 3 gün 18 saate eşittir. Bu ilaçları bir arada ilk defa Cumartesi günü 04.00 da alan hasta ikinci defa üç ilacı bir arada Salı günü 22.00 da alır.

CEVAP: E

$$34. \frac{0,4}{72} = \frac{4}{10} \cdot \frac{1}{72}$$

$$= \frac{4}{720}$$

$$= \frac{1}{180} \text{ dir.}$$

CEVAP: B

$$35. \frac{1+0,3 \cdot x}{0,2+0,5 \cdot x} = \frac{2}{3} \Rightarrow 3 \cdot (1+0,3 \cdot x) = 2 \cdot (0,2+0,5 \cdot x)$$

$$\Rightarrow 3+0,9x = 0,4+x$$

$$\Rightarrow 0,1 \cdot x = 2,6$$

$$\Rightarrow x = \frac{2,6}{0,1} = \frac{26}{1}$$

$$\Rightarrow x = 26 \text{ dir.}$$

CEVAP: A

36. a ve b birer tam sayı iken a^2 ve b^2 ifadelerinin en büyük değerlerini almaları için verilen aralıklardan a ve b yerine seçilecek sayılar sırayla -4 ve 4 olup $a^2 + b^2$ toplamının en büyük değeri 32 dir.
- Benzer şekilde $a^2 + b^2$ toplamının en küçük değerini alması için a ve b yerine seçilecek sayılar sırayla 0 ve 3 olup $a^2 + b^2$ toplamının en küçük değeri 9 dur.
- O halde bu iki değer toplamı $32 + 9 = 41$ dir.

CEVAP: D

37. $x < 0 < y$ olduğundan $x \cdot y < 0$ ve $x - y < 0$ dir.

Buna göre,

$$\frac{x^2 + 2|xy| + y^2}{|x - y|} = \frac{x^2 - 2xy + y^2}{-(x - y)}$$

$$= \frac{(x - y)^2}{-(x - y)}$$

$$= -(x - y)$$

$$= y - x \text{ olur.}$$

CEVAP: B

38. $2^a = 3$ olduğundan

$$3^b = 4 \Rightarrow (2^a)^b = 4 \text{ tür.}$$

Benzer şekilde

$$4^c = 8 \Rightarrow ((2^a)^b)^c = 8$$

$$\Rightarrow 2^{a \cdot b \cdot c} = 8$$

$$\Rightarrow a \cdot b \cdot c = 3 \text{ olur.}$$

CEVAP: A

39. $4\sqrt{3} = \sqrt{48}$ ve $7 = \sqrt{49}$ olduğundan $4\sqrt{3}$ sayısı 7 sayısından küçüktür. Buna göre,

$$\begin{aligned} & \sqrt{(4\sqrt{3} - 7)^2} - \sqrt{12} + \sqrt{108} \\ &= |4\sqrt{3} - 7| - 2\sqrt{3} + 6\sqrt{3} \\ &= 7 - 4\sqrt{3} + 4\sqrt{3} \\ &= 7 \text{ dir.} \end{aligned}$$

CEVAP: C

40. $(x + 1) \cdot (bx + c) = bx^2 + bx + cx + c$
 $= bx^2 + (b + c)x + c$

şeklinde yazılırsa

$$x^2 + ax - 5 = bx^2 + (b + c)x + c \text{ olur.}$$

Bu eşitlikten

$$x^2 = bx^2 \Rightarrow b = 1 \text{ dir.}$$

$$ax = (b + c)x \Rightarrow a = b + c \text{ dir.}$$

$$-5 = c \Rightarrow c = -5 \text{ tir.}$$

$$b = 1 \text{ ve } c = -5 \text{ için } a = -4 \text{ olup } a + b + c \text{ toplamı } -8 \text{ dir.}$$

CEVAP: E

41. Doktor sayısı x olsun. Bu durumda

$$x \text{ doktora} \quad 8 \text{ hasta}$$

$$x - 1 \text{ doktora} \quad 12 \text{ hasta}$$

Ters orantı

$$x \cdot 8 = (x - 1) \cdot 12$$

$$8x = 12x - 12$$

$$4x = 12$$

$$x = 3 \text{ tûr.}$$

CEVAP: B

42. Başlangıçtaki öğrenci sayısı x olsun. Bu durumda kolideki oyuncak sayısı $5x + 1$ dir.

Sınıfa 5 öğrenci daha gelince $x + 5$ öğrenci olur. Bu durumda kolideki oyuncak sayısı $3(x + 5) + 2$ dir. O halde

$$5x + 1 = 3 \cdot (x + 5) + 2$$

$$5x + 1 = 3x + 15 + 2$$

$$2x = 16$$

$$x = 8 \text{ dir.}$$

Kolideki oyuncak sayısı ise $5 \cdot 8 + 1 = 41$ dir.

CEVAP: C

Y
A
R
G
I
Y
A
Y
I
N
E
V
i

43. Emre bilet sırasının tam ortasında ise Emre'nin baştan ve sondan sıra numarası birbirine eşittir. Buna göre,

$$2x + 5 = 3x \Rightarrow x = 5 \text{ tir.}$$

Bu durumda Emre baştan ve sondan 15. sırada olup kuyrukta toplam 29 kişi vardır.

CEVAP: A

44. 3 kişilik masa sayısı x, 5 kişilik masa sayısı $60 - x$ olur. Bu durumda

$$3 \cdot x + 5 \cdot (60 - x) = 228$$

$$3x + 300 - 5x = 228$$

$$-2x + 300 = 228$$

$$72 = 2x$$

$$x = 36 \text{ olur.}$$

CEVAP: A

45. Ürünün başlangıçtaki maliyeti 100 TL olsun. Bu durumda hammadde ücreti 20 TL olup kalan 80 TL diğer ücretlerdir.

Hammadde ücretine yapılan % 300 oranındaki zam ile yeni hammadde ücreti $20 + 20 \cdot \frac{300}{100} = 80$

TL dir.

Bu durumda 80 TL hammadde ücreti ve 80 TL diğer ücretlerden oluşan yeni maliyet toplam 160 TL dir.

O halde hammaddenin yeni maliyete oranı yüzde olarak $\frac{80}{160} = \frac{x}{100} \Rightarrow x = \%50$ dir.

CEVAP: C

46. Satıcının elinde 3 ürün olsun. Bu ürünlerin her birinin alış fiyatı da 100 TL olsun. Bu durumda satıcının maliyeti 300 TL dir.

Satıcı elindeki 3 ürünün $\frac{1}{3}$ ü olan 1 ürünü %70 kârla 170 TL ye, kalan 2 ürünün her birini %20 zararlarla 80 TL ye sattığında eline geçen para $170 + 2 \cdot 80 = 330$ TL dir.

Satıcının bu satış sonunda elde ettiği kâr miktarı $330 - 300 = 30$ TL dir. Yüzde oranı ise,

$$\frac{30}{300} = \frac{x}{100} \Rightarrow x = \%10 \text{ dur.}$$

CEVAP: B

47. Araçların hareket saatleri arasında 2 saat zaman farkı olduğundan yavaş aracın yolu tamamlama süresi t saat olursa hızlı aracın yolu tamamlama süresi t - 2 saat olur. Bu durumda,

$$|AB| = 72 \cdot t = 90 \cdot (t - 2)$$

$$72 \cdot t = 90 \cdot t - 180$$

$$18t = 180$$

$$t = 10 \text{ saattir.}$$

$$|AB| = 72 \cdot 10 = 720 \text{ km olur.}$$

CEVAP: D

48. Başlangıçta özdeş muslukların her birinden birim zamanda akan su miktarının 100 litre olduğu varsayılırsa toplam 200 litre su akar.

Bir musluktan akan su miktarı 2 katına çıkarılıp diğer musluktan akan su miktarı $\frac{1}{4}$ üne düşürülürse birim zamanda musluklardan akan su miktarı toplamı $100 \cdot 2 + 100 \cdot \frac{1}{4} = 225$ litre olur.

O halde,

$$200 \text{ litre ile} \quad 72 \text{ saat}$$

$$225 \text{ litre ile} \quad x \text{ saat}$$

Ters orantı

$$200 \cdot 72 = 225 \cdot x$$

$$x = 64 \text{ saattir.}$$

CEVAP: A

49. Satıcının elinde 3 ürün olsun. Bu ürünlerin her birinin alış fiyatı da 100 TL olsun. Bu durumda satıcının maliyeti 300 TL dir.

Satıcı elindeki 3 ürünün $\frac{1}{3}$ ü olan 1 ürünü %70 kârla 170 TL ye, kalan 2 ürünün her birini %20 zararlarla 80 TL ye sattığında eline geçen para $170 + 2 \cdot 80 = 330$ TL dir.

Satıcının bu satış sonunda elde ettiği kâr miktarı $330 - 300 = 30$ TL dir. Yüzde oranı ise,

$$\frac{30}{300} = \frac{x}{100} \Rightarrow x = \%10 \text{ dur.}$$

CEVAP: B

47. Araçların hareket saatleri arasında 2 saat zaman farkı olduğundan yavaş aracın yolu tamamlama süresi t saat olursa hızlı aracın yolu tamamlama süresi t - 2 saat olur. Bu durumda,

$$|AB| = 72 \cdot t = 90 \cdot (t - 2)$$

$$72 \cdot t = 90 \cdot t - 180$$

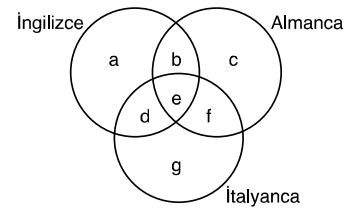
$$18t = 180$$

$$t = 10 \text{ saattir.}$$

$$|AB| = 72 \cdot 10 = 720 \text{ km olur.}$$

CEVAP: D

- 49.



$$\text{En az iki dil bilenler} \Rightarrow b + d + f + e = 27$$

$$\text{En çok bir dil bilenler} \Rightarrow a + c + g = 20$$

$$\text{En çok iki dil bilenler} \Rightarrow a + c + g + b + d + f = 32$$

Birinci ve ikinci denklem toplanıp üçüncü denklem çıkarılırsa e = 15 olur.

CEVAP: C

50. Tanımlamaya göre,

$$10 \Delta 3 = 10 + 11 + 12 = 33 \text{ tür.}$$

Buna göre,

$$33 \Delta 5 = 33 + 34 + 35 + 36 + 37$$

$$= 175 \text{ tir.}$$

CEVAP: B

$$\begin{aligned}
 51. \quad f(-1) &= |-1 - 2| - |-1| \\
 &= |-3| - |-1| \\
 &= 3 - 1 \\
 &= 2 \text{ dir.}
 \end{aligned}$$

$$\begin{aligned}
 f(0) &= |0 - 2| - |0| \\
 &= |-2| - |0| \\
 &= 2 \text{ dir.}
 \end{aligned}$$

$$\begin{aligned}
 f(1) &= |1 - 2| - |1| \\
 &= |-1| - |1| \\
 &= 0 \text{ dir.}
 \end{aligned}$$

O halde

$$f(-1) + f(0) + f(1) = 2 + 2 + 0 = 4 \text{ tür.}$$

CEVAP: D

52. Toplam 10 kişi arasından oluşturulabilecek tüm 3 kişilik ekip sayısı $\binom{10}{3}$ kadardır.

Ekipte en az bir Türk profesörün bulunması için ekipteki 3 kişinin de Alman olmaması yeterlidir.

Bu seçim ise tüm 3 kişilik seçimlerden 3 Alman profesörün seçimi çıkarılarak $\binom{10}{3} - \binom{6}{3}$ ile bulunur. O halde istenen olasılık,

$$\begin{aligned}
 \frac{\binom{10}{3} - \binom{6}{3}}{\binom{10}{3}} &= \frac{10 \cdot 9 \cdot 8 - 6 \cdot 5 \cdot 4}{3 \cdot 2 \cdot 1} \cdot \frac{3 \cdot 2 \cdot 1}{10 \cdot 9 \cdot 8} \\
 &= \frac{120 - 20}{120} \\
 &= \frac{5}{6} \text{ dir.}
 \end{aligned}$$

CEVAP: E

53. 2011 yılındaki kg satış fiyatı 2010 yılındaki kg satış fiyatına göre %10 arttığına göre, 2011 yılı kg satış fiyatı $200 + 200 \cdot \frac{10}{100} = 220$ TL dir. 500 kg ürünün satışından elde edilen gelir ise $500 \cdot 220 = 110.000$ TL dir.

CEVAP: A

54. 2012 yılındaki kg satış fiyatı 2011 yılına göre %20 arttığına göre, 2012 yılı kg satış fiyatı

$$220 + 220 \cdot \frac{20}{100} = 264 \text{ TL dir.}$$

2012 yılı satış fiyatı ile 2011 yılı satış fiyatı arasındaki fark ise $264 - 220 = 44$ TL dir.

CEVAP: D

55. 2013 yılındaki kg satış fiyatı 2012 yılına göre %10 azaldığına göre, 2013 yılı kg satış fiyatı

$$264 - 264 \cdot \frac{10}{100} = 237,6 \text{ TL dir.}$$

CEVAP: C

Y
A
R
G
I
Y
A
Y
I
N
E
V
I

$$\begin{aligned}
 56. \quad \frac{n \cdot (n-3)}{2} = n &\Rightarrow n \cdot (n-3) = 2n \\
 &\Rightarrow n - 3 = 2 \\
 &\Rightarrow n = 5 \text{ tir.}
 \end{aligned}$$

Buna göre, düzgün beşgenin bir dış açısı:

$$\frac{360}{5} = 72 \text{ derecedir.}$$

CEVAP: D

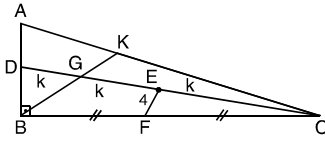
57. Her düzgün çokgenin bir iç açısı ile bir dış açısının toplamı 180° dir. Veriye göre düzgün çokgenin bir iç açısı ile bir dış açısı arasındaki fark 90° dir. Bu durumda düzgün çokgenin bir iç açısı 135° , bir dış açısı ise 45° dir. Buna göre, çokgenin kenar sayısı $\frac{360}{n} = 45 \Rightarrow n = 8$ dir.

Düzgün sekizgenin köşegen sayısı ise

$$\frac{8 \cdot (8-3)}{2} = \frac{8 \cdot 5}{2} = 20 \text{ dir.}$$

CEVAP: B

58. B köşesinden AC kenarına kenarortay çizilirse $|DG| = |GE| = |EC|$ olur.



BGC üçgeninde E ve F noktaları orta noktalar olduğundan,

$$\begin{aligned} |BG| &= 2 \cdot |EF| \\ &= 2 \cdot 4 \\ &= 8 \text{ cm dir.} \end{aligned}$$

G ağırlık merkezi olduğundan

$$\begin{aligned} |KG| &= \frac{|BG|}{2} \\ &= \frac{8}{2} \\ &= 4 \text{ cm dir.} \end{aligned}$$

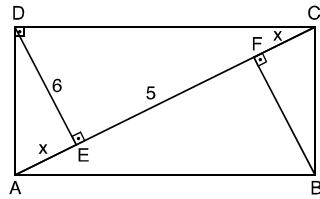
Buna göre ABC üçgeninde muhteşem üçlüden

$$\begin{aligned} |AC| &= 2 \cdot |BK| \\ &= 2 \cdot 12 \\ &= 24 \text{ cm olur.} \end{aligned}$$

CEVAP: B

59. ADE ve CBF üçgenleri benzer olup $|AD| = |CB|$ olduğundan eş üçgenlerdir.

Bu durumda $|AE| = |FC| = x$ tir.



ADC üçgeninde öklit bağıntısından,

$$\begin{aligned} |DE|^2 &= |AE| \cdot |CE| \\ 6^2 &= x \cdot (5 + x) \\ 36 &= x^2 + 5x \\ x^2 + 5x - 36 &= 0 \\ (x - 4)(x + 9) &= 0 \\ x &= 4 \text{ cm dir.} \end{aligned}$$

CEVAP: E

60. Nokta doğruyu sağlayacağından

$$3 \cdot 2 + 2 \cdot 5 + m = 0 \Rightarrow m = -16 \text{ olur.}$$

Doğrunun denklemi $3x + 2y - 16 = 0$ olup grafiğinin x ve y eksenlerini kestiği noktalar,

$$y = 0 \text{ için } 3 \cdot x + 2 \cdot 0 - 16 = 0 \Rightarrow x = \frac{16}{3}$$

$$x = 0 \text{ için } 3 \cdot 0 + 2 \cdot y - 16 = 0 \Rightarrow y = 8 \text{ dir.}$$

Buna göre, eksenlerle oluşan üçgenin alanı

$$\frac{16}{3} \cdot 8 = \frac{64}{3} \text{ birim karedir.}$$

CEVAP: B

Y
A
R
G
I
Y
A
Y
I
N
E
V
İ



Başarılar dileriz...



KPSS GENEL KÜLTÜR

www.yargiyayinevi.com

1. Orta Asya'da kurulan Asya Hunlarının kurucusu Teoman, I. Kök Türk Devleti'nin kurucusu ise Bumin Kağan'dır.
II. öncülde verilen Balamir ise Avrupa Hunlarının kurucusudur. Avrupa Hunları Orta Asya'da değil, Orta Macaristan'da kurulmuştur.

CEVAP: D

2. • Altınordu Devleti 1227 – 1502 yılları arasında hüküm sürmüştür.
• Bu devlet Berke Han zamanında İslamiyeti kabul edip zamanla Türkleşmiştir.
• Timurluların etkisiyle bu devlet zayıflamış ve bu durum Moskova Knezliği şeklindeki Rusların güneye inmesine ayrıca Kırım, Kazan, Sibir, Özbek, Noyan gibi hanlıkların kurulmasına yol açmıştır.

CEVAP: A

3. Anadolu Selçukluları 1077 – 1308 yılları arasında hüküm sürmüştür.
1243 Köseadağ, 1230 Yassıçemen ve 1176 Miryokefalon Savaşları Anadolu Selçukluları Dönemi'ndedir.

- 1243 Köseadağ Savaşı → Moğol İhanlılarla
- 1230 Yassıçemen Savaşı → Harzemşahlarla
- 1176 Miryokefalon Savaşı → Bizans'la yapılmıştır.
- 1071 Malazgirt Savaşı ise Anadolu Selçukluları değil, Büyük Selçuklular ile Bizans arasında yapılmıştır.

CEVAP: D

4. I. Murat Dönemi'nde;
• Germiyanogullarından çeyiz yoluyla Kütahya, Tavşanlı, Emet, Simav
• Hamitoğullarından satın alma yoluyla Isparta, Karaağaç, Yalvaç ve Seydişehir alınmıştır.

CEVAP: B

5. Trablusgarp'ın, Cezayir'in Akdeniz'e kıyısı bulunmaktadır. Cerbe Deniz Savaşı Akdeniz'de meydana gelmiştir. Kıbrıs Adası Akdeniz'dedir. Bu durumda A, B, C ve E seçeneklerinde verilenler Akdeniz'de hakimiyet kurmaya yöneliktir.

Ancak Kili ve Akkırman kaleleri Karadeniz'in kuzey batısında Boğdan dolaylarındadır. Bu doğrultuda cevabımız D seçeneğidir.

CEVAP: D

6. Osmanlı Devleti;
• Hotin Seferini Genç Osman Dönemi'nde Lehistan'a karşı düzenlemiştir.
• Bucaş Antlaşması'nı 1672'de Lehistan'la imzalamıştır.
• Ancak Zıtvatoruk Antlaşması Avusturya ile imzalanan bir antlaşmadır.

CEVAP: C

7. Osmanlı Devleti 1711 yılındaki Prut Savaşı sonucunda imzalanan Prut Antlaşması'yla, 1700 yılındaki İstanbul Antlaşması'yla kaybettiği Azak Kalesi ve çevresini geri almıştır. Bu durum kaybedilen toprakların geri alınabileceği umudunu güçlendirmiştir.

CEVAP: A

8. Nişancı;
• Resmi belgelere padişahın tuğrasını çekmek tedir.
• İç ve dış yazışmaları düzenler.
• Tapu – kadastro işlerinden sorumludur.
• Örfi hukuk uzmanıdır.
• Dirlik topraklarının kaydını tutar.
• Fethedilen yerleri tahrir defterlerine kaydeder.

Bu doğrultuda öncüllerde verilenlerin tamamını cevap olarak kabul edebiliriz.

CEVAP: E

9. 1864 Vilayet Nizamnamesi ile ülke idari bakımdan yeniden teşkilatlandırılmıştır. Böylece;

- Vilayetlerin başına → Vali
- Livaların başına → Mutasarrıf
- Kazaların başına → Kaymakam
- Nahiyelerin başına → Müdür
- Köylerin başına → İmamlar atanmıştır.

CEVAP: D

10. Osmanlı Devleti'nde ilk havacılık faaliyetleri 1911'de Mahmut Şevket Paşa önderliğinde başlamıştır.

Enver Paşa ise ileriki süreçte Yeşilköy'de bir uçuş okulu açmıştır.

CEVAP: C

11. Hat güzel yazı yazma sanatıdır. Bu sanatla uğraşanlara hattat denilmiştir.

Fatih Dönemi'nde Amasyalı Şeyh Hamdullah, Kanuni Dönemi'nde Ahmet Karahisari hat sanatında zirveye çıkmıştır.

CEVAP: A

12. Osmanlı Devleti;

- 1806 – 1812 Osmanlı – Rus savaşı sonucunda Bükreş Antlaşması'nı,
- 1828 – 1829 Osmanlı – Rus savaşı sonucunda Edirne Antlaşması'nı,
- 1853 – 1856 Osmanlı – Rus savaşı sonucunda Paris Antlaşması'nı,
- 1877 – 1878 Osmanlı – Rus savaşı sonucunda Ayastefanos Antlaşması'nı imzalamıştır.
- 1833'teki Hünkar İskelesi Antlaşması ise Kavalalı Mehmet Ali Paşa İsyanı sırasında Rusya ile imzalanan bir dostluk antlaşmasıdır. Yapılan bir savaş sonucunda imzalanmamıştır.

CEVAP: E

13. İttihat ve Terakki Fırkası mensupları I. Dünya Savaşı'ndan sonra Teceddüt Fırkası çatısı altında toplanmaya çalışmışlardır.

Seçeneklerdeki diğer partiler II. Meşrutiyet Dönemi'ndeki partilerdir.

CEVAP: C

14. • Boğazlar Antlaşması ile Rusya'ya Boğazlar ve İstanbul verilmiştir.

- Petrograt Antlaşması ile Rusya'ya Doğu Anadolu verilmiştir.
- Sykes – Picot Antlaşması ile İngiltere ve Fransa, Osmanlı'nın Orta Doğu topraklarını aralarında paylaşmışlardır.

Dolayısıyla Boğazlar ve Petrograt antlaşmaları Rusya'nın menfaatindedir.

CEVAP: D

15. • İngiltere'nin Kafkaslar üzerinden Rusya'ya yardım götürmek istemesi → Irak Cephesi

- Bulgaristan'ın İttifak Devletlerinin yanında savaşa girmesi → Çanakkale Cephesi
- Osmanlı Devleti'nin müttefiklerine asker göndermesi → Makedonya Cephesi ile ilişkilidir.

CEVAP: C

16. Mustafa Kemal Trablusgarp Savaşı'na "Gazeteci Şerif" takma adını kullanarak gitmiştir.

Mustafa Kemal Kurun gazetesinde "Asım Us" takma adıyla yazılar yazmıştır.

Hamdi takma adını ise Trablusgarp Savaşı sırasında Enver Paşa kullanmıştır.

CEVAP: C

17. A, B, C ve D seçeneklerinde verilen eserler Yakup Kadri Karaosmanoğlu'na aittir.

Yorgun Savaşçı ise Kemal Tahir'e ait bir eserdir.

CEVAP: E

18. Egemenliğin doğrudan doğruya millete ait olması anlamına gelen Milli Egemenlik ilkesi ilk olarak Amasya Genelgesi'nde kendisine yer bulmuştur.

Amasya Genelgesi'nde yer alan, "Milletin bağımsızlığını yine milletin azim ve kararı kurtaracaktır." maddesi, Milli Egemenlik ilkesiyle doğrudan ilgilidir. Ayrıca bu madde Türk inkılabının ihtilal safhasının başlangıcı olarak değerlendirilebilir.

B, C ve D seçeneklerindeki gelişmelerde yer alan maddelerde de Milli Egemenlik ilkesine rastlamak mümkündür. E seçeneğindeki Misakımilli kararlarında ise Milli Egemenlikten ziyade Milli Bağımsızlık ilkesi yer almıştır. Sonuç olarak doğru cevap A olmalıdır.

CEVAP: A

19. **I. Konstantin:** Milli Mücadele döneminde Yunanistan kralıdır. Kütahya-Eskişehir Muharebeleri öncesinde İzmir'e gelmiş ve Yunan ordusunun başına geçmek istemiştir.

Anastasios Papulas: I. İnönü, II. İnönü, Kütahya-Eskişehir ve Sakarya Meydan savaşlarında Yunan ordusunun başkomutanlığını yapmıştır.

Yeoryos Hacıanestis: Büyük Taarruz'un ilk aşamasında Yunan ordusunun başkomutanlığını yapmıştır. Savaşın kötü gidişatı nedeniyle yerini Trikupis'e bırakmıştır.

Dimitrios Gounaris: 1921 ve 1922 yıllarında Yunanistan'ın başbakanlığını yapmıştır. Anadolu'daki başarısızlıklardan sorumlu tutularak 15 Kasım 1922'de idama mahkum edilmiştir.

Sorumuzun cevabı ise C seçeneğindeki Nikolaos Trikupis'tir. Trikupis Yunan Başkomutanlığına atandığını esir düştükten sonra bizzat Mustafa Kemal'den öğrenmiştir. Ülkemizde bir süre tutulan Trikupis daha sonra kendi ülkesine gönderilmiştir.

CEVAP: C

20. • Kadınlara milletvekili seçme ve seçilme hakkı 1934'te çıkarılan bir yasayla verilmiştir. Böylece Türkiye, birçok Avrupa ülkesinden daha önce kadınlara siyasi haklar veren çağdaş bir ülke olmuştur.
- Ankara Hukuk Fakültesi 1925'te açılmıştır. Bu kurum Türkiye'nin ilk yüksekokulu olarak kabul edilmektedir.
- Öğretimde birliğin sağlandığı yasa 3 Mart 1924'te çıkarılan Tevhid-i Tedrisat Yasası'dır. Bu yasayla tüm eğitim kurumları Maarif (Eğitim) Bakanlığı'nın bünyesinde toplanmıştır.
- Verilen tarihlere göre sıralamanın III-II-I şeklinde olduğu görülecektir. Bu durumda doğru cevap ise E olmalıdır.

CEVAP: E

21. II. TBMM dönemi 11 Ağustos 1923 ile 2 Ağustos 1927 tarihleri arasında kapsamaktadır. A, B, C ve D seçeneklerinde yer alan inkılaplar bu dört yıllık dönemde meydana gelmiştir:

- Halifeliği kaldırılması-1924
- Tekke zaviye ve türbelerin kapatılması-1925
- Medeni Kanun'un kabul edilmesi-1926
- Maarif Teşkilatı Hakkında Kanun çıkarılması-1926

E seçeneğindeki Yeni Türk Harflerinin kabul edilmesi ise 1 Kasım 1928'e tekabül eder. Bu durumda doğru cevap E olmalıdır.

CEVAP: E

22. Atatürk, eğitim ve askerlik yıllarında birçok yazarın eserini okumuş ve dünya kültürüne genel olarak ilgi göstermiştir. Atatürk askeri ortaokul, askeri lise, Harp Okulu ve Akademisi dönemlerinde özellikle J.J Rousseau, Montesquieu, Kant gibi Fransız yazarların demokrasi ve özgürlükçü düşüncelerini benimsemiştir. Bunun yanında Tefik Fikret, Namık Kemal, Ziya Gökalp ve Mehmet Emin Yurdakul gibi yerli yazarları da takip etmiştir. Bu düşünürlerden ise Türk milliyetçiliği ve genel olarak Batıcılık düşüncelerini edinmiştir. Bütün bu yazarlar Mustafa Kemal'in düşünce sisteminin oluşmasını sağlamıştır. C seçeneğindeki Yahya Kemal Beyatlı ise şiir alanında eser veren bir Türk yazardır. Kısaca Yahya Kemal Beyatlı, Atatürk'ün düşünce sistemini etkileyen düşünürlerden birisi değildir.

CEVAP: C

23. Atatürk'ün verilen sözlerinde ilk olarak akılcılık ve bilimsellik ilkesinin vurgulandığı görülecektir. Bu durum inkılapçılık ve laiklik ilkeleriyle doğrudan ilgilidir. Paragrafın ikinci bölümünde ise vatan, millet ve tarih bilinci kavramlarının vurgulanması söz konusudur. Bu durumda II. ve III. öncüllerde yer alan milliyetçilik ve laiklik ilkeleri doğru seçeneklerdir. Dolayısıyla doğru cevap E olmalıdır.

CEVAP: E

24. Atatürk döneminde;

- 18 Ekim 1925'te Türkiye-Bulgaristan Dostluk Antlaşması imzalanmıştır. Bu antlaşma her türlü engele rağmen geçerliliğini günümüzde dahi korumaktadır.
- 1925'te Türkiye ile Yugoslavya arasında Dostluk Antlaşması imzalanmıştır. Bu dönemde İstanbul'a gelen Yugoslavya Kralı Alexandre ile Atatürk arasında Balkanların geleceğiyle ilgili görüşmeler yapılmıştır. Daha sonra ise Başbakan İnönü de Belgrad'a giderek Yugoslavya'yı ziyaret etmiştir. Görüldüğü üzere Türkiye Atatürk döneminde, Bulgaristan ve Yugoslavya ile karşılıklı olarak dostluk antlaşmaları imzalamıştır.

Atatürk döneminde Türkiye ile Japonya arasında karşılıklı olarak herhangi bir dostluk antlaşması imzalanmamıştır. Bu durumdan dolayı doğru cevap D olmalıdır.

CEVAP: D

25. İlyiç Vlademir Lenin Dönemi'nde Rusya'da;

- 3 Mart 1918'de İttifak Devletleriyle Brest – Litovsk Antlaşması imzalanmış ve Rusya savaştan çekilmiştir.
- Çarlık yanlılarının Beyaz Ordusu ile içte mücadele edildi.
- NEP denilen ekonomi politikası ilan edilerek tarım ürünlerine el konulmaması ve köylülere ürün pazarlama özgürlüğü sağlandı.

CEVAP: D

26. 4 Nisan 1949'da Washington'da Fransa, İngiltere, Norveç, Danimarka, İzlanda, Portekiz, ABD, İtalya, Kanada, Belçika, Hollanda, Lüksemburg arasında NATO (Kuzey Atlantik Antlaşması Örgütü) kuruldu. Bu birliğe Türkiye 1952'de "Yunanistan" ile birlikte üye olmuştur.

CEVAP: A

27. 1961'de Rus kozmonot "Yuri Gagarin" Vostok-1 uzay aracı ile ilk kez uzaya giden insan oldu. Neil Armstrong ve Edwin Aldrin 1969'da Ay'a indi. Alexy Leonov ilk uzay yürüyüşünü gerçekleştirdi. Hawker Harrier dik havalanabilen ilk uçağı yaptı.

CEVAP: C

28. Ilıman iklim koşullarını etkili olması orta kuşakta yer almamıza, gölgenin hiçbir zaman sıfır olmaması dönencelerin dışında olmamıza, dört mevsimin belirgin şekilde yaşanması orta kuşakta olmamıza bağlıdır. Bu üç durum doğrudan matematik konumla ilgilidir.

Ülkemizde kısa mesafelerde belirgin iklim farklarının görülmesi de yükseklik farklarına bağlıdır. Bu durum da yalnızca özel konum ile ilgilidir.

Ülkemizde güneyden kuzeye doğru sıcaklığın azalması matematik konuma (enlem), batıdan doğuya doğru sıcaklığın azalması da özel konuma (yükseklik) bağlıdır.

CEVAP: A

29. Anadolu'nun tarihin ilk dönemlerinden beri yerleşilen bir alan olmasında uygun iklim koşulları etkili olmuştur. Bunun dışında doğu ile batı arasındaki önemli ticaret yollarının Anadolu'dan geçmesi birçok uygarlığın gelişimine uygun bir ortam hazırlamıştır.

CEVAP: D

30. Karadeniz Bölgesi'nde dağlar kıyı şeridinde paralel uzanıp bir set görevi gördüğü için denizel iklimin yayılış alanı bölgede daralmıştır. Aynı zamanda bu uzanış farkı Karadeniz kıyılarında yamaç yağışlarının daha sık görülmesini sağlamış ve yağış tutarını artırmıştır. Kıyıdaki sıcaklık ortalamaları ve aydınlanma süreleri üzerinde dağların uzanış doğrultusunun doğrudan etkisi yoktur.

CEVAP: A

31. Türkiye'de en az etkili olan dış kuvvet buzular olsa da, Aynalı ve Kilimli gibi buzul gölleri bulunmaktadır. İstanbul Boğazı, Çanakkale Boğazı ve Güneybatı Anadolu kıyıları ria tipi kıyılarına örnektir. Bitlis'teki Nemrut Volkanı'nda bir kaldera yer almaktadır. I. Jeolojik dönemden kalma araziler olan masif araziler de, Yıldız Dağları, Menteşe Yöresi, Kırşehir gibi alanlarda bulunur. Ancak tropikal okyanusların volkanik alanlarında görülen mercan adalarına (atol) Türkiye'de rastlanmaz.

CEVAP: D

32. Ülkemizin şekillenmesi daha çok III. jeolojik devirdeki Alp orojenezi sırasında gerçekleştiği için hakim jeomorfolojik birim dağlardır. Bu nedenle ülke arazisinin şekillenmesinde en önemli iç kuvvet orojenezdir.

Ülkemizin özel ve matematik konumu koşullarına bağlı olarak yüzeyi şekillendiren en önemli dış kuvvet ise akarsulardır.

CEVAP: E

33. • İndirgenmiş sıcaklıklar hesaplanırken her yer deniz seviyesindeymiş gibi kabul edilir. Bu nedenle indirgenmiş sıcaklıklarda yükseklik bir etken olarak dikkate alınmaz. (A)
- Güneye doğru sıcaklık arttığında Akdeniz kıyıları 10°C izotermnin içinde kaldığı için sıcaklık ortalaması 10°C'nin üzerindedir. (B)
- Aynı enlem derecesine sahip yerlerde farklı sıcaklık ortalamaları görüldüğünden enlem etkisine tam bir uyum olduğu söylenemez. (C)
- Akdeniz kıyıları 10°C'nin üzerinde, Kuzeydoğu Anadolu sınırında sıcaklık -4°C'den az olduğuna göre fark 14°C'den fazladır. (D)
- Örneğin 6°C izotermnin birçok bölgemizden geçmesi farklı bölgelerde aynı sıcaklık ortalamalarının görülebildiğini kanıtlamaktadır. (E)

CEVAP: A

34. Güneşlenme, bir bölgede güneş enerjisinden yararlanma olanağını ifade eden bir terimdir. Bir bölgedeki güneşlenme süresi güneş ışınlarının yere düşme açısı ile doğru; bulutluluk ile ters orantılıdır. Güneydoğu Anadolu Bölgesi enlem etkisi ve bulutlu gün sayısının düşük olması nedenleri ile Türkiye'de güneşlenme süresinin en fazla olduğu alanı oluşturur.

CEVAP: E

35. Paragrafta Erzurum-Kars Platolarının yüksekliğinin fazla olduğu bilgisi mevcuttur. Ancak bu platoların bölgenin en yüksek yeri olduğuna ilişkin bir bilgi bulunmamaktadır. Doğu Anadolu Bölgesi'nin en yüksek yeri, Türkiye'nin en yüksek yeri olan Ağrı Dağı'dır.

CEVAP: E

36. Türkiye genel olarak Akdeniz iklimi kuşağında yer aldığı için bölgelerimizdeki yağış rejimleri düzensizdir. Bu durum akarsu rejimlerinin de düzensiz olmasına neden olmuştur. (I) . Türkiye'nin ortalama yüksekliği fazladır (1132 metre) . Bu nedenle akarsularımız denge profiline ulaşmamışlardır (II) . Ortalama yükseklik fazla olduğundan akarsularımızın hidroelektrik potansiyelleri genelde yüksektir (III) . Rejimlerinin genelde düzensiz oluşu ve eğimlerinin fazla olması akarsu taşımacılığının yaygın olmasını engellemiştir (IV) .

CEVAP: C

37. Haymana ve Cihanbeyli Platoları İç Anadolu Bölgesi'nde yer alan orta yükseklikteki platolardır. Bu platolarda daha çok bozkır türü otsu bitkiler yaygındır. Ardahan Platosu ise Doğu Anadolu Bölgesi'nde bulunan son derece yüksek bir alandır. Alpin çayırılara bu alanda oldukça sık rastlanır.

CEVAP: A

38. İlk özellik Doğu Karadeniz kıyı şeridinde aittir. İkinci özelliğin Menteşe Yöresi ile örtüşmesi mümkündür. Üçüncü özellik Tuz Gölü çevresi için uygundur. Dördüncü özellik ise Çukurova'ya karşılık gelmektedir.

CEVAP: E

39. Bir ülkede tarımda çalışanların oranının düşük olması, tarımın gelişmediğini, tarımsal verimin düşük olduğunu ya da tarım alanlarının sınırlı olduğunu göstermez. Tarımda çalışan nüfus oranının düşük olması, tarımda makineleşmenin sağlandığını bu nedenle tarımsal istihdama çok fazla gerek olmadığını gösterir. Amerika Birleşik Devletleri dünyadaki en büyük tarımsal üreticilerden biridir. Tarımda çalışan nüfus oranı düşük olduğuna göre sanayi ve hizmet sektörlerinde çalışan nüfus oranlarının yüksek olacağı söylenebilir.

CEVAP: A

Y
A
R
G
I
Y
A
Y
I
N
E
V
I

40. Çiftlikler genellikle bir aileye ait arazi ve yapılardan oluşan, tarım ve hayvancılığın beraber yapıldığı yerleşmelerdir. Oba özellikle Toroslarda “göçer” olarak adlandırılan ve kıl keçisi yetiştiriciliği yapılan ailelerin kurduğu çadır yerleşmeleridir.

CEVAP: C

41. Doğal koşullara göre yapılan bölge sınırlarını de-ğişmesi çok zaman alır ya da de-ğişmez olarak kabul edilir.

Ancak beşeri, ekonomik ve siyasi şartlara göre oluşturulan bölge sınırları de-ğişebilir. Örneğin işle-tilen maden tükenebilir, bazı ilçelerimiz zamanla il statüsüne çıkarılır ve tarım bölgesi zamanla sanayi bölgesine dönüştürülebilir.

Ancak iklim bölgesinin bu kadar hızlı de-ğişmesi mümkün de-ğildir.

CEVAP: A

42. Tarım sektöründe çalışanlar belirgin şekilde azalmış, tarım dışı sektörlerde çalışanlar artmıştır. Bu durum Türkiye'nin sosyal ve ekonomik yönde geliştiğini gösterir. Bu nedenle A, B, C ve D seçenekleri doğrudur.

Ancak oransal de-ğişimin en fazla olduğu sektör hizmetler olmuştur. Bu sektörde çalışanların oranı yaklaşık 9 kat artmıştır.

CEVAP: E

43. Tarımsal verim üretimin tarım alanına oranıdır. Kısacası birim alandan elde edilen üretim miktarıdır. Bu nedenle tarım alanlarının genişletilmesi tarımsal üretimi artırırsa da, verim üzerinde etkili de-ğildir.

CEVAP: E

44. Arıcılık faaliyetleri bitki örtüsü ile yakından ilgilidir. Arıcılığın yapılabilmesi için orman örtüsünün ya da çiçekli bitkilerin yaygın olması gerekir. Konya Bölümü doğal bitki örtüsü bakımından oldukça fakirdir. Bu nedenle burada arıcılığın Menteşe Yöresi (Muğla), Erzurum – Kars, Doğu ve Batı Karadeniz kadar yaygın olması beklenmez.

CEVAP: B

45. Doğru dağılışı şu şekilde olmalıdır:

- I. İshakpaşa Sarayı
- II. Sümela Manastırı
- III. Nemrut Heykelleri
- IV. Hierapolis Antik Kenti

CEVAP: E

46. Bir kimsenin imam huzurunda evlenmesi yokluk ile hükümsüzdür. **Yokluk**, bir hukuki işlemin kurulması için gerekli kurucu unsurların bulunmaması durumunu ifade eder.

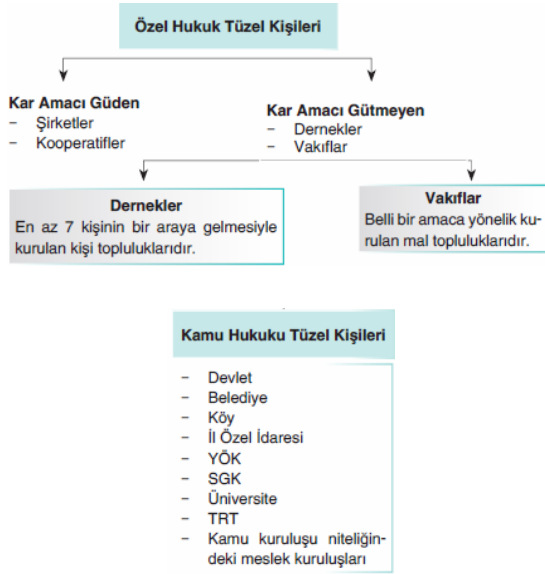
Butlan, bir sözleşmenin kurucu unsurlarında bir eksiklik bulunmamasıyla beraber, hukuk düzenince belirlenen sebeplerle geçersiz olması ve hukuki işlemin başından itibaren hüküm ve sonuç doğurmasını ifade eder.

Kanunda belirlenen butlan sebepleri:

- Kanunun emredici hükümlerine aykırılık
- Kişilik haklarına aykırılık
- İmkansızlık
- Ahlaka ve adaba aykırılık
- Tam ehliyetsizlik
- Muvazaa

CEVAP: D

47. Tüzel kişilik, belirli bir amacı gerçekleştirmek amacıyla bir araya gelen kişi ya da mal topluluklarıdır. Üniversiteler kamu hukuku tüzel kişisidir. Tüzel kişi türleri:



CEVAP: C

48. Sözleşme hukuki bir işlemdir. Bir iradeyi dışı açıklama üzere kullanılan araca şekil denir. Evlenme sözlü şekle tabi bir sözleşmedir.

Sözlü şekil
<ul style="list-style-type: none"> • Evlenme • Sözlü vasiyet
Yazılı şekil
<ul style="list-style-type: none"> • Taşınır bağışlama vaadi • Ömür boyu gelir sözleşmesi • El yazılı vasiyet • Önalım sözleşmesi • Taşınmaz simsarlığı • Alacağın devri sözleşmesi • Kefalet sözleşmesi
Resmi şekil
<ul style="list-style-type: none"> • Mal rejimi sözleşmesi • Ölünceye kadar bakma sözleşmesi • Miras sözleşmesi • Resmi vasiyetname • Taşınmaz satış vaadi • Finansal kiralama sözleşmesi • Motorlu araç satışı • Taşınmaz satışı • Sınırlı ayni hak kurma • Taşınmaz bağışlama vaadi • Alım, geri alım sözleşmeleri

CEVAP: A

49. Milletvekili seçilme yeterliliği Anayasa'nın 76. Maddesinde düzenlenmiştir. Milletvekili seçilebilme bazı şartlara bağlanmıştır. Bu şartları olumlu şartlar ve olumsuz şartlar olmak üzere iki grupta toplayabiliriz.

Olumlu Şartlar
<ul style="list-style-type: none"> • Türk vatandaşlığı • 25 yaşını doldurmuş olmak • En az ilköğretim mezunu olmak • Yükümlü olduğu askerlik hizmetini yapmış olmak
Olumsuz Şartlar
<ul style="list-style-type: none"> • Kısıtlı olmamak • Kamu hizmetlerinden yasaklı olmamak • Taksirli suçlar hariç toplam bir yıldan fazla hapis cezasına hüküm giymiş olmamak • Yüz kızartıcı suçlardan hüküm giymiş olmamak • Kaçakçılık, resmi ihale ve alım satımlara fesat karıştırmaya, Devlet sırlarını açığa vurma, terör eylemlerine katılma ve bu gibi eylemleri tahrik ve teşvik suçlarından hüküm giymiş olmamak

CEVAP: D

Y A R G I Y A Y I N E V I

50. Hükümetin genel siyasetinin yürütülmesini gözetmek Başbakan'ın görevidir.

Parlamentar sistemde Bakanlar Kurulu yürütmenin siyasal bakımdan sorumlu olan, dolayısıyla yürütme yetkisini fiilen kullanan organdır. Anayasaya göre Bakanlar Kurulu Başbakan ve bakanlardan oluşur.

Bakanlar Kurulu'nun görev ve yetkileri:

- Kanun hükmünde kararname çıkarmak
- Genel siyaseti yürütmek
- Kanun tasarısı hazırlamak
- Yönetmelik çıkarmak (Anayasada açıkça düzenlenmemiştir.)
- Cumhurbaşkanı'na Genelkurmay Başkanını önermek
- Türk Silahlı Kuvvetlerini yurt savunmasına hazırlamak
- Tüzük çıkarmak
- Cumhurbaşkanı başkanlığında olağanüstü hâl ve sıkıyönetim ilan etmek
- Milli güvenliği sağlamak
- Anayasada verilmiş diğer görev ve yetkiler
- Kanunlarla verilmiş görev ve yetkiler

CEVAP: A

51. Anayasa mahkemesi denetimine tabi olmayan normlar:

- Milletlerarası anlaşmalar
- Olağanüstü Hal ve Sıkıyönetim Kanun Hükümünde Kararnameleri
- İnkılap Kanunları
 - Tevhid-i Tedrisat Kanunu
 - Şapka İktisası Hakkında Kanun
 - Bazı Kisvelerin GiyiniImeyeceğine Dair Kanun
 - Tekke ve Zaviyelerde Türbelerin Seddine ve Türbe darlıklar ile Birtakım Unvanların Men ve İlğasına Dair Kanun Beynelmilel Erkamın Kabulü Hakkında Kanun
 - Türk Kanunu Medenisiyle Kabul Edilen, evlenme akdinin evlendirme memuru önünde yapılacağına dair Medeni Nikah Esası
 - Efendi, Bey, Paşa gibi Lakap ve Unvanların Kaldırıldığına Dair Kanun
 - Türk Harflerinin Kabulü ve Tatbiki Hakkında Kanun
- Üç istisna dışında parlamento kararları istisnalar:
 - TBMM içtüzüğü,
 - Milletvekilliğinin düşürülmesi
 - Yasama dokunulmazlığının kaldırılması

CEVAP: D

52. Kamu hizmeti gören memurların bazı sorumlulukları ve yasakları vardır. Resmi belge, araç ve gereçleri iade etme memurların yasağı değil, yükümlülüğüdür.

Memurların Sorumlulukları	Memurların Yasakları
<ul style="list-style-type: none"> • Anayasa ve kanunlara saygılı olma • Tarafsız olma • Kamu hizmetlerini bizzat ve kesintisiz yürütme • Hiyerarşik amirlerine itaat etme • Mal bildiriminde bulunma • Davranış ve giyimlerinde itinalı olma • Resmi belge, araç ve gereçleri görevinin bitiminde iade etme 	<ul style="list-style-type: none"> • İkinci bir görev alma yasağı • Sanat ve ticaretle uğraşma yasağı • Gizli bilgileri ifşa etme yasağı • Ayrıldığı kuruma karşı görev alma yasağı • Siyasi faaliyette bulunma ve siyasi partilere girme yasağı • Hediye ve menfaat sağlama yasağı • Grev yasağı

CEVAP: D

53. Köyün isteğe bağlı işlerini zorunlu hale getirmek köy derneğinin görevidir.

Muhtar köy idaresinin başı, yürütme organı ve temsilcisidir.

Köy muhtarının görev yetkileri:

- Köyün güvenliğini ve sağlığını korumak
- Nikah kıymak
- Adli işlemleri tebliğ etmek
- Vergi ve asker toplamaya yardımcı olmak
- Hastalıkları hükümete bildirmek
- Köy derneği ve ihtiyar heyetinin kararlarını uygulamak
- Köyün harcamaları ile ilgili ihtiyar heyetine hesap vermek
- Mahkemelerde köyü temsil etmek

CEVAP: E

Y
A
R
G
I
Y
A
Y
I
N
E
V
I

54. Büyükşehir belediyeleri nüfusu **750 binden** fazla olan il belediyelerinin fiziki yerleşim yerleri ve ekonomik durumları da göz önünde bulundurularak **kanunla** kurulur. İlçe belediyeleri üzerinde idari vesayeti vardır.

CEVAP: A

55. Singapur, UNESCO tarafından Yaratıcı Tasarım Şehri seçildi. İletişim ve Enformasyon Bakanı Yaacob İbrahim, yaptığı açıklamada, UNESCO'nun ödülünü almaktan memnuniyet duyduklarını belirterek, "Singapur'da, halk için yaşamı geliştirecek tasarımlar yapmaya devam edeceğiz. Böylece Singapur'u çok daha yaşanabilir bir şehir haline getireceğiz" ifadesini kullanmıştır.

CEVAP: A

56. Suudi Arabistan'ın Medine kenti 2017 İslam aleminin turizm başkenti seçildi. İslam İşbirliği Teşkilatı (İİT) Genel Sekreteri İyad Emin el-Medeni tarafından Nijer'in başkenti Niamey'de bugün sonlanan İİT üyesi ülkelerin turizm bakanları konferansının ardından yayımlanan yazılı açıklamada, Medine kentinin 2017, İran'ın Tebriz kentinin ise 2018 İslam dünyası turizm başkenti seçildiği belirtildi.

CEVAP: A

57. Birleşmiş Milletler Örgütü ya da kısaca Birleşmiş Milletler (BM), 24 Ekim 1945'te kurulmuş dünya barışını, güvenliğini korumak ve uluslar arasında ekonomik, toplumsal ve kültürel bir iş birliği oluşturmak için kurulan uluslararası bir örgüttür. Birleşmiş Milletler kendini "adalet ve güvenliği, ekonomik kalkınma ve sosyal eşitliği uluslararası tüm ülkelere sağlamayı amaç edinmiş küresel bir kuruluş" olarak tanımlamaktadır.

Arapça, Çince, Fransızca, İngilizce, İspanyolca ve Rusça örgütün resmî dilleridir.

CEVAP: D

59. TCG Heybeliada (F-511), Türk Deniz Kuvvetleri'ne yerli üretim gemi sağlanmasını amaçlayan MİLGEM Projesi dahilinde inşa edilen ilk Türk savaş gemisidir. Ön dizaynı 2004 yılında tamamlanan geminin ilk kaynağı 26 Temmuz 2005 tarihinde yapıldı ve inşasına 22 Ocak 2007 tarihinde başlandı. 27 Eylül 2008 tarihinde denize indirilen gemi; keşif, karakol, arama-kurtarma, denizaltı savunma harbi, denizde terörist etkinliklerin takibi ve önlenmesi, kıyı kontrol ve koruması görevlerinde kullanılabilir.

CEVAP: D

58. Dünyanın Yedi Harikası, tamamı insanoğlu tarafından inşa edilmiş, olağanüstü antik yapı ve yapıtlardır. Ayrıca Antik Dönemin Yedi Harikası adıyla da bilinir. İlk olarak MÖ 5. yüzyılda tarihçi Herodot tarafından ortaya atılan bir kavramdır. MÖ 4. yüzyılda Sidon'lu Antipatros tarafından ilk olarak "Dünya'nın yedi harikası üzerine" adlı eserle oluşturulmuştur.

Yedi harika: Mısır Piramitleri, İskenderiye Feneri, Babil ve Asma Bahçeleri, Efes- Artemis Tapınağı, Rodos Heykelleri ve Bodrum Mozolesi'dir.



İsviçre merkezli "New7Wonders Vakfı", dünyanın yeni 7 harikasını belirlemek için başlattığı yarışmaya 21 finalist eser katıldı. Dünyanın dört bir yanından yaklaşık 100 milyon kişi cep telefonu ve **Yeni Yedi Harika**, New7Wonders.com adlı internet sitesinde 6 yıl boyunca oy kullanarak dünyanın yeni 7 harikasını seçti. Oylama 7 Temmuz 2007'de (07/07/07) sona erdi. Cep telefonu ve internet oylarıyla belirlenen dünyanın yeni 7 harikası, Portekiz'in başkenti Lizbon'da ilan edildi. Dünyanın yeni 7 harikası; Ürdün'deki Petra Antik Kenti, Çin Seddi, Brezilya'daki Kurtarıcı İsa Heykeli, Peru'daki Machu Picchu Antik Kenti, Meksika'daki Chichen Itza Piramidi, İtalya'nın Roma kentindeki Kolezyum ve Hindistan'daki Tac Mahal anıt mezarı şeklinde sıralandı.

CEVAP: E

Y
A
R
G
I
Y
A
Y
I
N
E
V
I

60. Azerbaycan **D-8** ülkelerinden değildir. D-8, ya da İngilizce uzun adıyla Developing Eight (gelişmekte olan sekiz ülke), 8 üye ülkeden oluşan bir uluslararası kuruluş. Bu sekiz ülke Türkiye, İran, Pakistan, Bangladeş, Malezya, Endonezya, Mısır ve Nijerya. D-8 içinde yer alan ülkeler aynı zamanda İslam İşbirliği Örgütü'nün de üyeleridir. D-8 üyeleri, tabii kaynakları, kalabalık nüfusları ve potansiyel pazarlarından ötürü kendi bölgelerinde önemli konum arz etmektedirler.

CEVAP: E



Türkiye'nin

en ucuz
en hızlı
en güvenilir

kitap
satış
siteleri

Yargiyayinevi.com

Gerçek sınavdan
tek farkımız
"Online" olmamız!



kitapsec
www.kitapsec.com



yargı
yayınevi

Akademik ve Özgün
Öğretim Sistemleri



**deneme
zamanı**
.com

**yargı
tv**

Uzaktan Eğitim
Video Dersler



Ostim Mahallesi
Turan Çiğdem Caddesi 36/3
Yenimahalle/ANKARA

Tel: (0312) **386 13 22**
Fax: (0312) **386 00 39**