



2016

KAMU PERSONEL SEÇME SINAVI (LİSANS)

GENEL YETENEK GENEL KÜLTÜR TESTİ

Deneme Sınavı • 5

DİKKAT!

SINAVA BAŞLAMADAN ÖNCE AŞAĞIDAKİ UYARILARI MUTLAKA OKUYUNUZ.

1. Adınızı, soyadınızı, T.C. Kimlik Numaranızı ve sınav salon numaranızı aşağıya yazınız.

ADINIZ :

SOYADINIZ :

T.C. KİMLİK NUMARANIZ :

SINAV SALON NO :

2. Genel Yetenek – Genel Kültür Testi için verilen **toplam** cevaplama süresi **120 dakikadır**.
3. Bu testte **120 soru** vardır.
4. Cevaplamaya istediğiniz testten ve sorudan başlayabilirsiniz. Her soru ile ilgili cevabınızı, cevap kâğıdında o soru için ayrılmış olan yere işaretlemeyi unutmayınız.
5. **Testler puanlanırken her testteki doğru cevaplarınızın sayısından yanlış cevaplarınızın sayısının dörtte biri düşülecek ve kalan sayı o testle ilgili ham puanınız olacaktır. Bu nedenle, hakkında hiçbir fikrinizin olmadığı soruları boş bırakınız. Ancak, soruda verilen seçeneklerden birkaçını eleyebiliyorsanız kalanlar arasından doğru cevabı kestirmeye çalışmanız yararınıza olabilir.**

© COPYRIGHT YARGI YAYINEVİ

Yayın Hakkı

Bu kitabın her türlü yayım hakkı Yargı Basın Yayın Dağıtım Ltd. Şti.'ye aittir. Bu kitabın baskısından 5846 ve 2936 sayılı Fikir ve Sanat Eserleri Yasası hükümleri gereğince kaynak gösterilerek bile olsa alıntı yapılamaz, herhangi bir şekilde çoğaltılamaz, genel ağ ve diğer elektronik ortamlarda yayımlanamaz.



Başarılar dileriz...



KPSS

GENEL YETENEK

www.yargiyayinevi.com

1. Hayatımızda yaptıklarımızdan çok yapamadıklarımız yer almaktadır. Gezmek isteyip de gezemediğimiz, yapmak isteyip de yapamadığımız... Hep bir şeylerin peşinden yetişmeye çalışıyoruz. İlkokuldu, ortaöğretimdi ve ardından üniversite derken hep hayatı ıskalıyoruz.

Bu parçadaki "hayatı ıskalamak" sözünün parçaya kattığı anlam aşağıdakilerin hangisinde vardır?

- A) Farkında olmadan birçok şeyi ihmal ediyoruz.
B) Birçok alanla aynı anda uğraşınca başarılı olamıyoruz.
C) Yaşamı ciddiye almak gerektiğini bilmiyoruz.
D) Fırsatları iyi değerlendirememekten yakınıyoruz.
E) İstediklerimizi değil, istemediklerimizi yapmaya zorlanıyoruz.

2. Gerçeği dile getirmenin ---- değil, bin bir yolu vardır; gerçek sanatçı, ---- arayan, böyle bir ---- gösteren kişidir.

Bu cümlede boş bırakılan yerlere düşüncenin akışına göre, aşağıdakilerin hangisinde verilenler sırasıyla getirilmelidir?

- A) çok - orijinali - cesareti
B) bir - bin ikinci - yürekliliği
C) tek - farklı olanı - yürekliliği
D) bin - bin ikinci - atılımı
E) bir - binlercesini - kararlılığı

3. Maçı, Hollanda kaybetmedi, Millî Takım'ımız kazandı.

Bu cümleden çıkarılacak kesin yargı aşağıdakilerden hangisidir?

- A) Hollanda kötü futbol oynamıştır.
B) Millî Takım'ımız iyi motive olmuştur.
C) Hollanda iyi futbol oynamamıştır.
D) Millî Takım'ımız galip gelmiştir.
E) Millî Takım'ımız güzel futbol oynamıştır.

Y
A
R
G
I
Y
A
Y
I
N
E
V
İ

4. I. Ben, herkesin alışık olmadığı farklı bir evde büyüdüm.

II. Yani evin içinde resim, kitap, dergi hep vardı.

III. Böyle bir havayı soluyunca insan kendiliğinden sanata ilgi duyuyor.

IV. Dayım da odasında sürekli bir şeyler yazardı.

V. Babam ve ağabeyim profesyonelce olmasa da resimle ilgileniyorlardı.

Yukarıdaki cümleler anlamlı bir bütün oluşturacak biçimde sıralandığında hangisi baştan ikinci olur?

- A) I. B) II. C) III. D) IV. E) V.

5. Kuşaklararası çatışmalar, baskılar derken, gençler çoğu zaman erken yaşlanıp toplumdaki rollerine bürünüyorlar.

Bu cümleye anlamca en yakın yargı, aşağıdakilerden hangisidir?

- A) Kuşaklararası çatışma her dönemde yaşanmıştır.
 B) Toplumsal baskılar, gençleri çok etkilemektedir.
 C) Baskılar, gençlerin çok erken yaşlarda büyüklere benzemesine neden olmaktadır.
 D) Gençler, kendilerine örnek olarak büyüklerini almaktadır.
 E) Çatışma ve baskılar, gençlerin özgürlüklerini kısıtlamaktadır.

6. Wagner, Almanya'da ısıklı karşılanan ilk operalarını Paris'te sahneye koyduğu zaman, kendisini ilk anlayanlardan biri, belki de birincisi, devrinin anlaşılmamış şairi Baudelaire olmuştur.

Bu cümleden aşağıdaki yargılardan hangisi çıkarılabilir?

- A) Her sanatçı kendi alanında iddialı olmalıdır.
 B) Sanatçıların birbirini desteklemesi sanatın gelişimini sağlar.
 C) Müzik ve şiir, halkın en zor anladığı iki sanattır.
 D) Çağında anlaşılmayan bir sanatçıyı ancak aynı durumdaki bir sanatçı anlar.
 E) Getirdiği yenilik yüzünden yadırganan her sanatçı, sabırla sonuca ulaşacağını bilmektedir.

7. (I) Şimdiye dek hem Tanpınar'la hem de Yahya Kemal'le ilgili pek çok kitap yayımlandı. (II) Yahya Kemal gerçekten büyük şair. (III) Türkçenin, Türkçe şiirsel sözün önünü açmış emsalsiz bir sanatçı. (IV) Ancak, Tanpınar'ın şiirsel girişimi de Dıranas'ın işaret ettiği gibi, çok önemli. (V) Tanpınar, Özellikle Valery'yi örnek alarak, Türkçede evrensel insanı şiirleştirmek istemiş yalnızca Türk okuruna değil, evrensel okura da seslenebilecek bir şiir dili kurmuştur.

Bu parçadaki numaralanmış cümlelerle ilgili aşağıda verilenlerden hangisi yanlıştır?

- A) I. cümlede, Tanpınar ve Yahya Kemal'le ilgili pek çok şiir kitabı yayımlandığı belirtilmiştir.
 B) II. cümlede, Yahya Kemal'in şairlik yönünün üstünlüğüne vurgu yapılmıştır.
 C) III. cümlede, II. cümleye yönelik bir açıklamada bulunulmuştur.
 D) IV. cümlede, Dıranas'ın görüşünden hareketle bir düşünce savunulmuştur.
 E) V. cümlede, Tanpınar'ın şiirlerinin evrensel bir nitelik taşıdığı belirtilmiştir.

Y
A
R
G
I
Y
A
Y
I
N
E
V
İ

8. Aşağıdaki cümlelerin hangisinde zincirleme ad tamlaması vardır?

- A) Toros Dağları'nı aşip Olimpos'a çıkmak, Prometheus'un ateşi çalma düşünün yurduna uğramak gerekiyordu.
 B) Tanrılara başkaldırarak bize ateşi öğreten bu adamın sırrına ermek gerekecekti belki de.
 C) Kimsiz kimsesiz bir dağın enginindeki ateşin simgeleştiği yere gidiyorum.
 D) Karanlıklardan süzülüp gelen ateşin yalınlanarak yanışı bana onun göklerdeki serüvenini de düşündürdü.
 E) Tanrılardan ateşi çalarak insanlara sunuşunun öyküsünü anlatıyordu yaşlı adam.

9. Abdülbaki Gölpınarlı, Kaygusuz Abdal için şunları demiştir: "Birçok şiirde tatmin edilemeyen isteklerin ^I özlemi, bilinçaltı ^{II} izlenimlerin ^{III} sözegelişi, özlü bir ya- ^{IV} sayış ve dilenen mutluluk özlemi ^V göze çarpar."
- Bu parçadaki numaralanmış sözcüklerden hangisi yapıca diğerlerinden farklıdır?**
- A) I. B) II. C) III. D) IV. E) V.

11. **Aşağıdaki cümlelerin hangisinde öğelere ayırmada yanlışlık yapılmıştır?**

- A) Ağacın gölgesinde dünyayı / seyredenler, / ağaçla konuşmaya / çekinmeyenlerdir.
- B) Soğuk evlerdeki yoksullara, / kurtuluş ülküleriyle değil, / battaniyelerle / giderler.
- C) Öfkemi / kayalık bir dağın en yüksek tepesinde / saklıyorum / yıllardır.
- D) Açlığın sesini / hız kesip yavaşlayarak / bastırıyorsun.
- E) Söz ülkesinde diz çökmüş olanlar / her eşiğe / baş koymazlar.

Y
A
R
G
I
Y
A
Y
I
N
E
V
İ

10. Şiir bir çığlıktır, bir ilânı aşktır, sallanan bir yumruktur, bir ümittir, bir kurtuluştur.
- Bu cümleyle ilgili olarak aşağıdakilerden hangisi yanlıştır?**
- A) Öznesi ortak bağımlı sıralı cümledir.
- B) Olumlu ad cümlesidir.
- C) Yüklem, sıfat tamlamasından oluşmuştur.
- D) Özne, söz öbeğinden oluşmuştur.
- E) Birden çok ek fiil kullanılmıştır.

12. **Aşağıdaki cümlelerin hangisinde adlaşmış sıfat görevinde bir fiilimsi kullanılmıştır?**

- A) Matbaa bulunduktan sonra geceler karanlık olmamıştır.
- B) Biz yönetenler, hükümetle basındır.
- C) Başlamak, yarı yarıya bitirmektir.
- D) İyi bitirmek, iyi başlamadan daha üstündür.
- E) Kurumuş bir gül vardı defterinin arasında

13. (I) İbrahim Çallı, Denizli'nin Çal İlçesi'nde, 13 Temmuz 1882 tarihinde doğdu. (II) 1899 yılında ailesi onu İstanbul'a gönderdi. (III) 1900'de Ressam Roben Efendi'den ilk resim derslerini almaya başladı. (IV) 1906'da Sanayi-i Nefise Mektebi'ne girdi. (V) Altı yıllık bu okulu Çallı, üç yılda bitirdi.

Bu parçadaki numaralanmış cümlelerin hangisinde yazım yanlış vardır?

- A) I. B) II. C) III. D) IV. E) V.

15. **Aşağıdaki cümlelerin hangisinde yanlış anlamda kullanılan bir sözcük yoktur?**

- A) Küçük yaşta olmasına rağmen yaptığı çalışmalar azımsanacak türden değildir.
B) Çizdiği doğa fotoğrafları ile sanat dünyasındaki yerinin ne kadar önemli olduğunu bir kez daha gösterdi.
C) Bu kadar çekimser olduğunu bilseydim seninle misafirlige gitmezdim.
D) Milliyetçilik akımı, Fransız ihtilâli sonucunda ortaya çıkmıştır.
E) İşçi ücretlerine yapılan zam, geçen yıla oranla daha fazlaydı.

Y
A
R
G
I
Y
A
Y
I
N
E
V
İ

14. Genç sanatçılara şöyle bir öğüdüm var () Sakın yarışmaları fazla önemsemeyin () Katılın ama sadece diğer sanatçıların yanında yaptınızı değerlendirmek amacıyla () Ödül () para da olsa gelecek için sanatçı olmaya yetmez ()

Bu parçada yay ayraçlarla gösterilen yerlere sırasıyla aşağıdakilerin hangisinde verilen noktalama işaretleri getirilmelidir?

- A) (.) (.) (.) (;) (!) B) (;) (!) (.) (,) (.)
C) (;) (.) (.) (,) (.) D) (.) (!) (.) (,) (...)
E) (;) (!) (;) (,) (.)

16. Aldırış etmez görünüyorum ama göğsümün sol üst yanında telâşlı bir yaralı kuş çırpınıp duruyor. Sonra beyaz bir duman gibi çekilip gidiyor. Ancak o zaman fırlıyorum yatağımdan, koşuyorum. Merdivenleri koşarak iniyorum. Gecelik entarim, çıplak ayaklarımla kovalıyorum. Sokağa atıyor kendini. Ben de ardından. Hayvan pislikleriyle kirlili parke-lerde bir kaçma, kovalama. Şehrin dışına çıkıyoruz. Tarlalar. Diken dolu tarlalar. Başlıyor uçmaya. Ardından çığlık çığlığayım, ben de uçuyorum.

Bu parçanın anlatımıyla ilgili aşağıdakilerden hangisi söylenemez?

- A) İnsandan doğaya aktarma yapılmıştır.
B) Benzetmeye başvurulmuştur.
C) Betimleyici öğelere yer verilmiştir.
D) Öyküleyici anlatım söz konusudur.
E) Gözlemlerden yararlanılmıştır.

17. Hayata kafa tutmak başlı başına bir meziyettir; hem kararlılık hem de güç gerektirir. Gözü kara olmaktır. Körü körüne öğretilerle sınırlı kalmadan, her sunulanı yazgı diye kabullenmeden karşı koymayı, genel geçer yargıların engeline takılmadan yürümeyi, hayatı kolaylaştırmak adına konmuş kuralları sorgulamayı gerektirir. Aykırılıklara, aşırılıklara, uyumsuzluklara yer tanımayan bir toplumda bunları başarmak pek de kolay değildir. O yüzden hayata kafa tutmak, bedel ödemeyi de zorunlu kılar.

Bu parçaya göre, aşağıdakilerden hangisi "hayata kafa tutmak için" yapılması gerekenlerden biri değildir?

- A) Alışlagelenin dışına çıkabilmeye çalışmak
- B) Geleneksel değerlerle çatışmayı göze almak
- C) Toplumsal değer yargılarına saygılı olmak
- D) Güçlükler karşısında yılmadan çaba harcamak
- E) Var olanı olduğu gibi kabullenmekten kaçınmak

18. Gündelik hayatımızda, çoğu zaman öz irademiz dışında âşina olduğumuz insanlar vardır. (I) İş yerindeki iş arkadaşları, komşular âşina olduğumuz kişilerdir. (II) Ama bir de dostlarımız vardır; onları tanıdıklarımızdan, âşina olduklarımızdan ayırt ederiz hep. (III) Mekânlarla dost olmayı pek aklımıza getirmeyiz. (IV) Aslında mekânlarla, şehirlerle, semtlerle dost olunabilir. (V) Hatta bir mekâna âşık bile olunabilir. (VI) Ama öncelikle bunu istemek, hissetmek, arzulamak gerekir herhalde.

Bu parça iki paragrafa ayrılmak istense ikinci paragraf hangi cümleyle başlar?

- A) II. B) III. C) IV. D) V. E) VI.

19. (I) Folklor, ulusal temele dayanır ama evrensel nitelik taşır. (II) Bu, halk yaşayışının her yerde ortak nitelikler göstermesinden ötürüdür. (III) Folklor, ayrılıklara değil, benzerliklere önem verir; ortak noktaları saptamaya çalışır. (IV) Böylece başta ulusal basamakta olan folklor, benzerselleşir. (V) İnsanlar ve toplumlar arasındaki sevgi bağını kurmaya çalışır.

Bu parçadaki numaralanmış cümlelerin hangisinden sonra düşüncenin akışına göre, "Çünkü folklor, ayırıcı değil; birleştiricidir." cümlesi getirilmelidir?

- A) I. B) II. C) III. D) IV. E) V.

Y
A
R
G
I
Y
A
Y
I
N
E
V
I

20. Eğitimi alınmadan veya bir iş iyice öğrenilmeden ortaya çıkan eserin güzel olması, tesadüflere bağlıdır. Şiirde anlatılan kadar, anlattıklarımızın mısralara dökülürken etkileyici bir üslupla birleştirilmesi önemlidir. Şiir basit bir sanat dalı değildir, çünkü. Şiir, sanıldığı gibi basit bir sanat dalı olsaydı günümüzde ya da her devirde sayılamayacak kadar çok şairin yetişmesi ve hepsinin de çağımızda meşhur bir şair olarak okunuyor olması lazım gelmez miydi? Oysaki şair diye anılanların azlığı ile yaşadığı devirde şair diye tanınanların çokluğu arasında ters bir orantı vardır.

Bu parçadan çıkarılabilecek en kapsamlı yargı aşağıdakilerden hangisidir?

- A) Şiir, basit bir sanat dalı olmayıp emek ve uğraşı isteyen bir edebî türdür.
- B) Çok sayıda şairin olması onların gerçek birer şair olduğunu göstermez.
- C) Günümüzde tesadüflere bağlı olarak ortaya çıkan pek çok şair vardır.
- D) Her şair, şiirde biçim ve içerik uyumunu gözetmelidir.
- E) Şiirde önemli olan içerik değil, biçimdir.

21. Bir insanın yaşam öyküsü, bilinç dışıdır diyen Alice Miller, yeni kitabı “Beden Asla Yalan Söylemez”de, ünlü yazarların yaşam öykülerinden de yola çıkarak, insanın inkar ettiği her anının, her duygunun, her ihtiyacın, kişinin bedeninde nasıl gizlendiğini ve inkar edilmeye devam edildiği sürece hastalıklara nasıl yol açacağını, kendi yaşamından ve bir psikanalist olarak tecrübelerinden faydalanarak çarpıcı bir biçimde anlatıyor. Bu da aklımıza ister istemez şu soruları getiriyor: Dostoyevski'nin sağlığının çoğu zaman kötü olması, kronik uykusuzluk çekmesi ve korkunç kabuslar görmesiyle çocukluğu arasında bir ilişki var mıydı? Ya da Anton Çehov'u, babasından her gün tokat yemesi mi tüberküloz yapmıştı? Peki ya Kafka, tüm o eserleri babasıyla hesaplaşmak için mi yazmıştı, ayrıca Çehov gibi hastalanıp ölmesinin gerçek nedeni, çocukluğunda yaşadıkları mıydı?

Bu parçaya göre yazarın aklına takılan soruların nedeni aşağıdakilerden hangisidir?

- A) Alice Miller'in yaşamını ilgi çekici bulması
- B) Ünlü edebiyatçıların beklenmedik biçimde yaşamlarının sona ermesi
- C) Alice Miller'in yaşam ve tecrübelerini yansıttığı eseri okuması
- D) Ünlü yazarların yaşam öykülerinin ilgi çekici olması
- E) Alice Miller'in gizli kalmış bazı gerçekleri cesaretle ortaya koyması

22. Romanda kendini masalımsı ve olağanüstü güçleri olan biri olarak tanıtan kahraman, ikinci sayfaya geçer geçmez bir araba tamircisine dönüşüyor. Bu garip yaratık, insan oluveriyor. Okuyucuysa şaşkın bir durumda karşısındakinin kim olduğunu anlayamıyor. Bu belirsizlik, romanın akışı içerisinde ustaca sürdürülüyor. Sıradan görünen bir çocuğun, sıradan olmayan iç dünyası ve onun gözünde her şeyin imgelere dönüşmesi, romanın kahramanını unutulmaz kılıyor.

Bu parçada aşağıdakilerden hangisine değinilmemiştir?

- A) Roman kahramanına başlangıçta olağanüstü özellikler verildiğine
- B) Kahramanın giderek gerçek kimliğiyle kendini gösterdiğine
- C) Roman kahramanının iç dünyasının zenginliğiyle okuru etkilediğine
- D) Roman kahramanının, yazarın çocukluğundan izler taşıdığına
- E) Roman kahramanındaki belirsizliğin roman boyunca devam ettiğine

23. Cinsel kimliğin gelişimine ait en büyük etkenlerden biri de cinse uygun iş ve becerileri kazanabilmektir. Birçok ebeveyn evlatlarına “Ben sizden sadece ders çalışmanızı ve derslerinizde başarılı olmanızı istiyorum, başka hiçbir şeye gerek yok.” diyerek masumane, fakat karakter gelişimlerine özgü becerilerin kazanımını çok da önemsemeyen bir tavır sergilerler. Oysaki erkek ya da kız çocuğunun aile kültürünü kazanması, ev içerisinde cinsel kimlikleriyle ilgili iş ve sorumlulukları öğrenmesi çok önemli bir husustur. Yarıyıl tatilinin bir gününde, anneler kız çocuklarına, mutfağın her türlü dağılıma riskini göze alarak yemek pişirmeyi öğretebilirler. Öğretmekle kalmayıp tüm sorumluluğu kız çocuklarına verebilirler. Babalar ise erkek çocuklarına basit ev işlerini yapmayı öğretebilirler. Bu etkinlikleri, “sempatik yaklaşarak ve çocuğunuza ihtiyacınız olduğunu hissettirerek” yaparsanız daha iyi sonuç alabilirsiniz.

Bu parçada aşağıdakilerden hangisi çıkarılmaz?

- A) Çocukların cinsiyetlerine yönelik kimlik kazanmalarında ev işlerine yönelik beceri kazanmalarının rolü yadsınamaz.
- B) Çocuklarda cinsel kimliğin gelişmesinde cinsiyetlerine uygun iş ve beceriler kazanmalarının rolü önemlidir.
- C) Çocuklardan yalnızca derslerine yönelik başarı beklemekle karakter gelişmelerini ihmal etmiş oluruz.
- D) Kız olsun, erkek olsun çocukların kendi cinsiyetlerine uygun işlerde beceri kazanmaları kişilik gelişmelerini de olumlu etkiler.
- E) Çocukların kişilik kazanmalarında kız-erkek ayrımı olmadan aynı ev işlerine yönlendirilmeleri gerekir.

Y
A
R
G
I
Y
A
Y
I
N
E
V
I

24 ve 25. Soruları Aşağıdaki Parçaya Göre Cevaplayınız.

(I) Eğitim-öğretim yılını başarısız bir şekilde geçiren çocuk için yaz tatili yoğun bir ders çalışma temposu içinde geçirilmemelidir. (II) Yaz tatilinde bu başarısızlığın nedenleri üzerinde durulmalı ve çocuk adına da ders çıkarmakla beraber anne ve baba kendi adlarına düşünmeli ve özellikle bu yaz tatili söz konusu başarısızlığa neden olan unsurlar üzerinde durularak bunlar için gelecek yılda ne gibi önlemler alınmalı diye düşünülmesi. (III) Yaz tatili her öğrenci için iyi bir dinlenme ve motivasyon sağlamaya yönelik değerlendirilmeli ve yine yoğun bir eğitim-öğretim yılı için çocuklar enerji toplamalıdır. (IV) Sizlere, yaz tatilinizi değerlendirirken, hem çocuğunuzla ve ailenizle olan iletişiminizin güçlenmesi hem de çocuğunuzda görmek istediğiniz olumlu karakter özelliklerinin kazanımı için birtakım etkinlikler ve aktiviteler öneriyoruz. (V) Bu aktiviteleri sizler kendi hayal dünyanız ve çocuğunuzdaki ihtiyaçlar nispetinde farklılaştırabilir ve bu aktivitelerle fikirlerinize yeni bir bakış açısı kazandırabilirsiniz. (VI) Unutmayın; çocuğunuzla yaşayacağınız küçük ama farklı bir paylaşım, ummadığınız güzelliklere kapı açabilir.

Y
A
R
G
I
Y
A
Y
I
N
E
V
İ

24. Bu parçada aşağıdakilerden hangisine değinilmemiştir?

- A) Çocuklar için yaz tatilinin ders çalışmakla geçirilmemesi gerektiğine
- B) Yaz tatilinde çocukların başarısızlığının nedenlerinin belirlenip tedbirler alınmasına
- C) Yaz tatilinin öğrenciler için dinlenme ve enerji toplama yönelik geçirilmesine
- D) Çocuklarla daha sağlıklı iletişim kurmak için bazı etkinlik ve aktivitelerden yararlanılmasının yararına
- E) Çocuklarla yaşanacak görüş ayrılıklarının ileride çok daha büyük sorunlar yaratacağına

25. Bu parçadaki numaralanmış cümlelerle ilgili aşağıdakilerden hangisi yanlıştır?

- A) I. cümlede, yaz tatilinin nasıl geçirilmesi gerektiğine yönelik bilgi verilmiştir.
- B) II. cümlede, çocukların başarısızlıklarının nedenleri ve bu nedenlerin ortadan kaldırılmasının gereği vurgulanmıştır.
- C) III. cümlede, çocukların yaz tatilinde yalnızca doya doya gezip tozup eğlenmelerinin onlara enerji vereceği belirtilmiştir.
- D) V. cümlede, önerilen bazı aktivitelerin çocukta ve ebeveynlerde olumlu sonuçlar doğuracağına işaret edilmiştir.
- E) VI. cümlede, çocuklarla yaşanacak farklı paylaşımların çok olumlu sonuçlar doğurabileceğine vurgu yapılmıştır.

26 ve 27. Soruları Aşağıdaki Parçaya Göre Cevaplayınız.

Bendenizin Yunus'a olan ilgisi ortaokul sıralarına kadar gider. Duyduğum Yunus şiirlerinden büyük zevk alırdım. Ama Yunus'un Divânı'nı ilk defa baştan sona lise son sınıftayken okudum. Yunus'un takipçilerinden Niyâzî-i Mısrî ile tanışmam da bu yıllara rastlar. Birinden anlamadığımı diğerinden çözmeye çalışırdım. Sonra bu okumaları irfan meclislerinden aldığım bilgilerle daha bilimsel bir çizgiye çekmem gerektiğini düşündüm. Doğal olarak Yunus Emre'yi tez konusu olarak almadan önce hakkındaki araştırmaları bütün boyutlarıyla inceledim. Çoğu ciddi olmayan bine yakın makale okudum. 6 ciltlik bir Yunus Emre Külliyyâtı ile Yunus'un hayatı ve şiirlerini içeren tek ciltlik çalışmam böyle olmuştu. Gerçekleştirdiğim bu çalışmanın peşini de hiç bırakmadım. Onlarca yeni bilgi ve belge ekleyerek bugünlere geldik, hâlâ bugün elimdeki müsveddeye yeni bir bilgi bulduğumda ilave ederim. Yunus bitmez, Yunus'un uzmanı olunmaz, öğrencisi olunur.

Y
A
R
G
I
Y
A
Y
I
N
E
V
İ

26. Bu sözler aşağıdaki sorulardan hangisine karşılık söylenmiş olabilir?

- A) Yunus Emre'ye olan ilginiz ve konuyla ilgili çalışmalarınızdan söz eder misiniz?
- B) Yunus'un eserlerini ne zaman okumaya başladınız?
- C) Yunus'un eserlerini ve Yunus'u tez konusu olarak seçmeye nasıl karar verdiniz?
- D) Yunus Emre'yi tez konusu almadan önce Yunus'un eserlerini okuyor muydunuz?
- E) Yunus Emre Külliyyâtı ile Yunus'un hayatı ve şiirlerini konu alan çalışmanız sona erdi mi?

27. Bu parçanın yazarıyla ilgili aşağıdakilerden hangisi söylenemez?

- A) Yunus sevgisiyle dolup taşan biridir.
- B) Yunus ve Niyâzî-i Mısrî'yi aynı yıllarda okumuştur.
- C) İrfan meclislerine katılıp kendini geliştirmiştir.
- D) Yunus'la ilgili çalışmaları sürüp gitmektedir.
- E) Niyâzî Mısrî ile aynı dönemde yaşamıştır.

28 – 30. Soruları Aşağıdaki Bilgilere Göre Cevaplayınız.

Bir restorantta masalara yemeğin ardından ikram olarak içinde incir, karpuz, şeftali, üzüm, portakal ve mandalina meyvelerinden bazıları bulunan meyve tabakları verilmektedir. Tabakların içinde bulunan meyvelerle ilgili aşağıdaki bilgiler verilmiştir.

- Üzümün bulunduğu tabakta mandalina, şeftalinin bulunduğu tabakta karpuz bulunmak zorundadır.
- Mandalina ve karpuzun bulunduğu tabakta üzüm veya şeftali bulunamaz.
- İncirin bulunduğu tabakta mandalina veya karpuz bulunamaz.
- Her meyve tabağında portakal bulunmak zorundadır.

28. Bu bilgilere göre, aşağıdakilerden hangisi kesinlikle doğrudur?

- A) Meyve tabağında portakal varsa incir de olmak zorundadır.
- B) Meyve tabağında karpuz varsa şeftali de olmak zorundadır.
- C) Meyve tabağında mandalina varsa incir de olmak zorundadır.
- D) Meyve tabağında üzüm varsa incir de olmak zorundadır.
- E) Meyve tabağında şeftali varsa portakal da olmak zorundadır.

- 29. I. Üzüm
II. Karpuz
III. Şeftali**

Verilenlere göre, portakalın bulunduğu ve 2 meyve çeşidinden oluştuğu bilinen meyve tabağında yukarıdaki meyvelerin hangisi veya hangileri bulunabilir?

- A) Yalnız I B) Yalnız II C) Yalnız III
- D) I veya II E) I veya III

Y
A
R
G
I
Y
A
Y
I
N
E
V
İ

30. Buna göre, 3 meyve çeşidinin bulunduğu en fazla kaç farklı meyve tabağı yapılabilir?

- A) 1 B) 2 C) 3 D) 4 E) 5

31. x ve y reel sayı olmak üzere $x \cdot y = 12$ dir.

Buna göre,

- I. x tam sayı ise y tam sayıdır.
- II. x irrasyonel sayı ise y irrasyoneldir.
- III. x doğal sayı değil ise y doğal sayı olamaz.

yargılarından hangisi ya da hangileri kesinlikle doğrudur?

- A) Yalnız I
- B) Yalnız II
- C) Yalnız III
- D) I ve III
- E) II ve III

32. Rakamları çarpımı 12 olan üç basamaklı pozitif bir tam sayının birler ve yüzler basamağındaki rakamlar yer değiştirildiğinde oluşan üç basamaklı sayı ile ilk sayının farkı **en çok** kaç olur?

- A) 297
- B) 396
- C) 495
- D) 594
- E) 693

33. Bir hasta üç değişik ilacı 6, 9 ve 10 saatte bir almaktadır.

Bu hasta, ilaçların üçünü bir arada ilk defa Cumartesi günü 04.00 da aldığına göre, ikinci defa üç ilacı bir arada hangi gün ve saat kaçta alır?

- A) Pazar 22.00
- B) Pazartesi 16.00
- C) Pazartesi 22.00
- D) Salı 18.00
- E) Salı 22.00

34. 0,4 sayısı, 72 sayısının kaç katıdır?

- A) $\frac{1}{360}$
- B) $\frac{1}{180}$
- C) $\frac{1}{120}$
- D) $\frac{1}{90}$
- E) $\frac{1}{80}$

35. $\frac{1+0,3 \cdot x}{0,2+0,5 \cdot x} = \frac{2}{3}$

olduğuna göre, x kaçtır?

- A) 26
- B) 28
- C) 30
- D) 32
- E) 34

36. a ve b birer tam sayı olmak üzere,

$$-5 < a < 4$$

$$2 < b < 5$$

olduğuna göre, $a^2 + b^2$ toplamının alabileceği en büyük değer ile en küçük değer toplamı kaçtır?

- A) 35
- B) 39
- C) 40
- D) 41
- E) 43

37. $x < 0 < y$ olmak üzere,

$$\frac{x^2 + 2|xy| + y^2}{|x - y|}$$

ifadesinin eşiti aşağıdakilerden hangisidir?

- A) $x - y$ B) $y - x$ C) $2(x - y)$
D) $-(x + y)$ E) $x + y$

38. a, b ve c gerçel sayılar olmak üzere,

$$2^a = 3$$

$$3^b = 4$$

$$4^c = 8$$

olduğuna göre, $a \cdot b \cdot c$ çarpımı kaçtır?

- A) 3 B) 4 C) 5 D) 6 E) 8

39. $\sqrt{(4\sqrt{3} - 7)^2} - \sqrt{12} + \sqrt{108}$

işleminin sonucu kaçtır?

- A) 9 B) 8 C) 7 D) 6 E) 5

40. Her x gerçel sayısı için

$$x^2 + ax - 5 = (x + 1) \cdot (bx + c)$$

olduğuna göre, $a + b + c$ toplamı kaçtır?

- A) 8 B) 4 C) 0 D) -4 E) -8

Y
A
R
G
I
Y
A
Y
I
N
E
V
İ

41. Her doktora 8 hastanın düştüğü bir yoğun bakım servisinde doktorlardan birisi izin aldığı zaman doktor başına düşen hasta sayısı 12 oluyor.

Buna göre, bu yoğun bakım servisinde kaç doktor görev yapmaktadır?

- A) 2 B) 3 C) 4 D) 5 E) 6

42. Bir koli oyuncak bir sınıftaki öğrencilere beşer beşer dağıtıldığında 1 oyuncak artıyor. Sınıfa 5 öğrenci daha geldiğinde oyuncaklar öğrencilere üçer üçer dağıtılsa 2 oyuncak artıyor.

Buna göre, kolide kaç oyuncak vardır?

- A) 31 B) 36 C) 41 D) 46 E) 51

43. Emre bir bilet sırasında baştan $(2x + 5)$. sırada, sondan $3x$. sıradadır.

Emre bilet sırasının tam ortasında olduğuna göre, sırada kaç kişi vardır?

- A) 29 B) 31 C) 33 D) 35 E) 37

44. Bir lokantada bir kısmı 3 kişilik kalanları 5 kişilik toplam 60 masa vardır.

Lokantada en çok 228 kişi aynı anda yemek yiyebildiğine göre, 3 kişilik masa sayısı kaçtır?

- A) 36 B) 37 C) 38 D) 39 E) 40

45. Bir ürünün maliyetinin %20 sini hammadde oluşturmaktadır.

Hammadde ücretine %300 oranında zam yapılırsa yeni maliyetin yüzde kaç hammadde ücretinden oluşur?

- A) 20 B) 40 C) 50 D) 60 E) 80

46. Bir malın $\frac{1}{3}$ ünü %70 kâr ile kalanını %20 zarar ile satan bir satıcının bu satıştan elde ettiği kâr oranı yüzde kaçtır?

- A) 5 B) 10 C) 15 D) 20 E) 25

Y
A
R
G
I
Y
A
Y
I
N
E
V
İ

47. Hızı saatte 72 km olan araç saat 08.00 da, hızı saatte 90 km olan araç saat 10.00 da A şehrinden B şehrine doğru harekete başlıyor ve aynı anda B şehrine varıyorlar.

Buna göre, A şehri ile B şehri arasındaki yol kaç km dir?

- A) 360 B) 540 C) 630 D) 720 E) 900

48. Bir havuzu özdeş iki musluk 72 saatte dolduruyor.

Muslukların birinden akan su miktarı 2 katına çıkarılıp diğerinden akan su miktarı $\frac{1}{4}$ üne düşürülürse, havuz kaç saatte dolar?

- A) 64 B) 68 C) 72 D) 80 E) 90

49. İngilizce, Almanca ve İtalyanca dillerinden en az birini bilenlerin oluşturduğu toplulukta, en az iki dil bilenlerin sayısı 27, en çok bir dil bilenlerin sayısı 20, en çok iki dil bilenlerin sayısı ise 32 dir.

Buna göre, üç dili de bilen kaç kişi vardır?

- A) 13 B) 14 C) 15 D) 16 E) 17

50. Reel sayılar kümesinde Δ işlemi

$$a \Delta b = \underbrace{a + (a + 1) + (a + 2) + \dots + (a + b - 1)}_{b \text{ tane}}$$

şeklinde tanımlanıyor.

Buna göre, $(10 \Delta 3) \Delta 5$ işleminin sonucu kaçtır?

- A) 165 B) 175 C) 185 D) 195 E) 205

51. $f(x) = |x - 2| - |x|$

olduğuna göre, $f(-1) + f(0) + f(1)$ toplamı kaçtır?

- A) 1 B) 2 C) 3 D) 4 E) 5

52. 4 Türk, 6 Alman profesörün bulunduğu bir topluluktan 3 kişilik bilim ekibi oluşturulacaktır.

Ektepe en az bir Türk profesörün bulunma olasılığı kaçtır?

- A) $\frac{1}{6}$ B) $\frac{1}{3}$ C) $\frac{1}{2}$ D) $\frac{2}{3}$ E) $\frac{5}{6}$

53. – 55. Soruları Aşağıdaki Bilgilere Göre Cevaplayınız.

Yıllar	Satılan Ürün (kg)	Ürünün kg Fiyatının Yüzdesele Değişimi
2011	500	+%10
2012	300	+%20
2013	100	-%10
2014	400	+%30
2015	300	-%10

Yukarıdaki tablo bir firmanın 2011-2015 yılları arasında sattığı ürün miktarı ve bu ürünlerin kg fiyatının bir önceki yıla göre yüzdesel değişimini göstermektedir. Ürünün 2010 yılı kg fiyatı 200 TL dir.

53. 2011 yılında firmanın sattığı ürünlerden elde ettiği gelir kaç TL dir?

- A) 110.000 B) 100.000 C) 90.000
D) 80.000 E) 70.000

54. Ürünün 2012 yılı kg satış fiyatı ile 2011 yılı kg satış fiyatı arasındaki fark kaç TL dir?

- A) 32 B) 36 C) 40 D) 44 E) 48

55. Ürünün 2013 yılı kg satış fiyatı kaç TL dir?

- A) 238,6 B) 238,4 C) 237,6
D) 237,4 E) 237,2

Y
A
R
G
I
Y
A
Y
I
N
E
V
İ

56. ve 57. Soruları Aşağıdaki Bilgilere Göre Cevaplayınız.

Bütün kenarlarının uzunlukları ve bütün açıların ölçüleri birbirine eşit olan çokgenlere düzgün çokgen denir.

n kenarlı bir düzgün çokgende

- Her bir dış açının ölçüsü $\frac{360}{n}$
- Her bir iç açının ölçüsü $\frac{(n-2) \cdot 180}{n}$
- Köşelerinden çizilebilecek tüm köşegenlerin sayısı $\frac{n \cdot (n-3)}{2}$

ile bulunur.

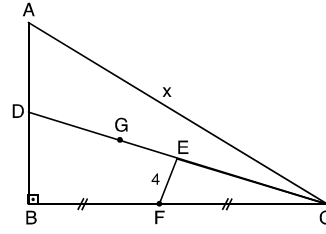
56. Köşegen sayısı ile kenar sayısı birbirine eşit olan düzgün çokgenin bir dış açısı kaç derecedir?

- A) 36 B) 45 C) 60 D) 72 E) 90

57. Bir iç açısının ölçüsü, bir dış açısının ölçüsünden 90° fazla olan bir düzgün çokgenin köşegen sayısı kaçtır?

- A) 14 B) 20 C) 27 D) 35 E) 44

58.



ABC dik üçgen

G ağırlık merkezi

$|DG| = |GE|$

$|BF| = |FC|$

$|EF| = 4 \text{ cm}$

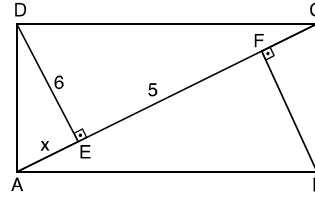
$|AC| = x$

Yukarıdaki verilere göre, x kaçtır?

- A) 18 B) 24 C) 30 D) 36 E) 48

Y
A
R
G
I
Y
A
Y
I
N
E
V
I

59.



ABCD dikdörtgen

[AC] köşegen

$[DE] \perp [AC]$

$[BF] \perp [AC]$

$|DE| = 6 \text{ cm}$

$|EF| = 5 \text{ cm}$

$|AE| = x$

Yukarıdaki verilere göre, x kaçtır?

- A) 2 B) 2,5 C) 3 D) 3,5 E) 4

60. Analitik düzlemde $A(2, 5)$ noktasından geçen $3x + 2y + m = 0$ doğrusunun eksenlerle oluşturduğu üçgensel bölgenin alanı kaç birimkaredir?

- A) 20 B) $\frac{64}{3}$ C) $\frac{72}{5}$ D) 25 E) $\frac{81}{4}$



Başarılar dileriz...



KPSS GENEL KÜLTÜR

www.yargiyayinevi.com

1. I. Teoman
II. Balamir
III. Bumin Kağan

Yukarıdaki Türk hükümdarlarından hangilerinin Orta Asya'da devlet kurduğu ileri sürülebilir?

- A) Yalnız I B) Yalnız II C) I ve II
D) I ve III E) I, II ve III

3. I. Köseadağ
II. Yassıçemen
III. Miryokefalan
IV. Malazgirt

Yukarıdaki savaşlardan hangileri Anadolu Selçukluları Dönemi'nde yaşanmıştır?

- A) I ve II B) I ve III C) III ve IV
D) I, II ve III E) I, II, III ve IV

Y
A
R
G
I
Y
A
Y
I
N
E
V
İ

2. Berke Han zamanında İslamiyet'i kabul eden ve Timurluların etkisiyle zayıflayan Moğol devleti aşağıdakilerden hangisidir?

- A) Altınordu B) İlhanlı
C) Çağatay D) Kubilay
E) Karahitay

4. Osmanlı Kuruluş Dönemi'nde çeyiz ve satın alma yoluyla Anadolu Türk siyasi birliğini sağlamaya çalışan padişah aşağıdakilerden hangisidir?

- A) Orhan Bey B) I. Murat
C) I. Bayezit D) I. Mehmet
E) II. Murat

5. Osmanlı Yükselme Dönemi'nde meydana gelen aşağıdaki gelişmelerden hangisinin Akdeniz'de hakimiyet kurmaya yönelik olduğu söylenemez?

- A) Trablusgarp'ın fethedilmesi
- B) Cezayir'in Osmanlı Devleti'ne bağlanması
- C) Cerbe Deniz Savaşı'nın yapılması
- D) Kili ve Akkırman kalelerinin ele geçirilmesi
- E) Kıbrıs Adası'nın fethedilmesi

6. I. Hotin Seferi
II. Bucaş Antlaşması
III. Zitvatoruk Antlaşması

Yukarıdaki gelişmelerden hangilerinin Osmanlı-Lehistan ilişkileri ile ilgili olduğu ileri sürülebilir?

- A) Yalnız I
- B) Yalnız II
- C) I ve II
- D) I ve III
- E) I, II ve III

7. Osmanlı Devleti aşağıdaki antlaşmalardan hangisiyle 1700 yılındaki İstanbul Antlaşması ile kaybettiği Azak Kalesi ve çevresini geri almıştır?

- A) Prut
- B) Belgrat
- C) Pasarofça
- D) Vasvar
- E) Zıřtovi

8. I. İç ve dış yazışmalar
II. Tapu – kadastro işleri
III. Dirlik topraklarını kaydetme

Yukarıdakilerden hangileri Nişancının sorumlulukları arasında yer alır?

- A) Yalnız I
- B) Yalnız II
- C) I ve II
- D) I ve III
- E) I, II ve III

Y
A
R
G
I

Y
A
Y
I
N
E
V
i

9. Osmanlı Devleti'nde XIX. yüzyıldan itibaren aşağıdaki idari birimlerden hangisinin başına "müdür" denilen görevliler atanmıştır?

- A) Vilayet
- B) Liva
- C) Kaza
- D) Nahiye
- E) Köy

10. Osmanlı Devleti'nde ilk havacılık faaliyetlerini başlatan devlet adamı aşağıdakilerden hangisidir?

- A) II. Abdülhamit
- B) Tefvik Paşa
- C) Mahmut Şevket Paşa
- D) Talat Paşa
- E) Mustafa Kemal Paşa

11. Amasyalı Şeyh Hamdullah ve Ahmet Karahisari aşağıdaki sanat dallarından hangisinde önemli çalışmalar yapmıştır?

- A) Hat B) Tezhip C) Minyatür
D) Ciltçilik E) Kakmacılık

12. Osmanlı Devleti XIX. yüzyılda aşağıdaki antlaşmalardan hangisini Rusya ile yaptığı bir savaş sonucunda imzalamamıştır?

- A) Bükreş
B) Ayastefanos
C) Edirne
D) Paris
E) Hünkar İskelesi

13. Osmanlı Devleti'nin I. Dünya Savaşı'na girmesinde etkili olan İttihat ve Terakki Fırkası mensupları savaş sonunda aşağıdaki partilerden hangisinin çatısı altında toplanmaya çalışmıştır?

- A) Osmanlı Ahali Fırkası
B) Ahrar Fırkası
C) Teceddüt Fırkası
D) İttihad-ı Muhammediye Fırkası
E) Hürriyet ve İtilaf Fırkası

14. I. Dünya Savaşı sırasında imzalanan;

- I. Boğazlar,
II. Sykes – Picot,
III. Petrograt

antlaşmalarından hangilerinin Rusya'nın menfaatleri doğrultusunda olduğu söylenebilir?

- A) Yalnız I B) Yalnız III C) I ve II
D) I ve III E) I, II ve III

Y
A
R
G
I

Y
A
Y
I
N
E
V
İ

15. I. İngiltere'nin Kafkaslar üzerinden Rusya'ya yardım götürmek istemesi
II. Bulgaristan'ın İttifak devletlerinin yanında savaşa girmesi
III. Osmanlı Devleti'nin müttefiklerine asker göndermesi

I. Dünya Savaşı'yla ilgili yukarıdaki gelişmelerin aşağıdaki cepheler ile ilişkisi hangisinde doğru olarak gruplandırılmıştır?

- | I | II | III |
|-----------|-----------|-----------------|
| A) Kafkas | Çanakkale | Romanya |
| B) Kafkas | Irak | Suriye-Filistin |
| C) Irak | Çanakkale | Makedonya |
| D) Kafkas | Çanakkale | Galiçya |
| E) Irak | Kafkas | Makedonya |

16. I. Gazeteci Şerif
II. Asım Us
III. Hamdi

Yukarıdakilerden hangileri Mustafa Kemal'in kullandığı takma adlar arasında yer alır?

- A) Yalnız I B) Yalnız II C) I ve II
D) I ve III E) I, II ve III

17. **Aşağıdaki eserlerden hangisinin Yakup Kadri Karaosmanoğlu'na ait olduğu söylenemez?**

- A) Yaban
B) Ankara
C) Milli Savaş Hikayeleri
D) Sodom ve Gomore
E) Yorgun Savaşçı

18. **Milli Mücadele Döneminde "Milli Egemenlik" ilkesi ilk olarak aşağıdaki gelişmelerden hangisinde ortaya çıkmıştır?**

- A) Amasya Genelgesi
B) Sivas Kongresi
C) Erzurum Kongresi
D) Amasya Görüşmeleri
E) Misakımilli Kararları

19. **Aşağıdakilerden hangisi Büyük Taarruz ve Başkomutanlık Meydan Savaşı sırasında Türk ordusu tarafından esir edilmiştir?**

- A) I. Konstantin
B) Anastasios Papulas
C) Nikolaos Trikupis
D) Yeoryos Hacıanestis
E) Dimitrios Gounaris

20. I. Kadınlara seçme ve seçilme hakkının verilmesi
II. Ankara Hukuk Fakültesi'nin kurulması
III. Öğretimde birliğin sağlanması

Yukarıdaki gelişmelerin kronolojik olarak doğru sırası aşağıdakilerden hangisidir?

- A) I-II-III B) II-I-III C) II-III-I
D) III-I-II E) III-II-I

21. **Aşağıdakilerden hangisinin II.TBMM döneminde gerçekleştiği savunulamaz?**

- A) Halifeliğin kaldırılması
B) Tekke, zaviye ve türbelerin kapatılması
C) Medeni Kanun'un kabul edilmesi
D) Maarif Teşkilatı Hakkında Kanun çıkarılması
E) Yeni Türk Harflerinin kabul edilmesi

Y
A
R
G
I
Y
A
Y
I
N
E
V
İ

22. Atatürkçü düşünce sisteminin oluşmasında etkili olan faktörlerden birisi de Atatürk'ü etkileyen yerli ve yabancı düşünürlerdir.

Buna göre aşağıdakilerden hangisi Atatürk'ü etkileyen düşünürlerden birisi değildir?

- A) Mehmet Emin Yurdakul
B) J.J. Rousseau
C) Yahya Kemal Beyatlı
D) Ziya Gökalp
E) Montesquieu

24. Atatürk döneminde;

- I. Bulgaristan,
II. Yugoslavya,
III. Japonya

devletlerinden hangileriyle karşılıklı olarak dostluk antlaşmaları imzalanmıştır?

- A) Yalnız I B) Yalnız II C) Yalnız III
D) I ve II E) II ve III

Y
A
R
G
I
Y
A
Y
I
N
E
V
İ

23. "Biz ilhamlarımızı gökten değil doğrudan doğruya hayattan almış bulunuyoruz. Bizim yolumuzu çizen içinde yaşadığımız yurt, bağrından çıktığımız Türk milleti ve tarihten çıkardığımız neticelerdir."

Atatürk'ün yukarıdaki sözleri, onun;

- I. Devletçilik,
II. Milliyetçilik,
III. Laiklik

ilkelerinden hangileriyle doğrudan ilgilidir?

- A) Yalnız I B) Yalnız II C) Yalnız III
D) I ve III E) II ve III

25. NEP denilen ekonomi politikasını ilan ederek tarım ürünlerine el konulmamasını ve köylülere ürün pazarlama özgürlüğünü sağlayan Rus lider aşağıdakilerden hangisidir?

- A) Vasili Kuznetsov
B) Yuri Andropov
C) Joseph Stalin
D) İlyiç Vlademir Lenin
E) Mihail Gorbaçov

26. Türkiye 1952 yılında aşağıdaki devletlerden hangisiyle birlikte NATO'ya üye olmuştur?

- A) Yunanistan B) Bulgaristan C) Arnavutluk
D) Belçika E) Hollanda

27. Aşağıdakilerden hangisi "ilk kez uzaya giden insan" unvanına sahiptir?

- A) Neil Armstrong B) Edwin Aldrin
C) Yuri Gagarin D) Alexy Leonov
E) Hawker Harrier

28. Ülkemizin aşağıdaki özelliklerinden hangisinin şekillenmesi üzerinde hem matematik (mutlak) hem de özel (göreceli) konumunun etkisi vardır?

- A) Kuzey – güney ve doğu – batı yönünde sıcaklığın değişmesi
B) Ilıman iklim koşullarının etkili olması
C) Gölge boyunun yılın hiçbir zamanında sıfır olmaması
D) Dört mevsimin belirgin şekilde yaşanması
E) Kısa mesafelerde iklim koşullarının belirgin şekilde değişmesi

29. Anadolu geçmişten günümüze kadar birçok medeniyete ev sahipliği yapmıştır.

Bu durum üzerinde Anadolu'nun;

- I. Ilıman iklim bölgesinde yer alması
II. Bitki örtüsünün çeşitli olması
III. Asya ile Avrupa arasındaki ticaret yolları üzerinde bulunması
IV. Aktif deprem bölgesinde yer alması

gibi özelliklerinden hangileri etkili olmamıştır?

- A) I ve II B) I ve III C) II ve III
D) II ve IV E) III ve IV

Y
A
R
G
I
Y
A
Y
I
N
E
V
İ

30. Dağların uzanış doğrultusu birçok unsur üzerinde etkilidir. Dağlar genel olarak Karadeniz Bölgesi'nde kıyı şeridinde paralel; Ege Bölgesi'nde ise kıyı şeridinde dik uzanır.

Bu durum Karadeniz ve Ege Bölgeleri'nin;

- I. Deniz etkisinin yayılma alanı
II. Yağış tutarı
III. Kıyıdaki sıcaklık ortalamaları
IV. Aydınlanma süresi

gibi durumlardan hangileri bakımından farklı olmasına neden olmuştur?

- A) I ve II B) I ve III C) I ve IV
D) II ve III E) II ve IV

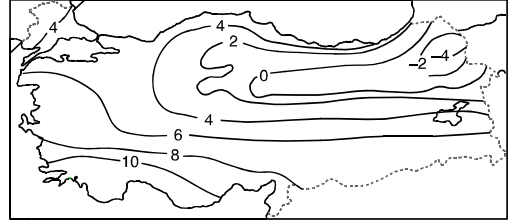
31. Aşağıdakilerden hangisinin Türkiye'de benzeri **yoktur**?

- A) Finlandiya'da yaygın olan buzul gölleri
- B) İspanya'nın kuzeybatısında görülen ria tipi kıyıları
- C) Yunanistan'ın Santorini Adası'nda bulunan kaldera
- D) Avustralya'da yer alan atoller
- E) Kuzey Avrupa'da sık görülen masif araziler

32. Ülkemizin günümüzdeki jeomorfolojik görünümünü kazanmasında en etkili olan iç ve dış kuvvetler aşağıdakilerden hangisinde doğru eşleştirilmiştir?

- | <u>İç Kuvvet</u> | <u>Dış Kuvvet</u> |
|------------------|-------------------|
| A) Epirojenez | Rüzgar |
| B) Deprem | Buzul |
| C) Volkanizma | Karstlaşma |
| D) Deprem | Rüzgar |
| E) Orojenez | Akarsu |

33. Aşağıda Türkiye'nin indirgenmiş Ocak ayı izoterm haritası verilmiştir.



İzoterm haritasına bakılarak aşağıdakilerden hangisi **söylenemez**?

- A) En soğuk yerin Erzurum – Kars olması yüksekliğe bağlıdır.
- B) Akdeniz kıyılarında sıcaklık 10°C'nin üzerindedir.
- C) Sıcaklık dağılışı enlem etkisine tam uyum göstermez.
- D) En sıcak yer ile en soğuk yer arasındaki fark 14°C'den fazladır.
- E) Farklı bölgelerimizde sıcaklığı aynı olan yerler vardır.

Y
A
R
G
I
Y
A
Y
I
N
E
V
İ

34. Türkiye'de güneşlenme süresinin en az olduğu yer 1700 saat/yıl ile Doğu Karadeniz kıyılarıdır. En yüksek güneşlenme süresine ise Güneydoğu Anadolu Bölgesi'nde rastlanır. Bu bölgede güneşlenme süresi 3300 saat/yıl kadardır.

Bu durumun oluşmasında;

- I. Enlem
- II. Bitki örtüsü
- III. Bulutluluk

faktörlerinden hangilerinin etkili olduğu söylenebilir?

- A) Yalnız I
- B) Yalnız II
- C) Yalnız III
- D) I ve II
- E) I ve III

35. Doğu Anadolu Bölgesi'nde yüzeyin uygun olduğu yerlerde yamaç yağışları görülür. Kış mevsiminde cephe yağışları etkilidir. Ancak yağışın çok büyük bir bölümü yükselim yağışları şeklinde gerçekleşir. Yükselim yağışlarının oluşması ısınan hava kütlelerinin yükselip soğumasına bağlıdır. Bu nedenle havanın ısınmaya başladığı ilkbahar mevsimi genellikle en çok yağış düşen dönemi oluşturur. Ancak Erzurum-Kars Bölümü'nde en yağışlı dönem genellikle yaz mevsimidir. Bu durum, ortalama yüksekliği çok fazla olan Erzurum-Kars Platolarının geç ısınmasından kaynaklanır.

Yukarıdaki paragraftan aşağıdakilerden hangisi çıkartılamaz?

- A) Yükselim yağışları sıcaklık arasında bir ilişki bulunmaktadır.
 B) Yüksek yerlerde ısınma daha geç meydana gelir.
 C) Doğu Anadolu Bölgesi'nde en yağışlı mevsim genellikle ilkbahardır.
 D) Yamaç yağışları ile yüzey şekilleri arasında bir ilişki vardır.
 E) Doğu Anadolu Bölgesi'nin en yüksek yeri Erzurum-Kars Platolarıdır.

36. I. Rejimleri genellikle düzensizdir.
 II. Denge profiline ulaşmamışlardır.
 III. Hidroelektrik potansiyelleri düşüktür.
 IV. Taşımacılığa elverişlidirler.

Yukarıdakilerden hangileri Türkiye akarsularının genel özellikleri arasında sayılmaz?

- A) I ve II B) II ve III C) III ve IV
 D) I ve III E) II ve IV

37. Yüksek dağlık alanların orman üst sınırından daha yüksek alanlarında görülen uzun boylu ot toplulukları ve renkli çiçeklerden oluşmuş bitki örtüsüne "alpin çayır" adı verilir. Alpin çayırların görüldüğü alanlar sonbahar ve kış aylarında kar örtüsü ile kaplıdır. İlk bahar ve yaz mevsimlerinde ise yağışın ve sisin etkisi ile çiçeklerle kaplı yeşillikler haline gelir.

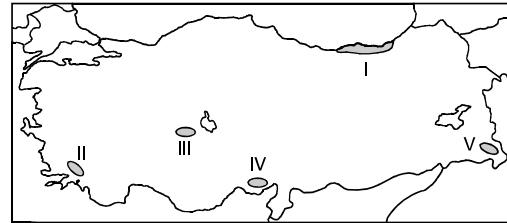
Yukarıda anlatılan bitki örtüsü;

- I. Ardahan Platosu
 II. Haymana Platosu
 III. Cihanbeyli Platosu

yörelere hangilerinde görülebilir?

- A) Yalnız I B) Yalnız II C) Yalnız III
 D) I ve II E) I ve III

38. Aşağıdaki haritada numaralandırılarak gösterilen beş yöre ve bu yörelere ait nüfus özellikleri verilmiştir.



- Dağların kıyıya yakın ve paralel olması yerleşmelerin çok dar bir kıyı şeridinde toplanmasına neden olmuştur.
- Yıllık yağış tutarı yüksek olmasına karşın, özellikle engebe durumundan dolayı seyrek nüfuslanmıştır.
- Yer şekilleri yerleşme çok uygun olsa da ciddi su sorununun yaşanmasından dolayı pek fazla nüfuslanmamıştır.
- Tarım sektöründen dolayı yaz döneminde mevsimlik iş gücü göçü aldığından, nüfusu mevsimler arasında büyük değişimler gösteren bir yöredir.

Buna göre yukarıda kaç numara ile gösterilen yörenin nüfus özelliği verilmemiştir?

- A) I B) II C) III D) IV E) V

39. Türkiye'de nüfusun yaklaşık %23'ü, Amerika Birleşik Devletleri'nde ise %3'ü tarım sektöründe istihdam edilmiştir.

Bu bilgiden yola çıkarak aşağıdaki yargılardan hangisine ulaşılabilir?

- A) Amerika Birleşik Devletleri'nde tarım dışı sektörler gelişmiştir.
 B) Türkiye'de tarımsal verim çok yüksektir.
 C) Amerika Birleşik Devletleri'nde tarım alanları son derece sınırlıdır.
 D) Türkiye Amerika Birleşik Devletleri'ne tarım ürünleri ihraç eder.
 E) Amerika Birleşik Devletleri tarımsal ürünler açısından dışa bağımlı bir ülkedir.

40. I. Akdeniz ve Güneydoğu Anadolu bölgelerinde küçükbaş hayvancılık ile uğraşanların kurduđu geçici çadır yerleşmeleridir.
 II. İdari açıdan köy tüzel kişiliğine bağlı, ancak özel mülkiyet durumunda olan tarım ve hayvancılığın birlikte yapıldığı daimi köyaltı yerleşmesidir.

Yukarıda özellikleri verilen köy altı yerleşmeleri aşağıdakilerin hangisinde doğru eşleştirilmiştir?

- | I | II |
|------------|---------|
| A) Mezra | Bağ evi |
| B) Mahalle | Divan |
| C) Oba | Çiftlik |
| D) Kom | Divan |
| E) Yayla | Mahalle |

41. Aşağıdaki bölgelerden hangisinin sınırlarının değişmesi daha uzun sürer?

- A) Karadeniz iklimi bölgesi
 B) Karacabey tarım bölgesi
 C) Zonguldak taş kömürü bölgesi
 D) Batman petrol bölgesi
 E) Türkiye idari bölgeleri

Y
A
R
G
I
Y
A
Y
I
N
E
V
İ

42. Aşağıdaki tabloda Türkiye'de 1927 ve 2010 yıllarında çalışan nüfusun temel iş kollarına dağılışı verilmiştir.

	Tarım (%)	Sanayi (%)	Hizmet (%)
1927	89,6	4,8	5,6
2010	25,2	26,2	48,6

Tablo incelendiğinde aşağıdaki yorumlardan hangisi yapılamaz?

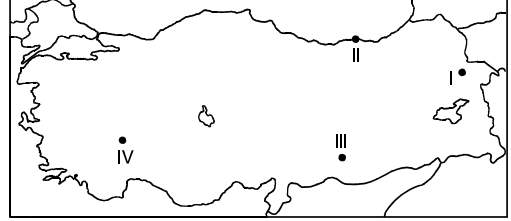
- A) Tarımın ekonomideki payı azalmıştır.
 B) Türkiye sosyal ve ekonomik yönden gelişmiştir.
 C) Tarım dışı sektörler gelişmiştir.
 D) Sanayi üretimi artmıştır.
 E) Oransal olarak en fazla değişim tarım sektöründe yaşanmıştır.

43. Türkiye'nin iç kesimlerinde tarımsal uygulamalar genellikle geleneksel yöntemlerle yapılmaktadır. Bu nedenle verim genelde düşüktür. Ancak son yıllarda iç bölgelerde yapılan tarımda, tarımsal verimin belirgin şekilde arttığı gözlemlenmiştir.

Bu durum üzerinde aşağıdakilerden hangisinin etkili olduğu söylenemez?

- A) Makine kullanımının yaygınlaşması
- B) Sulama imkanlarının gelişmesi
- C) Kullanılan tohumların iyileştirilmesi
- D) Gübre kullanımının artması
- E) Tarım alanlarının genişletilmesi

45. Aşağıdaki haritada Sümela Manastırı, Nemrut Heykelleri, Hierapolis Antik Kenti ve İshakpaşa Sarayı'nın bulunduğu yerler numaralarla gösterilmiştir.



Bu numaraların hangi eserleri gösterdiği ile ilgili olarak, aşağıdaki eşleştirmelerden hangisi doğrudur?

	<u>İshakpaşa Sarayı</u>	<u>Nemrut Heykelleri</u>	<u>Hierapolis Antik Kenti</u>	<u>Sümela Manastırı</u>
A)	I	II	III	IV
B)	II	IV	I	III
C)	IV	I	III	II
D)	II	III	IV	I
E)	I	III	IV	II

Y
A
R
G
I
Y
A
Y
I
N
E
V
İ

44. Aşağıdaki yerlerin hangisinde arıcılığın yaygın bir ekonomik etkinlik olması beklenmez?

- A) Doğu Karadeniz
- B) Konya Bölümü
- C) Menteşe Yöresi
- D) Kars – Ardahan Platoları
- E) Batı Karadeniz

46. Aşağıdaki durumlardan hangisi butlan ile hükümsüz kılınmaz?

- A) Bir kimsenin ikinci derece kan hısımları ile evlenmesi
- B) Ayırt etme gücü bulunmayan bir kimsenin satım sözleşmesi yapması
- C) Bağışlanmak istenen bir arsanın tapuda satış olarak gösterilmesi
- D) Bir kimsenin imam huzurunda evlenmesi
- E) Bir kimsenin organını satacağına dair sözleşme yapması

47. Aşağıdakilerden hangisi özel hukuk tüzel kişileri arasında yer almaz?

- A) Vakıf
B) Dernek
C) Üniversite
D) Kooperatif
E) Şirket

48. Aşağıdakilerden hangisi yazılı şekle tabi sözleşmeler arasında yer almaz?

- A) Evlenme
B) Kefalet sözleşmesi
C) Mal rejimi sözleşmesi
D) Resmi vasiyetname
E) Taşınmaz satışı

49. Aşağıdakilerden hangisi milletvekili seçilebilmenin olumlu şartlarından biridir?

- A) Kısıtlı olmamak
B) Kamu hizmetlerinden yasaklı olmamak
C) Ağır hapis cezası hükmü giymemiş olmak
D) En az ilkokul mezunu olmak
E) Yüz kıırtıcı suçlardan hüküm giymemiş olmak

50. Aşağıdakilerden hangisi Bakanlar Kurulu'nun görev ve yetkileri arasında yer almaz?

- A) Hükümetin genel siyasetinin yürütülmesini gözetmek
B) Türk Silahlı Kuvvetlerini yurt savunmasına hazırlamak
C) Milli güvenliği sağlamak
D) Kanun tasarısı hazırlamak
E) Cumhurbaşkanı başkanlığında olağanüstü hâl ve sıkıyönetim ilan etmek

Y
A
R
G
I
Y
A
Y
I
N
E
V
İ

51. 1982 Anayasası'na göre aşağıdakilerden hangisi Anayasa Mahkemesi tarafından denetlenemez?

- A) TBMM İçtüzüğü
B) Kanun
C) Kanun Hükmünde Kararname
D) İnkılâp Kanunları
E) Anayasa değişiklikleri

52. Aşağıdakilerden hangisi memurlara yasak olan davranışlardan değildir?

- A) İkinci bir görev alma yasağı
- B) Sanat ve ticaretle uğraşma yasağı
- C) Gizli bilgileri ifşa etme yasağı
- D) Resmi belge, araç ve gereçleri iade etme yasağı
- E) Ayrıldığı kuruma karşı görev alma yasağı

53. Aşağıdakilerden hangisi köy muhtarının görev ve yetkileri arasında yer almaz?

- A) Hastalıkları hükümete bildirmek
- B) Köy derneği ve ihtiyar heyetinin kararlarını uygulamak
- C) Köyün harcamaları ile ilgili ihtiyar heyetine hesap vermek
- D) Mahkemelerde köyü temsil etmek
- E) Köyün isteğe bağlı işlerini zorunlu hale getirmek

54. Büyükşehir Belediyesi kurulabilmesi için gereken nüfus ve norm aşağıdakilerden hangisidir?

- A) 750 bin - Kanun
- B) 500 bin - Kanun Hükmünde Kararname
- C) 250 bin - İdari karar
- D) 100 bin - Müşterek kararname
- E) 50 bin - Genelge

55. UNESCO 2015 yılı Yaratıcı Şehir Tasarım ödülünü aşağıdakilerden hangisine vermiştir?

- A) Singapur
- B) Almanya
- C) Brezilya
- D) Cibuti
- E) Şili

56. 2017 yılı İslam aleminin turizm başkenti aşağıdaki kentlerden hangisidir?

- A) Medine
- B) Şangay
- C) Lagos
- D) Madrid
- E) Kabil

57. Aşağıdakilerden hangisi Birleşmiş Milletlerin resmi dilleri arasında yer almaz?

- A) İngilizce
- B) Fransızca
- C) Rusça
- D) Türkçe
- E) Çince

58. Aşağıdakilerden hangisi Dünya'nın Yeni Yedi Harikalarından değildir?

- A) Tac Mahal
- B) Çin Seddi
- C) Petra Antik Kenti
- D) Kolezyum
- E) Efes-Artemis Tapınağı



59. İlk yerli savaş gemisi aşağıdakilerden hangisidir?

- A) Atak
- B) Ural
- C) Anka
- D) Heybeliada
- E) Marmara

Y
A
R
G
I
Y
A
Y
I
N
E
V
i

60. Aşağıdakilerden hangisi D-8 ülkeleri arasında yer almaz?

- A) Türkiye
- B) İran
- C) Bangladeş
- D) Mısır
- E) Azerbaycan



Türkiye'nin

en ucuz
en hızlı
en güvenilir

kitap
satış
siteleri

Yargıyayinevi.com

Gerçek sınavdan
tek farkımız
"Online" olmamız!



kitapsec
www.kitapsec.com



yargı
yayınevi

Akademik ve Özgün
Öğretim Sistemleri



deneme
zamanı
.com

yargı
tv

Uzaktan Eğitim
Video Dersler



Ostim Mahallesi
Turan Çiğdem Caddesi 36/3
Yenimahalle / ANKARA

Tel: (0312) 386 13 22
Fax: (0312) 386 00 39