

KPSS

KAMU PERSONELİ SEÇME SINAVI

LİSE ÖN LİSANS

GENEL YETENEK

GENEL KÜLTÜR

DENEME SINAVI

D E N E M E

DİKKAT! SINAVA BAŞLAMADAN ÖNCE AŞAĞIDAKİ UYARILARI MUTLAKA OKUYUNUZ.

- Adınızı, soyadınızı, T.C. Kimlik Numaranızı ve kurum kodunu optik forma mutlaka işaretleyiniz. Kurum kodu ve T.C kimlik numarası karnenizin oluşturulabilmesi için özellikle gereklidir.
- Genel Yetenek - Genel Kültür Testi için verilen toplam cevaplama süresi 120 dakikadır (2 saat).
- Bu testte 120 soru vardır.
- Cevaplamaya istediğiniz sorudan başlayabilirsiniz. Her soru ile ilgili cevabınızı, cevap kâğıdında o soru için ayrılmış olan yere işaretlemeyi unutmayınız.
- Sınav sonucunuzu www.yaklasimkariyer.com adresinden TC kimlik numaranızı girerek öğrenebilirsiniz.
- Türkiye Geneli Deneme sınavına ait **cevap anahtarları ve soruların çözümleri** sınavın uygulandığı son gün www.yaklasimkitap.com adresinde yayınlanacaktır.
- Bu test puanlanırken testteki doğru cevaplarınızın sayısından yanlış cevaplarınızın sayısının dörtte biri düşülecek ve kalan sayı testle ilgili ham puanınız olacaktır. Bu nedenle, hakkında hiçbir fikriniz olmadığı soruları boş bırakınız. Ancak, soruda verilen seçeneklerden birkaçını eleyebiliyorsanız kalanlar arasından doğru cevabı kestirmeye çalışmanız yararınıza olabilir.

Bu testlerin her hakkı saklıdır. Hangi amaçla olursa olsun, testlerin tamamının veya bir kısmının yayınevimizin yazılı izni olmadan kopya edilmesi, herhangi bir yolla çoğaltılması, yayımlanması ya da kullanılması yasaktır. Bu yasağa uymayanlar gerekli cezai sorumluluğu ve testlerin hazırlanmasındaki mali külfeti peşinen kabullenmiş sayılır.

YAKLAŞIM KARIYER



**NASIL KAZANIRIM DİYE
DÜŞÜNME!
BİZ KAZANDIRIYORUZ...**

www.yaklasimkariyer.com

Yaklaşım Kariyer Yayıncılık ve Dağıtım Ltd.Şti
GMK Bulvarı Fevzi Çakmak 2 Sk. No: 30/10 Kızılay-ANKARA
Tel: (0312) 232 57 76
Web: www.yaklasimkitap.com - www.yaklasimkitabevi.com
e-posta: bilgi@yaklasimkitap.com

GENEL YETENEK

DİKKAT: BU BÖLÜMDE YANITLAYACAĞINIZ SORU SAYISI 60'TIR.

1-30 SORU : "Türkçeyi Kullanma Gücü"

30-60 SORU : "Matematiksel İlişkilerden Yararlanma Gücü" ile ilgilidir.

Bu bölümdeki sorularla ilgili cevaplarınızı, cevap kağıdınızdaki "GENEL YETENEK" bölümüne işaretleyiniz.

1. Şair, sık sık siyasi-sosyal sorunlar ve durumlar için düşünce üretiyor, şiirsel yönelimini bilinçli ya da bilinçsiz olarak siyasi-sosyal durumlara çeviriyor olabilir. Bunun doğal sonucunun, bildiriyle aşılınmış şiirler olması zorunlu değildir.

Bu parçada geçen "bildiriyle aşılınmış şiirler" sözüyle sairin hangi yönü vurgulanmak istenmiştir?

- A) Kendine ait bir dil anlayışı olmak
B) Belli yönelimlerin etkisi altında kalmak
C) Toplumsal sorunları göz ardı etmek
D) Basmakalıp düşüncelere sarılmak
E) Özgün eserler üretme peşinde olmak

3. I. kitabında öykü türünün fazlaca
II. beş yıl sonra yayımladığı bu beşinci
III. yüceltildiğine dair ironik göndermelerin yanında
IV. parçalanmış hayatlar göze takılıyor
V. derin bir arayış içinde olan kahramanlar

Yukarıdaki sözler anlamlı ve kurallı bir cümle oluşturacak biçimde sıralandığında hangisi baştan ikinci olur?

- A) I. B) II. C) III. D) IV. E) V.

2. Mistik (gizem) tecrübe bizi şiire götürür(ulaştırır).

Büyük mistikler, normal insan tecrübesinin ötesinde yatan bir sırrı işaret etmeye çalıştıklarında şiir dilini kullanır. Doğu ve Batı dinlerinin en görkemli (ihtişamlı)

eserleri bu mistiklerin ilahileridir. Frithjof Schuon'un şiirlerinde, düzyazı eserlerinin girift ve karmaşık âlimane(evrensel) cümlelerinin bir hayli uzağında,

hasret çeken ruhun dualarını terennüm (ifade eden)

eden bir düşünürü dinliyoruz. Bu duyarlık dolu şiirler, ünlü düşünürü çok farklı bir biçimde ve umulmadık bir açıdan gösteriyor.

Bu parçadaki altı çizili sözlerden hangisinin parantez içindeki açıklaması yanlış verilmiştir?

- A) I B) II C) III D) IV E) V

4. (I) Balıkların sürü halinde yüzmelerini kolaylaştırmak için sahip oldukları tek avantaj kafalarının yanlarında bulunan gözleri değildir. (II) Vücutlarının yanlarında bir dizi sinir hücrelerinden meydana gelen ince katmanlar bulunur. (III) Bunlarla kılcal su hareketlerinin oluşturduğu sesleri dahi algılayabilme ve bu sesleri gördükleri ile harmanlama kabiliyeti ile donatılmışlardır. (IV) Sürü oluşturan başka deniz canlıları da vardır; güzel bir örnek olarak kambur balinalar verilebilir. (V) Kambur balinaların doğdukları yer ile büyüdüğü yer arasında uzun mesafeler vardır. (VI) Yavruladıkları ve beslendikleri alanlarda yaklaşık 4 ay kadar vakit geçiren kambur balinalar, bu sürenin sonunda yaklaşık 3 aylık bir yolculuğa çıkar.

Bu parçadaki numaralanmış cümlelerle ilgili olarak aşağıda verilenlerden hangisi yanlıştır?

- A) I. cümlede, balıkların sürü halinde yüzmelerini kolaylaştıran birden fazla etkenin olduğu belirtilmiştir.
B) II. cümlede, balıkların vücutlarıyla ilgili fiziksel bir özelliğe değinilmiştir.
C) III. cümlede, balıkların görme duyularının gelişmiş olduğu vurgulanmıştır.
D) IV. cümlede, sürü halinde yaşayan başka canlıların da olduğu belirtilmiştir.
E) VI. cümlede, kambur balinaların göç eden canlılardan olduğu belirtilmiştir.

5. (I) Uzmanlar, balığın ve balık ürünlerinin sağlığı olumlu yönde etkilediği düşüncesinde birleşiyorlar. (II) Ancak denizlerden elde edilen balıklar, artan nüfusun ihtiyacını karşılamaya yetmiyor. (III) Bu yüzden de son yirmi yıldır, tüm dünyada olduğu gibi Türkiye’de de halkın balık ihtiyacını karşılamak üzere alternatif üretim yolları aranıyor. (IV) Deniz ve göller açısından zengin olan Türkiye’nin, bu olanağı iyi değerlendirdiğini ve balıkçılık sektöründe dünya çapında önemli bir düzeye geldiğini söyleyebiliriz. (V) Özellikle çipura ve levrek başta olmak üzere Akdeniz’e özgü lezzetli balıkların çiftliklerde yetiştirilmesinde başarı gösteren Türk balıkçılık sektörü mercan, karagöz, mırmır gibi yeni türler üzerinde de çalışmalarını sürdürüyor.

Bu parçadaki numaralanmış cümlelerden hangilerinde kendisinden önceki cümleyle ilgili açıklama ya da gerekçe belirtilmiştir?

- A) II ve III B) II ve IV C) II ve V
D) III ve V E) IV ve V

6. (I) “Açık yapıtın ilk örneği olarak Kafka’nın yapıtlarını düşünebiliriz: *Dava, Şato, Duruşma, Mahkumiyet, Hastalık, Başkalaşım, İşkence*, akla ilk gelen sözcük anlamlarıyla kavranılabilecek yapıtlar değildirlir. (II) Anlam katmanlarının belirli bir düzende ve katı bir biçimde üst üste yerleştirildiği Orta Çağ alegorisinin tersine, Kafka’nın yapıtları herhangi bir ansiklopedik bilgi tarafından güvence altına alınmamış herhangi bir dünya düzeni anlayışına da dayanmamıştır. (III) Kafka’nın kullandığı simgelerin yorumları, ister varoluşçu ister dinbilimsel, ister klinik, isterse de psikanalitik olsun, yapıtın yalnızca bir kısmını tüketebilir. (IV) Yapıt “açık” olduğu oranda tüketilemez çünkü düzenli bir dünyanın evrensel kabul görmüş yasaları tarafından düzenlenmiş bir dünyanın yerini, belirsizlik üzerine temellenmiş bir dünya almıştır. (V) Olumsuz anlamda yönlendirici merkezler yok olmuş, olumlu anlamda değer ve dogmalar sürekli sorgulanmaya başlanmıştır

Bu parçadaki numaralanmış cümlelerin hangisinde karşılaştırma yapılmıştır?

- A) I. B) II. C) III. D) IV. E) V.

7. Tahtaları gıcırdatarak yavaşça sandalyesinden kalktı; sandalye arkasında yavaşça sallandı. Renald verandanın kenarına yürüdü. Sönmüş olmasına rağmen piposunu kemirdi. Onu tekrar yakmakla uğraşamazdı. O bulutlar onu büyülemişti. Öyle siyahıtlar ki... Tıpkı bir çalılık yangınının dumanı gibi. Ama hiçbir yangının dumanı o kadar yükseklerle yığılmazdı. Hem, gümüş bulutlara ne demeli? Siyah bulutların arasında kabarıyorlardı. Tıpkı kurumla kaplanmış metalin yüzeyinde, cıllı çeliğin parladığı yerler gibi.

Bu parçanın anlatımıyla ilgili aşağıdakilerden hangisi söylenemez?

- A) Birden fazla duyuya ait ayrıntılara yer verilmiştir.
B) Kişileştirmeye başvurulmuştur.
C) Farklı yapıda cümleler kullanılmıştır.
D) Nitelik bildiren sözler kullanılmıştır.
E) Olaylar oluş sırasına göre verilmiştir.

8. I. İstiyorum ki yazdıklarım insanlarımızın sorunlarını, özlelerini anlatsın.
II. Onların acılarını, çektiklerini başkalarına duyurabilsin.
III. Ancak yine de dergilerde yer verilmiyor şiirlerime.
IV. Bu amaçla insanımızdan, ülkemizden kopmamaya çalışıyorum.
V. Açıkçası, yaşamı değiştiresin, güzelleştiresin.

Yukarıdaki numaralanmış cümleler anlamlı bir bütün oluşturduğunda baştan üçüncü cümle hangisi olur?

- A) I B) II C) III D) IV E) V

9. I. Sanat alanın merkezi durumunda olan bir kentte İstanbul'da yaşamının verdiği kolaylıklarla çok erken yaşlarda okumaya ve yazmaya başladım.
- II. Bütün bu kişilerin arasında beni en çok etkileyen Sait Faik olmuştur.
- III. Örneğin, Sait Faik'i tanıdığımda lisede öğrenciydim.
- IV. Attila İlhan'ı, Salah Birseli, hemen ardından Melih Cevdet'i daha sonraları benim ilk yazılarımı yayınlayacak olan Vedat Günyol'u, lise öğrencilik yıllarımda tanıdım.
- V. Sanat çevrelerine de böylece girmiş oldum.

Bu parçadaki numaralanmış cümlelerden hangi ikisi birbiriyle yer değiştirirse parça anlamlı bir bütün oluşturur?

- A) I ve III B) II ve IV C) II ve V
D) III ve IV E) IV ve V

10. (I) Yaratıcılıkta, genetik yapıdan sezgiye kadar bir dizi etken rol oynuyor. (II) Çalışkan, başarılı öğrencilerin aksine, dâhilerin aklında fikirlerin birdenbire, ani bir şimşek çakması şeklinde ortaya çıktığı bilinir. (III) Arşimed banyoya girdiğinde, Newton kafasına "elma" düştüğünde, Einstein parlak bir ışını gördüğünde, Mozart ise yemek sonrası gezintileri sırasında adeta birdenbire esinlenerek buluş ve yapıtlarını ortaya koydu. (IV) Günümüzde bilim dünyası, teknolojinin de sunduğu olanaklarla dahilerin beyinlerinde neler olup bittiğini anlamaya çalışıyor. (V) Bu çalışmalar sayesinde de eğitimde kökten değişiklikler yapılabilir. (VI) Dâhi olabilecek çocuklar daha küçük yaşlarda fark edilip eğitime alınabilir.

Bu parçadaki numaralanmış cümlelerin hangisiyle ikinci paragraf başlayabilir?

- A) II B) III C) IV D) V E) VI

11. Resim yapma isteği insanlarda doğal bir duygudur. Resim sanatına ait ilk izlere Yontma Taş Devrinde rastlanmaktadır. Mağaralarda yaşayan tarih öncesi toplumlar da resim sanatında, şaşılabilecek bir gelişme görülmektedir. Bu devir insanların uçları yanmış tahtalarla yaptıkları mağara duvar resimleri daha çok av sahnelerini canlandırmaktadır. Bu resimlerdeki çizgilerin kıvraklığı ve konuya uygunluğu bugün de hayranlıkla seyredilebilmektedir.

Bu parçaya göre Yontma Taş Devri insanlarıyla ilgili;

- I. araç, gereç kullanabilmektedir,
II. yaşadıklarını resimleştirmektedir,
III. resim estetiğinde gelişmişlerdir,
IV. her konuyu resimleştirmişlerdir.

yargılarından hangilerine ulaşamaz?

- A) Yalnız I B) Yalnız II
C) Yalnız III D) Yalnız IV
E) I. ve III.

12. Yazarın yaşam deneyimleriyle renklenip biçimlenmiş bir kavrayış... İşte, denemeyi günümüze kadar taze tutan özellik... Çağdaş edebiyatta gazete ve dergiler için deneme, onları besleyen bir kaynak işlevi görür. Deneme, bağımsız bir tür olmanın ötesinde günümüz romanında düşünsel, eleştirel boyutlarıyla uygulama alanı olarak da karşımıza çıkmaktadır. Günümüz romanında deneme tarzı anlatı parçaları, romanın çağdaşlığına, güncelliğine, düşünselliğine yeni boyutlar katmaktadır.

Bu parçaya göre deneme türüyle ilgili olarak aşağıdakilerden hangisi söylenemez?

- A) Gerçek yaşamdan yola çıkılarak oluşturulduğu,
B) Romancıların yararlandığı bir tür olduğu,
C) Kalıcılığının, anlatımındaki çeşitliliğe bağlı olduğu,
D) Kimi yayın organları için destekleyici bir nitelik taşıdığı,
E) Yaşayan bir tür olduğu,

13. Bir gün dehşet içinde artık yetişkin bir insan, otuz sekiz yaşında bir budala olduğumun farkına vardım. Çocukluğum içimde yaşamıyordu artık. Uzun zamandır hiçbir şey bende isyan duygusu uyandırmıyordu. Eskiden damarlarımda dolaşmakta olan hayat ve neşe uçup gitmişti. Artık sürprizsiz bir adam olarak, yerleşik bir kumandan zevk almadan faydalanıyordum.

Bu paragraftaki kişiyle ilgili aşağıdakilerden hangisi söylenemez?

- A) Durağan bir hayatı vardır.
- B) Yaşamdan keyif almamaktadır.
- C) Sadece geleceği düşünmektedir.
- D) Monoton bir hayat sürmektedir.
- E) Zamanın farkına varmıştır.

14. Su, bitkiler için hayati öneme sahiptir. Tüm bitkiler, farklı büyüme ve gelişme dönemlerinde gereksinim duydukları suyu yaşadıkları ortamdan sağlamak zorundadır. Fakat su dünyanın farklı yerlerinde farklı oranlarda bulunur. Bazı yerlerde akarsular, yer altı suları ve yağışlar sebebiyle oldukça boldur. Bazı yerlerde ise kıttır. Suyun az olduğu kurak yerlerde bitkiler kısıtlı miktarda olan sudan en üst düzeyde yararlanmak için çok çeşitli sistemler geliştirmiştir.

Bu paragrafta aşağıdakilerden hangisine varılabilir?

- A) Canlılar buldukları ortamın koşullarına ayak uydurabilmektedir.
- B) Bütün bitki türleri aynı miktarda suya ihtiyaç duyar.
- C) Dünyadaki içilebilir su oranı tuzlu sular nedeniyle çok düşüktür.
- D) Suyun olmadığı yerlerde bile canlı türleri yaşayabilmektedir.
- E) Her canlı suya ulaşabilmek için farklı yollar denemektedir.

15. Peki, bu kadar esprili ve sıcak bir roman, nasıl bu kadar acımasız olabilir? Olaylar ilerledikçe gerçeklik boyutu artıyor ve olaylar sakındığımız sulara doğru yelken açıyor. Yazar, çok zor durumları o kadar kısa ve

kesin anlatıyor ki gerçekten içiniz burkuluyor. Bir bakıyorsunuz, hayatınızdaki kayıpların anılarında kaybolmuşsunuz.

Bu parçadaki altı çizili sözlerle ilgili aşağıda verilenlerden hangisi yanlıştır?

- A) I. sözde, bir ismi niteleyen birden fazla sözcük kullanılmıştır.
- B) II. söz, belirtisiz isim tamlamasıdır.
- C) III. sözde, yönelme edatı kullanılmıştır.
- D) IV. sözde, ismin yerini tutan bir sözcük kullanılmıştır.
- E) V. söz, belirtili isim tamlamasıdır.

16. İstanbul'un surlarla çevrili bölümü içinde geçmişteki varlığı bilinen ve günümüz Vatan Caddesi'nin bulunduğu alanda yer alan, Bizans İmparatorluğu döneminde "Lycos Deresi" ve Fatih Sultan Mehmet'in İstanbul'u fethinden sonra "Bayrampaşa Deresi" olarak adlandırılan eski bir akarsuyun olduğu ve Yenikapı'ya ulaşarak denize aktığı günümüzde acaba kaç kişi tarafından biliniyor?

Bu cümleyle ilgili aşağıda verilenlerden hangisi yanlıştır?

- A) Birleşik yapı kurallı eylem cümlesidir.
- B) Birden fazla belirtisiz isim tamlaması kullanılmıştır.
- C) Farklı türde fiilimsiler kullanılmıştır.
- D) İsmi yerini tutan sözcükler kullanılmıştır.
- E) Bağlaç kullanılmıştır.

17. (I) Kayıp Renk, / içerisinde aşkı bulacağınız ve ani ekonomik değişimi göreceğiniz etkileyici ve sürükleyici / bir roman. (II) Sadeliği ve akıcılığı düşündürücü özelliği ile birleşen bu roman / sizi / çoğu zaman / sayfaların arasından alıp kendi iç dünyanıza/ götürecektir. (III) Kendinizle hesaplaşmanızı ve hayatınızda verdiğiniz kararları belki de tekrardan sorgulamanıza/ yardımcı olacaktır. (IV) Varlığın ve yokluğun bekleyiş içerisindeki bir aşkın kendisini de / bulacaksınız. (V) Kimi zaman / varlık ve yokluk ile aşkın birleşiminden meydana gelen tabloyu / inceleyeceksiniz.

Bu parçadaki numaralanmış cümlelerin hangisinde ögeler yanlış ayrılmıştır?

- A) I B) II C) III D) IV E) V

19. Aşağıdaki cümlelerin hangisinde bağlaç **kullanılmamıştır**?

- A) Uçakla yolculuk edemiyordu ancak otobüs yolculuğu da onu tutuyordu.
B) Böyle yalan yanlış bilgilerle kendini gülünç duruma düşürüyorsun.
C) Buna rağmen öyle kibar ve asil havası vardır ki bu damga bile onu çirkinleştiremez.
D) Düzenli olarak spor yapıyorum çünkü zayıflamam lazım.
E) Şehirlerde hem zenginler hem de fakirler bazen aynı ortamı paylaşıyorlardı.

18. (I) Sanat dalları birbirlerini etkiler. (II) Sanat tarihinde izlenen bütün üslupların, sanatın değişik alanlarında, felsefede eş zamanlı oldukları bilinir. (III) Sanatçılar diğer alanları yalnızca izlemez, aynı zamanda üretir. (IV) Birden çok sanat dalında ürün veren çok sanatçı vardır bu nedenle. (V) Önemli olan olanaklarını kavradığınız bir dili kullanmaktır.

Bu parçadaki numaralanmış cümlelerle ilgili olarak aşağıda verilenlerden hangisi yanlıştır?

- A) I. cümlede, belirtisiz isim tamlaması kullanılmıştır.
B) II.cümle, birleşik yapı , kurallı, etken bir cümledir.
C) III. cümle, sıralı bir cümledir.
D) IV. cümlede, "özne-yüklem-zarf tümleci" sıralaması vardır.
E) V. cümlede, türemiş ve basit yapıli sözcükler vardır.

20. Aşağıdaki cümlelerin hangisinde **filimsi kullanılmamıştır**?

- A) Kara çaldığımız televizyon dizileri, haberler üzücü ama dünyanın gerçeğini veriyor.
B) Güneş batarken, ağaçların koyu gölgesinde sessiz sessiz ağılıyordum.
C) İzlediğiniz *Gladyatör* adlı film bu yılın önemli yapıtlarından biridir.
D) Gazetecinin gözü her zaman toplumun üzerinde olmalıdır
E) Deneme için kendimizi anlatmaya yönelik yazılar demek yeterli değildir

21. Aşağıdaki cümlelerin hangisinde yazım yanlışlığı yapılmamıştır?

- A) Orhun anıtlarıyla ilgili araştırmalar yapan Avrupalı uzmanlar yeni verilere ulaştı.
 B) Tanzimat döneminde Türk edebiyatında Batı'nın etkisi görülüyordu.
 C) Türü tehlike altına giren Akdeniz Fokunun korunması için yeni önlemler alınacak.
 D) Avrupa Merkez Bankasının aldığı karardan sonra Türk Lirası değer kaybetmeye başladı.
 E) 17 Ağustos Salı günü Ali Rıza Efendi, şehri terk eder, bir daha da dönmez.

22. (I) Türkiye'nin kıyı suları tropik sular değil. (II) Dolayısıyla sularımızın barındırdığı canlı sayısı az. (III) Ama sularımızda dünyanın hiçbir yerinde olmayan batıklar ve tarihi kalıntılar var. (IV) Farklı alternatiflerin olduğu kıyılarımız Orta Anadolu'da bulunan en önemli antik yerleşim yerlerinden biri olan ve M.Ö. 7000'li tarihlere ait olduğu düşünülen Çatalhöyük'ün, günümüzde yapılan kazılarla, çok daha eski tarihlere ait olduğu ortaya konulmaktadır. (V) Kazıyı yapan James Mellaart, bu yerleşimin o tarihlerde, dünyanın en önemli ilk şehirlerinden olduğunu belirtmekte ve çağın Paris'i olduğunu iddia etmektedir.

Bu parçadaki numaralanmış cümlelerin hangisinde yazım yanlışlığı yapılmıştır?

- A) I B) II C) III D) IV E) V

23. Geçen yıllara rağmen gençliğini (I) güzelliğini korumak her kadının istediği bir şey. Ancak neden bazılarımız bunu başarabilirken bazılarımız başaramıyor (III) Yapılan anketlerden alınan cevaplar gösteriyor ki 40'lı yaşlarda bile genç ve güzel görünmek mümkün (IV) Peki nasıl (V)

Bu parçadaki numaralı yerlerden hangilerine soru işareti getirilmelidir?

- A) I. ve III. B) I. ve IV. C) II. ve III.
 D) III. ve V. E) IV. ve V.

24. ve 26. SORULARI AŞAĞIDAKİ PARÇAYA GÖRE CEVAPLAYINIZ.

Köpek balığı denince akla hemen iri cüsseli balıklar, jilet gibi keskin dişler, hızla ve bağıarak yüzen insanlar, kan ve korku gelir. Hollywood'un ünlü yapıtlarından biri olan *Jaws* filminin de bunda çok büyük katkısı olduğunu unutmamak gerekir. Peki, bu canlılar gerçekten bu kadar vahşi mi? Öldürmekten başka hiç bir vazifeleri yok mu? Yoksa sadece filmlerden dolayı mı böyle düşünüyoruz? Yoksa denizlerin bu ilginç yaratıklarına haksızlık mı yapıyoruz? Fosil kayıtlara göre yaklaşık 400 milyon yıldır bu gizemli yaratıklar dünyamız denizlerinde, yaşamlarını hiçbir değişikliğe uğramadan sürdürmektedirler. Köpek balıkları, omurgalı hayvanların kıkırdaklı balıklar sınıfından olan canlılardır. Vücut yapıları kemik yerine kıkırdaktan oluşur, bu nedenle su altında oldukça kıvrak hareket edebilirler. En büyük dezavantajları, kemikli balıklarda bulunan ve su içinde dengede kalmalarını sağlayan "yüzme keselerinin" olmayışıdır. Yüzmeyi bıraktıkları anda, ağır bir metal parçası gibi dibe çökerler. Yani, sürekli hareket etmek zorundadırlar. Bununla beraber yüzme keselerinin olmaması, su içinde dikey yönde oldukça hızlı hareket edebilmelerini sağlar. Ayrıca, bu hayvanlarda vücudun yaklaşık %20-30'u karaciğerden oluşur. Bu çok yağlı karaciğerler, köpekbalıklarına pozitif bir yüzerlilik kazandırır.

24. Bu parçada aşağıdaki neden – sonuç ilişkilerinden hangisine yer verilmemiştir?

- A) Kıkırdaktan oluşmaları-hızlı hareket etmeleri
 B) Yüzme keselerinin olmayışı-sürekli hareket etmeleri
 C) Korku salması-*Jaws* filmi
 D) Vücudun %20-30'unun karaciğerden oluşması-pozitif yüzerlilik kazanması
 E) 400 milyon yıldır yaşaması-hiçbir değişikliğe uğramaması

25. I. En önemli avlarının neler olduğuna
 II. Filmlere konu olduklarına
 III. Fiziksel özelliklerinden birine
 IV. Değişime uğramadan yaşamlarını sürdürmelerinin nedenine

Bu parçada köpek balıklarıyla ilgili yukarıdakilerden hangilerine değinilmemiştir?

- A) Yalnız I B) I ve II C) II ve III
 D) II ve IV E) I ve IV

26. Bu parçanın anlatım biçimi aşağıdakilerden hangisidir?

- A) Açıklama B) Betimleme
 C) Tartışma D) Öyküleme
 E) Tanımlama

27. – 30. SORULARI AŞAĞIDAKİ BİLGİLERE GÖRE BİRBİRİNDEN BAĞIMSIZ OLARAK CEVAPLAYINIZ.

Bir bilgi yarışmasında A, B ve C okullarından Ali, Burak, Can, Derya, Emel, Ferit, Gizem, Hülya, Kamil ve Leyla isimli on öğrenci katılmıştır. Yarışmaya katılan bu on öğrencinin hangi okuldan katıldıkları ile ilgili aşağıdaki bilgiler verilmiştir:

- A okulundan 4, B ve C okullarından 3'er öğrenci yarışmaya katılmıştır.
- Ferit ve Gizem, aynı okuldan yarışmaya katılmışlardır.
- Burak ve Can aynı okuldan yarışmaya katılmışlardır.
- Emel ve Ali aynı okuldan yarışmaya katılmışlardır.
- Kamil A, Hülya C okulundan yarışmaya katılmışlardır.
- Burak ve Hülya farklı okullardan yarışmaya katılmışlardır.
- Kamil ve Leyla farklı okullardan yarışmaya katılmışlardır.

27. Bu bilgilere göre, aşağıdakilerden hangisi kesin olarak doğrudur?

- A) Burak yarışmaya B okulundan katılmıştır.
- B) Can, yarışmaya A okulundan katılmıştır.
- C) Ferit, yarışmaya C okulundan katılmıştır.
- D) Derya ve Emel yarışmaya farklı okullardan katılmışlardır.
- E) Ali ve Ferit yarışmaya farklı okullardan katılmışlardır.

**28. I. Ali
II. Derya
III. Gizem**

Bu bilgilere göre, yukarıda verilen I, II ve III'teki öğrencilerden hangilerinin, hangi okuldan yarışmaya katıldığı kesin olarak bilinmektedir?

- A) Yalnız I
- B) Yalnız II
- C) I ve II
- D) I ve III
- E) II ve III

29. Can'ın yarışmaya B okulundan katıldığı biliniyorsa aşağıdakilerden hangisi kesin olarak yanlıştır?

- A) Emel yarışmaya C okulundan katılmıştır.
- B) Ali, yarışmaya A okulundan katılmıştır.
- C) Derya ve Burak yarışmaya aynı okuldan katılmışlardır.
- D) Kamil ve Gizem yarışmaya farklı okuldan katılmışlardır.
- E) Ferit ve Emel yarışmaya aynı okuldan katılmışlardır.

30. Leyla, Burak ve Emel ile aynı okuldan yarışmaya katılmadıklarına göre, A okulundan yarışmaya katılan öğrenciler aşağıdakilerden hangisinde doğru olarak verilmiştir?

- A) Kamil – Derya – Ferit – Gizem
- B) Kamil – Can – Ferit – Gizem
- C) Kamil – Burak – Emel – Ali
- D) Kamil – Derya – Burak – Can
- E) Kamil – Can – Emel – Ali

31. $\frac{(0,2)^2}{0,1} - \frac{(0,3)^2}{0,2}$

işlemin sonucu kaçtır?

- A) $\frac{1}{5}$ B) $\frac{2}{3}$ C) $\frac{3}{5}$ D) $-\frac{1}{20}$ E) $-\frac{1}{15}$

32. $\frac{2^{-3} + 2^{-4} + 2^{-5}}{2^3 + 2^4 + 2^5}$

işleminin sonucu kaçtır?

- A) 2^{-7} B) 2^{-8} C) 2^{-4} D) 2^{-2} E) 2^{-1}

33. $2\sqrt{2} \cdot (\sqrt{2^{-3}} + \sqrt{2^{-5}})$

işleminin sonucu kaçtır?

- A) $\frac{1}{2}$ B) $\frac{3}{2}$ C) $\frac{4}{3}$ D) $\frac{5}{3}$ E) $\frac{9}{4}$

34. x, y ve z birer tam sayıdır.

$$x^2 \cdot y^3 = 2z + 1$$

olduğuna göre, aşağıdakilerden hangisi kesinlikle doğrudur?

- A) x ve z tek sayıdır.
B) x.y.z çift sayıdır.
C) x çift, y tek sayıdır.
D) x tek, y çift sayıdır.
E) x+y çift sayıdır.

35. Bir a doğal sayısı için

$a + (a-1) + (a-2) + \dots + 2+1=253$ olduğuna göre, a'nın rakamları toplamı kaçtır?

- A) 4 B) 5 C) 6 D) 7 E) 9

36. x bir pozitif gerçel sayı olmak üzere;

$$\left(1 - \frac{1}{x}\right) \cdot \left(1 + \frac{1}{x}\right) \cdot \left(1 + \frac{1}{x^2}\right) = -80$$

olduğuna göre, x kaçtır?

- A) $\frac{1}{2}$ B) $\frac{1}{3}$ C) $\frac{1}{4}$ D) $\frac{1}{5}$ E) $\frac{3}{5}$

37. Bir A sayısı ardışık iki pozitif tek sayının çarpımına eşittir. Bu A sayısı bu iki ardışık tek sayının her birine ayrı ayrı bölünüp çıkan bölümler toplanınca 32 bulunmaktadır.

Buna göre, A sayısı kaçta eşittir?

- A) 155 B) 175 C) 195 D) 235 E) 255

38. $|x-5| \cdot |x+2| = |5-x|$

olduğuna göre, x'in alabileceği farklı değerler toplamı kaçtır?

- A) -3 B) -2 C) -1 D) 1 E) 2

39. x, y ve z pozitif tam sayılarının en büyük ortak bölenleri (EBOB) ile ilgili olarak aşağıdakiler veriliyor.

$$\text{EBOB}(x,y) = 3$$

$$\text{EBOB}(x,z) = 5$$

$$\text{EBOB}(y,z) = 7$$

Buna göre, $x + y + z$ toplamının alabileceği en küçük değer kaçtır?

- A) 59 B) 61 C) 63 D) 71 E) 83

40. n pozitif tam sayı olmak üzere;

$$\frac{(n+1)!}{(n+1)! + (n!) + (n-1)!} = \frac{7}{8}$$

eşitliğini sağlayan n sayısı kaçtır?

- A) 6 B) 7 C) 8 D) 9 E) 10

41. $\frac{x^3 + y^3}{x^2 - y^2} : \left(x - \frac{x^2 + y^2}{y} \right) + \frac{x}{x - y}$

ifadesi aşağıdakilerden hangisine eşittir?

- A) 1 B) $\frac{x}{y}$ C) $\frac{x-y}{2}$
D) $\frac{y}{x+y}$ E) $\frac{y}{x}$

42. Gerçek sayılar kümesi üzerinde "Δ" ve "*" işlemleri

$$x\Delta y = x^2 + y^2$$

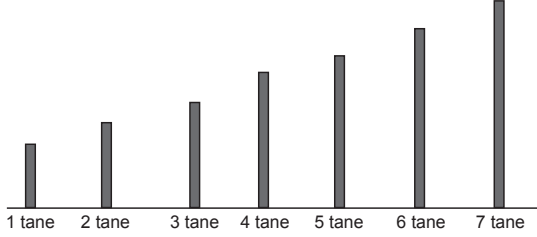
$$x*y = x \cdot y$$

biçiminde tanımlanıyor.

Buna göre, $(48\Delta 36) - 2(48*36)$ işleminin sonucu kaçtır?

- A) 48 B) 52 C) 64 D) 81 E) 144

43. VE 44. SORULARI AŞAĞIDAKİ BİLGİLERE GÖRE BİRBİRİNDEN BAĞIMSIZ OLARAK CEVAPLAYINIZ.



- Lunaparkta şekildeki gibi çubuklara daire şeklinde halkalar geçirilmeye çalışılıyor.
- Her çubuğa altında yazılı sayı kadar halka geçirilmesi isteniyor.
- 30 atış hakkı için 15 TL ücret alınıyor ve atışlara kalınan yerden devam ediliyor.
- Eğer tüm çubuklara istenilen kadar halka geçirilirse 50 TL ödül kazanılacaktır ve direkler boşaltılıp kalan atış hakları kullanılabilir.
- Çubuklara geçirilemeyen veya çubuğun altında yazılı sayıdan fazla olarak geçirilmiş halkalar ıskalar olarak tanımlanmaktadır.

43. Buna göre, bu oyunda 15 TL ile 50 TL kazanmak için kaç ıskalar hakkı tanınmıştır?

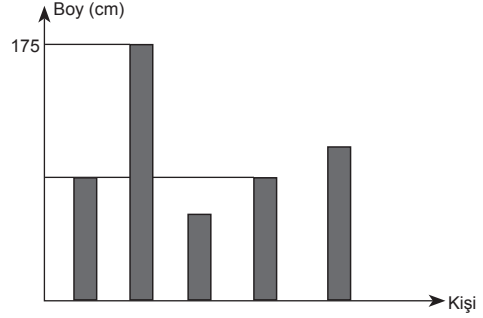
- A) 1 B) 2 C) 3 D) 4 E) 5

44. Kemal'in 30 TL si vardır.

İlk 30 atışta en çok kaç ıskalar atış yaparsa ikinci 30 atış hakkını aldığı anda 100 TL ödül kazanabilecektir?

- A) 4 B) 6 C) 8 D) 10 E) 12

45. Aşağıdaki grafikte, beş kişinin boyları ile ilgili bazı bilgiler verilmiştir.



Bu kişilerle ilgili aşağıdakiler bilinmektedir:

- Erdal ile Esra aynı boydadır.
- En uzun olan Sena, en kısa olan Toprak'tır.
- Emre; Esra'dan 3 cm, Toprak'tan ise 5 cm uzundur.
- Erdal, Sena'dan 4 cm kısadır.

Buna göre, Toprak'ın boyu kaç cm dir?

- A) 152 B) 160 C) 164
D) 169 E) 171

46. Ardışık dört tek tamsayının çarpımı 9009'dur. Bu sayıların toplamı kaçtır?

- A) 38 B) 40 C) 42 D) 44 E) 46

47. a, b ve c birer pozitif tam sayıdır.

$$\frac{a}{2} = \frac{6}{b} = c$$

olduğuna göre, a+b+c toplamının alabileceği en küçük değer kaçtır?

- A) 7 B) 9 C) 13 D) 15 E) 19

48. Herkesin eşit güçte olduğu bir işçi grubuna 30 günlük iş verilmiştir. İşçilerin 5'i daha iş başlamadan ayrılıyor. Kalan işçiler, işi bu yüzden 45 günde bitirdiklerine göre, başlangıçta grup kaç kişiydi?

- A) 12 B) 13 C) 15 D) 16 E) 18

49 ve 50. SORULARI AŞAĞIDAKİ BİLGİLERE GÖRE BİRBİRİNDEN BAĞIMSIZ OLARAK CEVAPLAYINIZ.

Aynı yol üzerinde bulunan A, B, C, D, E kentleri arasındaki yolların uzunluklarını km türünden gösteren bir tablo hazırlanmıştır. Aşağıda bu uzunlukların bazıları verilmiştir.

A	B	C	D	
600	800			E
		380	220	A
				B
				C

Tablonun satır ve sütun kesişiminde verilen sayılar bu-
lundukları satır ve sütunun belirttiği iki kent arasındaki
yolun uzunluğudur. Örneğin, D ile A kentleri arasındaki
yolun uzunluğu 220 km'dir.

49. Kentlerin yol üzerindeki sıralanışı B, E, D, A, C şeklindeyse B ile C kentleri arasındaki yolun uzunluğu kaç km'dir?

A) 1440 B) 1580 C) 1780
D) 1800 E) 1820

50. Kentlerin yol üzerindeki sıralanışı E, C, D, A, B şeklindeyse D ile B kentleri arasındaki yolun uzunluğu, E ile C kentleri arasındaki yolun uzunluğundan kaç km fazladır?

A) 120 B) 200 C) 210 D) 220 E) 260

51. Bir seminere katılanların %30'u gözlük takmaktadır. Gözlük takan erkeklerin sayısı, gözlük takmayan kadınların sayısına eşittir. Gözlük takmayan erkeklerin sayısı ise gözlük takan kadınların sayısından 20 fazladır.

Buna göre, seminere kaç kişi katılmıştır?

A) 30 B) 35 C) 40 D) 50 E) 55

52. Beş katlı bir alışveriş merkezinin zemin katında bulunan asansöre belli sayıda kişi binmiştir. Tek numaralı katlarda o anda asansörde bulunan kişilerin $\frac{2}{3}$ ü inmiş, çift numaralı katlarda ise o anda asansörde bulunan kişilerin yarısı kadar kişi binmiştir.

Buna göre, 3. kattan 4. kata çıkan asansörde 4 kişi varsa zemin katta asansöre kaç kişi binmiştir?

A) 12 B) 18 C) 20 D) 22 E) 24

53 ve 54. SORULARI AŞAĞIDAKİ BİLGİLERE GÖRE BİRBİRİNDEN BAĞIMSIZ OLARAK CEVAPLAYINIZ.

Aşağıdaki tabloda bir tüccarın sattığı iki çeşit fındığın alış ve satış fiyatları verilmiştir.

	Samsun Palazı	Ordu Yağlı Fındığı
Alış Fiyatı (TL)	1,20	1,60
Satış Fiyatı (TL)	1,50	2,40

Bu tüccarın 1 kg fındığı bir hafta depolama maliyeti 10 kuruştur.

53. Bu tüccar iki çeşit fındıktan 100 TL lik alıp fındıkları depolamadan satarak 35 TL kâr elde ediyor.

Tüccar, kaç kg Samsun palazı almıştır?

A) 30 B) 40 C) 50 D) 65 E) 70

54. Bu tüccar 50 kg Ordu yağlı fındığını 2 hafta depoladıktan sonra satıyor.

Tüccar, bu satıştan kaç TL kâr elde etmiştir?

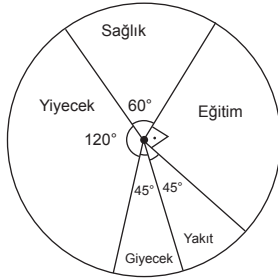
A) 16 B) 20 C) 24 D) 30 E) 35

55. ve 56. SORULARI AŞAĞIDAKİ BİLGİLERE GÖRE BİRBİRİNDEN BAĞIMSIZ OLARAK CEVAPLAYINIZ.

Aşağıdaki tabloda VAR Eğitim Şirketinin 5 yıl boyunca elde ettiği yıllık kâr miktarları gösterilmiştir.

Yıl	Kâr (bin TL)
2008	440
2009	350
2010	480
2011	420
2012	300

Bu şirket, her yılın sonunda kârının belli bir oranını çalışanlarının sağlık, eğitim, yakıt, giyecek ve yiyecek ihtiyaçlarını karşılamak üzere aşağıdaki daire grafikte gösterilen biçimde çalışanlarına dağıtmaktadır.



Şirketin kârı 400 bin TL'nin altında ise kârının %4'ünü, 400 bin TL ve üzerinde ise %5'ini dağıtmaktadır.

55. Bu şirket, 2010 yılında çalışanlarına kaç bin TL giyecek yardımı yapmıştır?

- A) 3 B) 4 C) 5 D) 6 E) 7

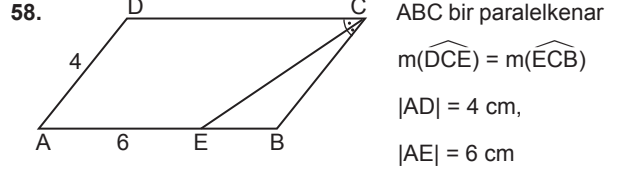
56. Bu şirket 2012 yılında çalışanlarına kaç bin TL yakıt yardımı yapmıştır?

- A) 1 B) 1,5 C) 2 D) 3 E) 3,5

57. Bir sınıftaki öğrencilerden seçilen bir öğrencinin erkek öğrenci olma olasılığı $\frac{3}{7}$ 'dir.

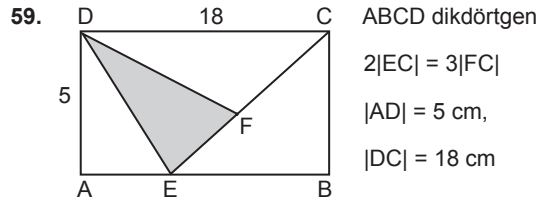
Sınıfta 16 kız öğrenci olduğuna göre, bu sınıfta kaç erkek öğrenci vardır?

- A) 10 B) 12 C) 14 D) 16 E) 18



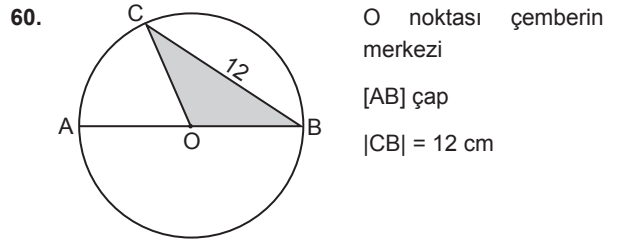
Yukarıdaki verilere göre, ABCD paralelkenarının çevresi kaç cm'dir?

- A) 20 B) 22 C) 24 D) 26 E) 28



Yukarıdaki verilere göre DEF üçgeninin alanı kaç cm^2 dir?

- A) 10 B) 12 C) 14 D) 15 E) 16



Şekildeki COB üçgenin alanı $24 cm^2$ olduğuna göre, çemberin yarıçapı uzunluğu kaç cm'dir?

- A) $2\sqrt{5}$ B) $\sqrt{13}$ C) $2\sqrt{13}$ D) $4\sqrt{5}$ E) $\sqrt{71}$

GENEL YETENEK TESTİ BİTTİ.
GENEL KÜLTÜR TESTİNE GEÇİNİZ.

GENEL KÜLTÜR

DİKKAT: BU BÖLÜMDE YANITLAYACAĞINIZ SORU SAYISI 60'TIR.

1-27 SORU : "Atatürk İlkeleri ve İnkılap Tarihi" ile "Türk Kültür ve Medeniyetleri"

28-45 SORU : "Türkiye Coğrafyası"

46-60 SORU : "Temel Yurttaşlık Bilgisi ve Güncel Konular" ile ilgilidir.

Bu bölümdeki sorularla ilgili cevaplarınızı, cevap kağıdınızdaki "**GENEL KÜLTÜR**" bölümüne işaretleyiniz.

1. Aşağıdakilerden hangisi Kuzey Hunlarının başlattığı Kavimler Göçü'nün sonuçlarından biri değildir?

- A) Avrupa'nın etnik yapısı değişmiştir.
- B) Feodalite rejimi ortaya çıkmıştır.
- C) Skolastik düşünce oluşmuştur.
- D) Batı Roma İmparatorluğu yıkılmıştır.
- E) Kâğıt, matbaa, pusula Avrupa'ya taşınmıştır.

2. I. Tohumluk buğday ambarları
II. Tapınak, sur ve saraylar görülmesi
III. Fresk, vitray gibi süsleme sanatlarının görülmesi
Uygurlara ait yukarıdaki özelliklerden hangileri yerleşik yaşama geçildiğinin kanıtları arasındadır?

- A) Yalnız I
- B) Yalnız II
- C) Yalnız III
- D) I ve II
- E) I, II ve III

3. Büyük Selçuklu Devleti'nde idari ve mali işlerin yolunda gidip gitmediğini denetleyen alt divan aşağıdakilerden hangisidir?

- A) Divan-ı Tuğra
- B) Divan-ı İşraf
- C) Divan-ı Ala
- D) Divan-ı Berid
- E) Divan-Mezalim

4. Karahanlılar Dönemi'nde yazılan Divan-ı Lügat-it Türk ile ilgili aşağıdaki bilgilerden hangisi yanlıştır?

- A) Kaşgarlı Mahmut tarafından yazılmıştır.
- B) İlk Türkçe ansiklopedik sözlüktür.
- C) İçinde Türk dünyasının haritası bulunur.
- D) Tabgaç Buğra Han'a sunulmuştur.
- E) Araplara Türkçe öğretmek için yazılmıştır.

5. I. Fetva
II. Hutbe okutmak
III. Hilat

Osmanlı Devleti'nde yukarıdakilerden hangileri hükümdarlık alameti olarak görülmez?

- A) Yalnız I
- B) Yalnız II
- C) Yalnız III
- D) II ve III
- E) I ve III

6. Aşağıdakilerden hangisi Osmanlı Devleti'nde uygulanan dirlik toprak yönetiminin özelliklerden biri değildir?

- A) Köylünün toprağı işlemek zorunda olması
- B) Toprakların geliri ve memuriyet derecesi ölçüt alınarak görevlilere verilmesi
- C) Dirlik sahibinin köylüyü yargılayabilme hakkının olması
- D) Dirlik sahibinin asker yetiştirme zorunluluğunun olması
- E) Köylünün vergisini ürün üzerinden ödemesi

7. Osmanlı Devletinde devlet adamlarının padişaha bağlılık bildirmesine ----- adı verilir.
Yukarıdaki boşluğa aşağıdaki ifadelerden hangisi gelmelidir?
- A) ferman B) buyruk
C) biat D) berat
D) tuğra
8. XVII. yüzyılda Osmanlı ekonomisinin zayıflamasına yol açan
- I. Gümrük gelirinin azalması,
II. İpek ve Baharat yollarının önemini yitirmesi,
III. Osmanlı parasının değerinin düşmesi
- gelişmelerden hangileri Coğrafi Keşifler'in etkisi ile ortaya çıkmıştır?
- A) Yalnız I B) Yalnız II
C) Yalnız III D) I ve II
E) I, II ve III
9. XVIII. yüzyılda yapılan aşağıdaki yeniliklerden hangisi Osmanlı Devleti'nin Avrupalı devletlere karşı askerî rekabet gücünü arttırmaya yönelik değildir?
- A) Sürat Topçuları Ocağının kurulması
B) Eshan-ı Tahurlat uygulaması
C) İstihkam Okulunun açılması
D) Kara Mühendishanesinin açılması
E) Deniz Mühendishanesinin açılması
10. XVIII. yüzyılda aşağıdaki alanlardan hangisinde değerlerine göre daha fazla ıslahat yapılmıştır?
- A) Ekonomik B) Sanat
C) Kültürel D) Askerî
E) Eğitim
11. XIX ve XX. yüzyılda Osmanlı Devleti'nin Kıbrıs, Tunus, Mısır, Cezair topraklarını kaybetmesi
- I. Sömürgecilik,
II. Milliyetçilik
III. Demokratikleşme
- hareketlerinden hangilerinin Osmanlı Devleti'ni olumsuz etkilediğini gösterir?
- A) Yalnız I B) Yalnız II
C) Yalnız III D) I ve II
E) I, II ve III
12. Aşağıdakilerden hangisi II. Mahmut Dönemi'nde eğitim alanında yapılan ıslahatlardan biri değildir?
- A) İstanbul'da ilköğretim zorunlu hâle getirilmiştir.
B) Sadece ilmi bilimler gösterilen Darülfunun açılmıştır.
C) Tıbbiye ve Harbiye açılmıştır.
D) Mekteb-i Maarif-i Adliye açılmıştır.
E) Baytar Mektebi açılmıştır.

13. Abdülmecid Dönemi'nde 1839'da Tanzimat Fermanı ilan edilmiştir.
Aşağıdakilerden hangisi Tanzimat Fermanı'nın ilan edilme nedenlerinden biri değildir?
- A) Ayanların desteğini alarak merkezî otoriteyi sağlamak
B) Osmanlı Devleti'nin parçalanmasını önlemek
C) Azınlıkların Osmanlı Devleti'ne bağlılığını artırmak
D) Mısır meselesinde Avrupalı devletlerin desteğini almak
E) Milliyetçilik akımının etkisini azaltmak
14. Aşağıdakilerden hangisi özellikle II. Meşrutiyet Dönemi'nde etkili olan Türkçülük akımının temsilcileri arasında yer almaz?
- A) Yusuf Akçura
B) Mehmet Emin Yurdakul
C) Mehmet Akif Ersoy
D) Ziya Gökalp
E) İsmail Gaspıralı
15. I. Balkan Savaşı sırasında bağımsızlığını ilan ederek, Osmanlı Devleti'nden ayrılan son Balkan devleti aşağıdakilerden hangisidir?
- A) Sırbistan
B) Yunanistan
C) Bulgaristan
D) Karadağ
E) Arnavutluk
16. Aşağıdakilerden hangisi I. Dünya Savaşı'ndan sonra kurulan devletlerden biri değildir?
- A) Polonya
B) Macaristan
C) Çekoslovakya
D) Yugoslavya
E) Romanya
17. Amasya Genelgesinde, aşağıdakilerden hangisi ile ilgili bir karar bulunmamaktadır?
- A) Vatanın bağımsızlığının ve bütünlüğünün korunması
B) Sivas'ta halkın katılımı ile gerçekleştirecek bir kongre toplanması
C) Millî mücadelenin gerekçesinin belirlenmesi
D) Mücadeleyi halka duyurabilmek için bir gazete çıkarılması
E) Millî mücadelenin yönteminin belirlenmesi
18. Son Osmanlı Mebusan Meclisinde Mustafa Kemal, aşağıdaki illerden hangisinden milletvekili seçilmiştir?
- A) Sivas
B) Ankara
C) Erzurum
D) Amasya
E) İzmir

19. Mustafa Kemal'in sağlığında yayınlanan ve Mustafa Kemal'in hayatını anlatan ilk biyografik eser aşağıdakilerden hangisidir?

- A) Çankaya
- B) Bozkurt
- C) İstiklal Harbimiz
- D) Tek Adam
- E) Yaban

20. Aşağıdakilerden hangisi I. TBMM'nin özelliklerden biri değildir?

- A) Kurucu meclistir.
- B) İhtilalci özellik taşır.
- C) Siyasi partilere yer verilmemiştir.
- D) Hükümet modeli olarak kabine sistemi uygulanmıştır.
- E) Olağanüstü yetkilere sahiptir.

21. Sevr Antlaşması'nın hukuken geçersiz sayılmasını nedeni;

- I. Osmanlı Mebusan Meclisi tarafından onaylanması,
- II. Şartların ağır olması,
- III. Kapitülasyonların şartlarının artırılması,
- IV. I. TBMM'nin anlaşmayı tanımaması

gibi özelliklerden hangileridir?

- A) Yalnız I
- B) Yalnız II
- C) I ve II
- D) I ve III
- E) II, III ve IV

22. I. Sakarya Meydan Muhaberesi

- II. I. İnönü Savaşı
- III. II. İnönü Savaşı
- IV. Büyük Taarruz

Yukarıdaki savaşlardan hangilerini Mustafa Kemal doğrudan komuta etmiştir?

- A) Yalnız I
- B) Yalnız II
- C) III ve IV
- D) I ve IV
- E) I, III ve IV

23. I. Kabotaj Kanunu'nun kabulü

- II. Teşvik-i Sanayi Kanunu'nun kabulü
- III. Kapitülasyonların kaldırılması

Yukarıdaki gelişmelerden hangileri doğrudan Türk devletinin ekonomik alanda bağımsızlığını gerçekleştirmeye yöneliktir?

- A) Yalnız I
- B) Yalnız II
- C) Yalnız III
- D) I ve II
- E) I ve III

24. Yunanistan ile yapılan nüfus mübadelesine göre İstanbul hariç Anadolu'nun diğer bölgelerinde yaşayan Rumların Yunanistan'a; Batı Trakya hariç Yunanistan'ın diğer bölgelerinde yaşayan Türklerin Anadolu'ya göç etmesi sağlanmıştır.

Bu bilgilere göre;

- I. Rumların Anadolu'daki emelleri zayıflatılmıştır.
- II. Batı Trakya ile olan kültürel bağlarımız sona ermiştir.
- III. Anadolu'da Türk nüfusu artmıştır.

yukarıdakilerden hangilerine ulaşılabilir?

- A) Yalnız I
- B) Yalnız II
- C) Yalnız III
- D) I ve II
- E) I ve III

25. II. Dünya Savaşı öncesinde,

- I. Almanya
- II. İngiltere
- III. İtalya

devletlerinden hangilerinin yayılcı politikası Türkiye'nin Boğazlar Sorunu'nu gündeme getirmesine neden olmuştur?

- A) Yalnız I
- B) Yalnız II
- C) Yalnız III
- D) I ve II
- E) I ve III

26. Aşağıdakilerden hangisi Atatürk'ün ölümünden sonra Türkiye'nin üye olduğu kuruluşlardan biri değildir?

- A) Litvinof Sözleşmesi
- B) Birleşmiş Milletler
- C) NATO
- D) CENTO
- E) Bağdat Paktı

27. 1978'de imzalanan Camp David Antlaşması ile İsrail'i resmen tanıyan ilk Arap devleti aşağıdakilerden hangisidir?

- A) Ürdün
- B) Libya
- C) Mısır
- D) Suriye
- E) Filistin

28. Aşağıda verilen özelliklerden hangisi Türkiye'nin Kuzey Yarımküre'de yer aldığı kesin kanıtıdır?

- A) Güney kıyılarında Akdeniz iklim özelliklerinin görülmesi
- B) Fiyort gibi kıyı tiplerinin görülmemesi
- C) Karadeniz Bölgesi'nin kuzey yamaçlarında yağış miktarının güney yamaca göre daha fazla olması
- D) 21 Aralık tarihinden sonra gündüz süresinin uzamaya başlaması
- E) Ülke genelinde en fazla görülen yağış oluşum şeklinin cephe yağışları olması

29. Ovalar oluşum özelliklerine göre tektonik, karstik ve delta ovaları olmak üzere üç gruba ayrılır.

Buna göre,

- I. Balat
- II. Ceylanpınar
- III. Amik
- IV. Tefenni
- V. Varto

gibi ovalardan hangisi karstik kökenli ovadır?

- A) I
- B) II
- C) III
- D) IV
- E) V

30. Yıllık yağış miktarının az, bitki örtüsünün cılız olduğu alanlarda rüzgârın şekillendirici etkisi fazladır.

Buna göre aşağıda verilen alanlardan hangisinde rüzgârın şekillendirici etkisi diğerlerine göre daha azdır?

- A) Menteşe Yöresi
- B) Harran Yöresi
- C) Iğdır Yöresi
- D) Konya Tuz Gölü Yöresi
- E) Afyon Yöresi

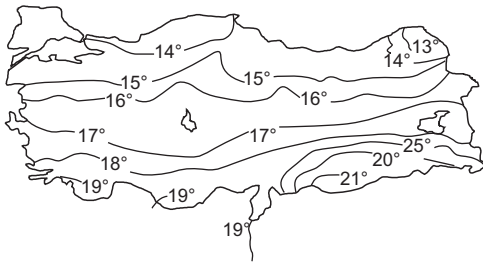
31. Geçtikleri yerler göz önüne alındığında aşağıda verilen akarsu çiftlerinden hangilerinin komşularımızla sınır oluşturduğu söylenebilir?

- A) Manavgat - Asi
- B) Kelkit Çayı - Zap Suyu
- C) Aras - Meriç
- D) Çoruh - Yeşilirmak
- E) Murat Çayı - Porsuk Çayı

32. Aşağıda verilen özelliklerden hangisinin ortaya çıkmasında yer şekillerinin etkili olduğu söylenemez?

- A) Karadeniz Bölgesi'nin gerçek ve izdüşüm alanları arasındaki farkın çok fazla olması
- B) Kıyı Ege'de belirgin yaz kuraklığının yaşanması
- C) Konya Bölümü'nde akarsuların hidroelektrik potansiyelinin düşük olması
- D) Doğu Anadolu'da demiryolunun daha çok batı - doğu yönünde uzanması
- E) Marmara Bölgesi'nde tarımsal nüfusu yoğunluğunun az olması

33. Aşağıda Türkiye'nin yıllık indirgenmiş sıcaklık ortalamalarını gösteren izoterm haritası verilmiştir.



Bu harita ile ilgili olarak aşağıdakilerden hangisi söylenemez?

- A) Batı Karadeniz'in kıyı kesiminde sıcaklıklar 14°C'den azdır.
- B) Teke Yöresi ve Antalya çevresinde sıcaklıklar 18°C'den fazladır.
- C) En düşük sıcaklıklar yükseltiye bağlı olarak Erzurum - Kars Bölümü'ndedir.
- D) Batı kıyılarda sıcaklıklar güneyden kuzeye doğru azalmaktadır.
- E) En yüksek sıcaklıklar Güneydoğu Anadolu Bölgesi'ndedir.

34. Nem oranının fazla olduğu alanlarda ormanlar tahrip olsa bile ormanın kendini yenileme süreci kısadır.

Buna göre, aşağıdaki verilen alanlardan hangisinde ormanlar kendini daha erken yeniler?

- A) Dicle Bölümü
- B) Yıldız Dağları Bölümü
- C) Yukarı Sakarya Bölümü
- D) Yukarı Fırat Bölümü
- E) İç Batı Anadolu Bölümü

35. Türkiye'de kümes hayvancılığı daha çok büyük kentlerin çevresinde yoğunlaşmıştır.

Bu durumun oluşmasında,

- I. Tüketim merkezine yakınlık
- II. İhraç ürünü özelliği taşıması
- III. Yer şekillerinin uygunluğu
- IV. Sıcaklık ve yağış koşullarının uygunluğu

gibi etmenlerden hangileri daha belirleyici olmuştur?

- A) Yalnız I
- B) Yalnız II
- C) I ve II
- D) II ve IV
- E) III ve IV

36. Sanayi ham madde ilişkisi göz önüne alındığında Zonguldak, Antalya ve Şanlıurfa'da hangi sanayi kollarının gelişmesi beklenir?

	Zonguldak	Antalya	Ş.Urfa
A)	Demir - Çelik	Vagon	Gübre
B)	Otomotiv	Halıcılık	Sigara
C)	Tekstil	Gübre	Kâğıt
D)	Petrol rafinesi	Demir - Çelik	Şeker
E)	Kâğıt	Konserve	Tekstil

37. Türkiye'deki birçok tarım ürününün üretim miktarı iç tüketimi karşılamakta, bazıları ise yetersiz kalmaktadır. Buna göre, aşağıda verilen tarım ürünlerinden hangisi toplam tüketimi karşılayamadığı için ithal edilir?

- A) Şeker pancarı B) Pamuk
C) Pirinç D) Tütün
E) Turunçgil

38. Türkiye'nin dış ticareti ile aşağıdaki ifadelerden hangisi doğrudur?

- A) Dış satım gelirleri dış alım giderlerini karşılamaktadır.
B) Dış satımda kâğıt, otomobil ürünlerinin payı fazladır.
C) Dış alımda petrol, doğalgaz, ilaç ürünlerinin payı fazladır.
D) Dış satımda tarım ürünleri arasında pirinç, muz, buğday ilk sırayı alır.
E) Hammadde ithalatı fazladır.

39. Aşağıda verilen turizm değerlerinden hangilerinin gelişmesinde doğal oluşumların etkisi en azdır?

- A) Kapodakya → Nevşehir
B) Cennet - Cehennem → Mersin
C) Pamukkale → Denizli
D) Ilgaz → Kastamonu
E) Truva → Çanakkale

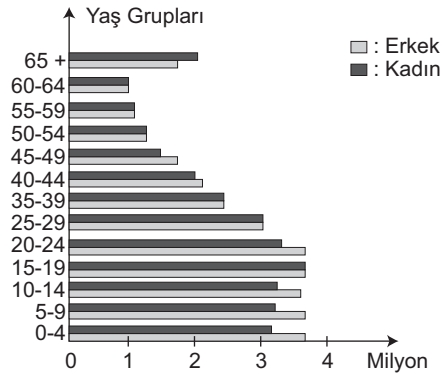
40. Aşağıda bazı santraller ve bu santrallerin başlıca enerji kaynağı verilmiştir.

- I. Yatağan → Linyit
II. Ambarlı → Doğalgaz
III. Oymapınar → Linyit
IV. Elbistan → Su gücü
V. Çatalağzı → Taşkömürü

Verilen bilgilerin doğru olabilmesi için hangilerinin kullandığı enerji kaynağının yer değiştirmesi gerekmektedir?

- A) I ve II B) II ve III C) II ve IV
D) III ve IV E) IV ve V

41. Aşağıdaki grafik, 2000 yılında Türkiye nüfusunun cinsiyete ve yaş gruplarına göre dağılışını göstermektedir.



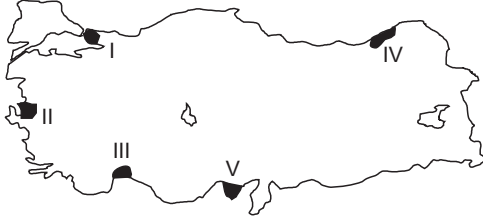
Yalnızca grafikteki bilgilere göre,

- I. Toplam nüfusta erkek nüfus oranına
II. 50 yaşın üstündeki nüfusun toplam nüfus içindeki oranına
III. Aritmetik nüfus yoğunluğuna
IV. Nüfus miktarı en az olan yaş grubuna

gibi yargılarından hangisine ulaşamaz?

- A) Yalnız II B) Yalnız III
C) II ve IV D) I ve IV
E) III ve IV

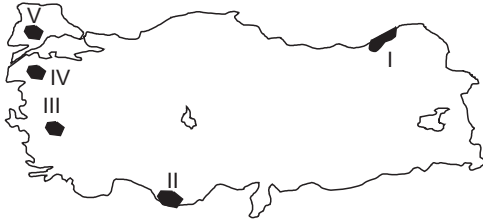
42. Türkiye'de göç gönderme oranı yüksek olan yörelerde kadın nüfus oranı yüksektir.



Buna göre, haritada numaralandırılan yörelerin hangisinde kadın nüfus oranı en yüksektir?

- A) I B) II C) III D) IV E) V

43. Kırıklı yer yapısının fazla olduğu alanlarda jeotermal potansiyel de fazladır.



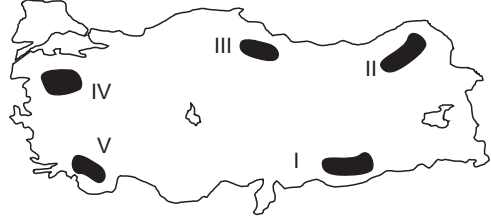
Buna göre, haritada belirtilen alanlardan hangisinin jeotermal potansiyeli en fazladır?

- A) I B) II C) III D) IV E) V

44. Aşağıdakilerden hangisi Türkiye'de sanayinin gelişmekte olduğunun kanıtlarından biridir?

- A) Demiryolu ulaşımına göre karayolu ulaşımının daha fazla gelişmesi
B) Turizm gelirlerinin sürekli artış göstermesi
C) Ham madde ihtiyacının sürekli artış göstermesi
D) Tarımsal üretimde azalmanın görülmesi
E) Çalışan nüfus içinde niteliksiz işçi payının fazla olması

45. Türkiye dünyanın en önemli bor rezervlerine sahip ülkesidir.



Yukarıdaki haritada belirtilen taralı alanlardan hangisi bor minarelleri bakımından zengin yataklara sahiptir?

- A) I B) II C) III D) IV E) V

46. I. Anayasa
II. Kanun
III. Kanun Hükmünde Kararname
IV. Tüzük
V. Yönetmelik

Yukarıdaki verilen normların hazırlanması yönüyle yasama ve yürütme yetkilerine göre aşağıdakilerden hangisinde doğru olarak gruplandırılmıştır?

Yasama

Yürütme

- A) I- II- III IV- V
B) I II- III- IV- V
C) I- II- III- IV V
D) I- II III- IV- V
E) I- III- V II- IV

47. Türkiye Cumhuriyeti Devleti'nin hükümet modeli ve devlet yapısı aşağıdakilerden doğru olarak verilmiştir?

- A) Parlamenter Hükümet sistemi – Üniter devlet
B) Yarı başkanlık sistemi – Konfederal devlet
C) Parlamenter hükümet sistemi – Bölgesi devlet
D) Meclis hükümeti sistemi – Federal devlet
E) Başkanlık sistemi – Bölgesi devlet

48. Aşağıdakilerden hangisi hukukun yazılı kaynakları arasında yer almaz?

- A) Anayasa
- B) Yönetmelik
- C) Örf ve adet hukuku
- D) Tüzük
- E) Kanun hükmünde kararname

51. TBMM üye tam sayısı kaçtır?

- A) 400
- B) 450
- C) 500
- D) 550
- E) 600

49. Aşağıdaki hukuk dallarından hangisi kamu hukuku kapsamında yer almaz?

- A) İcra – İflas hukuku
- B) İdare hukuku
- C) Ceza hukuku
- D) Anayasa hukuku
- E) Borçlar hukuku

52. Cumhurbaşkanı'nın bir milletvekiline başbakanlık görevi vermesi ardından görevi alan başbakanın hükümet kurması için verilen süre en çok kaç gündür?

- A) 20
- B) 30
- C) 35
- D) 40
- E) 45

50. Aşağıdakilerden hangisi TBMM Başkanlık Divan'ında yer almaz?

- A) TBMM Başkanı
- B) TBMM Başkanı Vekilleri
- C) Siyasi parti grup başkanları
- D) TBMM İdari Amirleri
- E) TBMM Katip üyeleri

53. Aşağıdakilerden hangisi bir Yüksek Mahkeme değildir?

- A) Uyuşmazlık Mahkemesi
- B) Sayıştay
- C) Danıştay
- D) Askeri Yargıtay
- E) Askeri Yüksek İdare Mahkemesi

54. Aşağıdakilerden hangisi devlet memurlarına verilebilecek disiplin cezalarından değildir?

- A) Uyarı
- B) Kınama
- C) Maaş kesimi
- D) Açığa Alma
- E) Meslekten men

55. Çoban Yıldızı olarakta bilinen gereken aşağıdakilerden hangisidir?

- A) Mars
- B) Venüs
- C) Neptün
- D) Jüpiter
- E) Ay

56. 2015 Eurovision Şarkı Yarışması'nda birinci olan ülke aşağıdakilerden hangisidir?

- A) İsveç
- B) Avusturya
- C) Rusya
- D) Belçika
- E) Norveç

57. Türkiye Cumhuriyeti tarihinde en uzun süre Cumhurbaşkanlığı yapmış olan Cumhurbaşkanımız aşağıdakilerden hangisidir?

- A) İsmet İnönü
- B) Mustafa Kemal
- C) Celal Bayar
- D) Kenan Evren
- E) Turgut Özal

58. Kasım 2015'te kurulan hükümet Cumhuriyet tarihinin kaçınıcı hükümetidir?

- A) 61
- B) 24
- C) 62
- D) 25
- E) 64

59. 2015'te Amerikan Harward Üniversitesi tarafından "bilim kadını" ilan edilmiş, İlk Türk bilim kadını aşağıdakilerden hangisidir?

- A) Canan Dağdeviren
- B) Elif Genceli
- C) Hatice Altuğ
- D) Remziye Hisar
- E) Sabiha Gökçen

60. Şubat 2015'te göreve başlayan Anayasa Mahkemesi Başkanı kimdir?

- A) Haşim Kılıç
- B) Hüseyin Patıraman
- C) Mehmet Ünlü
- D) Zühtü Arslan
- E) Kemal Derviş