

LİSE ve ÖN LİSANS DÜZEYİNDE

2016

KPSS

Genel Yetenek - Genel Kültür

DENEME SINAVI

FILOZOF
YAYINCILIK

FILOZOF
YAYINCILIK

KPSS 
ARŞİV 
SERİSİ İLE  YANINIZDA



Efsane Kalemlerden, Efsane Yapıtlar !

*Seçkin
Kitapçı ve
İnternet Satış
Sitelerinde !*

Genel Yetenek Testinin İçeriği: Sözel akıl yürütme (muhakeme) becerilerini, dil bilgisi ve yazım kurallarını ölçmeye yönelik sorular ile sayısal ve mantıksal akıl yürütme (muhakeme) becerilerini ölçmeye yönelik sorular

BU BÖLÜMDE CEVAPLAYACAĞINIZ TOPLAM SORU SAYISI 60'TIR.

1. Gezi yazılarına karşı içimde hep bir istek vardı, ama şöyle iyi bir eser bulup okumayı hep ötelemiştim. Geçenlerde bir arkadaşımın tavsiyesi ile çok da tanınmayan bir yazarın kitabını okudum. Kitabı bitirip arkadaşşıma verdikten sonra öğrencilerime de tavsiye ettim. Kitapla ilgili kanaatimi sorduklarında ise cevabım şu oldu: Kitabı bitirdiğinizde bu yazarın ilk kez anlattığı bir ülkeyi, doğup büyüdüğünüz şehirden daha iyi bildiğiniz hissine kapılıyorsunuz.

Bu parçadaki altı çizili sözle anlatılmak istenen aşağıdakilerden hangisidir?

- A) Anlatım yönünden çok güçlü olduğu
B) Konunun sıra dışı oluşu
C) Tarihi bilgiler içermesi
D) Yazarın bu kitap sayesinde tanındığı
E) Edebi eserde içeriğin ikinci planda olduğu

2. Bundan yüzyıllar ---- bu sembolik eser bugün de ders alınacak kadar ---- mesajlar içerdiği için ilgili kurumların eğitim programlarına bu eseri alıp öğrencileri böyle bir hazineden haberdar etmeleri gerekiyor.

Bu cümlede boş bırakılan yerlere sırasıyla aşağıdakilerden hangileri getirilmelidir?

- A) sonra konuşulacak-güncel olmayan
B) öncesinden kalan-statik
C) sonrasının mirası-niteliksiz
D) öncesini anlatan-aktüel
E) önce kaleme alınan-sığ

3. I. olayların perde arkasında söz sahibi olan
II. doğa yasalarını irdelemek hiç aklımıza gelmez
III. doğduğumuz günden beri
IV. her an şahit olduğumuz doğa olaylarını
V. öyle kanıksamış haldeyiz ki

Yukarıdaki sözler anlamlı ve kurallı bir cümle oluşturacak biçimde sıralandığında, hangisi baştan üçüncü olur?

- A) I B) II C) III D) IV E) V

4. I. Halk şairlerinin atışmaları bunun yanında muhallebi çocuklarına oyuncak olabilir dersek hiç de abartmış olmayız.
II. Böyle diplomatik bir görüşmede maksat ve merama uygun beyitleri, konunun akışını bozmayacak şekilde söylemek gerçekten maharet ister.
III. Vaktiyle Tebriz'de İran elçisiyle Türk elçisi mühim devlet işlerini görüşmek üzere bir otağda buluşmuşlar.
IV. Söze şiirle başlayan İran elçisine inat Türk elçisi daha müstesna şiirlerle cevaplar vermiş.
V. Konuşma ve sohbet öyle bir hale gelmiş ki iki taraftan hiçbiri şiir dışında bir söz söylememiş.

Yukarıdaki numaralanmış cümleler anlamlı bir bütün oluşturacak biçimde sıralandığında, hangisi baştan dördüncü olur?

- A) I B) II C) III D) IV E) V

5. I. Mütevazı ve saygılı halinin beni uzaktan etkilediğini hatırlıyorum.
II. Biraz ilerimde ziyaretçiler için ayrılan camlı bölümde onu gördüm.
III. 1982 yılı başlarında, Ankara'da yaşadığım zamanlarda bir sabah üniversiteye gediğimde İstanbul'dan gelen birinin benimle görüşmek istediğini söylediler.
IV. Bu izleniminin verdiği rahatlıkla yanına gidip beni neden görmek istediğin sordum.
V. İlk iki kitabımı okuduğunu ve benden bir dileği olduğunu, bunu iletmek için de İstanbul'dan kalkıp geldiğini söyledi.

Yukarıdaki numaralanmış cümlelerin anlamlı bir bütün oluşturması için hangileri yer değiştirmelidir?

- A) I ile II B) I ile III C) II ile IV
D) III ile V E) IV ile V

6. Telefon şebekesindeki teknik bir sorundan dolayı öğleye kadar abonelere hizmet verilemedi.

Yukarıdaki cümleden çıkarılabilecek kesin yargı aşağıdakilerden hangisidir?

- A) Aboneler telefon şirketine dava açmışlardır.
B) Teknik sorunlar sık sık görüşmeleri kesmektedir.
C) Sorunun nedeni şebekeye aşırı yüklenmedir.
D) Hizmet verilemeyen süre için abonelere ödeme yapılmıştır.
E) Şebekedeki sorun aynı gün giderilmiştir.

7. (I) Her köşe yazısı bir mektuptur, en uzak yerdeki bir dosta yazılmış. (II) Okurlarınızla değişik yerlerde karşılaştığınızda onlara farklı duygular yaşattığınızı görürsünüz. (III) Bilmeden, düşünmeden birçok kişiye umut, güç verirsiniz, nicesinin hayallerini tutuşturur, yaşama sevincini güçlendirirsiniz. (IV) Bilinmez, kimi zaman da tam tersi olur, sizin bir acınız, bir üzüntünüz etkiler okurunuzu. (V) Bu yüzden yazma işinin sorumluluğu oldukça ağırdır ve bu işin ehli olanlarca taşınmıştır günümüze.

Bu parçadaki numaralanmış cümlelerin hangisinde tanım yapılmıştır?

- A) I B) II C) III D) IV E) V

8. (I) Botan Çayı, Kurtalan ilçesine bağlı Çattepe köyü yakınında Dicle'ye kavuşur. (II) Botan'ın bittiği, Dicle ile birleştiği alanda bulunan Çattepe Höyük, jeopolitik konumu nedeniyle Botan Vadisi'ndeki önemli arkeolojik yerlerden biri. (III) Buluntular bu stratejik yerleşimin prehistorik dönemlerden günümüze kadar iskân edildiğini gösteriyor. (IV) Ayrıca höyük üzerinde Geç Roma-Erken Bizans dönemine tarihlenen, yüksekliği yer yer dokuz on metre arasında korunmuş ve birkaç farklı yapım evresi geçirmiş sur yapıları bulunuyor. (V) Kalıntılar, yerleşimin MS 2.-3. yüzyılda Geç Roma İmparatorluğu'nun doğu savunma sisteminin bir parçası olduğunu kanıtlıyor.

Bu parçadaki numaralanmış cümlelerle ilgili olarak aşağıda verilenlerden hangisi yanlıştır?

- A) I.cümlede, Botan Çayı'nın Dicle ile nerede birleştiği belirtilmiştir.
B) II. cümlede, Çattepe Höyük'ün öneminin kaynağı söylenmiştir.
C) III. cümlede, Çattepe Höyük'ün günümüzde de stratejik öneme sahip olduğu belirtilmiştir.
D) IV. cümlede, sur yapıların özellikleri belirtiliyor.
E) V.cümlede, savunma sisteminin hangi uygarlığa ait olduğu açıklanmıştır.

9. (I) Az rastlandığı için toplumda fazla bilinmeyen ve sayıları 6.000'i geçen "Nadir Hastalıklar", tüm dünyada 250 – 300 milyon insanı ve yakınlarını etkiliyor. (II) Hasta bakım hizmetleri günümüzde başlı başına bir sektör haline gelmiştir. (III) Her yıl şubat ayının son günü "Nadir Hastalıklar Günü" olarak kabul ediliyor.(IV) Düzenlenen etkinliklerle bu hastalıkların yarattığı sorunlara dikkat çekilmesi hedefleniyor. (V) Eurordis ve bu alanda çalışmalar yapan Ulusal İttifaklar Konseyi tarafından 2008'den beri düzenlenen "Nadir Hastalıklar Günü"nü bu yılki teması "Daha iyi bir tedavi için birlik olalım." şeklinde belirlendi. (VI) Avrupa'da, toplumda her 10.000 kişiden en fazla 5'inde ortaya çıkan, sonuçları ciddi ve hayatı tehdit eden hastalıklar, nadir hastalıklar olarak tanımlanıyor.

Bu parçadaki numaralanmış cümlelerden hangisi, düşüncenin akışını bozmaktadır?

- A) II B) III C) IV D) V E) VI

10. Gözlerim gözünde aşkı seçmiyor

Onlardan kalbime sevda geçmiyor

Ben yordum ruhumu biraz da sen yar

Çünkü bence şimdi herkes gibisin

Bu dizelerdeki altı çizili sözcüklerde görülen ses olayları aşağıdakilerin hangisinde sırasıyla doğru olarak verilmiştir?

- A) Ünsüz benzeşmesi-ünlü düşmesi
B) Ünsüz değişimi-ünlü değişimi
C) Ünlü daralması-ünsüz değişimi
D) Ünlü düşmesi-ünlü daralması
E) Ünsüz türemesi-ünsüz benzeşmesi

11. Her yıl (I) nisan ayı gelince köyümüzden ayrılıp (II) Doğu'ya göç eden kuşları (III) izlemek de çocukluğumuzun (IV) bugün çok özlediğim vazgeçilmez ritüellerinden biriydi, belki bu yüzden hep uzaklardan bir haber bekliyor gibi (V) gökyüzüne bakmam.

Bu cümledeki numaralanmış sözlerden hangisinin yazımı yanlıştır?

- A) I B) II C) III D) IV E) V

12. (I) Türkçe'nin yanlış ve bozuk kullanılması, önümüzde ciddi bir mesele olarak duruyor. (II) Acaba bir yerde yanlış mı yapıyoruz diye düşündüm kendi kendime. (III) Dil, tarih, edebiyat gibi sosyal bilimlerin fen bilimleri kadar önemsenmedikleri doğru muydu yoksa? (IV) Fizik, kimya, matematik; edebiyat, tarih ve coğrafyadan daha mı faydalıdır? (V) Böyle bir ayırım yaparak dilimizin doğru kullanımını sağlayacağımıza inanıyor musunuz gerçekten?

Bu parçadaki numaralandırılmış cümlelerin hangisinde bir noktalama yanlışı vardır?

- A) I B) II C) III D) IV E) V

13. Aşağıdaki cümlelerin hangisinde özne bir ad tamlamasıdır?

- A) Evin bütün masraflarını o yıllarda ben karşıyordum.
B) Geniş evler, mutlu bireyler yetiştirmeye yetmiyor.
C) Annelerin çilesi, çocuklar büyüünce de bitmez.
D) Yol yorgunluğumuzu uyuyarak atabileceğimizi söyledi.
E) Ahmet'in babası gelince ders çalışmaya başladık.

14. Kimsesiz odanda kış geceleri,
İçin ürperdiği demler beni an!

De ki: Odur sarsan pencereleri,
De ki: Rüzgâr değil, odur haykıran!

Bu dizelerle ilgili olarak aşağıda verilenlerden hangisi yanlıştır?

- A) İyelik eki kullanılmıştır.
B) Ek eylem kullanılmıştır.
C) Belirtisiz ad tamlaması kullanılmıştır.
D) Bağ-fiil kullanılmıştır.
E) Zamirden türemiş sözcük vardır.

15. Aşağıdakilerden hangisinde öğelere ayırmada bir yanlışlık yapılmıştır?

- A) İnsanın okuduğu şey/ benliğine /işler.
B) Evde bulunduğum zaman/ hayatım /daha çok/ kitaplığında /geçer.
C) İnsanın tabiat vergisi olan kabiliyetleri/ kendiliğinden çıkan bitkilere /benzer.
D) Kaçamak esini yakalamak ve onu mısralara dökerek tenleştirmek,/ lirik şiirin /işidir.
E) Gökyüzünün rengi, denizin mavisi, ağaçların yaprakları, kaldırımın taşları /soğuktu.

16. (I) Yaşamöykülerine düşkünlüğümü bilirsiniz benim. (II) Okuduklarımın çoğunu bu sütunda paylaşmışımdır sizinle. (III) Zweig'inkileri bıktırıracasına önüne sürdüğümü hatırlıyorum mesela. (IV) Size ikide bir söz ederim, ben de o sıklıkta döner döner okurum onun yazdıklarını. (V) 'Kendileri İle Savaşanlar'ı, 'Kendi Hayatının Şiirini Yazanlar'ı, 'Üç Büyük Usta'yı...

Bu parçadaki numaralanmış cümlelerle ilgili olarak aşağıda verilenlerden hangisi yanlıştır?

- A) I.cümle, yapıcı basit, devrik, isim cümlesidir.
B) II. cümle, biçimce ve anlamca olumlu, yapıcı basittir.
C) III. cümle, birleşik yapı ve olumludur.
D) IV. cümle, sıralı bir eylem cümlesidir.
E) V.cümle, eksilteli cümledir.

17. Aşağıdaki cümlelerin hangisinde soru anlamı ötekilerden farklı türden bir sözcükle sağlanmıştır?

- A) Kimde yeni evin anahtarı var?
B) Hangisi buradan her gün geçiyor?
C) Sınava girenlerden kaçısı başarılı oldu?
D) Az önce içeri giren adam neyi sordu?
E) Geçen yaz tatilinde memlekette ne kadar kaldınız?

18. Türkçenin yanlış ve bozuk kullanılışı, İngilizcenin sinsice değil, göğsünü gere gere dilimizi istila etmesi, üstelik güç tanınır kılıklarda günlük kullanımda cirit atması bilinmeyen bir olgu değil. Yanlışı düzeltmek, doğru ve güzel olanı öğretmek pek kolay olmuyor. Bir doğruyu bin kere tekrarlasanız öğrenmeyenler, yanlışın dayanılmaz cazibesine esir oluyorlar. Yanlışta bir günah çekiciliği, karşı konulmazlığı var adeta. Doğru ve güzel Türkçe ise bir sevap gibi tertemiz duruyor öte yanda.

Bu parçanın anlatımıyla ilgili olarak aşağıdaki-lerden hangisi söylenemez?

- A) Örneklendirme yapılmıştır.
B) Devrik cümleye yer verilmiştir.
C) Karşılaştırma yapılarak bir sonuca ulaşılmıştır.
D) Kişileştirme yapılmıştır.
E) Kişisel bakış açısıyla anlatılmıştır.

19.-20. soruları aşağıdaki parçaya göre cevaplayınız.

Her zaman yazar okuru etkilemez, önderlik etmez ona. Bazen de okur, yazarın gözünü açar, dünyanın dört bucağını gösterir. Bu bakımdan gariptir yazarla okurun ilişkisi. Siz, yazılarınıza, kitaplarınıza kimlerin el sürdüğünü görmezsiniz çoğu zaman. Tepkileri, beğenileri de alamayabilirsiniz. Okurunun cahili olabilirsiniz; fakat o asla sizin cahiliniz değildir. Sizi takip eder, ayrıntıları biriktirir. Bir gün yeri gelince ortaya seriverir hepsini. Siz de bu kadar yakın takip altında olduğunuzu öğrenmenin şaşkınlığını yaşarsınız. Şaşkınlığınız geçtikten sonra da sizi takip eden birçok göz olduğunun bilinciyle yazmaya başlarsınız yazılarınızı.

19. Bu sözler aşağıdaki sorulardan hangisine karşılık söylenmiş olabilir?

- A) Yazılarınıza yön veren belli bir etken var mıdır?
- B) Okurlarınızla yüz yüze görüştüğünüz oluyor mu?
- C) Hangi seviyedeki okura sesleniyorsunuz?
- D) Yazılarınızın beğenilip beğenilmediğini nasıl anlıyorsunuz?
- E) Ele aldığınız konular zaman zaman değişiyor mu?

20. Bu parçadan aşağıdaki yargıların hangisine ulaşılabilir?

- A) Okurunu önemsemeyen yazar kalıcı olamaz.
- B) Bireysel konuları işleyen yazarlar daha çok okunur.
- C) Yazarla okuyucu arasındaki ilişki tek taraflı değildir.
- D) Eserlerin içeriği her zaman okuyucunun istediği gibi olmayabilir.
- E) Okuyucularıyla fiili olarak görüşen yazarlar da vardır.

21.-22. soruları aşağıdaki parçaya göre cevaplayınız.

Bilinmelidir ki medeniyet inşası şehirlerde burnunun dikine yükselen binalar dikmekle olmuyor. Ya da rezidanslar, beton duvarlar, jiletli tellerle çevrili solum ona korunaklı ve de güvenli siteler inşa etmekle medeniyet doğmuyor. Bu durum bir medeniyet inşasından çok kültür ve medeniyetin kalbine saplanan hançerler gibi duruyor. Çünkü kültür; insanın davranış biçimlerinin ürünüdür. Şayet siz insanın tabiatına aykırı ve davranış biçimlerini engelleyici-sınırlayıcı girişimlerde bulunursanız ne kültür ne de medeniyet inşasından bahsedebilirsiniz. Yerküre sarsıntılarına karşı binaları sağlamlaştırıyım derken yeni "sosyal depresyon"lere yol açarsınız farkında olmadan. Binanın telafisi mümkün ama insanın asla! Bir şehir inşa ederken veya dönüştürerken toplumun sosyal yapısı, gelenek-görenek, inanç değerlerini dikkate almaz ya da göz ardı ederseniz; neticede sizin olmayan bir şehir ve kültür-medeniyetle karşı karşıya gelirsiniz. O zaman da farkında olmadan bünyede başka hastalıklar baş gösterir. Artık pansuman tedbirler fayda sağlamaz hale gelir bu durumda.

21. Bu parçada anlatılmak istenen aşağıdakilerden hangisidir?

- A) Şehir hayatı insanları birçok yönden sınırlandırmaktadır.
- B) Sosyal yaşam alanları özellikle çocuklar için önemlidir.
- C) Kültürel alanda yapılan yanlışlar mimari özelliklerle giderilebilir.
- D) Medeniyetin fiziksel unsurları oluşturulurken insan unsuru ihmal edilmemelidir.
- E) Şehirlerin mimari yapısı kültür oluşumunda birinci derecede önemli değildir.

22. Bu parçadan aşağıdakilerden hangisine ulaşamaz?

- A) Mekân, düşüncenin dışa yansımalarıdır.
- B) Toplumun dönüşümünde bazı özelliklerin yitimi gereklidir.
- C) Toplumun dokusuyla uyum olmayan değişimler toplumda derin yaralar açar.
- D) Kültür alanında yapılan hatalar basit müdahalelerle telafi edilemez.
- E) Kültür ve medeniyet kavramlarının felsefi alt yapısı oluşturulmalıdır.

23.-24. soruları aşağıdaki parçaya göre cevaplayınız.

Mutluluk ihtiyacının yanında, reklâm kitleleri sömürmek için bir başka ihtiyaca daha odaklanır. Kimlik bulma, anlam yaratma süreci olarak tabir edebileceğimiz bu ihtiyaç, insanların verdiği kararlarda oldukça etkilidir. Reklâm metinleri görüntüler üzerine kuruludur ve her birey bu görüntülerden farklı anlamlara ulaşır kendi anlamlarını yaratır. Bu anlam, ürünü popüler kılar ve dolayısıyla iktidarın aynılaştırma projesinin bir parçası olmaya devam eder. Reklâmı bir metin olarak ele alıp değerlendirdiğimizde popüler kültürün bir ürünü olan reklâmın bir metin gibi okunabildiğini görürüz. Ancak reklâm sadece verdiği mesajlardan ibaret değildir. Önemli olan reklâmın kültür içerisinde bireyler tarafından nasıl algılandığıdır. Reklâmı sevip sevmememiz önemli olmamakla beraber aslında ondan çıkardığımız anlama bağlıdır. Ve bu anlam da kendi anlamımızla oldukça yakından ilgilidir. Bir gruba dâhil olmak, kendimizi tanımak, neden yaşıyoruz sorusuna cevap verebilmek bu anlam yaratma sürecinin bir parçasıdır ve reklâmın varoluşunu destekleyen bir süreçtir. Reklâmlar kitlelere 'daha hızlı tüket, daha çok al' mesajının yanında 'aynı ol' mesajını da verirler ki bu mesaj kitlelerin aynılaştırılma politikasının ve de kültürlerin sömürülüp tek bir kültür yaratılmasının bir sonucudur.

23. Bu parçada reklâmla ilgili olarak aşağıdakilerden hangisine değnilmemiştir?

- A) Bilinçli kitleler üzerinde etkili olamadığına
- B) Muhataplarında farklı şekillerde anlam bulduğuna
- C) İnsanları tek tipleştirmeye çalıştığına
- D) Kimlik arayışında olmayı fırsat bildiğine
- E) Ortaya çıkma sebeplerinden birinin insanların mutluluk isteği olduğuna

24. Bu parçadan

- I. Reklam, insanın birden fazla duygusuna hitap eder.
- II. Çoğu insan reklam sayesinde doğru karar vermektedir.
- III. Reklamın nihai hedefi tüketicinin kararını etkilemektir.

belirlemelerinden hangilerine ulaşılabilir?

- A) Yalnız I
- B) I ve III
- C) II ve III
- D) Yalnız II
- E) Yalnız III

25. - 26. soruları aşağıdaki parçaya göre cevaplayınız.

İnce Memed'in yazarı Yaşar Kemal, aynı zamanda kaçakçıların, mağarada yaşayan 20. yüzyıl insanların, ırgatların hayatını yazıya geçiren usta bir gazeteci idi. Mutlaka birileriyle yan yana anılacaksa, bence onun yol arkadaşları Hemingway, Steinbeck, Marquez, Dagerman gibi gazeteci ve romancılar olmalıdır. Büyük romancı, gazetecilerin ortak özelliği midir bilmem, hiçbiri röportajlarında kâğıt kalem, teyp kullanmıyordu. "Bana göre en iyisi muhabirin not almadığı uzun sohbetler, sonra söyleşide konuşulanları hatırlayıp söyleşinin üzerinde bıraktığı izlenimi, tam kullanılan sözcüklerle olmasa da kâğıda dökmek..." demişti Marquez. "Hiçbir röportajımda bir tek not almadım. Ne bir sözcük ne bir çizgi." derken, Yaşar Kemal'in yaptığı tam da buydu.

25. Bu parçaya göre Yaşar Kemal'le ilgili olarak aşağıdakilerden hangisi söylenemez?

- A) Yaşadığı toplumu eserlerine konu etmiştir.
- B) Farklı coğrafyalardaki yazarlarla benzer özelliklere sahiptir.
- C) Batılı yazarlara öykünmüştür.
- D) Çok yönlü bir sanatçıdır.
- E) Eserlerinde birden fazla insan tipi yer bulmuştur.

26. Bu parçadan aşağıdakilerden hangisi çıkarılabilir?

- A) Yaşar Kemal'in gazeteci kimliği romancı kimliğinin önüne geçmiştir.
- B) Eserlerin içerikleri okuyucuların beklentileri çerçevesinde şekillenir.
- C) Gazetecilik Batı'da edebiyattan ayrı bir kulvar olarak görülür.
- D) Edebiyatçılar gündelik hayatın uzağında konularla uğraşmışlardır.
- E) Yaşar Kemal, toplumda yaşananları kendi bakışıyla yansıtmıştır.

27 – 30. SORULARI AŞAĞIDAKİ BİLGİLERE GÖRE CEVAPLAYINIZ.

Aşağıdaki şekilde gösterilen her katta iki daire bulunan bir apartmanda her dairenin aldığı A ve B gazeteleri ile ilgili aşağıdaki bilgiler verilmiştir.

Katlar	Tek Numaralı Daireler	Çift Numaralı Daireler
5. kat	9	10
4. kat	7	8
3. kat	5	6
2. kat	3	4
1. kat	1	2

- Her daire A ya da B gazetelerinden en az birini almaktadır. Aynı gazeteyi iki kez almamaktadır.
- Tek numaralı dairelerden A gazetesini alan 2 daire vardır.
- B gazetesini alan toplam 6 daire vardır.
- 4. kattaki daireler toplam 3 gazete almaktadır.
- 9 numaralı daire sadece A gazetesini almaktadır.
- 5 numaralı daire B gazetesini almamaktadır.
- İki dairesi de A gazetesini alan bir kat vardır.

Aynı şekilde iki dairesi de B gazetesini alan bir kat vardır.

27. Buna göre aşağıdakilerden hangisi kesin olarak doğrudur?

- A) 5. katta alınan gazete sayısı 4. kattakine eşittir.
- B) 5. katta alınan gazete sayısı 2. kattakine eşittir.
- C) 1. katta alınan gazete sayısı 2. kattakine eşittir.
- D) 3. katta alınan gazete sayısı 1. kattakinden fazladır.
- E) 1. katta alınan gazete sayısı 4. kattakinden fazladır.

- 28. I. Altı
- II. Yedi
- III. Sekiz

numaralı dairelerin hangileri hem A hem de B gazetesini alıyor olabilirler?

- A) Yalnız I
- B) Yalnız II
- C) Yalnız III
- D) I ve III
- E) II ve III

29. Buna göre aşağıdakilerden hangisi kesin olarak bilinemez?

- A) A gazetesini hangi tek numaralı dairelerin aldığı
- B) A gazetesini hangi çift numaralı dairelerin aldığı
- C) B gazetesini hangi tek numaralı dairelerin aldığı
- D) A ve B gazetelerini 1. katta hangi dairelerin aldığı
- E) A ve B gazetelerini 4. katta hangi dairelerin aldığı

30. Üçüncü kattaki dairelerin toplam 3 gazete aldığı biliniyorsa aşağıdaki ifadelerden hangisi doğrudur?

- A) 4 numaralı daire yalnızca B gazetesini almıştır.
- B) 10 numaralı daire yalnızca B gazetesini almıştır.
- C) 7 numaralı daire yalnızca A gazetesini almıştır.
- D) 1 numaralı daire yalnızca A gazetesini almıştır.
- E) 8 numaralı daire yalnızca A gazetesini almıştır.

31. Ardışık 3 ya da 4 pozitif tamsayının toplamına eşit olan sayılara "ardardışık sayı" denir.

$$\text{Örnek: } 2 + 3 + 4 = 9$$

$$5 + 6 + 7 + 8 = 26$$

Buna göre, aşağıdakilerden hangisi ardardışık sayı değildir?

- A) 33 B) 54 C) 65 D) 86 E) 94

$$32. \quad \begin{array}{r} \text{ACB} \\ + \text{AC} \\ \hline 7BC \end{array}$$

olduğuna göre, A + C toplamı kaçtır?

- A) 4 B) 5 C) 9 D) 10 E) 16

$$33. \quad \left(\frac{5}{3} - \frac{2}{7}\right) \cdot \left(1 - \frac{1}{29}\right)$$

işleminin sonucu kaçtır?

- A) $\frac{2}{3}$ B) $\frac{5}{3}$ C) 4 D) 3 E) $\frac{4}{3}$

$$34. \quad \frac{a-b}{c} = \frac{3}{5}$$

$$\frac{c}{b} = \frac{2}{3}$$

olduğuna göre, $\frac{a}{c}$ oranı kaçtır?

- A) $\frac{17}{10}$ B) $\frac{19}{10}$ C) $\frac{21}{10}$ D) $\frac{23}{10}$ E) $\frac{25}{11}$

35.

	Ad	Soyad	TC
1			
2			
3			
⋮			
100			

Yukarıdaki 100 kişilik tablo dolduruluyor. Tablo doldurulduktan sonra ad sütununda 22 satırda, soyad sütununda 18 ve TC sütununda 16 satırda hata yapıldığı fark ediliyor.

Hatalı bilgi girişi yapılan her satırda yalnızca bir bilgi doğru girildiğine göre, tüm bilgileri doğru girilen kaç satır vardır?

- A) 78 B) 72 C) 68 D) 64 E) 62

F
i
L
O
Z
O
F

36.

$$a = \sqrt{10} + \sqrt{3}$$

$$b = \sqrt{6} + \sqrt{5}$$

$$c = \sqrt{15} + \sqrt{2}$$

olduğuna göre, aşağıdaki sıralamalardan hangisi doğrudur?

- A) $a < b < c$ B) $b < c < a$
C) $c < b < a$ D) $a < c < b$
E) $b < a < c$

Y
A
Y
I
N
C
I
L
I
K

37.

$$A = \{1, 2, 3, 4, 5, 6, 7, 8, 9\}$$

kümesinin iki elemanlı alt kümelerinin, elemanların toplamı ile oluşturulan kümenin eleman sayısı kaçtır?

- A) 36 B) 21 C) 19 D) 15 E) 14

38.

$$\frac{6^{-10} \cdot 9^5}{4^{-7}}$$

işleminin sonucu kaçtır?

- A) 16 B) 14 C) 12 D) 8 E) 4

39. Hızları saatte 200 km ve 240 km iki yarış arabası dairesel bir pistte aynı noktadan aynı yöne aynı anda harekete başlıyor. Yavaş olan araç 2. turu tamamladığında hızlı olan aracın 3. turu tamamlamasına 60 km kalıyor.

Buna göre, pistin uzunluğu kaç km dir?

- A) 90 B) 100 C) 120 D) 140 E) 160

40. Bir işyerinde bulunan renkli baskı dakikada 2 kitap, siyah beyaz baskı dakikada 5 kitap basabiliyor. Bu baskı makinelerinin ikisi de aynı anda çalışmaya başlıyor ve renkli kitaptan 60 kitap basıldığı anda siyah beyaz baskı makinesinin 100 kitap daha basması gerektiğini görüyor.

Baskı işlemi iki makinede de aynı anda tamamlandığına göre, bu makinelerden toplam kaç kitap basılmıştır?

- A) 250 B) 300 C) 350 D) 400 E) 450

41. Bir okul müdürü cuma günü okulun bazı öğrencilerine “Bu iletiyi her öğrenci ertesi gün beş öğrenciye göndersin” notu içeren bir e-mail gönderiyor. Aynı haftanın pazartesi günü sonunda bu ileti okuldaki tüm öğrencilere ulaşıyor ve her öğrenci bu iletiyi yalnız bir kez alıyor.

Okuldaki öğrenci sayısı 624 olduğuna göre, bu ileti başlangıçta kaç öğrenciye gönderilmiştir?

- A) 2 B) 3 C) 4 D) 5 E) 6

42. Bir terzi ölçüm yapmak için 30 cm ve 50 cm uzunluklarında iki cetvel kullanmaktadır. Ali bu terziden 9 m kumaş sipariş etmiştir. Bu terzi 30 cm uzunluğundaki cetveli kullandığını düşünerek bu siparişi hazırlamış, ancak yanlışlıkla 50 cm uzunluğundaki cetveli kullanmıştır.

Bu yanlış ölçümden dolayı Ali alması gereken kaç metre fazla kumaş almıştır?

- A) 8 B) 6 C) 5 D) 4,8 E) 4

43. Bir sayının $\frac{5}{8}$ ile çarpımı iki basamaklı AB sayısına, $\frac{5}{3}$ ile çarpımı iki basamaklı BA doğal sayısına eşit olduğuna göre, $2A + B$ toplamı kaçtır?

- A) 18 B) 16 C) 15 D) 13 E) 11

44. Bir yarışmada 1170 ₺ lik para ödülü ilk üç dereceye girenlere 4 : 3 : 2 oranında paylaşılıyor. Ancak para ödülleri ancak 50 ₺ lik banknotlar halinde ödenebilmektedir. Yarışmacılardan ödüllerin 50 ₺ banknotlar halinde ödenebilen kısmını alabilmişlerdir.

Buna göre, yarışmacılara ödenen toplam ödül miktarı kaç ₺ dir?

- A) 1150 B) 1100 C) 1050
D) 1000 E) 950

45. $a, b \in \mathbb{R}$

$$5 < a < 13$$

$$\frac{a}{b} = \frac{3}{4}$$

olduğuna göre, b nin alacağı tamsayı değerleri toplamı kaçtır?

- A) 115 B) 132 C) 143 D) 154 E) 165

46. Reel sayı ekseninde 6 noktasına olan uzaklığı -3 noktasına olan uzaklığından büyük olan sayılar, aşağıdaki eşitsizliklerden hangisinin çözüm kümesini oluşturur?

- A) $|x + 6| < |x + 3|$
B) $|x - 3| < |x + 6|$
C) $|x - 6| < |x - 3|$
D) $|x - 3| < |x - 6|$
E) $|x + 3| < |x - 6|$

47. Pozitif gerçel sayılarda tanımlı Δ işlemi

$$a \Delta b = \frac{a \cdot b}{a + b}$$

şeklinde tanımlanıyor.

$$\frac{3}{4} \Delta \frac{1}{3} = 4 \Delta \frac{1}{x}$$

olduğuna göre, x kaçtır?

- A) $\frac{45}{11}$ B) $\frac{47}{11}$ C) $\frac{49}{12}$ D) $\frac{51}{13}$ E) $\frac{53}{14}$

48. p bir asal sayı ve n bir doğal sayı olmak üzere,

$$p \cdot n = 5^p$$

eşitliği sağlanıyor ise, $p \cdot n$ çarpımı kaçtır?

- A) 5^2 B) 5^3 C) 5^4 D) 5^5 E) 5^6

49. Bir süt fabrikasındaki sütler 1 litrelik cam şişeler veya 2 litrelik karton kutulara doldurularak satılmaktadır.

- Bir şişenin maliyeti bir karton kutunun maliyetinden 60 kuruş fazladır.
- Bir şişe sütün maliyeti 3,5 ₺ iken 1 kutu sütün maliyeti 5 ₺ dir.

Buna göre, 1 şişenin maliyeti kaç ₺ dir?

- A) 1,2 B) 1,4 C) 1,5 D) 1,6 E) 1,7

50. Bir manavda 30 kg muz, 20 kg elma ve 50 kg portakal vardır.

- Portakalın satış fiyatı elmadan % 20 fazla
- Muzun satış fiyatı ise portakaldan % 50 fazladır.

Manav tüm meyveleri belirlediği fiyattan satarak 1340 ₺ gelir elde ediyor.

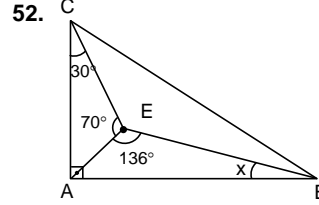
Buna göre, muzun satış fiyatı kaç ₺ dir?

- A) 18 B) 16 C) 14 D) 12 E) 10

51. $\frac{9! - 8! - 7!}{9!}$

işleminin sonucu kaçtır?

- A) $\frac{9}{8}$ B) 1 C) $\frac{7}{8}$ D) $\frac{3}{4}$ E) $\frac{5}{8}$



ABC dik üçgen

$AB \perp AC$

$m(\widehat{E\hat{C}A}) = 30^\circ$

$m(\widehat{A\hat{E}C}) = 70^\circ$

$m(\widehat{A\hat{B}E}) = 136^\circ$

$m(\widehat{A\hat{B}E}) = x$

Yukarıda verilenlere göre, x kaç derecedir?

- A) 32 B) 34 C) 36 D) 42 E) 44

F
i
L
O
Z
O
F

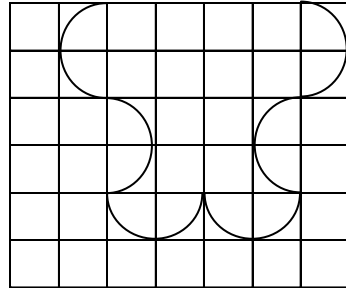
Y
A
Y
i
N
C
i
L
i
K

53. Dik koordinat düzleminde $y = \frac{x}{3}$ doğrusu $x = 1$ ve $x = 6$ doğrularını sırasıyla A ve B noktalarında kesmektedir.

Buna göre, $|AB|$ uzunluğu kaç birimdir?

- A) $\frac{5}{3}\sqrt{10}$ B) $\frac{5}{4}\sqrt{10}$ C) $\frac{3}{5}$
D) $\frac{20}{3}$ E) $\frac{25}{3}$

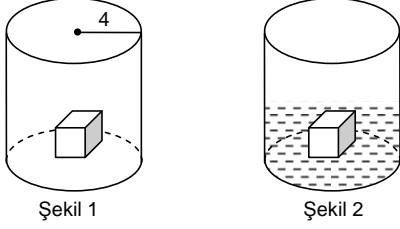
54.



Yukarıdaki birim kareler üzerine çizilen ve yarım çemberlerle oluşturulan desenin çevresinin uzunluğu kaç birimdir?

- A) 5π B) 6π C) 7π D) 8π E) 9π

55. Yarıçapı 4 birim olan dik dairesel silindir içine bir kenarı 2 br olan bir küp Şekil 1 deki gibi gösterilmiştir.

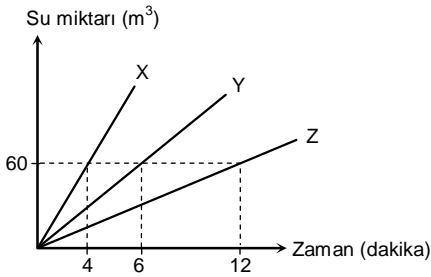


Küpün tamamı su içinde kalana kadar suyla dolduruluyor ve Şekil 2 deki görünüm elde ediliyor.

Buna göre, Şekil 2 deki suyun hacmi en az kaç birim küptür?

- A) $32\pi - 4$ B) $32\pi - 8$ C) $32\pi - 16$
D) $32\pi - 24$ E) $32\pi - 32$

56. Aşağıdaki doğrusal grafik X, Y ve Z musluklarının bir havuza akıttıkları su miktarlarının zamana göre değişimini göstermektedir.



Boş havuzu X ve Y muslukları beraber 30 dakikada doldurduğuna göre, boş havuzu Z musluğu tek başına kaç saatte doldurur?

- A) 120 B) 130 C) 140 D) 150 E) 160

27 – 30. SORULARI AŞAĞIDAKİ BİLGİLERE GÖRE CEVAPLAYINIZ.

Ali ve Candan hafta içi günlerde izledikleri film türleri ile ilgili aşağıdaki bilgiler verilmiştir.

- Film türleri olarak komedi, korku, bilimkurgu, belgesel ve macera izlemişlerdir.
- Ali ve Candan hafta içi boyunca her türden filmi birer kez izlemişlerdir.
- Yalnızca Pazartesi ve Perşembe Ali'nin ve Candan'ın izledikleri filmler aynı türdür ve bu film macera ve korku değildir.
- Ali Salı günü bilimkurgu izlerken Candan macera filmi izlemiştir.
- Candan Cuma günü korku izlemişken Perşembe günü komedi izlememiştir.

57. Buna göre, Ali'nin Cuma günü izlediği film türü aşağıdakilerden hangisidir?

- A) Komedi B) Korku
C) Bilimkurgu D) Belgesel
E) Macera

F
İ
L
O
Z
O
F

58. Buna göre, Candan'ın Çarşamba günü izlediği film aşağıdakilerden hangisidir?

- A) Korku B) Komedi
C) Belgesel D) Macera
E) Bilimkurgu

Y
A
Y
İ
N
C
İ
L
İ
K

59. Buna göre, bilimkurgu filmleri hangi günlerde izlenmiştir?

- A) Pazartesi – Salı B) Salı – Çarşamba
C) Salı – Cuma D) Çarşamba – Perşembe
E) Çarşamba – Cuma

60. Komedi filmleri hangi günlerde izlenmiştir?

- A) Pazartesi B) Salı
C) Çarşamba D) Cuma
E) Salı – Cuma

**GENEL YETENEK TESTİ BİTTİ.
GENEL KÜLTÜR TESTİNE GEÇİNİZ.**

Genel Kültür Testinin İçeriği: Tarih (Osmanlı Öncesi Türk Devletleri Tarihi, Osmanlı Tarihi, Atatürk İlke ve İlkeleri Tarihi ve Çağdaş Türk ve Dünya Tarihi), **Türkiye Coğrafyası** (Türkiye'nin fiziki, beşerî ve ekonomik özellikleri), **Temel Yurttaşlık Bilgisi** (Hukuk başlangıcı ve genel kamu hukuku, Anayasa ile İdare) ve **Türkiye ve Dünya ile İlgili Genel, Kültürel ve Güncel Sosyoekonomik Konular**

BU BÖLÜMDE CEVAPLAYACAĞINIZ TOPLAM SORU SAYISI 60'TIR.

1. I. Budizm dininin kabul edilmesi
II. Çin prensesleri ile evlilik
III. Çin egemenliğine girme
Hun Kağanı Hohan-yeh ile kardeşi Çi-çi arasında MÖ 58'de yaşanan hangi tartışma, Hun Devleti'nin ikiye ayrılmasına neden olmuştur?
A) Yalnız I B) Yalnız II C) Yalnız III
D) I ve II E) I, II ve III
2. I. İhşitler
II. Tolunoğulları
III. Karahanlılar
Yukarıdaki Türk-İslam devletlerinden hangilerinde vezirlik müessesesi bulunmaz?
A) Yalnız I B) Yalnız II C) Yalnız III
D) II ve III E) I, II ve III
3. **Selçuklular Dönemi'nde "emir-i hacib" unvanına sahip kişinin saraydaki görevi aşağıdakilerden hangisidir?**
A) Sultan ile hükümet arasındaki irtibatı sağladı.
B) Sultanın huzuruna girip çıkanlardan sorumlu olan emirdir.
C) Sarayın ahırından ve sultanın atlarından sorumlu olan emirdir.
D) Merasim ve seferler sırasında sultanın sancağını taşıyan ve ondan sorumlu olan emirdir.
E) Sultanın sofrasından, yemeklerinden sorumludur.
4. **Ahi Evran'ın hanımı Fatma Hatun tarafından kurulan ve kadınların sosyal faaliyetlerde bulunduğu teşkilat, aşağıdakilerden hangisidir?**
A) Lonca B) Kandil Vakfı
C) Anadolu Bacıları D) Haseki Külliyesi
E) Türkmen Hanımları
5. **Osmanlı Devleti'nin son vakanüvisi aşağıdakilerden hangisidir?**
A) Abdurrahman Şeref Bey
B) Hoca Sadettin Efendi
C) Mustafa Naima Efendi
D) Ahmet Âşık Paşazade
E) Ahmet Cevdet Paşa
6. **Osmanlı padişahlarından "IV. Mehmet" hangi lakapla anılmıştır?**
A) Avcı B) Fahreddin
C) Bağdat Fatihi D) Kanuni
E) Muhteşem
7. **Aşağıdakilerden hangisi, 1110–1207 yılları arasında Van Gölü havzasında hüküm süren Türk Beyliğidir?**
A) Ahlatşahlar B) Mengücekerler
C) Saltuklar D) Çubukoğulları
E) İnançoğulları
8. **Osmanlı Devleti egemen olduğu topraklarda yaşayan milletlerin ulusal niteliklerini değiştiren bir politika izlememiştir.**
Böyle bir tutumun ileriki süreçte,
I. Osmanlı ülkesinde yaşayan azınlıkların bağımsızlıklarını kazanması,
II. Osmanlı Devleti'ni yıkmak isteyen devletlerin Osmanlı'nın içişlerine karışması,
III. Osmanlı Devleti'nin monarşik yapısının korunması
durumlarından hangilerini kolaylaştırdığı savunulabilir?
A) Yalnız I B) I ve II C) Yalnız III
D) Yalnız III E) II ve III

9. Osmanlı Devleti'nin XIX. yüzyılda sınırlarının daralmasında;

- I. ulusçuluk düşüncesinin yaygınlaşması,
- II. sömürgecilik hareketlerinin artması,
- III. demokratikleşme çalışmalarının hızlanması

durumlarından hangilerinin etkili olduğu söyle-nemez?

- A) Yalnız I
- B) Yalnız II
- C) Yalnız III
- D) I ve II
- E) II ve III

10.I. Kabine sistemine geçilmesi

- II. İlk Türk matbaasının kurulması
- III. İlk kez orduda yabancı uzmanlardan yararlanılması

Yukarıdaki ıslahatlardan hangileri II. Mahmut Dönemi'nde yapılmıştır?

- A) Yalnız I
- B) Yalnız II
- C) Yalnız III
- D) I ve II
- E) I, II ve III

11.Aşağıdakilerden hangisi, Wilson Prensipleri Cemiyeti'nin kurucu ve yöneticileri arasında yer almamıştır?

- A) Halide Edip
- B) Yunus Nadi
- C) Hüseyin Avni
- D) Esat Işık
- E) Celal Nuri

12.XX. yüzyıl başlarında İttihat ve Terakki Cemiyeti'nin izlediği Türkçülük politikası, o zamana dek bağımsızlığı düşünmeyen Arapların, bağımsızlık için örgütlenmelerini tetiklemiştir.

Osmanlı topraklarında yaşanan bu gelişme, aşağıdaki yargılardan hangisini desteklemektedir?

- A) Devletin dağılışı önlenmeye çalışılmıştır.
- B) Uluslararası ittifaklara girilmiştir.
- C) Ümmetçilik düşüncesi öne çıkarılmıştır.
- D) Osmanlı Devleti'nde yönetim anlayışı değişmiştir.
- E) Milliyetçilik düşüncesi devletin dağılışı hızlandırmıştır.

13.I. İngiltere

- II. İtalya
- III. Fransa
- IV. Ermenistan
- V. Rusya

Mondros Ateşkes'inden sonraki dönemde yukarıdaki devletlerden hangileriyle sıcak çatışmaya girilmiştir?

- A) I, II ve III
- B) I, III ve IV
- C) I, IV ve V
- D) II, III ve IV
- E) II, IV ve V

14.Sivas Kongresi'nde "Temsilciler Kurulu vatanın tamamını temsil eder." kararı alınmıştır.

Bu kararın,

- I. İstanbul Hükümeti,
- II. Azınlıklar,
- III. Anlaşma Devletleri

güçlerinden hangilerine tepki niteliğinde olduğu savunulabilir?

- A) Yalnız I
- B) Yalnız II
- C) Yalnız III
- D) I ve III
- E) I, II ve III

15.Milli Mücadele Dönemi'nde yaşanan aşağıdaki gelişmelerden hangisi, TBMM'yi çalışamaz hâle getirme amacı taşımaktadır?

- A) İzmir'in işgal edilmesi
- B) Kuvayımilliyenin kurulması
- C) Mebuslar Meclisinin dağıtılması
- D) İç ayaklanmaların başlaması
- E) Amasya Görüşmelerinin yapılması

16.Aşağıdakilerden hangisi Mustafa Kemal Paşa'nın Samsun-Erzurum yolculuğunda takip ettiği yol haritasıdır?

- A) Samsun-Amasya-Tokat-Havza-Sivas-Erzincan-Erzurum
- B) Samsun-Amasya-Havza-Sivas-Tokat-Erzincan-Erzurum
- C) Samsun-Havza-Tokat-Amasya-Erzincan-Sivas-Erzurum
- D) Samsun-Havza-Amasya-Tokat-Sivas-Erzincan-Erzurum
- E) Samsun-Sivas-Amasya-Havza-Tokat-Erzincan-Erzurum

17. “İstiklal Harbimiz” adlı eser aşağıdakilerden hangisine aittir?

- A) Kazım Karabekir B) Rauf Orbay
C) Ali Fuat D) İsmet İnönü
E) Fethi Okyar

18. Lozan Görüşmelerinin kesilmesinde Yeni Türk Devleti'nin ekonomik bağımsızlığını zedeleyici konularda Türk heyetinin taviz vermemesi etkili olmuştur

Aşağıdakilerden hangisinin görüşmelere ara verildiği dönemde Türk heyetinin kararını destekleyici nitelikte bir gelişme olduğu savunulabilir?

- A) Teşvik-i Sanayi Kanunu'nun kabul edilmesi
B) Yabancı işletmelerin satın alınması
C) Misak-ı İktisadi'nin kabul edilmesi
D) Kabotaj Kanunu'nun kabul edilmesi
E) Azınlıkların Türk vatandaşı sayılması

19. Cumhuriyetin ilk yıllarında ekonomik hayatta yabancı sermaye ve işletmeciliğinin payı azalmıştır.

Bu durumun yaşanmasında aşağıdakilerden hangisinin etkili olduğu söylenemez?

- A) Kabotaj Kanunu'nun kabul edilmesi
B) Kapitülasyonların kaldırılması
C) Yabancı işletmelerin satın alınması
D) Osmanlı borçlarının üstlenilmesi
E) Gümrük vergilerinin artırılması

20. I. Düyûn-u Umumiye İdaresi'nin kaldırılması
II. Yabancı okulların denetim altına alınması
III. Azınlıkların Türk vatandaşı sayılması

Yukarıdakilerden hangileri Atatürk Dönemi gelişmeleri arasında gösterilebilir?

- A) Yalnız I B) Yalnız II C) Yalnız III
D) I ve II E) I, II ve III

21. Kadınlara, dilediği mesleği seçme hakkının verilmesi aşağıdakilerden hangisiyle mümkün olmuştur?

- A) 1921 Anayasası'nın kabulü
B) Cumhuriyetin ilanı
C) 1924 Anayasası'nın kabulü
D) Halkevlerinin açılması
E) Türk Medeni Kanunu'nun kabulü

22. Atatürk'ün Cumhuriyetçilik ilkesinin,

- I. Yönetme hakkı bir kişi veya zümreye devredilemez.
II. Yöneticiler belli bir süre için seçilir.
III. Gücünü ve kaynağını geleneklerden alır.

esaslarından hangilerine dayandığı savunulabilir?

- A) Yalnız I B) Yalnız II C) Yalnız III
D) I ve II E) I, II ve III

23. 1914'te kurulan ve 1934'te Şehir Tiyatroları adını alarak Türk kültürünün gelişmesine kaynaklık eden kurum, aşağıdakilerden hangisidir?

- A) Tiyatro-i Osmani B) Darülbedayi
C) Deraliyye D) Darüelhan
E) Darülkurra

24. Aşağıdakilerden hangisi, 1923–1938 yılları arasında Balkanlar'da işbirliğinin kurulmasını olumsuz yönde etkileyen en önemli unsurlardan biridir?

- A) Uluslararası sistemin güçlü olmaması
B) Türkiye'nin liderliğinin benimsenmemesi
C) Romanya'nın revizyonist bir politika benimsemesi
D) Sovyetler Birliği'nin Bulgaristan'ı etkilemesi
E) Bulgaristan'ın revizyonist bir politika izlemesi

25. Aşağıdakilerden hangisi II. Dünya Savaşı'nın sonuçlarından biri değildir?

- A) Soğuk savaş dönemi başlamıştır.
- B) İsrail devleti kurulmuştur.
- C) Milletler Cemiyeti kurulmuştur.
- D) Almanya Doğu ve Batı olmak üzere ikiye ayrılmıştır.
- E) Hindistan, Pakistan, Mısır gibi devletler bağımsız olmuştur.

26. Aşağıdaki ABD doktrinlerinden hangisi Türkiye ve Yunanistan'a yöneltilen herhangi bir Sovyet etki kurma girişimine ve saldırısına ABD'nin her türlü imkânlarını kullanarak karşı koyma kararlılığını temsil etmektedir?

- A) Reagan Doktrini
- B) Eisenhower Doktrini
- C) Bush Doktrini
- D) Truman Doktrini
- E) Clinton Doktrini

27. 1974 Kıbrıs Barış Harekâtı sonrası Türk tarafı Kıbrıs'ta nasıl bir çözüm istemiştir?

- A) Adada nüfus oranına uygun temsil
- B) Federatif bir Kıbrıs yönetimi
- C) Adadaki Türk bölgelerinin Türkiye'ye ilhakı
- D) Türk ve Yunan askerlerinden ve silahtan arındırılmış birleşik bir Kıbrıs Cumhuriyeti
- E) Birleşmiş Milletler kontrolünde Kıbrıs merkezi bir Kıbrıs Cumhuriyeti

28. Antalya'dan bir süreliğine Trabzon'a giden bir kişi gündüz süresinin Antalya'dakinden daha uzun olduğunu ve Trabzon'da bulunduğu süre içinde her geçen gün gündüzlerin biraz daha kısaldığını gözlemlemiştir.

Bu gözlem aşağıdaki ayların hangisinde yapılmış olabilir?

- A) Temmuz
- B) Ekim
- C) Ocak
- D) Mart
- E) Nisan

29. Su ile temas ettiğinde çok kolay eriyen kayaların bulunduğu yeryüzü şekillerine karstik topografya denir.

Buna göre, verilen yer şekillerinden hangisi karst topoğrafyasında bulunmaz?

- A) Sütun
- B) Tombolo
- C) Uvala
- D) Dolin
- E) Traverten

30. Akdeniz Bölgesi'nde bulunan delta ovaları ile ilgili verilen bilgilerden hangisi yanlıştır?

- A) Yaz aylarında tarımda sulama ihtiyacı fazladır.
- B) Fiziki haritada yeşil renkle gösterilir.
- C) Türkiye'nin en büyük delta ovası buradadır.
- D) Toprak horizonları belirgindir.
- E) Yıl içinde birden fazla ürün alınır.

F
İ
L
O
Z
O
F

Y
A
Y
I
N
C
I
L
I
K

31. I. Ortalama yükseltinin fazla olması

II. Denizden uzak olması

III. Her yönden rüzgâr alabilmesi

IV. Çevresine göre çukurda yer alması

Tuz Gölü çevresinin Türkiye'nin en az yağış alan yerleri olmasında yukarıdakilerden hangileri önemli rol oynar?

- A) Yalnız II
- B) I ve III
- C) II ve IV
- D) III ve IV
- E) I, II ve III

32. Aşağıdaki platolarımızdan hangisi sanayi faaliyetleri daha yoğundur?

- A) Erzurum
- B) Çatalca - Kocaeli
- C) Teke
- D) Perşembe
- E) Taşeli

33. I. Fırat

II. Aras

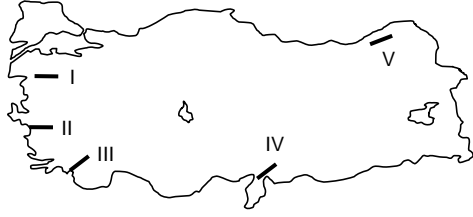
III. Çoruh

IV. Meriç

Yukarıdaki akarsularımızdan hangileri komşu ülkelerle sınırlarımızı belirler?

- A) I ve II B) II ve V C) IV ve V
D) Yalnız II E) II ve IV

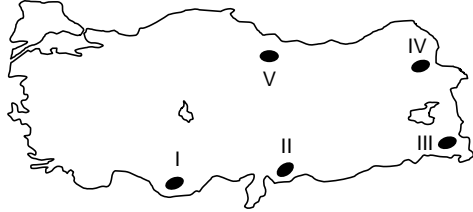
34.



Yukarıda verilen Türkiye haritasında gösterilen "dağ"lardan hangisi oluşum yönüyle diğerlerinden farklıdır?

- A) I B) II C) III D) IV E) V

35.



Yer şekli özellikleri düşünüldüğünde, yukarıda verilen merkezlerin hangisinde çiftlik yerleşmelerinin bulunması daha kolaydır?

- A) I B) II C) III D) IV E) V

36. Aşağıdakilerden hangisi gelişmiş ülkelerde yaygın olan tersiyer ekonomik faaliyetler arasındadır?

- A) Bankacılık B) Balıkçılık
C) Maden işçiliği D) Marangoz
E) Çiftçilik

37.



Yukarıdaki petrol rafinerilerinin hangisi 2004 yılından bu yana rafine işlemlerini durdurarak sadece depolama, boşaltma ve pazarlama amacıyla kullanılmaktadır?

- A) Kırıkkale B) İzmir C) İzmit
D) Mersin E) Batman

F
i
L
O
Z
O
F

Y
A
Y
I
N
C
I
L
I
K

38. I. Değişken enerji üretimi

II. Kapasite düşüklüğü

III. İlk yatırım maliyetinin yüksek olması

Aşağıdakilerden hangisi veya hangileri rüzgâr enerji santrallerinin (RES) dezavantajlarından-
dır?

- A) Yalnız II B) Yalnız III C) I ve III
D) II ve III E) I, II ve III

39. Aşağıda verilen ören yerlerinden hangisi farklı bir bölgemizde yer alır?

- A) Gordion B) Kültepe
C) Sard D) Çatalhöyük
E) Aşıklı

40. Ülkemizde nadas alanlarının en az ve en fazla yüz ölçüme sahip olduğu bölgeler sırasıyla hangileridir?

- A) Karadeniz – Güney Doğu Anadolu
B) Doğu Anadolu – Ege
C) Karadeniz – İç Anadolu
D) Ege – Marmara
E) İç Anadolu – Karadeniz

41. I. İç Anadolu Bölgesi'ndeki tarımsal ürünlerin Doğu Anadolu Bölgesi'nden daha erken olgunlaşması

II. Akdeniz Bölgesi'ndeki tarımsal ürünlerin Karadeniz Bölgesi'nden daha erken olgunlaşması

Yukarıdaki durumlarda etkili olan unsurlar hangisinde verilmiştir?

I	II
A) Yükselti	Nemlilik
B) Enlem	Yükselti
C) Yükselti	Bitki örtüsü
D) Karasallık	Nem
E) Yükselti	Enlem

42. Aşağıdaki yerlerin hangisi Türkiye'nin zeytin koridoru içinde bulunmaz?

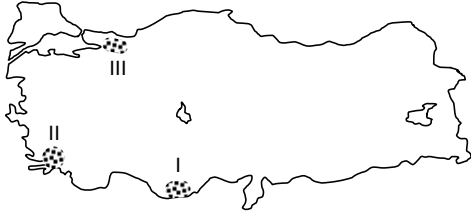
- A) Gemlik B) Mudanya C) Gönen
D) Hatay E) Bandırma

43. Orman ürünleri ana ve yan ürünler olmak üzere ikiye ayrılır.

Aşağıda verilenlerden hangisi orman yan ürünleri içerisinde gösterilir?

- A) Telefon B) Parke
C) Reçine D) Tomruk
E) Yakacak odun

44.



Yukarıdaki haritada bazı hayvancılık türlerinin yoğun olduğu yerler gösterilmiştir.

Bu türlerin sıralanışı aşağıdakilerden hangisinde doğru olarak verilmiştir?

I	II	III
A) Koyun	Kümes	Kıl keçisi
B) Kıl keçisi	Arcılık	Kümes
C) Koyun	Kümes	Arcılık
D) Arcılık	Kümes	Koyun
E) Kümes	Arcılık	Koyun

45. Dünyada yayılış alanı çok dar olan bitkilere endemik bitki denir.

Aşağıdaki coğrafi bölümlerden hangisinde bu tür bitkiler fazladır?

- A) Doğu Karadeniz B) Doğu Anadolu
C) Kıyı Ege D) Yıldız Dağları
E) Antalya

46. Medeni hukuka göre, "kişilik hakkı"na ilişkin aşağıdakilerden hangisi yanlıştır?

- A) Kişilik hakkı, mutlak haklardandır.
B) Yalnızca hak sahibi tarafından kullanılabilen kişiye bağlı haklardandır.
C) Kişilik hakkı gerekli durumlarda borcun konusu olabilir.
D) Başkasına devredilemez, ölümle mirasçılara da geçmez.
E) Kişilik hakkından vazgeçilemez, yasaya ve genel ahlaka aykırı biçimde sınırlandırılmaz.

47. Kişinin kendisini veya başkasını bilerek sebep olmadığı veya derhal ortaya çıkacak bir tehlikeyi kurtarmak için alakası olmayan üçüncü kişinin mallarına zarar vermesi eylemine ne ad verilir?

- A) Meşru müdafaa B) Zaruret hâli
C) Kuvvet kullanma D) Dava hakkı
E) Zorla icra

48. Hakların kullanılması ve borçların yerine getirilmesinde geçerli olan insan davranışları sonucunda meydana gelen ve toplumca benimsenen kurallar bütününe ne ad verilir?

- A) Yasaya saygı ilkesi
B) Nispilik ilkesi
C) Eşitlik ilkesi
D) Objektif iyi niyet
E) Subjektif iyi niyet

49. 1982 Anayasası'na göre Türk vatandaşlığı ile ilgili aşağıdaki ifadelerden hangisi **yanlıştır**?

- A) Bir kimseyi vatandaşlıktan çıkarmak TBMM yetkilerindedir.
- B) Türk baba veya Türk ananın çocuğu Türk'tür.
- C) Hiçbir Türk vatana bağlılıkla bağdaşmayan bir eylemde bulunmadıkça vatandaşlıktan çıkarılamaz.
- D) Türk devletine vatandaşlık bağı ile bağlı olan herkes Türk'tür.
- E) Vatandaşlıktan çıkarma işlemlerine karşı yargı yolu kapatılmaz.

50. I. Gizli oy ilkesi, vatandaşların kullandıkları oylar hakkında açıklama yapamayacaklarını ifade eder.

II. Genel oy ilkesi, ülke genelinde kullanılan geçerli oyların tümünü ifade eder.

III. Açık sayım ve döküm ilkesi, oyların sayımına siyasi partilerin de temsilcileri aracılığıyla katılımını ifade eder.

IV. Eşit oy ilkesi, her seçim çevresinde kullanılan oyların milletvekili sayısına oranının eşit olmasını ifade eder.

Yukarıdakilerden hangileri seçimler ve halk oylamasının esaslarını düzenleyen ilkelere ilgili değildir?

- A) I ve II
- B) II ve III
- C) I, II ve IV
- D) II, III ve IV
- E) I, III ve IV

51. 1982 Anayasası'na göre ara seçimle ilgili aşağıdaki ifadelerden hangisi **yanlıştır**?

- A) Ara seçim her seçim döneminde yalnızca en çok bir defa yapılır.
- B) Genel seçimlere iki yıl kala ara seçim yapılmaz.
- C) Boşalan üyeliklerin sayısı üye tam sayısının yüzde beşini bulduğu zaman ara seçime gidilir.
- D) Eksilme % 5'in altındaysa genel seçimden otuz ay geçmedikçe ara seçime gidilemez.
- E) Ara seçim ancak TBMM üyeliklerinde boşalma olması hâlinde söz konusudur.

52. İdarenin vazifeli olmadığı bir başka devlet organının vazife alanına giren konularda işlem yapmasıyla ortaya çıkan yetki sakatlığına ne ad verilir?

- A) Yetki genişliği
- B) Yetki tecavüzü
- C) Yetki koşutluğu
- D) Yetki gaspı
- E) Fonksiyon gaspı

53. Aşağıdakilerden hangisi istisnai memuriyet statüsünde **değildir**?

- A) Valilik
- B) Kaymakamlık
- C) TBMM memurluğu
- D) Başbakanlık Müşavirliği
- E) Cumhurbaşkanlığı Genel Sekreterliği

54. 1982 Anayasası'na göre aşağıdakilerden hangisi sosyal devletin hukuki yöntemlerinden biri **değildir**?

- A) Kamulaştırma
- B) Devletleştirme
- C) Planlama
- D) Vergi adaleti
- E) Mal bildirim

55. İlk PC (Kişisel Bilgisayar), aşağıdaki şirketlerden hangisi tarafından üretilmiştir?

- A) Google
- B) IBM
- C) Microsoft
- D) Samsung
- E) HP

56. Türk sinemasının ilk sesli filmlerinden “İstanbul Sokaklarında” ile “Bir Millet Uyanıyor” adlı eserlerin yapım-yönetmenliğini üstenen sinemacı aşağıdakilerden hangisidir?

- A) Muhsin Ertuğrul B) Lütfi Ö. Akad
C) Atıf Yılmaz D) Yılmaz Güney
E) Soner Yalçın

57. “Tarihçilerin Şeyhi” ve “Tarihçilerin Kutbu” unvanlarıyla anılan, Temmuz 2016’da kaybettiğimiz dünyaca ünlü tarihçimiz aşağıdakilerden hangisidir?

- A) Erhan Afyoncu B) İlber Ortaylı
C) Halil İnalçık D) Murat Bardakçı
E) Kemal Karpat

58. Yahudilerin Mısır’da esaretten kurtulmalarını simgeleyen ve her yıl Museviler tarafından kutlanan bayramın adı nedir?

- A) Paskalya
B) Purim
C) Hanuka Bayramı
D) Hamursuz Bayramı
E) Hamsin Yortusu

59. I. Standart’s and Poor’s

- II. Japon Kredi Derecelendirme Kuruluşu
III. Moody’s
IV. Fitch Rating

Yukarıdakilerden hangileri Sermaye Piyasası Kurulu (SPK) tarafından Türkiye’de faaliyette bulunmasına izin verilen uluslararası kredi derecelendirme kuruluşlarıdır?

- A) I – II ve III B) II – III ve IV
C) II – III ve IV D) I ve III ve IV
E) I – II ve III

60. 2016 Rio De Janeiro yaz olimpiyatlarında Türkiye’ye tek altın madalya kazandıran sporcumuz aşağıdakilerden hangisidir?

- A) Taha Akgül B) Rıza Kayaalp
C) Selim Yaşar D) Soner Demirtaş
E) Cenk İldem

Y
A
Y
I
N
C
I
L
I
K

DENEME SINAVI BİTTİ.
CEVAPLARINIZI KONTROL EDİNİZ.

Dikey Geçiş Sınavı

DGS

FİLOZOF
YAYINCILIK



Türkiye'de
İlk Defa




KAREKOD
Göstergeli
Cevaplar

Seçkin
Kitapçı ve
İnternet Satış
Sitelerinde !

2017

KPSS - ALES - DGS - YGS - LYS

PARAGRAF



***Paragraf Sorularını
FıvantaJa Çevirin !***

*Seçkin
Kitapçı ve
İnternet Satış
Sİtelerinde !*