



# GENEL YETENEK

Lise ve  
Ön Lisans

Bu testte 60 soru vardır.  
Cevaplarınızı, cevap kağıdının Genel Yetenek Testi için ayrılan kısmına işaretleyiniz.

1. Genç şair, şiirinle alay edenlere de şiirinin deha parıltıları taşıdığını söyleyenlere de aldırma. Önemli olan, yazdığın şiire işlemiş alın terin ve yeteneğindir. Şiirin bu kanatlara sahipse zamanla kendi kendine uçmayı başaracaktır.

**Bu parçadaki altı çizili sözle anlatılmak istenen düşünce aşağıdakilerden hangisidir?**

- A) Sanat dünyasına kendini kabul ettirmek  
B) Sanatının inceliklerini öğrenip kavratmak  
C) Sanatın kurallarını, ilkelerini öğrenmek  
D) Sanat dünyasında başkalarını eleştirebilmek  
E) Sanatta özgürlüğü yakalamak

3. Aşağıdaki seçeneklerin hangisi kanıtlanabilirlik açısından diğerlerinden farklıdır?

- A) A.Haşim, duygusallığından olsa gerek, hep karamsar eserler yazmıştır.  
B) Ankara, tarihi eserleriyle önemli bir kenttir.  
C) İrem tez canlı, dürüst, işlerini zamanında yapmayı seven biridir.  
D) Şiir ahenkli, duygulu, coşkulu ve gerçekçi olduğu zaman şiiirdir.  
E) Son şiiri hece vezniyle ve sembolik anlatımla kaleme alınmış.

2. (I)Köyümüzün evleri, sen de göreceksin ki ustaca yapılmış, herkesi kışkındıracak bir mimariye sahip.(II) Güneş, bizim köyde daha bir sarı, daha bir sıcaktır.(III)Toprağımız, bizden hiçbir şeyi esirgemez. (IV) İnsanlarımız gerçekten samimiyet kokar. (V) Bundan dolayı bu köy her zaman fedakarlıkla tanınmış.

**Bu parçada numaralanmış cümlelerle ilgili aşağıda verilenlerden hangisi yanlıştır?**

- A) I. cümle, öznel (subjektif) bir yargıdır.  
B) II. cümlede, bir karşılaştırma ilgisi söz konusudur.  
C) III. cümlede, kişileştirme vardır.  
D) IV. cümlede, mecazlı bir söyleyiş vardır.  
E) V. cümle, bir tahmin cümlesidir.

4. Konuşmalar devam ederken birdenbire ileri

I

çıktı. Kendisinin bunları hak etmediğini söyledi.

II

Dinleyiciler de olup bitenleri ayırt edebilmek

III

için dikkat kesilmişlerdi. Herhangi bir olumsuz-

IV

luğun oluşmaması için bir çoğumuz seferber

V

olmuştu.

**Bu parçada numaralanmış sözlerden hangisinin yazımı yanlıştır?**

- A) I B) II C) III D) IV E) V

5. Her gün aynı durum vardı ( ) buna bir türlü alışamamıştı ( ) Onlar ne de olsa doğruyu biliyordu ya( )Kendi beynini neye yoracaktı ki( )

**Bu parçada boş bırakılan yerlere sırasıyla hangi noktalama işaretleri getirilmelidir?**

- A) (.),(.),(!),(?)  
B) (:),(.),(...),(?)  
C) (:),(.),(.),(.)  
D) (.),(.),(!),(...)  
E) (.),(:),(!),(?)

6. Farklılık yaratmak isteyen sanatçının asıl başarısı işlediği konuya değil, o konuyu işleyiş biçimiyle ilgilidir.

**Bu cümledeki anlatım bozukluğu aşağıdakilerden hangisiyle giderilebilir?**

- A) "yaratmak" sözcüğü cümleden atılarak  
B) "işleyiş" sözcüğü yerine "işleme" sözcüğünün getirilmesiyle  
C) "o" sözcüğü cümleden atılarak  
D) "konuya" sözcüğü yerine " konuyla" sözcüğü getirilerek  
E) "asıl" sözcüğü cümleden atılarak

7. (I) Mutluluğun, sevincin, kederin ve acının tarifini yapamıyoruz. (II) Kıskanmanın, özlemenin, kaybetmenin, istemenin de tarifini yapamıyoruz. (III) Konuşmuyoruz bile bunlardan; her bir damlası diğerine benzeyen durgun bir suyun üstünde hep aynı tekdüzelikle, hep aynı konularla kımıldanıyoruz.(V) Bir gün tamamen sussak ve bir daha hiç konuşmasak hayattan hiçbir şey eksilmeyecek.(VI) Hayata konuşmalarımızla hiçbir şey eklemiyoruz, çünkü.

**Yukarıdaki parçayı iki paragrafa ayırmak gerekirse ikinci paragraf kaçınıcı cümleyle başlar?**

- A) II B) III C) IV D) V E) VI

8. .... Bunun nedeni köyde doğup büyümüş, uzun yıllar köyde çalışmış olmamdır. Bu yüzden bilincim ve bilinçaltım, köy yaşayışının izleriyle dolu. Sanat bir yerde dışa vurma olduğu için, ben de köy yaşamından gelen izlenimleri dışa vuruyorum.

**Bu parçanın başına, düşüncenin akışına göre aşağıdakilerden hangisi getirilebilir?**

- A) Genellikle toplumsal gerçekleri ele alıyorum.  
B) Eserlerim şehir kadar, kırsal kesimi de yansıtır.  
C) Köy sorunlarını işlemek artık bana da sıkıcı geliyor.  
D) Köy yaşayışını anlatırken süslü ve özentili anlatımlardan kaçınıyorum.  
E) Kent sorunlarını ele almaya zamanım yok.

9. Bir şiirin özgünlüğü, konusunda değil söyleyişindedir. Çünkü aşk konusu her çağda, her şair tarafından işlenmiştir. Gelecekte de işlenecektir. Şairleri birbirinden farklı kılan konuyu sunuşlarıdır. Her yiğidin bir yoğurt yiyişi vardır, sözü tam bunu doğrulayacak bir sözdür. Edebiyatta biz bu farklılığa üslup diyoruz. Yoksa bu farklılık olmasa şairler birbirini taklit edecek, belki de şiir, hatta edebiyat olmayacaktı.

**Yukarıdaki parçadan aşağıdakilerden hangisi çıkarılamaz?**

- A) Konu farklılığı özgünlük anlamına gelmez.  
B) Konu seçimi şairlerin üsluplarını da etkilemiştir.  
C) Bir konu birden fazla şair tarafından ele alınabilir.  
D) Şairleri birbirinden farklı kılan söyleyişleridir.  
E) Özgünlük, başkalarından farklı özelliklere sahip olmaktır.

10. (I) Şiirler vardır, daha ilk mısralarında duygusal çekim alanı içine alır okurunu. (II) Kan basıncını yükselten heyecanlar yaratır okurda. (III) Kimi şiirler de vardır, dilsel örüntüsüyle okurun aklına olduğu kadar yüreğine de seslenme yolunu seçer. (IV) Şiirde özgünlük, derinlik, çok yönlülük aranır. (V) Daha doğrusu, okurun okuma eylemine tüm varlığıyla katılımını sağlar. (VI) En yüksek coşkuları estetik tutkulara dönüştürür.

**Bu parçadaki numaralanmış cümlelerden hangisi düşüncenin akışını bozmaktadır?**

- A) II B) III C) IV D) V E) VI

11. Akşamın, Ayvalık'ın kızıla çalan mor şalını sermesine az kaldı. Ara ara köpürüp coşan poyraz, odanın balkona açılan kapısından içeri hışımla girip hatırlamı soruyor. Sonunda yatağın dayandığı pencereden dışarı bakmaktansa balkona çıkmaya karar veriyorum. Şık demir trabzanların hemen ötesi Bahar Sokak... Tek taşıtın zorlukla geçebileceği tipik Cunda sokaklarından... Bir dost gibi gözlerinin içi gülercesine bakıyor bana.

**Bu parçanın anlatımı için aşağıdakilerden hangisi söylenemez?**

- A) Betimleyici öğelerden yararlanılmıştır  
B) İnsan dışındaki varlıklar insana özgü niteliklerle anlatılmıştır.  
C) Bitmemiş cümleler kullanılmıştır.  
D) Benzetmeye başvurulmuştur.  
E) Düşsel öğelerden yararlanılmamıştır.

12. Bugün bazı yazarlar için önemli olan, bir konunun ele alınış, işleniş yolu değil, konunun kendisidir. Belli bir hayat görüşü ile ayarlı "iyi konu, kötü konu" formülü, günümüzde bir eseri değerlendirmede tek ölçüt olmakta ne yazık ki! Nicedir, köy konularının birtakım insanları tedirgin etmesi boşuna değil. Bugün "sıradan insan"ın yaşantısını ele alan eserleri bir kalemde kötüleyenler gibi "aşk romanı"nın prensip olarak çağımız edebiyatına sokmak istemeyenlerin durumunu da bu "koruculuk" la açıklayabiliriz sanırım.

**Bu parçada yazar, aşağıdakilerden hangisinden yakınmaktadır?**

- A) İçerik yönüyle zayıf yapıtlar oluşturulmasından  
B) Yapıtların, belli düşünceleri savunmak için ortaya konmasından  
C) Bir eseri değerlendirmede değişik ölçütlerin kullanılmasından  
D) Sanat eserinde üsluba yeteri kadar önem verilmemesinden  
E) Bazı yazarların hep aynı konuları işlemesinden

13. (I) Genelde, kitapları ya bilgi edinmek için ya da duygularımıza tercüman olması için okuruz. (II) Kimi kitaplar aklımızı, kimileri de ruhumuzu doyumaya yöneliktir. (III) Ama öyle kitaplar vardır ki aklımıza hitap etmekle kalmaz, ruhumuzu doyurmaya yönelik de vurgular taşır. (IV) Bu nedenle, bu tür kitapları, iletildiği gerçeklerin cazibesine kapılarak okuruz. (V) Cümleleri okumaktan çok yaşarız adeta.

**Bu parçada numaralanmış cümlelerin hangisinden sonra "Sonuçta bazı kitaplar beynimizi, bazzıları da ruhumuzu aç bırakır." cümlesi getirilirse parçanın anlam bütünlüğü bozulmaz?**

- A) I B) II C) III D) IV E) V

14. Ne olursa olsun, bakış açımızı yer yer değiştirmeliyiz, en azından denemeliyiz bunu. Farklı yaklaşım biçimlerinin yaşamımızı anlamlandıracağını düşünmeliyiz. Bu değişim, yaşamımıza renklilik getirebilir. Düşüncelerimiz, duygularımız harekete geçince her an, içinde bulunduğumuz anı anlamlandırarak edimlere girişebiliriz.

**Bu parçaya göre, kişinin bakış açısını değiştirmesi sonucu elde edeceği kazanç aşağıdakilerden hangisidir?**

- A) Yaşamın güzelleşmesi ve anlam kazanması  
B) Sanatçı olmaya ilk adımını atması  
C) Yaşamın sıkıntılarından kurtulması  
D) Geçmişteki olumsuz olayları unutmaması  
E) Başka yazarların düşüncelerinden yararlanma yoluna gidilebilmesi

15. Aşağıdaki cümlelerden hangisi, bir paragrafın giriş cümlesi olmaya en uygundur?

- A) Son yıllarda yayınlanan anı kitapları bu yargımızı doğrular.  
B) Anı yazarı kendini değil, yaşadığını anlatır.  
C) Anıların değeri de zaten buradan kaynaklanıyor.  
D) O yüzden anı yazarı gelişmiş bir dil beğenisine erişmelidir.  
E) Ancak edebiyatımızda işlenmiş kurak bir bölge gibi durur, bu tür.

- 16.

- I. Kitap okumadan öğrenemezsin  
II. Bizimle konuşmadan karar vermezdi.  
III. Yapılan anlaşmadan herkes memnundu.  
IV. Akşam olmadan kalkmak istedi.  
V. Beni dinlemeden çıkıp gitti.

**Altı çizili sözcüklerin hangisi fiilimsi değildir?**

- A) V. B) IV. C) III. D) II. E) I.

**17. VE 18. SORULARI AŞAĞIDAKİ PARÇAYA GÖRE CEVAPLANDIRINIZ.**

(I). İnsan artık tıpkı bir çocuk gibi gördüğü her pamuk şekerini isteyen bir hale gelmiştir. Burada temel alınması gereken noktalar, bu azgın boğanın nasıl ehlileştirileceği, nasıl dizginleneceği ve nasıl kontrol altına alınabileceğidir. La tzu: "**Başkalarına karşı zafer kazanan kuvvetlidir, kendi nefesine karşı zafer kazanan ise kudretlidir.**" demmiştir.

(II). Çünkü bu nefsin küçülmesinden daha büyük bir fayda yoktur.

(III). Nefsaniyet ne kadar küçük olursa, varlığın gelişmişliği de o kapasite doğrultusunda artacaktır. Kendini geri çekeilmeye başlayacaktır

(IV). Ben dediği egoyu arkaya alabilmeye başlayacaktır ve insanlarla, diğer yaratılmışlarla gerçekten bir sevgiye, bir paylaşımına doğru yönelecektir.

(V) Bu azgın boğanın kontrol edilmesinde en önemli etkenlerden biri istemekte olduğu şeylerin gerçek ihtiyaç olup olmadığının tespit edilmesidir. Bu önemli bir aşamadır.

17. Bu parçadaki numaralandırılmış cümlelerin hangisinde biçimce olumsuz anlamca olumlu cümle vardır?

- A) I B) II C) III D) IV E) V

18. Bu parçadaki numaralandırılmış cümlelerin hangisinde doğrudan anlatıma yer verilmiştir?

- A) I B) II C) III D) IV E) V

**19. VE 20. SORULARI AŞAĞIDAKİ PARÇAYA GÖRE CEVAPLANDIRINIZ.**

İki çeşit yazar vardır. Birbirlerinin zıddı olan iki yazardır bunlar; biri üretken yazardır, diğeri ise azap çeken yazardır. Üretken yazar çoksatar kitaplar yazmaya aday bir yazardır; kitabını yazarken sözler su gibi akıp gider, romanı gelişir, hiçbir zorluk çekmez, yazma sürecinde her şey pürüzsüz ilerler. Azap çeken yazar ise pek üretken değildir; tırnaklarını yer, kafasını kaşır, kâğıtları buruşturur, gününü hikâyesinin yönünü tespit etmek için aldığı notlarla geçirir. Üretken yazar ile azap çeken yazar arasında bir rekabet vardır. Üretken yazar acı çeken yazara gıpta etmekten kendini alamaz. Acı çeken yazar da toplumun isteklerine göre, bilgisayarda üretilmiş romanlar yazan üretken yazarı kınar. Ama yine de kendini bu kadar güvenle ifade eden yazarı da kıskanmaktan kendini alamaz.

**19. Bu parçada anlatılan yazarlarla ilgili olarak aşağıdakilerden hangisine ulaşılabilir?**

- A) acı çeken yazar üretken yazar gibi, üretken yazar da acı çeken yazar gibi yazmak ister.
- B) Üretken yazarın acı çeken yazarı kınaması
- C) acı çeken yazarın emekleri sonucunda daha iyi yazılar yazdığı
- D) Üretken yazar ve acı çeken yazarın sürekli rekabet halinde olduğu
- E) Üretken yazarın daha çok emek verdiği

**20. Yukarıdaki parçada aşağıdaki anlatım türlerinden hangisi daha ağır basmaktadır?**

- A) Karşılaştırma
- B) Neden sonuç cümleleri
- C) Betimleme
- D) Öyküleyici anlatım
- E) Önyargı cümleleri

**21. "Şiir içe doğduğu gibi yazılmışsa ondan tat alınır." Bu cümleden çıkarılabilecek kesin yargı aşağıdakilerden hangisidir?**

- A) Şiir duygularla değil sözcüklerle yazılır.
- B) Sanat zevki akla geldiği gibi kaleme alınan şiir de vardır.
- C) Şiir ne tek başına duygularla, ne de tek başına sözcüklerle yazılır.
- D) Şiir yaşamla sıkı bağı olan sözcüklerle yazılınca güzeldir.
- E) Şiirde sözcüğün anlamı kadar tınısı da önemlidir.

**22. İssiz bir parkta sallanırken insan, gökyüzüne dokunacağını düşünür bazen sonsuz mavinin derinliklerinde kaybolup gideceğini hayal eder. Düşler kurar, mutluluğa dair. İçinden şarkılar söyler biraz hüzünlü biraz melankolik birazda aşk kokan. Hızlanır gitgide sallanırlar. Düşündükçe hızlanır, hızlandıkça düşünür. Sonra birden ya kopar ipleri salıncağın tüm düşler suratına yapışır insanın yada durur salıncak....**

**Bu parçanın sonuna, düşüncenin akışına göre aşağıdakilerden hangisi getirilebilir?**

- A) O durunca düşlerde durur mavilikler siyah olur ansızın mutluluk hüzün, hüzünler acı, şarkılar birer feryat olur duyan olmaz.
- B) Konuşursun anlayan olmaz yine susarsın gidersin sonra karanlıklar içine ve ağlarsın sonra herkesten gizli.
- C) Kaçarsın bilmediğin bir yere yerde gözünden akan yaşların izleri basmadan üzerine koşarsın
- D) bir uçurum çıkar karşına durup kalırsın bir süre sonra bakarsın ardına herkes arkanda atla atla diye tempo tutarken görürsün dostlarını
- E) Herkes toplanır başına gözlerinde alaycı gülümsemeler.

23.

- I. Birçokları kendilerinin yapamayacakları şeyleri dostlarında aramaktan asla sıkılmıyor demeyeyim de hataya düşüyorlar diyeyim.
- II. Dostlarına vermedikleri şeyleri onlardan istiyorlar. Halbuki önce iyi insan olmak, sonra kendine benzeyeni aramak doğru olur.
- III. sürekli bir dostluk ancak şu kimseler arasında sağlamca kurulur:
- IV. ama birbirlerinden şerefli ve doğru olmayan hiçbir şeyi istemeyecekler, aralarında yalnız sevgi ve beğenme değil, saygı da bulunacak. Çünkü dostluktan saygıyı kaldıran onun en büyük süsünü kaldırmış olur.
- V. Yakınlık duygularıyla birbirine bağlanmış insanlar önce başkalarının esiri olduğu ihtirasları yenecekler, sonra doğruluk ve adaleti sevecekler, birbirleri için her şeyi yapacaklar,

**Yukarıdaki numaralanmış cümlelerin anlamlı bir bütün oluşturabilmesi için hangileri yer değiştirmelidir?**

- A) I ve II
- B) II ve III
- C) III ve IV
- D) III ve V
- E) IV ve V

24.

- I. Charles Dickens bu adamı korkunç heybetli ve çirkin bir adam olarak tasvir etmiştir
- II. Pip in hayatı anne ve babasının mezarını ziyaret ettiği bir gece değişmeye başlar. Ormanda karşısına bir adam çıkar ve kendisine yiyecek getirmesini ister.
- III. Bu adam bir süre sonra romanda tekrar meydana çıkacak ve bu kez Pip'in hayatını değiştirecektir. Bu adamın hapishaneden kaçan biri olduğu anlaşılmaktadır.
- IV. Diğer adam kavgadan sonra kaybolur. Abel Magwitch; yani hapishaneden kaçan mahkûm çok geçmeden yakalanır. Pip, bu hadiseyi çabucak unuttur
- V. Adam Pip'ten yiyecek bir şeyler ister; Pip adamdan öylesine korkar ki onun bu isteğini reddedemez. Fakat geri döndüğü sırada orada başka bir yabancı adam daha görür. İlk adam ile kavga etmektedirler.

**Yukarıdaki numaralanmış cümleler bir bütün oluşturacak biçimde sıralandığında hangisi dördüncü cümle olur?**

- A) I
- B) II
- C) III
- D) IV
- E) V

**25. VE 27. SORULARI AŞAĞIDAKİ PARÇAYA GÖRE CEVAPLANDIRINIZ.**

(I)Ay, Dünya'nın tek doğal uydusudur. Güneş Sistemi içinde beşinci büyük doğal uydudur. (II)Dünya ile Ay arasında ortalama merkezden merkeze uzaklık 384.403 km, yani Dünya'nın çapının yaklaşık otuz katı kadardır. (III)Ay'ın çapı 3.474 km'dir, bu da Dünya çapının dörtte birinden biraz fazladır ve Dünya kütesinden 81,3 kat daha düşüktür. (IV)Yüzeyinde kütle çekim etkisi yer çekiminin yaklaşık %17'sidir ve Ay, Dünya'nın yörüngesinde bir turunu 27,7 günde tamamlar. (V)Dünya, Ay ve Güneş geometrisinde görülen periyodik değişimler sonucunda her 29,5 günde tekrar eden Ay'ın evreleri oluşur. (VI)Ay, insanların üzerine iniş yaparak yürüdükleri tek gök cisimidir. (VII)Yerçekiminden kurtulup uzaya çıkan ve Ay'ın yakınından geçen ilk yapay nesne Sovyetler Birliği'nin Luna 1 uydusu olup Ay yüzeyine çarpan ilk insan yapısı nesne Luna 2 uydusudur. (VIII)Normalde görünmeyen Ay'ın öteki yüzünün ilk fotoğraflarını ise Luna 3 uydusu çekmiştir.

**25. Yukarıdaki parça ikiye bölünmek istense ikinci paragraf kaç numaradan başlar?**

- A) III
- B) IV
- C) V
- D) VI
- E) VII

**26. Yukarıdaki paragrafta aşağıdakilerden hangisine değinilmemiştir?**

- A) Ay ile dünya arasındaki uzaklığa ve bu uzaklığın dünyadan büyük olduğuna
- B) Ay'ın çapının ve kütesinin dünyadan az olduğuna
- C) Luna 3 sayesinde ayın görünmeyen yüzü hakkında bilgi elde edilmiş olduğuna
- D) Sovyetler Luna-1 isimli uzay aracını ay yörüngesine oturtmak ve bilgi toplamak için fırlatıldığına fakat Luna-1'in, rotayı şaşırarak ayın uzağından geçtiğine
- E) Dünya, Ay ve Güneş'in periyodik değişimleri sonucu Ay'ın evreleri olduğuna.

**27. Parçada numaralandırılmış cümlelerden hangisinde Dünya ve Ay arasındaki karşılaştırmaya yer verilmiştir?**

- A) I
- B) II
- C) III
- D) IV
- E) V

**28. VE 30. SORULARI AŞAĞIDAKİ BİLGİLERE GÖRE CEVAPLANDIRINIZ.**

Suat, Taner, Ülker, Vahit, Yosun, Zehra adlı altı arkadaş sinemaya gitmişlerdir. Bu kişilerin yerlerinin konumlarıyla ilgili şunlar bilinmektedir:

- ⊕ Suat'ın yeri, Zehra'nın yerinin solundadır.
- ⊕ Taner'in yeri, Yosun'un yerinin solundadır.
- ⊕ Vahit'in yeri, Ülker'in yerinin solundadır.
- ⊕ Yosun'un yeri, Vahit'in yerinin arka sağında, Zehra'nın yerinin önündedir.

**28. Aşağıdakilerin hangisinde birlikte verilen kişilerin yerleri en önde yer almaktadır?**

- A) Taner ile Yosun
- B) Suat ile Zehra
- C) Vahit ile Ülker
- D) Taner ile Vahit
- E) Zehra ile Yosun

**29. Ülker'in yeri Taner'in yerine göre nerededir?**

- A) Ön sağ
- B) Arka sağ
- C) Ön sol
- D) Arka sol
- E) Sol

**30. Zehra'nın yeri Vahit'in yerine göre nerededir?**

- A) Arka
- B) Arka sağ
- C) Arka sol
- D) Ön sağ
- E) Sağ

**31.  $a^2 + \frac{1}{a^2} = 16$  ise  $a + \frac{1}{a}$  pozitif değeri aşağıdakilerden hangisine eşittir?**

- A) 4
- B)  $3\sqrt{2}$
- C)  $2\sqrt{3}$
- D)  $\sqrt{5}$
- E) 2

**32. A,B,C birer doğal sayıdır.**

$$\begin{array}{r|l} A & 3 \\ \hline - & B \\ \hline 2 & \end{array} \quad \begin{array}{r|l} B & 5 \\ \hline - & C \\ \hline 4 & \end{array}$$

ise A'nın 5 ile bölümünden kalan aşağıdakilerden hangisidir?

- A) 3
- B) 4
- C) 5
- D) 6
- E) 7

**33.  $\frac{3}{13} - \frac{2}{17} + \frac{7}{19} = a$  veriliyor.**

Buna göre,  $\frac{16}{13} + \frac{15}{17} + \frac{45}{19}$  ifadesinin a türünden eşiti aşağıdakilerden hangisidir?

- A) 2a
- B) a + 2
- C) a + 4
- D) 4a
- E) a + 3

34.  $(m6n75)$  sayısı 3 ile tam bölünen rakamları farklı beş basamaklı sayıdır.  
 $m + n$  en çok kaçtır?

A) 15      B) 12      C) 10      D) 9      E) 8

35.  $0 < a < b < 1$  olduğuna göre,  $\frac{|a-b|+b-a}{a-b}$  nin eşiti aşağıdakilerden hangisidir?

A) -3      B) -2      C) 0      D) 2      E) 3

36. Deniz ile Burcu'nun yaşları oranı  $\frac{3}{4}$  tür.  
10 yıl sonraki yaşları oranı  $\frac{5}{6}$  olduğuna göre,  
Deniz'in 3 yıl sonraki yaşı kaçtır?

A) 18      B) 23      C) 25      D) 26      E) 28

37. Her 6 günde bir harçlık alan bir öğrenci ilk harçlığını Pazartesi aldığına göre, 25. harçlığını hangi gün alır?

A) Pazartesi  
B) Salı  
C) Çarşamba  
D) Perşembe  
E) Cuma

38.  $2^{x+2} = a$  ise  $8^{-x}$  sayısının  $a$  türünden eşiti aşağıdakilerden hangisidir?

A)  $16a^3$       B)  $8a^3$       C)  $\frac{64}{a^3}$       D)  $\frac{8}{a^3}$       E)  $\frac{1}{a^2}$

39. Bir torbada bir miktar ceviz vardır. Önce Hasan torbadaki cevizleri sayarak ceviz sayısı kadar daha ceviz torbaya koyup 8 tane ceviz geri alıyor. Sonra Hüseyin, daha sonra da Fatih aynı işlemi yapıyor.  
Son durumda kalan ceviz ilk durumda var olan cevizden 7 tane daha az olduğuna göre, ilk durumda torbada kaç tane ceviz vardı?

A) 7      B) 8      C) 9      D) 10      E) 11



40. 300 km uzunluğundaki bir yolu bir araç saatteki hızını 20 km artırırsa t saatte, hızını 20 km azaltılırsa (t+2) saatte gidiyor.

**Buna göre, aracın hızı saatte kaç km dir?**

- A) 50 B) 60 C) 80 D) 85 E) 95

41.  $\frac{x! + y!}{x!} = 211$  olduğuna göre,

**x+y toplamı aşağıdakilerden hangisi olabilir?**

- A) 13 B) 15 C) 27 D) 28 E) 29

42. A ve B kümeleri veriliyor.

$$A \cap B \neq \emptyset,$$

$$s(A) = 12, s(B) = 16$$

**olduğuna göre,  $s(A \cup B)$  en çok kaçtır?**

- A) 20 B) 22 C) 24 D) 26 E) 27

43. Yıllık enflasyon oranı %60 olan bir ülkede işveren işçinin maaşına %100 zam uygularsa işçinin reel karı % kaç olur?

- A) 17 B) 20 C) 21 D) 23 E) 25

44.  $\sqrt{5 + \sqrt{21}} - \sqrt{5 - \sqrt{21}}$  işleminin sonucu aşağıdakilerden hangisidir?

- A)  $\sqrt{6}$  B)  $\sqrt{3}$  C)  $\sqrt{2}$  D) 2 E) 1

45. Bir A torbasında 5 beyaz 3 siyah top vardır. B torbasında ise 2 beyaz 4 siyah top vardır. A dan ve B den rasgele birer bilye alınıyor.

**İkisinin de beyaz olma olasılığı aşağıdakilerden hangisidir?**

- A)  $\frac{1}{17}$  B)  $\frac{5}{24}$  C)  $\frac{5}{16}$  D)  $\frac{1}{3}$  E)  $\frac{1}{2}$

46. Bir kola firmasının yaptığı kampanyada her üç kola kapağına bir kola ve bir bardak vermektedir. Ücretli her bir kolaya da 1 bardak vermektedir.

**7 bardak almak için en az kaç kola alınmalıdır?**

- A) 3 B) 4 C) 5 D) 6 E) 7

47. Birlikte yan yana durarak fotoğraf çektirecek olan 6 arkadaşın 2 tanesi yan yana gelmek istemediklerine göre kaç farklı şekilde poz verebilir?

- A) 80 B) 160 C) 200 D) 400 E) 480

48. Sevinç ile coşkun bir işi 6 günde bitiriyor.

Sevinç 4 gün, coşkun 2 gün çalıştığında işin  $\frac{1}{2}$  si bittiğine göre Sevinç aynı işin tamamını kaç günde yapar?

- A) 10 B) 12 C) 13 D) 14 E) 16

49. x,y ve z ardışık doğal sayılar ve  $x < y < z$  olmak üzere;

$$\left(1 + \frac{1}{x}\right) \cdot \left(1 + \frac{1}{y}\right) \cdot \left(1 + \frac{1}{z}\right) = \frac{3}{2}$$

olduğuna göre x aşağıdakilerden hangisidir?

- A) 5 B) 6 C) 7 D) 8 E) 9

Teorem Yayıncılık

51.

$$\frac{x^2 + 4x - 5}{x^2 + ax + 15}$$

Sadeleşebilen bir kesir ise a'nın değeri aşağıdakilerden hangisi olabilir?

- A) 5 B) 6 C) 7 D) 8 E) 9

**52.-54. SORULARI AŞAĞIDAKİ BİLGİLERE GÖRE CEVAPLAYINIZ**

Aşağıdaki tablo 2000 ve 2010 yılları arasında A,B,C,D ve E ülkelerinde doktor başına düşen hasta sayıları verilmiştir.

ÜLKE	Doktor başına düşen hasta sayısı (kişi)	
	2000 yılı	2010 yılı
A	580	450
B	360	90
C	180	60
D	10	30
E	90	90

50.  $x \in \mathbb{Z}$  olduğuna göre,

$2 < x \leq 8$  ise  $\frac{3x-1}{x}$  ifadesinin 6 katı bir tam sayı ise x yerine yazılabilecek rakamların toplamı kaçtır?

- A) 9 B) 8 C) 7 D) 6 E) 5

52. 2010 yılında B ülkesinde doktor başına düşen hasta sayısı 2000 yılına göre yüzde kaç azalmıştır?

- A) %80 B) %75 C) %60  
D) %30 E) %25

53. Hangi ülkede 2010 yılında doktor başına düşen hasta sayısı 2000 yılına göre 130 azalmıştır?

- A) A B) B C) C D) D E) E

54. 2010 yılında bu beş ülkede doktor başına düşen hasta sayıları bir daire grafiğiyle gösterildiğinde A ülkesiyle gösterilen daire diliminin merkez açısı kaç derece olur?

- A) 60 B) 90 C) 120  
D) 225 E) 240

55.-56. SORULARI AŞAĞIDAKİ BİLGİLERE GÖRE CEVAPLAYINIZ

Yuvarlama fonksiyonu reel bir sayıyı en tam sayıya yuvarlar.

Örneğin;

$$\boxed{4,3} = 4$$

$$\boxed{5,72} = 6 \text{ gibi}$$

55.

$$\boxed{0,8} + \frac{\sqrt{21}}{\frac{9}{4}} - \boxed{2,3}$$

İşlemin sonucu aşağıdakilerden hangisidir?

- A) 1 B) 2 C)  $\frac{5}{2}$  D) 3 E)  $\frac{7}{2}$

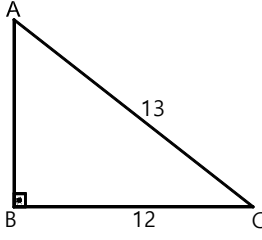
56.

$$\frac{\boxed{\pi^2} + \left(\frac{5}{3}\right)^3}{\left(\frac{13}{6}\right)^2}$$

İşleminin sonucu aşağıdakilerden hangisidir?

- A) 4 B)  $\frac{23}{4}$  C)  $\frac{27}{4}$  D) 6 E)  $\frac{29}{4}$

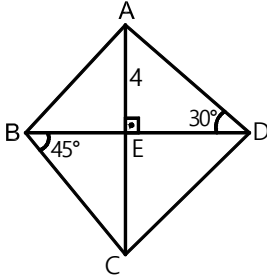
57.



Şekildeki ABC üçgeni [BC] kenarı tarafında  $360^\circ$  döndürülmesiyle elde edilen şeklin hacmi kaç  $\text{cm}^3$  olur?

- A)  $71\pi$       B)  $86\pi$       C)  $100\pi$   
D)  $120\pi$       E) 126

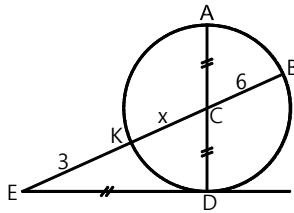
58.



Şekilde ABCD deltoid ve  $|AD| = |DC|$  ise A (ABCD) kaç  $\text{br}^2$  olur?

- A)  $18 + 24\sqrt{3}$       B)  $16 + 16\sqrt{3}$   
C)  $8 + \sqrt{3}$       D)  $6\sqrt{3}$   
E)  $8\sqrt{2}$

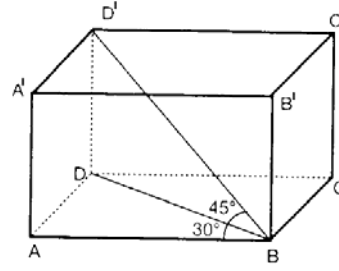
59.



Şekilde D çembere teğet ise x aşağıdakilerden hangisidir?

- A) 9      B) 10      C) 12      D) 14      E) 16

60.



Şekildeki dikdörtgenler prizmasında,  $m(\widehat{ABD}) = 30^\circ$  ve  $m(\widehat{DBD'}) = 45^\circ$  dir  $|BD'| = 6\sqrt{2}$  cm ise prizmanın hacmi kaç  $\text{cm}^3$  tür?

- A)  $54\sqrt{2}$       B)  $54\sqrt{3}$       C) 72  
D) 96      E)  $108\sqrt{3}$



1.

- I. Kendilerine özgü alfabelerinin olması
- II. Kâğıt ve matbaanın kullanılması
- III. Yazılı hukuk sisteminin uygulanması

**Uygur Devleti'nin yukarıda verilen özelliklerinden hangileri, kendisinden önce kurulan Türk devletlerinde görülmez?**

- A) Yalnız I      B) Yalnız II      C) Yalnız III  
D) II ve III      E) I, II ve III

2.

**Türk-İslam devletlerinde hangisinin yasaklanması oymacılık, nakkaşlık gibi süsleme sanatlarının gelişmesinde etkili olmuştur?**

- A) Resim ve heykelticilik  
B) Fresk  
C) Minyatür  
D) Hat  
E) Çinicilik

3.

**Memlük Devleti'nde görülen aşağıdaki özelliklerden hangisi bu devlette saltanat sisteminin ortaya çıkmasını önlemiştir?**

- A) Baharat yoluna hakim olması  
B) Her emirin sultan olma hakkının olması  
C) Abbasi halifesini himaye etmeleri  
D) Moğollarla savaşmış olmaları  
E) Hicaz'a hakim olmaları

4.

**Katolikler ile Ortodokslar arasındaki mücadeleden yararlanan Osmanlı Devleti Balkanlar'daki etkinliğini artirmiştir.**

**Bu bilgilere göre, Osmanlı Devleti Balkanlar'daki etkinliğini artırmak için aşağıdaki politikalarından hangisini kullanmıştır?**

- A) Türkleştirme politikası  
B) Kültür birlikteliğini koruma politikası  
C) Merkezi devlet özelliğini koruma politikası  
D) Türk beylikleri ile mücadele edilmemesi politikası  
E) Mezhep mücadelelerinden yararlanma politikası

5.

**Kanuni Sultan Süleyman döneminde Fransa ile imzalanan ticaret antlaşmasının aşağıdaki hükümlerinden hangisinin uygulanmaması Osmanlı ekonomisi üzerinde olumsuz sonuçlar meydana getirmiştir?**

- A) Fransız ticaret gemileri Osmanlı sularında serbestçe dolaşabileceklerdir.  
B) Fransız tüccarlarından diğer tüccarlara göre daha az vergi alınacaktır.  
C) Fransız tüccarlar arasındaki davalara Fransız mahkemeleri bakacaktır.  
D) Fransız tüccarlar ile Türkler arasında davalara Türk mahkemeleri bakacaktır.  
E) Kapitülasyonlar anlaşmayı imzalayan hükümdarlar sağ kaldıkları sürece geçerli olacaktır.

## 6. Osmanlı Devleti'nde;

- I. Divan-ı Hümayun
- II. Tımar
- III. Müsadere
- IV. İltizam

hangileri 19. yüzyılda kaldırılmıştır?

- A) I ve II      B) I ve III      C) II ve III  
D) III ve IV      E) I, II, III ve IV

## 7. Osmanlı Devleti'nde Divan'ın üyelerinden olan nişancı,

- I. Fetva
- II. Berat
- III. Ferman

resmi belgelerden hangilerine padişahın imzası olan tuğrasını çekerdi?

- A) Yalnız I  
B) Yalnız II  
C) Yalnız III  
D) II ve III  
E) I, II ve III

## 8.

- I. Avrupa'dan kaçarak Osmanlılara sığınan aydınlar
- II. Avrupa ülkelerine gönderilen elçiler
- III. Avrupa'ya gönderilen öğrenciler

Yukarıdakilerden hangileri, Osmanlı Devleti'nde Avrupa tarzında ıslahatların yapılmasında etkili olmuştur?

- A) Yalnız I  
B) Yalnız II  
C) II ve III  
D) I ve III  
E) I, II ve III

## 9. Sancakların birleşmesi ile oluşan bir idari yapı olan eyaletlerin yönetiminden sorumlu olan en üst yönetici aşağıdakilerden hangisidir?

- A) Kadı  
B) Beylerbeyi  
C) Sekban  
D) Subaşı  
E) Kazasker

## 10. Osmanlı Devleti'nde;

- I. Çınar Vakası
- II. Şeyh Bedrettin Ayaklanması
- III. 31 Mart Vakası
- IV. Şeyh Sait Ayaklanması

hangileri meşrutiyet rejimini hedef almıştır?

- A) Yalnız III      B) Yalnız I      C) Yalnız II  
D) Yalnız IV      E) I, II ve IV

## 11. I. Dünya Savaşı'nda aşağıdaki cephelerden hangisi, İngiltere'ye askeri ve ekonomik açıdan zarar vermek amacıyla açılmıştır?

- A) Çanakkale  
B) Irak  
C) Kanal  
D) Suriye  
E) Hicaz

12. Mondros Ateşkes Antlaşması'ndan sonra kurulan zararlı cemiyetlerin çalışmalarını engellemek amacıyla milli cemiyetler kurulmuş ve mücadele etmişlerdir.

**Buna göre, aşağıdakilerden hangisinde zararlı bir cemiyet ve onun durdurmak için kurulmuş bir milli cemiyet yanlış olarak eşleştirilmiştir?**

- A) Etnik-i Eterya Cemiyeti- İzmir Redd-i İlhak Cemiyeti  
B) Pontus Rum Cemiyeti- Trabzon Muhafaza-ı Hukuk Cemiyeti  
C) Mavri Mira- Trakya Paşaeli Cemiyeti  
D) Hınçak Komitesi- Doğu Anadolu Müdafaa-ı Hukuk Cemiyeti  
E) Macabi Alyans Cemiyeti- Kilikyalılar Cemiyeti

13. Türk Kurtuluş Savaşı sırasında,

- I. Milne  
II. Amiral Bristol  
III. General Harbord

**hangilerinin yaptıkları araştırmalar, Doğu Anadolu'nun Türklüğünü kanıtlamıştır?**

- A) Yalnız I      B) Yalnız II      C) Yalnız III  
D) I ve II      E) I, II ve III

14. Mustafa Kemal Atatürk,

- I. Ulusal bağımsızlık  
II. Milli egemenlik  
III. Yayılmacı politika

**hangilerini gerçekleştirmek amacıyla milli mücadeleye hareketini başlatmıştır?**

- A) Yalnız I  
B) Yalnız II  
C) II ve III  
D) I ve II  
E) I, II ve III

15. Erzurum Kongresi'nde,

- I. Doğu Anadolu  
II. Doğu Karadeniz  
III. Batı Anadolu

**bölgelerin hangilerinde bulunan milli cemiyetler birleştirilmiştir?**

- A) Yalnız I  
B) Yalnız II  
C) I ve II  
D) I ve III  
E) I, II ve III

16. Misakımilli' de,

- I. Kapitülasyonlar  
II. Azınlıklar  
III. Sınırlar

**konularından hangileri ile ilgili kararların yer aldığı söylenebilir?**

- A) Yalnız I  
B) Yalnız II  
C) II ve III  
D) I ve II  
E) I, II ve III

17. Tekalif-i Milliye Yasası'nın çıkarılması,

- I. Büyük Taarruz  
II. Sakarya  
III. Birinci İnönü

**savaşlarından hangilerinin kazanılmasını sağlamıştır?**

- A) Yalnız I      B) Yalnız II      C) II ve III  
D) I ve II      E) I, II ve III

18. Aşağıdaki antlaşmalardan hangisinin imzalanması, İtilaf Devletleri arasında anlaşmazlığın olduğuna kanıt olarak gösterilebilir?

- A) Gümrü Antlaşması
- B) Kars Antlaşması
- C) Ankara Antlaşması
- D) Moskova Antlaşması
- E) Batum Antlaşması

19. Doğu sınırimızı belirleyen Kars Antlaşması'nı imzalayanlar arasında;

- I. Gürcistan
- II. Azerbaycan
- III. Ermenistan

devletlerinden hangileri bulunmaktadır?

- A) Yalnız I
- B) Yalnız II
- C) Yalnız III
- D) II ve III
- E) I, II ve III

20. Türkiye Cumhuriyeti'nin;

- I. 1932'de Milletler Cemiyeti'ne
- II. 1945'de Birleşmiş Milletler'e
- III. 1952'de NATO'ya

üye olduğu göz önünde tutulursa izlediği politikalar hakkında aşağıdakilerden hangisi söylenemez?

- A) Uluslar arası barıştan yanadır.
- B) Sorunların barış yoluyla çözümlenmesini savunmuştur.
- C) Yayılmacı politikayı esas almıştır.
- D) Dünya devletlerinin dayanışmasına önem vermiştir.
- E) Devletlerin birbirlerinin işlerine müdahalesini hoşgörüle karşılamamıştır.

21.

- I. Başkomutanlık yasaının çıkarılması
- II. Tekalif-i Milliye kararlarının kabul edilmesi
- III. Türk ordusunun Sakarya Nehri'nin doğusuna çekilmesi

Yukarıdaki gelişmelerden hangilerinin gerçekleşmesinde Kütahya-Eskişehir Savaşları etkili olmuştur?

- A) Yalnız I
- B) Yalnız II
- C) I ve II
- D) I ve III
- E) I, II ve III

22. Mudanya Ateşkes Antlaşması ile,

- I. Doğu Trakya
- II. Kars
- III. İzmir

yörelerinden hangileri Yunanlardan geri alınmıştır?

- A) Yalnız I
- B) Yalnız II
- C) Yalnız III
- D) I ve II
- E) I, II ve III

23. Aşağıdakilerden hangisi, Millet Mekteplerinin kuruluş amacıdır?

- A) Dini kuralları öğretmek
- B) Azınlıkları eğitmek
- C) Yeni Türk harflerini öğretmek
- D) Sınıf ayrımına son vermek
- E) Medreselerin açığını kapatmak



## 24. Lozan Konferansı'nda İtilaf Devletleri;

- I. Kapitülasyonlar
- II. Boğazlar
- III. Azınlıklar

konularının hangilerinde bağımsızlığımıza aykırı isteklerde bulunmuşlardır?

- A) Yalnız I
- B) Yalnız II
- C) I ve II
- D) I ve III
- E) I, II ve III

25. Aşağıdakilerden hangisi CHP'de "ortanın solu" hareketinin güç kazanmasının nedenlerinden biri sayılamaz?

- A) Seçmenlerle bütünleşme çabası
- B) Aydınlar arasında sol düşüncenin güç kazanması
- C) CHP'nin devletçi geleneği
- D) CHP'nin özel mülkiyete karşı olması
- E) Sosyalist düşüncenin Türkiye'de yaygınlık kazanması

26. Aşağıdakilerden hangisi 1961 gelişen sol/ öğrenci hareketinin özelliklerinden biri değildir?

- A) İçindeki bazı grupların silahlı eyleme yönelmesi
- B) Parlamento dışı bir muhalefet odağı niteliği kazanması
- C) Türkiye'deki sendikal hareketi denetimi altına alması
- D) Bağımsızlık ve demokrasi sloganlarını kullanması
- E) Giderek kitlesellik kazanması

27. Aşağıdakilerden hangisi, 12 Mart 1971 muhtırasının üzerinde durduğu hususlardan biri değildir?

- A) Hükümetin ülkeyi huzursuzluk içine soktuğu
- B) Anayasanın öngördüğü reformların gerçekleşmediği
- C) Yeni bir hükümetin oluşturulması gerektiği
- D) Türkiye'nin geleceğinin ağır bir tehlike içine düştüğü
- E) Anayasanın değiştirilmesi gerektiği

## 28. Türkiye'de matematik konuma bağlı olarak aşağıdaki seçeneklerde belirtilen olaylardan hangisinin nedeni diğerlerinden farklıdır?

- A) Antalya'da sıcaklık ortalamasının Samsun'dan yüksek olması
- B) 21 Haziran'da Konya Bölümü'nün gündüz süresinin Doğu Karadeniz Bölümü'nden daha kısa olması
- C) Güneydoğu Anadolu Bölgesi'nin yıl boyunca güneş ışınlarını Marmara Bölgesi'ne göre daha dik alması
- D) Kuzey sektörlü rüzgarların sıcaklığı düşürmesi
- E) Doğusu ve batısı arasında 76 dakikalık zaman farkının bulunması

## 29. Aşağıda bazı turistik merkezlerin buldukları yerler verilmiştir.

- I. Karain mağarası - Antalya
- II. Saint Pierre Kilisesi - Mardin
- III. Efes Antik Tiyatrosu - İzmir
- IV. Yerebatan Sarnıcı - İstanbul
- V. Aspendos Tiyatrosu - Muğla

Yukarıdaki eşleştirmelerden hangisi ya da hangileri yanlıştır?

- A) Yalnız I
- B) II ve III
- C) IV ve V
- D) Yalnız V
- E) II ve V

30. Türkiye'deki jeolojik yapının çeşitliliği aşağıdakilerin hangisinin oluşmasında daha çok etkili olmuştur?

- A) Toprak türlerinin
- B) Tarım metodlarının
- C) Yeraltı zenginliklerinin
- D) Endüstri bölgelerinin
- E) Bitki çeşitliliğinin

32. Türkiye'de nüfusun dağılışı her yerde aynı değildir. Sanayileşmiş kentlerin bulunduğu alanlarda nüfus yoğunluğu daha fazladır.

Buna göre aşağıdaki bölümlerden hangisinin nüfus yoğunluğunun diğerlerine göre daha fazla olması beklenir?

- A) Doğu Karadeniz Bölümü
- B) Yukarı Kızılırmak Bölümü
- C) Yukarı Murat-Van Bölümü
- D) Adana Bölümü
- E) Antalya Bölümü

33. Aşağıdaki göllerimizden hangisi farklı bir coğrafi bölgede yer almaktadır?

- A) İznik Gölü
- B) Marmara Gölü
- C) Sapanca Gölü
- D) Kuş Gölü
- E) Ulubat Gölü

31. Aşağıdaki tabloda bazı merkezlere ait yıllık gerçek sıcaklık ortalaması ve bu illerin yükselteleri verilmiştir.

Merkez	Yıllık Sıcaklık Ortalaması (°C)	Yükselti (m)
I	18	2400
II	16,8	1800
III	12,5	1500
IV	20,5	1600
V	14	800

Buna göre bu merkezlerin indirgenmiş sıcaklıklarının büyükten küçüğe doğru sıralanışı hangi seçenekte verilmiştir?

- A) I – III – IV – V – II
- B) V – III – II – IV – I
- C) II – III – V – I – IV
- D) I – IV – II – III – V
- E) V – II – I – IV – III

34.

- Fazla eğim
- Aşırı yağış
- Tabakaların eğime paralel uzanması

Yukarıda oluşum nedenleri verilen doğal afet türü aşağıdaki bölgelerimizden hangisinde daha çok görülmektedir?

- A) Ege Bölgesi
- B) Karadeniz Bölgesi
- C) İç Anadolu Bölgesi
- D) Marmara Bölgesi
- E) Doğu Anadolu Bölgesi

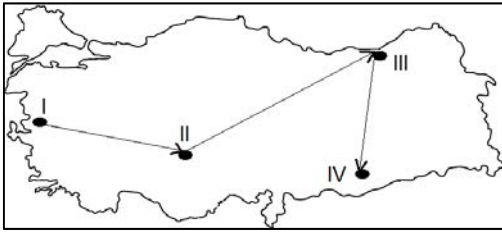
35.

- Nadas alanlarının azalması
- Üretimde dalgalanmanın azalması
- Birim alandan elde edilen verimin artması

Bir bölgede tarımda meydana gelen bu değişikliklerin tümüne neden olan unsur aşağıdakilerden hangisidir?

- A) Gübrelemenin artması
- B) İlaçlamanın yaygınlaşması
- C) Makine kullanımının artması
- D) Tohum ıslah çalışmaları
- E) Sulamanın yaygınlaşması

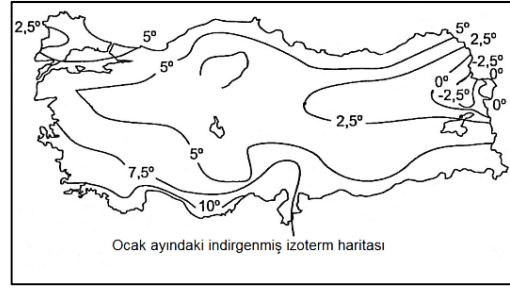
36. Ülkemizde özel konum ve matematiksel konumun etkilerine bağlı olarak birçok tarım ürünü yetiştirilebilmektedir.



Yukarıdaki haritada oklar yönünde ilerlendiğinde sırasıyla tarım alanlarında hangi ürünlerin daha çok yetiştirildiği söylenebilir?

- | I          | II     | III    | IV        |
|------------|--------|--------|-----------|
| A) Zeytin  | Buğday | Çay    | Pamuk     |
| B) İncir   | Arpa   | Fındık | Muz       |
| C) Tütün   | Kayısı | Buğday | A.Fıstığı |
| D) Truğgil | Elma   | Arpa   | Zeytin    |
| E) Zeytin  | Tütün  | Çay    | Fındık    |

37.



Yukarıdaki Türkiye'ye ait ocak ayındaki indirgenmiş izoterm haritası incelendiğinde aşağıdakilerden hangisine ulaşamaz?

- A) Enlem ve denizellikten dolayı en yüksek sıcaklıklar Akdeniz Bölgesi'nde ölçülmüştür.
- B) Batıdan doğuya doğru sıcaklık, karasallık ve yükseltiye bağlı olarak düşmüştür.
- C) En düşük sıcaklıklar enlem ve soğuk rüzgarlara bağlı olarak Kuzeydoğu Anadolu'da ölçülmüştür.
- D) Karadeniz kıyılarında sıcaklığın iç bölgelerden daha yüksek olması sıcaklık - enlem ilişkisine ters düşer.
- E) Kıyı bölgelerimizde denizelliğe bağlı olarak sıcaklık genelde yüksektir.

38. Türkiye genç oluşumlu bir ülkedir. Aşağıdakilerden hangisi bu durumun kanıtlarından birisi olamaz?

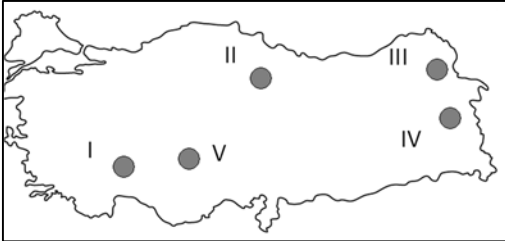
- A) Linyit madeninin geniş alanlarda görülebilmesi
- B) Depremlerin sık görülmesi
- C) Akarsuların hidroelektrik potansiyellerinin yüksek olması
- D) Dağların doğu-batı doğrultusunda uzanması
- E) Türkiye'nin ortalama yükseltisinin fazla olması

39. Ege Bölgesi sanayisi gelişmiş bölgelerimizdendir. Burada birçok sanayi tesisi bulunmaktadır. Bu tesisler hammaddeyi üretim ve çıkarımın fazla olduğu bölge içinden temin ederler.

**Buna göre bu bölgemizde aşağıdaki sanayi tesislerinden hangisinde, yakın çevrede çıkartılan hammadde kullanılmamaktadır?**

- A) Tekstil Sanayi  
B) Termik Santraller  
C) Şeker Fabrikası  
D) Sabun Fabrikası  
E) Petrol Rafinerisi

40. Sularını açık denizlere ulaştıramayan akarsu ve göllerin oluşturduğu havzaya kapalı havza denir. Bu durum üzerinde etkili olan temel faktör yer şekilleridir.



**Buna göre yukarıdaki haritada işaretli yerlerden hangisinde kapalı havza özelliği görülmez?**

- A) I    B) II    C) III    D) IV    E) V

- 41.

Ürünler	Üretim miktarı (ton)	İhracat (ton)
I	4.532.000	262.000
II	3.618.000	1.642.000
III	1.532.000	990.000
IV	830.000	542.000
V	560.000	495.000

**Yukarıdaki tabloda Türkiye'de yetiştirilen beş ürünün üretim ve ihracat miktarları verilmiştir.**

**Bu ürünler için aşağıdakilerden hangisi söylenemez?**

- A) I. ürünün ihracat miktarı en azdır.  
B) III. ürün üretimi IV. ve V. ürünlerin toplam üretiminden daha fazladır.  
C) V. Ürünün ithalatı yapılmaktadır.  
D) II. Ürünün ihracatı en fazladır.  
E) II. Ürünün ihracatı, I. ve III. ürünlerin toplam ihracatından daha fazladır.

42. **Aşağıdakilerden hangisi ülkemiz buğday üretimi için söylenebilecek doğru bir ifade değildir?**

- A) Yetiştirme alanı en geniş olan tarım ürünüdür  
B) Olgunlaşma döneminde kuraklık ister  
C) Doğal yöntemlerle yetiştirildiği için üretiminde dalgalanmalar fazladır  
D) En fazla yetiştirildiği bölge İç Anadolu Bölgesi'dir.  
E) İlk hasadı Güneydoğu'da son hasadı Karadeniz Bölgesi'nde yapılır.

43. Aşağıdakilerden hangisi ülkemiz nüfusu için söylenebilecek doğru bir ifade değildir?

- A) Güneydoğu Anadolu Bölgesi'nde nüfus yoğunluğu bölge alanının küçük olması nedeni ile fazladır.
- B) Marmara Bölgesi en fazla göç alan coğrafi bölgemizdir.
- C) Doğu Anadolu Bölgesi'nde tarımsal nüfus yoğunluğu fazladır.
- D) Karadeniz Bölgesi'nde bölge içi göçler daha çok doğuya doğru yaşanmaktadır
- E) Akdeniz Bölgesi'nin en tenha alanları Teke ve Taşeli Yöreleridir.

45. Doğu Karadeniz Bölümü'nde en fazla yağış sonbahar aylarında görülürken, Çoruh nehri en yüksek seviyeye ilkbahar sonlarında ulaşmaktadır.

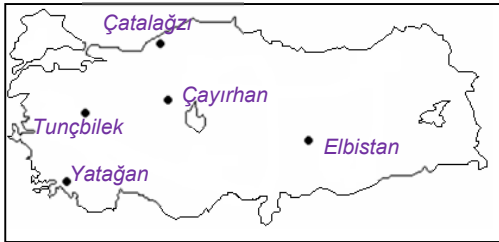
**Bu durum aşağıdakilerden hangisiyle açıklanabilir?**

- A) Yağış miktarıyla
- B) Bitki örtüsüyle
- C) Yağış rejimiyle
- D) Kar erimeleri ile
- E) Nemliliğin oranıyla

46. Kişinin iradesi dışında gelişen ve hukuki sonuç doğuran doğum ve ölüm gibi olaylara ne ad verilir?

- A) Hukuki olay
- B) Hukuki fiil
- C) Hukuki işlem
- D) Haksız fiil
- E) Öngörmezlik

44. Türkiye'de elektrik enerjisi farklı kaynaklardan elde edilir.



Yukarıdaki Türkiye haritasında gösterilen yerlerden hangisinde elde edilen enerjinin hammaddesi diğerlerinde farklıdır?

- A) Tunçbilek
- B) Çatalağzı
- C) Elbistan
- D) Çayırhan
- E) Yatağan

47. Taraflarca düzenlenmiş, ancak yeteri kadar açıklık taşımayan durum ve davranışların açıklığa kavuşturulmasında kullanılan hukuk kurallarına ne ad verilir?

- A) Emredici Hukuk Kuralları
- B) Tamamlayıcı Hukuk Kuralları
- C) Tanımlayıcı Hukuk Kuralları
- D) Yorumlayıcı Hukuk Kuralları
- E) Yargılayıcı Hukuk Kuralları

48. Aşağıdakilerden hangisi kısıtlanma nedeni değildir?

- A) Kötü yaşam tarzı
- B) Akıl zayıflığı
- C) Yaş küçüklüğü
- D) Kötü yönetim tarzı
- E) Savurganlık

49. İdari ve vergi mahkemelerince verilen kararların son inceleme yeri aşağıdakilerden hangisidir?

- A) Danıştay
- B) Yargıtay
- C) Sayıştay
- D) Anayasa Mahkemesi
- E) Hakimler ve Savcılar Yüksek Kurulu

50. Yüksek Mahkemeler Başkanların Atanması,

- I. Anayasa Mahkemesi  
- Üyeleri kendi aralarında
- II. Yargıtay  
- Üyeleri kendi aralarında
- III. Danıştay  
- Cumhurbaşkanı
- IV. Askeri Yargıtay  
- TBMM

Yukarıdaki mahkemelerin başkanlarının atanmasından hangisinin ya da hangilerinin atanmasını yapan merci yanlış verilmiştir.

- A) I ve II
- B) III ve I
- C) II ve IV
- D) III ve IV
- E) I, II ve III

51. Aşağıdakilerden hangisi yüksek mahkeme değildir?

- A) Anayasa Mahkemesi
- B) Yargıtay
- C) Danıştay
- D) Sayıştay
- E) Askeri Yargıtay

52.

- I. 18 yaşından küçükler
- II. Askeri öğrenciler
- III. Tutuklular

Yukarıdakilerden hangisi ya da hangileri oy kullanamaz?

- A) Yalnız I
- B) Yalnız II
- C) Yalnız III
- D) I ve II
- E) I,II ve III

53.

- I. Toplu Konut İdaresi
- II. Özürlüler İdaresi Başkanlığı
- III. T.C. Ziraat Bankası
- IV. Vakıflar Genel Müdürlüğü

Yukarıdakilerden hangisi ya da hangileri başbakanlığa bağlı kuruluşlardır?

- A) I, II, III ve IV
- B) I ve II
- C) III ve IV
- D) I, II ve III
- E) II ve IV

54. Sayıştay'ın başkanı ve üyelerini aşağıdakilerden hangisi seçer?

- A) Başbakan
- B) Cumhurbaşkanı
- C) TBMM
- D) Yargıtay
- E) Danıştay

55. 1982 Anayasası'na göre, Yüksek Askeri Şura aşağıdakilerden hangisinin başkanlığında toplanır?

- A) Cumhurbaşkanı
- B) İçişleri Bakanı
- C) Genel Kurmay Başkanı
- D) TBMM Başkanı
- E) Başbakan

56. 2014 yılındaki Dünya Kupası aşağıdaki ülkelerden hangisinde düzenleniyor?

- A) Ukrayna
- B) Brezilya
- C) Polonya
- D) Rusya
- E) Türkiye

57. 2012 yılı G-8 (gelişmiş 8 ülke) zirvesi aşağıdaki ülkelerin hangisinde düzenlenmiştir?

- A) ABD
- B) İngiltere
- C) Fransa
- D) İtalya
- E) Rusya

58. Askere alım aşağıdakilerden hangisidir?

- A) 18
- B) 19
- C) 20
- D) 21
- E) 22

59. Türkiye'nin ilk metro köprüsü 2014 yılında aşağıdaki yerlerden hangisinde yapılmıştır?

- A) Galata
- B) Yıldız Sarayı önü
- C) Haliç
- D) Boğaz Köprüsü
- E) Fatih Sultan Mehmet Köprüsü

60. Dünya Ana Dil Günü aşağıdaki tarihlerden hangisinde kutlanmıştır?

- A) 21 Şubat 2014
- B) 22 Şubat 2014
- C) 23 Şubat 2014
- D) 14 Şubat 2014
- E) 25 Şubat 2014

## TEOREM YAYINLARI 1 CEVAP ANAHTARI

LİSE VE ÖNLİSANS											
GENEL YETENEK						GENEL KÜLTÜR					
1	A	21	B	41	D	1	D	21	E	41	C
2	E	22	A	42	E	2	A	22	A	42	A
3	E	23	E	43	E	3	B	23	C	43	D
4	E	24	E	44	A	4	E	24	E	44	B
5	A	25	D	45	B	5	E	25	D	45	D
6	D	26	D	46	C	6	E	26	C	46	A
7	D	27	C	47	E	7	D	27	E	47	D
8	B	28	C	48	B	8	E	28	E	48	C
9	B	29	A	49	B	9	B	29	E	49	A
10	C	30	B	50	A	10	A	30	C	50	D
11	E	31	B	51	D	11	C	31	D	51	D
12	D	32	B	52	B	12	E	32	D	52	D
13	B	33	C	53	A	13	C	33	B	53	A
14	A	34	A	54	D	14	A	34	B	54	C
15	B	35	B	55	B	15	C	35	E	55	E
16	C	36	A	56	D	16	E	36	A	56	B
17	B	37	E	57	C	17	D	37	B	57	A
18	A	38	C	58	B	18	C	38	D	58	D
19	A	39	A	59	A	19	E	39	E	59	C
20	A	40	C	60	B	20	C	40	B	60	A