

1. Bu testte 60 soru vardır.

2. Cevaplarınızı, cevap kâğıdının Genel Yetenek Testi için ayrılan kısmına işaretleyiniz.

1. Hem çocuk olacaksın hem de oyuncaklarla hiç tanışmadan, elinde oyuncak olmadan oyun oynamaya kalkacaksın. Hayallerin de bir sınırı vardır. Neye oyuncak gözüyle bakacaksın ya da hangi oyuncuğun yerine neyi koyacaksın? İş bu noktaya gelince bir yazar olarak sormak gerekir önceliklere: "Nelerden faydalandın, ne gibi çalışmalar yaptın? Hangi hazırlıklarla yola çıktın? Niçin oyununu yarıda kestin?" ya da "Nasıl böyle başarılı oyunlar kurarak etrafına herkesi toplamayı başarabildin?"

**Bu parçada geçen "oyuncaklarla hiç tanışmadan, elinde oyuncak olmadan oyun oynamaya kalkmak" sözüyle yazarlarla ilgili olarak anlatılmak istenen aşağıdakilerden hangisidir?**

- A) Okuyucuların isteklerini ve beğenilerini dikkate alma  
B) Kendisinden öncekilerin birikimlerinden istifade etme  
C) Yaşantılarını ve kendini ön plana çıkarma  
D) Gerekli donanıma ve tecrübeye sahip olmadan işe koyulma  
E) Yapıtlarında nesnellikten ve gerçeklikten uzak bir tavır sergileme

2. Son yıllarda Güneş sistemindeki yakın komşumuz Mars gezegenine ---- bilim insanları, gezegendeki olası yaşam belirtileriyle ilgili ---- ara vermeksizin devam ediliyor.

**Bu cümlede boş bırakılan yerlere sırasıyla aşağıdakilerden hangileri getirilmelidir?**

- A) yoğunlaşan – bilgi birikimine  
B) odaklanan – araştırmalarına  
C) bakan – çalışmalarına  
D) yönelen – değerlendirmelere  
E) ilgi duyan – tutumlarına

3. Postmodern kelimesinin sözlük anlamı modern sonrası, modern ilerisidir. Postmodern edebiyatın bünyesinde yıkıcılık olsa da kendi bindiği dalı kesmez; yani postmodern anlayış, modernist anlayışı yıkmak demek değildir. Aksine eğer modern akım olmasaydı postmodern akım hiç olmayacaktı.

**Bu parçadaki altı çizili sözle anlatılmak istenen aşağıdakilerden hangisidir?**

- A) Sahip olduğu her şeyi bir anda kaybetmek  
B) Yakın dostlarını, hataları yüzünden kendinden uzaklaştırmak  
C) Kendisi için gerekli ve yararlı olan şeyi kendi eliyle yok etmek  
D) Geçimini sağladığı, onu hayata bağlayan unsurları ortadan kaldırmak  
E) Kendi yaptıkları nedeniyle mutsuz olmak

4. Doğal seçim, dış çevreye uyum konusunda daha elverişli özelliklere sahip bireylerin, bu elverişli özelliklere sahip olmayan diğer bireylere göre yaşama ve üreme şanslarının daha yüksek olması ve bunun sonucu olarak genlerini yeni kuşaklara aktarabilmeleri yoluyla işlenen evrimsel mekanizmadır.

- I. Kişisel görüşlere yer verilmiştir.  
II. Bir kavramın tanımı yapılmıştır.  
III. Terim anlamlı kelimelere yer verilmiştir.  
IV. Kimi kavramlar karşılaştırılmıştır.

**Bu cümle ile ilgili olarak yukarıda verilen bilgilerin hangisi/hangileri yanlıştır?**

- A) Yalnız I  
B) I ve III  
C) II, III ve IV  
D) Yalnız III  
E) II ve IV

5. *İnternet*, sosyal ağlar yoluyla sıradan insanları, geniş kitleleri buluşturup ürettikleri her türlü içeriği gözler önüne sermiştir.

**Bu cümleden aşağıdakilerin hangisine kesin olarak ulaşılabilir?**

- A) *İnternet*, çoğu insanının kabuğuna çekilmesine neden olmuştur.  
B) *İnternet*, insanların iletişimini kolaylaştırmıştır.  
C) *İnternet*, insanların boş zamanlarını değerlendirmede etkili bir araçtır.  
D) *İnternet*, insanları sosyal ağlara bağımlı kılmıştır.  
E) *İnternet*, kitleleri olumsuz etkilerden korumakta aciz kalmıştır.

6. (I) Günümüz yazarları, dil açısından geçmişe oranla daha büyük olanaklar içindedir. (II) Dilin her bölgesine rahatça uzanabilirler. (III) Elleri Türk Dil Kurumunca yayımlanmış olan cilt cilt sözlükler var. (IV) Bunlardan yepyeni sözcükler, yepyeni deyimler bulup dil dünyalarının sınırlarını genişletebilirler. (V) Usta yazarlarımızın çoğu bu yolu seçmiştir.

**Bu parçadaki numaralanmış cümlelerle ilgili olarak aşağıdakilerden hangisi yanlıştır?**

- A) I. cümlede, bir karşılaştırma yapılmıştır.  
B) II. cümlede, bir kolaylık dile getirilmiştir.  
C) III. cümlede, günümüz sanatçılarına dil adına sunulan olanaklardan bahsedilmiştir.  
D) IV. cümlede, sanatçıların yapabilecekleri çalışmalar dile getirilmiştir.  
E) V. cümlede, söz konusu çalışmalara katılan yazarlara örnekler verilmiştir.

7. I. Bilimin, her birinde önemli bir özelliğin vurgulandığı birçok tanımı var.

II. Bilim dünyası bu sahtekârlık vakalarına karşı ciddi önlemler almış olsa da maalesef tamamen dirençli değildir.

III. Bunlardan biri, bilimi “düzenli bilgi birikimi” olarak tanımlar.

IV. Tabii ki burada bahsedilen bilgi birikiminin bilimsel yöntemler kullanılarak elde edilmesi ve diğer bilim insanları tarafından da kabul görmesi gerekir.

V. Ancak bilgi kişisel ve kurumsal yorumlar, inançlar, öncelikler veya çıkarlar doğrultusunda şekillendirilip düzenlenirse bu durumun sahte para basmaktan nitelik olarak bir farkı kalmaz.

**Yukarıdaki numaralandırılmış cümleler anlamlı bir bütün oluşturacak biçimde sıralandığında hangisi baştan üçüncü cümle olur?**

- A) I B) II C) III D) IV E) V

8. Osmanlı Türkçesinde 35 harf vardır. Arapça 28, Farsça ise 32 harften oluşur. Bu tabloya baktığımızda rahatlıkla Osmanlı Türkçesinin Arap ya da Farsların tam kopyası olmadığını anlıyoruz. ...., o kendi ses özelliklerine uygun harfleri her iki dilden alarak bir dil oluşturmuştur.

**Bu parçada boş bırakılan yere aşağıdakilerden hangisi getirilmelidir?**

- A) Bu harf sistemlerinde her harfin; başta, ortada ve sonda yazılımlarında farklılıklar vardır.  
B) Dil akışına bırakılmış, Türkçe; Arapça ya da Farsça kadar önemsenmemiştir.  
C) Osmanlı Türkçesi ne Arap ne de Fars alfabeti ile yetinmiştir.  
D) Birçok Arapça ve Farsça sözcüğü Arap gırtlığına özgü seslerle söylemek zorunda kaldık.  
E) Arapça ve Farsça kelimelerin yazımına ayrıca özen gösterilmiştir.

9. (I) İntel, Apple gibi bilgisayar şirketleri geleceğin elektrikli otomobil üreticileri olmaya aday. (II) Çünkü bir elektrikli otomobilde mekanik aksamdan çok yazılım var. (III) Yakın zamanda bugün kullandığımız otomobillerin yerini elektrikli otomobiller alacak. (IV) Bataryanın ne kadarlık sürede ne kadar akım sağlayacağı, şarjının ne kadar azaldığı gibi bilgiler yazılım algoritmalarıyla hesaplanıyor. (V) Batarya yazılım teknolojisi şimdilik pahalı ve altyapı gerektiren bir teknoloji, bunu ancak büyük bilgisayar şirketleri sağlayabilir.

**Bu parçadaki numaralanmış cümlelerden hangisi, düşüncenin akışını bozmaktadır?**

- A) I B) II C) III D) IV E) V

10. Kışın havalar soğuyunca başına kat kat örtüler,  
I II  
bezler sarar, başı daha üşürse en içe incecik  
örgülerini boynunun iki yanından sarkıttığı  
III  
kınalı saçlarının üstüne bir pamuklu takke giyer,  
IV V  
örtüleri bunun üstüne sarardık.

**Bu parçadaki numaralanmış sözcüklerden hangisini niteleyen bir söz kullanılmamıştır?**

- A) I. B) II. C) III. D) IV. E) V.

11. Annesi! Çocuğuna yalnız söylemeyi değil, dinle-  
I II  
meyi de öğret ki yavrucak konuşmayı öğrenmiş  
III IV V  
olsun.

**Bu parçadaki numaralanmış sözcüklerle ilgili olarak aşağıdakilerden hangisi yanlıştır?**

- A) I'inci, ünlem görevinde kullanılmıştır.  
B) II'nci, zarf görevinde kullanılmıştır.  
C) III'üncü, bağlaçtır.  
D) IV'üncü, küçültme eki almış bir addir.  
E) V'inci, eylemsidir.

12. (I) Ani bir kararla kendimize sakin bir yer bulmak istedik hafta sonu için. (II) Hemen birkaç parça eşya alıp yola koyulduk. (III) Şehrin trafiği ve bunaltıcı sıcak asla bitmeyecek sandım. (IV) Biraz uzun sürse de şehri çıkınca trafik epey rahatladı. (V) Sıcaklık aynı olmasına rağmen nedense hava biraz önceki gibi sıkıp bunaltmıyordu.

**Bu parçadaki numaralanmış cümlelerden hangisinin yüklemi, birleşik eylemdir?**

- A) I. B) II. C) III. D) IV. E) V.

13. Aşağıdakilerin hangisinde altı çizili sözcükler tür bakımından birbirinden farklıdır?

- A) İnsan yaşamına yaslandığı için öyküyü kendimize daha yakın buluruz.

Dili bu denli yalın olduğu için halk tarafından çok beğeniliyor.

- B) Bu tartışmalar sanat ürünlerini de etkiliyordu.

Misafirlere meyve de ikram etmiş.

- C) İnsan yalnız aklını değil, yüreğini de dinlemeli.

Toplantıya yetişmek istedim yalnız trafik çok yoğundu.

- D) Görülüyor ki tüm bu hazırlıklar boşuna yapılmış.

Kapıyı başkası açınca baktım ki yanlış zile basmışım.

- E) Etrafta kimseyi göremeyince bir köşede beklemeye başladı.

Kâğıda yazılmış bir satır çağlar ötesine seslenebilir.

14. (I) Büyük bir kitabı, büyük bir adamı dinler gibi kuvvetli bir düşünce ile okuyunuz. (II) Bütün dimağınızla, bütün ruhunuzla okuyup satırlar üzerinde düşününüz. (III) Bir zaman sonra tekrar okuyunuz. (IV) Ancak bundan sonradır ki kitap sizin kişiliğinize girer ve sizden bir parça olur, düşüncelerinizi etkiler. (V) Böyle bir etkisi yoksa zaten büyük bir kitap değildir.

**Bu parçadaki numaralanmış cümlelerle ilgili olarak aşağıdakilerden hangisi yanlıştır?**

- A) I'inci, biçimce ve anlamca olumludur.  
B) II'nci, birleşik yapıdır.  
C) III'üncü, basit yapıdır.  
D) IV'üncü, sıralı cümledir.  
E) V'inci, eylem cümlesidir.

15. Karnı patlayacak kadar kanla dolu bir tahtakurusu odayı bir anda dolduran gözkaştırıcı ışık içinde ne yapacağını, nereye gideceğini, nasıl saklanacağını bilmeyerek sırtında koca yükü yakalanmış bir hırsız telaşıyla beyaz örtülerin kıvrımları arasında aptal aptal dolaşıyordu.

**Bu parçadaki numaralanmış sözlerden hangisinin yazımı yanlıştır?**

- A) I. B) II. C) III. D) IV. E) V.

16. Edebiyat, güzel sanatlar içerisinde yer alır. Müzik kadar ahenkli, ritmik ve etkileyici; bale kadar hareketli ve uyumludur kendi içerisinde... Edebî eser heykelcilikte olduğu gibi fazlalıklarından arındırılır, en uygun kelimelerle ifade bulur. Mimaride olduğu gibi birçok unsur bir araya getirilir, görkemli bir yapıt ortaya konur.

**Bu parçadaki numaralanmış noktalama işaretlerinden hangisi yanlış kullanılmıştır?**

- A) I. B) II. C) III. D) IV. E) V.

17. (I) Ömer Seyfettin Türk edebiyatında modern öykücülüğün önemli temsilcilerindendir. (II) Genellikle realist bir anlayışla eser verme düşüncesinde olan sanatçının öykülerinde Maupassant tarzı bir üslup vardır. (III) Tarihin küllenmiş sayfalarından bulup çıkardığı öyküleri genellikle Balkan şehirlerinde geçer. (IV) Bunu yaptığı zaman öykülerinde yerli ve ulusal motifleri ön plana çıkarır, toplumun her kesimini kucaklar. (V) Öykülerinde keskin bir gözlem gücünün öne çıkardığı detaylar, ironiye kaçan anlatım ve toplumsal bir yorum da yer alır.

**Bu parçadaki numaralanmış cümlelerin hangisinden sonra düşüncenin akışına göre "Bazı öykülerinde ise halkın arasına girer." cümlesi getirilebilir?**

- A) I. B) II. C) III. D) IV. E) V.

18. Günümüz insanları, ne yazık ki, insanlığın binlerce yılda oluşan temel değerlerini göz ardı edip günlük pırıltıların çekiciliğine kaptırıyorlar kendilerini. Tek tek insanları suçlamanın bir anlamı yok. Onlara bugün sunulan dünya bu. Okul kitaplarımızın hangisinde Safo'nun ya da Herakleitos'un adı geçiyor bugün, daha insanlık kültürünün nice temel taşlarının? Bir zeytin ağacının ömrü bin yıldır. Bugün dallarından zeytin koparıp yediğimiz bu ağaçları kim dikti, kim yetiştirdi, onlar bize kimden kaldı, merak etmez mi insan?

**Düşüncelerini bu sözlerle açıklayan bir kişi, aşağıdakilerin hangisinden yakınmaktadır?**

- A) Geçmiş, insanların bugünün penceresinden değerlendirmesinden  
B) Kültürel kirlenmeye karşı toplumun bilinçsiz davranmasından  
C) İnsanların yaşamlarında gösterişe ve şaşaa-ya önem vermesinden  
D) Eldeki değerlerin insanlar tarafından sorumsuzca israf edilmesinden  
E) Günümüz insanların bugünü oluşturanların değerini bilmemesinden

19. Bizim bir düşünce düzenimiz yahut düşüncemizin bir düzeni olmadığı için eleştirimiz olmadı. Bir disiplin işidir eleştiri, müthiş bir çalışma işidir. Bizde disiplin de işi ciddiye alma da olmadığı için çok yanlışlıklara düşüyor eleştirmenler: Az gelişmiş ülkenin edebiyatı olmaz diyorlar. Tolstoy, Gogol, Çehov, Dostoyevski çıktığı zaman çok gelişmiş ülke miydi Rusya? Amerika'da "Moby Dick" yazıldığında bu ülke çok gelişmiş miydi? Bu yüzden böyle düşüncelerin doğruluğundan bahsedemeyiz.

**Bu sözler aşağıdaki sorulardan hangisine karşılık söylenmiş olabilir?**

- A) Türkiye'de roman yazarlığının ve eleştirmenliğinin geç gelişmesini neye bağlıyorsunuz?  
B) Eleştirmenlerin birçok açıdan roman yazarlarını eleştirmesini doğru buluyor musunuz?  
C) Az gelişmiş ülkelerde eleştirmenlerin görevlerini yerine getirmediği için romanın gelişmediğine katılıyor musunuz?  
D) Eleştirmenlerin, bir ülke gelişmemişse orada iyi roman yazılamaz, düşüncesini nasıl değerlendiriyorsunuz?  
E) Düşünce özgürlüğünün olmadığı gelişmiş bir ülkede edebiyatın ve eleştirinin geleceği hakkında ne düşünüyorsunuz?

**20. – 22. soruları aşağıdaki parçaya göre cevaplayınız.**

(I) İnsan için gerekli olan yağlar hayvansal ve bitkisel gıdalarla vücuda alınır. (II) Yeşil sebzelerde önemli miktarda yağ bulunmaz. (III) Ancak mısır, soya fasulyesi, ayçiçeği, zeytin, kanola ve fındık, fıstık, badem, ceviz gibi kabuklu yemişler doymamış yağ açısından hayli zengin besinlerdir. (IV) Kırmızı et, salam, sucuk, sosis gibi et ürünleri, tavuk eti, yumurta, süt ve süt ürünleri doymuş yağ içeren besinlerdir. (V) Dengeli bir beslenmede günlük enerji ihtiyacımızın ortalama %30'u yağlardan karşılanmalıdır. (VI) Doymuş yağlar, vücudun yağ ihtiyacının üçte birinden fazlasını geçmemelidir. (VII) Bu nedenle, özellikle et yemeklerine yağ konulmamalı, kızartmalardan kaçınılmalı ve mümkünse yemek yaparken doymuş yağlar tüketilmelidir.

**20. Bu parçada aşağıdakilerden hangisine değilmiştir?**

- A) Vücudun yağ ihtiyacının besinlerle karşılanması gerektiğine
- B) Kimi bitkisel besinlerin doymamış yağ açısından hayli zengin olduğuna
- C) Vücudun yağ ihtiyacının en az üçte ikisinin doymamış yağlarla karşılanması gerektiğine
- D) Günlük enerji ihtiyacının ortalama %30'unun yağlardan karşılanması gerektiğine
- E) Sağlıklı beslenme için vücutta yağ depolanması gerektiğine

**21. Bu parçadaki numaralandırılmış cümlelerin hangisinden başlanarak gereklilik dile getirilmiştir?**

- A) II.    B) III.    C) IV.    D) V.    E) VI.

**22. Bu parçaya göre aşağıdakilerden hangisi söylenebilir?**

- A) Yeteri kadar doymamış yağ tüketilmesi gerekir.
- B) Yağlar virüslere karşı vücudun direncini artırır.
- C) Yağ içeren yiyeceklerin tüketilmemesi gerekir.
- D) Bütün yeşil sebzeler ve meyveler doymuş yağ içerir.
- E) Vücudun yağ ihtiyacı kırmızı et ürünlerinden karşılanmalıdır.

**23. – 24. soruları aşağıdaki parçaya göre cevaplayınız.**

Kullandığımız takvime göre ilkbahar mart ayının başında başlasa da hemen hemen her kültürde ilkbaharın başlangıcı 21 Mart olarak kabul edilir. Bu sırada Güneş ışınları Ekvator'a dik gelir, yani gece ve gündüz süreleri eşittir. Birçok eski uygarlık bu gök bilim olgusunun farkına varmış ve "Nevruz" adı verilen bu tarih kimi uygarlıklarda bahar bayramı, kimilerinde de kutsal gün olarak kabul edilmiş. "Yeni gün" anlamına gelen Nevruz günümüzün İran topraklarında kurulmuş en önemli eski medeniyetlerden biri olan Pers İmparatorluğu'nda ve onun doğusundaki çeşitli ülkelerde yeni yılın başlangıcı olarak kabul ediliyordu.

**23. Bu parçada aşağıdakilerden hangisine değilmiştir?**

- A) Nevruz'un Orta Asya Türkleri tarafından da kutlandığına
- B) Kültürlerin çoğunda ilkbaharın başlangıcının 21 Mart olarak kabul edildiğine
- C) 21 Mart'ta gece ve gündüz sürelerinin eşit olduğuna
- D) Nevruz'un kimi uygarlıklarda kutsal bir gün sayıldığına
- E) 21 Mart'ta Güneş ışınlarının Ekvator'a dik geldiğine

**24. Bu parçanın anlatımıyla ilgili olarak aşağıdakilerden hangisi söylenemez?**

- A) Terimlere yer verilmiştir.
- B) Öykümeden yararlanılmıştır.
- C) İkilemeye yer verilmiştir.
- D) Açıklama cümlelerine yer verilmiştir.
- E) Niteleyici sözcüklere yer verilmiştir.

**25. – 26. soruları aşağıdaki parçaya göre cevaplayınız.**

(I) Yetişkinlerin, genellikle çocuk ve gençlerin çizgi roman okumalarını pek onaylamadığı hatta zaman zaman engellediği bir gerçektir. (II) Çocuk yayınlarıyla ilgili basılı veya sözlü herhangi bir çalışmada çizgi romanlar hiç tereddütsüz “zararlı” ya da en azından “yararsız yayın” damgasını yer. (III) Oysa gözlenen gerçek hemen hemen bütün çocukların hatta yetişkinlerin çizgi romanları büyük bir istekle okudukları yönündedir. (IV) Ayrıca bu konuda çocuklara konan yasaklamaların da çizgi romanları büsbütün çekici hâle getirdiği ve çocukların mutlaka bir yolunu bularak bu yayınları okudukları gözlemlenmiştir. (V) Uzun süre ciddiye alınmayan ya da çocuk yayını olarak görülen çizgi romanlar sonunda gerçek değerini bulmuş, başta ABD olmak üzere birçok Batı ülkesinde ciddi incelemeler ve araştırmalara konu edilmiştir.

**25. Bu parçada aşağıdaki sorulardan hangisinin cevabı yoktur?**

- A) Çizgi romanların içeriği yetişkinlerin neden hoşuna gitmemektedir?
- B) Günümüzde çizgi romanlar gerçek değerini bulmuş mudur?
- C) Çizgi romanlara karşı konulan yasaklamalar etkili olmuş mudur?
- D) Yetişkinler, çocukların veya gençlerin çizgi roman okumasını nasıl değerlendiriyor?
- E) Çocuk yayınlarıyla ilgili bir yayında çizgi romanlardan nasıl bahsediliyor?

**26. Bu parçadaki numaralanmış yerlerden hangisine “Böyle bir etiketleme ile bu kitapların fazla değer görmemesi, değerlerinin düşmesi beklenir.” cümlesi getirilebilir?**

- A) I. B) II. C) III. D) IV. E) V.

**27. - 30. soruları aşağıdaki bilgilere göre birbirinden bağımsız olarak cevaplayınız.**

Bilimsel bir toplantıya Hacettepe, ODTÜ, Gazi, Bilkent, Ankara, İstanbul Teknik, Marmara Üniversitelerinden ikişer yüksek lisans öğrencisi katılmıştır. Bu toplantıya Ali, Berrin, Cengiz, Dilara, Emre, Fatma, Gül, Havva, İbrahim, Kerem, Lâle, Mustafa, Nevin ve Osman adlı öğrenciler katılmıştır. Bu öğrencilerin hangi üniversiteden geldiğiyle ilgili olarak aşağıdaki bilgiler verilmiştir:

- Dilara Bilkent Üniversitesi'nden, Kerem Gazi Üniversitesi'nden, Mustafa Marmara Üniversitesi'nden gelmiştir.
- Ali ve Emre, aynı üniversiteden gelmiştir.
- Gül ve İbrahim, aynı üniversiteden gelmiştir.
- Berrin ve Lâle, Hacettepe Üniversitesi ya da ODTÜ'den gelmiştir ancak ikisinin geldiği üniversite birbirinden farklıdır.

**27. Bu bilgilere göre aşağıdakilerden hangisi kesinlikle doğrudur?**

- A) Emre, Hacettepe Üniversitesi'nden gelmiştir.
- B) Gül, Ankara Üniversitesi'nden gelmiştir.
- C) Havva, Bilkent Üniversitesi'nden gelmiştir.
- D) Lâle ve Fatma aynı üniversiteden gelmiştir.
- E) Cengiz ve Nevin farklı üniversitelerden gelmiştir.

**28. Bu bilgilere göre aşağıdakilerden hangisi kesinlikle yanlıştır?**

- A) Ali, Ankara Üniversitesi'nden gelmiştir.
- B) Nevin, Gazi Üniversitesi'nden gelmiştir.
- C) İbrahim, İstanbul Teknik Üniversitesi'nden gelmiştir.
- D) Havva ve Osman aynı üniversiteden gelmiştir.
- E) Gül ve Lâle farklı üniversitelerden gelmiştir.

29. Fatma'nın Marmara Üniversitesi'nden geldiği durumda, Havva hangi üniversiteden kesinlikle gelmiş olamaz?

- A) ODTÜ  
B) Gazi Üniversitesi  
C) İstanbul Teknik Üniversitesi  
D) Hacettepe Üniversitesi  
E) Bilkent Üniversitesi

30. Bu bilgilere göre aşağıdakilerden hangisi Gazi Üniversitesi'nden gelmiş olamaz?

- A) Emre                      B) Cengiz                      C) Fatma  
D) Havva                      E) Osman

31. Beşin katı olan ardışık 43 tane tek tam sayının toplamı 215 olduğuna göre bu sayıların en küçüğü kaçtır?

- A) -205                      B) -195                      C) -185  
D) -175                      E) -165

32.  $x, y, z$  birbirinden farklı pozitif tam sayılar olmak üzere

$$3x + 5y + 7z = 102$$

olduğuna göre,  $x + y + z$  toplamının en küçük değeri kaçtır?

- A) 19    B) 18    C) 17    D) 16    E) 15

33.  $1 < 2x - 1 < 17$

eşitsizliğini sağlayan kaç farklı  $x$  tam sayısı vardır?

- A) 4    B) 5    C) 6    D) 7    E) 8

34. Sayı doğrusundaki başlangıç noktası sıfır olmak üzere; 2 katının 5 fazlasının başlangıç noktasına uzaklığı 13 birim olan noktaların sayı değerleri toplamı kaçtır?

- A) -19    B) -18    C) -16    D) -14    E) -5



35. a, b, c reel sayılar olmak üzere,

$$2^a = 9$$

$$3^b = 125$$

$$5^c = 256$$

olduğuna göre  $a \cdot b \cdot c$  çarpımının sonucu kaçtır?

- A) 12 B) 18 C) 24 D) 36 E) 48

36. 
$$\frac{x}{2} + \frac{3}{x-5} = \frac{x}{3} + \frac{x-2}{x-5}$$

eşitliğini sağlayan x değeri kaçtır?

- A) 2 B) 3 C) 4 D) 6 E) 8

37. Bir demir çubuğu 4 eşit parçaya ayırmak 12 saniye sürerse, bu demir çubuğu 10 eş parçaya ayırmak kaç saniye sürer?

- A) 36 B) 33 C) 32 D) 30 E) 27

38. 
$$\frac{\sqrt{1,6 - 0,16}}{\sqrt{0,9 - 0,09}}$$

işleminin sonucu kaçtır?

- A)  $\frac{16}{9}$  B)  $\frac{4}{3}$  C) 1 D)  $\frac{3}{4}$  E)  $\frac{9}{16}$

39.  $x \neq 0$  olmak üzere,

$$\left(x - \frac{1}{x}\right)^2 - \left(x + \frac{1}{x}\right)^2$$

ifadesinin eşiti aşağıdakilerden hangisidir?

- A) 4x B) 4 C) x D) -4 E) -4x

40. Aralarında Turgut ve Esin'inde bulunduğu bir grupta Turgut'un erkek arkadaşlarının sayısının 2 katı bayan arkadaşlarının sayısından 3 fazladır.

Esin'in bayan arkadaşlarının sayısı erkek arkadaşlarının sayısından 11 fazladır.

Buna göre grupta toplam kaç kişi vardır?

- A) 34 B) 36 C) 38 D) 46 E) 48

41.  $x - y = y - z = 6$

olduğuna göre,

$$x^2 - 2y^2 + z^2$$

ifadesinin eşiti kaçtır?

- A) -12 B) 24 C) 36 D) 72 E) 108

42. Bir hastanenin dahiliye servisinde bir doktora 9 hasta ve bir hemşireye 7 hasta düşmektedir.

**Bu hastanenin dahiliye servisindeki doktor, hemşire ve hasta sayılarının toplamı 790 olduğuna göre, doktor sayısı kaçtır?**

- A) 70 B) 68 C) 63 D) 60 E) 51

43.  $ab$  ve  $ba$  iki basamaklı doğal sayılar olmak üzere, yaşları  $ab$  ve  $ba$  olan iki kişinin yaşları oranı  $\frac{8}{3}$  olduğuna göre, **bu iki kişinin yaşları toplamı kaçtır?**

- A) 87 B) 93 C) 99 D) 102 E) 104

44.



A ve B şehirlerinden aynı anda birbirlerine doğru şekildeki hızlarla hareket eden araçların 5 saat sonunda aralarındaki mesafe 30 km oluyor.

**Buna göre,  $|AB|$  en az kaç km dir?**

- A) 170 B) 180 C) 200 D) 210 E) 230

45. Satış fiyatı alış fiyatının  $\frac{5}{2}$  katı olan malın kâr yüzdesi kaçtır?

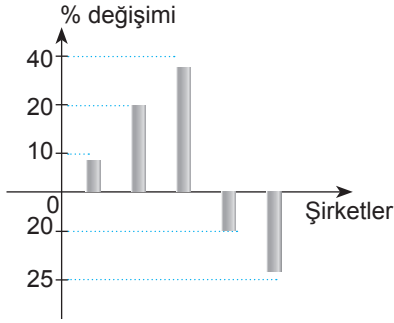
- A) 50 B) 100 C) 150 D) 200 E) 250

46. – 48. soruları aşağıdaki bilgiye göre cevaplandırınız.

Aşağıdaki tabloda X, Y, Z, K ve L şirketlerinin 2012 ve 2013 yıllarında yaptıkları kâr miktarları verilmiştir.

Şirketler	Yıllar	
	Kâr miktarı (₺)	
	2012	2013
X	400.000	300.000
Y	300.000	330.000
Z		480.000
K		280.000
L		480.000

Aşağıdaki sütun grafiğinde ise 2013 yılında yapılan kâr miktarlarının 2012 yılına göre yüzde olarak değişimi sıra gözetilmeksizin verilmiştir.



Bu şirketlerin kâr miktarlarıyla ilgili şu bilgiler bilinmektedir.

- 2013 yılında K ve Z şirketlerinin kâr miktarlarındaki artış 2012 yılına göre eşit miktardadır.
- 2013 yılında L şirketinin kâr miktarı 2012 yılına göre azalmıştır.

46. Buna göre, 2013 yılındaki kâr miktarı 2012 yılına göre %20 artış gösteren şirket hangisidir?

- A) X B) Y C) Z D) K E) L

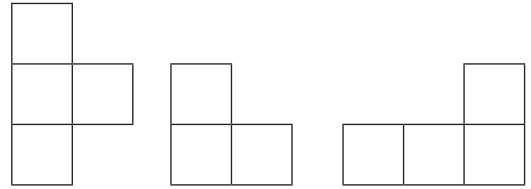
47. Buna göre, K şirketinin 2012 yılındaki kâr miktarı kaç liradır?

- A) 200.000 B) 240.000 C) 300.000  
D) 320.000 E) 360.000

48. Buna göre, 2012 yılında kâr miktarı en fazla olan şirket hangisidir?

- A) X B) Y C) Z D) K E) L

49. Aşağıda birim karelerden oluşmuş bir yapının farklı yönlerden görünümü verilmiştir.



Üstten  
görünüm

Önden  
görünüm

Sağdan  
görünüm

Buna göre bu yapı kaç birim küpten oluşmuştur?

- A) 11 B) 10 C) 8 D) 7 E) 5

50. Bir matematik öğretmenin sınıfında öğrencilerine yaptıracağı etkinlik aşağıda verilmiştir.

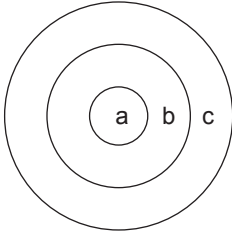
**ETKİNLİK:** Boyalı kısımlar

- Kağıdımızdan aynı genişlikte ve uzunlukta iki şerit keselim.
- İlk şeridimizin  $\frac{1}{4}$  ünü, ikinci şeridimizin  $\frac{2}{3}$  ünü boyayalım.
- İkinci şeridin boyanan kısmını kesip ilk şeridin boyanmayan kısmının üzerine yapıştıralım.
- Oluşan yeni modelin ilk şeridinin kaçta kaçının boyalı olduğunu bulunuz.

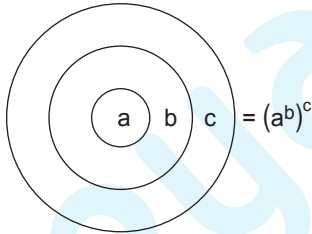
Buna göre, bu etkinliğin doğru cevabı kaçıdır?

- A)  $\frac{19}{24}$  B)  $\frac{5}{6}$  C)  $\frac{7}{8}$  D)  $\frac{11}{12}$  E)  $\frac{23}{24}$

51. a, b ve c birer pozitif tam sayı olmak üzere

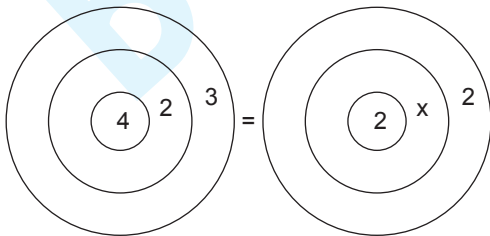


biçiminde verilen şekil



eşitliği ile tanımlanıyor.

Buna göre

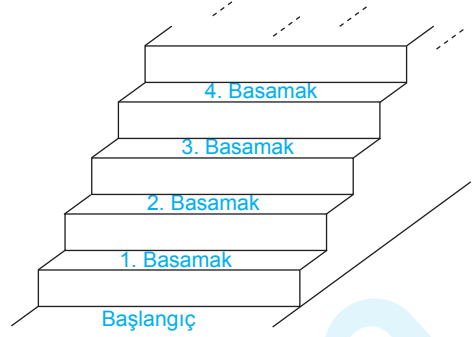


eşitliğinde x kaçtır?

- A) 4 B) 6 C) 8 D) 10 E) 12

52. – 53. soruları aşağıdaki bilgiye göre cevaplandırınız.

Ali, Özgür ve Cemil isimli çocukların oynadıkları bir oyun ile ilgili şunlar bilinmektedir:



- Yukarıdaki şekilde bir bölümü verilen merdiven 72 basamaktan oluşmaktadır.
- Ali bu merdiveni 2 şer 2 şer adımlayarak, Özgür 3 er 3 er adımlayarak, Cemil ise 4 er 4 er adımlayarak çıkmaktadır.
- Her çocuk merdivenin başlangıç noktasında başlayarak merdivenin son basamağına çıkmaktadır.

52. Aşağıdaki basamaklardan hangisine Ali bastığı halde Özgür basmamıştır?

- A) 12 B) 15 C) 21 D) 52 E) 60

53. Bu merdivende Özgür ve Ali'nin bastığı ancak Cemil'in basmadığı kaç basamak vardır?

- A) 4 B) 6 C) 10 D) 12 E) 16

**54. – 55. soruları aşağıdaki bilgiye göre cevaplandırınız.**

Bir vazoda 20 litre su vardır ve 7 kişi bu vazonun içine su ekleyecektir.

Bu yedi kişinin ekledikleri su miktarları ile ilgili aşağıdakiler bilinmektedir:

- Katılımcıların ekledikleri su miktarları litre cinsinden tam sayıdır ve birbirlerinden farklıdır.
- Bir önceki kişinin eklediği su miktarı bir sonraki kişinin eklediği su miktarından azdır.
- Su ekleyen kişilerin sırası ve ne kadar su ekledikleri aşağıdaki tabloda verilmiştir.

Su ekleme sırası	1.	2.	3.	4.	5.	6.	7.
Eklenen su miktarı (lt)	7	8	10	X	12	Y	Z

**54. Buna göre, bu yedi kişi su ekledikten sonra vazoda en az kaç litre su olur?**

- A) 92 B) 95 C) 97 D) 98 E) 100

**55. Ekleme işlemi sonunda vazoda 112 litre su oluştuğuna göre, Y en çok kaçtır?**

- A) 26 B) 24 C) 23 D) 21 E) 20

**56.**  $x = |\sqrt{2} - 1|$

$y = |x - 2|$

olduğuna göre,  $x + y$  toplamı kaçtır?

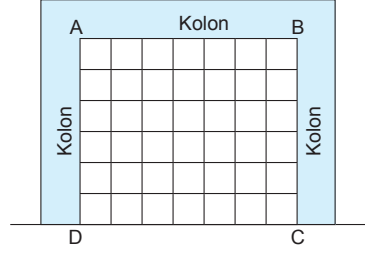
- A) 1 B)  $\sqrt{2}$  C) 2  
D)  $\sqrt{2} + 1$  E)  $3 - \sqrt{2}$

**57. Bir kümenin eleman sayısı 3 arttırıldığında alt küme sayısı 112 artmaktadır.**

**Buna göre bu küme kaç elemanlıdır?**

- A) 3 B) 4 C) 5 D) 6 E) 7

**58. Aşağıdaki şekil bir inşaatın üç kolonu arasındaki boş kısmın birim karelere bölünerek gösterilmiş planıdır.**



Bir duvarcı ustası elinde bulunan tanesi  $\text{₺}2$  değerindeki 3 birim kareden oluşan A tuğlası ile tanesi  $\text{₺}1,4$  olan 2 birim kareden oluşan B tuğlasını kullanarak ABCD dikdörtgen boşluğunu örecektir.



A tuğlası



B tuğlası

**Buna göre, duvarcı ustası ABCD duvarını en az kaç  $\text{₺}$ 'lik tuğla kullanarak örer?**

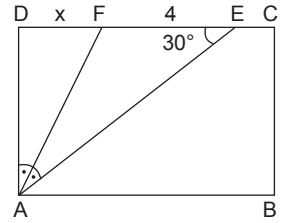
- A) 24 B) 28,2 C) 30,4 D) 32,2 E) 36

**59. ABCD dikdörtgen**

[AF] açıortay

$m(\widehat{DAF}) = m(\widehat{EAF})$

$m(\widehat{AED}) = 30^\circ$

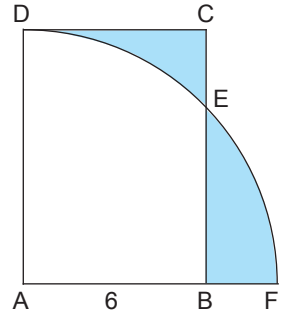


**[EF] = 4 cm olduğuna göre |DF| = x kaç cm dir?**

- A) 2 B)  $2\sqrt{3}$   
C)  $2\sqrt{3} - 2$  D)  $2\sqrt{3} + 2$   
E)  $2\sqrt{3} + 4$

**60. Şekilde ABCD dikdörtgen ve A merkezli çeyrek daire verilmiştir.**

**[AB] = 6 cm ve taraflı alanlar eşit olduğuna göre dairenin yarıçapı kaç cm dir?**



- A)  $\frac{36}{\pi}$  B)  $\frac{24}{\pi}$  C)  $\frac{12}{\pi}$  D)  $\frac{6}{\pi}$  E)  $\frac{4}{\pi}$

1. Bu testte 60 soru vardır.

2. Cevaplarınızı, cevap kâğıdının Genel Kültür Testi için ayrılan kısmına işaretleyiniz.

1. Aşağıda verilen destan-temsil ettiği topluluk veya devlet eşleştirmelerinden hangisi doğru değildir?

- A) Oğuz Kağan – Asya Hunları
- B) Göç – Uygurlar
- C) Bozkurt – Göktürkler
- D) Şu – Avarlar
- E) Manas – Kırgızlar

2. 840 – 1212 yılları arasında siyasi hayatını devam ettiren, “Hakaniler” olarak da bilinen, Balasagun’u merkez olarak kullanan batı kısmı Harzemşahlar tarafından yıkılan devlet aşağıdakilerden hangisidir?

- A) Gazneliler
- B) Karahanlılar
- C) İtil Bulgarları
- D) Büyük Selçuklu Devleti
- E) Eyyubiler

3. Anadolu Selçukluları Dönemi’ne ait Karatay Medresesi, Alaeddin Camii, II. Kılıç Arslan Türbesi gibi eserleri aşağıdaki şehirlerden hangisinde bulunmaktadır?

- A) Sivas
- B) Konya
- C) Erzurum
- D) Kayseri
- E) İznik

4. – Zaferin kazanıldığı 28 Eylül günü günümüzde “Donanma Günü” olarak kabul edilir.  
– Osmanlı–Haçlı deniz savaşıdır.

Yukarıda özellikleri verilen olay aşağıdakilerden hangisidir?

- A) İnebahtı Savaşı
- B) Preveze Savaşı
- C) Cerbe Savaşı
- D) Çirmen Savaşı
- E) Çalı Bey Savaşı

5. Aşağıdakilerden hangisi Osmanlı Devleti’nde eğitim faaliyetlerinde bulunan kurumlardan biri değildir?

- A) Medrese
- B) Mekkari
- C) Enderun
- D) Sıbyan
- E) Darülfünun

6. Osmanlı Devleti, mülkü devlete ait toprakları köylülere kiralarak elde ettiği gelirleri memurların maaşlarının karşılanmasında ve devlet adına “cebelü” denilen askerlerin yetiştirilmesinde kullanmıştır.

Bu duruma bağlı olarak aşağıdakilerden hangisinin “Dirlik Sistemi” denilen bu uygulamanın sağladığı faydalardan olduğu söylenemez?

- A) Vakıf kurumlarının giderlerinin karşılanması
- B) Tarımsal üretimin artması
- C) Memur maaşları için hazineден ayrılan payın azalması
- D) Güvenlik hizmetlerinin karşılanması
- E) Toprak mülkiyetine dayalı feodal düzenin oluşmasının engellenmesi

7. Avrupa'da aşağıdaki gelişmelerden hangisinin sonunda sanata ve bilime değer veren "Mesen" sınıfı oluşmuştur?
- A) Haçlı Seferleri  
B) Coğrafi Keşifler  
C) Reform Hareketleri  
D) Yüzyıl Savaşları  
E) Fransız İhtilali
8. Aşağıdakilerden hangisi III. Ahmet dönemi yenilik hareketlerinden biri değildir?
- A) Kütüphanecilik faaliyetlerinin hız kazanması  
B) Çiçek aşısının yapılması  
C) İtfaiye teşkilatının kurulması  
D) Mühendishane-i Bahri Hümayun'un açılması  
E) Avrupa'nın önemli başkentlerinde geçici elçiliklerin kurulması
9. Osmanlı Devleti'nde hukuk üstünlüğü ilkesinin benimsendiği Tanzimat Fermanı, aşağıdakilerden hangisinin öncülüğünde hazırlanmıştır?
- A) Mithat Paşa  
B) Mustafa Reşid Paşa  
C) Ahmet Vefik Paşa  
D) Alemdar Mustafa Paşa  
E) Said Halim Paşa
10. Aşağıdakilerden hangisi 1829 yılında, Osmanlı Devleti ile Rusya arasında imzalanan Edirne Antlaşması'nın hükümlerinden biri değildir?
- A) Prut Nehri sınır olarak esas alınacak  
B) Yunanistan bağımsız olacak  
C) Osmanlı, Rusya'ya savaş tazminatı ödeyecek  
D) Sırbistan özerk hale getirilecek  
E) Azak Kalesi yıkılmak şartıyla Rusya'ya bırakılacak
11. Osmanlı Devleti'nde mahkemelere ait kanunları ve yargı kararlarını yayınlamak amacıyla 1873'te padişahın isteğiyle çıkarılan gazete aşağıdakilerden hangisidir?
- A) Mecelle  
B) Ceride-i Mahakim  
C) Takvim-i Vekayi  
D) Tasvir-i Efkar  
E) Ceride-i Havadis
12. Osmanlı Devleti'nde yabancı uyruklulara bedeli ödenmek şartı ile taşınmaz mal edinme hakkının verilmesi aşağıdakilerden hangisiyle gerçekleşmiştir?
- A) Kanunname-i Ali Osman  
B) Mecelle  
C) Islahat Fermanı  
D) Sened-i İttifak  
E) Vilayet Nizamnamesi

13. Aşağıdakilerden hangisi Osmanlı Devleti'nin I. Dünya Savaşı'nda Kafkas Cephesi'ni açma gerekçelerinden biri değildir?

- A) Turancılık fikrini gerçekleştirmek
- B) Gizli antlaşmaların yürürlüğe girmesini engellemek
- C) Kars, Ardahan ve Batum'u geri almak
- D) Bakü petrollerine hakim olmak
- E) İngilizlerin, sömürgeleri üzerindeki hakimiyetini zayıflatmak

14. Havza Genelgesi ile resmi görevinin dışına çıkan Mustafa Kemal, İstanbul Hükümeti tarafından geri çağırılmasına rağmen, bu çağrıya uymamış, işi haberleşmeye dökerek zaman kazanmıştır.

Mustafa Kemal'in bu tutumundaki temel amaç aşağıdakilerden hangisidir?

- A) İstanbul Hükümeti'nde sadrazam değişikliğini sağlamak
- B) Kendisine verilen geniş yetkileri Milli Mücadele için kullanabilmek
- C) Askeri vazifelerini devam ettirmek
- D) İstanbul Hükümeti'nde Harbiye Nazırlığı görevine sahip olmak
- E) Padişahın desteğini sağlamak

15. Batı Cephesi'nde Yunanlara karşı,

- I. Kazım Karabekir Paşa,
- II. Refet Paşa,
- III. İsmet Paşa

devlet adamlarından hangileri komutanlık görevinde bulunmuştur?

- A) Yalnız I
- B) Yalnız II
- C) Yalnız III
- D) II ve III
- E) I, II ve III

16. Türkiye, Lozan Antlaşması'nda: "Boğazlar konusunda belirlenen esaslar ihlâl edildiği takdirde anlaşmayı imzalayan devletler, başta İngiltere, Fransa ve Japonya olmak üzere Milletler Cemiyeti'nin karar vereceği bütün vasıtalarla harekete geçecektir" maddesini kabul etmiştir.

**Bu bilgiye dayanarak,**

I. Boğazlar konusunda Milletler Cemiyeti garantörlük hakkına sahiptir.

II. Türkiye, boğazlar üzerinde tek egemen güç değildir.

III. Boğazların idaresi güvence altına alınmak istenmiştir.

**yargılarından hangilerine ulaşmak mümkündür?**

- A) Yalnız I
- B) Yalnız II
- C) I ve II
- D) II ve III
- E) I, II ve III

17. Aşağıdakilerden hangisi Tevhid-i Tedrisat Kanunu'nun kapsamında değildir?

- A) Azınlık ve yabancı okullar üzerinde devlet denetiminin artması
- B) Tüm eğitim kurumlarının Milli Eğitim Bakanlığı'na bağlanması
- C) Yüksek din uzmanı yetiştirmek amacıyla "İlahiyat Fakültesi"nin kurulması
- D) Şeriye bütçesinde medreseler için ayrılan ödeneğin Milli Eğitim Bakanlığı'na tahsis edilmesi
- E) Eğitim ve öğretim faaliyetlerinde latin harflerinin kullanılması

18. Cumhuriyetin ilanı aşağıdakilerden hangisine ait bir düzenleme getirmemiştir?

- A) Hükümet kurulma şekli
- B) Cumhurbaşkanı seçilmesi
- C) Başbakanın belirlenmesi
- D) Yönetim şeklinin saptanması
- E) Başkent belirlenmesi



19. Toplumda ayrıcalıklı bir yapı oluşmasını engellemeye yönelik faaliyetler arasında aşağıdakilerden hangisi yer almaz?

- A) Unvan ve lakapların kaldırılması
- B) Soyadı Kanunu'nun kabul edilmesi
- C) Tekke, zaviye ve türbelerin kapatılması
- D) Medeni Kanun'un kabul edilmesi
- E) Takvimdeki ikili uygulamalara son verilmesi

20. Atatürk'ün "Milli servetin dağıtımında daha mükemmel bir adalet ve emek sarf edenlerin daha yüksek refaha ulaşması milli birliğin muhafazası için şarttır" **sözleri**,

- I. ulusal dayanışmanın sağlanmasında adaletli gelir dağılımının önemi,
  - II. ülke kaynaklarının halka dengeli şekilde paylaşılmasının gerekliliği,
  - III. üretim araçlarında özel mülkiyetin sınırlı olması
- düşüncelerinden hangilerinin benimsendiğini gösterir?**

- A) Yalnız I
- B) Yalnız II
- C) I ve II
- D) I ve III
- E) I, II ve III

21. Atatürk'ün, "Bence bizim milletimizin, birbirinden çok farklı yararlar izleyecek ve böylece birbiriyle uğraşacak çeşitli sınıfları yoktur. Var olan sınıflar birbirinin tamamlayıcısıdır." **sözleri Türk ulusunun aşağıdaki özelliklerden hangisini taşıdığını göstermez?**

- A) Zümre ayrımını reddetme
- B) Ortak ideallere sahip olma
- C) Amaç birlikteliği içinde bulunma
- D) Bağımsızlıkçı anlayışı benimseme
- E) Birlik ve beraberlik içinde hareket etme

22. Aşağıdaki kurumlardan hangisi Atatürk Dönemi'nde açılmamıştır?

- A) İstanbul Üniversitesi
- B) Anayasa Mahkemesi
- C) İş Bankası
- D) Türk Hava Kurumu
- E) Resim ve Heykel Müzesi

23. 1924 Anayasası'nda yer alan "Devletin dini İslamdır." maddesi 1928 yılında yapılan değişiklik ile anayasadan çıkarılmıştır.

**Bu değişikliğin,**

- I. laiklik,
- II. devletçilik,
- III. milliyetçilik

**ilkelerinden hangileriyle ilgili olduğu söylenebilir?**

- A) Yalnız I
- B) Yalnız II
- C) I ve II
- D) I ve III
- E) I, II ve III

24. Türkiye'nin Montrö Boğazlar Sözleşmesi'yle boğazlar bölgesini silahlandırmayı istemesinde aşağıdakilerden hangisi etkili olmuştur?

- A) Rusya'da Bolşevik Devrim'in olması
- B) Fransa'nın, Hatay'daki mandaterliğini kaldırması
- C) İtalya'nın, Habeşistan'ı işgal ederek On İki Ada'yı silahlandırması
- D) Musul'un, Ankara Antlaşması ile İngiltere mandaterliğindeki Irak'a bırakılması
- E) Almanya'nın, II.Dünya Savaşı'ndan mağlup ayrılması

25. Hindistan'daki baskı, şiddet ve ayrımcı politikalara karşı halkı örgütleyerek, sömürgeci İngiliz yönetimine karşı protesto hareketlerini başlatan lider aşağıdakilerden hangisidir?

- A) Nelson Mandela
- B) Mahatma Gandhi
- C) Şerif Hüseyin
- D) Muhammet Ali Cinnah
- E) Nehru

26. Aşağıdakilerden hangisi Sovyet Sosyalist Cumhuriyetler Birliği'nin dağılmasının sonuçlarından biri değildir?

- A) Türk Cumhuriyetlerinin bağımsızlıklarını kazanması
- B) Rusya'da serbest piyasa ekonomisinin güçlenmesi
- C) Varşova Pakti'nin dağılması
- D) Amerika Birleşik Devletleri'nin dünya siyasetindeki gücünün artması
- E) NATO'nun kurulması

27. Aşağıdakilerden hangisi Adnan Menderes Dönemi (1950-1960) gelişmelerinden biri değildir?

- A) Devlet Planlama Teşkilatı'nın kurulması
- B) Köy Enstitülerinin kapatılması
- C) Kore'ye Türk askerinin gönderilmesi
- D) Türkiye, İngiltere, İran, Irak ve Pakistan'ın katılımıyla Bağdat Pakti'nin oluşturulması
- E) Türkiye'nin Kuzey Atlantik Pakti'na üye olması

28. Aşağıdakilerden hangisi Türkiye'nin göreceli konumuyla açıklanamaz?

- A) Artvin'in kış sıcaklık ortalamasının Erzurum'dan fazla olması
- B) Erzurum ve Kars çevresinde çayır ot forasyonlarının gelişmesi
- C) Kış mevsiminde İstanbul'da sıcaklığın Ankara'dan daha yüksek olması
- D) Antalya ve Mersin şehirlerinin Ekvator ile arasında yaklaşık 35°'lik enlem farkının bulunması
- E) İzmir'deki tarım üst sınırı ile Van'daki tarım üst sınırının aynı olmaması

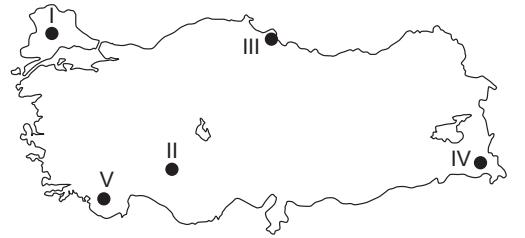
29. Gediz, Bakırçay, Küçük ve Büyük Menderes akarsularından ulaşımda yararlanılamaması,

- I. boylarının kısa olması,
- II. rejimlerinin düzensiz olması,
- III. yatak eğimlerinin azlığı,
- IV. doğudan batıya doğru akmaları

etmenlerinden hangilerine bağlanabilir?

- A) Yalnız I
- B) Yalnız II
- C) II ve III
- D) III ve IV
- E) I, II ve IV

30. Aşağıdaki haritada beş ova numaralandırılarak koyu renkle gösterilmiştir.



Bu ovalar ile ilgili aşağıdaki bilgilerden hangisi doğru değildir?

- A) V numaralı ova karstik oluşumludur.
- B) IV numaralı ovanın yüksekliği yaklaşık 2000 m'dir.
- C) III numaralı ova bir delta ovasıdır.
- D) II numaralı ova en fazla tahıl tarımı yapılır.
- E) I numaralı ova bol yağışlı olduğu için pirinç tarımı yoğun olarak yapılır.

31. Türkiye'de bulunan kıvrım dağları genelde doğu – batı yönünde uzanmaktadır.

**Bu durum aşağıdakilerden hangisi üzerinde etkili olmamıştır?**

- A) Kuzey – güney yönünde kara yolu yapım maliyetinin yükselmesinde  
 B) Yükseltinin doğuya doğru artmasında  
 C) Demir yollarının genelde doğu – batı yönünde uzanmasında  
 D) Toroslar'ın güney yamaçlarında yağışların daha fazla olmasında  
 E) Karadeniz kıyılarında denizel iklimin etki alanının dar olmasında

32. Kuzey Yarım Küre'de, Yengeç Dönencesi'nin kuzeyinde dağların kuzeye bakan yamaçları daha az güneşli iken, güney yamaçları daha aydınlık ve sıcaktır.

**Aşağıdakilerden hangisi, yukarıdaki durumun ortaya çıkardığı bir sonuçtur?**

- A) Kuzey Anadolu Dağları'nın kuzey yamaçlarında nüfus ve yerleşmenin daha yoğun olması  
 B) Kış mevsiminde Antalya'nın kuzey yamaçlarında fön rüzgârı oluşması  
 C) Ege kıyılarındaki dağlarda yamaç yağışlarının, Toroslar'dan daha az oluşması  
 D) Toros Dağları'nın kuzey yamacındaki orman üst sınırının, güney yamaçtan daha aşağıda olması  
 E) Toros Dağları'nın güney yamaçlarında orografik yağışların görülmesi

33. Aşağıdaki tabloda, Türkiye'den seçilmiş bazı illerin 2011 yılı toplam nüfusları, aldıkları göç, verdikleri göç ve net göç rakamları verilmiştir.

İLLER	Toplam Nüfus	Aldığı Göç	Verdiği Göç	Net Göç
Ankara	4.890.893	191.864	137.385	54.479
Van	1.022.532	23.415	72.273	-48.858
İstanbul	13.624.240	450.445	328.663	121.782
Trabzon	757.353	24.858	38.446	-13.588
Antalya	2.043.482	89.731	62.875	26.856

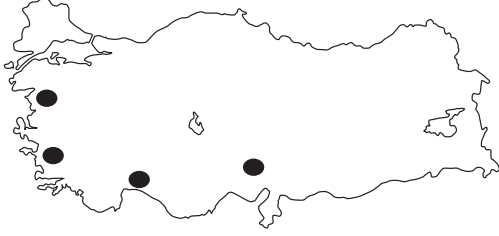
**Tablodaki bilgilerden faydalanarak aşağıdakilerden hangisi söylenemez?**

- A) Trabzon'un nüfusu bir önceki yıla göre azalmıştır.  
 B) En fazla sayıda göç alan il İstanbul'dur.  
 C) Net göçün, toplam nüfusa katkısının en yüksek oranda olduğu il Antalya'dır.  
 D) En fazla sayıda net göç veren il Van'dır.  
 E) Ankara, İstanbul'dan daha az sayıda göç vermiştir.

34. Aşağıdakilerden hangisi, Türkiye'de bulunan kırsal yerleşmelerin özelliklerinden değildir?

- A) Temel geçim kaynağı tarımdır.  
 B) Bazı yerleşmelerde idari teşkilat vardır.  
 C) Gerçek nüfus artış hızı yüksektir.  
 D) Nüfusları şehirlere göre daha azdır.  
 E) Doğum oranları, şehirlere göre fazladır.

35. Aşağıdaki haritada, koyu renkle bir doğal afetin en fazla görüldüğü alanlar gösterilmiştir.



Aşağıda verilen doğal afetlerden hangisinin bu alanlarda sık sık görülmesi, bu yörelerin iklim ve bitki örtüsü özelliklerinden kaynaklanmaktadır?

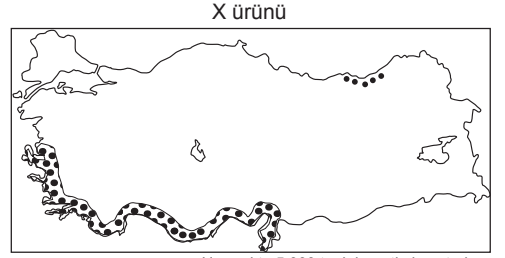
- A) Sel ve taşkın  
B) Depremler  
C) Heyelan  
D) Orman yangını  
E) Çiğ düşmesi

36. I. Bolu çevresinde yapılan kümes hayvancılığı  
II. Yozgat çevresinde yapılan küçükbaş mera hayvancılığı  
III. Kars çevresinde yapılan büyükbaş mera hayvancılığı  
IV. Antalya çevresinde mera hayvancılığı şeklinde yapılan kıl keçisi yetiştiriciliği  
V. Tekirdağ çevresinde ahır hayvancılığı şeklinde yapılan sığır yetiştiriciliği

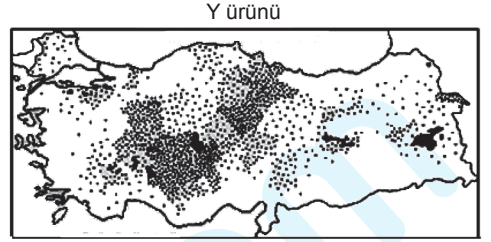
Bu yörelerden hangilerinde yapılan hayvancılık faaliyetleri, yörenin iklim ve bitki örtüsü ile paralellik göstermez?

- A) I ve II  
B) II ve III  
C) IV ve V  
D) I ve V  
E) III ve IV

37. Aşağıda Türkiye'de tarımı yapılan iki ürüne ait dağılış haritaları verilmiştir.



Her nokta 5 000 tonluk üretimi gösteriyor



Her nokta 10 000 tonluk üretimi gösteriyor

Haritalarda gösterilen ürünlerin, aşağıdakilerden hangisinde doğru olarak verildiğini söyleyebiliriz?

- | X ürünü         | Y ürünü       |
|-----------------|---------------|
| A) Zeytin       | Buğday        |
| B) Turunçgiller | Şeker pancarı |
| C) Pamuk        | Tütün         |
| D) İncir        | Arpa          |
| E) Yer fıstığı  | Mercimek      |

38. Türkiye'nin tarımsal faaliyetleri ile ilgili olarak aşağıda verilen bilgilerden hangisi doğru değildir?

- A) Tarımsal faaliyetler, önemli bir istihdam alanı oluşturmaktadır.  
B) Sulama yapılan alanların miktarı her geçen yıl artmaktadır.  
C) Tarımda çalışan nüfus oranında son yıllarda artma olduğu için tarımsal üretim de artmıştır.  
D) Tarımdan elde edilen birçok ürün sanayide ham madde olarak kullanılmaktadır.  
E) Modern tarım yöntemleri gittikçe artmaktadır.

39. I. Hazır giyim  
II. Çimento  
III. İlaç  
IV. Optik aletler  
V. Un ve unlu mamuller  
VI. Kâğıt

**Türkiye'nin yukarıda verilen ürünlerden hangilerinde dış alım, hangilerinde dış satımı daha fazladır?**

	Dış alım	Dış satım
A)	I, II, III	IV, V, VI
B)	I, III, V	II, IV, VI
C)	VI, V, IV	III, II, I
D)	II, IV, V	I, III, VI
E)	III, IV, VI	I, II, V

40. Türkiye'de bulunan aşağıdaki tesislerden hangisinin **tamamı**, kullandığı enerji kaynağının yanında kurulmuştur?

- A) Demir-çelik fabrikaları  
B) Bakır işletmeleri  
C) Hidroelektrik santraller  
D) Termik santraller  
E) Petrol rafinerileri

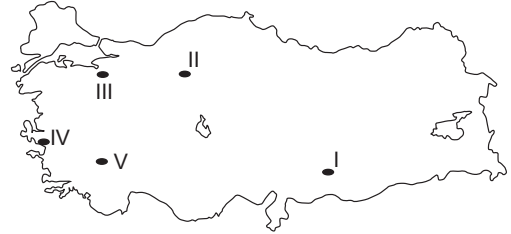
41. Antalya ili sınırlarında, aşağıdaki turizm etkinliklerinden hangisi için gerekli olan potansiyel değerlerine göre **daha azdır?**

- A) Termal turizm yapılacak kaplıca  
B) Yayla turizmi yapılacak dağ  
C) Golf turizmi yapılacak alan  
D) Rafting yapılacak akarsu  
E) Deniz turizmi yapılacak plaj

42. İstanbul - Kocaeli çevresinde endüstri kuruluşlarının fazla olması, aşağıdakilerden hangisinin de fazla olmasına neden **olmamıştır?**

- A) Sanayide çalışanların oranının  
B) Ham madde üretiminin  
C) Bölgenin aldığı iç göç miktarının  
D) Enerji tüketiminin  
E) Çevre kirliliğinin

43. Aşağıdaki haritada bazı alanlar numaralandırılarak koyu renkle gösterilmiştir.



**Bu alanlarda bulunan enerji santrallerinin kullandığı enerji kaynağı, aşağıdakilerden hangisinde doğru olarak verilmiştir?**

	Doğal gaz	Linyit	Akarsu	Buhar	Rüzgâr
A)	III	I	II	IV	V
B)	II	III	IV	I	V
C)	I	IV	V	III	II
D)	III	II	I	V	IV
E)	IV	V	III	II	I

44. Aşağıdaki tabloda, bölgesel kalkınma projeleri kapsamında yer alan K, L, M şehirleri işaretlenmiştir.

	K	L	M
Doğu Anadolu Projesi	X		
Doğu Karadeniz Projesi			X
Güneydoğu Anadolu Projesi		X	

Buna göre, K, L, M şehirleri aşağıdakilerden hangisinde doğru olarak verilmiştir?

- | K            | L             | M       |
|--------------|---------------|---------|
| A) Elazığ    | Mardin        | Bayburt |
| B) Ardahan   | Kahramanmaraş | Trabzon |
| C) Gümüşhane | Gaziantep     | Rize    |
| D) Erzurum   | Şanlıurfa     | Çorum   |
| E) Hakkâri   | Malatya       | Sinop   |

45. I. Antalya'da bulunan ferro krom işletmesi  
 II. Seydişehir'de bulunan alüminyum işletmesi  
 III. Adana'da bulunan tekstil işletmeleri  
 IV. Mersin'de bulunan petrol rafinerisi  
 V. İskenderun'da bulunan demir-çelik fabrikası

Yukarıda verilen tesislerden hangilerinin kurulmasında, limanların varlığı etkili olmuştur?

- A) I ve II      B) III ve IV      C) I, II ve III  
 D) II, IV ve V      E) I, IV ve V

46. Hukuk düzeni tarafından kendilerine hukuki sonuç bağlanan ve belli bir sonuca yönelen irade açıklamaları aşağıdakilerden hangisidir?

- A) Hukuki olay      B) Haksız fiil  
 C) Hukuki fiil      D) Hukuki işlem  
 E) Hukuki sonuç

47. Borçlar Hukuku ile ilgili aşağıdaki ifadelerden hangisi yanlıştır?

- A) Kişi borcunu ödememekten dolayı şahıs varlığı ile sorumlu tutulamaz.  
 B) Taraflar özel borç ilişkilerini hukuk düzeni sınırları içerisinde serbestçe düzenleyebilirler.  
 C) Bir kişi haksız fiilden dolayı karşı tarafa borçlanabilir.  
 D) Borçlar zamanaşımına uğramazlar.  
 E) Eski borç, yeni borç yaratmak suretiyle ortadan kaldırılabilir.

48. Kişinin, iradesinden ve davranışlarından bağımsız olarak, haklara ve borçlara sahip olabileme yeteneğini ifade eden kavram aşağıdakilerden hangisidir?

- A) Hak ehliyeti      B) Erginlik  
 C) Fiil ehliyeti      D) Kısıtlı olmamak  
 E) Tam ehliyetli

49. Anayasanın üstünlüğü ilkesi, ilk defa aşağıdaki anayasalardan hangisi ile benimsenmiştir?

- A) 1876 Kanuni Esasi
- B) 1921 Teşkilatı Esasiye Kanunu
- C) 1924 Anayasası
- D) 1961 Anayasası
- E) 1982 Anayasası

50. I. Siyasi partiler en az 30 gerçek kişiyle kurulurlar.  
II. Temelli kaptılan bir parti bir başka ad altında kurulamaz.  
III. Siyasi partiler ticari faaliyete girişemezler.  
IV. Son yapılan milletvekili seçimlerinde geçerli oyların %7'sini alan siyasi partilere devlet yardımı yapılır.

**Siyasi partilerle ilgili yukarıdaki ifadelerden hangisi yanlıştır?**

- A) Yalnız I
- B) Yalnız IV
- C) I ve IV
- D) II ve III
- E) I, II, III ve IV

51. Aşağıdakilerden hangisi, TBMM çalışmalarında vekâleten oy kullanabilir?

- A) Cumhurbaşkanı
- B) Bakanlar
- C) TBMM Başkanı
- D) Milletvekilleri
- E) Milletvekili olmayan bakanlar

52. Milli güvenliğin sağlanmasından ve silahlı kuvvetlerin yurt savunmasına hazırlanmasından sorumlu olan aşağıdakilerden hangisidir?

- A) Cumhurbaşkanı
- B) TBMM
- C) Bakanlar Kurulu
- D) Genel Kurmay Başkanlığı
- E) Milli Güvenlik Kurulu

53. 1982 Anayasası'na göre, askeri mahkemelerden verilen karar ve hükümlerin son inceleme mercii olan kurum aşağıdakilerden hangisidir?

- A) Askeri Yüksek İdare Mahkemesi
- B) Askeri Yargıtay
- C) Uyuşmazlık Mahkemesi
- D) Anayasa Mahkemesi
- E) Yargıtay

54. I. İl özel idaresi  
II. Belediye  
III. İlçe idaresi

**Yukarıdaki idari kuruluşlardan hangilerinin karar organları seçmenler tarafından seçilerek oluşturulur?**

- A) Yalnız I
- B) Yalnız III
- C) I ve II
- D) I ve III
- E) I, II ve III

55. Hacı Halife ismiyle de bilinen tarih, coğrafya, bibliyografya alanlarında çalışmalar yapmış olan ve "Cihannüma" isimli meşhur coğrafya ansiklopedisi İbrahim Müteferrika tarafından basılan Türk-Osmanlı bilim adamı ve aydını aşağıdakilerden hangisidir?

- A) Kâtip Çelebi
- B) Evliya Çelebi
- C) Piri Reis
- D) Ali Kuşçu
- E) Seydi Ali Reis

56. Dünyanın önde gelen sanayileşmiş ve gelişmekte olan ülkelerini bir araya getiren "G20 Liderler Zirvesi" aşağıdaki yıllardan hangisinde Türkiye'de toplanmıştır?

- A) 2013
- B) 2014
- C) 2015
- D) 2011
- E) 2012

57. 2016 yılında TBMM Genel Kurulu tarafından Kamu Başdenetçiliğine aşağıdakilerden hangisi seçilmiştir?

- A) Şeref Malkoç
- B) İbrahim Kalın
- C) Mehmet Nihat Ömeroğlu
- D) Mehmet Ali Akben
- E) Murat Çetinkaya

58. 2013 yılından bu yana Ankara'da Rus Büyükelçiliği görevini yürüten ve Aralık 2016'da uğradığı silahlı saldırıda yaşamını yitiren Rus diplomat aşağıdakilerden hangisidir?

- A) Aleksandr İzvolski
- B) Dmitri Peskov
- C) Nikolay Repnin
- D) Andrey Karlov
- E) Fyodar Alekseyeciç Golovin

59. I. Evliya Çelebi Seyahatnamesi  
II. İbn-i Sina Yazmaları Koleksiyonu  
III. Boğazköy Hitit Tabletleri

Yukarıdakilerden hangileri UNESCO Dünya Kültür Mirası içerisinde yer alan eserlerimizdendir?

- A) Yalnız I
- B) Yalnız III
- C) I ve II
- D) I ve III
- E) I, II ve III

60. 2017 yılında "İslam Dünyası Turizm Başkenti" ünvanını Konya'da devralacak şehir aşağıdakilerden hangisidir?

- A) Kazan
- B) Tebriz
- C) Medine
- D) Kudüs
- E) Bursa