

AÇIKLAMALAR

1. Bu kitapçıkta Kamu Personel Seçme Sınavı Genel Yetenek Testi ve Genel Kültür Testi bulunmaktadır.
2. Bu testler için verilen **toplam** cevaplama süresi **130 dakikadır (2 saat, 10 dakika)**.
3. Genel Yetenek Testi ve Genel Kültür Testinin her birinde **60 soru** vardır.
4. Cevaplamaya istediğiniz sorudan başlayabilirsiniz. Her soru ile ilgili cevabınızı, cevap kâğıdında o soru için ayrılmış olan yere işaretlemeyi unutmayınız.
5. Testler puanlanırken her testteki doğru cevaplarınızın sayısından yanlış cevaplarınızın sayısının dörtte biri düşülecek ve kalan sayı o testle ilgili ham puanınız olacaktır.

2017 – KPSS / GY

GENEL YETENEK

 Beyaz Kalem

1. Bu testte 60 soru vardır.
2. Cevaplarınızı, cevap kâğıdının Genel Yetenek Testi için ayrılan kısmına işaretleyiniz.

1. Cengiz Han ve Emir Timur, iki asra yakın ara ile tarihe hükmetmiş iki büyük cihangirdir. Tabii bir görüşe göre de iki büyük barbar.

Bu parçada geçen "tarihe hükmetmek" sözüyle anlatılmak istenen aşağıdakilerden hangisidir?

- A) Çok eskiden geçerli olmak
- B) Geçmişte etkin bir durumda bulunmak
- C) Yeni bir çağ açacak olaylar başlatmak
- D) Dilediğini yapabilecek kadar güç elde etmek
- E) Yargılayıp karar verecek konumda yer almak

2. 23 Ekim 2011'de meydana gelen Van depreminin moment ---- 7,2 olarak belirtildi. Bu depremin merkez üssü Tabanlı köyü yakınlarıydı ve depremin merkez üssü Erciş'e ve Van'a yaklaşık olarak aynı mesafede olmasına ---- Erciş'te meydana gelen hasar ve can kaybı çok daha ---- oldu.

Bu parçada boş bırakılan yerlere sırasıyla aşağıdakilerden hangileri getirilmelidir?

- A) çapı – bakılarak – yıkıcı
- B) uzunluğu – rağmen – etkili
- C) büyüklüğü – karşın – yüksek
- D) değeri – dayanılarak – zorlu
- E) uzantısı – göre – tesirli

3. **Aşağıdaki cümlelerin hangisinde altı çizili sözcük ayraç içinde verilenle anlamca uyusmamaktadır?**

- A) Bizi İçten yıkmak için her yolu denediler(en önemli noktadan).
- B) Şairlik damarı tuttu yine bizimkinin (huy, mi-zaç).
- C) Kaynattığı sütten bir kase kaymak çıkması (elde edilmek).
- D) Mavinin başka tonlarını da kullanmış çalışmasında (değişik, farklı).
- E) İçinin ateşi yıllar geçmesine rağmen hiç sönmemiş (coşkunluk).

4. Teknolojik cihazların çoğu belirli aralıklarla değiştirileceği düşünülerek üretiliyor, bu da sağlam cihazların birer elektronik çöp olmasına yol açıyor.

Bu cümleden aşağıdakilerin hangisine kesin olarak ulaşılabılır?

- A) Yeni model teknolojik cihazlar öncekilerden daha pahalı satılıyor.
- B) Eski model teknolojik cihazlar bir süre daha kullanılmalıdır.
- C) Yeni model teknolojik cihazlar öncekileri işlevsiz kılıyor.
- D) Eski model teknolojik cihazlar kullanmak isteyenlere verilerek değerlendirilebilir.
- E) Yeni model teknolojik cihazların üretilme aşaması üreticiler için zor bir süreçtir.

5. (I) Gece bitiyor ve serin bir yaz şafağı söküyor usulca. (II) Birazdan sihirli bir el değmiş gibi uyanacak şehir. (III) Yeniden başlamanın sevinci alıp yürüyecek. (IV) Taze bir günün ilk ışıklarıyla dirilecek her şey. (V) İlk kuşlar yuvalarını terk edecek, ilk çocuk ağlayacak.

Bu parçadaki numaralanmış cümlelerin hangisinde ad aktarması yapılmıştır?

- A) I B) II C) III D) IV E) V

6. (I) Türklerde ilk gemi ve gemicilik çalışmaları, Türklerin Anadolu'yu fethetmeleri ve yurt edinmeleri ile başlar. (II) Anadolu Selçukluları zamanında deniz sahillerine ulaşan devlet sınırlarını korumak ve ticareti geliştirmek için denizcilik, gemi ve gemi faaliyetlerini de yanında getirmiştir. (III) Bu dönemde sahip olunan gemiler hakkında ayrıntılı bilgiler yoktur. (IV) Bunların çağlarına uygun yelkenli ve kürekli küçük tekneler olduğu sanılmaktadır. (V) Anadolu'daki çeşitli beyliklerin ufak teknelerden oluşan bazı deniz kuvvetlerinin varlığını, çeşitli kaynaklar yazmaktadır.

Türklerdeki ilk gemicilik faaliyetlerine ilişkin bu parçadaki numaralanmış cümlelerle ilgili aşağıdakilerden hangisi yanlıştır?

- A) I. cümlede, ilk kez ne zaman başladığına değiniliyor.
B) II. cümlede, bir koşul dile getiriliyor.
C) III. cümlede, yeterli bilgi olmadığından bahsediliyor.
D) IV. cümlede, bir tahminden söz ediliyor.
E) V. cümlede, bir kesinliğe yer veriliyor.

7. (I) "Kıtaların buluştuğu yerde buluşalım." sloganı ile olimpiyatlara aday olan İstanbul, gerçek bir Avrupa şehri. (II) Bugün Moskova ile beraber 10 milyon nüfusun üzerinde yaşadığı iki Avrupalı şehirden biri. (III) Yarısı Avrupa, yarısı Asya kıtasında yer alan başka bir şehri dünya üzerinde görmek tamamen imkânsız. (IV) Bu çift kimlikliliği sokak aralarında görmek de mümkün. (V) Bir tarafta modern gökdelenler, iş ve alışveriş merkezleri; bir tarafta ise sizi Bizans ve Osmanlı dönemlerine götüren yapılar, eski mahalleler, evler...

İstanbul'u konu alan bu parçadaki numaralanmış cümlelerle ilgili olarak aşağıdakilerden hangisi yanlıştır?

- A) I'ncide, olimpiyatlara hazırlanırken kullandığı slogan belirtilmiştir.
B) II'ncide, karşılaştırma yolu ile üstün bir özelliğinden bahsedilmiştir.
C) III'üncüde, şehirle ilgili nesnel bir bilgiye yer verilmiştir.
D) IV'üncüde, bir gereklilikten söz edilmiştir.
E) V'incide, bir önceki cümlede belirtilen durum örneklendirilmiştir.

8. I. İnsanoğlu ilk olarak, büyük atomları daha küçük atomlara bölerek açığa çıkan enerjiyi keşfetmiş, bunu atom bombası ve nükleer reaktörlerde temel çalışma prensibi olarak kullanmıştır.

II. Bu olaya "füzyon tepkimesi" denir.

III. Ancak küçük atomların birleşip daha büyük atom oluşturdukları tepkimede, bölünme tepkimesi sonucunda açığa çıkandan çok daha büyük bir enerjinin açığa çıktığı tespit edilmiştir.

IV. Bu kütle kaybı açığa çıkan enerjiye dönüşen madde miktarıdır ve büyüklüğü mc^2 denklemiyle hesaplanır.

V. Örneğin dört hidrojen atomu birleşip bir helyum atomu oluşturduğunda oluşan helyumun ağırlığı, dört hidrojen atomunun toplam ağırlığından azdır.

Yukarıdaki numaralandırılmış cümleler anlamlı bir bütün oluşturacak biçimde sıralandığında hangisi sonuncu cümle olur?

- A) I B) II C) III D) IV E) V

9. I. Duyma ya da görme kaybı söz konusu olduğunda insanlar korkunç bir duruma karşı karşıya kaldıklarını düşünüyor.
- II. Ancak koku alma yeteneğinin kaybı söz konusu olduğunda bazen bunun farkında bile olmuyorlar ya da bunu önemsemiyorlar.
- III. Oysa koku alma duyusunun azalması ya da tamamen kaybolması bazı hastalıkların ya da sağlık problemlerinin habercisi.
- IV. Üstelik bu bozukluğa sahip pek çok kişi tıbbi yardım alma ihtiyacı bile hissetmiyor.
- V. Her şeyden önce koku duyumuz bir erken uyarı sistemi olarak görev yapıyor.

Yukarıdaki numaralandırılmış cümlelerin anlamlı bir bütün oluşturabilmesi için hangileri yer değiştirmelidir?

- A) II ile III B) II ile IV C) III ile IV
D) III ile V E) IV ile V

10. (I) Tarih öncesi zamanlardan bu yana çeşitli doğa olayları sonucunda birçok canlı türünün soyu tükeni. (II) Bu açıdan bakıldığında bir canlının soyunun tükenmesi doğal karşılanabilir. (III) Günümüzdeki sorun, bu tükenişin hızının çok artmasıyla ilgili. (IV) Bilim insanları türlerin yok olma hızının, son 10.000 yıllık periyottaki herhangi bir zaman diliminden 100-1000 kat daha hızlı olduğunu düşünüyor. (V) Küresel ısınma bütün canlıları olduğu kadar özellikle hayvanları olumsuz etkileyecektir.

Bu parçadaki numaralanmış cümlelerden hangisi, düşüncenin akışını bozmaktadır?

- A) I B) II C) III D) IV E) V

11. (I) Hızlı ve düzensiz kentleşme, birçok güzelliğin yanı sıra çocukların top oynayacağı, uçurtma uçuracağı alanları da yok etti. (II) Bu yüzden bir fırsatını bularak masmavi tarlayı andıran gökyüzünü fethetmeye koyulan çocukları bir kahraman gibi görürüm ben. (III) Nitekim geçenlerde şehrin kenar mahallelerinde oturan bir dostumu ziyarete gidiyordum. (IV) Çocukların gökyüzünü boyadıklarını, uçurtmalarla bir çiçek bahçesine çevirdiklerini gördüm. (V) Kalbim bir kuş gibi hafifledi, rastladığım ilk çocuğu alından öptüm.

Bu parçadaki numaralanmış cümlelerin hangisinde zaman bildirme görevinde kullanılmış sözcük vardır?

- A) I. B) II. C) III. D) IV. E) V.

12. Çeşitli kültürlerle tanıklık etmiş mimari yapılara, eski zamanların ayak izlerini taşıyan çok sokağa ve birbirinden lezzetli yemeklere ev sahipliği yapan Beypazarı size rüya gibi bir yolculuğun kapılarını aralıyor.

Bu parçadaki numaralanmış sözcüklerle ilgili olarak aşağıda verilenlerden hangisi yanlıştır?

- A) I'inci, sıfat olarak kullanılmıştır.
B) II'nci, ad olarak kullanılmıştır.
C) III'üncü, zamir olarak kullanılmıştır.
D) IV'üncü, edattır.
E) V'inci, zarftır.

13. Aşağıdaki cümlelerden hangisinin yüklemi, yapılan işin kısa sürede gerçekleşebileceğini gösterir?

- A) Müziğe ilgi duyan gençler, konservatuvar bölümüne kayıt yaptırabilecek.
 B) Mülakattan önce sınav sonuçlarını duyuracaklar.
 C) Yağmur bastırmadan evvel buradan ayrılmalıyız.
 D) Misafirler gelir gelmez yemeğe başlayacağız.
 E) Güneş açarsa her yer kuruyuvorecek.

14. Mavi patiskaları, küçük yelkenleri, beyaz köpükleri,

I II III

martı seslerini ve hırçın dalgaları özlerim korkusuy-

IV V

bir adım öteye uzaklaşamıyorum bu denizle iç içe girmiş şehirden.

Bu cümledeki tamlamalardan hangisi tür bakımından ötekilerden farklıdır?

- A) I. B) II. C) III. D) IV. E) V.

15. Aşağıdaki cümlelerin hangisinde eylemin karşılıklı olarak yapıldığı anlamı vardır?

- A) Çocuklar, parka doğru koştu.
 B) Siyasilerin de katıldığı büyük bir açılıştı.
 C) Öfkelenen gençler uzun süre dövüştü.
 D) Odukların ardından kömürler de tutuştu.
 E) Öğrenciler, yeni eğitim sistemine çabucak alıştı.

16. “Anlatamıyorum”, “Hürriyete Doğru”, “Açsam Rüzgâra”... Bu şiirlerinde olduğu gibi diğer şiirle-

rinde de Orhan Veli dili, duygu ve düşünce ile âdeta yoğurmuştur. Ölçsüz, uyaksız, kurlsız şiirler yazmış; sıradan olayları, kişileri şiire

sokmuş. Bir şair koca bir edebiyatı nasıl olur da

böylesine etkiler, diye düşünüyor insan?

A) I. B) II. C) III. D) IV. E) V.

Bu parçadaki numaralanmış noktalamalı işarelerinden hangisi yanlış kullanılmıştır?

- A) I. B) II. C) III. D) IV. E) V.

17. (I) Doğa koşullarının yerleşim üzerinde büyük etkisi vardır. (II) Karadeniz de yer şekilleri elverişli olmadığından burada dağınık bir yerleşim görülür. (III) Ahşap malzemenin ağırlıklı olarak kullanıldığı bölgedeki evlerin her biri ayrı bir yerleşim birimi gibidir. (IV) Tepelerin başına konmuş bu evler, tıpkı Karadeniz insanı gibi heybetli ve gururlu bir duruş sergilemektedir. (V) Evlerin dağınık olması haberleşme ve ulaşım sorunlarını da beraberinde getirmektedir.

Bu parçadaki numaralanmış cümlelerden hangisinde bir yazım yanlışı vardır?

- A) I. B) II. C) III. D) IV. E) V.

18. Ahırkapı Feneri 1755 yılında III. Osman tarafından yaptırılmıştır. İstanbul Boğazı'nın Marmara'ya bakan kısmının batı kıyısındadır. Beyaz kule şeklinde olan fener, İstanbul'u çeviren surların burçlarından birisinin üzerine oturtulmuştur. Denizden yüksekliği 40 metredir. Her 6 saniyede bir yanıp sönmek gece karanlığında denizcilerin yön bulmalarına yardımcı olur ve gemilerin kara-ya oturmalarını engeller.

Bu parçada "Ahırkapı Feneri" ile ilgili aşağıdaki sorulardan hangisinin cevabı yoktur?

- A) İsmi nereden gelmektedir?
- B) Kaç yılında yaptırılmıştır?
- C) Ne amaçla kullanılmaktadır?
- D) Kim tarafından yaptırılmıştır?
- E) Nerede yer almaktadır?

19. Dünün edebiyatında en büyük ustalık, düş gücünü alabildiğine kullanmaktır. Ne kadar çok düş kurabiliyorsanız o kadar iyi şair, iyi romancı, iyi tiyatrocuya sayılırdınız. Gerçek, düş gücünün elinde bir oyuncaktı. Eskiden hiç görmediği bir memleket hakkında, oturduğu yerde sayfalar dolduran bir edebiyatçı için: "Ne kadar kuvvetli bir düş gücü var!" denirdi. Şimdiyse yalnızca: "Ammada atıyor!" deyip geçiyoruz. Bugün düş gücü, sanatçının inceleme olanaklarının bittiği yerde başlıyor.

Bu parçadan aşağıdakilerden hangisi çıkarılabilir?

- A) Eskiden çok beğenilip değer verilen sanatçılar bugün hatırlanmamaktadır.
- B) Sanat anlayışı ve beğenisi kültürle ve zamanla birlikte değişiklik gösterebilmektedir.
- C) Kendinden öncekilerin deneyimlerinden faydalanma yoluna giden edebiyatçı çağdaşlaşamaz.
- D) Gerçekliği geri plana iten sanatçılar, hiçbir zaman okurun beğenisini kazanamaz.
- E) Başarılı edebiyatçılar gerçekte düş gücünü öylesine bütünleştirir ki hangisi düş, hangisi gerçek fark edilemez.

20. - 21. soruları aşağıdaki parçaya göre cevaplayınız.

Günümüzde enerji sıkıntısı ve küresel ısınma gibi çevre sorunlarının yanında en önemli sorunlardan biri de malzemelerin gitgide daha kısıtlı hâle gelmesi. Bu sorunun kaynağı kuşkusuz insanların her türlü malzeme sürekli olarak tekrar geri getirilemeyecek biçimde tüketmesi. Önceleri dünyada bulunan çeşitli malzemeler ya da bunların ham maddeleri o kadar boldu ki bir gün bunların sıkıntısının çekilebileceği kimsenin aklına gelmiyordu. Hızla artan insan nüfusunun artan ihtiyaçları, sınırsız görünen kaynakların sınırlarını gözler önüne seriyordu. Üstelik insanların ihtiyaçları sadece nüfusun artmasıyla değil tüketim alışkanlıklarının değişmesiyle de arttı. Artık çok daha kalabalık ve çok daha fazla tüketiyoruz. Nüfus azalmayacağına göre bu problemin çözümü tüketim alışkanlıklarımızı değiştirmemizden geçiyor.

20. Bu parçada aşağıdakilerden hangisine değinilmemiştir?

- A) Malzeme sıkıntısının giderilebilmesi için yeni ürünlerin keşfedilmesi gerektiğine
- B) Malzemelerin gitgide daha kısıtlı hâle gelmesinin önemli bir sorun olduğuna
- C) Eskiden çeşitli malzemelerin dünyada bol miktarda bulunduğu
- D) Tüketim alışkanlıklarının değiştirilmesi gerektiğine
- E) İhtiyaçların artmasıyla kaynakların sınırlarının keşfedildiğine

21. Bu parçaya göre malzemelerin giderek azalması

- I. küresel ısınma,
- II. hızlı nüfus artışı,
- III. tüketim alışkanlıklarının değişmesi

nedenlerinden hangilerine bağlıdır?

- A) Yalnız I
- B) Yalnız II
- C) Yalnız III
- D) I ve II
- E) II ve III

22. - 23. soruları aşağıdaki parçaya göre cevaplayınız.

Hemen hemen hepimizin evinde artık kullanılmayan telefonların, MP3 çalarların, fotoğraf makinelerinin durduğu bir çekmece ya da kutu vardır. Ne yazık ki elektronik cihazlar genellikle modüler olmuyor, yani yenilikler bir şekilde üzerlerine eklenemiyor. Bir sonraki model piyasaya çıkana kadar ömürlerini tamamlayacak, en azından işlevsel açıdan yetersiz kalacak biçimde üretiliyorlar. Böylece günlük tüketim malzemelerinden artanların oluşturduğu yığınlara ek olarak bir de elektronik atık yığınları oluşturuyoruz. Veriler elektronik atık miktarının kentsel atık miktarına göre iki üç kat daha hızlı arttığını gösteriyor. Tabii ki elektronik atıkları geri dönüştürme girişimleri de var. Ancak geri dönüşüme gönderilen elektronik atıkların çevreye zararsız biçimde değerlendirildiğinden emin olmak kolay değil. Geri dönüşüm için gelişmekte olan ülkelere gönderilen elektronik atıklar, içlerindeki birkaç değerli metal çıkarıldıktan sonra genellikle yakılarak yok ediliyor ve bu işlem çevreye zehirli gazların salınması anlamına geliyor.

22. Bu parçada özellikle aşağıdakilerin hangisinden yakınılmaktadır?

- A) Elektronik atıkların çevreye zarar vermesinden
- B) Her yıl elektronik cihazların yeni modellerinin piyasaya sürülmesinden
- C) İnsanların elektronik araçlara bağımlı yaşamalarından
- D) Elektronik araçların insanları yalnızlaştırdığından
- E) Elektronik cihazların pahalı olmasından

23. Bu parçanın anlatımıyla ilgili olarak aşağıdakilerden hangisi söylenemez?

- A) Sesteş sözcük kullanılmıştır.
- B) Karşılaştırma yapılmıştır.
- C) Bilgi verilmiştir.
- D) Tanımlamalardan yararlanılmıştır.
- E) Örneklemeye başvurulmuştur.

24. - 26. soruları aşağıdaki parçaya göre cevaplayınız.

(I) Geçen ay yayımlanan *Yarasalar* adlı kitap, küçük yaştaki okurlar için hazırlanmış. (II) Kitap çocukların ilk okuma deneyimlerinden birinde yarasaların gizemli dünyasını keşfetmesini hedefliyor. (III) Bu kitap hem yarasaların şaşırtıcı çeşitliliğini hem de gözlemlenmesi çok zor ilginç davranışlarını etkileyici fotoğraflar ve ustaca çizimlerle sunuyor. (IV) Kitapta yarasaların anatomik özellikleri, beslenme, uyuma, uçma ve yön bulma davranışları gibi konular yer alıyor. (V) *Yarasalar* adlı kitapta Batı dünyasına ait masallardaki korkutucu bir öge olan vampirlere esin kaynağı olan vampir yarasaya özel bir bölüm ayrılmış. (VI) Bu bölüm kuşkusuz küçük okurların kafalarındaki olası vampirlere ilişkin önyargıların yıkılmasına yardımcı olacaktır. (VII) Çocuklar yarasaların çok da ürkütücü canlılar olmadığını bu kitap sayesinde kavrayacaklar.

24. Bu parçada *Yarasalar* adlı kitapla ilgili olarak aşağıdakilerin hangisine değinilmemiştir?

- A) Belli bir yaşa hitap ettiğine
- B) Görsel unsurlar içerdiğine
- C) Yarasalarla ilgili farklı konuları kapsadığına
- D) Bir konunun ayrı bir bölümde işlendiği
- E) Vampir yarasaların soyunun tükendiğinin vurgulandığına

25. Bu parça iki paragrafa ayrılmak istense ikinci paragraf hangi cümleyle başlar?

- A) II. B) III. C) IV. D) V. E) VI.

26. Bu parçadaki numaralandırılmış cümlelerin hangisinde "*Yarasalar*" adlı kitabın yayımlanma amacı belirtilmiştir?

- A) I. B) II. C) III. D) IV. E) V.

27. - 30. soruları aşağıdaki bilgilere göre birbirinden bağımsız olarak cevaplayınız.

Bir pastane hafta içi günlerde indirimli olarak satışa sunulacak tatlıların listesini hazırlarken listeye her gün için yalnız birer çeşit süt tatlısı ve hamur tatlısı koymaktadır.

Hazırlanan listede,

- güllaç, keşkül, sütlaç, muhallebi süt tatlıları
- baklava, kadayıf, revani, künefe hamur tatlıları yer almaktadır.

İndirimli satış listesi hazırlanırken şunlar dikkate alınmıştır:

- Süt ve hamur tatlı çeşitleri hafta içi günlerde en az birer kez yapılmaktadır.
- Pazartesi günü hamur tatlılarından baklava ya da revani yapılacaktır.
- Cuma günü süt tatlılarından sütlaç ve hamur tatlılarından kadayıf yapılacaktır.
- Pazartesi ve perşembe günleri menüde aynı süt tatlısı olacaktır.
- Salı ve cuma günleri menüde aynı hamur tatlısı olacaktır.
- Keşkül yapılan günün hamur tatlısı kadayıftır.
- Güllaç ve revani farklı günlerde yapılacaktır. (Cumartesi ve Pazar günü indirimli tatlı satışı yoktur.)

27. Listede, haftanın

- salı,
- çarşamba,
- perşembe

günlerinin hangilerinde yapılacak süt ve hamur tatlısının her ikisi de bellidir?

- A) Yalnız I B) Yalnız II C) Yalnız III
D) I ve II E) I ve III

28. Pazartesi günü süt tatlılarından muhallebi yapılacaksa aşağıdaki ifadelerden hangisi kesin olarak doğrudur?

- A) Çarşamba günü hamur tatlılarından revani yapılacaktır.
- B) Çarşamba günü hamur tatlılarından künefe yapılacaktır.
- C) Çarşamba günü süt tatlılarından güllaç yapılacaktır.
- D) Perşembe günü hamur tatlılarından künefe yapılacaktır.
- E) Perşembe günü süt tatlılarından güllaç yapılacaktır.

29. Bu bilgilere göre aşağıdaki ifadelerden hangisi kesin olarak doğrudur?

- A) Pazartesi günü süt tatlılarından muhallebi yapılacaktır.
- B) Salı günü süt tatlılarından keşkül yapılacaktır.
- C) Çarşamba günü hamur tatlılarından revani yapılacaktır.
- D) Çarşamba günü süt tatlılarından güllaç yapılacaktır.
- E) Perşembe günü hamur tatlılarından künefe yapılacaktır.

30. Çarşamba günü hamur tatlılarından revani yapılacaksa aşağıdaki ifadelerden hangisi kesin olarak yanlıştır?

- A) Pazartesi günü süt tatlılarından güllaç yapılacaktır.
- B) Perşembe günü hamur tatlılarından künefe yapılacaktır.
- C) Perşembe günü süt tatlılarından güllaç yapılacaktır.
- D) Pazartesi günü süt tatlılarından muhallebi yapılacaktır.
- E) Pazartesi günü hamur tatlılarından baklava yapılacaktır.

31. x, y, z birbirinden farklı rakamlar olmak üzere

$$3x - 7y + 5z$$

toplamının en büyük ve en küçük değerleri toplamı kaçtır?

- A) 3 B) 7 C) 8 D) 9 E) 12

32. Ayrıtları 24 metre ve 40 metre olan dikdörtgen şeklindeki bahçenin çevresine köşelere de birer ağaç gelmek şartıyla eşit aralıklarla ağaç dikilecektir.

Bahçenin bir kenarı duvar olduğuna göre bu ağaçlandırma için en az kaç tane ağaca ihtiyaç vardır?

- A) 13 B) 12 C) 10 D) 9 E) 8

33.
$$\frac{23,1}{3,3} - \frac{0,78}{0,13} + \frac{0,4}{0,05}$$

işleminin sonucu kaçtır?

- A) 9 B) 17 C) 18 D) 21 E) 23

34.
$$||x - 1| - 3| = 7$$

eşitliğini sağlayan x tam sayılarının toplamı kaçtır?

- A) 6 B) 5 C) 4 D) 3 E) 2

35. $a < b < 0$ olmak üzere

$$x = \frac{7b + a}{b}$$

olduğuna göre, x için aşağıdakilerden hangisi daima doğrudur?

- A) $x < 8$ B) $x > 8$ C) $x > 7$
D) $x < 7$ E) $7 < x < 8$

36.
$$\frac{\sqrt{0,4} + \sqrt{0,9} - \sqrt{0,1}}{\sqrt{0,25} - \sqrt{0,16}}$$

işleminin sonucu kaçtır?

- A) $8\sqrt{10}$ B) $6\sqrt{10}$ C) $5\sqrt{10}$
D) $4\sqrt{10}$ E) $2\sqrt{10}$

37. $\left(4,5\bar{9} + \frac{17}{5}\right) : \left(1 - \frac{1}{2}\right)^{-1}$
işleminin sonucu kaçtır?
A) 16 B) 8 C) 4 D) 2 E) 1

38. 6 adım ileri 3 adım geri adım atarak ilerleyen bir adam 69 adım attığında en çok kaç adım ilerler?
A) 27 B) 28 C) 29 D) 30 E) 31

39. $x = 7^5 + 1$ olduğuna göre,

$$\frac{x(x-1)(x-2)}{7^{10} - 1}$$

ifadesinin eşiti kaçtır?

- A) 7^{10} B) $7^5 + 1$ C) $7^5 - 1$
D) 7^5 E) 1

40. $x + \frac{1}{x+1} = 3$ olduğuna göre

$$(x+1)^2 + \frac{1}{(x+1)^2}$$

ifadesinin eşiti kaçtır?

- A) 2 B) 3 C) 14 D) 16 E) 18

41. - 42. soruları aşağıdaki bilgilere göre cevaplayınız.

Fatih ve Uğur, 1 den 100'a kadar olan doğal sayıları kartlara yazıyor. Kartlara sayıları yazarken,

- Fatih, herhangi bir basamağında 4 rakamı bulunan sayıları yazmıyor.
- Uğur, herhangi bir basamağın da 9 rakamı bulunan sayıları yazmıyor.

Örneğin;

Fatih: 1, 2, 3, 5, 6, 7, 8, 9, 10, 11, 12, 13, 15, ... 99

Uğur: 1, 2, 3, 4, 5, 6, 7, 8, 10, 11, 12, ... 88

41. Buna göre Fatih kaç sayı yazmıştır?

- A) 60 B) 65 C) 70 D) 75 E) 80

42. Fatih ve Uğur'un 38 den sonra yazdıkları ilk ortak sayının rakamları toplamı kaçtır?

- A) 4 B) 5 C) 6 D) 7 E) 8

43. $A = \{1, 2, 3, 4, 5\}$ kümesinin elemanları birer kez kullanılarak yazılan üç basamaklı doğal sayılar küçükten büyüğe doğru sıralandığında baştan 26. sayı kaçtır?
 A) 312 B) 314 C) 315
 D) 321 E) 324
44. Boyları farklı 8 fidan arasından rastgele 2 fidan seçiliyor.
Seçilen fidanlardan birinin en kısa, diğerinin en uzun olma olasılığı kaçtır?
 A) $\frac{1}{8}$ B) $\frac{1}{7}$ C) $\frac{1}{56}$ D) $\frac{1}{14}$ E) $\frac{1}{28}$
45. Ayça bir işte 7 gün çalıştıktan sonra çalışma hızını 4 katına çıkarıp 3 gün daha çalışırsa geriye işin $\frac{5}{24}$ 'ü kalıyor.
Buna göre, Ayça bu işin tamamını ilk hızı ile kaç günde yapar?
 A) 4 B) 6 C) 8 D) 12 E) 24
46. Bir araç gideceği yolun $\frac{1}{4}$ 'ünü gittikten sonra hızını 2 katına çıkararak yolun tamamını 15 saatte alıyor.
Buna göre, araç ilk hızıyla yolun $\frac{1}{2}$ 'sini kaç saatte alır?
 A) 9 B) 10 C) 12 D) 15 E) 16
47. Maliyetleri eşit olan iki maldan biri %40 kârla diğeri %30 zararla satılırsa bu satışlar sonunda kâr – zarar durumu ne olur?
 A) %5 kâr B) %5 zarar C) %10 kâr
 D) %10 zarar E) %15 kâr
48. Kilosu 12 lira olan 6 kg fıstık ile kilosu 20 lira olan 4 kg fındık karıştırılırsa karışımın bir kilosu kaç lira olur?
 A) 16,8 B) 16,2 C) 15,6
 D) 15,2 E) 15

49. Ali ile Can'ın yaşları farklı doğal sayılardır. Ali, Can'ın bugünkü yaşındayken Can'ın doğmasına 8 yıl vardı.

Buna göre, Ali'nin yaşı aşağıdakilerden hangisi olabilir?

- A) 1 B) 3 C) 5 D) 7 E) 12

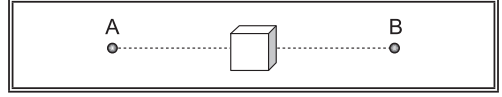
50. Bir ışıklı tabelada BEYAZ KALEM kelimesinin harfleri B'den başlayarak birer birer yanmaktadır.

Buna göre, 672. sırada yanan harf aşağıdakilerden hangisidir?

- A) B B) E C) Y D) A E) Z

51. - 52. soruları aşağıdaki bilgilere göre cevaplayınız.

200 metre uzunluğundaki bir tahta parçasının her iki ucunda iki fare bulunmaktadır. Tahtanın tam ortasında 100 m^3 büyüklüğünde küp şeklinde bir peynir bulunmaktadır.



- A noktasında bulunan fare saniyede 10 metre yol almakta ve saniyede 10 m^3 peynir yemektedir.
- B noktasında bulunan fare saniyede 20 metre yol almakta ve saniyede 5 m^3 peynir yemektedir.
- İki fare aynı anda peynire doğru koşmaya başlayıp, peynire ulaşınca bitirene kadar yiyorlar.


51. Buna göre, A noktasından hareket eden fare toplam kaç m^3 peynir yemiştir?

- A) 30 B) 40 C) 50 D) 60 E) 70

52. B noktasından hareket eden farenin peynire ulaşma süresinin A noktasından hareket eden farenin peynire ulaşma süresine oranı nedir?

- A) $\frac{1}{2}$ B) 1 C) $\frac{3}{2}$ D) 2 E) 3

53.



Yanda bir hedef tahtası ve bir askerın bu hedef tahtasına yaptıđı 10 atıř gsterilmiřtir.

İçteki koyu blgeye isabet eden atıřlar bařarılı olduđuna gre, bu askerın atıřlarının yzde kaı bařarılıdır?

- A) 30 B) 60 C) 70 D) 75 E) 80

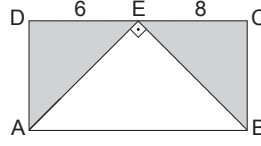
54. Bir hastanenin aık ve kapalı otoparkında toplam 480 ara bulunmaktadır.

- Aık otoparktaki araların 60 tanesi kapalı otoparka alınıyor.
- Kapalı otoparktaki araların 24' hastaneden ayrılıyor.
- Son durumda aık otoparktaki araların sayısı, kapalı otoparktaki ara sayısının yarısı kadar olmaktadır.

Bařlangıta, aık otoparktaki ara sayısı katır?

- A) 150 B) 156 C) 180
D) 200 E) 212

55.



ABCD dikdrtgen

[AE] \perp [EB]

|DE| = 6 cm

|EC| = 8 cm

olduđuna gre, taralı blgelerin alanları toplamı ka cm² dir?

- A) $28\sqrt{3}$ B) $32\sqrt{3}$ C) $36\sqrt{3}$
D) $40\sqrt{3}$ E) $42\sqrt{3}$

56. Sayısal deđerce alanı, hacmine eřit olan kpn yzey kşegeninin uzunluđu katır?

- A) $4\sqrt{2}$ B) $4\sqrt{3}$ C) 6
D) $6\sqrt{3}$ E) $6\sqrt{2}$

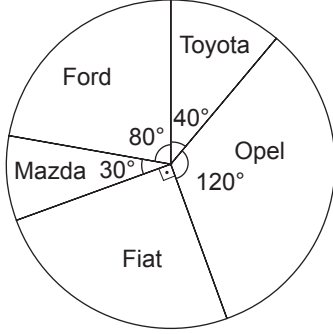
57. $y = 3x - 4$ $y = 2x - 1$

dođrularının kesim noktasının orjine olan uzaklıđu ka birimdir?

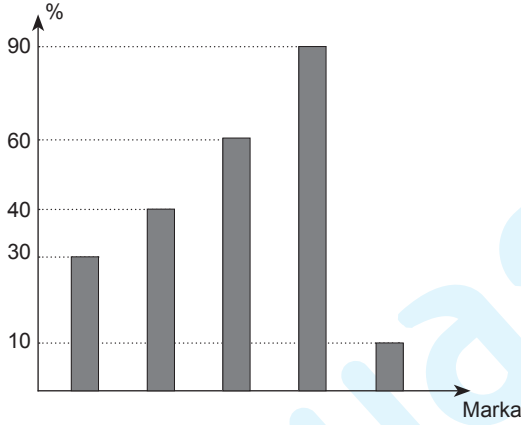
- A) $2\sqrt{10}$ B) 6 C) $\sqrt{34}$
D) $4\sqrt{2}$ E) $2\sqrt{7}$

58. – 60. soruları aşağıdaki bilgilere göre cevaplayınız.

Aşağıdaki dairesel grafikte beş farklı marka aracın Türkiye'deki üretim sayılarının dağılımı verilmiştir.



Aşağıdaki sütun grafiğinde ise üretilen bu araçların yüzde kaçının satıldığı sıra gözetilmeksizin verilmiştir.



Bu araçlarla ilgili şu bilgiler bilinmektedir.

- Ford ve Toyota marka araçlardan eşit sayıda satılmıştır.
- En çok satılan araç opel markadır.
- Fiat marka aracın satış adedi, Mazda marka aracın satış adedinden 3300 adet fazladır.

58. Buna göre, opel marka araçtan kaç tane satılmıştır?

- A) 14400 B) 13400 C) 12000
D) 10800 E) 10000

59. Buna göre, fiat marka aracın satış adedi, toyota marka aracın satış adedinden kaç adet fazladır?

- A) 1200 B) 1400 C) 1500
D) 1600 E) 1800

60. Buna göre, bu beş marka araçtan toplam kaç tane satılmıştır?

- A) 18000 B) 18500 C) 18750
D) 19000 E) 19500

1. Bu testte 60 soru vardır.

2. Cevaplarınızı, cevap kâğıdının Genel Kültür Testi için ayrılan kısmına işaretleyiniz.

1. • İlk kez tapınak yaptıran Türk devletidir.
- Çin'den matbayı alarak kullanan ilk Türk devletidir.
 - Türk tarihinde ilk dini mabed yapımının ortaya çıktığı dönemdir.
 - Türklerde matbaanın kullanıldığı ilk devlettir.

Özellikleri verilen Türk devleti aşağıdakilerden hangisidir?

- A) Asya Hun Devleti
- B) Avrupa Hun Devleti
- C) Kutluk Devleti
- D) Hazarlar
- E) Uygurlar

2. **Saltanat şemsiyesi anlamına gelen İslâmiyet öncesinde hükümdarlık alametleri arasında yer alan sembol aşağıdakilerden hangisidir?**

- A) Tuğra
- B) Alem
- C) Asa
- D) Çetr
- E) Hilat

3. **Karadeniz'in kuzeyinde Batu Han tarafından kurulan, İslamiyet'i kabul eden ilk Cengiz kolu olma özelliğine sahip olan ve Rusların güçlenmesini engelleyen Türk Devleti aşağıdakilerden hangisidir?**

- A) Kubilay Hanlığı
- B) Çağatay Hanlığı
- C) Timur Devleti
- D) İlhanlılar
- E) Altın Orda Devleti

4. **1598 Nant Fermanı ile Kalvenizm mezhebinin resmi olarak kabul edildiği Avrupa ülkesi aşağıdakilerden hangisidir?**

- A) İngiltere
- B) Almanya
- C) Fransa
- D) İskoçya
- E) İtalya

5. **Osmanlı Devleti'nde İltizam Sisteminin uygulanarak gelirin hazineye bırakıldığı "Miri" topraklara verilen isim aşağıdakilerden hangisidir?**

- A) Mukataa
- B) Vakıf
- C) Dirlik
- D) Ocaklık
- E) Paşamalık

6. **XIX.yüzyılda Osmanlı Devleti'ne ucuz ve bol miktarda yabancı mamul mal girişinin olması aşağıdaki gelişmelerden hangisine sebep olmamıştır?**

- A) İthalata dayalı tüketimin artmasına
- B) Anadolu'nun jeopolitik öneminin azalmasına
- C) Lonca teşkilatının zayıflamasına
- D) Ülke ekonomisinin dışa bağımlı hâle gelmesine
- E) Dış ticaret açığının artmasına

7. Osmanlı Devleti'nde gelir ve giderleri hesaplayarak ilk modern denk bütçeyi hazırlayan devlet adamı aşağıdakilerden hangisidir?

- A) Nevşehirli Damat İbrahim Paşa
- B) Kuyucu Murat Paşa
- C) Humbaracı Ahmet Paşa
- D) Köprülü Mehmet Paşa
- E) Tarhuncu Ahmet Paşa

8. Aşağıdakilerden hangisi İstibdat Dönemi gelişmelerinden biridir?

- A) Polis teşkilatının kurulması
- B) Pasaport uygulamasının başlaması
- C) Şirket-i Hayriye'nin kurulması
- D) Darü'l Aceze'nin kurulması
- E) Avrupa'nın önemli başkentlerinde ilk elçiliklerin açılması

9. Osmanlı Devleti'nde XIX. yüzyıla kadar İstanbul Belediye Başkanlığı için kullanılan ad aşağıdakilerden hangisidir?

- A) Asesbaşı
- B) Subaşı
- C) İğdişçibaşı
- D) İhtisap Ağalığı
- E) Mütesellim

10. Osmanlı Devleti'nin XIX. ve XX. yüzyıllarda zayıflamasına bağlı olarak,

- I. Balkanlar,
- II. Boğazlar,
- III. Orta Doğu

yerlerinden hangileri Avrupalı devletler arasında çıkar çatışmalarına neden olmuştur?

- A) Yalnız I
- B) Yalnız II
- C) Yalnız III
- D) I ve II
- E) I, II ve III

11. Osmanlı Devleti'nde Tanzimat Dönemi'nde ders kitabı hazırlamak amacıyla bilim akademisi olarak çalışmak üzere aşağıdakilerden hangisi kurulmuştur?

- A) Darülelhan
- B) Encümen-i Daniş
- C) Darülmualim
- D) Maarif-i Umumiye Nezareti
- E) Mekteb-i Ulumu Ebediyye

12. Mustafa Kemal'in,

- I. Trablusgarp Savaşı'na katılması,
- II. Balkan Savaşlarında ateşemiliterlik görevinde bulunması,
- III. Çanakkale Muharebelerinde görev alması

görevlerinden hangileri emperyalizme karşı faaliyetleri arasındadır?

- A) Yalnız I
- B) Yalnız II
- C) Yalnız III
- D) I ve III
- E) I, II ve III

13. Paris Barış Konferansı'nda sömürgecilik yerini manda ve himayeye bırakmıştır.

Bu durum aşağıdakilerden hangisinin kanıtı olarak gösterilebilir?

- A) İtilaf Devletlerinin çıkarlarını sürdürmek istediğinin
- B) Wilson İlkelerine tam anlamıyla uygun hareket edildiğinin
- C) Sınır değişikliklerinin engellendiğinin
- D) Uluslararası barışın korunduğunun
- E) Yenilen devletlerden toprak ve savaş tazminatı alınmadığının

14. Aşağıdakilerden hangisi Son Osmanlı Mebusan Meclisi'nde kabul edilen Misakımilli kararları kapsamında değildir?

- A) Boğazlar
- B) Manda ve himaye
- C) Kapitülasyonlar
- D) Borçlar
- E) Azınlıklar

15. Aşağıdakilerden hangisi Doğu Anadolu Müdafaa-i Hukuk Cemiyeti'nin fikirlerini ve çalışmalarını kamuoyuna duyuran gazetedir?

- A) Açıksöz
- B) Albayrak
- C) Ahali
- D) Yenigün
- E) Hukuk-u Beşer

16. Aşağıdakilerden hangisi Türkiye'nin, Sovyet Rusya ile imzaladığı Moskova Anlaşması'nın hükümlerinden biri değildir?

- A) Taraflardan birinin tanımadığı anlaşmanın diğeri tarafından da tanınmaması
- B) Boğazların, Karadeniz'e kıyısı olan devletlerin katılımıyla toplanacak bir konferansta görüşülmesi
- C) Çarlık Rusya ile Osmanlı Devleti arasında imzalanan anlaşmaların geçersiz sayılması
- D) Kapitülasyonların kaldırıldığının, Sovyet Rusya tarafından tanınması
- E) Batum'un Türkiye Devleti sınırlarına dahil edilmesi

17. Aşağıdakilerden hangisi Terakkiperver Cumhuriyet Fırkası'nın programında yer alan özelliklerden biri değildir?

- A) Özgürlüklerin genişletilmesini benimseme
- B) Halk hakimiyetine inanma
- C) Kadınlara seçme ve seçilme hakkı tanıma
- D) Yenilik hareketlerinin zamana yayılarak yapılmasını benimseme
- E) Dini inançlara saygılı olma

18. 1921-1944 yılları arasında Genel Kurmay Başkanlığı yapmış olan Mareşal rütbesine sahip devlet adamı aşağıdakilerden hangisidir?

- A) Kazım Karabekir
- B) Fevzi Çakmak
- C) Ali Fuat Cebesoy
- D) Cemal Gürsel
- E) Refet Bele

19. Yeni Türk Devleti ile ilgili aşağıdaki bilgilerden hangisi yanlıştır?

- A) Halkevlerinin yayın organı Ülkü dergisidir.
- B) Latin harfleriyle yayınlanan ilk gazete Mardin gazetesidir.
- C) Yeni kurulan devletin ilk resmi gazetesi Ceride-i Resmîye'dir.
- D) Türk Tarih Kurumu'nun ilk başkanı Tevfik Bıyıklıoğlu'dur.
- E) Atatürk "Nutuk" adlı eserinin dağıtım hakkını Türk Tarih Kurumu'na bırakmıştır.

20. Aşağıdakilerden hangisi 1934'te kabul edilen Soyadı Kanunu'nun çıkartılma sebeplerinden biri değildir?

- A) Askere alma işlemlerini kolaylaştırmak
- B) Sınıfsız, imtiyazsız, kaynaşmış bir sosyal düzen kurmak
- C) Resmi işlerin kolaylaştırılması
- D) Kadın ve erkek arasındaki siyasal eşitsizliğe son vermek
- E) Toplumsal karmaşaya son vermek

21. Aşağıdakilerden hangisi 3 Mart 1924'te gerçekleştirilen çalışmalar arasında yer almamıştır?

- A) Halifeliğin kaldırılması
- B) Erkanı Harbiye Vekaletinin sonlandırılması
- C) Şeriye Evkaf vekaletinin kapatılması
- D) Millet Mektepleri talimatnamesinin yayımlanması
- E) Osmanoğulları sülalesinin yurt dışına çıkarılması

22. Atatürk'ün "Bizim takibini uygun gördüğümüz devletçilik prensibi, bütün üretim ve dağıtım araçlarını fertlerden alarak bütün milleti büsbütün başka esaslar dahilinde tanzim etmek amacını takip eden özel ve kişisel iktisadi teşebbüs ve faaliyete meydan bırakmayan sosyalizm prensibine dayanan kolektivizm ve komünizm gibi bir sistem değildir" sözleri devletçilik prensibinin;

- I. üretim araçlarında kişisel mülkiyete karşı çıkılması,
- II. devletin, iktisadi hayatı düzenler bazı özellikler göstermesi,
- III. karma ekonomi anlayışının benimsenmesi

özelliklerinden hangilerini taşıdığını doğrulamaktadır?

- A) Yalnız III
- B) I ve II
- C) I ve III
- D) II ve III
- E) I, II ve III

23. Sosyal devlet anlayışını ve halkın devlet gelirlerinden eşit şekilde pay alabilmesini savunan Atatürk ilkesi aşağıdakilerden hangisidir?

- A) Devletçilik
- B) Halkçılık
- C) Laiklik
- D) Cumhuriyetçilik
- E) Milliyetçilik

24. I. Nüfus Mübadelesi

II. Boğazlar

III. Kıbrıs

IV. Bozkurt - Lotus Olayı

Yukarıdakilerden hangileri Atatürk Dönemi'nde Türkiye ile Yunanistan arasında sorun olmuştur?

- A) Yalnız I
- B) Yalnız III
- C) I ve III
- D) II ve IV
- E) III ve IV

25. II. Dünya Savaşı sonrasında aşağıda verilen konferanslardan hangisiyle Birleşmiş Milletlerin kurulması kabul edilmiş ve Birleşmiş Milletler Sözleşmesi'nin temel ilkeleri belirlenmiştir?

- A) Birinci Moskova Konferansı
- B) Yalta Konferansı
- C) Potsdam Konferansı
- D) İkinci Moskova Konferansı
- E) Washington Konferansı

26. Aşağıdakilerden hangisi Japonya'da Meiji Restorasyonu Dönemi'nde, 1867'den itibaren gerçekleştirilen reformlar arasında yer almaz?

- A) Modern bir bankacılık sisteminin oluşturulması
- B) Ağır sanayinin geliştirilmesi
- C) İlk gazetenin yayınlanması
- D) Giyimde batının örnek alınması
- E) Alfabenin değiştirilmesi

27. 1972 yılında görüşmeleri başlayan 1979'da SSCB ve ABD arasında imzalanan nükleer silahlara sınırlama getiren ama ABD Kongresi tarafından onaylanmayan antlaşma aşağıdakilerden hangisidir?

- A) Helsinki Nihai Senedi
- B) Salt II
- C) Zürih Antlaşması
- D) Balfour Deklarasyonu
- E) Camp David Antlaşması

28. Aşağıdakilerden hangisi Zonguldak, Batman ve Elazığ illeri ile ilgili ortak bir özelliktir?

- A) Maden işleme tesisleri bulunması
- B) Yıllık ve günlük sıcaklık farkının az olması
- C) Doğal bitki örtüsünün bozkır olması
- D) Jeotermal enerji potansiyelinin fazla olması
- E) Yaşlı nüfusun genç nüfustan fazla olması

29. Karadeniz kıyı bölgesinin özelliklerinden hangisinin oluşmasında yalnızca bölgenin iklim özellikleri etkili olmamıştır?

- A) Her mevsim yağışlı geçmektedir.
- B) Orman alt sınırı düşüktür.
- C) Heyelan olaylarının sayısı fazladır.
- D) Yıllık ve günlük sıcaklık farkı azdır.
- E) Bağıl nem oranı yıl boyu yüksektir.

30. Türkiye’de nüfus artış hızı 1975 yılında ‰ 26,6, 1990 yılında ‰ 22,9, 2015 yılında ise ‰13,4 olmuştur.

- I. Toplam nüfus miktarında
- II. Kadın nüfus oranında
- III. Kırsal nüfus oranında

Nüfus artış hızında gözlenen bu değişimlerin, yukarıda verilen nüfus özelliklerinden hangilerinde kesin bir artışa yol açması beklenir?

- A) Yalnız I
- B) Yalnız II
- C) Yalnız III
- D) I ve II
- E) I ve III

31. Çukurova çevresinin yoğun nüfuslanmasında,

- I. toprak özellikleri,
- II. iklim özellikleri,
- III. sanayi tesislerinin çeşitliliği,
- IV. ulaşım imkânlarının gelişmiş olması,
- V. dağların deniz kıyısına uzanış yönü

faktörlerinden hangisinin etkisi en azdır?

- A) I
- B) II
- C) III
- D) IV
- E) V

32. Türkiye’de yükseltinin 1000 m’den fazla olduğu tüm yerlerle ilgili olarak aşağıdakilerden hangisi söylenemez?

- A) İndirgenmiş sıcaklık ile gerçek sıcaklık arasındaki farkın fazla olduğu
- B) Çiğ olaylarının fazla olduğu
- C) Denizel etkinin azaldığı
- D) Tarım ürünlerinin çeşidinin az olduğu
- E) Kar yağışlarının arttığı

33. Türkiye'deki tahıl tarımı ile ilgili olarak aşağıdaki bilgilerden hangisi yanlıştır?

- A) Tahıl grubuna giren ürünlerden en fazla buğday tarımı yapılmaktadır.
- B) Bütün tahıl çeşitlerinde üretim tüketimi karşılamaktadır.
- C) Pirinç tarımı daha çok ırmak kenarlarında yapılmaktadır.
- D) Arpa üretimi, hayvan yemi olarak değerlendirilmesi ve olgunlaşma süresinin kısa olması nedeniyle daha çok yüksek bölgelerde tercih edilmektedir.
- E) Mısır tarımı Karadeniz kıyı kuşağında fazla yapılmasına rağmen bölge içi ticaretine katkısı azdır.

34. Aşağıdaki enerji kaynaklarından hangisinin kullanımının artması Türkiye'nin enerji kaynağında dışa bağımlılığını azaltırken hava kirliliğinde ise artışa neden olur?

- A) Doğal gaz
- B) Taş kömürü
- C) Linyit
- D) Petrol
- E) Su gücü

35. Aşağıdaki enlem ve boylam değerleri verilen merkezlerin hangisinden İstanbul'a daha kısa mesafede ulaşılır?

- A) 10° kuzey enlemi
10° doğu boylamı
- B) 30° kuzey enlemi
100° doğu boylamı
- C) 30° kuzey enlemi
20° doğu boylamı
- D) 48° kuzey enlemi
20° doğu boylamı
- E) 50° kuzey enlemi
50° doğu boylamı

36. I. Rize'de yayla turizmi
II. Antalya'da deniz turizmi
III. Afyonkarahisar'da termal turizmi
IV. İstanbul'da kongre turizmi

Yukarıda verilen turizm faaliyetlerinden hangileri yıl boyunca devam eder?

- A) I ve II
- B) I ve III
- C) II ve III
- D) II ve IV
- E) III ve IV

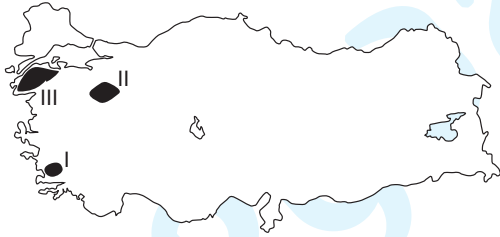
43. Aşağıdaki maden - çıkartım yeri eşleştirmelerinden hangisinde yanlışlık yapılmıştır?

- A) Barit – Antalya (Alanya - Gazipasaşa)
- B) Demir – Sivas (Divriği)
- C) Krom – Elazığ (Guleman)
- D) Bakır – Samsun (Havza)
- E) Boksit – Konya (Seydişehir)

44. Türkiye’de dış ticaret açığının kapatılabilmesi için aşağıdakilerden hangisinin yapılması doğru bir yaklaşım olmaz?

- A) Uluslararası fuar ve organizasyonlara önem vermek
- B) Turizmde reklam ve tanıtımlara öncelik vermek
- C) Enerji üretiminde yerli kaynaklara yönelmek
- D) İhracatta sanayi ürünlerinin payını artırmak
- E) Kişi başına düşen milli geliri artırmak

45.



Haritada numaralarda gösterilen yerlerde yaygın şekilde bulunan enerji santralleri aşağıdakilerden hangisinde doğru eşleştirilmiştir?

- | I | II | III |
|--------------|-----------|-----------|
| A) Rüzgâr | Doğalgaz | Jeotermal |
| B) Jeotermal | Doğalgaz | Linyit |
| C) Jeotermal | Linyit | Rüzgâr |
| D) Rüzgâr | Jeotermal | Doğalgaz |
| E) Taşkömürü | Doğalgaz | Rüzgar |

46. I. Dilekçe hakkı
II. Vatan hizmeti
III. Vergi ödevi
IV. Kamulaştırma

Yukarıdakilerden hangileri siyasi hak ve ödevler kapsamında düzenlenmemiştir?

- A) Yalnız I
- B) Yalnız IV
- C) I ve III
- D) I, II ve III
- E) I, II ve IV

47. I. Hak ehliyetlerini kuruldukları an kazanırlar.
II. Fiil ehliyetlerini yasalara göre bulunması gereken organlarına sahip oldukları an kazanırlar.
III. Kişi veya mal topluluğu şeklinde oluşabilirler.

Tüzel kişilerle ilgili yukarıdaki ifadelerden hangisi doğrudur?

- A) Yalnız I
- B) Yalnız III
- C) I ve II
- D) I ve III
- E) I, II ve III

48. Fiil ehliyetine sahip olma şartlarından biri olan erginlik ile ilgili aşağıdaki ifadelerden hangisi yanlıştır?

- A) Kanunen erginlik 18 yaşını doldurmakla kazanılır.
- B) Evlenme ile erginlik kazanılabilir.
- C) Hakim kararı ile erginlik için (Kaza-ı rüşt) küçüğün 15 yaşını doldurması gerekmektedir.
- D) 17 yaşını dolduran erkek ve kadınlar aile izniyle evlenerek ergin olabilirler.
- E) Evlilikle erginlik kazanan kişiler boşanma durumunda erginliklerini kaybederler.

49. I. 15 yaşını dolduranlar kaza-i rüşt (Yargısal erginlik) ile erginlik kazanırlarsa devlet memuru olabilirler.
- II. Taksirli suçlar hariç kasıtlı bir suçtan bir yıl veya üzeri hapis cezası alanlar devlet memuru olamaz.
- III. Askerliği tecil ettirenler devlet memuru olmazlar

Devlet memurluğu ile ilgili yukarıdaki ifadelerden hangisi yanlıştır?

- A) Yalnız I B) Yalnız III C) I ve II
D) I ve III E) I, II ve III

50. I. Bakanlıkların kurulması, kaldırılması ve yetkileri kanunla düzenlenir.
- II. Açık olan bakana geçici olarak bakanlık müteşarı vekalet edebilir.
- III. Boşalan bakanlığa en geç 15 gün içinde atama yapılır.
- IV. Milletvekili olmayan bakanların yasama sorumlulukları ve yasama dokunulmazlıkları vardır.

Bakanlarla ilgili yukarıdaki ifadelerden hangisi yanlıştır?

- A) Yalnız I B) Yalnız II C) I ve II
D) III ve IV E) I, II, III ve IV

51. Aşağıdakilerden hangisi Cumhurbaşkanının görev ve yetkilerinden biri değildir?

- A) Genelkurmay Başkanı'nı atamak
B) Sayıştay üyelerini seçmek
C) Devlet Denetleme Kurulu üyelerini seçmek
D) Üniversite rektörlerini seçmek
E) Hâkimler ve Savcılar Yüksek Kuruluna belirli sayıda üye seçmek

52. TBMM kararı ile Yüce Divana verilen bir bakan bakanlıktan düşer.

Başbakanın Yüce Divana sevki halinde ise aşağıdakilerden hangisi olur?

- A) Cumhurbaşkanının onayı ile başbakanın görevi son bulur.
B) Hükümet istifa etmiş sayılır
C) Bakanlardan biri başbakan seçilir
D) Başbakan yardımcısı Başbakan seçilir
E) TBMM seçimleri yenilenir

53. I. Büyükşehir belediyelerinin sınırları il mülki sınırlarıdır.
II. Büyükşehir belediye başkanının seçiminde seçim çevresi şehir merkezi ile sınırlıdır.
III. Büyükşehirlerde yeni bir ilçe belediyesinin kurulması için asgari nüfus kriteri 20000'dir

Büyükşehir belediyesi ile ilgili yukarıdaki ifadelerden hangisi yanlıştır?

- A) Yalnız I B) Yalnız II C) I ve II
D) I ve III E) I, II ve III

54. I. Ankara İl Özel İdaresi
II. Zara İlçesi
III. Çankaya Belediyesi
IV. Akıncılar Köyü

Yukarıdakilerden hangileri yerel yönetim birimlerini oluşturur?

- A) Yalnız II B) Yalnız III C) I, II ve III
D) I, III ve IV E) II, III ve IV

55. 1 Ocak 2017 tarihi itibarıyla Karadeniz Ekonomik İşbirliği Teşkilatı dönem başkanlığını yürütecek ülke aşağıdakilerden hangisidir?
- A) Türkiye
B) Yunanistan
C) Bulgaristan
D) Moldova
E) Ermenistan
56. 2016'da Voleybol DenizBank Kadınlar CEV Şampiyonlar Ligi final maçında rakibini yenerek Şampiyonlar Ligi şampiyonu olan kulübümüz aşağıdakilerden hangisidir?
- A) Fenerbahçe Grundig
B) Vakıfbank
C) Galatasaray Daikin
D) Eczacıbaşı Vitra
E) Beşiktaş
57. Türkiye'nin 1949 yılından bu yana üyesi olduğu ve başkanlığını belirli süre eski Dışişleri Bakanımız Mevlüt Çavuşoğlu'nun da yaptığı uluslararası kuruluş aşağıdakilerden hangisidir?
- A) Batı Avrupa Birliği
B) Avrupa Konseyi Parlamenter Meclisi
C) Avrupa Güvenlik ve İşbirliği Teşkilatı
D) Avrupa Birliği
E) Uluslararası Kalkınma Fonu
58. Aşağıdakilerden hangisi Dünya'nın yeni 7 harikası içerisinde yer almaz?
- A) Çin Seddi
B) Tac Mahal
C) Petra Antik Kenti
D) Kurtarıcı İsa Heykeli
E) Babil'in Asma Bahçeleri
59. 2016 yılı Cumhurbaşkanlığı Kültür ve Sanat Büyük Ödüllerinde sinema dalında ödüle layık görülen isim aşağıdakilerden hangisidir?
- A) Münir Özkul
B) Metin Akpınar
C) Türkan Şoray
D) Şener Şen
E) İlyas Salman
60. Osmanlı Devleti'nde Kaptan-ı Deryalık da yapmış olan ve "Mir'at-ül Memalik" (Ülkelerin Aynası) adlı seyahatnamesi ile tanınan Türk amirali, coğrafya ve matematik bilgini aşağıdakilerden hangisidir?
- A) Seydi Ali Reis
B) Piri Reis
C) Barbaros Hayrettin Paşa
D) Murat Reis
E) Oruç Reis