


GENEL YETENEK - GENEL KÜLTÜR

TÜRKİYE GENELİ
DENEME SINAVI



T.C. KİMLİK NUMARASI :
ADI :
SOYADI :

DİKKAT!
SINAVA BAŞLAMADAN ÖNCE AŞAĞIDAKİ UYARILARI MUTLAKA OKUYUNUZ.

1. Adınızı, soyadınızı, T.C. Kimlik Numaranızı optik forma mutlaka işaretleyiniz. T.C kimlik numarası karnenizin oluşturulabilmesi için özellikle gereklidir.
2. Genel Yetenek - Genel Kültür Testi için verilen toplam cevaplama süresi 130 dakikadır.
3. Bu testte 120 soru vardır.
4. Cevaplamaya istediğiniz sorudan başlayabilirsiniz. Her soru ile ilgili cevabınızı, cevap kâğıdında o soru için ayrılmış olan yere işaretlemeyi unutmayınız.
5. Sınav sonucunuzu www.yaklasimkariyer.com adresinden TC kimlik numaranızı girerek öğrenebilirsiniz.
6. Bu test puanlanırken testteki doğru cevaplarınızın sayısından yanlış cevaplarınızın sayısının dörtte biri düşülecek ve kalan sayı testle ilgili ham puanınız olacaktır. Bu nedenle, hakkında hiçbir fikrinizin olmadığı soruları boş bırakınız. Ancak, soruda verilen seçeneklerden birkaçını eleyebiliyorsanız kalanlar arasından doğru cevabı kestirmeye çalışmanız yararınıza olabilir.

Bu testlerin her hakkı saklıdır. Hangi amaçla olursa olsun, testlerin tamamının veya bir kısmının yayınevimizin yazılı izni olmadan kopya edilmesi, herhangi bir yolla çoğaltılması, yayımlanması ya da kullanılması yasaktır. Bu yasağa uymayanlar gerekli cezai sorumluluğu ve testlerin hazırlanmasındaki mali külfeti peşinen kabullenmiş sayılır.

Yaklaşım Kariyer Yayıncılık ve Dağıtım Ltd.Şti

GMK Bulvarı No: 19 Kızılay-ANKARA

Tel: (0312) 232 57 76

Web: www.yaklasimkitap.com



DİKKAT: BU BÖLÜMDE YANITLAYACAĞINIZ SORU SAYISI 60'TIR.

1-30 SORU : "Türkçeyi Kullanma Gücü"

30-60 SORU : "Matematiksel İlişkilerden Yararlanma Gücü" ile ilgilidir.

Bu bölümdeki sorularla ilgili cevaplarınızı, cevap kağıdınızdaki "**GENEL YETENEK**" bölümüne işaretleyiniz.

1. Felsefesi olan ancak hiçbir yerde önermesi bulunmayan bir anlatı. Başlıca amacı bireyin ruh hâllerini didikleme. Beylik laflara sığmaması ne güzel!

I II

Ancak metnin su gibi akıp gittiği düşünülmesin. Kimileyin

III

bir tamlama, kimileyin de bir paragraf yolunuzu kesip tuzaklarla dolu bir kuyunun önüne bırakıyor; soru sormak, yanıt aramak adına. Sirtını sıvazlamak gerek

IV

böyle bir saptama karşısında kayıtsız kalanın.

V

Aşağıdakilerden hangisi altı çizili sözlerden birinin anlamını ıçermez?

- A) Desteklemek
B) Önem vermemek, umursamamak
C) Değerli, güzel söylenmiş söz
D) Ayrıntılarıyla gözden geçirme, araştırma
E) Dil pürüzleri, söyleyiş zorluğu olmaması

2. Kimse bir şaire "Ayakkabımın bağcıklarının üzerine şiir yazar mısın?" demez, bunu deme anlamında gözlerinin içine bakmaz ama eleştirmenler ----

Bu cümlelerin sonuna anlatımın akışına göre aşağıdakilerden hangisinin getirilmesi en uygundur?

- A) rahatlıkla hiç düşünmeden böyle çocuksu teklifleri reddeder.
B) beklentileri önceden sezip önlemlerini alabilir.
C) görünür ya da görünmez bir sipariş kuşağıyla kuşatılmış durumdadır.
D) bu isteklerin arkasının kesilmeyeceğini bilirler.
E) sanatçıyı da savunacak şekilde iletişim kurma yoluna giderler.

3. Pamuklu çamaşırlar moda oldu diye ipekböceği nasıl koza yapmaktan vazgeçmezse sanatkâr da rağbete kulak asmayıp kendi köşesinde bildiği gibi kozasını yapmalıdır.

Aşağıdaki cümlelerden hangisi bu cümleyle anlamca aynı doğrultudadır?

- A) Mürekkep kalem için ne ise başarı ve takdir görme hissi de insan için odur.
B) Yazarın kalemini insanların ilgisi işletir, kâğıt üzerinde o kaydırır.
C) Sanatçıların çoğunu başlangıçta kırıp gücendiren şey ilgisizliktir.
D) Beğenilme duygusuna ermiş yazar, artık kozasına çekilmez.
E) Yazarın gayesi durmaksızın halkın önüne daha iyisini sürmek olmalıdır, hoşlanıp hoşlanmamak halkın bileceği iştir.

4. I. Evet, okumalıyım; çağdaşları, çağcılar okumamızın kılıfı klasiklerse klasikleri okumalıyım.

II. Klasik dediğimiz yapıtlar, edebiyat alanındaki her şeyin bütün duyarlılıklarını sunuş biçimlerinin depolandığı kutular mıdır ki içleri sızmak için kendimizi helak edip duralım?

III. Ülkemizde liselerde ve üniversitelerde çağdaş edebiyat öğrenimini öne alıp divan ve halk edebiyatına uzanacak bir bakış açısı geliştirmedikleri sürece, okullu edebiyatçı çıkmama olgusu devam edecektir.

IV. 40 yıldan fazla basın dünyasında çalıştığım için gönlüm gazetelerin yarın da çıkmasını arzu ediyordum ama mantıklı düşününce ve dünyadaki teknolojik gelişmeleri izleyince üzülenek şunu söyleyeyim, yarınlarda gazete çıkmayacak.

V. Gazete ortadan kalkıyor; sanat, edebiyat dergileri ortadan kalkıyor diye panikleme o insanların yazıyı sevmediğini, ona hak ettiği değeri vermediğini göstermektedir.

Yukarıdaki numaralanmış cümlelerle ilgili aşağıdaki yargılardan hangisi yanlıştır?

- A) I. cümle, gereklilik anlamı taşımaktadır.
B) II. cümle, neden-sonuç ilişkilidir.
C) III. cümle, şart bildirmektedir.
D) IV. cümlede, önsezi söz konusudur.
E) V. cümlede, çıkarım yapılmıştır.



5. Kitabevinin bir kafesi, 9.30'dan 18.00'e dek açık kalan bir kütüphanesi var.

Bu cümleden aşağıdakilerden hangisi kesin olarak çıkarılabilir?

- A) Kitabevi iki odalıdır.
B) Kafe 9.30-18.00 saatleri arasında hizmet vermektedir.
C) Kitabevinde satılan kitapların bir eşini kütüphanede bulmak mümkündür.
D) Kütüphaneden günde sekiz buçuk saat yararlanmak mümkündür.
E) Kütüphane ve kafe, kitabevinin satışlarını artırmaktadır.

6. (I) İnsanoğlu hep silah icat etmiş ve kendi türü ile hep mücadele içinde bulunmuş olmasına rağmen savaş sanatlarında devrim yapan şey maden kullanımının bu sanattaki vazgeçilmez yerini almış olmasıdır. (II) Kılıçlar keskin kenarlarının sadece çakmaktaşlarından imal edildiği dönemlerde pek etkili kullanıma sahip değildi. (III) Böyle bir durumda ağır ve kırılabilir yapıları oluyordu. (IV) İlk kılıçlar bakırdan yapılmıştı, bu yüzden çok hafifti ve kenarları hemen bozuluyordu. (V) Keskin tarafı kolay bozulmayan, yapımı nispeten daha kolay olan tunçla kalayın MÖ 2500 yılından itibaren kullanılmaya başladığı için kılıçlar daha büyük öneme sahip oldular.

Bu parçada numaralanmış cümlelerin hangileri arasında neden-sonuç ilişkisi vardır?

- A) I ve II B) I ve V C) II ve III
D) III ve IV E) IV ve V

7. **Aşağıdaki cümlelerin hangisinde koşul gerçekleşse bile bir sonuca ulaşılamayacağı anlamı vardır?**

- A) Son diye bir şey yoksa aslında her şey başlangıçtan ibarettir.
B) Günlük, her şeyin abartıldığı ortaya çıksa da kimi farklı insani salgıların sığıradığı yaşam parçacıklarındır.
C) Yazabilenler mektup yazmalı bekleyenleri varsa.
D) Evliliğim mektupla başlasa, derdim; başladı, biçimsel bitişinde de yine o vardı.
E) Son mektubunda söylediklerini hatırlamaya çalışsam da kimin bir virüs programı gibi her şeyi sildiği gerçeğiyle baş başayım şimdi.

8. (I) Ben eski öykülerimde, özellikle *Aşksız İnsanlar* adlı kitabımda uzun mu uzun cümleler kurardım, bir paragraf tutan cümleler. (II) Bu özelliğimi övenler de vardı ama sonra yaşamı daha derinden, daha içten anlatabilmenin ancak kısa cümlelerle anlatıma değişik bir tat veren devrik cümlelerle olması gerektiğini anladım. (III) Yaşamımız kısa ve birbirinden kopuk anların birleşimi değil mi? (IV) Ben dil devrimine inanırım, yabancı sözcüklerden arınmış bir dili kullanmayı yeğlerim. (V) Eserlerimde yalın bir içerikten yola çıkıp toplumun aynası olmayı hedeflerim.

Bu parçadaki numaralanmış cümlelerin hangileri biçim bildirmemektedir?

- A) I ve III B) II ve III C) III ve IV
D) III ve V E) IV ve V

9. Klasiklerden okuyabilirsiniz ama salt onları okuyarak, onlara boğularak, onlarda donarak hiçbir yere varmazsınız.

Aşağıdaki cümlelerden hangisi bu cümlede anlatılanlarla aynı doğrultuda değildir?

- A) Klasikleri okuduğumu, geçmişin büyük yazarlarıyla yetindiğini söyleyen kişi, aslında okumadığını söylemektedir.
B) Bugünün seçkin edebiyat ürünlerini okuyarak ilerlemeyi beklerken klasikler edebiyat dışılığımızın şemsiyesi durumuna geçmiştir.
C) Okur klasiklerin edebiyat alanındaki her şeyin, bütün duyarlılıkların, sunuş biçimlerinin depolandığı sihirli kutular olduğunu biliyor.
D) Klasiklerin tümünü hatmettikten sonra bugüne gelirim düşüncesi tam bir hayaldir.
E) Salt klasikleri okumak, bugünsüz dünün bir anlam ifade etmeyeceğinin farkında olmamaktır.



10. Aşağıdaki cümlelerin hangisinde öneri gerekçesiyle birlikte verilmiştir?

- A) Yazdıklarımızın çok az da olsa bir değeri olduğuna önce kendimiz inanalım.
- B) Yeniden çok az da olsa bir değeri olacak şeyler söylemeye ya da insanoğlunun serüvenini başlangıcından beri hiç değişmeden kalan yeni şeyleri yeni bir biçimle dile getirmeye çalışalım.
- C) Sıkışan dünyaya alternatif bir dünya yaratalım yazdıklarımızdan.
- D) Güzele dair ne varsa dökelim ortaya, kurtuluşumuzun başka yolu yoktur.
- E) Sözcüklerin matemini yıkıp insan yaşamını şölene dönüştürecek atılımlar yapmamız lazım.

11. Aşağıdaki cümlelerin hangisinde yazım yanlışı yoktur?

- A) Hiç suçu yokmuş gibi bir de her şeyden yakınıyor.
- B) Sait Kaptan, Halikarnaslı eski denizcilerin sonuncusu değilse de yaşayan birkaçından biriydi.
- C) İnsanimiz zerafetini kaybedeli çok oldu, diyordu.
- D) Girit'den gelmişti, ölene değin de Türkçeye ilgisi olmamıştı.
- E) Kitaptaki konu pekçok kez başka yazarlar tarafından ele alınmış.

12. Almanya'da otobüsler, trenler dakik (I) Bütün duraklarda birer zaman cetveli (II) Camlı çerçevelere alınmış (III) Hangi dakika yazıyorsa o dakika orada oluyolar (IV) Nasıl bu kadar dakik olabiliyorlar, bilmiyorum (V)

Yukarıda numaralanmış yerlerden hangisine farklı bir noktalama işareti getirilmelidir?

- A) I B) II C) III D) IV E) V

13. Aşağıdaki cümlelerden hangisi yapısı bakımından diğerlerinden farklıdır?

- A) Az çok dünyayı anlayacak yaşa geldin.
- B) Zaman dediğimiz güç, tekin değildir.
- C) Gençken ölüm düşüncesi uzaktır insana.
- D) İnsan hayatının değişmez kuralları yoktur.
- E) Kitabın çıkmasını üç yıl beklemek sıkabiliyor insanı.

14. Gökyüzü apartmanların çatılarını ağaçsız birkaç tepeyi

I
göre göre büyüyordu işte. O gün kır da çıldırdı ne
II III IV
yapacağını bilmiyordu sanki.

Bu parçada numaralanmış sözcüklerin türü hangisinde sırasıyla doğru olarak verilmiştir?

- A) sıfat, zarf, edat, zamir
- B) zarf, zarf, edat, zarf
- C) sıfat, zarf, zarf, zamir
- D) sıfat, zarf, edat, bağlaç
- E) sıfat, zarf, zarf, zarf





15. İster yazıt ister sikke şeklinde olsun geçmiş anlamlarımızda belgelerin çok büyük katkısı vardır. Bu belgeler başka yerlerden edinilemeyecek bilgiler içerir. İnsanların geçmişte neler düşündüğünü doğrudan öğrenmemize olanak verir.

Bu parçada aşağıdakilerden hangisi yoktur?

- A) Bağlaç
- B) İsimden türetilmiş eylem
- C) Zarf-fiil
- D) Soru zamiri
- E) Durum zarfı

16. Yaşamın içinde yuvarlanıp giderken değişimi, yitişi, bitişini algılamamızı engelleyen bir duyarsızlık imdadımıza yetişiyor çoğu zaman. Kabul etmek zor çünkü artık her şey çok farklı demek. İlk yaz lafını artık kimselerin kullanmadığını, sonraları bahardan da geçtiğimizi sevmediğimiz insanların, sokakların, ev içlerinin birer birer eksildiğini idrak etmek... Hele de kendimizi büyümüş, meraklarımızı küçülmüş, ruhumuzu eski ve bitkin bulmak zor.

Bu parçada asıl vurgulanmak istenen aşağıdakilerden hangisidir?

- A) İnsan yaşamında değişimin kaçınılmaz olduğu
- B) İnsanın algısal yönden eksikliğini değişim ve yitimin sancılarını azalttığı
- C) Değişimi kabullenmenin insanın yaşama tutunmasını kolaylaştırdığı
- D) İnsanın yaşlandıkça hayatı daha fazla sorguladığı
- E) Değişimin her insan üzerinde farklı etkiler bıraktığı

17. Gustave Flaubert 1857'de *Madame Bovary* romanıyla gördüklerini anlatırken yerleşmiş geleneklere din ve ahlak kurallarına aykırı davranmakla suçlanarak adalet önünde hesap vermeye çağırılmıştı. Duruşmada Savcı Pinerol şöyle diyordu: "Şehveti tahrik edici renklerle çizen Flaubert'e mahkemenin sert davranması gerekir; sanatta tek kural geleneklere uyulmasını istemek, sanatı boyunduruk altına almak değil, ona saygı göstermektir." Savcı bu sözleriyle her yazarın kendi kurallarına uymak zorunda olduğunu düşünmemektedir. En dikkat çekici olan ise mahkemede Flaubert'in savunmasıdır. "Madame Bovary benim!"

Bu parçada Flaubert'in yaptığı savunmayla anlatmak istendiği aşağıdakilerden hangisidir?

- A) Roman kahramanlarının tümü hayalimde oluşmuş kurgulardan ibarettir.
- B) Madame Bovary suçsuzdur, suçlu olan benim.
- C) Çağımın aynası olmaya çalışıyorum.
- D) Yazar düşüncelerinden dolayı suçlanabilir.
- E) Kahramanlar eserin gerçekliği içinde her hareketi yapmakla özgürdür.

18. Yaklaşık 2200 kişinin katıldığı "Korsan kitaba karşı mısınız?" anketine oy verenlerin hemen hemen yarısı tam olarak emeğe saygısızlık olarak görüyor ve hiç almıyor, almayı da düşünmüyor. Korsan kitabı adeta lanetleyen bu %44'ü korsan kitabı emeğe saygısızlık olarak görüyor ve hiç almıyor, almayı da düşünmüyor. Korsan kitabı adeta lanetleyen bu %44'lük kesimin ardından "Korsan kitap alıyorum, kitapları bu kadar pahalı yaptıkları sürece hep korsan kitap okuyacağım." diyen bir kesim geliyor. Bu korsanseverler anket toplamında %33'lük bir kesim. Bu grubu dağıtım yetersizlikleri ve maddi sorunlardan ötürü utanarak aldığını ve okuduğunu söyleyenler takip ediyor. Kalan %8'lik kesim ise korsan ya da değil dikkat bile etmediğini söylüyor.

Bu parçadan anket sonuçlarına göre;

- I. Ankete katılan kesimler arasında korsana karşı çıkanların en büyük yüzdeye sahip olduğuna
- II. Ankete katılanların %66'sının korsan kitap aldığına
- III. Ankete katılanların %33'ünün kitap fiyatlarının pahalı olduğuna
- IV. Korsan kitap okumaya devam etmeyi şarta bağlayanların korsanseverler olduğuna
- V. Korsan kitap alıp almadığını bilmeyen okuyucuların olduğuna

belirlemelerinden hangisine kesin olarak ulaşamaz?

- A) I
- B) II
- C) III
- D) IV
- E) V

**19. VE 20. SORULARI, VERİLEN PARÇAYA GÖRE CEVAPLAYINIZ.**

Şair yetişmiyor, şikâyeti şiirimize türlü türlü işleri arasında zaman zaman şöyle bir göz atan aydının ezeli şikâyetidir. Ne yazık ki artık şair yetişmediğine kanıdirlir. Çünkü şiir mahsullerini devamlı bir şekilde takip etmedikleri için ara sıra gözlerine ilişen birtakım zayıf manzumelerin -nedense gözlerine hep bu çeşitleri iliştir-zamanın şiir manzumelerini temsil ettiğini sanarak acınırlar. Öyle yakınların gözlerine ilişen hep en cılız şiirler midir? Hayır, en güzellerini görürler, okurlar, yine onlardaki güzelliği seçemezler. Öğrendikleri bir güzellik vardır, onun dışındaki hiçbir güzelliği seçemezler, kavrayamazlar.

19. Bu parçada asıl yakınılan durum aşağıdakilerden hangisidir?

- A) İyi şiirin, cılız şiirlerin gölgesinde kalıp kendini gösterememesi
- B) Asıl işi şiir olmayan aydınların şiiri kendi ölçütlerine göre değerlendirmeye kalkması
- C) Yeni şiirin eleştirinin süzgecinden kalkması
- D) Son dönemde nitelikli şair yetişmemesi
- E) Şairlerin kendi şiirleri dışındaki şiir mahsullerini devamlı takip etmemesi

20. Bu parçanın anlatım biçimi aşağıdakilerden hangisidir?

- A) Açıklama
- B) Tartışma
- C) Karşılaştırma
- D) Betimleme
- E) Öyküleme

21. I. Sanatçı kendinden önceki sanatçıların kurduğu binaya bir tuğla daha koyandır.
- II. Divan şiirinin ilk şairlerinden olan Dehhani ile son şairlerinden olan Leyla Hanım'dan iki beyit alıp karşılaştırdın.
- III. Halbuki sanat dünyası devamlı bir ilerleyiş yolundadır.
- IV. Yani meyveciliğimizde yapamadığımız standardizasyonu sanatımızda becermişiz aynı biçim, aynı koku.
- V. Aralarında yedi yüzyıl bulunduğu hâlde ne şekil ne de muhteva bakımından hiçbir ayrılık göremeyeceksiniz.

Bu parçadaki cümleler anlamlı bir paragraf oluşturacak şekilde sıralandığında hangisi baştan üçüncü olur?

- A) I
- B) II
- C) III
- D) IV
- E) V

22. Amacımız belki de varlığımızı kanıtlamak. Varız, yaşıyoruz diyebilmek. Fizik ötesine sığınarak bu sorunu kökten çözdüğünü sananların dışında kalan bütün insanlar gibi. Arkadaşlık, dostluk, sevgililik, cinsel haz, kan bağının kolaylaştırdığı insani sıcaklık yetmeyince belki de bunların kimileri yara aldığında usul usul sanatı sezdik, onu yarattık, yaşadığımızı orada kanıtlayacağız. Peki kime karşı? Kuşkusuz, kendimize karşı ama bunun içinde birilerine, canlı aynalara ihtiyacımız var. Varlığımızı ve ürettiklerimizi algılayan, benzerlerimize bizi doğrulayan ya da yalanlayan, bizi daha güzel daha derinlikli duymaya düşünmeye itecek türdeşlerimize ihtiyacımız var. Öyleyse önce onlara kanıtlayacağız kendimizi. Onlarda kendimizi göreceğiz ki varlığımıza ve işlevimize inancımız artmıştır.

Bu parçada aşağıdakilerden hangisine değinilmemiştir?

- A) Varlık nedenini kanıtlama ihtiyacı duymayan insanların fizik ötesine dair kesin kabullerinin olduğuna
- B) Varlığını kanıtlanmanın sadece sanatçının amacı olmadığına
- C) İnsani ilişkilerdeki zayıflamanın sanatın yolunu açtığına
- D) Sanatçının daha güzel eserler yaratması için başka insanların beğenisine ihtiyaç duyduğuna
- E) Sanatçının toplumun aynası olduğuna



23. (I) Suut Kemal bir sanat felsefecisi, bir sanat tarihçisi, bir estetikçi olmanın yanı sıra denemeciliği en sevdiği yanıydı. (II) Kendini doyuran bir deneme yazınca en büyük mutluluğu, kıvancı duyardı. (III) Yarattığını ilkin topluma beğendirmek isterdi. (IV) Beğenmedikçe elinden bırakmaz denemeyi, bilinçaltının düş dünyasının dışı vurumu, sanatçının gerçek kişiliğinin yansıması sayardı. (V) Sadece keyif çıkarmak, rahatça yazılmış olmak izlenimi verdiği için denemeyi öbür türlere yeğlerdi.

Bu parçadaki numaralanmış cümlelerden hangisi anlatımın akışını bozmaktadır?

- A) I B) II C) III D) IV E) V

24. Şiir üzerine belli bir düşünce ileri sürmekten çekinmek de yine bir düşünce ileri sürmek değil midir? Ben "Şiir şudur, budur." diyemiyorum çünkü beğendiğim, sevdiğim, beni saran şiirlerin birbirine benzemez şeyler olduğunu görüyorum. Bakıyorum, bir şiir beni açıklığıyla yalınlığıyla kavırıyor; bir başkası kapalılığı, özene bezene yazılmış olmasıyla. Kimini halk sözlerini kullandığı için seviyorum, kimini de halk sözlerini kullandığı için beğenmiyorum. Kiminin doğruluğu, kiminin yalanlığı hoşuma gidiyor. Şiir şudur, budur diyenlerin sözleri beni kandırmıyor; şiir onların çizdiği çerçevede kalıyor çünkü.

Bu parçada asıl vurgulanmak istenen aşağıdakilerden hangisidir?

- A) Şiirin içerikle biçimden örülmüş bir bütün olduğu
B) Eleştirmenin şiir hakkındaki görüşlerinin okuyucuyu etkilediği
C) Şiir zevkinin zamanla değişebileceği
D) Şiirde beğenin belirlenmesi için kaynağa bağlanamayacağı
E) Güzel şiiri diğer şiirlerden ayırmanın güç olduğu

25. Güzellik görecelidir, çağdan çağa, kişiden kişiye değişir. Doğruluk da öyle. Aradan yüzyıllar geçtiği için doğru olmadıklarını iyice anladığımız bazı düşünceler var. Örneğin Aristophanes; Sokrates'le Euripides'e çatmakta haksızdır. Demek güldürülerinin çoğunda, hemen hepsinde yanlış düşünceler yaymış. Fırtınaya tutulmuş gemilere doğru yolu değil, tam tersine onların batacağı yeri göstermiştir. Ama Aristophanes'in güldürüleri de Platon'un konuşmaları, Euripides'in acıklı oyunları gibi ayakta duruyor.

Bu parçada asıl anlatılmak istenen aşağıdakilerden hangisidir?

- A) Eserleri yaşatan şey doğruyu göstermiş olmaları değildir.
B) Fikir çatışmalarından doğan eserler ancak sonraki yüzyıllara kalabilir.
C) Doğru zaman içinde değiştiğinden yanlış görünen bazı düşünceler zamanla haklılık kazanabilir.
D) Çağına tanıklık eden yazarlar gördüklerini değiştirmeden anlatanlardır.
E) Her sanat yapının bünyesine gizlenmiş bir güzellik vardır, bunu bulup çıkarmak çaba ister.

26. Bir dilin kelimeleri kökleriyle bilinir, kökleriyle tanımlanır. Kelimelerin kökleri, onlara kendimize göre anlamlar yakıştırmamıza engel olacağı gibi bu anlamların kuşaktan kuşağa değişmesini de engeller. Böylece dil yüzyıllara karşı koyar. Kitaplar kolay kolay eskimez. Bir kuşağın düşüncesi öteki kuşağa bozulmadan varır. Bir toplumda aydın kişiler biraz da böyle türer.

Bu parçadan sözcük kökleriyle ilgili olarak;

- I. Sözcüğün anlamıyla ilgili ipucu verdiği
II. Anlam genişlemesine katkı sağladığına
III. Eserlerin kalıcılığını artırdığına
IV. Dilin korunmasını sağladığına
V. Farklı zamanlarda yaşamış insanları belli düşüncelerde birleştirdiğine

belirlemelerinden hangisine ulaşamaz?

- A) I B) II C) III D) IV E) V



27. – 30. SORULARI AŞAĞIDAKİ BİLGİLERE
GÖRE BİRBİRİNDEN BAĞIMSIZ OLARAK
CEVAPLAYINIZ.

Bir sağlık ocağında çocuklara aylık olarak yapılan A, B, C ve D aşıları ve üç aylık olarak yapılan G ve H aşıları yapılmaktadır. Bu sağlık ocağında belirli bir günde Ömer, Çınar, Aras, Sena, Poyraz ve Elif adlı çocuklara yapılan aşılarla ilgili şunlar bilinmektedir:

- Sağlık ocağında bu çocuklara A, B ve H aşılarından ikişer, diğer aşılarından birer tane yapılmıştır.
- Ömer, Sena ve Aras'a ikişer, diğerlerine birer aşı yapılmıştır.
- Çınar ve Elife yapılan aşılar aylık, Aras'a yapılan aşılar üç aylık aşılardır.
- A aşısı yapılan çocuklar Ömer ve Poyraz'dır.
- Sena'ya Elife yapılan aşıdan yapılmıştır.
- Aras ve Sena'ya üç aylık yapılan aynı aşı yapılmıştır.

27. Bu bilgilere göre, aşağıdakilerden hangisi **kesin olarak** doğrudur?

- A) Ömer'e C aşısı yapılmıştır.
- B) Çınar'a D aşısı yapılmıştır.
- C) Sena'ya G aşısı yapılmıştır.
- D) Elife C aşısı yapılmıştır.
- E) Sena'ya H aşısı yapılmıştır.

28. Bu bilgilere göre, aşağıdaki ifadelerden hangisi **kesin olarak yanlıştır**?

- A) Sena'ya aylık yapılan bir aşı yapılmıştır.
- B) Poyraz'a aylık yapılan bir aşı yapılmıştır.
- C) Ömer'e aylık yapılan bir aşı yapılmıştır.
- D) Ömer'e üç aylık yapılan bir aşı yapılmıştır.
- E) Ömer ve Çınar'a farklı aşılar yapılmıştır.

29. I. B aşısı
II. C aşısı
III. D aşısı

Yukarıdakilerden hangileri Ömer'e yapılan ikinci aşı olabilir?

- A) Yalnız I
- B) Yalnız II
- C) I ve II
- D) I ve III
- E) II ve III

30. Ömer'e C aşısı yapıldığı biliniyorsa, aşağıdakilerden hangisi doğrudur?

- A) Sena'ya G aşısı yapılmıştır.
- B) Çınar'a D aşısı yapılmıştır.
- C) Elife D aşısı yapılmıştır.
- D) Çınar'a B aşısı yapılmıştır.
- E) Sena'ya D aşısı yapılmıştır.

www.yaklasimkitap.com

31. $\left(\frac{2 + \frac{3}{4}}{2 - \frac{3}{4}} \right) : (1 + 0,1)$

işleminin sonucu kaçtır?

- A) 1
- B) 2
- C) $\frac{11}{5}$
- D) $\frac{5}{2}$
- E) 3

32. $x = 7! + 6! + 5!$
 $y = 7! - 6! - 5!$

olduğuna göre, x sayısı y sayısının kaç katıdır?

- A) $\frac{4}{5}$
- B) 1
- C) $\frac{6}{5}$
- D) $\frac{7}{5}$
- E) $\frac{8}{5}$



33. $\sqrt[4]{8^{2x-1}} = 128$

olduğuna göre, x kaçtır?

- A)
- $\frac{9}{2}$
- B) 5 C)
- $\frac{31}{6}$
- D)
- $\frac{16}{3}$
- E)
- $\frac{35}{3}$

34. $|2x - 10| + |15 - 3x| < 35$

olduğuna göre, x'in alacağı tam sayı değerleri kaç tanedir?

- A) 9 B) 10 C) 11 D) 12 E) 13

35. $\left(\frac{x^2-1}{x^3-1}-1\right) \cdot \left(1+\frac{1}{x}+\frac{1}{x^2}\right)$

ifadesinin en sade hali aşağıdakilerden hangisidir?

- A) -1 B) 1 C) x D)
- x^2
- E)
- $x^2 - 1$

36. 32 sayısının bir x doğal sayısına bölümünden kalan 4'tür.

Buna göre, x'in alabileceği değerler toplamı kaçtır?

- A) 56 B) 52 C) 51 D) 50 E) 49

37. $27^{2x-6} = \left(\frac{1}{9}\right)^{5-x}$

olduğuna göre, x kaçtır?

- A) 1 B) 2 C) 3 D) 4 E) 5

38. $\sqrt{\frac{1}{144} + \frac{1}{25}} : \sqrt[3]{0,027}$

işleminin sonucu kaçtır?

- A)
- $\frac{13}{12}$
- B) 1 C)
- $\frac{13}{18}$
- D)
- $\frac{13}{36}$
- E)
- $\frac{5}{18}$

39. $a^2 < a$ olmak üzere,

$$\frac{2a+1}{a}$$

işleminin sonucu aşağıdakilerden hangisi olabilir?

- A)
- $\frac{4}{5}$
- B)
- $\frac{5}{4}$
- C)
- $\frac{9}{4}$
- D)
- $\frac{10}{3}$
- E)
- $\frac{11}{5}$

40. Üç basamaklı abc doğal sayısının soluna 4 yazıldığında elde edilen dört basamaklı sayı, abc sayısının 6 katının 35 fazlasına eşit oluyor.

Buna göre, a + b + c toplamı kaçtır?

- A) 19 B) 18 C) 17 D) 16 E) 15



41. $\{-5, -4, -3, -2, -1, 0, 1, 2, 3, 4, 5, 6, 7\}$ kümesinden seçilen üç farklı eleman toplanıyor. Buna göre, bu toplamın sonucu kaç farklı değer alabilir?

A) 32 B) 31 C) 30 D) 29 E) 28

42. • Pozitif bir tamsayı rakamlarının sayı değerleri toplamına tam bölünüyorsa bu sayı bir "Hanshad" sayıdır.
- Bir hanshad sayısını bulurken elde edilen bölüm, yeniden bir hanshad sayısı özelliği taşıyorsa bu sayılara "Çoklu Hanshad Sayısı" denir.

Buna göre, aşağıdakilerden hangisi bir **çoklu hanshad sayıdır**?

A) 460 B) 312 C) 220 D) 108 E) 102



Yukarıda bir üretim atölyesinin 4 paketleme ünitesi gösterilmiştir.

- D ünitesine gelen her 6 kutu meyve suyu, jelatinli 1 paket yapıp C'ye
- C ünitesine gelen her 6 jelatinli paket, 1 küçük koli yapıp B'ye
- B ünitesine gelen her 6 küçük koli, 1 büyük koli yapıp A'ya gönderiliyor. Oradan da her 6 büyük koli 1 paleta yüklenip müşterilere sevk ediliyor.

Buna göre, gün içerisinde D ünitesinde 582 meyve suyu jelatinlenip C ünitesine gönderildiği anda A ünitesinde kaç palet ürün oluşmuştur?

A) 5 B) 4 C) 3 D) 2 E) 1

44. – 45. SORULARI AŞAĞIDAKİ BİLGİLERE GÖRE CEVAPLAYINIZ.

Üretim ve paketleme olmak üzere iki kısımdan oluşan bir fabrikanın maliyet giderleri ile ilgili olarak aşağıdakiler bulunmaktadır.

- Üretim kısmındaki her bir işçi, çalıştığı her saat için 20 TL ücret almaktadır.
- Paketleme kısmındaki her bir işçi, çalıştığı her saat için 24 TL ücret almaktadır.
- 1 kg paketlenmiş ürünün maliyeti (işçilik hariç) 20 TL'dir.

Bu fabrikanın üretim kısmındaki her bir işçi saatte 2 kg ürün üretmekte paketleme kısmındaki her bir işçi ise saatte 3 kg ürün paketlemektedir.

44. İşçilik ücreti de eklendiğinde 12 kg'lık paketlenmiş ürünün fabrikaya maliyeti kaç TL'dir?

A) 360 B) 384 C) 396 D) 400 E) 456

45. Bir günde fabrikada 480 kg ürün üretilmiş ve bu ürünlerin tamamı paketlenmiştir.

Buna göre, fabrika bu ürünler için toplam kaç TL işçilik ücreti ödemiştir?

A) 8640 B) 8800 C) 8934 D) 9012 E) 9124

46. Bir bakkal kilogramını 6 TL'den aldığı yaş incirleri kurutarak kuru incirlerin kilogramını 12 TL'den satıyor.

Bakkal bu satıştan % 60 kâr elde ettiğine göre, 1 kilogram yaş incir kuruyunca kaç gram olmuştur?

A) 800 B) 810 C) 820 D) 850 E) 880



47. Bir dershanede sahibi "Bu sene dershaneye kayıt aldığım öğrenci sayısı geçen seneye göre % 25 daha fazla fakat elime geçen para %10 daha az" diyor.

Buna göre, öğrenci kayıtlarının bu seneki fiyatı geçen seneye göre % kaç düşmüştür?

- A) 18 B) 20 C) 22 D) 24 E) 28

48. Aynı verimlilikte çalışan 12 işçi bir işi 10 günde bitirebiliyor. Bu işçiler 4 gün birlikte çalıştıktan sonra bir kısmı işten ayrılıyor.

Diğer işçiler işin kalan kısmını 9 günde bitirdiğine göre, kaç işçi işten ayrılmıştır?

- A) 2 B) 3 C) 4 D) 5 E) 6

49. Sabit hızla yürüyen Sena, evden okula giderken yolun $\frac{1}{3}$ ünü yürüdüğünde matematik defterini yanına almadığını fark ediyor.

Sena yoluna devam ederse dersin başlamasından 4 dakika önce, eve dönerek defterini alıp tekrar yola çıkarsa dersin başlamasından 4 dakika sonra okula varacağına göre, ev ile okul arasını kaç dakikada almaktadır? (Dönüşlerdeki zaman kaybı önemsenmeyecektir.)

- A) 10 B) 12 C) 14 D) 15 E) 16

50. Buse girmiş olduğu sınavların sonuncusundan 60 puan alırsa not ortalaması 50 puan, 76 puan alırsa not ortalaması 54 puan olacaktır.

Buna göre, Buse'nin girdiği sınav sayısı kaçtır?

- A) 3 B) 4 C) 5 D) 6 E) 8

51. K, L, M, N, P ve R olmak üzere 6 sütunu bulunan bir tabloya, pozitif tam sayılar aşağıdaki gibi 1'den başlayarak sırayla ve her hücreye bir sayı gelecek şekilde yazılacaktır. Bu yazma işlemi ilk satırdan başlayıp şekildeki gibi dönüşümlü olarak bir satır soldan sağa, bir sonraki satır sağdan sola ilerleyecektir.

K	L	M	N	P	R
1	2	3	4	5	6
12	11	10	9	8	7

Bu kurala göre devam edildiğinde 2018 sayısı hangi sütuna yazılır?

- A) K B) L C) M D) N E) P

52. Bir kapıyı açmak için denenen dört anahtardan yalnız biri kilide uymaktadır. Denenen anahtarın kapıyı açmadığı görününce bu anahtar denenmemek üzere bir tarafa bırakılmaktadır.

Buna göre, bu kapının en çok iki denemede açılma olasılığı kaçtır?

- A) $\frac{1}{4}$ B) $\frac{1}{3}$ C) $\frac{1}{2}$ D) $\frac{2}{3}$ E) $\frac{3}{4}$

53. $R - \{0\}$ kümesi üzerinde Δ işlemi

$$\frac{3}{x} \Delta \frac{4}{y} = x - y + 2xy$$

biçiminde tanımlanıyor.

$1 \Delta 2$ işlemin sonucu kaçtır?

- A) 3 B) 5 C) 13 D) 61 E) 65

54. $X \subseteq \{1, 2, 3, 4, 5\}$ olmak üzere $XU \{1, 2\}$ kümesinin eleman sayısı 4 olacak biçiminde kaç farklı X kümesi vardır?

- A) 6 B) 8 C) 10 D) 12 E) 16

**55. – 57. SORULARI AŞAĞIDAKİ BİLGİLERE GÖRE CEVAPLAYINIZ.**

Aşağıdaki tablo, turuncu, yeşil ve mor renkteki boyaları elde etmek için hangi renkteki boyalardan yüzde olarak ne kadar kullanılması gerektiğini göstermektedir.

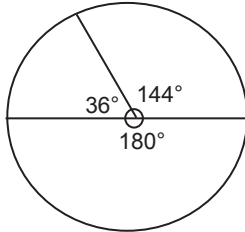
Oluşturulan Boya	Kullanılan boya (%)			
	Kırmızı	Beyaz	Sarı	Mavi
Turuncu	40	10	50	–
Yeşil	–	20	45	35
Mor	40	30	–	30

55. Kırmızı beyaz ve mavi renkteki boyalar kullanılarak 1200 gramlık mor renkli boya elde edilmek isteniyor.

Bu iş için kaç gram kırmızı boya gerekmektedir?

- A) 400 B) 480 C) 500 D) 550 E) 600

56.



Yukarıdaki dairesel grafik, aşağıdakilerden hangisini göstermektedir?

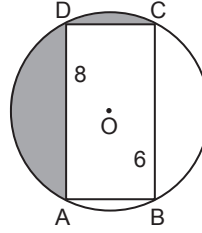
- A) Yeşil rengi oluşturan ana renklerin dağılımını
B) Mor rengi oluşturan renklerin dağılımını
C) Turuncu rengi oluşturan renklerin dağılımını
D) Beyaz rengin turuncu, mor ve yeşil renkleri oluşturma yüzdelerinin dağılımını
E) Mavi rengin turuncu, mor ve yeşil renkleri oluşturma yüzdelerinin dağılımını

57. Mor, turuncu ve yeşil renkteki boyalar eşit miktarlarda karıştırılarak başka bir boya oluşturuluyor.

Bu karışımdaki beyaz boya oranı yüzde kaçtır?

- A) 15 B) 20 C) 25 D) 30 E) 35

58.

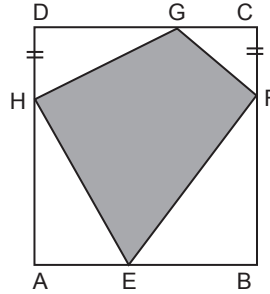


O merkezli çember
ABCD bir dikdörtgen
 $|AD| = 8$ cm
 $|AB| = 6$ cm

Yukarıdaki verilere göre, taralı bölgelerin alanları toplamı kaç cm^2 'dir?

- A) $5\pi + 12$ B) $5\pi + 24$ C) $\frac{25\pi}{2} - 24$
D) $\frac{25\pi}{2} + 12$ E) $25\pi + 48$

59.



ABCD bir kare
 $|DH| = |CF|$
 $A(ABCD) = 64$ cm^2

Yukarıdaki verilere göre, EFGH dörtgeninin alanı kaç cm^2 'dir?

- A) 24 B) 28 C) 32 D) 36 E) 40

60. Analitik düzlemde, uç noktaları $A(2m, 8)$ ve $B(6, m)$ olan AB doğru parçasının orta noktası $C(x, 9)$ olduğuna göre, x kaçtır?

- A) 8 B) 9 C) 10 D) 12 E) 13



DİKKAT: BU BÖLÜMDE YANITLAYACAĞINIZ SORU SAYISI 60'TIR.

1-27 SORU : "Atatürk İlkeleri ve İnkılap Tarihi" ile "Türk Kültür ve Medeniyetleri"

28-45 SORU : "Türkiye Coğrafyası"

46-60 SORU : "Temel Yurttaşlık Bilgisi ve Güncel Konular" ile ilgilidir.

Bu bölümdeki sorularla ilgili cevaplarınızı, cevap kağıdınızdaki "**GENEL KÜLTÜR**" bölümüne işaretleyiniz.

1. Avrupa'da kurulan Slav toplulukları içinde asimile olan, 1870 yılında ilk "Türkoloji Enstitüsü"nü kuran Türk devleti aşağıdakilerden hangisidir?

- A) Hazarlar B) Peçenekler
C) Macarlar D) Bulgarlar
E) Avarlar

2. İslamiyet öncesi Türk devletlerine ait,

- I. ongun,
II. kurultay,
III. toy

kavramlarından hangileri devletle ilgili meselelerin görüşülüp karara bağlandığı meclise verilen adlardandır?

- A) Yalnız I B) Yalnız II C) Yalnız III
D) I ve II E) II ve III

3. Utbi "*Tarih-i Yemin*" isimli eserini aşağıdaki hükümdarlarından hangisine sunmuştur?

- A) Sultan Mahmut B) Uluğ Buğra Karahan
C) Sultan Mesut D) Baybars
E) Melikşah

4. Selçuklu Devleti'nde hukuk sistemi incelendiğinde şer'i ve örfi davalara bakan kadılar farklı isimlerle adlandırılmıştır.

Buna göre aşağıdakilerden hangisinde sırası ile şer'i ve örfi hukukun başındaki isimler doğru olarak verilmiştir?

- A) Kadı-ül Kudat – Kadileşker
B) Kadı-ül Kudat – Emr-i Dad
C) Kazasker – Emr-i Arz
D) Kadı – Emr-i Dad
E) Kazasker – Şeyhülislam

5. Osmanlı donanması İnebahtı Deniz Savaşı'nda, Haçlılar tarafından yakılmıştır.

Bunun üzerine "Gerekirse donanmanın direklerini gümüşten, halatlarını iبریşimden yapın." diyen Osmanlı devlet adamı aşağıdakilerden hangisidir?

- A) Rüstem Paşa
B) Çandarlı Halil Paşa
C) Barbaros Hayrettin Paşa
D) Sokullu Mehmet Paşa
E) Kuyucu Murat Paşa

6. Aşağıdakilerden hangisi Osmanlı Devleti'nde kapıkulu askerlerine bağlı bir bölüm değildir?

- A) Silahtarlar B) Lağımçılar
C) Humbaracılar D) Sipahiler
E) Cebellüler



7. Osmanlı Devleti'nde mal ve hizmetin satış fiyatlarının kamu otoriteleri tarafından saptanması ve düzenlenmesi işlevine verilen isim aşağıdakilerden hangisidir?

- A) Gedik
B) Narh
C) İaşecilik
D) İcazet
E) Pencik

8. Osmanlı Devleti'nde yaşanan,

- I. ulufelerin zamanında verilmemesi,
II. köylüye uygulanan vergi yükünün artması,
III. tımarların boş bırakılması

durumlarından hangileri XVII. yüzyılda merkez isyanlarının yaşamasına neden olmuştur?

- A) Yalnız I
B) Yalnız II
C) Yalnız III
D) I ve II
E) I, II ve III

9. I. Çiçek aşısı
II. Pasaport uygulaması
III. Kâğıt fabrikası

Yukarıda verilen gelişmelerden hangileri Lale Devri'nde ilk kez uygulamaya alınmıştır?

- A) Yalnız I
B) Yalnız II
C) Yalnız III
D) I ve II
E) I ve III

10. Osmanlı Devleti'nde, 1839'da ilan edilen Gülhane Hatt-ı Hümayunu ile aşağıdaki alanlardan hangisinde ıslahat yapıldığı söylenemez?

- A) Miras
B) Vergi sistemi
C) Askerlik
D) Hukuk
E) Devlet rejimi

11. Temel amacı; "farklı milletlerin varlığını da dikkate alarak devleti yeniden yapılandırıp dağılmayı önlemek" olan Ahrar Fırkası'nın savunduğu düşünce akımı aşağıdakilerden hangisidir?

- A) Ümmetçilik
B) Ademi Merkezîyetçilik
C) Osmanlıcılık
D) Turancılık
E) Batıcılık





12. Mustafa Kemal aşağıdaki görevlerden hangisinde **bulunmamıştır**?

- A) Sofya Ataşemiliterliği
- B) Picardie Manevraları
- C) 19. Tümen Komutanlığı
- D) Yıldırım Orduları Grup Komutanlığı
- E) Genel Kurmay Başkanlığı

13. I. Dünya Savaşı'nın yaşanmasında etkili olan,

- I. ulusçuluk,
- II. silahlanma yarışı,
- III. hammadde ve pazar arayışı

nedenlerden hangileri Osmanlı Devleti'ni doğrudan ilgilendirmektedir?

- A) Yalnız I
- B) Yalnız II
- C) Yalnız III
- D) I ve III
- E) I, II ve III

14. Misak-ı Millî Kararları'nda "Halkın oyu ile anavatana katılmış olan Elviye-i Selase için gerekirse tekrar halk oyuna başvurulmasını kabul ederiz." şeklinde bahsedilen Elviye-i Selase olarak belirtilen şehirler arasında,

- I. Kars,
- II. Batum,
- III. Ardahan

şehirlerinden hangileri yer almaktadır?

- A) Yalnız I
- B) I ve II
- C) II ve III
- D) Yalnız II
- E) I, II ve III

15. Kadro dergisinin kurucularından olan, "Politikada 45 Yıl", "Zoraki Diplomat" ve "Yaban" eserlerinin yazarı Mustafa Kemal ve İsmet İnönü'nün de güvendiği aydınlardan biri olarak görülen gazeteci, şair ve yazar aşağıdakilerden hangisidir?

- A) Yakup Kadri Karaosmanoğlu
- B) Halide Edip Adivar
- C) Kemal Tahir
- D) Refik Halit Karay
- E) Falih Rıfkı Atay

16. Aşağıdakilerden hangisi Amasya Genelgesi'nde yer alan maddelerden biri **değildir**?

- A) Her türlü kontrolden uzak millî bir heyetin varlığı gereklidir.
- B) Vatan bütünlüğü ve milletin bağımsızlığı tehlikelidir.
- C) Manda ve himaye kabul edilemez.
- D) İstanbul Hükümeti görev ve sorumluluklarını yerine getirmektedir.
- E) Milletin istikbalini yine milletin azim ve kararı kurtaracaktır.



17. Aşağıdakilerden hangisi I. TBMM Dönemi'nde çıkarılan kanunlardan biri değildir?

- A) Nisab-ı Müzakere Kanunu
- B) Teşkilat-ı Esasiye Kanunu
- C) Tekalif-i Milliye Emirleri
- D) Men-i Müskirat Kanunu
- E) Teşvik-i Sanayi Kanunu

18. • Osmanlı Devleti hukuken sona ermiştir.
• Doğu Trakya TBMM'ye bırakılmıştır.

Yukarıda sonuçları verilen antlaşma aşağıdakilerden hangisidir?

- A) Mudanya Ateşkesi
- B) Lozan Antlaşması
- C) Mondros Ateşkesi
- D) Ankara Antlaşması
- E) Londra Antlaşması

19. Kurtuluş Savaşı sırasında Türk ordusunun Sakarya'nın doğusuna çekildiği savaş aşağıdakilerden hangisidir?

- A) II. İnönü Savaşı
- B) Kütahya-Eskişehir Savaşları
- C) Sakarya Savaşı
- D) Dumlupınar Savaşı
- E) Aslıhanlar Savaşı

20. Şeyh Said İsyanı yaşandığı sırada isyanın bastırılması için yeterli tedbiri alamadığından dolayı istifa etmek zorunda kalan hükümet başkanı aşağıdakilerden hangisidir?

- A) Fethi Okyar
- B) İsmet İnönü
- C) Kazım Karabekir
- D) Rauf Orbay
- E) Refet Bele

www.yaklasimkitap.com

21. I. Çok partili hayata geçilmesi
II. Tek dereceli seçimlere geçilmesi
III. Seçmen yaşının 18'den 22'ye çıkarılması

Yukarıdaki gelişmelerden hangilerinin demokrasinin gelişimini artırdığı söylenemez?

- A) Yalnız I
- B) Yalnız II
- C) Yalnız III
- D) I ve II
- E) II ve III





22. 1936'da toplanan Montrö Konferansı'na Lozan'da Boğazlar konusunda imzası bulunan devletler katılmıştır. Buna göre Montrö Boğazlar Sözleşmesi'ni aşağıdakilerden hangisi imzalamış olamaz?

- A) Almanya B) Romanya
C) Japonya D) Yunanistan
E) İngiltere

23. Aşağıdakilerden hangisi Atatürk Dönemi'nde kurulan bankalar arasında yer almaz?

- A) İş Bankası
B) Emlak ve Eytam Bankası
C) Sanayi ve Maadin Bankası
D) Merkez Bankası
E) Millî İtibar Bankası

24. Aşağıdakilerden hangisi halifeliğin kaldırılmasının sonuçları arasında yer almaz?

- A) Medreselerin kapatılması
B) Şeyhülislamlığın kaldırılması
C) Rejim tartışmalarının sona ermesi
D) Şeriye ve Evkaf Vekaletinin kaldırılması
E) Devlet işlerinin dinî açıdan denetlenmesinin önlenmesi

25. Demokrat Parti içinde Adnan Menderes'in şahsi otoritesini artırmasını kabul etmeyerek partiden uzaklaşan kişilerin 1955 yılında kurdukları yeni parti aşağıdakilerden hangisidir?

- A) Millet Partisi
B) Adalet Partisi
C) Türkiye Köylü Partisi
D) Hürriyet Partisi
E) Millî Kalkınma Partisi

www.yaklasimkitap.com

26. I. ABD'nin Castro yönetimini devirmeye çalışması
II. ABD başkanlığında SEATO'nun kurulması
III. Türkiye'ye Jüpiter füzelerinin yerleştirilmesi

Yukarıdaki gelişmelerden hangileri Küba Bunalımı ile ilgilidir?

- A) Yalnız I B) Yalnız II C) Yalnız III
D) I ve II E) I ve III





27. Aşağıdakilerden hangisi II. Dünya Savaşı sırasında Türkiye'de yaşanan gelişmeler arasında yer almaz?

- A) İaşe Müsteşarlığı'nın kurulması
- B) Millî Korunma Kanunu'nun çıkarılması
- C) Ekmek Karnesi uygulamasının başlaması
- D) IMF'den borç alınması
- E) Toprak Mahsulleri Vergisi Kanunu'nun çıkarılması

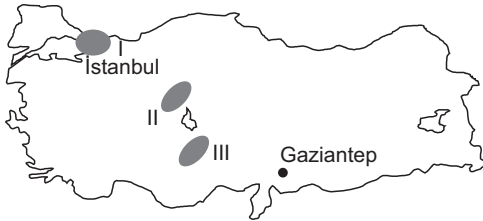
28. Türkiye'nin jeopolitik konumunda etkili olan;

- I. İklim
- II. Askerî değerler
- III. Gelenek - görenek
- IV. Coğrafi konum

faktörlerinden hangileri değişmeyen unsurlar arasında yer alır?

- A) I ve II
- B) I ve III
- C) I ve IV
- D) II ve III
- E) III ve IV

29.



İstanbul kentinden Gaziantep'e doğru havalanan bir uçak, yukarıdaki haritada gösterildiği gibi belirli bir rotayı takip ederek bazı platoların üzerinden geçmektedir.

Buna göre, haritada numaralandırılan platolar aşağıdakilerin hangisinde doğru olarak verilmiştir?

- | | I | II | III |
|----------------------|------------|-------------------|-----|
| A) Çatalca - Kocaeli | Haymana | Obruk | |
| B) Haymana | Yazılıkaya | Gaziantep - Urfa | |
| C) Çatalca - Kocaeli | Bozok | Uzunyayla | |
| D) Obruk | Yazılıkaya | Çatalca - Kocaeli | |
| E) Yazılıkaya | Obruk | Bozok | |

30. Türkiye'nin gölleriyle ilgili aşağıda verilen bilgilerden hangisi yanlıştır?

- A) Doğal göl bulunmayan tek bölge Güneydoğu Anadolu Bölgesi'dir.
- B) Karadeniz ve Akdeniz bölgelerindeki dağlar üzerinde bulunan göller volkanik oluşumludur.
- C) Göllerin yükseltisi batıdan doğuya gidildikçe artmaktadır.
- D) Akdeniz Bölgesi'nde çok sayıda karstik göl vardır.
- E) Ülkenin kuzeybatısında akarsu vadilerine baraj ve baraj gölü inşa etmek oldukça güçtür.

31. Aşağıdakilerden hangisi, Karadeniz Bölgesi'nde özellikle ilkbahar mevsiminde yaşanan heyelanın nedenleri arasında gösterilemez?

- A) Ormanların tahrip edilmesi
- B) Sağanak şeklindeki yağışlar ve kar erimeleri
- C) Yamaçlardaki kuvvetli eğim
- D) Killi toprağın varlığı
- E) Anakayayı oluşturan tabakaların uzanış doğrultusu

32. Türkiye'de;

- kış mevsiminde cephesel yağışların oluşması,
 - yıl içerisinde dört mevsimin yaşanması,
 - genel hava akımının batıdan doğuya doğru olması
- aşağıdakilerden hangisinin sonucudur?**

- A) Üç tarafının denizlerle çevrili olmasının
- B) Kuzey yarı kürede yer almasının
- C) Orta Kuşak'ta yer almasının
- D) Yükseltinin doğuda fazla olmasının
- E) Eski dünya karaları arasında merkezî bir konuma sahip olmasının



33. I. İğne yapraklı orman
II. Maki
III. Çayır
IV. Bozkır
Yukarıda Türkiye'de bulunan çeşitli bitki tür ve toplulukları verilmiştir.

Buna göre, bu bitkilerin egemen olduğu yerlerde iklim ve yer şekilleri gibi doğal koşullara uygunluk bakımından sırasıyla hangi toprak türlerinin bulunması beklenir?

- | I | II | III | IV |
|---------------------|------------------|------------|---------------------|
| A) Laterit | Terrarossa | Podzol | Kestane renkli step |
| B) Podzol | Terrarossa | Çernozyum | Kahverengi step |
| C) Çernozyum | Podzol | Terrarossa | Çöl |
| D) Tundra | Kahverengi orman | Çernozyum | Çöl |
| E) Kahverengi orman | Terrarossa | Laterit | Tundra |

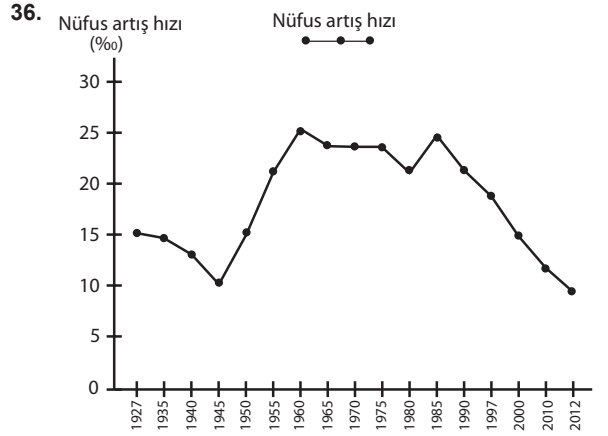
34. I. Enlem
II. Karasallık
III. Orta Kuşak'ta yer alması
IV. Dağların uzanış doğrultusu

Türkiye'nin farklı yörelerinde konveksiyonel yağışlar ile yamaç (orografik) yağışların görülmesi yukarıda verilen nedenlerden hangilerine bağlanabilir?

- A) I, II B) I, III C) II, III
D) I, IV E) II, IV

35. Türkiye'de nüfusun dağılışı göz önüne alındığında aşağıdakilerden hangisi **yanlıştır**?

- A) Taşeli Platosu'nda nüfus yoğunluğu Türkiye ortalamasının altındadır.
B) Türkiye'de nüfusun yarısından fazlası kıyı kesiminde yaşamaktadır.
C) Türkiye'nin doğusu ve batısı arasında nüfus miktarı bakımından dengesizlik vardır.
D) Bağımlı nüfus Türkiye'nin batısında daha fazladır.
E) En fazla nüfus Marmara Bölgesi'nde toplanmıştır.



Yukarıdaki grafikte Türkiye'de sayım yıllarına göre 1927 - 2012 yılları arasında nüfus artış hızındaki değişimler gösterilmiştir.

Grafiğe göre aşağıdakilerden hangisi Türkiye'de 1985 yılından itibaren meydana gelen nüfus artış hızındaki düşmenin nedenleri arasında gösterilemez?

- A) Eğitim seviyesinin yükselmeye başlaması
B) Kadının iş hayatına girmesi
C) Kentleşen nüfusun artması
D) Kırdan kente yapılan göçlerin azalması
E) Gelir düzeyinin artmaya başlaması

37. Aşağıdakilerden hangisi, Güneydoğu Anadolu Projesi'nin hedefleri arasında **yer almaz**?

- A) Bölgenin gelir düzeyini ve yaşam standardını yükseltmek
B) Sulamalı tarımı yaygınlaştırmak
C) Bölgenin diğer bölgelerle olan sosyo-ekonomik gelişmişlik farkını azaltmak
D) Kırdan kente göçü teşvik etmek
E) Bölgeyi büyük bir lojistik üssü yapmak



38. Aşağıdakilerin hangisinde, yetiştirilen tarım ürünlerinin en fazla üretildiği yer yanlış verilmiştir?

- A) Pamuk – Güneydoğu Anadolu Bölgesi
- B) Zeytin – Akdeniz Bölgesi
- C) Fındık – Karadeniz Bölgesi
- D) Buğday – İç Anadolu Bölgesi
- E) Üzüm – Ege Bölgesi

39. Türkiye'nin doğusunda yer alan Erzurum-Kars Platosu'nda büyükbaş hayvancılığın, İç Anadolu'daki platolarda yetiştirilen küçükbaş hayvancılık faaliyetlerinden daha yaygın olmasının temel nedeni aşağıdakilerden hangisidir?

- A) Pazarlama olanaklarının gelişmiş olması
- B) Yaz yağışlarının fazla olması
- C) Geniş düzlüklerinin yaygın olması
- D) Toprak tipinin farklı olması
- E) Modern hayvancılık yöntemlerinin kullanılması

40. Aşağıda verilen termik santrallerde kullanılan enerji kaynakları göz önüne alındığında, hangisinin elektrik üretiminde kullandığı enerji kaynağı diğerlerinden farklıdır?

- A) Afşin – Elbistan
- B) Soma
- C) Sarayköy
- D) Yatağan
- E) Seyitömer

41. Türkiye'de endüstri kuruluşlarının yer seçimini belirleyen etkenler göz önüne alındığında Anadolu'nun kıyı kesiminde özellikle İzmit, İzmir ve Mersin'de petro-kimya endüstrisinin gelişmesinde aşağıdakilerden hangisinin etkisi daha fazladır?

- A) Hammadde
- B) İş gücü
- C) Sermaye
- D) Enerji
- E) Ulaşım

42. Ticari sanayi ve turizm faaliyetlerinin yoğunlaşmasına bağlı olarak kentler arasındaki karayolu üzerinde yoğun bir trafik akışı söz konusudur.

Türkiye'deki kara yollarında aşağıdaki güzergâhlardan hangisinin araç trafiği yoğunluğunun daha az olması beklenir?

- A) Doğu Karadeniz sahil yolu
- B) Ankara – İstanbul otoyolu
- C) Mersin – Adana – Gaziantep otoyolu
- D) İstanbul – Bursa – İzmir kara yolu
- E) Afyon – Antalya kara yolu

43. Bir limanın iç kesimlerle olan demir ve kara yolu bağlantısı ne kadar güçlü ve iyi ise o liman ve bulunduğu kentsel mekân, bir o kadar gelişme kaydetmektedir.

Buna göre aşağıda limanı olan kentlerden hangisi bu duruma örnek olarak gösterilemez?

- A) Mersin Limanı
- B) İstanbul – Haydarpaşa Limanı
- C) Antalya Limanı
- D) İzmir Limanı
- E) İskenderun Limanı





44. Türkiye'de turizm faaliyetlerinin en yoğun şekilde gerçekleştiği bölgelerden biridir (I). Deniz, kum ve güneş olanaklarının en uygun olduğu yerdir (II). Roma İmparatorluğu dönemine ait Aspendos ve Perge gibi antik kentler yer almaktadır (III). Karstik aşındırma şekli olan Cennet ve Cehennem obrukları bölgedeki en önemli doğal turistik yerlerdendir (IV). Bölgenin batısında yer alan antik Efes kenti en fazla turist çeken turizm merkezlerinden biridir (V).

Akdeniz Bölgesi'nin turizm varlıkları ile ilgili olarak verilen metindeki cümlelerden hangisi yanlıştır?

- A) I B) II C) III D) IV E) V

45. Türkiye turizminde önemli yer tutan doğal ve kültürel çekicilikler göz önünde bulundurulduğunda aşağıdakilerden hangisinin **daha fazla** turist çektiği söylenebilir?

- A) Kapadokya
B) Topkapı Sarayı
C) Yedigöller Millî Parkı
D) Antakya Saint Pierre Kilisesi
E) Doğu Karadeniz yaylaları

46. Aşağıdaki durumların hangisinde objektif iyiniyet kuralı geçerli **değildir**?

- A) Hakların kullanılmasında
B) Hakların kazanılmasında
C) Borçların yerine getirilmesinde
D) Sözleşmelerin tamamlanmasında
E) Sözleşmelerin yorumlanmasında

47. **Sahipsiz taşınır mallar üzerindeki mülkiyet hakkının aslen kazanılması durumu aşağıdakilerden hangisidir?**

- A) Sahiplenme
B) İşgal etme
C) Satın alma
D) Müsadere
E) El atma

48. **Ölümüne kesin gözle bakılacak şekilde kaybolmuş ve cesedine ulaşamayan kişinin ölüm karinesi kararını vermeye yetkili kişi aşağıdakilerden hangisidir?**

- A) Asliye hukuk mahkemesi
B) Sulh hukuk mahkemesi
C) Bakanlar Kurulu
D) En büyük mülki amir
E) İçişleri bakanı

49. **Aşağıdakilerden hangisi siyasi partilere üye olabilir?**

- A) Silahlı kuvvetler mensupları
B) Sayıştay üyeleri
C) Memurlar
D) Hâkim ve savcılar
E) Yüksek öğrenim öğrencileri





50. I. Ağır cezayı gerektiren bir durumda suçüstü hali
II. Soruşturmasına seçimlerden sonra başlanmış Anayasa'nın 14. maddesindeki durumlar
III. Taksirli suçlardan suçüstü hâli
- Yukarıdakilerden hangilerinde milletvekilinin tutulması, sorguya çekilmesi, tutuklanması veya yargılanması için meclis kararına gerek yoktur?**

- A) Yalnız I B) I ve II C) I ve III
D) II ve III E) I, II ve III

51. 1982 Anayasası'na göre bir bakana gerekli durumlarda aşağıdakilerden hangisi vekâlet eder?
- A) Başbakan
B) Bakanlardan biri
C) Başbakan yardımcısı
D) Milletvekili
E) TBMM Başkanı

52. Aşağıdakilerden hangisinin 1982 Anayasası'na göre Anayasa Mahkemesi'ne üye seçiminde cumhurbaşkanına aday gösterme yetkisi vardır?
- A) Uyuşmazlık Mahkemesi
B) Anayasa Mahkemesi Genel Kurulu
C) Yükseköğretim Kurulu
D) Hâkimler ve Savcılar Yüksek Kurulu
E) Türk Adalet Akademisi

53. Aşağıdakilerden hangisi merkezi idarenin taşra teşkilatı birimlerinden biridir?
- A) Belediye idaresi
B) Köy
C) İl özel idaresi
D) İl genel idaresi
E) Büyükşehir belediyesi

54. Aşağıdakilerden hangisi idarenin personel alması, personel eğitmesi ve gereksinim duyduğu araç ve gereç teminine yönelik faaliyetleridir?
- A) Planlama faaliyetleri
B) İç düzen faaliyetleri
C) Kolluk faaliyetleri
D) Kamu hizmetleri
E) Destekleme faaliyetleri

55. Gelecek yıllarda piyasaya çıkacak teknolojik ürünlerin tanıtıldığı Mobil Dünya Kongresi aşağıdaki ülkelerden hangisinde düzenlenmiştir?
- A) İspanya B) Çin
C) İsveç D) Kore
E) İrlanda





56. Nobel Ödülünü tasarlayan ünlü sanatçı aşağıdakilerden hangisidir?

- A) Anna Molirani
- B) Juan Manuel Santos
- C) Alfred Nobel
- E) Marc Jacobs
- E) Gustav Vigeland

59. İslam İşbirliği Teşkilatı'nın 2016- 2019 arası dönem başkanı aşağıdaki ülkelerden hangisidir?

- A) Fas
- B) Suudi Arabistan
- C) Türkiye
- D) Pakistan
- E) Mısır

57. Hayvan Takvimine göre 2017 yılı Çin'de ne yılı olarak kutlanmıştır?

- A) Domuz
- B) At
- C) Horoz
- D) Balık
- E) Maymun

60. 2016 Temmuz ayında ülke parlamentosunun aldığı kararla adı değişen ülke aşağıdakilerden hangisidir?

- A) Çek Cumhuriyeti
- B) Nauru
- C) Myanmar
- D) Cezayir
- E) Peru

58. Türk mühendisleri tarafından geliştirilen ilk milli baz istasyonumuzun adı nedir?

- A) Ulak
- B) Devrim
- C) Anka
- D) Şimşek
- E) Altay

www.yaklasimkitap.com